

---

Rudolf Blaško

**MATEMATICKÁ ANALÝZA I**

---

---

Rudolf Blaško

**MATEMATICKÁ ANALÝZA I**

2016



## Predhovor

Učebnica Matematická analýza 1 sa snaží zaplniť dlhodobú čiernu dieru medzi učebnicami určenými pre študentov, ktorí študujú na našich vysokých školách a univerzitách. Učebníc matematickej analýzy (reálne funkcie jednej reálnej premennej a ich diferenciálny počet) bolo do dnešnej doby napísaných dosť, ale vo väčšine prípadov je problém ich získať. Preto sa táto učebnica snaží zjednodušiť život študentom prvého ročníka pri štúdiu uvedených tém.

V predkladanej učebnici sa čitateľ, dúfam, že prístupným spôsobom zoznámi s látkou predpísanou osnovami daného predmetu. Autor predpokladá základné vedomosti čitateľa zo strednej školy. Lenže vedomostná úroveň z matematiky študentov, ktorí nastupujú do prvého ročníka je rôzna a vplyvom rôznych ministerských zlepšovákov čím ďalej horšia. Preto sú v prvej kapitole vysvetlené základné pojmy, ktoré sú nevyhnutné pre ďalšie štúdium a vzdelanejší čitateľ ich môže preskočiť.

Látka je členená do štyroch kapitol a jednotlivých podkapitol. Na konci každej podkapitoly sú cvičenia, na ktorých si má študujúci overiť či porozumel vysvetľovanej látke. Výsledky cvičení sú uvedené v závere knihy a odkazuje sa na ne symbolom ♣ na konci zadania príkladu. Pre spoľahlivé a trvalé zvládnutie látky je nutné ich prepočítanie. Veľa študentov túto skutočnosť podceňuje a zistí až pred skúškou, že nie je čas na dobehnutie zameškaného. Ale, keďže počet príkladov uvedených v publikácii je z pochopiteľných dôvodov obmedzený, sú uvedené v prehľade literatúry ďalšie zbierky úloh a príkladov, z ktorých môže hlbavý čitateľ čerpať. Dôkazy viet, tvrdení, lemm a riešenia príkladov sú ukončené symbolom ■. Učebnica končí registrom pojmov s odkazmi na strany, na ktorých ich čitateľ nájde.

V závere učebnice je uvedený register pojmov s odkazmi na strany, na ktorých uvedené pojmy nájdete. Za registrom nasleduje prehľad literatúry, ktorý obsahuje nielen literatúru použitú autorom, ale aj inú doporučenú literatúru.

Definované pojmy sú kvôli prehľadnosti zobrazené tučným písmom. Vo formuláciách matematických viet sú niekedy použité symboly  $\Rightarrow$ ,  $\Leftrightarrow$ , prípadne  $\Leftarrow$  (viď str. 4). Vzťah  $A \Rightarrow B$  čítame „Ak platia predpoklady (tvrdenia)  $A$ , potom platia závery (tvrdenia)  $B$ .“ a vzťah  $A \Leftrightarrow B$  čítame „Tvrdenia  $A$  platia práve vtedy, ak platia tvrdenia  $B$ .“.

Keďže nikto nie je dokonalý, prípadné zistené chyby a nedostatky, ako aj návrhy na ďalšie zlepšenie učebnice, môžete adresovať na adresu Katedry matematických metód, ktorej je autor členom, prípadne na e-mail adrese [beerb@frcatel.fri.uniza.sk](mailto:beerb@frcatel.fri.uniza.sk).

Žilina, január 2016

autor

**Žiaľ, motto mnohých študentov a žiaľ aj učiteľov a dokonca aj ministrov:**

*Od učenia ešte nikto nezomrel, ale načo riskovať.*

**GTUBB**

# Obsah

Predhovor . . . . .	1
Úvod . . . . .	12
Vznik a vývoj matematickej analýzy . . . . .	12
Predmet a obsah matematickej analýzy . . . . .	13
<b>1 Základné pojmy</b>	<b>1</b>
1.1 Logika . . . . .	1
1.1.1 Výrazy a výroky . . . . .	1
1.1.2 Logické operácie . . . . .	3
1.1.3 Výrokové formy . . . . .	5
1.1.4 Niektoré dôležité tautológie . . . . .	7
1.1.5 Kvantifikátory . . . . .	10
Cvičenia . . . . .	13
1.2 Základné prvky matematickej teórie . . . . .	15
1.2.1 Priamy dôkaz . . . . .	16
1.2.2 Nepriamy dôkaz . . . . .	16
1.2.3 Dôkaz matematickou indukciou . . . . .	17
1.2.4 Poznámka k dôkazom . . . . .	19
1.2.5 Sumačná a súčinová symbolika . . . . .	21
Cvičenia . . . . .	23
1.3 Množiny . . . . .	26
1.3.1 Množina a podmnožina . . . . .	26
1.3.2 Operácie s množinami . . . . .	27
1.3.3 Zobrazenie množín . . . . .	31
1.3.4 Mohutnosť množín . . . . .	36
Cvičenia . . . . .	40
<b>2 Reálne čísla</b>	<b>43</b>
2.1 Algebraické vlastnosti reálnych čísel . . . . .	43
2.1.1 Úvodné poznámky . . . . .	43
2.1.2 Axiómy reálnych čísel . . . . .	44
2.1.3 Dôsledky axióm operácií sčítania a násobenia . . . . .	46
2.1.4 Dôsledky axióm usporiadania . . . . .	49

2.1.5	Dôsledky axiómy o najmenšom hornom ohraničení . . . . .	52
2.1.6	Niektoré ďalšie dôsledky axióm reálnych čísel . . . . .	54
	Cvičenia . . . . .	70
2.2	Topologické a metrické vlastnosti reálnych čísel . . . . .	72
2.2.1	Okolie bodu . . . . .	72
2.2.2	Otvorené a uzavreté množiny . . . . .	75
2.2.3	Metrické vlastnosti čísel . . . . .	80
2.2.4	Metrické priestory . . . . .	84
	Cvičenia . . . . .	88
2.3	Postupnosti reálnych čísel . . . . .	90
2.3.1	Základné pojmy . . . . .	90
2.3.2	Limita postupnosti . . . . .	92
2.3.3	Prehľad základných tvrdení . . . . .	97
2.3.4	Eulerovo číslo . . . . .	108
2.3.5	Postupnosti bodov metrických priestorov . . . . .	119
	Cvičenia . . . . .	120
2.4	Číselné rady . . . . .	124
2.4.1	Základné pojmy . . . . .	124
2.4.2	Vlastnosti konvergentných radov . . . . .	129
2.4.3	Číselné rady s nezápornými členmi . . . . .	133
2.4.4	Absolútna, relatívna konvergencia a alternujúce rady . . . . .	142
2.4.5	Prerovnanie radov a rady s predpísaným súčtom . . . . .	149
2.4.6	Súčiny číselných radov . . . . .	154
	Cvičenia . . . . .	160
2.5	Komplexné čísla . . . . .	165
2.5.1	Operácie s komplexnými číslami . . . . .	165
2.5.2	Geometrická interpretácia komplexných čísel . . . . .	166
2.5.3	Postupnosti komplexných čísel . . . . .	170
	Cvičenia . . . . .	171
<b>3</b>	<b>Reálne funkcie reálnej premennej</b>	<b>173</b>
3.1	Reálne funkcie . . . . .	173
3.1.1	Základné vlastnosti funkcií . . . . .	178
3.1.2	Operácie s funkciami . . . . .	186
3.1.3	Elementárne funkcie . . . . .	190
3.1.4	Krivky . . . . .	204
	Cvičenia . . . . .	238
3.2	Limita funkcie . . . . .	242
3.2.1	Základné vlastnosti . . . . .	244
3.2.2	Limita vzhľadom na množinu a jednostranné limity . . . . .	253
3.2.3	Asymptotické vlastnosti . . . . .	257

3.2.4	Riešené príklady . . . . .	263
	Cvičenia . . . . .	271
3.3	Spojitosť funkcie . . . . .	273
3.3.1	Spojitosť funkcie v bode . . . . .	273
3.3.2	Spojitosť funkcie na množine a body nespojitosti . . . . .	278
3.3.3	Vlastnosti spojitých funkcií na intervale . . . . .	280
	Cvičenia . . . . .	289
<b>4</b>	<b>Diferenciálny počet reálnej funkcie</b>	<b>291</b>
4.1	Derivácia reálnej funkcie . . . . .	291
4.1.1	Definícia derivácie funkcie a jej základné vlastnosti . . . . .	291
4.1.2	Jednostranné derivácie a derivácia na množine . . . . .	294
4.1.3	Základné vety pre výpočet derivácií . . . . .	297
4.1.4	Derivovanie elementárnych funkcií . . . . .	303
	Cvičenia . . . . .	305
4.2	Diferenciál funkcie a derivácie vyšších rádov . . . . .	309
4.2.1	Diferenciál a diferencovateľnosť funkcie . . . . .	309
4.2.2	Využitie diferenciálu na približné výpočty . . . . .	311
4.2.3	Derivácie vyšších rádov . . . . .	314
4.2.4	Pojem diferenciálu vyššieho rádu . . . . .	317
	Cvičenia . . . . .	318
4.3	Aplikácie diferenciálneho počtu . . . . .	319
4.3.1	Vety o strednej hodnote funkcie . . . . .	319
4.3.2	L'Hospitalovo pravidlo . . . . .	327
4.3.3	Neurčité výrazy . . . . .	332
4.3.4	Taylorov polynóm . . . . .	335
4.3.5	Vyšetrovanie priebehu funkcie . . . . .	343
4.3.6	Derivácia funkcie zadanej parametricky, implicitne a v polárnych súradniciach . . . . .	369
	Cvičenia . . . . .	378
	Výsledky cvičení . . . . .	385
	Literatúra . . . . .	394
	Register . . . . .	394

# Zoznam obrázkov

1.2.1	Pascalov trojuholník. . . . .	25
1.3.2	Prienik, zjednotenie, rozdiel, symetrický rozdiel a doplnok množín. . . . .	29
1.3.3	Injekcia $f_1$ , surjekcie $f_2, f_3$ a bijekcia $f_4$ z príkladu 1.3.12. . . . .	33
1.3.4	Zložené zobrazenie $F = g(f)$ z príkladu 1.3.16. . . . .	34
2.1.1	Reálna číselná os. . . . .	57
2.1.2	Celá a lomená časť čísla $a$ . . . . .	58
2.1.3	Obrázok k príkladu 2.1.6. . . . .	60
2.1.4	Absolútna hodnota čísla $a$ . . . . .	61
2.1.5	Signum čísla $a$ . . . . .	61
2.2.6	Okolie $O(A)$ bodu $A$ na priamke, v rovine a v priestore. . . . .	73
2.2.7	Vlastnosti (O2), (O3), (O4) okolí bodov. . . . .	73
2.2.8	Obrázok k vete 2.2.1. . . . .	74
2.2.9	Množiny $\text{int}(a; b)$ , $\partial(a; b)$ , $\text{ext}(a; b)$ z príkladu 2.2.2 c). . . . .	76
2.2.10	Obrázok k príkladu 2.2.2 d). . . . .	76
2.2.11	Obrázok ku príkladu 2.2.4. . . . .	78
2.2.12	Obrázok k poznámke 2.2.14. . . . .	83
2.3.13	Obrázok k príkladu 2.3.9. . . . .	97
2.3.14	Obrázok k dôkazu vety 2.3.14 a). . . . .	103
2.3.15	Lomená čiara z cvičenia 2.3.30. . . . .	123
2.4.16	Príklad 2.4.1. . . . .	124
2.4.17	Príklad 2.4.2. . . . .	124
2.4.18	Cvičenie 2.4.22. . . . .	163
2.4.19	Cvičenie 2.4.23. . . . .	163
2.4.20	Cvičenie 2.4.24. . . . .	164
2.4.21	Cvičenie 2.4.25. . . . .	164
2.5.22	Rovina komplexných čísel. . . . .	167
2.5.23	Súčet komplexných čísel. . . . .	167
2.5.24	Hodnota argumentu $\varphi$ komplexného čísla $z = a + ib$ . . . . .	167
2.5.25	Rovinná projekcia reálnych čísel. . . . .	169
2.5.26	Stereografická projekcia komplexných čísel. . . . .	169
3.1.1	Karteziánsky systém. . . . .	174



3.1.2	Dirichletova funkcia $\chi(x)$ . . . . .	174
3.1.3	Funkcia $f: x = \varphi(t), y = \psi(t)$ zadaná parametricky. . . . .	176
3.1.4	Kružnica $x^2 + y^2 - c = 0, c \geq 0$ z príkladu 3.1.2. . . . .	176
3.1.5	Funkcie $f_1, f_2, f_3, f_4$ z poznámky 3.1.4. . . . .	176
3.1.6	Grafy rastúcej, klesajúcej, neklesajúcej, nerastúcej a konštantnej funkcie. . . . .	180
3.1.7	Grafy funkcií z príkladu 3.1.8 a), b), c). . . . .	181
3.1.8	Graf párnej a nepárnej funkcie. . . . .	181
3.1.9	Graf periodickej funkcie. . . . .	181
3.1.10	Funkcia $y = (-1)^{\lfloor x \rfloor}$ . . . . .	182
3.1.11	Konvexná funkcia. . . . .	182
3.1.12	Grafy konvexnej, rýdzo konvexnej, konkávnej a rýdzo konkávnej funkcie. . . . .	183
3.1.13	Príklady konvexných funkcií z poznámky 3.1.14. . . . .	184
3.1.14	Príklady konvexných funkcií z poznámky 3.1.15. . . . .	185
3.1.15	Graf zloženej funkcie. . . . .	188
3.1.16	Graf inverznej funkcie. . . . .	188
3.1.17	Graf k príkladu 3.1.22. . . . .	190
3.1.18	Graf k príkladu 3.1.23. . . . .	190
3.1.19	$f: y = x^n, n = 1, 2, 3$ . . . . .	191
3.1.20	$f: y = \frac{1}{x^n}, n = 1, 2$ . . . . .	191
3.1.21	$f: y = x^3 - 2x^2$ . . . . .	192
3.1.22	$f: y = x^r$ pre $r > 0$ a $r < 0$ . . . . .	192
3.1.23	$f: y = a^x, a > 0$ . . . . .	193
3.1.24	$f: y = \log_a x, a > 0, a \neq 1$ . . . . .	193
3.1.25	Funkcie $\sin x, \cos x, \operatorname{tg} x, \operatorname{cotg} x$ . . . . .	194
3.1.26	$f: y = \sin x$ . . . . .	195
3.1.27	$f: y = \cos x$ . . . . .	195
3.1.28	$f: y = \operatorname{tg} x$ . . . . .	196
3.1.29	$f: y = \operatorname{cotg} x$ . . . . .	196
3.1.30	Funkcie $y = \arcsin x, y = \arccos x$ . . . . .	199
3.1.31	Funkcie $y = \operatorname{arctg} x, y = \operatorname{arccotg} x$ . . . . .	199
3.1.32	Hyperbolické funkcie $\sinh x, \cosh x, \operatorname{tgh} x$ a $\operatorname{cotgh} x$ . . . . .	200
3.1.33	Funkcie $y = \operatorname{argsinh} x, y = \operatorname{argcosh} x$ . . . . .	203
3.1.34	Funkcie $y = \operatorname{argtgh} x, y = \operatorname{argcotgh} x$ . . . . .	203
3.1.35	Grafy funkcií $f_{1,2}$ z príkladu 3.1.28. . . . .	205
3.1.36	Pravouhlý a polárny súradnicový systém v Euklidovskej rovine $R^2$ . . . . .	206
3.1.37	Bod so záporným sprievodičom ( $\rho < 0$ ). . . . .	207
3.1.38	Bernoulliho lemniskáta $f: (x^2 + y^2)^2 = x^2 - y^2$ . . . . .	207
3.1.39	Konštantné funkcie $f_1: y = 1, x \in R, f_2: \rho = 1, \varphi \in R$ . . . . .	208
3.1.40	Polpriamka $f_1: y = x, x \in (0; \infty)$ a špirála $f_2: \rho = \varphi, \varphi \in (0; \infty)$ . . . . .	208
3.1.41	Konštrukcia Peanovej krivky. . . . .	208
3.1.42	Konštrukcia Hilbertovej krivky. . . . .	209

3.1.43	Konštrukcia van Kochovej snehovej vločky. . . . .	209
3.1.44	Kružnica $(x - c)^2 + (y - d)^2 = r^2$ . . . . .	211
3.1.45	Kružnica $x = c + r \cos t, y = d + r \sin t$ . . . . .	211
3.1.46	Kružnica $\rho^2 - 2\rho\rho_0 \cos(\varphi - \varphi_0) + \rho_0^2 = r^2$ . . . . .	211
3.1.47	Parabola s ohniskom $F$ . . . . .	212
3.1.48	Parabola implicitne určená rovnicami $k_y: 2p(y-d) = (x-c)^2, k_x: 2p(x-c) = (y-d)^2$ . . . . .	212
3.1.49	Parabola s osou rovnobežnou s polárnou osou a osou kolmou na polárnu os. . . . .	212
3.1.50	Parabola v polárnom systéme s osou totožnou a osou kolmou na polárnu os. . . . .	213
3.1.51	Parabola v polárnom systéme s ohniskom $[0; 0]$ a osou totožnou s polárnou osou. . . . .	214
3.1.52	Paraboly $k_1, k_2, k_3, k_4$ a $p_1, p_2, p_3, p_4$ z príkladu 3.1.32. . . . .	215
3.1.53	Elipsa s hlavnou polosou $a$ a vedľajšou polosou $b$ . . . . .	216
3.1.54	Elipsa implicitne určená rovnicou $k: b^2(x - c)^2 + a^2(y - d)^2 = a^2b^2$ . . . . .	216
3.1.55	Elipsa s polosou $a$ rovnobežnou s polárnou osou $o$ . . . . .	217
3.1.56	Elipsa so stredom $S$ v počiatku polárneho systému. . . . .	217
3.1.57	Elipsa s hlavnou polosou ležiacou na polárnej osi a s ohniskom $[0; 0]$ . . . . .	217
3.1.58	Hyperbola. . . . .	219
3.1.59	Hyperboly $k_x, k_y$ . . . . .	219
3.1.60	Rovnoosé hyperboly z príkladu 3.1.33. . . . .	220
3.1.61	Hyperbola s polosami rovnobežnými s polárnou osou. . . . .	220
3.1.62	Hyperbola so stredom v počiatku polárneho systému. . . . .	221
3.1.63	Hyperbola s ohniskom v počiatku polárneho systému. . . . .	221
3.1.64	Predĺžená, obyčajná a skrátaná cykloida. . . . .	223
3.1.65	Predĺžená, obyčajná a skrátaná hypocykloida. . . . .	224
3.1.66	Hypocykloida s dvomi, s tromi, so štyrmi (asteroida) a s piatimi oblúkmi. . . . .	225
3.1.67	Predĺžená, obyčajná a skrátaná epicykloida. . . . .	225
3.1.68	Epicykloida s jedným, s dvomi, s tromi a so štyrmi oblúkmi. . . . .	226
3.1.69	Kardioida v polárnom systéme. . . . .	227
3.1.70	Kardioida určená polárnymi rovnicami $f: \rho(\varphi) = 2r(1 \pm \cos \varphi)$ . . . . .	227
3.1.71	Cassiniove krivky. . . . .	228
3.1.72	Archimedova špirála. . . . .	228
3.1.73	Logaritmická špirála. . . . .	228
3.1.74	Fermatova špirála $f_1$ , hyperbolická špirála $f_2$ a špirála $f_3: \rho(\varphi) = \frac{a}{\sqrt{\varphi}}$ . . . . .	229
3.1.75	Konchoida. . . . .	229
3.1.76	Pascalova závitnica. . . . .	229
3.1.77	Lamého krivka. . . . .	230
3.1.78	Osmička. . . . .	230
3.1.79	Srdcová kvartika. . . . .	230
3.1.80	Konchleoida. . . . .	230
3.1.81	Plateauova krivka. . . . .	230
3.1.82	Freethova nefroida. . . . .	231
3.1.83	Newtonova divergentná parabola. . . . .	231

3.1.84	Sluzeho perlovky $f_n: y^n = (2-x)^3x^4, g_n: y^n = (2-x)^4x^3$ .	231
3.1.85	Kappa krivka.	232
3.1.86	Tschirnhausova kubika.	232
3.1.87	Serpentina.	232
3.1.88	Strofoida $f_1$ , Maclaurinov trisektrix $f_2$ .	232
3.1.89	Descartov list.	232
3.1.90	Jednolistok $f_1$ , dvojlístok $f_2$ , trojlístok $f_3$ a torpédová krivka $f_T$ .	232
3.1.91	Ruža.	233
3.1.92	Botanická krivka.	234
3.1.93	Krivky v tvare srdca.	234
3.1.94	Nefroida.	234
3.1.95	Dvojrohová krivka.	235
3.1.96	Sínusova špirála.	235
3.1.97	Diablova krivka (vľavo), elektromotorická krivka (vpravo).	236
3.1.98	Deltoida.	236
3.1.99	Reťazovka.	236
3.1.100	Talbotova krivka.	236
3.1.101	Lissajousova krivka.	237
3.1.102	Spirická krivka ( $r = 0, 5, a = 0, 75$ , resp. $a = 0, 5$ , resp. $a = 0, 35$ ).	237
3.1.103	Wattova krivka.	238
3.2.104	Veta 3.2.1.	246
3.2.105	Veta 3.2.2.	246
3.2.106	Veta 3.2.3.	247
3.2.107	Dôsledok 3.2.4.b.	247
3.2.108	Funkcia z príkladu 3.2.23.	254
3.2.109	Jednostranné limity.	254
3.2.110	Príklady asymptoty bez smernice.	258
3.2.111	Asymptoty $y = q, x = a$ .	259
3.2.112	Asymptota so smernicou.	259
3.2.113	Graf funkcie s dvoma asymptotami (príklad 3.2.34).	260
3.2.114	Graf funkcie bez asymptôt (príklad 3.2.35).	260
3.2.115	Funkcia $f: y = \frac{\sin x}{x}$ a jej asymptota so smernicou $y = 0$ .	261
3.3.116	Spojitosť funkcie $f$ v izolovanom bode $a \in D(f)$ .	274
3.3.117	Spojitosť funkcie $f$ v hromadnom bode $a \in D(f)$ .	274
3.3.118	Veta 3.3.4 o zovretí.	276
3.3.119	Poznámka 3.3.3.	276
3.3.120	Príklad 3.3.4.	277
3.3.121	Poznámka 3.3.4.	277
3.3.122	Nespojitosť odstrániteľná.	279
3.3.123	Nespojitosť neodstrániteľná 1. druhu.	279
3.3.124	Nespojitosť neodstrániteľná 2. druhu.	279

3.3.125	Veta 3.3.8. . . . .	280
3.3.126	Veta 3.3.9. . . . .	280
3.3.127	Veta 3.3.10. . . . .	281
3.3.128	Poznámka 3.3.11. . . . .	281
3.3.129	Veta 3.3.12. . . . .	284
3.3.130	Príklad 3.3.10. . . . .	284
3.3.131	Veta 3.3.13. . . . .	286
3.3.132	Dôsledok 3.3.13.b. . . . .	286
3.3.133	Zobrazenie intervalu $I = (0; \infty)$ spojitou funkciou $f$ (poznámka 3.3.18). . . . .	286
3.3.134	Zobrazenie intervalu $I = (-\pi; \pi)$ z príkladu 3.3.11. . . . .	287
3.3.135	Veta 3.3.14. . . . .	288
3.3.136	Veta 3.3.15. . . . .	288
4.1.1	Úloha o rýchlosti. . . . .	292
4.1.2	Úloha o dotyčnici. . . . .	292
4.1.3	Dotyčnica a normála k funkcii $f$ v bode $[x_0; f(x_0)]$ . . . . .	293
4.1.4	Rôznobežné poldotyčnice. . . . .	295
4.1.5	Jednostranné poldotyčnice. . . . .	295
4.1.6	Dotyčnice a normály k funkcii $y = \sin x$ (príklad 4.1.9). . . . .	297
4.1.7	Funkcie $f$ a $ f $ z príkladu 4.1.10 a ich dotyčnice. . . . .	298
4.3.8	Rolleho veta. . . . .	322
4.3.9	Lagrangeova veta. . . . .	322
4.3.10	Príklad 4.3.2. . . . .	324
4.3.11	Príklad 4.3.3. . . . .	324
4.3.12	Príklad 4.3.4. . . . .	325
4.3.13	Príklad 4.3.5. . . . .	325
4.3.14	Príklad 4.3.7. . . . .	325
4.3.15	Funkcia $f(x) = \frac{x^2}{4+4x}$ . . . . .	345
4.3.16	Funkcia $f(x) = \frac{4x}{1+x^2}$ . . . . .	345
4.3.17	$f(x) = x^2, g(x) = x^3$ . . . . .	347
4.3.18	$f(x) =  x  -  x - 1  -  x + 1 $ . . . . .	347
4.3.19	Stacionárny bod $x_0$ funkcie $f$ . . . . .	348
4.3.20	Graf funkcie $f(x) =  x^2 - 1  +  x^2 + 1 $ . . . . .	350
4.3.21	Graf funkcie $f(x) = -x^3 - x^2 + x$ . . . . .	350
4.3.22	Graf funkcie $f(x) = x^3 - x^2 + x$ . . . . .	350
4.3.23	Príklad 4.3.32. . . . .	351
4.3.24	Príklad 4.3.33. . . . .	351
4.3.25	Rýdzo konvexná funkcia $f$ . . . . .	354
4.3.26	Rýdzo konkávna funkcia. . . . .	354
4.3.27	Grafy funkcií z príkladu 4.3.35. . . . .	356
4.3.28	Grafy funkcií $f_3, f_5$ a $f_4, f_6$ z príkladu 4.3.36. . . . .	358

4.3.29	Graf funkcie $f$ z príkladu 4.3.37. . . . .	358
4.3.30	Grafy funkcií $f(x)$ a $f''(x)$ z príkladu 4.3.38. . . . .	359
4.3.31	Funkcia $f(x) = \frac{x^3-6x^2}{15}$ . . . . .	359
4.3.32	Funkcia $f(x) = \sin x$ . . . . .	360
4.3.33	Funkcia $f(x) = \cos x$ . . . . .	360
4.3.34	Funkcia z príkladu 4.3.41 (os $y$ je zväčšená 40-krát vzhľadom na $x$ ). . . . .	362
4.3.35	Funkcia z príkladu 4.3.42 (os $y$ je zväčšená 30-krát vzhľadom na $x$ ). . . . .	362
4.3.36	Graf funkcie $f(x) = \frac{x}{1+x^2}$ z príkladu 4.3.43. . . . .	365
4.3.37	Graf funkcie $f(x) = \frac{8(x-2)}{x^2}$ z príkladu 4.3.44. . . . .	366
4.3.38	Príklad 4.3.45 a). . . . .	369
4.3.39	Príklad 4.3.45 b). . . . .	369
4.3.40	Graf funkcie $f$ z príkladu 4.3.48. . . . .	373
4.3.41	Parametricky definované funkcie z príkladu 4.3.47. . . . .	374
4.3.42	Implicitne definované funkcie z príkladu 4.3.49. . . . .	374
4.3.43	Descartov list $f$ a funkcie $f_1, f_2, f_3$ z príkladu 4.3.50. . . . .	376
4.3.44	Derivácia funkcie v polárnych súradniciach. . . . .	376
4.3.45	Polkružnica $f(x) = \sqrt{r^2 - x^2}$ , resp. $f(\varphi) = r$ z príkladu 4.3.51. . . . .	378
4.3.46	Grafy funkcií $f(x), f'(x)$ z poznámky 4.3.33. . . . .	378

# Zoznam tabuliek

1.1.1	Grécka abeceda. . . . .	1
1.1.2	Pravdivostné hodnoty zložených výrokov. . . . .	5
1.1.3	Tautológia $[p \Leftrightarrow q] \Leftrightarrow [(p \Rightarrow q) \wedge (q \Rightarrow p)]$ . . . . .	6
1.1.4	Zákon dvojitej negácie, zákon vylúčenia tretieho, zákon sporu. . . . .	7
1.1.5	De Morganove zákony $\overline{p \vee q} \Leftrightarrow (\overline{p} \wedge \overline{q})$ , $\overline{p \wedge q} \Leftrightarrow (\overline{p} \vee \overline{q})$ . . . . .	7
1.1.6	Zákon hypotetického sylogizmu $((p \Rightarrow q) \wedge (q \Rightarrow r)) \Rightarrow (p \Rightarrow r)$ . . . . .	8
1.1.7	Zákon transpozície. . . . .	8
1.1.8	Asociatívne zákony $((p \wedge q) \wedge r) \Leftrightarrow (p \wedge (q \wedge r))$ , $((p \vee q) \vee r) \Leftrightarrow (p \vee (q \vee r))$ . . . . .	8
1.1.9	Distributívne zákony $(p \wedge (q \vee r)) \Leftrightarrow ((p \wedge q) \vee (p \wedge r))$ , $(p \vee (q \wedge r)) \Leftrightarrow ((p \vee q) \wedge (p \vee r))$ . . . . .	9
1.1.10	Tautológie $(p \Rightarrow q) \Leftrightarrow (\overline{p} \vee q)$ , $(p \Rightarrow q) \Leftrightarrow \overline{p \wedge \overline{q}}$ , resp. $p \Rightarrow (q \Rightarrow p)$ , $(p \Rightarrow q) \Rightarrow p$ . . . . .	10
1.1.11	Tautológia $(p \Leftrightarrow q) \Leftrightarrow [(\overline{p} \vee q) \wedge (p \vee \overline{q})]$ . . . . .	10
1.3.12	Konečná, nekonečná, spočítateľná, nespočítateľná množina. . . . .	40
3.1.1	Niektoré dôležité hodnoty funkcií sínus a kosínus. . . . .	196
3.1.2	Vzťahy medzi goniometrickými funkciami pre $x \in (0; \frac{\pi}{2})$ . . . . .	198
3.1.3	Vzťahy medzi hyperbolickými funkciami pre $x > 0$ . . . . .	202
3.3.4	Riešenie rovnice $x^3 - 3x + 1 = 0$ z príkladu 3.3.10 metódou bisekcie. . . . .	285
4.1.1	Derivácie základných elementárnych funkcií. . . . .	304
4.2.2	Výpočet $\sqrt[n]{x}$ pomocou približného vzorca $\frac{x+5}{6}$ . . . . .	313
4.2.3	Derivácie rádu $n \in N$ základných elementárnych funkcií. . . . .	315
4.3.4	Niektoré dôležité hodnoty funkcie $f(x) = \frac{x}{1+x^2}$ z príkladu 4.3.43. . . . .	364
4.3.5	Niektoré dôležité hodnoty funkcie $f(x) = \frac{8(x-2)}{x^2}$ z príkladu 4.3.44. . . . .	365
4.3.6	Niektoré dôležité hodnoty funkcie $f(x) = \frac{ x-1 }{x+2}$ z príkladu 4.3.45 a). . . . .	367
4.3.7	Niektoré dôležité hodnoty funkcie $f(x) = \frac{ x-1 }{x-2}$ z príkladu 4.3.45 b). . . . .	368
4.3.8	Niektoré dôležité hodnoty funkcie $f$ z príkladu 4.3.48. . . . .	373

# Úvod

## Vznik a vývoj matematickej analýzy

Matematická analýza je na rozdiel od niektorých iných oblastí matematiky pomerne mladá. Vznikla v 17. storočí a medzi jej zakladateľov patrí francúzsky filozof, matematik a fyzik *René Descartes* [1596–1650], anglický matematik a fyzik *Isaak Newton* [1642–1727] a nemecký filozof a matematik *Gottfried Wilhelm Leibniz* [1646–1716]. V tomto období sa značne rozvíja hospodársky život v Európe. Začínajú sa vyvíjať a zdokonaľovať nové stroje. Úvahy o rýchlosti a zrýchlení pri ich konštrukcii vedú k potrebe sledovať funkčnú závislosť rôznych veličín na základe prírodných, mechanických a iných zákonitostí. Matematikovia vo veľkej miere zaujímajú výpočty objemov, povrchov a ťažísk telies.

Rozsiahle námorské plavby si vyžadujú presnejšie astronomické a geodetické merania a ich matematické spracovanie. Objavy nových území a ich mapovanie vedú k vzniku súradnicových systémov a analytickej geometrie. Rozvoj matematických schopností úzko súvisí s revolučnými objavmi v astronómii, ktoré sú spojené s menami *Mikuláš Koperník* [1473–1543], *Tycho de Brahe* [1546–1601] a *Johannes Kepler* [1571–1630].

Matematici sa čoraz viac prikláňajú k výsledkom, ktoré majú aj nejaký praktický a technický význam. V roku 1635 zhrnul univerzitný profesor z Bologne *Bonaventura Cavalieri* [1598–1647] všetky dovtedajšie matematické poznatky infinitenzimálneho charakteru (z latinského infinitus — nekonečný) v práci „*Geometria indivisibilibus continuorum*“ a utvoril tak predprípravu na objavenie diferenciálneho a integrálneho počtu.

Diferenciálny a integrálny počet (tzv. infinitenzimálny počet) objavili nezávisle na sebe *I. Newton* [1665–1666] a *G. W. Leibniz* [1673–1676], ktorý ich publikoval ako prvý. Newtonov prístup mal fyzikálny charakter a deriváciu chápal predovšetkým ako rýchlosť („*Principia mathematica philosophiae naturalis*“). Leibnizov prístup mal geometrickú povahu a deriváciu chápal ako smernicu dotyčnice ku grafu v danom bode.

Prvú učebnicu infinitenzimálneho počtu „*Analyse des infiniment petites pour l'intelligence des lignes courbes*“ vydal v roku 1696 francúzsky matematik *Guillaume Francois Antoine de l'Hospital* [1661–1704]. Treba však poznamenať, že základné úvahy tvorcov infinitenzimálneho počtu boli ešte poznačené mnohými pojmovými nepresnosťami a logickými nedôslednosťami.

Ďalšími, ktorí výrazne ovplyvnili rozvoj matematickej analýzy, boli Leibnizovi žiaci *Johann Bernoulli* [1667–1748] a *Jacob Bernoulli* [1654–1705], ktorí pochádzali z Bazileja. Odtiaľto pochádzal aj najvýznamnejší matematik 18. storočia *Leonard Euler* [1707–1783]. Mal fenomenálnu pamäť a po oslepnutí [1766] svoje nezvyčajne početné výsledky diktoval. Zanechal 886 vedeckých prác zo všetkých oblastí matematiky. Podľa jeho prác sa ustálila symbolika algebry a infinitenzimálneho počtu (napr.  $f(x)$ ,  $\pi$ ,  $i$ ,  $e$ ,  $\sum$ ,  $\Delta x$ , ...). V jeho stopách pokračujú mnohí ďalší matematici, ako napríklad *Pierre Simon Laplace* [1749–1827] a *Joseph Louis Lagrange* [1736–1813], ktorý ako prvý použil symbolický zápis derivácie  $f'(x)$ ,  $f''(x)$ .

Štúdium matematiky v 19. storočí sa čoraz viac oddeľuje od bezprostredných požiadaviek reálneho života, ale spojenie matematiky a praxe sa nikdy úplne neprerušilo. Vzniká čistá a aplikovaná matematika, mnohí matematici pôsobia ako učitelia na vysokých školách a špecializujú sa na rôzne oblasti matematiky. V roku 1822 vydáva francúzsky matematik a fyzik *Jean-Baptiste Joseph Fourier* [1768–1830] analytickú teóriu tepla „*Théorie analytique de la chaleur*“, v ktorej ako funkciu chápe ľubovoľné zobrazenie množiny reálnych čísel do seba.

Pojem funkcie upresnil neskôr nemecký matematik *Peter Gustav Lejeune Dirichlet* [1805–1859]. Veľké zásluhy o rozvoj matematiky v tomto období má nemecký matematik a astronóm *Karl Friedrich Gauss* [1777–1855] a francúzsky matematik *Augustin Louis Cauchy* [1789–1857]. Jeho práca „*Course*

*d'analyse*“ [1821] je základnou učebnicou diferenciálneho a integrálneho počtu, ktorá platí aj dnes.

V Prahe žijúci, po nemecky píšuci, matematik talianskeho pôvodu *Bernard Bolzano* [1781–1848] predstihol svoju dobu pochopením pojmu nekonečno. Bol profesorom teológie a často kolísal v názoroch medzi matematikou, sociológiou a teológiou. Uznanie získal až po smrti za prácu „*Paradoxien des Unendlichen*“ [vyšla 1851], v ktorej študoval vlastnosti nekonečných množín, definoval pojem spočítateľnej a nespočítateľnej množiny a dospel až k pojmu mohutnosť kontinua.

Medzi významným matematikom tohto obdobia patrí *Bernhard Riemann* [1826–1866], ktorý pôsobil ako profesor na univerzite v Göttingene. Je autorom dodnes používanej definície určitého, tzv. Riemannovho integrálu. Jeho súčasníkom bol *Karl Weierstrass* [1815–1897]. Zaoberal sa teóriou reálnych čísel, diferenciálnym a integrálnym počtom, variačným počtom a teóriou funkcií. Taktiež odstránil niektoré nejasnosti z teórie iracionálnych čísel a teórie limit.

Od čias *L. Eulera* až do začiatku 19. storočia sa názor na reálne čísla podstatne nezmenil. Matematici podvedome tušili, že existuje aj iracionálne číslo. Ale až v tridsiatych rokoch uverejnil *William Rowan Hamilton* [1805–1865] svoje práce o reálnych číslach, v ktorých definuje iracionálne číslo ako rez na množine racionálnych čísel.

Významným krokom v rozvoji matematiky bolo vytvorenie teórie množín *Gergom Cantorom* [1845–1918] v druhej polovici 19. storočia, ktorá sa stala základnou matematickou disciplínou, postavila doterajšie výsledky na pevnejší logický základ a pričiniła sa o vznik nových oblastí, ako sú napríklad teória reálnych funkcií a funkcionálna analýza. Jeho hlavná zásluha je v objasnení pojmu nekonečno v matematike, čím sa mohli v matematike začať skúmať nekonečné súbory objektov.

Mnohí vtedajší matematici, predovšetkým *Leopold Kronecker* [1823–1891] nepochopili význam teórie množín a bránili jej rozvoju. *L. Kronecker* neveril ani na existenciu iracionálnych čísel. No našťastie mnohí iní zbadali v tejto teórii možnosť ďalšieho rozvoja matematiky. Ďalšou významnou osobnosťou tohto obdobia bol nemecký matematik *David Hilbert* [1862–1943], ktorý v práci „*Grundlagen der Geometrie*“ prvýkrát sformuloval na základe axiomatickej metódy euklidovu geometriu.

V 20. storočí sa matematika stala konglomerátom teórií, z ktorých každá študuje súhrn objektov charakterizovaných presne formulovanými vzťahmi medzi nimi, ktoré nemožno chápať izolovane. Charakteristické je vzájomné prelínanie metód disciplín, ktoré sa predtým chápali izolovane (matematická analýza, algebra, geometria, ...).

Zväčšilo spätné prepojenie matematiky a praxe. Rozvíjajú sa nové matematické disciplíny. Matematické metódy sa úspešne aplikujú v biológii, medicíne, ekonómii, jazykovede, sociológii. Matematika dosiahla vysoký stupeň abstrakcie a logickej presnosti. Podporuje rozvoj nielen matematického a logického myslenia, ale myslenia celkovo, čo je v dnešnej dobe asi najväčší problém.

## Predmet a obsah matematickej analýzy

**Matematickú analýzu môžeme definovať ako disciplínu, zaoberajúcu sa štúdiom vlastností množín a ich vzájomných zobrazení, ktoré sú určené topologickou štruktúrou (štruktúrou polohy) a štruktúrou algebraických operácií.** Názov vystihuje skôr metódu práce než obsah.

Metódy matematickej analýzy sú schopné skúmať rôzne oblasti svojej činnosti. Musíme si uvedomiť, že sa často pri tomto výskume používajú veľmi abstraktné pojmy. Ale aj tie najabstraktnejšie pojmy používané v matematickej analýze (a v matematike všeobecne) majú základ v reálnom svete. Upozorňujeme na to, pretože charakteristickou črtou matematiky je veľmi vysoký stupeň abstrakcie a pri jej povrchnom chápaní by mohol vzniknúť dojem o jej samostatnosti, nespojitosti a nezávislosti od okolitého sveta.

Skutočnosť, že je predchádzajúci výklad nesprávny, dokazuje množstvo výsledkov aplikovaných v najrozmanitejších oblastiach nášho života. S matematickou analýzou sa v praxi stretávame skoro stále.



Často sa používa pri riešení rôznych problémov vo fyzike, v chémii, v technických, ale aj v spoločenských vedách.

Uvedieme niekoľko príkladov jej použitia, ktoré nám pomôžu pochopiť, ako sa pomocou pojmov sformuluje úloha (čiže vytvorí matematický model) a pomocou prístupného aparátu vyšetří a vyrieši.

**Príklad.K0-pr01**

Akú maximálnu obdĺžnikovú plochu  $P$  dokážeme ohraničiť lanom dĺžky  $l$ ?

**Riešenie.**

Ak označíme rozmery tohto obdĺžnika  $x, y$ , potom platí  $2x + 2y = l$  a zadaný problém vedie na úlohu maximalizovať funkciu

$$P = xy = x \frac{l-2x}{2} = \frac{lx}{2} - x^2, \quad x \in \langle 0; l \rangle.$$

Maximum nastáva pre hodnotu  $x = \frac{l}{4}$ , ktorú získame ako koreň rovnice

$$\frac{dP}{dx} = \frac{l}{2} - 2x = 0. \blacksquare$$

**Príklad.K0-pr02**

Aký je obsah kruhu s polomerom  $r$ ?

**Riešenie.**

Ak umiestnime stred kruhu do počiatku súradnicového systému  $0 = [0; 0]$ , potom rovnica kružnice so stredom v bode 0 a polomerom  $r$  je daná vzťahom  $x^2 + y^2 = r^2$ .

To znamená, že daný kruh ohraničujú grafy funkcií  $f_1(x) = \sqrt{r^2 - x^2}$ ,  $f_2(x) = -\sqrt{r^2 - x^2}$ .

Obsah kruhu  $S$  určíme pomocou určitého integrálu (substitúcia  $x = r \sin t$ ) zo vzorca

$$S = \int_{-r}^r f_1(x) - f_2(x) dx = 2 \int_{-r}^r \sqrt{r^2 - x^2} dx = 2r^2 \int_{-\frac{\pi}{2}}^{\frac{\pi}{2}} \cos^2 t dt = \pi r^2.$$

Ak použijeme polárne súradnice, situácia je ešte jednoduchšia. Rovnica kružnice je  $\rho = r$ ,  $\varphi \in \langle 0; 2\pi \rangle$  a obsah kruhu je daný vzťahom

$$S = \frac{1}{2} \int_0^{2\pi} r^2 d\varphi = \frac{1}{2} r^2 \int_0^{2\pi} d\varphi = \pi r^2. \blacksquare$$

**Príklad.K0-pr03**

Aká je chyba pri štatistickom meraní nejakej veličiny, ak predpokladáme, že každé meranie je zaťažené chybou, ktorej príčiny nepoznáme a považujeme ju za náhodnú veličinu?

**Riešenie.**

Ak predpokladáme, že  $\sigma$  je stredná chyba merania, potom pravdepodobnosť  $P$ , že chyba merania leží v intervale  $(-\varepsilon; \varepsilon)$ , je určená určitým integrálom

$$P(-\varepsilon; \varepsilon) = \frac{1}{\sigma\sqrt{2\pi}} \int_{-\varepsilon}^{\varepsilon} e^{-\frac{x^2}{2\sigma^2}} dx. \blacksquare$$

# Kapitola 1

## Základné pojmy

### 1.1 Logika

Predmetom skúmania logiky sú myšlienky. Logika sa zaoberá štúdiom formálnych vlastností myšlienky a stanovuje pravidlá správneho, t. j. logického usudzovania. Preto má dôležitú úlohu vo všetkých vedách. Na logických zákonoch je postavené vedecké skúmanie, zdôvodňovanie poznatkov a budovanie vedeckých systémov. Avšak vplyv medzi logikou a inými vedami je obojstranný. V matematike je logika nepostrádateľná a jej potreba pri riešení niektorých metodologických problémov viedla k vzniku modernej **matematickej logiky**. Preto je potrebné sa oboznámiť so základnými logickými pojmami, ktoré sa používajú v matematike a nielen v matematike.

#### 1.1.1 Výrazy a výroky

Na vyjadrenie myšlienok používame jazyk, ktorý sa skladá z **výrazov**. Výraz je základom prejavu myšlienky, je základnou myšlienkou jazykového prejavu. Výrazy sú jednoduché alebo zložené, ktoré sa tvoria z jednoduchých pomocou syntaktických pravidiel jazyka. To znamená, že jednoduchým zoradením viacerých jednoduchých výrazov za sebou ešte nemusí vzniknúť zložený výraz. V živom jazyku sú výrazmi slová a vety. Na ich označenie sa okrem latinskej (slovenskej) abecedy používa tiež **abeceda grécka**. Písmená gréckej abecedy aj s ich názvami a latinskými ekvivalentami sú uvedené v tabuľke 1.1.1. Výrazmi v matematike sú napríklad  $(a + b)^2$ ,  $x - y = 1$ ,  $a < b$ ,  $\alpha = 1 + \pi$ .

$\alpha$	<i>A</i>	alfa	a	$\eta$	<i>H</i>	éta	é	$\nu$	<i>N</i>	ný	n	$\tau$	<i>T</i>	tau	t
$\beta$	<i>B</i>	beta	b	$\vartheta$	$\Theta$	théta	th	$\xi$	$\Xi$	ksí (xí)	x	$\upsilon$	$\Upsilon$	ypsilon	y
$\gamma$	$\Gamma$	gama	g	$\iota$	<i>I</i>	ióta	i	$o$	<i>O</i>	omikron	o	$\varphi$	$\Phi$	fi	f
$\delta$	$\Delta$	delta	d	$\kappa$	<i>K</i>	kappa	k	$\pi$	$\Pi$	pí	p	$\chi$	<i>X</i>	chí	ch
$\varepsilon$	<i>E</i>	epsilon	e	$\lambda$	$\Lambda$	lambda	l	$\rho$	<i>P</i>	ró	r	$\psi$	$\Psi$	psí	ps
$\zeta$	<i>Z</i>	dzéta	dz	$\mu$	<i>M</i>	mí	m	$\sigma$	$\Sigma$	sigma	s	$\omega$	$\Omega$	omega	ó

Tabuľka 1.1.1: Grécka abeceda.

V logike sa výrazy rozdeľujú na konštanty a premenné. **Konštanty** sú výrazy, ktoré majú nemenný (t. j. konštantný) význam. **Premenné** sú výrazy, ktoré zastupujú konštanty. Premenné môžeme v prípade potreby nahradiť konštantami (tým sa myslí jednoduchými aj zloženými konštantami). Je zrejmé, že nemá význam dosadzovať všetky konštanty, ale iba tie, ktoré dajú danému výrazu zmysel. Množinu

takýchto konštánt nazývame **oborom úvahy**. V matematike sa niekedy zo samotného výrazu ťažko rozlíši, čo je premenná a čo konštanta.

### Príklad 1.1.1.K1-pr01

Do výrazu „ $x$  je lietadlo“ má zmysel za  $x$  dosadzovať výrazy ako Supermarine Spitfire, Zero, DC-3 Dakota, IL 62, Concorde, vrtuľník, čmeliak, raketa, ale nemá zmysel dosadzovať výrazy Zemplínska Šírava, Praha, voda, pivo, soľ, číslo, minister školstva, Titanic, atď.

V rovnici priamky  $y = ax + b$  sú výrazy  $x$ ,  $y$  premenné a výrazy  $a$ ,  $b$  konštanty.<sup>1</sup>

Keď však hovoríme o zväzku priamok s rovnicami  $y = ax + 2$ , je  $a$  premenná. ■

Často sa výslovne uvádza, ktorý symbol vyjadruje premennú a ktorý konštantu. V logike sa ako premenné používajú nielen písmená, ale aj bodky alebo medzery.

**Výrok** je výraz, ktorý vyjadruje pravdivú alebo nepravdivú myšlienku. Výroky delíme na **pravdivé** a **nepravdivé**, pričom kritériom pravdivosti je zhoda so skutočnosťou. Gramaticky je výrok obyčajne (ale nie vždy) oznamovacia veta.<sup>2</sup> Pre výrok je podstatné, či možno o ňom tvrdiť, že je **pravdivý** alebo **nepravdivý**. Výrok nemôže byť zároveň pravdivý a zároveň nepravdivý.

### Príklad 1.1.2.K1-pr02

Výrokmi sú napríklad výrazy:

„Pes je domáce zviera.“, „ $2 + 3 = 4$ “, „Pre každé reálne číslo  $x$  platí nerovnosť  $x \geq 0$ .“, „Trabant je auto.“, „Existuje inteligentný minister.“

Na druhej strane výrazy:

„modrý stôl“ (názov), „Nech žije 1. máj!“ (zvolanie v budovateľských dobách), „Ideš spať?“ (otázka), „Fajčiť zakázané!“ (príkaz, resp. zákaz)

nie sú výroky, pretože nemá zmysel skúmať ich pravdivosť. ■

### Poznámka 1.1.1.K1-poz08

Musíme ale poznamenať, že povaha výrazu závisí od súvislostí. Ak niekto na otázku o fajčení vo vlaku odpovie slovami „Fajčiť zakázané!“, ide o pravdivý výrok.

Výrazy, ktoré obsahujú premenné, nazývame **nesamostatné výrazy** alebo **formy**. Ak dosadíme do danej formy za všetky premenné konštanty z oboru úvahy, potom môžeme dostať výrok — vtedy hovoríme o **výrokovej forme**. Alebo môžeme dostať slovné vyjadrenie, matematický výraz a podobne, t. j. vyjadrenie nejakého pojmu — vtedy hovoríme o **mennej forme**.

**Výroková forma nie je výrok!** Z výrokovej formy vznikne výrok dosadením prípustných konštánt za všetky premenné.

### Príklad 1.1.3.K1-pr03

Výrokové formy sú napríklad:

„ $2x + 3y = 0$ “, „ $2 + 3 = x$ “, „ $x_1 + x_2 + \dots + x_n = 1$ “, „Ak platí tvrdenie 1, potom platí tvrdenie 2.“

Z daných výrokových foriem dostaneme výroky, ak dosadíme za premenné  $x$ ,  $y$ ,  $x_1$ ,  $x_2$ ,  $\dots$ ,  $x_n$  konkrétne čísla, resp. ak za tvrdenia 1 a 2 dosadíme konkrétne výroky.

Menné formy sú napríklad:

<sup>1</sup>Pre každé  $a$ ,  $b$  dostávame konkrétnu priamku.

<sup>2</sup>Od gramatickej vety je nutné odlišovať **matematickú vetu**. Je to pravdivý výrok o matematických objektoch a vzťahoch medzi nimi, ktorý je dokázaný, resp. nie sú o ňom pochybnosti. Už zo základnej, prípadne strednej školy sú známe napríklad binomická veta, sínusova a kosínusova veta, Pytagorova veta, Talesova veta,  $\dots$

„sin  $\alpha$ “, „Žiak, ktorý  $p$ .“.

Ak v mennej forme „sin  $\alpha$ “ zvolíme za  $\alpha$  konkrétne číslo, dostaneme hodnotu funkcie sínus v tomto bode. Ak dosadíme za premennú  $p$  niektorý výrok vyjadrujúci činnosť alebo stav žiaka, dostaneme vyjadrenie o žiakovom stave alebo o jeho činnosti. ■

## 1.1.2 Logické operácie

Ako sme už spomenuli, výrok je výraz, ktorý vyjadruje pravdivú alebo nepravdivú myšlienku. Preto je vhodné zaviesť pojem **pravdivostná**, resp. **logická hodnota výroku**. Pre pravdivý výrok (t. j. výrok, ktorý je platný) definujeme pravdivostnú hodnotu **pravda** a vyjadrujeme ju symbolom  $P$ . Pre nepravdivý výrok (t. j. neplatný výrok) definujeme pravdivostnú hodnotu **nepravda** a vyjadrujeme ju symbolom  $N$ .

Často sa na vyjadrenie pravdivého výroku používa číslica 1 a na vyjadrenie nepravdivého výroku číslica 0.<sup>3</sup> Na označenie výrokových premenných budeme obyčajne používať malé písmená z konca abecedy, t. j. symboly  $p, q, r$ , resp.  $x, y, z$ .

Pravdivostnú hodnotu výroku  $p$  budeme označovať  $|p|$ . To znamená, že zápis  $|p| = P$  znamená pravdivý výrok  $p$  a zápis  $|p| = N$  znamená nepravdivý výrok  $p$ .

Predtým, ako budeme pokračovať, si musíme ujasniť zápis výrokových foriem a výrokov. Ak budeme hovoriť o výrokovvej forme  $p \wedge g$ , budú  $p$  a  $g$  predstavovať premenné. Ak budeme hovoriť o výroku  $p \wedge g$ , potom budú  $p$  a  $g$  predstavovať konštanty (budú označovať určité, pevne zvolené výroky).

Výrovkový počet sa zaoberá pravdivostnou hodnotou **zložených výrokov**, ktoré sú vytvorené z iných výrokov (tzv. zložiek) pomocou **logických operácií**. Základné logické operácie sú negácia výroku, konjunkcia, disjunkcia, implikácia a ekvivalencia výrokov.

### • Negácia výroku

**Negácia výroku**  $p$  sa tvorí výrazmi „nie je pravda, že  $p$ “, „nie je pravda, že platí  $p$ “, prípadne „ne- $p$ “. Negáciu výroku  $p$  označujeme  $\bar{p}$  (niekedy tiež  $\sim p$ , resp.  $p'$ ) a čítame „nie  $p$ “, „nie je pravda, že  $p$ “, „non  $p$ “ a podobne.

#### Príklad 1.1.4.K1-pr04

Uvažujme výrok  $p$ : „Dnes je utorok.“, potom negáciou tohto výroku je výrok „Dnes nie je utorok.“, resp. „Nie je pravda, že je dnes utorok.“.

Ak utvoríme negáciu tejto negácie, dostaneme výrok: „Nie je pravda, že dnes nie je utorok.“, čo sa dá vyjadriť pôvodným výrokom „Dnes je utorok.“. ■

Na predchádzajúcom príklade vidíme, že ak je dnes utorok, potom je výrok  $p$  pravdivý a výrok  $\bar{p}$  nepravdivý. Ak dnes nie je utorok, potom je výrok  $p$  nepravdivý a výrok  $\bar{p}$  pravdivý. To znamená, že **výrok a jeho negácia majú opačné pravdivostné hodnoty**. Ďalej z príkladu vyplýva, že **negáciou negácie výroku**  $p$ , označme ju  $\overline{(\bar{p})} = \bar{\bar{p}}$ , je pôvodný výrok  $p$ . Situácia je znázornená v tabuľke 1.1.2.

### • Konjunkcia výrokov

**Konjunkcia výrokov**  $p$  a  $q$  sa tvorí pomocou spojky „a“, označujeme ju  $p \wedge q$ , prípadne  $p \& q$  a čítame „ $p$  a  $q$ “, „ $p$  a súčasne  $q$ “, „ $p$  konjunkcia  $q$ “, „konjunkcia výrokov  $p$  a  $q$ “, „ $p$  et  $q$ “ a podobne.

Pravdivosť konjunkcie výrokov  $p$  a  $q$  je určená tabuľkou 1.1.2. To znamená, že konjunkcia dvoch výrokov je pravdivá iba v prípade, ak sú pravdivé obidva výroky. Takže na dokázanie nepravdivosti zloženého výroku stačí ukázať nepravdivosť jedného z výrokov. Z tabuľky ďalej vidíme, že výroky  $p \wedge q$  a  $q \wedge p$  majú rovnakú pravdivostnú hodnotu.

<sup>3</sup>Tiež sa používa  $T - F$ , resp.  $Y - N$  (z anglického *true - false*, resp. *yes - no*).

**Poznámka 1.1.2.K1-poz01**

Ak použijeme na označenie pravdivostnej hodnoty symboly 0 a 1, potom pravdivostná hodnota konjunkcie dvoch výrokov sa rovná násobku pravdivostných hodnôt jednotlivých výrokov, t. j.  $1 \cdot 1 = 1$ ,  $1 \cdot 0 = 0$ ,  $0 \cdot 1 = 0$ ,  $0 \cdot 0 = 0$ .

- **Disjunkcia výrokov**

**Disjunkcia výrokov**  $p$  a  $q$  sa tvorí pomocou spojky „alebo“, označujeme ju  $p \vee q$  (skratka z latinského *vel* — alebo) a čítame „ $p$  alebo  $q$ “, „ $p$  vel  $q$ “, „disjunkcia výrokov  $p$ ,  $q$ “ a podobne.<sup>4</sup>

Disjunkcia je pravdivá, ak je pravdivý aspoň jeden z výrokov (tabuľka 1.1.2). Podobne ako v prípade konjunkcie, majú výroky  $p \vee q$  a  $q \vee p$  rovnakú pravdivostnú hodnotu.

V logike má spojka „alebo“ **nevyučovací význam**, čo je rozdiel od hovorovej reči, kde môže mať vylučovací význam. Napríklad vo vete „Dnes večer pôjdeme do kina alebo do divadla.“ má „alebo“ vylučovací význam. Ale vo vete „Ja ťa obesím alebo zastrelím.“ nevyučujeme možnosť, že vrah je dôsledný a svoju obeť aj obesí a aj zastrelí.

**Príklad 1.1.5.K1-pr05**

Uvažujme výrok  $p$ : „Dnes je chladno.“ a výrok  $q$ : „Dnes svieti slnko.“.

Konjunkcia  $p \wedge q$  je zložený výrok: „Dnes je chladno a svieti slnko.“.

Disjunkcia  $p \vee q$  je zložený výrok: „Dnes je chladno alebo svieti slnko.“. ■

- **Implikácia výrokov**

**Implikácia výrokov**  $p$  a  $q$  sa tvorí vzťahom „Ak (platí) ..., potom (platí) ...“, označujeme ju  $p \Rightarrow q$  a čítame „Z  $p$  vyplýva  $q$ “, „ $p$  potom  $q$ “, „Ak platí  $p$ , potom platí  $q$ “, „ $p$  je nutná podmienka pre  $q$ “, „ $q$  je postačujúca podmienka pre  $p$ “.

Prvý výrok (výrok  $p$ ) sa nazýva podmieňujúci (predpoklad, implikans) a druhý výrok (výrok  $q$ ) sa nazýva podmienený výrok (záver, implikát).

Pravdivosť implikácie  $p \Rightarrow q$  je znázornená v tabuľke 1.1.2. Vidíme, že implikácia je nepravdivá iba v prípade pravdivého predpokladu a nepravdivého záveru. To znamená, že výroky  $p \Rightarrow q$  a  $q \Rightarrow p$  nemusia mať rovnakú pravdivostnú hodnotu.

**Poznámka 1.1.3.K1-poz02**

V bežnej reči berieme do úvahy tiež súvislosť jednotlivých výrokov, z ktorých tvoríme implikáciu. Vo výrokovej logike sa táto súvislosť nevyžaduje. Na implikáciu sa nepozerať ako na dôsledkový vzťah, ale ako na zložený výrok vytvorený pomocou predpokladu a záveru. To znamená, že pravdivá je tiež implikácia „Ak je číslo 24 deliteľné tromi, potom má deň 24 hodín.“ a dokonca aj implikácia „Ak je číslo 24 deliteľné piatimi, potom má deň 24 hodín.“.

**Príklad 1.1.6.K1-pr06**

Uvažujme výrok  $p$ : „Celé číslo  $x$  je deliteľné tromi.“ a výrok  $q$ : „Celé číslo  $x$  je párne.“.

Utvorme implikáciu  $p \Rightarrow q$ : „Ak celé číslo  $x$  je deliteľné tromi, potom je párne.“.

V závislosti od čísla  $x$  môžu nastať rôzne prípady pre pravdivosť implikácie  $p \Rightarrow q$ .

Napríklad pre  $x = 18$  ( $|p| = |q| = P$ ), pre  $x = 19$  ( $|p| = |q| = N$ ) a pre  $x = 20$  ( $|p| = N$ ,  $|q| = P$ ) má implikácia hodnotu  $P$ . Pre  $x = 21$  ( $|p| = P$ ,  $|q| = N$ ) má hodnotu  $N$ . ■

<sup>4</sup>V literatúre sa môžeme stretnúť aj s názvom **alternatíva**.

### • Ekvivalencia výrokov

**Ekvivalencia výrokov**  $p$  a  $q$  sa tvorí pomocou vzťahu „... (platí) práve vtedy, ak (platí) ...“, označujeme ju  $p \Leftrightarrow q$ . Niekedy sa tiež označuje  $p \sim q$ , resp.  $p \equiv q$ .

Ekvivalenciu výrokov  $p$  a  $q$  čítame „ $p$  (platí) práve vtedy, ak (platí)  $q$ “, „ $p$  platí vtedy a len vtedy, ak platí  $q$ “, „Z  $p$  vyplýva  $q$  a naopak z  $q$  vyplýva  $p$ “, „ $p$  je nutná podmienka a súčasne postačujúca podmienka pre  $q$ “ a podobne.

Pravdivosť ekvivalencie  $p \Leftrightarrow q$  je znázornená v tabuľke 1.1.2. Z tabuľky je zrejmé, že ekvivalencia je pravdivá v prípade, ak majú obidva výroky (z ktorých je zložená) rovnakú pravdivostnú hodnotu.

Z ekvivalencie  $p \Leftrightarrow q$  vyplývajú implikácie  $p \Rightarrow q$  a  $q \Rightarrow p$ . A naopak z implikácií  $p \Rightarrow q$  a  $q \Rightarrow p$  vyplýva ekvivalencia  $p \Leftrightarrow q$ . Teda ekvivalenciu  $p \Leftrightarrow q$  môžeme nahradiť zloženým výrokom  $(p \Rightarrow q) \wedge (q \Rightarrow p)$ . Formálne to môžeme zapísať vzťahom:

$$[p \Leftrightarrow q] \Leftrightarrow [(p \Rightarrow q) \wedge (q \Rightarrow p)].$$

$p$	$q$	$\bar{p}$	$\bar{\bar{p}}$	$p \wedge q$	$q \wedge p$	$p \vee q$	$q \vee p$	$p \Rightarrow q$	$q \Rightarrow p$	$p \Leftrightarrow q$	$q \Leftrightarrow p$
$P$	$P$	$N$	$P$	$P$	$P$	$P$	$P$	$P$	$P$	$P$	$P$
$P$	$N$	$P$	$N$	$N$	$N$	$P$	$P$	$N$	$P$	$N$	$N$
$N$	$P$	$P$	$N$	$N$	$N$	$P$	$P$	$P$	$N$	$N$	$N$
$N$	$N$	$N$	$P$	$N$	$N$	$N$	$N$	$P$	$P$	$P$	$P$

Tabuľka 1.1.2: Pravdivostné hodnoty zložených výrokov.

#### Poznámka 1.1.4.K1-poz03

Výnimkou pri chápaní implikácie a ekvivalencie je formulácia definícií, napríklad definícia:

„Hovoríme, že funkcia  $f(x)$ ,  $x \in D(f)$  je rastúca na množine  $A \subset D(f)$ , ak pre všetky  $x_1, x_2 \in A$  také, že  $x_1 < x_2$ , platí  $f(x_1) < f(x_2)$ .“

má formálne tvar implikácie ale zmysel ekvivalencie. To znamená, že **definíciu musíme vždy chápať ako ekvivalenciu medzi predpokladom a záverom!**

### 1.1.3 Výrokové formy

V predchádzajúcej časti sme uviedli zložené výroky, ktoré sme vytvorili pomocou symbolov  $\neg$ ,  $\wedge$ ,  $\vee$ ,  $\Rightarrow$ ,  $\Leftrightarrow$ . Tieto symboly patria medzi logické konštanty a nazývajú sa **logické spojky**. S iba týmito zloženými výrokmi však logika (a ani žiaden jazyk) nevystačí. Často je potrebné tvoriť ešte zložitejšie výroky a skúmať ich vlastnosti.

Z tohto hľadiska sa zameriame na výrokové formy. V zásade nemá zmysel hovoriť o pravdivosti alebo nepravdivosti výrokovej formy, pretože obsahuje premenné. Ale má zmysel uvažovať, pre aké hodnoty premenných sa z nej stáva pravdivý, resp. nepravdivý výrok. Dôležité sú dve výrokové formy, ktoré sa nazývajú tautológia a kontraindikácia.

**Tautológia (zákon)** je výroková forma, ktorá po nahradení všetkých premenných konštantami dá vždy pravdivý výrok. To znamená, že ak použijeme prípustné konštanty s ľubovoľnými pravdivostnými hodnotami, dostaneme pravdivý výrok.

**Kontraindikácia (spor)** je výroková forma, ktorá po nahradení všetkých premenných konštantami dá vždy nepravdivý výrok.



Pravdivostné hodnoty výrokov najčastejšie zisťujeme pomocou tabuľkovej alebo deduktívnej metódy, prípadne tieto metódy kombinujeme.

• **Tabuľková metóda na zisťovanie pravdivostných hodnôt**

Zapišeme danú výrokovú formu a jednotlivé premenné, z ktorých je zložená, do tabuľky pravdivostných hodnôt. Najprv ohodnotíme pravdivostnými hodnotami jednotlivé premenné a potom určíme príslušné pravdivostné hodnoty výrokovej formy.

**Príklad 1.1.7.K1-pr07**

Už sme spomínali, že výroková forma  $[p \Leftrightarrow q] \Leftrightarrow [(p \Rightarrow q) \wedge (q \Rightarrow p)]$  je tautológia. Táto skutočnosť vyplýva z tabuľky 1.1.3. ■

$p$	$q$	$p \Rightarrow q$	$q \Rightarrow p$	$p \Leftrightarrow q$	$(p \Rightarrow q) \wedge (q \Rightarrow p)$	$[p \Leftrightarrow q] \Leftrightarrow [(p \Rightarrow q) \wedge (q \Rightarrow p)]$
$P$	$P$	$P$	$P$	$P$	$P$	$P$
$P$	$N$	$N$	$P$	$N$	$N$	$P$
$N$	$P$	$P$	$N$	$N$	$N$	$P$
$N$	$N$	$P$	$P$	$P$	$P$	$P$

Tabuľka 1.1.3: Tautológia  $[p \Leftrightarrow q] \Leftrightarrow [(p \Rightarrow q) \wedge (q \Rightarrow p)]$ .

• **Deduktívna metóda na zisťovanie pravdivostných hodnôt**

Na začiatku vychádzame z axióm<sup>5</sup> a tautológií, ktorých pravdivosť je dokázaná alebo pravdivosť ktorých poznáme. Potom pomocou pravidiel odvodzovania z nich dedukujeme nové tautológie. V jednoduchých prípadoch vystačíme s pravidlom substitúcie a pravidlom odlúčenia.

i) **Pravidlo substitúcie:**

Ak v tautológii  $T$  dosadíme za nejakú premenú (na každom mieste, kde sa vyskytuje) ľubovoľnú výrokovú formu (nemusi byť tautológia), dostaneme opäť tautológiu.

Napríklad, ak do výrazu  $p \vee \bar{p}$  dosadíme  $q \vee r$  namiesto  $p$ , dostaneme  $(q \vee r) \vee \overline{(q \vee r)}$ .

ii) **Pravidlá odlúčenia** (modus ponens a tollens):

– **Modus ponens** (hypoteticko–kategorický kladný úsudok):

Nech  $p \Rightarrow q$  je pravdivá implikácia. Ak je pravdivé  $p$ , potom je pravdivé aj  $q$ .

– **Modus tollens** (hypoteticko–kategorický záporný úsudok):

Nech  $p \Rightarrow q$  je pravdivá implikácia. Ak je nepravdivé  $q$ , potom je nepravdivé aj  $p$ .

Platnosť pravidiel odlúčenia vyplýva z tabuľky 1.1.2. Ukážeme platnosť modusu ponens (modus tollens sa ukáže analogicky). Predpoklad  $p$  je pravdivý. Záver  $q$  je buď pravdivý a implikácia  $p \Rightarrow q$  je tiež pravdivá, alebo záver  $q$  je nepravdivý a implikácia  $p \Rightarrow q$  je nepravdivá. Lenže druhá možnosť nemôže nastať, pretože predpokladáme platnosť implikácie  $p \Rightarrow q$ .

**Príklad 1.1.8.K1-pr08**

Z fyziky sú známe tepelné účinky prúdu prechádzajúceho vodičom. Vyjadruje to zákon: „Ak vodičom s napätím  $U$  prechádza prúd  $I$ , potom množstvo tepla  $Q$  vyvinuté prúdom  $I$  (tzv. **Jouleovo teplo**) za čas  $t$  je dané vzťahom  $Q = UIt$ .“

Takže ak vieme, že daným vodičom tečie prúd, potom vieme (bez výpočtu), že sa tento vodič zahrieva. A ak chceme, môžeme uvoľnené teplo vypočítať podľa daného vzorca. ■

<sup>5</sup>**Axióma** je základné tvrdenie, o ktorom sa predpokladá, že platí a nedokazuje sa.

### 1.1.4 Niektoré dôležité tautológie

Teraz uvedieme niektoré dôležité tautológie, ktoré sa často využívajú pri dôkazoch nielen v matematike.

- **Zákon dvojitej negácie:**  $p \Leftrightarrow \overline{\overline{p}}$

Zákon vyjadruje skutočnosť, že výrok a negácia jeho negácie majú rovnakú pravdivostnú hodnotu. Pravdivosť tohto zákona vyplýva z tabuľky 1.1.4.

- **Zákon vylúčenia tretieho:**  $p \vee \overline{p}$

Buď platí výrok alebo jeho negácia. Toto tvrdenie vyplýva z tabuľky 1.1.4.

- **Zákon sporu:**  $\overline{p \wedge \overline{p}}$

Výrok nemôže byť pravdivý a zároveň nepravdivý, t. j. nikdy neplatí  $p \wedge \overline{p}$ . Pravdivosť tohto zákona vyplýva z tabuľky 1.1.4.

$p$	$\overline{p}$	$\overline{\overline{p}}$	$p \Leftrightarrow \overline{\overline{p}}$	$p \vee \overline{p}$	$p \wedge \overline{p}$	$\overline{p \wedge \overline{p}}$	$p$	$\overline{p}$	$\overline{\overline{p}}$	$p \Leftrightarrow \overline{\overline{p}}$	$p \vee \overline{p}$	$p \wedge \overline{p}$	$\overline{p \wedge \overline{p}}$
$P$	$N$	$P$	$P$	$P$	$N$	$P$	$N$	$P$	$N$	$P$	$P$	$N$	$P$

Tabuľka 1.1.4: Zákon dvojitej negácie, zákon vylúčenia tretieho, zákon sporu.

- **de Morganove zákony:**  $\overline{p \vee q} \Leftrightarrow (\overline{p} \wedge \overline{q})$ , resp.  $\overline{p \wedge q} \Leftrightarrow (\overline{p} \vee \overline{q})$

Tieto zákony umožňujú nahradiť negáciu disjunkcie dvoch výrokov konjunkciou negácií týchto výrokov, resp. nahradiť negáciu konjunkcie dvoch výrokov disjunkciou negácií týchto výrokov. Pravdivosť týchto zákonov vyplýva z tabuľky 1.1.5.

Pri tvorení negácie konjunkcie, resp. disjunkcie sa mení spojka „a“ na „alebo“, resp. spojka „alebo“ na „a“ a negujú sa jednotlivé výroky.

Toto pravidlo sa ale v hovorovej reči nemusí doslovne dodržať, napríklad negáciou k výroku „Prší alebo je zima.“ je výrok „Neprší a nie je zima.“. V hovorovej reči by sme asi povedali „Neprší a ani nie je zima.“.

$p$	$q$	$\overline{p}$	$\overline{q}$	$p \vee q$	$\overline{p \vee q}$	$\overline{p} \wedge \overline{q}$	$p \wedge q$	$\overline{p \wedge q}$	$\overline{p} \vee \overline{q}$	$T_1$	$T_2$
$P$	$P$	$N$	$N$	$P$	$N$	$N$	$P$	$N$	$N$	$P$	$P$
$P$	$N$	$N$	$P$	$P$	$N$	$N$	$N$	$P$	$P$	$P$	$P$
$N$	$P$	$P$	$N$	$P$	$N$	$N$	$N$	$P$	$P$	$P$	$P$
$N$	$N$	$P$	$P$	$N$	$P$	$P$	$N$	$P$	$P$	$P$	$P$

Tabuľka 1.1.5: De Morganove zákony  $T_1 : \overline{p \vee q} \Leftrightarrow (\overline{p} \wedge \overline{q})$ ,  $T_2 : \overline{p \wedge q} \Leftrightarrow (\overline{p} \vee \overline{q})$ .

- **Zákon hypotetického sylogizmu:**  $[(p \Rightarrow q) \wedge (q \Rightarrow r)] \Rightarrow (p \Rightarrow r)$

Je obdobou tranzitívneho zákona. Jeho pravdivosť je overená v tabuľke 1.1.6.

- **Zákon transpozície:**  $(p \Rightarrow q) \Leftrightarrow (\overline{q} \Rightarrow \overline{p})$

Niekedy je jednoduchšie namiesto implikácie  $p \Rightarrow q$  dokázať implikáciu  $\overline{q} \Rightarrow \overline{p}$ . Skutočnosť, že implikácia  $p \Rightarrow q$  a obrátená implikácia  $\overline{q} \Rightarrow \overline{p}$  majú rovnaké pravdivostné hodnoty (vyplýva z tabuľky 1.1.7) sa často využíva pri **nepriamom dôkaze**.



$p$	$q$	$r$	$p \Rightarrow q$	$q \Rightarrow r$	$(p \Rightarrow q) \wedge (q \Rightarrow r)$	$p \Rightarrow r$	$T$
$P$	$P$	$P$	$P$	$P$	$P$	$P$	$P$
$P$	$P$	$N$	$P$	$N$	$N$	$N$	$P$
$P$	$N$	$P$	$N$	$P$	$N$	$P$	$P$
$P$	$N$	$N$	$N$	$P$	$N$	$N$	$P$
$N$	$P$	$P$	$P$	$P$	$P$	$P$	$P$
$N$	$P$	$N$	$P$	$N$	$N$	$P$	$P$
$N$	$N$	$P$	$P$	$P$	$P$	$P$	$P$
$N$	$N$	$N$	$P$	$P$	$P$	$P$	$P$

Tabuľka 1.1.6: Zákon hypotetického sylogizmu  $T : [(p \Rightarrow q) \wedge (q \Rightarrow r)] \Rightarrow (p \Rightarrow r)$ .

- **Komutatívne zákony:**  $(p \wedge q) \Leftrightarrow (q \wedge p)$ ,  $(p \vee q) \Leftrightarrow (q \vee p)$

Tieto zákony vyplývajú z tabuľky 1.1.2.

$p$	$q$	$\bar{p}$	$\bar{q}$	$p \Rightarrow q$	$\bar{q} \Rightarrow \bar{p}$	$(p \Rightarrow q) \Leftrightarrow (\bar{q} \Rightarrow \bar{p})$
$P$	$P$	$N$	$N$	$P$	$P$	$P$
$P$	$N$	$N$	$P$	$N$	$N$	$P$
$N$	$P$	$P$	$N$	$P$	$P$	$P$
$N$	$N$	$P$	$P$	$P$	$P$	$P$

Tabuľka 1.1.7: Zákon transpozície.

- **Asociatívne zákony:**  $[(p \wedge q) \wedge r] \Leftrightarrow [p \wedge (q \wedge r)]$ ,  $[(p \vee q) \vee r] \Leftrightarrow [p \vee (q \vee r)]$

Tieto zákony vyplývajú z tabuľky 1.1.8. Pre jednoduchosť zvykneme v takomto prípade zátvorky vynechávať, t. j. píšeme  $p \wedge q \wedge r$ , resp  $p \vee q \vee r$ . Takže konjunkcia  $p \wedge q \wedge r$  je pravdivá, ak sú pravdivé všetky tri výroky  $p, q, r$  a disjunkcia  $p \vee q \vee r$  je pravdivá, ak je pravdivý aspoň jeden z výrokov  $p, q, r$ . Takýmto spôsobom môžeme definovať konjunkciu a disjunkciu pre ľubovoľný konečný počet výrokov.

$p$	$q$	$r$	$p \wedge q$	$q \wedge r$	$p \vee q$	$q \vee r$	$(p \wedge q) \wedge r$	$p \wedge (q \wedge r)$	$(p \vee q) \vee r$	$p \vee (q \vee r)$	$T_1$	$T_2$
$P$	$P$	$P$	$P$	$P$	$P$	$P$	$P$	$P$	$P$	$P$	$P$	$P$
$P$	$P$	$N$	$P$	$N$	$P$	$P$	$N$	$N$	$P$	$P$	$P$	$P$
$P$	$N$	$P$	$N$	$N$	$P$	$P$	$N$	$N$	$P$	$P$	$P$	$P$
$P$	$N$	$N$	$N$	$N$	$P$	$N$	$N$	$N$	$P$	$P$	$P$	$P$
$N$	$P$	$P$	$N$	$P$	$P$	$P$	$N$	$N$	$P$	$P$	$P$	$P$
$N$	$P$	$N$	$N$	$N$	$P$	$P$	$N$	$N$	$P$	$P$	$P$	$P$
$N$	$N$	$P$	$N$	$N$	$N$	$P$	$N$	$N$	$P$	$P$	$P$	$P$
$N$	$N$	$N$	$N$	$N$	$N$	$N$	$N$	$N$	$N$	$N$	$P$	$P$

Tabuľka 1.1.8: Asociatívne zákony

$$T_1 : [(p \wedge q) \wedge r] \Leftrightarrow [p \wedge (q \wedge r)], T_2 : [(p \vee q) \vee r] \Leftrightarrow [p \vee (q \vee r)].$$

- **Distributívne zákony:**  $p \wedge (q \vee r) \Leftrightarrow [(p \wedge q) \vee (p \wedge r)]$ ,  $p \vee (q \wedge r) \Leftrightarrow [(p \vee q) \wedge (p \vee r)]$

Tieto zákony vyjadrujú skutočnosť, že konjunkcia je distributívna vzhľadom na disjunkciu a taktiež disjunkcia je distributívna vzhľadom na konjunkciu. Ich pravdivosť vyplýva z tabuľky 1.1.9.

$p$	$q$	$r$	$p \wedge q$	$p \wedge r$	$q \vee r$	$p \wedge (q \vee r)$	$(p \wedge q) \vee (p \wedge r)$	$T_1$
$P$	$P$	$P$	$P$	$P$	$P$	$P$	$P$	$P$
$P$	$P$	$N$	$P$	$N$	$P$	$P$	$P$	$P$
$P$	$N$	$P$	$N$	$P$	$P$	$P$	$P$	$P$
$P$	$N$	$N$	$N$	$N$	$N$	$N$	$N$	$P$
$N$	$P$	$P$	$N$	$N$	$P$	$N$	$N$	$P$
$N$	$P$	$N$	$N$	$N$	$P$	$N$	$N$	$P$
$N$	$N$	$P$	$N$	$N$	$P$	$N$	$N$	$P$
$N$	$N$	$N$	$N$	$N$	$N$	$N$	$N$	$P$

$p$	$q$	$r$	$p \vee q$	$p \vee r$	$q \wedge r$	$p \vee (q \wedge r)$	$(p \vee q) \wedge (p \vee r)$	$T_2$
$P$	$P$	$P$	$P$	$P$	$P$	$P$	$P$	$P$
$P$	$P$	$N$	$P$	$P$	$N$	$P$	$P$	$P$
$P$	$N$	$P$	$P$	$P$	$N$	$P$	$P$	$P$
$P$	$N$	$N$	$P$	$P$	$N$	$P$	$P$	$P$
$N$	$P$	$P$	$P$	$P$	$P$	$P$	$P$	$P$
$N$	$P$	$N$	$P$	$N$	$N$	$N$	$N$	$P$
$N$	$N$	$P$	$N$	$P$	$N$	$N$	$N$	$P$
$N$	$N$	$N$	$N$	$N$	$N$	$N$	$N$	$P$

Tabuľka 1.1.9: Distributívne zákony

$T_1 : [p \wedge (q \vee r)] \Leftrightarrow [(p \wedge q) \vee (p \wedge r)]$ ,  $T_2 : [p \vee (q \wedge r)] \Leftrightarrow [(p \vee q) \wedge (p \vee r)]$ .

- $[p \Leftrightarrow q] \Leftrightarrow [(p \Rightarrow q) \wedge (q \Rightarrow p)]$

Túto tautológiu sme dokázali v príklade 1.1.7.

- **Negácia implikácie:**  $\overline{p \Rightarrow q} \Leftrightarrow (p \wedge \overline{q})$

Táto tautológia sa najčastejšie používa pri dôkaze sporom (str. 1.2.2).

- $(p \Rightarrow q) \Leftrightarrow (\overline{p} \vee q)$ ,  $(p \Rightarrow q) \Leftrightarrow \overline{p \wedge \overline{q}}$ , **resp.**  $p \Rightarrow (q \Rightarrow p)$ ,  $(p \Rightarrow q) \Rightarrow p$

Prvé dve tautológie dávajú návod ako nahradiť implikáciu dvoch výrokov výrazom tvoreným iba disjunkciou, resp. konjunkciou a negáciou jednotlivých výrokov. Všetky štyri tautológie vyplývajú z tabuľky 1.1.10.

#### Poznámka 1.1.5.K1-poz27

Ak máme konečný počet výrokov  $p_1, p_2, \dots, p_n$ , resp. nekonečný počet výrokov  $p_1, p_2, \dots, p_n, \dots$ , potom ich konjunkciu a disjunkciu môžeme stručne zapísať vzťahmi:

$$\begin{aligned}
 p_1 \vee p_2 \vee \dots \vee p_n &= \bigvee_{k=1}^n p_k, & p_1 \vee p_2 \vee \dots \vee p_n \vee \dots &= \bigvee_{k=1}^{\infty} p_k, \\
 p_1 \wedge p_2 \wedge \dots \wedge p_n &= \bigwedge_{k=1}^n p_k, & p_1 \wedge p_2 \wedge \dots \wedge p_n \wedge \dots &= \bigwedge_{k=1}^{\infty} p_k.
 \end{aligned}$$

$p$	$q$	$\bar{p}$	$\bar{q}$	$p \Rightarrow q$	$q \Rightarrow p$	$\bar{p} \vee q$	$\overline{p \wedge \bar{q}}$	$T_1$	$T_2$	$T_3$	$T_4$
$P$	$P$	$N$	$N$	$P$	$P$	$P$	$P$	$P$	$P$	$P$	$P$
$P$	$N$	$N$	$P$	$N$	$P$	$N$	$N$	$P$	$P$	$P$	$P$
$N$	$P$	$P$	$N$	$P$	$N$	$P$	$P$	$P$	$P$	$P$	$P$
$N$	$N$	$P$	$P$	$P$	$P$	$P$	$P$	$P$	$P$	$P$	$P$

Tabuľka 1.1.10: Tautológie

$T_1 : (p \Rightarrow q) \Leftrightarrow (\bar{p} \vee q)$ ,  $T_2 : (p \Rightarrow q) \Leftrightarrow \overline{p \wedge \bar{q}}$ , resp.  $T_3 : p \Rightarrow (q \Rightarrow p)$ ,  $T_4 : (p \Rightarrow q) \Rightarrow p$ .

**Príklad 1.1.9.K1-pr09**

Dokážte, že výraz  $(p \Leftrightarrow q) \Leftrightarrow [(\bar{p} \vee q) \wedge (p \vee \bar{q})]$  je tautológia.

**Riešenie.**

Keďže výrazy  $(p \Rightarrow q) \Leftrightarrow (\bar{p} \vee q)$ ,  $(q \Rightarrow p) \Leftrightarrow (\bar{q} \vee p)$  sú tautológie, môžeme nahradiť  $p \Rightarrow q$  výrazom  $\bar{p} \vee q$  a tiež výraz  $q \Rightarrow p$  nahradiť výrazom  $\bar{q} \vee p$ .

Ak dosadíme tieto výrazy do tautológie  $(p \Leftrightarrow q) \Leftrightarrow [(p \Rightarrow q) \wedge (q \Rightarrow p)]$ , dostaneme dokazovanú tautológiu  $(p \Leftrightarrow q) \Leftrightarrow [(\bar{p} \vee q) \wedge (p \vee \bar{q})]$ .

Dané tvrdenie môžeme dokázať tiež pomocou tabuľky 1.1.11. ■

$p$	$q$	$\bar{p}$	$\bar{q}$	$p \Leftrightarrow q$	$\bar{p} \vee q$	$p \vee \bar{q}$	$(\bar{p} \vee q) \wedge (p \vee \bar{q})$	$(p \Leftrightarrow q) \Leftrightarrow [(\bar{p} \vee q) \wedge (p \vee \bar{q})]$
$P$	$P$	$N$	$N$	$P$	$P$	$P$	$P$	$P$
$P$	$N$	$N$	$P$	$N$	$N$	$P$	$N$	$P$
$N$	$P$	$P$	$N$	$N$	$P$	$N$	$N$	$P$
$N$	$N$	$P$	$P$	$P$	$P$	$P$	$P$	$P$

Tabuľka 1.1.11: Tautológia  $(p \Leftrightarrow q) \Leftrightarrow [(\bar{p} \vee q) \wedge (p \vee \bar{q})]$ .**1.1.5 Kvantifikátory**

V matematike často skúmame, či je nejaký výrok pravdivý všeobecne, t. j. platný pre všetky prvky z oboru úvahy, alebo iba pre niektoré prvky, prípadne iba pre práve jeden prvok. Na druhej strane nás niekedy zaujíma, či existuje aspoň jeden prvok, pre ktorý je tento výrok pravdivý. Hovoríme, že **výrok kvantifikujeme**.

Kvantifikované výroky sú veľmi časté a stretávame sa s nimi stále aj v bežnej reči, napr. „Vždy keď ideme na výlet, začne pršať.“, alebo „Pre každé reálne číslo  $x$  existuje celé číslo  $k$  také, že platí  $k \leq x < k + 1$ .“ Kvantifikátor určuje množstvo (kvantitu) prvkov z oboru úvahy, ktoré spĺňajú danú vlastnosť, t. j. pre ktoré je daný výrok pravdivý.

- **Všeobecný kvantifikátor**

Ak danú vlastnosť alebo daný vzťah spĺňajú **všetky prvky** z oboru úvahy, kvantifikujeme daný výrok **všeobecným kvantifikátorom**. Vyjadrujeme ho slovami „každý“, „všetky“, „žiadny“ a podobne. Všeobecný kvantifikátor sa označuje symbolom „ $\forall$ “, ktorý vyjadruje obrátené písmeno A.<sup>6</sup>

<sup>6</sup>V literatúre sa stretávame aj s označením  $\Pi$  a  $\Lambda$ .

### • Existenčný kvantifikátor

Ak danú vlastnosť alebo daný vzťah spĺňa **aspoň jeden prvok** z oboru úvahy, kvantifikujeme výrok **existenčným kvantifikátorom**. Vyjadrujeme ho slovami „existuje“, „jestvuje“, „niektoré“, „aspoň jeden“ a podobne. Označujeme ho symbolom „ $\exists$ “, ktorý vyjadruje obrátené písmeno E.<sup>7</sup>

Symbolom „ $\exists!$ “ vyjadrujeme skutočnosť, že danú vlastnosť alebo daný vzťah spĺňa **práve jeden prvok** z oboru úvahy (t. j. aspoň jeden a najviac jeden prvok).

#### Príklad 1.1.10.K1-pr10

a) Výrok „Ak  $a > 0$ , potom  $a^n > 0$  pre všetky prirodzené čísla  $n$ .“

môžeme vyjadriť kvantifikátorom:  $\forall n \in \mathbb{N}: a > 0 \Rightarrow a^n > 0$ .

b) Výrok „Ak  $a < 0$ , potom  $a^n > 0$  pre nejaké prirodzené číslo  $n$ .“

môžeme vyjadriť pomocou kvantifikátora:  $\exists n \in \mathbb{N}: a < 0 \Rightarrow a^n > 0$ . ■

#### Príklad 1.1.11.K1-pr11

a) Ak v pravdivom výroku „Pre každé reálne číslo  $x$  existuje celé číslo  $n$  také, že platí nerovnosť  $n < x$ .“ vymeníme poradie kvantifikátorov, dostaneme nepravdivý výrok „Existuje celé číslo  $n$  také, že pre každé reálne číslo  $x$  platí nerovnosť  $n < x$ .“. Symbolicky môžeme tieto výroky vyjadriť:

$$\forall x \in \mathbb{R} \exists n \in \mathbb{Z}: n < x, \quad \text{resp.} \quad \exists n \in \mathbb{Z} \forall x \in \mathbb{R}: n < x.$$

Takže záleží na vzájomnom poradí existenčného a všeobecného kvantifikátora!

b) Výrok „Pre všetky reálne čísla  $x$  a  $y$  platí  $x^2 + y^2 \geq 0$ .“ môžeme symbolicky vyjadriť:

$$\forall x \in \mathbb{R} \forall y \in \mathbb{R}: x^2 + y^2 \geq 0, \quad \text{resp.} \quad \forall y \in \mathbb{R} \forall x \in \mathbb{R}: x^2 + y^2 \geq 0.$$

Takže na poradí kvantifikátorov nezáleží a môžeme písať  $\forall x, y \in \mathbb{R}: x^2 + y^2 \geq 0$ . ■

Označme symbolom  $F(x)$  skutočnosť, že prvok  $x$  má vlastnosť  $F$ . Kvantifikácia sa vždy vzťahuje k **oboru kvantifikácie**, t. j. k množine premenných prvkov  $x$ .

Ak použijeme kvantifikátor, potom viažeme premennú na túto množinu premenných a z výrokovej formy  $F(x)$  sa stáva výrok:

$\forall x: F(x)$  „Pre všetky  $x$ , pre ktoré platí vlastnosť  $F(x)$ .“,

$\exists x: F(x)$  „Existuje  $x$ , ktoré spĺňa vlastnosť  $F(x)$ .“.

#### Poznámka 1.1.6.K1-poz07

Niekedy pre jednoduchosť symbol „ $\forall$ “ vynechávame, takže zápisy

$$„\forall x: F(x)“ \text{ a } „\forall x F(x)“, \quad \text{resp.} \quad „\exists x: F(x)“ \text{ a } „\exists x F(x)“$$

vyjadrujú tie isté výroky.

Teraz uvidíme príklady výrokov vytvorených pomocou kvantifikátorov:

$\forall x F(x)$  „Každé  $x$  má vlastnosť  $F$ .“

$\overline{\forall x F(x)}$  „Nie je pravda, že každé  $x$  má vlastnosť  $F$ .“, t. j. „Nie každé  $x$  má vlastnosť  $F$ .“, t. j. „Existuje aspoň jedno  $x$ , ktoré nemá vlastnosť  $F$ .“.

$\overline{\exists x F(x)}$  „Nie každé  $x$  má vlastnosť  $F$ .“, t. j. „Existuje aspoň jedno  $x$ , ktoré nemá vlastnosť  $F$ .“.

$\forall x \overline{F(x)}$  „Pre každé  $x$  platí, že nemá vlastnosť  $F$ .“, t. j. „Každé  $x$  nemá vlastnosť  $F$ .“.

V hovorovej reči použijeme dvojité negáciu: „Žiadne  $x$  nemá vlastnosť  $F$ .“.

$\overline{\overline{\forall x F(x)}}$  „Nie každé  $x$  nemá vlastnosť  $F$ .“, t. j. „Neplatí, že každé  $x$  nemá vlastnosť  $F$ .“.

<sup>7</sup>V literatúre sa stretávame aj s označením  $\sum$ ,  $\forall$  a niekedy aj  $E$ .

$\exists x F(x)$	„Existuje aspoň jedno $x$ , ktoré má vlastnosť $F$ .“
$\overline{\exists x F(x)}$	„Nie je pravda, že existuje $x$ , ktoré má vlastnosť $F$ .“, t. j. „Neexistuje $x$ , ktoré má vlastnosť $F$ .“, t. j. „Každé $x$ nemá vlastnosť $F$ .“.
$\overline{\exists x \overline{F(x)}}$	„Neexistuje $x$ , ktoré má vlastnosť $F$ .“, t. j. „Každé $x$ nemá vlastnosť $F$ .“.
$\exists x \overline{F(x)}$	„Existuje aspoň jedno $x$ , ktoré nemá vlastnosť $F$ .“
$\overline{\exists x \overline{F(x)}}$	„Neexistuje $x$ , ktoré nemá vlastnosť $F$ .“

**Poznámka 1.1.7.K1-poz05**

Musíme rozlišovať výroky „ $\forall x F(x)$ “ a „ $\overline{\forall x F(x)}$ “. Prvý výrok vyjadruje negáciu výroku  $\forall x F(x)$ , druhý výrok popiera kvantifikátor a to sa vzťahuje na negáciu výroku.

**Poznámka 1.1.8.K1-poz04**

Z predchádzajúceho vyplýva, že „ $\overline{\forall x F(x)}$ “ a „ $\forall x \overline{F(x)}$ “, resp. „ $\overline{\exists x F(x)}$ “ a „ $\exists x \overline{F(x)}$ “ vyjadrujú ten istý výrok, t. j. **negácia kvantifikátoru je ekvivalentná negácii kvantifikovaného výroku**. To znamená, že platí:

$$\overline{\forall x F(x)} \Leftrightarrow \forall x \overline{F(x)} \Leftrightarrow \exists x \overline{\overline{F(x)}}, \quad \overline{\exists x F(x)} \Leftrightarrow \exists x \overline{F(x)} \Leftrightarrow \forall x \overline{\overline{F(x)}}.$$

Uvažujme ako obor kvantifikácie konečnú množinu  $X = \{x_1, x_2, \dots, x_n\}$ , kde  $n \in \mathbb{N}$ . Vzťah  $\forall x F(x)$ , resp.  $\forall x \in X: F(x)$ , znamená  $F(x_1) \wedge F(x_2) \wedge \dots \wedge F(x_n)$ , t. j. že vlastnosť  $F(x)$  spĺňajú všetky premenné  $x_1, x_2, \dots, x_n$ . Podobne vzťah  $\exists x F(x)$ , resp.  $\exists x: F(x)$  znamená  $F(x_1) \vee F(x_2) \vee \dots \vee F(x_n)$ , t. j. že vlastnosť  $F(x)$  má aspoň jedna z premenných  $x_1, x_2, \dots, x_n$ .

Potom podľa de Morganových zákonov platí:

$$\overline{\forall x F(x)} \Leftrightarrow \overline{F(x_1) \wedge \dots \wedge F(x_n)} \Leftrightarrow [\overline{F(x_1)} \vee \dots \vee \overline{F(x_n)}] \Leftrightarrow \exists x \overline{F(x)}, \quad (1.1)$$

$$\overline{\exists x F(x)} \Leftrightarrow \overline{F(x_1) \vee \dots \vee F(x_n)} \Leftrightarrow [\overline{F(x_1)} \wedge \dots \wedge \overline{F(x_n)}] \Leftrightarrow \forall x \overline{F(x)}. \quad (1.2)$$

Takže negáciou všeobecného kvantifikátora je existenčný kvantifikátor a negáciou existenčného kvantifikátora je všeobecný kvantifikátor.

Tieto pravidlá ostanú v platnosti aj v prípade nekonečného oboru kvantifikácie. Ak to zhrnieme, dostávame:

$$\overline{\forall x F(x)} \Leftrightarrow \forall x \overline{F(x)} \Leftrightarrow \exists x \overline{\overline{F(x)}}, \quad \overline{\forall x \overline{F(x)}} \Leftrightarrow \forall x F(x) \Leftrightarrow \exists x \overline{\overline{F(x)}},$$

$$\overline{\exists x F(x)} \Leftrightarrow \exists x \overline{F(x)} \Leftrightarrow \forall x \overline{\overline{F(x)}}, \quad \overline{\exists x \overline{F(x)}} \Leftrightarrow \forall x F(x) \Leftrightarrow \exists x \overline{\overline{F(x)}}.$$

Uvažujme výrok, ktorý obsahuje aspoň dva kvantifikátory, napr. „ $\forall x \exists y F(x, y)$ “, kde  $F(x, y)$  je výroková forma dvoch premenných  $x, y$ . Ďalej označme symbolom  $G(x, y)$  výrokovú formu „ $\exists y F(x, y)$ “. Potom negáciu daného výroku, môžeme vyjadriť:

$$\overline{\forall x \exists y F(x, y)} \Leftrightarrow \overline{\forall x G(x, y)} \Leftrightarrow \exists x \overline{G(x, y)} \Leftrightarrow \exists x \overline{\exists y F(x, y)} \Leftrightarrow \exists x \forall y \overline{F(x, y)}.$$

Vidíme, že kvantifikátory sa navzájom vymenili a navyše sa negovala výroková forma  $F(x, y)$ . Takže vo všeobecnosti **pri negácii výroku s kvantifikátormi sa mení všeobecný kvantifikátor na existenčný a existenčný kvantifikátor na všeobecný, ďalej sa výroková forma pritom mení na svoju negáciu**.

**Príklad 1.1.12.K1-pr12**

„Hovoríme, že funkcia  $f(x)$ ,  $x \in D(f)$  je spojitá v bode  $a$ , ak pre každé  $\varepsilon > 0$  existuje  $\delta > 0$  také, že pre všetky  $x \in D(f)$ ,  $|x - a| < \delta$  platí  $|f(x) - f(a)| < \varepsilon$ .“

Výrok vyjadruje definíciu spojitosti funkcie v bode a symbolicky ho môžeme vyjadriť:

$$\forall \varepsilon > 0 \exists \delta > 0 \forall x \in D(f): |x - a| < \delta \Rightarrow |f(x) - f(a)| < \varepsilon.$$

Negáciu tohto výroku môžeme vyjadriť:

$$\begin{aligned} & \overline{\forall \varepsilon > 0 \exists \delta > 0 \forall x \in D(f): |x - a| < \delta \Rightarrow |f(x) - f(a)| < \varepsilon} \iff \\ & \iff \exists \varepsilon > 0 \forall \delta > 0 \exists x \in D(f): \overline{|x - a| < \delta \Rightarrow |f(x) - f(a)| < \varepsilon} \iff \\ & \iff \exists \varepsilon > 0 \forall \delta > 0 \exists x \in D(f): |x - a| < \delta \wedge |f(x) - f(a)| \geq \varepsilon. \blacksquare \end{aligned}$$

### Príklad 1.1.13.K1-pr13

Uvažujme výrok  $p$ : „Neexistuje trojuholník, ktorý je rovnostranný a pravouhlý.“ a výrok  $q$ : „Žiadny trojuholník nie je pravouhlý a súčasne rovnostranný.“. Rozhodnite, či sú výroky  $p$  a  $q$  ekvivalentné.

**Riešenie.**

Označme  $F(x)$ : „ $x$  je rovnostranný trojuholník.“,  $G(x)$ : „ $x$  je pravouhlý trojuholník.“.

Potom môžeme vyjadriť  $p$ :  $\overline{\exists x[F(x) \wedge G(x)]}$ ,  $q$ :  $\forall x F(x) \wedge G(x)$ .

Potom podľa vzťahu (1.2) sú výroky  $p$  a  $q$  ekvivalentné:

$$\overline{\exists x[F(x) \wedge G(x)]} \iff \overline{\exists x[F(x) \wedge G(x)]} \iff \forall x \overline{F(x) \wedge G(x)}. \blacksquare$$

### Poznámka 1.1.9.K1-poz06

Namiesto označenia  $\exists x$  sa používa  $\nexists x$ .

Takže výrok „Neexistuje prvok  $x$ , ktorý má vlastnosť  $F(x)$ .“ zapisujeme „ $\nexists x F(x)$ “.

## Cvičenia

1.1.1. Vy1-01 Určte negáciu a rozhodnite, ktorý z výrokov je pravdivý: ♣

- |                                  |  |
|----------------------------------|--|
| a) „Všetci ľudia vedia plávať.“, | b) „Rovnica $2^x = 4x$ má kladný koreň $x$ .“,               |
| c) „Aspoň dve čísla sú kladné.“, | d) „Najmenej tretina krajín patrí do OSN.“,                  |
| e) „Práve dve čísla sú kladné.“, | f) „Každé číslo tvaru $n^2$ , $n \in \mathbb{N}$ je párne.“. |

1.1.2. Vy1-02 Určte negácie nasledujúcich výrokov: ♣

- |  |  |  |
|--|--|--|
| a) $\forall x \in \mathbb{R}: \sin x < 1$ ,  | b) $\exists x \in \mathbb{R}: \sin x < 1$ ,  | c) $\exists! x \in \mathbb{R}: \sin x < 1$ , |
| d) $\nexists x \in \mathbb{R}: \sin x < 1$ , | e) $\forall x \in \mathbb{R}: \sin x > 1$ ,  | f) $\exists x \in \mathbb{R}: \sin x > 1$ ,  |
| g) $\exists! x \in \mathbb{R}: \sin x > 1$ , | h) $\nexists x \in \mathbb{R}: \sin x > 1$ , | i) $\forall x \in \mathbb{R}: \sin x = 1$ ,  |
| j) $\exists x \in \mathbb{R}: \sin x = 1$ ,  | k) $\exists! x \in \mathbb{R}: \sin x = 1$ , | l) $\nexists x \in \mathbb{R}: \sin x = 1$ . |

1.1.3. Nap03 Upravte tabuľky pravdivostných hodnôt pre nasledujúce výroky: ♣

- |                                     |                                       |   |  |
|-------------------------------------|---------------------------------------|---|--|
| a) $\overline{p \vee q}$ ,          | b) $\overline{p \wedge q}$ ,          | c) $\overline{p \vee (q \wedge \overline{p})}$ ,                          | d) $(\overline{p} \wedge q) \vee (p \wedge \overline{q})$ ,                      |
| e) $\overline{p} \Rightarrow q$ ,   | f) $\overline{p} \Leftrightarrow q$ , | g) $\overline{p} \Rightarrow \overline{q} \Leftrightarrow \overline{q}$ , | h) $(p \Rightarrow \overline{q}) \wedge \overline{q} \Rightarrow \overline{p}$ , |
| i) $\overline{p \wedge q} \vee p$ , | j) $\overline{p \wedge q} \vee q$ ,   | k) $(p \vee q) \Rightarrow \overline{p}$ ,                                | l) $(p \vee q) \wedge (p \vee \overline{q})$ .                                   |

1.1.4. U1-04 Určte výroky  $p \wedge q$ ,  $p \vee q$  a určte, v ktorých prípadoch sú pravdivé: ♣

- $p$ : „Daný trojuholník je pravouhlý.“,  $q$ : „Daný trojuholník je rovnoramenný.“,
- $p$ : „Celé číslo  $k$  je párne.“,  $q$ : „Celé číslo  $k$  je deliteľné tromi.“,
- $p$ : „Daná nerovnica platí pre  $x \leq 4$ .“,  $q$ : „Daná nerovnica neplatí pre  $x \leq 1$ .“,
- $p$ : „Daná kvadratická rovnica nemá reálne riešenie.“,  $q$ : „Daná kvadratická rovnica má absolútny člen s opačným znamienkom ako znamienko kvadratického člena.“.

1.1.5. **K-1-23**  $\Rightarrow q$  a  $p \Leftrightarrow q$  nájdite ekvivalentné formy, ktoré obsahujú iba negáciu a: ♣

- a) konjunkciu, disjunkciu,                      b) konjunkciu,                      c) disjunkciu.

1.1.6. **U-1-05** Ute výroky  $p \Rightarrow q$ ,  $q \Rightarrow p$ ,  $p \Leftrightarrow q$  a určte, ktoré z nich sú pravdivé. V prípade pravdivej implikácie vytvorte pomocou zákona transpozície obrátenú implikáciu.

- a)  $p$ : „Dané číslo  $x < 0$ “,  $q$ : „Dané číslo  $x < 3$ “,  
 b)  $p$ : „Bol som v Prahe.“,  $q$ : „Bol som v Čechách.“,  
 c)  $p$ : „Nemám peniaze.“,  $q$ : „Nepôjdem do kina.“,  
 d)  $p$ : „Pri ceste rastie čakanka.“,  $q$ : „Pri ceste rastie tráva.“,  
 e)  $p$ : „Prídem na stanicu včas.“,  $q$ : „Nezmeškám vlak.“,  
 f)  $p$ : „Pre dané čísla  $x, y$  platí  $x^2 = y^2$ .“,  $q$ : „Pre dané čísla  $x, y$  platí  $x = y$ .“,  
 g)  $p$ : „ $\sin x > 0$ .“,  $q$ : „ $x \in (0; \pi)$ .“,  
 h)  $p$ : „Dané dve kružnice nemajú spoločné body.“,  $q$ : „Dané dve kružnice sú sústredné.“,  
 i)  $p$ : „Trojuholník  $ABC$  je pravouhlý.“,  $q$ : „Pre strany trojuholníka platí  $a^2 + b^2 = c^2$ .“,  
 j)  $p$ : „Kvadratickú rovnicu môžeme písať v tvare  $(x - x_1)(x - x_2) = 0$ .“,  $q$ : „Kvadratická rovnica má korene  $x_1, x_2$ .“,  
 k)  $p$ : „Dané číslo  $x > 0$ .“,  $q$ : „Pre dané číslo  $x$  platí  $\sin x > 0$ .“,  
 l)  $p$ : „Dve rôzne priamky  $p_1, p_2$  ležiace v rovine sú rovnobežné.“,  $q$ : „Dve priamky  $p_1, p_2$  ležiace v rovine nemajú spoločný bod.“.

1.1.7. **Z-1-07**, ktoré z nasledujúcich výrokových foriem sú tautológie: ♣

- a)  $[(p \Rightarrow q) \wedge (p \Rightarrow r)] \Rightarrow [p \Rightarrow (q \wedge r)]$ ,                      b)  $[(q \Rightarrow p) \wedge (r \Rightarrow p)] \Rightarrow [(q \vee r) \Rightarrow p]$ ,  
 c)  $[(p \Rightarrow q) \vee (q \Rightarrow p)] \Leftrightarrow [(\bar{p} \Rightarrow \bar{q}) \wedge p]$ ,                      d)  $[(q \vee r) \Rightarrow p] \Rightarrow [(q \Rightarrow p) \Rightarrow (r \Rightarrow p)]$ ,  
 e)  $[(p \wedge q) \Rightarrow r] \Leftrightarrow [\bar{r} \Rightarrow (\bar{q} \vee \bar{p})]$ ,                      f)  $[(p \vee q) \Rightarrow r] \Leftrightarrow [\bar{r} \Rightarrow (\bar{q} \wedge \bar{p})]$   
 g)  $[(p \Rightarrow q) \wedge (p \Rightarrow r)] \Leftrightarrow [p \Rightarrow (q \wedge r)]$ ,                      h)  $[(p \Rightarrow q) \vee (p \Rightarrow r)] \Leftrightarrow [p \Rightarrow (q \vee r)]$ ,  
 i)  $[(\bar{p} \wedge \bar{q} \Rightarrow r) \Rightarrow \bar{p}] \vee (r \Rightarrow (\bar{p} \vee q)) \Rightarrow [(p \vee \bar{r}) \wedge (\bar{p} \Rightarrow q)]$ ,  
 j)  $[p \Rightarrow (q \vee r)] \Leftrightarrow \{[(p \wedge \bar{q}) \Rightarrow r] \vee [(p \wedge \bar{r}) \Rightarrow q]\}$ .

1.1.8. **D-1-06** Dokažte, že nasledujúce výrokové formy sú tautológie:

- a)  $p \Leftrightarrow p$ ,                      b)  $p \Rightarrow p$ ,                      c)  $p \Rightarrow (q \Rightarrow p)$ ,                      d)  $[(p \Leftrightarrow q) \wedge (q \Leftrightarrow r)] \Rightarrow (p \Leftrightarrow r)$ .

1.1.9. **D-1-22** Dokažte de Morganove zákony pre konečný, resp. nekonečný počet výrokov:

- a)  $\bigwedge_{k=1}^n p_k \Leftrightarrow \bigvee_{k=1}^n \bar{p}_k$ ,                      b)  $\bigvee_{k=1}^n p_k \Leftrightarrow \bigwedge_{k=1}^n \bar{p}_k$ ,                      c)  $\bigwedge_{k=1}^{\infty} p_k \Leftrightarrow \bigvee_{k=1}^{\infty} \bar{p}_k$ ,                      d)  $\bigvee_{k=1}^{\infty} p_k \Leftrightarrow \bigwedge_{k=1}^{\infty} \bar{p}_k$ .

1.1.10. **U-1-08** Ute ktoré z nasledujúcich výrazov sú výroky a svoje tvrdenie odôvodnite: ♣

- a)  $4 - 1 = 5$ ,                      b)  $25 \cdot 4$ ,                      c)  $2x + 1 = 3$ ,  
 d)  $2(x + 1) = 2x + 2$ ,                      e) „Koľko je hodín?“,                      f) „Pomoc!“,  
 g) „Nebezpečenstvo úrazu“,                      h) „Prší.“,                      i) „Včera pršalo.“,  
 j) „Zajtra bude pršať.“,                      k) „Včera pršalo?“,                      l) „Prší a neprší.“.

1.1.11. **U-1-10** Ute príklady výrazov, ktoré v určitej súvislosti výrokmi sú a v inej nie sú!

1.1.12. **Z-1-11** Ute výrokových foriem  $p$ : „ $x$  je deliteľné dvomi.“,  $q$ : „ $x$  je deliteľné tromi.“,  $r$ : „ $x$  je deliteľné šiestimi.“ vytvorte v slovnom znení zložené formy  $F(x)$ ,  $\bar{F}(x)$ : ♣

- a)  $F(x): (p \wedge q) \Leftrightarrow r$ ,                      b)  $F(x): (p \vee q) \Rightarrow r$ ,                      c)  $F(x): \overline{p \vee q} \Rightarrow (\bar{p} \wedge \bar{q})$ ,  
 d)  $F(x): (p \Rightarrow q) \vee \overline{p \wedge r}$ ,                      e)  $F(x): (p \Rightarrow q) \Leftrightarrow (p \vee \bar{q})$ ,                      f)  $F(x): (p \vee r) \Rightarrow (p \vee q)$ .



1.1.13. **Zistite**, ktoré z výrokových foriem  $F(x)$  z príkladu 1.1.12 sú tautológie. ♣

1.1.14. **Zameš**me v príklade 1.1.12 výrokovú formu  $r$  na tvar „ $x$  je *deliteľné piatimi*“. Ktoré z výrokových foriem  $F(x)$  sú tautológie v tomto prípade? ♣

1.1.15. **Nech** výroková forma  $t$  je tautológia a výroková forma  $k$  je kontraindikácia. Zistite, ktoré z nasledujúcich výrokových foriem sú tautológie a ktoré kontraindikácie: ♣

- a)  $\bar{t}$ ,                      b)  $\bar{k}$ ,                      c)  $t \Rightarrow k$ ,                      d)  $k \Rightarrow t$ ,                      e)  $(t \Rightarrow k) \vee \overline{t \wedge k}$ ,  
 f)  $t \vee k$ ,                      g)  $t \wedge k$ ,                      h)  $\bar{t} \vee \bar{k}$ ,                      i)  $\bar{t} \wedge \bar{k}$ ,                      j)  $(t \vee k) \Rightarrow \overline{k \Rightarrow t}$ .

1.1.16. **K** vyrokovej forme  $\overline{p \Rightarrow q} \vee (r \Leftrightarrow s)$  nájdite ekvivalentnú formu, ktorá neobsahuje  $\Rightarrow$ ,  $\Leftrightarrow$ ,  $\vee$ . ♣

1.1.17. **Zjed**nodušte výrazy tak, aby v nich bol čo najmenší počet symbolov negácie: ♣

- a)  $\overline{\overline{p \vee q} \wedge \bar{r} \wedge \bar{s}}$ ,                      b)  $\overline{\overline{p \vee q} \wedge \bar{r} \wedge \bar{s}}$ ,                      c)  $\overline{\overline{p \wedge q} \vee \bar{r} \vee \bar{s}}$ .

1.1.18. **Nech**  $p$ ,  $q$  sú výrokové formy také, že  $p \Leftrightarrow q$  je tautológia. Dokážte, že aj  $p \Rightarrow q$  je tautológia.

1.1.19. **Dok**ážte, že výroková forma  $\overline{\overline{p \Leftrightarrow q} \Leftrightarrow r} \Leftrightarrow \overline{p \Leftrightarrow q \Leftrightarrow r}$  je tautológia pre ľubovoľné výrokové formy  $p$ ,  $q$ ,  $r$ .

1.1.20. **U**važujme výrokovú formu  $F(x): 2x - 3y = 1$ . Ktoré z výrokov sú pravdivé: ♣

- a)  $\forall x \in R \forall y \in (0; \infty) : F(x)$ ,                      b)  $\forall x \in R \exists y \in (0; \infty) : F(x)$ ,  
 c)  $\exists x \in R \forall y \in (0; \infty) : F(x)$ ,                      d)  $\exists x \in R \exists y \in (0; \infty) : F(x)$ ,  
 e)  $\exists y \in (0; \infty) \forall x \in R : F(x)$ ,                      f)  $\forall y \in (0; \infty) \exists x \in R : F(x)$ .

1.1.21. **V**ýjdte negáciu a rozhodnite, ktorý z výrokov je pravdivý: ♣

- a)  $\forall x \in R : \sin^2 x + \cos^2 x = 1$ ,                      b)  $\forall x \in R : \sin^2 x - \cos^2 x = 1$ ,  
 c)  $\exists x \in R : \cos x = \sqrt{1 - \sin^2 x}$ ,                      d)  $\forall x \in R : \cos x = \sqrt{1 - \sin^2 x}$ ,  
 e)  $\exists x \in R : x^4 < x^3$ ,                      f)  $\forall x \in R \forall y \in R : x^2 + y^2 > 0$ ,  
 g)  $\exists x \in R \forall n \in N : n + 3 < nx$ ,                      h)  $\forall n \in N \exists x \in R : n + 3 < nx$ .

1.1.22. **V**ýjdom  $p \oplus q \Leftrightarrow \overline{p \Leftrightarrow q}$  definujeme logickú spojku  $\oplus$  (tzv. **vylučovacia alternatíva**). Pripustíme symbol  $\oplus$  vo výrokových formách. Dokážte, že platí  $[(p \oplus q) \oplus r] \Leftrightarrow [p \oplus (q \oplus r)]$ .

## 1.2 Základné prvky matematickej teórie

Hlavným znakom súčasnej matematiky je, že svoje jednotlivé disciplíny buduje axiomaticky. Na začiatku sú najjednoduchšie pojmy (tzv. **primitívne, nedefinované pojmy**) a súbory viet (tzv. **axiómy**), o ktorých predpokladáme, že platia a nedokazujeme ich. Výber systému primitívnych pojmov a axióm nie je úplne ľubovoľný, ale je ovplyvnený rôznymi podmienkami a hlavne účelom, pre ktorý sa disciplína buduje.

Najdôležitejšia je ale **podmienka bezspornosti systému**. To znamená, že v systéme nemôžeme odvodiť výrok a zároveň jeho negáciu. Na tomto základe definujeme pomocou definícií nové pojmy a pomocou už dokázaných (t. j. platných) viet formulujeme a dokazujeme vety nové. Štruktúru matematiky môžeme charakterizovať trojicou základných kameňov, ktoré nazývame **definícia**, **veta** a **dôkaz**.

**Definícia** určuje význam zavádzaného pojmu, pomocou už známych pojmov. Môže mať rôznu formu, najčastejšou je forma logickej ekvivalencie vyjadrená slovami „*práve vtedy, ak*“ (poznámka 1.1.4).



**Veta (poučka, tvrdenie)** je pravdivý výrok o matematických objektoch a vzťahoch medzi nimi, ktorý je dokázaný, resp. nie sú o ňom pochybnosti. **Pravidlom** nazývame obyčajne vetu, ktorá obsahuje návod na ďalší postup (napr. výpočet, konštrukciu nových objektov) pri budovaní systému. V matematike sa niekedy používajú **pomocné vety (lemy)**, ktoré majú (už podľa názvu) pomocný význam pri dokazovaní iných viet, aby sa ich dokazovanie zjednodušilo a sprehládnilo.

**Dôkaz** vety, resp. daného tvrdenia je logický proces, ktorého cieľom je ukázať pravdivosť tvrdenia pomocou axióm, definícií a už predtým dokázaných viet. Dôkazy môžu mať rôznu formu, najznámejšie druhy dôkazov sú **priamy dôkaz**, **nepriamy dôkaz** a **dôkaz matematickou indukciou**.

### 1.2.1 Priamy dôkaz

Je to spôsob, ktorý sa používa pri dokazovaní platnosti viet, ktoré majú vo všeobecnosti tvar výroku  $p \Rightarrow q$  (ak platí výrok  $p$ , potom platí výrok  $q$ ).

**Priamym dôkazom** sa dokazuje platnosť pôvodnej implikácie  $p \Rightarrow q$ . Predpokladáme, že výrok  $p$  je pravdivý, potom pomocou definícií, axióm a už dokázaných viet ukážeme, že platí výrok  $q$ . Prakticky zostrojíme konečnú postupnosť pravdivých výrokov  $p_1, p_2, \dots, p_k$ , ktorú môžeme symbolicky zapísať  $p \Rightarrow p_1 \Rightarrow p_2 \Rightarrow \dots \Rightarrow p_k \Rightarrow q$ .

#### Príklad 1.2.1.K1-pr36

Pomocou priameho dôkazu dokážte vetu:  $\forall a, b \in \mathbb{R}, a^2 + b^2 = 1 \Rightarrow 2|ab| \leq 1$ .

#### Riešenie.

Máme dokázať: „Ak pre všetky reálne čísla  $a, b$  platí  $a^2 + b^2 = 1$ , potom platí  $2|ab| \leq 1$ .“

Nech  $a, b \in \mathbb{R}$ , podľa predpokladu platí  $a^2 + b^2 = 1$ .

Z platnosti vzťahov  $|a|^2 = a^2, |b|^2 = b^2$  vyplýva  $a^2 + b^2 = |a|^2 + |b|^2 = 1$ .

Ak k oboj stranám poslednej rovnosti pripočítame výraz  $-2|a||b|$ , dostaneme

$$|a|^2 + |b|^2 - 2|a||b| = 1 - 2|a||b| = 1 - 2|ab|, \quad \text{t. j. } [|a| - |b|]^2 = 1 - 2|ab|.$$

Keďže  $[|a| - |b|]^2 \geq 0$ , platí aj  $1 - 2|ab| \geq 0$ . Z toho vyplýva  $2|ab| \leq 1$ .

Symbolicky to môžeme zapísať:

$$\begin{aligned} a^2 + b^2 = 1 &\Rightarrow a^2 + b^2 = |a|^2 + |b|^2 = 1 \Rightarrow |a|^2 + |b|^2 - 2|a||b| = 1 - 2|a||b| \Rightarrow \\ &\Rightarrow 0 \leq [|a| - |b|]^2 = 1 - 2|ab| \Rightarrow 0 \leq 1 - 2|ab| \Rightarrow 2|ab| \leq 1. \blacksquare \end{aligned}$$

### 1.2.2 Nepriamy dôkaz

**Nepriamy dôkaz** sa podobne ako priamy dôkaz používa pri dokazovaní platnosti viet a tvrdení tvaru  $p \Rightarrow q$ . Pri nepriamom dôkaze sa nedokazuje platnosť pôvodného výroku  $p \Rightarrow q$ , ale platnosť nejakého ekvivalentného výroku.

Druhá možnosť je, že budeme predpokladať pravdivosť negácie pôvodného výroku, t. j. pravdivosť výroku  $\overline{p \Rightarrow q}$ , resp.  $p \wedge \overline{q}$  a dokážeme nepravdivosť tejto negácie.

#### • Dôkaz pomocou obrátenej implikácie

Pôvodnú implikáciu  $p \Rightarrow q$  nahradíme ekvivalentnou obrátenou implikáciou  $\overline{q} \Rightarrow \overline{p}$  (zákon transpozície, str. 7) a potom ju dokážeme pomocou priameho dôkazu.

### • Dôkaz sporom

Budeme predpokladať platnosť negácie výroku  $p \Rightarrow q$ , t. j. platnosť výroku  $p \wedge \bar{q}$  a ukážeme jeho nepravdivosť. Prakticky to znamená, že pri dokazovaní dospejeme k sporu. Najčastejšie sa zvykne dospieť k týmto sporom:

- a)  $p \wedge \bar{q} \Rightarrow \bar{p}$ , z predpokladu pravdivosti  $p$  ukážeme nepravdivosť  $p$ .
- b)  $p \wedge \bar{q} \Rightarrow q$ , z predpokladu nepravdivosti  $q$  ukážeme pravdivosť  $q$ .
- c)  $p \wedge \bar{q} \Rightarrow r \wedge \bar{r}$ , kde  $r$  je ľubovoľný výrok (zákon sporu, str. 7).
- d)  $p \wedge \bar{q} \Rightarrow \bar{r}$ , kde  $r$  je ľubovoľný známy pravdivý výrok.

### Príklad 1.2.2.K1-pr37

Dokážeme tvrdenie: „Ak je prirodzené číslo  $n$  deliteľné 4, potom je deliteľné 2.“

To znamená, že máme dokázať platnosť výroku:  $\forall n \in N: 4|n \Rightarrow 2|n$ .

**Priamy dôkaz**  $[4|n \Rightarrow 2|n]$ :

$$\forall n \in N: 4|n \Rightarrow \exists k \in N: n = 4k = 2 \cdot 2k = 2(2k) \Rightarrow 2|n.$$

**Obrátená implikácia**  $[2|n \Rightarrow 4|n]$ :

$$\forall n \in N: 2|n \Rightarrow (2 \cdot 2)|n, \text{ t.j. } 4|n.$$

**Dôkaz sporom**  $[4|n \wedge 2 \nmid n \Rightarrow \text{spor}]$ :

$$\forall n \in N: 4|n \wedge 2 \nmid n \Rightarrow [\exists k \in N: n = 4k = 2(2k)] \wedge 2 \nmid n \Rightarrow 2|n \wedge 2 \nmid n, \text{ t. j. spor. } \blacksquare$$

## 1.2.3 Dôkaz matematickou indukciou

Matematická indukcia je dôležitý prostriedok na dokazovanie tvrdenia, že prvky nejakej množiny majú určitú vlastnosť. Pomocou **matematickej indukcie** sa väčšinou dokazuje pravdivosť výrokov tvaru „ $\forall n \in N, n \geq n_0: F(n)$ “, kde  $n_0$  je dané prirodzené číslo.

Nech  $F$  je nejaké tvrdenie, ktoré závisí od množiny prirodzených čísel. Chceme ukázať, že tvrdenie  $F(n)$  platí pre prirodzené čísla  $n = n_0, n_0 + 1, n_0 + 2, \dots$ .

Dôkaz **matematickou indukciou** pozostáva z krokov 1, 2 a záveru:

### Krok 1.

Ukážeme, že je tvrdenie  $F$  splnené pre prvý prvok  $n = n_0$ , t. j. že platí  $F(n_0)$ .

### Krok 2.

Predpokladáme, že dané tvrdenie  $F$  platí pre nejaké prirodzené číslo  $n = k \geq n_0$  a (za tohto predpokladu) dokážeme, že platí pre nasledujúce prirodzené číslo  $n = k + 1$ .

Takže ukážeme, že z platnosti  $F(k)$  vyplýva platnosť  $F(k + 1)$ .

### Záver.

V kroku 1 sme ukázali, že platí  $F(n_0)$ . Lenže z kroku 2 vyplýva platnosť  $F(n_0 + 1)$ .

Z tohto opäť na základe kroku 2 vyplýva platnosť  $F(n_0 + 2)$ ,  $F(n_0 + 3)$ , atď.

Potom je tvrdenie  $F$  splnené pre všetky prirodzené čísla  $n \geq n_0$ .

### Príklad 1.2.3.K1-pr38

Dokážte, že pre všetky prirodzené čísla  $n$  platí vzťah  $1 + 3 + 5 + \dots + (2n - 1) = n^2$ .

### Riešenie.

Označme  $F(n) = 1 + 3 + 5 + \dots + (2n - 1)$ . Takže máme ukázať rovnosť  $F(n) = n^2$ .

**Krok 1.**  $F(1) = 1^2$ .

Vzťah je splnený triviálne, pretože  $F(1) = 1 = 1^2$ .

**Krok 2.**  $F(k) = k^2 \Rightarrow F(k+1) = (k+1)^2$ .

Ak predpokladáme, že platí  $F(k) = k^2$ , potom

$$F(k+1) = 1 + 3 + \dots + (2k-1) + (2k+1) = F(k) + (2k+1) = k^2 + 2k + 1 = (k+1)^2.$$

Na základe matematickej indukcie vyplýva z krokov 1 a 2 dané tvrdenie. ■

#### Príklad 1.2.4.K1-pr39

Dokážte, že pre všetky  $n \in \mathbb{N}$  a pre všetky  $x \in \mathbb{R}$ ,  $x \neq 2k\pi$ , kde  $k \in \mathbb{Z}$ , platí

$$\sum_{j=1}^n \sin jx = \sin x + \sin 2x + \dots + \sin nx = \frac{\sin \frac{(n+1)x}{2} \sin \frac{nx}{2}}{\sin \frac{x}{2}}.$$

**Riešenie.**

Označme  $F(n) = \sin x + \sin 2x + \dots + \sin nx$ ,  $G(n) = \frac{\sin \frac{(n+1)x}{2} \sin \frac{nx}{2}}{\sin \frac{x}{2}}$ .

**Krok 1.**  $G(1) = F(1)$ .

Vyplýva z rovností  $F(1) = \sin x$ ,  $G(1) = \frac{\sin \frac{(1+1)x}{2} \sin \frac{x}{2}}{\sin \frac{x}{2}} = \sin \frac{2x}{2} = \sin x$ .

**Krok 2.**  $F(k) = G(k) \Rightarrow F(k+1) = G(k+1)$ .

Namiesto rovnosti  $F(k+1) = G(k+1)$ , dokážeme rovnosť  $F(k+1) - G(k+1) = 0$ .

Zo vzťahu

$$F(k+1) = \sin x + \sin 2x + \dots + \sin kx + \sin (k+1)x = F(k) + \sin (k+1)x$$

vyplýva

$$F(k+1) - G(k+1) = F(k) - G(k+1) + \sin (k+1)x = G(k) - G(k+1) + \sin (k+1)x. \quad (1.3)$$

Najprv vypočítame

$$G(k) - G(k+1) = \frac{\sin \frac{(k+1)x}{2} \sin \frac{kx}{2}}{\sin \frac{x}{2}} - \frac{\sin \frac{(k+2)x}{2} \sin \frac{(k+1)x}{2}}{\sin \frac{x}{2}} = \frac{\sin \frac{(k+1)x}{2}}{\sin \frac{x}{2}} \left[ \sin \frac{kx}{2} - \sin \frac{(k+2)x}{2} \right]. \quad (1.4)$$

Zo vzťahu  $\sin \alpha - \sin \beta = 2 \cos \frac{\alpha+\beta}{2} \sin \frac{\alpha-\beta}{2}$  vyplýva

$$\sin \frac{kx}{2} - \sin \frac{(k+2)x}{2} = 2 \cos \frac{kx+(k+2)x}{4} \sin \frac{kx-(k+2)x}{4} = -2 \cos \frac{(k+1)x}{2} \sin \frac{x}{2}.$$

Ak dosadíme práve vypočítaný vzťah do (1.4) a potom do vzťahu (1.3), dostaneme

$$\begin{aligned} F(k+1) - G(k+1) &= \frac{\sin \frac{(k+1)x}{2}}{\sin \frac{x}{2}} \left[ -2 \cos \frac{(k+1)x}{2} \sin \frac{x}{2} \right] + \sin (k+1)x = \\ &= -2 \sin \frac{(k+1)x}{2} \cos \frac{(k+1)x}{2} + \sin (k+1)x = -\sin (k+1)x + \sin (k+1)x = 0. \end{aligned}$$

Z toho vyplýva  $F(k+1) = G(k+1)$ .

Tým je tvrdenie na základe princípu matematickej indukcie dokázané. ■

#### Príklad 1.2.5.K1-pr42

Dokážte, že pre  $\forall n \in \mathbb{N}$ ,  $n \geq 5$  platí nerovnosť  $2^n > n^2$ .

**Riešenie.**

Nerovnosť dokážeme pomocou matematickej indukcie.

**Krok 1.** Pre  $n = 5$  platí  $32 = 2^5 > 5^2 = 25$ .

**Krok 2.**  $2^k > k^2 \Rightarrow 2^{k+1} > (k+1)^2$ .

Pre  $k \geq 5$ , t. j. pre  $k-1 \geq 4$  platí  $(k-1)^2 = k^2 - 2k + 1 \geq 4^2 = 16$ .

Z toho dostávame  $k^2 \geq 2k + 15 > 2k + 1$ . Potom platí:

$$2^{k+1} = 2 \cdot 2^k > 2k^2 = k^2 + k^2 > k^2 + 2k + 1 = (k+1)^2.$$

Tým pádom je tvrdenie príkladu dokázané. ■

**Poznámka 1.2.1.K1-poz24**

Matematickou indukciou dokazujeme pre dané  $n_0 \in N$  pravdivosť výrokov tvaru:

$$\forall n \in N, n \geq n_0: F(n).$$

Tento princíp môžeme jednoduchým spôsobom zovšeobecniť pre prvky ľubovoľnej aritmetickej postupnosti<sup>8</sup>  $\{a_n; a_n = a + nd\}_{n=1}^{\infty}$ , kde  $a, d$  sú ľubovoľné reálne čísla.

Znamená to, že platnosť danej vlastnosti nebudeme dokazovať pre prirodzené čísla  $n_0, n_0+1, \dots, k, k+1, \dots$ , ale pre čísla  $a, d+a, 2d+a, \dots, kd+a, (k+1)d+a, \dots$ .

**Príklad 1.2.6.K1-pr40**

Dokážte, že pre ľubovoľné celé číslo  $n$  je číslo  $n^2 + n$  deliteľné dvomi.

**Riešenie.**

Označme  $F(n) = n^2 + n$ .

Pretože platí  $Z = \{-1, -2, -3, \dots\} \cup \{0\} \cup \{1, 2, 3, \dots\}$ , dôkaz rozdelíme na tri časti.

a) Pre  $n = 0$  platí  $F(0) = 0$ , t. j.  $2 \mid F(0)$ .

b) Pre  $n \in \{1, 2, 3, \dots\}$  použijeme matematickú indukciu.

**Krok 1.**  $n = 1$ :  $2 \mid F(1)$ . Platí, pretože  $F(1) = 1 + 1 = 2$ .

**Krok 2.**  $\forall k \in N: 2 \mid F(k) = k^2 + k \Rightarrow 2 \mid F(k+1) = (k+1)^2 + k + 1$ .

Na základe predpokladu  $2 \mid F(k)$  platí:

$$F(k+1) = (k+1)^2 + k + 1 = k^2 + 2k + 1 + k + 1 = F(k) + 2(k+1).$$

Ak uvážime, že  $2 \mid F(k)$  a  $2 \mid 2(k+1)$ , potom  $2 \mid F(k+1)$ .

c) Pre  $n \in \{-1, -2, -3, \dots\}$  dokážeme vzťah tiež matematickou indukciou.

**Krok 1.**  $n = -1$ :  $2 \mid F(-1)$ . Platí, pretože platí  $F(-1) = 1 - 1 = 0$ .

**Krok 2.**  $\forall k \in \{-1, -2, -3, \dots\}: 2 \mid F(k) = k^2 + k \Rightarrow 2 \mid F(k-1) = (k-1)^2 + k - 1$ .

Na základe predpokladu platí:

$$F(k-1) = (k-1)^2 + k - 1 = k^2 - 2k + 1 + k - 1 = F(k) - 2k.$$

Posledný súčet je deliteľný dvomi, pretože  $2 \mid F(k)$  a  $2 \mid 2k$ .

Z kroku 1 vyplýva  $2 \mid F(-1)$ , z kroku 2 vyplýva, že  $2 \mid F(-2), 2 \mid F(-3)$  atď.

Tým je dôkaz daného tvrdenia ukončený.

**Iné riešenie.**

Riešenie sa od predchádzajúceho bude líšiť iba v časti c).

Položme  $m = -n$ , potom  $m \in N$  a  $F(n) = F(-m) = (-m)^2 - m = m^2 - m$ .

Takže môžeme pôvodný problém transformovať na problém dokázať, že pre všetky  $m \in N$  je číslo  $m^2 - m$  deliteľné dvomi (dokážeme matematickou indukciou). ■

**1.2.4 Poznámka k dôkazom**

Nie všetky tvrdenia sa dajú dokázať uvedenými spôsobmi. Niekedy potrebujeme zistiť, či existuje nejaký objekt, resp. potrebujeme zostrojiť konkrétny objekt s danými vlastnosťami alebo na druhej strane chceme ukázať, že nejaká vlastnosť neplatí pre dané prvky.

Na dokázanie pravdivosti výroku, ktorý má tvar „ $\exists x F(x)$ “, nám stačí nájsť aspoň jeden prvok z oboru úvahy, pre ktorý je vlastnosť  $F$  splnená. Preto sa takýmto dôkazom zvykne hovoriť **existenčné dôkazy**.

<sup>8</sup>Definícia postupnosti je uvedená na strane 36.

Na dokázanie pravdivosti výroku „ $\forall x F(x)$ “, je nutné ukázať, že vlastnosť  $F$  je splnená pre všetky prvky  $x$  z oboru úvahy. Z ekvivalencie

$$\overline{\forall x F(x)} \iff \forall x \overline{F(x)} \iff \exists x \overline{\overline{F(x)}}$$

vyplýva, že ak chceme ukázať nepravdivosť pôvodného výroku, stačí nájsť jeden prvok, pre ktorý vlastnosť  $F$  splnená nie je. Takýto prvok nazývame **kontrapríklad**.

Často v matematike potrebujeme zostrojiť (skonštruovať) nejaký objekt s danými vlastnosťami, preto takýto postup niekedy nazývame **konštruktívny dôkaz**.

### Poznámka 1.2.2.K1-poz23

Je zrejmé, že pri konkrétnom dôkaze sa môžu rôzne dôkazové metódy prelínať. Spomeňme príklad 1.3.23, v ktorom dokazujeme sporom, že množina všetkých postupností zložených z čísl 0 a 1 je nespočítateľná. Nájdeme tu tiež prvky konštruktívneho dôkazu, pretože sme zostrojili postupnosť, ktorá nepatrí do „spočítateľnej množiny“. Môžeme tiež povedať, že sme skonštruovali kontrapríklad.

### Príklad 1.2.7.K1-pr41

Dokážte, že pre všetky  $n \in N$  platí  $1 + 2 + 3 + \dots + n = \sum_{j=1}^n j = \frac{n(n+1)}{2}$ .

#### Riešenie.

Postupnosť  $\{a_j\}_{j=1}^n = \{1, 2, 3, \dots, n\}$  je  $n$ -členná konečná aritmetická s diferenciou  $d = 1$ , prvým členom  $a_1 = 1$  a posledným členom  $a_n = n$ . Pre jej súčet platí:

$$1 + 2 + 3 + \dots + n = \frac{(a_1 + a_n)n}{2} = \frac{(1+n)n}{2}.$$

#### Iné riešenie.

Ak označíme  $1 + 2 + 3 + \dots + n = s$ , potom zrejme  $n + (n-1) + (n-2) + \dots + 1 = s$ .

Ak napíšeme tieto súčty pod seba a spočítame po jednotlivých členoch, dostaneme

$$\begin{array}{cccccccc} 1 & + & 2 & + & 3 & + & \dots & + & n & = & s \\ n & + & n-1 & + & n-2 & + & \dots & + & 1 & = & s \\ \hline (n+1) & + & (n+1) & + & (n+1) & + & \dots & + & (n+1) & = & n(n+1) \end{array}$$

Z toho vyplýva  $2s = n(n+1)$ , t. j.  $s = 1 + 2 + 3 + \dots + n = \frac{(n+1)n}{2}$ .

#### Iné riešenie.

Najprv spočítame počet dvojprvkových podmnožín množiny  $\{1, 2, \dots, n+1\}$ .

Usporiadajme tieto podmnožiny nasledujúcim spôsobom:

$$\begin{array}{ll} \{1, n+1\}, \{2, n+1\}, \{3, n+1\}, \dots, \{n-2, n+1\}, \{n-1, n+1\}, \{n, n+1\}, & n \text{ podmnožín,} \\ \{1, n\}, \{2, n\}, \{3, n\}, \dots, \{n-2, n\}, \{n-1, n\}, & n-1 \text{ podmnožín,} \\ \{1, n-1\}, \{2, n-1\}, \{3, n-1\}, \dots, \{n-2, n-1\}, & n-2 \text{ podmnožín,} \\ \dots & \dots \\ \{1, 3\}, \{2, 3\}, & 2 \text{ podmnožiny,} \\ \{1, 2\}, & 1 \text{ podmnožina.} \end{array}$$

Z toho vyplýva, že dvojprvkových podmnožín je  $n + (n-1) + (n-2) + \dots + 1$ .

Teraz sa pozrieme na tento počet z druhej strany.

Každý z prvkov  $1, 2, \dots, n, n+1$  sa nachádza v  $n$  dvojprvkových podmnožinách.

Takže dostávame celkovo  $(n+1)n$  dvojprvkových podmnožín. Lenže v tomto počte je každá podmnožina započítaná dvakrát (za každý jej prvok raz). To znamená, že počet dvojprvkových podmnožín je  $\frac{(n+1)n}{2}$ .

Ak to zhrnieme, dostávame tvrdenie vety  $1 + 2 + 3 + \dots + n = \frac{n(n+1)}{2}$ .

**Iné riešenie.**

Dokážeme matematickou indukciou, že pre všetky  $n \in \mathbb{N}$  platí  $F(n) = G(n)$ , pričom

$$F(n) = 1 + 2 + \dots + n, \quad G(n) = \frac{n(n+1)}{2}.$$

**Krok 1.** Tvrdenie  $F(1) = G(1)$  platí, pretože  $F(1) = 1$ ,  $G(1) = \frac{1 \cdot (1+1)}{2} = 1$ .

**Krok 2.**  $\forall k \in \mathbb{N}: F(k) = G(k) \Rightarrow F(k+1) = G(k+1)$ .

Keďže pre všetky  $k \in \mathbb{N}$  platí  $F(k) = 1 + 2 + \dots + k = G(k) = \frac{k(k+1)}{2}$ , potom

$$\begin{aligned} F(k+1) &= 1 + 2 + \dots + k + (k+1) = [1 + 2 + \dots + k] + (k+1) = F(k) + (k+1) = \\ &= \frac{k(k+1)}{2} + (k+1) = (k+1) \left[ \frac{k}{2} + 1 \right] = (k+1) \frac{k+2}{2} = \frac{(k+1)[(k+1)+1]}{2} = G(k+1). \end{aligned}$$

Tým je dané tvrdenie na základe princípu matematickej indukcie dokázané. ■

**1.2.5 Sumačná a súčinnová symbolika**

V príkladoch 1.2.4 a 1.2.7 sme použili znak  $\sum$  (veľké grécke písmeno sigma), ktorý zjednodušuje zápisy súčtov s mnohými sčítancami. Súčet s konečným počtom sčítancov  $a_s, a_{s+1}, \dots, a_n$  a súčet s nekonečným počtom sčítancov  $a_s, a_{s+1}, \dots, a_n, a_{n+1}, \dots$ , kde  $s, n$  sú celé čísla, zapisujeme:

$$\sum_{j=s}^n a_j = a_s + a_{s+1} + \dots + a_n, \quad \sum_{j=s}^{\infty} a_j = a_s + a_{s+1} + \dots + a_n + a_{n+1} + \dots.$$

Tieto zápisy čítame **suma (súčet)  $a_j$  pre  $j = s$  až  $n$**  a **suma (súčet)  $a_j$  pre  $j = s$  až do nekonečna**.<sup>9</sup> Písmeno  $j$  nazývame **sčítací index**, písmeno  $s$  pod znakom sumy sa nazýva **dolná hranica pre sčítanie** a písmeno  $n$ , resp. symbol  $\infty$  nad znakom sumy nazývame **horná hranica pre sčítanie**.

Za  $j$  dosadzujeme postupne celočíselné hodnoty od dolnej hranice po hornú hranicu (vrátane hraníc). Dolnou hranicou  $s$  a hornou hranicou  $n$  môžu byť vo všeobecnosti ľubovoľné celé čísla, musí byť ale splnená podmienka  $s \leq n$ . Nekonečné sumy sa nazývajú **číselné rady** a budeme sa nimi podrobne zaoberať neskoršie (str. 124).

**Poznámka 1.2.3.K1-poz25**

V literatúre sa často stretávame s nekonečnou sumou  $\sum_{-\infty}^{\infty} a_j$ , v ktorej indexy  $j$  nadobúdajú postupne všetky celé čísla od dolnej hranice  $-\infty$  po hornú hranicu  $\infty$ .

**Veta 1.2.1.K1-veta12**

Nech  $s, n \in \mathbb{Z}$ ,  $s \leq n$  a nech  $k \in \mathbb{N}$ ,  $q \in \mathbb{R}$ , potom platia nasledujúce rovnosti:

$$\begin{aligned} \text{a)} \quad \sum_{j=s}^n qa_j &= q \sum_{j=s}^n a_j, & \text{b)} \quad \sum_{j=s}^n (a_j + b_j) &= \sum_{j=s}^n a_j + \sum_{j=s}^n b_j, & \text{c)} \quad \sum_{j=s}^n a_{j+k} &= \sum_{i=s+k}^{n+k} a_i, \\ \text{d)} \quad \sum_{j=s}^n q &= q(n - s + 1), & \text{e)} \quad \sum_{j=s}^n a_j &= a_s + a_{s+1} + \dots + a_{k-1} + \sum_{j=k}^n a_j, & \text{pre } s < k < n. \end{aligned}$$

**Dôkaz.**

$$\text{a)} \quad \sum_{j=s}^n qa_j = qa_s + qa_{s+1} + \dots + qa_n = q(a_s + a_{s+1} + \dots + a_n) = q \sum_{j=s}^n a_j.$$

$$\begin{aligned} \text{b)} \quad \sum_{j=s}^n (a_j + b_j) &= (a_s + b_s) + (a_{s+1} + b_{s+1}) + \dots + (a_n + b_n) = \\ &= (a_s + a_{s+1} + \dots + a_n) + (b_s + b_{s+1} + \dots + b_n) = \sum_{j=s}^n a_j + \sum_{j=s}^n b_j. \end{aligned}$$

$$\text{c)} \quad \text{Vyplýva zo vzťahu } \sum_{j=s}^n a_{j+k} = a_{s+k} + a_{s+1+k} + \dots + a_{n+k} = \sum_{i=s+k}^{n+k} a_i.$$

<sup>9</sup>Niekedy sa namiesto zápisu  $\sum_{j=s}^n a_j$  používa zápis  $\sum_{j=s, s+1, \dots, n} a_j$ , resp.  $\sum_{j \in \{s, s+1, \dots, n\}} a_j$ .

- d) Rovnakých sčítancov  $q$  je  $n - s + 1$ , t. j. platí  $\sum_{j=s}^n q = q + q + \dots + q = q(n - s + 1)$ .
- e)  $\sum_{j=s}^n a_j = a_s + a_{s+1} + \dots + a_{k-1} + a_k + a_{k+1} + \dots + a_n = a_s + a_{s+1} + \dots + a_{k-1} + \sum_{j=k}^n a_j$ . ■

Ak máme dvakrát indexované sčítance  $a_{ij}$ , kde  $j = s, s+1, s+2, \dots, n$ ,  $i = t, t+1, t+2, \dots, m$ , môžeme ich súčet vyjadriť dvojitými sumami<sup>10</sup>

$$\sum_{i=t}^m \left[ \sum_{j=s}^n a_{ij} \right] = \sum_{i=t}^m \sum_{j=s}^n a_{ij}, \quad \text{resp.} \quad \sum_{j=s}^n \left[ \sum_{i=t}^m a_{ij} \right] = \sum_{j=s}^n \sum_{i=t}^m a_{ij}.$$

Tieto súčty čítame **dvojitá (dvojnásobná) suma pre  $j = s$  až  $n$  a  $i = t$  až  $m$** , resp. **dvojitá (dvojnásobná) suma pre  $i = t$  až  $m$  a  $j = s$  až  $n$** . V prípade, že  $m, n$  sú konečné čísla, môžeme poradie sumovania zameniť. Hovorí o tom nasledujúca veta.

### Veta 1.2.2.K1-veta13

Nech  $s, n \in \mathbb{Z}$ ,  $s \leq n$  a nech  $t, m \in \mathbb{Z}$ ,  $t \leq m$ , potom platí  $\sum_{i=t}^m \sum_{j=s}^n a_{ij} = \sum_{j=s}^n \sum_{i=t}^m a_{ij}$ .

#### Dôkaz.

Keďže sčítancov  $a_{ij}$  ( $i = t, t+1, \dots, m$ ,  $j = s, s+1, \dots, n$ ) je konečný počet, môžeme vymeniť ich poradie a dostaneme tvrdenie vety, t. j.

$$\begin{aligned} \sum_{i=t}^m \sum_{j=s}^n a_{ij} &= \sum_{i=t}^m (a_{is} + a_{i,s+1} + \dots + a_{in}) = \\ &= (a_{ts} + a_{t,s+1} + \dots + a_{tn}) + (a_{t+1,s} + a_{t+1,s+1} + \dots + a_{t+1,n}) + \dots + (a_{ms} + a_{m,s+1} + \dots + a_{mn}) = \\ &= (a_{ts} + a_{t+1,s} + \dots + a_{ms}) + (a_{t,s+1} + a_{t+1,s+1} + \dots + a_{m,s+1}) + \dots + (a_{tn} + a_{t+1,n} + \dots + a_{mn}) = \\ &= \sum_{j=s}^n (a_{tj} + a_{t+1,j} + \dots + a_{mj}) = \sum_{j=s}^n \sum_{i=t}^m a_{ij}. \quad \blacksquare \end{aligned}$$

### Poznámka 1.2.4.K1-poz26

Veta 1.2.2 neplatí vo všeobecnosti pre sumy s nekonečnými hranicami. Takže sa môže stať, že ak zameníme poradie sumovania, výsledok sa zmení. Príklad uvidíme neskôr pri číselných radoch (pr. ??).

### Príklad 1.2.8.K1-pr43

Ako ukážku dvojitej sumy uvidíme:

$$\begin{aligned} \sum_{i=1}^4 \sum_{j=-1}^1 j(i+j)^i &= \sum_{i=1}^4 [-1 \cdot (i-1)^i + 0 \cdot (i+0)^i + 1 \cdot (i+1)^i] = \sum_{i=1}^4 [-(i-1)^i + (i+1)^i] = \\ &= [-(1-1)^1 + (1+1)^1] + [-(2-1)^2 + (2+1)^2] + [-(3-1)^3 + (3+1)^3] + [-(4-1)^4 + (4+1)^4] = \\ &= [0 + 2] + [-1 + 9] + [-8 + 64] + [-81 + 625] = 610. \end{aligned}$$

resp.

$$\begin{aligned} \sum_{j=-1}^1 \sum_{i=1}^4 j(i+j)^i &= \sum_{j=-1}^1 j \sum_{i=1}^4 (i+j)^i = \sum_{j=-1}^1 j [(1+j) + (2+j)^2 + (3+j)^3 + (4+j)^4] = \\ &= -[(1-1) + (2-1)^2 + (3-1)^3 + (4-1)^4] + 0 \cdot [1+2^2+3^3+4^4] + [(1+1) + (2+1)^2 + (3+1)^3 + (4+1)^4] = \\ &= -[0 + 1 + 8 + 81] + 0 + [2 + 9 + 64 + 625] = 610. \quad \blacksquare \end{aligned}$$

<sup>10</sup>Pre jednoduchosť zátvorky vynechávame.



**Príklad 1.2.9.K1-pr45**

Nech  $m, n \in \mathbb{N}$  a nech  $a_1, a_2, \dots, a_n \in \mathbb{R}$ ,  $b_1, b_2, \dots, b_m \in \mathbb{R}$ , potom platí:

$$\begin{aligned} \left[ \sum_{i=1}^n a_i \right] \cdot \left[ \sum_{j=1}^m b_j \right] &= (a_1 + a_2 + \dots + a_n) \cdot (b_1 + b_2 + \dots + b_m) = \\ &= a_1(b_1 + b_2 + \dots + b_m) + a_2(b_1 + b_2 + \dots + b_m) + \dots + a_n(b_1 + b_2 + \dots + b_m) = \sum_{n=1}^n \left[ a_i \sum_{j=1}^m b_j \right] = \\ &= (a_1 b_1 + a_1 b_2 + \dots + a_1 b_m) + (a_2 b_1 + a_2 b_2 + \dots + a_2 b_m) + \dots + (a_n b_1 + a_n b_2 + \dots + a_n b_m) = \sum_{i=1}^n \sum_{j=1}^m a_i b_j. \blacksquare \end{aligned}$$

Na zjednodušenie súčinu používame znak  $\prod$  (veľké grécke písmeno pí). Súčin s konečným počtom činiteľov  $a_s, a_{s+1}, \dots, a_n$  a súčin s nekonečným počtom činiteľov  $a_s, a_{s+1}, \dots, a_n, a_{n+1}, \dots$ , kde  $s, n$  sú celé čísla, potom zapisujeme

$$\prod_{j=s}^n a_j = a_s \cdot a_{s+1} \cdot \dots \cdot a_n, \quad \prod_{j=s}^{\infty} a_j = a_s \cdot a_{s+1} \cdot \dots \cdot a_n \cdot a_{n+1} \cdot \dots$$

a čítame **súčin (produkt)  $a_j$  pre  $j = s$  až  $n$**  a **súčin (produkt)  $a_j$  pre  $j = s$  až do nekonečna**. Písmeno  $j$  nazývame **násobiaci index**, písmeno  $s$  pod znakom produktu sa nazýva **dolná hranica pre násobenie** a písmeno  $n$ , resp. symbol  $\infty$  nad znakom produktu nazývame **horná hranica pre násobenie**.

**Príklad 1.2.10.K1-pr44**

Pre všetky  $n \in \mathbb{N}$ ,  $a \in \mathbb{R}$  platí  $n! = \prod_{j=1}^n j = 1 \cdot 2 \cdot 3 \cdot \dots \cdot (n-1) \cdot n$ ,  $a^n = \prod_{j=1}^n a = a \cdot a \cdot a \cdot \dots \cdot a \cdot a$ . ■

Nech  $n \in \mathbb{N}$ , potom súčin  $n! = 1 \cdot 2 \cdot 3 \cdot \dots \cdot (n-1) \cdot n$  nazývame **faktoriál čísla  $n$**  a čítame  **$n$  faktoriál**. Špeciálne pre  $n=0$  definujeme  $0! = 1$ .

**Cvičenia**

**1.2.1. Dokažte** rôznymi spôsobmi nasledujúce tvrdenia:

- Pre všetky reálne čísla  $a, b$  platí  $a^2 + b^2 \geq 2ab$ .
- Súčin dvoch nepárnych čísel je číslo nepárne.
- Súčin dvoch párnych čísel je číslo párne.
- Súčin dvoch čísel, z ktorých je aspoň jedno párne, je párny.
- Súčet dvoch nepárnych čísel je číslo párne.
- Súčet dvoch párnych čísel je číslo párne.
- Súčet párneho a nepárnych čísel je číslo nepárne.

**1.2.2. Nech** koeficienty rovnice  $ax^2 + bx + c = 0$  sú celé čísla, pričom  $a \neq 0$  a  $b$  je nepárne číslo, potom rovnica nemá dvojnásobný koreň. Dokážte!

**1.2.3. Dokažte**, že  $\sqrt{7}$  je iracionálne číslo.

**1.2.4. Číslo** je deliteľné deviatimi práve vtedy, ak je jeho ciferný súčet deliteľný deviatimi. Dokážte!

**1.2.5. Dokažte**:  $\forall a, b \in \mathbb{R}: a \neq b \Leftrightarrow a^2 + b^2 > 2ab$ .



**1.2.6.** ~~Dokaz~~te priamo, nepriamo pomocou obrátenej implikácie a sporom:

a)  $\forall \alpha, \beta \in (0; \pi) : \sin(\alpha + \beta) < \sin \alpha + \sin \beta,$       b)  $\forall x \in \langle 0; \frac{\pi}{4} \rangle : 2 \operatorname{tg} x < \operatorname{tg} 2x.$

**1.2.7.** ~~Dokaz~~te rôznymi spôsobmi, že pre všetky  $n \in \mathbb{N}$  platí:  $3 \nmid n \Rightarrow 3 \mid (n^2 - 1).$

**1.2.8.** ~~Dokaz~~te priamo a potom matematickou indukciou, že pre všetky  $n \in \mathbb{N}$  platí:

a)  $2 \mid (n^2 - n),$       b)  $3 \mid (2n^3 + n),$       c)  $5 \mid (n^5 - n),$       d)  $6 \mid (n^3 - n),$   
 e)  $6 \mid (n^3 + 3n^2 + 2n),$       f)  $6 \mid (n^7 - n),$       g)  $7 \mid (n^7 - n),$       h)  $7 \mid (6^{2n} - 8),$   
 i)  $2 \mid (3n^2 + 5)$  pre  $n$  nepárne,      j)  $8 \mid (n^2 + 2n)$  pre  $n$  párne.

**1.2.9.** ~~Dokaz~~te priamo a potom matematickou indukciou, že pre všetky  $n \in \mathbb{N}$  platí:

a)  $\sum_{j=1}^n \frac{1}{j(j+1)} = \frac{n}{n+1},$       b)  $\sum_{j=1}^n \frac{1}{(2j-1)(2j+1)} = \frac{n}{2n+1},$       c)  $\sum_{j=1}^n \frac{1}{(3j-2)(3j+1)} = \frac{n}{3n+1},$   
 d)  $\sum_{j=1}^n \frac{1}{(3j-1)(3j+2)} = \frac{n}{2(3n+2)},$       e)  $\sum_{j=1}^n \frac{1}{(4j-1)(4j+3)} = \frac{n}{3(4n+3)},$       f)  $\sum_{j=1}^n \frac{1}{(4j-3)(4j+1)} = \frac{n}{4n+1}.$

**1.2.10.** ~~Dokaz~~te pomocou matematickej indukcie, že pre všetky  $n \in \mathbb{N}$  platí:

a)  $\sum_{j=1}^n 2j = n(n+1),$       b)  $\sum_{j=1}^n (2j-1) = n^2,$       c)  $\sum_{j=1}^n \frac{2j-1}{n} = n,$       d)  $\sum_{j=1}^n j^3 = \frac{n^2(n+1)^2}{4},$   
 e)  $\sum_{j=1}^n 2^j = 2^{n+1} - 2,$       f)  $\sum_{j=0}^n 2^j = 2^{n+1} - 1,$       g)  $\sum_{j=0}^n 3^j = \frac{3^{n+1}-1}{2},$       h)  $\sum_{j=0}^n 2^{-j} = 2 - 2^{-n},$   
 i)  $\sum_{j=1}^n (2j-1)(2j+1) = \frac{(2n-1)(2n+1)(2n+3)+3}{6},$       j)  $\sum_{j=1}^n (3j-1)(3j+1) = 3n^3 + 6n^2 + n.$

**1.2.11.** ~~Dokaz~~te pomocou matematickej indukcie, že pre všetky  $n \in \mathbb{N}$  platí:

a)  $\sum_{j=1}^n (-1)^j (2j-1) = (-1)^n n,$       b)  $\sum_{j=1}^n (-1)^j j = \frac{(-1)^n (2n+1)-1}{4},$       c)  $\sum_{j=1}^n j^2 = \frac{n(n+1)(2n+1)}{6},$   
 d)  $\sum_{j=1}^n (-1)^j j^2 = \frac{(-1)^n n(n+1)}{2},$       e)  $\sum_{j=1}^n (2j-1)^2 = \frac{n(4n^2-1)}{3},$       f)  $\sum_{j=1}^n j(j+1) = \frac{n^3+3n^2+2n}{3},$   
 g)  $\sum_{j=1}^n (-1)^j (2j-1)^2 = \frac{(-1)^n (4n^2-1)-1}{2},$       h)  $\sum_{j=1}^n j(j+1)(j+2) = \frac{n(n+1)(n+2)(n+3)}{4}.$

**1.2.12.** ~~Dokaz~~te pomocou matematickej indukcie, že pre všetky  $n \in \mathbb{N}, n \geq 2$  platí:

a)  $1 + \frac{1}{\sqrt{2}} + \frac{1}{\sqrt{3}} + \dots + \frac{1}{\sqrt{n}} > \sqrt{n},$       b)  $\frac{1}{n+1} + \frac{1}{n+2} + \dots + \frac{1}{2n} > \frac{13}{24},$   
 c)  $\frac{1}{2} \cdot \frac{3}{4} \cdot \frac{5}{6} \dots \frac{2n-1}{2n} < \frac{1}{\sqrt{2n+1}},$       d)  $2! 4! 6! \dots (2n)! > [(n+1)!]^n.$

**1.2.13.** ~~Dokaz~~te, že pre všetky  $n \in \mathbb{N}, n \geq 3$  platí:

a)  $n+1 < 2^n,$       b)  $(2n)! < (2^n n!)^2,$       c)  $\sqrt{n^n} < n!,$       d)  $(n+1)^n < n^{n+1}.$

**1.2.14.** ~~Dokaz~~te, že pre všetky  $n \in \mathbb{N}, n \geq 2$  platí  $2 < (1 + \frac{1}{n})^n < 3.$

**1.2.15.** ~~Dokaz~~te, že pre všetky  $n \in \mathbb{N}, n \geq 6$  platí  $(\frac{n}{3})^n < n! < (\frac{n}{2})^n.$

**1.2.16.** ~~Dokaz~~te, že číslo  $2^{100} + 10$  je deliteľné trinástimi.

1.2.17. **Dokažte**, že existuje 1000 po sebe idúcich prirodzených čísel, ktoré sú zložené.

1.2.18. **Dokažte**, že pre všetky  $n \in \mathbb{N}$ ,  $n \geq 9$  platí  $2^n > (n-1)^2(n-2)$ .

1.2.19. **Dokažte**, že pre všetky  $n \in \mathbb{N}$  platí:

$$\text{a) } 4 \mid [n^2 + (n+1)^2 - 1], \quad \text{b) } 9 \mid [n^3 + (n+1)^3 + (n+2)^3].$$


1.2.20. **Pre všetky**  $k, n \in \mathbb{N} \cup \{0\}$ ,  $k \leq n$  definujeme predpisom  $\binom{n}{k} = \frac{n!}{k!(n-k)!}$  **kombinačné číslo  $n$  nad  $k$** . Kombinačné čísla  $\binom{n}{0}$ ,  $\binom{n}{1}$ ,  $\dots$ ,  $\binom{n}{n}$  tvoria postupne prvky  $n$ -tého riadku tzv. **Pascalovho trojuholníka** (obr. 1.2.1). Dokážte priamo a matematickou indukciou:

a) Pre všetky  $k, n \in \mathbb{N} \cup \{0\}$ ,  $k \leq n-1$  platí  $\binom{n+1}{k+1} = \binom{n}{k+1} + \binom{n}{k}$ .

b) Pre všetky  $n \in \mathbb{N}$ ,  $a, b \in \mathbb{R}$  platí **binomická veta**  $(a+b)^n = \sum_{k=0}^n \binom{n}{k} a^{n-k} b^k$ .

c) Pre všetky  $n \in \mathbb{N}$  platí  $\sum_{k=0}^n \binom{n}{k} = 2^n$ ,  $\sum_{k=0}^n (-1)^k \binom{n}{k} = 0$ .

d) Pre všetky  $n \in \mathbb{N}$ ,  $x \in \mathbb{R}$ ,  $x \geq -1$  platí **Bernoulliho nerovnosť**  $(1+x)^n \geq 1+nx$ .



1.2.21. **Dokažte** matematickou indukciou, že pre všetky  $n \in \mathbb{N}$ ,  $x \in \mathbb{R}$ ,  $x \neq 2k\pi$  platí:

$$\text{a) } \frac{1}{2} + \sum_{j=1}^n \cos jx = \frac{\sin \frac{(2n+1)x}{2}}{\sin \frac{x}{2}}, \quad \text{b) } \sum_{j=1}^n j \cos jx = \frac{(n+1) \sin nx - n \sin (n+1)x}{4 \sin^2 \frac{x}{2}}.$$

1.2.22. **Dokažte**, že pre všetky  $n \in \mathbb{N}$ : a)  $73 \mid (2^{3n} - 3^{4n})$ , b)  $31 \mid (5^{n+1} + 6^{2n-1})$ .

1.2.23. **Prečo** ukladajme, že existujú trojhalierové a päťhalierové mince. Dokážte, že každý nákup s cenou viac ako 7 halierov môžeme zaplatiť týmito mincami.

1.2.24. **Dokažte** pomocou matematickej indukcie:

a) Vypuklý  $n$ -uholník má  $\frac{(n-3)n}{2}$  uhlopriečok.

b) Súčet vnútorných uhlov vypuklého  $n$ -uholníka je  $(n-2)\pi$ .

c) Súčet vnútorných uhlov ľubovoľného  $n$ -uholníka je  $(n-2)\pi$ .

d)  $n$  priamok prechádzajúcich jedným bodom delí rovinu na  $2n$  častí.

e)  $n$  rovín prechádzajúcich jednou rovinou delí priestor na  $2n$  častí.

f)  $n$  rovín prechádzajúcich jedným bodom, z ktorých žiadne tri nemajú spoločnú priamku, delí priestor na  $n(n-1)+2$  častí.

1.2.25. **Dokažte**, že pre všetky  $a_1, a_2, \dots, a_n, b_1, b_2 \in \mathbb{R}, \dots, b_n \in \mathbb{R}, b_0 = b_{n+1} = 0$  platí:

$$\text{a) } \sum_{j=1}^n a_j b_j = \sum_{j=1}^n \sum_{i=j}^n a_j (b_i - b_{i+1}), \quad \text{b) } \sum_{j=1}^n a_j b_j = \sum_{j=1}^n \sum_{i=1}^j a_j (b_i - b_{i+1}).$$

## 1.3 Množiny

S pojmom množina sa stretávame už v dávnej histórii. Pojem množina je tak všeobecný a používaný, že si ho ani neuvedomujeme. Už naši predkovia zjednocovali objekty rovnakej povahy do skupín (mnoho stromov tvorilo les, niekoľko koní tvorilo stádo, ...).

Do centra záujmu sa dostala množina ako pojem skúmania až na konci 19. storočia a najväčšiu zásluhu na tom mal *Georg Cantor*.

### 1.3.1 Množina a podmnožina

Pod pojmom **množina** rozumieme neusporiadaný súbor (skupinu, súhrn) predmetov (vecí, pojmov, čísel, ...), ktoré nazývame **prvky množiny**. Množiny sa obvykle označujú veľkými písmenami a ich prvky sa ohraničujú zloženými zátvorkami  $\{ \}$ .

Ak prvok patrí do danej množiny, vyjadrujeme to symbolom „ $\in$ “ a ak nepatrí do danej množiny, vyjadrujeme to symbolom „ $\notin$ “.

Množiny môžu byť rôzne, napríklad množina áut na parkovisku, množina dobrodružných kníh v knižnici, množina prirodzených čísel, množina hračiek v parlamente, množina písmen v abecede, množina všetkých predmetov na letisku, ktorých názov začína písmenom x, množina  $A = \{2, 4, 6, 8\}$ , .... Zrejme  $2 \in A$ ,  $4 \in A$ , ale  $3 \notin A$ .

**Množinu považujeme za danú** vtedy, ak o každom predmete je určené, či do danej množiny patrí alebo nepatrí, t. j. či je alebo nie je prvkom danej množiny. To znamená, že množinu môžeme určiť vymenovaním prvkov alebo presným logickým vyjadrením, ktoré prvky do danej množiny patria (prípadne nepatria). Takže formálny zápis

$$A = \{x; \text{ podmienky pre } x\}$$

predstavuje množinu  $A$  všetkých bodov  $x$ , ktoré spĺňajú dané podmienky.<sup>11</sup>

#### Príklad 1.3.1.K1-pr14

Množina prirodzených čísel sa zvykne označovať písmenom  $N$ .

Má nekonečne veľa prvkov, takže sa dá veľmi ťažko určiť vypísaním všetkých jej prvkov. Môžeme ju ale zapísať napríklad  $N = \{1, 2, 3, \dots\}$ . Skutočnosť, že číslo 1 je prirodzené a číslo  $-2$  prirodzené nie je, vyjadríme symbolicky  $1 \in N$ ,  $-2 \notin N$ . ■

#### Príklad 1.3.2.K1-pr25

Označme  $A$  množinu všetkých prirodzených čísel, pre ktoré platí vzťah  $3 < n < 7$ .

Množinu  $A$  môžeme vyjadriť rôznymi spôsobmi, napr.

$$A = \{4, 5, 6\} = \{n; n \in N \wedge n < 7 \wedge n > 3\} = \{n \in N: 3 < n < 7\}. \blacksquare$$

Ak má množina konečný počet prvkov, nazýva sa **konečná množina**. Ak nie je konečná, nazýva sa **nekonečná množina**. Konečná je napríklad množina písmen v abecede, množina molekúl vody v Indickom oceáne, množina  $\{1, 2, 3, \dots, 1\,000\,000\}$ . Nekonečná je napríklad množina  $N$ , množina  $\{n \in N; n > 1\,000\,000\}$ , množina všetkých reálnych čísel.

Hovoríme, že **množina  $A$  je podmnožinou množiny  $B$**  ak, každý prvok množiny  $A$  patrí aj do množiny  $B$ <sup>12</sup> a zapisujeme  $A \subset B$ .<sup>13</sup> Ak neplatí, že množina  $A$  je podmnožinou množiny  $B$ , potom hovoríme **množina  $A$  nie je podmnožinou množiny  $B$**  a zapisujeme  $A \not\subset B$ .

<sup>11</sup>Ako oddeľovač medzi prvkami a ich podmienkami sa zvykne používať taktiež „:“, resp. „;“, resp. „|“.

<sup>12</sup>Analogicky môžeme definovať pojem nadmnožina. Hovoríme, že **množina  $B$  je nadmnožinou množiny  $A$** , ak  $A$  je podmnožinou množiny  $B$ . Označujeme  $B \supset A$ .

<sup>13</sup>Vzťahy „je podmnožina“ a „je nadmnožina“ zvykneme nazývať **inklúzia množín**.

Hovoríme, že **množiny  $A$  a  $B$  sa rovnajú (sú totožné)**, ak majú tie isté prvky, t. j. ak každý prvok množiny  $A$  patrí do množiny  $B$  a zároveň každý prvok množiny  $B$  patrí do množiny  $A$ , píšeme  $A = B$ . Takže množina  $A$  sa rovná množine  $B$  práve vtedy, ak  $A \subset B$  a zároveň  $B \subset A$ .

Ak neplatí, že sa množiny  $A$  a  $B$  rovnajú, hovoríme, že **množiny  $A$  a  $B$  sú rôzne (nerovnajú sa)**, vtedy píšeme  $A \neq B$ . Takže množiny  $A$  a  $B$  sú rôzne, ak existuje aspoň jeden prvok, ktorý patrí do jednej z množín a nepatrí do druhej. Z toho vyplýva, že **ukázať rovnosť  $A = B$**  znamená ukázať obidve inklúzie  $A \subset B$  a  $B \subset A$ .

Niekedy sa používajú označenia  $A \subseteq B$  alebo  $A \subseteqeq B$ , aby sme zdôraznili, že môže platiť  $A = B$  a naopak označenia  $A \subsetneq B$ , resp.  $A \subsetneqq B$ , aby sme vylúčili možnosť  $A = B$ .

Symbolicky môžeme predchádzajúce vzťahy zapísať:

$$A \subset B \Leftrightarrow (\forall x: x \in A \Rightarrow x \in B),$$

$$A = B \Leftrightarrow (A \subset B \wedge B \subset A) \Leftrightarrow [(\forall x: x \in A \Rightarrow x \in B) \wedge (\forall x: x \in B \Rightarrow x \in A)].$$

Množinu, ktorá neobsahuje žiadne prvky, nazývame **prázdna množina** a označujeme ju  $\emptyset$ , prípadne  $\{\}$ . Musíme si ale uvedomiť, že symbol  $\{\emptyset\}$  vyjadruje jednoprvkovú množinu, ktorá ako prvok obsahuje prázdnu množinu. Ďalej si treba uvedomiť, že **prázdna množina je podmnožinou každej množiny** a že je **konečnou množinou**.

Množina  $\emptyset$  neobsahuje žiadny prvok, takže pre **všetky prvky  $x$**  platí výraz  $x \notin \emptyset$ . A naopak **neexistuje prvok  $x$** , pre ktorý platí výraz  $x \in \emptyset$ .

Môže sa stať, že prvkami množiny sú opäť množiny. Takéto množiny sa tiež zvyknú nazývať **systemami množín**. Špeciálny význam medzi takýmito množinami má potenčná množina. Nech  $A$  je množina, potom **množina všetkých podmnožín (potenčná množina) množiny  $A$**  je množina, ktorá obsahuje všetky podmnožiny množiny  $A$ . Potenčnú množinu označujeme  $2^A$ , t. j.  $2^A = \{B; B \subset A\}$ .

### Príklad 1.3.3.K1-pr15

Uvažujme množinu  $B$  všetkých dvojprvkových množín, ktoré obsahujú ako prvky iba čísla 0 alebo 1. Keďže nezáleží na poradí prvkov, množiny  $\{0, 1\}$  a  $\{1, 0\}$  sa rovnajú. Množina  $B$  obsahuje tri prvky  $\{0, 0\}$ ,  $\{0, 1\}$ ,  $\{1, 1\}$ , t. j.  $B = \{\{0, 0\}, \{0, 1\}, \{1, 1\}\}$ . ■

### Príklad 1.3.4.K1-pr16

Množina  $2^X = \{\emptyset, \{0\}, \{1\}, \{2\}, \{0, 1\}, \{0, 2\}, \{1, 2\}, X\}$  je potenčnou množiny  $X = \{0, 1, 2\}$ . ■

## 1.3.2 Operácie s množinami

Medzi najdôležitejšie množinové operácie patria prienik množín, zjednotenie množín, rozdiel množín, symetrický rozdiel a karteziánsky súčin množín.

### • Prienik dvoch množín

Nech  $A, B$  sú množiny. **Prienikom množín  $A$  a  $B$**  nazývame množinu, ktorá obsahuje všetky prvky, ktoré patria do množiny  $A$  a zároveň patria do množiny  $B$ . Označujeme ho  $A \cap B$  a symbolicky píšeme  $A \cap B = \{x; x \in A \wedge x \in B\}$ .

Ak pre množiny  $A, B$  platí  $A \cap B = \emptyset$ , potom ich nazývame **disjunktné**.

Z definície vyplýva, že  $A \cap B = \{x; x \in A \wedge x \in B\} = \{x; x \in B \wedge x \in A\} = B \cap A$ .

### Poznámka 1.3.1.K1-poz10

Z predchádzajúcej časti vyplýva, že ak chceme dokázať rovnosť  $A \cap B = B \cap A$ , musíme dokázať dve inklúzie  $(A \cap B) \subset (B \cap A)$  a  $(B \cap A) \subset (A \cap B)$ , t. j.:

$$(A \cap B) \subset (B \cap A): x \in A \cap B \Rightarrow (x \in A \wedge x \in B) \Rightarrow (x \in B \wedge x \in A) \Rightarrow x \in B \cap A,$$

$$(B \cap A) \subset (A \cap B): x \in B \cap A \Rightarrow (x \in B \wedge x \in A) \Rightarrow (x \in A \wedge x \in B) \Rightarrow x \in A \cap B.$$

Keďže všetky úpravy, ktoré sme vykonali, sú ekvivalentné, môžeme písať priamo:

$$x \in A \cap B \Leftrightarrow (x \in A \wedge x \in B) \Leftrightarrow (x \in B \wedge x \in A) \Leftrightarrow x \in B \cap A.$$

- **Zjednotenie dvoch množín**

Nech  $A, B$  sú množiny. **Zjednotením (súčtom) množín  $A$  a  $B$**  nazývame množinu, ktorá obsahuje všetky prvky, ktoré patria do množiny  $A$  alebo patria do množiny  $B$ . Označujeme ho  $A \cup B$  a symbolicky zapisujeme  $A \cup B = \{x; x \in A \vee x \in B\}$ .

Z definície vyplýva, že  $A \cup B = \{x; x \in A \vee x \in B\} = \{x; x \in B \vee x \in A\} = B \cup A$ .

- **Rozdiel dvoch množín**

Nech  $A, B$  sú množiny. **Rozdielom množín  $A$  a  $B$**  nazývame množinu, ktorá obsahuje všetky prvky, ktoré patria do množiny  $A$  a zároveň nepatria do množiny  $B$ . Rozdiel množín označujeme  $A - B$  a symbolicky zapisujeme  $A - B = \{x; x \in A \wedge x \notin B\}$ .<sup>14</sup>

**Príklad 1.3.5.K1-pr48**

Rovnosť  $A - B = B - A$  vo všeobecnosti neplatí.

Napríklad pre  $A = \{1\}$ ,  $B = \{2\}$  platí  $A - B = A = \{1\}$ ,  $B - A = B = \{2\}$ . ■

- **Symetrický rozdiel dvoch množín**

Nech  $A, B$  sú množiny. **Symetrickým rozdielom množín  $A$  a  $B$**  nazývame zjednotenie množín  $A - B$  a  $B - A$ . Symetrický rozdiel množín  $A$  a  $B$  označujeme  $A \Delta B$ <sup>15</sup> a symbolicky ho môžeme vyjadriť  $A \Delta B = (A - B) \cup (B - A) = \{x; x \in (A - B) \vee x \in (B - A)\}$ .

Je zrejmé, že platí  $A \Delta B = (A - B) \cup (B - A) = (B - A) \cup (A - B) = B \Delta A$ .

**Príklad 1.3.6.K1-pr17**

Nech  $A = \{a, b, d, f\}$ ,  $B = \{a, c, e, g\}$ , potom  $A \cup B = \{a, b, c, d, e, f, g\}$ ,  $A \cap B = \{a\}$ ,  $A - B = \{b, d, f\}$ ,  $B - A = \{c, e, g\}$ ,  $A \Delta B = \{b, c, d, e, f, g\}$ . ■

- **Doplnok množiny**

Nech  $x$  je daná množina, nech  $A$  je podmnožinou množiny  $X$ , t. j.  $A \subset X$ , potom **doplnkom (doplnkovou množinou) množiny  $A$  do množiny  $X$**  nazývame množinu  $A' = X - A$ . Niekedy sa zvykne doplnok tiež označovať  $A^c$ ,  $\bar{A}$ , resp.  $A'_X$  (aby sa zdôraznil doplnok do množiny  $X$ ). V praxi sa často používa názov **komplement (komplementárna množina) množiny  $A$  do množiny  $X$** .

Množiny  $A$  a  $A'$  sa nazývajú **doplnkové (komplementárne) vzťahom na množinu  $X$** . Nesmieme pritom zabudnúť, že  $A \subset X$  a taktiež  $A' \subset X$ . Napríklad množina racionálnych čísel a množina iracionálnych čísel sú doplnkové vzťahom na množinu reálnych čísel, ale nie sú doplnkové vzťahom na množinu komplexných čísel.

Symbolicky môžeme písať  $A' = X - A = \{x; x \in X \wedge x \notin A\} = \{x \in X; x \notin A\}$ .

**Poznámka 1.3.2.K1-poz11**

Z uvedeného vyplýva, že každý prvok  $x \in X$  patrí do práve jednej z množín  $A, A'$ . Túto skutočnosť môžeme vyjadriť ekvivalenciami  $x \in A \Leftrightarrow x \notin A'$  a  $x \notin A \Leftrightarrow x \in A'$ . To znamená, že platia rovnosti  $A \cup A' = X$ ,  $A \cap A' = \emptyset$ .

<sup>14</sup>V niektorých literatúrach sa rozdiel množín  $A$  a  $B$  označuje symbolom  $A \setminus B$ .

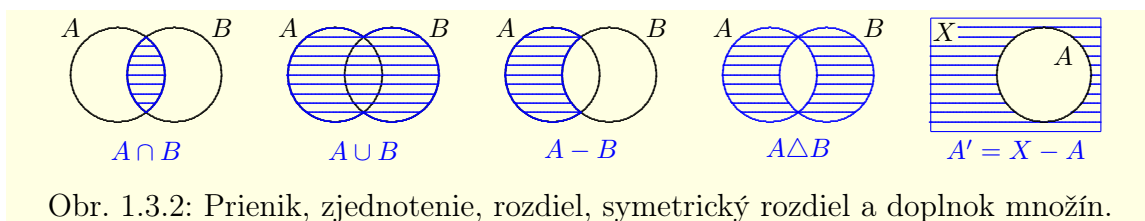
<sup>15</sup>Symetrický rozdiel sa tiež zvykne označovať symbolom  $A \oplus B$ .

**Poznámka 1.3.3.K1-poz13**

Nech  $X \neq \emptyset$ ,  $A \subset X$ ,  $B \subset X$ , potom  $A - B = A \cap B'$  (obr. 1.3.2). Vyplýva to zo vzťahov:

$$x \in (A - B) \Leftrightarrow (x \in A \wedge x \notin B) \Leftrightarrow (x \in A \wedge x \in B') \Leftrightarrow x \in (A \cap B').$$

Pre grafickú ilustráciu je prienik, zjednotenie, rozdiel, symetrický rozdiel dvoch množín  $A$ ,  $B$  a doplnok množiny  $A$  do množiny  $X$  znázornený na obrázku 1.3.2 pomocou **Vennových diagramov**.



- **Karteziánsky súčin množín**

Pojem usporiadanej dvojice  $[x; y]$  prvkov  $x$  a  $y$  je nám intuitívne jasný už podľa názvu.<sup>16</sup> **Usporiadaná dvojica**  $[x; y]$  prvkov  $x$  a  $y$  je dvojica prvkov  $x$  a  $y$ , v ktorej záleží na poradí týchto prvkov, t. j.  $[x; y]$  a  $[y; x]$  sú dve rôzne usporiadané dvojice.

Usporiadané dvojice  $[x_1; y_1]$  a  $[x_2; y_2]$  sa **rovnajú**, ak sa rovnajú jednotlivé prvky v danom poradí, t. j. ak platí  $x_1 = x_2$  a  $y_1 = y_2$ .

Nech  $A$ ,  $B$  sú dve množiny, potom **karteziánskym súčinom množín  $A$  a  $B$**  nazývame množinu  $A \times B = \{[x; y] ; x \in A \wedge y \in B\} = \{[x; y] ; x \in A, y \in B\}$ .<sup>17</sup>

Z definície vyplýva, že pre  $A \neq B$  neplatí vzťah  $A \times B = B \times A$ .

**Karteziánskym súčinom množín  $A_1$ ,  $A_2$  a  $A_3$**  nazývame množinu:

$$\begin{aligned} A_1 \times A_2 \times A_3 &= (A_1 \times A_2) \times A_3 = \{[[x_1; x_2]; x_3] ; [x_1; x_2] \in (A_1 \times A_2) \wedge x_3 \in A_3\} = \\ &= \{[x_1; x_2; x_3] ; x_1 \in A_1, x_2 \in A_2, x_3 \in A_3\}. \end{aligned}$$

Prvky  $[x_1; x_2; x_3]$  karteziánskeho súčinu  $A_1 \times A_2 \times A_3$  nazývame **usporiadané trojice**.

Analogicky definujeme  $A_1 \times A_2 \times A_3 \times A_4 = (A_1 \times A_2 \times A_3) \times A_4$ . Predpokladajme, že sme takýmto spôsobom definovali karteziánsky súčin  $A_1 \times A_2 \times \dots \times A_{n-1}$  pre  $n-1$  množín, potom **karteziánskym súčinom množín  $A_1, A_2, \dots, A_n$**  je množina

$$A_1 \times \dots \times A_n = (A_1 \times \dots \times A_{n-1}) \times A_n = \{[x_1; \dots; x_n] ; x_1 \in A_1, \dots, x_n \in A_n\}.$$

Prvky  $[x_1; x_2; \dots; x_n]$  nazývame **usporiadané  $n$ -tice**.<sup>18</sup>

**Poznámka 1.3.4.K1-poz12**

Ak platí  $A_1 = A_2 = \dots = A_n = A$ , potom zjednodušene píšeme  $A \times A \times \dots \times A = A^n$ .

Takže napríklad  $R^3 = R \times R \times R = \{[x_1; x_2; x_3] ; x_1, x_2, x_3 \in R\}$ .

**Príklad 1.3.7.K1-pr18**

Všetky body v rovine tvoria množinu. Môžeme ju chápať ako karteziánsky súčin  $R \times R$ . Každý bod  $x = [x_1; x_2]$  v rovine je určený svojimi súradnicami  $x_1, x_2 \in R$ . Začiatok súradnicovej sústavy je bod so súradnicami  $[0; 0]$ . ■

<sup>16</sup>Usporiadaná dvojica prvkov  $x, y$  sa tiež zvykne označovať  $(x; y)$ .

<sup>17</sup>Pri zápise množín sa spojka  $\wedge$  väčšinou vynecháva a namiesto nej sa píše čiarka, resp. bodkočiarka.

<sup>18</sup>Tzv. **definícia pomocou matematickej indukcie**.



Ako dokazujú nasledujúce vety, majú množinové operácie (prienik, zjednotenie, ...) podobné vlastnosti ako logické operácie (konjunkcia, disjunkcia, ...).

**Veta 1.3.1.K1-veta01**

Pre všetky množiny  $A$  platí: a)  $A \cup \emptyset = A$ , b)  $A \cap \emptyset = \emptyset$ , c)  $\emptyset - A = \emptyset$ .

**Dôkaz.**

Tvrdenia sú zrejmé a vyplývajú priamo z definície. Stačí si uvedomiť, že platí:

$$A \cup \emptyset = \{x; x \in A \vee x \in \emptyset\} = \{x; x \in A\} = A, \quad A \cap \emptyset = \{x; x \in A \wedge x \in \emptyset\} = \{x; x \in \emptyset\} = \emptyset, \\ \emptyset - A = \{x; x \in \emptyset \wedge x \notin A\} = \{x; x \in \emptyset\} = \emptyset. \blacksquare$$

**Veta 1.3.2.K1-veta02**

Nech  $A, B, C$  sú ľubovoľné množiny, potom platí:

- a)  $A \cap B = B \cap A$ ,  $A \cup B = B \cup A$ ,  $A \Delta B = B \Delta A$ ,  
 b)  $A \cap (B \cap C) = (A \cap B) \cap C$ ,  $A \cup (B \cup C) = (A \cup B) \cup C$ ,  
 c)  $A \cap (B \cup C) = (A \cap B) \cup (A \cap C)$ ,  $A \cup (B \cap C) = (A \cup B) \cap (A \cup C)$ .

**Dôkaz.**

a) Vyplýva z definície.

b) Z asociatívnych zákonov pre  $\cap$  a  $\cup$  vyplýva:

$$x \in [A \cap (B \cap C)] \Leftrightarrow [x \in A \wedge (x \in B \wedge x \in C)] \Leftrightarrow [(x \in A \wedge x \in B) \wedge x \in C] \Leftrightarrow x \in [(A \cap B) \cap C], \\ x \in [A \cup (B \cup C)] \Leftrightarrow [x \in A \vee (x \in B \vee x \in C)] \Leftrightarrow [(x \in A \vee x \in B) \vee x \in C] \Leftrightarrow x \in [(A \cup B) \cup C].$$

c) Z distributívnych zákonov pre  $\cap$  a  $\cup$  vyplýva:

$$x \in [A \cap (B \cup C)] \Leftrightarrow [x \in A \wedge (x \in B \vee x \in C)] \Leftrightarrow \\ \Leftrightarrow [(x \in A \wedge x \in B) \vee (x \in A \wedge x \in C)] \Leftrightarrow x \in [(A \cap B) \cup (A \cap C)], \\ x \in [A \cup (B \cap C)] \Leftrightarrow [x \in A \vee (x \in B \wedge x \in C)] \Leftrightarrow \\ \Leftrightarrow [(x \in A \vee x \in B) \wedge (x \in A \vee x \in C)] \Leftrightarrow x \in [(A \cup B) \cap (A \cup C)]. \blacksquare$$

**Veta 1.3.3.K1-veta03**

Nech množina  $X \neq \emptyset$  a nech  $A, B \subset X$ . Označme  $(A)'$  =  $A'$ , potom platí:

- a)  $(A \cap B)' = A' \cup B'$ ,  $(A \cup B)' = A' \cap B'$ , b)  $X' = \emptyset$ ,  $\emptyset' = X$ , c)  $A'' = A$ .

**Dôkaz.**

a) Tieto rovnosti nazývame **de Morganove zákony** a vyplývajú zo vzťahov:

$$x \in (A \cap B)' \Leftrightarrow \text{non } (x \in A \wedge x \in B) \Leftrightarrow x \notin A \vee x \notin B \Leftrightarrow x \in A' \vee x \in B' \Leftrightarrow x \in (A' \cup B'), \\ x \in (A \cup B)' \Leftrightarrow \text{non } (x \in A \vee x \in B) \Leftrightarrow x \notin A \wedge x \notin B \Leftrightarrow x \in A' \wedge x \in B' \Leftrightarrow x \in (A' \cap B').$$

b) Vyplýva zo vzťahov  $x \in X' \Leftrightarrow x \notin X \Leftrightarrow x \in \emptyset$  a  $x \in \emptyset' \Leftrightarrow x \notin \emptyset \Leftrightarrow x \in X$ .

c) Z poznámky 1.3.2 vyplýva  $x \in (A')' \Leftrightarrow x \notin A' \Leftrightarrow x \in A$ . ■

**Poznámka 1.3.5.K1-poz29**

Pre konečný systém množín  $A_1, A_2, \dots, A_n$ ,  $n \in \mathbb{N}$  a pre nekonečný systém množín  $A_1, A_2, A_3, \dots$  majú de Morganove zákony tvar:

$$\left[ \bigcap_{k=1}^n A_k \right]' = \bigcup_{k=1}^n A'_k, \quad \left[ \bigcup_{k=1}^n A_k \right]' = \bigcap_{k=1}^n A'_k, \quad \left[ \bigcap_{k=1}^{\infty} A_k \right]' = \bigcup_{k=1}^{\infty} A'_k, \quad \left[ \bigcup_{k=1}^{\infty} A_k \right]' = \bigcap_{k=1}^{\infty} A'_k.$$

**Veta 1.3.4.K1-veta04**

Nech  $A, B, C$  sú ľubovoľné množiny, potom platí:

- a)  $(A \cap B) \times C = (A \times C) \cap (B \times C)$ ,  $A \times (B \cap C) = (A \times B) \cap (A \times C)$ ,  
 b)  $(A \cup B) \times C = (A \times C) \cup (B \times C)$ ,  $A \times (B \cup C) = (A \times B) \cup (A \times C)$ ,  
 c)  $(A - B) \times C = (A \times C) - (B \times C)$ ,  $A \times (B - C) = (A \times B) - (A \times C)$ .

**Dôkaz.**

Dokážeme platnosť prvých z rovností v jednotlivých skupinách. Ostatné sa dokazujú analogicky, preto ich prenechávame čitateľovi ako cvičenie na domácu úlohu.

- a)  $[x; y] \in (A \cap B) \times C \Leftrightarrow [x \in (A \cap B) \wedge y \in C] \Leftrightarrow [(x \in A \wedge x \in B) \wedge y \in C] \Leftrightarrow$   
 $\Leftrightarrow (x \in A \wedge x \in B \wedge y \in C) \Leftrightarrow [(x \in A \wedge y \in C) \wedge (x \in B \wedge y \in C)] \Leftrightarrow$   
 $\Leftrightarrow \{[x; y] \in (A \times C) \wedge [x; y] \in (B \times C)\} \Leftrightarrow [x; y] \in (A \times C) \cap (B \times C),$
- b)  $[x; y] \in (A \cup B) \times C \Leftrightarrow [x \in (A \cup B) \wedge y \in C] \Leftrightarrow [(x \in A \vee x \in B) \wedge y \in C] \Leftrightarrow$   
 $\Leftrightarrow [(x \in A \wedge y \in C) \vee (x \in B \wedge y \in C)] \Leftrightarrow \{[x; y] \in (A \times C) \vee [x; y] \in (B \times C)\} \Leftrightarrow$   
 $\Leftrightarrow [x; y] \in (A \times C) \cup (B \times C),$
- c)  $[x; y] \in (A - B) \times C \Leftrightarrow [x \in (A - B) \wedge y \in C] \Leftrightarrow [(x \in A \wedge x \notin B) \wedge y \in C] \Leftrightarrow$   
 $\Leftrightarrow (x \in A \wedge x \notin B \wedge y \in C) \Leftrightarrow [(x \in A \wedge y \in C) \wedge (x \notin B \wedge y \in C)] \Leftrightarrow$   
 $\Leftrightarrow \{[x; y] \in (A \times C) \wedge [x; y] \notin (B \times C)\} \Leftrightarrow [x; y] \in (A \times C) - (B \times C). \blacksquare$

**1.3.3 Zobrazenie množín**

V matematike, a vlastne v celom živote, sú najdôležitejšie vzťahy medzi jednotlivými objektami. My budeme skúmať vzájomné vzťahy medzi množinami.

Nech  $A \neq \emptyset, B \neq \emptyset$  sú množiny. **Binárnou reláciou medzi množinami  $A$  a  $B$**  nazývame každú podmnožinu karteziánskeho súčinu  $A \times B$ .<sup>19</sup> Slovo binárna sa v praxi často vynecháva. Ak označíme túto reláciu  $T$ , potom skutočnosť, že prvok  $[x; y]$  patrí do relácie  $T$ , zapisujeme vzťahmi  $[x; y] \in T$ , resp.  $xTy$ .

Ak  $A = B$ , potom reláciu  $T \subset A^2$  nazývame **reláciou na množine  $A$** .

**Príklad 1.3.8.K1-pr20**

Uvažujme na množine reálnych čísel  $R$  reláciu  $T$  danú výrokovou formou „Číslo  $x$  je menšie ako  $y$ .“ Môžeme ju písať v tvare  $T = \{[x; y] \in R^2; x < y\}$ .

Do relácie  $T$  patria všetky usporiadané dvojice reálnych čísel  $[x; y]$ , pre ktoré  $x < y$ . ■

Medzi najdôležitejšie binárne relácie patrí relácia ekvivalencie.<sup>20</sup> Relácia  $T \subset A \times A$  je **reláciou ekvivalencie na množine  $A$** , ak je reflexívna, symetrická a tranzitívna na množine  $A$ , t. j. ak platí:

- a)  $\forall x \in A: [x; x] \in T$  (reflexívnosť),  
 b)  $\forall x, y \in A: [x; y] \in T \Leftrightarrow [y; x] \in T$  (symetria),  
 c)  $\forall x, y, z \in A: [[x; y] \in T \wedge [y; z] \in T] \Rightarrow [x; z] \in T$  (tranzitívnosť).

**Poznámka 1.3.6.K1-poz14**

Ak použijeme označenie  $xTy$ , môžeme tieto vlastnosti symbolicky zapísať v tvare:

$$\forall x, y, z \in A: \quad \text{a) } xTx, \quad \text{b) } xTy \Leftrightarrow yTx, \quad \text{c) } [xTy \wedge yTz] \Rightarrow xTz.$$

<sup>19</sup>Analogicky definujeme  **$n$ -nárnu reláciu** ako podmnožinu karteziánskeho súčinu  $A_1 \times A_2 \times \dots \times A_n$ .

<sup>20</sup>Je potrebné ju odlišovať od logickej operácie ekvivalencie.



Jedným zo základných pojmov v matematike je pojem zobrazenia, resp. funkcie. Nech  $A \neq \emptyset$ ,  $B \neq \emptyset$  sú množiny. **Zobrazením (funkciou)**<sup>21</sup> **z množiny  $A$  do množiny  $B$**  nazývame každú reláciu  $f \subset A \times B$  s vlastnosťou, že pre každé  $x \in A$  existuje najviac jedno  $y \in B$  také, že  $[x; y] \in f$ .

Prvok  $x \in A$  sa nazýva **vzor** a príslušné  $y = f(x)$  sa nazýva **obraz prvku  $x$  v zobrazení  $f$** , resp. **hodnota zobrazenia  $f$  v bode  $x$** . Často, najmä ak hovoríme o reálnych funkciách, vzor nazývame **nezávislou premennou** a obraz **závislou premennou**, resp. **funkčnou hodnotou v bode  $x$** .

Množinu  $D(f)$  všetkých vzorov  $x \in A$ , pre ktoré existuje  $y = f(x) \in B$ , nazývame **definičný obor zobrazenia  $f$** . Množinu  $H(f)$  všetkých obrazov  $y \in B$ , pre ktoré existuje vzor  $x \in A$  taký, že  $y = f(x)$ , nazývame **obor hodnôt zobrazenia  $f$** . To znamená, že

$$D(f) = \{x \in A; \exists y \in B: [x; y] \in f\}, \quad H(f) = \{y \in B; \exists x \in D(f): [x; y] \in f\}.$$

Namiesto zápisu  $[x; y] \in f$  sa častejšie používajú zápisy  $y = f(x)$ , resp.  $y = f(x): D(f) \rightarrow B$ , resp.  $y = f(x)$ ,  $x \in D(f)$ , resp.  $f: x \mapsto y$ .

Ak ku každému  $x \in A$  existuje obraz  $y \in B$ , t. j. ak  $D(f) = A$ , potom zobrazenie  $f$  nazývame **zobrazenie množiny  $A$  do množiny  $B$  (zobrazenie zobrazujúce množinu  $A$  do množiny  $B$ )** a označujeme  $y = f(x): A \rightarrow B$ , resp.  $f: A \rightarrow B$ .

Nech  $C \subset D(f)$ , potom množinu  $f(C) = \{f(x); x \in C\}$  nazývame **obraz množiny  $C$  v zobrazení  $f$** . Takže pre zobrazenie  $f$  platí  $H(f) = f(D(f))$ .

### Poznámka 1.3.7.K1-poz15

Pomocou kvantifikátorov môžeme definíciu zobrazenia  $f = \{[x; y] \in A \times B\}$  zapísať:

$$\forall x \in A: [x; y_1] \in f \wedge [x; y_2] \in f \implies y_1 = y_2.$$

### Poznámka 1.3.8.K1-poz16

Ak máme zobrazenie zadané iba predpisom, napr.  $y = f(x)$ , potom pod pojmom  $D(f)$  rozumieme množinu všetkých  $x$ , pre ktoré existuje  $y = f(x)$  (t. j. maximálnu možnú množinu vzorov). Obor hodnôt je množina  $H(f) = \{f(x); x \in D(f)\}$ , takže zápis  $y = f(x)$ ,  $x \in D(f)$  a zápis  $y = f(x): D(f) \rightarrow H(f)$  sú ekvivalentné.

### Príklad 1.3.9.K1-pr19

Označme  $A$  množinu ľudí žijúcich v nejakom nemenovanom meste. Predpokladajme, že je tu zvykom, aby človek mal krstné meno (ak ich má viac, budeme ich považovať za jedno meno). Označme  $B$  množinu všetkých mien. Potom môžeme definovať zobrazenie  $f: A \rightarrow B$ ,  $f(x) = y$ , kde  $x$  je daný človek a  $y$  je jeho meno.

Ak existujú v tomto nemenovanom meste dvaja ľudia  $x_1, x_2$  s rovnakým menom, potom dvom rôznym vzorom je priradený rovnaký obraz, t. j.  $f(x_1) = f(x_2)$ .

Ak človek nemá meno (napr. čerstvý novorodenec), nie je vzoru priradený žiadny obraz. Tiež sa môže nájsť také populárne meno, že ho nemá žiaden človek. Vtedy neexistuje vzor s daným obrazom. ■

### Príklad 1.3.10.K1-pr21

Relácia  $f = \{[x; y] \in \mathbb{R}^2; \sin y = x\}$  nie je zobrazenie, pretože zo vzťahu  $\sin 0 = \sin \pi = 0$  vyplývajú vzťahy  $[0; 0] \in f$ ,  $[0; \pi] \in f$ . To znamená, že jeden vzor  $x = 0$  má dva obrazy  $0$  a  $\pi$ .

Na druhej strane relácia  $f = \{[x; y] \in \mathbb{R}^2; y = \sin x\}$  zobrazenie je. ■

<sup>21</sup>V matematickej analýze sa väčšinou používa označenie funkcia.

**Príklad 1.3.11.K1-pr47**

Relácia  $f = \{[x; y] \in R^2; x^2 + y^2 = -1\}$  je zobrazenie, pretože  $f = \emptyset$  a  $\emptyset \subset R^2$ .

Usporiadaná dvojica  $[x; y]$  s danými vlastnosťami neexistuje, t. j. každému vzoru je priradený najviac jeden obraz. ■

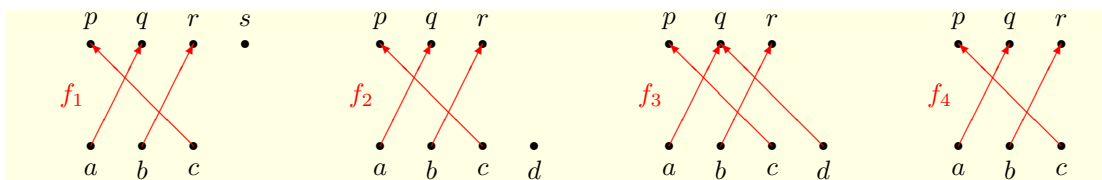
- **Injektívne, surjektívne a bijektívne zobrazenie**

Nech  $A, B$  sú množiny. Hovoríme, že zobrazenie  $f: A \rightarrow B$  je **injektívne (injekcia, prosté zobrazenie)**, ak ľubovoľné dva rôzne vzory z množiny  $A$  majú rôzne obrazy z množiny  $B$ , t. j. ak rovnaké obrazy majú rovnaké tiež príslušné vzory (obrátená implikácia). Symbolicky to môžeme vyjadriť:

$$\forall x_1, x_2 \in A: x_1 \neq x_2 \Rightarrow f(x_1) \neq f(x_2), \quad \text{t. j.} \quad \forall x_1, x_2 \in A: f(x_1) = f(x_2) \Rightarrow x_1 = x_2.$$

Nech  $A, B$  sú množiny. Hovoríme, že zobrazenie  $f: A \rightarrow B$  je **surjektívne (surjekcia, zobrazenie na množinu  $B$ )**, ak ku každému obrazu z množiny  $B$  existuje vzor z množiny  $A$ , t. j. ak platí  $f(A) = B$ . Symbolicky to môžeme zapísať vzťahmi:  $\forall y \in B \exists x \in A: y = f(x)$ .

Nech  $A, B$  sú množiny. Hovoríme, že zobrazenie  $f: A \rightarrow B$  je **bijektívne (bijekcia, prosté zobrazenie na množinu  $B$ , jednoznačné zobrazenie)**, ak je injektívne a zároveň surjektívne.



Obr. 1.3.3: Injekcia  $f_1$ , surjekcie  $f_2, f_3$  a bijekcia  $f_4$  z príkladu 1.3.12.

**Príklad 1.3.12.K1-pr22**

a) Nech  $A = \{a, b, c\}$ ,  $B = \{p, q, r, s\}$ .

Zobrazenie  $f_1 = \{[a; q], [b; r], [c; p]\}$  je injekcia, ale nie je surjekcia, pretože  $s$  nemá vzor (obr. 1.3.3).

b) Nech  $A = \{a, b, c, d\}$ ,  $B = \{p, q, r\}$ .

Zobrazenie  $f_2 = \{[a; q], [b; r], [c; p]\}$  je surjekcia, ale nie je injekcia ( $d$  nemá obraz).

c) Nech  $A = \{a, b, c, d\}$ ,  $B = \{p, q, r\}$ .

Zobrazenie  $f_3 = \{[a; q], [b; r], [c; p], [d; q]\}$  je surjekcia, ale nie je injekcia ( $a, d$  majú rovnaký obraz).

d) Nech  $A = \{a, b, c\}$ ,  $B = \{p, q, r\}$ .

Zobrazenie  $f_4 = \{[a; q], [b; r], [c; p]\}$  je bijekcia (injekcia a súčasne surjekcia). ■

**Príklad 1.3.13.K1-pr23**

Kvadratická funkcia  $f(x) = x^2: R \rightarrow R$  nie je ani injektívna ani surjektívna.

Funkcia  $f(x) = x^2: R \rightarrow \langle 0; \infty \rangle$  je surjektívna, t. j. na množinu  $\langle 0; \infty \rangle$ .

Funkcia  $f(x) = x^2: \langle 0; \infty \rangle \rightarrow \langle 0; \infty \rangle$  je bijektívna, t. j. injektívna a surjektívna. ■

**Príklad 1.3.14.K1-pr24**

Uvažujme zobrazenie dané predpisom  $f(x) = \sqrt{x}$ . Jeho definičným oborom je množina  $D(f) = \langle 0; \infty \rangle$  a oborom hodnôt množina  $H(f) = \langle 0; \infty \rangle$ . Zobrazenie je bijekcia a môžeme ho písať v tvare  $f(x) = \sqrt{x}$ ,  $x \in \langle 0; \infty \rangle$ , resp.  $f(x) = \sqrt{x}: \langle 0; \infty \rangle \rightarrow \langle 0; \infty \rangle$ .

Uvažujme zobrazenie  $f_n(x) = \sqrt{x}$ ,  $n = 1, 2, \dots, 5$  s rôznymi množinami vzorov a obrazov:

Zobrazenie  $f_1: R \rightarrow R$  nie je injektívne ani surjektívne ( $x = -1$  nemá obraz,  $y = -1$  nemá vzor).

Zobrazenie  $f_2: \langle 0; 4 \rangle \rightarrow \langle 0; 1 \rangle$  nie je injektívne, je surjektívne ( $x = 3$  nemá obraz).

Zobrazenie  $f_3: \langle 0; 2 \rangle \rightarrow \langle 0; 4 \rangle$  je injektívne, nie je surjektívne ( $y = 3$  nemá vzor).

Zobrazenie  $f_4: \langle 0; \infty \rangle \rightarrow R$  je injektívne, nie je surjektívne ( $y = -1$  nemá vzor).

Zobrazenie  $f_5: \langle 0; 4 \rangle \rightarrow \langle 0; 2 \rangle$  je bijektívne. ■

### • Rovnosť zobrazení

Zobrazenia sú množiny usporiadaných dvojíc, takže ich rovnosť musíme chápať ako rovnosť množín. Inými slovami  $f = g$  práve vtedy, ak platí:  $[x; y] \in f \Leftrightarrow [x; y] \in g$ .

Ak to zhrnieme pre zobrazenia  $f(x)$ ,  $x \in D(f)$  a  $g(x)$ ,  $x \in D(g)$ , dostávame, že **zobrazenie  $f$  sa rovná zobrazeniu  $g$**  práve vtedy, ak  $D(f) = D(g)$  a pre všetky  $x \in D(f)$  platí  $f(x) = g(x)$ .

Nech  $M \subset D(f) \cap D(g)$ , potom **zobrazenie  $f$ ,  $x \in D(f)$  sa rovná zobrazeniu  $g$ ,  $x \in D(g)$  na množine  $M$**  práve vtedy, ak pre všetky  $x \in M$  platí  $f(x) = g(x)$ .

### Príklad 1.3.15.K1-pr26

a) Zobrazenia  $f(x) = x^2$ ,  $g(x) = |x|^2$  sa rovnajú na množine  $R$ , pretože  $D(f) = D(g) = R$  a pre všetky  $x \in R$  platí  $x^2 = |x|^2$ .

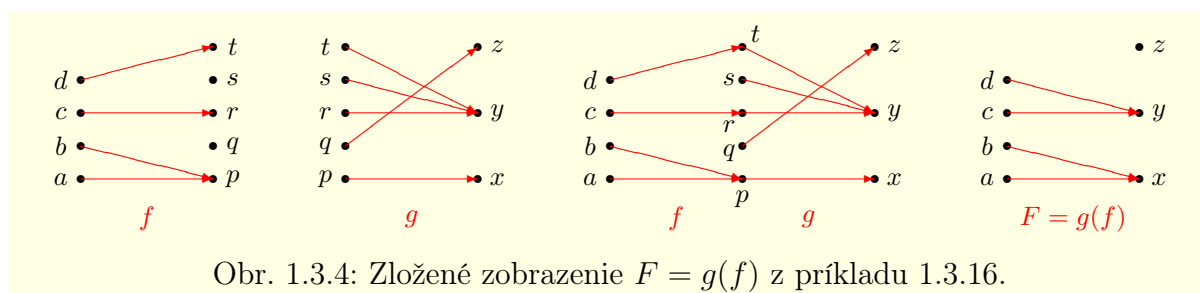
b) Zobrazenia  $f(x) = 1$ ,  $x \in R - \{0\}$  a  $g(x) = \frac{x}{x}$  sa rovnajú, pretože  $D(f) = D(g) = R - \{0\}$  a pre všetky  $x \in D(f)$  platí  $1 = \frac{x}{x}$ .

c) Zobrazenia  $f(x) = 1$ ,  $g(x) = \frac{x}{x}$  sa nerovnajú, pretože  $R = D(f) \neq D(g) = R - \{0\}$ . ■

### • Zložené zobrazenie

Nech sú dané zobrazenia  $f: A \rightarrow B$ ,  $g: C \rightarrow D$ , pričom  $H(f) \subset C$ . Potom zobrazenie  $F: A \rightarrow D$  také, že každému  $x \in A$  priradí hodnotu  $z = g(y) \in D$ , kde  $y = f(x)$ , nazývame **zložené zobrazenie (kompozícia, resp. zloženie) zobrazení  $f$  a  $g$**  a zapisujeme  $F = g(f)$ , resp.  $F = f \circ g$ .<sup>22</sup> Zobrazenie  $f$  sa nazýva **vnútorná zložka** a zobrazenie  $g$  **vonkajšia zložka** zloženého zobrazenia  $g(f)$ .

To znamená, že pre zobrazenia  $f(x)$ ,  $x \in D(f)$  a  $g(x)$ ,  $x \in D(g)$ ,  $H(f) \subset D(g)$ , dostaneme zložené zobrazenie  $F(x) = g[f(x)] = [f \circ g](x)$ ,  $x \in D(f)$ .



Obr. 1.3.4: Zložené zobrazenie  $F = g(f)$  z príkladu 1.3.16.

### Príklad 1.3.16.K1-pr27

Nech  $A = \{a, b, c, d\}$ ,  $B = \{p, q, r, s, t\}$ ,  $C = \{x, y, z\}$  sú množiny.

Nájdite zložené zobrazenie  $F = g[f]: A \rightarrow C$ , ak zobrazenia  $f: A \rightarrow B$ ,  $g: B \rightarrow C$  (obr. 1.3.4) sú definované predpismi  $f = \{[a; p], [b; p], [c; r], [d; t]\}$  a  $g = \{[p; x], [q; z], [r; y], [s; y], [t; y]\}$ .

<sup>22</sup>Niektorí autori označujú zloženú funkciu v opačnom poradí, t. j.  $g(f) = g \circ f$ .

**Riešenie.**

Zložené zobrazenie  $F = \{[a; x], [b; x], [c; y], [d; y]\}$ , pretože  $F(a) = g[f(a)] = g(p) = x$ ,  $F(b) = g[f(b)] = g(p) = x$ ,  $F(c) = g[f(c)] = g(r) = y$ ,  $F(d) = g[f(d)] = g(t) = y$ . ■

**Príklad 1.3.17.K1-pr28**

Ak  $f(x) = x^3: R \rightarrow R$ ,  $g(x) = \sin x: R \rightarrow \langle -1; 1 \rangle$ , potom  $f[g(x)] = [g(x)]^3 = \sin^3 x: R \rightarrow \langle -1; 1 \rangle$ ,  $g[f(x)] = \sin f(x) = \sin x^3: R \rightarrow \langle -1; 1 \rangle$ . ■

**Veta 1.3.5.K1-veta05**

Ak  $f: A \rightarrow B$ ,  $g: B \rightarrow C$  sú bijekcie, potom aj zložené zobrazenie  $F = g[f]: A \rightarrow C$  je bijekcia.

**Dôkaz.**

Máme ukázať, že  $F(x) = g[f(x)]: A \rightarrow C$  je bijektívne, t. j. injektívne a surjektívne.

Injekcia. Zobrazenia  $y = f(x)$ ,  $z = g(y)$  sú injektívne, t. j. pre všetky  $x_1, x_2 \in A$ ,  $y_1, y_2 \in B$  platí:

$$x_1 \neq x_2 \Rightarrow y_1 = f(x_1) \neq y_2 = f(x_2), \quad y_1 \neq y_2 \Rightarrow z_1 = g(y_1) \neq z_2 = g(y_2).$$

Z toho vyplýva, že pre všetky  $x_1, x_2 \in A$ ,  $x_1 \neq x_2$  platí:

$$F(x_1) = g[f(x_1)] = g(y_1) \neq g(y_2) = g[f(x_2)] = F(x_2).$$

Surjekcia. Zobrazenie  $z = g(y): B \rightarrow C$  je surjektívne, t. j.  $\forall z \in C \exists y \in B: z = g(y)$ . Potom platí:

$$\forall z \in C \exists y = f(x) \in B: z = g[f(x)] = F(x).$$

Zobrazenie  $y = f(x): A \rightarrow B$  je surjektívne, t. j.  $\forall y \in B \exists x \in A: y = f(x)$ .

Ak to spojíme, dostávame  $\forall z \in C \exists x \in A: z = F(x)$ . ■

- **Inverzné a identické zobrazenie**

Ak je zobrazenie  $y = f(x): A \rightarrow B$  bijektívne, t. j. ak

$$\forall [x_1; y_1], [x_2; y_2] \in f: y_1 = y_2 \Rightarrow x_1 = x_2, \quad \forall y \in B \exists x \in A: [x; y] \in f,$$

potom existuje zobrazenie  $x = g(y): B \rightarrow A$  také, že platí  $[x; y] \in f \Leftrightarrow [y; x] \in g$ .

Nech  $f: A \rightarrow B$  je injektívne zobrazenie, potom zobrazenie  $f^{-1}: B \rightarrow A$  také, že každému  $y \in H(f)$  priradí práve to  $x \in A$ , pre ktoré  $y = f(x)$ , sa nazýva **inverzné zobrazenie k zobrazeniu  $f$** . To znamená, že  $[x; y] \in f$  práve vtedy, ak  $[y; x] \in f^{-1}$ .

**Poznámka 1.3.9.K1-poz17**

Je zrejmé, že zobrazenie  $f^{-1}: B \rightarrow A$  je surjektívne a injektívne.

Surjekcia vyplýva z toho, že každý obraz  $x \in A$  má v zobrazení  $f^{-1}$  nejaký vzor  $y \in H(f)$ . Injekcia vyplýva z toho, že keby mali dva rôzne vzory  $y_1, y_2$  v zobrazení  $f^{-1}$  rovnaký obraz  $x$ , potom by v zobrazení  $f$  prvok  $x$  ako vzor mal dva rôzne obrazy  $y_1, y_2$ . Lenže to by znamenalo, že  $f$  nie je zobrazenie.

**Poznámka 1.3.10.K1-poz28**

Ak je zobrazenie  $f: D(f) \rightarrow H(f)$  injektívne, potom je zároveň aj surjektívne (t. j. je bijektívne), pretože platí  $f[D(f)] = H(f)$ .

Inverznou funkciou k  $f$  je bijekcia  $f^{-1}: H(f) \rightarrow D(f)$  také, že pre všetky  $x \in D(f)$  platí  $y = f(x)$ , resp. pre všetky  $y \in H(f)$  platí  $x = f^{-1}(y)$ . Je zrejmé, že  $D(f) = H(f^{-1})$ ,  $H(f) = D(f^{-1})$ .

**Príklad 1.3.18.K1-pr29**

a) Ak  $f(x) = x: R \rightarrow R$ , t. j.  $[x; x] \in f$ , potom  $[x; x] \in f^{-1}$ , t. j.  $f^{-1}(x) = x: R \rightarrow R$ .

b) Ak  $f(x) = 2x + 3: R \rightarrow R$ , t. j.  $[x; 2x + 3] \in f$ , potom  $[y; x] = [2x + 3; x] \in f^{-1}$ .

Z rovnosti  $y = 2x + 3$  vyplýva  $x = \frac{y-3}{2}$ , t. j.  $[y; \frac{y-3}{2}] \in f^{-1}$ .

c) Ak  $f(x) = \cotg x: (0; \pi) \rightarrow R$ , potom  $f^{-1}(x) = \operatorname{arccotg} x: R \rightarrow (0; \pi)$ . ■

**Veta 1.3.6.K1-veta06**

Nech zobrazenie  $f: A \rightarrow B$  je bijektívne, potom platí:

- a)  $f^{-1}: B \rightarrow A$  je bijektívne,                      b)  $(f^{-1})^{-1} = f$ ,  
 c)  $\forall y \in B: f[f^{-1}(y)] = y$ ,                                d)  $\forall x \in A: f^{-1}[f(x)] = x$ .

**Dôkaz.**

a) Vyplýva z poznámky 1.3.9.

b) Zobrazenia  $f: A \rightarrow B$ ,  $f^{-1}: B \rightarrow A$  sú bijektívne, t. j. pre všetky  $x \in A$ ,  $y \in B$  platí:

$$[x; y] \in f \Leftrightarrow [y; x] \in f^{-1}, \quad [y; x] \in f^{-1} \Leftrightarrow [x; y] \in (f^{-1})^{-1}.$$

Z toho vyplýva  $[x; y] \in f \Leftrightarrow [x; y] \in (f^{-1})^{-1}$ , t. j.  $f = (f^{-1})^{-1}$ .

c) Ak  $y \in B$ , potom existuje  $x \in A$  také, že  $[x; y] \in f$ ,  $[y; x] \in f^{-1}$ , t. j.  $x = f^{-1}(y)$ . Potom platí:

$$[x; y] = [f^{-1}(y); y] \in f, \quad \text{t. j. } y = f[f^{-1}(y)].$$

d) Ak  $x \in A$ , potom existuje  $y \in B$  také, že  $[y; x] \in f^{-1}$ ,  $[x; y] \in f$ , t. j.  $y = f(x)$ . Potom platí:

$$[y; x] = [f(x); x] \in f^{-1}, \quad \text{t. j. } x = f^{-1}[f(x)]. \blacksquare$$

**Identickým zobrazením (identitou)** nazývame zobrazenie, v ktorom sa každý obraz zhoduje so svojím vzorom, t. j. zobrazenie  $f(x) = x$ ,  $x \in D(f)$ . Je zrejmé, že identické zobrazenie je injektívne a zároveň surjektívne, t. j. bijektívne.

- **Postupnosť**

**Postupnosťou** nazývame každé zobrazenie  $f$ , ktorého definičným oborom je množina prirodzených čísel  $N$ , t. j.  $D(f) = N$ ,  $f = \{[n; f(n)] ; n \in N\} = \{[1; f(1)], [2; f(2)], [3; f(3)], \dots, [n; f(n)], \dots\}$ .

Pre jednoduchosť označíme  $f(n) = a_n$ ,  $n \in N$  a postupnosť  $f$  budeme zapisovať

$$\{f(1), f(2), f(3), \dots, f(n), \dots\} = \{a_1, a_2, a_3, \dots, a_n, \dots\} = \{a_n\}_{n=1}^{\infty}.$$

Hodnoty  $a_n$ ,  $n \in N$  nazývame **členmi postupnosti**  $\{a_n\}_{n=1}^{\infty}$ .<sup>23</sup>

To znamená, že člen  $a_n$  predstavuje usporiadanú dvojicu  $[n; a_n]$  a zápis  $\{a_n\}_{n=1}^{\infty}$  množinu usporiadaných dvojíc  $\{[n; a_n] ; n \in N\}$ , t. j. vzor člena  $a_n$  je určený jeho poradím.

Obor hodnôt  $H(f)$ , t. j. množinu hodnôt, ktoré nadobúdajú členy  $a_1, a_2, a_3, \dots$ , nazývame **množina hodnôt postupnosti**  $\{a_n\}_{n=1}^{\infty}$ .

**Príklad 1.3.19.K1-pr46**

Množinou hodnôt postupnosti  $\{n\}_{n=1}^{\infty} = \{1, 2, 3, \dots\}$  je množina prirodzených čísel  $N$ .

Množinou hodnôt postupnosti  $\{0, 1, 0, 1, 0, 1, \dots\}$  je množina  $\{0, 1\}$ . ■

**1.3.4 Mohutnosť množín**

Naším cieľom bude teraz určenie pravidiel, pomocou ktorých by sme mohli porovnávať množiny podľa počtu ich prvkov. Ak sú porovnávané množiny konečné, potom nie sú problémy, stačí spočítať prvky a porovnať. Niekedy nie je nutné ani spočítavať prvky.

Uvažujme napríklad množinu študentov v posluchárni a množinu stoličiek v tej istej posluchárni. Ak požiadame študentov, aby si každý z nich sadol na práve jednu stoličku, ľahko zistíme, že väčšinou je stoličiek viac. V matematickej reči sme zostrojili zobrazenie, ktoré každému študentovi priradí práve jednu stoličku.

Lenže spočítavanie prvkov v prípade nekonečných množín nie je zrejme najšťastnejší spôsob. Ale môžeme použiť postup z príkladu o študentoch a stoličkách. Ukážeme si to na nasledujúcom príklade.

<sup>23</sup>Niekedy sa v literatúre postupnosti označujú symbolom  $(a_n)_{n=1}^{\infty}$ .

**Príklad 1.3.20.K1-pr30**

Nech  $A, B$  sú nekonečné množiny. Nech  $f: D(f) \rightarrow H(f)$  je prosté zobrazenie také, že platí  $D(f) \subset A$ ,  $H(f) \subset B$ .

Ak  $D(f) = A$ ,  $H(f) = B$ , potom je zobrazenie  $f$  bijektívne. Každému vzoru z množiny  $A$  je priradený práve jeden obraz z množiny  $B$  a každému obrazu z množiny  $B$  je priradený práve jeden vzor z množiny  $A$ . Množina  $A$  má „rovnaký počet prvkov“ ako množina  $B$ .

Ak  $D(f) = A$ ,  $H(f) \neq B$ , potom  $f$  nie je surjektívne. Existuje obraz  $y \in B$ , ku ktorému nie je priradený vzor z množiny  $A$ . Množina  $A$  „má menej prvkov“ ako množina  $B$ .

Ak  $D(f) \neq A$ ,  $H(f) = B$ , potom existuje vzor  $x \in A$ , ku ktorému nie je priradený obraz z množiny  $B$ . Množina  $A$  „má viac prvkov“ ako množina  $B$ . ■

Hovoríme, že **množina  $A$  je ekvivalentná s množinou  $B$** , ak existuje bijektívne zobrazenie  $f: A \rightarrow B$ . Tento vzťah označujeme  $A \sim B$ . Skutočnosť, že množiny  $A$  a  $B$  nie sú ekvivalentné, označujeme  $A \not\sim B$ .

Ak sú množiny  $A$  a  $B$  ekvivalentné, hovoríme tiež, že **množiny  $A$  a  $B$  majú rovnakú mohutnosť**. V prípade, že existuje injektívne zobrazenie  $A \rightarrow B$ , ale neexistuje bijektívne zobrazenie  $A \rightarrow B$ , hovoríme, že **množina  $A$  má menšiu mohutnosť ako množina  $B$** .

Na základe tejto definície môžeme povedať, že množiny z príkladu 1.3.20 majú v prvom prípade rovnakú mohutnosť. V druhom prípade má množina  $A$  menšiu mohutnosť ako  $B$  a v treťom prípade má množina  $B$  menšiu mohutnosť ako množina  $A$ .

**Príklad 1.3.21.K1-pr31**

a) Množiny  $A = \{1, 2, 3\}$  a  $B = \{a, b, c\}$  sú ekvivalentné, t. j. platí  $A \sim B$ . Bijekciou je napríklad zobrazenie  $f = \{[1; a], [2; b], [3; c]\}$ .

b) Pre množiny prirodzených a celých čísel platí  $N \sim Z$ . Dokazuje to bijekcia  $f: N \rightarrow Z$  definovaná vzťahmi  $f(n) = \frac{n}{2}$  pre  $n \in N$  párne a  $f(n) = -\frac{n-1}{2}$  pre  $n \in N$  nepárne.

c)  $N \not\sim R$ , pretože neexistuje bijekcia  $N \rightarrow R$  ( $N$  má menšiu mohutnosť ako  $R$ ).

d)  $(-\pi; \pi) \sim R$ , pretože zobrazenie  $f(x) = 2 \operatorname{tg} x: (-\pi; \pi) \rightarrow R$  je bijekcia. ■

**Veta 1.3.7.K1-veta07**

Ekvivalencia množín je reláciou ekvivalencie, t. j. je reflexívna, symetrická a tranzitívna.

**Dôkaz.**

Nech  $A, B, C$  sú ľubovoľné množiny.

Reflexívnosť ( $A \sim A$ ) vyplýva z bijektívnosti identity  $f(x) = x: A \rightarrow A$ . Z vety 1.3.6 vyplýva symetrickosť ( $A \sim B \Leftrightarrow B \sim A$ ). Tranzitívnosť ( $A \sim B \wedge B \sim C \Rightarrow A \sim C$ ) vyplýva z vety 1.3.5. ■

Množina  $A$  sa nazýva **nekonečne spočítateľná**, ak je ekvivalentná s množinou prirodzených čísel, t. j. ak  $A \sim N$ . Ak je množina  $A$  nekonečne spočítateľná alebo konečná, potom ju nazývame **spočítateľná**. V opačnom prípade, t. j. ak nie je spočítateľná, ju nazývame **nespočítateľná** a hovoríme, že **má mohutnosť kontinua**.

**Veta 1.3.8.K1-veta11**

Množina hodnôt ľubovoľnej postupnosti  $\{a_n\}_{n=1}^{\infty}$  je spočítateľná.

**Dôkaz.**

Ku všetkým členom  $a_n$  postupnosti  $\{a_n\}_{n=1}^{\infty}$  priradíme prirodzené čísla. Najprv priradíme k členu  $a_1$



číslo 1. Ak  $a_2 \neq a_1$ , potom priradíme k členu  $a_2$  číslo 2, v opačnom prípade mu nepriradíme žiadne číslo, pretože k členu  $a_1 = a_2$  je už priradené číslo 1.

Takto budeme postupne členom postupnosti priradzovať prirodzené čísla. Člen s hodnotou, ktorá sa už vyskytla, preskočíme a nebudeme číslovať. Takýmto spôsobom priradíme každej hodnote danej postupnosti práve jedno prirodzené číslo, t. j. množina hodnôt postupnosti je nekonečne spočítateľná. Špeciálne sa môže stať, že priradíme konečný počet prirodzených čísel. To ale znamená, že množina hodnôt postupnosti je konečná. ■

### Príklad 1.3.22.K1-pr32

a) Množina celých čísel  $Z$  je spočítateľná. Vyplýva to z príkladu 1.3.21.

b) Množina párnych prirodzených čísel je spočítateľná, t. j.  $\{2n; n \in N\} \sim N$ . Danou bijekciou je napríklad zobrazenie  $f: N \rightarrow \{2n; n \in N\}$  dané predpisom  $f(n) = 2n$ .

c) Množina párnych celých čísel  $\{2k; k \in Z\}$  je spočítateľná. Zobrazenie  $g(k) = 2k: Z \rightarrow \{2k; k \in Z\}$  je bijekcia, t. j.  $\{2k; k \in Z\} \sim Z$ . Z príkladu 1.3.21 vyplýva  $Z \sim N$ . Takže podľa vety 1.3.7 platí  $\{2k; k \in Z\} \sim N$ . ■

### Veta 1.3.9.K1-veta08

Nech  $A$  je spočítateľná množina, potom každá jej podmnožina  $B \subset A$  je tiež spočítateľná.

#### Dôkaz.

Ak je  $B$  konečná, potom je spočítateľná.

Nech  $B$  je nekonečná množina. Množina  $A$  je spočítateľná, to znamená, že jej prvky môžeme zoradiť do tvaru postupnosti. Lenže z toho vyplýva, že aj prvky každej jej nekonečnej podmnožiny môžeme zoradiť do tvaru postupnosti. ■

### Príklad 1.3.23.K1-pr33

Množina  $A = \{\{a_n\}_{n=1}^{\infty}; a_n = 0 \vee a_n = 1\}$ , t. j. množina všetkých číselných postupností zložených iba z číslic 0 alebo 1, je nespočítateľná.

#### Riešenie.

Dôkaz prevedieme sporom.

Nech  $A$  nie je nespočítateľná. Potom je nekonečne spočítateľná a jej prvky (jednotlivé postupnosti núl alebo jednotiek) môžeme zoradiť do postupnosti

$$x_1 = \{x_{11}, x_{12}, x_{13}, \dots\}, x_2 = \{x_{21}, x_{22}, x_{23}, \dots\}, \dots, x_n = \{x_{n1}, x_{n2}, x_{n3}, \dots\}, \dots,$$

kde pre všetky  $i, j \in N$  platí  $x_{ij} = 0$  alebo  $x_{ij} = 1$ .

Zostrojíme postupnosť  $\beta = \{\beta_1, \beta_2, \beta_3, \dots\}$  nasledujúcim spôsobom:

Z prvej postupnosti  $x_1$  vyberieme prvý člen  $x_{11}$  a položíme  $\beta_1 = 1 - x_{11}$  (t. j.  $\beta_1 = 0$  pre  $x_{11} = 1$  a  $\beta_1 = 1$  pre  $x_{11} = 0$ ). Z druhej postupnosti  $x_2$  vyberieme druhý člen  $x_{22}$  a položíme  $\beta_2 = 1 - x_{22}$ . Takto budeme pokračovať pre všetky ostatné  $n \in N$ . Z postupnosti  $x_n$  vyberieme člen  $x_{nn}$  a položíme  $\beta_n = 1 - x_{nn}$ .

Z konštrukcie vyplýva, že sa postupnosť  $\beta$  odlišuje od postupnosti  $x_1$  prvým členom, od  $x_2$  druhým členom a od  $x_n$  sa odlišuje  $n$ -tým členom. To znamená, že sa postupnosť  $\beta$  nerovná žiadnemu prvku z množiny  $A$ . Takže sme našli postupnosť núl alebo jednotiek, ktorá nepatrí do  $A$ . To je spor s tým, že množina  $A$  obsahuje všetky také postupnosti. Takže je nespočítateľná. ■

### Poznámka 1.3.11.K1-poz20

Metóda uvedená v príklade 1.3.23 sa nazýva **Cantorova diagonalizačná metóda** a často sa používa pri dokazovaní nespočítateľnosti množín (napr.  $R, \langle 0; 1 \rangle, \dots$ ).<sup>24</sup>

<sup>24</sup>Dôkaz, že interval  $\langle 0; 1 \rangle$  je nespočítateľná množina je uvedený v [5] na str. 73.

**Veta 1.3.10.K1-veta09**

Zjednotenie spočítateľného počtu spočítateľných množín je opäť spočítateľná množina.

**Dôkaz.**

Nech sú množiny  $A_1, A_2, \dots, A_n, \dots$  spočítateľné. Dokážeme matematickou indukciou.

**Krok 1.** Dokážeme tvrdenie pre  $n = 2$  (pre  $n = 1$  nemá zmysel), t. j. že  $A_1 \cup A_2$  je spočítateľná množina. Pre zjednodušenie označíme  $A_1 = A, A_2 = B$ .

Predpokladajme, že sú  $A = \{a_1, a_2, a_3, \dots\}, B = \{b_1, b_2, b_3, \dots\}$  nekonečne spočítateľné.

Zoradíme striedavo všetky prvky týchto množín do postupnosti

$$\{a_1, b_1, a_2, b_2, a_3, b_3, \dots, a_n, b_n, \dots\}.$$

Očíslujeme tieto prvky prirodzenými číslami podľa poradia, v akom sme ich písali. Prvok, ktorý patrí do oboch z množín  $A$  a  $B$  očíslujeme iba raz (druhý raz ho číslovať nebudeme). Takto priradíme každému prvku z množiny  $A \cup B$  práve jedno prirodzené číslo.

To znamená, že  $A \cup B$  je spočítateľná.

Ak je niektorá z množín  $A$  alebo  $B$  konečná, napr.  $A = \{a_1, a_2, \dots, a_k\}$ , kde  $k$  je počet jej prvkov, zoradíme prvky množín  $A$  a  $B$  do postupnosti

$$\{a_1, a_2, \dots, a_k, b_1, b_2, b_3, \dots, b_n, \dots\}$$

a očíslujeme podľa predchádzajúceho vzoru.

Ak sú množiny  $A, B$  konečné, potom aj množina  $A \cup B$  je konečná.

**Krok 2.** Ukážeme, že ak tvrdenie platí pre  $n = k$ , potom platí aj pre  $n = k + 1$ .

Množina  $A_1 \cup A_2 \cup \dots \cup A_k$  je spočítateľná. Máme ukázať, že aj množina

$$A_1 \cup A_2 \cup \dots \cup A_k \cup A_{k+1} = [A_1 \cup A_2 \cup \dots \cup A_k] \cup A_{k+1}$$

je spočítateľná. Stačí označiť  $A = A_1 \cup A_2 \cup \dots \cup A_k, B = A_{k+1}$  a použiť krok 1.

Tým ja na základe princípu matematickej indukcie tvrdenie dokázané. ■

**Poznámka 1.3.12.K1-poz21**

Majme systém množín  $\{A_1, A_2, \dots, A_k, \dots\} = \{A_k\}_{k=1}^{\infty}$ . Zjednotenie a prienik konečného, resp. nekonečne spočítateľného počtu množín zvykneme stručne zapisovať vzťahmi

$$\begin{aligned} A_1 \cup A_2 \cup \dots \cup A_n &= \bigcup_{k=1}^n A_k, & A_1 \cup A_2 \cup \dots \cup A_n \cup \dots &= \bigcup_{k=1}^{\infty} A_k, \\ A_1 \cap A_2 \cap \dots \cap A_n &= \bigcap_{k=1}^n A_k, & A_1 \cap A_2 \cap \dots \cap A_n \cap \dots &= \bigcap_{k=1}^{\infty} A_k. \end{aligned}$$

**Veta 1.3.11.K1-veta10**

Ak sú množiny  $A, B$  spočítateľné, potom aj množina  $A \times B$  je spočítateľná množina.

**Dôkaz.**

Nech  $A = \{a_1, a_2, a_3, \dots\}, B = \{b_1, b_2, b_3, \dots\}$ . Množinu  $A \times B$  môžeme chápať ako zjednotenie spočítateľného počtu spočítateľných množín  $A_1 \cup A_2 \cup \dots \cup A_n \cup \dots$ , kde  $A_n = \{[a_n; b_1], [a_n; b_2], [a_n; b_3], \dots\}, A_n \sim B, n \in N$ . Potom je  $A \times B = A_1 \cup A_2 \cup \dots \cup A_n \cup \dots$  spočítateľná na základe vety 1.3.10. ■

Je zrejmé, že veta 1.3.11 platí pre ľubovoľný konečný počet  $n$  spočítateľných množín. To znamená, že ak sú množiny  $A_1, A_2, \dots, A_n$  spočítateľné, potom je spočítateľná tiež množina  $A_1 \times A_2 \times \dots \times A_n$ .

**Príklad 1.3.24.K1-pr35**

a) Množina  $N \times N$  je spočítateľná. Vyplýva to z vety 1.3.11.

b) Množina racionálnych čísel  $Q$  je spočítateľná. Platí  $N \times N \sim Q$ . Označme

$$Q = \left\{ \frac{m}{n}; m \in Z, n \in N \right\}, \quad N \times N = \{[n_1; n_2]; n_1, n_2 \in N\}.$$

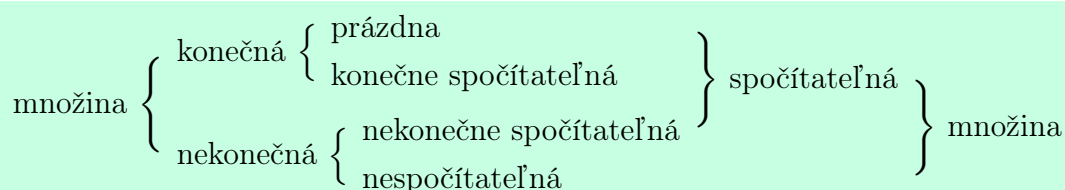


Bijekciu  $F: N \times N \rightarrow Q$  zostrojíme tak, že zobrazíme  $n_1 \rightarrow n_1$ ,  $n_2 \rightarrow f(n_2)$  pomocou bijekcie z príkladu 1.3.21 b). Potom  $F([n_1; n_2]) = \frac{f(n_1)}{n_2}$ , pričom  $f(n_1) = \frac{n_1}{2}$  pre  $n_1$  párne a  $f(n_1) = -\frac{n_1-1}{2}$  pre  $n_1$  nepárne. ■

### Príklad 1.3.25.K1-pr34

- a) Nespočítateľné sú napríklad množiny  $(a; b)$ ,  $\langle a; b \rangle$ ,  $\langle a; b \rangle$ ,  $\langle a; b \rangle$ ,  $R$ ,  $R^3$ ,  $I = R - Q$ .  
 b) Spočítateľné sú napríklad množiny  $N$ ,  $Z$ ,  $Q$ ,  $N^4$ ,  $Q^3$  a ľubovoľné ich podmnožiny. ■

Množina  $A$  môže byť konečná alebo nekonečná, resp. na druhej strane spočítateľná alebo nespočítateľná (viď tab. 1.3.12). Množina  $A$  je konečná práve vtedy, ak je prázdna (t. j.  $A = \emptyset$ ) alebo je konečne spočítateľná (t. j.  $A \sim \{1, 2, \dots, n\}$ , kde  $n \in N$ ). Keď množina nie je konečná, potom je nekonečne spočítateľná (t. j.  $A \sim N = \{1, 2, 3, \dots\}$ ) alebo je nespočítateľná.



Tabuľka 1.3.12: Konečná, nekonečná, spočítateľná, nespočítateľná množina.

## Cvičenia

1.3.1. c13-01 Dokažte platnosť zostávajúcich rovností vo vete 1.3.4.

1.3.2. c13-02 Nech  $X \neq \emptyset$ . Dokážte, že pre ľubovoľné množiny  $A, B, C \subset X$  platí:

- a)  $[(A \cap C) - B] \cup [(A \Delta B) - C] = \{[A \Delta B] \cup [C \cap (A - B)]\} - [B \cap (C - A)]$ ,  
 b)  $[(A \cap C) - B] \cup [(A \Delta B) - C] \subset (A - B) \cup (A \cup C)'$ .

1.3.3. c13-03  $A = \{1, 2, 3, 4\}$ ,  $B = \{1, 2, 3, 4, 5\}$ . Nájdite potenčné množiny  $2^A$  a  $2^B$ . ♣

1.3.4. c13-04  $n \in N$  a nech  $A_n = \{1, 2, \dots, n\}$ . Koľko prvkov a koľko podmnožín majú množiny  $A_n$ ,  $A_n^2$ ,  $A_n^3$ ,  $\dots$ ,  $A_n^k$ , kde  $k \in N$ ? ♣

1.3.5. c13-06 Nech  $X \neq \emptyset$  a nech  $A, B, C \subset X$ . Ktoré z uvedených vzťahov sú pravdivé: ♣

- a)  $A \subset (A \cap B)$ ,                      b)  $A \subset (A \cup B)$ ,                      c)  $(A - B) \subset A$ ,  
 d)  $(A - B) \subset B$ ,                      e)  $(A - B) \cup B = B$ ,                      f)  $(A - B) \cap B = B$ ,  
 g)  $(A - B) \cup A = A$ ,                      h)  $(A - B) \cap A = A$ ,                      i)  $(A - B) \cup B = A$ ,  
 j)  $(A - B) \cap B = A$ ,                      k)  $(A - B) \cap A = B$ ,                      l)  $(A - B) \cap B = \emptyset$ .

1.3.6. c13-05 Nech  $X \neq \emptyset$  a nech pre množiny  $A, B, C, D \subset X$  platia vzťahy  $A \cup B' \subset C$ ,  $(A \cap B)' \cup D = A' \cup B$ . Zistite, ktoré z množín  $A' \cup C$ ,  $B \cup (D - A)'$ ,  $D \Delta (A \cap C)$ ,  $(D - B)'$  sú za tohto predpokladu viazané vzťahom inklúzie alebo rovnosti množín. ♣

1.3.7. c13-07 Nech  $X \neq \emptyset$  a nech  $A, B, C \subset X$ . Zistite, či existuje medzi niektorými z množín  $P$ ,  $Q$ ,  $R$  vzťah inklúzie alebo rovnosti, ak  $P = [A \Delta (B' - C')] \cap (A \cup B)$ ,  $Q = [A \cup (B' \cap C)] \Delta (B \cup C)'$  a  $R = [A - (B' \Delta C)] \cap (B' \cup C)$ . ♣

1.3.8. cNech  $X \neq \emptyset$  a nech pre  $A, B, C, D \subset X$  platí  $(A \Delta B) \subset (C - D)$ ,  $(A \cap D') \cap [A \cup (C \Delta D)] = \emptyset$ . Čo môžeme tvrdiť o vzájomných vzťahoch medzi množinami  $A \cup B$ ,  $B \cap D'$  a  $A \Delta C$ ? ♣

1.3.9. cNech  $A_1, A_2, \dots, A_n, \dots$  sú ľubovoľné množiny, dokážte de Morganove zákony:

$$\text{a) } \left[ \bigcap_{k=1}^n A_k \right]' = \bigcup_{k=1}^n A_k', \quad \left[ \bigcup_{k=1}^n A_k \right]' = \bigcap_{k=1}^n A_k', \quad \text{b) } \left[ \bigcap_{k=1}^{\infty} A_k \right]' = \bigcup_{k=1}^{\infty} A_k', \quad \left[ \bigcup_{k=1}^{\infty} A_k \right]' = \bigcap_{k=1}^{\infty} A_k'.$$

1.3.10. cNech  $A = \{1, 2, 3, 4\}$ ,  $B = \{a, b, c\}$ ,  $C = \{1, 5, a, b, h\}$ . Napíšte všetky prvky množín  $A \times B$ ,  $A \times C$ ,  $A \times B \times C$ .

1.3.11. cNech  $A$  je množina všetkých ľudí žijúcich v Európe, ktorí sú starší ako 20 rokov. Nech  $B$  je množina všetkých ľudí žijúcich na Slovensku, ktorí sú mladší ako 40 rokov. Čo predstavujú množiny  $A \cup B$ ,  $A \cap B$ ,  $A - B$ ,  $B - A$ ,  $A \Delta B$ ?

1.3.12. cNech  $A = \{x: x \in \mathbb{N}, x < 9\}$ . Napíšte všetky množiny  $B$  také, že  $B \subset A$  a  $B$  obsahuje iba nepárne čísla. ♣

1.3.13. cNech  $A = \{x: x \in \mathbb{N}, x < 16\}$  a nech  $A_2, A_3, A_5 \subset A$  sú také, že  $A_2$  obsahuje všetky párne čísla,  $A_3$  obsahuje všetky čísla deliteľné tromi a  $A_5$  obsahuje všetky čísla deliteľné piatimi. Určte množiny: ♣

- |  |   |
|--|---|
| a) $A_2 - A_3$ , $A_2 - A_5$ , $A_3 - A_5$ ,               | b) $A_3 - A_2$ , $A_5 - A_2$ , $A_5 - A_3$ ,                |
| c) $A_2 \cup A_3$ , $A_2 \cup A_5$ , $A_3 \cup A_5$ ,      | d) $A_2 \cap A_3$ , $A_2 \cap A_5$ , $A_3 \cap A_5$ ,       |
| e) $A_2 \cap A_3 \cap A_5$ , $A_2 \cup A_3 \cup A_5$ ,     | f) $A_2 \Delta A_3$ , $A_2 \Delta A_5$ , $A_3 \Delta A_5$ , |
| g) $(A_2 \cap A_3) \cup A_5$ , $(A_2 \cup A_3) \cap A_5$ , | h) $(A_2 \cap A_5) \cup A_3$ , $(A_2 \cup A_5) \cap A_3$ ,  |
| i) $(A_3 \cap A_5) \cup A_2$ , $(A_3 \cup A_5) \cap A_2$ , | j) $(A_3 - A_5) \cup A_2$ , $(A_3 - A_5) \cap A_2$ ,        |
| k) $(A_2 \cap A_5) \cup (A_3 \cap A_5)$ ,                  | l) $(A_2 - A_3) \cup (A_3 - A_2)$ ,                         |
| m) $(A_2 \cup A_3) - (A_2 \cap A_3)$ ,                     | n) $(A_2 \cup A_3) \cap (A_3 \cup A_5)$ .                   |

1.3.14. cNech všetky znázorníte množiny a) — n) z príkladu 1.3.13.

1.3.15. cNech  $X \neq \emptyset$ . Dokážte, že pre všetky  $A, B, C, D \subset X$  platí:

- |   |   |
|---|---|
| a) $A \subset B \Leftrightarrow A \cup B = B$ ,                           | b) $A \subset B \Leftrightarrow A \cap B = A$ ,                           |
| c) $A \subset B \Leftrightarrow A - B = \emptyset$ ,                      | d) $A \subset (A \cup B)$ , $(A \cap B) \subset A$ ,                      |
| e) $A \subset C, B \subset D \Rightarrow (A \cup B) \subset (C \cup D)$ , | f) $A \subset C, B \subset D \Rightarrow (A \cap B) \subset (C \cap D)$ , |
| g) $A \subset C, B \subset C \Rightarrow (A \cup B) \subset C$ ,          | h) $A \subset B, A \subset C \Rightarrow A \subset (B \cap C)$ ,          |
| i) $A \subset B \Rightarrow (C - B) \subset (C - A)$ ,                    | j) $A \subset B \Rightarrow (A - C) \subset (B - C)$ .                    |

1.3.16. cNech  $X \neq \emptyset$ . Dokážte, že pre všetky  $A, B, C \subset X$  platí:

- |  |   |
|--|---|
| a) $A \Delta B = (A \cup B) - (A \cap B)$ ,          | b) $A \cap (B \Delta C) = (A \cap B) \Delta (A \cap C)$ , |
| c) $A \Delta (B \Delta C) = (A \Delta B) \Delta C$ , | d) $A \Delta (A \cap B) = A - B$ .                        |

1.3.17. cNech  $X \neq \emptyset$  a nech  $A, B, C, D \subset X$ . Zistite, ktoré z rovností sú pravdivé: ♣

- |  |
|--|
| a) $(A \times B) \cap (C \times D) = (A \cap C) \times (B \cap D)$ , |
| b) $(A \times B) \cup (C \times D) = (A \cup C) \times (B \cup D)$ . |

1.3.18. cNech  $A = \{1, 2, 3, 5, 7\}$ ,  $B = \{1, 3, 7, 9\}$ . Rozhodnite, či množiny: ♣

- |   |   |
|---|---|
| a) $f_1 = \{[1; 1], [1; 3], [3; 1]\}$ ,         | b) $f_2 = \{[2; 3], [3; 2], [1; 7], [7; 9]\}$ , |
| c) $f_3 = \{[1; 1], [3; 3], [7; 7], [7; 9]\}$ , | d) $f_4 = \{[1; 1], [1; 3], [1; 7], [1; 9]\}$   |

sú reláciami medzi  $A$  a  $B$ , resp.  $B$  a  $A$ . Zistite, v ktorých prípadoch sú zobrazením.

1.3.19. **Uz** je relácia  $f = \{[x; y] \in R \times R; x^2 - 4y^2 = 0\}$ . Rozhodnite, ktoré z usporiadaných dvojíc  $[1; 2]$ ,  $[2; 1]$ ,  $[1; 1]$ ,  $[-1; 2]$ ,  $[-2; 1]$ ,  $[1; -2]$ ,  $[2; -1]$ ,  $[-1; 1]$ ,  $[-2; -1]$  patria do relácie  $f$ . ♣

1.3.20. **Ne** je daná množina  $A = \{a, b, c, d, e\}$ . Definujte reláciu  $f \in A^2$  tak, aby bola: ♣

- a) reflexívna, symetrická a tranzitívna,                      b) reflexívna, symetrická, nie tranzitívna,  
c) reflexívna, tranzitívna, nie symetrická,                      d) symetrická, tranzitívna, nie reflexívna.

1.3.21. **Ne** je množina všetkých priamok v rovine. Určte, či sú ekvivalenciami relácie: ♣

- a) rovnobežnosť dvoch priamok,                      b) kolmost' dvoch priamok.

1.3.22. **Dok**te, že platia nasledujúce ekvivalencie množín:

- a)  $(0; 1) \sim (0; 1)$ ,                      b)  $(0; 1) \sim \langle 0; 1 \rangle$ ,                      c)  $(0; 1) \sim (-1; 1)$ ,                      d)  $(0; 1) \sim R^3$ ,  
e)  $(0; 1) \sim \langle 0; 1 \rangle$ ,                      f)  $(0; 1) \sim \langle 0; 1 \rangle$ ,                      g)  $R \sim I$ ,                      h)  $R \sim R^2$ .

1.3.23. **Roz**te množinu prirodzených čísel  $N$  na spočítateľne veľa disjunktných množín, ktoré sú: ♣

- a) konečné,                      b) nekonečné.

1.3.24. **Roz**dnite, ktoré z množín sú spočítateľné a ktoré nespočítateľné: ♣

- a)  $(0; 1) \cap Q$ ,                      b)  $(0; 1) \cap I$ ,                      c)  $\langle 0; 1 \rangle \times \{0, 1\}$ ,                      d)  $\langle 0; 1 \rangle \times Q$ .

1.3.25. **Ne** je spočítateľná množina, akú mohutnosť má množina všetkých jej podmnožín  $2^A$ ? ♣

1.3.26. **Dok**te, že množina  $\{a_0 + a_1x + a_2x^2 + \dots + a_nx^n; a_0, a_1, \dots, a_n \in Q\}$ , t. j. množina všetkých polynómov stupňa najviac  $n$  ( $n \in N$ ) s racionálnymi koeficientami, je spočítateľná.

1.3.27. **Dok**te, že množina  $\{a_0 + a_1x + a_2x^2 + \dots + a_nx^n; a_0, a_1, \dots, a_n \in Q, n \in N\}$ , t. j. množina všetkých polynómov (ľubovoľného stupňa) s racionálnymi koeficientami, je spočítateľná.

*Častú uzavrú dvaja idioti sobáš z rozumu.*

**WIESLAW LEON BRUDZIŃSKI**

*Optimista vyhlasuje, že žijeme v najlepšom možnom svete. Pesimista sa obáva, že je to pravda.*

**JAMES BRANCH CABELL**

*Čestní muži sa ženía rýchlo, múdri nikdy.*

**MIGUEL de CERVANTES**

*Predstavte si to ticho, keby ľudia hovorili iba to, čo vedía.*

**KAREL ČAPEK**

*Škola rozvíja všetky vlohy, vrátane hlúposti.*

**ANTON PAVLOVIČ ČECHOV**

*„Múdrejší ustúpi!“ — Smutná pravda, zdôvodňuje nadvládu hlúposti nad svetom.*

**MARIE von EBNER-ESCHENBACHOVÁ**

*Vyhľadavanie ľudských chýb je jediná zábava, z ktorej sa možno tešiť zadarmo.*

**MAXIM GORKIJ**

# Kapitola 2

## Reálne čísla

### 2.1 Algebraické vlastnosti reálnych čísel

#### 2.1.1 Úvodné poznámky

Množiny, s akými sa stretávame v praxi, sú dôležité nielen preto, že sa skladajú z určitých prvkov, ale hlavne preto, že tvoria určitú štruktúru. Ak hovoríme o množine celých čísel, nemyslíme tým iba celé čísla, ale aj ich porovnávanie a operácie na nich definované (sčítanie, odčítanie, násobenie). To znamená, že množinu nechápeme iba ako celok zložený z prvkov bez vzájomných vzťahov.

S množinou chceme ďalej pracovať a využiť jej vlastnosti pri praktických aplikáciách, preto musíme brať do úvahy aj vnútorné väzby medzi jej prvkami, t. j. operácie a relácie na tejto množine. V tejto kapitole sa budeme venovať reálnym číslam ich vlastnostiam. Reálne čísla budeme chápať ako množinu a na nej definované relácie a operácie.

Nech  $A$  je neprázdna množina, potom zobrazenie, ktoré každej usporiadanej dvojici  $[a; b] \in A \times A = A^2$  priradí prvok z množiny  $A$ , t. j. zobrazenie  $\varphi: A \times A \rightarrow A$ , nazývame **binárna operácia (definovaná) na množine  $A$** . Výsledok operácie  $\varphi$  vykonanej na prvkoch  $a, b \in A$  označujeme  $\varphi(a, b)$ .

Nech  $n \in \mathbb{N}$ , potom zobrazenie  $\varphi: A^n \rightarrow A$  nazývame  **$n$ -nárnu operáciou na množine  $A$** . Ak  $n = 1$ , potom hovoríme o **unárnej operácii**.

V praxi sa binárne operácie spravidla označujú špeciálnymi symbolmi, napr.  $+$ ,  $\cdot$ ,  $\cup$ ,  $\cap$ ,  $\wedge$  a podobne. Vtedy namiesto  $\varphi(a, b)$  píšeme  $a+b$ ,  $a \cdot b$ ,  $M \cup N$ ,  $M \cap N$ ,  $p \wedge q$ .

Hovoríme, že na množine  $A \neq \emptyset$  je definovaná **algebraická štruktúra**, ak je na množine  $A$  definovaný systém operácií a relácií. Ak tento systém označíme  $\mathcal{S}$ , potom hovoríme o algebraickej štruktúre  $(A; \mathcal{S})$ . Napríklad množinu všetkých celých čísel môžeme chápať ako algebraickú štruktúru  $(\mathbb{Z}; +, \cdot, <)$ , kde  $\mathbb{Z}$  je množina celých čísel,  $+$  a  $\cdot$  sú binárne operácie sčítania a násobenia a  $<$  je relácia usporiadania.

#### Príklad 2.1.1.K2-pr01

Nech  $X \neq \emptyset$  a  $2^X = \{A; A \subset X\}$  je potenčná množina množiny  $X$ .

a) Symboly  $\cup$ ,  $\cap$ ,  $-$ ,  $\Delta$  predstavujú binárne operácie definované na množine  $2^X$ , sú to zobrazenia z množiny  $2^X \times 2^X$  do množiny  $2^X$ . Vyplýva to zo skutočnosti, že pre všetky  $A, B \subset X$  platí  $A \cup B \subset X$ ,  $A \cap B \subset X$ ,  $A - B \subset X$ ,  $A \Delta B \subset X$ .

b) Doplnok množiny je unárna operácia  $2^X \rightarrow 2^X$ , pretože pre  $\forall A \subset X: \bar{A} \subset X$ . ■

Algebraické štruktúry<sup>1</sup> množín popisujeme pomocou axióm. My sa zameriame hlavne na množinu všetkých reálnych čísel, ktorú označujeme písmenom  $R$ .

<sup>1</sup>V matematickej analýze nepracujeme len s algebraickými štruktúrami, ale aj s **topologickými** a **metrickými štruk-**

## 2.1.2 Axiómy reálnych čísel

Jedným zo základných pojmov, s ktorým sa stále stretávame, je **číslo**. Je to dôležitý pojem nielen v matematike, ale vo všetkých oblastiach života. Pojem čísla je intuitívne jasný asi každému človeku.

Najrozsiahljšou číselnou množinou je **množina komplexných čísel**, ktorá obsahuje tzv. imaginárne čísla a označuje sa písmenom  $C$  (budeme sa ňou zaoberať neskôr). Najdôležitejšou z číselných množín je jej podmnožina, ktorú nazývame **množina reálnych čísel**. Pokiaľ nepoviem ináč, budeme pod pojmom **číslo**, rozumieť číslo reálne.

Teraz uvedieme definíciu reálnych čísel. Nedefinujeme pritom jednotlivé reálne čísla, ale množinu všetkých reálnych čísel ako celok s reláciami, operáciami a ich vlastnosťami. Zadávame ich pomocou tzv. **axióm reálnych čísel**, ktoré delíme na axiómy sčítania a násobenia, axiómy usporiadania a axiómu o najmenšom hornom ohraničení.

### • Rovnosť čísel

Základným vzťahom medzi číslami je relácia rovnosť dvoch čísel, ktorú značíme symbolom „ $=$ “. Hovoríme, že **číslo  $a$  sa rovná číslu  $b$**  (**čísla  $a, b$  sa rovnajú**) a zapisujeme  $a = b$ , ak výrazy  $a, b$  vyjadrujú to isté číslo. Ak neplatí  $a = b$ , potom hovoríme, že **číslo  $a$  sa nerovná číslu  $b$**  (**čísla  $a, b$  sa nerovnajú**) a zapisujeme  $a \neq b$ .

Platí napríklad  $2 = 2$ ,  $x = 2$ ,  $0,5 = 1/2$ ,  $4 = \frac{8}{2}$ ,  $0,5 \neq 2$ .

Z predchádzajúcej definície vyplýva, že rovnosť dvoch čísel je reláciou ekvivalencie (reflexívna, symetrická a tranzitívna) na množine  $R$ , t. j. pre všetky  $a, b, c \in R$  platí:

$$a = a, \quad a = b \Leftrightarrow b = a, \quad (a = b \wedge b = c) \Rightarrow a = c.$$

### • Axiómy operácií sčítania a násobenia

**Sčítanie dvoch čísel** je binárna operácia, ktorá dvom daným číslam (nazývame ich **sčítance**) priradí jednoznačne tretie číslo (ktoré nazývame **súčet čísel  $a$  a  $b$** ). Sčítanie označujeme symbolom „ $+$ “, súčet čísel  $a, b$  zapisujeme  $a + b$  a čítame  $a$  plus  $b$ .

**Násobenie dvoch čísel** je binárna operácia, ktorá dvom daným číslam (nazývame ich **činitele**) priradí jednoznačne tretie číslo (ktoré nazývame **súčin čísel  $a$  a  $b$** ). Násobenie označujeme symbolom „ $\cdot$ “, súčin čísel  $a, b$  zapisujeme  $a \cdot b = ab$  a čítame  $a$  krát  $b$ . Symbol násobenia sa väčšinou vynecháva.

Základné vlastnosti operácií  $+$ ,  $\cdot$  nazývame **axiómy operácií sčítania a násobenia** a označujeme ich (S1) — (S4), (N1) — (N4), (D). Pre všetky  $a, b, c \in R$  platí:

$$\begin{array}{ll} \text{(S1)} & a + b = b + a, & \text{(N1)} & a \cdot b = b \cdot a, \\ \text{(S2)} & (a + b) + c = a + (b + c), & \text{(N2)} & (a \cdot b) \cdot c = a \cdot (b \cdot c), \\ \text{(S3)} & \exists! 0 \in R \forall a \in R: a = a + 0, & \text{(N3)} & \exists! 1 \in R \forall a \in R: a = a \cdot 1, \\ \text{(S4)} & \forall a \in R \exists! x \in R: 0 = a + x, & \text{(N4)} & \forall a \in R, a \neq 0 \exists! y \in R: 1 = a \cdot y, \\ \text{(D)} & (a + b) \cdot c = (a \cdot c) + (b \cdot c) = ac + bc. \end{array}$$

Axiómy (S1) a (N1) nazývame **komutatívny zákon sčítania a komutatívny zákon násobenia**. Axiómy (S2) a (N2) nazývame **asociatívny zákon sčítania a asociatívny zákon násobenia**. Zátvorky v týchto zápisoch obyčajne vynechávame, t. j.

$$a + b + c = (a + b) + c = a + (b + c), \quad \text{resp.} \quad a \cdot b \cdot c = (a \cdot b) \cdot c = a \cdot (b \cdot c).$$

Číslo  $0$  z axiómy (S3) nazývame **nula (nulový prvok)**. Číslo  $x$  z axiómy (S4) nazývame **opačné číslo k číslu  $a$** , značíme ho  $x = -a$  a čítame mínus  $a$ .

**túrami**. Pomocou nich môžeme definovať nové vlastnosti, ako sú napríklad spojitosť, konvergencia. Topologická štruktúra sa zvykne zadávať pomocou okolí bodov a metrická štruktúra pomocou vzdialenosti dvoch bodov.

Číslo 1 z axiómy (N3) nazývame **jednotka (jednotkový prvok)**. Číslo  $y$  z axiómy (N4) nazývame **inverzné (obrátené) číslo k číslu  $a$** , značíme ho  $a^{-1}$ , resp.  $1/a$ , resp.  $\frac{1}{a}$ . Tieto zápisy čítame  $a$  na mínus prvú, resp. jedna lomené  $a$ . Je zrejmé, že  $a^{-1} \neq 0$ .

Axiómu (D) nazývame **distributívny zákon násobenia vzhľadom na sčítanie**. V praxi sa používa konvencia o prioritě násobenia pred sčítaním. To znamená, že zátvorky označujúce násobenie obvykle vynechávame.

### Poznámka 2.1.1.K2-poz01

Z axióm (S1) — (S4) a (N1) — (N4) vyplýva, že  $(R; +)$  a  $(R - \{0\}; \cdot)$  sú komutatívne grupy. Z axiómy (D) vyplýva, že  $(R; +; \cdot)$  je komutatívne teleso (pozri [32]).

### • Axiómy usporiadania

Charakteristickým znakom reálnych čísel je, že ich môžeme podľa veľkosti porovnávať a teda podľa veľkosti usporiadať. Nech  $a, b$  sú reálne čísla, potom výraz  $a < b$  vyjadruje, že **číslo  $a$  je menšie ako číslo  $b$** . Reláciu „<“ nazývame **menší**. Reláciou menší je zároveň definovaná aj relácia **väčší**, ktorú označujeme „>“. Výrazy  $a < b$  ( $a$  je menšie ako  $b$ ) a  $b > a$  ( $b$  je väčšie ako  $a$ ) sú ekvivalentné.

Uvedieme základné vlastnosti relácie usporiadania menší <, ktoré nazývame **axiómy usporiadania**. Nech  $a, b, c \in R$ , potom platí:

(U1) Platí práve jeden zo vzťahov:  $a < b$ ,  $a = b$ ,  $b < a$ ,

(U2)  $(a < b \wedge b < c) \Rightarrow a < c$ ,

(U3)  $a \not< a$ , t. j. neplatí  $a < a$ ,

(U4)  $a < b \Rightarrow a + c < b + c$ ,

(U5)  $(a < b \wedge 0 < c) \Rightarrow ac < bc$ .

Axióma (U1) sa nazýva **trichotómia relácie <**, axióma (U2) sa nazýva **tranzitívnosť relácie <** a axióma (U3) **nerexifívnosť relácie <**. Axiómy (U4), resp. (U5) nazývame **monotónnosť sčítania**, resp. **násobenia a relácie <**.

### Poznámka 2.1.2.K2-poz10

Nech  $A$  je neprázdna množina a  $T$  je binárna relácia definovaná na množine  $A$ , na ktorej platia axiómy (U1), (U2), (U3). Reláciu  $T$  potom nazývame **usporiadanie** a množinu  $A$  nazývame **usporiadaná množina**. To znamená, že množiny  $R, N, Z, Q$  sú usporiadané.

Ak pre  $a, b \in R$  platí  $a < b$  alebo  $a = b$ , potom zjednodušene píšeme  $a \leq b$  a čítame  **$a$  je menšie alebo rovné  $b$** . Ak platí  $a > b$  alebo  $a = b$ , potom píšeme  $a \geq b$  a čítame  **$a$  je väčšie alebo rovné  $b$** .

Relácie <, > (menší, väčší) nazývame **ostré nerovnosti** a relácie  $\leq, \geq$  (menší alebo rovný, väčší alebo rovný) nazývame **neostré nerovnosti**.<sup>2</sup>

Reálne číslo  $x$  sa nazýva **kladné** [resp. **nezáporné**], ak platí  $x > 0$  [resp.  $x \geq 0$ ]. Reálne číslo  $x$  sa nazýva **záporné** [resp. **nekladné**], ak platí  $x < 0$  [resp.  $x \leq 0$ ].

Číslo 0 je nežáporné a súčasne nekladné.

Množiny všetkých kladných, záporných, nežáporných a nekladných čísel označujeme:

$$R^+ = \{x \in R; x > 0\}, \quad R^- = \{x \in R; x < 0\}, \quad R_0^+ = \{x \in R; x \geq 0\}, \quad R_0^- = \{x \in R; x \leq 0\}.$$

### • Axióma o najmenšom hornom ohraničení

Nech  $A \subset R$ . Hovoríme, že číslo  $a \in R$  je **horné ohraničenie množiny  $A$** , ak pre všetky prvky  $x \in A$  platí  $x \leq a$ . Množina  $A$  sa nazýva **zhora ohraničená**, ak existuje aspoň jedno jej horné ohraničenie.

<sup>2</sup>V literatúre sa niekedy používa označenie  $\leq a \geq$ .



Hovoríme, že číslo  $b \in R$  je **dolné ohraničenie množiny**  $A$ , ak pre všetky prvky  $x \in A$  platí  $b \leq x$ . Množina  $A$  sa nazýva **zdola ohraničená**, ak existuje aspoň jedno jej dolné ohraničenie.

Množina  $A$  sa nazýva **ohraničená**, ak je zdola aj zhora ohraničená. Ak množina  $A$  nie je ohraničená, nazýva sa **neohraničená**.

Nech  $A \subset R$ . Ak  $a \in R$  je horné ohraničenie množiny  $A$  a zároveň patrí do množiny  $A$ , potom  $a$  nazývame **najväčší prvok (maximum) množiny**  $A$  a označujeme  $a = \max A$ .

Ak  $b \in R$  je dolné ohraničenie množiny  $A$  a zároveň patrí do množiny  $A$ , potom  $b$  nazývame **najmenší prvok (minimum) množiny**  $A$  a označujeme  $a = \min A$ .

### Poznámka 2.1.3.K2-poz11

Je zrejmé, že ak  $a, b \in R$ ,  $b \leq a$ , potom  $a = \max \{a, b\}$ ,  $b = \min \{a, b\}$ .

Najmenšie z horných ohraničení množiny nazývame **suprémum množiny** a najväčšie z dolných ohraničení nazývame **infimum množiny**. Hovoríme, že  $\alpha \in R$  je **suprémum (horná hranica) množiny**  $A$  a označujeme  $\alpha = \sup A$ , ak platí:

- i)  $\forall x \in A: x \leq \alpha$ ,                      ii)  $\forall b \in R: (\forall x \in A: x \leq b) \Rightarrow \alpha \leq b$ .

Hovoríme, že  $\beta \in R$  je **infimum (dolná hranica) množiny**  $A$  a píšeme  $\beta = \inf A$ , ak:

- i)  $\forall x \in A: \beta \leq x$ ,                      ii)  $\forall b \in R: (\forall x \in A: b \leq x) \Rightarrow b \leq \beta$ .

### Poznámka 2.1.4.K2-poz02

Vlastnosť i) supréma znamená, že  $\alpha$  je horné ohraničenie množiny  $A$ . Vlastnosť ii) znamená, že každé iné horné ohraničenie množiny  $A$  je väčšie ako  $\alpha$ , t. j.  $\alpha$  je najmenšie horné ohraničenie.

Vlastnosti i), ii) infima sú analogické.<sup>3</sup>

Poslednú axiómu, bez ktorej by systém reálnych čísel nebol úplný, nazývame **axióma o najmenšom hornom ohraničení (axióma o hornej hranici)** a môžeme ju formulovať gramatickou vetou: „Každá neprázdna zhora ohraničená podmnožina množiny reálnych čísel má reálne suprémum.“, t. j.

$$(AH) \quad \forall A \subset R, A \neq \emptyset: (\exists a \in R \forall x \in A: x \leq a) \Rightarrow \exists \alpha = \sup A \in R.$$

## 2.1.3 Dôsledky axióm operácií sčítania a násobenia

Z axióm operácií sčítania a násobenia vyplývajú mnohé dôsledky.

### Veta 2.1.1.K2-veta01

Pre všetky  $a, b, c \in R$  platí:

$$a) \quad a + b = a + c \Rightarrow b = c, \quad b) \quad -(-a) = a, \quad c) \quad -(a + b) = -a - b.$$

### Dôkaz.

a) Z axiómy (S4) vyplýva, že ku  $a$  existuje práve jedno opačné číslo  $-a$ .

Potom na základe axióm (S2), (S3) z rovnosti  $a + b = a + c$  platí:

$$b = 0 + b = (-a + a) + b = -a + (a + b) = -a + (a + c) = (-a + a) + c = 0 + c = c.$$

b) K číslu  $a$  existuje práve jedno opačné číslo  $-a \in R$  také, že  $0 = a + (-a)$ .

K číslu  $-a$  existuje práve jedno opačné číslo  $-(-a) \in R$  také, že  $0 = (-a) + [-(-a)]$ .

Z toho na základe časti a) vyplýva:

$$(-a) + a = a + (-a) = (-a) + [-(-a)], \quad \text{t. j.} \quad a = -(-a).$$

<sup>3</sup>Takýmto spôsobom môžeme definovať suprémum a infimum pre podmnožiny ľubovoľnej usporiadanej množiny.

c) Čísla  $a + b$ ,  $-a - b$  sú opačné, pretože platí:

$$-a - b + (a + b) = (-a) + (-b) + a + b = [(-a) + a] + [(-b) + b] = 0 + 0 = 0. \blacksquare$$

### Veta 2.1.2.K2-veta02

Pre všetky  $a, b, c \in R$  platí:

a) $ab = 0 \Leftrightarrow a = 0 \vee b = 0$ ,	b) $-a = (-1)a$ ,
c) $a(-b) = -ab$ ,	d) $ab = ac \Rightarrow b = c$ , ak $a \neq 0$ ,
e) $[a^{-1}]^{-1} = a$ , ak $a \neq 0$ ,	f) $(ab)^{-1} = a^{-1}b^{-1}$ , ak $a \neq 0, b \neq 0$ .

### Dôkaz.

a) Tvrdenie je ekvivalencia, takže musíme dokázať postačujúcu a nutnú podmienku.

$PP_{\Leftarrow}$ : Predpokladajme, že  $b = 0$ , potom na základe axióm (S3), (N3) a (D) platí:

$$a + 0 = a = a \cdot 1 = a \cdot (1 + 0) = a \cdot 1 + a \cdot 0 = a + a \cdot 0 = a + ab,$$

Z toho na základe vety 2.1.1 a) vyplýva  $0 = ab$ . Pre  $a = 0$  je dôkaz analogický.

$NP_{\Rightarrow}$ : Ak  $ab = 0$ ,  $a = 0$ , potom tvrdenie platí.

Nech  $ab = 0$ ,  $a \neq 0$ .

K číslu  $a$  existuje na základe axiómy (N4) obrátené číslo  $a^{-1} \neq 0$  také, že  $a^{-1}a = 1$ .

Z toho na základe axióm (N3), (N2) a časti a) vyplýva:

$$b = 1 \cdot b = (a^{-1}a) \cdot b = a^{-1}(a \cdot b) = a^{-1} \cdot 0 = 0.$$

b) Na základe (N3), (D) a časti a) platí:

$$(-1)a + a = (-1)a + 1 \cdot a = [(-1) + 1]a = 0 \cdot a = 0.$$

To znamená, že čísla  $a$ ,  $(-1)a$  sú opačné a platí  $-a = (-1)a$ .

c)  $a(-b) = a[(-1)b] = [(-1)a]b = (-1) \cdot (ab) = -ab$ .

d) Z axiómy (N4) vyplýva, že k číslu  $a \neq 0$  existuje práve jedno obrátené číslo  $a^{-1} \neq 0$ .

Potom po vynásobení číslom  $a^{-1}$  z rovnosti  $ab = ac$  vyplýva:

$$b = 1 \cdot b = (a^{-1}a)b = a^{-1}(ab) = a^{-1}(ac) = (a^{-1}a)c = 1 \cdot c = c.$$

e) K číslu  $a \neq 0$  existuje práve jedno obrátené číslo  $a^{-1} \neq 0$  také, že  $a^{-1}a = 1$ .

K číslu  $a^{-1}$  existuje tiež práve jedno obrátené číslo  $[a^{-1}]^{-1}$  také, že  $a^{-1}[a^{-1}]^{-1} = 1$ .

Potom na základe časti d) platí:

$$a^{-1}a = aa^{-1} = 1 = a^{-1}[a^{-1}]^{-1}, \quad \text{t.j. } a = [a^{-1}]^{-1}.$$

f) Čísla  $ab$ ,  $a^{-1}b^{-1}$  sú obrátené, pretože platí:

$$a^{-1}b^{-1}(ab) = a^{-1}b^{-1}ab = (a^{-1}a) \cdot (b^{-1}b) = 1 \cdot 1 = 1. \blacksquare$$

Medzi dôležité dôsledky axióm operácií sčítania a násobenia na množine reálnych čísel  $R$  patria existencia práve jedného riešenia  $x$  rovnice  $b+x = a$  a existencia práve jedného riešenia  $y$  rovnice  $by = a$ . Tieto vlastnosti nazývame **jednoznačná riešiteľnosť rovníc pre operáciu sčítania** a **jednoznačná riešiteľnosť rovníc pre operáciu násobenia**.

### Veta 2.1.3.K2-veta03

V množine  $R$  platí pre operácie sčítania a násobenia jednoznačná riešiteľnosť rovníc:

a) $\forall a, b \in R \exists! x \in R: b+x = a$ ,	b) $\forall a, b \in R, b \neq 0 \exists! y \in R: by = a$ .
---	--

### Dôkaz.

a) Ľahko sa presvedčíme priamym dosadením, že hľadaným číslom je  $x = a + (-b)$ :

$$b + x = b + [a + (-b)] = b + [(-b) + a] = [b + (-b)] + a = 0 + a = a.$$



Jednoznačnost (sporom).

Nech existujú  $x_1, x_2 \in R$ ,  $x_1 \neq x_2$  také, že  $b + x_1 = a = b + x_2$ . Z toho vyplýva spor:

$$x_1 = (-b + b) + x_1 = -b + (b + x_1) = -b + a = -b + (b + x_2) = (-b + b) + x_2 = x_2.$$

b) Hľadaným číslom je  $y = a \cdot b^{-1}$ , o čom sa tiež presvedčíme priamym dosadením:

$$by = b(ab^{-1}) = b(b^{-1}a) = (bb^{-1})a = 1 \cdot a = a.$$

Jednoznačnost (sporom).

Nech existujú  $y_1, y_2 \in R$ ,  $y_1 \neq y_2$  také, že  $by_1 = a = by_2$ . Z toho vyplýva spor:

$$y_1 = 1 \cdot y_1 = (b^{-1}b)y_1 = b^{-1}(by_1) = b^{-1}a = b^{-1}(by_2) = (b^{-1}b)y_2 = 1 \cdot y_2 = y_2. \blacksquare$$

Na základe vety 2.1.3 definujeme na množine  $R$  binárne operácie odčítanie a delenie dvoch čísel. Nech  $a, b \in R$ , potom symbolom „-“ (mínus) označujeme binárnu operáciu **odčítanie dvoch čísel**, ktorá číslu  $a$  (nazývame ho **menšenec**) a číslu  $b$  (**menšiteľ**) priradí číslo  $x \in R$  také, že  $b + x = a$ . Číslo  $x$  nazývame **rozdiel čísel  $a$  a  $b$**  a zapisujeme ho v tvare  $x = a + (-b)$  alebo  $x = a - b$ .

Nech  $a, b \in R$ ,  $b \neq 0$ . **Delením dvoch čísel** nazývame operáciu  $R \times (R - \{0\}) \rightarrow R$ , ktorá číslu  $a$  (nazývame ho **delenec**) a číslu  $b$  (nazývame ho **deliteľ**) priradí číslo  $y \in R$  také, že platí rovnosť  $by = a$ . Delenie dvoch čísel označujeme symbolom „:“ (delené) alebo symbolom „/“ (lomené). Číslo  $y$  nazývame **podiel čísel  $a$  a  $b$**  a zapisujeme ho niektorým z výrazov  $y = a \cdot b^{-1}$ ,  $y = a : b$  alebo  $y = a/b = \frac{a}{b}$ .

#### Veta 2.1.4.K2-veta04

Nech  $a, b, c, d \in R$ ,  $b \neq 0$ ,  $d \neq 0$ , potom: a)  $\frac{a}{b} = \frac{c}{d} \Leftrightarrow ad = bc$ , b)  $\frac{a}{b} + \frac{c}{d} = \frac{ad+bc}{bd}$ .

**Dôkaz.**

Ak použijeme axiómy (N1) — (N4), (D) a vetu 2.1.2, potom platí:

$$a) NP_{\Rightarrow}: ab^{-1} = cd^{-1} \implies ab^{-1}bd = cd^{-1}bd \implies ad = bc.$$

$$PP_{\Leftarrow}: ad = bc \implies adb^{-1}d^{-1} = bcb^{-1}d^{-1} \implies ab^{-1} = cd^{-1}.$$

$$b) (ad + bc) \cdot (bd)^{-1} = ad(bd)^{-1} + bc(bd)^{-1} = adb^{-1}d^{-1} + bcb^{-1}d^{-1} = ab^{-1} + cd^{-1}. \blacksquare$$

Podiel čísel  $a$  a  $b$ ,  $b \neq 0$  v tvare  $a/b = \frac{a}{b}$  nazývame **zlomok s čitateľom  $a$  a menovateľom  $b$** . Postup opísaný vo vete 2.1.4 b) sa nazýva **úprava dvoch zlomkov na spoločného menovateľa**.

#### • Množina prirodzených čísel

Čísla  $1, 2 = 1+1, 3 = 2+1, 4 = 3+1, \dots, n = (n-1)+1, \dots$  nazývame **prirodzené**.<sup>4</sup> Množinu, ktorá obsahuje všetky prirodzené čísla, nazývame **množina prirodzených čísel** a označujeme ju  $N$ . Symbolicky ju môžeme vyjadriť:

$$N = \{1, 2, 3, \dots, n, n+1, n+2, \dots\}.$$

Z predchádzajúcej konštrukcie prirodzených čísel vyplýva, že ak  $k$  je prirodzené číslo, potom aj  $k+1$  je prirodzené číslo. Na tomto princípe je založená matematická indukcia, s ktorou sme sa zaoberali v časti 1.2.3 na strane 17.

#### Poznámka 2.1.5.K2-poz05

V množine všetkých prirodzených čísel platia axiómy (S1), (S2), (N1), (N2), (N3) a (D). Ostatné axiómy v množine  $N$  neplatia. To znamená, že odčítanie a delenie nie sú operácie na množine  $N$ . Dokazujú to napríklad čísla  $1-2=-1$ , resp.  $\frac{1}{2}$ , ktoré nepatria do  $N$ .

<sup>4</sup>Niektorí matematici považujú aj číslo 0 za prirodzené číslo.

### • Množina celých čísel

**Celými číslami** nazývame čísla, ktoré sa dajú zapísať ako rozdiel dvoch prirodzených čísel. Množinu, ktorá obsahuje všetky celé čísla, nazývame **množina celých čísel** a označujeme ju znakom  $Z$ . Do množiny  $Z$  patria všetky prirodzené čísla, všetky čísla k nim opačné a číslo 0. To znamená, že platí:

$$Z = \{m - n; m, n \in N\} = \{0, \pm 1, \pm 2, \pm 3, \dots, \pm n, \dots\}.$$

Symbol  $\pm n$  vyjadruje číslo  $n$  a zároveň opačné číslo  $-n$ . V praxi sa používa tiež symbol  $\mp n$ , ktorý vyjadruje číslo  $-n$  a opačné číslo  $n$ . Takže namiesto dvoch rovností  $n \cdot (-1) = -n$  a  $-n \cdot (-1) = n$ , píšeme skrátene  $\pm n \cdot (-1) = \mp n$ .

#### Poznámka 2.1.6.K2-poz07

V množine celých čísel platia axiómy platné v množine prirodzených čísel, t. j. axiómy (S1), (S2), (N1), (N2), (N3), (D) a navyše axiómy (S3), (S4).

Axióma (N4) v množine  $Z$  neplatí, pretože delenie nie je operácia na množine  $Z$ .

### • Množina racionálnych čísel

V množine celých čísel  $Z$  nie je pre  $m, n \in Z$ ,  $n \neq \pm 1$  definovaný podiel  $\frac{m}{n}$ . Každé číslo, ktoré sa dá vyjadriť ako podiel dvoch celých čísel  $\frac{m}{n}$ ,  $n \neq 0$ , nazývame **racionálne číslo**. Množinu, ktorá obsahuje všetky racionálne čísla nazývame **množina racionálnych čísel** a označujeme symbolom  $Q$ .

Čísla, ktoré nie sú racionálne, nazývame **iracionálne**. Medzi iracionálne čísla patria napríklad  $\sqrt{2}$ ,  $\sqrt{3}$ ,  $\pi$ . Množinu obsahujúcu všetky iracionálne čísla nazývame **množina iracionálnych čísel** a označujeme symbolom  $I$ . Potom platí:

$$Q = \left\{ \frac{m}{n}; m, n \in Z, n \neq 0 \right\}, \quad I = R - Q.$$

Je zrejmé, že podiel dvoch racionálnych čísel s nenulovým menovateľom je opäť racionálne číslo. Racionálne číslo môže mať viacero rôznych vyjadrení, napr.  $0,5 = \frac{3}{6} = \frac{1}{2} = \frac{0,7}{1,4}$ .

#### Poznámka 2.1.7.K2-poz08

V množine racionálnych čísel platia axiómy (S1) — (S4), (N1) — (N4), (D).

Je zrejmé, že platí  $Q = \left\{ \frac{m}{n}; m, n \in Z, n \neq 0 \right\} = \left\{ \frac{m}{n}; m \in Z, n \in N \right\}$ .<sup>5</sup>

#### Príklad 2.1.2.K2-pr02

Dokážte, že  $\sqrt{2}$  je iracionálne číslo.

#### Riešenie.

Dokážeme sporom.

Nech  $\sqrt{2}$  je racionálne číslo, t. j.  $\sqrt{2} = \frac{m}{n}$ , kde  $m, n \in N$  sú nesúdeliteľné čísla. Potom  $2 = \frac{m^2}{n^2}$ , t. j.  $2n^2 = m^2$ . To znamená, že  $2|m$ , t. j.  $m = 2k$ , kde  $k \in N$ . Z toho vyplýva  $2n^2 = m^2 = 4k^2$ , resp.  $n^2 = 2k^2$ . To znamená, že  $2|n$ . Takže čísla  $m, n$  sú súdeliteľné číslom 2. To je spor, z ktorého vyplýva  $\sqrt{2} \notin Q$ . ■

## 2.1.4 Dôsledky axióm usporiadania

Každá podmnožina usporiadanej množiny je tiež usporiadaná. To znamená, že aj množiny  $N, Z, Q, I = R - Q$  sú usporiadané. Na týchto množinách platia aj ostatné axiómy usporiadania.

<sup>5</sup>Ak  $m > 0$ , potom  $m \in N$ . Ak  $m < 0$ , potom  $-m \in N$  a  $\frac{m}{n} = \frac{-m}{-n}$ , kde  $-n \in Z$ , t. j. tvrdenie platí.

**Veta 2.1.5.K2-veta05**

Nech  $A \in R$ ,  $a \neq 0$ , potom  $-a \neq 0$  a práve jedno z čísel  $a$ ,  $-a$  je kladné a druhé záporné.

**Dôkaz.**

Z (U1) vyplýva, že platí práve jeden vzťah  $a < 0$ ,  $0 < a$ . Potom na základe (U4) platí:

$$a < 0 \Rightarrow a + (-a) < 0 + (-a) \Rightarrow 0 < -a, \quad 0 < a \Rightarrow 0 + (-a) < a + (-a) \Rightarrow -a < 0. \blacksquare$$

**Veta 2.1.6.K2-veta15**

Ak  $a \in R$ ,  $a > 0$ , potom aj  $a^{-1} > 0$ .

**Dôkaz.**

Sporom. Nech platí  $a > 0$ ,  $a^{-1} \leq 0$ .

Ak  $a^{-1} = 0$ , potom dostávame spor  $1 = a^{-1}a = 0 \cdot a = 0$ .

Ak  $a^{-1} < 0$ , potom z (U5) vyplýva spor  $1 = a^{-1}a < 0 \cdot a = 0$ . ■

**Veta 2.1.7.K2-veta13**

Ak  $a, b \in R$ ,  $a \leq b$ ,  $b \leq a$ , potom platí  $a = b$ .

**Dôkaz.**

Sporom. Nech platí  $a \leq b$ ,  $b \leq a$  a zároveň  $a \neq b$ .

To znamená, že platí  $a < b$  a zároveň  $b < a$ . Lenže to je spor s axiómou (U1). ■

**Veta 2.1.8.K2-veta06**

Nech  $a, b \in R$ , potom platí:  $a < b \iff 0 < b - a \iff -b < -a \iff a - b < 0$ .

**Dôkaz.**

Veta predstavuje 6 ekvivalencií, čo prakticky znamená 12 implikácií. Ak uvážime zákon hypotetického syllogizmu (str.7), potom nám stačí dokázať 4 implikácie:

$$a < b \Rightarrow 0 < b - a \Rightarrow -b < -a \Rightarrow a - b < 0 \Rightarrow a < b.$$

Dôkaz týchto štyroch implikácií je uvedený v nasledujúcej schéme.

$$\begin{array}{ccccc} a < b & \implies & a + (-a) < b + (-a) & \implies & 0 < b - a \\ \uparrow & & & & \downarrow \\ a - b + b < 0 + b & & & & 0 + (-b) < b - a + (-b) \\ \uparrow & & & & \downarrow \\ a - b < 0 & \iff & -b + a < -a + a & \iff & -b < -a. \blacksquare \end{array}$$

**Dôsledok 2.1.8.a.K2-dosl01**

Nech  $a, b \in R$ , potom platí:  $a \leq b \iff 0 \leq b - a \iff -b \leq -a \iff a - b \leq 0$ .

**Veta 2.1.9.K2-veta07**

Nech  $a, b \in R$ , potom platia nasledujúce implikácie:

$$\text{a) } 0 < a, 0 < b \Rightarrow 0 < ab, \quad \text{b) } a < 0, b < 0 \Rightarrow 0 < ab, \quad \text{c) } a < 0 < b \Rightarrow ab < 0.$$

**Dôkaz.**

Dôkaz je založený na axióme (U5) a vete 2.1.5.

$$\text{a) } 0 < a, 0 < b \implies 0 \cdot b < ab \implies 0 < ab.$$

$$\text{b) } a < 0, b < 0 \implies a < 0, 0 < -b \implies a(-b) < 0 \cdot (-b) \implies -ab < 0 \implies 0 < ab.$$

$$\text{c) } a < 0, 0 < b \implies ab < 0 \cdot b \implies ab < 0. \blacksquare$$

**Poznámka 2.1.8.K2-poz04**

Ak vo vete 2.1.9 a v nasledujúcich vetách nahradíme v predpokladoch ostré nerovnosti  $<$  neostrými nerovnosťami  $\leq$ , potom aj v tvrdeniach budú neostré nerovnosti. Uvedieme ich ako dôsledky bez dôkazov a doporučujeme ich čitateľovi vykonať ako cvičenie.

Takže napríklad z  $0 \leq a$ ,  $0 \leq b$  vyplýva  $0 \leq ab$ , ale aj z  $0 \leq a$ ,  $0 < b$  vyplýva  $0 \leq ab$ .

**Dôsledok 2.1.9.a.K2-dosl02**

Nech  $a, b \in R$ , potom platia nasledujúce implikácie:

- |  |   |  |
|--|---|--|
| a) $a < 0, 0 \leq b \Rightarrow ab \leq 0,$    | b) $a \leq 0, 0 < b \Rightarrow ab \leq 0,$ | c) $a \leq 0, 0 \leq b \Rightarrow ab \leq 0,$ |
| d) $0 \leq a, 0 \leq b \Rightarrow 0 \leq ab,$ | e) $0 \leq a, 0 < b \Rightarrow 0 \leq ab,$ | f) $a \leq 0, b \leq 0 \Rightarrow 0 \leq ab,$ |
|  | g) $a \leq 0, b < 0 \Rightarrow 0 \leq ab.$ |  |

**Veta 2.1.10.K2-veta08**

Nech  $a, b, c, d \in R$ ,  $a < b$ , potom: a)  $c < d \Rightarrow a + c < b + d,$  b)  $c < 0 \Rightarrow bc < ac.$

**Dôkaz.**

a) Na základe (U4) platí:  $\left. \begin{array}{l} a < b \Rightarrow a + c < b + c \\ c < d \Rightarrow c + b < d + b \end{array} \right\} \xrightarrow{(S1), (U2)} a + c < b + c < b + d.$

b)  $c < 0 \Rightarrow -c > 0 \xrightarrow{(U5)} a(-c) < b(-c) \Rightarrow -ac < -bc \xrightarrow{\text{veta 2.1.8}} bc < ac. \blacksquare$

**Dôsledok 2.1.10.a.K2-dosl03**

Ak  $a, b, c, d \in R$ ,  $a \leq b$ , potom: a)  $c < d \Rightarrow a + c < b + d,$  b)  $0 < c \Rightarrow ac \leq bc,$   
c)  $c \leq d \Rightarrow a + c \leq b + d,$  d)  $c < 0 \Rightarrow bc \leq ac.$

**Veta 2.1.11.K2-veta14**

Ak  $a, b, c, d \in R$ ,  $0 < a < b$ , potom: a)  $0 < c < d \Rightarrow ac < bd,$  b)  $d < c < 0 \Rightarrow bd < ac.$

**Dôkaz.**

a) Na základe (U5) platí:  $\left. \begin{array}{l} a < b, 0 < c \Rightarrow ac < bc \\ c < d, 0 < b \Rightarrow cb < db \end{array} \right\} \xrightarrow{(N1), (U2)} ac < bc < bd.$

b)  $d < c < 0 \xrightarrow{\text{veta 2.1.8}} 0 < -c < -d \xrightarrow{a)} -ac < -bd \xrightarrow{\text{veta 2.1.8}} bd < ac. \blacksquare$

**Dôsledok 2.1.11.a.K2-dosl07**

Ak  $a, b, c, d \in R$ ,  $b < a < 0$ ,  $d < c < 0$ , potom platí nerovnosť  $ac < bd.$

**Dôsledok 2.1.11.b.K2-dosl04**

Ak  $a, b, c, d \in R$ ,  $0 < a \leq b$ , potom: a)  $0 < c \leq d \Rightarrow ac \leq bd,$  b)  $d \leq c < 0 \Rightarrow bd \leq ac,$   
c)  $0 < c < d \Rightarrow ac < bd,$  d)  $d < c < 0 \Rightarrow bd < ac.$

**Dôsledok 2.1.11.c.K2-dosl08**

Ak  $a, b, c, d \in R$ ,  $b \leq a < 0$ , potom: a)  $d < c < 0 \Rightarrow ac < bd,$  b)  $d \leq c < 0 \Rightarrow ac \leq bd.$

**Poznámka 2.1.9.K2-poz25**

Ak vynecháme vo vete 2.1.11 predpoklad  $0 < a$ , potom veta neplatí.

Položme napríklad  $a = -6$ ,  $b = -2$ , potom pre rôzne hodnoty  $0 < c < d$  platí:

$$c = 1, d = 6 \Rightarrow ac > bd, \quad c = 2, d = 6 \Rightarrow ac = bd, \quad c = 1, d = 2 \Rightarrow ac < bd.$$

**Veta 2.1.12.K2-veta09**

Nech  $a, b \in R$ ,  $a > 0$ ,  $b > 0$ , potom:  $a < b \iff 1 < \frac{b}{a} \iff \frac{1}{b} < \frac{1}{a} \iff \frac{a}{b} < 1$ .

**Dôkaz.**

Analogicky, ako pri dôkaze vety 2.1.8, pre  $a > 0$ ,  $b > 0$  platí:

$$\begin{array}{ccccc} a < b & \implies & aa^{-1} < ba^{-1} & \implies & 1 < ba^{-1} \\ \uparrow & & & & \downarrow \\ b^{-1}a & b < 1 \cdot b & & & 1 \cdot b^{-1} < ba^{-1} b^{-1} \\ \uparrow & & & & \downarrow \\ b^{-1}a < 1 & \iff & b^{-1}a < a^{-1}a & \iff & b^{-1} < a^{-1}. \blacksquare \end{array}$$

**Dôsledok 2.1.12.a.K2-dosl05**

Nech  $a, b \in R$ ,  $a > 0$ ,  $b > 0$ , potom:  $a \leq b \iff 1 \leq \frac{b}{a} \iff \frac{1}{b} \leq \frac{1}{a} \iff \frac{a}{b} \leq 1$ .

**Veta 2.1.13.K2-veta18**

Nech  $a \in R$ ,  $a \geq 0$  je také, že pre všetky  $\varepsilon > 0$  platí  $a < \varepsilon$ . Potom  $a = 0$ .

**Dôkaz.**

Sporom. Nech  $a > 0$ . Položme  $\varepsilon = a$ , potom  $a < a$ , čo je spor s axiómou (U3). ■

**2.1.5 Dôsledky axiómy o najmenšom hornom ohraničení**

Čitateľovi sa môže zdať, že axióma (AH) platí v ľubovoľnej usporiadanej množine. Ale ako dokazuje príklad 2.1.5, opak je pravdou. Predtým ako sformulujeme niektoré dôsledky axiómy (AH), uvedieme vetu 2.1.14, ktorá vyjadruje vzťah medzi maximom a suprémom, resp. medzi minimom a infimom množiny.

**Príklad 2.1.3.K2-pr07**

Množina všetkých prirodzených čísel  $N$  je zhora neohraničená, t. j. nie je ohraničená zhora a nie je ohraničená.

**Riešenie.**

Sporom. Nech je množina  $N$  zhora ohraničená a nech  $\sup A = \alpha \in R$ .

Potom  $\alpha - 1$  nie je horným ohraničením množiny  $N$  a existuje  $n \in N$  také, že  $\alpha - 1 < n$ .

Z toho vyplýva  $\alpha < n + 1$ . To je spor s  $\alpha = \sup N$ , pretože  $n + 1 \in N$ . ■

**Veta 2.1.14.K2-veta21**

Nech  $A \subset R$ ,  $A \neq \emptyset$ , potom platí: a) Ak existuje  $\max A$ , potom  $\max A = \sup A$ .  
b) Ak existuje  $\min A$ , potom  $\min A = \inf A$ .

**Dôkaz.**

a) Keďže  $\max A \in A$ , potom z vlastnosti i) supréma vyplýva  $\max A \leq \sup A$ .

Keďže  $\max A$  je horné ohraničenie  $A$ , z vlastnosti ii) vyplýva  $\sup A \leq \max A$ .

b) Dôkaz je analogický ako v časti a). ■

Nech  $A \subset R$ , potom symbolom  $-A$  označujeme množinu, ktorá obsahuje opačné čísla k číslam množiny  $A$ , t. j.  $-A = \{-x; x \in A\} = \{x; -x \in A\}$ .

**Veta 2.1.15.K2-veta10**

Nech  $A \subset R$ ,  $A \neq \emptyset$ , potom  $\alpha = \sup A$  práve vtedy, ak  $-\alpha = \inf(-A)$ .

**Dôkaz.**

$NP_{\Rightarrow}$ : Nech  $\alpha = \sup A$ . To znamená, že platia podmienky:

- i)  $\forall x \in A: x \leq \alpha$ ,                      ii)  $\forall b \in R: (\forall x \in A: x \leq b) \Rightarrow \alpha \leq b$ .

Potom na základe vety 2.1.8 a poznámky 2.1.8 platí:

- i)  $\forall x \in A: -\alpha \leq -x$ ,                      ii)  $\forall b \in R: (\forall x \in A: -b \leq -x) \Rightarrow -b \leq -\alpha$ .

Označme  $-x = y$ ,  $-b = c$ , potom vzťah  $x \in A$  znamená  $y \in (-A)$ . Takže platí:

- i)  $\forall y \in (-A): -\alpha \leq y$ ,                      ii)  $\forall c \in R: (\forall y \in (-A): c \leq y) \Rightarrow c \leq -\alpha$ .

Posledné dva vzťahy znamenajú, že  $-\alpha = \inf(-A)$ .

$PP_{\Leftarrow}$ : Dôkaz je analogický ako pri  $NP_{\Rightarrow}$  a odporúčame ho čitateľovi ako cvičenie. ■

**Veta 2.1.16.K2-veta11**

Nech množina  $A \subset R$ ,  $A \neq \emptyset$  je zdola ohraničená, potom existuje  $\beta = \inf A \in R$ , pričom  $\beta = -\sup(-A)$ .

**Dôkaz.**

Množina  $A$  je zdola ohraničená, t. j. existuje  $a \in R$ , že pre všetky  $x \in A$  platí  $a \leq x$ .

Potom podľa vety 2.1.8 a poznámky 2.1.8 pre všetky  $x \in A$  platí  $-x \leq -a$ .

Takže  $-A$  je zhora ohraničená, existuje  $\alpha = \sup(-A) \in R$  a podľa vety 2.1.15 platí:

$$\beta = \inf A = -\alpha = -\sup(-A). \blacksquare$$

**Veta 2.1.17.K2-veta12**

Nech  $A \subset R$ ,  $A \neq \emptyset$ , potom existuje najviac jedno  $\sup A$  a najviac jedno  $\inf A$ .

**Dôkaz.**

Vetu dokážeme sporom. Nech  $\alpha_1 = \sup A$ ,  $\alpha_2 = \sup A$ , pričom  $\alpha_1 \neq \alpha_2$ .

Keďže  $\alpha_1, \alpha_2$  sú horné ohraničenia množiny  $A$ , potom z vlastnosti ii) supréma vyplýva:

$$\alpha_1 = \sup A \leq \alpha_2, \quad \alpha_2 = \sup A \leq \alpha_1, \quad \text{t. j. } \alpha_1 = \alpha_2.$$

Druhá časť vety, že množina  $A$  má najviac jedno infimum, sa dokáže analogicky. ■

**Veta 2.1.18.K2-veta16**

Nech  $A \subset R$ ,  $B \subset R$  sú neprázdne množiny a nech  $A \subset B$ .

a) Ak  $A, B$  sú zhora ohraničené, potom  $\sup A \leq \sup B$ .

b) Ak  $A, B$  sú zdola ohraničené, potom  $\inf B \leq \inf A$ .

**Dôkaz.**

a) Z axiómy (AH) vyplýva, že  $\sup A \in R$ ,  $\sup B \in R$ .

Keďže je  $\sup B$  horným ohraničením  $B$ , musí byť tiež horným ohraničením  $A$ .

Potom z vlastnosti ii) supréma vyplýva  $\sup A \leq \sup B$ .

b) Na základe vety 2.1.16 platí  $\inf A \in R$ ,  $\inf B \in R$ .

Keďže  $A \subset B$ , potom  $\inf B$  je dolné ohraničenie množiny  $A$  a platí  $\inf B \leq \inf A$ . ■

**Veta 2.1.19.K2-veta17**

Nech  $A \subset R$ ,  $B \subset R$  sú neprázdne množiny a nech pre všetky  $a \in A$ ,  $b \in B$  platí  $a \leq b$ . Potom je množina  $A$  zhora ohraničená,  $B$  zdola ohraničená a platí  $\sup A \leq \inf B$ .

**Dôkaz.**

Z predpokladov vety vyplýva, že každé  $a \in A$  je dolným ohraničením množiny  $B$ .  
 To znamená, že  $B$  je zdola ohraničená,  $\inf B \in \mathbb{R}$  a pre každé  $a \in A$  platí  $a \leq \inf B$ .  
 Je zrejmé, že  $\inf B$  je horným ohraničením množiny  $A$ .  
 To znamená, že je  $A$  zhora ohraničená a platí  $\sup A \leq \inf B$ . ■

Niekedy sa môžeme stretnúť s definíciou suprema a infima reálnej množiny ekvivalentným spôsobom, ako je to uvedené v nasledujúcich vetách 2.1.20 a 2.1.21. V takto definovanej teórii sa naše definície suprema a infima stávajú vetami.

**Veta 2.1.20.K2-veta19**

Nech  $A \subset \mathbb{R}$ ,  $A \neq \emptyset$ . Potom  $\alpha \in \mathbb{R}$  je supremum množiny  $A$  práve vtedy, ak platí:

$$i') \forall x \in A: x \leq \alpha, \quad ii') \forall \varepsilon > 0 \exists x_0 \in A: \alpha - \varepsilon < x_0.$$

**Dôkaz.**

Vlastnosť i) z definície suprema množiny je identická s vlastnosťou ii').

$NP \Rightarrow$ : Sporom. Nech  $\alpha = \sup A$  a nech neplatí vlastnosť ii').

Potom existuje  $\varepsilon_0 > 0$  také, že pre všetky  $x_0 \in A$  platí nerovnosť  $\alpha - \varepsilon_0 \geq x_0$ .

To znamená, že  $\alpha - \varepsilon_0$  je horné ohraničenie množiny  $A$  a platí  $\alpha = \sup A \leq \alpha - \varepsilon_0$ .

Z toho vyplýva  $0 \leq -\varepsilon_0$ , t. j.  $\varepsilon_0 \leq 0$ , čo je spor s predpokladom  $\varepsilon_0 > 0$ .

$PP \Leftarrow$ : Sporom. Nech platí ii') a neplatí vlastnosť i) suprema.

Potom existuje horné ohraničenie  $b_0 \in \mathbb{R}$  množiny  $A$ , pre ktoré  $b_0 < \alpha$ , t. j.  $\alpha - b_0 > 0$ .

Ak zvolíme  $\varepsilon_0 = \alpha - b_0$ , potom existuje  $x_0 \in A$ , pre ktoré platí  $\alpha - \varepsilon_0 < x_0$ .

Z toho vyplýva  $x_0 > \alpha - \varepsilon_0 = \alpha - (\alpha - b_0) = b_0$ .

To je spor, pretože  $x_0 \in A$  a  $b_0$  je horné ohraničenie  $A$ . ■

**Veta 2.1.21.K2-veta20**

Nech  $A \subset \mathbb{R}$ ,  $A \neq \emptyset$ . Potom  $\beta \in \mathbb{R}$  je infimum množiny  $A$  práve vtedy, ak platí:

$$i') \forall x \in A: \beta \leq x, \quad ii') \forall \varepsilon > 0 \exists x_0 \in A: x_0 < \beta + \varepsilon.$$

**Dôkaz.**

Dôkaz je analogický ako dôkaz vety 2.1.20. ■

**2.1.6 Niektoré ďalšie dôsledky axióm reálnych čísel**• **Rozšírená množina reálnych čísel**

Aj keď je množina reálnych čísel  $\mathbb{R}$  nekonečná, všetky jej prvky sú konečné, pretože pod pojmom číslo rozumieme **konečné číslo**. To znamená, že počet prvkov množiny nemôžeme vyjadriť číslom. Preto má zmysel rozšíriť množinu  $\mathbb{R}$  o prvky **mínus nekonečno** a **(plus) nekonečno**, ktoré označujeme symbolmi  $-\infty$  a  $\infty$ . Túto množinu nazývame **rozšírená množina reálnych čísel** a značíme symbolom  $\mathbb{R}^* = \mathbb{R} \cup \{-\infty, \infty\}$ .

Operácie sčítania, odčítania, násobenia, delenia a reláciu usporiadania  $<$ , ktoré sme definovali pre reálne čísla, môžeme rozšíriť aj pre prvky množiny  $\mathbb{R}^*$ . Pre všetky  $a \in \mathbb{R}$  platí:

$$-\infty < \infty, \quad -\infty < a < \infty.$$

Pre všetky  $a, b \in \mathbb{R}$ ,  $b > 0$  definujeme výrazy:

$$\infty + \infty = \infty, \quad -\infty - \infty = -\infty, \quad a \pm \infty = \pm\infty,$$



$$\pm\infty \cdot \infty = \pm\infty, \quad -\infty \cdot (-\infty) = \infty, \quad \pm b \cdot \infty = \pm\infty, \quad \pm b \cdot (-\infty) = \mp\infty,$$

$$\frac{a}{\pm\infty} = 0, \quad \frac{\infty}{\pm b} = \pm\infty, \quad \frac{-\infty}{\pm b} = \mp\infty.$$

a nedefinujeme výrazy:<sup>6</sup>

$$\infty - \infty, \quad \pm\infty \cdot 0, \quad \frac{\pm\infty}{\infty}, \quad \frac{\infty}{\pm\infty}, \quad \frac{\pm\infty}{0}, \quad \frac{a}{0}.$$

### Poznámka 2.1.10.K2-poz14

Je zrejmé, že všetky axiómy zostávajú v platnosti aj v množine  $R^*$ . Ale uvažovať o ich platnosti má význam iba v prípade, keď všetky príslušné výrazy sú definované. Napríklad pre všetky  $a \in R$  platí rovnosť  $a - \infty = -\infty + a = -\infty$ , ale nemá význam uvažovať o platnosti rovnosti  $\infty - \infty = -\infty + \infty$ .

Uvažujme množinu  $A \subset R^*$ ,  $A \neq \emptyset$ . Ak je množina zhora ohraničená (konečným) reálnym číslom, potom na základe axiómy (AH) existuje  $\alpha = \sup A \in R$ . V opačnom prípade definujeme  $\sup A = \infty$ .

Ak je množina  $A \subset R^*$ ,  $A \neq \emptyset$  ohraničená zdola (konečným) reálnym číslom, potom na základe vety 2.1.16 existuje  $\beta = \inf A \in R$ . V opačnom prípade definujeme  $\inf A = -\infty$ .

Z týchto úvah vyplýva nasledujúce tvrdenie.

### Veta 2.1.22.K2-veta22

Pre každú neprázdnu množinu  $A \subset R^*$  existuje  $\inf A \in R^*$  a  $\sup A \in R^*$ .

### Poznámka 2.1.11.K2-poz15

Ak  $A = \emptyset$ , potom každé  $a \in R^*$  je horným a zároveň aj dolným ohraničením množiny  $\emptyset$ . To znamená, že najmenšie z horných ohraničení prázdnej množiny je  $-\infty$  a najväčšie z jej dolných ohraničení je  $\infty$ , t. j. platí  $\sup \emptyset = -\infty$ ,  $\inf \emptyset = \infty$ .

## • Intervaly

Najčastejšími množinami, s ktorými sa stretávame v matematickej analýze sú intervaly a ich konečné, resp. nekonečné zjednotenia. Nech  $a, b \in R$ ,  $a < b$ , potom **ohraničenými intervalmi s krajnými bodmi  $a$  a  $b$  (s ľavým krajným bodom  $a$  a pravým krajným bodom  $b$ )** nazývame množiny:

$$\begin{aligned} \langle a; b \rangle &= \{x \in R; a \leq x \leq b\}, && \text{uzavretý interval,} \\ \langle a; b \rangle &= \{x \in R; a \leq x < b\}, && \text{zľava uzavretý a sprava otvorený interval,}^7 \\ (a; b) &= \{x \in R; a < x \leq b\}, && \text{zľava otvorený a sprava uzavretý interval,} \\ (a; b) &= \{x \in R; a < x < b\}, && \text{otvorený interval.} \end{aligned}$$

Ak  $I$  je ohraničený interval, potom **dĺžkou intervalu  $I$**  nazývame číslo  $d(I) = b - a$ .

**Neohraničenými intervalmi s krajným bodom  $a \in R$** <sup>8</sup> nazývame množiny:

$$\begin{aligned} (-\infty; a) &= \{x \in R; x \leq a\}, && (a; \infty) = \{x \in R; a \leq x\}, \\ (-\infty; a) &= \{x \in R; x < a\}, && (a; \infty) = \{x \in R; a < x\}. \end{aligned}$$

Množinu  $R$  zvykneme zapisovať ako neohraničený interval  $(-\infty; \infty) = \{x \in R\} = R$ .

### Poznámka 2.1.12.K2-poz18

Intervaly v zmysle predchádzajúcej definície nazývame **nedegenerované**.

Ak sa krajné body  $a, b$  rovnajú, potom môžeme písať:

$$\langle a; a \rangle = \{x \in R; a \leq x \leq a\} = \{a\}, \quad \text{resp.} \quad (a; a) = \{x \in R; a < x < a\} = \emptyset.$$

To znamená, že množiny  $\{a\}$  a  $\emptyset$  môžeme považovať za intervaly. Nazývame ich **degenerované intervaly**. Pokiaľ nebude povedané ináč, budeme pod pojmom interval rozumieť nedegenerovaný interval.

<sup>6</sup>Nazývajú sa **neurčité výrazy** a bližšie sa im venujeme na strane 268.

<sup>7</sup>Intervaly  $\langle a; b \rangle$  a  $(a; b)$  stručne nazývame **polouzavreté**, resp. **polootvorené**.

<sup>8</sup>S ľavým, resp. pravým krajným bodom  $a$ .



- **Princíp súvislosti**

Usporiadaná množina  $M \neq \emptyset$  sa nazýva **husto usporiadaná**, ak pre všetky prvky  $a, b \in M$ ,  $a < b$  existuje prvok  $c \in M$  taký, že  $a < c < b$ .

**Veta 2.1.23.K2-veta23**

Množina  $R$  je husto usporiadaná, t. j. pre všetky  $a, b \in R$ ,  $a < b$  existuje  $c \in R$ , že  $a < c < b$ .

**Dôkaz.**

Nech  $a, b \in R$ ,  $a < b$ , potom stačí položiť napríklad  $c = \frac{a+b}{2}$ . ■

**Poznámka 2.1.13.K2-poz16**

Množina racionálnych čísel  $Q$  je tiež husto usporiadaná. Lenže z príkladu 2.1.2 vyplýva, že medzi dvomi racionálnymi číslami môžu existovať (a aj existujú) medzery, ktoré vypĺňajú iracionálne čísla. Geometricky si to môžeme predstaviť tak, že ak bude bod prebiehať číselnou osou iba po racionálnych číslach, potom jeho pohyb nebude „spojitý“ (súvislý).<sup>9</sup>

Predtým ako uvedieme priamku ako geometrický model množiny reálnych čísel, musíme sformulovať princíp súvislosti. V niektorých axiomatických teóriách reálnych čísel sa považuje za axiómu a nahrádza axiómu (AH). Vtedy sa nazýva **axióma súvislosti**.

Nech  $M \neq \emptyset$  je husto usporiadaná. Množina  $A \subset M$  sa nazýva **súvislá**, ak pre všetky  $a, b \in A$ ,  $a < b$ , platí  $\{x \in M; a \leq x \leq b\} \subset A$ . Z toho vyplýva, že množina  $A \subset R$  sa nazýva **súvislá**, ak pre všetky  $a, b \in A$ ,  $a < b$ , platí  $\langle a; b \rangle \subset A$ .

**Poznámka 2.1.14.K2-poz17**

Z definície vyplýva, že každý interval v množine  $R$  je súvislá množina.

Množiny  $N$ ,  $Z$ ,  $Q$ ,  $I$  a všetky ich podmnožiny nie sú súvislé.

**Veta 2.1.24 (Princíp súvislosti).K2-veta24**

Ak  $A \subset R$  je súvislá množina a obsahuje aspoň dva rôzne body, potom  $A$  je interval.

**Dôkaz.**

Sporom. Nech  $A$  je súvislá, obsahuje aspoň dva body a nie je interval.

Keďže  $A$  nie je interval, potom existujú  $a, b \in A$ ,  $c \notin A$  také, že  $a < c < b$ .

Keďže  $A$  je súvislá, potom  $\langle a; b \rangle \subset A$ . Lenže to znamená, že  $c \notin R$ .

V prípade  $c \in R$  by na základe súvislosti platilo  $c \in \langle a; b \rangle \subset A$ , t. j. spor  $c \in A$ .

Označme  $A_c = \{x \in R; x \leq c\}$ . Je zrejmé, že  $\sup A_c = c$ .

Množina  $A_c$  je neprázdna, pretože  $a \in A_c$  a je zhora ohraničená prvkom  $b$ .

Potom na základe (AH) platí  $\sup A_c = c \in R$ , čo je spor.


To znamená, že množina  $A$  je interval. ■

Teraz už môžeme reprezentovať množinu  $R$  priamkou. Zvoľme v rovine priamku  $p$  a na nej dva body  $O, J$  tak, aby vzdialenosť  $|OJ| = 1$ . Každému bodu  $P \in p$  priradíme práve jedno reálne číslo  $x_P$  nasledujúcim spôsobom. Ak bod  $P$  leží na polpriamke  $OJ$ , potom mu priradíme číslo  $x_P = |OP|$ . Ak bod  $P$  neleží na polpriamke  $OJ$ , tak mu priradíme číslo  $x_P = -|OP|$ . Je zrejmé, že  $x_O = 0$  a  $x_J = 1$ .

Takto definované zobrazenie je bijektívne zobrazenie množiny bodov priamky  $p$  do množiny reálnych čísel, ktoré zachováva reláciu usporiadania  $<$ . Priamku  $p$  nazývame **reálna číselná os**, bod  $O$  **nulový bod** a bod  $J$  **jednotkový bod** (obr. 2.1.1).<sup>10</sup>

<sup>9</sup>Z geometrie vieme, že jedinými súvislými podmnožinami priamky  $p$  sú priamka  $p$ , úsečka a polpriamka (vrátane alebo bez krajných bodov). V geometrii na priamke  $p$  chápeme súvislosť množiny tak, že s každými dvomi bodmi obsahuje aj úsečku medzi nimi.

<sup>10</sup>Na tejto reprezentácii je založená analytická geometria.



Obr. 2.1.1: Reálna číselná os.

- **Archimedov princíp a jeho dôsledky**

Archimedov princíp sa zvykne tiež nazývať Archimedova vlastnosť reálnych čísel a je dôležitým dôsledkom axiómy o najmenšom hornom ohraničení (AH). V niektorých teóriách sa Archimedov princíp spolu s Cantorovým princípom (veta 2.1.31) považujú za axiómy. V tomto prípade je axióma (AH) dokazovaná ako veta.

**Veta 2.1.25 (Archimedov princíp).K2-veta35**

Nech  $a \in \mathbb{R}$ ,  $x \in \mathbb{R}$ ,  $x > 0$ , potom existuje  $k \in \mathbb{Z}$  také, že  $kx \leq a < (k+1)x$ .

**Dôkaz.**

Najprv dokážeme, že existuje  $p \in \mathbb{Z}$ , pre ktoré platí  $px \leq a$ .

Sporom. Nech pre všetky  $n \in \mathbb{Z}$  platí  $a < nx$ .

To znamená, že  $P = \{nx; n \in \mathbb{Z}\}$  je zdola ohraničená číslom  $a$  a existuje  $\beta = \inf P \in \mathbb{R}$ .

Potom existuje  $n_0 x \in A$ ,  $n_0 \in \mathbb{Z}$  také, že platí:

$$\beta \leq n_0 x < \beta + x, \quad \text{t. j. } n_0 x - x = (n_0 - 1)x < \beta.$$

Keďže  $n_0 - 1 \in \mathbb{Z}$ , potom  $(n_0 - 1)x \in P$ . To je spor s predpokladom  $\beta = \inf P$ .

To znamená, že  $a$  nie je dolným ohraničením  $P$  a existuje  $p \in \mathbb{Z}$  také, že  $px \leq a$ .

Analogicky existuje  $q \in \mathbb{Z}$ , pre ktoré platí  $a < qx$ . Je zrejmé, že  $p < q$ .

Interval  $\langle px; qx \rangle$  rozdelíme pomocou čísel  $p, p+1, \dots, q$  na konečný počet intervalov

$$\langle px; (p+1)x \rangle, \quad \langle (p+1)x; (p+2)x \rangle, \quad \dots, \quad \langle (q-1)x; qx \rangle.$$

Bod  $a$  patrí do práve jedného z intervalov  $\langle kx; (k+1)x \rangle$ , kde  $k \in \{p, p+1, \dots, q-1\}$ . ■

Ak nahradíme vo vete 2.1.25 operáciu sčítania operáciou násobenia, dostaneme Archimedov princíp v multiplikatívnom tvare. Uvedieme ho bez dôkazu.

**Veta 2.1.26 (Archimedov princíp v multiplikatívnom tvare).K2-veta91**

Nech  $x, a \in \mathbb{R}$ ,  $a > 0$ ,  $x > 1$ , potom existuje  $k \in \mathbb{Z}$  také, že  $x^k \leq a < x^{k+1}$ .

**Príklad 2.1.4.K2-pr08**

Nech  $a \in \mathbb{R}$ ,  $a > 0$ ,  $A = \{\frac{a}{n}; n \in \mathbb{N}\}$ , potom  $\inf A = 0$ .

**Riešenie.**

Pre všetky  $n \in \mathbb{N}$  platí  $\frac{a}{n} > 0$ . To znamená, že 0 je dolné ohraničenie a  $\inf A \geq 0$ .

Predpokladajme, že  $\beta = \inf A > 0$ . Potom pre všetky  $n \in \mathbb{N}$  platí  $\beta \leq \frac{a}{n}$ .

Keďže  $\beta > 0$ ,  $a > 0$ , potom existuje  $m \in \mathbb{N}$  také, že platí:

$$m\beta \leq a < (m+1)\beta, \quad \text{t. j. } \frac{a}{m+1} < \beta.$$

Spor s definíciou infima, pretože  $m+1 \in \mathbb{N}$ ,  $\frac{a}{m+1} \in A$ . Takže  $\inf A = 0$ . ■

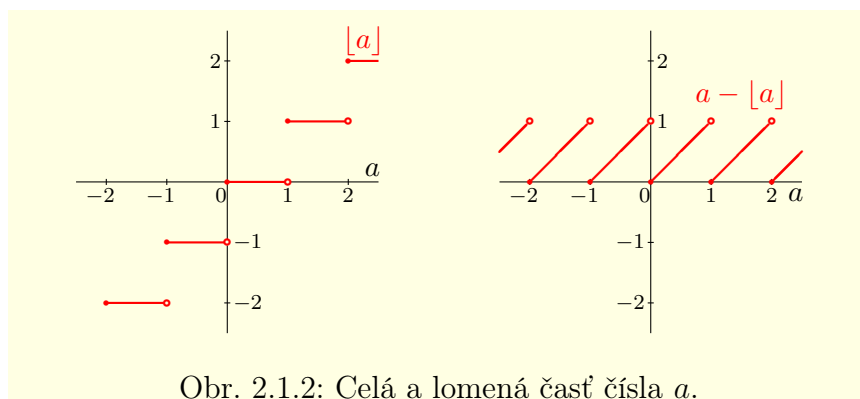
Ak položíme vo vete 2.1.25  $x = 1$ , potom pre každé  $a \in R$  existuje  $k \in Z$  také, že platí:

$$k \leq a < k + 1.$$

Číslo  $k$  nazývame **celá časť čísla  $a$**  a označujeme  $\lfloor a \rfloor$ , resp.  $[a]$ , resp.  $\text{Int } a$  (z latinského *integer* — celý). Rozdiel  $a - \lfloor a \rfloor$  nazývame **lomenou časťou čísla  $a \in R$**  (viď obrázok 2.1.2).

**Poznámka 2.1.15.K2-poz21**

Existencia  $\lfloor a \rfloor$  vyplýva tiež zo skutočnosti, že suprium množiny  $M = \{k \in Z; k \leq a\}$  je zároveň aj jej maximálnym prvkom. Je zrejmé, že  $\sup M \in Z$  a platí  $\sup M \leq a < \sup M + 1$ , t. j.  $\lfloor a \rfloor = \sup M$ .



Obr. 2.1.2: Celá a lomená časť čísla  $a$ .

**Veta 2.1.27.K2-veta42**

Nech  $a \in R$ ,  $a > 0$ , potom existuje  $n \in N$  také, že  $\frac{1}{n} < a$ .

**Dôkaz.**

Keďže  $a^{-1} > 0$ , potom existuje  $n \in N$  také, že  $n-1 \leq \frac{1}{a} < n$ , t. j.  $\frac{1}{n} < a$ . ■

**Veta 2.1.28.K2-veta36**

Nech  $a, b \in R$ ,  $a < b$ , potom existujú  $s \in Q$ ,  $v \in I$  také, že  $s \in (a; b)$ ,  $v \in (a; b)$ .

**Dôkaz.**

Keďže  $b - a > 0$ , potom existuje  $n \in N$ , že  $\frac{1}{n} < b - a$ . Potom existuje  $k \in Z$  také, že

$$k \leq na < k + 1, \quad \text{t. j. } \frac{k}{n} \leq a < \frac{k+1}{n} = \frac{k}{n} + \frac{1}{n} \leq a + \frac{1}{n} < a + (b - a) = b.$$

To znamená, že stačí položiť  $s = \frac{k+1}{n}$ ,  $s \in Q$ .

Keďže  $a - \sqrt{2} < b - \sqrt{2}$ , potom existuje  $s_0 \in Q$  také, že platí  $a - \sqrt{2} < s_0 < b - \sqrt{2}$ .

Je zrejmé, že  $a < s_0 + \sqrt{2} < b$ ,  $v = s_0 + \sqrt{2} \notin Q$ . ■

Medzi bodmi  $a, b \in R$ ,  $a < b$  existuje nekonečne veľa racionálnych čísel. Stačí predchádzajúcu vetu aplikovať na interval  $(a; s)$  a nájsť racionálny bod  $s_1 \in (a; s)$ , potom nájsť racionálny bod  $s_2 \in (a; s_1)$ . Týmto spôsobom môžeme pokračovať do nekonečna. Je zrejmé, že medzi bodmi  $a, b \in R$ ,  $a < b$  existuje tiež nekonečne veľa čísel iracionálnych.

**Veta 2.1.29.K2-veta34**

Nech  $r \in R$ , potom  $\sup \{s; s \in Q, s \leq r\} = r$ .

**Dôkaz.**

Označme  $A = \{s; s \in Q, s \leq r\}$ . Pretože je  $r$  horné ohraničenie  $A$ , platí  $\sup A \leq r$ .

Nech  $\sup A < r$ , potom (veta 2.1.28) existuje  $s_0 \in Q$  také, že  $\sup A < s_0 < r$ .

To je spor, pretože  $s_0 \in A$ . Z toho vyplýva  $\sup A = r$ . ■

**Príklad 2.1.5.K2-pr03**

Pre množinu racionálnych čísel  $A = \{x \in \mathbb{Q}; x \leq \sqrt{2}\}$  platí  $\sup A = \sqrt{2} \notin \mathbb{Q}$ .  
To znamená, že axióma (AH) v množine racionálnych čísel  $\mathbb{Q}$  neplatí. ■

• **Dedekindov a Cantorov princíp**

Nech  $A, B \subset R$  sú neprázdne množiny. Usporiadanú dvojicu množín  $[A; B]$  nazývame **rez v množine**  $R$ , ak  $A \cup B = R$  a pre všetky  $a \in A$  a pre všetky  $b \in B$  platí  $a < b$ .

**Poznámka 2.1.16.K2-poz31**

Pre množiny  $A$  a  $B$  platí  $A \cap B = \emptyset$ , t. j.  $A = R - B = B'$  a  $B = R - A = A'$ .  
Ak  $A \cap B \neq \emptyset$ , potom pre všetky  $c \in A \cap B$ , t. j.  $c \in A$ ,  $c \in B$  platí  $c \not< c$ . Čo je spor.

**Veta 2.1.30 (Dedekindov princíp).K2-veta28**

Nech  $A, B \subset R$ ,  $A \neq \emptyset$ ,  $B \neq \emptyset$  a nech  $[A; B]$  je rez v množine  $R$ . Potom buď existuje  $\max A$  alebo existuje  $\min B$ , pričom obidve možnosti nemôžu nastať súčasne.

**Dôkaz.**

Z vety 2.1.19 vyplýva, že  $A$  je zhora ohraničená,  $B$  je zdola ohraničená,  $\sup A \leq \inf B$ .

Ak  $\sup A < \inf B$ . Potom existuje  $d \in R$  také, že  $\sup A < d < \inf B$ . To znamená, že platí  $d \notin A$ ,  $d \notin B$ , t. j.  $d \notin (A \cup B) = R$ . Dostali sme spor, t. j.  $\sup A = \inf B$ .

Ešte musíme dokázať, že sú množiny  $A$  a  $B$  súvislé. Dokážeme to sporom.

Nech nie je množina  $A$  súvislá, potom existujú  $a_1, a_2 \in A$ ,  $b \notin A$ , t. j.  $b \in B$  také, že  $a_1 < b < a_2$ . To znamená, že pre  $b \in B$ ,  $a_2 \in A$  platí  $b < a_2$ , čo je spor.

Ak nie je súvislá množina  $B$ , dôkaz je analogický. ■

Ak označíme  $c = \sup A = \inf B$ , potom je zrejmé, že rezmi v množine  $R$  môžu byť iba usporiadané dvojice  $[(-\infty; c); (c; \infty)]$ , resp.  $[(-\infty; c); \langle c; \infty)]$ .

Veta 2.1.30 je ekvivalentná s princípom súvislosti a niekedy sa v literatúre formuluje ako axióma (namiesto axiómy o najmenšom hornom ohraničení, resp. princípu súvislosti) a nazýva sa **Dedekindova axióma**.

**Veta 2.1.31 (Cantorov princíp vložených intervalov).K2-veta29**

Nech  $\{\langle a_n; b_n \rangle\}_{n=1}^{\infty}$  je postupnosť uzavretých intervalov takých, že pre všetky  $n = 1, 2, 3, \dots$  platí  $\langle a_{n+1}; b_{n+1} \rangle \subset \langle a_n; b_n \rangle$ . Potom existuje aspoň jedno  $c \in R$ , ktoré leží vo všetkých intervaloch  $\langle a_n; b_n \rangle$ ,  $n = 1, 2, 3, \dots$ , t. j. pre ktoré platí:

$$c \in \bigcap_{n=1}^{\infty} \langle a_n; b_n \rangle.$$

Ak navyše pre každé  $\varepsilon > 0$  existuje interval  $\langle a_n; b_n \rangle$ , taký že  $b_n - a_n < \varepsilon$ , potom taký bod  $c \in R$  existuje práve jeden.

**Dôkaz.**

Označme  $A = \{a_n; n \in \mathbb{N}\}$ ,  $B = \{b_n; n \in \mathbb{N}\}$  množiny krajných bodov intervalov.

Nech  $a \in A$ ,  $b \in B$ , potom existujú  $j, k \in \mathbb{N}$  také, že  $a = a_j$ ,  $b = b_k$ .

Ak  $j \leq k$ , potom platí  $a_j \leq a_k \leq b_k \leq b_j$ .  
Ak  $k \leq j$ , potom platí  $a_k \leq a_j \leq b_j \leq b_k$ . } To znamená, že platí  $a \leq b$ .

Potom z vety 2.1.19 vyplýva, že pre všetky  $n \in \mathbb{N}$  platí:

$$a_n \leq \sup A \leq \inf B \leq b_n, \quad \text{t. j. } c \in \bigcap_{n=1}^{\infty} \langle a_n; b_n \rangle = \langle \sup A; \inf B \rangle.$$

Jednoznačnost čísla  $c$ .

Nech pre všetky  $\varepsilon > 0$  existuje interval  $\langle a_n; b_n \rangle$  taký, že

$$b_n - a_n < \varepsilon, \quad \text{t. j.} \quad \inf B - \sup A \leq b_n - a_n < \varepsilon.$$

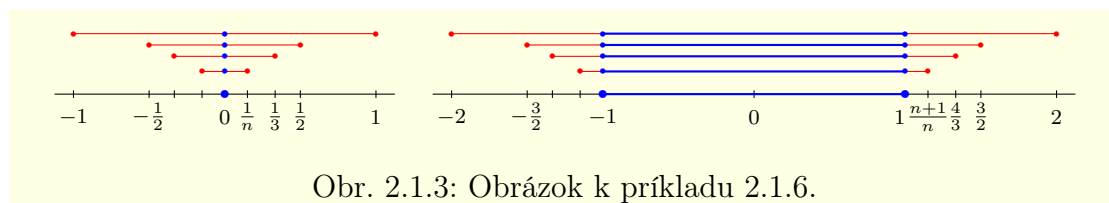
To znamená, že jednoprvková množina  $D = \{\inf B - \sup A\}$  a množina  $R^+ = \{\varepsilon > 0\}$  spĺňajú predpoklady vety 2.1.19 a platí:

$$\inf B - \sup A = \sup D \leq \inf R^+ = 0, \quad \text{t. j.} \quad c = \inf B = \sup A. \blacksquare$$

### Príklad 2.1.6.K2-pr60

Postupnosti  $\{\langle -\frac{1}{n}; \frac{1}{n} \rangle\}_{n=1}^{\infty}$ ,  $\{\langle -1 - \frac{1}{n}; 1 + \frac{1}{n} \rangle\}_{n=1}^{\infty}$  spĺňajú predpoklady vety 2.1.31 (obr. 2.1.3) a platí:

$$\bigcap_{n=1}^{\infty} \langle -\frac{1}{n}; \frac{1}{n} \rangle = \{0\}, \quad \bigcap_{n=1}^{\infty} \langle -1 - \frac{1}{n}; 1 + \frac{1}{n} \rangle = \langle -1; 1 \rangle. \blacksquare$$



Obr. 2.1.3: Obrázok k príkladu 2.1.6.

Cantorov princíp vložených intervalov sa v matematike využíva často. Postupnosť vložených intervalov sa spravidla konštruje **metódou bisekcie**.<sup>11</sup> Pri tejto metóde sa nejaký interval  $\langle a; b \rangle$  postupne delí na dva rovnaké podintervaly. Z nich sa vyberie vhodný interval a ten sa opäť delí na dva podintervaly. Tento postup sa opakuje dovtedy, kým sa nedosiahne požadovaná presnosť.

#### • Absolútna hodnota a signum čísla

Nech  $a \in R$ , potom **absolútnou hodnotou čísla**  $a$  nazývame číslo  $|a| = \max\{-a, a\}$ . To znamená, že platí  $|a| = a$ , ak  $a \geq 0$  a  $|a| = -a$ , ak  $a \leq 0$  (viď obrázok 2.1.4).

### Veta 2.1.32.K2-veta25

Pre všetky  $a, b, c \in R$ ,  $c \neq 0$  platí:

- |   |                               |                               |
|---|-------------------------------|-------------------------------|
| a) $ a  \geq 0$ , $ a  = 0 \Leftrightarrow a = 0$ , | b) $ -a  =  a $ ,             | c) $ ab  =  a  \cdot  b $ ,   |
| d) $ \frac{a}{c}  = \frac{ a }{ c }$ ,              | e) $ a + b  \leq  a  +  b $ , | f) $ a  -  b  \leq  a + b $ . |

#### Dôkaz.

a), b), c), d) Dôkaz vyplýva priamo z definície.

e) Túto nerovnosť nazývame **trojuholníková nerovnosť**.

Zo vzťahov  $\pm a \leq |a|$ ,  $\pm b \leq |b|$  a z axióm (U2), (U4) vyplýva:

$$a + b \leq |a| + |b| \leq |a| + |b|, \quad -a - b = -a + (-b) \leq |a| + (-b) \leq |a| + |b|.$$

To znamená, že  $|a + b| = \max\{a + b, -a - b\} \leq |a| + |b|$ .

f) Ak dosadíme do nerovnosti e) reálne čísla  $-b$ ,  $a + b$ , dostaneme

$$|-b + (a + b)| \leq |-b| + |a + b| \Leftrightarrow |a| \leq |b| + |a + b|, \quad \text{t. j.} \quad |a| - |b| \leq |a + b|. \blacksquare$$

<sup>11</sup>V literatúre sa môžeme stretnúť aj s názvom chytanie leva na púšti alebo hľadanie sovietskej ponorky vo švédskych vŕstosných vodách.

**Poznámka 2.1.17.K2-poz19**

Trojuhelníkovou nerovnosť môžeme jednoducho rozšíriť pomocou matematickej indukcie na konečný počet sčítancov. Nech  $a_1, a_2, \dots, a_n \in \mathbb{R}$ ,  $n \in \mathbb{N}$ , potom platí:

$$|a_1 + a_2 + \dots + a_n| \leq |a_1| + |a_2| + \dots + |a_n|, \quad \text{resp.} \quad \left| \sum_{k=1}^n a_k \right| \leq \sum_{k=1}^n |a_k|.$$

**Veta 2.1.33.K2-veta26**

Nech  $a \in \mathbb{R}$ ,  $a > 0$ , potom nerovnosť  $|x| \leq a$  je ekvivalentná s nerovnosťou  $-a \leq x \leq a$ .

**Dôkaz.**

Keďže vykonané úpravy sú ekvivalentné, dokážeme  $NP \Rightarrow$  a  $PP \Leftarrow$  súčasne.

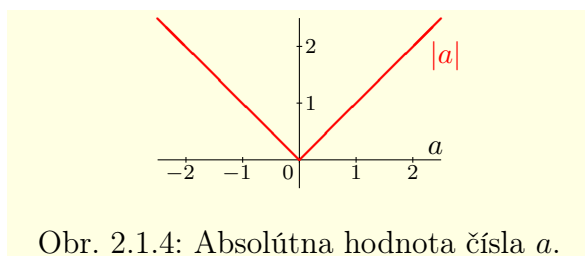
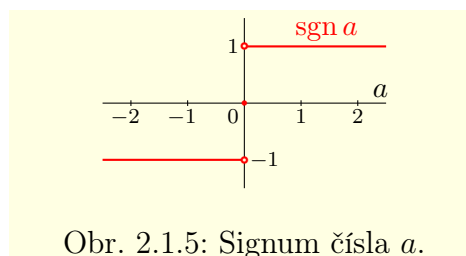
$$|x| = \max\{-x, x\} \leq a \Leftrightarrow -x \leq a, x \leq a \Leftrightarrow -a \leq x, x \leq a \Leftrightarrow -a \leq x \leq a. \blacksquare$$

**Poznámka 2.1.18.K2-poz38**

Z vety 2.1.33 vyplýva, že nerovnosť  $|x| \leq a$  je ekvivalentná so vzťahom  $x \in \langle -a; a \rangle$ .

Výraz  $|x - a|$  predstavuje z geometrického hľadiska vzdialenosť bodov  $a$  a  $x$ . Nech  $a, \delta \in \mathbb{R}$ ,  $\delta > 0$  a nech  $|x - a| \leq \delta$ , potom platí:

$$|x - a| \leq \delta \iff -\delta \leq x - a \leq \delta \iff a - \delta \leq x \leq a + \delta \iff x \in \langle a - \delta; a + \delta \rangle.$$

Obr. 2.1.4: Absolútna hodnota čísla  $a$ .Obr. 2.1.5: Signum čísla  $a$ .**Veta 2.1.34.K2-veta43**

Množina  $A \subset \mathbb{R}$  je ohraničená práve vtedy, ak existuje  $a \in \mathbb{R}$  také, že pre všetky  $x \in A$  platí  $|x| \leq a$ .

**Dôkaz.**

$NP \Rightarrow$ : Množina  $A$  je ohraničená, t. j. existujú čísla  $c_1, c_2 \in \mathbb{R}$  také, že pre všetky  $x \in A$  platí  $c_1 \leq x \leq c_2$ . Potom stačí položiť  $a = \max\{|c_1|, |c_2|\}$ , pretože platia nerovnosti:

$$-\max\{|c_1|, |c_2|\} \leq c_1 \leq x, \quad x \leq c_2 \leq \max\{|c_1|, |c_2|\}.$$

$PP \Leftarrow$ : Je zrejmé, že pre všetky  $x \in A$  platí  $-a \leq x \leq a$ , t. j.  $A$  je ohraničená.  $\blacksquare$

**Poznámka 2.1.19.K2-poz114**

Ak pre  $a \in \mathbb{R}$  označíme  $a^+ = \max\{a, 0\}$ ,  $a^- = \max\{-a, 0\}$ , potom platí:

$$|a| = a^+ + a^-, \quad a = a^+ - a^-, \quad a^+ = \frac{a+|a|}{2}, \quad a^- = \frac{a-|a|}{2}.$$

Nech  $a \in \mathbb{R}$ , potom **signum**<sup>12</sup> čísla  $a$  definujeme vzťahom  $\text{sgn } a = \begin{cases} -1, & \text{pre } a < 0, \\ 0, & \text{pre } a = 0, \\ 1, & \text{pre } a > 0. \end{cases}$

<sup>12</sup>Z latinského *signum* — znamenie.

**Veta 2.1.35.K2-veta27**

Nech  $a, b, c \in R$ ,  $c \neq 0$ , potom platí: a)  $a = \operatorname{sgn} a \cdot |a|$ , b)  $\operatorname{sgn}(ab) = \operatorname{sgn} a \cdot \operatorname{sgn} b$ ,  
c)  $|a| = \operatorname{sgn} a \cdot a$ , d)  $\operatorname{sgn} \frac{a}{c} = \operatorname{sgn} a \cdot \operatorname{sgn} c$ .

**Dôkaz.**

a) Pre  $a = 0$  je rovnosť splnená triviálne. Pre  $a \neq 0$  platí:

$$a > 0 \Rightarrow \operatorname{sgn} a \cdot |a| = 1 \cdot a = a, \quad a < 0 \Rightarrow \operatorname{sgn} a \cdot |a| = -1 \cdot (-a) = a.$$

b) Ak  $a = 0$  alebo  $b = 0$ , rovnosť platí triviálne. Ak  $a \neq 0 \neq b$ , potom z a) vyplýva:

$$\operatorname{sgn}(ab) = \frac{ab}{|ab|} = \frac{ab}{|a| \cdot |b|} = \frac{a}{|a|} \cdot \frac{b}{|b|} = \operatorname{sgn} a \cdot \operatorname{sgn} b.$$

c) Pre  $a = 0$  je rovnosť splnená triviálne. Pre  $a \neq 0$  platí:

$$\operatorname{sgn} a \cdot a = \operatorname{sgn} a \cdot \operatorname{sgn} a \cdot |a| = (\operatorname{sgn} a)^2 \cdot |a| = (\pm 1)^2 \cdot |a| = |a|.$$

d) Pre  $a = 0$  je rovnosť splnená triviálne. Pre  $a \neq 0$  platí:

$$\operatorname{sgn} \frac{a}{c} = \frac{\frac{a}{c}}{|\frac{a}{c}|} = \frac{a}{c} \cdot \frac{|c|}{|a|} = \frac{a}{|a|} \cdot \frac{|c|}{c} = \operatorname{sgn} a \cdot \operatorname{sgn} c. \blacksquare$$

- **Mocniny a odmocniny reálnych čísel**

Nech  $a \in R$ ,  $n \in N$ , potom vzťah

$$a^n = \prod_{k=1}^n a = \underbrace{a \cdot a \cdots a \cdot a}_{n\text{-krát}}$$

sa nazýva  **$n$ -tá mocnina čísla  $a$**  (čítame  $a$  na  $n$ -tú). Číslo  $a$  nazývame **mocnenec (základ mocniny)**,  $n$  nazývame **mocniteľ (exponent)**. Pre  $a \neq 0$  definujeme navyše mocniny  $a^0 = 1$ ,  $a^{-n} = \frac{1}{a^n} = 1/a^n$ .

**Poznámka 2.1.20.K2-poz23**

Z predchádzajúcej definície vyplýva, že pre všetky  $a \in R$ ,  $a \neq 0$  platí  $a^{-1} = \frac{1}{a}$ , čo je v zhode s definíciou inverzného čísla k číslu  $a$  pri axióme (N4).

**Poznámka 2.1.21.K2-poz123**

S mocninou  $0^0$  je to trochu zložitejšie. Na základe predchádzajúceho môžeme definovať  $0^0 = 1$ , ale na základe definície výrazu  $a^r = 0^r = 0$ ,  $r \in R$  pre  $a = 0$  (str. 66) môžeme definovať<sup>13</sup>  $0^0 = 0$ .

V bežných prípadoch definujeme  $0^0 = 1$ . Pre použitie tejto definície existuje niekoľko závažných dôvodov. Medzi najdôležitejšie patrí binomická veta, pre ktorej všeobecnú platnosť je táto definícia nevyhnutná. Na druhej strane limita v tomto tvare patrí medzi neurčité výrazy a je potrebné ju individuálne vyčíslňovať (str. 268).

**Veta 2.1.36.K2-veta30**

Nech  $a, b \in R$ ,  $a \neq 0$ ,  $b \neq 0$  a nech  $m, n \in Z$ , potom platí:

$$\text{a) } a^m \cdot a^n = a^{m+n}, \quad \text{b) } (a^m)^n = (a^n)^m = a^{mn}, \quad \text{c) } a^m \cdot b^m = (ab)^m.$$

**Dôkaz.**

Dôkaz vyplýva priamo z definície a z axióm (N1), (N2).  $\blacksquare$

**Poznámka 2.1.22.K2-poz24**

Výraz  $a^{m^n}$  nemá zmysel, pretože nie je určené, či vyjadruje  $(a^m)^n$  alebo  $a^{(m^n)}$ .

Posledné dva výrazy sa nemusia rovnať, napríklad  $(2^2)^3 = 4^3 = 64$ ,  $2^{(2^3)} = 2^8 = 256$ .

<sup>13</sup>Prvý pohľad je založený na funkcii  $y = x^0 = 1$ ,  $x \neq 0$  a druhý na funkcii  $y = 0^x = 0$ ,  $x > 0$ .



**Dôsledok 2.1.36.a.K2-dosl06**

Nech  $a, b \in R$ ,  $a \neq 0 \neq b$ ,  $m, n \in Z$ , potom platí: a)  $\frac{a^m}{a^n} = a^{m-n}$ , b)  $\frac{a^m}{b^m} = \left(\frac{a}{b}\right)^m$ .

**Dôkaz.**

a) Platí  $\frac{a^m}{a^n} = a^m \cdot \frac{1}{a^n} = a^m a^{-n} = a^{m+(-n)} = a^{m-n}$ .

b) Platí  $\frac{a^m}{b^m} = a^m \cdot \frac{1}{b^m} = a^m b^{-m} = a^m b^{-1 \cdot m} = a^m (b^{-1})^m = (ab^{-1})^m = \left(\frac{a}{b}\right)^m$ . ■

**Veta 2.1.37.K2-veta31**

Nech  $a, b \in R$ ,  $m, n \in Z$ , potom platia nasledujúce implikácie:

- a)  $0 \leq a < b$ ,  $0 < n \implies 0 \leq a^n < b^n$ , b)  $0 < a < b$ ,  $n < 0 \implies 0 < b^n < a^n$ ,  
 c)  $a \in (0; 1)$ ,  $m < n \implies a^n < a^m$ , d)  $a \in (1; \infty)$ ,  $m < n \implies a^m < a^n$ .

**Dôkaz.**

a) Matematická indukcia.

**Krok 1.** Pre  $n = 1$  platí vzťah triviálne, pretože  $0 \leq a^1 = a < b = b^1$ .

**Krok 2.** Nech platí daný vzťah pre  $n = k - 1$ , t. j. nech  $0 \leq a^{k-1} < b^{k-1}$ .

Potom z nerovnosti  $0 \leq a < b$  a z vety 2.1.11 vyplýva:

$$0 \cdot 0 \leq a^{k-1} \cdot a < b^{k-1} \cdot b, \quad \text{t. j. } 0 \leq a^k < b^k.$$

b) Keďže  $-n \in N$ , potom z a) vyplýva  $0 < a^{-n} < b^{-n}$ . Potom (veta 2.1.12) platí:

$$0 < (a^n)^{-1} = a^{-n} < b^{-n} = (b^n)^{-1}, \quad \text{t. j. } 0 < b^n < a^n.$$

c) Keďže  $0 < n - m$ , potom  $a^{n-m} < 1^{n-m} = 1$ . Z toho na základe  $a^m > 0$  vyplýva:

$$a^n = a^{n-m} \cdot a^m < 1 \cdot a^m = a^m.$$

d) Keďže  $0 < n - m$ , potom  $1 = 1^{n-m} < a^{n-m}$ . Z toho na základe  $a^m > 0$  vyplýva:

$$a^m = 1 \cdot a^m < a^{n-m} \cdot a^m = a^n. \quad \blacksquare$$

Nech  $a \in R$ ,  $a \geq 0$ ,  $n \in N$ , potom  $n$ -tou odmocninou čísla  $a$  nazývame také nezáporné číslo  $x \in R_0^+$ , pre ktoré platí  $x^n = a$ . Na označenie používame symbol  $x = \sqrt[n]{a}$ .

Druhú odmocninu čísla  $a$  zvykneme namiesto symbolu  $\sqrt[n]{a}$  skrátene označovať  $\sqrt{a}$ . Z definície vyplýva, že  $\sqrt[n]{a} = a$ . Vzniká otázka, či  $n$ -tá odmocnina čísla  $a \in R_0^+$  pre  $n \in N$  existuje a či je jediná. Ako dokazuje veta 2.1.38 existuje práve jedna odmocnina  $\sqrt[n]{a}$ .

**Veta 2.1.38.K2-veta32**

Nech  $a \in R_0^+$ ,  $n \in N$ , potom existuje práve jedno  $x \in R_0^+$ , pre ktoré platí  $x^n = a$ .

**Dôkaz.**

Pre  $a = 0$  je tvrdenie zrejme a taktiež pre  $n = 1$  je tvrdenie zrejme.

Nech  $a > 0$ ,  $n > 1$ . Musíme ukázať existenciu a jednoznačnosť čísla  $x = \sqrt[n]{a}$ . Dokážeme, že platí  $\sqrt[n]{a} = \sup A$ , pričom  $A = \{y \in R_0^+; y^n \leq a\}$ .

Jednoznačnosť.

Sporom. Nech existujú  $x_1, x_2 \in R$ ,  $0 \leq x_1 < x_2$  také, že  $x_1^n = x_2^n$ .

Potom z vety 2.1.37 vyplýva  $0 \leq x_1^n < x_2^n$ . Čo je spor s predpokladom  $x_1^n = x_2^n$ .

Existencia.

Ukážeme, že  $A$  je neprázdna a zhora ohraničená. Označme  $b = a(a+1)^{-1}$ , potom platí:

$$\left. \begin{array}{l} 0 < a < a+1 \xrightarrow{\text{veta 2.1.12}} 0 < a(a+1)^{-1} = b < 1 \xrightarrow{\text{veta 2.1.37}} b^n < b^1 = b \\ 0 < a \implies 0 < a^2 \implies a < a^2 + a = a(a+1) \implies b = a(a+1)^{-1} < a \end{array} \right\} \implies b^n < b < a.$$



To znamená, že  $b \in A$ , t. j.  $A \neq \emptyset$ .

Označme  $c = a + 1$ , potom  $c > a$ ,  $c > 1$ .

Nech  $z \in R$ ,  $c < z$  je ľubovoľné, potom  $1 < z < z^n$ , resp.  $a < c < z < z^n$ .

To znamená, že  $z \notin A$ , t. j.  $c$  je horné ohraničenie množiny  $A$ .

Označme  $x = \sup A$ . Je zrejmé, že  $x^n \leq a$  a  $(x+1)^n > a$ .

Nech  $x^n < a$ , t. j.  $x^n < a < (x+1)^n$ . Potom platí  $0 < a - x^n < (x+1)^n - x^n$ .

Zvoľme  $\varepsilon = \frac{a-x^n}{2[(x+1)^n-x^n]}$ , potom na základe vety 2.1.12 platí:

$$0 < \frac{a-x^n}{(x+1)^n-x^n} < 1 \implies 0 < \varepsilon = \frac{1}{2} \cdot \frac{a-x^n}{(x+1)^n-x^n} < \frac{1}{2} < 1 \xrightarrow{\text{veta 2.1.37}} \varepsilon^k < 1.$$

Z toho ďalej vyplýva  $x < x + \varepsilon$  a na základe binomickej vety dostávame:

$$\begin{aligned} (x + \varepsilon)^n &= x^n + \binom{n}{1}x^{n-1}\varepsilon + \binom{n}{2}x^{n-2}\varepsilon^2 + \dots + \binom{n}{n-1}x\varepsilon^{n-1} + \varepsilon^n = \\ &= x^n + \varepsilon \left[ \binom{n}{1}x^{n-1} + \binom{n}{2}x^{n-2}\varepsilon + \dots + \binom{n}{n-1}x\varepsilon^{n-2} + \varepsilon^{n-1} \right] < \\ &< x^n + \varepsilon \left[ \binom{n}{1}x^{n-1} + \binom{n}{2}x^{n-2} + \dots + \binom{n}{n-1}x + 1 \right] = \\ &= x^n + \varepsilon \left[ x^n + \binom{n}{1}x^{n-1} + \binom{n}{2}x^{n-2} + \dots + \binom{n}{n-1}x + 1 - x^n \right] = x^n + \varepsilon[(x+1)^n - x^n] = \\ &= x^n + \frac{a-x^n}{2[(x+1)^n-x^n]}[(x+1)^n - x^n] = x^n + \frac{a-x^n}{2} = \frac{a}{2} + \frac{x^n}{2} < \frac{a}{2} + \frac{a}{2} = a. \end{aligned}$$

Z toho vyplýva  $x + \varepsilon \in A$ . Čo je spor s tým, že  $x = \sup A$ . To znamená, že  $x^n = a$ , t. j.  $x = \sup A = \sqrt[n]{a}$ . ■

### Veta 2.1.39.K2-veta39

Nech  $a \in R^+$ ,  $m \in Z$ ,  $n \in N$ , potom platí  $\sqrt[n]{a^m} = [\sqrt[n]{a}]^m$ .

#### Dôkaz.

Označme  $\sqrt[n]{a^m} = x$ ,  $\sqrt[n]{a} = y$ , potom  $a^m = x^n$ ,  $a = y^n$ . }  $\implies a^m = x^n = (y^m)^n$ .

Z poslednej rovnosti vyplýva  $a^m = (y^m)^m = (y^m)^n$ .

Z toho na základe jednoznačnosti  $n$ -tej odmocniny vyplýva  $\sqrt[n]{a^m} = x = y^m$ .

Zo vzťahu  $\sqrt[n]{a} = y$  vyplýva  $[\sqrt[n]{a}]^m = y^m$ . To znamená  $\sqrt[n]{a^m} = x = y^m = [\sqrt[n]{a}]^m$ . ■

### Poznámka 2.1.23.K2-poz27

Nech  $n \in N$  je párne, t. j.  $n = 2k$ ,  $k \in N$ , potom pre všetky  $a \in R$  platí  $a^n \geq 0$ . Takže má zmysel výraz  $\sqrt[n]{a^n} = \sqrt{|a^n|} = \sqrt{|a \cdots a|} = \sqrt{|a| \cdots |a|} = \sqrt{|a|^n} = |a|$ .

Nech  $n \in N$  je nepárne, t. j.  $n = 2k + 1$ ,  $k \in N$ , potom pre všetky  $a \in R$ ,  $a < 0$  platí  $a^n < 0$ . To znamená, že rovnica  $x^n = a$  má práve jedno riešenie  $x = -\sqrt[n]{|a|} = -\sqrt[n]{-a}$ .

Na základe poznámky 2.1.23 definujeme pre všetky  $a \in R$ ,  $a < 0$  a pre  $n \in N$  nepárne  $n$ -tú odmocninu zo záporného čísla  $a$  vzťahom  $\sqrt[n]{a} = -\sqrt[n]{|a|} = -\sqrt[n]{-a}$ .

### Poznámka 2.1.24.K2-poz26

Ako sme ukázali, nezáporné reálne číslo  $a$  má práve jednu  $n$ -tú odmocninu.

Toto tvrdenie, ale neplatí v množine komplexných čísel  $C$ . Uvažujme napríklad číslo 1. V obore  $R$  platí, že  $\sqrt{1} = \sqrt[4]{1} = 1$ . V množine  $C$  sú druhé odmocniny dve, t. j. druhá odmocnina je dvojprvková množina  $\sqrt{1} = \{-1, 1\}$ . Štvrté odmocniny v  $C$  sú štyri, t. j.  $\sqrt[4]{1} = \{-1, 1, -i, i\}$ .

Nech  $a \in R$ ,  $a > 0$  a nech  $s$  je racionálne číslo ( $s \in Q$ ), pričom  $s = \frac{m}{n}$ , kde  $m \in Z$ ,  $n \in N$ . Potom  $s$ -tú mocninu čísla  $a > 0$  definujeme vzťahom  $a^s = a^{\frac{m}{n}} = \sqrt[n]{a^m}$ .

Ak  $a = 0$ , potom pre všetky  $s \in Q^+ = \{x \in Q; x > 0\}$  definujeme  $0^s = 0$ .

**Poznámka 2.1.25.K2-poz28**

Z predchádzajúcej definície vyplýva, že pre  $a \in R_0^+$  platí  $\sqrt[n]{a} = a^{\frac{1}{n}}$ .

Musíme ale ukázať, že predchádzajúca definícia je korektná, to znamená, že  $a^s$  nezávisí od vyjadrenia  $s$ . Tento problém rieši veta 2.1.40.

**Veta 2.1.40.K2-veta33**

Nech  $a \in R^+$ ,  $s \in Q$  a nech  $s = \frac{m}{n} = \frac{p}{q}$ , kde  $m, p \in Z$ ,  $n, q \in N$ , potom  $\sqrt[n]{a^m} = \sqrt[q]{a^p}$ .

**Dôkaz.**

Z predpokladov a vety 2.1.4 vyplýva, že platí  $mq = np$  a teda aj  $a^{mq} = a^{np}$ .

Označme  $x = \sqrt[n]{a^m}$ ,  $y = \sqrt[q]{a^p}$ , potom  $x = y$ , t. j.  $\sqrt[n]{a^m} = \sqrt[q]{a^p}$  vyplýva zo vzťahov:

$$\left. \begin{array}{l} x^n = a^m \Rightarrow (x^n)^q = (a^m)^q \Rightarrow x^{nq} = a^{mq} \\ y^q = a^p \Rightarrow (y^q)^n = (a^p)^n \Rightarrow y^{nq} = a^{np} \end{array} \right\} \Rightarrow x^{nq} = y^{nq} \xrightarrow{\text{veta 2.1.38}} x = y. \blacksquare$$

Vety 2.1.36 a 2.1.37 platia aj v prípade, keď exponenty sú racionálne čísla (vety 2.1.41 a 2.1.42) a tiež v prípade, keď exponenty sú reálne čísla (vety 2.1.43 a 2.1.45).

**Veta 2.1.41.K2-veta37**

Nech  $a, b \in R$ ,  $a > 0$ ,  $b > 0$  a nech  $s, t \in Q$ , potom platí:

$$\text{a) } a^s \cdot a^t = a^{s+t}, \quad \text{b) } (a^s)^t = (a^t)^s = a^{st}, \quad \text{c) } a^s \cdot b^s = (ab)^s.$$

**Dôkaz.**

Nech  $s = mn^{-1}$ ,  $t = pq^{-1}$ , kde  $m, p \in Z$ ,  $n, q \in N$ .

Označme  $x = a^s$ ,  $y = a^t$ ,  $z = b^s$ , potom  $x^n = a^m$ ,  $y^q = a^p$ ,  $z^n = b^m$ .

$$\text{a) } \left. \begin{array}{l} x^n = a^m \Rightarrow (x^n)^q = (a^m)^q \Rightarrow x^{nq} = a^{mq} \\ y^q = a^p \Rightarrow (y^q)^n = (a^p)^n \Rightarrow y^{nq} = a^{np} \end{array} \right\} \Rightarrow (xy)^{nq} = x^{nq}y^{nq} = a^{mq}a^{np} = a^{mq+np}.$$

Z toho vyplýva  $xy = a^{\frac{mq+np}{nq}}$ , t. j.  $a^s a^t = xy = a^{\frac{mq+np}{nq}} = a^{\frac{m}{n} + \frac{p}{q}} = a^{s+t}$ .

b) Vyplýva z vety 2.1.36 a z vety 2.1.39.

$$\text{c) } \left. \begin{array}{l} x^n = a^m \\ z^n = b^m \end{array} \right\} \Rightarrow x^n z^n = a^m b^m \Rightarrow (xz)^n = (ab)^m \Rightarrow xz = (ab)^{\frac{m}{n}} \Rightarrow a^s b^s = xz = (ab)^s. \blacksquare$$

**Veta 2.1.42.K2-veta38**

Nech  $a, b \in R$ ,  $s, t \in Q$ , potom platia nasledujúce implikácie:

$$\begin{array}{ll} \text{a) } 0 < a < b, 0 < s \implies 0 < a^s < b^s, & \text{b) } 0 < a < b, s < 0 \implies 0 < b^s < a^s, \\ \text{c) } a \in (0; 1), s < t \implies a^t < a^s, & \text{d) } a \in (1; \infty), s < t \implies a^s < a^t. \end{array}$$

**Dôkaz.**

Nech  $s = mn^{-1}$ ,  $t = pq^{-1}$ , kde  $m, p \in Z$ ,  $n, q \in N$ .

a) Označme  $x = \sqrt[n]{a}$ ,  $y = \sqrt[n]{b}$ , t. j.  $a = x^n$ ,  $b = y^n$ .

Ak  $x \geq y$ , potom  $a = x^n \geq y^n = b$ . To je spor a znamená, že  $0 < \sqrt[n]{a} = x < y = \sqrt[n]{b}$ .

Potom pre  $m \in Z$ ,  $m > 0$  na základe vety 2.1.37 platí:

$$0 < a^s = (\sqrt[n]{a})^m = x^m < y^m = (\sqrt[n]{b})^m = b^s.$$

$$\text{b) } s < 0 \Rightarrow -s > 0 \xrightarrow{\text{a)}} 0 < a^{-s} < b^{-s} \Rightarrow 0 < (a^s)^{-1} < (b^s)^{-1} \xrightarrow{\text{veta 2.1.12}} 0 < b^s < a^s.$$

c) Ak  $nq = 1$ , t. j.  $n = q = 1$ , potom  $s, t \in Z$  a tvrdenie vyplýva z vety 2.1.37.

Nech  $nq \neq 1$ , t. j.  $1 < nq$ . Potom  $0 < (nq)^{-1}$  na základe časti a) platí:

$$0 < a < 1, \quad \text{t. j. } 0 < \sqrt[nq]{a} = a^{\frac{1}{nq}} < 1^{\frac{1}{nq}} = \sqrt[nq]{1} = 1.$$

Zo vzťahu  $mn^{-1} = s < t = pq^{-1}$ , t. j.  $mq < np$  na základe vety 2.1.37 c) vyplýva:

$$(\sqrt[nq]{a})^{np} < (\sqrt[nq]{a})^{mq}, \quad \text{t. j. } a^t = a^{\frac{p}{q}} = a^{\frac{np}{nq}} < a^{\frac{mq}{nq}} = a^{\frac{m}{n}} = a^s.$$

d)  $1 < a \Rightarrow 0 < a^{-1} < 1 \xrightarrow{c)} (a^{-1})^t < (a^{-1})^s \Rightarrow a^{-t} < a^{-s} \xrightarrow{\text{veta 2.1.12}} a^s < a^t. \blacksquare$

**Mocninu čísla  $a \in R_0^+$  s reálnym exponentom  $r$  ( $r \in R$ ) definujeme nasledovne:**

$$a^r = \begin{cases} \sup \{a^s; s \in Q, s \leq r\} & \text{pre } a \in (1; \infty), \\ (a^{-1})^{-r} = \left(\frac{1}{a}\right)^{-r} & \text{pre } a \in (0; 1), \end{cases} \quad a^r = \begin{cases} 1^r = 1 & \text{pre } a = 1, \\ 0^r = 0 & \text{pre } a = 0, r > 0. \end{cases}$$

### Poznámka 2.1.26.K2-poz29

Uvedená definícia je založená na skutočnosti, že pre  $a \in (1; \infty)$ ,  $s, t \in Q$ ,  $s < t$  platí nerovnosť  $a^s < a^t$  a že každé  $r \in R$  sa dá vyjadriť v tvare  $r = \sup \{s; s \in Q, s \leq r\}$ .

### Poznámka 2.1.27.K2-poz33

Pre  $a \in (1; \infty)$  môžeme tiež mocninu definovať vzťahom  $a^r = \inf \{a^s; s \in Q, s \geq r\}$ .

Pre  $a \in (0; 1)$  vzťahom  $a^r = \sup \{a^s; s \in Q, s \geq r\}$ , resp.  $a^r = \inf \{a^s; s \in Q, s \leq r\}$ .

### Veta 2.1.43.K2-veta40

Nech  $a, b \in R$ ,  $a > 0$ ,  $b > 0$  a nech  $r, u \in R$ , potom platí:

$$\text{a) } a^r \cdot a^u = a^{r+u}, \quad \text{b) } (a^r)^u = (a^u)^r = a^{ru}, \quad \text{c) } a^r \cdot b^r = (ab)^r.$$

### Dôkaz.

a) Pre  $a = 1$  vzťah platí triviálne.

Ak  $a > 1$ , potom  $a^r = \sup \{a^s; s \in Q, s \leq r\}$ ,  $a^u = \sup \{a^t; t \in Q, t \leq u\}$ .

Nech  $s, t \in Q$ ,  $s \leq r$ ,  $t \leq u$ , potom

$$s + t \leq r + u, \quad a^s \leq a^r, \quad a^t \leq a^u, \quad a^{s+t} = a^s a^t \leq a^r a^u.$$

Potom pre všetky  $k \in Q$ ,  $k \leq r + u$  platí  $a^k \leq a^r a^u$ . Potom (veta 2.1.19) platí:

$$a^{r+u} = \sup \{a^k; k \in Q, k \leq r + u\} \leq \inf \{a^r a^u\} = a^r a^u.$$

Nech  $a^{r+u} < a^r a^u$ , potom na základe  $a^r > 0$  platí:

$$a^{r+u} (a^r)^{-1} < a^r a^u (a^r)^{-1} = a^u.$$

Keďže je množina  $Q$  husto usporiadaná a  $a^u = \sup \{a^t; t \in Q, t \leq u\}$ ,

potom existuje  $t_0 \in Q$ ,  $t_0 \leq u$  také, že platí:

$$a^{r+u} (a^r)^{-1} < a^{t_0} < a^u, \quad \text{t. j. } a^{r+u} a^{-t_0} < a^r.$$

Podobne existuje  $s_0 \in Q$ ,  $s_0 \leq r$  také, že platí  $a^{r+u} a^{-t_0} < a^{s_0} < a^r$ .

Z toho vyplýva spor  $a^{r+u} < a^{s_0} a^{t_0} = a^{s_0+t_0}$ ,

pretože na základe vzťahu  $s_0 + t_0 \leq r + u$  pre  $s_0, t_0 \in Q$  platí:

$$a^{s_0+t_0} \in \{a^k; k \in Q, k \leq r + u\}, \quad \text{t. j. } a^{s_0+t_0} \leq a^{r+u}.$$

To znamená, že pre  $a > 1$ ,  $r, u \in R$  platí  $a^{r+u} = a^r a^u$ .

Ak  $a < 1$ , t. j.  $a^{-1} > 1$ , potom

$$a^r b^r = (a^{-1})^{-r} (b^{-1})^{-r} = (a^{-1} b^{-1})^{-r} = [(ab)^{-1}]^{-r} = ab^r.$$

b) Pre  $a = 1$  platí daný vzťah triviálne.

Ak  $a > 1$ , potom  $a^r > 1$ ,  $a^r = \sup \{a^s; s \in Q, s \leq r\}$ ,  $(a^r)^u = \sup \{(a^r)^t; t \in Q, t \leq u\}$ .

Nech  $s, t \in \mathbb{Q}$ ,  $s \leq r$ ,  $t \leq u$ , potom platí:

$$a^s \leq a^r, \quad (a^r)^t \leq (a^r)^u, \quad a^{st} = (a^s)^t \leq (a^r)^t \leq (a^r)^u.$$

To znamená, že platí:

$$a^{ru} = \sup \{a^{st}; st \in \mathbb{Q}, st \leq ru\} = \sup \{a^k; k \in \mathbb{Q}, k \leq ru\} \leq (a^r)^u.$$

Nech  $a^{ru} < (a^r)^u$ , potom existuje  $t_0 \in \mathbb{Q}$ ,  $t_0 \leq u$ , pre ktoré platí  $a^{ru} < (a^r)^{t_0} < (a^r)^u$ .

Z toho vyplýva na základe vety 2.1.42, že platí:

$$a^{\frac{ru}{t_0}} < (a^r)^{\frac{t_0}{t_0}} = a^r.$$

Potom existuje  $s_0 \in \mathbb{Q}$ ,  $s_0 \leq r$ , pre ktoré platí:

$$a^{\frac{ru}{t_0}} < a^{s_0} < a^r, \quad \text{t. j. } a^{ru} < a^{s_0 t_0}.$$

Posledná nerovnosť predstavuje spor, pretože zo vzťahu  $s_0 t_0 \leq ru$  vyplýva:

$$a^{s_0 t_0} \in \{a^k; k \in \mathbb{Q}, k \leq ru\}, \quad \text{t. j. } a^{s_0 t_0} \leq a^{ru}.$$

To znamená, že  $a^{ru} = (a^r)^u$ . Tým je zároveň dokázaná aj rovnosť  $(a^u)^r = a^{ur} = a^{ru}$ .

Ak  $a < 1$ , potom  $a^{-1} > 1$  a platí  $(a^u)^r = [(a^{-1})^{-u}]^r = (a^{-1})^{-ur} = a^{ur}$ .

c) Pre  $a = 1$  alebo  $b = 1$  je daný vzťah splnený triviálne.

Nech  $a > 1$ ,  $b > 1$ , potom  $a^r = \sup \{a^s; s \in \mathbb{Q}, s \leq r\}$ ,  $b^r = \sup \{b^s; s \in \mathbb{Q}, s \leq r\}$ .

Nech  $s \in \mathbb{Q}$ ,  $s \leq r$ , potom

$$a^s \leq a^r, \quad b^s \leq b^r, \quad \text{t. j. } (ab)^s = a^s b^s \leq a^r b^r.$$

Z toho vyplýva  $(ab)^r = \sup \{(ab)^s; s \in \mathbb{Q}, s \leq r\} \leq a^r b^r$ .

Nech  $(ab)^r < a^r b^r$ , potom platí  $(ab)^r (b^r)^{-1} < a^r$ .

Potom existuje  $s_0 \in \mathbb{Q}$ ,  $s_0 \leq r$  také, že

$$(ab)^r (b^r)^{-1} < a^{s_0} < a^r, \quad \text{t. j. } (ab)^r a^{-s_0} < b^r.$$

Analogicky existuje  $t_0 \in \mathbb{Q}$ ,  $t_0 \leq r$  také, že

$$(ab)^r a^{-s_0} < b^{t_0} < b^r, \quad \text{t. j. } (ab)^r < a^{s_0} b^{t_0}.$$

Označme  $k = \max \{s_0, t_0\}$ , potom  $k \in \mathbb{Q}$ ,  $k \leq r$  a platí:

$$(ab)^r < a^{s_0} b^{t_0} \leq a^k b^k = (ab)^k.$$

Lenže z nerovnosti  $k \leq ru$  vyplýva  $(ab)^k \in \{(ab)^s; s \in \mathbb{Q}, s \leq r\}$ , t. j.  $(ab)^k \leq (ab)^r$ .

Dostali sme spor, z ktorého vyplýva  $(ab)^r = a^r b^r$ .

Ak  $a < 1$ ,  $b < 1$ , potom  $a^{-1} > 1$ ,  $b^{-1} > 1$  a platí:

$$a^r b^r = (a^{-1})^{-r} (b^{-1})^{-r} = (a^{-1} b^{-1})^{-r} = [(ab)^{-1}]^{-r} = (ab)^r.$$

Ak  $a > 1$ ,  $b < 1$ , potom môžu nastať tri prípady. Prvé dva dokážeme sporom.

Ak  $ab > 1$ ,  $(ab)^r \neq a^r b^r$ . Potom  $(ab)^r (b^{-1})^r \neq a^r b^r (b^{-1})^r$ . Z toho vyplýva spor:

$$a^r = (abb^{-1})^r = (ab)^r (b^{-1})^r \neq a^r b^r (b^{-1})^r = a^r b^r b^{-r} = a^r.$$

Ak  $ab < 1$ ,  $a^r b^r \neq (ab)^r$ . Potom  $a^r b^r [(ab)^{-1}]^r \neq (ab)^r [(ab)^{-1}]^r$ . Z toho vyplýva spor:

$$1 = b^r b^{-r} = b^r (b^{-1})^r = b^r [a(ab)^{-1}]^r = a^r b^r [(ab)^{-1}]^r \neq (ab)^r [(ab)^{-1}]^r = (ab)^r (ab)^{-r} = 1.$$

Ak  $ab = 1$ , potom  $b = a^{-1}$ . Z toho vyplýva  $(ab)^r = 1^r = 1 = a^r a^{-r} = a^r (a^{-1})^r = a^r b^r$ . ■

### Veta 2.1.44.K2-veta92

Nech  $a, b \in \mathbb{R}$ ,  $0 < a < 1 < b$ ,  $r \in \mathbb{R}$  potom platí:

$$\text{a) } 0 < r \Rightarrow a^r < 1 < b^r, \quad \text{b) } r < 0 \Rightarrow b^r < 1 < a^r.$$

### Dôkaz.

a) Nech  $s \in \mathbb{Q}$ ,  $0 < s \leq r$ , potom na základe vety 2.1.42 platí  $1 < b^s$ .

Keďže  $b^r = \sup \{b^s; s \in \mathbb{Q}, s \leq r\}$ , potom pre všetky  $s \in \mathbb{Q}$ ,  $0 < s \leq r$  platí  $1 < b^s \leq b^r$ .

Z predpokladu  $a < 1$ , t. j.  $1 < a^{-1}$ , vyplýva:

$$1 < (a^{-1})^r = a^{-r} = (a^r)^{-1}, \quad \text{t. j. } a^r < 1.$$

b)  $r < 0 \Rightarrow 0 < -r \Rightarrow (a^r)^{-1} = a^{-r} < 1 < b^{-r} = (b^r)^{-1} \Rightarrow b^r < 1 < a^r$ . ■

### Veta 2.1.45.K2-veta41

Nech  $a, b \in R$ ,  $a > 0$ ,  $b > 0$ ,  $r, u \in R$ , potom platia nasledujúce implikácie:

- a)  $a < b$ ,  $0 < r \Rightarrow a^r < b^r$ ,      b)  $a < b$ ,  $r < 0 \Rightarrow b^r < a^r$ ,  
 c)  $1 < a$ ,  $r < u \Rightarrow a^r < a^u$ ,      d)  $a < 1$ ,  $r < u \Rightarrow a^u < a^r$ .

### Dôkaz.

a)  $0 < a < b \Rightarrow 0 < 1 < \frac{b}{a}$ ,  $0 < a^r \xrightarrow{\text{veta 2.1.44}} 1 < \left(\frac{b}{a}\right)^r = \frac{b^r}{a^r} \Rightarrow a^r < a^r \frac{b^r}{a^r} = b^r$ .

b)  $r < 0 \Rightarrow 0 < -r \Rightarrow 0 < a^{-r} < b^{-r} \Rightarrow 0 < b^r < a^r$ .

c) Označme  $A_r = \{a^s; s \in Q, s \leq r\}$ ,  $A_u = \{a^s; s \in Q, s \leq u\}$ .

Potom na základe  $r < u$  a vety 2.1.18 platí:

$$A_r \subset A_u, \quad a^r = \sup A_r \leq \sup A_u = a^u.$$

Potom existujú  $s_1, s_2 \in Q$  také, že  $r \leq s_1 < s_2 \leq u$ . Z toho vyplýva:

$$a^{s_1} < a^{s_2}, \quad \text{t. j. } a^r = \sup A_r \leq a^{s_1} < a^{s_2} \leq \sup A_u = a^u.$$

d)  $a < 1 \Rightarrow 1 < a^{-1} \Rightarrow a^{-r} = (a^{-1})^r < (a^{-1})^u = a^{-u} \Rightarrow a^u < a^r$ . ■

### Poznámka 2.1.28.K2-poz34

Podobne ako v poznámke ?? definujeme mocninu  $(\pm\infty)^n$  s celočíselným exponentom.

Nech  $n \in N$ ,  $m \in Z$ , potom definujeme  $\infty^n = \infty$ ,  $\infty^{-n} = 0$ ,  $(-\infty)^m = (-1)^m \infty^m$ .

Výrazy  $\infty^0$ ,  $(-\infty)^0$  nedefinujeme.

### • Nerovnice

V mnohých prípadoch sa stáva, že je množina reálnych čísel vyjadrená implicitne ako množina čísel, ktoré spĺňajú nejakú nerovnicu alebo sústavu nerovnic. Takúto množinu nazývame **množina riešení** danej nerovnice, resp. sústavy nerovnic. Často býva riešením týchto nerovnic interval, prípadne zjednotenie intervalov. Pri riešení nerovnic vychádzame z axióm a ich dôsledkov. Tieto nerovnice sa snažíme pomocou ekvivalentných úprav previesť na nerovnice s rovnakými množinami riešení, ktoré vieme nájsť. S riešením nerovnic sa čitateľ už určite stretol. V tejto časti uvedieme niekoľko jednoduchých príkladov.

### Príklad 2.1.7.K2-pr04

Určte množinu  $D$  všetkých  $x \in R$ , pre ktoré platí  $x^2 + x - 6 < 0$ .

### Riešenie.

Je zrejmé, že  $D = \{x \in R; x^2 + x - 6 < 0\}$ . Lenže toto vyjadrenie o  $D$  veľa nehovorí.

Z vety 2.1.9 vyplýva, že vzťah  $x^2 + x - 6 = (x - 2)(x + 3) < 0$  platí iba v prípade, keď jeden z činiteľov  $x - 2$ ,  $x + 3$  je záporný a druhý kladný. To znamená, že musí platiť

$$x - 2 < 0, x + 3 > 0, \quad \text{resp. } x - 2 > 0, x + 3 < 0.$$

Predchádzajúce nerovnosti môžeme zapísať v tvare množín, resp. intervalov takto:

$$\begin{aligned} x - 2 < 0 &\Leftrightarrow x < 2 \Leftrightarrow x \in (-\infty; 2), & x + 3 > 0 &\Leftrightarrow -3 < x \Leftrightarrow x \in (-3; \infty), \\ x - 2 > 0 &\Leftrightarrow 2 < x \Leftrightarrow x \in (2; \infty), & x + 3 < 0 &\Leftrightarrow x < -3 \Leftrightarrow x \in (-\infty; -3). \end{aligned}$$

Z toho vyplýva  $x \in (-\infty; 2) \cap (-3; \infty) = (-3; 2)$ , resp.  $x \in (2; \infty) \cap (-\infty; -3) = \emptyset$ .

To znamená, že  $D = (-3; 2) \cup \emptyset = (-3; 2)$ .

**Iné riešenie.**

Táto úloha sa dá riešiť jednoduchšie pomocou vlastností spojitých funkcií, žiaľ na takýto spôsob riešenia ešte nemáme vybudovaný dostatočný matematický aparát.

Napriek tomu toto riešenie pre ilustráciu uvedieme.

Ľavá strana nerovnice  $f(x) = x^2 + x - 6$ ,  $x \in \mathbb{R}$  je spojitá kvadratická funkcia s nulovými bodmi  $-3$  a  $2$ . Z toho vyplýva, že na intervaloch  $(-\infty; -3)$ ,  $(-3; 2)$  a  $(2; \infty)$  nemení funkčná hodnota  $f(x)$  znamienko (je buď kladná alebo záporná). Takže stačí vybrať po jednom ľubovoľnom bode z uvedených intervalov a vypočítať príslušné funkčné hodnoty.

Platí  $f(-5) = 56 > 0$ ,  $f(0) = -6 < 0$ ,  $f(5) = 24 > 0$ . Takže  $D = (-3; 2)$ . ■

**Príklad 2.1.8.K2-pr05**

Určte množinu  $D = \{x \in \mathbb{R}; |x| - |x - 2| < 0\}$ .

**Riešenie.**

Množinu  $\mathbb{R}$  rozdelíme bodmi  $0$  a  $2$  na tri intervaly  $(-\infty; 0)$ ,  $\langle 0; 2 \rangle$ ,  $\langle 2; \infty \rangle$  a na každom z nich vypočítame danú nerovnicu. Označme  $d = |x| - |x - 2|$ . Potom platí:

$$(-\infty; 0) : d = -x - (2 - x) = -2 < 0 \Rightarrow x \in (-\infty; 0).$$

$$\langle 0; 2 \rangle : d = x - (2 - x) = 2x - 2 < 0 \Rightarrow x < 1 \Rightarrow x \in \langle 0; 2 \rangle \cap (-\infty; 1) = \langle 0; 1 \rangle.$$

$$\langle 2; \infty \rangle : d = x - (x - 2) = 2 < 0 \Rightarrow x \in \emptyset.$$

Z toho vyplýva  $D = (-\infty; 0) \cup \langle 0; 1 \rangle \cup \emptyset = (-\infty; 1)$ . ■

**Príklad 2.1.9.K2-pr06**

Nech  $a, r \in \mathbb{R}$ ,  $r > 0$  sú dané čísla. Určte množinu  $D = \{x \in \mathbb{R}; |x - a| \leq r\}$ .

**Riešenie.**

Predpokladajme najprv, že  $x - a \leq 0$ , t. j.  $x \leq a$ , resp.  $x \in (-\infty; a]$ .

To znamená, že je daná nerovnica ekvivalentná s nerovnicou  $a - x \leq r$ , t. j.  $a - r \leq x$ .

Jej riešením na množine  $\mathbb{R}$  je interval  $x \in (a - r; \infty)$  a riešením na intervale  $(-\infty; a]$  je množina  $(-\infty; a] \cap (a - r; \infty) = (a - r; a]$ .

Ak  $x - a \geq 0$ , potom  $x \in [a; \infty)$  a  $|x - a| = x - a \leq r$ , t. j.  $x \leq a + r$ .

Riešením poslednej nerovnice je interval  $\langle a; \infty \rangle \cap (\infty; a + r) = \langle a; a + r \rangle$ .

Z predchádzajúceho vyplýva, že  $D = (a - r; a] \cup \langle a; a + r \rangle = \langle a - r; a + r \rangle$ .

**Iné riešenie.**

Z geometrického hľadiska predstavuje výraz  $|x - a|$  vzdialenosť bodov  $x$  a  $a$ .

Z toho vyplýva, že nerovnosť  $|x - a| \leq r$  reprezentuje množinu bodov  $x$ , ktorých vzdialenosť od bodu  $a$  je menšia alebo rovná číslu  $r$ .

Na číselnej osi je to úsečka so stredom v bode  $a$ , dĺžkou  $2r$  a krajnými bodmi  $a - r$ ,  $a + r$ .

Z toho vyplýva  $D = \{x \in \mathbb{R}; |x - a| \leq r\} = \langle a - r; a + r \rangle$ . ■

**Poznámka 2.1.29.K2-poz20**

Obdobným postupom ako v príklade 2.1.9 dostaneme:

$$\{x \in \mathbb{R}; |x - a| < r\} = (a - r; a + r),$$

$$\{x \in \mathbb{R}; |x - a| > r\} = \mathbb{R} - \{x \in \mathbb{R}; |x - a| \leq r\} = (-\infty; a - r) \cup (a + r; \infty),$$

$$\{x \in \mathbb{R}; |x - a| \geq r\} = \mathbb{R} - \{x \in \mathbb{R}; |x - a| < r\} = (-\infty; a - r) \cup (a + r; \infty).$$

## Cvičenia

2.1.1. ~~Nájdite~~ ~~Dokážte~~  $a \in Q, b \in I$ , potom  $(a + b) \in I$ . Dokážte.

2.1.2. ~~Nájdite~~ ~~Dokážte~~  $a, b \in Q, \sqrt{ab} \in I$ , potom  $(\sqrt{a} + \sqrt{b}) \in I$ . Dokážte.

2.1.3. ~~Dokážte~~ ~~Dokážte~~, že nasledujúce čísla sú iracionálne:

- a)  $\sqrt{3}$ ,      b)  $\sqrt{2} + \sqrt{3}$ ,      c)  $\sqrt{2} - \sqrt{3}$ ,      d)  $\sqrt{15}$ ,      e)  $\sqrt{3} + \sqrt{5}$ ,      f)  $\sqrt{5}$ .

2.1.4. ~~Nájdite~~ ~~Dokážte~~  $s_1, s_2, \dots, s_n \in Q, t_1, t_2, \dots, t_n \in Q, n \in N$ , pričom  $\sqrt{n} \notin Q$ . Dokážte, že sa dá súčin  $(s_1 + t_1\sqrt{n})(s_2 + t_2\sqrt{n}) \cdots (s_n + t_n\sqrt{n})$  vyjadriť v tvare  $(s + t\sqrt{n})$ , kde  $s, t \in N$ .

2.1.5. ~~Dokážte~~ ~~Dokážte~~ dôsledky 2.1.8.a, 2.1.9.a a), b), c), d), e), f), g), 2.1.10.a a), b), c), d).

2.1.6. ~~Dokážte~~ ~~Dokážte~~ dôsledky 2.1.11.a, 2.1.11.b a), b), c), d), 2.1.11.c a), b), 2.1.12.a.

2.1.7. ~~Dokážte~~ ~~Dokážte~~, že pre  $a, b \in R$  platia nasledujúce tvrdenia:

- a)  $a < b < -1 \Rightarrow \frac{a}{b} < \frac{a+1}{b+1}$ ,      c)  $a > b, b < -1 \Rightarrow \frac{a+1}{b+1} < \frac{a}{b}$ ,  
 b)  $a > b > 0 \Rightarrow \frac{a+1}{b+1} < \frac{a}{b}$ ,      d)  $a > 0, b > 0 \Rightarrow 2 \leq \frac{a}{b} + \frac{b}{a}$ .

2.1.8. ~~Dokážte~~ ~~Dokážte~~, že pre  $a, b, c \in R$  platia nasledujúce tvrdenia:

- a)  $a \leq b, 0 < b, 0 < c \Rightarrow \frac{a}{b} < \frac{a+c}{b+c}$ ,      b)  $a > b, 0 < b, 0 < c \Rightarrow \frac{a+c}{b+c} < \frac{a}{b}$ ,  
 c)  $a < b < -c, 0 < c \Rightarrow \frac{a}{b} < \frac{a+c}{b+c}$ ,      d)  $a > b, 0 < c, b < -c \Rightarrow \frac{a+c}{b+c} < \frac{a}{b}$ .

2.1.9. ~~Nájdite~~ ~~Dokážte~~ infimum a suprémum nasledujúcich množín: ♣

- a)  $\left\{ \frac{2n+1}{n}; n \in N \right\}$ ,      b)  $\left\{ \frac{2+(-1)^n}{n}; n \in N \right\}$ ,      c)  $\left\{ \frac{1+\dots+n}{n^2}; n \in N \right\}$ ,  
 d)  $\left\{ \sin \frac{1}{n!}; n \in N \right\}$ ,      e)  $\left\{ \frac{1}{n+\frac{1}{n}}; n \in N \right\}$ ,      f)  $\left\{ \sqrt{n+\sqrt{n}}; n \in N \right\}$ .

2.1.10. ~~Nájdite~~ ~~Dokážte~~ infimum a suprémum nasledujúcich množín: ♣

- a)  $\{a \in R; |2a + 1| < a < |a - 1|\}$ ,      b)  $\{a \in R; |a^2 - 1| < a < |a + 1|\}$ .

2.1.11. ~~Nájdite~~ ~~Dokážte~~  $A, B \subset R$  sú neprázdne ohraničené množiny. Označme **súčet**, **súčin množín**  $A, B$  symbolmi  $A+B = \{a+b; a \in A, b \in B\}$ ,  $AB = \{ab; a \in A, b \in B\}$  a  **$n$ -tú mocninu množiny**  $A, n \in N$  symbolom  $A^n = \{a^n; a \in A\}$ . Dokážte, že platí:

- a)  $\sup(A+B) = \sup A + \sup B$ ,      b)  $\inf(A+B) = \inf A + \inf B$ ,  
 c)  $\sup(A \cup B) = \max\{\sup A, \sup B\}$ ,      d)  $\inf(A \cup B) = \min\{\inf A, \inf B\}$ ,  
 e)  $\sup(A \cap B) \leq \min\{\sup A, \sup B\}$ ,      f)  $\inf(A \cap B) \geq \max\{\inf A, \inf B\}$ ,  
 g)  $\sup A^n = (\sup A)^n$ ,      h)  $\inf A^n = (\inf A)^n$ .

2.1.12. ~~Nájdite~~ ~~Dokážte~~  $A, B \subset R$  sú neprázdne ohraničené množiny. Dokážte, že aj množiny  $A \cup B, A \cap B, A+B, AB, A^n$  pre  $n \in N$  sú ohraničené množiny.

2.1.13. ~~Dokážte~~ ~~Dokážte~~ trojuholníkovú nerovnosť  $|a_1 + a_2 + \dots + a_n| \leq |a_1| + |a_2| + \dots + |a_n|$ , pričom  $n \in N, a_1, a_2, \dots, a_n \in R$ .

2.1.14. ~~Dokážte~~ ~~Dokážte~~, že pre všetky  $a, b \in R, a > 0, b > 0, ab = 1$  platí  $2 \leq a + b$ .



**2.1.15. cDokážte**, že pre  $a_1, a_2, \dots, a_n \in R^+$ ,  $a_1 a_2 \cdots a_n = 1$  platí  $n \leq a_1 + a_2 + \cdots + a_n$ .

**2.1.16. cDokážte**, že pre všetky  $a_1, a_2, b_1, b_2 \in R$  platí  $(a_1 b_1 + a_2 b_2)^2 \leq (a_1^2 + a_2^2)(b_1^2 + b_2^2)$ .  
[Návod: Nerovnosť  $0 \leq (a_1 + b_1 x)^2 + (a_2 + b_2 x)^2$  platí pre všetky  $x \in R$ .]

**2.1.17. cNájdite**  $a_1, a_2, \dots, a_n \in R^+$ , pričom  $n \in N$ ,  $n \geq 2$ . Dokážte, že platí:

$$\text{a) } n \leq \frac{a_1}{a_2} + \frac{a_2}{a_3} + \cdots + \frac{a_{n-1}}{a_n}, \quad \text{b) } \sqrt[n]{a_1 a_2 \cdots a_n} \leq \frac{a_1 + a_2 + \cdots + a_n}{n}.$$

**2.1.18. cDokážte**, že pre všetky  $n \in N$  platí:

$$\begin{aligned} \text{a) } \frac{1}{1^2} + \frac{1}{2^2} + \cdots + \frac{1}{n^2} &< 2, & \text{b) } \frac{1}{2} &< \frac{1}{n+1} + \frac{1}{n+2} + \cdots + \frac{1}{2n}, \\ \text{c) } \frac{1}{1!} + \frac{1}{2!} + \cdots + \frac{1}{n!} &< 3, & \text{d) } \frac{1}{3} &< \frac{1}{2n+1} + \frac{1}{2n+2} + \cdots + \frac{1}{3n}. \end{aligned}$$

**2.1.19. cDokážte**, že pre všetky  $n \in N$  platí:    a)  $\sqrt{n} \leq \sqrt[n]{n!}$ ,    b)  $(1 + \frac{1}{n})^n < 3$ .

**2.1.20. cDokážte**, že pre všetky  $n \in N$  platí  $\frac{n}{2} < 1 + \frac{1}{2} + \frac{1}{3} + \cdots + \frac{1}{2^{n-1}} < n$ .

**2.1.21. cRiešte** v množine  $R$  nerovnice: ♣

$$\begin{aligned} \text{a) } \sqrt{x} + \sqrt{x+1} + \sqrt{x+2} &\leq 2, & \text{b) } \sqrt{x} + \sqrt{x+1} - \sqrt{x+2} &\geq 2, \\ \text{c) } \frac{1}{x-1} + \frac{1}{x+1} + \frac{1}{x-2} + \frac{1}{x+2} &< 0, & \text{d) } \frac{1}{x-1} + \frac{1}{x+1} - \frac{1}{x-2} + \frac{1}{x+2} &> 0, \\ \text{e) } |x| + |x+1| + |x+2| &\leq 2, & \text{f) } x(x-1)(x+1)(x-2)(x+2) &> 0. \end{aligned}$$

**2.1.22. cRiešte** v množine  $R$  sústavy nerovnic: ♣

$$\begin{aligned} \text{a) } 3x - 2 &\leq 2x + 1 < 6x - 1, & \text{b) } 3x + 2 &< 2x - 2 < 3x + 5, \\ \text{c) } 0 &< 2|x-3| + 3|2x-3| < 3x - 1, & \text{d) } 3x - 3 &< 2x + 1, x - 4 < 3x - 2, \\ \text{e) } 0 &< x^2 - 3x + 2, 0 < x^2 - 4x + 3, & \text{f) } 0 &< x^2 - 3x + 2, 0 < x^2 + 2x - 1. \end{aligned}$$

**2.1.23. cRiešte** v množine  $R$  nerovnice: ♣

$$\begin{aligned} \text{a) } 2x^2 - 3x + 2 &< 0, & \text{b) } 2x^3 - 3x + 1 &< 0, & \text{c) } 2x^2 - 3x - 2 &< 0, \\ \text{d) } x^2 + x + 1 &< 0, & \text{e) } 0 < x^2 - 5x - 24, & & \text{f) } 0 < x^2 - 14x - 24, \\ \text{g) } 0 < x^2 - 2x + 5, & & \text{h) } 0 < 2x^2 + 3x + 4, & & \text{i) } 0 < x^3 + x^2 - 2x. \end{aligned}$$

**2.1.24. cRiešte** v množine  $R$  nerovnice: ♣

$$\begin{aligned} \text{a) } 1 + \frac{x+4}{x+3} &< \frac{x+2}{x+1}, & \text{b) } \frac{x}{x+2} + \frac{x+2}{x} &\leq 3, & \text{c) } 1 < \frac{2}{x} + \frac{3}{x-1} + \frac{4}{x-2}, \\ \text{d) } \frac{x+1}{x+3} - \frac{x+5}{x+6} &< 0, & \text{e) } \frac{x+3}{x-3} + \frac{x+4}{x-4} &< 2, & \text{f) } \frac{x+2}{x+3} + \frac{2x+2}{2x+3} < 2, \\ \text{g) } 0 < \frac{x^2-x-2}{x^2+x-2}, & & \text{h) } 0 < \frac{x^2+x-2}{x^2-x-2}, & & \text{i) } \frac{|x+2|}{x-2} < \frac{|x+3|}{x-3}. \end{aligned}$$

**2.1.25. cRiešte** v množine  $R$  nerovnice: ♣

$$\begin{aligned} \text{a) } 0 < \frac{x-2}{x+4}, & \text{b) } \frac{x(x+2)}{x^2-1} < x, & \text{c) } \frac{x+1}{x+3} \leq \frac{x+5}{x+7}, & \text{d) } \frac{x+1}{x-1} < \frac{x-1}{x+1}, \\ \text{e) } 1 < \frac{x-2}{x+4}, & \text{f) } \frac{x+2}{x^2-x} < 2, & \text{g) } \frac{x+1}{x-1} \leq \frac{x-1}{x+1}, & \text{h) } \frac{x+2}{x-2} \leq \frac{x}{x-1}. \end{aligned}$$

**2.1.26. cNájdite** všetky  $x \in R$ , pre ktoré predstavujú nasledujúce výrazy reálne čísla: ♣

$$\text{a) } \sqrt{x-3} + \sqrt{4-x}, \quad \text{b) } \frac{x}{\sqrt{x-3}} + \frac{x}{\sqrt{4-x}}, \quad \text{c) } \frac{\sqrt{x-3}}{\sqrt{x-3}} + \sqrt{\frac{4-x}{4-x}}.$$



**2.1.27.** Najdte všetky  $x \in R$ , pre ktoré predstavujú nasledujúce výrazy reálne čísla: ♣

- a)  $\sqrt{(1-x)^{-1}}$ ,      b)  $\sqrt{1 - \operatorname{sgn} x}$ ,      c)  $\sqrt{\operatorname{sgn} x - 1}$ ,      d)  $\sqrt{|x| - x}$ ,  
 e)  $\sqrt{\frac{x}{x \operatorname{sgn} x - x}}$ ,      f)  $\frac{x}{\sqrt{x \operatorname{sgn} x - x}}$ ,      g)  $\frac{x \operatorname{sgn} x - x}{x \operatorname{sgn} x + x}$ ,      h)  $\frac{x^2 - 2}{3 - x^2}$ ,  
 i)  $\sqrt{x^3 + x^2 - x}$ ,      j)  $\sqrt{x \operatorname{sgn} x - x}$ ,      k)  $\sqrt{\operatorname{sgn} x - x^2}$ ,      l)  $\sqrt{x + x^3}$ .

**2.1.28.** Dokažte, že ak  $a, b \in R$ , potom:      a)  $\sqrt{ab} \leq \frac{a+b}{2}$       b)  $\left(\frac{a+b}{2}\right)^n \leq \frac{a^n + b^n}{2}$ .

**2.1.29.** Dokažte, že ak  $a, b \in R$ ,  $a \leq b$ , potom:  $\frac{(a-b)^2}{8b} \leq \frac{a+b}{2} - \sqrt{ab} \leq \frac{(a-b)^2}{8a}$ .

**2.1.30.** Do ktorej množiny patrí číslo  $x$ , ak platí: ♣

- a)  $x^2 + 3x - 1 \in (2; 3)$ ,      b)  $x^2 - 4x + 1 \in (2; \infty)$ ,      c)  $x^2 + x - 1 \in R - (1; 2)$ .

**2.1.31.** Určte veľkosti strán pravouhlého trojuholníka, ak rozdiel odvesien je rovný 1 a prepona je dlhšia ako 11. ♣

**2.1.32.** Aké zvolíme parameter  $a \in R$  v danej rovnici: ♣

- a)  $ax^2 + (2a - 1)x - 2 = 0$ , aby jej korene boli z intervalu  $(-2; 2)$ .  
 b)  $x^2 + ax + 12 = 0$ , aby mala reálne, resp. komplexné korene.  
 c)  $x^2 + 5x + a = 0$ , aby mala reálne, resp. komplexné korene.

**2.1.33.** Dokažte, že zo všetkých pravouhlých rovnobežníkov s daným obvodom  $s$  má najväčší plošný obsah štvorec.

**2.1.34.** Dokažte, že zo všetkých pravouhlých rovnobežníkov s daným plošným obsahom  $P$  má najmenší obvod štvorec.

## 2.2 Topologické a metrické vlastnosti reálnych čísel

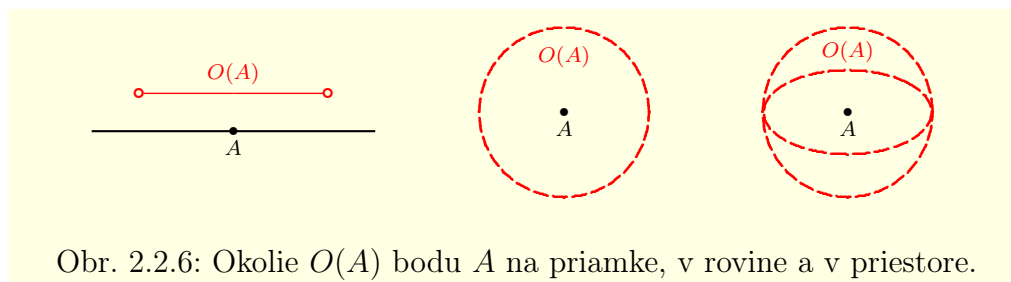
### 2.2.1 Okolie bodu

Topologická štruktúra vyjadruje polohové vzťahy medzi prvkami a podmnožinami danej množiny, ktoré charakterizujú vzdialenosť skúmaných objektov. Samotné slovo *topológia*<sup>14</sup> sa zaviedlo do matematiky v polovici 19. storočia. Pomocou topologických pojmov môžeme definovať napríklad spojitosť a limitu funkcie, konvergenciu postupnosti. Základným topologickým pojmom je **okolie bodu**. Najprv uvedieme geometrickú interpretáciu okolia bodu. Situácia je znázornená na obrázku 2.2.6.

Okolím bodu  $A$  na priamke je vnútro úsečky so stredom v bode  $A$  (t. j. úsečka bez krajných bodov), okolím bodu  $A$  v rovine je vnútro kruhu so stredom v bode  $A$  a okolím bodu  $A$  v priestore je vnútro gule so stredom v bode  $A$ . Okolie označujeme symbolmi  $O(A)$ ,  $O_1(A)$ ,  $O_2$ ,  $O'(A)$ ,  $O$  a podobne.

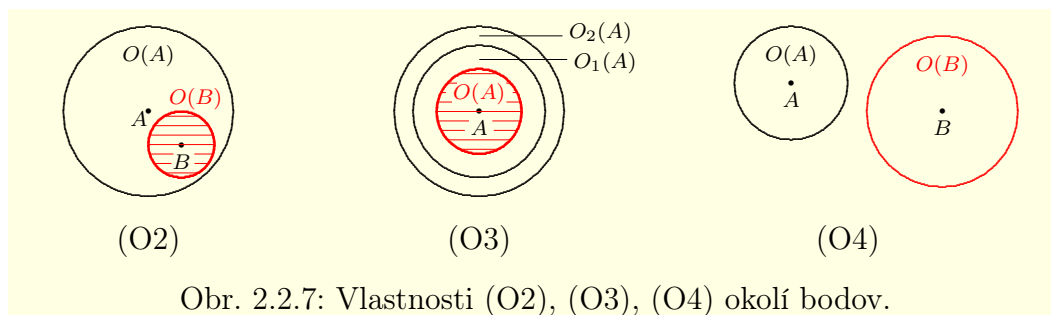
Označme množinu bodov priamky (roviny, priestoru, resp. nejakej množiny) symbolom  $M$ . Nech  $A \in M$ , potom množina všetkých okolí bodu  $A$  tvorí systém podmnožín množiny  $M$ . Nazývame ho **systém okolí bodu  $A$**  a označujeme  $\mathcal{O}_A$ . **Systémom okolí bodov množiny  $M$**  nazývame zjednotenie systémov okolí  $\mathcal{O}_A$ , kde  $A \in M$ .

<sup>14</sup>Z gréckeho *topos* — miesto a *logos* — zákon, slovo.

Obr. 2.2.6: Okolie  $O(A)$  bodu  $A$  na priamke, v rovine a v priestore.

Systémy okolí bodov množiny  $M$  spĺňajú vlastnosti (O1) — (O4), ktoré nazývame **axiómy okolí**. Do matematiky ich zaviedol na začiatku 20. storočia nemecký matematik *Felix Hausdorff* [1868–1942], preto sa tiež nazývajú **Hausdorffove axiómy**.

- (O1) Ku každému bodu  $A \in M$  existuje aspoň jedno okolie  $O(A)$ , t. j.  $\mathcal{O}_A \neq \emptyset$  a pre každé okolie  $O \in \mathcal{O}_A$  platí  $A \in O$ .
- (O2) Pre každé okolie  $O(A) \in \mathcal{O}_A$  a pre každý bod  $B \in O(A)$ ,  $B \neq A$ , existuje okolie  $O(B) \in \mathcal{O}_B$  také, že  $O(B) \subset O(A)$ .
- (O3) Pre všetky okolia  $O_1(A), O_2(A) \in \mathcal{O}_A$  existuje okolie  $O(A) \in \mathcal{O}_A$  také, že platí  $O(A) \subset O_1(A) \cap O_2(A)$ .
- (O4) Ak  $A \neq B$ , potom existujú  $O(A) \in \mathcal{O}_A$ ,  $O(B) \in \mathcal{O}_B$  také, že  $O(A) \cap O(B) = \emptyset$ .



Obr. 2.2.7: Vlastnosti (O2), (O3), (O4) okolí bodov.

Z uvedených axióm okolí vyplývajú mnohé dôsledky. Najdôležitejší z nich je uvedený v nasledujúcej vete.

### Veta 2.2.1.K2-veta44

Nech  $A, B \in M$ ,  $O(A) \in \mathcal{O}_A$ ,  $O(B) \in \mathcal{O}_B$  a nech bod  $C \in O(A) \cap O(B)$ .

Potom existuje  $O(C) \in \mathcal{O}_C$  tak, že  $O(C) \subset O(A) \cap O(B)$ .

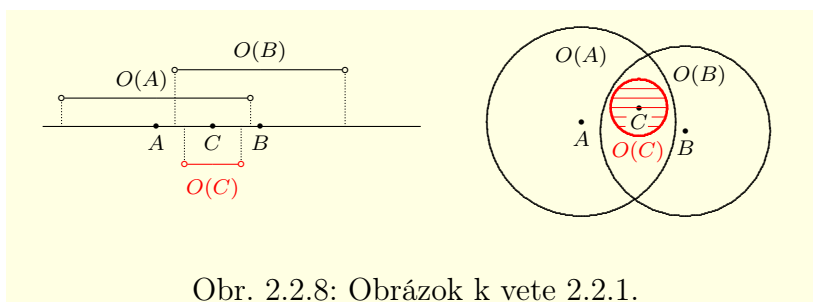
#### Dôkaz.

$$\left. \begin{array}{l} C \in O(A) \xrightarrow{(O2)} \exists O_1 \in \mathcal{O}_C: O_1 \subset O(A) \\ C \in O(B) \xrightarrow{(O2)} \exists O_2 \in \mathcal{O}_C: O_2 \subset O(B) \end{array} \right\} \xrightarrow{(O3)} \exists O(C) \in \mathcal{O}_C: O(C) \subset O_1 \cap O_2.$$

$$O_1 \cap O_2 \subset O(A) \cap O(B) \implies O(C) \subset O(A) \cap O(B) \quad (\text{viď obrázok 2.2.8}). \blacksquare$$

#### • Okolie bodu v množine $R$

Ako sme už spomínali, množinu  $R$  geometricky reprezentuje priamka. Nech  $a \in R$ , potom interval  $(a - \delta; a + \delta)$ , kde  $\delta$  je nejaké kladné číslo, nazývame  **$\delta$ -okolím bodu  $a$**  (**okolím bodu  $a$** ). Číslo  $\delta$



Obr. 2.2.8: Obrázok k vete 2.2.1.

nazývame **polomer (charakteristika) okolia**. Okolie bodu  $a$  označujeme  $O_\delta(a)$ ,  $O(\delta, a)$ , resp.  $O(a)$  v prípade, že veľkosť polomeru  $\delta$  nie je podstatná.

Interval  $(r; \infty)$ , kde  $r \in R$  nazývame **okolím ( $r$ -okolím) bodu  $\infty$**  a označujeme  $O_r(\infty)$ , resp.  $O(\infty)$ . Interval  $(-\infty; r)$ , kde  $r \in R$  nazývame **okolím ( $r$ -okolím) bodu  $-\infty$**  a označujeme  $O_r(-\infty)$ , resp.  $O(-\infty)$ . Systém všetkých okolí bodov  $\infty$  [resp.  $-\infty$ ] budeme označovať  $O_\infty$  [resp.  $O_{-\infty}$ ].

Niekedy je výhodné z okolia  $O(a)$ ,  $a \in R$  vyňať bod  $a$ . Množinu  $O(a) - \{a\}$  nazývame **prstencovým (rýdzim)  $\delta$ -okolím bodu  $a \in R$**  a označujeme  $P_\delta(a)$ ,  $P(\delta, a)$ , resp.  $P(a)$ .

### Poznámka 2.2.1.K2-poz86

Okolia  $O(\pm\infty)$  sú zároveň aj prstencovými okoliami bodov  $\pm\infty$ .

### Poznámka 2.2.2.K2-poz36

Za okolie môžeme považovať tiež množiny  $R$  a  $\emptyset$ . Množina  $R = (-\infty; \infty)$  je okolím ľubovoľného bodu  $a \in R^*$  (t. j. aj  $\pm\infty$ ) s polomerom  $r = \infty$  a množina  $\emptyset = (a; a)$  je okolím každého bodu  $a \in R$  s polomerom  $r = 0$ .

Je zrejmé, že systém všetkých okolí všetkých bodov z množiny  $R$  spĺňa axiomy (O1) — (O4). Okolia bodov  $a \in R^*$  je niekedy výhodné vyjadriť pomocou absolútnej hodnoty, t. j. pomocou vzdialenosti jednotlivých bodov. Nech  $a \in R$ ,  $\delta, r \in R$ ,  $\delta > 0$ , potom:

$$\begin{aligned} O_\delta(a) &= (a - \delta; a + \delta) = \{x \in R; a - \delta < x < a + \delta\} = \\ &= \{x \in R; \delta < x - a < \delta\} = \{x \in R; |x - a| < \delta\}, \end{aligned}$$

$$\begin{aligned} P_\delta(a) &= O_\delta(a) - \{a\} = (a - \delta; a + \delta) - \{a\} = (a - \delta; a) \cup (a; a + \delta) = \\ &= \{x \in R; a - \delta < x < a\} \cup \{x \in R; a < x < a + \delta\} = \{x \in R; 0 < |x - a| < \delta\}, \end{aligned}$$

$$O_r(\infty) = (r; \infty) = \{x \in R; r < x < \infty\}, \quad O_r(-\infty) = (-\infty; r) = \{x \in R; -\infty < x < r\}.$$

### Príklad 2.2.1.K2-pr09

Každý otvorený interval  $(a; b)$ , kde  $a, b \in R$ ,  $a < b$ , je okolím nejakého bodu  $c \in R$ .

Je zrejmé, že bod  $c = \frac{a+b}{2}$  a polomer  $\delta = \frac{b-a}{2}$ . ■

### Poznámka 2.2.3.K2-poz37

Všetky body v rovine môžeme vyjadriť pomocou karteziánskych súradníc usporiadanou dvojicou reálnych čísel. Preto rovinu obyčajne označujeme  $R^2$ . Nech  $a, x \in R^2$ ,  $a = [a_1; a_2]$ ,  $x = [x_1; x_2]$ . Pre vzdialenosť bodov  $a$  a  $x$  platí  $\sqrt{(x_1 - a_1)^2 + (x_2 - a_2)^2}$ , takže okolia  $O_\delta(a)$ ,  $P_\delta(a)$  môžeme vyjadriť v tvare:

$$O_\delta(a) = \{x \in R^2; \sqrt{(x_1 - a_1)^2 + (x_2 - a_2)^2} < \delta\},$$

$$P_\delta(a) = O_\delta(a) - \{a\} = \{x \in R^2; 0 < \sqrt{(x_1 - a_1)^2 + (x_2 - a_2)^2} < \delta\}.$$

V priestore  $R^3$  je situácia podobná. Ak  $a, x \in R^3$ ,  $a = [a_1; a_2; a_3]$ ,  $x = [x_1; x_2; x_3]$ , potom:

$$O_\delta(a) = \{x \in R^3; \sqrt{(x_1 - a_1)^2 + (x_2 - a_2)^2 + (x_3 - a_3)^2} < \delta\},$$

$$P_\delta(a) = O_\delta(a) - \{a\} = \{x \in R^3; 0 < \sqrt{(x_1 - a_1)^2 + (x_2 - a_2)^2 + (x_3 - a_3)^2} < \delta\}.$$

### • Relatívne okolie bodu

Ak skúmame vzájomnú polohu bodov a podmnožín nejakej množiny  $A \subset R$ , väčšinou nás nezaujímajú body nepatriace do množiny  $A$ . V tomto prípade budeme okolia uvažovať bez bodov, ktoré nepatria do množiny  $A$ .

Nech  $A \subset R$ ,  $a \in A$  a nech  $O_\delta(a) \in \mathcal{O}_a$ , potom množinu  $O_\delta(a) \cap A$  nazývame **relatívnym okolím (relatívnym  $\delta$ -okolím, resp. relatívnym okolím s polomerom  $\delta$ ) bodu  $a$  v množine  $A$  (vzhľadom na množinu  $A$ )** a označujeme  $O_\delta^A(a)$ , resp.  $O^A(a)$ .

V matematike sa často používajú okolia vzhľadom na množinu  $(-\infty; a)$ , resp.  $\langle a; \infty$ , t. j. ľavé a pravé okolia. **Pravým  $\delta$ -okolím bodu  $a$**  nazývame množinu  $O_\delta^+(a) = O_\delta(a) \cap \langle a; \infty = \langle a; a + \delta$  a množinu  $O_\delta^-(a) = O_\delta(a) \cap (-\infty; a) = (a - \delta; a)$  nazývame **ľavým  $\delta$ -okolím bodu  $a$** . Podobne  $P_\delta^+(a) = (a; a + \delta)$  nazývame **pravým prstencovým  $\delta$ -okolím bodu  $a$**  a  $P_\delta^-(a) = (a - \delta; a)$  nazývame **ľavým prstencovým  $\delta$ -okolím bodu  $a$** .

## 2.2.2 Otvorené a uzavreté množiny

Nech  $A \subset R$ ,  $A \neq \emptyset$ . Bod  $a \in A$  sa nazýva **vnútorný bod množiny  $A$** , ak existuje okolie  $O(a) \in \mathcal{O}_a$  také, že  $O(a) \subset A$ . Množinu všetkých vnútorných bodov množiny  $A$  nazývame **vnútro množiny  $A$**  a označujeme  $\text{int } A$ , resp.  $A^0$ .

Bod  $a \in R$  sa nazýva **vonkajší bod množiny  $A$**  práve vtedy, ak je vnútorným bodom doplnkovej množiny  $A' = R - A$ . Množinu všetkých vonkajších bodov množiny  $A$  nazývame **vonkajšok množiny  $A$**  a označujeme  $\text{ext } A$ .

Ak bod  $a \in R$  nie je ani vnútorným bodom, ani vonkajším bodom množiny  $A$ , potom ho nazývame **hraničný bod množiny  $A$** . To znamená, že v každom jeho okolí leží aspoň jeden bod z množiny  $A$  a aspoň jeden bod z množiny  $A'$ . Množinu všetkých hraničných bodov množiny  $A$  nazývame **hranica množiny  $A$**  a označujeme  $\partial A$ .

### Poznámka 2.2.4.K2-poz40

Nech  $A \subset R$ , potom pre množiny  $A$  a  $A'$  platí  $\partial A = \partial A'$ ,  $\text{int } A = \text{ext } A'$ ,  $\text{ext } A = \text{int } A'$ .

Množiny  $\text{int } A$ ,  $\partial A$ ,  $\text{ext } A$  sú disjunktné, t. j.  $\text{int } A \cap \partial A = \text{int } A \cap \text{ext } A = \text{ext } A \cap \partial A = \emptyset$ .

Z toho vyplýva  $(\text{int } A \cup \partial A)' = \text{ext } A$ ,  $(\text{int } A \cup \text{ext } A)' = \partial A$ ,  $(\text{ext } A \cup \partial A)' = \text{int } A$ .

### Poznámka 2.2.5.K2-poz44

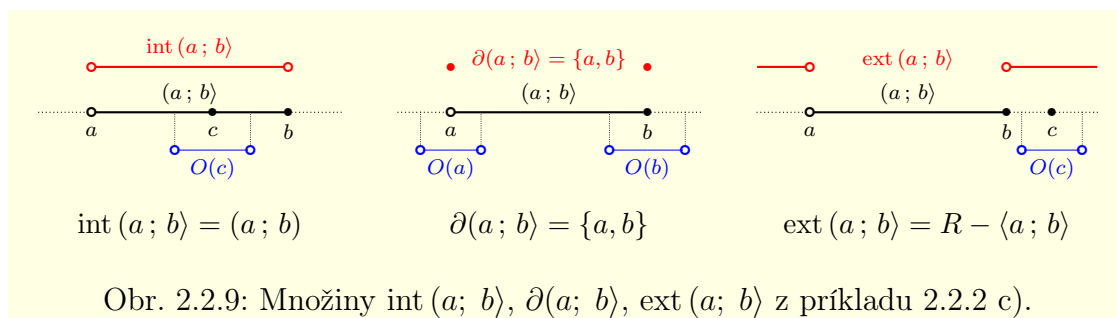
Nech  $A \subset R$ ,  $B \subset R$  sú neprázdne množiny také, že  $A \subset B$ .

Z definície vyplýva, že ak je  $a$  vnútorným bodom množiny  $A$ , potom je tiež vnútorným bodom  $B$ . A naopak, ak je  $a$  vonkajším bodom  $B$ , potom je tiež vonkajším bodom  $A$ .

### Príklad 2.2.2.K2-pr10

a) Pre množiny  $\emptyset$ ,  $R$  platí:  $\text{int } \emptyset = \partial \emptyset = \partial R = \text{ext } R = \emptyset$ ,  $\text{ext } \emptyset = \text{int } R = R$ .

b) Pre množinu racionálnych čísel  $Q$  platí  $\partial Q = R$ .



c) Ak  $a, b \in R$ ,  $a < b$ , potom platí (obr. 2.2.9):

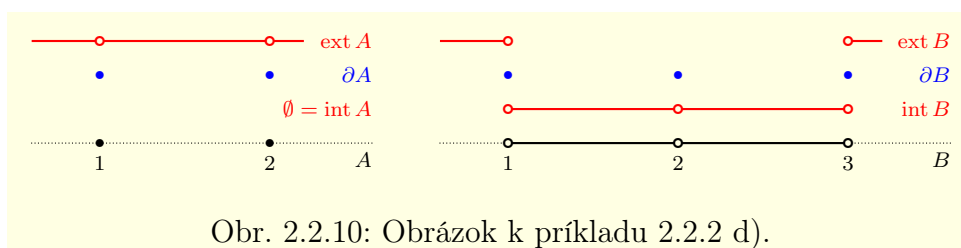
$$\partial(a; b) = \partial(a; b) = \partial\langle a; b \rangle = \partial\langle a; b \rangle = \{a, b\},$$

$$\text{ext}(a; b) = \text{ext}(a; b) = \text{ext}\langle a; b \rangle = \text{ext}\langle a; b \rangle = R - \langle a; b \rangle = (-\infty; a) \cup (b; \infty),$$

$$\text{int}(a; b) = \text{int}(a; b) = \text{int}\langle a; b \rangle = \text{int}\langle a; b \rangle = (a; b).$$

d) Nech  $A = \{1, 2\}$ ,  $B = (1; 2) \cup (2; 3)$ , potom platí (obr. 2.2.10):

$$\text{int } A = \emptyset, \text{ ext } A = R - \{1, 2\}, \partial A = A, \text{ int } B = B, \text{ ext } B = (-\infty; 1) \cup (3; \infty), \partial B = \{1, 2, 3\}. \blacksquare$$



Bod  $a \in R$  sa nazýva **hromadný bod množiny**  $A \subset R$  práve vtedy, ak v každom jeho okolí  $O(a)$  leží aspoň jeden bod z množiny  $A$ , ktorý je rôzny od bodu  $a$ , t. j. v každom jeho prstencovom okolí  $P(a)$  leží aspoň jeden bod z množiny  $A$ . To znamená, že pre všetky prstencové okolia  $P(a)$  platí  $P(a) \cap A \neq \emptyset$ .

Z predchádzajúcej definície vyplýva, že bod  $a$  je hromadný bod množiny  $A$  práve vtedy, ak pre všetky  $\varepsilon > 0$  existuje prvok  $b \neq a$  taký, že  $b \in O_\varepsilon(a) \cap A$ .

Hromadné body množiny reálnych čísel môžu byť obojstranné alebo jednostranné. Bod  $a$  sa nazýva **obojstranným hromadným bodom množiny**  $A$ , ak v každom jeho ľavom prstencovom okolí  $P^-(a)$  a v každom jeho pravom prstencovom okolí  $P^+(a)$  leží aspoň jeden bod z množiny  $A$ .

Bod  $a$  sa nazýva **ľavým** [resp. **pravým**] **hromadným bodom množiny**  $A$ , ak v každom jeho ľavom prstencovom okolí  $P^-(a)$  [resp. pravom prstencovom okolí  $P^+(a)$ ] leží aspoň jeden bod z množiny  $A$ . Súhrne ich nazývame **jednostrannými hromadnými bodmi**. Priamo z definície vyplýva nasledujúca veta.

### Veta 2.2.2.K2-veta95

Bod  $a$  je obojstranným hromadným bodom množiny  $A \subset R$  práve vtedy, ak je ľavým a zároveň aj pravým hromadným bodom množiny  $A$ .

**Uzáverom množiny**  $A \subset R$  (**uzáverom v množine**  $R$ ) nazývame zjednotenie množiny  $A$  s množinou všetkých hromadných bodov  $a \in R$  množiny  $A$ . Uzáver množiny  $A$  označujeme symbolom  $\overline{A}$ . Množina  $A \subset R$  sa nazýva **uzavretá** (**uzavretá v množine**  $R$ ), ak obsahuje všetky svoje hromadné body  $a \in R$ , t. j. ak  $A = \overline{A}$ .

Bod  $a \in A$ , ktorý nie je hromadným bodom množiny  $A$  sa nazýva **izolovaný bod množiny  $A$** . Množina, ktorá obsahuje iba izolované body sa nazýva **izolovaná množina**. Množina  $A \subset R$  sa nazýva **otvorená**, ak každý jej bod je vnútorný, t. j. ak  $A = \text{int } A$ .

**Poznámka 2.2.6.K2-poz45**

Z definície vyplýva, že ak bod  $a$  je hromadným bodom množiny  $A \subset R$ , potom je tiež hromadným bodom ľubovoľnej jej nadmnožiny  $B \subset R$ .

**Poznámka 2.2.7.K2-poz39**

Množina prirodzených čísel  $N = \{1, 2, 3, \dots\}$  nemá hromadný bod patriaci do  $R$ . Ale je zrejmé, že v každom okolí bodu  $\infty$  leží aspoň jedno prirodzené číslo. Preto rozšírime definíciu hromadného bodu na množinu  $R^* = R \cup \{\pm\infty\}$ .

Bod  $a \in R^*$  sa nazýva **hromadný bod množiny  $A \subset R$**  práve vtedy, ak v každom jeho okolí leží aspoň jeden bod z množiny  $A$ , ktorý je rôzny od bodu  $a$ .

**Poznámka 2.2.8.K2-poz74**

Je zrejmé, že ak v danom okolí  $O(a)$  leží aspoň jeden bod, ktorý je rôzny od  $a$ , leží ich tam nekonečne veľa. To znamená, že  $a \in R$  je hromadným bodom množiny  $A \subset R$  práve vtedy, ak v každom jeho okolí leží nekonečne veľa bodov z množiny  $A$ , ktoré sú rôzne od bodu  $a$ .

**Poznámka 2.2.9.K2-poz89**

Pri vyšetrowaní hromadných bodov nejakej reálnej množiny  $A \subset R$  budeme overovať aj body  $\pm\infty$ . Napríklad medzi hromadné body intervalu  $(1; \infty)$  patrí aj bod  $\infty$ .

**Príklad 2.2.3.K2-pr11**

- Množina  $\emptyset$  je otvorená a zároveň uzavretá, množina  $R$  je otvorená.
- Nech  $a, b \in R$ ,  $a < b$ . Interval  $(a; b)$  je otvorená množina,  $\langle a; b \rangle$  je uzavretá množina<sup>15</sup> a  $(a; b)$ ,  $\langle a; b \rangle$  nie sú ani otvorené ani uzavreté množiny. Uzáverom všetkých týchto množín je  $\langle a; b \rangle$ .
- Interval  $(-\infty; 1)$  je otvorená množina. Jeho uzáverom je množina  $(-\infty; 1) \cup \{-\infty\}$ .
- Množina  $\{1, 2, 3, 4, 5, 6\}$  nemá hromadné body. To znamená, že obsahuje všetky svoje hromadné body a je uzavretá. Navyše každý jej bod je izolovaný.
- Množina  $N = \{1, 2, 3, \dots\}$  neobsahuje svoj hromadný bod  $\infty$ , preto nie je uzavretá. Všetky jej body sú izolované, takže je izolovaná.
- Množina  $Q = \{\frac{m}{n}; m \in Z, n \in N\}$  nie je uzavretá, pretože neobsahuje všetky svoje hromadné body (neobsahuje napríklad hromadný bod  $\sqrt{2}$ ). Nie je ani otvorená, pretože žiaden jej bod nie je vnútorný. ■

**Príklad 2.2.4.K2-pr12**

Nájdite hromadné body množiny  $A = \{\frac{1}{n}, 1 + \frac{1}{n}; n \in N\}$ .

**Riešenie.**

Body  $\frac{1}{n}$ ,  $1 + \frac{1}{n}$  patriace do množiny  $A$  môžeme zoradiť podľa veľkosti:

$$0 < \dots < \frac{1}{n+1} < \frac{1}{n} < \frac{1}{n-1} < \dots < \frac{1}{3} < \frac{1}{2} < 1 < \dots < 1 + \frac{1}{n+1} < 1 + \frac{1}{n} < \dots < 2.$$

Nech  $\delta = \frac{1}{(n+1)^2}$ ,  $n \in N$ . Uvažujme okolia

$$O_\delta(\frac{1}{n}) = (\frac{1}{n} - \delta; \frac{1}{n} + \delta), \quad O_\delta(1 + \frac{1}{n}) = (1 + \frac{1}{n} - \delta; 1 + \frac{1}{n} + \delta).$$

<sup>15</sup>Preto aj názov otvorený a uzavretý interval.

Ukážeme, že množina  $A$  je izolovaná. Nech  $n \in \mathbb{N}$ , potom platí:

$$\left(1 + \frac{1}{n}\right) - \left(1 + \frac{1}{n+1}\right) = \frac{1}{n} - \frac{1}{n+1} = \frac{(n+1) - n}{n(n+1)} = \frac{1}{n(n+1)} > \frac{1}{(n+1)^2},$$

$$\left(1 + \frac{1}{n-1}\right) - \left(1 + \frac{1}{n}\right) = \frac{1}{n-1} - \frac{1}{n} = \frac{n - (n-1)}{(n-1)n} = \frac{1}{n(n-1)} > \frac{1}{(n+1)^2}.$$

Z toho vyplýva, že do okolia  $O_\delta(\frac{1}{n})$  nepatrí okrem bodu  $\frac{1}{n}$  žiadny iný bod z množiny  $A$  (obr. 2.2.11). Taktiež do okolia  $O_\delta(1 + \frac{1}{n})$  nepatrí okrem bodu  $1 + \frac{1}{n}$  žiadny iný bod z množiny  $A$ . To znamená, že platí:

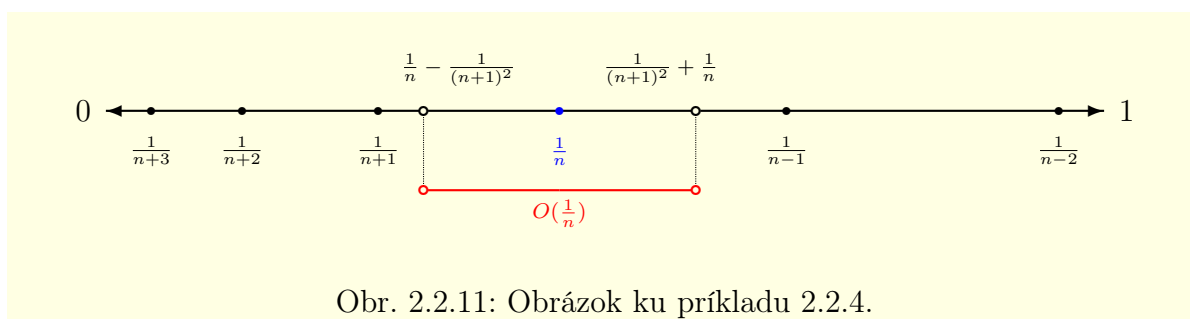
$$O_\delta(\frac{1}{n}) \cap A = \{\frac{1}{n}\}, \quad O_\delta(1 + \frac{1}{n}) \cap A = \{1 + \frac{1}{n}\}.$$

Takže body  $\frac{1}{n}$  a  $1 + \frac{1}{n}$  sú izolované body množiny  $A$ .

Z vety 2.1.27 vyplýva, že pre každé  $\delta > 0$  existuje  $n_0 \in \mathbb{N}$  také, že  $0 < \frac{1}{n_0} < \delta$ , t. j.

$$0 - \delta < \frac{1}{n_0} < 0 + \delta, \quad \text{t. j.} \quad 1 - \delta < 1 + \frac{1}{n_0} < 1 + \delta.$$

To znamená, že body 0 a 1 sú hromadné body množiny  $A$ . ■



Obr. 2.2.11: Obrázok ku príkladu 2.2.4.

### Veta 2.2.3.K2-veta45

Nech  $A \subset \mathbb{R}$ , potom  $A$  je otvorená práve vtedy, ak  $A' = \mathbb{R} - A$  je uzavretá.

#### Dôkaz.

$NP \Rightarrow$ : Sporom. Nech je  $A$  otvorená a  $A'$  nie je uzavretá.

$A'$  nie je uzavretá, t. j. existuje jej hromadný bod  $a \in \mathbb{R}$  taký, že  $a \notin A'$ , t. j.  $a \in A$ .

$A$  je otvorená, potom existuje okolie  $O(a) \subset A$ , t. j.  $O(a) \cap A' = \emptyset$ . To je ale spor s tým, že  $a$  je hromadný bod množiny  $A'$ .

$PP \Leftarrow$ : Sporom. Nech  $A'$  je uzavretá a  $A$  nie je otvorená.

$A$  nie je otvorená, t. j. existuje bod  $a \in A$ , ktorý nie je vnútorný. To znamená, že  $a$  je hraničný bod a v každom jeho okolí  $O(a)$  leží aspoň jeden bod  $b \in A'$ ,  $b \neq a$ . To znamená, že  $a \in A$ , t. j.  $a \notin A'$ , je hromadný bod množiny  $A'$ . Spor s tým, že  $A'$  je uzavretá. ■

### Veta 2.2.4.K2-veta48

Nech  $A \subset \mathbb{R}$ , potom  $A \cup \partial A = \overline{A}$ .

#### Dôkaz.

Nech  $a \in A \cup \partial A$ . Ak  $a \in A$ , potom  $a \in \overline{A}$ .

Ak  $a \in \partial A$  a  $a \notin A$ , potom pre každé okolie  $O(a) \in \mathcal{O}_a$  platí  $O(a) \cap A \neq \emptyset$ .

To znamená, že  $a$  je hromadný bod množiny  $A$ , t. j.  $a \in \overline{A}$ .

Nech  $a \in \overline{A}$ . Ak  $a \in A$ , potom  $a \in A \cup \partial A$ .

Ak  $a \notin A$ , potom  $a$  je hromadný bod množiny  $A$  a pre všetky  $O(a) \in \mathcal{O}_a$  platí  $O(a) \cap A \neq \emptyset$ .

Keďže  $a \notin A$ , potom  $a \in A'$ . Z toho vyplýva  $a \in O(a) \cap A'$ .

To znamená, že  $a$  je hraničný bod množiny  $A$ , t. j.  $a \in A \cup \partial A$ . ■



**Dôsledok 2.2.4.a.K2-dosl09**

Nech  $A \subset R$ , označme  $(\overline{A}) = \overline{\overline{A}}$ . Potom platí  $\overline{\overline{A}} = \overline{A}$ , t. j. množina  $\overline{A}$  je uzavretá.

**Dôkaz.**

Množina  $\text{ext } A$  je otvorená. Potom množina  $(\text{ext } A)' = A \cup \partial A = \overline{A}$  je uzavretá. ■

**Veta 2.2.5.K2-veta46**

Nech  $A \subset R$ , potom: a)  $A$  je otvorená práve vtedy, ak  $A \cap \partial A = \emptyset$ .  
b)  $A$  je uzavretá práve vtedy, ak  $A \cup \partial A = A$ .

**Dôkaz.**

a) Vyplýva priamo z definície.

b) Z definície uzáveru a z vety 2.2.4 vyplýva  $A = \overline{A} = A \cup \partial A$ . ■

**Veta 2.2.6.K2-veta47**

Nech  $A \subset R$ ,  $B \subset R$ , potom platí: a)  $A \subset B \Rightarrow \overline{A} \subset \overline{B}$ , b)  $\overline{A \cup B} = \overline{A} \cup \overline{B}$ .

**Dôkaz.**

a) Vyplýva priamo z definície.

b)  $A \subset A \cup B$ ,  $B \subset A \cup B \Rightarrow \overline{A} \subset \overline{A \cup B}$ ,  $\overline{B} \subset \overline{A \cup B} \Rightarrow \overline{A} \cup \overline{B} \subset \overline{A \cup B}$ .

Nech platí  $\overline{A} \cup \overline{B} \subsetneq \overline{A \cup B}$ .

Potom existuje bod  $a \in \overline{A} \cup \overline{B}$  taký, že  $a \notin \overline{A \cup B}$ .

To znamená, že  $a$  nie je hromadným bodom množiny  $A$  a ani množiny  $B$ .

Potom existujú okolia  $O_1, O_2 \in \mathcal{O}_a$  také, že  $(O_1 - \{a\}) \cap A = (O_2 - \{a\}) \cap B = \emptyset$ .

Nech okolie  $O(a) \in \mathcal{O}_a$  je také, že platí  $O(a) \subset O_1 \cap O_2$ . Potom

$$(O(a) - \{a\}) \cap A = (O(a) - \{a\}) \cap B = \emptyset, \quad \text{t. j. } (O(a) - \{a\}) \cap (A \cup B) = \emptyset.$$

Takže  $a$  nie je hromadný, ale izolovaný bod množiny  $A \cup B$  a platí  $a \in A \cup B \subset \overline{A \cup B}$ . To je spor a dokazuje tvrdenie vety. ■

**Veta 2.2.7.K2-veta54**

Ak sú množiny  $A, B \subset R$  otvorené, potom sú množiny  $A \cap B$ ,  $A \cup B$  tiež otvorené.

**Dôkaz.**

Nech  $a \in A \cap B$ , potom existujú okolia  $O_1(a) \subset A$ ,  $O_2(a) \subset B$ . Potom na základe axiómy (O3) existuje okolie  $O(a) \subset O_1 \cap O_2 \subset A \cap B$ , t. j.  $A \cap B$  je otvorená.

Nech  $a \in A \cup B$ , potom  $a \in A$  alebo  $a \in B$ . To znamená, že  $a$  je vnútorným bodom množiny  $A$  alebo vnútorným bodom množiny  $B$ , t. j. je vnútorným bodom množiny  $A \cup B$ . To znamená, že množina  $A \cup B$  je otvorená. ■

**Veta 2.2.8.K2-veta126**

Ak sú množiny  $A, B \subset R$  uzavreté, potom sú množiny  $A \cap B$ ,  $A \cup B$  tiež uzavreté.

**Dôkaz.**

$A, B$  sú uzavreté, potom sú otvorené  $A', B', A' \cup B', A' \cap B'$  a uzavreté množiny

$$(A' \cup B')' = A'' \cap B'' = A \cap B, \quad (A' \cap B')' = A'' \cup B'' = A \cup B. \quad \blacksquare$$

Je zrejmé, že tvrdenia predchádzajúcej vety ostanú v platnosti aj v prípade konečného počtu množín  $A_1, A_2, \dots, A_n \subset R$ . Uvádzame ich bez dôkazov ako dôsledky 2.2.8.a a 2.2.8.b. Vo vetách 2.2.9 a 2.2.10 sú tieto tvrdenia rozšírené na nekonečný systém množín  $\{A_k\}_{k=1}^{\infty}$ .



**Dôsledok 2.2.8.a.K2-dosl11**

Ak  $A_1, A_2, \dots, A_n \subset R$ ,  $n \in N$  sú otvorené, potom aj množiny  $\bigcap_{k=1}^n A_k$ ,  $\bigcup_{k=1}^n A_k$  sú otvorené.

**Dôsledok 2.2.8.b.K2-dosl12**

Ak  $A_1, A_2, \dots, A_n \subset R$ ,  $n \in N$  sú uzavreté, potom aj množiny  $\bigcap_{k=1}^n A_k$ ,  $\bigcup_{k=1}^n A_k$  sú uzavreté.

**Veta 2.2.9.K2-veta55**

Ak sú množiny  $A_k \subset R$ ,  $k \in N$  otvorené, potom je množina  $A = \bigcup_{k=1}^{\infty} A_k$  otvorená.

**Dôkaz.**

Nech  $a \in A$ , potom existuje otvorená množina  $A_m$  taká, že  $a \in A_m$ . Keďže je  $a$  vnútorným bodom množiny  $A_m$ , je tiež vnútorným bodom nadmnožiny  $A$ . To znamená, že  $A$  je otvorená množina. ■

**Veta 2.2.10.K2-veta93**

Ak sú množiny  $A_k \subset R$ ,  $k \in N$  uzavreté, potom je množina  $A = \bigcap_{k=1}^{\infty} A_k$  uzavretá.

**Dôkaz.**

Z predpokladov vyplýva, že  $A'_k$  a  $\bigcup_{k=1}^{\infty} A'_k$  sú otvorené množiny.

Potom na základe de Morganových zákonov je množina  $\bigcap_{k=1}^{\infty} A_k = \left[ \bigcup_{k=1}^{\infty} A'_k \right]'$  uzavretá. ■

**Príklad 2.2.5.K2-pr15**

a) Množina  $\bigcap_{k=1}^{\infty} \left(-\frac{1}{k}; \frac{1}{k}\right) = \{0\}$  nie je otvorená, je uzavretá. To znamená, že prienik nekonečného systému otvorených množín nemusí byť otvorená množina.

b) Množina  $\bigcup_{k=1}^{\infty} \left\{\frac{1}{k}\right\} = \left\{\frac{1}{k}; k \in N\right\}$  nie je uzavretá, pretože neobsahuje svoj hromadný bod a to číslo 0. To znamená, že zjednotenie nekonečného systému uzavretých množín nemusí byť uzavretá množina. ■

**2.2.3 Metrické vlastnosti čísel**

S pojmami ako dĺžka vektora, skalárny súčin dvoch vektorov, vzdialenosť dvoch bodov sme sa už stretli v analytickej geometrii. Tieto pojmy predstavujú metrické vlastnosti množiny a v tejto časti sa budeme zaoberať metrickými vlastnosťami reálnych čísel.

Množinu  $R^1 = R$  môžeme považovať za špeciálny prípad množiny  $R^n$ ,  $n \in N$ . Preto sa sústredíme na množinu  $R^n$  všeobecne pre  $n \in N$ .

Ako vieme z algebry ([32], str. 86), množina  $R^n = \{(x_1; x_2; \dots; x_n); x_1, x_2, \dots, x_n \in R\}$ <sup>16</sup> tvorí lineárny priestor. Nazývame ho **Euklidov (euklidovský)  $n$ -rozmerný priestor** a preto ho tiež niekedy označujeme symbolom  $E^n$ .

Prvky priestoru  $R^n$  zvykneme nazývať **vektory ( $n$ -rozmerné vektory)**. Je zrejmé, že všetky vlastnosti, ktoré odvodíme pre  $R^n$ , budú platiť aj pre množinu  $R$ .

Nech  $x, y \in R^n$ ,  $x = (x_1; x_2; \dots; x_n)$ ,  $y = (y_1; y_2; \dots; y_n)$ , potom **skalárnym súčinom vektorov  $x$  a  $y$**  nazývame číslo definované vzťahom:

$$(x, y) = ((x_1; x_2; \dots; x_n), (y_1; y_2; \dots; y_n)) = x_1y_1 + x_2y_2 + \dots + x_ny_n = \sum_{i=1}^n x_iy_i.$$

Pomocou skalárneho súčinu môžeme vybudovať v priestore  $R^n$  geometriu s použitím vzdialeností a uhlov, ako sme zvyknutí v rovine, resp. v priestore. Základné vlastnosti práve definovaného skalárneho súčinu sú uvedené v nasledujúcej vete 2.2.11.

<sup>16</sup>V analýze sa zvyknú súradnice bodov označovať v okrúhlych zátvorkách.

**Poznámka 2.2.10.K2-poz84**

S pojmom vektor sme sa už stretli v geometrii. Vektor  $x = (x_1; x_2; \dots; x_n)$  v priestore  $R^n$  graficky predstavuje orientovanú úsečku z bodu  $O = (0; 0; \dots; 0)$  do  $x = (x_1; x_2; \dots; x_n)$ . To znamená, že vektor vyjadruje smer (orientáciu) a vzdialenosť od začiatku súradnicového systému, t. j. od bodu  $O$ . Musíme si ešte uvedomiť, že orientovanú úsečku z bodu  $A = (a_1; a_2; \dots; a_n)$  do bodu  $B = (b_1; b_2; \dots; b_n)$  reprezentuje vektor  $B - A = (b_1 - a_1; b_2 - a_2; \dots; b_n - a_n)$ .

**Veta 2.2.11.K2-veta51**

Nech  $x, y, z \in R^n$ ,  $n \in N$  a nech  $c \in R$ , potom platí:

- a)  $(x, y) \geq 0$ ,  $(x, x) = 0 \Leftrightarrow x = (0; 0; \dots; 0)$ ,      b)  $(x, y) = (y, x)$ ,  
 c)  $(x + y, z) = (x, z) + (y, z)$ ,      d)  $(cx, y) = c(x, y)$ .

**Dôkaz.**

Vyplýva priamo z definície. ■

Nech  $x = (x_1; x_2; \dots; x_n) \in R^n$ ,  $n \in N$ , potom číslo  $|x|$  definované vzťahom

$$|x| = \sqrt{(x, x)} = \sqrt{x_1^2 + x_2^2 + \dots + x_n^2} = \sqrt{\sum_{i=1}^n x_i^2}$$

nazývame (**euklidovská**) **norma vektora**  $x$ . Vektor  $x \in R^n$ , pre ktorý platí  $|x| = 1$  nazývame **jednotkový**, resp. **normovaný vektor**. Norma vektora  $x \in R^n$  predstavuje z geometrického hľadiska dĺžku vektora  $x$ , preto sa niekedy nazýva **dĺžka vektora**  $x$ .

V priestore  $R$  sa norma vektora  $x \in R$ , t. j. reálneho čísla  $x$ , redukuje na absolútnu hodnotu. Vyplýva to zo vzťahov  $|x| = \sqrt{(x, x)} = \sqrt{x^2} = |x|$ .

**Lema 2.2.12 (Cauchyho nerovnosť).K2-veta49**

Nech  $x_1, x_2, \dots, x_n, y_1, y_2, \dots, y_n \in R$ ,  $n \in N$ , potom platí:  $\left| \sum_{i=1}^n x_i y_i \right| \leq \sqrt{\sum_{i=1}^n x_i^2} \sqrt{\sum_{i=1}^n y_i^2}$ .

**Poznámka 2.2.11.K2-poz49**

Cauchyho nerovnosť sa často používa a zvykne sa formulovať aj v iných tvaroch (viď veta 2.2.19, str. 86). Ak označíme  $x, y \in R^n$ ,  $x = (x_1; x_2; \dots; x_n)$ ,  $y = (y_1; y_2; \dots; y_n)$ , potom ju môžeme formálne písať v tvare  $|(x, y)| \leq |x| \cdot |y|$ , resp.  $(x, y)^2 \leq (x, x) \cdot (y, y)$ .

**Veta 2.2.13.K2-veta52**

Nech  $x, y \in R^n$ ,  $n \in N$  a nech  $c \in R$ , potom platí:

- a)  $|x| \geq 0$ ,  $|x| = 0 \Leftrightarrow x = (0; 0; \dots; 0)$ ,      b)  $|cx| = |c| \cdot |x|$ ,      c)  $|x + y| \leq |x| + |y|$ .

**Dôkaz.**

a) Vyplýva priamo z definície.

b)  $|cx| = \sqrt{(cx, cx)} = \sqrt{c(x, cx)} = \sqrt{c(cx, x)} = \sqrt{c^2(x, x)} = |c| \sqrt{(x, x)} = |c| \cdot |x|$ .

c) Nech  $x = (x_1; x_2; \dots; x_n)$ ,  $y = (y_1; y_2; \dots; y_n)$ , potom na základe lemy 2.2.12 platí:

$$\begin{aligned} |x + y|^2 &= \sum_{i=1}^n (x_i + y_i)^2 = \sum_{i=1}^n (x_i^2 + 2x_i y_i + y_i^2) = \sum_{i=1}^n x_i^2 + 2 \sum_{i=1}^n x_i y_i + \sum_{i=1}^n y_i^2 \leq \\ &\leq \sum_{i=1}^n x_i^2 + 2 \left| \sum_{i=1}^n x_i y_i \right| + \sum_{i=1}^n y_i^2 \leq \sum_{i=1}^n x_i^2 + 2 \sqrt{\sum_{i=1}^n x_i^2} \sqrt{\sum_{i=1}^n y_i^2} + \sum_{i=1}^n y_i^2 = \\ &= \left( \sqrt{\sum_{i=1}^n x_i^2} + \sqrt{\sum_{i=1}^n y_i^2} \right)^2 = (|x| + |y|)^2. \quad \blacksquare \end{aligned}$$

Nech  $x, y \in R^n$ ,  $n \in N$ , pričom vektory  $x = (x_1; x_2; \dots; x_n)$ ,  $y = (y_1; y_2; \dots; y_n)$ , potom zobrazenie  $\rho: R^n \times R^n \rightarrow R$  definované vzťahom

$$\rho(x, y) = |x - y| = \sqrt{(x - y, x - y)} = \sqrt{\sum_{i=1}^n (x_i - y_i)^2}$$

nazývame (**euklidovská**) **metrika priestoru**  $R^n$ . Číslo  $\rho(x, y)$  nazývame **vzdialenosť vektorov**  $x$  a  $y$ .

### Poznámka 2.2.12.K2-poz41

Euklidovská metrika v  $R^n$ ,  $n \in N$  reprezentuje vzdialenosť bodov, ako ju poznáme z geometrie.

Například pre všetky  $x, y \in R$  platí  $\rho(x, y) = \sqrt{(x - y)^2} = |x - y|$  a pre všetky  $x, y \in R^2$ ,  $x = (x_1; x_2)$ ,  $y = (y_1; y_2)$  platí  $\rho(x, y) = \sqrt{(x_1 - y_1)^2 + (x_2 - y_2)^2}$ .

### Veta 2.2.14.K2-veta50

Nech  $x, y, z \in R^n$ ,  $n \in N$ , potom platí:

$$\text{a) } \rho(x, y) \geq 0, \rho(x, y) = 0 \Leftrightarrow x = y, \quad \text{b) } \rho(x, y) = \rho(y, x), \quad \text{c) } \rho(x, y) \leq \rho(x, z) + \rho(z, y).$$

### Dôkaz.

a), b) Vyplýva z definície.

$$\text{c) } \rho(x, y) = |x - y| = |(x - z) + (z - y)| \leq |x - z| + |z - y| = \rho(x, z) + \rho(z, y). \blacksquare$$

### Dôsledok 2.2.14.a.K2-dosl10

Nech  $x, y, z, v \in R^n$ ,  $n \in N$ , potom platí:

$$\text{a) } |\rho(x, y) - \rho(y, z)| \leq \rho(x, z), \quad \text{b) } |\rho(x, y) - \rho(z, v)| \leq \rho(x, z) + \rho(y, v).$$

### Dôkaz.

a) Vyplýva zo vzťahov:

$$\rho(x, y) \leq \rho(x, z) + \rho(z, y) \Rightarrow \rho(x, y) - \rho(y, z) \leq \rho(x, z),$$

$$\rho(z, y) \leq \rho(z, x) + \rho(x, y) \Rightarrow \rho(z, y) - \rho(x, y) \leq \rho(z, x) + \rho(x, y) - \rho(x, y) = \rho(x, z).$$

b) Z časti a) a vety 2.1.32 e) vyplýva:

$$\begin{aligned} |\rho(x, y) - \rho(z, v)| &= |\rho(x, y) - \rho(y, z) + \rho(y, z) - \rho(z, v)| \leq \\ &\leq |\rho(x, y) - \rho(y, z)| + |\rho(y, z) - \rho(z, v)| \leq \rho(x, z) + \rho(y, v). \blacksquare \end{aligned}$$

### Poznámka 2.2.13.K2-poz42

Nerovnosti c) vo vete 2.2.13 a c) vo vete 2.2.14 nazývame **trojuholníková nerovnosť**. Je to analógia z geometrie známej nerovnosti, ktorá vyjadruje vzťah medzi dĺžkami strán v trojuholníku. Nerovnosť b) z dôsledku 2.2.14.a sa nazýva **štvoruholníková**.

Nech  $A \subset R^n$ ,  $A \neq \emptyset$ , potom suprémum množiny vzdialeností ľubovoľných dvoch bodov  $x, y \in A$  nazývame **diameter (priemer) množiny**  $A$  a označujeme  $\text{diam } A$ , t. j.

$$\text{diam } A = \sup \{\rho(x, y); x, y \in A\}.$$

Ak platí  $\text{diam } A < \infty$ , potom sa množina  $A$  nazýva **ohraničená**. Ak  $\text{diam } A = \infty$ , potom sa množina  $A$  nazýva **neohraničená**.

### Poznámka 2.2.14.K2-poz43

Z predchádzajúcej definície vyplýva, že množina  $A \subset R^n$  je ohraničená práve vtedy, ak existuje  $c \in R$  tak, že pre všetky  $x, y \in A$  platí  $\rho(x, y) \leq c$ . Z toho vyplýva, že  $\text{diam } A = \inf \{c \in R; \forall x, y \in A: \rho(x, y) \leq c\}$ .

Ak  $n = 1$ , potom je množina  $A \subset R$  ohraničená práve vtedy, ak existuje  $c \in R$  také, že pre všetky  $x, y \in A$  platí  $|x - y| \leq c$ .

Definícia ohraňenej množiny  $A \subset R$  z poznámky 2.2.14 je ekvivalentná s definíciou ohraňenej množiny z predchádzajúcej kapitoly. Obidve definície znamenajú, že  $A$  je podmnožinou nejakého uzavretého ohraňeného intervalu. Táto skutočnosť vyplýva z vety 2.1.34 a je vyjadrená vo vete 2.2.15 a na obrázku 2.2.12.<sup>17</sup>

### Veta 2.2.15.K2-veta53

Ak  $A \subset R$ ,  $A \neq \emptyset$ , potom platí:  $\exists a \in R \forall x \in A: |x| \leq a \Leftrightarrow \exists c \in R \forall x, y \in A: |x - y| \leq c$ .

#### Dôkaz.


$NP \Rightarrow$ :  $\exists a \in R \forall x \in A: |x| \leq a \Rightarrow \forall x, y \in A: |x - y| \leq |x| + |-y| = |x| + |y| \leq 2a = c$ .

$PP \Leftarrow$ : Sporom, nech pre množinu  $A$  platí:

$$(\exists c \in R \forall x, y \in A: |x - y| \leq c) \wedge (\forall a \in R \exists x \in A: |x| > a).$$

Položme  $a = |y| + c$ , potom existuje  $x \in A$  také, že platí  $|x| > a = |y| + c$ , t. j.  $|x| - |y| > c$ .

Z toho vyplýva na základe vety 2.1.32 f) spor  $|x - y| \geq |x| - |y| > c$ . ■



Obr. 2.2.12: Obrázok k poznámke 2.2.14.

### Príklad 2.2.6.K2-pr13

Nech  $x_1, x_2, \dots, x_k \in R^n$ ,  $k \in N$ ,  $n \in N$ , potom:

- $\text{diam} \{x_1\} = \rho(x_1, x_1) = 0$ ,
- $\text{diam} \{x_1, x_2\} = \max \{\rho(x_1, x_1), \rho(x_1, x_2), \rho(x_2, x_2)\} = \rho(x_1, x_2)$ ,
- $\text{diam} \{x_1, x_2, \dots, x_k\} = \max \{\rho(x_i, x_j); i, j = 1, 2, \dots, k\}$ . ■

Nech  $a \in R^n$ ,  $n \in N$ ,  $\delta \in R$ ,  $\delta > 0$ , potom množinu  $O_\delta(a) = \{x \in R^n; \rho(x, a) < \delta\}$  nazývame  **$\delta$ -okolím bodu  $a$**  a množinu  $P_\delta(a) = O_\delta(a) - \{a\} = \{x \in R^n; 0 < \rho(x, a) < \delta\}$  nazývame **prstencovým  $\delta$ -okolím bodu  $a$** .

Je zrejmé (poznámka 2.2.3), že pre množiny  $R$ ,  $R^2$ ,  $R^3$  je táto definícia okolia ekvivalentná s definíciou okolia uvedenou na začiatku tejto časti.

### Príklad 2.2.7.K2-pr14

Nech  $a \in R^n$ ,  $n \in N$  a nech  $O_\delta(a)$  je okolie bodu  $a$  s polomerom  $\delta \in R$ ,  $\delta > 0$ .

Potom pre všetky  $x, y \in O_\delta(a)$  platí  $\rho(x, y) \leq \rho(x, a) + \rho(a, y) < \delta + \delta = 2\delta$ , t. j.  $\text{diam} O_\delta(a) = 2\delta$ . ■

<sup>17</sup>Pre  $n = 2$  [resp.  $n = 3$ ] to znamená, že existuje kruh [resp. guľa] s polomerom  $c$  tak, že množina  $A$  je podmnožinou tohto kruhu [resp. gule].

### 2.2.4 Metrické priestory

V predchádzajúcej časti sme sa zaoberali množinou  $R$ , prípadne  $R^n$ , kde  $n \in N$ . Metriku a s ňou súvisiace pojmy (norma, topológia, skalárny súčin, ...) môžeme definovať všeobecne nad ľubovoľnými množinami.

Nech  $X \neq \emptyset$ , potom zobrazenie  $\rho: X \times X \rightarrow R$  nazývame **metrika množiny  $X$** , ak pre všetky prvky  $x, y, z \in X$  platí:

$$\text{a) } \rho(x, y) \geq 0, \quad \rho(x, y) = 0 \Leftrightarrow x = y, \quad \text{b) } \rho(x, y) = \rho(y, x), \quad \text{c) } \rho(x, y) \leq \rho(x, z) + \rho(z, y).$$

Vlastnosť b) nazývame symetria a vlastnosť c) trojuholníková nerovnosť. Množinu  $X$  nazývame **metrický priestor s metrikou  $\rho$** . Prvky  $x \in X$  nazývame **body metrického priestoru** a číslo  $\rho(x, y)$  nazývame **vzdialenosť bodu  $x$  od bodu  $y$** .

#### Veta 2.2.16.K2-veta60

Nech  $\rho$  je metrika v priestore  $X \neq \emptyset$ , nech  $x, y, z, v \in X$ , potom platí:

$$\text{a) } |\rho(x, y) - \rho(y, z)| \leq \rho(x, z), \quad \text{b) } |\rho(x, y) - \rho(z, v)| \leq \rho(x, z) + \rho(y, v).$$

#### Dôkaz.

Dôkaz je identický z dôkazom dôsledku 2.2.14.a. ■

#### Poznámka 2.2.15.K2-poz47

Metrika rozširuje pojem vzdialenosti dvoch bodov (známy z geometrie) na prvky ľubovoľnej množiny  $X$ . Metriku môžeme definovať na ľubovoľnej neprázdnej množine.

Nech  $X \neq \emptyset$  a nech  $a \in R$  je ľubovoľné kladné číslo. Potom zobrazenie  $\rho_a: X \times X \rightarrow R$  definované pre všetky  $x, y \in X$ ,  $x \neq y$  vzťahmi  $\rho_a(x, x) = 0$ ,  $\rho_a(x, y) = a$  spĺňa všetky tri vlastnosti metriky a nazýva sa **triviálna metrika na množine  $X$** . Je zrejmé, že triviálnych metrických môžeme na množine  $X$  definovať nekonečne veľa.

#### Príklad 2.2.8.K2-pr16

Okrem euklidovskej metriky sa v priestore  $R^n$ ,  $n \in N$  často používajú pre  $x, y \in R^n$ ,  $x = (x_1; x_2; \dots; x_n)$ ,  $y = (y_1; y_2; \dots; y_n)$  metriky  $\rho_1, \rho_2$  definované vzťahmi:

$$\rho_1(x, y) = \sum_{i=1}^n |x_i - y_i|, \quad \text{resp.} \quad \rho_2(x, y) = \max \{|x_i - y_i|; i = 1, 2, \dots, n\}. \quad \blacksquare$$

#### Príklad 2.2.9.K2-pr23

V priestore  $Q^n$ ,  $n \in N$  môžeme podobne ako v euklidovskom priestore  $R^n$  definovať pre body  $x, y \in Q^n$ ,  $x = (x_1; x_2; \dots; x_n)$ ,  $y = (y_1; y_2; \dots; y_n)$  rôzne metriky napríklad vzťahmi:

$$\rho(x, y) = \sqrt{\sum_{i=1}^n (x_i - y_i)^2}, \quad \rho_1(x, y) = \sum_{i=1}^n |x_i - y_i|, \quad \rho_2(x, y) = \max \{|x_i - y_i|; i = 1, 2, \dots, n\}. \quad \blacksquare$$

Medzi špeciálne typy metrických priestorov patria lineárne normované priestory, ktorých štúdium presahuje rámec týchto skrípt a patrí do funkcionálnej analýzy. Preto sa obmedzíme iba na vysvetlenie ich postavenia medzi metrickými priestormi. Najprv zopakujeme pojem lineárneho priestoru nad telesom reálnych čísel<sup>18</sup>.

Vlastnosti lineárnych priestorov by mali byť čitateľovi známe z algebry, preto ich nebudeme uvádzať. V tejto časti sa obmedzíme na lineárne priestory definované nad telesom reálnych čísel  $R$ . Väčšinu výsledkov, ktoré odvodíme, môžeme rozšíriť na ľubovoľné lineárne priestory.

<sup>18</sup>V [32], str. 85 je definovaný lineárny priestor nad ľubovoľným telesom.

Množina  $X \neq \emptyset$  sa nazýva **lineárny priestor na telesom**  $R$ , ak je na  $X$  definovaná binárna operácia  $\oplus: X^2 \rightarrow X$  a vonkajšia operácia  $\otimes: R \times X \rightarrow X$  tak, že platí:

Usporiadaná dvojica  $(X, \oplus)$  tvorí komutatívnu grupu, t. j. pre všetky  $x, y, z \in X$  platí:

$$\begin{aligned} x \oplus (y \oplus z) &= (x \oplus y) \oplus z, & \exists! \Theta \in X \quad \forall x \in X: x \oplus \Theta &= x, \\ \forall x \in X \exists! y = \ominus x: x \oplus y &= \Theta, & x \oplus y &= y \oplus x \end{aligned}$$

a pre všetky  $x, y \in X$ ,  $c, d \in R$  a pre  $1 \in R$  platí:

$$\begin{aligned} c \otimes (d \otimes x) &= (cd) \otimes x, & (c + d) \otimes x &= (c \otimes x) \oplus (d \otimes x), \\ 1 \otimes x &= x, & c \otimes (x \oplus y) &= (c \otimes x) \oplus (c \otimes y). \end{aligned}$$

Prvky lineárneho priestoru niekedy nazývame **vektory** a lineárny priestor nazývame **vektorovým priestorom**. Prvok  $\Theta$  nazývame neutrálny (nulový) prvok grupy  $(X, \oplus)$  a prvok  $\ominus x$  nazývame opačný prvok k prvku  $x$ . Potom  $x \ominus y = x \oplus (\ominus y)$ .

Nech  $X$  je lineárny priestor. Zobrazenie, ktoré každému vektoru  $x \in X$  priradí reálne číslo  $|x|$  nazývame **norma priestoru**  $X$  ak, pre všetky  $x, y \in X$ ,  $c \in R$  platí:

$$\text{a) } |x| \geq 0, |x| = 0 \Leftrightarrow x = \Theta, \quad \text{b) } |c \otimes x| = |c| \cdot |x|, \quad \text{c) } |x \oplus y| \leq |x| + |y|.$$

Lineárny priestor  $X$  nazývame **normovaný**, ak je v ňom definovaná norma.

### Veta 2.2.17.K2-veta56

Nech  $X$  je lineárny normovaný priestor. Ak pre všetky  $x, y \in X$  definujeme zobrazenie  $\rho: X^2 \rightarrow R$  vzťahom  $\rho(x, y) = |x \ominus y|$ , potom  $\rho$  je metrika na  $X$ .

### Dôkaz.

Vlastnosť a) z definície metriky je splnená triviálne. Nech  $x, y, z \in X$ , potom platí:

$$\text{b) } \rho(y, x) = |y \ominus x| = |(-1) \otimes (x \ominus y)| = |-1| \cdot |x \ominus y| = |x \ominus y| = \rho(x, y).$$

$$\text{c) } \rho(x, y) = |x \ominus y| = |(x \ominus z) \oplus (z \ominus y)| \leq |x \ominus z| + |z \ominus y| = \rho(x, z) + \rho(z, y). \blacksquare$$

### Poznámka 2.2.16.K2-poz48

Z predchádzajúceho vyplýva, že lineárny normovaný priestor je špeciálnym prípadom metrického priestoru. Pod metrikou v lineárnom normovanom priestore budeme vždy rozumieť metriku definovanú vzťahom, ktorý je uvedený vo vete 2.2.17.

### Príklad 2.2.10.K2-pr17

V priestore  $R^n$  môžeme pre  $x \in R^n$ ,  $x = (x_1; x_2; \dots; x_n)$  definovať normu<sup>19</sup> tiež vzťahmi

$$|x|_1 = \sum_{i=1}^n |x_i|, \quad \text{resp.} \quad |x|_2 = \max \{|x_i|; i = 1, 2, \dots, n\}. \blacksquare$$

Nech  $X$  je lineárny priestor nad telesom reálnych čísel  $R$  a  $\Theta$  je jeho nulový prvok. Zobrazenie, ktoré každým dvom prvkom  $x, y \in X$  priradí číslo  $(x, y)$ , nazývame **skalárny súčin prvkov  $x$  a  $y$** , ak pre všetky  $x, y, z \in X$  a  $c \in R$  platí:

$$\begin{aligned} \text{a) } (x, y) &\geq 0, (x, x) = 0 \Leftrightarrow x = \Theta, & \text{b) } (x, y) &= (y, x), \\ \text{d) } (x \oplus y, z) &= (x, z) + (y, z), & \text{c) } (c \otimes x, y) &= c(x, y). \end{aligned}$$

Lineárny priestor  $X$  potom nazývame **priestor so skalárnym súčinom**.

Ak  $X$  je lineárny priestor so skalárnym súčinom, potom môžeme na ňom definovať normu (viď veta 2.2.20) a teda aj metriku. To znamená, že  $X$  je metrickým priestorom.

<sup>19</sup>Podobne ako metriku v príklade 2.2.8.

**Lema 2.2.18.K2-veta59**

Nech  $X$  je lineárny priestor nad telesom  $R$ , nech  $x, y, z \in X$ ,  $c \in R$ , potom platí:

$$\text{a) } (x, y \oplus z) = (x, y) + (x, z), \quad \text{b) } (x, c \otimes y) = c(x, y), \quad \text{b) } (x, \Theta) = 0.$$

**Dôkaz.**

$$\text{a) } (x, y \oplus z) = (y \oplus z, x) = (y, x) + (z, x) = (x, y) + (x, z).$$

$$\text{b) } (x, c \otimes y) = (c \otimes y, x) = c(y, x) = c(x, y).$$

$$\text{c) } (x, \Theta) = (x, y \oplus (-1 \otimes y)) = (x, y) + (x, -1 \otimes y) = (x, y) - (x, y) = 0. \blacksquare$$

**Veta 2.2.19 (Cauchyho nerovnosť).K2-veta58**

Nech  $X$  je lineárny priestor so skalárnym súčinom, potom pre všetky  $x, y \in X$  platí:

$$(x, y) \leq \sqrt{(x, x)}\sqrt{(y, y)}, \quad \text{t. j. } (x, y)^2 \leq (x, x) \cdot (y, y).$$

**Dôkaz.**

Ak  $y = \Theta$ , potom je nerovnosť splnená triviálne.

Ak  $y \neq \Theta$ , potom  $(y, y) > 0$ . Nech  $c \in R$ , potom  $x \oplus (c \otimes y) \in X$  a platí:

$$\begin{aligned} 0 \leq (x \oplus (c \otimes y), x \oplus (c \otimes y)) &= (x, x \oplus (c \otimes y)) + (c \otimes y, x \oplus (c \otimes y)) = \\ &= (x, x) + (x, c \otimes y) + (c \otimes y, x) + (c \otimes y, c \otimes y) = \\ &= (x, x) + 2(x, c \otimes y) + c(y, c \otimes y) = (x, x) + 2c(x, y) + c^2(y, y). \end{aligned}$$

Z toho vyplýva:

$$\begin{aligned} 0 \leq \frac{c^2(y, y) + 2c(x, y) + (x, x)}{(y, y)} &= c^2 + 2c \frac{(x, y)}{(y, y)} + \frac{(x, x)}{(y, y)} = \\ &= c^2 + 2c \frac{(x, y)}{(y, y)} + \frac{(x, y)^2}{(y, y)^2} - \frac{(x, y)^2}{(y, y)^2} + \frac{(x, x)}{(y, y)} = \left[ c + \frac{(x, y)}{(y, y)} \right]^2 + \frac{(x, x)(y, y) - (x, y)^2}{(y, y)^2}. \end{aligned}$$

Táto nerovnosť platí pre všetky  $x, y \in X$  a všetky  $c \in R$ , t. j. aj pre  $c = -\frac{(x, y)}{(y, y)}$ .

Po dosadení do nerovnosti dostávame:

$$0 \leq \left[ -\frac{(x, y)}{(y, y)} + \frac{(x, y)}{(y, y)} \right]^2 + \frac{(x, x)(y, y) - (x, y)^2}{(y, y)^2} = \frac{(x, x)(y, y) - (x, y)^2}{(y, y)^2}.$$

Pretože menovateľ posledného zlomku je kladný, musí byť čitateľ nezáporný, t. j. platí:

$$(x, x)(y, y) - (x, y)^2 \geq 0, \quad \text{resp. } (x, x)(y, y) \geq (x, y)^2. \blacksquare$$

**Veta 2.2.20.K2-veta57**

Nech  $X$  je lineárny priestor so skalárnym súčinom. Potom zobrazenie  $|\cdot| : X \rightarrow R$  definované pre každé  $x \in X$  vzťahom  $|x| = \sqrt{(x, x)}$  je normou v priestore  $X$ .

**Dôkaz.**

Nech  $x, y \in X$ ,  $c \in R$ . Vlastnosť a) z definície normy je splnená triviálne.

$$\text{b) } |c \otimes x| = \sqrt{(c \otimes x, c \otimes x)} = \sqrt{c(x, c \otimes x)} = \sqrt{c(c \otimes x, x)} = \sqrt{c^2(x, x)} = |c| \cdot |x|.$$

c) Vyplýva na základe Cauchyho nerovnosti z nasledujúcej nerovnosti:

$$\begin{aligned} |x \oplus y|^2 &= (x \oplus y, x \oplus y) = (x, x) + 2(x, y) + (y, y) = |x|^2 + 2(x, y) + |y|^2 \leq \\ &\leq |x|^2 + 2\sqrt{(x, x)}\sqrt{(y, y)} + |y|^2 = |x|^2 + 2|x| \cdot |y| + |y|^2 = (|x| + |y|)^2. \blacksquare \end{aligned}$$

**Poznámka 2.2.17.K2-poz50**

Ak  $X$  je lineárny priestor so skalárnym súčinom, potom Cauchyho nerovnosť môžeme písať v tvare  $(x, y) \leq |x| \cdot |y|$ .



Nech  $X \neq \emptyset$  je metrický priestor s metrikou  $\rho$ . Nech  $x \in X$  a nech  $\delta \in \mathbb{R}$ ,  $\delta > 0$ , potom  **$\delta$ -okolím bodu  $x$**  nazývame množinu  $O_\delta(x) = \{y \in X; \rho(x, y) < \delta\}$ .

Nech  $A \subset X$ , bod  $a \in A$  sa nazýva **vnútorný bod množiny  $A$** , ak existuje okolie  $O(a)$  bodu  $a$  také, že  $O(a) \subset A$ , t. j. ak existuje  $\delta \in \mathbb{R}$ ,  $\delta > 0$  tak, že  $O_\delta(a) \subset A$ .

Bod  $a \in X$  sa nazýva **hromadný bod množiny  $A \subset X$**  práve vtedy, ak v každom jeho okolí leží aspoň jeden bod z množiny  $A$ , ktorý je rôzny od bodu  $a$ .

Množina  $A \subset X$  sa nazýva **otvorená (v priestore  $X$ )**, ak každý jej bod je vnútorný. Množina  $A \subset X$  sa nazýva **uzavretá v priestore  $X$** , ak obsahuje všetky svoje hromadné body  $a \in X$ . Ak je množina  $A \subset X$  otvorená a zároveň uzavretá v priestore  $X$ , nazýva sa **obojaká množina v priestore  $X$** .

**Diametrom (priemerom) množiny  $A \subset X$ ,  $A \neq \emptyset$**  nazývame  $\text{diam } A = \sup \{\rho(x, y); x, y \in A\}$ . Ak platí  $\text{diam } A < \infty$ , potom sa množina  $A$  nazýva **ohraničená** a ak platí  $\text{diam } A = \infty$ , množina  $A$  sa nazýva **neohraničená**.

### Poznámka 2.2.18.K2-poz51

Podobným spôsobom môžeme v metrickom priestore  $X$  definovať aj ostatné pojmy (vonkajší bod, hranica, uzáver, ...), ale pre obmedzený rozsah publikácie ich neuvádzame.<sup>20</sup>

V metrických priestoroch platia analogické tvrdenia ako v priestore  $\mathbb{R}^n$ . Niektoré z nich sú uvedené bez dôkazov vo vetách 2.2.21 a 2.2.22.

### Veta 2.2.21.K2-veta61

Nech  $X \neq \emptyset$  je metrický priestor, potom:

- Množiny  $\emptyset$ ,  $X$  sú otvorené a uzavreté zároveň.
- Množina  $A \subset X$  je otvorená práve vtedy, ak je  $A'_X = X - A$  uzavretá v  $X$ .

### Veta 2.2.22.K2-veta62

Nech  $X \neq \emptyset$  je metrický priestor, potom:

- Prienik konečného systému otvorených množín z  $X$  je otvorená množina.
- Zjednotenie ľubovoľného systému otvorených množín z  $X$  je otvorená množina.
- Zjednotenie konečného systému uzavretých množín z  $X$  je uzavretá množina.
- Prienik ľubovoľného systému uzavretých množín z  $X$  je uzavretá množina.

Nech  $X \neq \emptyset$ , potom systém  $\mathcal{S}$  podmnožín množiny  $X$  nazývame **topológia na množine  $X$**  a množinu  $X$  nazývame **topologický priestor**, ak platí:

- $\emptyset, X \in \mathcal{S}$ .
- Prienik konečného počtu množín z  $\mathcal{S}$  patrí do  $\mathcal{S}$ .
- Zjednotenie ľubovoľného počtu množín z  $\mathcal{S}$  patrí do  $\mathcal{S}$ .

Množiny patriace do topológie  $\mathcal{S}$  nazývame **otvorené množiny topologického priestoru  $X$**  a ich komplementy nazývame **uzavreté množiny topologického priestoru  $X$** .<sup>21</sup> Množiny  $\emptyset, X$  sú otvorené aj uzavreté v topologickom priestore  $X$ .

Nech  $X \neq \emptyset$  je metrický priestor s metrikou  $\rho$ . Ak označíme symbolom  $\mathcal{S}$  systém všetkých otvorených podmnožín v metrickom priestore  $X$ , potom je zrejmé, že  $\mathcal{S}$  spĺňa podmienky a), b), c) z predchádzajúcej definície. To znamená, že systém  $\mathcal{S}$  je topológia na množine  $X$  a každý metrický priestor je zároveň aj topologický priestor.

Uvedený topologický priestor nazývame **topologický priestor priradený metrickému priestoru  $X$  s metrikou  $\rho$** , resp. **topologický priestor indukovaný metrickým priestorom  $X$  s metrikou  $\rho$** .

<sup>20</sup>Čitateľ ich nájde napr. v [39, 40].

<sup>21</sup>Musíme odlišovať od otvorených a uzavretých množín v metrickom priestore.



**Poznámka 2.2.19.K2-poz35**

Vo všeobecnosti môže byť na množine zostrojených viac topológií, ale na každej množine  $X \neq \emptyset$  môžeme zostrojiť tzv. **diskrétnu topológiu**  $\mathcal{S}_1 = 2^X = \{A; A \subset X\}$  a **antidiskrétnu (indiskrétnu) topológiu**  $\mathcal{S}_2 = \{\emptyset, X\}$ .

Tieto topológie sú takpovediac extrémálne. Topológia  $\mathcal{S}_1$  obsahuje všetky podmnožiny množiny  $X$ , takže každá množina  $A \subset X$  je v topológii  $\mathcal{S}_1$  otvorená a uzavretá.

Topológia  $\mathcal{S}_2$  obsahuje minimálny počet množín a otvorené v  $\mathcal{S}_2$  sú iba množiny  $\emptyset$  a  $X$ .

Navyše pre každú topológiu  $\mathcal{S}$  zostrojenú nad množinou  $X$  platí vzťah  $\mathcal{S}_2 \subset \mathcal{S} \subset \mathcal{S}_1$ .

**Poznámka 2.2.20.K2-poz125**

Systém všetkých otvorených podmnožín euklidovského priestoru  $R^n$ ,  $n \in N$ , t. j. systém:

$$\mathcal{E} = \{A; A \subset R^n, A \text{ je otvorená}\}$$

tvorí topológiu. Nazýva sa **euklidovská topológia**.

Nech  $X \neq \emptyset$  je topologický priestor s topológiou  $\mathcal{S}$ , potom systém podmnožín  $\mathcal{B} \subset \mathcal{S}$  nazývame **bázou topológie**  $\mathcal{S}$ , ak pre každú množinu  $A \in \mathcal{S}$  a každý bod  $a \in A$  existuje aspoň jedna množina  $B \in \mathcal{B}$  tak, že platí  $a \in B$  a  $B \subset A$ .

**Príklad 2.2.11.K2-pr20**

Označme  $\mathcal{O}$  systém všetkých okolí všetkých bodov z priestoru  $R^n$ , t. j.  $\mathcal{O} = \{O_\delta(x); x \in R^n, \delta \in R, \delta > 0\}$ . Potom  $\mathcal{O}$  tvorí bázu euklidovskej topológie  $\mathcal{E}$ . ■

**Poznámka 2.2.21.K2-poz46**

Ak zhrnieme doterajšie poznatky o euklidovskom priestore  $R^n$ ,  $n \in N$ , potom môžeme povedať, že  $R^n$  je lineárny priestor so skalárnym súčinom, normovaný, metrický a topologický priestor.

**Príklad 2.2.12.K2-pr21**

Nech  $X = \{a, b\}$ ,  $a \neq b$ , potom môžeme topológiu definovať viacerými spôsobmi:

- Ak  $\mathcal{S} = \{\emptyset, X\}$ , potom množiny  $\{a\}$ ,  $\{b\}$ , sú uzavreté.
- Ak  $\mathcal{S} = \{\emptyset, \{a\}, X\}$ , potom množina  $\{a\}$  je otvorená a množina  $\{b\}$  je uzavretá.
- Ak  $\mathcal{S} = \{\emptyset, \{b\}, X\}$ , potom množina  $\{b\}$  je otvorená a množina  $\{a\}$  je uzavretá.
- Ak  $\mathcal{S} = \{\emptyset, \{a\}, \{b\}, X\}$ , potom množiny  $\{a\}$ ,  $\{b\}$  sú uzavreté. ■

**Príklad 2.2.13.K2-pr22**

Nech  $n \in N$ , potom systém  $\mathcal{S}$  všetkých otvorených podmnožín metrického priestoru  $Q^n$ , t. j. systém  $\mathcal{S} = \{A; A \subset Q^n, A \text{ je otvorená}\}$ , tvorí topológiou v priestore  $Q^n$ . ■

**Cvičenia**

**2.2.1. Dokážte**, že v euklidovskom priestore  $R^n$ ,  $n \in N$  je zjednotením konečného počtu otvorených množín otvorená množina a zjednotením konečného počtu uzavretých množín uzavretá množina.

**2.2.2. Dokážte** Cauchyho nerovnosť (lema 2.2.12).

[Návod: Pre všetky  $t \in R$ ,  $x, y \in R^n$  platí  $P(t) = \sum_{i=1}^n (tx_i + y_i)^2 \geq 0$ . To znamená, že kvadratická rovnica  $P(t) = 0$  má najviac jeden reálny koreň, t. j. záporný diskriminant. Iný návod: Pre všetky  $x, y \in R^n$  platí  $\sum_{i=1}^n \sum_{j=1}^n (x_i y_j - x_j y_i)^2 \geq 0$ .]

**2.2.3. N2j03** Dokážte, že všetky hromadné body množín: ♣

- |  |  |                                   |
|--|--|-----------------------------------|
| a) $\{\frac{1}{m} + \frac{1}{n}; m, n \in N\}$ , | b) $\{\frac{1}{m^2} + \frac{1}{n}; m, n \in N\}$ , | c) $\{\frac{1}{n}; n \in N\}$ ,   |
| d) $\{\frac{1}{m^2} + n; m, n \in N\}$ ,         | e) $\{\frac{1}{m} + n^2; m, n \in N\}$ ,           | f) $\{\frac{1}{n^2}; n \in N\}$ , |
| g) $\{p^2 + q^2; p, q \in Q\}$ ,                 | h) $\{\frac{1}{n} + p^2; n \in N, p \in Q\}$ ,     | i) $\{\frac{1}{p^2}; p \in Q\}$ . |

**2.2.4. D2j21** Dokážte, že každá množina, ktorá má nekonečne veľa prvkov, má aspoň jeden hromadný bod.

**2.2.5. D2j04** Dokážte, že zobrazenia  $\rho_1$  a  $\rho_2$  z príkladu 2.2.8 sú metrikami v  $R^n$ .

**2.2.6. Z2j05** Zostrojte v priestore  $R^n$ ,  $n = 2, 3, 4, 5$  s euklidovskou metrikou množinu  $A$  s  $n+1$  prvkami tak, aby  $\{\rho(x, y); x, y \in A\} = \{0, 1\}$ . ♣

**2.2.7. N2j06**  $R^n$ ,  $n \in N$  je euklidovský metrický priestor. Určte diameter množín  $A$ ,  $B$ ,  $A \cap Q^n$ ,  $B \cap Q^n$ , kde  $A = (0; 1)^n$ ,  $B = \langle 0; 1 \rangle^n$  (karteziánsky súčin  $n$  intervalov). ♣

**2.2.8. D2j07** Dokážte, že v euklidovskom priestore  $R^n$ ,  $n \in N$  (s euklidovskou metrikou) platí pre ľubovoľnú množinu  $A \subset R^n$  a jej uzáver vzťah  $\text{diam } A = \text{diam } \bar{A}$ .

**2.2.9. D2j08** Dokážte, že v euklidovskom priestore  $R^n$ ,  $n \in N$  (s euklidovskou metrikou) je pre každé  $x \in R^n$  množina  $R^n - \{x\}$  otvorená.

**2.2.10. D2j09** Dokážte, že v euklidovskom priestore  $R$  neexistujú okrem množín  $\emptyset$  a  $R$  iné obojaké množiny.

**2.2.11. N2j10**  $X = X_1 \times X_2$ , kde  $X_1 \neq \emptyset$  je metrický priestor s metrikou  $\rho_1$  a  $X_2 \neq \emptyset$  je metrický priestor s metrikou  $\rho_2$ . Dokážte, že zobrazenie  $\rho: X \times X \rightarrow R$  definované pre  $x = (x_1, x_2), y = (y_1, y_2) \in X$ , predpisom  $\rho(x, y) = \rho((x_1; x_2), (y_1; y_2)) = \max\{\rho_1(x_1, y_1), \rho_2(x_2, y_2)\}$  je metrika na  $X$ .

**2.2.12. N2j11**  $X = \{1, 2, 3\}$  a nech  $\rho: X \times X \rightarrow R$  je zobrazenie definované vzťahmi  $\rho(1, 1) = 0$ ,  $\rho(1, 2) = 1$ ,  $\rho(1, 3) = 2$ ,  $\rho(2, 1) = 1$ ,  $\rho(2, 2) = 0$ ,  $\rho(2, 3) = 3$ ,  $\rho(3, 1) = 2$ ,  $\rho(3, 2) = 3$ ,  $\rho(3, 3) = 0$ . Je zobrazenie  $\rho$  metrikou na  $X$ ? ♣

**2.2.13. Z2j12** Zostrojte množinu  $X \neq \emptyset$  a zobrazenie  $\rho: X \times X \rightarrow R$  tak, aby: ♣

- Zobrazenie  $\rho$  malo vlastnosti a), b) a nemalo vlastnosť c) metriky.
- Zobrazenie  $\rho$  malo vlastnosti a), c) a nemalo vlastnosť b) metriky.
- Zobrazenie  $\rho$  malo vlastnosti b), c) a nemalo vlastnosť a) metriky.

**2.2.14. Z2j13** Zostrojte za množinu  $X$  v cvičení 2.2.13 postupne množiny  $R$ ,  $R^2$ ,  $R^3$ ,  $Q$ ,  $Q^2$ ,  $Q^3$  a zostrojte zobrazenie  $\rho$  s uvedenými vlastnosťami.

**2.2.15. N2j14**  $X \neq \emptyset$  je množina a nech  $\rho: X \times X \rightarrow R$  je zobrazenie také, že pre všetky  $x \in X$  platí  $\rho(x, x) = 0$  a pre všetky  $x, y \in X$ ,  $x \neq y$  platí  $\rho(x, y) \neq 0$ . Nech pre ľubovoľné  $x, y, z \in X$  platí nerovnosť  $\rho(z, x) \leq \rho(x, y) + \rho(y, z)$ . Dokážte, že zobrazenie  $\rho$  je metrika na  $X$ . (Nepredpokladáme nezápornosť a symetriu zobrazenia  $\rho$ .)

**2.2.16. N2j15**  $X \neq \emptyset$  je metrický priestor s triviálnou metrikou  $\rho_a$ , kde  $a \in R$ ,  $a > 0$ .

- Dokážte, že každá množina  $A \subset X$  je obojaká v  $X$ .
- Dokážte, že pre každú množinu  $A \subset X$  platí  $A = \text{int } A$ ,  $\partial A = \emptyset$ .

**2.2.17.** ~~N-2-16~~  $\rho_1$  a  $\rho_2$  sú dve metriky definované na množine  $X \neq \emptyset$ . Rozhodnite, či je metrikou na množine  $X$  tiež zobrazenie  $\rho: X \times X \rightarrow R$  definované pre  $x, y \in X$  vzťahom: ♣

- a)  $\rho(x, y) = \rho_1(x, y) + \rho_2(x, y)$ ,  
 b)  $\rho(x, y) = \max \{ \rho_1(x, y), \rho_2(x, y) \}$ ,  
 c)  $\rho(x, y) = \rho_1(x, y) \cdot \rho_2(x, y)$ ,  
 d)  $\rho(x, y) = \min \{ \rho_1(x, y), \rho_2(x, y) \}$ .

**2.2.18.** ~~Z-3-17~~ Zistite topológiu na množine  $X = \{1, 2, 3\}$ , aby mala práve: ♣

- a) 3 prvky,      b) 4 prvky,      c) 5 prvkov,      d) 6 prvkov,      e) 7 prvkov.

**2.2.19.** ~~N-2-18~~ je ľubovoľná nekonečná množina a nech  $\mathcal{S}$  je systém jej podmnožín, ktorý obsahuje  $\emptyset$  a každú množinu  $A \subset X$ , ktorej doplnok je konečná množina, t. j.  $\mathcal{S} = \{A \subset X; A'_X = X - A \text{ je konečná}\}$ . Dokážte, že  $\mathcal{S}$  je topológia na  $X$ .<sup>22</sup>

**2.2.20.** ~~N-2-19~~ je neprázdna množina a nech  $\mathcal{S}_1$  a  $\mathcal{S}_2$  sú topológie definované na  $X$ . Dokážte, že systémy  $\mathcal{S}_1 \cap \mathcal{S}_2$  a  $\mathcal{S}_1 \cup \mathcal{S}_2$  sú tiež topológie na  $X$ .

**2.2.21.** ~~D-2-20~~ či systém  $\mathcal{B}$  tvorí bázu euklidovskej topológie v priestore  $R$ . ♣

- a)  $\mathcal{B} = \{(x; y); x, y \in R\}$ ,  
 b)  $\mathcal{B} = \{O_\delta(x); x \in R, \delta = \frac{1}{n}, n \in N\}$ ,  
 c)  $\mathcal{B} = \{(x; y); x \in R, y \in Q\}$ ,  
 d)  $\mathcal{B} = \{O_\delta(x); x \in Q, \delta = \frac{1}{n}, n \in N\}$ ,  
 e)  $\mathcal{B} = \{(x; y); x, y \in Q\}$ ,  
 f)  $\mathcal{B} = \{(-\infty; x); x \in R\} \cup \{(x; \infty); x \in R\}$ .

## 2.3 Postupnosti reálnych čísel

### 2.3.1 Základné pojmy

Pojem postupnosti sme zaviedli už v predchádzajúcej kapitole. **Postupnosťou** nazývame každé zobrazenie, ktorého definičným oborom je množina prirodzených čísel  $N$ . V tejto časti sa budeme zaoberať postupnosťami, ktorých obory hodnôt sú podmnožinami množiny reálnych čísel.

**Postupnosťou reálnych čísel (reálnou postupnosťou)** nazývame každú postupnosť  $\{a_n\}_{n=1}^\infty$ , ktorej množina hodnôt (obor hodnôt) je podmnožina množiny  $R$ . To znamená, že všetky  $n \in N$  platí  $a_n \in R$ . Pokiaľ nepoviem ináč, budeme pod pojmom postupnosť rozumieť postupnosť reálnych čísel.

Postupnosť  $\{a_n\}_{n=1}^\infty$  zadávame **explicitným (všeobecným) vyjadrením** člena  $a_n$  ako funkciu premennej  $n$  alebo **rekurentným zadaním** prvého člena a člena  $a_n$  pomocou predchádzajúcich členov. Hovoríme, že postupnosť  $\{a_n\}_{n=1}^\infty$  je zadaná **explicitne (všeobecným vzorcom)**, resp. **rekurentne**.

Hovoríme, že **postupnosť  $\{a_n\}_{n=1}^\infty$  sa rovná postupnosti  $\{b_n\}_{n=1}^\infty$  (postupnosti  $\{a_n\}_{n=1}^\infty$  a  $\{b_n\}_{n=1}^\infty$  sa rovnajú)** práve vtedy, ak pre všetky  $n \in N$  platí  $a_n = b_n$ . Rovnosť postupností symbolicky zapisujeme  $\{a_n\}_{n=1}^\infty = \{b_n\}_{n=1}^\infty$ .

#### Poznámka 2.3.1.K2-poz124

Nesmieme zabúdať, že reálna postupnosť  $\{a_n\}_{n=1}^\infty$  je zobrazením  $f: N \rightarrow R$ , t. j.

$$\{a_n\}_{n=1}^\infty = \{[n; f(n)]; n \in N\} = \{[1; f(1)], [2; f(2)], [3; f(3)], \dots, [n; f(n)], \dots\}.$$

To znamená, že každý člen  $a_n$  prakticky predstavuje usporiadanú dvojicu  $[n; f(n)]$ .

#### Príklad 2.3.1.K2-pr18

a) Postupnosť  $\{a_n\}_{n=1}^\infty = \{2n - 1\}_{n=1}^\infty = \{1, 3, 5, 7, \dots\}$  môžeme explicitne zadať vzťahom  $a_n = 2n - 1$ ,  $n \in N$  a rekurentne vzťahmi  $a_1 = 1$ ,  $a_{n+1} = a_n + 2$  pre  $n \in N$ .

b) Postupnosť  $\{5^{2n}\}_{n=1}^\infty$  je rekurentne zadaná vzťahmi  $a_1 = 25$ ,  $a_{n+1} = 25a_n$ ,  $n \in N$ .

c) Explicitný zápis  $a_n = \frac{n+1}{n}$ ,  $n \in N$  definuje postupnosť  $\{a_n\}_{n=1}^\infty = \left\{\frac{n+1}{n}\right\}_{n=1}^\infty$ . ■

<sup>22</sup>Množinu  $X$  s topológiou  $\mathcal{S}$  nazývame **topologický priestor konečných doplnkov**.

**Poznámka 2.3.2.K2-poz90**

Ak poznáme konečný počet členov postupnosti, neznamená to, že poznáme celú postupnosť. Napríklad čísla 1, 2, 4 predstavujú prvé tri členy každej z postupností

$$\{1, 2, 4, 1, 2, 4, \dots\}, \{1, 2, 4, 8, 16, 32, \dots\}, \{1, 2, 4, 1, 2, 4, \dots\}, \{1, 2, 4, 1, 1, 1, \dots\}.$$

**Poznámka 2.3.3.K2-poz53**

Niekedy je potrebné definovať postupnosť nie od prvého člena, ale od nejakého člena  $a_k$ , kde  $k \in N$ . V praxi sa často stretávame s postupnosťami zadanými od nultého člena, t. j. s postupnosťami  $\{a_n\}_{n=0}^\infty$ . Dokonca sa môže stať, že  $k$  je záporné celé číslo.

Postupnosť v takom prípade zapisujeme symbolom  $\{a_n\}_{n=k}^\infty = \{a_k, a_{k+1}, a_{k+2}, \dots\}$ .

Ak označíme postupne pre  $n \in N$  členy  $b_n = a_{n+k-1}$ , potom platí:

$$\{a_n\}_{n=k}^\infty = \{a_k, a_{k+1}, a_{k+2}, \dots\} = \{a_{1+k-1}, a_{2+k-1}, \dots\} = \{b_1, b_2, b_3, \dots\} = \{b_n\}_{n=1}^\infty.$$

Postupnosť  $\{a_n\}_{n=1}^\infty$  sa nazýva **ohraničená zdola** [resp. **ohraničená zhora**], ak je ohraničená zdola [resp. ohraničená zhora] množina jej hodnôt. Ak je ohraničená zdola a zároveň ohraničená zhora, potom sa nazýva **ohraničená**.

Ak nie je postupnosť  $\{a_n\}_{n=1}^\infty$  ohraničená zdola [resp. zhora], potom sa nazýva **neohraničená zdola** [resp. **zhora**]. Ak nie je ohraničená, nazýva sa **neohraničená**.

**Poznámka 2.3.4.K2-poz54**

Z predchádzajúcej definície vyplýva, že postupnosť  $\{a_n\}_{n=1}^\infty$  je **ohraničená zdola**, ak existuje  $m \in R$  také, že pre všetky  $n \in N$  platí  $m \leq a_n$ .

Analogicky je postupnosť  $\{a_n\}_{n=1}^\infty$  **ohraničená zhora**, ak existuje  $M \in R$  tak, že pre všetky  $n \in N$  platí  $a_n \leq M$ .

Postupnosť  $\{a_n\}_{n=1}^\infty$  je **ohraničená**, ak existujú  $m, M \in R$  také, že pre všetky  $n \in N$  platí  $m \leq a_n \leq M$ , t. j. ak existuje  $s \in R$ , že pre všetky  $n \in N$  platí  $|a_n| \leq s$ .

Postupnosť je **neohraničená**, ak nie je ohraničená zdola alebo nie je ohraničená zhora.

Postupnosť  $\{a_n\}_{n=1}^\infty$  sa nazýva:

- **rastúca** [resp. **klesajúca**], ak pre všetky  $n \in N$  platí  $a_n < a_{n+1}$  [resp.  $a_n > a_{n+1}$ ].
- **neklesajúca** [resp. **nerastúca**], ak pre všetky  $n \in N$  platí  $a_n \leq a_{n+1}$  [resp.  $a_n \geq a_{n+1}$ ].
- **stacionárna (konštantná)**, ak pre všetky  $n \in N$  platí  $a_n = a_1 = a$ , t. j.  $\{a_n\}_{n=1}^\infty = \{a\}_{n=1}^\infty$ .

Postupnosť  $\{a_n\}_{n=1}^\infty$  sa nazýva **monotónna**, ak je neklesajúca, nerastúca alebo stacionárna. Ak je postupnosť  $\{a_n\}_{n=1}^\infty$  rastúca alebo klesajúca, potom sa nazýva **rýdzo monotónna**.

Nech  $\{k_n\}_{n=1}^\infty$  je rastúca postupnosť prirodzených čísel. Potom sa postupnosť  $\{a_{k_n}\}_{n=1}^\infty$  nazýva **podpostupnosť (vybraná postupnosť z) postupnosti**  $\{a_n\}_{n=1}^\infty$ .

**Príklad 2.3.2.K2-pr24**

Určíme niektoré vybrané postupnosti z postupnosti  $\{a_n\}_{n=1}^\infty = \{2n - 1\}_{n=1}^\infty$ .

Ak vyberieme párne členy, t. j.  $\{k_n\}_{n=1}^\infty = \{2n\}_{n=1}^\infty = \{2, 4, 6, 8, \dots\}$ , potom

$$\{a_{k_n}\}_{n=1}^\infty = \{a_{2n}\}_{n=1}^\infty = \{a_2, a_4, a_6, a_8, \dots\} = \{4n - 1\}_{n=1}^\infty = \{3, 7, 11, 15, 19, \dots\}.$$

Ak  $\{k_n\}_{n=1}^\infty = \{n^2\}_{n=1}^\infty = \{1, 4, 9, 16, \dots\}$ , potom

$$\{a_{k_n}\}_{n=1}^\infty = \{a_{n^2}\}_{n=1}^\infty = \{a_1, a_4, a_9, a_{16}, \dots\} = \{2n^2 - 1\}_{n=1}^\infty = \{1, 7, 17, 31, \dots\}.$$

Vybrané sú tiež postupnosti  $\{2n - 1\}_{n=1}^\infty$ ,  $\{2n - 1\}_{n=2}^\infty$ ,  $\{101, 109, 235, 637, \dots\}$ . ■

**Súčtom, rozdielom, súčinom**, resp. **podielom postupností**  $\{a_n\}_{n=1}^{\infty}$  a  $\{b_n\}_{n=1}^{\infty}$  nazývame postupnosti  $\{a_n + b_n\}_{n=1}^{\infty}$ ,  $\{a_n - b_n\}_{n=1}^{\infty}$ ,  $\{a_n b_n\}_{n=1}^{\infty}$ , resp.  $\left\{\frac{a_n}{b_n}\right\}_{n=1}^{\infty}$ . V prípade podielu predpokladáme, že pre všetky  $n \in N$  platí  $b_n \neq 0$ .

### Poznámka 2.3.5.K2-poz63

Z danej postupnosti môžeme vytvoriť nové postupnosti mnohými spôsobmi, napríklad

$$\{|a_n|\}_{n=1}^{\infty}, \quad \left\{\frac{1}{a_n}\right\}_{n=1}^{\infty}, \quad \{a_n^2\}_{n=1}^{\infty}, \quad \{\sin a_n\}_{n=1}^{\infty}, \quad \{\ln a_n\}_{n=1}^{\infty}, \quad \{5a_n\}_{n=1}^{\infty}.$$

## 2.3.2 Limita postupnosti

Jedným zo základných pojmov v matematickej analýze je limita<sup>23</sup> a s ňou spojené limitné procesy. V tejto časti sa budeme zaoberať limitami postupností. S tým súvisí pojem hromadná hodnota postupnosti. Najprv si to ilustrujeme na nasledujúcom príklade.

### Príklad 2.3.3.K2-pr61

a) Uvažujme postupnosť

$$\{a_n\}_{n=1}^{\infty} = \left\{\frac{1}{n}\right\}_{n=1}^{\infty} = \left\{1, \frac{1}{2}, \frac{1}{3}, \frac{1}{4}, \dots, \frac{1}{n}, \dots\right\}.$$

Postupnosť je klesajúca a s rastúcou hodnotou  $n$  sa členy  $a_n$  blížia k bodu 0. Bod 0 je hranica, ktorú nikdy neprekročia. Môžeme povedať, že sa body  $a_n$  hromadia v bode 0.

b) Uvažujme postupnosť

$$\{a_n\}_{n=1}^{\infty} = \left\{n, \frac{1}{n}\right\}_{n=1}^{\infty} = \left\{1, 1, 2, \frac{1}{2}, 3, \frac{1}{3}, 4, \frac{1}{4}, \dots, n, \frac{1}{n}, \dots\right\}.$$

Nepárne členy  $a_n$  sa neobmedzene zväčšujú a párne členy zmenšujú. Nepárne sa približujú (hromadia) k bodu  $\infty$ . Párne členy sa približujú (hromadia) k bodu 0. ■

Hovoríme, že bod  $a \in R^*$  je **hromadnou hodnotou**  $\{a_n\}_{n=1}^{\infty}$ , ak v každom okolí  $O(a)$  existuje nekonečne veľa členov  $a_n$  takých, že  $a_n \in O(a)$ .

Ak  $a \in R$ , potom hovoríme o **vlastnej hromadnej hodnote**. Ak  $a = -\infty$  alebo  $a = \infty$ , potom hovoríme o **nevlastnej hromadnej hodnote**.

### Poznámka 2.3.6.K2-poz55

Bod  $a \in R$  je vlastnou hromadnou hodnotou postupnosti  $\{a_n\}_{n=1}^{\infty}$ , ak pre každé  $\varepsilon > 0$  existuje nekonečne veľa členov  $a_n$  takých, že platí  $a_n \in (a - \varepsilon; a + \varepsilon)$ , t. j.  $|a_n - a| < \varepsilon$ .

Bod  $\infty$  [resp.  $-\infty$ ] je nevlastnou hromadnou hodnotou postupnosti  $\{a_n\}_{n=1}^{\infty}$ , ak pre každé  $K \in R$  [resp.  $L \in R$ ] existuje nekonečne veľa členov  $a_n$  takých, že  $K < a_n$  [resp.  $a_n < L$ ].

### Veta 2.3.1.K2-veta76

Každá postupnosť  $\{a_n\}_{n=1}^{\infty}$  má aspoň jednu hromadnú hodnotu.

#### Dôkaz.

Ak je  $\{a_n\}_{n=1}^{\infty}$  neohraničená zhora, potom pre každé  $\alpha \in R$  existuje aspoň jedno  $a_n > \alpha$ . Vzhľadom na to, že čísel väčších ako  $\alpha$  existuje nekonečne veľa, musí existovať aj nekonečne veľa členov  $a_n > \alpha$ . To znamená, že  $a = \infty$  je hromadnou hodnotou  $\{a_n\}_{n=1}^{\infty}$ .

Ak je  $\{a_n\}_{n=1}^{\infty}$  neohraničená zdola, potom analogicky je hromadnou hodnotou  $a = -\infty$ .

<sup>23</sup>Odvodené z latinského slova *limes* — hranica.

Ak je  $\{a_n\}_{n=1}^{\infty}$  ohraničená, potom existuje interval  $\langle b_1; c_1 \rangle$  taký, že všetky  $a_n \in \langle b_1; c_1 \rangle$ . Označme jeho dĺžku  $d = c_1 - b_1$  a rozdeľme ho na dva rovnaké intervaly

$$\left\langle b_1; \frac{b_1+c_1}{2} \right\rangle, \quad \left\langle \frac{b_1+c_1}{2}; c_1 \right\rangle.$$

V aspoň jednom z nich leží nekonečne veľa členov  $\{a_n\}_{n=1}^{\infty}$ . Označme ho  $\langle b_2; c_2 \rangle$ . Pre jeho dĺžku platí  $c_2 - b_2 = \frac{d}{2} = \frac{d}{2^{2-1}}$ . Rozdeľme  $\langle b_2; c_2 \rangle$  na dva rovnaké intervaly

$$\left\langle b_2; \frac{b_2+c_2}{2} \right\rangle, \quad \left\langle \frac{b_2+c_2}{2}; c_2 \right\rangle.$$

V aspoň jednom z nich leží nekonečne veľa členov  $\{a_n\}_{n=1}^{\infty}$ . Označme ho  $\langle b_3; c_3 \rangle$ . Pre jeho dĺžku platí  $c_3 - b_3 = \frac{d}{2^2} = \frac{d}{2^{3-1}}$ . Rozdeľme  $\langle b_3; c_3 \rangle$  na dva rovnaké intervaly, atď.

Predpokladajme, že pre  $m \in \mathbb{N}$  máme zostrojený interval  $\langle b_m; c_m \rangle$ . Rozdeľme ho na dva rovnaké intervaly a symbolom  $\langle b_{m+1}; c_{m+1} \rangle$  označme ten z intervalov

$$\left\langle b_m; \frac{b_m+c_m}{2} \right\rangle, \quad \left\langle \frac{b_m+c_m}{2}; c_m \right\rangle$$

v ktorom leží nekonečne veľa členov  $a_n$ . Pre jeho dĺžku platí  $c_{m+1} - b_{m+1} = \frac{d}{2^m}$ .

Je zrejmé, že pre každé  $\varepsilon > 0$  existuje interval  $\langle b_m; c_m \rangle$  taký, že  $c_m - b_m < \frac{d}{2^{m-1}} < \varepsilon$ .

Potom (veta 2.1.31) existuje práve jeden bod  $a \in \bigcap_{m=1}^{\infty} \langle b_m; c_m \rangle$ .

Ak to zhrnieme, potom pre každé  $\varepsilon > 0$  existuje interval  $\langle b_m; c_m \rangle$ , v ktorom leží nekonečne veľa členov  $a_n$ , pre ktoré platí  $|a_n - a| \leq c_m - b_m < \varepsilon$ . To znamená, že  $a$  je hromadnou hodnotou postupnosti  $\{a_n\}_{n=1}^{\infty}$ . ■

### Dôsledok 2.3.1.a.K2-dosl26

Ak je postupnosť ohraničená, potom má aspoň jednu reálnu hromadnú hodnotu  $a \in \mathbb{R}$ .

Ak je postupnosť neohraničená zhora, potom má hromadnú hodnotu  $\infty$ .

Ak je postupnosť neohraničená zdola, potom má hromadnú hodnotu  $-\infty$ .

### Poznámka 2.3.7.K2-poz52

Musíme odlišovať hromadné hodnoty (body) postupnosti od hromadných bodov množiny hodnôt postupnosti a definičného oboru postupnosti. Definičným oborom každej postupnosti je množina  $N$ , ktorá má práve jeden hromadný bod  $\infty$ .

Z vety 2.3.1 vyplýva, že každá postupnosť má aspoň jednu hromadnú hodnotu, ale množina hodnôt hromadný bod mať nemusí. Napríklad postupnosť  $\{1\}_{n=1}^{\infty}$  má jednu hromadnú hodnotu 1, ale množina jej hodnôt  $\{1\}$  hromadné body nemá.

Označme  $E$  množinu všetkých hromadných hodnôt postupnosti  $\{a_n\}_{n=1}^{\infty}$ . Suprémum množiny  $E$  nazývame **limes superior (horná limita) postupnosti**  $\{a_n\}_{n=1}^{\infty}$  a označujeme  $\limsup_{n \rightarrow \infty} a_n$ , resp.  $\overline{\lim}_{n \rightarrow \infty} a_n$ . Analogicky infimum množiny  $E$  nazývame **limes inferior (dolná limita) postupnosti**  $\{a_n\}_{n=1}^{\infty}$  a označujeme  $\liminf_{n \rightarrow \infty} a_n$ , resp.  $\underline{\lim}_{n \rightarrow \infty} a_n$ .

### Poznámka 2.3.8.K2-poz56

Označme  $\liminf_{n \rightarrow \infty} a_n = a$ ,  $\limsup_{n \rightarrow \infty} a_n = A$ , pričom  $a, A \in \mathbb{R}$ . Nech  $\varepsilon > 0$ .

Z definície vyplýva, že v intervale  $(-\infty; a - \varepsilon)$  leží konečný počet členov  $a_n$ . Predpokladajme, že v tomto intervale leží nekonečne veľa členov  $a_n$ . Potom z dôkazu vety 2.3.1 vyplýva, že postupnosť  $\{a_n\}_{n=1}^{\infty}$  má hromadnú hodnotu menšiu alebo rovnú ako  $a - \varepsilon$ . To je spor s tým, že  $a$  je infimum množiny hromadných hodnôt.

Podobne v intervale  $(A + \varepsilon; \infty)$  leží najviac konečný počet členov  $a_n$ .

Z toho vyplýva, že v množine  $(-\infty; a - \varepsilon) \cup (A + \varepsilon; \infty)$  leží konečný počet členov  $a_n$ , t. j. od nejakého indexu ležia všetky členy  $a_n$  v intervale  $(a - \varepsilon; A + \varepsilon)$ .



To znamená, že pre každé  $\varepsilon > 0$  existuje  $n_0 \in \mathbb{N}$  také, že pre všetky  $n \in \mathbb{N}$ ,  $n \geq n_0$  platí:

$$a_n \in (a - \varepsilon; a + \varepsilon), \quad \text{t. j.} \quad \liminf_{n \rightarrow \infty} a_n - \varepsilon < a_n < \limsup_{n \rightarrow \infty} a_n + \varepsilon.$$

### Príklad 2.3.4.K2-pr54

Bod 0 je hromadnou hodnotou postupnosti  $\{\frac{1}{n}\}_{n=1}^{\infty} = \{1, \frac{1}{2}, \frac{1}{3}, \frac{1}{4}, \dots\}_{n=1}^{\infty}$ .

#### Riešenie.

Postupnosť  $\{a_n\}_{n=1}^{\infty} = \{\frac{1}{n}\}_{n=1}^{\infty}$  je klesajúca a ohraničená zdola bodom 0.

Nech  $\varepsilon > 0$ , potom základe vety 2.1.27 existuje  $n_0 \in \mathbb{N}$  tak, že  $\frac{1}{n_0} < \varepsilon$ .

Potom pre všetky  $n \in \mathbb{N}$ ,  $n \geq n_0$  platí:

$$a_n = \frac{1}{n} \leq \frac{1}{n_0} < \varepsilon, \quad \text{t. j.} \quad 0 - \varepsilon < a_n < 0 + \varepsilon.$$

To znamená, že pre nekonečne veľa členov  $a_n$  platí  $a_n \in O_{\varepsilon}(0)$ . ■

### Príklad 2.3.5.K2-pr25

- Postupnosť  $\{0, 1, 0, 1, 0, 1, \dots\}$  má dve hromadné hodnoty 0 a 1.
- Postupnosť  $\{2n - 1\}_{n=1}^{\infty} = \{1, 3, 5, 7, \dots\}$  má jednu nevlastnú hromadnú hodnotu  $\infty$ .
- Postupnosť  $\{n, -n\}_{n=1}^{\infty} = \{1, -1, 2, -2, \dots\}$  má dve nevlastné hromadné hodnoty  $\infty$  a  $-\infty$ .
- Postupnosť  $\{n, \frac{1}{n}\}_{n=1}^{\infty} = \{1, 1, 2, \frac{1}{2}, 3, \frac{1}{3}, \dots\}$  má dve hromadné hodnoty 0 a  $\infty$ .
- Postupnosť  $\{0, \frac{1}{n}\}_{n=1}^{\infty} = \{0, 1, 0, \frac{1}{2}, 0, \frac{1}{3}, \dots\}$  má jednu hromadnú hodnotu 0. ■

Bod  $a \in \mathbb{R}^*$  nazývame **limita postupnosti**  $\{a_n\}_{n=1}^{\infty}$  práve vtedy, ak je  $a$  jedinou hromadnou hodnotou tejto postupnosti, t. j. ak platí  $\liminf_{n \rightarrow \infty} a_n = \limsup_{n \rightarrow \infty} a_n = a$ . Limitu postupnosti  $\{a_n\}_{n=1}^{\infty}$  označujeme symbolom  $a = \lim_{n \rightarrow \infty} a_n$ .

Ak  $\lim_{n \rightarrow \infty} a_n = a \in \mathbb{R}$ , potom bod  $a$  nazývame **vlastná limita postupnosti**  $\{a_n\}_{n=1}^{\infty}$  a hovoríme, že **postupnosť**  $\{a_n\}_{n=1}^{\infty}$  **konverguje k číslu**  $a$ . Postupnosť  $\{a_n\}_{n=1}^{\infty}$  nazývame **konvergentná postupnosť**. Ak postupnosť  $\{a_n\}_{n=1}^{\infty}$  konverguje k číslu 0, potom ju nazývame **nulová postupnosť**.

Ak  $\lim_{n \rightarrow \infty} a_n = \infty$  [resp.  $-\infty$ ], potom bod  $\pm\infty$  nazývame **nevlastná limita postupnosti**  $\{a_n\}_{n=1}^{\infty}$  a hovoríme, že **postupnosť**  $\{a_n\}_{n=1}^{\infty}$  **diverguje do**  $\infty$ , [resp.  $-\infty$ ].

Ak  $\lim_{n \rightarrow \infty} a_n$  neexistuje, potom hovoríme, že **postupnosť**  $\{a_n\}_{n=1}^{\infty}$  **osciluje**.

Hovoríme, že postupnosť  $\{a_n\}_{n=1}^{\infty}$  **diverguje**, ak osciluje alebo diverguje do  $\pm\infty$ . Ak  $\{a_n\}_{n=1}^{\infty}$  konverguje k bodu  $a \in \mathbb{R}$ , potom hovoríme, že postupnosť  $\{a_n\}_{n=1}^{\infty}$  **konverguje**.

### Poznámka 2.3.9.K2-poz57

Ak nie je postupnosť  $\{a_n\}_{n=1}^{\infty}$  konvergentná, je divergentná a môžu nastať tri prípady:

- $\liminf_{n \rightarrow \infty} a_n = \limsup_{n \rightarrow \infty} a_n = \lim_{n \rightarrow \infty} a_n = -\infty$ , t. j. postupnosť diverguje do  $-\infty$ .
- $\liminf_{n \rightarrow \infty} a_n = \limsup_{n \rightarrow \infty} a_n = \lim_{n \rightarrow \infty} a_n = \infty$ , t. j. postupnosť diverguje do  $\infty$ .
- $\liminf_{n \rightarrow \infty} a_n < \limsup_{n \rightarrow \infty} a_n$ , t. j.  $\lim_{n \rightarrow \infty} a_n$  neexistuje a postupnosť osciluje.

### Príklad 2.3.6.K2-pr26

- Postupnosti  $\{0, 1, 0, 1, \dots\}$ ,  $\{n, -n\}_{n=1}^{\infty}$ ,  $\{n, \frac{1}{n}\}_{n=1}^{\infty}$  oscilujú, t. j. ich limita neexistuje.
- Limita postupností  $\{\frac{1}{n}\}_{n=1}^{\infty}$ ,  $\{0, \frac{1}{n}\}_{n=1}^{\infty}$  sa rovná 0, t. j. konvergujú k číslu 0.
- Postupnosti  $\{2n - 1\}_{n=1}^{\infty}$ ,  $\{n\}_{n=1}^{\infty}$ ,  $\{n^3\}_{n=1}^{\infty}$ ,  $\{n^n\}_{n=1}^{\infty}$  divergujú do  $\infty$ . ■

**Príklad 2.3.7.K2-pr27**

Ak  $\{a_n\}_{n=1}^{\infty} = \{a\}_{n=1}^{\infty}$ ,  $a \in R$  je konštantná postupnosť, potom  $\lim_{n \rightarrow \infty} a_n = \lim_{n \rightarrow \infty} a = a$ . ■

Z definície vyplýva, že každá postupnosť  $\{a_n\}_{n=1}^{\infty}$  môže mať najviac jednu limitu

$$\liminf_{n \rightarrow \infty} a_n = \limsup_{n \rightarrow \infty} a_n = \lim_{n \rightarrow \infty} a_n = a, \quad \text{kde } a \in R^*.$$

**Veta 2.3.2.K2-poz85**

$\lim_{n \rightarrow \infty} a_n = a \in R^*$  práve vtedy, ak pre každé okolie  $O(a)$  existuje  $n_0 \in N$  také, že pre všetky  $n \in N$ ,  $n \geq n_0$  platí  $a_n \in O(a)$ .

**Dôkaz.**

$NP_{\Rightarrow}$ : Sporom. Nech existuje  $O(a)$  také, že pre všetky  $n_0 \in N$  existuje  $n \geq n_0$  také, že  $a_n \notin O(a)$ . T. j. existuje nekonečne veľa  $a_n \notin O(a)$ . Potom na základe dôkazu vety 2.3.1 má postupnosť  $\{a_n\}_{n=1}^{\infty}$  ďalšiu hromadnú hodnotu  $b \neq a$ . To je spor s definíciou limity.

$PP_{\Leftarrow}$ : Je zrejmé, že  $a$  je hromadným bodom  $\{a_n\}_{n=1}^{\infty}$ . Ukážeme sporom, že je jediným. Ak  $b \neq a$  je hromadným bodom  $\{a_n\}_{n=1}^{\infty}$ , potom v každom okolí  $O(b)$  existuje nekonečne veľa  $a_n \in O(b)$ . Ak zvolíme  $O(b) \cap O(a) = \emptyset$ , potom neexistuje  $n_0$  také, aby pre všetky  $n \geq n_0$  platilo  $a_n \in O(a)$ . To je spor. ■

**Poznámka 2.3.10.K2-poz58**

Nech  $a \in R$ , uvidíme symbolické vyjadrenie limity postupnosti  $\{a_n\}_{n=1}^{\infty}$ .

$$\lim_{n \rightarrow \infty} a_n = a \in R \Leftrightarrow \forall \varepsilon > 0 \exists n_0 \in N \forall n \in N, n \geq n_0: a_n \in (a - \varepsilon; a + \varepsilon),$$

$$\lim_{n \rightarrow \infty} a_n = \infty \Leftrightarrow \forall K \in R \exists n_0 \in N \forall n \in N, n \geq n_0: K < a_n,$$

$$\lim_{n \rightarrow \infty} a_n = -\infty \Leftrightarrow \forall L \in R \exists n_0 \in N \forall n \in N, n \geq n_0: a_n < L.$$

**Veta 2.3.3.K2-veta63**

Bod  $a \in R^*$  je hromadnou hodnotou postupnosti  $\{a_n\}_{n=1}^{\infty}$  práve vtedy, ak existuje vybraná postupnosť  $\{a_{k_n}\}_{n=1}^{\infty}$  z postupnosti  $\{a_n\}_{n=1}^{\infty}$  tak, že  $\lim_{n \rightarrow \infty} a_{k_n} = a$ .

**Dôkaz.**

$NP_{\Rightarrow}$ : Nech  $a \in R^*$  je hromadnou hodnotou postupnosti  $\{a_n\}_{n=1}^{\infty}$ .

Ak  $a \in R$ , potom pre každé  $k \in N$  existuje nekonečne veľa  $a_n$  takých, že  $|a_n - a| < \frac{1}{k}$ . Potom postupne pre každé  $k$  vyberieme jeden z týchto členov tak, aby jeho index bol väčší ako index predtým vybraného a označíme  $a_{k_n}$ . Z konštrukcie vyplýva, že  $\lim_{n \rightarrow \infty} a_{k_n} = a$ .

Ak  $a = \infty$  [resp.  $a = -\infty$ ], potom pre každé  $k \in N$  existuje nekonečne veľa členov  $a_n$  takých, že platí  $k < a_n$  [ $a_n < k$ ]. Analogicky zvolíme pre každé  $k \in N$  jeden z nich a označíme  $a_{k_n}$ , potom  $\lim_{n \rightarrow \infty} a_{k_n} = \infty$  [resp.  $\lim_{n \rightarrow \infty} a_{k_n} = -\infty$ ].

$PP_{\Leftarrow}$ : Vyplýva z definície hromadnej hodnoty, limity a z poznámky 2.3.10. ■

**Príklad 2.3.8.K2-pr62**

a) Postupnosť  $\{a_n\}_{n=1}^{\infty} = \{0, 1\}_{n=1}^{\infty} = \{0, 1, 0, 1, \dots\}$  má dve hromadné hodnoty 0, 1. Vybrané postupnosti sú  $\{a_{2n-1}\}_{n=1}^{\infty} = \{0, 0, 0, \dots\}$  a  $\{a_{2n}\}_{n=1}^{\infty} = \{1, 1, 1, \dots\}$ , pričom

$$\lim_{n \rightarrow \infty} a_{2n-1} = \lim_{n \rightarrow \infty} 0 = 0, \quad \lim_{n \rightarrow \infty} a_{2n} = \lim_{n \rightarrow \infty} 1 = 1.$$



b) Postupnosť  $\{a_n\}_{n=1}^{\infty} = \{-n, 0, n\}_{n=1}^{\infty} = \{-1, 0, 1, -2, 0, 2, -3, 0, 3, \dots\}$  má tri hromadné hodnoty  $-\infty, 0$  a  $\infty$ , pričom príslušné vybrané postupnosti sú napríklad

$$\{-n\}_{n=1}^{\infty} = \{-1, -2, -3, \dots\}, \quad \{0\}_{n=1}^{\infty} = \{0, 0, 0, \dots\}, \quad \{n\}_{n=1}^{\infty} = \{1, 2, 3, \dots\}. \blacksquare$$

V mnohých prípadoch môžeme o konvergencii postupnosti  $\{a_n\}_{n=1}^{\infty}$  rozhodnúť aj bez toho, aby sme poznali jej limitu. Táto skutočnosť vyplýva z axiómy o najmenšom hornom ohraničení. Základné kritérium pre nutnú a postačujúcu podmienku konvergenzie postupnosti, je uvedené v nasledujúcej vete.

### Veta 2.3.4 (Cauchy–Bolzanov princíp konvergenzie postupnosti).K2-veta64

Postupnosť reálnych čísel  $\{a_n\}_{n=1}^{\infty}$  konverguje práve vtedy, ak ku každému číslu  $\varepsilon > 0$  existuje  $n_0 \in N$  také, že pre všetky  $m, n \in N, n \geq n_0, m \geq n_0$  platí  $|a_m - a_n| < \varepsilon$ .

#### Dôkaz.

$NP \Rightarrow$ : Nech  $\lim_{n \rightarrow \infty} a_n = a$ . Potom pre každé  $\varepsilon > 0$ , t. j. aj  $\frac{\varepsilon}{2} > 0$ , existuje  $n_0 \in N$  také, že pre všetky  $m, n \in N, n \geq n_0, m \geq n_0$  platí  $|a_m - a| < \frac{\varepsilon}{2}, |a_n - a| < \frac{\varepsilon}{2}$ .

Potom pre všetky  $m, n \in N, n \geq n_0, m \geq n_0$  platí:

$$|a_m - a_n| = |a_m - a + a - a_n| \leq |a_m - a| + |a - a_n| < \frac{\varepsilon}{2} + \frac{\varepsilon}{2} = \varepsilon.$$

$PP \Leftarrow$ : Sporom. Nech má postupnosť  $\{a_n\}_{n=1}^{\infty}$  dve rôzne hromadné hodnoty  $a', a''$ .

Potom existujú podpostupnosti  $\{a_{i_n}\}_{n=1}^{\infty}, \{a_{j_n}\}_{n=1}^{\infty}$  také, že  $\lim_{n \rightarrow \infty} a_{i_n} = a', \lim_{n \rightarrow \infty} a_{j_n} = a''$ .

Potom pre každé  $\varepsilon > 0$ , t. j. aj pre  $\frac{\varepsilon}{3} > 0$  platí:

Existuje  $n_1 \in N$  také, že pre všetky  $i_n \in N, i_n \geq n_1$  platí  $|a_{i_n} - a'| < \frac{\varepsilon}{3}$ .

Existuje  $n_2 \in N$  také, že pre všetky  $j_n \in N, j_n \geq n_2$  platí  $|a_{j_n} - a''| < \frac{\varepsilon}{3}$ .

Pre všetky  $m, n \in N, n \geq n_0, m \geq n_0$  platí  $|a_m - a_n| < \frac{\varepsilon}{3}$ .

Potom pre každé  $i_n, j_n \in N, i_n \geq \max\{n_1, n_2, n_0\}, j_n \geq \max\{n_1, n_2, n_0\}$  platí:

$$|a' - a''| \leq |a' - a_{i_n}| + |a_{i_n} - a_{j_n}| + |a_{j_n} - a''| < \frac{\varepsilon}{3} + \frac{\varepsilon}{3} + \frac{\varepsilon}{3} = \varepsilon.$$

Z toho vyplýva, že pre každé  $\varepsilon > 0$  platí  $|a' - a''| < \varepsilon$ .

Potom na základe vety 2.1.13 platí  $|a' - a''| = 0$ , t. j.  $a' = a''$ . To je spor.

To znamená, že postupnosť  $\{a_n\}_{n=1}^{\infty}$  má práve jednu hromadnú hodnotu a konverguje.  $\blacksquare$

Ako dokazuje príklad 2.3.9, v priestore všetkých racionálnych čísel veta 2.3.4 neplatí. To znamená, že aj keď postupnosť  $\{a_n\}_{n=1}^{\infty}$  racionálnych čísel spĺňa Cauchy–Bolzanovu podmienku konvergenzie, nemusí konvergovať k racionálnemu číslu.

Niekedy je výhodné v predpokladoch vety 2.3.4 nahraďiť hodnotu  $m$  hodnotou  $n + k$ , kde  $k \in N$  je ľubovoľné.

#### Dôsledok 2.3.4.a.K2-dosl13

Postupnosť reálnych čísel  $\{a_n\}_{n=1}^{\infty}$  konverguje práve vtedy, ak ku každému číslu  $\varepsilon > 0$  existuje  $n_0 \in N$  také, že pre všetky  $n \in N, n \geq n_0$  a všetky  $k \in N$  platí  $|a_n - a_{n+k}| < \varepsilon$ .

#### Príklad 2.3.9.K2-pr28

Zostrojte postupnosť  $\{a_n\}_{n=1}^{\infty}$  racionálnych čísel, ktorá konverguje k iracionálnemu číslu.

#### Riešenie.

Postupnosť  $\{\sqrt{2} - \frac{1}{n}\}_{n=1}^{\infty}$  je rastúca a zhora ohraničená číslom  $\sqrt{2}$ .

Pre všetky  $n \in N$  zvolíme bod  $a_n \in Q$  tak, aby (obr. 2.3.13) platilo

$$\sqrt{2} - \frac{1}{n} < a_n < \sqrt{2} - \frac{1}{n+1}, \quad \text{t. j. } a_n \in \left(\sqrt{2} - \frac{1}{n}; \sqrt{2} - \frac{1}{n+1}\right).$$

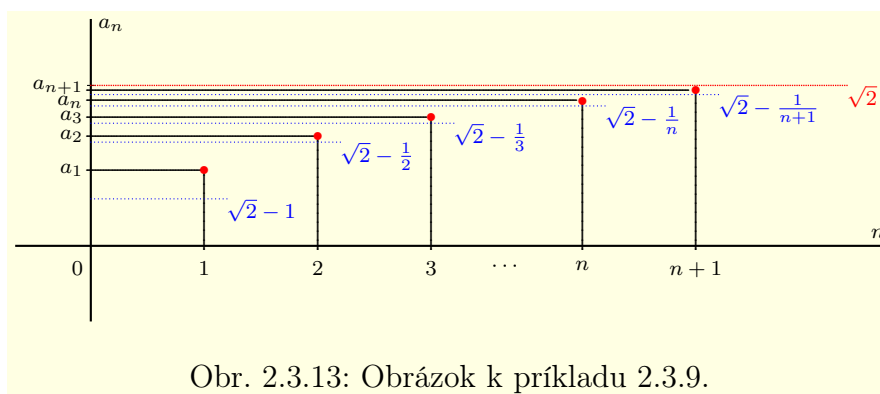
Postupnosť  $\{a_n\}_{n=1}^{\infty}$  je rastúca a pre všetky  $n \in N$  platí  $\sqrt{2} - a_n < \frac{1}{n}$ .

Nech  $\varepsilon > 0$ , potom existuje  $n_0 \in N$  také, že  $\frac{1}{n_0} < \varepsilon$  a pre všetky  $m \in N$ ,  $m \geq n_0$  platí:

$$|\sqrt{2} - a_m| = \sqrt{2} - a_m < \frac{1}{m} \leq \frac{1}{n_0} < \varepsilon.$$

To znamená, že racionálna postupnosť  $\{a_n\}_{n=1}^{\infty}$  konverguje k iracionálnemu číslu  $\sqrt{2}$ , t. j. nekonverguje v množine  $Q$ . Ale  $\{a_n\}_{n=1}^{\infty}$  spĺňa predpoklady vety 2.3.4, pretože pre všetky  $m, n \in N$ ,  $m \geq n_0$ ,  $n \geq n_0$  platí:

$$|a_m - a_n| = \sqrt{2} - a_n < \frac{1}{n_0} < \varepsilon. \blacksquare$$



Obr. 2.3.13: Obrázok k príkladu 2.3.9.

Postupnosť  $\{a_n\}_{n=1}^{\infty}$  sa nazýva **cauchyovská (fundamentálna)**, ak spĺňa Cauchy–Bolzanov princíp konvergenencie, t. j. ak ku každému číslu  $\varepsilon > 0$  existuje  $n_0 \in N$  také, že pre všetky  $m, n \in N$ ,  $n \geq n_0$ ,  $m \geq n_0$  platí  $|a_m - a_n| < \varepsilon$ .

Z definície vyplýva, že v množine reálnych čísel  $R$  je postupnosť  $\{a_n\}_{n=1}^{\infty}$  konvergentná práve vtedy, ak je fundamentálna. V množine  $Q$  toto tvrdenie neplatí, ale je zrejmé, že každá konvergentná postupnosť je fundamentálna.

Postupnosti  $\{a_n\}_{n=1}^{\infty}$ ,  $\{b_n\}_{n=1}^{\infty}$  sa nazývajú **ekvivalentné**, ak existuje postupnosť  $\{c_n\}_{n=1}^{\infty}$  taká, že  $\lim_{n \rightarrow \infty} c_n = 1$  a pre všetky  $n \in N$  platí  $a_n = b_n c_n$ . Ekvivalentné postupnosti značíme  $\{a_n\}_{n=1}^{\infty} \sim \{b_n\}_{n=1}^{\infty}$ . V opačnom prípade píšeme  $\{a_n\}_{n=1}^{\infty} \not\sim \{b_n\}_{n=1}^{\infty}$ .

### Príklad 2.3.10.K2-pr29

a)  $\{n+1\}_{n=1}^{\infty} \sim \{n\}_{n=1}^{\infty}$ , pretože  $n+1 = n(1 + \frac{1}{n})$  a  $\lim_{n \rightarrow \infty} (1 + \frac{1}{n}) = 1$ .

b)  $\{n\}_{n=2}^{\infty} \sim \{n\}_{n=1}^{\infty}$ , pretože postupnosť  $\{n\}_{n=2}^{\infty}$  môžeme vyjadriť v tvare  $\{n+1\}_{n=1}^{\infty}$ .

c)  $\{n^2\}_{n=1}^{\infty} \not\sim \{n\}_{n=1}^{\infty}$ , pretože pre  $n \in N$  platí  $n^2 = n \cdot n$  a  $\lim_{n \rightarrow \infty} n = \infty \neq 1$ . ■

## 2.3.3 Prehľad základných tvrdení

V tejto časti sformulujeme a dokážeme niektoré jednoduché tvrdenia, ktoré nám uľahčia prácu s postupnosťami a hlavne s limitami postupností. Ako sme už uviedli, pod pojmom postupnosť budeme rozumieť postupnosť reálnych čísel.

### Veta 2.3.5.K2-veta85

Bod  $a \in R^*$  je hromadným bodom množiny  $A \subset R$  práve vtedy, ak existuje postupnosť  $\{a_n\}_{n=1}^{\infty}$  bodov množiny  $A$ , kde  $a_n \neq a$  pre všetky  $n \in N$  taká, že platí  $\lim_{n \rightarrow \infty} a_n = a$ .

**Dôkaz.**

Z poznámky 2.2.8 vyplýva, že bod  $a \in R^*$  je hromadným bodom množiny  $A \subset R$  práve vtedy, ak v každom jeho okolí leží nekonečne veľa bodov, ktoré sú rôzne od bodu  $a$ .

Na druhej strane je bod  $a$  hromadnou hodnotou postupnosti  $\{a_n\}_{n=1}^{\infty}$ . To znamená, že v každom jeho okolí leží nekonečne veľa bodov z tejto postupnosti, t. j. bodov  $a_n \in A$ ,  $a_n \neq a$ .

Keďže uvedené tvrdenia sú ekvivalentné, dôkaz je ukončený. ■

**Príklad 2.3.11.K2-pr63**

Bod 0 je hromadným bodom intervalu  $(0; 2)$ . Postupnosť  $\{\frac{1}{n}\}_{n=1}^{\infty}$  konverguje k bodu 0 a pre všetky  $n \in N$  platí  $\frac{1}{n} \neq 0$ ,  $\frac{1}{n} \in (0; 2)$ . ■

**Veta 2.3.6.K2-veta65**

Nech existuje  $k \in N$  také, že pre všetky  $n \in N$ ,  $n \geq k$  platí  $a_n = b_n$ .

Potom množiny hromadných hodnôt postupností  $\{a_n\}_{n=1}^{\infty}$  a  $\{b_n\}_{n=1}^{\infty}$  sa rovnajú.

**Dôkaz.**

Ak  $a \in R^*$  je hromadnou hodnotou postupnosti  $\{a_n\}_{n=1}^{\infty}$ , potom v každom okolí  $O(a)$  existuje nekonečne veľa bodov  $a_n = b_n$ . To znamená, že  $a$  je hromadným bodom  $\{b_n\}_{n=1}^{\infty}$ .

Ak  $b \in R^*$  je hromadnou hodnotou  $\{b_n\}_{n=1}^{\infty}$ , potom v každom okolí  $O(b)$  existuje nekonečne veľa bodov  $b_n = a_n$ . To znamená, že  $b$  je hromadnou hodnotou  $\{a_n\}_{n=1}^{\infty}$ . ■

**Dôsledok 2.3.6.a.K2-dosl20**

Nech existuje  $k \in N$  také, že pre všetky  $n \in N$ ,  $n \geq k$  platí rovnosť  $a_n = b_n$ .

Potom  $\lim_{n \rightarrow \infty} a_n$  existuje práve vtedy, ak existuje  $\lim_{n \rightarrow \infty} b_n$  a limity sa rovnajú.

**Poznámka 2.3.11.K2-poz59**

Z vety 2.3.6 vyplýva, že **konečný počet členov postupnosti neovplyvní konvergenciu, resp. divergenciu postupnosti**. V budúcnosti budeme tvrdenia pre postupnosť  $\{a_n\}_{n=1}^{\infty}$  formulovať v zjednodušenom tvare pre všetky členy  $a_n$ . V zmysle vety 2.3.6 budú tieto tvrdenia platiť aj v prípade, keď vynecháme konečný počet členov.

**Veta 2.3.7.K2-veta66**

Nech  $\{a_n\}_{n=1}^{\infty}$  je postupnosť a nech  $a \in R^*$ , potom

$\lim_{n \rightarrow \infty} a_n = a$  práve vtedy, ak pre každú podpostupnosť  $\{a_{k_n}\}_{n=1}^{\infty}$  platí  $\lim_{n \rightarrow \infty} a_{k_n} = a$ .

**Dôkaz.**

$NP_{\Rightarrow}$ : Sporom. Nech existuje podpostupnosť  $\{a_{k_n}\}_{n=1}^{\infty}$  taká, že  $\lim_{n \rightarrow \infty} a_{k_n} = b \neq a$ .

Z vety 2.3.3 vyplýva, že  $b$  je hromadnou hodnotou postupnosti  $\{a_n\}_{n=1}^{\infty}$ .

Takže postupnosť  $\{a_n\}_{n=1}^{\infty}$  má dve rôzne hromadné hodnoty a nemá limitu. To je spor.

$PP_{\Leftarrow}$ : Z vety 2.3.3 vyplýva, že  $a$  je jedinou hromadnou hodnotou postupnosti  $\{a_n\}_{n=1}^{\infty}$ , t. j.  $\lim_{n \rightarrow \infty} a_n = a$ . ■

**Dôsledok 2.3.7.a.K2-dosl14**

Ak  $\lim_{n \rightarrow \infty} a_n = a$ , potom pre všetky  $k \in N$  platí  $\lim_{n \rightarrow \infty} a_n = \lim_{n \rightarrow \infty} a_{n+k} = a$ .

**Dôsledok 2.3.7.b.K2-dosl15**

Ak sa z postupnosti  $\{a_n\}_{n=1}^{\infty}$  dajú vybrať podpostupnosti  $\{a_{k_n}\}_{n=1}^{\infty}$ ,  $\{a_{l_n}\}_{n=1}^{\infty}$ , pre ktoré platí  $\lim_{n \rightarrow \infty} a_{k_n} \neq \lim_{n \rightarrow \infty} a_{l_n}$ , potom  $\lim_{n \rightarrow \infty} a_n$  neexistuje.

**Príklad 2.3.12.K2-pr32**

Postupnosť  $\{a_n\}_{n=1}^{\infty} = \{1 + (-1)^n\}_{n=1}^{\infty} = \{0, 2, 0, 2, \dots\}$  osciluje.

Stačí vybrať konštantné postupnosti  $\{0, 0, 0, \dots\} = \{0\}_{n=1}^{\infty}$  a  $\{2, 2, 2, \dots\} = \{2\}_{n=1}^{\infty}$ , pre ktoré platí  $\lim_{n \rightarrow \infty} 0 = 0 \neq 2 = \lim_{n \rightarrow \infty} 2$ . ■

**Príklad 2.3.13.K2-pr30**

Dokážte, že  $\lim_{n \rightarrow \infty} \frac{1}{n} = 0$ .

**Riešenie.**

Z príkladu 2.3.4 a vyplýva, že bod 0 je jedinou hromadnou hodnotou postupnosti  $\{\frac{1}{n}\}_{n=1}^{\infty}$ . To znamená, že  $\lim_{n \rightarrow \infty} \frac{1}{n} = 0$ . ■

**Veta 2.3.8.K2-veta67**

Ak postupnosť  $\{a_n\}_{n=1}^{\infty}$  konverguje, potom je ohraničená.

**Dôkaz.**

Sporom. Nech  $\{a_n\}_{n=1}^{\infty}$  konverguje a nie je ohraničená.

Ak  $\{a_n\}_{n=1}^{\infty}$  nie je ohraničená zhora, potom z dôsledku 2.3.1.a vyplýva, že  $\infty$  je jej hromadným bodom. To je spor s konvergenciou a znamená, že  $\{a_n\}_{n=1}^{\infty}$  je ohraničená.

Ak  $\{a_n\}_{n=1}^{\infty}$  nie je ohraničená zdola, dôkaz je analogický. ■

**Poznámka 2.3.12.K2-poz60**

Opačné tvrdenie z predchádzajúcej vety neplatí. Ohraničená postupnosť nemusí konvergovať. Napríklad postupnosť  $\{-1, 1, -1, 1, \dots\} = \{(-1)^n\}_{n=1}^{\infty}$  je ohraničená, ale nekonverguje.

**Veta 2.3.9 (Bolzano–Weierstrass).K2-veta68**

Z každej ohraničenej postupnosti sa dá vybrať konvergentná podpostupnosť.

**Dôkaz.**

Z vety 2.3.1 vyplýva, že  $\{a_n\}_{n=1}^{\infty}$  má aspoň jednu reálnu hromadnú hodnotu  $a$ . Z vety 2.3.3 vyplýva existencia vybranej postupnosti, ktorá konverguje k  $a$ . ■

Množina  $A \subset \mathbb{R}$  sa nazýva **kompaktná (v množine  $\mathbb{R}$ )**, ak z každej postupnosti bodov množiny  $A$  sa dá vybrať postupnosť, ktorá v nej konverguje.

To znamená, že množina  $A$  je kompaktná práve vtedy, ak pre každú postupnosť  $\{a_n\}_{n=1}^{\infty}$  takú, že  $a_n \in A$  pre všetky  $n \in \mathbb{N}$ , platí  $\lim_{n \rightarrow \infty} a_n \in A$ .

Najjednoduchším príkladom kompaktnej množiny je prázdna množina. Z nasledujúcej vety vyplýva, že každá konečná množina a každý uzavretý interval sú kompaktné množiny.

**Veta 2.3.10.K2-veta84**

Množina  $A \subset \mathbb{R}$  je kompaktná práve vtedy, ak je uzavretá a ohraničená.

**Dôkaz.**

$NP_{\Rightarrow}$ : Uzavretosť. Nech  $a$  je hromadný bod množiny  $A$ .

Potom (veta 2.3.5) existuje postupnosť bodov z  $A$ , ktorá konverguje ku  $a$ .

Z kompaktnosti vyplýva, že  $a \in A$ . To znamená, že je  $A$  uzavretá.

Ohraničenosť. Sporom, nech  $A$  nie je ohraničená.

Ak je neohraničená zhora, potom pre každé  $n \in \mathbb{N}$  existuje bod  $a_n \in A$  taký, že  $a_n > n$ .

Je zřejmé, že postupnosť  $\{a_n\}_{n=1}^{\infty}$  diverguje do  $\infty$ .

Potom (veta 2.3.7) každá jej vybraná postupnosť diverguje do  $\infty$ .

To znamená, že z postupnosti  $\{a_n\}_{n=1}^{\infty}$  sa nedá vybrať konvergentná podpostupnosť a množina  $A$  nie je kompaktná. To je spor.

Ak je množina  $A$  neohraničená zdola, postup je analogický.

$PP_{\leftarrow}$ : Ak je množina  $A$  ohraničená, potom aj každá postupnosť bodov množiny  $A$  je ohraničená a podľa vety 2.3.9 sa z nej dá vybrať konvergentná postupnosť.

Pretože je množina  $A$  uzavretá, limita tejto postupnosti patrí do  $A$ . ■

### Veta 2.3.11.K2-veta69

Každá monotónna postupnosť  $\{a_n\}_{n=1}^{\infty}$  má limitu (aj nevlastnú) a platí:

- a) Ak je  $\{a_n\}_{n=1}^{\infty}$  neklesajúca, potom  $\lim_{n \rightarrow \infty} a_n = \sup \{a_n; n \in N\}$ .
- b) Ak je  $\{a_n\}_{n=1}^{\infty}$  nerastúca, potom  $\lim_{n \rightarrow \infty} a_n = \inf \{a_n; n \in N\}$ .

### Dôkaz.

a) Postupnosť  $\{a_n\}_{n=1}^{\infty}$  je neklesajúca, t. j. pre  $m, n \in N$ ,  $n < m$  platí  $a_n \leq a_m$ .

Nech nie je  $\{a_n\}_{n=1}^{\infty}$  zhora ohraničená.

Potom pre všetky  $K \in R$  existuje  $n_0 \in N$  také, že platí:

$$a_{n_0} > K, \quad \text{t. j.} \quad \sup \{a_n; n \in N\} = \infty.$$

To znamená, že pre všetky  $n \in N$ ,  $n \geq n_0$  platí:

$$a_n \geq a_{n_0} > K, \quad \text{t. j.} \quad \lim_{n \rightarrow \infty} a_n = \infty.$$

Nech je  $\{a_n\}_{n=1}^{\infty}$  zhora ohraničená, označme  $\sup \{a_n; n \in N\} = a$ .

Je zřejmé, že  $a \in R$  a pre všetky  $n \in N$  platí  $a_n \leq a$ .

Z toho vyplýva, že pre všetky  $\varepsilon > 0$  existuje  $n_0 \in N$  také, že  $a_{n_0} > a - \varepsilon$ .

Potom pre všetky  $n \in N$ ,  $n \geq n_0$  platí  $a - \varepsilon < a_{n_0} \leq a_n$ . Z toho vyplýva:

$$|a - a_n| = a - a_n < \varepsilon, \quad \text{t. j.} \quad \lim_{n \rightarrow \infty} a_n = a.$$

b) Dôkaz je analogický. Druhá možnosť je využiť neklesajúcu postupnosť  $\{-a_n\}_{n=1}^{\infty}$ . ■

### Poznámka 2.3.13.K2-poz72

Z vety vyplýva, že ak je postupnosť  $\{a_n\}_{n=1}^{\infty}$  neklesajúca [resp. nerastúca], potom pre všetky  $n \in N$  platí  $a_n \leq \lim_{n \rightarrow \infty} a_n$  [resp.  $\lim_{n \rightarrow \infty} a_n \leq a_n$ ].

### Dôsledok 2.3.11.a.K2-dosl21

Ak je postupnosť neklesajúca a ohraničená zhora, resp. nerastúca a ohraničená zdola, potom konverguje.

### Dôsledok 2.3.11.b.K2-dosl24

Ak je postupnosť rastúca a neohraničená zhora, potom diverguje do  $\infty$  a ak je klesajúca a neohraničená zdola, potom diverguje do  $-\infty$ .

### Veta 2.3.12.K2-veta70

Z každej konvergentnej postupnosti sa dá vybrať monotónna podpostupnosť.

### Dôkaz.

Označme  $\lim_{n \rightarrow \infty} a_n = a$ ,  $a \in R$ . Dôkaz rozložíme na niekoľko častí.

a) Ak pre nekonečne veľa členov platí  $a_n = a$ , potom vyberieme podpostupnosť  $\{a\}_{n=1}^{\infty}$ .

b) Nech pre všetky členy postupnosti  $\{a_n\}_{n=1}^{\infty}$  platí  $a_n > a$ .

Bod  $a$  je hromadnou hodnotou postupnosti  $\{a_n\}_{n=1}^{\infty}$ .

To znamená, že pre každé  $\varepsilon > 0$  existuje nekonečne veľa členov  $a_n$  takých, že platí:

$$0 \leq |a_n - a| = a_n - a < \varepsilon.$$

Vybranú monotónnu podpostupnosť  $\{a_{k_n}\}_{n=1}^{\infty}$  zostrojíme nasledovne.

Položíme  $a_{k_1} = a_1$  a označíme  $\varepsilon = a_{k_1} - a$ .

Člen  $a_{k_2}$  vyberieme tak, aby  $k_2 > k_1$ ,  $a_{k_2} - a < \frac{\varepsilon}{2}$ .

Člen  $a_{k_3}$  vyberieme tak, aby  $k_3 > k_2$ ,  $a_{k_3} - a < \frac{\varepsilon}{2^2}$ .

Člen  $a_{k_n}$  vyberieme tak, aby  $k_n > k_{n-1}$ ,  $a_{k_n} - a < \frac{\varepsilon}{2^{n-1}}$ .

Je zrejmé, že  $\{a_{k_n}\}_{n=1}^{\infty}$  je klesajúca a podľa vety 2.3.7 konverguje k  $a$ .

c) Nech pre všetky členy postupnosti  $\{a_n\}_{n=1}^{\infty}$  platí  $a_n < a$ , potom môžeme analogickým spôsobom ako v časti b) zostrojiť rastúcu podpostupnosť.

d) Ak nie je splnená ani jedna z možností a), b), c), potom rovnosť  $a_n = a$  platí iba pre konečný počet členov  $a_n$ . V tomto prípade pre nekonečne veľa členov  $a_n$  platí  $a_n > a$  alebo pre nekonečne veľa členov  $a_n$  platí  $a_n < a$  (môžu nastať obidve možnosti).

Týchto nekonečne veľa členov tvorí vybranú postupnosť z postupnosti  $\{a_n\}_{n=1}^{\infty}$  a z nej môžeme na základe časti b), resp. časti c) vybrať monotónnu podpostupnosť, ktorá bude zároveň aj podpostupnosťou pôvodnej postupnosti  $\{a_n\}_{n=1}^{\infty}$ . ■

### Veta 2.3.13.K2-veta71

Nech  $\lim_{n \rightarrow \infty} a_n = a$ ,  $\lim_{n \rightarrow \infty} b_n = b$ , pričom  $a, b \in R^*$  a nech  $c \in R$ .

Ak majú príslušné výrazy v množine  $R^*$  zmysel, potom platí:

$$\begin{aligned} \text{a) } \lim_{n \rightarrow \infty} (c \cdot a_n) &= c \cdot \lim_{n \rightarrow \infty} a_n = c \cdot a, & \text{b) } \lim_{n \rightarrow \infty} (a_n \pm b_n) &= \lim_{n \rightarrow \infty} a_n \pm \lim_{n \rightarrow \infty} b_n = a \pm b, \\ \text{c) } \lim_{n \rightarrow \infty} |a_n| &= \left| \lim_{n \rightarrow \infty} a_n \right| = |a|, & \text{d) } \lim_{n \rightarrow \infty} (a_n \cdot b_n) &= \lim_{n \rightarrow \infty} a_n \cdot \lim_{n \rightarrow \infty} b_n = a \cdot b. \end{aligned}$$

### Dôkaz.

Dokážeme iba a), d), ostatné časti sa dokážu analogicky.

a) Ak  $c = 0$ ,  $a \in R$ , potom tvrdenie platí triviálne.

Ak  $c = 0$ ,  $a = \pm\infty$ , potom výraz  $ca$  nemá zmysel, ale platí  $\lim_{n \rightarrow \infty} (c \cdot a_n) = \lim_{n \rightarrow \infty} 0 = 0$ .

Nech  $c \neq 0$ ,  $a \in R$ . Potom pre každé  $\varepsilon > 0$ , t. j. aj  $\varepsilon \left| \frac{1}{c} \right| > 0$  existuje  $n_0 \in N$  také, že pre všetky  $n \in N$ ,  $n \geq n_0$  platí  $|a_n - a| < \varepsilon \left| \frac{1}{c} \right|$ .

To znamená, že pre postupnosť  $\{ca_n\}_{n=1}^{\infty}$  platí:

$$|ca_n - ca| = |c| \cdot |a_n - a| < |c| \varepsilon \left| \frac{1}{c} \right| = \varepsilon, \quad \text{t. j. } \lim_{n \rightarrow \infty} ca_n = ca.$$

Nech  $c \neq 0$ ,  $a = \infty$ . Potom pre každé  $s \in R$ , t. j. aj  $\left| \frac{1}{c} \right| s \in R$  existuje  $n_0 \in N$  také, že pre všetky  $n \in N$ ,  $n \geq n_0$  platí  $\left| \frac{1}{c} \right| s < a_n$ .

To znamená, že  $s < ca_n$  pre  $c > 0$  a  $s > ca_n$  pre  $c < 0$ , t. j.

$$\lim_{n \rightarrow \infty} ca_n = \infty = ca \quad \text{pre } c > 0, \quad \lim_{n \rightarrow \infty} ca_n = -\infty = ca \quad \text{pre } c < 0.$$

Pre  $c \neq 0$ ,  $a = -\infty$  je dôkaz podobný ako v prípade  $c \neq 0$ ,  $a = \infty$ .

d) Nech  $a, b \in R$ .

Z vety 2.3.8 vyplýva, že je postupnosť  $\{b_n\}_{n=1}^{\infty}$  ohraničená.

To znamená, že existuje  $s \in R$ ,  $s > 0$  také, že pre všetky  $n \in N$  platí  $|b_n| < s$ .

Zvoľme hodnotu  $s$  tak, aby platilo  $|a| < s$ .

Z predpokladov vyplýva, že pre každé  $\varepsilon > 0$ , t. j. aj  $\frac{\varepsilon}{2s} > 0$  platí:

Existuje  $n_1 \in N$  také, že pre všetky  $n \in N$ ,  $n \geq n_1$  platí  $|a_n - a| < \frac{\varepsilon}{2s}$ .

Existuje  $n_2 \in N$  také, že pre všetky  $n \in N$ ,  $n \geq n_2$  platí  $|b_n - b| < \frac{\varepsilon}{2s}$ .

Potom pre všetky  $n \in N$ ,  $n \geq \max\{n_1, n_2\}$  platí:

$$|a_n b_n - ab| = |a_n b_n - ab_n + ab_n - ab| \leq |a_n - a| \cdot |b_n| + |b_n - b| \cdot |a| < \frac{\varepsilon}{2s} s + \frac{\varepsilon}{2s} s = \varepsilon.$$

To znamená, že postupnosť  $\{a_n b_n\}_{n=1}^{\infty}$  konverguje k číslu  $ab$ .

Nech  $a \in R$ ,  $a > 0$ ,  $b = \infty$ .

Potom pre každé  $\varepsilon > 0$  existuje  $n_1 \in N$  také, že pre všetky  $n \in N$ ,  $n \geq n_1$  platí:

$$a - \varepsilon < a_n < a + \varepsilon.$$

Ak zvolíme  $\varepsilon$  tak, aby  $\varepsilon < \frac{a}{2}$ , potom platí:

$$\frac{a}{2} < a - \frac{a}{2} < a - \varepsilon < a_n < a + \varepsilon < a + \frac{a}{2} < \frac{3a}{2}.$$

Nech  $K \in R$ ,  $K > 0$  je ľubovoľné.

Potom existuje  $n_2 \in N$  také, že pre všetky  $n \in N$ ,  $n \geq n_2$  platí  $\frac{2K}{a} < b_n$ .

Z toho vyplýva, že pre všetky  $n \in N$ ,  $n \geq \max\{n_1, n_2\}$  platí:

$$a_n b_n > \frac{a}{2} \cdot \frac{2K}{a} = K, \quad \text{t. j. } \lim_{n \rightarrow \infty} a_n b_n = ab = \infty.$$

Ak  $a < 0$ ,  $b = \infty$ , potom  $-a > 0$  a platí:

$$\lim_{n \rightarrow \infty} a_n b_n = \lim_{n \rightarrow \infty} [ -(-a_n) b_n ] = - \lim_{n \rightarrow \infty} (-a_n b_n) = -\infty = ab.$$

Nech  $a = b = \infty$ .

Potom pre všetky  $K \in R$  (predpokladajme  $K > 1$ ) platí:

Existuje  $n_1 \in N$  také, že pre všetky  $n \in N$ ,  $n \geq n_1$  platí  $a_n > K$ .

Existuje  $n_2 \in N$  také, že pre všetky  $n \in N$ ,  $n \geq n_2$  platí  $b_n > K$ .

Z toho vyplýva, že pre všetky  $n \in N$ ,  $n \geq \max\{n_1, n_2\}$  platí:

$$a_n b_n > K^2 > K > 1, \quad \text{t. j. } \lim_{n \rightarrow \infty} a_n b_n = ab = \infty.$$

Pre  $a = 0$ ,  $b = \pm\infty$ , resp.  $a = \pm\infty$ ,  $b = 0$  výraz  $ab$  nemá zmysel a ostatné prípady ( $a = b = -\infty$ , resp.  $a = \infty$ ,  $b \in R$ , ...) vyplývajú z predchádzajúcich častí. ■

### Dôsledok 2.3.13.a.K2-dosl19

Ak  $\lim_{n \rightarrow \infty} a_n = a$ ,  $a \in R^*$ ,  $k \in N$ , potom  $\lim_{n \rightarrow \infty} a_n^k = \left( \lim_{n \rightarrow \infty} a_n \right)^k = a^k$ .

**Dôkaz.**

Stačí položiť  $\{a_n\}_{n=1}^{\infty} = \{b_n\}_{n=1}^{\infty}$  a použiť  $(k-1)$ -krát časť d). ■

### Poznámka 2.3.14.K2-poz70

Ak si spomenieme na konštrukciu mocniny  $a^k$  reálneho čísla  $a$  s reálnym exponentom  $k$ , potom môžeme predchádzajúce tvrdenie prirodzeným spôsobom rozšíriť na  $k \in R$ .

Dôkaz tohto tvrdenia nebudeme robiť.

### Veta 2.3.14.K2-veta77

Nech  $\lim_{n \rightarrow \infty} a_n = a$ ,  $\lim_{n \rightarrow \infty} b_n = b \neq 0$ , pričom  $a, b \in R^*$  a nech  $b_n \neq 0$  pre všetky  $n \in N$ .

Ak majú príslušné výrazy v množine  $R^*$  zmysel, potom platí:

$$\text{a) } \lim_{n \rightarrow \infty} \frac{1}{b_n} = \frac{1}{\lim_{n \rightarrow \infty} b_n} = \frac{1}{b}, \quad \text{b) } \lim_{n \rightarrow \infty} \frac{a_n}{b_n} = \frac{\lim_{n \rightarrow \infty} a_n}{\lim_{n \rightarrow \infty} b_n} = \frac{a}{b}.$$

**Dôkaz.**

a) Nech  $b \in R$ ,  $b \neq 0$ .



Z predpokladov vyplýva, že pre každé  $\varepsilon > 0$ , t. j. aj pre  $\frac{\varepsilon b^2}{2} > 0$  a  $|\frac{b}{2}| > 0$  platí:

Existuje  $n_0 \in N$  také, že pre všetky  $n \in N$ ,  $n \geq n_0$  platí  $|b_n - b| < \frac{\varepsilon b^2}{2}$ .

Existuje  $n_1 \in N$  také, že pre všetky  $n \in N$ ,  $n \geq n_1$  platí  $|b_n - b| < |\frac{b}{2}|$ .

Potom (viď obrázok 2.3.14) pre všetky  $n \in N$ ,  $n \geq n_1$  platí:

$$|b| - |b_n| \leq |b_n - b| < \frac{|b|}{2}, \quad \text{t. j. } \frac{|b|}{2} < |b_n|, \quad \text{resp. } \left| \frac{1}{b_n} \right| = \frac{1}{|b_n|} < \frac{2}{|b|}.$$

Z toho vyplýva, že pre všetky  $n \in N$ ,  $n \geq \max\{n_0, n_1\}$  platí:

$$\left| \frac{1}{b_n} - \frac{1}{b} \right| = \left| \frac{b - b_n}{b_n \cdot b} \right| = |b_n - b| \cdot \left| \frac{1}{b_n} \right| \cdot \left| \frac{1}{b} \right| < \frac{\varepsilon b^2}{2} \cdot \frac{2}{|b|} \cdot \left| \frac{1}{b} \right| = \varepsilon, \quad \text{t. j. } \lim_{n \rightarrow \infty} \frac{1}{b_n} = \frac{1}{b}.$$

Nech  $b = \infty$ .

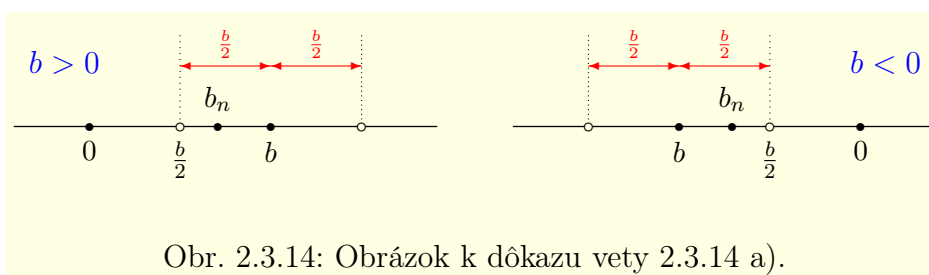
Potom pre každé  $K > 0$  existuje  $n_0 \in N$ , že pre všetky  $n \in N$ ,  $n \geq n_0$  platí  $K < b_n$ .

Ak označíme  $\varepsilon = \frac{1}{K} > 0$ , potom pre všetky  $n \in N$ ,  $n \geq n_0$  platí:

$$0 < \left| \frac{1}{b_n} - 0 \right| = \frac{1}{b_n} < \frac{1}{K} = \varepsilon, \quad \text{t. j. } \lim_{n \rightarrow \infty} \frac{1}{b_n} = \frac{1}{b} = \frac{1}{\infty} = 0.$$

Prípad  $b = -\infty$  sa dokáže analogicky.

b) Vyplýva z časti a) a z vety 2.3.13. ■



### Príklad 2.3.14.K2-pr67

Vypočítajte  $\lim_{n \rightarrow \infty} n^q$ , kde  $q \in R$ .

**Riešenie.**

Ak  $q = 0$ , potom  $\lim_{n \rightarrow \infty} n^q = \lim_{n \rightarrow \infty} n^0 = \lim_{n \rightarrow \infty} 1 = 1$ .

Nech  $q > 0$ .

Postupnosť  $\{n^q\}_{n=1}^{\infty}$  je rastúca, pretože pre všetky  $n \in N$  (veta 2.1.45) platí  $n^q < (n+1)^q$ .

Predpokladajme, že je  $\{n^q\}_{n=1}^{\infty}$  ohraničená zhora.

Potom existuje  $M \in R$ ,  $M > 0$  také, že pre všetky  $n \in N$  platí  $n^q \leq M$ .

Keďže  $\frac{1}{q} > 0$ , potom (veta 2.1.45) pre všetky  $n \in N$  platí  $n \leq M^{\frac{1}{q}}$ . To je spor.

Z toho vyplýva na základe dôsledku 2.3.11.b, že  $\lim_{n \rightarrow \infty} n^q = \infty$ .

Ak  $q < 0$ , t. j.  $-q > 0$ , potom na základe vety 2.3.14 platí:

$$\lim_{n \rightarrow \infty} n^q = \lim_{n \rightarrow \infty} \frac{1}{n^{-q}} = \frac{1}{\lim_{n \rightarrow \infty} n^{-q}} = \frac{1}{\infty} = 0.$$

Z predchádzajúceho vyplýva  $\lim_{n \rightarrow \infty} n^q = \begin{cases} 0, & \text{pre } q < 0, \\ 1, & \text{pre } q = 0, \\ \infty, & \text{pre } q > 0. \end{cases}$  ■

**Poznámka 2.3.15.K2-poz87**

Z príkladu 2.3.14 vyplýva, že  $\lim_{n \rightarrow \infty} \frac{1}{n^q} = \begin{cases} 0, & \text{pre } q > 0, \\ 1, & \text{pre } q = 0, \\ \infty, & \text{pre } q < 0. \end{cases}$

Vety 2.3.13 a 2.3.14 sú dôležité pri výpočte limít, pretože zjednodušujú ich výpočet. Ale ako dokazujú nasledujúce príklady, ich tvrdenia sa vo všeobecnosti nedajú obrátiť.

Ak niektorý z čiastkových výrazov nemá zmysel, neznamená to ešte, že daná limita neexistuje. V tomto prípade sa tieto vety nedajú použiť a musíme nájsť limitu iným spôsobom. Niekedy pomôže vhodná úprava výrazu, ktorým je daná postupnosť definovaná.

**Príklad 2.3.15.K2-pr34**

Limity  $\lim_{n \rightarrow \infty} (-1)^n$ ,  $\lim_{n \rightarrow \infty} (-1)^{n+1}$  neexistujú, ale

$$\lim_{n \rightarrow \infty} [(-1)^n + (-1)^{n+1}] = \lim_{n \rightarrow \infty} 0 = 0, \quad \lim_{n \rightarrow \infty} \frac{(-1)^n}{(-1)^n} = \lim_{n \rightarrow \infty} |(-1)^n| = \lim_{n \rightarrow \infty} 1 = 1. \blacksquare$$

**Príklad 2.3.16.K2-pr64**

Pre limity  $\lim_{n \rightarrow \infty} n^2 = \infty$ ,  $\lim_{n \rightarrow \infty} n = \infty$ ,  $\lim_{n \rightarrow \infty} \frac{1}{n} = 0$  platí:

$$\lim_{n \rightarrow \infty} \frac{n^2}{n} = \lim_{n \rightarrow \infty} n = \infty, \quad \lim_{n \rightarrow \infty} (n^2 - n) = \lim_{n \rightarrow \infty} n \cdot \lim_{n \rightarrow \infty} (n - 1) = \infty \cdot \infty = \infty,$$

aj keď nasledujúce výrazy nemajú zmysel

$$\frac{\lim_{n \rightarrow \infty} n^2}{\lim_{n \rightarrow \infty} n} = \frac{\infty}{\infty}, \quad \lim_{n \rightarrow \infty} n^2 - \lim_{n \rightarrow \infty} n = \infty - \infty. \blacksquare$$

**Príklad 2.3.17.K2-pr35**

Vypočítajte limitu postupnosti  $\left\{ \frac{n^2+n}{n^2-2} \right\}_{n=1}^{\infty}$ , t. j.  $\lim_{n \rightarrow \infty} \frac{n^2+n}{n^2-2}$ .

**Riešenie.**

Vetu 2.3.14 b) nemôžeme použiť priamo, pretože  $\lim_{n \rightarrow \infty} (n^2 + n) = \lim_{n \rightarrow \infty} (n^2 - 2) = \infty$ .

$$\begin{aligned} \lim_{n \rightarrow \infty} \frac{n^2+n}{n^2-2} &= \lim_{n \rightarrow \infty} \frac{n^2 \left(1 + \frac{1}{n}\right)}{n^2 \left(1 - \frac{2}{n^2}\right)} = \lim_{n \rightarrow \infty} \left[ \frac{n^2}{n^2} \cdot \frac{1 + \frac{1}{n}}{1 - \frac{2}{n^2}} \right] = \lim_{n \rightarrow \infty} \frac{n^2}{n^2} \cdot \lim_{n \rightarrow \infty} \frac{1 + \frac{1}{n}}{1 - \frac{2}{n^2}} = \\ &= \lim_{n \rightarrow \infty} 1 \cdot \lim_{n \rightarrow \infty} \frac{1 + \frac{1}{n}}{1 - \frac{2}{n^2}} = \lim_{n \rightarrow \infty} \frac{1 + \frac{1}{n}}{1 - \frac{2}{n^2}} = \frac{1+0}{1-0} = 1. \blacksquare \end{aligned}$$

**Príklad 2.3.18.K2-pr36**

$$\text{a) } \lim_{n \rightarrow \infty} \frac{n^2+n}{n^3-2} = \lim_{n \rightarrow \infty} \frac{n^3 \left(\frac{1}{n} + \frac{1}{n^2}\right)}{n^3(1-2n^{-3})} = \lim_{n \rightarrow \infty} \frac{\frac{1}{n} + \frac{1}{n^2}}{1-2n^{-3}} = \frac{0+0}{1-0} = 0.$$

$$\text{b) } \lim_{n \rightarrow \infty} \frac{n^3-2}{n^2+n} = \lim_{n \rightarrow \infty} \frac{n^2 \left(n - \frac{2}{n}\right)}{n^2 \left(1 + \frac{1}{n}\right)} = \lim_{n \rightarrow \infty} \frac{n - \frac{2}{n}}{1 + \frac{1}{n}} = \frac{\infty-0}{1+0} = \infty.$$

$$\text{c) } \lim_{n \rightarrow \infty} \frac{n^4-n^3}{n^2+n} = \lim_{n \rightarrow \infty} \frac{n^4 \left(1 - \frac{1}{n}\right)}{n^2 \left(1 + \frac{1}{n}\right)} = \lim_{n \rightarrow \infty} \frac{n^4}{n^2} \cdot \lim_{n \rightarrow \infty} \frac{1 - \frac{1}{n}}{1 + \frac{1}{n}} = \infty \cdot \frac{1-0}{1+0} = \infty. \blacksquare$$

**Poznámka 2.3.16.K2-poz64**

Hodnotu limity môžeme vypočítať rôznymi spôsobmi.

Musíme si ale dávať pozor, aby sme nedostali nedefinované výrazy, ako napríklad

$$\lim_{n \rightarrow \infty} \frac{n^4-n^3}{n^2+n} = \lim_{n \rightarrow \infty} \frac{n^2(n^2-n)}{n^2 \left(1 + \frac{1}{n}\right)} = \lim_{n \rightarrow \infty} \frac{n^2-n}{1 + \frac{1}{n}} = \frac{\infty-\infty}{1+0} = \infty - \infty.$$

**Veta 2.3.15.K2-veta72**

Nech  $\{a_n\}_{n=1}^{\infty}$  je postupnosť. Potom  $\lim_{n \rightarrow \infty} a_n = 0$  práve vtedy, ak  $\lim_{n \rightarrow \infty} |a_n| = 0$ .

**Dôkaz.**

$NP_{\Rightarrow}$ : Vyplýva z vety 2.3.13 c).

$PP_{\Leftarrow}$ : Pre každé  $n \in N$  platí  $-|a_n| \leq a_n \leq |a_n|$ . Potom na základe vety o zovretí platí:

$$0 = -\lim_{n \rightarrow \infty} |a_n| = \lim_{n \rightarrow \infty} (-|a_n|) \leq \lim_{n \rightarrow \infty} a_n \leq \lim_{n \rightarrow \infty} |a_n| = 0, \quad \text{t. j.} \quad \lim_{n \rightarrow \infty} a_n = 0. \blacksquare$$

**Dôsledok 2.3.15.a.K2-dosl28**

Nech  $\{a_n\}_{n=1}^{\infty}$  je postupnosť. Potom  $\lim_{n \rightarrow \infty} a_n = a$  práve vtedy, ak  $\lim_{n \rightarrow \infty} |a_n - a| = 0$ .

**Dôkaz.**

Z predchádzajúcej vety vyplýva:

$$\lim_{n \rightarrow \infty} |a_n - a| = 0 \iff \lim_{n \rightarrow \infty} (a_n - a) = 0 \iff \lim_{n \rightarrow \infty} a_n = a. \blacksquare$$

**Veta 2.3.16.K2-veta73**

Nech  $a_n > 0$  pre všetky  $n \in N$ . Potom  $\lim_{n \rightarrow \infty} a_n = 0$  práve vtedy, ak  $\lim_{n \rightarrow \infty} \frac{1}{a_n} = \infty$ .

**Dôkaz.**

$NP_{\Rightarrow}$ : Pre každé  $\varepsilon > 0$  existuje  $n_0 \in N$  také, že pre všetky  $n \in N$ ,  $n \geq n_0$  platí:

$$0 < a_n = |a_n - 0| < \varepsilon, \quad \text{t. j.} \quad 0 < \varepsilon^{-1} < \frac{1}{a_n}.$$

Ak označíme  $K = \varepsilon^{-1}$ , potom pre všetky  $n \in N$ ,  $n \geq n_0$  platí  $K < \frac{1}{a_n}$ , t. j.  $\lim_{n \rightarrow \infty} \frac{1}{a_n} = \infty$ .

$PP_{\Leftarrow}$ : Vyplýva z vety 2.3.14 a).  $\blacksquare$

**Poznámka 2.3.17.K2-poz62**

Príklad 2.3.18 b) môžeme vypočítat' tiež pomocou časti a) a vety 2.3.16.

Pre všetky  $n \in N$ ,  $n > 1$  platí  $\frac{n^2+n}{n^3-2} > 0$ , t. j.  $\lim_{n \rightarrow \infty} \frac{n^2+n}{n^3-2} = 0 \iff \lim_{n \rightarrow \infty} \frac{n^3-2}{n^2+n} = \infty$ .

**Veta 2.3.17.K2-veta74**

Nech existuje  $n_0 \in N$  také, že pre všetky  $n \in N$ ,  $n \geq n_0$  platí  $a_n \leq b_n$ .

Ak existujú  $\lim_{n \rightarrow \infty} a_n = a$ ,  $\lim_{n \rightarrow \infty} b_n = b$ ,  $a, b \in R^*$ , potom platí  $a \leq b$ .

**Dôkaz.**

Sporom, nech platí  $a > b$ .

Potom existujú okolia  $O(a) \in \mathcal{O}_a$ ,  $O(b) \in \mathcal{O}_b$  také, že  $O(a) \cap O(b) = \emptyset$ .

Je zrejmé, že pre všetky  $x \in O(a)$ ,  $y \in O(b)$  platí  $x > y$ . Dalej platí:

Existuje  $n_1 \in N$  také, že pre všetky  $n \in N$ ,  $n \geq n_1$  platí  $a_n \in O(a)$ .

Existuje  $n_2 \in N$  také, že pre všetky  $n \in N$ ,  $n \geq n_2$  platí  $b_n \in O(b)$ .

Potom pre všetky  $n \in N$ ,  $n \geq n_0 = \max\{n_1, n_2\}$  platí  $a_n > b_n$ , čo je spor.  $\blacksquare$

**Poznámka 2.3.18.K2-poz61**

Tvrdenie vety 2.3.17 sa nezmení, ak nahradíme  $a_n \leq b_n$  nerovnosťou  $a_n < b_n$ .

Napríklad pre všetky  $n \in N$ ,  $n \neq 1$  platí  $n < n^2$ , ale  $\lim_{n \rightarrow \infty} n = \lim_{n \rightarrow \infty} n^2 = \infty$ .

**Dôsledok 2.3.17.a.K2-dosl23**

Ak  $\lim_{n \rightarrow \infty} a_n$  existuje a pre všetky  $n \in N$ ,  $n \geq n_0$  platí  $a_n \leq b$ , potom  $\lim_{n \rightarrow \infty} a_n \leq b$ .

**Dôkaz.**

Ak pre  $n \in N$  položíme  $b_n = b$ , potom  $\lim_{n \rightarrow \infty} a_n \leq \lim_{n \rightarrow \infty} b_n = \lim_{n \rightarrow \infty} b = b$ . ■

**Dôsledok 2.3.17.b.K2-dosl22**

Ak pre všetky  $n \in N$ ,  $n \geq n_0$  platí  $a_n \leq b_n$ , potom:

- a) Ak  $\lim_{n \rightarrow \infty} a_n = \infty$ , potom existuje  $\lim_{n \rightarrow \infty} b_n$  a platí  $\lim_{n \rightarrow \infty} b_n = \infty$ .  
 b) Ak  $\lim_{n \rightarrow \infty} b_n = -\infty$ , potom existuje  $\lim_{n \rightarrow \infty} a_n$  a platí  $\lim_{n \rightarrow \infty} a_n = -\infty$ .

**Dôkaz.**

a) Pre každé  $K \in R$  existuje  $n_1 \in N$  také, že pre všetky  $n \in N$ ,  $n \geq n_1$  platí  $K < a_n$ . Potom pre všetky  $n \in N$ ,  $n \geq \max\{n_0, n_1\}$  platí  $K < a_n \leq b_n$ , t. j.  $\lim_{n \rightarrow \infty} b_n = \infty$ .

b) Dôkaz je analogický ako dôkaz časti a). ■

**Dôsledok 2.3.17.c (Veta o zovretí).K2-dosl17**

Nech pre všetky  $n \in N$ ,  $n \geq n_0$  platí  $a_n \leq c_n \leq b_n$  a nech  $\lim_{n \rightarrow \infty} a_n = \lim_{n \rightarrow \infty} b_n = a$ ,  $a \in R^*$ .

Potom existuje  $\lim_{n \rightarrow \infty} c_n$  a platí  $\lim_{n \rightarrow \infty} c_n = a$ .

**Dôkaz.**

Vyplýva z nerovností  $\lim_{n \rightarrow \infty} a_n \leq \liminf_{n \rightarrow \infty} c_n \leq \limsup_{n \rightarrow \infty} c_n \leq \lim_{n \rightarrow \infty} b_n = \lim_{n \rightarrow \infty} a_n$ . ■

**Dôsledok 2.3.17.d.K2-dosl18**

Ak  $\lim_{n \rightarrow \infty} a_n = 0$  a postupnosť  $\{b_n\}_{n=1}^{\infty}$  je ohraničená, potom  $\lim_{n \rightarrow \infty} a_n b_n = 0$ .

**Dôkaz.**

Nech  $s \in R$ ,  $s > 0$  je také, že pre všetky  $n \in N$  platí nerovnosť  $0 \leq |b_n| \leq s$ .

Potom pre všetky  $n \in N$  platí  $0 \leq |a_n b_n| \leq |s a_n| = s |a_n|$ , t. j.

$$0 \leq \lim_{n \rightarrow \infty} |a_n b_n| \leq \lim_{n \rightarrow \infty} s |a_n| = s \lim_{n \rightarrow \infty} |a_n| = s \lim_{n \rightarrow \infty} a_n = 0.$$

To znamená, že  $\lim_{n \rightarrow \infty} |a_n b_n| = \lim_{n \rightarrow \infty} a_n b_n = 0$ . ■

**Príklad 2.3.19.K2-pr38**

$$\text{a) } \lim_{n \rightarrow \infty} [\sqrt{n+1} - \sqrt{n}] = \lim_{n \rightarrow \infty} [\sqrt{n+1} - \sqrt{n}] \cdot \frac{\sqrt{n+1} + \sqrt{n}}{\sqrt{n+1} + \sqrt{n}} = \lim_{n \rightarrow \infty} \frac{n+1-n}{\sqrt{n+1} + \sqrt{n}} = \lim_{n \rightarrow \infty} \frac{1}{\sqrt{n+1} + \sqrt{n}} = \frac{1}{\infty} = 0.$$

$$\text{b) } \lim_{n \rightarrow \infty} [\sqrt{n+1} - n] = \lim_{n \rightarrow \infty} [\sqrt{n+1} - n] \cdot \frac{\sqrt{n+1} + n}{\sqrt{n+1} + n} = \lim_{n \rightarrow \infty} \frac{n+1-n^2}{\sqrt{n+1} + n} = \lim_{n \rightarrow \infty} \frac{n}{n} \frac{1 + \frac{1}{n} - n}{\sqrt{\frac{1}{n} + \frac{1}{n^2}} + 1} = \frac{1+0-\infty}{0+1} = -\infty,$$

$$\text{resp. } \lim_{n \rightarrow \infty} [\sqrt{n+1} - n] = \lim_{n \rightarrow \infty} \sqrt{n} \left[ \sqrt{1 + \frac{1}{n}} - \sqrt{n} \right] = \infty \cdot (\sqrt{1+0} - \infty) = \infty(1 - \infty) = -\infty. \blacksquare$$

**Poznámka 2.3.19.K2-poz66**

Príklad 2.3.19 b), c) môžeme riešiť aj iným spôsobom. Pre všetky  $n \in N$  platí:

$$-n < \sqrt{n+1} - n < -n - 1 + 2\sqrt{n+1} - 1 + 2 = - \left[ \sqrt{n+1} - 1 \right]^2 + 2.$$

Z toho vyplýva:

$$-\infty = \lim_{n \rightarrow \infty} (-n) \leq \lim_{n \rightarrow \infty} [\sqrt{n+1} - n] \leq \lim_{n \rightarrow \infty} \left( - \left[ \sqrt{n+1} - 1 \right]^2 + 2 \right) = -\infty.$$

**Veta 2.3.18.K2-veta75**

Ak  $\lim_{n \rightarrow \infty} a_n < \lim_{n \rightarrow \infty} b_n$ , potom existuje  $n_0 \in N$ , že pre všetky  $n \in N$ ,  $n \geq n_0$  platí  $a_n < b_n$ .

**Dôkaz.**

Označme  $\lim_{n \rightarrow \infty} a_n = a$ ,  $\lim_{n \rightarrow \infty} b_n = b$ .

Potom existujú okolia  $O(a)$ ,  $O(b)$  také, že  $O(a) \cap O(b) = \emptyset$ . Navyše platí:

Existuje  $n_1 \in N$  také, že pre všetky  $n \in N$ ,  $n \geq n_1$  platí  $a_n \in O(a)$ .

Existuje  $n_2 \in N$  také, že pre všetky  $n \in N$ ,  $n \geq n_2$  platí  $b_n \in O(b)$ .

Keďže  $a < b$ , potom pre všetky  $x \in O(a)$ ,  $y \in O(b)$  platí  $x < y$ .

Z toho vyplýva, že pre všetky  $n \in N$ ,  $n \geq n_0 = \max\{n_1, n_2\}$  platí  $a_n < b_n$ . ■

**Dôsledok 2.3.18.a.K2-dosl25**

Ak  $\lim_{n \rightarrow \infty} a_n < a$ ,  $a \in R$ , potom existuje  $n_0 \in N$ , že pre všetky  $n \in N$ ,  $n \geq n_0$  platí  $a_n < a$ .

**Dôsledok 2.3.18.b.K2-dosl16**

Ak  $\lim_{n \rightarrow \infty} a_n > a$ ,  $a \in R$ , potom existuje  $n_0 \in N$ , že pre všetky  $n \in N$ ,  $n \geq n_0$  platí  $a_n > a$ .

**Príklad 2.3.20.K2-pr31**

Vypočítajte limitu **geometrickej postupnosti**  $\lim_{n \rightarrow \infty} a^n$ , kde  $a \in R$ .

**Riešenie.**

Ak  $a > 1$ , t. j.  $a - 1 > 0$ , potom na základe Bernoulliho nerovnosti pre všetky  $n \in N$  platí:

$$a^n = [1 + (a - 1)]^n \geq 1 + n(a - 1), \quad \text{t. j.} \quad \lim_{n \rightarrow \infty} a^n \geq \lim_{n \rightarrow \infty} [1 + n(a - 1)] = \infty.$$

Ak  $a = 1$ , potom  $\lim_{n \rightarrow \infty} a^n = \lim_{n \rightarrow \infty} 1^n = 1$ .

Ak  $0 < a < 1$ , t. j.  $1 < \frac{1}{a}$ , potom  $\lim_{n \rightarrow \infty} \left(\frac{1}{a}\right)^n = \lim_{n \rightarrow \infty} a^{-n} = \infty$ , t. j.  $\lim_{n \rightarrow \infty} a^n = 0$ .

Ak  $a = 0$ , potom  $\lim_{n \rightarrow \infty} a^n = \lim_{n \rightarrow \infty} 0^n = 0$ .

Ak  $-1 < a < 0$ , t. j.  $0 < -a < 1$ , potom pre všetky  $n \in N$  platí:

$$-(-a)^n \leq a^n \leq (-a)^n, \quad \text{t. j.} \quad 0 = -\lim_{n \rightarrow \infty} (-a)^n \leq \lim_{n \rightarrow \infty} a^n \leq \lim_{n \rightarrow \infty} (-a)^n = 0.$$

Ak  $a = -1$ , potom  $\lim_{n \rightarrow \infty} a^n$  neexistuje, pretože  $1 = \lim_{n \rightarrow \infty} a^{2n} \neq \lim_{n \rightarrow \infty} a^{2n+1} = -1$ .

Ak  $a < -1$ , potom  $1 < a^2$  a  $\lim_{n \rightarrow \infty} a_n$  neexistuje, pretože platí:

$$\lim_{n \rightarrow \infty} a^{2n} = \lim_{n \rightarrow \infty} (a^2)^n = \infty, \quad \lim_{n \rightarrow \infty} a^{2n+1} = a \lim_{n \rightarrow \infty} a^{2n} = -\infty$$

Ak to zhrnieme, potom  $\lim_{n \rightarrow \infty} a^n = \begin{cases} \nexists, & \text{pre } a \in (-\infty; -1), \\ 0, & \text{pre } a \in (-1; 1), \\ 1, & \text{pre } a = 1, \\ \infty, & \text{pre } a \in (1; \infty). \end{cases}$  ■

**Príklad 2.3.21.K2-pr37**

Dokážte, že pre všetky  $a \in R$ ,  $a > 0$  platí  $\lim_{n \rightarrow \infty} \sqrt[n]{a} = 1$ .

**Riešenie.**

Nech  $a > 1$ , potom  $\sqrt[n]{a} > 1$ , t. j.  $\sqrt[n]{a} - 1 > 0$ .

Z Bernoulliho nerovnosti vyplýva, že pre všetky  $n \in N$  platí:

$$a = [\sqrt[n]{a}]^n = [1 + (\sqrt[n]{a} - 1)]^n \geq 1 + n(\sqrt[n]{a} - 1) > n(\sqrt[n]{a} - 1) > 0.$$

Potom pre všetky  $n \in N$  platí:

$$0 < \sqrt[n]{a} - 1 < a \frac{1}{n}, \quad \text{t. j. } 1 < \sqrt[n]{a} < a \frac{1}{n} + 1.$$

Z toho vyplýva:

$$1 = \lim_{n \rightarrow \infty} 1 \leq \lim_{n \rightarrow \infty} \sqrt[n]{a} \leq \lim_{n \rightarrow \infty} (a \frac{1}{n} + 1) = a \lim_{n \rightarrow \infty} \frac{1}{n} + 1 = a \cdot 0 + 1 = 1.$$

Nech  $a < 1$ , t. j.  $\frac{1}{a} > 1$ . Potom platí:

$$\lim_{n \rightarrow \infty} \sqrt[n]{a} = \lim_{n \rightarrow \infty} \sqrt[n]{\frac{1}{\frac{1}{a}}} = \lim_{n \rightarrow \infty} \frac{1}{\sqrt[n]{\frac{1}{a}}} = \frac{1}{\lim_{n \rightarrow \infty} \sqrt[n]{\frac{1}{a}}} = 1.$$

Nech  $a = 1$ , potom  $\lim_{n \rightarrow \infty} \sqrt[n]{a} = \lim_{n \rightarrow \infty} \sqrt[n]{1} = 1$ . ■

### Poznámka 2.3.20.K2-poz65

V minulosti bola veľmi populárna tzv. **Fibonacciho postupnosť**<sup>24</sup>  $\{0, 1, 1, 2, 3, 5, \dots\}$ , ktorú rekurentne vyjadrujeme výrazmi  $a_0 = 0$ ,  $a_1 = 1$ ,  $a_{n+1} = a_{n-1} + a_n$  pre  $n \in N$ .

Pre všetky  $n \in N$  môžeme  $n$ -tý člen vyjadriť vzťahom  $a_n = \frac{(1+\sqrt{5})^n - (1-\sqrt{5})^n}{2^n \sqrt{5}}$ .

### 2.3.4 Eulerovo číslo

Jednou z najčastejšie používaných a najdôležitejších konštánt je Eulerovo číslo, ktoré tvorí základ prirodzených logaritmov. Označujeme ho symbolom  $e$  a spolu s Ludolfovým číslom  $\pi$  patrí medzi najdôležitejšie konštanty.

### Veta 2.3.19.K2-veta78

Postupnosť  $\{e_n\}_{n=1}^{\infty} = \left\{1 + \frac{1}{1!} + \frac{1}{2!} + \dots + \frac{1}{n!}\right\}_{n=1}^{\infty}$  konverguje k iracionálnemu číslu.

#### Dôkaz.

Konvergencia.

Použijeme Cauchy–Bolzanov princíp konvergenzie.

Postupnosť  $\{e_n\}_{n=1}^{\infty}$  je rastúca, t. j. pre všetky  $m, n \in N$ ,  $n < m$  platí:

$$\begin{aligned} 0 < e_m - e_n &= \frac{1}{(n+1)!} + \frac{1}{(n+2)!} + \dots + \frac{1}{(m-1)!} + \frac{1}{m!} = \\ &= \frac{1}{(n+1)!} \left[ 1 + \frac{1}{n+2} + \frac{1}{(n+2)(n+3)} + \dots + \frac{1}{(n+2)\dots m} \right] < \frac{1}{(n+1)!} \left[ 1 + \frac{1}{n+1} + \frac{1}{(n+1)^2} + \dots + \frac{1}{(n+1)^{m-n-1}} \right] = (*). \end{aligned}$$

Z rovnosti  $a^{m-n} - b^{m-n} = (a-b)(a^{m-n-1} + a^{m-n-2}b + \dots + ab^{m-n-2} + b^{m-n-1})$  vyplýva:

$$1^{m-n} - \frac{1}{(n+1)^{m-n}} = \left[ 1 - \frac{1}{(n+1)} \right] \cdot \left[ 1 + \frac{1}{(n+1)} + \dots + \frac{1}{(n+1)^{m-n-1}} \right].$$

Potom platí:

$$(*) = \frac{1}{(n+1)!} \cdot \frac{1 - \frac{1}{(n+1)^{m-n}}}{1 - \frac{1}{(n+1)}} = \frac{1}{(n+1)!} \cdot \frac{(n+1)^{m-n-1}}{\frac{n+1-1}{n+1}} = \frac{1}{(n+1)!} \cdot \frac{(n+1)^{m-n-1}}{(n+1)^{m-n}} \cdot \frac{n+1}{n} < \frac{1}{(n+1)!} \cdot \frac{n+1}{n} = \frac{1}{n!n}.$$

Je zrejmé, že pre každé  $\varepsilon > 0$  existuje  $n_0 \in N$  také, že platí:

$$\varepsilon^{-1} < n_0! n_0, \quad \text{t. j. } \frac{1}{n_0! n_0} < \varepsilon.$$

Potom pre všetky  $\varepsilon > 0$  existuje  $n_0 \in N$  také, že pre všetky  $m, n \in N$ ,  $m \geq n = n_0$  platí:

$$0 \leq e_m - e_n < \frac{1}{n_0! n_0} < \varepsilon.$$

To znamená, že postupnosť  $\{e_n\}_{n=1}^{\infty}$  konverguje.

Označme  $\lim_{m \rightarrow \infty} e_m = e$ . Z vlastností postupnosti  $\{e_n\}_{n=1}^{\infty}$  vyplýva, že  $e > 2$ .

<sup>24</sup>Leonardo Fibonacci [1170–1250] — vlastným menom *Leonardo Pisánsky*, taliansky obchodník a matematik.

Iracionálnosť.

Sporom. Nech  $e = \frac{p}{q}$ , kde  $p, q \in \mathbb{N}$  sú nesúdeliteľné.

Nech  $n \in \mathbb{N}$  je ľubovoľné, potom pre všetky  $m \in \mathbb{N}$ ,  $m > n$  platí:

$$0 < e_m - e_n < \frac{1}{n!n}.$$

Z toho na základe vety 2.3.17 vyplýva, že pre všetky  $n \in \mathbb{N}$  platí:

$$0 \leq \lim_{m \rightarrow \infty} (e_m - e_n) = \lim_{m \rightarrow \infty} e_m - \lim_{m \rightarrow \infty} e_n = e - e_n \leq \lim_{m \rightarrow \infty} \frac{1}{n!n} = \frac{1}{n!n}.$$

Keďže je postupnosť  $\{e_n\}_{n=1}^{\infty}$  rastúca, pre všetky  $n \in \mathbb{N}$  platí:

$$e_n < e, \quad \text{t. j. } 0 < e - e_n \leq \frac{1}{n!n}.$$

Ak zvolíme  $n = q$ , potom platí:

$$0 < e - e_q = \frac{p}{q} - \left(1 + \frac{1}{1!} + \frac{1}{2!} + \dots + \frac{1}{q!}\right) \leq \frac{1}{q!q}. \quad (2.1)$$

Ak položíme  $q = 1$ , potom platí:

$$0 < e - e_1 = \frac{p}{1} - \left(1 + \frac{1}{1!}\right) = p - 2 \leq \frac{1}{q!q} = 1, \quad \text{t. j. } 0 < p - 2 \leq 1.$$

Z toho vyplýva  $p = 3$ , t. j.  $e = \frac{p}{q} = 3$ . Potom pre všetky  $n \in \mathbb{N}$  platí:

$$3 - e_n \leq \frac{1}{n!n}.$$

Spor, pretože pre  $n = 2$  daný vzťah neplatí ( $0,5 = 3 - e_2 \not\leq \frac{1}{2!2} = 0,25$ ).

Ak  $q > 1$ , potom po vynásobení nerovnosti (2.1) číslom  $q!$ , dostaneme

$$0 < p(q-1)! - \left(1 + \frac{1}{1!} + \frac{1}{2!} + \dots + \frac{1}{q!}\right) q! \leq \frac{1}{q} < 1.$$

Spor, pretože rozdiel dvoch prirodzených čísel je číslo celé a nie číslo z intervalu  $(0; 1)$ .

Z toho vyplýva, že číslo  $e$  sa nedá písať v tvare  $e = \frac{p}{q}$  a nie je racionálne. ■

Číslo  $e$  z predchádzajúcej vety, t. j. limitu postupnosti  $\{e_n\}_{n=1}^{\infty}$  nazývame **Eulerovo číslo**. Jeho hodnota je približne 2,718 281 827.

### Príklad 2.3.22.K2-pr33

Dokážte, že  $\lim_{n \rightarrow \infty} \left(1 + \frac{1}{n}\right)^n = \lim_{n \rightarrow \infty} \left(\frac{n+1}{n}\right)^n = e$ .

**Riešenie.**

Nech  $n \in \mathbb{N}$ , označme  $a_n = \left(1 + \frac{1}{n}\right)^n$ ,  $b_n = \left(1 + \frac{1}{n}\right) a_n = \left(1 + \frac{1}{n}\right)^{n+1}$ .

Z nerovnosti  $(n+1)^2 > 1$  vyplýva:

$$\frac{1}{(n+1)^2} < 1, \quad \text{t. j. } \frac{1}{(n+1)^2} > -1.$$

Potom na základe Bernoulliho nerovnosti platí:

$$\begin{aligned} \frac{a_{n+1}}{a_n} &= \frac{(n+2)^{n+1}}{(n+1)^{n+1}} \left(\frac{n}{n+1}\right)^n = \frac{n+1}{n} \left[\frac{n(n+2)}{(n+1)^2}\right]^{n+1} = \frac{n+1}{n} \left[\frac{n^2+2n+1-1}{(n+1)^2}\right]^{n+1} = \\ &= \frac{n+1}{n} \left[1 - \frac{1}{(n+1)^2}\right]^{n+1} > \frac{n+1}{n} \left[1 - \frac{n+1}{(n+1)^2}\right] = \frac{n+1}{n} \cdot \frac{n}{n+1} = 1. \end{aligned}$$

Pre všetky  $n \in \mathbb{N}$  platí  $\frac{1}{n(n+1)} > -1$ , potom z Bernoulliho nerovnosti vyplýva:

$$\begin{aligned} \frac{b_n}{b_{n+1}} &= \left(\frac{n+1}{n}\right)^{n+1} \left(\frac{n+1}{n+2}\right)^{n+2} = \frac{n}{n+1} \left[\frac{(n+1)^2}{n(n+2)}\right]^{n+2} = \frac{n}{n+1} \left[\frac{n^2+2n+1}{n(n+2)}\right]^{n+2} = \\ &= \frac{n}{n+1} \left[1 + \frac{1}{n(n+2)}\right]^{n+2} > \frac{n}{n+1} \left[1 + \frac{n+2}{n(n+2)}\right] = \frac{n}{n+1} \cdot \frac{n+1}{n} = 1. \end{aligned}$$

To znamená, že postupnosť  $\{a_n\}_{n=1}^{\infty}$  je rastúca a postupnosť  $\{b_n\}_{n=1}^{\infty}$  je klesajúca.

Ak uvážime, že pre všetky  $n \in \mathbb{N}$  platí  $a_n < b_n$ , potom

$$a_1 < a_2 < \dots < a_{n-1} < a_n < b_n < b_{n-1} < \dots < b_2 < b_1.$$



To znamená, že sú postupnosti  $\{a_n\}_{n=1}^{\infty}$ ,  $\{b_n\}_{n=1}^{\infty}$  ohraničené a na základe vety 2.3.11 konvergujú. Potom sú splnené predpoklady vety 2.3.13 a platí:

$$\lim_{n \rightarrow \infty} b_n = \lim_{n \rightarrow \infty} a_n \left(1 + \frac{1}{n}\right) = \lim_{n \rightarrow \infty} a_n \cdot \lim_{n \rightarrow \infty} \left(1 + \frac{1}{n}\right) = \lim_{n \rightarrow \infty} a_n.$$

Ešte treba ukázať, že  $\lim_{n \rightarrow \infty} a_n = \lim_{n \rightarrow \infty} e_n = e$ .

Nech  $n \in N$ , potom pre  $k = 1, 2, \dots, n$  platí:

$$\binom{n}{k} \frac{1}{n^k} = \frac{n(n-1)\dots(n-k+1)}{k!} \cdot \frac{1}{n^k} = \frac{1}{k!} \cdot \frac{n}{n} \cdot \frac{n-1}{n} \dots \frac{n-k+1}{n} < \frac{1}{k!}.$$

Keďže  $\binom{n}{0} \frac{1}{n^0} = 1$ , potom na základe binomickej vety platí:

$$a_n = \binom{n}{0} \frac{1}{n^0} + \binom{n}{1} \frac{1}{n^1} + \dots + \binom{n}{n} \frac{1}{n^n} < 1 + \frac{1}{1!} + \dots + \frac{1}{n!} = e_n.$$

Tým sme dokázali platnosť nerovnosti  $\lim_{n \rightarrow \infty} a_n \leq \lim_{n \rightarrow \infty} e_n$ .

Ukážeme, že  $\lim_{n \rightarrow \infty} a_n \geq \lim_{n \rightarrow \infty} e_n$ .

Nech  $n \in N$  je pevné, potom pre  $m = 1, 2, \dots, n$  platí:

$$a_n = 1 + \binom{n}{1} \frac{1}{n^1} + \dots + \binom{n}{m} \frac{1}{n^m} \geq 1 + \binom{n}{1} \frac{1}{n^1} + \dots + \binom{n}{m} \frac{1}{n^m}.$$

Z toho na základe vety 2.3.17 a vety 2.3.13 b) vyplýva, že pre všetky  $m \in N$  platí:

$$\begin{aligned} \lim_{n \rightarrow \infty} a_n &\geq \lim_{n \rightarrow \infty} 1 + \lim_{n \rightarrow \infty} \binom{n}{1} \frac{1}{n^1} + \dots + \lim_{n \rightarrow \infty} \binom{n}{m} \frac{1}{n^m} = 1 + \sum_{k=1}^m \lim_{n \rightarrow \infty} \binom{n}{k} \frac{1}{n^k} = \\ &= 1 + \sum_{k=1}^m \lim_{n \rightarrow \infty} \left[ \frac{n}{n} \cdot \frac{n-1}{n} \dots \frac{n-k+1}{n} \cdot \frac{1}{k!} \right] = 1 + \sum_{k=1}^m 1^k \frac{1}{k!} = \sum_{k=0}^m \frac{1}{k!} = e_m. \end{aligned}$$

Potom z dôsledku 2.3.17.a vyplýva:

$$\lim_{m \rightarrow \infty} \left[ \lim_{n \rightarrow \infty} a_n \right] \geq \lim_{m \rightarrow \infty} e_m, \quad \text{t. j.} \quad \lim_{n \rightarrow \infty} a_n = \lim_{m \rightarrow \infty} \left[ \lim_{n \rightarrow \infty} a_n \right] \geq \lim_{m \rightarrow \infty} e_m = e.$$

To znamená, že  $\lim_{n \rightarrow \infty} a_n = \lim_{n \rightarrow \infty} b_n = \lim_{n \rightarrow \infty} e_n = e$ . ■

### Poznámka 2.3.21.K2-poz67

Pomocou postupností  $\{e_n\}_{n=1}^{\infty}$  z vety 2.3.19 a  $\{a_n\}_{n=1}^{\infty}$  z príkladu 2.3.22 môžeme hodnotu čísla  $e$  vyjadriť numericky s ľubovoľnou presnosťou  $\varepsilon > 0$ .

Stačí zvoliť  $n \in N$  tak, aby platilo

$$0 < e - e_n < \frac{1}{n!n} < \varepsilon, \quad \text{resp.} \quad 0 < e - a_n < b_n - a_n = \frac{1}{n} \left(1 + \frac{1}{n}\right)^n < \varepsilon.$$

Ak chceme určiť  $e$  s presnosťou  $\varepsilon = 0,000\,001 = 10^{-6}$ , potom nám postačí člen  $e_9$ , ale nestačí člen  $a_{2\,700\,000}$ . Platí totiž

$$\frac{1}{9!} \approx 3,062 \cdot 10^{-7} < 10^{-6}, \quad \frac{1}{2\,700\,000} \left(1 + \frac{1}{2\,700\,000}\right)^{2\,700\,000} \approx 1,007 \cdot 10^{-6} > 10^{-6}.$$

### Príklad 2.3.23.K2-pr49

Dokážte, že  $\lim_{n \rightarrow \infty} \left(1 - \frac{1}{n}\right)^n = \frac{1}{e} = e^{-1}$ .

**Riešenie.**

Zo vzťahu  $\lim_{n \rightarrow \infty} a_n = \lim_{n \rightarrow \infty} a_{n+1}$  vyplýva:

$$\begin{aligned} \lim_{n \rightarrow \infty} \left(1 - \frac{1}{n}\right)^n &= \lim_{n \rightarrow \infty} \left(1 - \frac{1}{n+1}\right)^{n+1} = \lim_{n \rightarrow \infty} \left(\frac{n}{n+1}\right)^{n+1} = \lim_{n \rightarrow \infty} \left[\frac{n}{n+1} \left(\frac{n}{n+1}\right)^n\right] = \\ &= \lim_{n \rightarrow \infty} \frac{n}{n+1} \cdot \lim_{n \rightarrow \infty} \left(\frac{n}{n+1}\right)^n = 1 \cdot \lim_{n \rightarrow \infty} \left[\left(\frac{n+1}{n}\right)^n\right]^{-1} = e^{-1}. \quad \blacksquare \end{aligned}$$

**Príklad 2.3.24.K2-pr50**

Dokážte, že pre  $a \in \mathbb{R}$  platí  $\lim_{n \rightarrow \infty} \left(1 + \frac{a}{n}\right)^n = e^a$ .

**Riešenie.**

Ak  $a = 0$ , potom  $\left(1 + \frac{a}{n}\right)^n = 1^n = 1$ , t. j.  $\lim_{n \rightarrow \infty} \left(1 + \frac{a}{n}\right)^n = 1 = e^0 = e^a$ .

Nech  $a \neq 0$ . Najprv vypočítame  $\lim_{n \rightarrow \infty} \left(1 + \frac{a}{n}\right)^{\frac{n}{a}}$ .

Ak  $a > 0$ , potom pre všetky  $n > a$  existuje  $k_n \in \mathbb{N}$  také, že platí:

$$k_n \leq \frac{n}{a} < k_n + 1, \quad \text{t. j.} \quad \frac{1}{k_n+1} \leq \frac{a}{n} < \frac{1}{k_n}.$$

Potom pre všetky  $n \in \mathbb{N}$  platí:

$$\left(1 + \frac{1}{k_n+1}\right)^{k_n} \leq \left(1 + \frac{a}{n}\right)^{\frac{n}{a}} \leq \left(1 + \frac{1}{k_n}\right)^{k_n+1},$$

$$\left(1 + \frac{1}{k_n+1}\right)^{-1} \left(1 + \frac{1}{k_n+1}\right)^{k_n+1} \leq \left(1 + \frac{a}{n}\right)^{\frac{n}{a}} \leq \left(1 + \frac{1}{k_n}\right)^{k_n} \left(1 + \frac{1}{k_n}\right).$$

$\{k_n\}_{n=1}^{\infty}$  je neklesajúca postupnosť prirodzených čísel, ktorá diverguje do  $\infty$ . Z príkladu 2.3.22 vyplýva, že postupnosť  $\left\{\left(1 + \frac{1}{k_n+1}\right)^{k_n+1}\right\}_{n=1}^{\infty}$  je neklesajúca a postupnosť  $\left\{\left(1 + \frac{1}{k_n}\right)^{k_n+1}\right\}_{n=1}^{\infty}$  je nerastúca a obe konvergujú k číslu  $e$ . Potom platí:

$$\begin{aligned} e &= (1+0)^{-1} \cdot e = \lim_{n \rightarrow \infty} \left(1 + \frac{1}{k_n+1}\right)^{-1} \lim_{n \rightarrow \infty} \left(1 + \frac{1}{k_n+1}\right)^{k_n+1} \leq \lim_{n \rightarrow \infty} \left(1 + \frac{a}{n}\right)^{\frac{n}{a}} \leq \\ &\leq \lim_{n \rightarrow \infty} \left(1 + \frac{1}{k_n}\right)^{k_n} \lim_{n \rightarrow \infty} \left(1 + \frac{1}{k_n}\right) = e \cdot \left(1 + \frac{1}{\infty}\right) = e \cdot (1+0) = e. \end{aligned}$$

Ak  $a < 0$ , potom pre všetky  $n > -a > 0$  existuje  $k_n \in \mathbb{N}$  také, že platí:

$$k_n \leq \frac{n}{-a} < k_n + 1, \quad \text{t. j.} \quad -\frac{1}{k_n} \leq \frac{a}{n} < -\frac{1}{k_n+1}.$$

Z toho vyplýva:

$$\left(1 - \frac{1}{k_n}\right)^{-k_n-1} \leq \left(1 + \frac{a}{n}\right)^{\frac{n}{a}} \leq \left(1 - \frac{1}{k_n+1}\right)^{-k_n},$$

$$\left[\left(1 - \frac{1}{k_n}\right)^{k_n}\right]^{-1} \left(1 - \frac{1}{k_n}\right)^{-1} \leq \left(1 + \frac{a}{n}\right)^{\frac{n}{a}} \leq \left[\left(1 - \frac{1}{k_n+1}\right)^{k_n+1}\right]^{-1} \left(1 - \frac{1}{k_n+1}\right).$$

Potom na základe príkladu 2.3.23 platí:

$$e = (e^{-1})^{-1} \cdot (1-0)^{-1} \leq \lim_{n \rightarrow \infty} \left(1 + \frac{a}{n}\right)^{\frac{n}{a}} \leq (e^{-1})^{-1} \cdot (1-0) = e.$$

Takže pre všetky  $a \neq 0$  platí  $\lim_{n \rightarrow \infty} \left(1 + \frac{a}{n}\right)^{\frac{n}{a}} = e$ . Potom z poznámky 2.3.14 vyplýva:

$$\lim_{n \rightarrow \infty} \left(1 + \frac{a}{n}\right)^n = \lim_{n \rightarrow \infty} \left[\left(1 + \frac{a}{n}\right)^{\frac{n}{a}}\right]^a = \left[\lim_{n \rightarrow \infty} \left(1 + \frac{a}{n}\right)^{\frac{n}{a}}\right]^a = e^a. \blacksquare$$

**Príklad 2.3.25.K2-pr51**

a)  $\lim_{n \rightarrow \infty} \left(1 + \frac{1}{n}\right)^{2n} = \lim_{n \rightarrow \infty} \left[\left(1 + \frac{1}{n}\right)^n\right]^2 = \left[\lim_{n \rightarrow \infty} \left(1 + \frac{1}{n}\right)^n\right]^2 = e^2.$

b)  $\lim_{n \rightarrow \infty} \left(1 + \frac{1}{n}\right)^{n \cdot n} = \lim_{n \rightarrow \infty} \left[\left(1 + \frac{1}{n}\right)^n\right]^n = e^\infty = \infty. \blacksquare$

**Príklad 2.3.26.K2-pr39**

Dokážte, že  $\lim_{n \rightarrow \infty} n \left(\sqrt[n]{e} - 1\right) = \lim_{n \rightarrow \infty} n \left(e^{\frac{1}{n}} - 1\right) = 1$ .

**Riešenie.**

Nech  $n \in \mathbb{N}$ , označme  $a_n = \left(1 + \frac{1}{n}\right)^n$ ,  $b_n = \left(1 + \frac{1}{n}\right)^{n+1}$ .

Z príkladu 2.3.22 vyplýva, že pre všetky  $n \in \mathbb{N}$  platí:

$$1 < 2 = a_1 < a_2 < \dots < a_{n-1} < a_n < e < b_n < b_{n-1} < \dots < b_2 < b_1.$$

Potom pre všetky  $n \in \mathbb{N}$ ,  $n > 1$  platí:

$$1 + \frac{1}{n} = \sqrt[n]{\left(1 + \frac{1}{n}\right)^n} = \sqrt[n]{a_n} < \sqrt[n]{e} < \sqrt[n]{b_{n-1}} = \sqrt[n]{\left(1 + \frac{1}{n-1}\right)^n} = 1 + \frac{1}{n-1}.$$

Z toho vyplýva:

$$1 = \frac{n}{n} < n \left(\sqrt[n]{e} - 1\right) < \frac{n}{n-1}, \quad \text{t. j. } 1 \leq \lim_{n \rightarrow \infty} n \left(\sqrt[n]{e} - 1\right) \leq \lim_{n \rightarrow \infty} \frac{n}{n-1} = 1. \blacksquare$$

### Príklad 2.3.27.K2-pr65

Dokážte, že pre všetky  $a > 0$  platí  $\lim_{n \rightarrow \infty} n \left(\sqrt[n]{a} - 1\right) = \ln a$ .

**Riešenie.**

Podobným spôsobom ako v príklade 2.3.24 môžeme ukázať, že platí:

$$\lim_{n \rightarrow \infty} \frac{n}{a} \left(e^{\frac{a}{n}} - 1\right) = 1, \quad \text{t. j. } \lim_{n \rightarrow \infty} n \left(e^{\frac{a}{n}} - 1\right) = \lim_{n \rightarrow \infty} n \left(\sqrt[n]{e^a} - 1\right) = a.$$

Keďže pre všetky  $a > 0$  platí  $a = e^{\ln a}$ , potom

$$\lim_{n \rightarrow \infty} n \left(\sqrt[n]{a} - 1\right) = \lim_{n \rightarrow \infty} n \left(\sqrt[n]{e^{\ln a}} - 1\right) = \ln a. \blacksquare$$

### Príklad 2.3.28.K2-pr42

Dokážte, že  $\lim_{n \rightarrow \infty} \sqrt[n]{n} = 1$ .

**Riešenie.**

Uvažujme postupnosť  $\{a_n\}_{n=1}^{\infty} = \left\{\left(1 + \frac{1}{n}\right)^n\right\}_{n=1}^{\infty}$  z príkladu 2.3.22.

Pre všetky  $n \in \mathbb{N}$ ,  $n \geq 3$  platí:

$$1 < 2 = a_1 < a_n = \left(1 + \frac{1}{n}\right)^n = \left(\frac{n+1}{n}\right)^n = \frac{(n+1)^n}{n^n} \leq e < 3 \leq n,$$

$$1 < 1 \cdot n^n < (n+1)^n < n \cdot n^n = n^{n+1},$$

$$1 < \sqrt[n+1]{n+1} = \left[(n+1)^n\right]^{\frac{1}{n(n+1)}} < \left[n^{n+1}\right]^{\frac{1}{n(n+1)}} = \sqrt[n]{n}.$$

To znamená, že je postupnosť  $\{\sqrt[n]{n}\}_{n=3}^{\infty}$  klesajúca a zdola ohraničená číslom 1, t. j. konverguje k  $a \geq 1$ .

Keďže aj vybraná postupnosť  $\{\sqrt[2n]{2n}\}_{n=2}^{\infty}$  konverguje k  $a$ , platí:

$$a = \lim_{n \rightarrow \infty} \sqrt[2n]{2n} = \lim_{n \rightarrow \infty} \sqrt{\sqrt[2n]{2n}} = \sqrt{\lim_{n \rightarrow \infty} \sqrt[2n]{2n}} = \sqrt{\lim_{n \rightarrow \infty} \sqrt[2n]{2} \cdot \lim_{n \rightarrow \infty} \sqrt[2n]{n}} = \sqrt{1 \cdot a} = \sqrt{a}.$$

Vzťahu  $1 \leq a = \sqrt{a}$  vyhovuje iba číslo  $a = 1$ , takže  $\lim_{n \rightarrow \infty} \sqrt[n]{n} = 1$ .  $\blacksquare$

### Príklad 2.3.29.K2-pr43

Dokážte, že  $\lim_{n \rightarrow \infty} \sqrt[n]{n!} = \infty$ .

**Riešenie.**

Najprv dokážeme matematickou indukciou, že pre všetky  $n \in \mathbb{N}$  platí  $n! > \left(\frac{n}{3}\right)^n$ .

Pre  $n = 1$  je nerovnosť splnená triviálne.

Predpokladajme, že pre  $n = k$  platí  $k! > \left(\frac{k}{3}\right)^k$ .

Z príkladu 2.3.28 vyplýva, že pre všetky  $k \in \mathbb{N}$  platí  $\left(\frac{k}{k+1}\right)^k > \frac{1}{3}$ , t. j.

$$\begin{aligned} (k+1)! &= (k+1) k! > (k+1) \left(\frac{k}{3}\right)^k = (k+1) \left(\frac{k}{3}\right)^k \left(\frac{k+1}{k+1}\right)^k = \\ &= (k+1) \left(\frac{k+1}{3}\right)^k \left(\frac{k}{k+1}\right)^k > (k+1) \left(\frac{k+1}{3}\right)^k \frac{1}{3} = \left(\frac{k+1}{3}\right)^{k+1}. \end{aligned}$$

Z toho vyplýva, že pre všetky  $n \in N$  platí:

$$\sqrt[n]{n!} \geq \sqrt[n]{\left(\frac{n}{3}\right)^n} = \frac{n}{3}, \quad \text{t. j.} \quad \lim_{n \rightarrow \infty} \sqrt[n]{n!} \geq \lim_{n \rightarrow \infty} \frac{n}{3} = \infty. \blacksquare$$

### Príklad 2.3.30.K2-pr45

Dokážte, že  $\lim_{n \rightarrow \infty} \frac{n!}{n^n} = 0$ .

#### Riešenie.

Najprv dokážeme matematickou indukciou, že pre všetky  $n \in N$ ,  $n \geq 6$  platí  $n! < \left(\frac{n}{2}\right)^n$ .

Pre  $n = 6$  nerovnosť platí, pretože  $720 = 6! < 3^6 = 729$ .

Predpokladajme, že pre  $n = k$  platí  $k! < \left(\frac{k}{2}\right)^k$ .

Z príkladu 2.3.28 vyplýva, že pre všetky  $k \in N$  platí  $\left(\frac{k}{k+1}\right)^k < \frac{1}{2}$ , t. j.

$$\begin{aligned} (k+1)! &= (k+1) k! < (k+1) \left(\frac{k}{2}\right)^k = (k+1) \left(\frac{k}{2}\right)^k \left(\frac{k+1}{k+1}\right)^k = \\ &= (k+1) \left(\frac{k+1}{2}\right)^k \left(\frac{k}{k+1}\right)^k < (k+1) \left(\frac{k+1}{2}\right)^k \frac{1}{2} = \left(\frac{k+1}{2}\right)^{k+1}. \end{aligned}$$

Z toho vyplýva:

$$0 \leq \lim_{n \rightarrow \infty} \frac{n!}{n^n} \leq \lim_{n \rightarrow \infty} \left(\frac{n}{2}\right)^n \frac{1}{n^n} = \lim_{n \rightarrow \infty} \frac{1}{2^n} = \frac{1}{\infty} = 0. \blacksquare$$

### Veta 2.3.20.K2-veta94

Ak  $\lim_{n \rightarrow \infty} (a_{n+1} - a_n) = a \in R^*$ , potom  $\lim_{n \rightarrow \infty} \frac{a_n}{n} = a$ .

#### Dôkaz.

Nech  $a \in R$ .

Ak  $\varepsilon \in R$ , potom existuje  $n_0 \in N$  také, že pre všetky  $n \in N$ ,  $n \geq n_0$  platí:

$$a - \varepsilon < a_{n+1} - a_n < a + \varepsilon, \quad \text{t. j.} \quad a - \varepsilon + a_n < a_{n+1} < a + \varepsilon + a_n.$$

Nech  $k \in N$ , potom pre všetky  $n = n_0 + k \geq n_0$ , t. j.  $a_n = a_{n_0+k}$  platí:

$$\begin{aligned} k(a - \varepsilon) + a_{n_0} &< \dots < 2(a - \varepsilon) + a_{n_0+k-2} = a - \varepsilon + a - \varepsilon + a_{n_0+k-2} < \\ &< a - \varepsilon + a_{n_0+k-1} = a - \varepsilon + a_{n-1} < a_n < a + \varepsilon + a_{n-1} = a + \varepsilon + a_{n_0+k-1} < \\ &< a + \varepsilon + a + \varepsilon + a_{n_0+k-2} = 2(a + \varepsilon) + a_{n_0+k-2} < \dots < k(a + \varepsilon) + a_{n_0}. \end{aligned}$$

Ak dosadíme  $k = n - n_0$ ,  $k \in N$ , potom platí:

$$(n - n_0)(a - \varepsilon) + a_{n_0} < a_n < (n - n_0)(a + \varepsilon) + a_{n_0},$$

$$\left(1 - \frac{n_0}{n}\right)(a - \varepsilon) + \frac{a_{n_0}}{n} < \frac{a_n}{n} < \left(1 - \frac{n_0}{n}\right)(a + \varepsilon) + \frac{a_{n_0}}{n}.$$

Pretože  $n_0, a_{n_0}$  sú pre dané  $\varepsilon$  konštanty, potom platí:

$$\begin{aligned} a - \varepsilon &= (1 - 0)(a - \varepsilon) + 0 = \lim_{n \rightarrow \infty} \left[\left(1 - \frac{n_0}{n}\right)(a - \varepsilon) + \frac{a_{n_0}}{n}\right] \leq \lim_{n \rightarrow \infty} \frac{a_n}{n} \leq \\ &\leq \lim_{n \rightarrow \infty} \left[\left(1 - \frac{n_0}{n}\right)(a + \varepsilon) + \frac{a_{n_0}}{n}\right] = (1 - 0)(a + \varepsilon) + 0 = a + \varepsilon. \end{aligned}$$

Keďže je  $\varepsilon$  ľubovoľné, potom na základe vety 2.1.13 platí  $\lim_{n \rightarrow \infty} \frac{a_n}{n} = a$ .

Nech  $a = \infty$ . Nech  $K \in R$ , potom existuje  $n_0 \in N$ , že pre všetky  $n \in N$ ,  $n \geq n_0$  platí:

$$a_{n+1} - a_n > K, \quad \text{t. j.} \quad a_{n+1} > K + a_n.$$

Potom pre všetky  $n = n_0 + k \geq n_0$ ,  $k \in N$  platí:

$$a_n = a_{n_0+k} > K + a_{n_0+k-1} > 2K + a_{n_0+k-2} > \dots > k \cdot K + a_{n_0} = (n - n_0) \cdot K + a_{n_0}.$$

Potom platí:

$$\frac{a_n}{n} > K \frac{n-n_0}{n} + a_{n_0}, \quad \text{t. j.} \quad \lim_{n \rightarrow \infty} \frac{a_n}{n} \geq \lim_{n \rightarrow \infty} \left[ K \frac{n-n_0}{n} + a_{n_0} \right] = K \cdot 1 + 0 = K.$$

Keďže sme  $K$  volili ľubovoľne, platí  $\lim_{n \rightarrow \infty} \frac{a_n}{n} = \infty$ .

Nech  $a = -\infty$ . Ak označíme  $b_n = -a_n$ ,  $n \in N$ , potom platí:

$$\lim_{n \rightarrow \infty} (b_{n+1} - b_n) = \lim_{n \rightarrow \infty} [-a_{n+1} - (-a_n)] = - \lim_{n \rightarrow \infty} (a_{n+1} - a_n) = \infty.$$

Z toho, na základe už dokázaného, vyplýva:

$$\lim_{n \rightarrow \infty} \frac{b_n}{n} = \infty, \quad \text{t. j.} \quad \lim_{n \rightarrow \infty} \frac{a_n}{n} = - \lim_{n \rightarrow \infty} \frac{b_n}{n} = -\infty. \blacksquare$$

### Dôsledok 2.3.20.a.K2-dosl42

Ak  $\lim_{n \rightarrow \infty} a_n = a \in R^*$ , potom  $\lim_{n \rightarrow \infty} \frac{a_1 + a_2 + \dots + a_n}{n} = a$ .

Dôkaz.

Označme  $s_n = a_1 + a_2 + \dots + a_n$  pre všetky  $n \in N$ . Potom pre všetky  $n \in N$  platí:

$$a_{n+1} = s_{n+1} - s_n, \quad \text{t. j.} \quad a = \lim_{n \rightarrow \infty} a_n = \lim_{n \rightarrow \infty} a_{n+1} = \lim_{n \rightarrow \infty} (s_{n+1} - s_n).$$

To znamená, že sú splnené predpoklady vety 2.3.20 a platí:

$$\lim_{n \rightarrow \infty} \frac{s_n}{n} = \lim_{n \rightarrow \infty} \frac{a_1 + a_2 + \dots + a_n}{n} = \lim_{n \rightarrow \infty} (s_{n+1} - s_n) = a. \blacksquare$$

### Príklad 2.3.31.K2-pr107

Vypočítajte limitu  $\lim_{n \rightarrow \infty} \frac{1}{n} \left[ 1 + \frac{1}{2} + \frac{1}{3} + \dots + \frac{1}{n} \right]$ .

Riešenie.

Označme  $a_n = \frac{1}{n}$ ,  $n \in N$ . Keďže  $\lim_{n \rightarrow \infty} a_n = \lim_{n \rightarrow \infty} \frac{1}{n} = 0$ , potom (dôsledok 2.3.20.a) platí:

$$\lim_{n \rightarrow \infty} \frac{1}{n} \left[ 1 + \frac{1}{2} + \frac{1}{3} + \dots + \frac{1}{n} \right] = \lim_{n \rightarrow \infty} \frac{a_1 + a_2 + \dots + a_n}{n} = \lim_{n \rightarrow \infty} a_n = \lim_{n \rightarrow \infty} \frac{1}{n} = 0. \blacksquare$$

### Poznámka 2.3.22.K2-poz88

Tvrdenia v predchádzajúcej vete a dôsledku nemôžeme obrátiť. Je ale zrejmé, že ak

$$\lim_{n \rightarrow \infty} \frac{a_n}{n}, \quad \lim_{n \rightarrow \infty} (a_{n+1} - a_n), \quad \text{resp.} \quad \lim_{n \rightarrow \infty} \frac{a_1 + \dots + a_n}{n}, \quad \lim_{n \rightarrow \infty} a_n$$

existujú, potom sa nutne rovnajú.

### Príklad 2.3.32.K2-pr105

Ak  $\{a_n\}_{n=1}^{\infty} = \{(-1)^n\}_{n=1}^{\infty}$ , potom na základe príkladu 2.3.15 platí:

$$\lim_{n \rightarrow \infty} \frac{a_n}{n} = \lim_{n \rightarrow \infty} \frac{(-1)^n}{n} = 0, \quad \lim_{n \rightarrow \infty} [a_{n+1} - a_n] = \lim_{n \rightarrow \infty} [(-1)^{n+1} - (-1)^n] = \lim_{n \rightarrow \infty} 2(-1)^{n+1} \nexists.$$

Podobne platí  $\lim_{n \rightarrow \infty} \frac{a_1 + a_2 + \dots + a_n}{n} = \lim_{n \rightarrow \infty} \frac{-1 + 1 - 1 + \dots + (-1)^n}{n} = 0$ ,  $\lim_{n \rightarrow \infty} a_n = \lim_{n \rightarrow \infty} (-1)^n \nexists$ .  $\blacksquare$

### Príklad 2.3.33.K2-pr106

Z príkladu 2.3.19 vieme, že  $\lim_{n \rightarrow \infty} [\sqrt{n+1} - \sqrt{n}]$  existuje a je nulová.

Ak označíme  $a_n = \sqrt{n}$  pre  $n \in N$  a využijeme poznámku 2.3.22, potom platí:

$$\lim_{n \rightarrow \infty} [\sqrt{n+1} - \sqrt{n}] = \lim_{n \rightarrow \infty} \frac{\sqrt{n}}{n} = \lim_{n \rightarrow \infty} \frac{1}{\sqrt{n}} = \frac{1}{\infty} = 0. \blacksquare$$

**Veta 2.3.21.K2-veta82**

Nech pre všetky  $n \in N$  platí  $a_n > 0$  a nech  $\lim_{n \rightarrow \infty} \frac{a_{n+1}}{a_n} = a \in R^*$ . Potom  $\lim_{n \rightarrow \infty} \sqrt[n]{a_n} = a$ .

**Dôkaz.**

Nech  $a \in R$ . Je zrejmé, že platí  $a \geq 0$ .

Ak  $\varepsilon \in R$ ,  $0 < \varepsilon < a$ , potom existuje  $n_0 \in N$  také, že pre všetky  $n \in N$ ,  $n \geq n_0$  platí:

$$a - \varepsilon < \frac{a_{n+1}}{a_n} < a + \varepsilon, \quad \text{t. j. } (a - \varepsilon)a_n < a_{n+1} < (a + \varepsilon)a_n.$$

Nech  $k \in N$ , potom pre všetky  $n = n_0 + k \geq n_0$ , t. j.  $a_n = a_{n_0+k}$  platí:

$$\begin{aligned} (a - \varepsilon)^k a_{n_0} &< \dots < (a - \varepsilon)^2 a_{n_0+k-2} = (a - \varepsilon)(a - \varepsilon)a_{n_0+k-2} < \\ &< (a - \varepsilon)a_{n_0+k-1} = (a - \varepsilon)a_{n-1} < a_n < (a + \varepsilon)a_{n+1} = (a + \varepsilon)a_{n_0+k-1} < \\ &< (a + \varepsilon)(a + \varepsilon)a_{n_0+k-2} = (a + \varepsilon)^2 a_{n_0+k-2} < \dots < (a + \varepsilon)^k a_{n_0}. \end{aligned}$$

Ak dosadíme do predchádzajúceho vzťahu výraz  $k = n - n_0 \in N$ , dostaneme

$$(a - \varepsilon)^{n-n_0} a_{n_0} = (a - \varepsilon)^k a_{n_0} < a_n < (a + \varepsilon)^k a_{n_0} = (a + \varepsilon)^{n-n_0} a_{n_0},$$

$$(a - \varepsilon)^{1-\frac{n_0}{n}} \sqrt[n]{a_{n_0}} = (a - \varepsilon)^{\frac{n-n_0}{n}} \sqrt[n]{a_{n_0}} < \sqrt[n]{a_n} < (a + \varepsilon)^{\frac{n-n_0}{n}} \sqrt[n]{a_{n_0}} = (a + \varepsilon)^{1-\frac{n_0}{n}} \sqrt[n]{a_{n_0}}.$$

Pretože  $n_0, a_{n_0}$  sú pre dané  $\varepsilon$  konštanty, platí:

$$\begin{aligned} a - \varepsilon &= (a - \varepsilon)^{1-0} \cdot 1 = \lim_{n \rightarrow \infty} (a - \varepsilon)^{1-\frac{n_0}{n}} \cdot \lim_{n \rightarrow \infty} \sqrt[n]{a_{n_0}} \leq \\ &\leq \lim_{n \rightarrow \infty} \sqrt[n]{a_n} \leq \lim_{n \rightarrow \infty} (a + \varepsilon)^{1-\frac{n_0}{n}} \cdot \lim_{n \rightarrow \infty} \sqrt[n]{a_{n_0}} = (a + \varepsilon)^{1-0} \cdot 1 = a + \varepsilon. \end{aligned}$$

Pretože je  $\varepsilon$  ľubovoľné, na základe vety 2.1.13 platí  $\lim_{n \rightarrow \infty} \sqrt[n]{a_n} = a$ .

Nech  $a = \infty$ .

Nech  $K \in R$ , potom existuje  $n_0 \in N$ , že pre všetky  $n \in N$ ,  $n \geq n_0$  platí:

$$K < \frac{a_{n+1}}{a_n}, \quad \text{t. j. } a_{n+1} > K \cdot a_n.$$

Zvoľme  $K > 1$ , potom pre všetky  $n = n_0 + k \geq n_0$ ,  $k \in N$  platí:

$$a_n = a_{n_0+k} > K a_{n_0+k-1} > K^2 a_{n_0+k-2} > \dots > K^k a_{n_0} = K^{n-n_0} a_{n_0}.$$

Potom platí:

$$\sqrt[n]{a_n} > K^{\frac{n-n_0}{n}} \sqrt[n]{a_{n_0}}, \quad \text{t. j. } \lim_{n \rightarrow \infty} \sqrt[n]{a_n} \geq \lim_{n \rightarrow \infty} \left[ K^{\frac{n-n_0}{n}} \sqrt[n]{a_{n_0}} \right] = K \cdot 1 = K.$$

Lenže  $K$  sme volili ľubovoľne, takže  $\lim_{n \rightarrow \infty} \sqrt[n]{a_n} = \infty$ . ■

**Dôsledok 2.3.21.a.K2-dosl43**

Nech pre všetky  $n \in N$  platí  $a_n > 0$  a nech  $\lim_{n \rightarrow \infty} a_n = a \in R^*$ , potom  $\lim_{n \rightarrow \infty} \sqrt[n]{a_1 a_2 \dots a_n} = a$ .

**Dôkaz.**

Označme  $s_n = a_1 a_2 \dots a_n$  pre všetky  $n \in N$ . Potom pre všetky  $n \in N$  platí:

$$a_{n+1} = \frac{a_1 a_2 \dots a_n a_{n+1}}{a_1 a_2 \dots a_n} = \frac{s_{n+1}}{s_n}, \quad \text{t. j. } a = \lim_{n \rightarrow \infty} a_n = \lim_{n \rightarrow \infty} a_{n+1} = \lim_{n \rightarrow \infty} \frac{s_{n+1}}{s_n}.$$

Z toho na základe vety 2.3.21 vyplýva:

$$\lim_{n \rightarrow \infty} \sqrt[n]{s_n} = \lim_{n \rightarrow \infty} \sqrt[n]{a_1 a_2 \dots a_n} = \lim_{n \rightarrow \infty} \frac{s_{n+1}}{s_n} = a. \quad \blacksquare$$

**Veta 2.3.22.K2-veta83**

Nech pre všetky  $n \in N$  platí  $a_n \geq 0$  a nech  $\lim_{n \rightarrow \infty} \sqrt[n]{a_n} = a \in R^*$ .

- a) Ak  $a < 1$ , potom  $\lim_{n \rightarrow \infty} a_n = 0$ .                      b) Ak  $a > 1$ , potom  $\lim_{n \rightarrow \infty} a_n = \infty$ .

**Dôkaz.**

a) Zvoľme  $q \in R$  tak, aby  $a < q < 1$ . Potom (dôsledok 2.3.18.a) existuje  $n_0 \in N$  také, že pre všetky  $n \in N$ ,  $n \geq n_0$  platí  $\sqrt[n]{a_n} < q$ , t. j.  $a_n < q^n$ . Z toho vyplýva:

$$0 \leq \lim_{n \rightarrow \infty} a_n \leq \lim_{n \rightarrow \infty} q^n = 0.$$

b) Zvoľme  $q \in R$ , aby  $1 < q < a$ . Potom (dôsledok 2.3.18.b) existuje  $n_0 \in N$  také, že pre všetky  $n \in N$ ,  $n \geq n_0$  platí  $q < \sqrt[n]{a_n}$ , t. j.  $q^n < a_n$ . Z toho vyplýva:

$$\infty = \lim_{n \rightarrow \infty} q^n \leq \lim_{n \rightarrow \infty} a_n. \blacksquare$$

**Veta 2.3.23.K2-veta81**

Nech pre všetky  $n \in N$  platí  $a_n > 0$  a nech  $\lim_{n \rightarrow \infty} \frac{a_{n+1}}{a_n} = a \in R^*$ .

a) Ak  $a < 1$ , potom  $\lim_{n \rightarrow \infty} a_n = 0$ .

b) Ak  $a > 1$ , potom  $\lim_{n \rightarrow \infty} a_n = \infty$ .

**Dôkaz.**

Vyšplýva priamo z viet 2.3.21 a 2.3.22.  $\blacksquare$

**Poznámka 2.3.23.K2-poz73**

Ak platí  $\lim_{n \rightarrow \infty} \frac{a_{n+1}}{a_n} = 1$ , resp.  $\lim_{n \rightarrow \infty} \sqrt[n]{a_n} = 1$ ,

potom vo všeobecnosti o konvergencii postupnosti  $\{a_n\}_{n=1}^{\infty}$  nevieme rozhodnúť.

Napríklad pre postupnosti  $\{\frac{1}{n}\}_{n=1}^{\infty}$ ,  $\{1\}_{n=1}^{\infty}$ ,  $\{n\}_{n=1}^{\infty}$  platí:

$$\lim_{n \rightarrow \infty} \frac{a_{n+1}}{a_n} = \lim_{n \rightarrow \infty} \sqrt[n]{a_n} = 1, \quad \lim_{n \rightarrow \infty} \frac{1}{n} = 0, \quad \lim_{n \rightarrow \infty} 1 = 1, \quad \lim_{n \rightarrow \infty} n = \infty.$$

**Príklad 2.3.34.K2-pr48**

Vypočítajte  $\lim_{n \rightarrow \infty} \frac{n^q}{a^n}$ , kde  $a > 0$ ,  $q > 0$ .

**Riešenie.**

Ak  $a = 1$ , potom  $\lim_{n \rightarrow \infty} \frac{n^q}{a^n} = \lim_{n \rightarrow \infty} n^q = \infty$ .

Nech  $a \neq 1$ . Označme  $a_n = \frac{n^q}{a^n}$ ,  $n \in N$ . Potom platí:

$$\lim_{n \rightarrow \infty} \frac{a_{n+1}}{a_n} = \lim_{n \rightarrow \infty} \frac{(n+1)^q a^n}{a^{n+1} n^q} = \lim_{n \rightarrow \infty} \frac{1}{a} \left(\frac{n+1}{n}\right)^q = \frac{1}{a} \lim_{n \rightarrow \infty} \left(1 + \frac{1}{n}\right)^q = \frac{1}{a} \cdot 1^q = \frac{1}{a}.$$

T. j. pre  $a > 1$  platí  $\frac{1}{a} < 1$  a pre  $a < 1$  platí  $\frac{1}{a} > 1$ . Potom (veta 2.3.23) platí:

$$\lim_{n \rightarrow \infty} \frac{n^q}{a^n} = \infty \text{ pre } a \leq 1, \quad \lim_{n \rightarrow \infty} \frac{n^q}{a^n} = 0 \text{ pre } a > 1. \blacksquare$$

**Príklad 2.3.35.K2-pr46**

Dokážte, že  $\lim_{n \rightarrow \infty} \frac{n}{\sqrt[n]{n!}} = e$ .

**Riešenie.**

Uvažujme postupnosť  $\{a_n\}_{n=1}^{\infty} = \left\{\frac{n^n}{n!}\right\}_{n=1}^{\infty}$ . Potom pre  $n \in N$  platí  $\sqrt[n]{a_n} = \frac{n}{\sqrt[n]{n!}}$ .

Tvrdenie vyplýva z vety 2.3.21 a zo vzťahu

$$\lim_{n \rightarrow \infty} \sqrt[n]{a_n} = \lim_{n \rightarrow \infty} \frac{a_{n+1}}{a_n} = \lim_{n \rightarrow \infty} \frac{(n+1)^{n+1} n!}{(n+1)! n^n} = \lim_{n \rightarrow \infty} \frac{(n+1)^n}{n^n} = \lim_{n \rightarrow \infty} \left(1 + \frac{1}{n}\right)^n = e. \blacksquare$$



**Príklad 2.3.36.K2-pr52**

Dokážte, že ak  $a \in \mathbb{R}$ , potom  $\lim_{n \rightarrow \infty} \frac{a^n}{n!} = 0$ .

**Riešenie.**

Nech  $k \in \mathbb{N}$  je také, že  $k > |a| > 0$ , t. j.  $1 > \frac{|a|}{k}$ . Potom platí:

$$0 < \frac{|a|^n}{n!} = \frac{1}{k!} \cdot \frac{|a|^n}{(k+1) \cdots n} < \frac{1}{k!} \cdot \frac{|a|^n}{k \cdots k} = \frac{1}{k!} \cdot \frac{k^k}{k^k} \cdot \frac{|a|^n}{k^{n-k}} = \frac{k^k}{k!} \cdot \left[ \frac{|a|}{k} \right]^n.$$

Z toho vyplýva:

$$0 \leq \lim_{n \rightarrow \infty} \frac{|a|^n}{n!} \leq \lim_{n \rightarrow \infty} \frac{k^k}{k!} \left[ \frac{|a|}{k} \right]^n = \frac{k^k}{k!} \cdot \lim_{n \rightarrow \infty} \left[ \frac{|a|}{k} \right]^n = 0, \quad \text{t. j.} \quad \lim_{n \rightarrow \infty} \frac{a^n}{n!} = 0.$$

**Iné riešenie.**

Označme  $a_n = \frac{a^n}{n!}$ ,  $n \in \mathbb{N}$ . Na základe viet 2.3.22 a 2.3.15 platí:

$$\lim_{n \rightarrow \infty} \sqrt[n]{|a_n|} = \lim_{n \rightarrow \infty} \sqrt[n]{\left| \frac{a^n}{n!} \right|} = \lim_{n \rightarrow \infty} \frac{|a|}{\sqrt[n]{n!}} = \frac{|a|}{\infty} = 0 < 1, \quad \text{t. j.} \quad 0 = \lim_{n \rightarrow \infty} |a_n| = \lim_{n \rightarrow \infty} a_n.$$

**Iné riešenie.**

Označme  $a_n = \frac{a^n}{n!}$ ,  $n \in \mathbb{N}$ . Potom na základe vety 2.3.23 platí:

$$\lim_{n \rightarrow \infty} \left| \frac{a_{n+1}}{a_n} \right| = \lim_{n \rightarrow \infty} \left| \frac{a^{n+1} n!}{(n+1)! a^n} \right| = \lim_{n \rightarrow \infty} \frac{|a|}{n+1} = \frac{|a|}{\infty} = 0 < 1, \quad \text{t. j.} \quad \lim_{n \rightarrow \infty} |a_n| = \lim_{n \rightarrow \infty} a_n = 0. \blacksquare$$

**Príklad 2.3.37.K2-pr47**

Vypočítajte  $\lim_{n \rightarrow \infty} \frac{a^n n!}{n^n}$ , kde  $a \in \mathbb{R}$ ,  $a > 0$ ,  $a \neq e$ .

**Riešenie.**

Označme  $a_n = \frac{a^n n!}{n^n}$  pre  $n \in \mathbb{N}$ . Potom platí:

$$\lim_{n \rightarrow \infty} \frac{a_{n+1}}{a_n} = \lim_{n \rightarrow \infty} \frac{a^{n+1} (n+1)! n^n}{(n+1)^{n+1} a^n n!} = \lim_{n \rightarrow \infty} \frac{a}{(n+1)^n} = a \lim_{n \rightarrow \infty} \left[ \left( \frac{n+1}{n} \right)^n \right]^{-1} = \frac{a}{e}.$$

Potom (veta 2.3.23) platí  $\lim_{n \rightarrow \infty} a_n = 0$  pre  $a < e$ ,  $\lim_{n \rightarrow \infty} a_n = \infty$  pre  $a > e$ .  $\blacksquare$

**Príklad 2.3.38.K2-pr44**

$$\text{a) } \lim_{n \rightarrow \infty} \left[ \frac{n}{2} - \frac{1+\dots+n}{n+2} \right] = \lim_{n \rightarrow \infty} \left[ \frac{n}{2} - \frac{n(n+1)}{2(n+2)} \right] = \lim_{n \rightarrow \infty} \frac{n}{2(n+2)} = \lim_{n \rightarrow \infty} \frac{1}{2+\frac{2}{n}} = \frac{1}{2}.$$

$$\text{b) } \lim_{n \rightarrow \infty} \frac{2^{n+3n}}{2^{n+1}+3^{n+1}} = \lim_{n \rightarrow \infty} \frac{3^n \left(\frac{2}{3}\right)^{n+1}}{3^n 2\left(\frac{2}{3}\right)^{n+3}} = \lim_{n \rightarrow \infty} \frac{\left(\frac{2}{3}\right)^{n+1}}{2\left(\frac{2}{3}\right)^{n+3}} = \frac{0+1}{2 \cdot 0+3} = \frac{1}{3}. \blacksquare$$

**Príklad 2.3.39.K2-pr66**

Vypočítajte  $\lim_{n \rightarrow \infty} \sqrt[n]{3^n - 2^n}$ .

**Riešenie.**

Pre všetky  $n \in \mathbb{N}$  platí  $\frac{1}{3} = 1 - \frac{2}{3} \leq 1 - \left(\frac{2}{3}\right)^n < 1$ , t. j.  $\sqrt[n]{\frac{1}{3}} \leq \sqrt[n]{1 - \left(\frac{2}{3}\right)^n} < 1$ .

Z toho vyplýva  $1 = \lim_{n \rightarrow \infty} \sqrt[n]{\frac{1}{3}} \leq \lim_{n \rightarrow \infty} \sqrt[n]{1 - \left(\frac{2}{3}\right)^n} \leq 1$ , t. j.  $\lim_{n \rightarrow \infty} \sqrt[n]{1 - \left(\frac{2}{3}\right)^n} = 1$ . Potom

$$\lim_{n \rightarrow \infty} \sqrt[n]{3^n - 2^n} = \lim_{n \rightarrow \infty} \sqrt[n]{3^n \left[1 - \left(\frac{2}{3}\right)^n\right]} = \lim_{n \rightarrow \infty} 3 \sqrt[n]{1 - \left(\frac{2}{3}\right)^n} = 3 \cdot 1 = 3. \blacksquare$$

**Príklad 2.3.40.K2-pr53**

Dokážte, že  $\lim_{n \rightarrow \infty} \frac{1}{\sqrt[n]{n-1}} = \infty$ .

**Riešenie.**

Pre  $n \in \mathbb{N}$ ,  $n > 1$  platí  $\sqrt[n]{n} > 1$ , t. j.  $\sqrt[n]{n} - 1 > 0$ .

Keďže  $\lim_{n \rightarrow \infty} \sqrt[n]{n} = 1$ , potom  $\lim_{n \rightarrow \infty} (\sqrt[n]{n} - 1) = 0$ .  $\left. \begin{array}{l} \text{Pre } n \in \mathbb{N}, n > 1 \text{ platí } \sqrt[n]{n} > 1, \text{ t. j. } \sqrt[n]{n} - 1 > 0. \\ \text{Keďže } \lim_{n \rightarrow \infty} \sqrt[n]{n} = 1, \text{ potom } \lim_{n \rightarrow \infty} (\sqrt[n]{n} - 1) = 0. \end{array} \right\} \xrightarrow{\text{veta 2.3.16}} \lim_{n \rightarrow \infty} \frac{1}{\sqrt[n]{n-1}} = \infty. \blacksquare$

**Príklad 2.3.41.K2-pr40**

Vypočítajte limitu postupnosti  $\{a_n\}_{n=1}^{\infty}$  zadanej rekurentne vzťahmi  $a_0 \geq 0$ ,  $a_{n+1} = \sqrt{a_n + 6}$ .

**Riešenie.**

Označme  $\lim_{n \rightarrow \infty} a_n = a$ . Potom na základe dôsledku 2.3.7.a platí:

$$\lim_{n \rightarrow \infty} a_n = \lim_{n \rightarrow \infty} a_{n+1}, \quad \text{t. j. } a^2 = \lim_{n \rightarrow \infty} a_n^2 = \lim_{n \rightarrow \infty} a_{n+1}^2 = \lim_{n \rightarrow \infty} (a_n + 6) = a + 6.$$

To znamená, že  $a$  je riešením kvadratickej rovnice

$$a^2 - a - 6 = (a - 3) \cdot (a + 2) = 0.$$

Koreň  $a = -2 < 0$  nevyhovuje. Z toho vyplýva  $a = \lim_{n \rightarrow \infty} a_n = 3$ .

Ešte musíme ukázať, že postupnosť  $\{a_n\}_{n=1}^{\infty}$  konverguje.

Ak  $a_0 = 3$ , potom pre všetky  $n \in N$  platí  $a_n = 3$ , t. j.  $\{a_n\}_{n=1}^{\infty}$  konverguje.

Ak  $a_0 < 3$ , potom pre všetky  $n \in N$  na základe matematickej indukcie platí  $a_n < 3$ . Platí totiž

$$a_1 = \sqrt{a_0 + 6} < \sqrt{3 + 6} = 3, \quad a_n < 3 \Rightarrow a_{n+1} = \sqrt{a_n + 6} < \sqrt{3 + 6} = 3.$$

Keďže sú všetky členy  $a_n$  kladné a  $a_n - 3 < 0$ , platí:

$$a_n^2 - a_{n+1}^2 = a_n^2 - a_n - 6 = (a_n - 3)(a_n + 2) < 0, \quad \text{t. j. } a_n^2 < a_{n+1}^2, \quad \text{t. j. } a_n < a_{n+1}.$$

To znamená, že  $\{a_n\}_{n=1}^{\infty}$  je rastúca, zhora ohraničená, t. j. konverguje.

Pre  $a_0 > 3$  je dôkaz analogický a prenechávame ho čitateľovi ako cvičenie. ■

**Príklad 2.3.42.K2-pr41**

Vypočítajte  $\lim_{n \rightarrow \infty} a_n$ , pričom  $a_{n+1} = \frac{1}{2} \left( a_n + \frac{c}{a_n} \right)$ ,  $a_0 = c$ , kde  $c \in R$ ,  $c > 0$ .

**Riešenie.**

Je zrejmé, že pre všetky  $n \in N \cup \{0\}$  platí  $a_n > 0$ . Ďalej platí:

$$a_{n+1}^2 - c = \frac{1}{4} \left( a_n^2 + 2c + \frac{c^2}{a_n^2} \right) - c = \frac{1}{4} \left( a_n^2 - 2c + \frac{c^2}{a_n^2} \right) = \frac{1}{4} \left( a_n - \frac{c}{a_n} \right)^2 \geq 0.$$

Z toho vyplýva, že pre všetky  $n \in N$  platí  $a_n \geq \sqrt{c}$ . Potom platí:

$$a_n - a_{n+1} = a_n - \frac{1}{2} \left( a_n + \frac{c}{a_n} \right) = \frac{1}{2} \left( a_n - \frac{c}{a_n} \right) = \frac{1}{2} \cdot \frac{a_n^2 - c}{a_n} \geq 0.$$

To znamená, že  $\{a_n\}_{n=1}^{\infty}$  je nerastúca a zdola ohraničená, t. j. konverguje.

Ak označíme  $\lim_{n \rightarrow \infty} a_n = a$ , potom zo vzťahu  $\lim_{n \rightarrow \infty} a_n = \lim_{n \rightarrow \infty} a_{n+1}$  vyplýva:

$$0 = \lim_{n \rightarrow \infty} a_n - \lim_{n \rightarrow \infty} a_{n+1} = \lim_{n \rightarrow \infty} a_n - \frac{1}{2} \left( \lim_{n \rightarrow \infty} a_n + \frac{c}{\lim_{n \rightarrow \infty} a_n} \right) = \frac{1}{2} \left( a - \frac{c}{a} \right) = \frac{a^2 - c}{2a}.$$

Danej rovnici vyhovujú  $a = \pm\sqrt{c}$ , takže  $\lim_{n \rightarrow \infty} a_n = \sqrt{c}$ . ■

**Poznámka 2.3.24.K2-poz68**

Pomocou postupnosti  $\{a_n\}_{n=1}^{\infty}$  z príkladu 2.3.42 môžeme numericky vypočítat hodnotu  $\sqrt{c}$  pre ľubovoľné  $c \in R$ ,  $c > 0$ .

Odvodíme chybu výpočtu.

Z príkladu 2.3.42 vyplýva, že pre všetky  $n \in N$  platí  $\sqrt{c} \leq a_n$ . Potom

$$\frac{1}{a_n} \leq \frac{1}{\sqrt{c}}, \quad \text{t. j. } \frac{c}{a_n} \leq \frac{c}{\sqrt{c}} = \sqrt{c}.$$

Z toho vyplýva, že pre chybu výpočtu pre  $n \in N$  platí:

$$0 \leq a_n - \sqrt{c} \leq 2a_n - a_n - \frac{c}{a_n} = 2a_n - 2a_{n+1}, \quad \text{t. j. } 0 \leq a_{n+1} - \sqrt{c} \leq a_n - a_{n+1}.$$

Na ukážku vypočítame  $\sqrt{3}$ .

$$c = a_0 = 3, \quad a_1 = 2, \quad a_2 = 1,75, \quad a_3 = 1,732\,142\,857, \quad a_4 = 1,732\,050\,810.$$

Hodnota vypočítaná kalkulačkou je  $\sqrt{3} \approx 1,732\,050\,808$ .

Ako vidíme, už pri člene  $a_4$  je chyba menšia ako  $2 \cdot 10^{-9}$ .

**Príklad 2.3.43.K2-pr55**

Vypočítajte limitu postupnosti  $\{a_n\}_{n=1}^{\infty} = \{0, 2; 0, 23; 0, 233; 0, 2333; \dots\}$ .

**Riešenie.**

Ak označíme  $q = 0,1 < 1$ , potom pre  $n \in N$  platí:

$$a_1 = 0,2, \quad a_2 = 0,2 + 0,03, \quad a_3 = 0,2 + 0,03 + 0,003 = 0,2 + 0,03(1 + q), \quad \dots,$$

$$a_n = 0,2 + 0,03(1 + q + \dots + q^{n-2}) = 0,2 + 0,03 \frac{1 - q^{n-1}}{1 - q}, \quad \dots. \quad \text{Potom}$$

$$\lim_{n \rightarrow \infty} a_n = \lim_{n \rightarrow \infty} \left[ 0,2 + 0,03 \frac{1 - q^{n-1}}{1 - q} \right] = 0,2 + 0,03 \frac{1}{1 - q} = 0,2 + \frac{0,03}{0,9} = \frac{7}{30}. \quad \blacksquare$$

**2.3.5 Postupnosti bodov metrických priestorov**

Pojem konverencie môžeme jednoduchým spôsobom rozšíriť na postupnosti bodov metrického priestoru. Podobne môžeme definovať v metrických priestoroch aj ostatné pojmy (napr. podpostupnosť, ohraničená postupnosť, ...) a odvodiť analogické tvrdenia, ako pre číselné postupnosti.

Na druhej strane môžeme pomocou konvergentných postupností zjednodušiť a sprehladniť niektoré pojmy v metrických priestoroch (napr. hromadný bod množiny, uzáver množiny, ...). Pre obmedzený rozsah uvedieme iba niektoré z nich.

Nech  $X \neq \emptyset$  je metrický priestor s metrikou  $\rho$  a nech  $\{x_n\}_{n=1}^{\infty}$  je postupnosť bodov priestoru  $X$  (t. j. pre všetky  $n \in N$  platí  $x_n \in X$ ). Hovoríme, že postupnosť  $\{x_n\}_{n=1}^{\infty}$  **konverguje k bodu**  $x \in X$ , ak pre každé  $\varepsilon > 0$  existuje  $n_0 \in N$  také, že pre všetky  $n \in N$ ,  $n \geq n_0$  platí  $\rho(x_n, x) < \varepsilon$ . Prvok  $x$  nazývame **limitou postupnosti**  $\{x_n\}_{n=1}^{\infty}$  a označujeme  $x = \lim_{n \rightarrow \infty} x_n$ .

Ak neexistuje bod  $x \in X$ , ku ktorému postupnosť  $\{x_n\}_{n=1}^{\infty}$  konverguje, potom hovoríme, že postupnosť **diverguje**. Postupnosť  $\{x_n\}_{n=1}^{\infty}$  bodov metrického sa nazýva **ohraničená**, ak je ohraničená množina hodnôt tejto postupnosti.

**Poznámka 2.3.25.K2-poz69**

Z predchádzajúcej definície vyplýva, že postupnosť  $\{x_n\}_{n=1}^{\infty}$  bodov metrického priestoru  $X$  konverguje k bodu  $x \in X$  práve vtedy, ak konverguje číselná postupnosť  $\{\rho(x_n, x)\}_{n=1}^{\infty}$  k číslu 0, t. j. ak  $\lim_{n \rightarrow \infty} \rho(x_n, x) = 0$ .

Z definície hromadného bodu množiny  $A \subset X$  a z definície konvergentnej postupnosti v metrickom priestore vyplýva nasledujúce tvrdenie.

**Veta 2.3.24.K2-veta79**

Nech  $X \neq \emptyset$  je metrický priestor s metrikou  $\rho$  a nech  $A \subset X$ .

Bod  $a \in X$  je hromadným bodom množiny  $A$  práve vtedy, ak existuje postupnosť  $\{x_n\}_{n=1}^{\infty}$ ,  $x_n \in A$ ,  $x_n \neq a$  pre  $n \in N$ , ktorá konverguje k bodu  $a$ , t. j. platí  $\lim_{n \rightarrow \infty} x_n = a$ .

**Dôkaz.**

$NP \Rightarrow$ : Označme  $\varepsilon = \frac{1}{n}$  pre každé  $n \in N$ .

Z definície vyplýva, že v okolí  $O_\varepsilon(a)$  leží aspoň jeden bod  $x_n \neq a$  taký, že  $x_n \in A$ .

Je zrejmé, že postupnosť  $\{x_n\}_{n=1}^{\infty}$  konverguje k bodu  $a$ .

$PP \Leftarrow$ : Vyplýva priamo z definície limity postupnosti  $\{x_n\}_{n=1}^{\infty}$ .

Nech  $\varepsilon > 0$ . Potom existuje  $n_0 \in N$  také, že pre všetky  $n \in N$ ,  $n \geq n_0$  platí  $\rho(x_n, x) < \varepsilon$ .

Inými slovami body  $x_n$  ležia v okolí  $O_\varepsilon(a)$ .  $\blacksquare$

Postupnosť  $\{x_n\}_{n=1}^{\infty}$  bodov metrického priestoru  $X \neq \emptyset$  sa nazýva **cauchyovská (fundamentálna)**, ak spĺňa Cauchy–Bolzanov princíp konvergenencie, t. j. ak ku každému číslu  $\varepsilon > 0$  existuje  $n_0 \in N$  také, že pre všetky  $m, n \in N$ ,  $n \geq n_0$ ,  $m \geq n_0$  platí  $\rho(x_m, x_n) < \varepsilon$ .

V priestore  $R$  je pojem fundamentálnej a konvergentnej postupnosti ekvivalentný. Vzťah medzi konvergentnou a fundamentálnou postupnosťou je uvedený vo vete 2.3.25. Opačné tvrdenie vety neplatí v každom metrickom priestore (viď príklad 2.3.9), ale iba v niektorých metrických priestoroch.

### Veta 2.3.25.K2-veta80

Každá konvergentná postupnosť bodov z metrického priestoru je fundamentálna.

#### Dôkaz.

Dôkaz je analogický ako dôkaz NP $\Rightarrow$  vo vete 2.3.4. ■

Metrický priestor  $X \neq \emptyset$  s metrikou  $\rho$  sa nazýva **úplný metrický priestor**, ak každá fundamentálna postupnosť bodov z priestoru  $X$  konverguje v priestore  $X$ . To znamená, že ak postupnosť  $\{x_n\}_{n=1}^{\infty}$  je fundamentálna, potom  $\lim_{n \rightarrow \infty} x_n \in X$ .

Ako sme už spomínali, množina  $R$  s euklidovskou metrikou je na rozdiel od množiny  $Q$  úplný metrický priestor. Medzi úplné metrické priestory patrí tiež každý euklidovský priestor  $R^n$ ,  $n \in N$ .

Nech  $X \neq \emptyset$  je metrický priestor s metrikou  $\rho$ . Množina  $A \subset X$  sa nazýva **kompaktná (v priestore  $X$ )** práve vtedy, ak sa z každej postupnosti bodov množiny  $A$  dá vybrať postupnosť, ktorá konverguje v množine  $A$ . V euklidovskom priestore  $R^n$ ,  $n \in N$  platí analogické tvrdenie ako v  $R$ . Vyjadruje to nasledujúca veta.

### Veta 2.3.26.K2-veta86

Nech  $R^n$ ,  $n \in N$  je euklidovský metrický priestor. Potom množina  $A \subset R^n$  je kompaktná práve vtedy, ak je uzavretá a ohraničená.

#### Dôkaz.

Dôkaz je analogický ako pri vete 2.3.10 a prenechávame ho čitateľovi. ■

## Cvičenia

**2.3.1. N3.01** Zistite niekoľko prvých členov postupnosti  $\{a_n\}_{n=1}^{\infty}$ . Vyslovte a dokážte hypotézu o monotónnosti a o ohraničenosti postupnosti  $\{a_n\}_{n=1}^{\infty}$ , ak pre všetky  $n \in N$  platí: ♣

- |  |  |                                    |                              |
|--|--|------------------------------------|------------------------------|
| a) $a_n = \frac{n-1}{n+1}$ ,           | b) $a_n = \frac{n+3}{2n-1}$ ,              | c) $a_n = \frac{n^2+n}{n^2+1}$ ,   | d) $a_n = \frac{n^2}{n+1}$ , |
| e) $a_n = n^2 - 1$ ,                   | f) $a_n = n^2 - n$ ,                       | g) $a_n = \frac{1}{n^3+1}$ ,       | h) $a_n = (-n)^{n-2}$ ,      |
| i) $a_n = \frac{n+(-1)^n}{n-(-1)^n}$ , | j) $a_n = \frac{n}{n+1} - \frac{n+1}{n}$ , | k) $a_n = \frac{n^4-n+1}{n^4+1}$ . | l) $a_n = n^{n-2}$ ,         |

**2.3.2. N3.02** Zistite množinu hromadných hodnôt postupnosti  $\{a_n\}_{n=1}^{\infty}$ , ak: ♣

- $a_n = \frac{2}{n+3}$  pre  $n$  nepárne a  $a_n = 3^{-n}$  pre  $n$  párne,
- $a_n = \frac{n+1}{n-1}$  pre  $n$  nepárne a  $a_n = \frac{3^n}{1+3^n}$  pre  $n$  párne,
- $a_n = 1 + 3^{-n}$  pre  $n$  nepárne a  $a_n = \frac{n}{n+1}$  pre  $n$  párne,
- $a_n = \frac{n}{2n+3}$  pre  $n$  nepárne a  $a_n = \frac{2n+3}{n}$  pre  $n$  párne.

**2.3.3. N3.03** Zistite, či postupnosť  $\{a_n\}_{n=1}^{\infty}$  konverguje a postupnosť  $\{b_n\}_{n=1}^{\infty}$  diverguje. Zistite, aké sú postupnosti  $\{a_n \pm b_n\}_{n=1}^{\infty}$ ,  $\{a_n b_n\}_{n=1}^{\infty}$ ,  $\left\{\frac{a_n}{b_n}\right\}_{n=1}^{\infty}$ ,  $\left\{\frac{b_n}{a_n}\right\}_{n=1}^{\infty}$ ,  $\left\{\frac{1}{a_n b_n}\right\}_{n=1}^{\infty}$ . Uveďte príklady takýchto postupností. ♣

**2.3.4.** ~~P-3-10~~ ~~C-3-10~~ Predpokladajme, že obe postupnosti  $\{a_n\}_{n=1}^{\infty}$ ,  $\{b_n\}_{n=1}^{\infty}$  divergujú. Zistite, aké sú postupnosti  $\{a_n \pm b_n\}_{n=1}^{\infty}$ ,  $\{a_n b_n\}_{n=1}^{\infty}$ ,  $\left\{\frac{a_n}{b_n}\right\}_{n=1}^{\infty}$ ,  $\left\{\frac{1}{a_n b_n}\right\}_{n=1}^{\infty}$ . Uveďte príklady takýchto postupností. ♣

**2.3.5.** ~~N-3-01~~ ~~C-3-01~~ Uveďte postupnosti  $\{a_n\}_{n=1}^{\infty}$ ,  $\{b_n\}_{n=1}^{\infty}$ , pre ktoré platí: ♣

- a)  $\lim_{n \rightarrow \infty} a_n b_n = 0$ ,  $\lim_{n \rightarrow \infty} a_n \neq 0$ ,  $\lim_{n \rightarrow \infty} b_n \neq 0$ ,  
 b)  $\lim_{n \rightarrow \infty} a_n = \lim_{n \rightarrow \infty} b_n = 0$ ,  $\lim_{n \rightarrow \infty} \frac{a_n}{b_n} \neq 1$ ,  
 c)  $\lim_{n \rightarrow \infty} \frac{a_n}{b_n} = 1$ ,  $\lim_{n \rightarrow \infty} (a_n - b_n) \neq 0$ ,  
 d)  $\lim_{n \rightarrow \infty} a_n = \lim_{n \rightarrow \infty} b_n = 0$ ,  $\lim_{n \rightarrow \infty} a_n b_n = \infty$ .

**2.3.6.** ~~D-3-07~~ ~~C-3-07~~ Dokážte, že postupnosť  $\{a_n\}_{n=1}^{\infty}$  zadaná rekurentne vzťahmi  $a_{n+1} = 1 + a_n - n$ ,  $a_1 = 1$  je nerastúca a ohraničená zhora. Určte a dokážte všeobecný vzorec pre člen  $a_n$ ,  $n \in \mathbb{N}$  a vypočítajte  $\lim_{n \rightarrow \infty} a_n$ . ♣

**2.3.7.** ~~N-3-06~~ ~~C-3-06~~ Uveďte rekurentné vyjadrenie člena  $a_n$ ,  $n \in \mathbb{N}$  postupnosti  $\{a_n\}_{n=1}^{\infty}$ : ♣

- a)  $\{2^n + 3\}_{n=1}^{\infty}$ ,  
 b)  $\{1 + (-1)^n\}_{n=1}^{\infty}$ ,  
 c)  $\{1 - n\}_{n=1}^{\infty}$ ,  
 d)  $\left\{\frac{1}{n}\right\}_{n=1}^{\infty}$ .

**2.3.8.** ~~N-3-07~~ ~~C-3-07~~ Uveďte všeobecný vzorec pre  $n$ -tý člen postupnosti  $\{a_n\}_{n=1}^{\infty}$  zadanej rekurentne: ♣

- a)  $a_1 = 1$ ,  $a_{n+1} = a_n + 1$ ,  
 b)  $a_1 = 1$ ,  $a_{n+1} = -a_n$ ,  
 c)  $a_1 = 1$ ,  $a_{n+1} = 2(n+1)a_n$ ,

**2.3.9.** ~~N-3-08~~ ~~C-3-08~~ Uveďte množiny hromadných hodnôt nasledujúcich postupností: ♣

- a)  $\{(-1)^n \sqrt[n]{n}\}_{n=1}^{\infty}$ ,  
 b)  $\{(-n)^{-n}\}_{n=1}^{\infty}$ ,  
 c)  $\{(-1)^n\}_{n=1}^{\infty}$ ,  
 d)  $\{n^{-2n}\}_{n=1}^{\infty}$ ,  
 e)  $\{n + (-1)^n\}_{n=1}^{\infty}$ ,  
 f)  $\{(-n)^n\}_{n=1}^{\infty}$ ,  
 g)  $\{(-1)^n(\sqrt{n^2+1} - n)\}_{n=1}^{\infty}$ .

**2.3.10.** ~~N-3-08~~ ~~C-3-08~~ Začiatku pokusu v čase  $t_0 = 0$  bolo v skúmavke  $n_0$  baktérií. Ich počet po  $t$  minútach je určený vzťahom  $n_t = n_0 k^t$ , kde  $k$  je nejaká konštanta. Na konci druhej minúty bolo v skúmavke  $n_2 = 5000$  baktérií a na konci piatej minúty ich bolo  $n_5 = 625000$ . Koľko baktérií bolo v skúmavke na začiatku pokusu? ♣

**2.3.11.** ~~N-3-10~~ ~~C-3-10~~  $\{S_n\}_{n=1}^{\infty}$  je postupnosť štvorcov, kde  $S_1$  je štvorec so stranou  $a_1 = a > 0$  a pre  $n \in \mathbb{N}$ ,  $n \geq 2$  má štvorec  $S_n$  vrcholy umiestnené v stredoch strán štvorca  $S_{n-1}$ . ♣

- a) Určte všeobecný vzorec pre dĺžku strany  $a_n$  štvorca  $S_n$ ,  $n \in \mathbb{N}$ .  
 b) Určte súčet obvodov štvorcov  $S_n$ .  
 c) Určte súčet obsahov štvorcov  $S_n$ .

**2.3.12.** ~~P-3-11~~ ~~C-3-11~~ Aké  $a \in \mathbb{R}$  konverguje postupnosť  $\{a_n\}_{n=1}^{\infty}$ , kde  $a_n = \frac{n+1}{n}$  pre  $n$  párne a  $a_n = \frac{1-an}{2n+1}$  pre  $n$  nepárne. ♣

**2.3.13.** ~~D-3-12~~ ~~C-3-12~~ Ktoré z nasledujúcich rekurentne zadaných postupností konvergujú: ♣

- a)  $a_0 = 1$ ,  $a_{n+1} = \sqrt{\sqrt{a_n} + 1}$ ,  
 b)  $a_0 = 11$ ,  $a_{n+1} = \sqrt{a_n + 5}$ ,  
 c)  $a_0 = 2$ ,  $a_{n+1} = \frac{a_n^2 + 1}{2}$ ,  
 d)  $a_0 = 1$ ,  $a_{n+1} = \frac{a_n^2 + 1}{2}$ ,  
 e)  $a_0 = 0$ ,  $a_{n+1} = e^{1-a_n}$ ,  
 f)  $a_0 = 2$ ,  $a_{n+1} = e^{1-a_n}$ ,

**2.3.14.** ~~V-3-13~~ ~~C-3-13~~ Vypočítajte  $\lim_{n \rightarrow \infty} a_n$ , kde postupnosť  $\{a_n\}_{n=1}^{\infty}$  je rekurentne zadaná vzťahmi: ♣

- a)  $a_{n+1} = \sqrt{a_n + 2}$ ,  $a_0 > 0$ ,  
 b)  $a_{n+1} = \sqrt{a_n + 12}$ ,  $a_0 > 0$ ,  
 c)  $a_{n+1} = \sqrt{a_n + 20}$ ,  $a_0 > 0$ ,  
 d)  $a_{n+1} = \frac{a_n^2 + 1}{2}$ ,  $a_0 \in \langle -1; 1 \rangle$ ,  
 e)  $a_{n+1} = e^{1-a_n}$ ,  $a_0 \in \mathbb{R}$ .  
 f)  $a_{n+1} = \frac{a_n^2 + 4}{4}$ ,  $a_0 \in \langle -1; 1 \rangle$ ,  
 g)  $a_{n+1} = \frac{a_n}{2+a_n}$ ,  $a_0 > 0$ ,  
 h)  $a_{n+1} = 1 + \frac{1}{a_n}$ ,  $a_0 = 1$ ,

**2.3.15.** ~~D-3-14~~ ~~D-3-14~~  $\liminf_{n \rightarrow \infty} a_n$  a  $\limsup_{n \rightarrow \infty} a_n$ , ak pre všetky  $n \in N$  platí: ♣

a)  $a_n = \frac{n \sin n!}{n^2+1}$ ,      b)  $a_n = \frac{n \cos n!}{n^2+1}$ ,      c)  $a_n = \frac{n \sin n!}{n^2-1}$ ,      d)  $a_n = \frac{n \cos n!}{n^2-1}$ .

**2.3.16.** ~~D-3-15~~ ~~D-3-15~~ limity nasledujúcich postupností, t. j. vyjadrite periodické čísla ako zlomky: ♣

a)  $\{0, 1; 0, 13; 0, 135; 0, 1355; \dots\}$ ,      b)  $\{0, 5; 0, 53; 0, 533; 0, 5333; \dots\}$ ,  
 c)  $\{0, 9; 0, 99; 0, 999; 0, 9999; \dots\}$ ,      d)  $\{0, 5; 0, 50; 0, 505; 0, 5050; \dots\}$ ,  
 e)  $\{0, 6; 0, 66; 0, 666; 0, 6666; \dots\}$ ,      f)  $\{0, 1; 0, 12; 0, 121; 0, 1212; \dots\}$ .

**2.3.17.** ~~D-3-16~~ ~~D-3-16~~  $a \in R$  tak, aby nasledujúce limity boli vlastné: ♣

a)  $\lim_{n \rightarrow \infty} \frac{n^a+5}{1+n^3}$ ,      b)  $\lim_{n \rightarrow \infty} \left[ a + \frac{1}{n} \right]^n$ ,      c)  $\lim_{n \rightarrow \infty} \left[ \frac{a+1}{3} \right]^n$ ,      d)  $\lim_{n \rightarrow \infty} \frac{1-a^n}{1+a^n}$ .

**2.3.18.** ~~D-3-17~~ ~~D-3-17~~ nájdite všetky čísla  $a, b \in R$  tak, aby platilo: ♣

a)  $\lim_{n \rightarrow \infty} \left[ \frac{n}{n+2} + an + b \right] = 0$ ,      b)  $\lim_{n \rightarrow \infty} \left[ \frac{n^2}{n+2} + an + b \right] = 0$ ,  
 c)  $\lim_{n \rightarrow \infty} \left[ \frac{n^a}{n^2+1} + bn \right] = 0$ ,      d)  $\lim_{n \rightarrow \infty} \left[ \frac{n^2}{n^a+1} + bn \right] = 0$ ,

**2.3.19.** ~~N-3-18~~ ~~N-3-18~~  $a_1 = 1$ ,  $a_n = \sqrt{1 + \sqrt{2 + \dots + \sqrt{n}}}$ ,  $n \in N$ . Dokážte, že  $\{a_n\}_{n=1}^{\infty}$  konverguje.

**2.3.20.** ~~N-3-19~~ ~~N-3-19~~  $a \in R$ ,  $a \geq 0$ . Vypočítajte limitu nasledujúcich postupností: ♣

a)  $\left\{ \sqrt{2}, \sqrt{\sqrt{2}}, \sqrt{\sqrt{\sqrt{2}}}, \dots \right\}$ ,      b)  $\left\{ \sqrt{2}, \sqrt{2 + \sqrt{2}}, \sqrt{2 + \sqrt{2 + \sqrt{2}}}, \dots \right\}$ ,  
 c)  $\left\{ \sqrt[3]{a}, \sqrt[3]{\sqrt[3]{a}}, \sqrt[3]{\sqrt[3]{\sqrt[3]{a}}}, \dots \right\}$ ,      d)  $\left\{ \sqrt{a}, \sqrt{a + \sqrt{a}}, \sqrt{a + \sqrt{a + \sqrt{a}}}, \dots \right\}$ .

**2.3.21.** ~~V-3-20~~ ~~V-3-20~~ nájdajte nasledujúce limity: ♣

a)  $\lim_{n \rightarrow \infty} \frac{1+2+3+4+5+\dots+n}{\sqrt{9n^4+1}}$ ,      b)  $\lim_{n \rightarrow \infty} \frac{1^2+2^2+3^2+\dots+n^2}{n^3}$ ,      c)  $\lim_{n \rightarrow \infty} \frac{n^2+1}{n^2-1}$ ,      d)  $\lim_{n \rightarrow \infty} \frac{(n+1)^2}{n^2+1}$ ,  
 e)  $\lim_{n \rightarrow \infty} \frac{1^2+3^2+5^2+\dots+(2n-1)^2}{n^3}$ ,      f)  $\lim_{n \rightarrow \infty} \frac{1+3+5+\dots+(2n-1)}{1+2+3+\dots+n}$ ,      g)  $\lim_{n \rightarrow \infty} \frac{5n^2}{1-n^2}$ ,      h)  $\lim_{n \rightarrow \infty} \frac{2n}{n^2+1}$ .

**2.3.22.** ~~V-3-21~~ ~~V-3-21~~ nájdajte nasledujúce limity: ♣

a)  $\lim_{n \rightarrow \infty} \frac{n^4-n+1}{2n^2+1}$ ,      b)  $\lim_{n \rightarrow \infty} \frac{n^4-n+1}{2n^4+1}$ ,      c)  $\lim_{n \rightarrow \infty} \frac{n^4-n+1}{2n^6+1}$ ,  
 d)  $\lim_{n \rightarrow \infty} \left[ \frac{n^2}{n+2} - \frac{n^2}{n+3} \right]$ ,      e)  $\lim_{n \rightarrow \infty} \left[ \frac{2n^2}{n+2} - 2n \right]$ ,      f)  $\lim_{n \rightarrow \infty} \frac{5n^2-3n+2}{3n^2-n+1}$ ,  
 g)  $\lim_{n \rightarrow \infty} \left[ n - \frac{n^2}{n+1} \right]$ ,      h)  $\lim_{n \rightarrow \infty} \frac{n^4-3n^2+2}{n^2+1}$ ,      i)  $\lim_{n \rightarrow \infty} \left[ \frac{n^2}{n-1} - \frac{n^2+1}{n+3} \right]$ .

**2.3.23.** ~~V-3-22~~ ~~V-3-22~~ nájdajte nasledujúce limity: ♣

a)  $\lim_{n \rightarrow \infty} \frac{1-\sqrt{n}}{1+\sqrt{n}}$ ,      b)  $\lim_{n \rightarrow \infty} \frac{n+3^n}{n-3^n}$ ,      c)  $\lim_{n \rightarrow \infty} \frac{n^2}{3^{n+1}}$ ,      d)  $\lim_{n \rightarrow \infty} \frac{n-\sqrt{n}}{n-1}$ ,  
 e)  $\lim_{n \rightarrow \infty} \frac{3^n-n}{n^4}$ ,      f)  $\lim_{n \rightarrow \infty} \frac{n+(-1)^n}{n-(-1)^n}$ ,      g)  $\lim_{n \rightarrow \infty} \frac{n^2}{1+n\sqrt{n}}$ ,      h)  $\lim_{n \rightarrow \infty} \frac{\sqrt[3]{n^2+1}}{n+1}$ ,  
 i)  $\lim_{n \rightarrow \infty} \frac{\sqrt[3]{n^2+n}}{n-2}$ ,      j)  $\lim_{n \rightarrow \infty} \frac{n}{\sqrt{n^2+1}}$ ,      k)  $\lim_{n \rightarrow \infty} \frac{(-1)^n}{2n+1}$ ,      l)  $\lim_{n \rightarrow \infty} \frac{3^{n+1}}{n!+1}$ ,  
 m)  $\lim_{n \rightarrow \infty} \frac{4^n n!}{(3n)^n}$ ,      n)  $\lim_{n \rightarrow \infty} \sqrt[n]{\frac{5n+1}{n+5}}$ ,      o)  $\lim_{n \rightarrow \infty} \left[ \frac{n-1}{n+1} \right]^n$ ,      p)  $\lim_{n \rightarrow \infty} \left[ \frac{n-3}{n} \right]^{\frac{n}{2}}$ ,  
 q)  $\lim_{n \rightarrow \infty} \left[ \frac{2n-1}{2n+1} \right]^n$ ,      r)  $\lim_{n \rightarrow \infty} \left[ 1 - \frac{5}{n} \right]^n$ ,      s)  $\lim_{n \rightarrow \infty} \left[ 1 - \frac{1}{3n} \right]^n$ ,      t)  $\lim_{n \rightarrow \infty} \left[ \frac{n+6}{n+5} \right]^n$ .

2.3.24. **2.3.24.** Vypočítajte nasledujúce limity: ♣

$$\begin{array}{lll} \text{a) } \lim_{n \rightarrow \infty} \frac{(-2)^n + 3^n}{(-2)^{n+1} + 3^{n+1}}, & \text{b) } \lim_{n \rightarrow \infty} \frac{(n+4)! - (n+2)!}{(n+3)!}, & \text{c) } \lim_{n \rightarrow \infty} \frac{\left(\frac{1}{2}\right)^n}{\left(\frac{1}{4}\right)^n - \left(\frac{1}{3}\right)^n}, \\ \text{d) } \lim_{n \rightarrow \infty} \frac{\sqrt{n}}{\sqrt{n+\sqrt{n+\sqrt{n}}}}, & \text{e) } \lim_{n \rightarrow \infty} \frac{\sqrt{n+1}}{\sqrt{n+\sqrt{n+\sqrt{n}}}}, & \text{f) } \lim_{n \rightarrow \infty} \frac{\sqrt{n} + \sqrt[3]{n} + \sqrt[4]{n}}{\sqrt{2n+1}}, \\ \text{g) } \lim_{n \rightarrow \infty} \frac{(n+1)(n+2)(n+3)(n+4)}{n^5+1}, & \text{h) } \lim_{n \rightarrow \infty} \frac{\sqrt{n^2-1} + \sqrt{n^2+1}}{n}. \end{array}$$

2.3.25. **2.3.25.**  $a, b \in R, b \geq a > 0$ . Vypočítajte nasledujúce limity: ♣

$$\text{a) } \lim_{n \rightarrow \infty} \frac{a^n + b^n}{a^{n+1} + b^{n+1}}, \quad \text{b) } \lim_{n \rightarrow \infty} \frac{a^n - b^n}{a^{n+1} - b^{n+1}}, \quad \text{c) } \lim_{n \rightarrow \infty} \left[ \frac{\sqrt[n]{a} + \sqrt[n]{b}}{2} \right]^n.$$

2.3.26. **2.3.26.**  $a \in R$ . Vypočítajte nasledujúce limity: ♣

$$\begin{array}{llll} \text{a) } \lim_{n \rightarrow \infty} \frac{a}{a^n+1}, & \text{b) } \lim_{n \rightarrow \infty} \frac{a^n}{a^n+1}, & \text{c) } \lim_{n \rightarrow \infty} \frac{a^n}{a^{2n}+1}, & \text{d) } \lim_{n \rightarrow \infty} \left[ \frac{a+3}{2} \right]^n, \\ \text{e) } \lim_{n \rightarrow \infty} \left[ a + \frac{1}{n} \right]^n, & \text{f) } \lim_{n \rightarrow \infty} a^2 \sqrt{\frac{n-a}{n}}, & \text{g) } \lim_{n \rightarrow \infty} \left[ \frac{n-a}{n+a} \right]^n, & \text{h) } \lim_{n \rightarrow \infty} \frac{a^n}{1-3^n}. \end{array}$$

2.3.27. **2.3.27.**  $a, b \in R$ . Vypočítajte nasledujúce limity: ♣

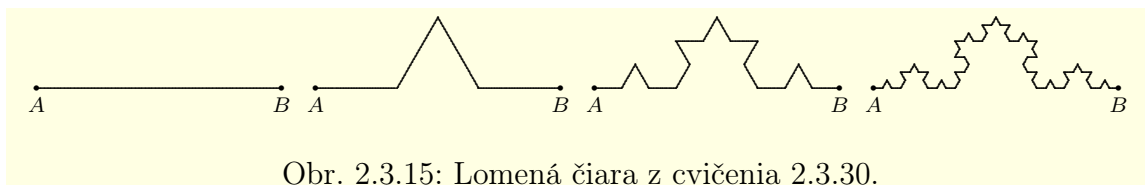
$$\begin{array}{lll} \text{a) } \lim_{n \rightarrow \infty} [\sqrt{n+a} - \sqrt{n}], & \text{b) } \lim_{n \rightarrow \infty} [\sqrt{n} - \sqrt{n-a}], & \text{c) } \lim_{n \rightarrow \infty} [\sqrt{n(n-a)} - n], \\ \text{d) } \lim_{n \rightarrow \infty} [\sqrt{n^2+1} - n], & \text{e) } \lim_{n \rightarrow \infty} [\sqrt{n^2+n} - n], & \text{f) } \lim_{n \rightarrow \infty} [\sqrt{n+1} - n], \\ \text{g) } \lim_{n \rightarrow \infty} [n - \sqrt{n^2-1}], & \text{h) } \lim_{n \rightarrow \infty} [\sqrt[3]{n^3-1} - n], & \text{i) } \lim_{n \rightarrow \infty} n [\sqrt{n^2+1} - n], \\ \text{j) } \lim_{n \rightarrow \infty} \left[ \frac{an^2}{n+1} - \frac{bn^2}{n-1} \right], & \text{k) } \lim_{n \rightarrow \infty} \left[ \frac{n^2}{n-a} - \frac{n^2}{n-b} \right], & \text{l) } \lim_{n \rightarrow \infty} \frac{n^2 - an^2 + 3n}{n+5}. \end{array}$$

2.3.28. **2.3.28.**  $a, b \in R$ . Vypočítajte nasledujúce limity: ♣

$$\begin{array}{ll} \text{a) } \lim_{n \rightarrow \infty} \left[ \sqrt[3]{(n+1)^2} - \sqrt[3]{(n-1)^2} \right], & \text{b) } \lim_{n \rightarrow \infty} [3n - \sqrt{9n^2 - 10n + 1}], \\ \text{c) } \lim_{n \rightarrow \infty} \left[ \sqrt[3]{n^3 + n + 1} - \sqrt[3]{n^3 - n + 1} \right], & \text{d) } \lim_{n \rightarrow \infty} \left[ \sqrt[3]{n^3 + n^2 + 1} - \sqrt[3]{n^3 - n^2 + 1} \right], \\ \text{e) } \lim_{n \rightarrow \infty} \left[ \sqrt{(n-a)(n-b)} - n \right], & \text{f) } \lim_{n \rightarrow \infty} \left[ \sqrt{n + \sqrt{n+1}} - \sqrt{n - \sqrt{n+1}} \right]. \end{array}$$

2.3.29. **2.3.29.**  $a, b \in R, a \geq b \geq 0$ . Vypočítajte nasledujúce limity: ♣

$$\begin{array}{llll} \text{a) } \lim_{n \rightarrow \infty} [2\sqrt[n]{a}]^n, & \text{b) } \lim_{n \rightarrow \infty} \sqrt[n]{1+a^n}, & \text{c) } \lim_{n \rightarrow \infty} \sqrt[n]{a^n+b^n}, & \text{d) } \lim_{n \rightarrow \infty} na^n, \\ \text{e) } \lim_{n \rightarrow \infty} n^2 [\sqrt[n]{a} - \sqrt[n+1]{a}], & \text{f) } \lim_{n \rightarrow \infty} \frac{[n\sqrt[n]{a}-1]^2}{[n\sqrt[n]{b}-1]^2}, & \text{g) } \lim_{n \rightarrow \infty} n \left[ \sqrt[n]{a} - \sqrt[n]{b} \right]. \end{array}$$



Obr. 2.3.15: Lomená čiara z cvičenia 2.3.30.

2.3.30. **2.3.30.** Na obrázku 2.3.15 je znázornený postup konštrukcie lomenej čiary, ktorá vznikne z úsečky  $AB$ . Každá jednotlivá úsečka sa postupne rozdelí na tri rovnaké časti, pričom stredná časť sa zväčší na dvojnásobok (dve strany rovnostranného trojuholníka). Tento proces sa opakuje do nekonečna. Vypočítajte dĺžku lomenej čiary, ak  $|AB| = 1$ . ♣



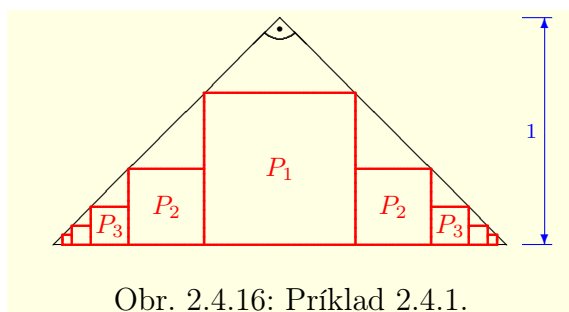
## 2.4 Číselné rady

### 2.4.1 Základné pojmy

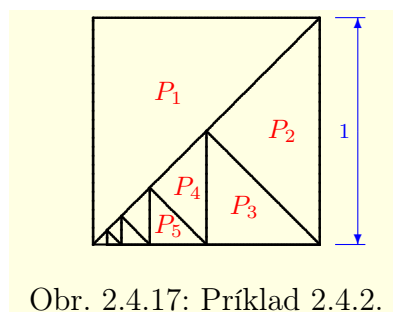
Číselné rady úzko súvisia s číselnými postupnosťami a zovšeobecňujú pojem spočítavania konečného počtu sčítancov na nekonečný počet. S problémom spočítať nekonečne veľa členov sa zaoberal už starogrécky matematik *Archimedes* [asi 287–212 pred n.l.] pri výpočte obsahu výseku paraboly.

S výrazmi, ktoré obsahujú nekonečne veľa sčítancov sa nepriamo stretávame už v základnej škole. Jednoduchým príkladom sú zlomky. Napríklad číslo  $10/3 = \frac{10}{3}$  môžeme vyjadriť v tvare periodického čísla  $3, \bar{3} = 3,333333\dots$ , resp. v tvare nekonečného počtu sčítancov

$$\frac{10}{3} = 3 + \frac{3}{10} + \frac{3}{10^2} + \frac{3}{10^3} + \frac{3}{10^4} + \dots + \frac{3}{10^n} + \dots$$



Obr. 2.4.16: Príklad 2.4.1.



Obr. 2.4.17: Príklad 2.4.2.

S výrazmi ktoré obsahujú súčet nekonečného počtu čísel sa môžeme stretnúť aj v geometrii. Ilustrujú to nasledujúce príklady.

#### Príklad 2.4.1.K2-pr68

Uvažujme rovnoramenný pravouhlý trojuholník  $T$  (obr. 2.4.16) s preponou dlhou 2. Výška trojuholníka  $T$  má dĺžku 1 a odvesny  $\sqrt{2}$ . Obsah trojuholníka  $T$  je určený vzťahmi

$$P = \frac{2 \cdot 1}{2} = 1, \quad \text{resp.} \quad P = \frac{\sqrt{2} \cdot \sqrt{2}}{2} = 1.$$

Uvažujme (nekonečnú) postupnosť štvorcov vpísaných do trojuholníka  $T$  tak, ako to vidíme na obrázku 2.4.16. Prvý štvorec má stranu dlhú  $\frac{2}{3}$  a jeho obsah je  $P_1 = \frac{4}{9}$ . Druhý štvorec (sú dva) má stranu polovičnej dĺžky ako prvý štvorec a jeho obsah je  $P_2 = \frac{P_1}{4}$ . Tretí štvorec (sú dva) má stranu polovičnej dĺžky ako druhý štvorec a jeho obsah je  $P_3 = \frac{P_2}{4} = \frac{P_1}{4^2}$ . Takto pokračujeme pre všetky  $n \in \mathbb{N}$ .

Je zrejmé, že súčet obsahov jednotlivých štvorcov je menší ako obsah trojuholníka  $T$ , t. j.

$$1 = P > P_1 + 2P_2 + \dots + 2P_n + \dots = P_1 + \frac{2P_1}{4} + \frac{2P_1}{4^2} + \dots + \frac{2P_1}{4^{n-1}} + \dots \blacksquare$$

#### Príklad 2.4.2.K2-pr69

Nech  $S$  je štvorec so stranou dlhou 1. Jeho obsah  $P$  sa rovná číslu  $1^2 = 1$ .

Štvorec  $S$  rozdelíme uhlopriečkou na dva zhodné pravouhlé trojuholníky. Obsah jedného z nich označíme  $P_1$  a druhý rozdelíme na dva zhodné pravouhlé trojuholníky. Obsah jedného z nich označíme  $P_2$  a druhý opäť rozdelíme na dva zhodné pravouhlé trojuholníky. Takto budeme pokračovať pre všetky  $n \in \mathbb{N}$  (obr. 2.4.17).

Je zrejmé, že tieto trojuholníky pokryjú celý štvorec  $S$ , t. j. súčet ich obsahov je rovný číslu  $P = 1$ . Každý nasledujúci trojuholník má obsah rovný polovici obsahu predchádzajúceho trojuholníka. Obsah prvého je  $P_1 = \frac{P}{2} = \frac{1}{2}$ . To znamená, že platí:

$$1 = P = P_1 + \frac{P_1}{2} + \frac{P_1}{2^2} + \dots + \frac{P_1}{2^n} + \dots = \frac{1}{2} + \frac{1}{2^2} + \dots + \frac{1}{2^n} + \dots \blacksquare$$

Nech  $\{a_n\}_{n=1}^{\infty}$  je číselná postupnosť, potom **nekonečným číselným radom** (**nekonečným radom čísel**) vytvoreným z postupnosti  $\{a_n\}_{n=1}^{\infty}$  nazývame výraz

$$a_1 + a_2 + a_3 + \cdots + a_n + \cdots .$$

Stručne ho nazývame **rad (číselný rad)** a označujeme symbolom

$$\sum_{n=1}^{\infty} a_n = a_1 + a_2 + a_3 + \cdots + a_n + \cdots .$$

Čísla  $a_1, a_2, \dots$  nazývame **členy radu**  $\sum_{n=1}^{\infty} a_n$ , pričom  $a_n$  sa nazýva  **$n$ -tý člen**.<sup>25</sup>

#### Poznámka 2.4.1.K2-poz91

Číselné rady a postupnosti úzko súvisia. Rad je jednoznačne určený postupnosťou. To znamená, že rad môžeme zadať **všeobecným vyjadrením (explicitne)** každého člena  $a_n, n \in N$  alebo **rekurentným vyjadrením** prvého člena a členov  $a_n, n \in N$ .

Napríklad rad  $\sum_{n=1}^{\infty} 2^n$  je explicitne zadaný vzorcom  $a_n = 2^n, n \in N$  a rekurentne je zadaný vzťahmi  $a_1 = 2, a_{n+1} = 2a_n, n \in N$ .

#### Poznámka 2.4.2.K2-poz92

Pre spočítavanie nekonečného počtu sčítancov neplatia všetky pravidlá platné pri konečných počtoch sčítancov. Napríklad, ak aplikujeme asociatívny zákon na číselný rad  $\sum_{n=1}^{\infty} (-1)^{n+1} = 1 - 1 + 1 - 1 + \cdots$ , dostaneme spor

$$\sum_{n=1}^{\infty} (-1)^{n+1} = \begin{cases} (1 - 1) + (1 - 1) + (1 - 1) + \cdots = 0 + 0 + 0 + \cdots = 0, \\ 1 + (-1 + 1) + (-1 + 1) + \cdots = 1 + 0 + 0 + \cdots = 1. \end{cases}$$

Neskôr (pri prerovnaní radu) ukážeme, že neplatí ani komutatívny zákon.

Nech  $\sum_{n=1}^{\infty} a_n$  je číselný rad a nech  $k \in N$  je ľubovoľné. Potom konečný súčet

$$s_k = a_1 + a_2 + \cdots + a_k = \sum_{n=1}^k a_n$$

nazývame  **$k$ -tým čiastočným súčtom radu**  $\sum_{n=1}^{\infty} a_n$  a nekonečný súčet

$$r_k = a_{k+1} + a_{k+2} + a_{k+3} + \cdots = \sum_{n=k+1}^{\infty} a_n = \sum_{n=1}^{\infty} a_{k+n}$$

nazývame  **$k$ -tým zvyškom radu**  $\sum_{n=1}^{\infty} a_n$ . Postupnosť

$$\{s_n\}_{n=1}^{\infty} = \{a_1 + \cdots + a_n\}_{n=1}^{\infty}$$

nazývame **postupnosť čiastočných súčtov radu**  $\sum_{n=1}^{\infty} a_n$ .

#### Poznámka 2.4.3.K2-poz94

Z definície vyplýva, že pre všetky  $k \in N$  platí:

$$\sum_{n=1}^{\infty} a_n = \sum_{n=1}^k a_n + \sum_{n=k+1}^{\infty} a_n = \sum_{n=1}^k a_n + \sum_{n=1}^{\infty} a_{k+n} = s_k + r_k.$$

<sup>25</sup>Ak chápeme  $n \in N$  ako premennú, potom  $a_n$  predstavuje  $n$ -tý všeobecný člen radu.

**Poznámka 2.4.4.K2-poz93**

Vzťah medzi radom  $\sum_{n=1}^{\infty} a_n$  a jeho postupnosťou čiastočných súčtov  $\{s_n\}_{n=1}^{\infty}$  je vzájomne jednoznačný.

Postupnosť  $\{s_n\}_{n=1}^{\infty}$  je pre  $n \in \mathbb{N}$  jednoznačne určená vzťahmi

$$s_1 = a_1, \quad s_2 = a_1 + a_2 = s_1 + a_2, \quad \dots, \quad s_n = a_1 + \dots + a_{n-1} + a_n = s_{n-1} + a_n, \quad \dots$$

Ak položíme  $s_0 = 0$ , potom je rad  $\sum_{n=1}^{\infty} a_n$  pre  $n \in \mathbb{N}$  jednoznačne určený vzťahmi

$$a_1 = s_1 = s_1 - s_0, \quad a_2 = s_2 - s_1, \quad \dots, \quad a_n = s_n - s_{n-1}, \quad \dots$$

Hovoríme, že rad  $\sum_{n=1}^{\infty} a_n$  **má súčet**  $s \in \mathbb{R}^*$  a zapisujeme

$$s = a_1 + a_2 + \dots + a_n + \dots = \sum_{n=1}^{\infty} a_n$$

práve vtedy, ak existuje  $\lim_{n \rightarrow \infty} s_n = s$ , t. j. platí  $\sum_{n=1}^{\infty} a_n = \lim_{n \rightarrow \infty} s_n = s$ .

Ak  $s \in \mathbb{R}$ , potom hovoríme, že **rad**  $\sum_{n=1}^{\infty} a_n$  **konverguje k číslu  $s$**  (je konvergentný k číslu  $s$ ) alebo stručne, že **rad konverguje (je konvergentný)**.

Ak rad nemá konečný súčet, potom hovoríme, že **rad diverguje (je divergentný)**. Ak  $s = \infty$  [resp.  $s = -\infty$ ], potom **rad diverguje do  $\infty$**  [resp. **do  $-\infty$** ] a píšeme

$$\sum_{n=1}^{\infty} a_n = \infty, \quad \left[ \text{resp. } \sum_{n=1}^{\infty} a_n = -\infty \right].$$

Ak rad súčet nemá, t. j. ak  $\lim_{n \rightarrow \infty} s_n$  neexistuje, potom hovoríme, že **rad osciluje**.

**Poznámka 2.4.5.K2-poz95**

Číselný rad  $\sum_{n=1}^{\infty} a_n$  buď konverguje alebo diverguje. Ak rad diverguje, potom buď osciluje alebo diverguje do  $\infty$  [resp. do  $-\infty$ ]. Je zrejme, že všetky tieto možnosti sa vylučujú.

**Príklad 2.4.3.K2-pr70**

- $\sum_{n=1}^{\infty} 0 = 0$ , pretože platí  $\{s_n\}_{n=1}^{\infty} = \{0\}_{n=1}^{\infty}$ ,  $\lim_{n \rightarrow \infty} s_n = 0$ .
- $\sum_{n=1}^{\infty} 1 = \infty$ , pretože platí  $\{s_n\}_{n=1}^{\infty} = \{n\}_{n=1}^{\infty}$ ,  $\lim_{n \rightarrow \infty} s_n = \infty$ .
- $\sum_{n=1}^{\infty} (-1) = -\infty$ , pretože platí  $\{s_n\}_{n=1}^{\infty} = \{-n\}_{n=1}^{\infty}$ ,  $\lim_{n \rightarrow \infty} s_n = -\infty$ .
- $\sum_{n=1}^{\infty} (-1)^n$  osciluje, pretože  $\{s_n\}_{n=1}^{\infty} = \{-1, 0, -1, 0, \dots\}$  a  $\lim_{n \rightarrow \infty} s_n$  neexistuje. ■

**Poznámka 2.4.6.K2-poz122**

Vo vete 2.3.19 sme vyšetřovali postupnosť čiastočných súčtov konvergentného radu

$$\sum_{n=1}^{\infty} \frac{1}{n!} = 1 + \frac{1}{2!} + \frac{1}{3!} + \frac{1}{4!} + \dots + \frac{1}{n!} + \dots = e.$$

**Príklad 2.4.4.K2-pr71**

Vypočítajte súčet radu  $\sum_{n=1}^{\infty} a_n = \sum_{n=1}^{\infty} \frac{1}{n(n+1)} = \frac{1}{1 \cdot 2} + \frac{1}{2 \cdot 3} + \frac{1}{3 \cdot 4} + \frac{1}{4 \cdot 5} + \dots$ .

**Riešenie.**

Nech  $n \in N$ , potom pre členy  $a_n$  platí:

$$a_n = \frac{1}{n(n+1)} = \frac{n+1-n}{n(n+1)} = \frac{n+1}{n(n+1)} - \frac{n}{n(n+1)} = \frac{1}{n} - \frac{1}{n+1}.$$

Potom  $n$ -tý čiastočný súčet tohto radu môžeme vyjadriť vzťahom

$$s_n = a_1 + a_2 + \dots + a_n = \left[ \frac{1}{1} - \frac{1}{2} \right] + \left[ \frac{1}{2} - \frac{1}{3} \right] + \dots + \left[ \frac{1}{n} - \frac{1}{n+1} \right] = 1 - \frac{1}{n+1}.$$

Z toho vyplýva  $\lim_{n \rightarrow \infty} s_n = \lim_{n \rightarrow \infty} \left[ 1 - \frac{1}{n+1} \right] = 1$ , t. j.  $\sum_{n=1}^{\infty} \frac{1}{n(n+1)} = 1$ . ■

**Príklad 2.4.5.K2-pr76**

Vypočítajte súčet radu  $\sum_{n=1}^{\infty} a_n = \sum_{n=1}^{\infty} \frac{1}{n(n+p)}$ , pričom  $p \in N$ .

**Riešenie.**

Nech  $n \in N$ , potom pre členy radu platí:

$$a_n = \frac{1}{n(n+p)} = \frac{1}{p} \cdot \frac{p}{n(n+p)} = \frac{1}{p} \cdot \frac{n+p-n}{n(n+p)} = \frac{1}{p} \left[ \frac{1}{n} - \frac{1}{n+p} \right].$$

Ak platí  $n > p$ , potom pre  $n$ -tý čiastočný súčet  $s_n$  tohto radu platí:

$$\begin{aligned} p s_n &= \left[ \frac{1}{1} - \frac{1}{1+p} \right] + \left[ \frac{1}{2} - \frac{1}{2+p} \right] + \dots + \left[ \frac{1}{p} - \frac{1}{p+p} \right] + \left[ \frac{1}{p+1} - \frac{1}{p+1+p} \right] + \dots \\ &\quad \dots + \left[ \frac{1}{n-p} - \frac{1}{n} \right] + \left[ \frac{1}{n-p+1} - \frac{1}{n+1} \right] + \dots + \left[ \frac{1}{n-1} - \frac{1}{n-1+p} \right] + \left[ \frac{1}{n} - \frac{1}{n+p} \right] = \\ &= \left[ 1 + \frac{1}{2} + \dots + \frac{1}{p} - \frac{1}{n+1} - \frac{1}{n+2} - \dots - \frac{1}{n+p-1} - \frac{1}{n+p} \right]. \end{aligned}$$

Z toho vyplýva  $\sum_{n=1}^{\infty} \frac{1}{n(n+p)} = \lim_{n \rightarrow \infty} s_n = \frac{1}{p} \left[ 1 + \frac{1}{2} + \dots + \frac{1}{p} \right]$ . ■

**Poznámka 2.4.7.K2-poz100**

Ak položíme  $p = 1$ , dostaneme rovnaký výsledok ako v príklade 2.4.4

$$\sum_{n=1}^{\infty} \frac{1}{n(n+1)} = \frac{1}{p} \left[ 1 + \frac{1}{2} + \dots + \frac{1}{p} \right] = \frac{1}{1} \cdot 1 = 1.$$

Pre  $p = 2$ ,  $p = 3$  dostaneme výsledky

$$\sum_{n=1}^{\infty} \frac{1}{n(n+2)} = \frac{1}{2} \left[ 1 + \frac{1}{2} \right] = \frac{1}{4}, \quad \sum_{n=1}^{\infty} \frac{1}{n(n+3)} = \frac{1}{3} \left[ 1 + \frac{1}{2} + \frac{1}{3} \right] = \frac{11}{18}.$$

V predchádzajúcich príkladoch sme členy radu  $\sum_{n=1}^{\infty} a_n$  rozložili na rozdiel dvoch členov nejakej postupnosti  $\{b_n\}_{n=1}^{\infty}$ . Tento poznatok zhrnieme do nasledujúcej vety.

**Veta 2.4.1.K2-veta122**

Nech existuje  $\{b_n\}_{n=1}^{\infty}$  taká, že pre všetky  $n \in N$  platí  $a_n = b_n - b_{n+p}$ , kde  $p \in N$ .

Ak existuje konečná  $\lim_{n \rightarrow \infty} b_n = b$ , potom  $\sum_{n=1}^{\infty} a_n = b_1 + b_2 + \dots + b_p - p \cdot b$ .

**Dôkaz.**

Ak  $n \in N$ ,  $n \geq p$ , potom pre  $n$ -tý čiastočný súčet radu  $\sum_{n=1}^{\infty} a_n$  platí:

$$\begin{aligned} s_n &= a_1 + a_2 + \cdots + a_p + a_{p+1} + \cdots + a_n = \\ &= (b_1 - b_{1+p}) + (b_2 - b_{2+p}) + \cdots + (b_p - b_{2p}) + (b_{p+1} - b_{2p+1}) + \cdots + (b_n - b_{n+p}) = \\ &= b_1 + b_2 + \cdots + b_p - b_{n+1} - b_{n+2} - \cdots - b_{n+p}. \end{aligned}$$

Keďže pre všetky  $p \in \mathbb{N}$  platí  $\lim_{n \rightarrow \infty} b_n = \lim_{n \rightarrow \infty} b_{n+1} = \cdots = \lim_{n \rightarrow \infty} b_{n+p} = b$ , potom

$$\begin{aligned} \sum_{n=1}^{\infty} a_n &= \lim_{n \rightarrow \infty} s_n = \lim_{n \rightarrow \infty} (b_1 + b_2 + \cdots + b_p - b_{n+1} - b_{n+2} - \cdots - b_{n+p}) = \\ &= b_1 + \cdots + b_p - \lim_{n \rightarrow \infty} b_{n+1} - \cdots - \lim_{n \rightarrow \infty} b_{n+p} = b_1 + \cdots + b_p - p \cdot b. \blacksquare \end{aligned}$$

### Príklad 2.4.6.K2-pr98

Vypočítajte súčet radu  $\sum_{n=1}^{\infty} a_n = \sum_{n=1}^{\infty} \frac{1}{(a+n)(a+n+1)\cdots(a+n+k)}$ , kde  $k \in \mathbb{N}$ ,  $a \geq 0$ .

#### Riešenie.

Pre všetky  $n \in \mathbb{N}$ ,  $k \in \mathbb{N}$ ,  $a \geq 0$  platí:

$$a_n = \frac{1}{k} \frac{a+n+k-a-n}{(a+n)(a+n+1)\cdots(a+n+k-1)(a+n+k)} = \frac{1}{k} \left[ \frac{1}{(a+n)\cdots(a+n+k-1)} - \frac{1}{(a+n+1)\cdots(a+n+k)} \right] = b_n - b_{n+1},$$

pričom  $b_n = \frac{1}{k} \frac{1}{(a+n)\cdots(a+n+k-1)}$ . Z toho vyplýva:

$$\lim_{n \rightarrow \infty} b_n = \lim_{n \rightarrow \infty} \frac{1}{k} \frac{1}{(a+n)(a+n+1)\cdots(a+n+k-1)} = \frac{1}{k} \frac{1}{\infty \cdots \infty} = 0.$$

Potom na základe vety 2.4.1 platí:

$$\sum_{n=1}^{\infty} a_n = b_1 - \lim_{n \rightarrow \infty} b_n = b_1 - 0 = \frac{1}{k} \frac{1}{(a+1)(a+2)\cdots(a+k)}.$$

Pre  $a = 0$  a pre  $k = 1$ ,  $k = 2$  dostaneme

$$\sum_{n=1}^{\infty} \frac{1}{n(n+1)\cdots(n+k)} = \frac{1}{k} \frac{1}{k!}, \quad \sum_{n=1}^{\infty} \frac{1}{n(n+1)} = 1, \quad \sum_{n=1}^{\infty} \frac{1}{n(n+1)(n+2)} = \frac{1}{4}. \blacksquare$$

### Príklad 2.4.7.K2-pr72

Vypočítajte súčet **harmonického radu**  $\sum_{n=1}^{\infty} \frac{1}{n} = 1 + \frac{1}{2} + \frac{1}{3} + \frac{1}{4} + \frac{1}{5} + \cdots$ .

#### Riešenie.

Postupnosť čiastočných súčtov  $\{s_n\}_{n=1}^{\infty}$  je rastúca a podľa vety 2.3.11 má limitu.

Pre prvé štyri členy vybranej postupnosti  $\{s_{2^n}\}_{n=1}^{\infty}$  platí:

$$\begin{aligned} s_1 &= s_{2^0} = 1 \geq 1 + \frac{0}{2}, \\ s_2 &= s_{2^1} = s_1 + \frac{1}{2} \geq 1 + \frac{0}{2} + \frac{1}{2} = 1 + \frac{1}{2}, \\ s_4 &= s_{2^2} = s_2 + \frac{1}{3} + \frac{1}{4} \geq 1 + \frac{1}{2} + \frac{1}{4} + \frac{1}{4} = 1 + \frac{1}{2} + \frac{1}{2} = 1 + \frac{2}{2}, \\ s_8 &= s_{2^3} = s_4 + \frac{1}{5} + \frac{1}{6} + \frac{1}{7} + \frac{1}{8} \geq 1 + \frac{2}{2} + \frac{1}{8} + \frac{1}{8} + \frac{1}{8} + \frac{1}{8} = 1 + \frac{2}{2} + \frac{4}{8} = 1 + \frac{3}{2}. \end{aligned}$$

Dokážeme, že pre všetky  $n \in \mathbb{N}$  platí  $s_{2^n} \geq 1 + \frac{n}{2}$ .

Použijeme matematickú indukciu. Pre  $s_1$  sme vzťah už dokázali.

Predpokladajme, že platí vzťah  $s_{2^k} \geq 1 + \frac{k}{2}$ . Potom pre  $s_{2^{k+1}}$  platí:

$$s_{2^{k+1}} = s_{2^k} + \frac{1}{2^{k+1}} + \frac{1}{2^{k+2}} + \cdots + \frac{1}{2^{k+1}} \geq 1 + \frac{k}{2} + \underbrace{\frac{1}{2^{k+1}} + \frac{1}{2^{k+1}} + \cdots + \frac{1}{2^{k+1}}}_{2^k - \text{krt}} = 1 + \frac{k}{2} + \frac{2^k}{2^{k+1}} = 1 + \frac{k+1}{2}.$$

Takže pre všetky  $n \in N$  platí  $s_{2^n} \geq 1 + \frac{n}{2}$ . Z toho vyplýva:

$$\lim_{n \rightarrow \infty} s_{2^n} \geq \lim_{n \rightarrow \infty} \left(1 + \frac{n}{2}\right) = \infty, \quad \text{t. j.} \quad \lim_{n \rightarrow \infty} s_{2^n} = \infty.$$

To znamená, že  $\lim_{n \rightarrow \infty} s_n = \infty$ , t. j. rad diverguje a platí  $\sum_{n=1}^{\infty} \frac{1}{n} = \infty$ . ■

### Príklad 2.4.8.K2-pr73

Nech  $q \in R$ . Vyšetrite konvergenciu **geometrického radu**  $\sum_{n=1}^{\infty} q^{n-1} = 1 + q + q^2 + \dots$ .

**Riešenie.**

Ak  $q = 1$ , potom  $\sum_{n=1}^{\infty} q^{n-1} = \sum_{n=1}^{\infty} 1 = \infty$ .

Ak  $q \neq 1$ , potom pre  $n$ -tý čiastočný súčet geometrického radu platí:

$$s_n = 1 + q + \dots + q^{n-1} = (q^{n-1} + \dots + q + 1) \frac{q-1}{q-1} = \frac{q^n - 1}{q-1}.$$

Potom na základe príkladu 2.3.20 o limite geometrickej postupnosti platí:

$$\lim_{n \rightarrow \infty} s_n = \lim_{n \rightarrow \infty} \frac{q^n - 1}{q-1} = \begin{cases} \nexists, & \text{pre } q \leq -1, \text{ t. j. osciluje,} \\ \frac{\infty - 1}{q-1} = \infty, & \text{pre } q > 1, \text{ t. j. diverguje do } \infty, \\ \frac{0-1}{q-1} = \frac{1}{1-q}, & \text{pre } q \in (-1; 1), \text{ t. j. konverguje.} \blacksquare \end{cases}$$

### Poznámka 2.4.8.K2-poz96

V príklade 2.4.8 sme použili rovnosť, ktorá pre  $a, b \in R$ ,  $n \in N$  má tvar

$$a^n - b^n = (a - b)(a^{n-1} + a^{n-2}b + \dots + ab^{n-2} + b^{n-1}).$$

### Príklad 2.4.9.K2-pr74

Vyšetrite konvergenciu číselného radu  $\sum_{n=1}^{\infty} \frac{1}{\sqrt{n}}$ .

**Riešenie.**

Nech  $n \in N$ , potom pre  $n$ -tý čiastočný súčet daného radu platí:

$$s_n = 1 + \frac{1}{\sqrt{2}} + \dots + \frac{1}{\sqrt{n}} > \frac{1}{\sqrt{n}} + \frac{1}{\sqrt{n}} + \dots + \frac{1}{\sqrt{n}} = \frac{n}{\sqrt{n}} = \sqrt{n}.$$

Z toho vyplýva  $\lim_{n \rightarrow \infty} s_n \geq \lim_{n \rightarrow \infty} \sqrt{n} = \infty$ , t. j.  $\sum_{n=1}^{\infty} \frac{1}{\sqrt{n}} = \infty$ . ■

## 2.4.2 Vlastnosti konvergentných radov

V tejto časti uvedieme niektoré základné vlastnosti číselných radov, ako aj niektoré kritéria na určovanie konvergentných, resp. divergentných radov.

### Veta 2.4.2 (Nutná podmienka konvergenzie radu).K2-veta96

Ak číselný rad  $\sum_{n=1}^{\infty} a_n$  konverguje, potom  $\lim_{n \rightarrow \infty} a_n = 0$ .

**Dôkaz.**

Platí  $\sum_{n=1}^{\infty} a_n = \lim_{n \rightarrow \infty} s_n = s \in R$ . Z toho pre všetky  $n \in N$  vyplýva  $a_n = s_n - s_{n-1}$ , t. j.

$$\lim_{n \rightarrow \infty} a_n = \lim_{n \rightarrow \infty} (s_n - s_{n-1}) = \lim_{n \rightarrow \infty} s_n - \lim_{n \rightarrow \infty} s_{n-1} = s - s = 0. \blacksquare$$

**Poznámka 2.4.9.K2-poz97**

Ako dokazujú príklady 2.4.7 a 2.4.9, tvrdenie v predchádzajúcej vete sa nedá obrátiť.

To znamená, že z podmienky  $\lim_{n \rightarrow \infty} a_n = 0$  nevyplýva konvergenciu radu  $\sum_{n=1}^{\infty} a_n$ .

**Dôsledok 2.4.2.a.K2-dosl31**

Ak nie je splnená podmienka  $\lim_{n \rightarrow \infty} a_n = 0$ , potom rad  $\sum_{n=1}^{\infty} a_n$  nekonverguje.

**Príklad 2.4.10.K2-pr75**

Rad  $\sum_{n=1}^{\infty} n(-1)^n = -1 + 2 - 3 + 4 - 5 + \dots$  nekonverguje, pretože nie je splnená nutná podmienka konverencie. Limita  $\lim_{n \rightarrow \infty} n(-1)^n$  totiž neexistuje. ■

Pri vyšetřovaní konverencie číselných radov má dôležitú úlohu tzv. Cauchy–Bolzanov princíp konverencie, ktorý nám umožní overiť konvergenciu radu bez toho, aby sme poznali jeho súčet. Vyplýva z Cauchy–Bolzanovho princípu konverencie pre číselné postupnosti (veta 2.3.4, str. 96), ktorý je v prípade postupnosti čiastočných súčtov  $\{s_n\}_{n=1}^{\infty}$  sformulovaný v leme 2.4.3.

**Lema 2.4.3.K2-veta97**

Postupnosť  $\{s_n\}_{n=1}^{\infty}$  konverguje práve vtedy, ak ku každému číslu  $\varepsilon > 0$  existuje  $n_0 \in \mathbb{N}$  také, že pre všetky  $m, n \in \mathbb{N}$ ,  $n \geq n_0$ ,  $m \geq n_0$  platí  $|s_m - s_n| < \varepsilon$ .

**Veta 2.4.4 (Cauchy–Bolzanov princíp konverencie radu).K2-veta98**

Číselný rad  $\sum_{n=1}^{\infty} a_n$  konverguje práve vtedy, ak ku každému číslu  $\varepsilon > 0$  existuje  $n_0 \in \mathbb{N}$  také, že pre všetky  $n, k \in \mathbb{N}$ ,  $n \geq n_0$  platí  $|a_{n+1} + a_{n+2} + \dots + a_{n+k}| < \varepsilon$ .

**Dôkaz.**

Tvrdenie vyplýva priamo z definície konverencie radu a z lemy 2.4.3.

Ak položíme  $m = n + k$ , potom  $m > n$  a pre postupnosť čiastočných súčtov  $\{s_n\}_{n=1}^{\infty}$  platí:

$$\begin{aligned} |s_m - s_n| &= |s_{n+k} - s_n| = |(a_1 + \dots + a_n + a_{n+1} + \dots + a_{n+k}) - (a_1 + \dots + a_n)| = \\ &= |a_{n+1} + a_{n+2} + \dots + a_{n+k}|. \end{aligned}$$

Takže sú tvrdenia  $|s_m - s_n| < \varepsilon$ ,  $|a_{n+1} + \dots + a_{n+k}| < \varepsilon$  ekvivalentné a veta platí. ■

**Veta 2.4.5.K2-veta99**

Nech  $k \in \mathbb{N}$ . Potom rady  $\sum_{n=1}^{\infty} a_n$  a jeho  $k$ -tý zvyšok  $\sum_{n=k+1}^{\infty} a_n$  buď obidva konvergujú alebo obidva divergujú do  $\infty$  alebo obidva divergujú do  $-\infty$  alebo obidva oscilujú.

Ak má jeden z týchto radov súčet, potom má súčet aj druhý rad a platí:

$$\sum_{n=1}^{\infty} a_n = a_1 + \dots + a_k + \sum_{n=k+1}^{\infty} a_n = a_1 + \dots + a_k + \sum_{n=1}^{\infty} a_{k+n}.$$

**Dôkaz.**

Hodnota  $s_n = a_1 + \dots + a_n$  predstavuje  $n$ -tý čiastočný súčet radu  $\sum_{n=1}^{\infty} a_n$  a hodnota  $t_n = a_{k+1} + \dots + a_{k+n}$

predstavuje  $n$ -tý čiastočný súčet radu  $\sum_{n=1}^{\infty} a_{k+n}$ . Potom platí:

$$s_{k+n} = a_1 + \dots + a_k + a_{k+1} + \dots + a_{k+n} = a + t_n.$$



Je zřejmé, že  $a_1 + a_2 + \dots + a_k$  je reálné číslo.

Z vety 2.3.7 vyplývá, že pokiaľ limity existujú, platí  $\lim_{n \rightarrow \infty} s_{k+n} = \lim_{n \rightarrow \infty} s_n$ . Potom

$$\lim_{n \rightarrow \infty} s_n = \lim_{n \rightarrow \infty} s_{k+n} = \lim_{n \rightarrow \infty} (a_1 + a_2 + \dots + a_k + t_n) = (a_1 + a_2 + \dots + a_k) + \lim_{n \rightarrow \infty} t_n.$$

To znamená, že tvrdenie vety platí. ■

#### Poznámka 2.4.10.K2-poz98

V praxi sa číselné rady používajú na numerický výpočet hodnôt reálnych funkcií. Väčšinou súčet konkrétneho číselného radu nedokážeme spočítať presne a preto ho aproximujeme vhodným čiastočným súčtom  $s_n$ . Zvyšok  $r_n$  vyjadruje chybu výpočtu a preto je dôležité vedieť odhadnúť jeho hodnotu. Ak chceme, aby chyba výpočtu bola menšia ako vopred zvolené  $\varepsilon > 0$ , potom musíme nájsť také  $n \in N$ , aby platilo  $|r_n| < \varepsilon$ .

#### Dôsledok 2.4.5.a.K2-dosl32

Nech existuje  $n_0 \in N$  také, že pre všetky  $n \in N$ ,  $n \geq n_0$  platí  $a_n = b_n$ .

Potom rady  $\sum_{n=1}^{\infty} a_n$ ,  $\sum_{n=1}^{\infty} b_n$  buď obidva konvergujú alebo obidva divergujú do  $\infty$  alebo obidva divergujú do  $-\infty$  alebo obidva oscilujú.

**Dôkaz.**

Z predpokladov vyplýva, že pre  $k \geq n_0$  sú  $k$ -te zvyšky radov  $\sum_{n=1}^{\infty} a_n$ ,  $\sum_{n=1}^{\infty} b_n$  rovnaké. To znamená, že majú rovnaké vlastnosti vzhľadom na konvergenciu, resp. divergenciu.

Potom z vety 2.4.5 vyplýva, že aj rady  $\sum_{n=1}^{\infty} a_n$ ,  $\sum_{n=1}^{\infty} b_n$  majú rovnaké vlastnosti. ■

#### Dôsledok 2.4.5.b.K2-dosl33

Ak rad  $\sum_{n=1}^{\infty} b_n$  vznikne z radu  $\sum_{n=1}^{\infty} a_n$  zmenou konečného počtu členov, potom buď obidva konvergujú alebo obidva divergujú do  $\infty$  alebo divergujú do  $-\infty$  alebo oscilujú.

**Dôkaz.**

Keďže majú rady  $\sum_{n=1}^{\infty} a_n$ ,  $\sum_{n=1}^{\infty} b_n$  rôzny konečný počet členov, potom existuje  $n_0 \in N$  také, že pre všetky  $n \in N$ ,  $n \geq n_0$  platí  $a_n = b_n$ . Zvyšok vyplýva z dôsledku 2.4.5.a. ■

#### Poznámka 2.4.11.K2-poz99

Predchádzajúce dôsledky tvrdia, že ak v číselnom rade zmeníme konečný počet členov, jeho konvergencia (divergencia do  $\pm\infty$ , oscilácia) sa nezmení. Toto platí pre rady vo všeobecnosti, **konečný počet členov nemá vplyv na vlastnosti radu**.

To znamená, že ak budeme skúmať najekú vlastnosť radu, potom konečný počet členov na túto vlastnosť nemá vplyv.

Číselné rady môžeme sčítavať, odčítavať, násobiť číslom. Ostatné operácie, ako sú napríklad vzájomné násobenie radov a prerovnanie radu, zavedieme neskôr.

Nech  $c \in R$ , potom číselné rady

$$\sum_{n=1}^{\infty} (a_n + b_n), \quad \sum_{n=1}^{\infty} (a_n - b_n), \quad \sum_{n=1}^{\infty} ca_n$$

nazývame **súčet**, **rozdiel radov**  $\sum_{n=1}^{\infty} a_n$ ,  $\sum_{n=1}^{\infty} b_n$  a **násobok radu**  $\sum_{n=1}^{\infty} a_n$  **číslom**  $c$ .

**Veta 2.4.6.K2-veta100**

Nech  $c \in R$  a nech  $\sum_{n=1}^{\infty} a_n = s$ ,  $\sum_{n=1}^{\infty} b_n = t$ , pričom  $t, s \in R^*$ .

Ak majú príslušné výrazy v  $R^*$  zmysel, potom platí:

$$\sum_{n=1}^{\infty} (a_n \pm b_n) = \sum_{n=1}^{\infty} a_n \pm \sum_{n=1}^{\infty} b_n = s \pm t, \quad \sum_{n=1}^{\infty} ca_n = c \sum_{n=1}^{\infty} a_n = cs.$$

**Dôkaz.**

Ak označíme  $\{s_n\}_{n=1}^{\infty}$ ,  $\{t_n\}_{n=1}^{\infty}$  postupnosti čiastočných súčtov radov  $\sum_{n=1}^{\infty} a_n$ ,  $\sum_{n=1}^{\infty} b_n$ , potom sú postupnosti  $\{s_n \pm t_n\}_{n=1}^{\infty}$ ,  $\{cs_n\}_{n=1}^{\infty}$  postupnosťami čiastočných súčtov radov  $\sum_{n=1}^{\infty} (a_n \pm b_n)$ ,  $\sum_{n=1}^{\infty} ca_n$  a tvrdenie vyplýva z vety 2.3.13. ■

**Poznámka 2.4.12.K2-poz101**

Ak  $c = 0$ , potom pre ľubovoľný rad  $\sum_{n=1}^{\infty} a_n$  platí  $\sum_{n=1}^{\infty} ca_n = \sum_{n=1}^{\infty} 0 = 0$ .

Opačné tvrdenie v predchádzajúcej vete neplatí. Napríklad  $\sum_{n=1}^{\infty} [(-1)^n + (-1)^{n+1}]$  konverguje k číslu 0, aj keď rady  $\sum_{n=1}^{\infty} (-1)^n$ ,  $\sum_{n=1}^{\infty} (-1)^{n+1}$  nemajú súčty.

**Príklad 2.4.11.K2-pr77**

Nech  $a, b, p, q \in R$ ,  $|p| > 1$ ,  $|q| > 1$ . Vypočítajte súčet radu  $\sum_{n=1}^{\infty} \frac{ap^n + bq^n}{p^n q^n}$ .

**Riešenie.**

Z príkladu 2.4.8 vyplýva, že pre  $|p| > 1$ ,  $|q| > 1$ , t. j.  $|\frac{1}{p}| < 1$ ,  $|\frac{1}{q}| < 1$  platí:

$$\sum_{n=1}^{\infty} \frac{1}{p^n} = \sum_{n=1}^{\infty} \left(\frac{1}{p}\right)^n = \frac{1}{1-\frac{1}{p}} = \frac{1}{\frac{p-1}{p}} = \frac{p}{p-1}, \quad \sum_{n=1}^{\infty} \frac{1}{q^n} = \frac{q}{q-1}.$$

To znamená, že sú splnené predpoklady vety 2.4.6 a platí:

$$\sum_{n=1}^{\infty} \frac{ap^n + bq^n}{p^n q^n} = \sum_{n=1}^{\infty} \left[ \frac{a}{q^n} + \frac{b}{p^n} \right] = a \sum_{n=1}^{\infty} \frac{1}{q^n} + b \sum_{n=1}^{\infty} \frac{1}{p^n} = \frac{aq}{q-1} + \frac{bp}{p-1}. \quad \blacksquare$$

V poznámke 2.4.2 sme uviedli príklad číselného radu  $\sum_{n=1}^{\infty} (-1)^{n+1}$ , pre ktorý neplatil asociatívny zákon. Problém je v tom, že tento rad nemá súčet. Ako ukazuje nasledujúca veta, ak rad súčet má, potom asociatívny zákon platí.

**Veta 2.4.7.K2-veta101**

Nech  $\sum_{n=1}^{\infty} a_n = s \in R^*$ ,  $\{k_n\}_{n=1}^{\infty}$  je rastúca postupnosť indexov. Potom:

$$\sum_{n=1}^{\infty} a_n = \underbrace{a_1 + \dots + a_{k_1}}_{c_1} + \underbrace{a_{k_1+1} + \dots + a_{k_2}}_{c_2} + \dots + \underbrace{a_{k_{n-1}+1} + \dots + a_{k_n}}_{c_n} + \dots = \sum_{n=1}^{\infty} c_n = s.$$

**Dôkaz.**

Označme  $\{s_n\}_{n=1}^{\infty}$  postupnosť čiastočných súčtov radu  $\sum_{n=1}^{\infty} a_n$ .

Potom pre postupnosť  $\{t_n\}_{n=1}^{\infty}$  čiastočných súčtov radu  $\sum_{n=1}^{\infty} c_n$  platí:

$$t_1 = c_1 = a_1 + \cdots + a_{k_1} = s_{k_1}, \quad t_2 = c_1 + c_2 = a_1 + \cdots + a_{k_2} = s_{k_2}, \quad \dots$$

$$t_n = c_1 + c_2 + \cdots + c_n = a_1 + \cdots + a_{k_n} = s_{k_n}, \quad \dots$$

To znamená, že  $\{t_n\}_{n=1}^{\infty}$  je vybraná z  $\{s_n\}_{n=1}^{\infty}$  a platí  $\lim_{n \rightarrow \infty} t_n = \lim_{n \rightarrow \infty} s_n = s$ . ■

#### Dôsledok 2.4.7.a.K2-dosl34

Nech  $\sum_{n=1}^{\infty} c_n$  vznikne z radu  $\sum_{n=1}^{\infty} a_n$  vynechaním všetkých nulových členov.

Ak  $\sum_{n=1}^{\infty} a_n = s \in R^*$ , potom  $\sum_{n=1}^{\infty} c_n = s$ .

#### Dôkaz.

Označme  $\{i_n\}_{n=1}^{\infty}$  rastúcu postupnosť indexov všetkých nenulových členov radu  $\sum_{n=1}^{\infty} a_n$ .

Potom číselný rad  $\sum_{n=1}^{\infty} c_n$  môžeme vyjadriť v tvare

$$\underbrace{(a_1 + \cdots + a_{i_1})}_{c_1 = a_{i_1}} + \underbrace{(a_{i_1+1} + \cdots + a_{i_2})}_{c_2 = a_{i_2}} + \cdots + \underbrace{(a_{i_{n-1}+1} + \cdots + a_{i_n})}_{c_n = a_{i_n}} + \cdots$$

Ak  $a_1 \neq 0$ , potom zrejme  $i_1 = 1$  a výraz  $a_1 + \cdots + a_{i_1}$  predstavuje jeden člen  $a_{i_1} = a_1$ .

Tým sú splnené predpoklady vety 2.4.7 a platí  $\sum_{n=1}^{\infty} a_n = \sum_{n=1}^{\infty} c_n = s$ . ■

#### Dôsledok 2.4.7.b.K2-dosl40

Nech  $\sum_{n=1}^{\infty} c_n$  vznikne z radu  $\sum_{n=1}^{\infty} a_n$  vložení ľubovoľného (aj spočítateľného) počtu nulových členov.

Ak  $\sum_{n=1}^{\infty} a_n = s \in R^*$ , potom  $\sum_{n=1}^{\infty} c_n = s$ .

#### Dôkaz.

Sporom. Nech  $\sum_{n=1}^{\infty} c_n = t \in R^*$ ,  $t \neq s$ .

Keďže  $\sum_{n=1}^{\infty} a_n$  vznikne z  $\sum_{n=1}^{\infty} c_n$  vynechaním nulových členov, z dôsledku 2.4.7.a vyplýva spor  $\sum_{n=1}^{\infty} a_n = t$ . ■

#### Poznámka 2.4.13.K2-poz102

Dôsledok 2.4.7.a môže byť v niektorých prípadoch užitočný. Ak vylúčime z radu s nezápornými členmi všetky jeho nulové členy, dostaneme rad s kladnými členmi s rovnakým súčtom. Potom pri vyšetrowaní konvergencie radu môžeme použiť aj podielové kritéria, ktoré obsahujú jednotlivé členy v menovateli zlomku.

### 2.4.3 Číselné rady s nezápornými členmi

Nech  $\sum_{n=1}^{\infty} a_n$  je rad s nezápornými členmi, t. j. nech pre všetky  $n \in N$  platí  $a_n \geq 0$ . Potom je jeho postupnosť čiastočných súčtov  $\{s_n\}_{n=1}^{\infty}$  neklesajúca a podľa vety 2.3.11 má limitu. To znamená, že každý rad s nezápornými členmi má súčet.

Rad  $\sum_{n=1}^{\infty} a_n$  konverguje práve vtedy, ak je postupnosť  $\{s_n\}_{n=1}^{\infty}$  ohraničená zhora a diverguje do  $\infty$  práve vtedy, ak je postupnosť  $\{s_n\}_{n=1}^{\infty}$  neohraničená zhora.

V mnohých problémoch nie je nutné vypočítať súčet radu. Je ale dôležité dokázať rozhodnúť, či rad konverguje alebo diverguje. Preto uvedieme niektoré kritéria, ktoré túto úlohu zjednodušia. Žiadne kritérium však nie je univerzálne a neumožní nám rozhodnúť o konvergencii alebo divergencii každého radu.

### Veta 2.4.8.K2-veta102

Nech  $0 \leq a_n \leq b_n$  pre všetky  $n \in N$  a nech  $\sum_{n=1}^{\infty} a_n = s$ ,  $\sum_{n=1}^{\infty} b_n = t$ , potom  $0 \leq s \leq t \leq \infty$ .

#### Dôkaz.

Ak  $\{s_n\}_{n=1}^{\infty}$ ,  $\{t_n\}_{n=1}^{\infty}$  sú príslušné postupnosti čiastočných súčtov, potom pre  $n \in N$  platí:

$$0 \leq s_n = a_1 + \dots + a_n \leq b_1 + \dots + b_n = t_n, \quad \text{t. j. } 0 \leq s = \lim_{n \rightarrow \infty} s_n \leq \lim_{n \rightarrow \infty} t_n = t. \blacksquare$$

### Dôsledok 2.4.8.a.K2-dosl36

Nech pre všetky  $n \in N$  platí  $a_n \geq 0$  a nech  $\{a_{k_n}\}_{n=1}^{\infty}$  je vybraná postupnosť z  $\{a_n\}_{n=1}^{\infty}$ .

Ak konverguje rad  $\sum_{n=1}^{\infty} a_n$ , potom konverguje tiež rad  $\sum_{n=1}^{\infty} a_{k_n}$ .

#### Dôkaz.

Označme  $\{b_n\}_{n=1}^{\infty}$  postupnosť, ktorá vznikne z postupnosti  $\{a_n\}_{n=1}^{\infty}$  tak, že nahradíme všetky jej členy nepatriace do podpostupnosti  $\{a_{k_n}\}_{n=1}^{\infty}$  číslom 0, t. j.

$$b_n = 0, \quad \text{pre } n \notin \{k_n\}_{n=1}^{\infty}, \quad b_n = a_n, \quad \text{pre } n \in \{k_n\}_{n=1}^{\infty}.$$

Potom pre všetky  $n \in N$  platí  $0 \leq b_n \leq a_n$  a rad  $\sum_{n=1}^{\infty} b_n$  konverguje.

Po vynechaní nulových členov v rade  $\sum_{n=1}^{\infty} b_n$  dostaneme rad  $\sum_{n=1}^{\infty} a_{k_n}$  a ten konverguje na základe dôsledku 2.4.7.a.  $\blacksquare$

Ak si uvedomíme, že zmenou konečného počtu členov sa konvergencia, resp. divergencia radu nezmení (viď poznámka 2.4.11), potom z vety 2.4.8 ihneď vyplýva nasledujúce kritérium konvergence.

### Veta 2.4.9 (1. porovnávacie kritérium).K2-veta103

Nech<sup>26</sup> existuje  $n_0 \in N$  také, že pre všetky  $n \in N$ ,  $n \geq n_0$  platí  $0 \leq a_n \leq b_n$ .

a) Ak konverguje rad  $\sum_{n=1}^{\infty} b_n$ , potom konverguje tiež rad  $\sum_{n=1}^{\infty} a_n$ .

b) Ak diverguje do  $\infty$  rad  $\sum_{n=1}^{\infty} a_n$ , potom diverguje do  $\infty$  tiež rad  $\sum_{n=1}^{\infty} b_n$ .

### Príklad 2.4.12.K2-pr78

Vyšetrite konvergenciu radov: a)  $\sum_{n=1}^{\infty} \frac{1}{(n+1)^2}$ , b)  $\sum_{n=1}^{\infty} \frac{1}{\sqrt[3]{n}}$ .

#### Riešenie.

a) Pre všetky  $n \in N$  platí  $(n+1)^2 = n^2 + 2n + 1 \geq n(n+1)$ , t. j.  $\frac{1}{(n+1)^2} \leq \frac{1}{n(n+1)}$ .

Keďže rad  $\sum_{n=1}^{\infty} \frac{1}{n(n+1)}$  konverguje (príklad 2.4.4), konverguje aj rad  $\sum_{n=1}^{\infty} \frac{1}{(n+1)^2}$ .

<sup>26</sup>V literatúre sa tiež niekedy nazýva kritérium o konvergentnej majorante a divergentnej minorante.

b) Pre všetky  $n \in N$  platí  $\sqrt[3]{n} \leq n$ , t. j.  $\frac{1}{n} \leq \frac{1}{\sqrt[3]{n}}$ .

Keďže rad  $\sum_{n=1}^{\infty} \frac{1}{n}$  diverguje (príklad 2.4.7), diverguje aj rad  $\sum_{n=1}^{\infty} \frac{1}{\sqrt[3]{n}}$ . ■

### Príklad 2.4.13.K2-pr109

Vyšetrte konvergenciu **Riemannovho radu**  $\sum_{n=1}^{\infty} \frac{1}{n^p} = \sum_{n=1}^{\infty} n^{-p}$ .

#### Riešenie.

Pre  $p \leq 0$  rad diverguje, pretože nie je splnená nutná podmienka konvergencie (veta 2.4.2). Z poznámky 2.3.15 vyplýva, že platí:

$$\lim_{n \rightarrow \infty} \frac{1}{n^p} = 1, \quad \text{pre } p = 0, \quad \lim_{n \rightarrow \infty} \frac{1}{n^p} = \infty, \quad \text{pre } p < 0.$$

Pre  $p = 1$  dostávame harmonický rad, ktorý diverguje (príklad 2.4.7).

Pre  $0 < p < 1$  Riemannov rad diverguje na základe 1. porovnávacieho kritéria.

Z vety 2.1.45 vyplýva, že pre všetky  $n \in N$ ,  $n \geq 2$  platí  $n^p < n^1$ , t. j.  $n^{-p} > \frac{1}{n} \geq 0$ .

Pre  $p = 2$  dostávame rad  $\sum_{n=1}^{\infty} \frac{1}{n^2} = 1 + \sum_{n=1}^{\infty} \frac{1}{(n+1)^2}$ , ktorý konverguje (príklad 2.4.12).

Pre  $p > 2$  rad konverguje na základe 1. porovnávacieho kritéria, pretože pre všetky  $p > 2$ ,  $n \in N$ ,  $n \geq 2$  platí  $n^p > n^2$ , t. j.  $\frac{1}{n^p} < \frac{1}{n^2}$ .

Pre  $1 < p < 2$  rad konverguje, ale dôkaz tohto tvrdenia s našimi doterajšími vedomosťami je pomerne pracný a preto ho vykonáme neskôr (príklad 4.3.8 na strane 326). ■

### Dôsledok 2.4.9.a (Limitný tvar).K2-veta104

Nech pre všetky  $n \in N$  (okrem konečného počtu) platí  $0 < a_n \leq b_n$ .

Ak  $0 < \lim_{n \rightarrow \infty} \frac{a_n}{b_n} < \infty$ , potom  $\sum_{n=1}^{\infty} a_n$ ,  $\sum_{n=1}^{\infty} b_n$  súčasne konvergujú alebo divergujú do  $\infty$ .

#### Dôkaz.

$\left\{ \frac{a_n}{b_n} \right\}_{n=1}^{\infty}$  je ohraničená (veta 2.3.8), t. j. existujú  $0 < L < K < \infty$  také, že pre všetky  $n \in N$  platí:

$$L < \frac{a_n}{b_n} < K, \quad \text{t. j. } L b_n < a_n < K b_n.$$

Zvyšok vyplýva z 1. porovnávacieho kritéria a z vety 2.4.6.

Ak konverguje  $\sum_{n=1}^{\infty} a_n$ , potom konverguje  $\sum_{n=1}^{\infty} L b_n$  a potom konverguje aj  $\sum_{n=1}^{\infty} b_n$ .

Ak diverguje  $\sum_{n=1}^{\infty} a_n$ , potom diverguje  $\sum_{n=1}^{\infty} K b_n$  a potom diverguje aj  $\sum_{n=1}^{\infty} b_n$ . ■

### Príklad 2.4.14.K2-pr89

Vyšetrte konvergenciu radu  $\sum_{n=1}^{\infty} \frac{1}{(2n-1)2n}$ .

#### Riešenie.

Pre všetky  $n \in N$  platí:

$$0 < n^2 + n = n(n+1) \leq (2n-1)2n = 4n^2 - 2n, \quad \text{t. j. } 3n \leq 4n^2 - 2n \iff 1 \leq n.$$

Z toho vyplýva, že pre všetky  $n \in N$  platí:

$$a_n = \frac{1}{(2n-1)2n} \leq \frac{1}{n(n+1)} = b_n, \quad \lim_{n \rightarrow \infty} \frac{a_n}{b_n} = \lim_{n \rightarrow \infty} \frac{n(n+1)}{(2n-1)2n} = \frac{1}{4} > 0.$$

Keďže  $\sum_{n=1}^{\infty} \frac{1}{n(n+1)}$  konverguje (príklad 2.4.4), konverguje tiež  $\sum_{n=1}^{\infty} \frac{1}{(2n-1)2n}$ . ■

**Príklad 2.4.15.K2-pr79**

Uvažujme rady z príkladu 2.4.12.

a) Rad  $\sum_{n=1}^{\infty} \frac{1}{(n+1)^2}$  konverguje, pretože konverguje  $\sum_{n=1}^{\infty} \frac{1}{n(n+1)}$  a platí:

$$\lim_{n \rightarrow \infty} \frac{(n+1)^{-2}}{[n(n+1)]^{-1}} = \lim_{n \rightarrow \infty} \frac{n(n+1)}{(n+1)^2} = \lim_{n \rightarrow \infty} \frac{n}{n+1} = \lim_{n \rightarrow \infty} \frac{1}{1+\frac{1}{n}} = 1.$$

b) O divergencii radu  $\sum_{n=1}^{\infty} \frac{1}{\sqrt[3]{n}}$  pomocou  $\sum_{n=1}^{\infty} \frac{1}{n}$  nevieme rozhodnúť, pretože platí:

$$\lim_{n \rightarrow \infty} \frac{[\sqrt[3]{n}]^{-1}}{\frac{1}{n}} = \lim_{n \rightarrow \infty} \frac{n}{\sqrt[3]{n}} = \lim_{n \rightarrow \infty} \sqrt[3]{n^2} = \infty, \quad \text{resp.} \quad \lim_{n \rightarrow \infty} \frac{\frac{1}{n}}{[\sqrt[3]{n}]^{-1}} = \lim_{n \rightarrow \infty} \frac{1}{\sqrt[3]{n^2}} = 0. \blacksquare$$

**Veta 2.4.10 (2. porovnávacie kritérium).K2-veta105**

Nech existuje  $n_0 \in \mathbb{N}$ , že pre všetky  $n \in \mathbb{N}$ ,  $n \geq n_0$  platí  $a_n > 0$ ,  $b_n > 0$ ,  $\frac{a_{n+1}}{a_n} \leq \frac{b_{n+1}}{b_n}$ .

a) Ak konverguje rad  $\sum_{n=1}^{\infty} b_n$ , potom konverguje tiež rad  $\sum_{n=1}^{\infty} a_n$ .

b) Ak diverguje do  $\infty$  rad  $\sum_{n=1}^{\infty} a_n$ , potom diverguje do  $\infty$  tiež rad  $\sum_{n=1}^{\infty} b_n$ .

**Dôkaz.**

Nech  $n \in \mathbb{N}$ ,  $n \geq n_0$ , potom platí  $0 < \frac{a_{n+1}}{a_n} \leq \frac{b_{n+1}}{b_n}$ , t. j.  $0 < \frac{b_n}{a_n} \leq \frac{b_{n+1}}{a_{n+1}}$ .

Ak označíme  $L = \frac{b_{n_0}}{a_{n_0}}$ , potom  $L > 0$  a pre všetky  $n \in \mathbb{N}$ ,  $n \geq n_0$  platí:

$$0 < L = \frac{b_{n_0}}{a_{n_0}} \leq \frac{b_{n_0+1}}{a_{n_0+1}} \leq \dots \leq \frac{b_n}{a_n} \leq \frac{b_{n+1}}{a_{n+1}} \leq \dots, \quad \text{t. j.} \quad La_n \leq b_n.$$

Potom na základe 1. porovnávacieho kritéria a vety 2.4.6 platí:

a) Ak konverguje rad  $\sum_{n=1}^{\infty} b_n$ , potom konverguje  $\sum_{n=1}^{\infty} La_n$  a potom aj  $\sum_{n=1}^{\infty} a_n$ .

b) Ak diverguje rad  $\sum_{n=1}^{\infty} a_n$ , potom diverguje  $\sum_{n=1}^{\infty} La_n$  a potom aj  $\sum_{n=1}^{\infty} b_n$ .  $\blacksquare$

**Príklad 2.4.16.K2-pr80**

Uvažujme rady z príkladu 2.4.12 a príkladu 2.4.15.

a) Ak pre  $n \in \mathbb{N}$  označíme  $b_n = \frac{1}{(n+1)^2}$ ,  $a_n = \frac{1}{n(n+1)}$ , potom platí:

$$\frac{a_{n+1}}{a_n} = \frac{n(n+1)}{(n+1)(n+2)} = \frac{n}{n+2} = \frac{n^2+2n}{(n+2)^2}, \quad \frac{b_{n+1}}{b_n} = \frac{(n+1)^2}{(n+2)^2} = \frac{n^2+2n+1}{(n+1)^2}.$$

Keďže pre všetky  $n \in \mathbb{N}$  platí  $n^2 + 2n < n^2 + 2n + 1$ , potom tiež platí  $\frac{a_{n+1}}{a_n} < \frac{b_{n+1}}{b_n}$ .

Pretože konverguje rad  $\sum_{n=1}^{\infty} b_n = \sum_{n=1}^{\infty} \frac{1}{n(n+1)}$ , konverguje aj rad  $\sum_{n=1}^{\infty} a_n = \sum_{n=1}^{\infty} \frac{1}{(n+1)^2}$ .

b) Ak pre  $n \in \mathbb{N}$  označíme  $a_n = \frac{1}{n}$ ,  $b_n = \frac{1}{\sqrt[3]{n}}$ , potom platí:

$$\frac{a_n}{a_{n+1}} = \frac{n+1}{n} = 1 + \frac{1}{n}, \quad \frac{b_n}{b_{n+1}} = \frac{\sqrt[3]{n+1}}{\sqrt[3]{n}} = \sqrt[3]{1 + \frac{1}{n}}.$$

Keďže pre všetky  $n \in \mathbb{N}$  platí  $1 + \frac{1}{n} > 1$ , potom na základe vety 2.1.45 c) platí:

$$\frac{a_n}{a_{n+1}} = 1 + \frac{1}{n} > \sqrt[3]{1 + \frac{1}{n}} = \frac{b_n}{b_{n+1}}, \quad \text{t. j.} \quad \frac{a_{n+1}}{a_n} < \frac{b_{n+1}}{b_n}.$$

Pretože diverguje rad  $\sum_{n=1}^{\infty} a_n = \sum_{n=1}^{\infty} \frac{1}{n}$ , diverguje aj rad  $\sum_{n=1}^{\infty} b_n = \sum_{n=1}^{\infty} \frac{1}{\sqrt[3]{n}}$ .  $\blacksquare$

**Veta 2.4.11 (Podielové d'Alembertovo kritérium).**K2-veta106

Nech<sup>27</sup>  $\sum_{n=1}^{\infty} a_n$  je rad s kladnými členmi a nech  $n_0 \in N$  je také, že platí:

- a) Ak pre všetky  $n \in N, n \geq n_0$  platí  $\frac{a_{n+1}}{a_n} \leq q$ , kde  $q \in (0; 1)$ , potom  $\sum_{n=1}^{\infty} a_n$  konverguje.
- b) Ak pre všetky  $n \in N, n \geq n_0$  platí  $\frac{a_{n+1}}{a_n} \geq 1$ , potom  $\sum_{n=1}^{\infty} a_n$  diverguje do  $\infty$ .

**Dôkaz.**

Vyplýva z 2. porovnávacieho kritéria.

a) Z predpokladov vyplýva, že pre všetky  $n \in N, n \geq n_0$  platí  $0 < \frac{a_{n+1}}{a_n} \leq q = \frac{q^{n+1}}{q^n}$ .

Keďže geometrický rad  $\sum_{n=1}^{\infty} q^n$  pre  $q \in (0; 1)$  konverguje, konverguje aj rad  $\sum_{n=1}^{\infty} a_n$ .

b) Pre všetky  $n \in N, n \geq n_0$  platí  $\frac{1}{1} = 1 \leq \frac{a_{n+1}}{a_n}$  a rad  $\sum_{n=1}^{\infty} 1$  diverguje. ■

**Veta 2.4.12 (Limitné d'Alembertovo kritérium).**K2-veta107

Nech  $\sum_{n=1}^{\infty} a_n$  je rad s kladnými členmi a nech existuje  $\lim_{n \rightarrow \infty} \frac{a_{n+1}}{a_n} = p$ .

- a) Ak  $p < 1$ , potom rad  $\sum_{n=1}^{\infty} a_n$  konverguje.
- b) Ak  $p > 1$ , potom rad  $\sum_{n=1}^{\infty} a_n$  diverguje do  $\infty$ .
- c) Existujú konvergentné aj divergentné rady, pre ktoré  $p = 1$ .

**Dôkaz.**

a) Je zrejmé, že  $p \geq 0$ . Z vlastností limity (poznámka 2.3.10) vyplýva, že pre každé  $\varepsilon > 0$  existuje  $n_0 \in N$  také, že pre všetky  $n \in N, n \geq n_0$  platí:

$$\left| \frac{a_{n+1}}{a_n} - p \right| < \varepsilon, \quad \text{t. j. } p - \varepsilon < \frac{a_{n+1}}{a_n} < p + \varepsilon.$$

Ak zvolíme  $\varepsilon$  tak, aby  $q = p + \varepsilon < 1$ , potom pre  $n \in N, n \geq n_0$  platí  $\frac{a_{n+1}}{a_n} < q < 1$ .

To znamená, že sú splnené predpoklady vety 2.4.11 a rad  $\sum_{n=1}^{\infty} a_n$  konverguje.

b) Keďže  $p > 1$ , potom z vety 2.3.23 vyplýva, že  $\lim_{n \rightarrow \infty} a_n = \infty$ .

To znamená, že nie je splnená nutná podmienka konvergenencie a rad  $\sum_{n=1}^{\infty} a_n$  diverguje.

c) Napríklad konvergentný rad  $\sum_{n=1}^{\infty} (n+1)^{-2}$  a divergentný rad  $\sum_{n=1}^{\infty} \frac{1}{n}$ . ■

**Príklad 2.4.17.**K2-pr81

Vyšetrite konvergenciu radu  $\sum_{n=0}^{\infty} a_n$ , ak  $a_{2k+1} = \frac{1}{2 \cdot 6^k}$ ,  $a_{2k} = \frac{1}{6^k}$  pre  $k = 0, 1, 2, \dots$

**Riešenie.**

Daný rad môžeme vyjadriť v tvare

$$\frac{1}{2 \cdot 6^0} + \frac{1}{6^1} + \frac{1}{2 \cdot 6^1} + \frac{1}{6^2} + \frac{1}{2 \cdot 6^2} + \dots + \frac{1}{6^k} + \frac{1}{2 \cdot 6^k} + \frac{1}{6^{k+1}} + \frac{1}{2 \cdot 6^{k+1}} + \dots$$

<sup>27</sup> Jean Baptiste d'Alembert [1717–1783] — francúzsky matematik, fyzik a filozof.



Pre všetky  $n = 2k$ , resp.  $n = 2k + 1$ , kde  $k \in N$ , platí:

$$\frac{a_{n+1}}{a_n} = \frac{a_{2k+1}}{a_{2k}} = \frac{6^k}{2 \cdot 6^k} = \frac{1}{2} = 2^{-1}, \quad \text{resp.} \quad \frac{a_{n+1}}{a_n} = \frac{a_{2k+2}}{a_{2k+1}} = \frac{2 \cdot 6^k}{6^{k+1}} = \frac{2}{6} = \frac{1}{3} = 3^{-1}.$$

Potom  $\lim_{n \rightarrow \infty} \frac{a_{n+1}}{a_n}$  neexistuje a limitné d'Alembertovo kritérium použiť nemôžeme.

Ale je zrejmé, že pre všetky  $n \in N$  platí  $\frac{a_{n+1}}{a_n} < \max\{\frac{1}{2}, \frac{1}{3}\} = \frac{1}{2} < 1$ .

To znamená, že  $\sum_{n=1}^{\infty} a_n$  konverguje na základe podielového d'Alembertovho kritéria. ■

#### Poznámka 2.4.14.K2-poz103

Nech rad  $\sum_{n=1}^{\infty} a_n$  konverguje a nech spĺňa predpoklady vety 2.4.11.

Potom pre všetky  $n \in N$ ,  $n \geq n_0$  platí  $\frac{a_{n+1}}{a_n} \leq q < 1$ , t. j.  $a_{n+1} \leq qa_n$ .

Nech  $k \in N$ ,  $k \geq n_0$ , potom pre všetky  $n \in N$  platí:

$$a_{k+n} \leq qa_{k+n-1} \leq q^2 a_{k+n-2} \leq \dots \leq q^{n-1} a_{k+1} \leq q^n a_k.$$

Potom  $k$ -ty zvyšok radu  $\sum_{n=1}^{\infty} a_n$  môžeme odhadnúť vzťahom

$$\begin{aligned} r_k &= a_{k+1} + a_{k+2} + \dots + a_{k+n} + \dots \leq a_{k+1} + qa_{k+1} + \dots + q^{n-1} a_{k+1} + \dots = \\ &= a_{k+1}(1 + q + \dots + q^{n-1} + q^n + \dots) = \frac{a_{k+1}}{1-q} \leq \frac{qa_k}{1-q}. \end{aligned}$$

#### Veta 2.4.13 (Odmocninové Cauchyho kritérium).K2-veta108

Nech  $\sum_{n=1}^{\infty} a_n$  je rad s nezápornými členmi a nech  $n_0 \in N$  je také, že platí:

- Ak pre všetky  $n \in N$ ,  $n \geq n_0$  platí  $\sqrt[n]{a_n} \leq q$ , kde  $q \in (0; 1)$ , potom  $\sum_{n=1}^{\infty} a_n$  konverguje.
- Ak pre všetky  $n \in N$ ,  $n \geq n_0$  platí  $\sqrt[n]{a_n} \geq 1$ , potom  $\sum_{n=1}^{\infty} a_n$  diverguje do  $\infty$ .

#### Dôkaz.

Vyplyva z 1. porovnávacieho kritéria, pretože platí:

- Pre všetky  $n \in N$ ,  $n \geq n_0$  platí  $\sqrt[n]{a_n} \leq q$ , t. j.  $a_n \leq q^n$  a rad  $\sum_{n=1}^{\infty} q^n$  konverguje.
- Pre všetky  $n \in N$ ,  $n \geq n_0$  platí  $\sqrt[n]{a_n} \geq 1$ , t. j.  $a_n \geq 1$  a rad  $\sum_{n=1}^{\infty} 1$  diverguje. ■

#### Veta 2.4.14 (Limitné Cauchyho kritérium).K2-veta109

Nech  $\sum_{n=1}^{\infty} a_n$  je rad s nezápornými členmi a nech existuje  $\lim_{n \rightarrow \infty} \sqrt[n]{a_n} = p$ .

- Ak  $p < 1$ , potom rad  $\sum_{n=1}^{\infty} a_n$  konverguje.
- Ak  $p > 1$ , potom rad  $\sum_{n=1}^{\infty} a_n$  diverguje do  $\infty$ .
- Existujú konvergentné aj divergentné rady, pre ktoré  $p = 1$ .

#### Dôkaz.

a) Je zrejmé, že  $p > 0$ . Z vlastností limity (poznámka 2.3.10) vyplýva, že pre každé  $\varepsilon > 0$  existuje  $n_0 \in N$  také, že pre všetky  $n \in N$ ,  $n \geq n_0$  platí:

$$|\sqrt[n]{a_n} - p| < \varepsilon, \quad \text{t. j.} \quad p - \varepsilon < \sqrt[n]{a_n} < p + \varepsilon.$$

Ak zvolíme  $\varepsilon$  tak, aby  $q = p + \varepsilon < 1$ , potom pre  $n \in N$ ,  $n \geq n_0$  platí  $\sqrt[n]{a_n} < q < 1$ .

To znamená, že sú splnené predpoklady vety 2.4.13 a rad  $\sum_{n=1}^{\infty} a_n$  konverguje.

b) Keďže  $p > 1$ , potom z vety 2.3.22 vyplýva  $\lim_{n \rightarrow \infty} a_n = \infty$  a rad  $\sum_{n=1}^{\infty} a_n$  diverguje.

c) Napríklad konvergentný rad  $\sum_{n=1}^{\infty} \frac{1}{(n+1)^2}$  a divergentný rad  $\sum_{n=1}^{\infty} \frac{1}{n}$ . ■

#### Poznámka 2.4.15.K2-poz104

Z vety 2.3.21 vyplýva, že ak existuje  $\lim_{n \rightarrow \infty} \frac{a_{n+1}}{a_n} = p$ , potom existuje  $\lim_{n \rightarrow \infty} \sqrt[n]{a_n} = p$ .

To znamená, že odmocninové kritérium je účinnejšie ako podielové kritérium. Ak o konvergencii radu môžeme rozhodnúť pomocou d'Alembertovho podielového kritéria, potom o konvergencii môžeme tiež rozhodnúť pomocou Cauchyho odmocninového kritéria. Ako dokazuje príklad 2.4.18, opačné tvrdenie neplatí.

#### Poznámka 2.4.16.K2-poz105

Predpoklad a) pri podielovom, resp. odmocninovom kritériu nemôžeme zjednodušiť.

Nemôžeme ho nahradiť predpokladom, že pre všetky  $n \in N$ ,  $n \geq n_0$  platí:

$$\frac{a_{n+1}}{a_n} < 1, \quad \text{resp.} \quad \sqrt[n]{a_n} < 1.$$

Napr.  $\sum_{n=1}^{\infty} a_n = \sum_{n=1}^{\infty} \frac{1}{n}$  diverguje, aj keď  $\frac{a_{n+1}}{a_n} = \frac{n}{n+1} < 1$ ,  $\sqrt[n]{a_n} = \frac{1}{\sqrt[n]{n}} < 1$ .

#### Príklad 2.4.18.K2-pr82

Vyšetrite konvergenciu radu  $\sum_{n=1}^{\infty} a_n$ , ak  $a_{2k-1} = \frac{1}{2^k}$ ,  $a_{2k} = \frac{1}{3^k}$  pre  $k \in N$ .

#### Riešenie.

Daný rad môžeme vyjadriť v tvare

$$\frac{1}{2^1} + \frac{1}{3^1} + \frac{1}{2^2} + \frac{1}{3^2} + \cdots + \frac{1}{2^{k-1}} + \frac{1}{3^{k-1}} + \frac{1}{2^k} + \frac{1}{3^k} + \frac{1}{2^{k+1}} + \frac{1}{3^{k+1}} + \cdots.$$

Podielové d'Alembertovo kritérium nemôžeme použiť, pretože pre všetky  $n = 2k - 1$ , resp.  $n = 2k$ , kde  $k \in N$ ,  $k = 2, 3, 4, \dots$ , platí:

$$\frac{a_{n+1}}{a_n} = \frac{a_{2k}}{a_{2k-1}} = \frac{2^k}{3^k} < 1, \quad \text{resp.} \quad \frac{a_{n+1}}{a_n} = \frac{a_{2k+1}}{a_{2k}} = \frac{a_{2(k+1)-1}}{a_{2k}} = \frac{3^k}{2^{k+1}} > 1.$$

Odmocninové Cauchyho kritérium ale použiť môžeme, pretože pre všetky  $n = 2k - 1$ , resp.  $n = 2k$ ,  $k \in N$  platí:

$$\sqrt[n]{a_n} = \sqrt[2k-1]{a_{2k-1}} = \frac{1}{2^{k-1} \sqrt[2k-1]{2^k}} \leq \frac{1}{2^{k/2}} = \frac{1}{\sqrt{2}}, \quad \text{resp.} \quad \sqrt[n]{a_n} = \sqrt[2k]{a_{2k}} = \frac{1}{2^{k/3}} = \frac{1}{\sqrt{3}}.$$

Z toho vyplýva, že pre všetky  $n \in N$  platí  $\sqrt[n]{a_n} \leq \frac{1}{\sqrt{2}} < 1$  a rad konverguje. ■

#### Poznámka 2.4.17.K2-poz106

Nech rad  $\sum_{n=1}^{\infty} a_n$  konverguje a nech spĺňa predpoklady vety 2.4.13.

Potom pre všetky  $n \in N$ ,  $n \geq n_0$  platí  $\sqrt[n]{a_n} \leq q < 1$ , t. j.  $a_n \leq q^n$ .

Nech  $k \in N$ ,  $k \geq n_0$ , potom  $k$ -ty zvyšok radu  $\sum_{n=1}^{\infty} a_n$  môžeme odhadnúť vzťahom

$$\begin{aligned} r_k &= a_{k+1} + a_{k+2} + \cdots + a_{k+n} + \cdots \leq q^{k+1} + q^{k+2} + \cdots + q^{k+n} + \cdots = \\ &= q^{k+1}(1 + q + \cdots + q^n + \cdots) = \frac{q^{k+1}}{1-q}. \end{aligned}$$

**Príklad 2.4.19.K2-pr83**

Vyšetrite konvergenciu radov: a)  $\sum_{n=1}^{\infty} \frac{n^n}{n!}$ , b)  $\sum_{n=1}^{\infty} \frac{a^n}{n!}$ , kde  $a > 0$ .

**Riešenie.**

a) Ak pre  $n \in N$  označíme  $a_n = \frac{n^n}{n!}$ , potom platí:

$$\lim_{n \rightarrow \infty} \frac{a_{n+1}}{a_n} = \lim_{n \rightarrow \infty} \frac{(n+1)^{n+1} n!}{(n+1)! n^n} = \lim_{n \rightarrow \infty} \frac{(n+1)^n}{n^n} = \lim_{n \rightarrow \infty} \left(1 + \frac{1}{n}\right)^n = e > 1.$$

Z toho vyplýva na základe limitného d'Alembertovho kritéria, že daný rad diverguje.

Z poznámky 2.4.15 vyplýva, že divergenciu tohto radu môžeme dokázať aj na základe limitného Cauchyho kritéria. Z príkladu 2.3.35 vyplýva  $\lim_{n \rightarrow \infty} \sqrt[n]{a_n} = \lim_{n \rightarrow \infty} \frac{n}{\sqrt[n]{n!}} = e$ .

b) Ak pre  $n \in N$  označíme  $a_n = \frac{a^n}{n!}$ , potom na základe príkladu 2.3.29 platí:

$$\lim_{n \rightarrow \infty} \frac{a_{n+1}}{a_n} = \lim_{n \rightarrow \infty} \frac{a^{n+1} n!}{(n+1)! a^n} = \lim_{n \rightarrow \infty} \frac{a}{n+1} = 0, \quad \lim_{n \rightarrow \infty} \sqrt[n]{a_n} = \lim_{n \rightarrow \infty} \frac{a}{\sqrt[n]{n!}} = \frac{a}{\infty} = 0.$$

Potom podľa obidvoch limitných kritérií rad konverguje pre všetky  $a > 0$ . ■

**Veta 2.4.15 (Raabeho kritérium).K2-veta110**

Nech<sup>28</sup>  $\sum_{n=1}^{\infty} a_n$  je rad s kladnými členmi a nech existuje  $n_0 \in N$ , také že platí:

a) Existuje  $r \in (1; \infty)$ , že pre všetky  $n \in N$ ,  $n \geq n_0$  platí  $n \left[ \frac{a_n}{a_{n+1}} - 1 \right] \geq r$ , potom  $\sum_{n=1}^{\infty} a_n$  konverguje.

b) Pre všetky  $n \in N$ ,  $n \geq n_0$  platí  $n \left[ \frac{a_n}{a_{n+1}} - 1 \right] \leq 1$ , potom  $\sum_{n=1}^{\infty} a_n$  diverguje do  $\infty$ .

**Dôkaz.**

a) Z predpokladov vyplýva, že pre všetky  $n \in N$ ,  $n \geq n_0$  platí:

$$n \left[ \frac{a_n}{a_{n+1}} - 1 \right] = n \frac{a_n}{a_{n+1}} - n \geq r, \quad \text{t. j.} \quad n \frac{a_n}{a_{n+1}} \geq n + r.$$

Z toho vyplýva, že pre všetky  $n \in N$ ,  $n \geq n_0$  platí:

$$na_n \geq (n+r)a_{n+1} = (n+1)a_{n+1} + (r-1)a_{n+1} > (n+1)a_{n+1}. \quad (2.2)$$

Potom je  $\{na_n\}_{n=1}^{\infty}$  klesajúca,<sup>29</sup> zdola ohraničená a existuje konečná  $\lim_{n \rightarrow \infty} na_n = a$ .

Ak označíme  $b_n = na_n - (n+1)a_{n+1}$  pre všetky  $n \in N$ ,

potom pre  $n$ -tý čiastočný súčet  $s_n$  radu  $\sum_{n=1}^{\infty} b_n$  platí:

$$s_n = b_1 + b_2 + \dots + b_n = [a_1 - 2a_2] + [2a_2 - 3a_3] + \dots + [na_n - (n+1)a_{n+1}] = a_1 - (n+1)a_{n+1}.$$

Potom rad  $\sum_{n=1}^{\infty} b_n$  konverguje, pretože

$$\lim_{n \rightarrow \infty} s_n = \lim_{n \rightarrow \infty} [a_1 - (n+1)a_{n+1}] = a_1 - \lim_{n \rightarrow \infty} (n+1)a_{n+1} = a_1 - \lim_{n \rightarrow \infty} na_n = a_1 - a.$$

Zo vzťahu (2.2) vyplýva, že pre všetky  $n \in N$ ,  $n \geq n_0$  platí:

$$b_n = na_n - (n+1)a_{n+1} > (r-1)a_{n+1}, \quad \text{t. j.} \quad a_{n+1} < (r-1)^{-1}b_n.$$

Potom sú splnené predpoklady 1. porovnávacieho kritéria a rad  $\sum_{n=1}^{\infty} a_{n+1}$  konverguje.

Z toho vyplýva, že aj rad  $\sum_{n=1}^{\infty} a_n$  konverguje.

<sup>28</sup> Wilhelm Raabe [1831–1910] — nemecký matematik.

<sup>29</sup> Klesajúca v zmysle poznámky 2.4.11, t. j. klesajúca pre všetky  $n \in N$ ,  $n \geq n_0$ .

b) Z predpokladov vyplýva, že pre všetky  $n \in N$ ,  $n \geq n_0$  platí  $na_n \leq (n+1)a_{n+1}$ . Takže je postupnosť  $\{na_n\}_{n=1}^{\infty}$  nerastúca a existuje  $k \in R$  také, že pre všetky  $n \geq n_0$  platí:

$$k \leq na_n, \quad \text{t. j. } \frac{k}{n} = k \frac{1}{n} \leq a_n.$$

Rad  $\sum_{n=1}^{\infty} k \frac{1}{n}$  je diverguje a podľa 1. porovnávacieho kritéria diverguje aj  $\sum_{n=1}^{\infty} a_n$ . ■

**Veta 2.4.16 (Limitné Raabeho kritérium).** K2-veta111

Nech  $\sum_{n=1}^{\infty} a_n$  je rad s kladnými členmi a nech existuje  $\lim_{n \rightarrow \infty} n \left[ \frac{a_n}{a_{n+1}} - 1 \right] = t$ .

- a) Ak  $t > 1$ , potom rad  $\sum_{n=1}^{\infty} a_n$  konverguje.  
 b) Ak  $t < 1$ , potom rad  $\sum_{n=1}^{\infty} a_n$  diverguje do  $\infty$ .

**Dôkaz.**

Dôkaz je analogický ako pri d'Alembertovom, resp. Cauchyho integrálnom kritériu.

Pre každé  $\varepsilon > 0$  existuje  $n_0 \in N$  také, že pre všetky  $n \in N$ ,  $n \geq n_0$  platí:

$$t - \varepsilon < n \left[ \frac{a_n}{a_{n+1}} - 1 \right] < t + \varepsilon.$$

a) Ak zvolíme číslo  $\varepsilon > 0$  tak, aby platilo  $1 < r = t - \varepsilon$ , potom sú splnené predpoklady časti a) Raabeho kritéria a daný rad konverguje.

b) Ak zvolíme  $\varepsilon > 0$  tak, aby platilo  $t + \varepsilon < 1$ , potom sú splnené predpoklady časti b) predpoklady Raabeho kritéria a daný rad diverguje. ■

**Poznámka 2.4.18.** K2-poz107

Raabeho kritérium je ešte účinnejšie ako Cauchyho odmocninové kritérium. Limita v Raabeho limitnom tvare môže byť aj nevlastná ( $r = \infty$ ) a vtedy daný rad konverguje.

**Príklad 2.4.20.** K2-pr84

Nech  $a > 0$ . Uvažujme rad  $\sum_{n=1}^{\infty} \frac{a^n}{n!}$  z príkladu 2.4.19 b). Tento rad konverguje aj na základe Raabeho limitného kritéria, pretože pre všetky  $a > 0$  platí:

$$\lim_{n \rightarrow \infty} n \left[ \frac{a_n}{a_{n+1}} - 1 \right] = \lim_{n \rightarrow \infty} n \left[ \frac{a^n \frac{(n+1)!}{n!}}{a^{n+1}} - 1 \right] = \lim_{n \rightarrow \infty} n \left[ \frac{n+1}{a} - 1 \right] = \infty(\infty - 1) = \infty. \quad \blacksquare$$

**Príklad 2.4.21.** K2-pr85

Nech  $a > 0$ . Vyšetrite konvergenciu radu  $\sum_{n=1}^{\infty} \frac{n!}{a(a+1)(a+2)\dots(a+n)}$ .

**Riešenie.**

Limitné d'Alembertovo kritérium použiť nemôžeme, pretože

$$\lim_{n \rightarrow \infty} \frac{a_{n+1}}{a_n} = \lim_{n \rightarrow \infty} \frac{a(a+1)\dots(a+n)(n+1)!}{n! a(a+1)\dots(a+n+1)} = \lim_{n \rightarrow \infty} \frac{n+1}{a+n+1} = 1.$$

Limitné Cauchyho kritérium tiež nemôžeme použiť, pretože  $\lim_{n \rightarrow \infty} \sqrt[n]{a_n} = \lim_{n \rightarrow \infty} \frac{a_{n+1}}{a_n} = 1$ .

Ak použijeme Raabeho limitné kritérium, potom platí:

$$\lim_{n \rightarrow \infty} n \left[ \frac{a_n}{a_{n+1}} - 1 \right] = \lim_{n \rightarrow \infty} n \left[ \frac{a+n+1}{n+1} - 1 \right] = \lim_{n \rightarrow \infty} n \frac{a}{n+1} = a \lim_{n \rightarrow \infty} \frac{n}{n+1} = a.$$

Z toho vyplýva, že pre  $a < 1$  rad diverguje a pre  $a > 1$  rad konverguje.

Ak  $a = 1$ , potom dostaneme rad  $\sum_{n=1}^{\infty} \frac{1}{n+1}$ , ktorý diverguje. ■

### 2.4.4 Absolútna, relatívna konvergencia a alternujúce rady

Doteraz sme sa zaoberali číselnými radmi s kladnými, resp. nezápornými členmi. Tieto rady buď konvergujú alebo divergujú do  $\infty$ . Rady vo všeobecnosti môžu mať aj kladné aj záporné členy. Pri vyšetrovaní konvergencie radov je niekedy jednoduchšie skúmať rady s absolútnymi hodnotami ich členov.

Hovoríme, že rad  $\sum_{n=1}^{\infty} a_n$  **konverguje absolútne (je absolútne konvergentný)** práve vtedy, ak konverguje rad absolútnych hodnôt  $\sum_{n=1}^{\infty} |a_n|$ .

Hovoríme, že rad  $\sum_{n=1}^{\infty} a_n$  **konverguje relatívne (neabsolútne)** práve vtedy, ak rad  $\sum_{n=1}^{\infty} a_n$  konverguje a rad  $\sum_{n=1}^{\infty} |a_n|$  diverguje do  $\infty$ .

#### Veta 2.4.17.K2-veta112

Ak rad  $\sum_{n=1}^{\infty} a_n$  konverguje absolútne, potom konverguje.

#### Dôkaz.

Rad  $\sum_{n=1}^{\infty} |a_n|$  konverguje. Potom z Cauchy–Bolzanovho princípu konvergencie vyplýva, že ku každému  $\varepsilon > 0$  existuje  $n_0 \in \mathbb{N}$  také, že pre všetky  $n, k \in \mathbb{N}$ ,  $n \geq n_0$  platí:

$$|a_{n+1}| + |a_{n+2}| + \cdots + |a_{n+k}| < \varepsilon.$$

Potom z trojuholníkovej nerovnosti (poznámka 2.1.17) vyplýva:

$$|a_{n+1} + a_{n+2} + \cdots + a_{n+k}| \leq |a_{n+1}| + |a_{n+2}| + \cdots + |a_{n+k}| < \varepsilon.$$

To znamená, že rad  $\sum_{n=1}^{\infty} a_n$  konverguje. ■

#### Poznámka 2.4.19.K2-poz119

Ak geometrický rad  $\sum_{n=1}^{\infty} q^n$  konverguje, potom konverguje absolútne.

Geometrický rad konverguje pre  $q \in (-1; 1)$ , t. j.  $|q| \in (0; 1)$ .

To znamená, že  $\sum_{n=1}^{\infty} |q^n| = \sum_{n=1}^{\infty} |q|^n$  je tiež konvergentný geometrický rad.

#### Príklad 2.4.22.K2-pr86

Vyšetrite konvergenciu radu  $\sum_{n=1}^{\infty} a_n = 1 - 1 + \frac{1}{2} - \frac{1}{2} + \frac{1}{3} - \frac{1}{3} + \frac{1}{4} - \frac{1}{4} + \cdots$ .

#### Riešenie.

Pre postupnosť čiastočných súčtov  $\{s_n\}_{n=1}^{\infty}$  pre všetky  $n \in \mathbb{N}$  platí:

$$s_{2n} = 1 - 1 + \frac{1}{2} - \frac{1}{2} + \cdots + \frac{1}{n} - \frac{1}{n} = 0, \quad s_{2n+1} = s_{2n} + \frac{1}{n+1} = \frac{1}{n+1}.$$

Potom rad konverguje k číslu 0, pretože platí:

$$\lim_{n \rightarrow \infty} s_{2n} = \lim_{n \rightarrow \infty} s_{2n+1} = 0, \quad \text{t. j.} \quad \lim_{n \rightarrow \infty} s_n = \sum_{n=1}^{\infty} a_n = 0.$$

Rad nekonverguje absolútne, pretože platí:

$$\sum_{n=1}^{\infty} |a_n| = 1 + 1 + \frac{1}{2} + \frac{1}{2} + \cdots + \frac{1}{n} + \frac{1}{n} + \cdots = \sum_{n=1}^{\infty} \frac{2}{n} = \infty. \quad \blacksquare$$

**Poznámka 2.4.20.K2-poz108**

Rad  $\sum_{n=1}^{\infty} |a_n|$  je rad s nezápornými členmi. To znamená, že pri vyšetřovaní absolútnej konvergenencie daných radov môžeme použiť všetky predchádzajúce kritéria.

**Poznámka 2.4.21.K2-poz110**

Z dôsledku 2.4.8.a vyplýva, že ak  $\{a_{k_n}\}_{n=1}^{\infty}$  je vybraná postupnosť z postupnosti  $\{a_n\}_{n=1}^{\infty}$  a rad  $\sum_{n=1}^{\infty} a_n$  konverguje (absolútne), potom tiež konverguje (absolútne) rad  $\sum_{n=1}^{\infty} a_{k_n}$ . Pre relatívne konvergentné rady tento dôsledok neplatí.

Napríklad rad  $\sum_{n=1}^{\infty} a_n$  z príkladu 2.4.22 konverguje, ale diverguje rad

$$\sum_{n=1}^{\infty} a_{k_n} = \sum_{n=1}^{\infty} \frac{1}{n} = 1 + \frac{1}{2} + \frac{1}{3} + \frac{1}{4} + \dots + \frac{1}{n} + \dots$$

Nech  $\sum_{n=1}^{\infty} a_n$  je číselný rad. Rady<sup>30</sup>  $\sum_{n=1}^{\infty} a_n^+$ ,  $\sum_{n=1}^{\infty} a_n^-$  majú nezáporné členy. To znamená, že majú vždy súčet, pričom môže byť aj nevlastný. Ak označíme

$$\sum_{n=1}^{\infty} a_n^+ = s^+, \quad \sum_{n=1}^{\infty} a_n^- = s^-,$$

potom na základe vety 2.4.6, pokiaľ majú výrazy  $s^+ \pm s^-$  v  $R^*$  zmysel, platí:

$$\sum_{n=1}^{\infty} a_n = \sum_{n=1}^{\infty} (a_n^+ - a_n^-) = s^+ - s^-, \quad \sum_{n=1}^{\infty} |a_n| = \sum_{n=1}^{\infty} (a_n^+ + a_n^-) = s^+ + s^-. \quad (2.3)$$

**Veta 2.4.18.K2-veta120**

Rad  $\sum_{n=1}^{\infty} |a_n|$  konverguje práve vtedy, ak konvergujú rady  $\sum_{n=1}^{\infty} a_n^-$ ,  $\sum_{n=1}^{\infty} a_n^+$ .

**Dôkaz.**

$NP_{\Rightarrow}$ : Pre všetky  $n \in N$  platí  $0 \leq a_n^- \leq |a_n|$ ,  $0 \leq a_n^+ \leq |a_n|$ .

Potom na základe 1. porovnávacieho kritéria konvergujú tiež rady  $\sum_{n=1}^{\infty} a_n^-$  a  $\sum_{n=1}^{\infty} a_n^+$ .

$PP_{\Leftarrow}$ : Vyplýva zo vzťahu (2.3) a z vety 2.4.6. ■

**Dôsledok 2.4.18.a.K2-dosl37**

Ak rad  $\sum_{n=1}^{\infty} a_n$  konverguje relatívne, potom rady  $\sum_{n=1}^{\infty} a_n^-$ ,  $\sum_{n=1}^{\infty} a_n^+$  divergujú do  $\infty$ .

**Dôsledok 2.4.18.b.K2-dosl38**

Označme  $\sum_{n=1}^{\infty} m_n$ , resp.  $\sum_{n=1}^{\infty} p_n$  rady, ktoré vzniknú z radu  $\sum_{n=1}^{\infty} a_n$  vynechaním všetkých jeho nezáporných, resp. nekladných členov. Potom platí:

a) Ak rad  $\sum_{n=1}^{\infty} a_n$  konverguje absolútne, potom rady  $\sum_{n=1}^{\infty} m_n$ ,  $\sum_{n=1}^{\infty} p_n$  konvergujú.

b) Ak rad  $\sum_{n=1}^{\infty} a_n$  konverguje relatívne, potom  $\sum_{n=1}^{\infty} m_n = \sum_{n=1}^{\infty} p_n = \infty$ .

<sup>30</sup>Poznámka 2.1.19 na strane 61:  $a^+ = \max\{a, 0\}$ ,  $a^- = \max\{-a, 0\}$ .

**Dôkaz.**

Rady  $\sum_{n=1}^{\infty} m_n$ , resp.  $\sum_{n=1}^{\infty} p_n$  obsahujú iba záporné, resp. kladné členy radu  $\sum_{n=1}^{\infty} a_n$ . Vzniknú z radov  $\sum_{n=1}^{\infty} a_n^-$ , resp.  $\sum_{n=1}^{\infty} a_n^+$  vynechaním všetkých nulových členov a na základe dôsledku 2.4.7.a majú rovnaké súčty. ■

**Poznámka 2.4.22.K2-poz115**

Z predchádzajúcej vety 2.4.18 vyplýva ako priamy dôsledok taktiež veta 2.4.17.

Nech pre všetky  $n \in N$  platí  $a_n \geq 0$  [resp.  $a_n \leq 0$ ], potom rad

$$\sum_{n=1}^{\infty} (-1)^{n+1} a_n = a_1 - a_2 + a_3 - a_4 + \cdots + (-1)^{n+1} a_n + \cdots$$

nazývame **rad so striedavými znamienkami (alternujúci rad)**.

**Veta 2.4.19 (Leibnizovo kritérium).K2-veta113**

Nech je  $\{a_n\}_{n=1}^{\infty}$  taká, že pre všetky  $n \in N$  platí  $a_n \geq 0$  [resp.  $a_n \leq 0$ ] a nech

- a)  $\{a_n\}_{n=1}^{\infty}$  je nerastúca [resp. neklesajúca],      b)  $\lim_{n \rightarrow \infty} a_n = 0$ .

Potom alternujúci rad  $\sum_{n=1}^{\infty} (-1)^{n+1} a_n$  konverguje.

**Dôkaz.**

Predpokladajme, že  $\{a_n\}_{n=1}^{\infty}$  je nerastúca postupnosť s nezápornými členmi.

Z predpokladov vyplýva, že pre všetky  $n \in N$  platí  $a_n \geq a_{n+1} \geq 0$ , t. j.  $a_n - a_{n+1} \geq 0$ .

Pre postupnosť čiastočných súčtov  $\{s_n\}_{n=1}^{\infty}$  radu  $\sum_{n=1}^{\infty} (-1)^{n+1} a_n$  pre všetky  $n \in N$  platí:

$$s_{2n} = (a_1 - a_2) + (a_3 - a_4) + \cdots + (a_{2n-1} - a_{2n}) \geq a_1 - a_2,$$

$$s_{2n} = a_1 - (a_2 - a_3) - \cdots - (a_{2n-2} - a_{2n-1}) - a_{2n} \leq a_1,$$

$$s_{2(n+1)} = s_{2n+2} = s_{2n} + (a_{2n+1} - a_{2n+2}) \geq s_{2n} + 0 = s_{2n}.$$

To znamená, že vybraná postupnosť  $\{s_{2n}\}_{n=1}^{\infty}$  je neklesajúca a ohraničená, t. j. konverguje a má konečnú limitu  $\lim_{n \rightarrow \infty} s_{2n} = s$ , pre ktorú platí:

$$a_1 - a_2 \leq s_{2n} \leq a_1, \quad \text{t. j.} \quad a_1 - a_2 \leq \lim_{n \rightarrow \infty} s_{2n} = s \leq a_1. \quad (2.4)$$

Pre vybranú postupnosť  $\{s_{2n+1}\}_{n=1}^{\infty}$  platí:

$$\lim_{n \rightarrow \infty} s_{2n+1} = \lim_{n \rightarrow \infty} (s_{2n} + a_{2n+1}) = \lim_{n \rightarrow \infty} s_{2n} + \lim_{n \rightarrow \infty} a_{2n+1} = s + 0 = s.$$

Potom  $\lim_{n \rightarrow \infty} s_n = \lim_{n \rightarrow \infty} s_{2n} = \lim_{n \rightarrow \infty} s_{2n+1} = s$ , t. j. rad  $\sum_{n=1}^{\infty} (-1)^{n+1} a_n$  konverguje.

Navyše zo vzťahu (2.4) vyplýva:

$$a_1 - a_2 \leq \lim_{n \rightarrow \infty} s_n = s = \sum_{n=1}^{\infty} (-1)^{n+1} a_n \leq a_1. \quad (2.5)$$

Pre neklesajúcu postupnosť  $\{a_n\}_{n=1}^{\infty}$  s nekladnými členmi je dôkaz analogický. ■

**Dôsledok 2.4.19.a.K2-dosl35**

Ak  $\{a_n\}_{n=1}^{\infty}$  spĺňa predpoklady Leibnizovho kritéria, potom pre  $k$ -tý zvyšok  $r_k$  platí:

$$a_{k+1} - a_{k+2} \leq (-1)^k r_k \leq a_{k+1} \quad \left[ \text{resp.} \quad a_{k+1} - a_{k+2} \geq (-1)^k r_k \geq a_{k+1} \right].$$



**Dôkaz.**

Nech je  $\{a_n\}_{n=1}^{\infty}$  nerastúca postupnosť s nezápornými členmi.

Ak pre všetky  $n \in N$  položíme  $b_n = a_{k+n}$ , potom pre  $k$ -tý zvyšok platí:

$$r_k = \sum_{n=1}^{\infty} (-1)^{k+n+1} a_{k+n} = (-1)^k \sum_{n=1}^{\infty} (-1)^{n+1} b_n, \quad \text{t. j. } (-1)^k r_k = \sum_{n=1}^{\infty} (-1)^{n+1} b_n.$$

Rad  $\sum_{n=1}^{\infty} (-1)^{n+1} b_n$  je alternujúci a spĺňa predpoklady Leibnizovho kritéria.

Potom zo vzťahu (2.5) vyplýva:

$$a_{k+1} - a_{k+2} = b_1 - b_2 \leq \sum_{n=1}^{\infty} (-1)^{n+1} b_n = (-1)^k r_k \leq b_1 = a_{k+1}.$$

Ak je  $\{a_n\}_{n=1}^{\infty}$  neklesajúca postupnosť s nekladnými členmi, potom  $\{c_n\}_{n=1}^{\infty} = \{-a_n\}_{n=1}^{\infty}$  je nerastúca s nezápornými členmi a pre ich  $k$ -te zvyšky  $r_k, t_k$  platí  $r_k = -t_k$ .

Pre postupnosť  $\{c_n\}_{n=1}^{\infty} = \{-a_n\}_{n=1}^{\infty}$  z predchádzajúceho vyplýva, že platí:

$$c_{k+1} - c_{k+2} \leq (-1)^k t_k \leq c_{k+1}, \quad \text{t. j. } -a_{k+1} + a_{k+2} \leq -(-1)^k r_k \leq -a_{k+1}. \blacksquare$$

**Poznámka 2.4.23.K2-poz109**

Predpokladajme, že rad  $\sum_{n=1}^{\infty} (-1)^{n+1} a_n$  spĺňa predpoklady Leibnizovho kritéria. Potom na základe dôsledku 2.4.19.a platí, že ak rad aproximujeme  $k$ -tým čiastočným súčtom  $s_k$ , potom pre chybu aproximácie platí  $|a_{k+1} - a_{k+2}| \leq |r_k| \leq |a_{k+1}|$ .

**Príklad 2.4.23.K2-pr87**

Určte konvergenciu radu  $\sum_{n=1}^{\infty} a_n = \sum_{n=1}^{\infty} \frac{(-1)^{n+1}}{n} = 1 - \frac{1}{2} + \frac{1}{3} - \frac{1}{4} + \dots + \frac{(-1)^{n+1}}{n} + \dots$ .

**Riešenie.**

Tento rad so striedavými znamienkami sa nazýva **anharmónický rad** a konverguje na základe Leibnizovho kritéria, pretože postupnosť  $\{\frac{1}{n}\}_{n=1}^{\infty}$  je klesajúca a  $\lim_{n \rightarrow \infty} \frac{1}{n} = 0$ .

Anharmónický rad konverguje k číslu<sup>31</sup>  $\ln 2$  a je relatívne konvergentný, pretože platí:

$$\sum_{n=1}^{\infty} \frac{(-1)^{n+1}}{n} = \ln 2, \quad \sum_{n=1}^{\infty} \left| \frac{(-1)^{n+1}}{n} \right| = \sum_{n=1}^{\infty} \frac{1}{n} = \infty.$$

Hodnotu  $\ln 2$  môžeme numericky vyjadriť pomocou  $k$ -teho čiastočného súčtu tohto radu a chyba výpočtu je daná  $k$ -tym zvyškom  $r_k$ . Potom z dôsledku 2.4.19.a vyplýva:

$$\frac{1}{(k+1)(k+2)} = \frac{1}{k+1} - \frac{1}{k+2} = a_{k+1} - a_{k+2} \leq |r_k| \leq a_{k+1} = \frac{1}{k+1}. \blacksquare$$

Niekedy je pri vyšetrowaní konvergenencie daného radu výhodné jeho členy vyjadriť v tvare súčiny  $a_n \cdot b_n$ ,  $n \in N$  a overovať predpoklady pre  $\{a_n\}_{n=1}^{\infty}$ ,  $\{b_n\}_{n=1}^{\infty}$ .

**Veta 2.4.20.K2-veta114**

Nech  $\{a_n\}_{n=1}^{\infty}$ ,  $\{b_n\}_{n=1}^{\infty}$  sú reálne postupnosti, nech  $s_n = a_1 + \dots + a_n$ ,  $n \in N$  a nech:

- a) existuje konečná  $\lim_{n \rightarrow \infty} s_n b_n$ ,      b) rad  $\sum_{n=1}^{\infty} s_n (b_n - b_{n+1})$  konverguje.

<sup>31</sup>Výpočet tohto súčtu je s našimi doterajšími vedomosťami síce možný, ale dosť pracný. Čitateľ ho nájde napríklad v [18]. Pomerne jednoducho ho môžeme vypočítavať pomocou tzv. funkcionálnych radov.

Potom číselný rad  $\sum_{n=1}^{\infty} a_n b_n$  konverguje a platí:

$$\sum_{n=1}^{\infty} a_n b_n = \lim_{n \rightarrow \infty} s_n b_n + \sum_{n=1}^{\infty} s_n (b_n - b_{n+1}). \quad (2.6)$$

**Dôkaz.**

Nech  $n \in \mathbb{N}$ . Označme  $n$ -tý čiastočný súčet radu  $\sum_{n=1}^{\infty} s_n (b_n - b_{n+1})$  symbolom  $t_n$ .

Pre  $n$ -tý čiastočný súčet  $w_n = a_1 b_1 + a_2 b_2 + \dots + a_n b_n$  radu  $\sum_{n=1}^{\infty} a_n b_n$  potom platí:

$$\begin{aligned} w_n &= s_1 b_1 + (s_2 - s_1) b_2 + (s_3 - s_2) b_3 + \dots + (s_{n-1} - s_{n-2}) b_n + (s_n - s_{n-1}) b_n = \\ &= s_1 (b_1 - b_2) + s_2 (b_2 - b_3) + \dots + s_{n-1} (b_{n-1} - b_n) + s_n b_n = t_{n-1} + s_n b_n. \end{aligned}$$

Z predpokladov potom vyplýva, že existuje konečná  $\lim_{n \rightarrow \infty} w_n$  a platí:

$$\lim_{n \rightarrow \infty} w_n = \lim_{n \rightarrow \infty} [t_{n-1} + s_n b_n] = \lim_{n \rightarrow \infty} t_{n-1} + \lim_{n \rightarrow \infty} s_n b_n = \lim_{n \rightarrow \infty} t_n + \lim_{n \rightarrow \infty} s_n b_n.$$

To znamená, že rad  $\sum_{n=1}^{\infty} a_n b_n$  konverguje a podmienka (2.6) platí. ■

**Poznámka 2.4.24.K2-poz111**

Ak sú splnené predpoklady vety 2.4.20 a navyše platí  $\lim_{n \rightarrow \infty} s_n b_n = 0$ , potom

$$\sum_{n=1}^{\infty} a_n b_n = \sum_{n=1}^{\infty} s_n (b_n - b_{n+1}).$$

Toto je splnené napríklad v prípade, že je postupnosť  $\{s_n\}_{n=1}^{\infty}$  ohraničená a  $\lim_{n \rightarrow \infty} b_n = 0$ .

**Príklad 2.4.24.K2-pr88**

Pomocou vety 2.4.20 dokážte konvergenciu anharmonického radu  $\sum_{n=1}^{\infty} \frac{(-1)^{n+1}}{n}$ .

**Riešenie.**

Označme  $a_n = (-1)^{n+1}$ ,  $b_n = \frac{1}{n}$  pre  $n \in \mathbb{N}$ . Potom pre všetky  $k \in \mathbb{N}$  platí  $s_{2k-1} = 1$ , resp.  $s_{2k} = 0$ . Takže je postupnosť  $\{s_n\}_{n=1}^{\infty}$  ohraničená. Navyše platí  $\lim_{n \rightarrow \infty} b_n = \lim_{n \rightarrow \infty} \frac{1}{n} = 0$ .

To znamená, že sú splnené predpoklady vety 2.4.20 a platí:

$$\sum_{n=1}^{\infty} \frac{(-1)^{n+1}}{n} = \sum_{n=1}^{\infty} s_n \left[ \frac{1}{n} - \frac{1}{n+1} \right] = \sum_{n=1}^{\infty} \frac{s_n}{n(n+1)} = \sum_{k=1}^{\infty} \frac{s_{2k-1}}{(2k-1)2k} = \sum_{k=1}^{\infty} \frac{1}{(2k-1)2k}.$$

Rad na pravej strane konverguje (pr. 2.4.14), t. j. konverguje aj anharmonický rad. ■

**Poznámka 2.4.25.K2-poz117**

Z príkladu 2.4.24 vyplýva, že platí:

$$\ln 2 = \sum_{n=1}^{\infty} \frac{1}{(2n-1)2n} = \frac{1}{12} + \frac{1}{34} + \frac{1}{56} + \frac{1}{78} + \dots + \frac{1}{(2n-1)2n} + \dots$$

**Veta 2.4.21 (Abelovo kritérium).K2-veta115**

Nech:<sup>32</sup> a)  $\sum_{n=1}^{\infty} a_n$  konverguje, b)  $\{b_n\}_{n=1}^{\infty}$  je monotónna a ohraničená.

<sup>32</sup>Niels Henrik Abel [1802–1829] — nórsky matematik.

Potom číselný rad  $\sum_{n=1}^{\infty} a_n b_n$  konverguje.

**Dôkaz.**

Z dôsledku 2.3.11.a vyplýva, že  $\{b_n\}_{n=1}^{\infty}$  konverguje, t. j. existuje konečná  $\lim_{n \rightarrow \infty} b_n = b$ .

Označme  $t_n = |b_1 - b_2| + |b_2 - b_3| + \dots + |b_n - b_{n+1}|$  pre  $n \in N$ .

Ak je  $\{b_n\}_{n=1}^{\infty}$  nerastúca, potom platí  $b_n - b_{n+1} \geq 0$ , t. j.  $|b_n - b_{n+1}| = b_n - b_{n+1}$  a tiež

$$t_n = (b_1 - b_2) + (b_2 - b_3) + \dots + (b_n - b_{n+1}) = b_1 - b_{n+1} = |b_1 - b_{n+1}|.$$

Ak je  $\{b_n\}_{n=1}^{\infty}$  neklesajúca, potom platí  $b_n - b_{n+1} \leq 0$ , t. j.  $|b_n - b_{n+1}| = b_{n+1} - b_n$  a tiež

$$t_n = (b_2 - b_1) + (b_3 - b_2) + \dots + (b_{n+1} - b_n) = b_{n+1} - b_1 = |b_1 - b_{n+1}|.$$

Z toho vyplýva, že rad  $\sum_{n=1}^{\infty} |b_n - b_{n+1}|$  konverguje, pretože platí:

$$\sum_{n=1}^{\infty} |b_n - b_{n+1}| = \lim_{n \rightarrow \infty} t_n = \lim_{n \rightarrow \infty} |b_1 - b_{n+1}| = \left| b_1 - \lim_{n \rightarrow \infty} b_{n+1} \right| = |b_1 - b|.$$

Rad  $\sum_{n=1}^{\infty} a_n$  konverguje, t. j. existuje konečná  $\lim_{n \rightarrow \infty} s_n = \lim_{n \rightarrow \infty} (a_1 + \dots + a_n) = s$ .

Potom je  $\{s_n\}_{n=1}^{\infty}$  ohraničená (veta 2.3.8) a existuje  $M > 0$ , že pre všetky  $n \in N$  platí:

$$0 \leq |s_n| \leq M, \quad \text{t. j.} \quad 0 \leq |s_n(b_n - b_{n+1})| \leq M |b_n - b_{n+1}|.$$

Potom sú splnené predpoklady 1. porovnávacieho kritéria a rad  $\sum_{n=1}^{\infty} |s_n(b_n - b_{n+1})|$  konverguje. Z toho

vyplýva, že konverguje tiež rad  $\sum_{n=1}^{\infty} s_n(b_n - b_{n+1})$ .

Z už dokázaného vyplýva, že existuje konečná limita

$$\lim_{n \rightarrow \infty} s_n b_n = \lim_{n \rightarrow \infty} s_n \cdot \lim_{n \rightarrow \infty} b_n = s \cdot b.$$

Tým pádom sú splnené oba predpoklady vety 2.4.20 a rad  $\sum_{n=1}^{\infty} a_n b_n$  konverguje. ■

**Poznámka 2.4.26.K2-poz112**

Požiadavku monotónnosti postupnosti  $\{b_n\}_{n=1}^{\infty}$  nemôžeme vynechať. Ak položíme

$$a_n = \frac{(-1)^n}{n}, \quad b_n = (-1)^n,$$

potom predpoklady platia, ale rad  $\sum_{n=1}^{\infty} a_n b_n = \sum_{n=1}^{\infty} \frac{(-1)^{2n}}{n} = \sum_{n=1}^{\infty} \frac{1}{n}$  diverguje.

**Príklad 2.4.25.K2-pr90**

Vyšetrite konvergenciu číselného radu  $\sum_{n=1}^{\infty} \frac{(-1)^{n+1}}{n} \ln \left[ a + \frac{1}{n} \right]$ , kde  $a > 0$ .

**Riešenie.**

Označme  $a_n = \frac{(-1)^{n+1}}{n}$ ,  $b_n = \ln \left[ a + \frac{1}{n} \right]$ . Potom pre všetky  $a > 0$ ,  $n \in N$  platí:

$$\sum_{n=1}^{\infty} a_n = \sum_{n=1}^{\infty} \frac{(-1)^{n+1}}{n} = \ln 2, \quad a + 1 \geq a + \frac{1}{n} \geq a + \frac{1}{n+1} \geq a.$$

Potom z vlastností funkcie logaritmus<sup>33</sup> vyplýva, že pre všetky  $a > 0$ ,  $n \in N$  platí:

$$\ln(a + 1) \geq \ln \left[ a + \frac{1}{n} \right] = b_n \geq b_{n+1} = \ln \left[ a + \frac{1}{n+1} \right] \geq \ln a.$$

Potom na základe Abelovho kritéria rad konverguje pre všetky  $a > 0$ . ■

<sup>33</sup>Bližšie sa jej venujeme v časti 3.1.3 na strane 193.

**Veta 2.4.22 (Dirichletovo kritérium).K2-veta116**

Nech  $\{s_n\}_{n=1}^{\infty}$  je postupnosť čiastočných súčtov radu  $\sum_{n=1}^{\infty} a_n$  a nech:

- a)  $\{s_n\}_{n=1}^{\infty}$  je ohraničená,      b)  $\{b_n\}_{n=1}^{\infty}$  je nerastúca a  $\lim_{n \rightarrow \infty} b_n = 0$ .

Potom číselný rad  $\sum_{n=1}^{\infty} a_n b_n$  konverguje.

**Dôkaz.**

Keďže je  $\{s_n\}_{n=1}^{\infty}$  ohraničená a  $\lim_{n \rightarrow \infty} b_n = 0$ , potom (dôsledok 2.3.17.d)  $\lim_{n \rightarrow \infty} s_n b_n = 0$ .

Postupnosť  $\{b_n\}_{n=1}^{\infty}$  je nerastúca, potom pre všetky  $n \in N$  platí:

$$b_n - b_{n+1} \geq 0, \quad \text{t. j. } |b_n - b_{n+1}| = b_n - b_{n+1}.$$

Potom pre  $n$ -tý čiastočný súčet radu  $\sum_{n=1}^{\infty} |b_n - b_{n+1}| = \sum_{n=1}^{\infty} (b_n - b_{n+1})$  platí:

$$t_n = (b_1 - b_2) + (b_2 - b_3) + \cdots + (b_n - b_{n+1}) = b_1 - b_{n+1}.$$

Z toho vyplýva, že rad  $\sum_{n=1}^{\infty} |b_n - b_{n+1}| = \sum_{n=1}^{\infty} (b_n - b_{n+1})$  konverguje, pretože

$$\sum_{n=1}^{\infty} (b_n - b_{n+1}) = \lim_{n \rightarrow \infty} t_n = \lim_{n \rightarrow \infty} (b_1 - b_{n+1}) = b_1 - \lim_{n \rightarrow \infty} b_{n+1} = b_1 - 0 = b_1.$$

Postupnosť  $\{s_n\}_{n=1}^{\infty}$  je ohraničená, t. j. existuje  $M > 0$ , že pre všetky  $n \in N$  platí:

$$0 \leq |s_n| \leq M, \quad \text{t. j. } 0 \leq |s_n(b_n - b_{n+1})| \leq M |b_n - b_{n+1}|.$$

Potom sú splnené predpoklady 1. porovnávacieho kritéria a rad  $\sum_{n=1}^{\infty} |s_n(b_n - b_{n+1})|$  konverguje. Z toho vyplýva, že konverguje tiež rad  $\sum_{n=1}^{\infty} s_n(b_n - b_{n+1})$ .

Tým pádom sú splnené oba predpoklady vety 2.4.20 a rad  $\sum_{n=1}^{\infty} a_n b_n$  konverguje. ■

**Poznámka 2.4.27.K2-poz113**

Ak rad  $\sum_{n=1}^{\infty} (-1)^{n+1} c_n$  spĺňa predpoklady Leibnizovho kritéria, potom spĺňa tiež predpoklady Dirichletovho kritéria. Ak je  $\{c_n\}_{n=1}^{\infty}$  nerastúca, potom položíme  $a_n = (-1)^{n+1}$ ,  $b_n = c_n$ . Ak je  $\{b_n\}_{n=1}^{\infty}$  neklesajúca, potom položíme  $a_n = (-1)^n$ ,  $b_n = -c_n$ .

To znamená, že Leibnizovo kritérium je špeciálnym prípadom Dirichletovho kritéria.

**Príklad 2.4.26.K2-pr91**

Vyšetrite konvergenciu číselného radu  $\sum_{n=1}^{\infty} \frac{\sin na}{n}$ , kde  $a \in R$ .

**Riešenie.**

Ak  $a = k\pi$ ,  $k \in Z$ , potom dostávame konvergentný rad  $\sum_{n=1}^{\infty} \frac{\sin nk\pi}{n} = \sum_{n=1}^{\infty} \frac{0}{n} = \sum_{n=1}^{\infty} 0 = 0$ .

Ak  $a \neq k\pi$ ,  $k \in Z$ , potom overíme predpoklady Dirichletovho kritéria.

Ak označíme  $a_n = \sin na$ ,  $b_n = \frac{1}{n}$ , potom je postupnosť  $\{b_n\}_{n=1}^{\infty} = \{\frac{1}{n}\}_{n=1}^{\infty}$  klesajúca a platí  $\lim_{n \rightarrow \infty} b_n = \lim_{n \rightarrow \infty} \frac{1}{n} = 0$ .

Z príkladu 1.2.4 vyplýva, že pre všetky  $a \neq k\pi$ ,  $k \in N$  a  $n \in N$  platí:

$$|s_n| = |\sin a + \sin 2a + \cdots + \sin na| = \left| \frac{\sin \frac{(n+1)a}{2} \sin \frac{na}{2}}{\sin \frac{a}{2}} \right| \leq \frac{1}{|\sin \frac{a}{2}|}.$$

To znamená, že  $\{s_n\}_{n=1}^{\infty}$  je ohraničená a daný rad konverguje. ■

### 2.4.5 Prerovnanie radov a rady s predpísaným súčtom

Už sme spomínali, že pre nekonečné rady vo všeobecnosti neplatí asociatívny zákon. Platí iba pre konvergentné rady (veta 2.4.7). S komutatívnym zákonom je to trochu zložitejšie. Ako dokazuje príklad 2.4.27, komutatívny zákon nemusí platiť ani pre konvergentné rady. Aby platil, je potrebná absolútna konvergencia radu.

Nech  $\sum_{n=1}^{\infty} a_n$  je číselný rad a nech  $\{k_n\}_{n=1}^{\infty}$  je číselná postupnosť prirodzených čísel taká, že obsahuje každé prirodzené číslo práve raz.<sup>34</sup> Potom rad

$$\sum_{n=1}^{\infty} a_{k_n} = a_{k_1} + a_{k_2} + a_{k_3} + \cdots + a_{k_n} + \cdots$$

nazývame **prerovnaným radom (prerovnaním) radu**  $\sum_{n=1}^{\infty} a_n$ .

#### Príklad 2.4.27.K2-pr92

Uvažujme konvergentný rad z príkladu 2.4.23

$$\ln 2 = 1 - \frac{1}{2} + \frac{1}{3} - \frac{1}{4} + \frac{1}{5} - \frac{1}{6} + \frac{1}{7} - \frac{1}{8} + \cdots + \frac{(-1)^{n+1}}{n} + \cdots$$

Označme jeho  $n$ -tý čiastočný súčet symbolom  $s_n$ .

Ak ho prerovnáme pomocou postupnosti  $\{2k-1, 2(2k-1), 2 \cdot 2k\}_{k=1}^{\infty}$ , dostaneme rad

$$1 - \frac{1}{2} - \frac{1}{4} + \frac{1}{3} - \frac{1}{6} - \frac{1}{8} + \cdots + \frac{1}{2k-1} - \frac{1}{2(2k-1)} - \frac{1}{2 \cdot 2k} + \cdots$$

Pre jeho  $n$ -tý čiastočný súčet, kde  $n = 3k, n = 3k+1, n = 3k+2, k \in \mathbb{N}$ , potom platí:

$$\begin{aligned} t_{3k} &= \left[1 - \frac{1}{2} - \frac{1}{4}\right] + \left[\frac{1}{3} - \frac{1}{6} - \frac{1}{8}\right] + \cdots + \left[\frac{1}{2k-1} - \frac{1}{2(2k-1)} - \frac{1}{2 \cdot 2k}\right] = \\ &= \left[\frac{1}{2} - \frac{1}{4}\right] + \left[\frac{1}{6} - \frac{1}{8}\right] + \cdots + \left[\frac{1}{2(2k-1)} - \frac{1}{2 \cdot 2k}\right] = \\ &= \frac{1}{2} \left[1 - \frac{1}{2}\right] + \frac{1}{2} \left[\frac{1}{3} - \frac{1}{4}\right] + \cdots + \frac{1}{2} \left[\frac{1}{2k-1} - \frac{1}{2k}\right] = \frac{1}{2} s_{2k} = \frac{s_{2k}}{2}, \\ t_{3k+1} &= t_{3k} + \frac{1}{2k+1} = \frac{s_{2k}}{2} + \frac{1}{2k+1}, \quad t_{3k+2} = \frac{s_{2k}}{2} + \frac{1}{2k+1} - \frac{1}{2(2k+1)}. \end{aligned}$$

Z toho vyplýva, že pre limity čiastočných súčtov  $t_{3k}, t_{3k+1}, t_{3k+2}$  platí:

$$\lim_{k \rightarrow \infty} t_{3k} = \frac{1}{2} \lim_{k \rightarrow \infty} s_{2k}, \quad \lim_{k \rightarrow \infty} t_{3k+1} = \frac{1}{2} \lim_{k \rightarrow \infty} s_{2k} + 0, \quad \lim_{k \rightarrow \infty} t_{3k+2} = \frac{1}{2} \lim_{k \rightarrow \infty} s_{2k} + 0 - 0.$$

To znamená, že prerovnaný rad konverguje k (inému) číslu  $\frac{1}{2} \lim_{k \rightarrow \infty} s_{2k} = \frac{\ln 2}{2}$ . ■

V predchádzajúcom príklade sme prerovnaním konvergentného radu dostali konvergentný rad s iným súčtom. Prerovnaním konvergentného radu môžeme dostať aj divergentný rad. Dokonca môžeme tento rad prerovnať tak, aby konvergoval k vopred zvolenému súčtu. Vyjadruje to veta 2.4.23 a jej silnejšia formulácia 2.4.24.

#### Veta 2.4.23 (Riemann).K2-veta117

Nech číselný rad  $\sum_{n=1}^{\infty} a_n$  konverguje relatívne a nech  $\alpha \in \mathbb{R}^*$  je ľubovoľné.

Potom existuje prerovnanie  $\sum_{n=1}^{\infty} a_{k_n}$  radu  $\sum_{n=1}^{\infty} a_n$  také, že platí  $\sum_{n=1}^{\infty} a_{k_n} = \alpha$ .

#### Dôkaz.

Dôkaz je formálne náročný a preto ho nebudeme robiť.

<sup>34</sup>Postupnosť  $\{k_n\}_{n=1}^{\infty}$  je bijekcia množiny  $\mathbb{N}$  na množinu  $\mathbb{N}$ . To znamená, že pre každé  $n \in \mathbb{N}$  existuje  $m \in \mathbb{N}$  také, že platí  $k_m = n$  (surjekcia) a pre všetky  $m, n \in \mathbb{N}, m \neq n$  platí  $k_m \neq k_n$  (injekcia).

Je založený na dôsledku 2.4.18.a, t. j. na divergencii číselných radov  $\sum_{n=1}^{\infty} a_n^-$ ,  $\sum_{n=1}^{\infty} a_n^+$ . Jeho hlavná myšlienka je dobre viditeľná na príklade 2.4.28. ■

**Veta 2.4.24 (Riemann).**K2-veta118

Nech  $\alpha, \beta \in \mathbb{R}^*$ ,  $\alpha \leq \beta$  a nech rad  $\sum_{n=1}^{\infty} a_n$  konverguje relatívne. Potom existuje prerovnanie  $\sum_{n=1}^{\infty} a_{k_n}$  radu  $\sum_{n=1}^{\infty} a_n$  s postupnosťou čiastočných súčtov  $\{t_n\}_{n=1}^{\infty}$  také, že platí:

$$\liminf_{n \rightarrow \infty} t_n = \alpha \leq \beta = \limsup_{n \rightarrow \infty} t_n.$$

**Príklad 2.4.28.**K2-pr93

Prerovnajzte anharmonický rad  $\sum_{n=1}^{\infty} a_n = \sum_{n=1}^{\infty} \frac{(-1)^{n+1}}{n}$ , aby konvergoval k číslu  $\alpha = \frac{5}{4}$ .

**Riešenie.**

Z príkladu 2.4.23 vyplýva, že anharmonický rad  $\sum_{n=1}^{\infty} a_n$  konverguje relatívne.

Rozdeľme kladné a záporné členy tohto radu do dvoch radov

$$\sum_{n=1}^{\infty} p_n = \sum_{n=1}^{\infty} a_{2k} = 1 + \frac{1}{3} + \frac{1}{5} + \dots, \quad \sum_{n=1}^{\infty} m_n = \sum_{n=1}^{\infty} a_{2k-1} = -\frac{1}{2} - \frac{1}{4} - \frac{1}{6} - \dots$$

Z dôsledku 2.4.18.b vyplývajú nasledujúce vzťahy pre súčty radov

$$\sum_{n=1}^{\infty} p_n = \sum_{n=1}^{\infty} a_n^+ = \infty, \quad \sum_{n=1}^{\infty} m_n = -\sum_{n=1}^{\infty} a_n^- = -\infty.$$

Z radu  $\sum_{n=1}^{\infty} p_n$  vyberieme toľko prvých členov, aby ich súčet bol väčší ako  $\alpha = 1,25$ .

Potom k nim pridáme toľko prvých členov z radu  $\sum_{n=1}^{\infty} m_n$ , aby ich spoločný súčet bol menší ako  $\alpha$ .

V našom prípade to bude

$$1 + \frac{1}{3} = \frac{4}{3} \approx 1,333 > 1,25, \quad 1 + \frac{1}{3} - \frac{1}{2} = \frac{5}{6} \approx 0,8333 < 1,25.$$

K týmto členom pridáme toľko prvých nevybratých členov radu  $\sum_{n=1}^{\infty} p_n$ , aby spoločný súčet všetkých týchto členov bol väčší ako  $\alpha$ . Potom dostaneme

$$1 + \frac{1}{3} - \frac{1}{2} + \frac{1}{5} + \frac{1}{7} + \frac{1}{9} = \frac{811}{630} \approx 1,287 > 1,25.$$

Potom k nim pridáme prvé členy radu  $\sum_{n=1}^{\infty} m_n$ , aby ich súčet bol menší ako  $\alpha$ , t. j.

$$1 + \frac{1}{3} - \frac{1}{2} + \frac{1}{5} + \frac{1}{7} + \frac{1}{9} - \frac{1}{4} = \frac{1307}{1260} \approx 1,037 < 1,25.$$

Týmto spôsobom môžeme teoreticky pokračovať bez obmedzenia do nekonečna, pretože  $\sum_{n=1}^{\infty} p_n = \infty$ ,

$\sum_{n=1}^{\infty} m_n = -\infty$ . Prerovnaný rad bude konvergovať k číslu  $\alpha = 1,25$ .

Prakticky pokračujeme po požadovanú presnosť. Pre ilustráciu uvedieme ešte štyri kroky

$$1 + \frac{1}{3} - \frac{1}{2} + \frac{1}{5} + \frac{1}{7} + \frac{1}{9} - \frac{1}{4} + \frac{1}{11} + \frac{1}{13} + \frac{1}{15} \approx 1,272 > 1,25,$$

$$1 + \frac{1}{3} - \frac{1}{2} + \frac{1}{5} + \frac{1}{7} + \frac{1}{9} - \frac{1}{4} + \frac{1}{11} + \frac{1}{13} + \frac{1}{15} - \frac{1}{6} \approx 1,105 < 1,25,$$

$$1 + \frac{1}{3} - \frac{1}{2} + \frac{1}{5} + \frac{1}{7} + \frac{1}{9} - \frac{1}{4} + \frac{1}{11} + \frac{1}{13} + \frac{1}{15} - \frac{1}{6} + \frac{1}{17} + \frac{1}{19} + \frac{1}{21} \approx 1,264 > 1,25.$$

$$1 + \frac{1}{3} - \frac{1}{2} + \frac{1}{5} + \frac{1}{7} + \frac{1}{9} - \frac{1}{4} + \frac{1}{11} + \frac{1}{13} + \frac{1}{15} - \frac{1}{6} + \frac{1}{17} + \frac{1}{19} + \frac{1}{21} - \frac{1}{8} \approx 1,139 < 1,25. \blacksquare$$

**Poznámka 2.4.28.K2-poz118**

Pre absolútne konvergentné rady Riemannove vety neplatia. V tomto prípade každé prerovnanie daného radu konverguje k rovnakému súčtu. Najprv uvedieme lemu 2.4.25 a jej dôsledok, ktoré nám značne zjednodušia dôkaz tohto tvrdenia.

Nech  $\sum_{n=1}^{\infty} a_n$  je rad s nezápornými členmi a nech  $K = \{k_1, k_2, \dots, k_m\} \subset N$  je konečná množina (množina indexov vybraných členov radu). Potom **konečným súčtom radu**  $\sum_{n=1}^{\infty} a_n$  **určeným množinou**  $K$  nazývame súčet

$$S_K = a_{k_1} + a_{k_2} + \dots + a_{k_m} = \sum_{n=1}^m a_{k_n} = \sum_{k_n \in K} a_{k_n}.$$

**Poznámka 2.4.29.K2-poz116**

Pretože je množina  $\{1, 2, \dots, n\}$  konečná, pre  $n$ -tý čiastočný súčet radu  $\sum_{n=1}^{\infty} a_n$  platí:

$$s_n = a_1 + a_2 + \dots + a_n = S_{\{1,2,\dots,n\}}.$$

**Lema 2.4.25.K2-veta121**

Nech  $\sum_{n=1}^{\infty} a_n$  je číselný rad s nezápornými členmi.

Potom sa súčet tohto radu rovná suprému množiny všetkých jeho konečných súčtov, t. j.

$$\sum_{n=1}^{\infty} a_n = \sup \{S_K; K \subset N, K \text{ je konečná}\}.$$

**Dôkaz.**

Označme  $\{s_n\}_{n=1}^{\infty}$  postupnosť čiastočných súčtov radu  $\sum_{n=1}^{\infty} a_n$ . Postupnosť  $\{s_n\}_{n=1}^{\infty}$  je neklesajúca, pretože pre všetky  $n \in N$  platí  $a_n \geq 0$ . Máme dokázať, že platí:

$$\lim_{n \rightarrow \infty} s_n = \sup \{S_K; K \subset N, K \text{ je konečná}\}.$$

Keďže pre všetky  $n \in N$  je množina  $\{1, 2, \dots, n\}$  konečná, platí:

$$\{s_n; n \in N\} = \{S_{\{1,2,\dots,n\}}; n \in N\} \subset \{S_K; K \subset N, K \text{ je konečná}\}.$$

Potom z vety 2.3.11 vyplýva:

$$\lim_{n \rightarrow \infty} s_n = \sup \{S_{\{1,2,\dots,n\}}; n \in N\} \leq \sup \{S_K; K \subset N, K \text{ je konečná}\}.$$

Každá konečná množina  $K = \{k_1, k_2, \dots, k_m\}$  je ohraničená.

Ak označíme  $n_0 = \max K$ , potom pre všetky  $k_i \in K$  platí  $k_i \leq n_0$ . Z toho vyplýva:

$$S_K = a_{k_1} + a_{k_2} + \dots + a_{k_m} \leq a_1 + a_2 + \dots + a_{n_0} = s_{n_0}.$$

Potom z vlastností supréma vyplýva dokazované tvrdenie

$$\sum_{n=1}^{\infty} a_n = \lim_{n \rightarrow \infty} s_n = \sup \{S_{\{1,2,\dots,n\}}; n \in N\} = \sup \{S_K; K \subset N, K \text{ je konečná}\}. \blacksquare$$

**Dôsledok 2.4.25.a.K2-dosl39**

Každé prerovnanie radu s nezápornými členmi má rovnaký súčet ako pôvodný rad.

**Dôkaz.**

Stačí si uvedomiť, že rad  $\sum_{n=1}^{\infty} a_n$  a každé jeho prerovnanie  $\sum_{n=1}^{\infty} a_{k_n}$  majú rovnakú množinu všetkých konečných súčtov. Potom podľa lemy 2.4.25 majú rovnaký súčet.  $\blacksquare$

**Veta 2.4.26.K2-veta119**

Rad  $\sum_{n=1}^{\infty} a_n$  konverguje absolútne práve vtedy, ak každé jeho prerovnanie  $\sum_{n=1}^{\infty} a_{k_n}$  konverguje absolútne a má rovnaký súčet ako pôvodný rad.

**Dôkaz.**

$NP \Rightarrow$ : Rad  $\sum_{n=1}^{\infty} |a_{k_n}|$  je prerovnaním radu  $\sum_{n=1}^{\infty} |a_n|$  s nezápornými členmi. Potom na základe dôsledku 2.4.25.a konverguje k rovnakému súčtu.

Z vety 2.4.18 vyplýva, že rady  $\sum_{n=1}^{\infty} a_n^-$ ,  $\sum_{n=1}^{\infty} a_n^+$  konvergujú a platí:

$$\sum_{n=1}^{\infty} a_n = \sum_{n=1}^{\infty} a_n^+ - \sum_{n=1}^{\infty} a_n^-, \quad \sum_{n=1}^{\infty} |a_n| = \sum_{n=1}^{\infty} a_n^+ + \sum_{n=1}^{\infty} a_n^-.$$

Ak je rad  $\sum_{n=1}^{\infty} a_{k_n}$  prerovnaním radu  $\sum_{n=1}^{\infty} a_n$ , potom sú rady  $\sum_{n=1}^{\infty} a_{k_n}^-$ ,  $\sum_{n=1}^{\infty} a_{k_n}^+$  prerovnaniami radov  $\sum_{n=1}^{\infty} a_n^-$ ,  $\sum_{n=1}^{\infty} a_n^+$  a z dôsledku 2.4.25.a vyplýva:

$$\sum_{n=1}^{\infty} a_{k_n}^- = \sum_{n=1}^{\infty} a_n^-, \quad \sum_{n=1}^{\infty} a_{k_n}^+ = \sum_{n=1}^{\infty} a_n^+, \quad \text{t. j.} \quad \sum_{n=1}^{\infty} a_{k_n} = \sum_{n=1}^{\infty} a_n.$$

$PP \Leftarrow$ : Nepriamo.

Nech každé prerovnanie radu  $\sum_{n=1}^{\infty} a_n$  konverguje k rovnakému súčtu ako pôvodný rad a nech rad nekonverguje absolútne. Potom tento rad konverguje relatívne a na základe Riemannovej vety existuje také jeho prerovnanie, ktoré diverguje do  $\infty$ . Spor. ■

**Príklad 2.4.29.K2-pr100**

Vypočítajte súčet radu  $\sum_{n=1}^{\infty} a_n$ , ak  $a_n = \frac{1}{2^{n+1}}$  pre  $n$  nepárne,  $a_n = \frac{-1}{2^{n-1}}$  pre  $n$  párne.

**Riešenie.**

Daný rad môžeme zapísať v tvare

$$\sum_{n=1}^{\infty} a_n = \frac{1}{2^2} - \frac{1}{2} + \frac{1}{2^4} - \frac{1}{2^3} + \dots = \left[-\frac{1}{2}\right]^2 + \left[-\frac{1}{2}\right]^1 + \left[-\frac{1}{2}\right]^4 + \left[-\frac{1}{2}\right]^3 + \dots$$

Tento rad je prerovnaním geometrického radu  $\sum_{n=1}^{\infty} q^n$  s koeficientom  $q = -\frac{1}{2}$ , ktorý konverguje absolútne (poznámka 2.4.19). Potom platí:

$$\sum_{n=1}^{\infty} a_n = \sum_{n=1}^{\infty} \left[-\frac{1}{2}\right]^n = -\left[-\frac{1}{2}\right]^0 + \sum_{n=0}^{\infty} \left[-\frac{1}{2}\right]^n = -1 + \frac{1}{1+\frac{1}{2}} = -1 + \frac{2}{3} = -\frac{1}{3}. \quad \blacksquare$$

Ďalej sa budeme zaoberať **úlohou ako nájsť nejaký rad s predpísaným súčtom**. Princíp tvorby takýchto radov môžeme často využiť pri určovaní súčtov konkrétnych číselných radov. Vytvoriť rad  $\sum_{n=1}^{\infty} a_n$  s konkrétnym súčtom  $s \in R^*$  nie je zložité.

Nech  $\{s_n\}_{n=1}^{\infty}$  je číselná postupnosť taká, že  $\lim_{n \rightarrow \infty} s_n = s$ . Označme  $s_0 = 0$ . Ak pre  $n \in N$  položíme

$$a_1 = s_1 = s_1 - s_0, \quad a_2 = s_2 - s_1, \quad a_3 = s_3 - s_2, \quad \dots, \quad a_n = s_n - s_{n-1}, \quad \dots,$$

potom pre  $n$ -tý čiastočný súčet  $t_n$  radu  $\sum_{n=1}^{\infty} a_n$  platí:

$$t_n = a_1 + a_2 + \dots + a_n = s_1 + (s_2 - s_1) + (s_3 - s_2) + \dots + (s_n - s_{n-1}) = s_n.$$



Z toho vyplýva, že platí  $\sum_{n=1}^{\infty} a_n = \sum_{n=1}^{\infty} (s_n - s_{n-1}) = \lim_{n \rightarrow \infty} t_n = \lim_{n \rightarrow \infty} s_n = s$ .

Niekedy je výhodné vyjadriť  $\{s_n\}_{n=1}^{\infty}$  pomocou nulovej postupnosti  $\{b_n\}_{n=1}^{\infty}$ , t. j. postupnosti, ktorá konverguje k číslu 0. Potom pre  $n \in N$  stačí položiť

$$s_n = s + b_n, \quad \text{resp.} \quad s_n = s - b_n, \quad \text{t. j.} \quad \lim_{n \rightarrow \infty} s_n = \lim_{n \rightarrow \infty} (s \pm b_n) = s \pm 0 = s.$$

Potom pre  $n$ -tý člen radu  $\sum_{n=1}^{\infty} a_n$  platí:

$$a_1 = s_1 = s \pm b_1, \quad a_n = s_n - s_{n-1} = (s \pm b_n) - (s \pm b_{n-1}) = \pm(b_n - b_{n-1}).$$

To znamená, že ak je  $\{b_n\}_{n=1}^{\infty}$  nerastúca, prípadne neklesajúca postupnosť, dokážeme vytvoriť rad s predpísaným súčtom  $s \neq 0$ , ktorý má iba nezáporné, resp. nekladné členy. Je zrejmé, že rad  $\sum_{n=1}^{\infty} a_n$  je v tomto prípade absolútne konvergentný.

### Príklad 2.4.30.K2-pr95

Ak položíme  $\{s_n\}_{n=1}^{\infty} = \left\{\frac{1}{n}\right\}_{n=1}^{\infty}$ , potom pre všetky  $n \in N$ ,  $n \geq 2$  platí:

$$a_1 = s_1 = 1, \quad a_n = s_n - s_{n-1} = \frac{1}{n} - \frac{1}{n-1} = \frac{n-1-n}{n(n-1)} = \frac{-1}{(n-1)n}.$$

Potom pre daný číselný rad platí:

$$0 = \lim_{n \rightarrow \infty} \frac{1}{n} = 1 - \sum_{n=2}^{\infty} \frac{1}{(n-1)n} = 1 - \frac{1}{1 \cdot 2} - \frac{1}{2 \cdot 3} - \dots - \frac{1}{(n-1)n} - \dots.$$

Z toho navyše vyplýva  $\sum_{n=1}^{\infty} \frac{1}{n(n+1)} = \frac{1}{1 \cdot 2} + \frac{1}{2 \cdot 3} + \dots + \frac{1}{n(n+1)} + \dots = 1$ . ■

### Príklad 2.4.31.K2-pr96

Zostrojte číselný rad  $\sum_{n=1}^{\infty} a_n$  tak, aby konvergoval k súčtu  $s = 1$ .

#### Riešenie.

Položíme  $a_1 = s \pm b_1$ ,  $s_n = \pm(b_n - b_{n-1})$ , pričom  $\{b_n\}_{n=1}^{\infty}$  je taká, že  $\lim_{n \rightarrow \infty} b_n = 0$ .

a) Ak  $\{b_n\}_{n=1}^{\infty} = \left\{\frac{(-1)^{n+1}}{n+1}\right\}_{n=1}^{\infty}$ , potom  $a_1 = 1 + \frac{1}{2} = \frac{3}{2} = \frac{2 \cdot 1 + 1}{1 \cdot (1+1)}$  a pre  $n = 2, 3, 4, \dots$  platí:

$$a_n = b_n - b_{n-1} = \frac{(-1)^{n+1}}{n+1} - \frac{(-1)^n}{n} = (-1)^{n+1} \left[ \frac{1}{n+1} + \frac{1}{n} \right] = (-1)^{n+1} \frac{2n+1}{n(n+1)}.$$

Z toho vyplýva  $1 = \sum_{n=1}^{\infty} (-1)^{n+1} \frac{2n+1}{n(n+1)} = \frac{3}{1 \cdot 2} - \frac{5}{2 \cdot 3} + \frac{7}{3 \cdot 4} - \frac{9}{4 \cdot 5} + \dots$ .

b) Ak  $\{b_n\}_{n=1}^{\infty} = \left\{\frac{1}{(n+1)^2}\right\}_{n=1}^{\infty}$ , potom  $a_1 = 1 - \frac{1}{4} = \frac{3}{4} = \frac{2 \cdot 1 + 1}{1^2 \cdot (1+1)^2}$  a pre  $n = 2, 3, 4, \dots$  platí:

$$a_n = -(b_n - b_{n-1}) = -\frac{1}{(n+1)^2} + \frac{1}{n^2} = \frac{-n^2 + n^2 + 2n + 1}{n^2(n+1)^2} = \frac{2n+1}{n^2(n+1)^2}.$$

Z toho vyplýva  $1 = \sum_{n=1}^{\infty} \frac{2n+1}{n^2(n+1)^2} = \frac{3}{1^2 \cdot 4} + \frac{5}{2^2 \cdot 9} + \frac{7}{3^2 \cdot 16} + \frac{9}{4^2 \cdot 25} + \dots$ . ■

Vytváranie radov s predpísaným súčtom nie je samoučelné. Znalosť súčtu niektorého radu môžeme využiť pri určovaní súčtu iného radu (viď nasledujúci príklad).

**Príklad 2.4.32.K2-pr97**

Určte súčet radu  $\sum_{n=1}^{\infty} a_n = \sum_{n=1}^{\infty} \frac{1}{2n(2n+1)} = \frac{1}{2 \cdot 3} + \frac{1}{4 \cdot 5} + \frac{1}{6 \cdot 7} + \dots + \frac{1}{2n(2n+1)} + \dots$ .

**Riešenie.**

Z poznámky 2.4.25 a z príkladu 2.4.30 vyplýva, že platí:

$$\begin{aligned} \sum_{n=1}^{\infty} \frac{1}{n(n+1)} &= \frac{1}{1 \cdot 2} + \frac{1}{2 \cdot 3} + \frac{1}{3 \cdot 4} + \frac{1}{4 \cdot 5} + \frac{1}{5 \cdot 6} + \frac{1}{6 \cdot 7} + \frac{1}{7 \cdot 8} + \frac{1}{8 \cdot 9} + \dots = 1, \\ \sum_{n=1}^{\infty} \frac{1}{(2n-1)2n} &= \frac{1}{1 \cdot 2} + \frac{1}{3 \cdot 4} + \frac{1}{5 \cdot 6} + \frac{1}{7 \cdot 8} + \dots = \ln 2, \\ \sum_{n=1}^{\infty} \frac{1}{2n(2n+1)} &= \frac{1}{2 \cdot 3} + \frac{1}{4 \cdot 5} + \frac{1}{6 \cdot 7} + \frac{1}{8 \cdot 9} + \dots = ?. \end{aligned}$$

Potom na základe vety 2.4.6 platí  $\sum_{n=1}^{\infty} a_n = \sum_{n=1}^{\infty} b_{2n} = \sum_{n=1}^{\infty} b_n - \sum_{n=1}^{\infty} b_{2n-1} = 1 - \ln 2$ . ■

**Príklad 2.4.33.K2-pr99**

Na záver uvedieme bez výpočtu niektoré číselné rady a ich súčty. Nech  $a \in \mathbb{R}$ , potom platí:

$$\sum_{n=0}^{\infty} \frac{a^n}{n!} = e^a, \quad \sum_{n=1}^{\infty} \frac{1}{n^2} = \frac{\pi^2}{6}, \quad \sum_{n=1}^{\infty} \frac{1}{n^4} = \frac{\pi^4}{90}, \quad \sum_{n=1}^{\infty} \frac{(-1)^{n+1}}{2n-1} = \frac{\pi}{4}. \quad \blacksquare$$

**2.4.6 Súčiny číselných radov**

Nech  $a = a_0 + a_1 + \dots + a_m$ ,  $b = b_0 + b_1 + \dots + b_n$  sú dva číselné výrazy s konečnými počtami členov (príklad 1.2.9). Ak ich vynásobíme, potom dostaneme výraz

$$\begin{aligned} c &= (a_0 + a_1 + \dots + a_m)(b_0 + b_1 + \dots + b_n) = \\ &= (a_0 b_0 + a_0 b_1 + \dots + a_0 b_n) + (a_1 b_0 + a_1 b_1 + \dots + a_1 b_n) + \dots + (a_m b_0 + a_m b_1 + \dots + a_m b_n). \end{aligned}$$

Ak výraz  $c$  prerovnáme, potom ho môžeme zapísať v tvare

$$\begin{aligned} c &= a_0 b_0 + (a_1 b_0 + a_0 b_1) + (a_2 b_0 + a_1 b_1 + a_0 b_2) + (a_3 b_0 + a_2 b_1 + a_1 b_2 + a_0 b_3) + \dots \\ &\quad \dots + (a_m b_{n-2} + a_{m-1} b_{n-1} + a_{m-2} b_n) + (a_m b_{n-1} + a_{m-1} b_n) + a_m b_n. \end{aligned}$$

Súčet indexov  $i + j$  výrazov  $a_i b_j$  v jednej zátvorke je konštantný. Potom formálne platí:

$$c = \sum_{i=0}^m a_i \sum_{j=0}^n b_j = \sum_{i=0}^m \sum_{j=0}^n a_i b_j = \sum_{j=0}^n \sum_{i=0}^m a_i b_j = \sum_{k=0}^{m+n} \sum_{i+j=k} a_i b_j.$$

Predchádzajúcu úvahu môžeme vykonať aj pre nekonečné rady  $\sum_{n=0}^{\infty} a_n$ ,  $\sum_{n=0}^{\infty} b_n$  a ich súčin môžeme chápať rôznymi spôsobmi. Tieto súčiny sa ale nemusia vždy rovnať. Pre ďalšie účely bude výhodnejšie, ak budeme číselné rady indexovať od čísla 0.

Ak pre každé  $m = 0, 1, 2, \dots$  existuje súčet číselného radu  $\sum_{n=0}^{\infty} a_n b_m$ , potom môžeme **súčin radov**

$\sum_{n=0}^{\infty} a_n$ ,  $\sum_{n=0}^{\infty} b_n$  vyjadriť v tvare dvojnásobného radu

$$\begin{aligned} \sum_{n=0}^{\infty} a_n \sum_{n=0}^{\infty} b_n &= (a_0 + a_1 + \dots + a_n + \dots) b_0 + (a_0 + a_1 + \dots + a_n + \dots) b_1 + \dots \\ &\quad \dots + (a_0 + a_1 + \dots + a_n + \dots) b_m + \dots = \\ &= (a_0 b_0 + a_1 b_0 + \dots + a_n b_0 + \dots) + (a_0 b_1 + a_1 b_1 + \dots + a_n b_1 + \dots) + \dots \\ &\quad \dots + (a_0 b_m + a_1 b_m + \dots + a_n b_m + \dots) + \dots = \sum_{n=0}^{\infty} \sum_{m=0}^{\infty} a_n b_m. \end{aligned}$$

Ak pre každé  $n = 0, 1, 2, \dots$  existuje súčet  $\sum_{m=0}^{\infty} a_n b_m$ , potom analogicky platí:

$$\begin{aligned} \sum_{n=0}^{\infty} a_n \sum_{n=0}^{\infty} b_n &= (a_0 b_0 + a_0 b_1 + \dots + a_0 b_m + \dots) + (a_1 b_0 + a_1 b_1 + \dots + a_1 b_m + \dots) + \dots \\ &\quad \dots + (a_n b_0 + a_n b_1 + \dots + a_n b_m + \dots) + \dots = \sum_{m=0}^{\infty} \sum_{n=0}^{\infty} a_n b_m. \end{aligned}$$

Ak členy súčinnu radov  $\sum_{n=0}^{\infty} a_n$  a  $\sum_{n=0}^{\infty} b_n$  prerovnáme, potom číselný rad

$$\begin{aligned} \sum_{n=0}^{\infty} c_n &= a_0 b_0 + (a_0 b_1 + a_1 b_0) + (a_0 b_2 + a_1 b_1 + a_2 b_0) + \dots \\ &\quad \dots + (a_0 b_n + a_1 b_{n-1} + \dots + a_i b_{n-i} + \dots + a_{n-1} b_1 + a_n b_0) + \dots = \\ &\quad \sum_{n=0}^{\infty} (a_0 b_n + a_1 b_{n-1} + \dots + a_{n-1} b_1 + a_n b_0) = \sum_{n=0}^{\infty} \sum_{i+j=n} a_i b_j = \sum_{n=0}^{\infty} \sum_{i=0}^n a_i b_{n-i} \end{aligned}$$

nazývame **Cauchyho súčinom radov**  $\sum_{n=0}^{\infty} a_n$  a  $\sum_{n=0}^{\infty} b_n$ .

#### Poznámka 2.4.30.K2-poz120

Cauchyho súčin číselných radov  $\sum_{n=1}^{\infty} a_n$  a  $\sum_{n=1}^{\infty} b_n$  je číselný rad

$$\begin{aligned} \sum_{n=1}^{\infty} c_n &= a_1 b_1 + (a_1 b_2 + a_2 b_1) + (a_1 b_3 + a_2 b_2 + a_3 b_1) + \dots + (a_1 b_n + \dots + a_n b_1) + \dots = \\ &= \sum_{n=1}^{\infty} (a_1 b_n + \dots + a_i b_{n+1-i} + \dots + a_n b_1) = \sum_{n=1}^{\infty} \sum_{i+j=n+1} a_i b_j = \sum_{n=1}^{\infty} \sum_{i=1}^n a_i b_{n+1-i}. \end{aligned}$$

Cauchyho súčin týchto radov môžeme určiť aj iným spôsobom. Ak položíme  $a_0 = b_0 = 0$ , potom

$\sum_{n=1}^{\infty} a_n = \sum_{n=0}^{\infty} a_n$ ,  $\sum_{n=1}^{\infty} b_n = \sum_{n=0}^{\infty} b_n$  a pre Cauchyho súčin platí:

$$\begin{aligned} \sum_{n=0}^{\infty} c_n &= a_0 b_0 + (a_0 b_1 + a_1 b_0) + (a_0 b_2 + a_1 b_1 + a_2 b_0) + (a_0 b_3 + a_1 b_2 + a_2 b_1 + a_3 b_0) + \dots \\ &\quad \dots + (a_0 b_n + a_1 b_{n-1} + \dots + a_i b_{n-i} + \dots + a_{n-1} b_1 + a_n b_0) + \dots = \\ &= a_1 b_1 + (a_1 b_2 + a_2 b_1) + (a_1 b_3 + a_2 b_2 + a_3 b_1) + \dots + (a_1 b_n + \dots + a_n b_1) + \dots. \end{aligned}$$

#### Poznámka 2.4.31.K2-poz121

Predstavu Cauchyho súčinnu radov si môžeme ilustrovať na násobení dvoch polynómov nekonečného stupňa. Ak vynásobíme dva polynómy nekonečného stupňa

$$a(x) = \sum_{n=0}^{\infty} a_n x^n = a_0 + a_1 x + a_2 x^2 + \dots, \quad b(x) = \sum_{n=0}^{\infty} b_n x^n = b_0 + b_1 x + b_2 x^2 + \dots$$

dostaneme opäť polynóm nekonečného stupňa

$$\begin{aligned} c(x) &= \sum_{n=0}^{\infty} c_n = a_0 b_0 + (a_0 b_1 + a_1 b_0)x + \dots + (a_0 b_n + a_1 b_{n-1} + \dots + a_n b_0)x^n + \dots = \\ &= \sum_{n=0}^{\infty} (a_0 b_n + a_1 b_{n-1} + \dots + a_{n-1} b_1 + a_n b_0)x^n = \sum_{n=0}^{\infty} \sum_{i=0}^n a_i b_{n-i} x^n. \end{aligned}$$

Uvedieme niektoré základné vlastnosti súčinnu dvoch radov. Zameriame sa hlavne na Cauchyho súčin, ktorý má v praktických aplikáciách najväčší význam. Na základe predchádzajúcich úvah môžeme pre súčin dvoch radov sformulovať nasledujúcu vetu.

**Veta 2.4.27.K2-veta123**

Nech  $\sum_{n=0}^{\infty} a_n$ ,  $\sum_{n=0}^{\infty} b_n$  sú číselné rady. Ak niektorý zo súčinných radov

$$\sum_{m=0}^{\infty} \sum_{n=0}^{\infty} a_n b_m, \quad \sum_{n=0}^{\infty} \sum_{m=0}^{\infty} a_n b_m, \quad \sum_{n=0}^{\infty} \sum_{i=0}^n a_i b_{n-i}$$

konverguje absolútne, potom konvergujú absolútne aj ostatné dva a majú rovnaký súčet.

**Dôkaz.**

Tvrdenie priamo vyplýva z vety 2.4.26. ■

**Príklad 2.4.34.K2-pr101**

Súčin číselných radov  $\sum_{n=1}^{\infty} \frac{1}{n^2} = \frac{\pi^2}{6}$ ,  $\sum_{n=1}^{\infty} \frac{1}{n(n+1)} = 1$  sa rovná číslu  $\frac{\pi^2}{6} \cdot 1 = \frac{\pi^2}{6}$ .

Ak ich súčin vyjadríme pomocou dvojnásobných radov, dostaneme

$$\sum_{n=1}^{\infty} \sum_{m=1}^{\infty} \frac{1}{n^2 m(m+1)} = \sum_{n=1}^{\infty} \left[ \frac{1}{n^2} \sum_{m=1}^{\infty} \frac{1}{m(m+1)} \right] = \sum_{n=1}^{\infty} \left[ \frac{1}{n^2} \cdot 1 \right] = \sum_{n=1}^{\infty} \frac{1}{n^2} = \frac{\pi^2}{6},$$

$$\sum_{m=1}^{\infty} \sum_{n=1}^{\infty} \frac{1}{n^2 m(m+1)} = \sum_{m=1}^{\infty} \left[ \frac{1}{m(m+1)} \sum_{n=1}^{\infty} \frac{1}{n^2} \right] = \sum_{m=1}^{\infty} \left[ \frac{1}{m(m+1)} \cdot \frac{\pi^2}{6} \right] = \frac{\pi^2}{6} \sum_{m=1}^{\infty} \frac{1}{m(m+1)} = \frac{\pi^2}{6} \cdot 1 = \frac{\pi^2}{6}.$$

Predchádzajúce rady sú s nezápornými členmi. To znamená, že konvergujú absolútne a pre Cauchyho súčin týchto radov na základe vety 2.4.27 platí:

$$\begin{aligned} \sum_{n=1}^{\infty} \sum_{i=1}^n \left[ \frac{1}{i^2} \frac{1}{(n+1-i)(n+2-i)} \right] &= \sum_{n=1}^{\infty} \left[ \frac{1}{1^2} \frac{1}{n(n+1)} + \frac{1}{2^2} \frac{1}{(n-1)n} + \dots \right. \\ &\quad \left. \dots + \frac{1}{i^2} \frac{1}{(n+1-i)(n+2-i)} + \dots + \frac{1}{(n-1)^2} \frac{1}{2 \cdot 3} + \frac{1}{n^2} \frac{1}{1 \cdot 2} \right] = \frac{\pi^2}{6}. \quad \blacksquare \end{aligned}$$

**Príklad 2.4.35.K2-pr102**

Číselný rad  $\sum_{n=1}^{\infty} a_n = \frac{(-1)^n}{\sqrt{n}}$  konverguje na základe Leibnizovho kritéria.

Pre Cauchyho súčin radov  $\sum_{n=1}^{\infty} a_n$ ,  $\sum_{n=1}^{\infty} a_n$  platí:

$$\sum_{n=1}^{\infty} c_n = \sum_{n=1}^{\infty} \sum_{i=1}^n a_i a_{n+1-i} = \sum_{n=1}^{\infty} \sum_{i=1}^n \left[ \frac{(-1)^i}{\sqrt{i}} \frac{(-1)^{n+1-i}}{\sqrt{n+1-i}} \right] = \sum_{n=1}^{\infty} \sum_{i=1}^n \frac{(-1)^{n+1}}{\sqrt{i(n+1-i)}}.$$

Keďže pre všetky  $n \in \mathbb{N}$ ,  $i = 1, 2, \dots, n$  platí  $\sqrt{i}\sqrt{n+1-i} \leq \sqrt{n}\sqrt{n} = n$ , potom

$$|c_n| = \sum_{i=1}^n \frac{1}{\sqrt{i(n+1-i)}} = \sum_{i=1}^n \frac{1}{\sqrt{i}\sqrt{n+1-i}} \geq \sum_{i=1}^n \frac{1}{n} = \frac{n}{n} = 1.$$

Z toho vyplýva, že platí  $\lim_{n \rightarrow \infty} |c_n| \geq 1$ . To znamená, že nemôže platiť  $\lim_{n \rightarrow \infty} c_n = 0$ .

Potom nie je splnená nutná podmienka konvergenencie, t. j. rad  $\sum_{n=1}^{\infty} c_n$  nekonverguje. ■

Z predchádzajúceho príkladu vyplýva, že Cauchyho súčin dvoch konvergentných radov nemusí konvergovať. Ale ako ukazuje nasledujúca veta, ak aspoň jeden z týchto radov konverguje absolútne, potom Cauchyho súčin konverguje.

**Veta 2.4.28.K2-veta124**

Ak rady  $\sum_{n=0}^{\infty} a_n = s$ ,  $\sum_{n=0}^{\infty} b_n = t$  konvergujú, pričom aspoň jeden z nich absolútne,

potom Cauchyho súčin týchto radov  $\sum_{n=0}^{\infty} c_n$  konverguje a má súčet  $st$ , t. j. platí:

$$\sum_{n=0}^{\infty} a_n \cdot \sum_{n=0}^{\infty} b_n = \sum_{n=0}^{\infty} c_n = \sum_{n=0}^{\infty} \sum_{i=0}^n a_i b_{n-i}.$$

**Dôkaz.**

Nech  $\sum_{n=0}^{\infty} a_n$  konverguje absolútne a nech  $\sum_{n=0}^{\infty} |a_n| = S$ . Označme pre  $n = 0, 1, 2, \dots$

$$s_n = a_0 + a_1 + \dots + a_n, \quad S_n = |a_0| + |a_1| + \dots + |a_n|, \quad t_n = b_0 + b_1 + \dots + b_n.$$

Ak označíme  $h_n = t - t_n$ , potom pre  $n$ -tý čiastočný súčet  $w_n$  radu  $\sum_{n=0}^{\infty} c_n$  platí:

$$\begin{aligned} w_n &= c_0 + c_1 + \dots + c_n = a_0 b_0 + (a_0 b_1 + a_1 b_0) + \dots + (a_0 b_n + a_1 b_{n-1} + \dots + a_n b_0) = \\ &= a_0(b_0 + b_1 + \dots + b_n) + a_1(b_0 + b_1 + \dots + b_{n-1}) + \dots + a_{n-1}(b_0 + b_1) + a_n b_0 = \\ &= a_0 t_n + a_1 t_{n-1} + \dots + a_n t_0 = a_0(t - h_n) + a_1(t - h_{n-1}) + \dots + a_n(t - h_0) = \\ &= (a_0 + a_1 + \dots + a_n)t - (a_0 h_n + a_1 h_{n-1} + \dots + a_n h_0) = s_n t - (a_0 h_n + \dots + a_n h_0). \end{aligned}$$

Zo vzťahu  $\lim_{n \rightarrow \infty} h_n = \lim_{n \rightarrow \infty} (t - t_n) = t - t = 0$  vyplýva:

Pre každé  $\varepsilon > 0$  existuje  $n_1 \in N$  také, že pre všetky  $n \in N$ ,  $n \geq n_1$  platí  $|h_n| < \varepsilon$ .

Existuje  $K > 0$ , že pre všetky  $n = 0, 1, 2, \dots$  platí  $|h_n| < K$  ( $\{h_n\}_{n=0}^{\infty}$  je ohraničená).

Keďže  $\sum_{n=1}^{\infty} |a_n|$  konverguje, potom na základe Cauchy–Bolzanovho princípu konvergenie radov pre každé  $\varepsilon > 0$  existuje  $n_2 \in N$  také, že pre všetky  $n, k \in N$ ,  $n \geq n_2$  platí:

$$||a_{n+1}| + |a_{n+2}| + \dots + |a_{n+k}|| = |a_{n+1}| + |a_{n+2}| + \dots + |a_{n+k}| < \varepsilon.$$

Ak označíme  $m = \max\{n_1, n_2\}$ , potom pre všetky  $n \in N$ ,  $n \geq m + m = 2m$  platí:

$$\begin{aligned} |a_0 h_n + \dots + a_n h_0| &\leq [ |a_0| \cdot |h_n| + |a_1| \cdot |h_{n-1}| + \dots + |a_m| \cdot |h_{n-m}| ] + \\ &\quad + [ |a_{m+1}| \cdot |h_{n-m-1}| + \dots + |a_{n-1}| \cdot |h_1| + |a_n| \cdot |h_0| ] = \\ &\leq [ |a_0| + |a_1| + \dots + |a_m| ] \varepsilon + [ |a_{m+1}| + \dots + |a_{n-1}| + |a_n| ] K \leq A\varepsilon + \varepsilon K. \end{aligned}$$

Potom pre všetky  $\varepsilon > 0$  platí:

$$0 \leq \lim_{n \rightarrow \infty} |a_0 h_n + \dots + a_n h_0| \leq \lim_{n \rightarrow \infty} (A + K)\varepsilon = (A + K)\varepsilon.$$

Z toho na základe vety 2.1.13 vyplýva:

$$\lim_{n \rightarrow \infty} |a_0 h_n + \dots + a_n h_0| = 0, \quad \text{t. j.} \quad \lim_{n \rightarrow \infty} (a_0 h_n + \dots + a_n h_0) = 0.$$

Pretože  $\lim_{n \rightarrow \infty} s_n t = t \lim_{n \rightarrow \infty} s_n = st$ , potom platí:

$$\sum_{n=0}^{\infty} c_n = \lim_{n \rightarrow \infty} w_n = \lim_{n \rightarrow \infty} [s_n t - (a_0 h_n + \dots + a_n h_0)] = st - 0 = st. \blacksquare$$

**Dôsledok 2.4.28.a.K2-dosl41**

Ak rady  $\sum_{n=0}^{\infty} a_n$ ,  $\sum_{n=0}^{\infty} b_n$  konvergujú absolútne, potom ich Cauchyho súčin  $\sum_{n=0}^{\infty} c_n$  konverguje tiež absolútne.

**Dôkaz.**

Označme  $\sum_{n=0}^{\infty} |a_n| = S$ ,  $\sum_{n=0}^{\infty} |b_n| = T$ . Potom pre všetky  $n = 0, 1, 2, \dots$  platí:

$$|a_0| + |a_1| + \dots + |a_n| \leq S, \quad |b_0| + |b_1| + \dots + |b_n| \leq T.$$

Pre  $n$ -tý čiastočný súčet ( $n = 0, 1, 2, \dots$ ) radu  $\sum_{n=0}^{\infty} |c_n|$  platí:

$$\begin{aligned} w_n &= |c_0| + |c_1| + \dots + |c_n| = |a_0 b_0| + |a_0 b_1 + a_1 b_0| + \dots + |a_0 b_n + a_1 b_{n-1} + \dots + a_n b_0| \leq \\ &\leq |a_0 b_0| + \left[ |a_0 b_1| + |a_1 b_0| \right] + \dots + \left[ |a_0 b_n| + |a_1 b_{n-1}| + \dots + |a_n b_0| \right] = \\ &= |a_0| \left[ |b_0| + |b_1| + \dots + |b_n| \right] + |a_1| \left[ |b_0| + |b_1| + \dots + |b_{n-1}| \right] + \dots + |a_n| \cdot |b_0| \leq \\ &\leq |a_0| T + |a_1| T + \dots + |a_n| T = \left[ |a_0| + |a_1| + \dots + |a_n| \right] T \leq ST. \end{aligned}$$

To znamená, že postupnosť  $\{w_n\}_{n=1}^{\infty}$  je neklesajúca a ohraničená zhora.

Z toho vyplýva  $0 \leq \lim_{n \rightarrow \infty} w_n \leq ST$ , t. j. rad  $\sum_{n=0}^{\infty} c_n$  konverguje absolútne. ■

### Príklad 2.4.36.K2-pr103

Vypočítajte súčet radu  $\sum_{n=0}^{\infty} a_n = \sum_{n=0}^{\infty} (n+1)q^n$ , kde  $q \in (-1; 1)$ .

#### Riešenie.

Pre všetky  $n = 0, 1, 2, \dots$  platí:

$$\lim_{n \rightarrow \infty} \frac{|a_{n+1}|}{|a_n|} = \lim_{n \rightarrow \infty} \frac{(n+2)|q|^{n+1}}{(n+1)|q|^n} = |q| \lim_{n \rightarrow \infty} \frac{n+2}{n+1} = |q| < 1,$$

T. j. rad  $\sum_{n=0}^{\infty} (n+1)q^n$  konverguje absolútne na základe d'Alembertovho kritéria.

Pre všetky  $n = 0, 1, 2, \dots$  a pre všetky  $i = 0, 1, \dots, n$  platí:

$$a_n = (n+1)q^n = q^0 q^n + q^1 q^{n-1} + \dots + q^i q^{n-i} + \dots + q^{n-1} q^1 + q^n q^0 = \sum_{i=0}^n q^i q^{n-i}.$$

To znamená, že  $\sum_{n=0}^{\infty} (n+1)q^n$  je Cauchyho súčinom radov  $\sum_{n=0}^{\infty} q^n$ ,  $\sum_{n=0}^{\infty} q^n$ .

Keďže  $\sum_{n=0}^{\infty} q^n$  konverguje absolútne (poznámka 2.4.19), potom platí:

$$\sum_{n=0}^{\infty} (n+1)q^n = \sum_{n=0}^{\infty} q^n \cdot \sum_{n=0}^{\infty} q^n = \frac{1}{1-q} \cdot \frac{1}{1-q} = \frac{1}{(1-q)^2}. \blacksquare$$

### Príklad 2.4.37.K2-pr104

Vyšetrte konvergenciu Cauchyho súčinu radov  $\sum_{n=0}^{\infty} \frac{a^n}{n!}$ ,  $\sum_{n=0}^{\infty} \frac{b^n}{n!}$ , kde  $a, b \in \mathbb{R}$ .

#### Riešenie.

Tieto rady konvergujú absolútne, pretože pre všetky  $a, b \in \mathbb{R}$  platí:

$$\lim_{n \rightarrow \infty} \frac{|a^{n+1}| n!}{|a^n| (n+1)!} = \lim_{n \rightarrow \infty} \frac{|a|}{n+1} = 0 < 1, \quad \lim_{n \rightarrow \infty} \frac{|b^{n+1}| n!}{|b^n| (n+1)!} = \lim_{n \rightarrow \infty} \frac{|b|}{n+1} = 0 < 1.$$

Pre  $n$ -tý člen Cauchyho súčinu daných radov na základe binomickej vety platí:

$$\begin{aligned} c_n &= \frac{a^0 b^n}{0! n!} + \frac{a^1 b^{n-1}}{1! (n-1)!} + \dots + \frac{a^i b^{n-i}}{i! (n-i)!} + \dots + \frac{a^{n-1} b^1}{(n-1)! 1!} + \frac{a^n b^0}{n! 0!} = \\ &= \sum_{i=0}^n \frac{a^i b^{n-i}}{i! (n-i)!} = \sum_{i=0}^n \frac{n!}{i!(n-i)!} \frac{a^i b^{n-i}}{n!} = \frac{1}{n!} \sum_{i=0}^n \binom{n}{i} a^i b^{n-i} = \frac{(a+b)^n}{n!}. \end{aligned}$$

Z príkladu 2.4.33 vieme, že platí  $\sum_{n=0}^{\infty} \frac{a^n}{n!} = e^a$ ,  $\sum_{n=0}^{\infty} \frac{b^n}{n!} = e^b$ ,  $\sum_{n=0}^{\infty} \frac{(a+b)^n}{n!} = e^{a+b}$ .

Z dôsledku 2.4.28.a vyplýva, že Cauchyho súčin konverguje absolútne a že platí:

$$\sum_{n=0}^{\infty} c_n = \sum_{n=0}^{\infty} \frac{(a+b)^n}{n!} = \sum_{n=0}^{\infty} \frac{a^n}{n!} \cdot \sum_{n=0}^{\infty} \frac{b^n}{n!} = e^a \cdot e^b = e^{a+b}. \blacksquare$$

**Veta 2.4.29 (Abel).**K2-veta125

Ak konvergujú rady  $\sum_{n=0}^{\infty} a_n = s$ ,  $\sum_{n=0}^{\infty} b_n = t$  a tiež konverguje Cauchyho súčin týchto radov  $\sum_{n=0}^{\infty} c_n = w$ , potom platí  $w = st$ .

**Dôkaz.**

Pre  $n$ -té čiastočné súčty ( $n = 0, 1, 2, \dots$ ) platí:

$$s_n = a_0 + a_1 + \dots + a_n, \quad t_n = b_0 + b_1 + \dots + b_n, \quad w_n = c_0 + c_1 + \dots + c_n.$$

Ak označíme  $g_n = s - s_n$ ,  $h_n = t - t_n$ , potom  $s_n = s - g_n$ ,  $t_n = t - h_n$ . Z toho vyplýva:

$$\lim_{n \rightarrow \infty} g_n = \lim_{n \rightarrow \infty} (s - s_n) = s - s = 0, \quad \lim_{n \rightarrow \infty} h_n = \lim_{n \rightarrow \infty} (t - t_n) = t - t = 0.$$

Nech  $\varepsilon > 0$  je ľubovoľné. Potom existujú  $n_1, n_2 \in \mathbb{N}$  také, že

$$\forall n \in \mathbb{N}, n \geq n_1: |g_n| < \varepsilon, \quad \forall n \in \mathbb{N}, n \geq n_2: |h_n| < \varepsilon. \quad (2.7)$$

Z vety 2.3.8 vyplýva, že sú postupnosti  $\{h_n\}_{n=0}^{\infty}$ ,  $\{g_n\}_{n=0}^{\infty}$  ohraničené.

Potom existujú  $K_g > 0$ ,  $K_h > 0$  také, že pre všetky  $n = 0, 1, 2, \dots$  platí:

$$|g_n| \leq K_g \leq K, \quad |h_n| \leq K_h \leq K, \quad \text{kde } K = \max\{K_g, K_h\}. \quad (2.8)$$

Keďže  $\lim_{n \rightarrow \infty} w_n = w$ , potom na základe dôsledku 2.3.20.a platí:

$$\lim_{n \rightarrow \infty} \frac{g_0 + g_1 + \dots + g_n}{n+1} = 0, \quad \lim_{n \rightarrow \infty} \frac{h_0 + h_1 + \dots + h_n}{n+1} = 0, \quad \lim_{n \rightarrow \infty} \frac{w_0 + w_1 + \dots + w_n}{n+1} = w.$$

Označme  $\sigma = w_1 + w_2 + \dots + w_n$ . Potom na základe dôkazu vety 2.4.28 platí:

$$\begin{aligned} \sigma &= a_0 t_0 + (a_0 t_1 + a_1 t_0) + (a_0 t_2 + a_1 t_1 + a_2 t_0) + \dots + (a_0 t_n + a_1 t_{n-1} + \dots + a_n t_0) = \\ &= (a_0 + a_1 + \dots + a_n) t_0 + (a_0 + a_1 + \dots + a_{n-1}) t_1 + \dots + (a_0 + a_1) t_{n-1} + a_n t_n = \\ &= s_n t_0 + s_{n-1} t_1 + \dots + s_0 t_n = (s - g_n)(t - h_0) + (s - g_{n-1})(t - h_1) + \dots + (s - g_0)(t - h_n) = \\ &= (st - sh_0 - tg_n + h_0 g_n) + (st - sh_1 - tg_{n-1} + h_1 g_{n-1}) + \dots + (st - sh_n - tg_0 + h_n g_0) = \\ &= (n+1)st - s(h_0 + h_1 + \dots + h_n) - t(g_0 + g_1 + \dots + g_n) + (h_0 g_n + h_1 g_{n-1} + \dots + h_n t_0). \end{aligned}$$

Označme  $m = \max\{n_1, n_2\}$ .

Zo vzťahov (2.7), (2.8) vyplýva, že pre všetky  $n \in \mathbb{N}$ ,  $n \geq m + m = 2m$  platí:

$$\begin{aligned} |h_0 g_n + h_1 g_{n-1} + \dots + h_n t_0| &= |h_0 g_n| + |h_1 g_{n-1}| + \dots + |h_n t_0| = \\ &= |h_0| \cdot |g_n| + |h_1| \cdot |g_{n-1}| + \dots + |h_m| \cdot |t_{n-m}| + |h_{m+1}| \cdot |t_{n-m-1}| + \dots + |h_n| \cdot |t_0| \leq \\ &\leq |h_0| \varepsilon + |h_1| \varepsilon + \dots + |h_m| \varepsilon + \varepsilon |t_{n-m-1}| + \varepsilon |t_{n-m-2}| + \dots + \varepsilon |t_0| \leq \\ &\leq \underbrace{K\varepsilon + K\varepsilon + \dots + K\varepsilon}_{(m+1)\text{-krát}} + \underbrace{\varepsilon K + \varepsilon K + \dots + \varepsilon K}_{(n-m)\text{-krát}} = (n+1)K\varepsilon. \end{aligned}$$

Potom pre všetky  $n \in \mathbb{N}$ ,  $n \geq m$  platí:

$$\left| \frac{h_0 g_n + h_1 g_{n-1} + \dots + h_n t_0}{n+1} \right| = \frac{|h_0 g_n + h_1 g_{n-1} + \dots + h_n t_0|}{n+1} \leq \frac{(n+1)K\varepsilon}{n+1} = K\varepsilon.$$

Keďže  $\varepsilon$  je ľubovoľné, potom na základe vety 2.1.13 platí:

$$\lim_{n \rightarrow \infty} \left| \frac{h_0 g_n + h_1 g_{n-1} + \dots + h_n t_0}{n+1} \right| = 0, \quad \text{t. j.} \quad \lim_{n \rightarrow \infty} \frac{h_0 g_n + h_1 g_{n-1} + \dots + h_n t_0}{n+1} = 0.$$

Ak to zhrnieme, potom dostaneme

$$\begin{aligned} w &= \lim_{n \rightarrow \infty} \frac{\sigma}{n+1} = \lim_{n \rightarrow \infty} \frac{(n+1)st - s(h_0 + \dots + h_n) - t(g_0 + \dots + g_n) + (h_0 g_n + \dots + h_n t_0)}{n+1} = \\ &= st - s \lim_{n \rightarrow \infty} \frac{h_0 + \dots + h_n}{n+1} - t \lim_{n \rightarrow \infty} \frac{g_0 + \dots + g_n}{n+1} + \lim_{n \rightarrow \infty} \frac{h_0 g_n + \dots + h_n t_0}{n+1} = st. \blacksquare \end{aligned}$$

**Príklad 2.4.38.K2-pr94**

Vypočítajte súčet Cauchyho súčinu radov  $\sum_{n=1}^{\infty} a_n = \sum_{n=1}^{\infty} b_n = \sum_{n=1}^{\infty} \frac{(-1)^{n+1}}{n}$ .

**Riešenie.**

Z príkladu 2.4.23 vyplýva, že  $\sum_{n=1}^{\infty} a_n = \sum_{n=1}^{\infty} b_n = \ln 2$ .

Pre  $n$ -tý ( $n = 0, 1, 2, \dots$ ) člen Cauchyho súčinu  $\sum_{n=1}^{\infty} c_n = \sum_{n=1}^{\infty} \sum_{i=1}^n a_i b_{n+1-i}$  platí:

$$\begin{aligned} c_n &= \sum_{i=1}^n \frac{(-1)^{i+1}}{i} \frac{(-1)^{n+1-i+1}}{n+1-i} = \sum_{i=1}^n \frac{(-1)^{n+1}}{i(n+1-i)} = \frac{(-1)^{n+1}}{n+1} \sum_{i=1}^n \frac{n+1}{i(n+1-i)} = \\ &= \frac{(-1)^{n+1}}{n+1} \sum_{i=1}^n \frac{(n+1-i)+i}{i(n+1-i)} = \frac{(-1)^{n+1}}{n+1} \sum_{i=1}^n \left[ \frac{1}{i} + \frac{1}{n+1-i} \right] = \\ &= \frac{(-1)^{n+1}}{n+1} \left[ \frac{1}{1} + \frac{1}{n} + \frac{1}{2} + \frac{1}{n-1} + \dots + \frac{1}{n-1} + \frac{1}{2} + \frac{1}{n} + \frac{1}{1} \right] = \frac{(-1)^{n+1}}{n+1} \sum_{i=1}^n \frac{2}{i}. \end{aligned}$$

Postupnosť  $\{c_n\}_{n=1}^{\infty}$  je nulová, pretože na základe príkladu 2.3.31 platí:

$$\lim_{n \rightarrow \infty} |c_n| = \lim_{n \rightarrow \infty} \frac{2}{n+1} \left[ 1 + \frac{1}{2} + \dots + \frac{1}{n} \right] = \lim_{n \rightarrow \infty} \frac{1}{n} \left[ 1 + \frac{1}{2} + \dots + \frac{1}{n} \right] \lim_{n \rightarrow \infty} \frac{2n}{n+1} = 0 \cdot 2 = 0.$$

Postupnosť  $\{|c_n|\}_{n=1}^{\infty}$  je nerastúca, pretože pre všetky  $n \in \mathbb{N}$  platí:

$$\begin{aligned} |c_n| - |c_{n+1}| &= \frac{2}{n+1} \left[ 1 + \frac{1}{2} + \dots + \frac{1}{n} \right] - \frac{2}{n+2} \left[ 1 + \frac{1}{2} + \dots + \frac{1}{n} + \frac{1}{n+1} \right] = \\ &= \left[ \frac{2}{n+1} - \frac{2}{n+2} \right] \cdot \left[ 1 + \frac{1}{2} + \dots + \frac{1}{n} \right] - \frac{2}{n+2} \cdot \frac{1}{n+1} \geq \\ &\geq \frac{(2n+4)-(2n+2)}{(n+1)(n+2)} \cdot [1 + 0 + \dots + 0] - \frac{2}{(n+1)(n+2)} = 0. \end{aligned}$$

To znamená, že alternujúci rad  $\sum_{n=1}^{\infty} c_n$  konverguje podľa Leibnizovho kritéria.

Potom sú splnené predpoklady Äbelovej vety 2.4.29 a platí:

$$\sum_{n=1}^{\infty} c_n = \sum_{n=1}^{\infty} \frac{2(-1)^{n+1}}{n+1} \left[ 1 + \frac{1}{2} + \dots + \frac{1}{n} \right] = \sum_{n=1}^{\infty} \frac{(-1)^{n+1}}{n} \cdot \sum_{n=1}^{\infty} \frac{(-1)^{n+1}}{n} = \ln^2 2. \blacksquare$$

**Cvičenia****2.4.1. cv. 401** Určite konvergenciu radov: ♣

a) $\sum_{n=2}^{\infty} \frac{1}{\ln n}$ ,	b) $\sum_{n=1}^{\infty} \frac{2}{n^2+1}$ ,	c) $\sum_{n=1}^{\infty} \frac{n}{2n-1}$ ,	d) $\sum_{n=1}^{\infty} \frac{2n}{3n+1}$ ,	e) $\sum_{n=1}^{\infty} \frac{e^{-\sqrt{n}}}{\sqrt{n}}$ ,
f) $\sum_{n=1}^{\infty} (-1)^n$ ,	g) $\sum_{n=1}^{\infty} \frac{2^{n-1}}{n^n}$ ,	h) $\sum_{n=1}^{\infty} \frac{(n!)^2}{(2n)!}$ ,	i) $\sum_{n=1}^{\infty} \frac{n}{n^2+1}$ ,	j) $\sum_{n=1}^{\infty} \frac{\sqrt[3]{n}}{n+\sqrt{n}}$ ,
k) $\sum_{n=1}^{\infty} \frac{n^2}{n^2+1}$ ,	l) $\sum_{n=1}^{\infty} \frac{n+1}{n^2+1}$ ,	m) $\sum_{n=1}^{\infty} \frac{n}{n+1}$ ,	n) $\sum_{n=1}^{\infty} \frac{3^n n!}{n^n}$ ,	o) $\sum_{n=1}^{\infty} \frac{e^n n!}{n^n}$ ,
p) $\sum_{n=1}^{\infty} \frac{1}{n^2-n}$ ,	q) $\sum_{n=1}^{\infty} \frac{2n-1}{\sqrt{2^n}}$ ,	r) $\sum_{n=1}^{\infty} \frac{n!}{2^{n+1}}$ ,	s) $\sum_{n=1}^{\infty} \frac{(-1)^n}{2\sqrt{n}}$ ,	t) $\sum_{n=1}^{\infty} \frac{n^5}{2^{n+3^n}}$ ,
u) $\sum_{n=1}^{\infty} \frac{2^n n!}{n^n}$ ,	v) $\sum_{n=1}^{\infty} \sin \frac{1}{n}$ ,	w) $\sum_{n=1}^{\infty} \cos \frac{1}{n}$ ,	x) $\sum_{n=1}^{\infty} \cos \frac{1}{n^2}$ ,	y) $\sum_{n=1}^{\infty} \sin \frac{1}{n^2}$ .

**2.4.2. cv. 402** Určite konvergenciu radov: ♣

a) $\sum_{n=1}^{\infty} \frac{1}{10n+1}$ ,	b) $\sum_{n=1}^{\infty} \frac{1}{100n+1}$ ,	c) $\sum_{n=1}^{\infty} \frac{1}{1000n+1}$ ,	d) $\sum_{n=1}^{\infty} \ln \frac{n^2+1}{n^2}$ ,
--	---	--	--



$$\begin{array}{llll}
\text{e)} \sum_{n=1}^{\infty} \frac{1}{(2n-1)^2}, & \text{f)} \sum_{n=1}^{\infty} \frac{1}{(3n-4)^2}, & \text{g)} \sum_{n=1}^{\infty} \frac{1}{(3n-1)^2}, & \text{h)} \sum_{n=1}^{\infty} \sin \frac{\pi}{3^n}, \\
\text{i)} \sum_{n=1}^{\infty} n^{-(1+\frac{1}{n})}, & \text{j)} \sum_{n=1}^{\infty} \frac{1}{n!} \left(\frac{n}{e}\right)^n, & \text{k)} \sum_{n=1}^{\infty} \arcsin \frac{1}{\sqrt{n}}, & \text{l)} \sum_{n=1}^{\infty} \operatorname{arctg} \frac{1}{n}, \\
\text{m)} \sum_{n=1}^{\infty} \operatorname{arctg} \frac{1}{n^2}, & \text{n)} \sum_{n=1}^{\infty} \arcsin \frac{1}{n}, & \text{o)} \sum_{n=1}^{\infty} \arcsin \frac{1}{n^2}, & \text{p)} \sum_{n=1}^{\infty} \ln \left(1 + \frac{1}{n}\right), \\
\text{q)} \sum_{n=1}^{\infty} \frac{1}{n} \left(\frac{2}{5}\right)^n, & \text{r)} \sum_{n=1}^{\infty} \frac{1}{2n} \left(\frac{3}{8}\right)^n, & \text{s)} \sum_{n=1}^{\infty} \frac{1}{n\sqrt{n+1}}, & \text{t)} \sum_{n=1}^{\infty} \frac{1}{\sqrt{n(n+1)}}, \\
\text{u)} \sum_{n=2}^{\infty} \frac{1}{n \ln^2 n}, & \text{v)} \sum_{n=2}^{\infty} \frac{1}{n \ln n}, & \text{w)} \sum_{n=2}^{\infty} \frac{1}{\sqrt[3]{\ln n}}, & \text{x)} \sum_{n=2}^{\infty} \frac{1}{\ln n \ln n}.
\end{array}$$

### 2.4.3. ~~V 463~~ V 463. Vite konvergenciu radov: ♣

$$\begin{array}{llllll}
\text{a)} \sum_{n=1}^{\infty} \frac{n}{2^n}, & \text{b)} \sum_{n=1}^{\infty} \frac{1}{\sqrt{n}}, & \text{c)} \sum_{n=1}^{\infty} \frac{n^2}{e^{\sqrt{n}}}, & \text{d)} \sum_{n=1}^{\infty} \frac{1}{n!}, & \text{e)} \sum_{n=1}^{\infty} \frac{1}{2n}, & \text{f)} \sum_{n=1}^{\infty} \frac{2^n}{n}, \\
\text{g)} \sum_{n=1}^{\infty} \frac{n!}{n\sqrt{n}}, & \text{h)} \sum_{n=1}^{\infty} \frac{1}{4\sqrt{n}}, & \text{i)} \sum_{n=1}^{\infty} \frac{n!}{n^n}, & \text{j)} \sum_{n=1}^{\infty} \frac{n!}{10^n}, & \text{k)} \sum_{n=1}^{\infty} \frac{n^3}{e^n}, & \text{l)} \sum_{n=1}^{\infty} \frac{(n!)^2}{2^{n \cdot n}}, \\
\text{m)} \sum_{n=1}^{\infty} \frac{1 \cdot 4 \cdots n^2}{1 \cdot 3 \cdots (2n-1)}, & \text{n)} \sum_{n=1}^{\infty} \frac{1}{3^{\frac{2}{3}} 3^{\frac{1}{3}} \cdots 3^{\frac{1}{n}}}, & \text{o)} \sum_{n=1}^{\infty} \frac{1+2+3+\cdots+n}{n^3}, & & & \\
\text{p)} \sum_{n=1}^{\infty} \frac{1 \cdot 11 \cdots (10n-9)}{(2n-1)!}, & \text{q)} \sum_{n=1}^{\infty} \frac{3 \cdot 5 \cdot 7 \cdots (2n+1)}{2 \cdot 5 \cdot 8 \cdots (3n-1)}, & \text{r)} \sum_{n=1}^{\infty} \frac{1+2+3+\cdots+n}{n^4}. & & & 
\end{array}$$

### 2.4.4. ~~V 464~~ V 464. Vite konvergenciu radov: ♣

$$\begin{array}{llll}
\text{a)} \sum_{n=1}^{\infty} \frac{\sqrt{n+1} - \sqrt{n}}{n}, & \text{b)} \sum_{n=1}^{\infty} [\sqrt{n} - \sqrt{n-1}], & \text{c)} \sum_{n=1}^{\infty} \frac{1}{\sqrt{(2n-1)(2n+1)}}, & \\
\text{d)} \sum_{n=1}^{\infty} \left(\frac{2n+2}{3n+1}\right)^{2n-1}, & \text{e)} \sum_{n=1}^{\infty} \left(\frac{n+1}{n^2+1}\right)^{2n-1}, & \text{f)} \sum_{n=1}^{\infty} \frac{1}{\sqrt{n(n+1)(n+2)}}, & \\
\text{g)} \sum_{n=1}^{\infty} \frac{(n-1)!(n+3)!3^n}{(2n)!}, & \text{h)} \sum_{n=1}^{\infty} \left(\frac{1}{n} - \frac{1}{3^n}\right), & \text{i)} \sum_{n=1}^{\infty} \frac{3 - (-1)^n}{(-1)^{n \cdot 2n}}, & \\
\text{j)} \sum_{n=1}^{\infty} \left(\frac{n}{2}\right)^n \sin \frac{\pi}{2^n}, & \text{k)} \sum_{n=1}^{\infty} \left(\frac{1}{2^{2n-1}} + \frac{1}{3^{2n}}\right), & \text{l)} \sum_{n=1}^{\infty} \operatorname{tg} \frac{1}{\sqrt{n}} \sin \frac{1}{\sqrt{n}}, & \\
\text{m)} \sum_{n=1}^{\infty} \frac{1}{\ln^{n+1}(n+1)}, & \text{n)} \sum_{n=1}^{\infty} \frac{(-1)^n}{\ln(2n+1)}, & \text{o)} \sum_{n=1}^{\infty} \frac{1}{(3n-2)(3n+1)}, & \\
\text{p)} \sum_{n=1}^{\infty} \frac{1}{(4n-3)(4n-1)}, & \text{q)} \sum_{n=1}^{\infty} \sin \frac{(n^2+1)\pi}{n}, & \text{r)} \sum_{n=1}^{\infty} \frac{2n+1}{(n+1)^2(n+2)^2}, & \\
\text{s)} \sum_{n=1}^{\infty} n \operatorname{tg} \frac{\pi}{2^{n+1}}, & \text{t)} \sum_{n=1}^{\infty} \frac{1}{\sqrt{n}} \sin \frac{1}{n}, & \text{u)} \sum_{n=1}^{\infty} \operatorname{tg} \frac{1}{n} \sin \frac{1}{n}, & \\
\text{v)} \sum_{n=1}^{\infty} \left(\frac{3n}{3n+1}\right)^n, & \text{w)} \sum_{n=1}^{\infty} \left(\frac{n+2}{2n+1}\right)^n, & \text{x)} \sum_{n=1}^{\infty} n^{\ln n} (\ln n)^n. & 
\end{array}$$

### 2.4.5. ~~V 465~~ V 465. Vite konvergenciu radov: ♣

$$\begin{array}{llll}
\text{a)} \sum_{n=1}^{\infty} \frac{2+(-1)^n n}{n+1}, & \text{b)} \sum_{n=1}^{\infty} \frac{1}{n^2+2n}, & \text{c)} \sum_{n=1}^{\infty} \frac{2^{n-1}}{(n-1)!}, & \text{d)} \sum_{n=1}^{\infty} (-1)^n \frac{n^2}{2^n}, \\
\text{e)} \sum_{n=1}^{\infty} \frac{(-1)^n n}{(n+1)!}, & \text{f)} \sum_{n=1}^{\infty} \frac{1}{\sqrt[3]{n^{n+1}}}, & \text{g)} \sum_{n=1}^{\infty} \frac{n^2}{2n^2+1}, & \text{h)} \sum_{n=1}^{\infty} \frac{(-1)^{n+1}}{n+\sqrt[3]{10}},
\end{array}$$

i) 
$$\sum_{n=1}^{\infty} \frac{n!}{101 \cdot 102 \cdot 103 \cdots (100+n)},$$

k) 
$$\sum_{n=1}^{\infty} \frac{1000 \cdot 1001 \cdot 1002 \cdots (999+n)}{1 \cdot 3 \cdot 5 \cdot 7 \cdots (2n-1)},$$

j) 
$$\sum_{n=1}^{\infty} \frac{1000 \cdot 1002 \cdot 1004 \cdots (998+2n)}{1 \cdot 4 \cdot 7 \cdot 10 \cdots (3n-2)},$$

l) 
$$\sum_{n=1}^{\infty} \frac{\sqrt{n!}}{(2+\sqrt{1})(2+\sqrt{2}) \cdots (2+\sqrt{n})}.$$

2.4.6. ~~Vy406~~ Vypočítajte súčet radov: ♣

a) 
$$\sum_{n=1}^{\infty} \frac{1}{(n+1)(n+2)},$$

b) 
$$\sum_{n=1}^{\infty} \binom{n+3}{n}^{-1},$$

c) 
$$\sum_{n=1}^{\infty} [\sqrt{n+1} - \sqrt{n}],$$

d) 
$$\sum_{n=1}^{\infty} \frac{1}{(n+3)(n+7)},$$

e) 
$$\sum_{n=1}^{\infty} \frac{2n+1}{n^2(n+1)^2},$$

f) 
$$\sum_{n=1}^{\infty} \frac{1}{(n+2)(n+3)(n+4)},$$

g) 
$$\sum_{n=1}^{\infty} \left[ \frac{1}{2^n} + \frac{1}{3^n} \right],$$

h) 
$$\sum_{n=1}^{\infty} \frac{2n-1}{2^n},$$

i) 
$$\sum_{n=1}^{\infty} \frac{1}{n(n+1)(n+2)},$$

j) 
$$\sum_{n=1}^{\infty} (-1)^{n+1} \left(\frac{2}{3}\right)^n,$$

k) 
$$\sum_{n=1}^{\infty} (-1)^n \left(\frac{5}{7}\right)^n,$$

l) 
$$\sum_{n=1}^{\infty} \frac{1}{(3n-2)(3n+1)},$$

m) 
$$\sum_{n=1}^{\infty} [\sqrt{n+2} - 2\sqrt{n+1} + \sqrt{n}],$$

n) 
$$\sum_{n=1}^{\infty} \frac{1}{(4n+3)(4n+7)(4n+11)}.$$

2.4.7. ~~Vy407~~ Určite relatívnu a absolútnu konvergenciu radov: ♣

a) 
$$\sum_{n=1}^{\infty} \frac{(-1)^{n-1}}{n-1},$$

b) 
$$\sum_{n=1}^{\infty} \frac{(-1)^{2n-1}}{n-1},$$

c) 
$$\sum_{n=1}^{\infty} \frac{(-1)^{n-1}}{\sqrt{n}},$$

d) 
$$\sum_{n=1}^{\infty} \frac{(-1)^{n-1}}{n^3 + \ln n},$$

e) 
$$\sum_{n=2}^{\infty} \frac{(-1)^n}{n \ln n},$$

f) 
$$\sum_{n=1}^{\infty} \frac{(-1)^{\sqrt{n}}}{n},$$

g) 
$$\sum_{n=1}^{\infty} \frac{(-1)^n}{\sqrt[n]{n}},$$

h) 
$$\sum_{n=1}^{\infty} \frac{(-1)^n}{\sqrt{n+(-1)^n}},$$

i) 
$$\sum_{n=1}^{\infty} \frac{(-1)^{n-1}}{n^2},$$

j) 
$$\sum_{n=1}^{\infty} \frac{(-1)^n \sin n}{6^n},$$

k) 
$$\sum_{n=1}^{\infty} \frac{(-1)^{\frac{n(n-1)}{2}}}{2^n},$$

l) 
$$\sum_{n=1}^{\infty} \frac{(-1)^n \sin^2 n}{n},$$

m) 
$$\sum_{n=1}^{\infty} \frac{(-1)^n (2n+1)}{n(n+1)},$$

n) 
$$\sum_{n=1}^{\infty} \frac{(-1)^n (n+2)}{n+1},$$

o) 
$$\sum_{n=1}^{\infty} (-1)^n \left(\frac{2n+1}{3n+1}\right)^n.$$

2.4.8. ~~P1408~~ Aké  $a \in \mathbb{R}$  konvergujú rady: ♣

a) 
$$\sum_{n=1}^{\infty} \frac{n! e^n}{n^{n+a}},$$

b) 
$$\sum_{n=1}^{\infty} \frac{\ln(n!)}{n^a},$$

c) 
$$\sum_{n=1}^{\infty} \frac{\ln n}{n^a},$$

d) 
$$\sum_{n=1}^{\infty} \left[ e - \left(1 + \frac{1}{n}\right)^n \right]^a,$$

e) 
$$\sum_{n=1}^{\infty} \frac{1}{a^{\ln n}},$$

f) 
$$\sum_{n=1}^{\infty} n^{\ln a},$$

g) 
$$\sum_{n=1}^{\infty} n^a \sin \frac{\pi}{n},$$

h) 
$$\sum_{n=1}^{\infty} \frac{\sqrt{n+2} - \sqrt{n-2}}{n^a}.$$

2.4.9. ~~N409~~ Rady  $\sum_{n=1}^{\infty} a_n$ ,  $\sum_{n=1}^{\infty} b_n$  divergujú. ♣ Čo platí o konvergencii radov:

a) 
$$\sum_{n=1}^{\infty} (a_n + b_n),$$

b) 
$$\sum_{n=1}^{\infty} a_n b_n,$$

c) 
$$\sum_{n=1}^{\infty} \frac{a_n}{b_n},$$

d) 
$$\sum_{n=1}^{\infty} \max \{a_n, b_n\}.$$

2.4.10. ~~N410~~ Rad  $\sum_{n=1}^{\infty} a_n$  konverguje a  $\sum_{n=1}^{\infty} b_n$  diverguje. Čo platí o konvergencii radov: ♣

a) 
$$\sum_{n=1}^{\infty} (a_n + b_n),$$

b) 
$$\sum_{n=1}^{\infty} a_n b_n,$$

c) 
$$\sum_{n=1}^{\infty} \frac{a_n}{b_n},$$

d) 
$$\sum_{n=1}^{\infty} \max \{a_n, b_n\}.$$

2.4.11. ~~Dok11~~ Dokažte, že ak rad  $\sum_{n=1}^{\infty} a_n$  konverguje, potom tiež konverguje rad  $\sum_{n=1}^{\infty} a_n^2$ .

**2.4.12. Dokážte**, že ak konvergujú číselné rady  $\sum_{n=1}^{\infty} a_n^2$ ,  $\sum_{n=1}^{\infty} b_n^2$ , potom konvergujú tiež rady  $\sum_{n=1}^{\infty} |a_n b_n|$ ,  $\sum_{n=1}^{\infty} (a_n \pm b_n)^2$ .

**2.4.13. Dokážte**, že ak  $\lim_{n \rightarrow \infty} n a_n = a \neq 0$ , potom číselný rad  $\sum_{n=1}^{\infty} a_n$  diverguje.

**2.4.14. Vypočítajte** súčet radu  $\sum_{n=1}^{\infty} \frac{1+n}{3^n} + \sum_{n=1}^{\infty} \frac{(-1)^{n-n}}{3^n}$ . ♣

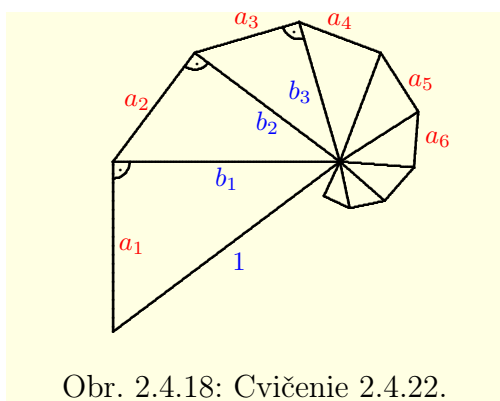
**2.4.15. Vypočítajte** súčet radu  $\sum_{n=1}^{\infty} \frac{(-3)^{n+7^{n+1}}}{14^n}$ . ♣

**2.4.16. Dokážte**, že platí  $\sum_{n=0}^{\infty} \frac{1}{n!} \cdot \sum_{n=0}^{\infty} \frac{(-1)^n}{n!} = 1$ .

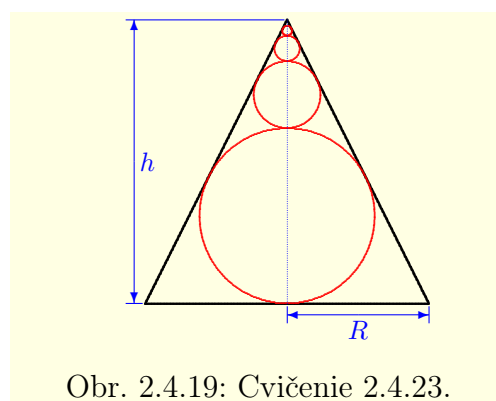
**2.4.17. Dokážte**: a)  $\sum_{n=0}^{\infty} \frac{1}{n!} \cdot \sum_{n=0}^{\infty} \frac{1}{n!} = \sum_{n=0}^{\infty} \frac{2^n}{n!}$ , b)  $\sum_{n=0}^{\infty} \frac{3^n}{n!} \cdot \sum_{n=0}^{\infty} \frac{(-2)^n}{n!} = \sum_{n=0}^{\infty} \frac{1}{n!}$ .

**2.4.18. Prerobte** rad  $\sum_{n=1}^{\infty} \frac{(-1)^{n+1}}{n}$ , aby divergoval do  $\infty$ , do  $-\infty$  a konvergoval k 0.

**2.4.19. Prerobte** rad  $\sum_{n=1}^{\infty} \frac{(-1)^{n+1}}{\sqrt{n}}$ , aby divergoval do  $\infty$ , do  $-\infty$  a konvergoval k 0.



Obr. 2.4.18: Cvičenie 2.4.22.



Obr. 2.4.19: Cvičenie 2.4.23.

**2.4.20. Dajte** súčet radu  $\sum_{n=1}^{\infty} a_n$  a jeho  $n$ -tý člen  $a_n$ , ak jeho  $n$ -tý čiastočný súčet je: ♣

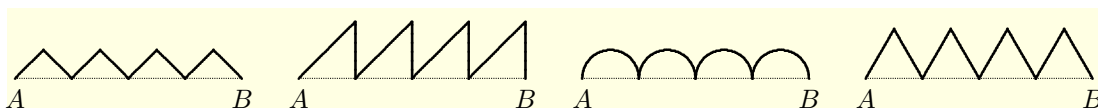
a)  $s_n = 1 - \frac{1}{2^n}$ ,      b)  $s_n = 1 + \frac{1}{2^n}$ ,      c)  $s_n = \frac{(-1)^n}{n}$ ,      d)  $s_n = \frac{n-2}{2n}$ .

**2.4.21. Najdte** súčet radu  $\sum_{n=1}^{\infty} a_n$  s chybou menšou ako  $\varepsilon$ , ak: ♣

a)  $a_n = \frac{1}{n^2}$ ,  $\varepsilon = 0,1$ ,      b)  $a_n = \frac{1}{n^3}$ ,  $\varepsilon = 0,01$ ,      c)  $a_n = \frac{1}{n^2+2n-3}$ ,  $\varepsilon = 0,03$ .

**2.4.22.** ~~2.4.22~~ ~~2.4.22~~  $a_1 \in (0; 1)$ . Uvažujme pravouhlý trojuholník s preponou 1 a odvesnami  $a_1, b_1$ . Nech  $b_1$  predstavuje preponu podobného pravouhlého trojuholníka s odvesnami  $a_2, b_2$ . Nech  $b_2$  predstavuje preponu podobného pravouhlého trojuholníka s odvesnami  $a_3, b_3$ . Takto zostrojíme nekonečnú postupnosť podobných pravouhlých trojuholníkov s odvesnami  $a_n, b_n$  (obr. 2.4.18). Zistite, či rad  $\sum_{n=1}^{\infty} a_n$  konverguje. Ak áno, vypočítajte jeho súčet  $a$ . Vypočítajte súčet obsahov  $P$  týchto trojuholníkov. ♣

**2.4.23.** ~~2.4.23~~ ~~2.4.23~~  $D$  a  $R$  sú postupne vpísané gule (obr. 2.4.19). Nájďte súčet objemov týchto gulí. ♣

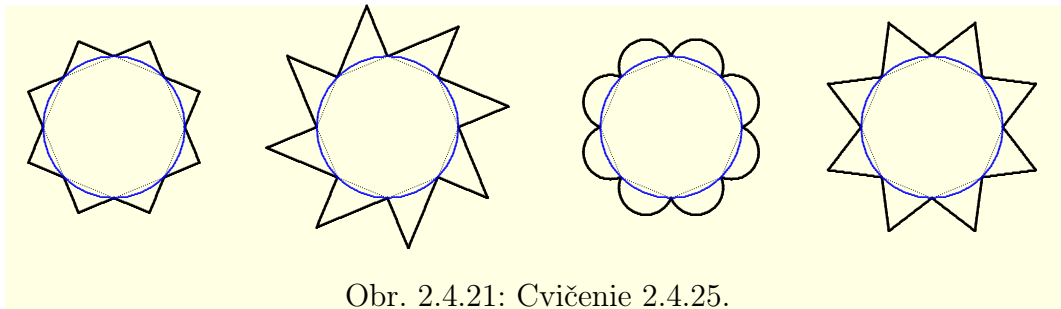


Obr. 2.4.20: Cvičenie 2.4.24.

**2.4.24.** ~~2.4.24~~ ~~2.4.24~~ Úsečka  $AB$  dĺžky  $d > 0$  je rozdelená deliacimi bodmi na  $n \in \mathbb{N}$  rovnakých častí. Nad každou z týchto častí zostrojíme (viď obrázok 2.4.20): ♣

- pravouhlý rovnostranný trojuholník s preponou, ktorá leží na úsečke  $AB$ ,
- pravouhlý rovnostranný trojuholník s odvesnou, ktorá leží na úsečke  $AB$ ,
- polkružnicu, ktorej priemer leží na úsečke  $AB$ ,
- rovnostranný trojuholník.

Vypočítajte dĺžku takto vzniknutej čiary pre  $n \rightarrow \infty$  a porovnajte ju s hodnotou  $d$ .



Obr. 2.4.21: Cvičenie 2.4.25.

**2.4.25.** ~~2.4.25~~ ~~2.4.25~~ Kružnice s polomerom  $r > 0$  vpíšeme pravidelný  $n$ -uholník,  $n \in \mathbb{N}$ . Nad každou z jeho strán zostrojíme smerom von z kružnice (viď obrázok 2.4.21): ♣

- pravouhlý rovnostranný trojuholník s preponou, ktorá leží na strane  $n$ -uholníka,
- pravouhlý rovnostranný trojuholník s odvesnou, ktorá leží na strane  $n$ -uholníka,
- polkružnicu, ktorej priemer leží na strane  $n$ -uholníka,
- rovnostranný trojuholník.

Vypočítajte dĺžku takto vzniknutej čiary pre  $n \rightarrow \infty$  a porovnajte s obvodom kružnice  $o$ .

**2.4.26.** ~~2.4.26~~ ~~2.4.26~~ Vypočítajte obsah plochy, ktorú ohraničujú obrazce z cvičenia 2.4.25 a porovnajte ju s obsahom  $P$  vnútra kružnice. ♣

## 2.5 Komplexné čísla

Požiadavka, aby každá algebraická rovnica mala aspoň jedno riešenie, viedla k rozšíreniu množiny reálnych čísel na množinu komplexných čísel. Význam komplexných čísel zďaleka presahuje túto oblasť. Poznatky o komplexných číslach sa často používajú v rôznych technických oboroch, hlavne v elektrotechnike. Neskôr sa budeme komplexným číslam venovať podrobnejšie. Zatiaľ sa obmedzíme iba na ich základné vlastnosti, ktoré nám pomôžu pri lepšom chápaní niektorých pojmov.

Z doterajšieho štúdia vieme, že pre každé  $x \in R$  platí  $x^2 \geq 0$ . To znamená, že napríklad rovnica  $x^2 = -1$  nemá v množine reálnych čísel  $R$  riešenie. Z tohto dôvodu zavádzame nový prvok s označením  $i$ , pre ktorý platí  $i^2 = -1$ .

Prvok  $i$  nazývame **imaginárna jednotka**<sup>35</sup> a ľubovoľný výraz  $a + ib$ , kde  $a, b \in R$ , nazývame **komplexné číslo**.

Množinu všetkých komplexných čísel označujeme  $C$  a nazývame **množina komplexných čísel**. Symbolicky ju môžeme vyjadriť  $C = \{a + ib; a, b \in R\}$ .

Ak  $y = a + ib$  je komplexné číslo, potom reálne číslo  $a$  nazývame **reálna časť komplexného čísla  $z$**  a označujeme  $a = \operatorname{Re} z$ . Reálne číslo  $b$  nazývame **imaginárna časť komplexného čísla  $z$**  a označujeme  $b = \operatorname{Im} z$ .

### 2.5.1 Operácie s komplexnými číslami

Nech  $z_1 = a_1 + ib_1$ ,  $z_2 = a_2 + ib_2$  sú komplexné čísla. **Rovnosť**  $z_1 = z_2$  znamená, že sa rovnajú reálne a aj imaginárne časti týchto čísel, t. j.  $a_1 = a_2$ ,  $b_1 = b_2$ .

Je zrejmé, že každé reálne číslo je zároveň aj komplexné číslo. Sú to komplexné čísla s nulovou imaginárnou časťou, t. j.  $z = a + i \cdot 0 = a \in R$ .

Ak má komplexné číslo nulovú reálnu časť, t. j. ak  $z = 0 + ib = ib$ , potom ho nazývame **rýdzo imaginárne číslo**.

V množine  $C$  definujeme operácie **sčítania** a **násobenia** pre  $z_1, z_2 \in C$  vzťahmi

$$\begin{aligned} z_1 + z_2 &= (a_1 + ib_1) + (a_2 + ib_2) = (a_1 + a_2) + i(b_1 + b_2), \\ z_1 \cdot z_2 &= (a_1 + ib_1) \cdot (a_2 + ib_2) = (a_1a_2 - b_1b_2) + i(a_1b_2 + a_2b_1). \end{aligned}$$

V množine  $C$  platia axiómy (S1) — (S4), (N1) — (N4) a (D).<sup>36</sup> Nulový prvok je  $0 = 0 + i \cdot 0$  a jednotkový prvok je  $1 = 1 + i \cdot 0$ .

**Rozdiel čísel**  $z_1, z_2$  definujeme vzťahom

$$z_1 - z_2 = (a_1 + ib_1) - (a_2 + ib_2) = (a_1 - a_2) + i(b_1 - b_2)$$

a **podiel čísel**  $z_1, z_2 \neq 0$  definujeme vzťahom

$$\frac{z_1}{z_2} = \frac{a_1 + ib_1}{a_2 + ib_2} = \frac{a_1 + ib_1}{a_2 + ib_2} \cdot \frac{a_2 - ib_2}{a_2 - ib_2} = \frac{a_1a_2 + b_1b_2}{a_2^2 + b_2^2} + i \frac{a_2b_1 - a_1b_2}{a_2^2 + b_2^2}. \quad (2.9)$$

V množine  $C$  nie je definované usporiadanie  $<$ , preto tu neplatia axiómy (U1) — (U5) a (AH). Keby tieto axiómy platili, potom by muselo platiť  $i > 0$  alebo  $i < 0$ . Potom by na základe vety 2.1.9 platilo  $-1 = i^2 > 0$  alebo  $-1 = (-i)^2 > 0$ , čo je spor.

#### Príklad 2.5.1.K2-pr59

Ak  $z_1 = 1 + i$ ,  $z_2 = 2 + 3i$ , potom platí:

$$\begin{aligned} z_1 z_2 &= (1 + i)(2 + 3i) = 2 + 5i + 3i^2 = -1 + 5i, \\ \frac{z_1}{z_2} &= \frac{1+i}{2+3i} = \frac{(1+i)(2-3i)}{(2+3i)(2-3i)} = \frac{5-i}{13} = \frac{5}{13} - \frac{i}{13}, \quad \frac{z_2}{z_1} = \frac{2+3i}{1+i} = \frac{(2+3i)(1-i)}{(1+i)(1-i)} = \frac{5+i}{2} = \frac{5}{2} + \frac{i}{2}. \quad \blacksquare \end{aligned}$$

<sup>35</sup>Niekedy, hlavne v elektrotechnickej praxi, sa imaginárna jednotka značí symbolom  $j$ .

<sup>36</sup>To znamená, že množina  $C$  s operáciami  $+$ ,  $\cdot$  je komutatívne teleso.

Nech  $z = a + ib$ ,  $a, b \in \mathbb{R}$ , potom číslo  $\bar{z} = a - ib$  nazývame **komplexne združené číslo s číslom  $z$  (k číslu  $z$ )**. Čísla  $z$  a  $\bar{z}$  nazývame **komplexne združené**.

Z definície čísla  $\bar{z}$  vyplýva, že pre komplexne združené čísla  $z$  a  $\bar{z}$  platí:

$$z + \bar{z} = 2a, \quad z - \bar{z} = 2ib, \quad z\bar{z} = a^2 - i^2 b^2 = a^2 + b^2.$$

### Veta 2.5.1.K2-veta87

Nech  $z_1, z_2, z_3 \in \mathbb{C}$ ,  $z_3 \neq 0$ , potom platí:

$$\text{a) } \overline{z_1 + z_2} = \bar{z}_1 + \bar{z}_2, \quad \text{b) } \overline{z_1 z_2} = \bar{z}_1 \bar{z}_2, \quad \text{c) } \frac{\bar{z}_1}{z_3} = \frac{\bar{z}_1}{z_3}, \quad \text{d) } \overline{(\bar{z}_1)} = z_1.$$

**Dôkaz.**

Časti a), d) vyplývajú priamo z definície.

b) Nech  $z_1 = a_1 + ib_1$ ,  $z_2 = a_2 + ib_2$ , potom tvrdenie vyplýva z rovností

$$\begin{aligned} \overline{z_1 z_2} &= \overline{(a_1 a_2 - b_1 b_2) + i(a_1 b_2 + a_2 b_1)} = (a_1 a_2 - b_1 b_2) - i(a_1 b_2 + a_2 b_1), \\ \bar{z}_1 \bar{z}_2 &= (a_1 - ib_1) \cdot (a_2 - ib_2) = (a_1 a_2 - b_1 b_2) - i(a_1 b_2 + a_2 b_1). \end{aligned}$$

c) Nech  $z_1 = a_1 + ib_1$ ,  $z_3 = a_3 + ib_3$ ,  $z_3 \neq 0$ . Tvrdenie vyplýva na základe (2.9) z rovností

$$\left[ \frac{\bar{z}_1}{z_3} \right] = \frac{a_1 a_3 + b_1 b_3}{a_3^2 + b_3^2} + i \frac{a_3 b_1 - a_1 b_3}{a_3^2 + b_3^2} = \frac{a_1 a_3 + b_1 b_3}{a_3^2 + b_3^2} - i \frac{a_3 b_1 - a_1 b_3}{a_3^2 + b_3^2}, \quad \frac{\bar{z}_1}{z_3} = \frac{a_1 - ib_1}{a_3 - ib_3} = \frac{a_1 + i(-b_1)}{a_3 + i(-b_3)} = \frac{a_1 a_3 + b_1 b_3}{a_3^2 + b_3^2} + i \frac{-a_3 b_1 + a_1 b_3}{a_3^2 + b_3^2}. \blacksquare$$

## 2.5.2 Geometrická interpretácia komplexných čísel

Každé komplexné číslo  $z = a + ib$  je jednoznačne určené usporiadanou dvojicou reálnych čísel  $[a; b]$ , takže môžeme písať  $\mathbb{C} = \{[a; b] ; a, b \in \mathbb{R}\}$ .

Nech  $z_1 = [a_1; b_1]$ ,  $z_2 = [a_2; b_2]$ , potom pre operácie  $+$  a  $\cdot$  platí:

$$[a_1; b_1] + [a_2; b_2] = [a_1 + a_2; b_1 + b_2], \quad [a_1; b_1] \cdot [a_2; b_2] = [a_1 a_2 - b_1 b_2; a_1 b_2 + a_2 b_1].$$

Ak zvolíme v rovine súradnice, potom komplexné číslo  $z = a + ib$  určuje práve jeden bod so súradnicami  $[a; b]$ . Rovinu, ktorá predstavuje komplexné čísla, nazývame **Gaussova rovina (rovina komplexných čísel)**.

Reálne čísla  $a$  znázorňujeme na súradnicovej osi, ktorú nazývame **reálna os** a rýdzo komplexné čísla  $ib$  na druhej osi, ktorú nazývame **imaginárna os** (obr.2.5.22). Komplexné čísla  $z$ ,  $\bar{z}$  reprezentujú body, ktoré sú symetrické podľa reálnej osi.

### Poznámka 2.5.1.K2-poz76

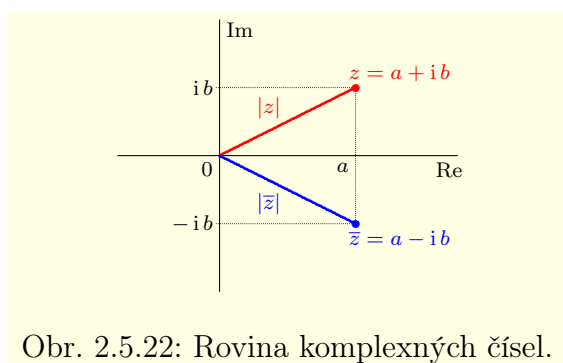
Komplexné číslo  $z = a + ib$  môžeme v rovine reprezentovať vektorom s počiatočným bodom  $[0; 0]$  a koncovým bodom  $[a; b]$ . Súčet  $z_1 + z_2$ , resp. rozdiel  $z_1 - z_2$  môžeme potom interpretovať ako sčítanie, resp. odčítanie zodpovedajúcich vektorov (obr.2.5.23).

Nech  $z = a + ib$  je komplexné číslo. **Absolútnou hodnotou čísla  $z$**  nazývame  $|z| = \sqrt{a^2 + b^2}$ . Z geometrického hľadiska predstavuje  $|z|$  vzdialenosť bodov  $0$  a  $z$  (obr.2.5.22). Absolútna hodnota komplexného čísla má rovnaké vlastnosti ako absolútna hodnota reálneho čísla.

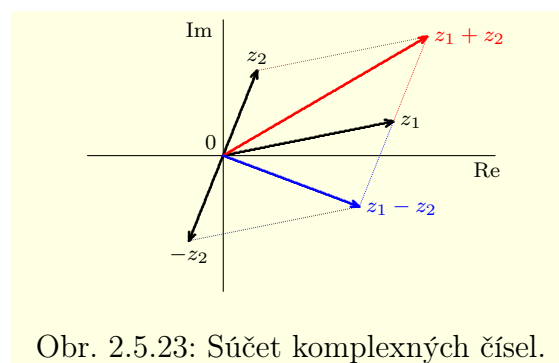
Ak je  $z$  reálne, t. j.  $z = a + i \cdot 0$ , potom platí  $|z| = \sqrt{a^2 + 0^2} = \sqrt{a^2} = |a|$ . To znamená, že absolútna hodnota reálneho čísla  $z$  je zhodná s absolútnou hodnotou komplexného čísla  $z$ . Z definície vyplýva priamo nasledujúca veta.

### Veta 2.5.2.K2-veta88

Nech  $z \in \mathbb{C}$ , potom platí: a)  $|z| = |\bar{z}|$ , b)  $|z|^2 = z\bar{z}$ .



Obr. 2.5.22: Rovina komplexných čísel.



Obr. 2.5.23: Súčet komplexných čísel.

**Poznámka 2.5.2.K2-poz78**

V množine  $C$  definujeme metriku predpisom  $\rho(z_1, z_2) = |z_1 - z_2|$ , pre  $z_1, z_2 \in C$ .

Takto definovaný metrický priestor má rovnaké vlastnosti ako euklidovský metrický priestor  $R^2$ . To znamená, že pri vyšetrowaní množiny  $C$  môžeme využiť metrické vlastnosti množiny  $R^2$  a tiež vlastnosti metrických priestorov.

Nech  $z = a + ib$ ,  $z \neq 0$  je komplexné číslo. Potom existuje číslo  $\varphi \in R$  také, že

$$\cos \varphi = \frac{\operatorname{Re} z}{|z|} = \frac{a}{|z|} = \frac{a}{\sqrt{a^2 + b^2}}, \quad \sin \varphi = \frac{\operatorname{Im} z}{|z|} = \frac{b}{|z|} = \frac{b}{\sqrt{a^2 + b^2}}. \quad (2.10)$$

Číslo  $\varphi$  predstavuje veľkosť orientovaného uhla, ktorý zvierá kladná časť reálnej osi s vektorom reprezentujúcim komplexné číslo  $z$  (obr.2.5.24). Každé číslo  $\varphi \in R$ , ktoré vyhovuje rovniciam (2.10), nazývame **hodnota argumentu komplexného čísla  $z$** .

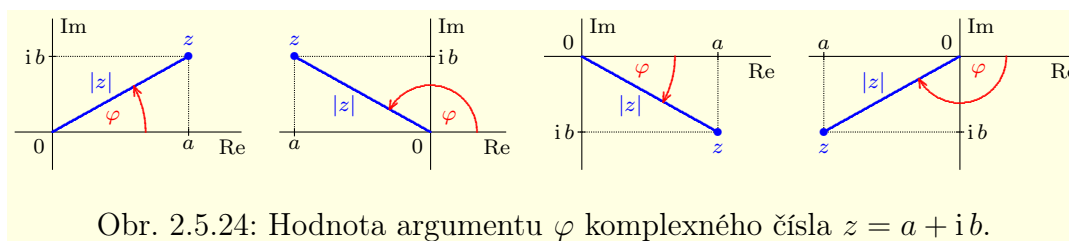
Množinu všetkých hodnôt argumentov komplexného čísla  $z$  označujeme symbolom  $\arg z$  a nazývame **argument komplexného čísla  $z$** .

Pre komplexné číslo  $z = 0$  argument nedefinujeme.

Z vlastností funkcií sínus a kosínus<sup>37</sup> vyplýva, že ak  $\varphi \in \arg z$ , potom pre všetky  $k \in Z$  platí  $\varphi + 2k\pi \in \arg z$ . Ak  $\varphi_1 \in \arg z$ ,  $\varphi_2 \in \arg z$ , potom  $\varphi_1 - \varphi_2 = 2k\pi$ , kde  $k \in Z$ .

To znamená, že ak  $\varphi$  je hodnota argumentu  $z$ , potom  $\arg z = \{\varphi + 2k\pi; k \in Z\}$ .

Z predchádzajúceho vyplýva, že každé komplexné číslo  $z \neq 0$  môžeme vyjadriť v tzv. **goniometric-kom tvare**  $z = |z|(\cos \varphi + i \sin \varphi)$ , kde  $\varphi \in \arg z$ .

Obr. 2.5.24: Hodnota argumentu  $\varphi$  komplexného čísla  $z = a + ib$ .**Poznámka 2.5.3.K2-poz77**

Je zrejmé, že goniometrický tvar komplexného čísla  $z$  nie je určený jednoznačne. Hodnôt argumentu  $\varphi$  existuje nekonečne veľa, preto si z nich jednu vyberieme. Túto hodnotu nazývame **hlavná hodnota argumentu komplexného čísla  $z$**  a označujeme  $\operatorname{Arg} z$ . Volíme ju obyčajne z intervalu  $(-\pi; \pi)$ .<sup>38</sup>

<sup>37</sup>Bližšie sa im budeme venovať v nasledujúcej kapitole.

<sup>38</sup>Je to vec dohody, niekedy sa volí hlavná hodnota argumentu z intervalu  $(0; 2\pi)$ .

**Príklad 2.5.2.K2-pr56**

$$\text{a) } z = -1 - i = |z|(\cos \varphi + i \sin \varphi) = \sqrt{2} \left( -\frac{1}{\sqrt{2}} - \frac{i}{\sqrt{2}} \right) = \sqrt{2} \left( \cos \frac{5\pi}{4} + i \sin \frac{5\pi}{4} \right).$$

$$\text{Platí } |z| = \sqrt{1^2 + 1^2} = \sqrt{2}, \cos \varphi = \sin \varphi = -\frac{1}{\sqrt{2}}, \varphi = \frac{5\pi}{4} + 2k\pi, k \in \mathbb{Z}, \text{Arg } z = -\frac{\pi}{4}.$$

$$\text{b) } z = 2 \left( \cos \frac{\pi}{3} + i \sin \frac{\pi}{3} \right) = 2 \left( \frac{1}{2} + \frac{\sqrt{3}i}{2} \right) = 1 + \sqrt{3}i. \blacksquare$$

V nasledujúcej vete sú uvedené dva dôležité vzorce, ktoré nám zjednodušia výpočty s komplexnými číslami. Ich dôkaz presahuje rámec týchto skrípt, preto ho neuvádzame.

**Veta 2.5.3.K2-veta89**

Nech  $z_1, z_2 \in \mathbb{C}$ , pričom  $z_1 = |z_1|(\cos \varphi + i \sin \varphi)$ ,  $z_2 = |z_2|(\cos \psi + i \sin \psi)$ . Potom platí:

$$z_1 z_2 = |z_1| |z_2| [\cos(\varphi + \psi) + i \sin(\varphi + \psi)], \quad \frac{z_1}{z_2} = \frac{|z_1|}{|z_2|} [\cos(\varphi - \psi) + i \sin(\varphi - \psi)].$$

**Dôsledok 2.5.3.a (Moivreov vzorec).K2-dosl27**

Ak<sup>39</sup>  $z = |z|(\cos \varphi + i \sin \varphi) \in \mathbb{C}$ ,  $n \in \mathbb{N}$ , potom platí  $z^n = |z|^n (\cos n\varphi + i \sin n\varphi)$ .

**Dôsledok 2.5.3.b.K2-dosl29**

Ak  $z = |z|(\cos \varphi + i \sin \varphi) \in \mathbb{C}$ ,  $n \in \mathbb{N}$ , potom rovnica  $w^n = z$  má práve  $n$  riešení

$$w_{k+1} = \sqrt[n]{|z|} \left( \cos \frac{\varphi + 2k\pi}{n} + i \sin \frac{\varphi + 2k\pi}{n} \right), \quad \text{kde } k = 0, 1, \dots, n-1.$$

K množine komplexných čísel  $\mathbb{C}$  pridávame bod  $\infty$ , ktorý nazývame **nekonečno**. Bod  $\infty$  je práve jeden a má trochu iný význam ako body  $\pm\infty$  pri reálnych číslach. Nedefinujeme výrazy  $\pm\infty + bi$ ,  $a \pm i\infty$ ,  $\pm\infty \pm i\infty$ , ale definujeme iba jeden bod  $\infty$ . Množinu  $\mathbb{C}^* = \mathbb{C} \cup \{\infty\}$  nazývame **uzavretou (rozšírenou) množinou komplexných čísel (Gaussovou rovinou)**. Pre  $z \in \mathbb{C}$  definujeme operácie

$$z \pm \infty = \infty \pm z = \infty, \quad \frac{z}{\infty} = 0, \quad \frac{\infty}{z} = \infty, \quad z \cdot \infty = \infty \cdot z = \infty, \quad \frac{z}{0} = \infty,$$

pričom **nedefinujeme**  $0 \cdot \infty$ ,  $\infty \cdot 0$  a  $\frac{0}{0}$ . Pre  $n \in \mathbb{N}$  platí:

$$\infty^n = \infty, \quad \infty^{-n} = 0, \quad 0^{-n} = \infty, \quad \infty^0 = 1, \quad 0^0 = 1, \quad |\infty| = \overline{\infty} = \infty.$$

Najlepšie nám túto predstavu objasní geometrický model. Uvažujme reálnu os  $R$  v rovine  $R^2$ . Zostrojme kružnicu  $k$  so stredom v bode 0 a polomerom  $r = 1$  (obr.2.5.25). Priamka kolmá na reálnu os v bode 0 pretína kružnicu  $k$  v dvoch bodoch. Označme ich  $N$  (severný pól) a  $S$  (južný pól).

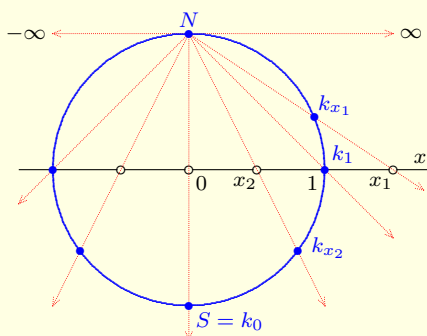
Nech  $x \in R$  je ľubovoľný bod ležiaci na reálnej osi. Uvažujme polpriamku, ktorá začína v bode  $N$  a prechádza bodom  $x$ . Polpriamka  $Nx$  pretína kružnicu  $k$  v dvoch bodoch. Jeden z nich je  $N$  a druhý označme  $k_x$ . Takýmto spôsobom priradíme každému bodu  $x$  reálnej osi práve jeden bod  $k_x$  z kružnice  $k$ .

Bodu 0 je priradený južný pól  $S$ . Takýmto spôsobom je tiež každému bodu  $z$  kružnice  $k$  (okrem bodu  $N$ ) priradený práve jeden bod  $x$  reálnej osi. Bodu  $N$  sú priradené dva body  $\pm\infty$ . Polpriamky  $Nx$  sú dotyčnice, t. j. pretínajú reálnu os v nekonečne alebo v mínus nekonečne.

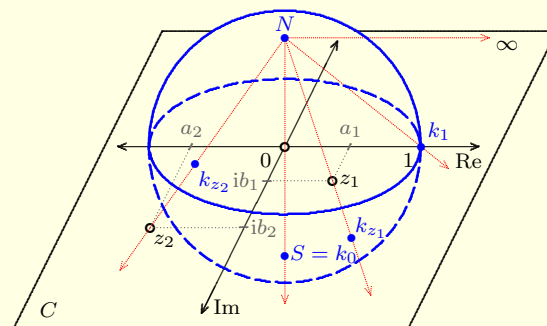
Nejednoznačnosť s bodom  $N$  je odstránená pri komplexných číslach. Geometrický model je podobný a nazýva sa **stereografická projekcia guľovej sféry na rovinu** (obr.2.5.26). Uvažujme v  $R^3$  rovinu komplexných čísel  $\mathbb{C}$  a zostrojme guľovú plochu  $k$  so stredom v bode  $0 = 0 + i0$  a polomerom  $r = 1$ .

Kružnicu, ktorá je prienikom guľovej plochy  $k$  s Gaussovou rovinou  $\mathbb{C}$ , nazveme v súlade so stereografickou projekciou rovníkom. Prienik guľovej plochy  $k$  s priamkou kolmou na rovinu  $\mathbb{C}$  a prechádzajúcou bodom 0 nazveme  $N$  (severný pól) a  $S$  (južný pól).





Obr. 2.5.25: Rovinná projekcia reálnych čísel.



Obr. 2.5.26: Stereografická projekcia komplexných čísel.

Nech  $z \in C$  je ľubovoľný bod. Aj v tomto prípade priradíme bodu  $z$  jednoznačne bod  $x_z$  ležiaci na guľovej ploche  $k$ . Bod  $x_z$  je prienikom polpriamky  $Nz$  s plochou  $k$ . Bodu  $N$  priradíme (práve jeden) bod  $\infty$ .

Nech  $z \in C$ ,  $\varepsilon \in R$ ,  $\varepsilon > 0$ . Množinu  $O_\varepsilon(z) = \{z' \in C; |z - z'| < \varepsilon\}$  nazývame (**kruhovým**)  $\varepsilon$ -**okolím bodu**  $z$ . Bod  $z$  nazývame **stred okolia**  $O_\varepsilon(z)$  a číslo  $\varepsilon$  nazývame **polomer (charakteristika) okolia**  $O_\varepsilon(z)$ . Množinu  $O_\varepsilon(\infty) = \{z \in C^*; |z| > \varepsilon^{-1}\}$  nazývame (**kruhovým**)  $\varepsilon$ -**okolím bodu**  $\infty$ . Bod  $\infty$  nazývame **stred okolia**  $O_\varepsilon(\infty)$  a číslo  $\varepsilon$  nazývame jeho **polomer**. Z definície vyplýva, že bod  $\infty$  patrí do každého svojho okolia.

Ak  $O_\varepsilon(z)$  je kruhovým okolím bodu  $z \in C^*$ , potom množinu  $P_\varepsilon(z) = O_\varepsilon(z) - \{z\}$  nazývame **prstencové  $\varepsilon$ -okolie bodu**  $z$ . Podobne ako pri reálnych číslach, ak nebude polomer okolia bodu  $z \in C^*$  podstatný, budeme ho vynechávať.

#### Poznámka 2.5.4.K2-poz79

Z definície je zrejmé, že pojem okolia  $O_\varepsilon(z)$ , resp.  $P_\varepsilon(z)$ ,  $z \in C$  sa zhoduje s pojmom okolia, resp. prstencového okolia v euklidovskej rovine  $R^2$ .

#### Príklad 2.5.3.K2-pr57

Dokážte, že pre všetky  $\alpha, \beta \in R$  platia tzv. **súčtové vzorce**

$$\sin(\alpha + \beta) = \sin \alpha \cos \beta + \cos \alpha \sin \beta, \quad \cos(\alpha + \beta) = \cos \alpha \cos \beta - \sin \alpha \sin \beta.$$

#### Riešenie.

Označme  $z_1 = \cos \alpha + i \sin \alpha$ ,  $z_2 = \cos \beta + i \sin \beta$ . Súčtové vzorce vyplývajú zo vzťahov (veta 2.5.3):

$$\begin{aligned} z_1 z_2 &= \cos(\alpha + \beta) + i \sin(\alpha + \beta) = (\cos \alpha + i \sin \alpha) \cdot (\cos \beta + i \sin \beta) = \\ &= \cos \alpha \cos \beta + i \sin \alpha \cos \beta + i \cos \alpha \sin \beta + i^2 \sin \alpha \sin \beta = \\ &= (\cos \alpha \cos \beta - \sin \alpha \sin \beta) + i(\sin \alpha \cos \beta + \cos \alpha \sin \beta). \blacksquare \end{aligned}$$

<sup>39</sup>Abraham de Moivre [1667–1754] — anglický matematik francúzskeho pôvodu.

### 2.5.3 Postupnosti komplexných čísel

Postupnosť komplexných čísel  $\{z_n\}_{n=1}^{\infty}$ , t. j. postupnosť ktorej množina hodnôt je podmnožina množiny  $C$  nazývame **postupnosťou komplexných čísel**. Ako sme už spomínali, množina  $C$  tvorí metrický priestor s metrikou  $\rho(z_1, z_2) = |z_1 - z_2|$  definovanou pre všetky  $z_1, z_2 \in C$ .

Pre postupnosti komplexných čísel môžeme definovať skoro všetky vlastnosti ako pre reálne postupnosti. V tejto časti sa obmedzíme iba na konvergenciu. Nech  $\{z_n\}_{n=1}^{\infty}$  je postupnosť komplexných čísel. Hovoríme, že postupnosť  $\{z_n\}_{n=1}^{\infty}$  **konverguje k bodu**  $z \in C$ , ak pre každé  $\varepsilon \in R$ ,  $\varepsilon > 0$  existuje  $n_0 \in N$  také, že pre všetky  $n \in N$ ,  $n \geq n_0$  platí  $\rho(z_n, z) < \varepsilon$ . Prvok  $z$  nazývame **limitou postupnosti**  $\{z_n\}_{n=1}^{\infty}$  a označujeme  $z = \lim_{n \rightarrow \infty} z_n$ .

Ak postupnosť  $\{z_n\}_{n=1}^{\infty}$  nekonverguje, potom hovoríme, že **postupnosť**  $\{z_n\}_{n=1}^{\infty}$  **diverguje**. Hovoríme, že **postupnosť**  $\{z_n\}_{n=1}^{\infty}$  **diverguje do  $\infty$** , ak pre každé  $\varepsilon \in R$ ,  $\varepsilon > 0$  existuje  $n_0 \in N$  také, že pre všetky  $n \in N$ ,  $n \geq n_0$  platí  $|z_n| > \varepsilon^{-1}$ . Píšeme  $\lim_{n \rightarrow \infty} z_n = \infty$ .

#### Poznámka 2.5.5.K2-poz80

Z poznámky 2.3.25 vyplýva, že postupnosť  $\{z_n\}_{n=1}^{\infty}$  konverguje ku komplexnému číslu  $z \in C$  práve vtedy, ak  $\lim_{n \rightarrow \infty} |z_n - z| = 0$ .

#### Poznámka 2.5.6.K2-poz82

Divergencia postupnosti v množine  $C$  má trochu iný význam ako divergencia v  $R$ .

Ak považujeme postupnosť  $\{(-n)^n\}_{n=1}^{\infty}$  za postupnosť reálnych čísel, potom má dve hromadné hodnoty  $-\infty, \infty$ . To znamená, že  $\lim_{n \rightarrow \infty} (-n)^n$  neexistuje.

Ak považujeme  $\{(-n)^n\}_{n=1}^{\infty}$  za postupnosť komplexných čísel, potom  $\lim_{n \rightarrow \infty} (-n)^n = \infty$ .

Postupnosť  $\{|z_n - z|\}_{n=1}^{\infty}$  je postupnosť nezáporných reálnych čísel. Ako ukazuje nasledujúca veta, môžeme problém konvergence postupnosti komplexných čísel previesť na problém konvergence reálnych čísel. Pre postupnosti komplexných čísel platia analogické vety o konvergencii ako pre reálne postupnosti. Musíme samozrejme vylúčiť vety, v ktorých sa uvažuje usporiadanie, ktoré nie je v množine  $C$  definované.

#### Veta 2.5.4.K2-veta90

Nech  $\{z_n\}_{n=1}^{\infty}$  je postupnosť komplexných čísel, potom platí:

$$\lim_{n \rightarrow \infty} z_n = z = a + ib, z \in C \iff \lim_{n \rightarrow \infty} \operatorname{Re} z_n = a, \lim_{n \rightarrow \infty} \operatorname{Im} z_n = b.$$

#### Dôkaz.

Nech pre všetky  $n \in N$  platí  $z_n = a_n + ib_n$ ,  $a_n, b_n \in R$ .

$NP_{\Rightarrow}$ : Nech  $\lim_{n \rightarrow \infty} z_n = z = a + ib$ , t. j.  $\lim_{n \rightarrow \infty} |z_n - z| = 0$ . Pre všetky  $n \in N$  platí:

$$\begin{aligned} |a_n - a| &= \sqrt{(a_n - a)^2} \leq \sqrt{(a_n - a)^2 + (b_n - b)^2} = |z_n - z|, \\ |b_n - b| &= \sqrt{(b_n - b)^2} \leq \sqrt{(a_n - a)^2 + (b_n - b)^2} = |z_n - z|. \end{aligned}$$

Z toho vyplýva na základe vety 2.3.17 a dôsledku 2.3.15.a

$$\lim_{n \rightarrow \infty} |a_n - a| = 0, \lim_{n \rightarrow \infty} |b_n - b| = 0, \quad \text{t. j. } \lim_{n \rightarrow \infty} \operatorname{Re} z_n = a, \lim_{n \rightarrow \infty} \operatorname{Im} z_n = b.$$

$PP_{\Leftarrow}$ : Nech  $\lim_{n \rightarrow \infty} a_n = a$ ,  $\lim_{n \rightarrow \infty} b_n = b$ . Označme  $z = a + ib$ , potom pre všetky  $n \in N$  platí:

$$|z_n - z|^2 = (a_n - a)^2 + (b_n - b)^2 \leq (a_n - a)^2 + (b_n - b)^2 + 2|a_n - a||b_n - b| = [|a_n - a| + |b_n - b|]^2.$$

To znamená, že pre všetky  $n \in N$  platí  $|z_n - z| \leq |a_n - a| + |b_n - b|$ . Potom

$$0 \leq \lim_{n \rightarrow \infty} |z_n - z| \leq \lim_{n \rightarrow \infty} [|a_n - a| + |b_n - b|] = 0, \quad \text{t. j. } \lim_{n \rightarrow \infty} z_n = z = a + ib. \blacksquare$$

**Poznámka 2.5.7.K2-poz81**

Z vety 2.5.4 vyplýva, že ak existuje konečná limita postupnosti  $\{z_n\}_{n=1}^{\infty}$ , potom platí:

$$\lim_{n \rightarrow \infty} z_n = \operatorname{Re} \left[ \lim_{n \rightarrow \infty} z_n \right] + i \operatorname{Im} \left[ \lim_{n \rightarrow \infty} z_n \right] = \lim_{n \rightarrow \infty} \operatorname{Re} z_n + i \lim_{n \rightarrow \infty} \operatorname{Im} z_n.$$

**Príklad 2.5.4.K2-pr58**

a)  $\lim_{n \rightarrow \infty} \left[ \frac{n+1}{n} + i \frac{n-1}{n} \right] = \lim_{n \rightarrow \infty} \frac{n+1}{n} + i \lim_{n \rightarrow \infty} \frac{n-1}{n} = 1 + i.$

b)  $\lim_{n \rightarrow \infty} \left[ \frac{(-n)^n}{n} + i \frac{n-1}{n} \right]$  neexistuje, pretože neexistuje  $\lim_{n \rightarrow \infty} \frac{(-n)^n}{n}$ . ■

**Cvičenia**

**2.5.1.cV5-01** Určte  $\bar{z}$ ,  $|z|$ ,  $\operatorname{Re} z$ ,  $\operatorname{Im} z$ ,  $\arg z$ ,  $\operatorname{Arg} z$ ,  $\frac{1}{z}$ ,  $\frac{1}{z^2}$ ,  $z^2$ ,  $z^3$ , ak: ♣

a)  $z = 1 + i$ ,      b)  $z = 2 + 3i$ ,      c)  $z = -1 + i$ ,      d)  $z = -16i$ ,      e)  $z = \sqrt{3} + i$ ,  
 f)  $z = \frac{1+i}{1-i}$ ,      g)  $z = \frac{5}{2-i}$ ,      h)  $z = \frac{2+i}{3-i}$ ,      i)  $z = \frac{2+i}{4-i}$ ,      j)  $z = \frac{i}{1+i}$ .

**2.5.2.cV5-02** Určte  $\operatorname{Re} w$ ,  $\operatorname{Im} w$  a goniometrický tvar čísla  $w = \frac{z}{z}$ . ♣

**2.5.3.cV5-03** Vypočítajte pre vetky  $n \in \mathbb{N}$  hodnotu  $(1+i)^n + (1-i)^n$ . ♣

**2.5.4.cV5-04** Vyjadrite v goniometrickom tvare komplexné čísla: ♣

a)  $(\sqrt{3} - i)^{10}$ ,      b)  $(1 - i\sqrt{3})^{10}$ ,      c)  $(-1 + i)^7$ ,      d)  $(1 + i)^7$ ,      e)  $(1 + i\sqrt{3})^{12}$ .

**2.5.5.cV5-05** Dokážte, že pre všetky  $z_1, z_2 \in \mathbb{C}$  platí  $|z_1 + z_2|^2 + |z_1 - z_2|^2 = 2|z_1|^2 + 2|z_2|^2$ .

**2.5.6.cV5-06** Aké  $z_1, z_2 \in \mathbb{C}$  platí  $|z_1 + z_2| = |z_1| + |z_2|$ ? ♣

**2.5.7.cV5-07** Vypočítajte  $(1 - \cos \varphi - i \sin \varphi)^n$ , kde  $n \in \mathbb{N}$ ,  $\varphi \in \mathbb{R}$ . ♣

**2.5.8.cV5-08** Zistite, aké musia byť komplexné čísla  $z_1, z_2$ , aby ich súčin, resp. podiel bol: ♣

a) reálny,      b) rýdzo imaginárny,      c) imaginárny (nie reálny a nie rýdzo imaginárny).

„Tati, bila tě někdy tvoje maminka?“

„Ne, jenom tvoje.“

úryvok z filmu **SLUNCE, SENO A PÁR FACEK**

„Mi řekni, prosím tě, co na tom chlastu máš?“

„Ja ti to řeknu a ty začneš chlastat taky.“

úryvok z filmu **SLUNCE, SENO A PÁR FACEK**

*Mladý gentleman, ktorý sa chce oženiť, by sa rád zoznámil so skúseným mužom, ktorý by ho od tohto kroku odradil.*

*inzerát v londýnskych TIMES [1896]*

*Ach milí priatelia, priatelia neexistujú!*  
**ARISTOTELES**

*Je lepšie ľutovať, že sme niečo zažili,  
ako ľutovať, že sme to nezažili.*  
**GIOVANNI BOCCACCIO**

*„Čo robíte, keď máte niekoho rád?“ opýtal sa niekto pána Keunera.  
„Vytvorím si o ňom obraz a snažím sa, aby sa mu podobal“ odpovedal pán Kreuner.  
„Kto? Ten obraz?“  
„Nie, ten človek.“*  
**BERTOLT BRECHT**

*Boh mi odpustí, je to nakoniec jeho remeslo.*  
**HEINRICH HEINE — posledné slová pred smrťou [1856]**

*Priateľ je ten, kto vie o vás všetko  
a napriek tomu vás má stále rovnako rád.*  
**ELBERT HUBBARD**

*Pesimista je človek, ktorý keď ho postavia pred dve zlá, vyberie si obe.*  
**ELBERT HUBBARD**

*Zo všetkých hlupákov je najneznesiteľnejší zcestovaný hlupák.  
Prináša si hlúposti iných národov a pridáva ich ku svojim.*  
**ALEXANDER HUMBOLDT**

*Lekársky výskum urobil také pokroky,  
že už napokon na svete niet zdravého človeka.*  
**THOMAS HENRY HUXLEY**

*Rečník má vyčerpať tému, nie poslucháčov.*  
**WINSTON CHURCHIL**

*Povedz mi čo čítaš a ja ti poviem, kde si tú knihu ukradol.*  
**ILJA ILF**

*Každá brzda si myslí, že je záchranna.*  
**TOMÁŠ JANOVIC**

*Mám rád prácu, priam ma fascinuje.  
Celé hodiny vydržím sa na ňu dívať.*  
**JEROME K. JEROME**

*Zaujímam sa o budúcnosť, pretože v nej  
hodlám stráviť zvyšok svojho života.*  
**CHARLES KETTERING**

*Chceš realizovať svoje sny? Prebuď sa!*  
**RUDYARD KIPLING**

*Vyspať sa s ňou, to ano, ale žiadne dôvernosti.*  
**KARL KRAUS**

# Kapitola 3

## Reálne funkcie reálnej premennej

### 3.1 Reálne funkcie

V tejto kapitole sa budeme zaoberať zobrazeniami, ktorých definičný obor aj obor hodnôt sú podmnožinami množiny reálnych čísel  $R$ , prípadne rozšírenej množiny reálnych čísel  $R^*$ . Takéto zobrazenia nazývame reálne funkcie reálnej premennej.

Nech  $y = f(x)$ ,  $x \in D(f)$  je zobrazenie. Ak pre všetky  $x \in D(f)$  platí, že  $f(x) \in R$  (obrazy sú reálne čísla), t. j. platí  $H(f) = f[D(f)] = \{f(x); x \in D(f)\} \subset R$ , potom zobrazenie  $f$  nazývame **reálna funkcia**. Ak  $D(f) \subset R$ , potom zobrazenie  $f$  nazývame **funkcia reálnej premennej**.

Hodnoty  $x$  nazývame **nezávislé premenné** a hodnoty  $f(x)$  nazývame **závislé premenné**, resp. **funkčné hodnoty funkcie  $f$  v bode  $x$** . Množinu  $D(f)$  nazývame **definičný obor funkcie  $f$**  a  $H(f)$  nazývame **obor hodnôt funkcie  $f$** .

Funkcie sa vo väčšej miere začali skúmať až v 17. storočí v súvislosti s rozmachom prírodných vied. Ako prvý začal pojem funkcia systematicky používať *Jacob Bernoulli* na začiatku 18. storočia. V tomto období si ale matematici funkciu predstavovali ako analytický výraz zložený nejakým spôsobom z premenných a konštánt (reálnych čísel), napríklad  $y = \sqrt{x+1}$ ,  $y = x^2$  a pod.

Až v 19. storočí nastal posun v chápaní funkcie a pojem funkcie nadobudol presnejší tvar, ktorý je nezávislý od analytického vyjadrenia funkcie: „*Závislá premenná  $y$  je funkciou nezávislej premennej  $x$ , ak každej hodnote  $x$  (z definičného oboru premennej  $x$ ) zodpovedá presne určená hodnota  $y$ .*“

Tvar vzťahu medzi  $x$  a  $y$  je pritom nepodstatný. Napríklad *P. L. Dirichlet* sa pri štúdiu trigonometrických radov zaoberal funkciou  $\chi$  (v súčasnosti sa nazýva **Dirichletova**) definovanou  $\chi(x) = 1$  pre  $x$  racionálne a  $\chi(x) = 0$  pre  $x$  iracionálne. Takto definovaná funkcia bola pre dovtedajších matematikov nemysliteľná.

Pojem funkcie sa ustálil vybudovaním teórie množín a reálne funkcie sú iba špeciálnym prípadom funkcií, resp. zobrazení. Pokiaľ nepovieme ináč, budeme pod pojmom **funkcia** rozumieť **reálnu funkciu jednej reálnej premennej**.

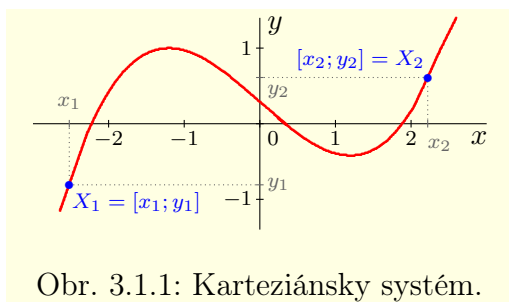
#### Poznámka 3.1.1.K3-poz17

Reálne číselné postupnosti, ktorými sme sa zaoberali v predchádzajúcej kapitole, sú špeciálnym prípadom reálnych funkcií s definičným oborom  $N \subset R$ .

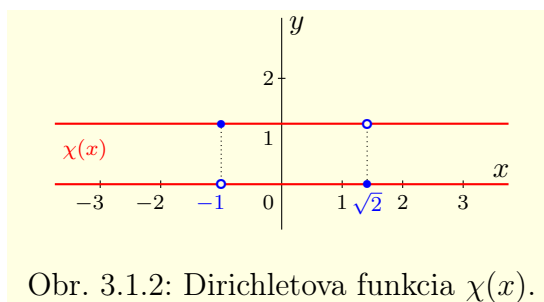
Funkcia  $y = f(x)$  je množina usporiadaných dvojíc  $[x; f(x)]$ , kde  $x \in D(f)$ . Takže ju môžeme v euklidovskej rovine  $R^2$  graficky zobraziť ako množinu bodov, ktoré majú v **pravouhľom súradnicovom**

**systeme**<sup>1</sup>súradnice  $[x; f(x)]$ . Túto množinu, t. j. množinu  $\{[x; y] \in \mathbb{R}^2; x \in D(f), y = f(x)\}$  nazývame **graf funkcie**  $y = f(x)$ .

Karteziánsky súradnicový systém sa skladá z dvoch na seba kolmých **súradnicových osí**, ktoré obyčajne označujeme  $x$ ,  $y$  a nazývame  **$x$ -ová** a  **$y$ -ová (súradnicová) os**. Ich priesečník označujeme symbolom  $0$  alebo  $O$  a nazývame **počiatok súradnicového systému**. Každému bodu  $X \in \mathbb{R}^2$  je priradená dvojica hodnôt  $[x; y]$ , ktoré nazývame  **$x$ -ová súradnica** a  **$y$ -ová súradnica**. Situácia je znázornená na obrázku 3.1.1.



Obr. 3.1.1: Karteziánsky systém.



Obr. 3.1.2: Dirichletova funkcia  $\chi(x)$ .

Geometrická interpretácia funkcie nám v mnohých prípadoch pomôže pri skúmaní vlastností danej funkcie. Pojem grafu je ale u mnohých ľudí spojený s pojmom krivka,<sup>2</sup> t. j. „súvislá čiara“. Táto predstava je ale vzhľadom k veľkej všeobecnosti pojmu funkcie a aj pojmu krivka zavádzajúca. Existujú funkcie, ktorých grafy majú veľmi málo spoločné s touto predstavou, dokonca sa dajú veľmi ťažko nakresliť. Príkladom je Dirichletova funkcia, ktorej body ležia na priamkach  $y = 0$  a  $y = 1$ , ale nevyplňajú tieto priamky úplne. Na každej z priamok je vynechaných nekonečne veľa bodov a nekonečne veľa bodov tam ešte ostane (obr. 3.1.2). Z vety 2.1.28 vyplýva, že medzi každými dvomi bodmi ležiacimi na týchto priamkach je vždy aspoň jedna medzera.

Funkcia je určená svojim definičným oborom a vzťahom medzi nezávislou a závislou premennou. Predpis  $y = f(x)$ ,  $x \in D(f)$  vyjadruje aj obor hodnôt  $H(f)$ . Definičným oborom býva často interval alebo zjednotenie intervalov. Ak nie je definičný obor funkcie zadaný, resp. ak je ako definičný obor zadaná množina reálnych čísel  $\mathbb{R}$ , potom v zmysle poznámky 1.3.8, budeme pod definičným oborom rozumieť množinu reálnych čísel, pre ktoré má daný vzťah zmysel. Túto množinu nazývame **prirodený (maximálny) definičný obor funkcie**.<sup>3</sup>

To znamená, že predpisy  $y = f(x)$ , resp.  $y = f(x)$ ,  $x \in \mathbb{R}$ , resp.  $y = f(x): \mathbb{R} \rightarrow \mathbb{R}$  predstavujú funkciu zadanú výrazom  $f(x)$  s maximálnym definičným oborom. Na druhej strane funkcia  $y = f(x)$ ,  $x \in A$ ,  $A \subset \mathbb{R}$ , resp.  $y = f(x): A \rightarrow \mathbb{R}$ ,  $A \subset \mathbb{R}$  predstavuje funkciu zadanú výrazom  $f(x)$  s definičným oborom  $A$ . Obor hodnôt funkcie  $y = f(x)$  reprezentuje množina  $H(f) = \{f(x); x \in D(f)\}$ , kde  $D(f)$  je definičný obor funkcie  $f$ .

Hovoríme, že funkcia  $y = f(x)$ ,  $x \in A$  je **injektívna (injekcia, prostá)**, ak pre všetky  $x_1, x_2 \in A$ ,  $x_1 \neq x_2$ , platí  $f(x_1) \neq f(x_2)$ , t. j. ak zo vzťahu  $f(x_1) = f(x_2)$  vyplýva  $x_1 = x_2$ .

Ak  $f(A) = B$ , potom hovoríme, že funkcia  $y = f(x)$ ,  $x \in A$  **zobrazuje množinu  $A$  na množinu  $B$**  a funkciu  $f$  nazývame **surjektívna (surjekcia, na množinu  $B$ )**. To znamená, že funkcia  $f$  je surjektívna, ak ku každému  $y \in B$  existuje  $x \in A$  také, že  $y = f(x)$ . Ak  $f(A) \subset B$ , potom hovoríme, že funkcia  $f$  **zobrazuje množinu  $A$  do množiny  $B$** .

<sup>1</sup>Tiež sa nazýva (karteziánsky) súradnicový systém, (karteziánska) súradnicová sústava, resp. systém karteziánskych súradníc.

<sup>2</sup>Krivkám sa bližšie venujeme na strane 204.

<sup>3</sup>Je to tzv. **existenčný obor výrazu**, ktorým je funkcia definovaná.



Ak je funkcia  $f$  injektívna a zároveň surjektívna (prostá na), nazývame ju **bijektívna** (**bijekcia**, **prostá na množinu**, **jednoznačná**).

### Príklad 3.1.1.K3-pr01

Predpis  $f: y = x^2$  vyjadruje funkciu  $f(x) = x^2$ ,  $x \in R$ , t. j.  $f(x) = x^2$ ,  $f: R \rightarrow R$ .

Predpis  $f: y = \sqrt{x}$  vyjadruje funkciu  $f(x) = \sqrt{x}$ ,  $x \in \langle 0; \infty \rangle$ , t. j.  $f: \langle 0; 1 \rangle \rightarrow R$ .

Predpis  $f: y = \sqrt{x}$ ,  $x \in \langle 0; 1 \rangle$  vyjadruje inú funkciu  $f(x) = \sqrt{x}$ ,  $f: \langle 0; 1 \rangle \rightarrow R$  alebo presnejšie povedané funkciu  $f: \langle 0; 1 \rangle \rightarrow \langle 0; 1 \rangle$ . ■

Výraz, ktorým je daná funkcia definovaná, môže mať rôzne tvary. Najčastejšie a pre účely matematickej analýzy najvhodnejšie je analytické zadanie vzorcom, t. j. rovnicou  $y = f(x)$ ,  $x \in D(f)$  alebo niekoľkými takýmito rovnicami pre rôzne časti definičného oboru. Výraz  $f(x)$  na pravej strane rovnice obsahuje najviac jednu premennú  $x$  a nadobúda pre konkrétne  $x$  jednoznačné hodnoty. Hovoríme, že funkcia  $f$  je zadaná **explicitne**.

Funkcia môže byť analyticky zadaná aj ináč ako vzťahom  $y = f(x)$ ,  $x \in D(f)$ . Časté je **parametrické vyjadrenie** (obr. 3.1.3), t. j. vyjadrenie dvojicou rovníc

$$x = \varphi(t), \quad y = \psi(t), \quad t \in J,$$

kde  $\varphi$ ,  $\psi$  sú zobrazenia (funkcie) definované na množine  $J \subset R$ . Množina  $J$  býva obyčajne interval. Premenná  $t$  sa nazýva **parameter** a má pomocný význam, pretože nás zaujíma vzťah medzi  $x$  a  $y$ . Predchádzajúce rovnice definujú reláciu  $f \subset R^2$ :

$$f = \{[x; y] \in R^2; x = \varphi(t), y = \psi(t), t \in J\}. \quad (3.1)$$

Táto relácia môže byť za určitých podmienok funkciou. Je to v prípade, keď je zobrazenie  $x = \varphi(t)$ ,  $t \in J$  prosté a ku každému  $\varphi(t)$ ,  $t \in J$  existuje práve jedno  $\psi(t)$ . Vtedy hovoríme, že funkcia  $f$  je definovaná **parametricky** (funkciu **parametrizujeme**) rovnicami  $x = \varphi(t)$ ,  $y = \psi(t)$ ,  $t \in J$ .

Keďže je zobrazenie  $x = \varphi(t)$  na množine  $J$  prosté (t. j. je bijektívne), existuje k nemu inverzné zobrazenie  $t = \varphi^{-1}(x)$ , ktoré je definované na nejakej množine  $M = \varphi(J)$ . Funkciu  $f$  môžeme potom vyjadriť v tvare

$$y = f(x) = \psi(t) = \psi[\varphi^{-1}(x)], \quad x \in M. \quad (3.2)$$

Prechod od systému rovníc  $x = \varphi(t)$ ,  $y = \psi(t)$ ,  $t \in J$  k tvaru (3.2) nazývame **eliminácia<sup>4</sup> parametra**  $t$  v parametrickom vyjadrení funkcie  $f$ .

### Poznámka 3.1.2.K3-poz75

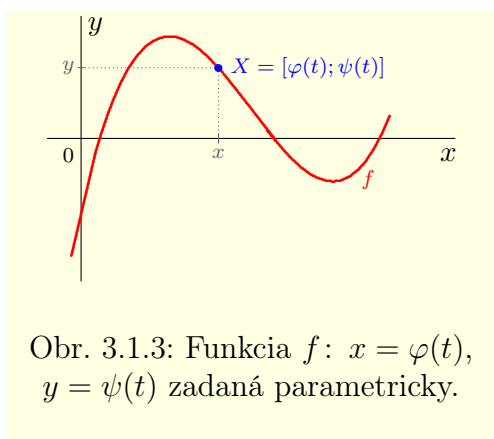
Funkciu  $y = f(x)$ ,  $x \in D(f)$  môžeme parametrizovať nekonečným množstvom funkcií. Stačí zvoliť funkciu  $x = \varphi(t)$ ,  $t \in J$  tak, aby bola prostá na množinu  $D(f)$ , t. j. aby bola bijekciou  $J \rightarrow D(f)$ . Hodnotu  $y$  môžeme potom vyjadriť  $y = f(x) = f(\varphi(t))$ ,  $t \in J$ . Je zrejmé, že najjednoduchšie parametrické vyjadrenie má tvar  $x = t$ ,  $y = f(t)$ ,  $t \in D(f)$ .

Funkcia  $f$  môže byť zadaná rovnicou  $F(x, y) = 0$ , kde  $F$  je zobrazenie z množiny  $R^2$  do  $R$ . Niekedy sa navyše požaduje, aby platilo  $[x; y] \in A$ , kde  $A \subset R^2$  je vopred daná množina. Predchádzajúca rovnica opäť definuje nejakú reláciu  $f \subset R^2$ :

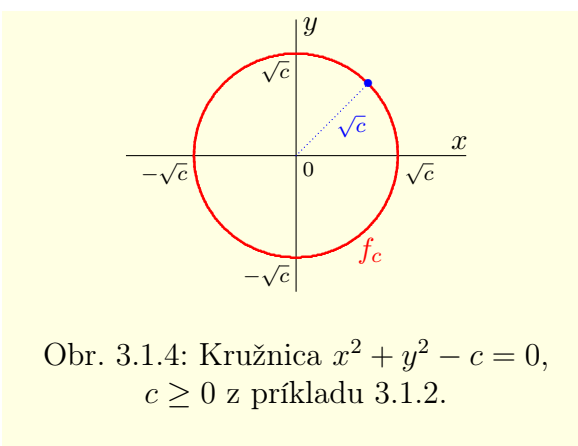
$$f = \{[x; y] \in R^2; F(x, y) = 0\}, \quad \text{resp. } f = \{[x; y] \in R^2; F(x, y) = 0, [x; y] \in A\}. \quad (3.3)$$

Ak je relácia  $f$  funkciou, potom hovoríme, že funkcia  $f$  je definovaná **implicitne** rovnicou  $F(x, y) = 0$ . Ak uvážime  $y = f(x)$ , potom môžeme písať  $F(x, f(x)) = 0$ .

<sup>4</sup>Teoreticky vieme eliminovať parameter z každého vyjadrenia, prakticky to ale môže byť problém.



Obr. 3.1.3: Funkcia  $f: x = \varphi(t), y = \psi(t)$  zadaná parametricky.



Obr. 3.1.4: Kružnica  $x^2 + y^2 - c = 0, c \geq 0$  z príkladu 3.1.2.

### Poznámka 3.1.3.K3-poz01

Funkcia  $y = f(x)$ , ktorá je zadaná implicitne rovnicou  $F(x, y) = 0$  sa obyčajne vyšetruje metódami matematickej analýzy funkcií viac premenných.<sup>5</sup>

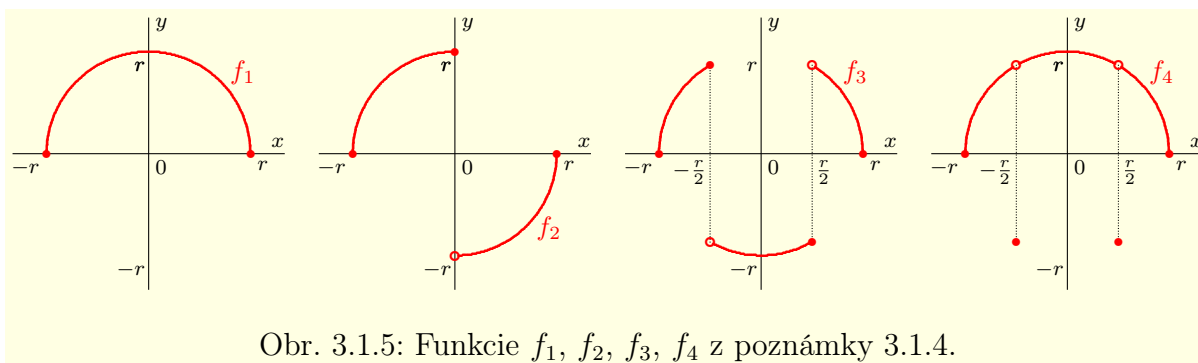
### Príklad 3.1.2.K3-pr03

Uvažujme reláciu  $f_c = \{[x; y] \in \mathbb{R}^2; x^2 + y^2 = c\}$ , kde  $c \in \mathbb{R}$  (obr. 3.1.4).

Pre  $c = 0$  dostaneme reálnu funkciu  $f_0 = \{[0; 0]\}$ , ktorú môžeme explicitne vyjadriť napríklad v tvare  $f: y = x, x \in \{0\}$  alebo v tvare  $f: y = 0, x \in \{0\}$ .

Pre  $c < 0$  dostaneme  $f_c = \emptyset$ , pretože pre všetky  $x, y \in \mathbb{R}$  platí  $x^2 + y^2 - c \geq -c > 0$ .

Pre  $c > 0$  dostaneme reláciu  $f_c = \{[x; \pm\sqrt{c - x^2}]; x \in \langle -\sqrt{c}; \sqrt{c} \rangle\}$ , ktorá funkciou nie je. Predstavuje kružnicu so stredom v počiatku  $[0; 0]$  a s polomerom  $\sqrt{c}$ . ■



Obr. 3.1.5: Funkcie  $f_1, f_2, f_3, f_4$  z poznámky 3.1.4.

### Poznámka 3.1.4.K3-poz95

Kružnica  $f_r = \{[x; y]; x^2 + y^2 = r^2\}, r > 0$  z príkladu 3.1.2 funkciou nie je, pretože každému  $x \in \langle -r; r \rangle$  sú priradené dve hodnoty  $\pm\sqrt{r^2 - x^2}$ . Ak danému  $x$  priradíme iba jednu z nich, dostaneme funkciu s definičným oborom  $\langle -r; r \rangle$ . Je zrejmé, že takýchto funkcií existuje nekonečne veľa a môžeme ich definovať rozmanitým spôsobom. Patrí sem napríklad funkcia  $f$  definovaná pre všetky racionálne  $x \in \langle -r; r \rangle$  vzťahom  $f(x) = \sqrt{r^2 - x^2}$  a pre všetky iracionálne  $x \in \langle -r; r \rangle$  vzťahom  $f(x) = -\sqrt{r^2 - x^2}$ .

<sup>5</sup>Funkciami viacerých premenných sa budeme zaoberať v nasledujúcej časti tejto učebnice.



Ďalšie príklady sú znázornené na obrázku 3.1.5, sú to funkcie

$$f_1(x) = \sqrt{r^2 - x^2}, \quad x \in \langle -r; r \rangle, \quad f_2(x) = \begin{cases} \sqrt{r^2 - x^2}, & x \in \langle -r; 0 \rangle, \\ -\sqrt{r^2 - x^2}, & x \in (0; r), \end{cases}$$

$$f_3(x) = \begin{cases} \sqrt{r^2 - x^2}, & x \in \langle -r; \frac{r}{2} \rangle \cup (\frac{r}{2}; r), \\ -\sqrt{r^2 - x^2}, & x \in (-\frac{r}{2}; \frac{r}{2}), \end{cases} \quad f_4(x) = \begin{cases} \sqrt{r^2 - x^2}, & x \neq \pm \frac{r}{2}, \\ -\sqrt{r^2 - x^2}, & x = \pm \frac{r}{2}. \end{cases}$$

### Príklad 3.1.3.K3-pr02

Funkciu  $f: y = |x|$ ,  $x \in R$  môžeme zadať rôznymi spôsobmi. Týchto spôsobov je zrejme nekonečne veľa. Na ilustráciu uvedieme niektoré z nich:

Explicitne:  $y = \sqrt{x^2}$ , resp.  $y = \max\{-x, x\}$ , resp.  $y = \begin{cases} -x, & \text{pre } x < 0, \\ x, & \text{pre } x \geq 0. \end{cases}$

Parametricky:  $x = t$ ,  $y = |t|$ ,  $t \in R$ , resp.  $x = t$ ,  $y = \sqrt{t^2}$ ,  $t \in R$ , resp.  $x = t^3$ ,  $y = |t^3|$ ,  $t \in R$ .

Implicitne:  $y^2 - x^2 = 0$ ,  $y \geq 0$ , resp.  $y - |x| = 0$ , resp.  $y - \sqrt{x^2} = 0$ . ■

Funkcia  $y = f(x)$ ,  $x \in D(f)$  môže byť niekedy zadaná aj **tabuľkou**, t. j. dvojicami hodnôt nezávislej premennej  $x$  a funkčnej hodnoty  $f(x)$ . Táto metóda sa používa najmä v prípadoch, keď chceme nájsť závislosť medzi nejakými nameranými hodnotami. Je zrejme, že takýmto spôsobom môžeme definovať funkciu úplne iba, ak jej definičný obor je konečná množina. Ale na objasnenie situácie to v mnohých prípadoch stačí.

V technických aplikáciach sa niekedy funkcia zadáva tiež **graficky**, pomocou nakresleného grafu. Z grafu môžeme hodnoty funkcie určiť iba približne a teda pre ďalšie matematické spracovanie je táto metóda prinajmenšom málo vhodná, aj keď jej nemôžeme poprieť praktický význam.

### Poznámka 3.1.5.K3-poz93

Okrem pravouhlého karteziánskeho súradnicového systému sa na vyjadrenie funkcie v rovine  $R^2$  niekedy používa tzv. **polárny súradnicový systém**, ktorý sa skladá z jedného pevného bodu (počiatku systému) a z polpriamky z neho vychádzajúcej (polárna os). Súradnice jednotlivých bodov sú určené vzdialenosťou od počiatku a rovinným uhlom, ktorý tvoria tento bod, počiatok systému a polárna os. Bližšie sa s polárnym súradnicovým systémom zaoberáme v časti určenej rovinným krivkám na strane 205.

### Príklad 3.1.4.K3-pr09

Nech  $x_1, x_2 \in R$ ,  $x_1 \neq x_2$  a  $y_1, y_2 \in R$  sú dané čísla.

Určte koeficienty  $a, b \in R$  funkcie  $f: y = ax + b$  tak, aby  $[x_1; y_1] \in f$ ,  $[x_2; y_2] \in f$ .

#### Riešenie.

Máme určiť  $a, b \in R$  tak, aby  $y_1 = ax_1 + b$ ,  $y_2 = ax_2 + b$ . Po odčítaní rovníc dostaneme

$$y_2 - y_1 = ax_2 - ax_1 = a(x_2 - x_1), \quad \text{t. j. } a = \frac{y_2 - y_1}{x_2 - x_1}.$$

Z prvej rovnice vyjadríme koeficient  $b$  a dosadíme  $a$ . Potom platí:

$$b = y_1 - ax_1 = y_1 - \frac{y_2 - y_1}{x_2 - x_1} x_1 = \frac{y_1 x_2 - y_1 x_1 - y_2 x_1 + y_1 x_1}{x_2 - x_1} = \frac{y_1 x_2 - y_2 x_1}{x_2 - x_1}.$$

Funkcia  $f: y = ax + b$  má potom tvar

$$y = \frac{y_2 - y_1}{x_2 - x_1} x + \frac{y_1 x_2 - y_2 x_1}{x_2 - x_1} = \frac{y_2 x - y_1 x + y_1 x_2 - y_2 x_1}{x_2 - x_1} = \frac{x - x_1}{x_2 - x_1} y_2 + \frac{x_2 - x}{x_2 - x_1} y_1. \quad \blacksquare$$

### Poznámka 3.1.6.K3-poz09

Funkcia  $f: y = ax + b$ , kde  $a, b \in R$ , sa nazýva **lineárna funkcia**. Jej grafom je priamka. Takže sme hľadali rovnicu priamky, ktorá je určená dvomi rôznymi bodmi. Hodnota  $a$  predstavuje smernicu tejto priamky, t. j. tangens uhla, ktorý zvierá s osou  $x$ .

### 3.1.1 Základné vlastnosti funkcií

Funkcia  $y = f(x)$ ,  $x \in D(f)$  sa nazýva **ohraničená zdola** [resp. **ohraničená zhora**] **na množine**  $A \subset D(f)$ , ak je jej množina funkčných hodnôt  $f(A) = \{f(x); x \in A\}$  ohraničená zdola [resp. ohraničená zhora], t. j. ak existuje číslo  $m \in \mathbb{R}$  [resp.  $M \in \mathbb{R}$ ] také, že pre všetky  $x \in A$  platí  $m \leq f(x)$  [resp.  $f(x) \leq M$ ].

Funkcia  $f$  sa nazýva **ohraničená na množine**  $A$ , ak je ohraničená zdola a aj zhora na množine  $A$ , t. j. ak existujú  $m, M \in \mathbb{R}$  také, že pre všetky  $x \in A$  platí  $m \leq f(x) \leq M$ .

Ak nie je funkcia  $f$  ohraničená zdola [resp. zhora] na množine  $A$ , potom sa nazýva **neohraničená zdola** [resp. **zhora**] **na množine**  $A$ .

Ak funkcia  $f$  nie je ohraničená (t. j. nie je ohraničená zdola alebo zhora) na množine  $A$ , potom sa nazýva **neohraničená na množine**  $A$ .

#### Poznámka 3.1.7.K3-poz03

Uvedené vlastnosti boli definované na podmnožine  $A \subset D(f)$ , preto hovoríme o **lokálnych vlastnostiach**. V prípade, že nejaká vlastnosť platí na celom definičnom obore  $D(f)$  (t. j. ak  $D(f) = A$ ), potom hovoríme o **globálnej vlastnosti** a prívlastok „na množine  $D(f)$ “ vynechávame.

Funkcia  $f$  sa nazýva **ohraničená zdola** [resp. **ohraničená zhora**], ak existuje číslo  $m \in \mathbb{R}$  [resp.  $M \in \mathbb{R}$ ] také, že pre všetky  $x \in D(f)$  platí  $m \leq f(x)$  [resp.  $f(x) \leq M$ ].

Funkcia  $f$  sa nazýva **ohraničená**, ak je ohraničená zdola a aj zhora na množine, t. j. ak existujú  $m, M \in \mathbb{R}$  také, že pre všetky  $x \in D(f)$  platí  $m \leq f(x) \leq M$ .

Ak nie je funkcia  $f$  ohraničená zdola [resp. zhora], potom sa nazýva **neohraničená zdola** [resp. **zhora**]. Ak funkcia  $f$  nie je ohraničená (t. j. nie je ohraničená zdola alebo zhora), potom sa nazýva **neohraničená**.

#### Príklad 3.1.5.K3-pr04

a) Funkcia  $f: y = x^2 + 1$  je ohraničená zdola a nie je ohraničená zhora.

Na intervale  $(0; 1)$  je ohraničená, pretože pre všetky  $x \in (0; 1)$  platí  $1 < x^2 + 1 < 2$ .

b) Funkcia  $f: y = (x^2 + 1)^{-1}$  je ohraničená.

Pre všetky  $x \in \mathbb{R}$  platí  $1 \leq x^2 + 1$ , t. j.  $0 < (x^2 + 1)^{-1} \leq 1$ . ■

Infimum [resp. suprénum] množiny funkčných hodnôt  $f(A)$  nazývame **infimum** [resp. **suprénum**] **funkcie**  $f$  **na množine**  $A$  a označujeme symbolmi  $\inf f(A) = \inf_{x \in A} f(x) = \inf \{f(x); x \in A\}$  [resp.  $\sup f(A) = \sup_{x \in A} f(x) = \sup \{f(x); x \in A\}$ ].

Infimum [resp. suprénum] funkcie  $f$  na celom definičnom obore  $D(f)$  nazývame **infimum** [resp. **suprénum**] **funkcie**  $f$  a označujeme  $\inf f(x)$  [resp.  $\sup f(x)$ ].

#### Poznámka 3.1.8.K3-poz04

Z definície vyplýva, že ak je funkcia  $f$  ohraničená zdola [resp. zhora] na množine  $A$ , potom  $\inf f(A)$  [resp.  $\sup f(A)$ ] je číslo. Ak je funkcia  $f$  neohraničená zdola [resp. zhora] na množine  $A$ , potom  $\inf f(A) = -\infty$  [resp.  $\sup f(A) = \infty$ ].

Ak existuje najmenší [resp. najväčší] prvok množiny funkčných hodnôt  $f(A)$ , potom ho nazývame **najmenšia hodnota** (**minimálna hodnota**, **minimum**) [resp. **najväčšia hodnota** (**maximálna hodnota**, **maximum**)] **funkcie**  $f$  **na množine**  $A$  a označujeme  $\min f(x) = \min_{x \in A} \{f(x); x \in A\}$  [resp.  $\max f(x) = \max_{x \in A} \{f(x); x \in A\}$ ].

Je zrejmé, že pre aspoň jedno  $x_0 \in A$  platí  $f(x_0) = \min f(A)$  [resp.  $f(x_0) = \max f(A)$ ]. Ak pre všetky  $x \in A$  platí  $f(x_0) \leq f(x)$  [resp.  $f(x) \leq f(x_0)$ ], potom hovoríme, že **funkcia  $f$  nadobúda (má) v bode  $x_0$  na množine  $A$  minimum** [resp. **maximum**].

Ak platia ostré nerovnosti, t. j. ak pre všetky  $x \in A$ ,  $x \neq x_0$  platí  $f(x_0) < f(x)$  [resp.  $f(x) < f(x_0)$ ], potom hovoríme, že **funkcia  $f$  nadobúda (má) v bode  $x_0$  na množine  $A$  ostré minimum** [resp. **ostré maximum**].

Minimum a maximum funkcie  $f$  na množine  $A$  nazývame súhrnne (**ostré**) **extrémy funkcie  $f$  na množine  $A$** .

Ak  $A = D(f)$ , potom hovoríme o **globálnych (absolútnych) extrémoch funkcie  $f$**  a označujeme ich symbolmi  $\min f(x)$ , resp.  $\max f(x)$ .

Ak  $A = O(x_0)$ , kde  $O(x_0) \subset D(f)$  je nejaké okolie, potom hovoríme o **lokálnych extrémoch funkcie  $f$** .

To znamená, že **funkcia  $f$  má v bode  $x_0$  lokálne minimum** [resp. **maximum**], ak existuje okolie  $O(x_0)$  také, že pre všetky  $x \in O(x_0)$  platí  $f(x_0) \leq f(x)$  [resp.  $f(x_0) \geq f(x)$ ].

**Funkcia  $f$  má v bode  $x_0$  ostré lokálne minimum** [resp. **maximum**], ak existuje  $O(x_0)$  také, že pre všetky  $x \in O(x_0)$ ,  $x \neq x_0$  platí  $f(x_0) < f(x)$  [resp.  $f(x_0) > f(x)$ ].

### Poznámka 3.1.9.K3-poz05

Ak existuje  $\min \{f(x); x \in A\}$ , potom  $\min \{f(x); x \in A\} = \inf \{f(x); x \in A\}$ .

Ak existuje  $\max \{f(x); x \in A\}$ , potom  $\max \{f(x); x \in A\} = \sup \{f(x); x \in A\}$ .

### Príklad 3.1.6.K3-pr05

Uvažujme funkciu  $f: y = x^2 + 1$ .

Ak  $A = D(f)$ , potom  $\inf f(x) = \min f(x) = 1$ ,  $\sup f(x) = \infty$  a  $\max f(x)$  neexistuje.

Ak  $A = (0; 1)$ , potom  $\inf_{x \in A} f(x) = 1$ ,  $\sup_{x \in A} f(x) = 2$ ,  $\min_{x \in A} f(x)$  a  $\max_{x \in A} f(x)$  neexistujú.

Ak  $A = \langle 0; 1 \rangle$ , potom  $\inf_{x \in A} f(x) = \min_{x \in A} f(x) = 1$ ,  $\sup_{x \in A} f(x) = \max_{x \in A} f(x) = 2$ . ■

Funkcia  $y = f(x)$  sa nazýva **rastúca** [resp. **klesajúca**] **na množine  $A \subset D(f)$** , ak pre všetky  $x_1, x_2 \in A$ ,  $x_1 < x_2$  platí  $f(x_1) < f(x_2)$  [resp.  $f(x_1) > f(x_2)$ ].

Funkcia  $y = f(x)$  sa nazýva **neklesajúca** [resp. **nerastúca**] **na množine  $A \subset D(f)$** , ak pre všetky  $x_1, x_2 \in A$ ,  $x_1 < x_2$  platí  $f(x_1) \leq f(x_2)$  [resp.  $f(x_1) \geq f(x_2)$ ].

Funkcia  $y = f(x)$  sa nazýva **konštantná na množine  $A \subset D(f)$** , ak pre všetky  $x_1, x_2 \in A$  platí  $f(x_1) = f(x_2)$ , t. j. ak existuje  $c \in \mathbb{R}$  také, že pre všetky  $x \in A$  platí  $f(x) = c$ . Konštantnú funkciu zjednodušene zapisujeme  $f(x) = \text{konšt.}$ , špeciálne funkcia  $f(x) = 0$ ,  $x \in A$  sa nazýva **nulová funkcia na množine  $A$** .

V zmysle poznámky 3.1.7 sa funkcia  $f$  nazýva **rastúca** [resp. **klesajúca**, resp. **neklesajúca**, resp. **nerastúca**], ak pre všetky  $x_1, x_2 \in D(f)$ ,  $x_1 < x_2$  platí  $f(x_1) < f(x_2)$  [resp.  $f(x_1) > f(x_2)$ , resp.  $f(x_1) \leq f(x_2)$ , resp.  $f(x_1) \geq f(x_2)$ ]. Ak pre všetky  $x \in D(f)$  platí  $f(x) = c$ , kde  $c \in \mathbb{R}$ , potom sa nazýva **konštantná**.

Funkcia  $f$  sa nazýva **monotónna**, ak je neklesajúca alebo nerastúca (t. j. aj rastúca, klesajúca alebo konštantná). Ak je funkcia  $f$  iba rastúca alebo klesajúca, potom sa nazýva **rýdzo (ostro) monotónna**.

Niekedy je výhodné definovať pojem rastúcej alebo klesajúcej funkcie v bode. Funkcia  $f$  sa nazýva **rastúca** [resp. **klesajúca**] **v bode  $x_0 \in D(f)$** , ak existuje okolie  $O(x_0)$  také, že pre všetky  $x \in O^-(x_0)$  platí  $f(x) < f(x_0)$  [resp.  $f(x) > f(x_0)$ ] a pre všetky  $x \in O^+(x_0)$  platí  $f(x_0) < f(x)$  [resp.  $f(x_0) > f(x)$ ].

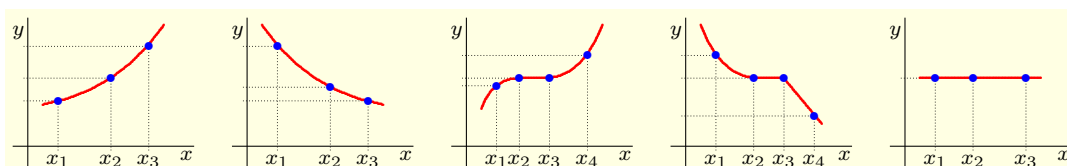
Funkcia  $f$  sa nazýva **neklesajúca** [resp. **nerastúca**] **v bode  $x_0 \in D(f)$** , ak existuje okolie  $O(x_0)$  také, že pre všetky  $x \in O^-(x_0)$  platí  $f(x) \leq f(x_0)$  [resp.  $f(x) \geq f(x_0)$ ] a pre všetky  $x \in O^+(x_0)$  platí  $f(x_0) \leq f(x)$  [resp.  $f(x_0) \geq f(x)$ ].

Z predchádzajúcich definícií vyplýva nasledujúca veta.

**Veta 3.1.1.K3-veta56**

Funkcia  $f$  je rastúca [resp. klesajúca] na otvorenom intervale  $(a; b)$  práve vtedy, ak je rastúca [resp. klesajúca] v každom bode  $x_0 \in (a; b)$ .

Na obrázku 3.1.6 sú postupne uvedené grafy rastúcej, klesajúcej, neklesajúcej (ale nie rastúcej), nerastúcej (ale nie klesajúcej) a konštantnej funkcie.



Obr. 3.1.6: Grafy rastúcej, klesajúcej, neklesajúcej, nerastúcej a konštantnej funkcie.

**Príklad 3.1.7.K3-pr06**

a) Funkcia  $f: y = x + 1$  je rastúca na  $D(f) = R$ , pretože pre  $x_1, x_2 \in R, x_1 < x_2$  platí:

$$f(x_1) = x_1 + 1 < x_2 + 1 = f(x_2).$$

b) Funkcia  $f: y = \lfloor x \rfloor$  je neklesajúca na  $R$ , konštantná na  $\langle k; k + 1 \rangle, k \in Z$ .

c) Funkcia  $f: y = x^2$  je klesajúca na intervale  $(-\infty; 0)$  a rastúca na intervale  $\langle 0; \infty \rangle$ .

d) Funkcia  $f: y = \frac{x}{x}$  je konštantná na množine  $R - \{0\}$ . ■

Z predchádzajúcich definícií vyplýva nasledujúca veta, ktorú uvádzame bez dôkazu.

**Veta 3.1.2.K3-veta01**

Nech  $y = f(x)$  je funkcia a nech  $A \subset D(f)$ , potom platí:

- Funkcia  $f = \text{konšt.}$  na  $A$  práve vtedy, ak je neklesajúca a nerastúca na  $A$ .
- Ak je funkcia  $f$  rastúca na  $A$ , potom je funkcia  $f$  neklesajúca na  $A$ .
- Ak je funkcia  $f$  klesajúca na  $A$ , potom je funkcia  $f$  nerastúca na  $A$ .
- Funkcia  $f$  je rastúca na  $A$  práve vtedy, ak je neklesajúca na  $A$  a na každej podmnožine  $B \subset A$  (s aspoň dvomi prvkami) nie je konštantná.
- Funkcia  $f$  je klesajúca na  $A$  práve vtedy, ak je nerastúca na  $A$  a na každej podmnožine  $B \subset A$  (s aspoň dvomi prvkami) nie je konštantná.
- Ak je funkcia  $f$  rastúca na  $A$ , potom je rastúca v každom vnútornom bode  $x_0 \in A$ .
- Ak je funkcia  $f$  klesajúca na  $A$ , potom je klesajúca v každom vnútornom bode  $x_0 \in A$ .

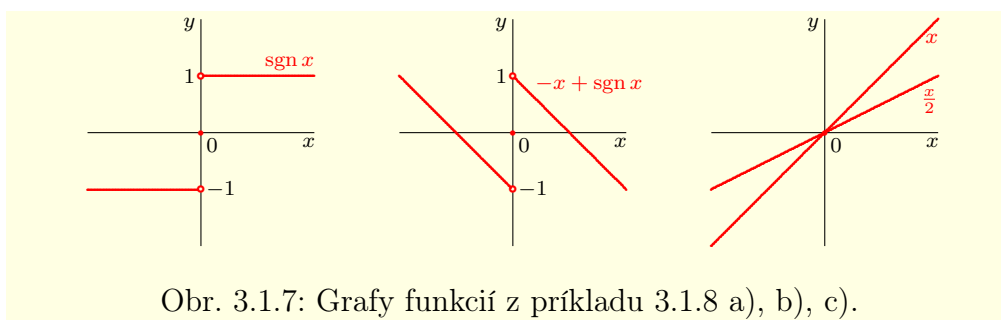
**Poznámka 3.1.10.K3-poz78**

Tvrdenia f), g) z predchádzajúcej vety neplatia, ak  $x_0$  je hraničný bod množiny  $A$ . Dokazuje to napríklad funkcia  $f: y = x^2$ , ktorá je klesajúca na intervale  $(-\infty; 0)$  a rastúca na intervale  $\langle 0; \infty \rangle$ . V bode  $x_0 = 0$  nie je funkcia  $f$  ani klesajúca, ani rastúca.

Ako dokazuje nasledujúci príklad, ak je funkcia  $f$  rastúca [resp. klesajúca] v jednom bode  $x_0 \in A$ , ešte nemusí byť rastúca [resp. klesajúca] v jeho okolí.

**Príklad 3.1.8.K3-pr99**

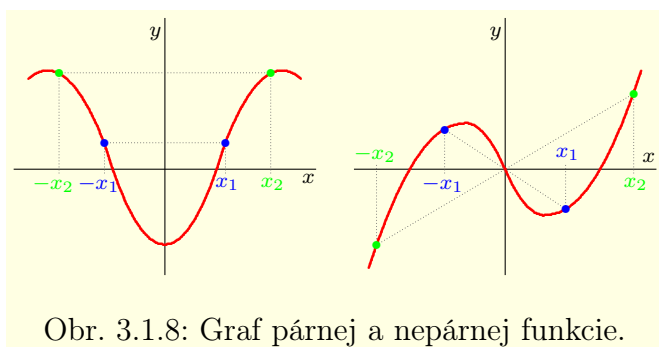
- a) Funkcia  $f(x) = \operatorname{sgn} x$  je rastúca v bode 0, konštantná na  $(-\infty; 0)$  a na  $(0; \infty)$ .  
 b) Funkcia  $f(x) = -x + \operatorname{sgn} x$  je rastúca v bode 0 a klesajúca na  $(-\infty; 0)$  a  $(0; \infty)$ .  
 c) Funkcia  $f(x) = x$  pre  $x \in \mathbb{Q}$ ,  $f(x) = \frac{x}{2}$  pre  $x \in \mathbb{R} - \mathbb{Q}$  je rastúca v bode  $x_0 = 0$ , je rastúca na množine  $\mathbb{Q}$  a tiež na množine  $\mathbb{R} - \mathbb{Q}$ . Na druhej strane je zrejmé, že neexistuje reálny interval  $I$ , na ktorom je  $f$  rastúca (obr. 3.1.7). ■



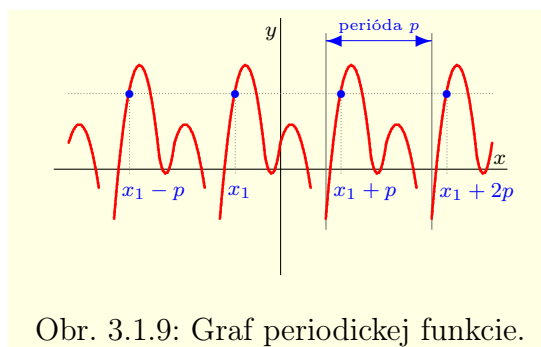
Obr. 3.1.7: Grafy funkcií z príkladu 3.1.8 a), b), c).

Funkcia  $y = f(x)$  sa nazýva **párna** [resp. **nepárna**], ak pre všetky  $x \in D(f)$  platí  $-x \in D(f)$  a navyše  $f(x) = f(-x)$  [resp.  $f(x) = -f(-x)$ ].

Graf párnej funkcie je súmerný podľa osi  $y$  a graf nepárnej funkcie je súmerný podľa bodu  $[0; 0]$ , t. j. podľa počiatku súradnicového systému (obrázok 3.1.8).



Obr. 3.1.8: Graf párnej a nepárnej funkcie.



Obr. 3.1.9: Graf periodickej funkcie.

**Príklad 3.1.9.K3-pr07**

- a) Funkcia  $y = |x|$  je párna (obr. 2.1.4) a funkcia  $y = \operatorname{sgn} x$  je nepárna (obr. 2.1.5).  
 b) Funkcia  $y = \text{konšt.}$  je párna a funkcia  $y = 0$  je párna a zároveň aj nepárna.  
 c) Funkcia  $y = x^2$ ,  $x \in \mathbb{R}$  je párna, ale funkcia  $y = x^2$ ,  $x \in (0; 1)$  párna nie je.  
 d) Funkcie  $y = x^{-5}$ ,  $y = x^{-3}$ ,  $y = \frac{1}{x}$ ,  $y = x$ ,  $y = x^3$ ,  $y = x^5$  sú nepárne.  
 e) Dirichletova funkcia  $y = \chi(x)$  je párna. ■

Funkcia  $y = f(x)$  sa nazýva **periodická**, ak existuje  $p \in \mathbb{R}$ ,  $p \neq 0$  také, že  $x \in D(f)$  práve vtedy, ak  $x + p \in D(f)$  a pre všetky  $x \in D(f)$  platí  $f(x + p) = f(x)$ , t. j. ak platí:

$$x \in D(f) \iff x + p \in D(f), \quad \forall x \in D(f): f(x + p) = f(x).$$

Číslo  $p$  nazývame **perióda funkcie**  $f$  (obrázok 3.1.9). Najmenšia kladná perióda (pokiaľ existuje) sa nazýva **primitívna (základná) perióda funkcie**  $f$ .

**Poznámka 3.1.11.K3-poz06**

Nech  $y = f(x)$  je periodická funkcia s periódou  $p$  a nech  $k \in \mathbb{Z}$ ,  $k \neq 0$ .

Ľahko sa matematickou indukciou presvedčíme, že aj číslo  $kp$  je periódou funkcie  $f$ .

**Poznámka 3.1.12.K3-poz07**

Je dobré si uvedomiť, že ak je funkcia  $y = f(x)$  periodická s periódou  $p$  (nech  $p > 0$ ), potom ju stačí vyšetrovať na intervale s dĺžkou  $p$ , napríklad na intervale  $(0; p)$ .

Namiesto tohto intervalu môžeme použiť ľubovoľný interval  $\langle a; a + p \rangle$ , resp.  $(a; a + p)$ , kde  $a$  je ľubovoľné číslo. Každý interval s dĺžkou  $p$  nazývame **interval periodicity**.

**Príklad 3.1.10.K3-pr08**

a) Goniometrické funkcie<sup>6</sup>  $y = \sin x$ ,  $y = \cos x$  sú periodické so základnou periódou  $2\pi$ .

b) Goniometrické funkcie  $y = \operatorname{tg} x$ ,  $y = \operatorname{cotg} x$  sú periodické so základnou periódou  $\pi$ .

c) Funkcia  $y = \text{konšt.}$  je periodická, pričom periódou je každé  $p \in \mathbb{R}$ ,  $p \neq 0$ .

To znamená, že táto funkcia nemá základnú periódu.

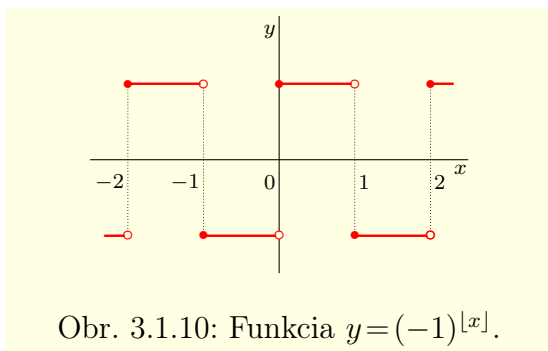
d) Funkcia  $y = x - [x]$  je periodická s periódou 1 (str. 58, obr. 2.1.2).

e) Dirichletova funkcia  $\chi$  je periodická, pričom periódou je každé  $p \in \mathbb{Q}$ ,  $p \neq 0$ . ■

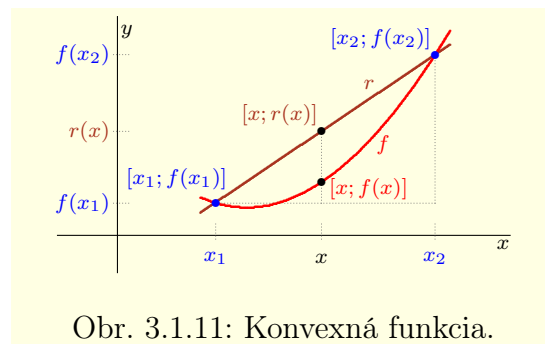
**Príklad 3.1.11.K3-pr25**

Funkcia  $y = (-1)^{[x]}$  je periodická so základnou periódou 2 (obr. 3.1.10). Pre  $x \in \mathbb{R}$  platí:

$$f(x+2) = (-1)^{[x+2]} = (-1)^{[x]+2} = (-1)^{[x]} \cdot (-1)^2 = (-1)^{[x]} = f(x). \blacksquare$$



Obr. 3.1.10: Funkcia  $y = (-1)^{[x]}$ .



Obr. 3.1.11: Konvexná funkcia.

Funkcia  $f$  sa nazýva **konvexná** [resp. **konkávna**] na intervale  $I \subset D(f)$ , ak pre všetky  $x, x_1, x_2 \in I$  také, že  $x_1 < x < x_2$  platí:

$$f(x) \leq r(x) = \frac{x-x_1}{x_2-x_1} f(x_2) + \frac{x_2-x}{x_2-x_1} f(x_1) \quad [\text{resp. } f(x) \geq r(x)]. \quad (3.4)$$

Ak platia ostré nerovnosti, t. j. ak pre všetky  $x, x_1, x_2 \in I$ ,  $x_1 < x < x_2$  platí:

$$f(x) < r(x) = \frac{x-x_1}{x_2-x_1} f(x_2) + \frac{x_2-x}{x_2-x_1} f(x_1) \quad [\text{resp. } f(x) > r(x)], \quad (3.5)$$

potom funkciu  $f$  nazývame **rýdzo konvexná** [resp. **rýdzo konkávna**] na intervale  $I$ .

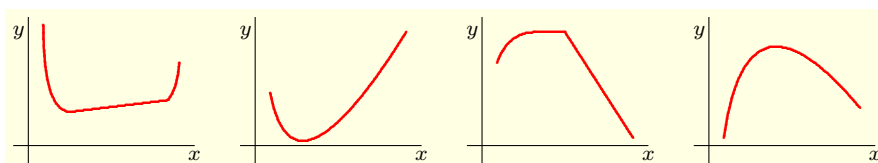
Funkcia  $f$  sa nazýva **rýdzo konvexná** [resp. **rýdzo konkávna**] v bode  $x_0 \in D(f)$ , ak existuje okolie  $O(x_0)$ , v ktorom je funkcia  $f$  rýdzo konvexná [resp. **rýdzo konkávna**].

<sup>6</sup>Bližšie sa im venujeme v nasledujúcej časti.



Hovoríme, že funkcia  $f$  **má v bode**  $x_0 \in D(f)$  **inflexný bod** (má v bode  $x_0$  **inflexiu**), ak existuje okolie  $O(x_0)$  také, že v ľavom okolí  $O^-(x_0)$  je funkcia  $f$  rýdzo konvexná [resp. rýdzo konkávna] a v pravom okolí  $O^+(x_0)$  rýdzo konkávna [resp. rýdzo konvexná].

Na obrázku 3.1.12 sú postupne uvedené grafy konvexnej (nie však rýdzo), rýdzo konvexnej, konkávnej (nie rýdzo) a rýdzo konkávnej funkcie.



Obr. 3.1.12: Grafy konvexnej, rýdzo konvexnej, konkávnej a rýdzo konkávnej funkcie.

### Poznámka 3.1.13.K3-poz08

Vzťah  $f(x) \leq r(x)$  [resp.  $f(x) \geq r(x)$ ] graficky (obrázok 3.1.11) znamená, že každý bod  $[x; f(x)]$  leží pod [resp. nad] priamkou  $r$  určenou bodmi  $[x_1; f(x_1)]$ ,  $[x_2; f(x_2)]$ , t. j. rovnicou (príklad 3.1.4):

$$r(x) = \frac{f(x_2)-f(x_1)}{x_2-x_1}x + \frac{f(x_1)x_2-f(x_2)x_1}{x_2-x_1} = \frac{x-x_1}{x_2-x_1}f(x_2) + \frac{x_2-x}{x_2-x_1}f(x_1).$$

### Veta 3.1.3.K3-veta54

Funkcia  $f$  je konvexná [resp. konkávna] na intervale  $I \subset D(f)$  práve vtedy, ak pre všetky  $x, x_1, x_2 \in I$ ,  $x_1 < x < x_2$  platí:

$$\frac{f(x_1)-f(x)}{x_1-x} \leq \frac{f(x_2)-f(x)}{x_2-x} \quad \left[ \text{resp.} \quad \frac{f(x_1)-f(x)}{x_1-x} \geq \frac{f(x_2)-f(x)}{x_2-x} \right]. \quad (3.6)$$

Funkcia  $f$  je rýdzo konvexná [resp. rýdzo konkávna] na intervale  $I \subset D(f)$  práve vtedy, ak pre všetky  $x, x_1, x_2 \in I$ ,  $x_1 < x < x_2$  platí:

$$\frac{f(x_1)-f(x)}{x_1-x} < \frac{f(x_2)-f(x)}{x_2-x} \quad \left[ \text{resp.} \quad \frac{f(x_1)-f(x)}{x_1-x} > \frac{f(x_2)-f(x)}{x_2-x} \right]. \quad (3.7)$$

### Dôkaz.

Vetu dokážeme pre konvexnú funkciu, dôkaz pre ostatné funkcie je analogický.

$NP \Rightarrow$ : Zo vzťahu (3.4) vyplýva, že pre všetky  $x, x_1, x_2 \in I$ ,  $x_1 < x < x_2$  platí:

$$0 \leq \frac{x-x_1}{x_2-x_1}f(x_2) + \frac{x_2-x}{x_2-x_1}f(x_1) - f(x) = \frac{x-x_1}{x_2-x_1}f(x_2) + \frac{x_2-x}{x_2-x_1}f(x_1) - \frac{x_2-x_1}{x_2-x_1}f(x).$$

Po vynásobení výrazom  $x_2 - x_1 > 0$  a roznásobením dostaneme nerovnosť

$$0 \leq xf(x_2) - x_1f(x_2) + x_2f(x_1) - xf(x_1) - x_2f(x) + x_1f(x). \quad (3.8)$$

$PP \Leftarrow$ : Z predpokladov vyplýva, že pre všetky  $x, x_1, x_2 \in I$ ,  $x_1 < x < x_2$  platí:

$$0 \leq \frac{f(x_2)-f(x)}{x_2-x} - \frac{f(x_1)-f(x)}{x_1-x} = \frac{f(x_2)-f(x)}{x_2-x} - \frac{f(x)-f(x-1)}{x-x_1}.$$

Po vynásobení výrazmi  $x_2 - x > 0$ ,  $x - x_1 > 0$  dostaneme tiež nerovnosť (3.8)

$$\begin{aligned} 0 &\leq (x-x_1)[f(x_2)-f(x)] - (x_2-x)[f(x)-f(x_1)] = \\ &= xf(x_2) - xf(x) - x_1f(x_2) + x_1f(x) - x_2f(x) + x_2f(x_1) + xf(x) - xf(x_1) = \\ &= xf(x_2) - x_1f(x_2) + x_1f(x) - x_2f(x) + x_2f(x_1) - xf(x_1). \end{aligned}$$

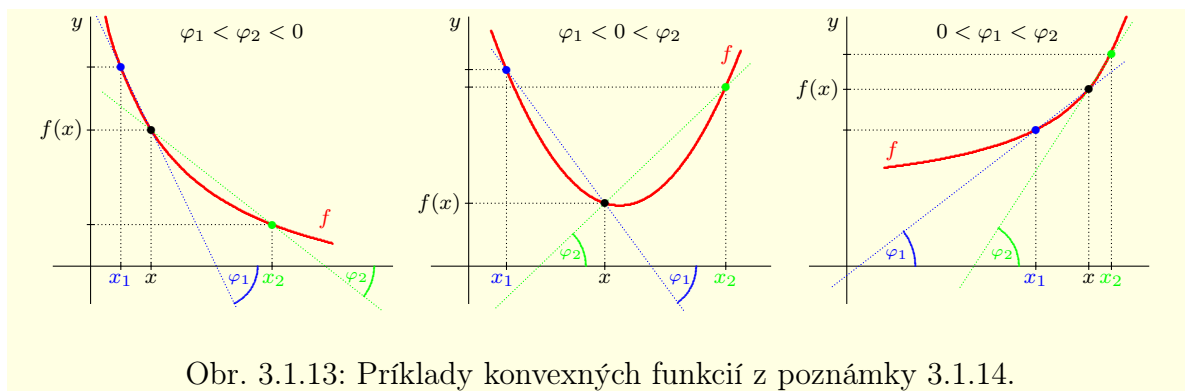
Všetky úpravy, ktoré sme použili v  $NP \Rightarrow$  a  $PP \Leftarrow$  sú ekvivalentné.

To znamená, že vzťahy (3.4) a (3.6) sú navzájom ekvivalentné a veta je dokázaná. ■

**Poznámka 3.1.14.K3-poz76**

Z geometrického hľadiska predstavujú podiely  $\frac{f(x_i)-f(x)}{x_i-x}$ ,  $i = 1, 2$  smernice priamok  $r_i$ , ktoré prechádzajú bodmi  $[x; f(x)]$  a  $[x_i; f(x_i)]$ ,  $i = 1, 2$ .

To znamená, že v prípade konvexnej [resp. rýdzo konvexnej] funkcie sa smernica priamky  $r_i$  (a tým pádom aj uhol  $\varphi_i$ , ktorý zvierá s osou  $x$ ) nezmenší [resp. zväčší] pre  $x_1, x_2 \in I$ ,  $x_1 < x < x_2$  (obrázok 3.1.13). V prípade konkávnej [resp. rýdzo konkávnej] funkcie sa naopak smernica priamky  $r_i$  nezväčší [resp. zmenší] pre  $x_1, x_2 \in I$ ,  $x_1 < x < x_2$ .



Obr. 3.1.13: Príklady konvexných funkcií z poznámky 3.1.14.

**Dôsledok 3.1.3.a.K3-dosl16**

Ak je funkcia  $f$  konvexná [resp. konkávna] na intervale  $I \subset D(f)$ , potom pre všetky  $x, x_1, x_2 \in I$ ,  $x_1 < x_2$ ,  $x_1 \neq x \neq x_2$  platí:

$$\frac{f(x_1)-f(x)}{x_1-x} \leq \frac{f(x_2)-f(x)}{x_2-x} \quad \left[ \text{resp.} \quad \frac{f(x_1)-f(x)}{x_1-x} \geq \frac{f(x_2)-f(x)}{x_2-x} \right].$$

Ak je funkcia  $f$  rýdzo konvexná [resp. rýdzo konkávna], potom platia ostré nerovnosti.

**Dôkaz.**

Tvrdenie dokážeme pre konvexnú funkciu (dôkaz pre konkávnu, rýdzo konvexnú, rýdzo konkávnu funkciu je analogický). Pre polohu bodov  $x, x_1, x_2$  môžu nastať tri prípady.

- Ak  $x_1 < x < x_2$ , potom je dané tvrdenie rovnaké ako tvrdenie vety 3.1.3.
- Ak  $x < x_1 < x_2$ , potom z vety 3.1.3 vyplýva, že platí:

$$\frac{f(x)-f(x_1)}{x-x_1} \leq \frac{f(x_2)-f(x_1)}{x_2-x_1}, \quad \text{t. j.} \quad 0 \leq \frac{f(x_2)-f(x_1)}{x_2-x_1} - \frac{f(x)-f(x_1)}{x-x_1}.$$

Po vynásobení výrazmi  $x_2 - x_1 > 0$ ,  $x_1 - x > 0$  a roznásobením dostaneme

$$\begin{aligned} 0 &\leq (x_1 - x)[f(x_2) - f(x_1)] - (x_2 - x_1)[f(x) - f(x_1)] = \\ &= x_1 f(x_2) - x_1 f(x_1) - x f(x_2) + x f(x_1) - x_2 f(x_1) + x_2 f(x) + x_1 f(x_1) - x_1 f(x), \end{aligned}$$

pričom výraz  $x_1 f(x_1) - x_1 f(x_1)$  sa vynuluje. Po pripočítaní  $x f(x) - x f(x)$  a zmenení poradia jednotlivých členov na pravej strane predchádzajúceho výrazu dostaneme

$$\begin{aligned} 0 &\leq x_1 f(x_2) - x_1 f(x) - x f(x_2) + x f(x) - x_2 f(x_1) + x_2 f(x) + x f(x_1) - x f(x) = \\ &= (x_1 - x)[f(x_2) - f(x)] - (x_2 - x)[f(x_1) - f(x)]. \end{aligned}$$

Po vydelení výrazmi  $x_1 - x > 0$ ,  $x_2 - x > 0$ , dostaneme dokazovanú nerovnosť.

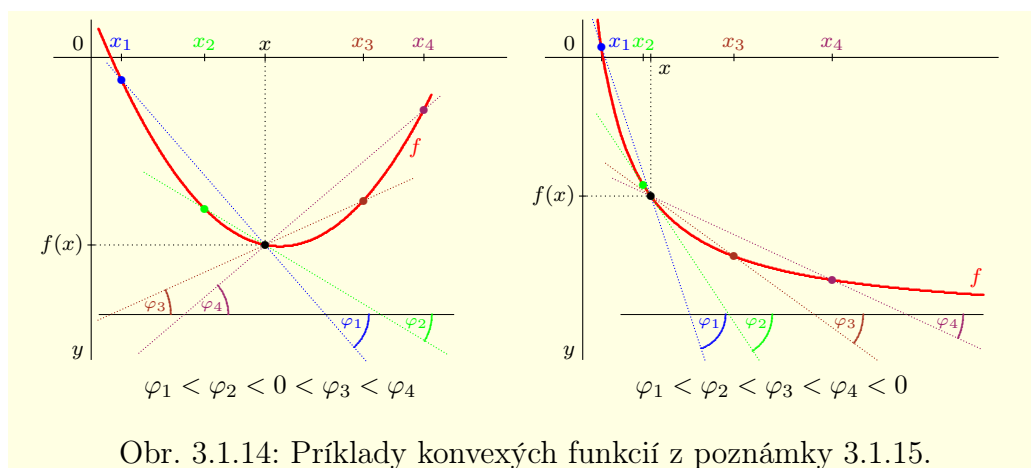
- Pre  $x_1 < x_2 < x$  je dôkaz rovnaký ako v časti b). ■



**Poznámka 3.1.15.K3-poz77**

Z predchádzajúceho dôsledku vyplýva, že nerovnosti (3.6), resp. (3.7) nezávisia na polohe bodu  $x \in I$  a platia pre všetky  $x_1, x_2 \in I$ ,  $x_1 < x_2$ ,  $x_1 \neq x$ ,  $x_2 \neq x$ .

Geometrická interpretácia je analogická ako pri poznámke 3.1.14. V prípade konvexnej [resp. rýdzo konvexnej] funkcie (obrázok 3.1.14) sa smernica priamky  $r_i$  nezmenšuje [resp. zväčšuje] pre ľubovoľné  $x_1 < x_2 < x_3 < \dots < x_n < \dots$  a v prípade konkávnej [resp. rýdzo konkávnej] funkcie sa naopak smernica priamky  $r_i$  nezväčšuje [resp. znižuje].



Obr. 3.1.14: Príklady konvexných funkcií z poznámky 3.1.15.

**Príklad 3.1.12.K3-pr10**

- Funkcia  $y = \sin x$  je rýdzo konkávna na  $\langle 0; \pi \rangle$  a rýdzo konvexná na  $\langle \pi; 2\pi \rangle$ .
- Funkcia  $y = x^2$  je rýdzo konvexná na  $\mathbb{R}$  a funkcia  $y = -x^2$  je rýdzo konkávna na  $\mathbb{R}$ .
- Funkcia  $y = \text{konšt.}$  je konvexná (nie rýdzo) a konkávna (nie rýdzo) na  $\mathbb{R}$ .
- Funkcia  $y = ax + b$  je konvexná aj konkávna na  $\mathbb{R}$  pre všetky  $a, b \in \mathbb{R}$ . ■

**Veta 3.1.4.K3-veta02**

Funkcia  $y = f(x)$  je konvexná [resp. konkávna] na intervale  $I \subset D(f)$  práve, vtedy ak pre všetky  $x_1, x_2 \in I$ ,  $x_1 \neq x_2$  a pre všetky  $p \in \mathbb{R}$ ,  $0 < p < 1$ ,  $q = 1 - p$  platí:

$$f(px_1 + qx_2) \leq pf(x_1) + qf(x_2) \quad [\text{resp. } f(px_1 + qx_2) \geq pf(x_1) + qf(x_2)].$$

**Dôkaz.**

Vetu dokážeme iba pre konvexnosť, pre konkávnosť sa dokáže analogicky.

$NP_{\Rightarrow}$ : Nech  $x_1, x_2 \in I$ ,  $x_1 < x_2$ . Potom pre všetky  $p \in (0; 1)$ ,  $q = 1 - p$  existuje  $x \in (x_1; x_2)$  také, že

$$p = \frac{x_2 - x}{x_2 - x_1}, \quad q = 1 - p = \frac{x_2 - x_1}{x_2 - x_1} - \frac{x_2 - x}{x_2 - x_1} = \frac{x - x_1}{x_2 - x_1}.$$

Potom platí:

$$px_1 + qx_2 = \frac{x_2 - x}{x_2 - x_1}x_1 + \frac{x - x_1}{x_2 - x_1}x_2 = \frac{x_2x_1 - xx_1 + xx_2 - x_1x_2}{x_2 - x_1} = \frac{x(x_2 - x_1)}{x_2 - x_1} = x.$$

Takže  $x_1 < px_1 + (1 - p)x_2 < x_2$ . Potom z konvexnosti vyplýva:

$$f(px_1 + qx_2) = f(x) \leq \frac{x - x_1}{x_2 - x_1}f(x_2) + \frac{x_2 - x}{x_2 - x_1}f(x_1) = qf(x_2) + pf(x_1).$$

$PP_{\Leftarrow}$ : Nech  $x_1, x_2 \in I$ ,  $x_1 < x_2$ ,  $p \in (0; 1)$ ,  $q = 1 - p$ . Označme  $x = px_1 + qx_2$ , potom platí:

$$x_1 < x_1 + q(x_2 - x_1) = (1 - q)x_1 + qx_2 = px_1 + (1 - p)x_2 = x_2 + p(x_1 - x_2) < x_2.$$

To znamená, že  $px_1 + (1-p)x_2 = x \in (x_1; x_2)$ . Z toho vyplýva:

$$\left. \begin{aligned} x &= (1-q)x_1 + qx_2 = x_1 + q(x_2 - x_1) \\ x &= px_1 + (1-p)x_2 = x_2 - p(x_2 - x_1) \end{aligned} \right\} \implies p = \frac{x_2 - x}{x_2 - x_1}, \quad q = \frac{x - x_1}{x_2 - x_1}.$$

Potom platí  $f(x) = f(px_1 + qx_2) \leq pf(x_1) + qf(x_2) = \frac{x_2 - x}{x_2 - x_1}f(x_1) + \frac{x - x_1}{x_2 - x_1}f(x_2)$ . ■

Hovoríme, že bod  $c \in D(f)$  je **nulový bod (koreň) funkcie**  $y = f(x)$ , ak platí  $f(c) = 0$ . Korene funkcie  $f$  nájdeme riešením rovnice  $f(x) = 0$ ,  $x \in D(f)$ .

### Príklad 3.1.13.K3-pr11

- a) Funkcie  $y = |x|$ ,  $y = x^2$ ,  $y = x^3$ ,  $y = x^2 + x^4$  majú jediný koreň  $c = 0$ .  
 b) Dirichletova funkcia  $\chi(x)$  má nekonečne veľa koreňov, sú to všetky iracionálne čísla.  
 c) Funkcia  $y = x^2 + 2$  nemá koreň, pretože pre všetky  $x \in \mathbb{R}$  platí  $x^2 + 2 \geq 2 > 0$ . ■

## 3.1.2 Operácie s funkciami

Funkcie sú množiny, ktorých prvkami sú usporiadané dvojice vzorov  $x$  a obrazov  $f(x)$ . Takže aj relácie a operácie s funkciami musíme chápať ako relácie a operácie s množinami.

### • Rovnosť a usporiadanie funkcií

Rovnosť funkcií  $y = f(x)$  a  $y = g(x)$  predstavuje rovnosť dvoch množín. To znamená, že musia byť ekvivalentné vzťahy  $[x; y] \in f$  a  $[x; y] \in g$ . Potom musí platiť  $D(f) = D(g)$  a  $f(x) = g(x)$  pre všetky  $x \in D(f)$ .

Hovoríme, že **funkcia**  $y = f(x)$  **sa rovná funkcii**  $y = g(x)$ , ak  $D(f) = D(g)$  a pre všetky  $x \in D(f)$  platí  $f(x) = g(x)$ . Rovnosť funkcií  $f$  a  $g$  symbolicky zapisujeme  $f = g$ . V opačnom prípade hovoríme, že **funkcia**  $f$  **sa nerovná funkcii**  $g$  a zapisujeme  $f \neq g$ .

Funkcie  $y = f(x)$ ,  $y = g(x)$  sa nemusia rovnať na celom svojom definičnom obore, môžu sa rovnať iba na jeho časti. Nech  $A \subset D(f) \cap D(g)$ . Hovoríme, že **funkcia**  $f$  **sa rovná funkcii**  $g$  **na množine**  $A$ , ak pre všetky  $x \in A$  platí  $f(x) = g(x)$ . Zapisujeme  $f = g$ ,  $x \in A$ , resp.  $f = g$  na množine  $A$ .

### Príklad 3.1.14.K3-pr12

Nech  $f: y = 1$ ,  $g: y = \frac{x}{x}$ , potom  $f \neq g$ , pretože  $R = D(f) \neq D(g) = \mathbb{R} - \{0\}$ .  
 Keďže pre všetky  $x \neq 0$  platí  $1 = \frac{x}{x}$ , potom  $f = g$  na množine  $\mathbb{R} - \{0\}$ . ■

Nech množina  $A \subset D(f) \cap D(g)$ . Hovoríme, že **funkcia**  $f$  **je menšia** [resp. **väčšia**] **ako funkcia**  $g$  **na množine**  $A$ , ak pre všetky  $x \in A$  platí  $f(x) < g(x)$  [resp.  $f(x) > g(x)$ ]. Zapisujeme  $f < g$  [resp.  $f > g$ ],  $x \in A$  alebo  $f < g$  [resp.  $f > g$ ] na množine  $A$ .

Ak pripustíme aj rovnosť funkcií  $f$ ,  $g$  na množine  $A$ , potom stručne píšeme  $f \leq g$  [resp.  $f \geq g$ ],  $x \in A$ .

### Príklad 3.1.15.K3-pr13

Nech  $f: y = x$ ,  $g: y = x^2$ . Na množine  $\mathbb{R}$  neplatí ani jedna z relácií  $f < g$ ,  $f = g$ ,  $f > g$ . Ale  $f < g$  na množine  $\mathbb{R} - (0; 1)$ ,  $f = g$  na množine  $\{0, 1\}$ ,  $f > g$  na množine  $(0; 1)$ . ■

### Poznámka 3.1.16.K3-poz10

Z príkladu 3.1.15 vyplýva, že vo všeobecnosti nemôžeme porovnávať funkcie  $f$ ,  $g$ .<sup>7</sup> Je ale zrejmé, že môžeme určiť množiny, na ktorých platia relácie  $f < g$ ,  $f = g$  alebo  $f > g$ .

<sup>7</sup>V takomto prípade hovoríme o čiastočnom usporiadaní menší  $<$  na množine všetkých funkcií.

- **Algebraické operácie s funkciami**

Funkcie môžeme sčítavať, odčítavať, násobiť a deliť. Nech  $y = f(x)$ ,  $y = g(x)$  sú funkcie definované na množine  $A \subset \mathbb{R}$ , potom **súčet**  $f + g$ , **rozdiel**  $f - g$ , **súčin**  $fg$ , **podiel**  $\frac{f}{g}$ , kde  $g(x) \neq 0$  pre  $x \in A$ , **funkcií  $f$  a  $g$  na množine  $A$**  definujeme vzťahmi:

$$(f \pm g)(x) = f(x) \pm g(x), \quad (fg)(x) = f(x)g(x), \quad \left(\frac{f}{g}\right)(x) = \frac{f(x)}{g(x)}, \quad x \in A.$$

**Absolútnu hodnotu  $|f|$  funkcie  $f$  na množine  $A$**  definujeme  $|f|(x) = |f(x)|$ ,  $x \in A$ .

**Poznámka 3.1.17.K3-poz12**

Operácie sčítania a násobenia funkcií môžeme definovať pre viac funkcií. Špeciálne pre  $n \in \mathbb{N}$  definujeme  **$n$ -tú mocninu  $f^n$  funkcie  $f$  vzťahom  $f^n(x) = [f(x)]^n$ .**

**Príklad 3.1.16.K3-pr15**

Nech  $f: y = \sin x + 2$ ,  $g: y = x^2$ , potom

$$f \pm g: y = \sin x + 2 \pm x^2, \quad fg: y = x^2 \sin x + 2x^2, \quad \frac{g}{f}: y = \frac{x^2}{\sin x + 2}. \quad \blacksquare$$

- **Zúženie funkcie na množinu**

Uvažujme funkciu  $y = f(x)$ ,  $x \in D(f)$  a množinu  $A \subset D(f)$ . Hovoríme, že funkcia  $y = h(x)$ ,  $x \in A$  je **zúžením (reštrikciou) funkcie  $f$  na množinu  $A$** , ak pre všetky  $x \in A$  platí  $h(x) = f(x)$ . Označujeme  $h = f|_A$ .

Je zrejmé, že graf funkcie  $h$  je časťou grafu  $f$ . Zúženie funkcie na množinu vykonávame napríklad vtedy, ak máme viac funkcií a chceme z nich pomocou algebraických operácií tvoriť ďalšie funkcie, alebo nás zaujíma chovanie niektorej funkcie iba na danej množine.

**Príklad 3.1.17.K3-pr14**

- Funkcia  $y = x^2$ ,  $x \in \langle -1; 1 \rangle$  je zúžením funkcie  $y = x^2$ ,  $x \in \mathbb{R}$  na interval  $\langle -1; 1 \rangle$ .
- Funkcia  $y = 1$ ,  $x \in \mathbb{Q}$  je zúžením Dirichletovej funkcie  $\chi(x)$ ,  $x \in \mathbb{R}$  na množinu  $\mathbb{Q}$ .
- Funkcia  $y = 0$ ,  $x \in \langle 0; 1 \rangle$  je zúžením funkcie  $y = \lfloor x \rfloor$ ,  $x \in \mathbb{R}$  na interval  $\langle 0; 1 \rangle$ .  $\blacksquare$

- **Zložená a inverzná funkcia**

Ďalšia dôležitá operácia je **skladanie funkcií** a s tým súvisiaci pojem **zloženej funkcie (zloženého zobrazenia)**, ktorý sme už definovali v kapitole 1.

Nech  $y = f(x)$ ,  $x \in A$  a  $y = g(x)$ ,  $x \in B$  sú funkcie také, že  $H(f) \subset B$ . Potom funkcia  $y = F(x)$ ,  $x \in A$  definovaná pre všetky  $x \in A$  vzťahom  $F(x) = g[f(x)]$ , sa nazýva **zložená funkcia  $f$  a  $g$**  a označuje sa  $g(f)$ , resp.  $f \circ g$ . Funkcia  $f$  sa nazýva **vnútorná zložka (vnútorná funkcia)** a funkcia  $g$  sa nazýva **vonkajšia zložka (vonkajšia funkcia)** zloženej funkcie. Skladanie dvoch funkcií je ilustrované na obrázku 3.1.15.

Ak sú funkcie  $f$ ,  $g$  zadané analyticky  $u = f(x)$ ,  $y = g(u)$ ,  $H(f) \subset D(g)$ , potom vzorec pre zloženú funkciu  $g(f)$  dostaneme tak, že vo výraze  $y = g(u)$  dosadíme za premennú  $u$  výraz  $f(x)$ . Hovoríme, že **vykonávame substitúciu premennej  $u$  výrazom  $f(x)$** .

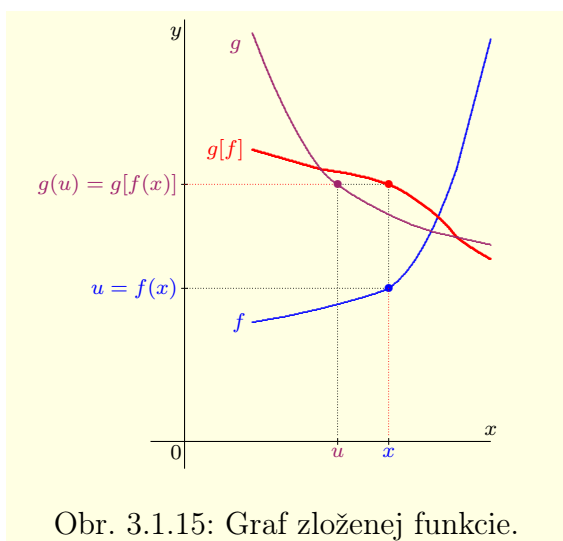
**Príklad 3.1.18.K3-pr16**

Nech  $f: y = x^2$ ,  $g: y = \sin x$ . Nájdite zložené funkcie  $f(g)$  a  $g(f)$ .

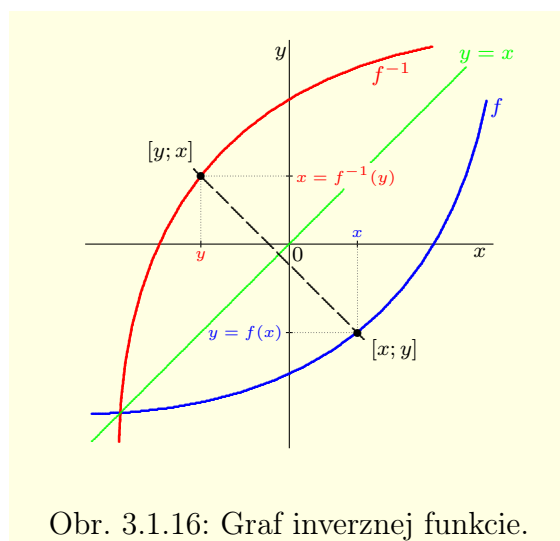
**Riešenie.**

Keďže  $D(f) = \mathbb{R}$ ,  $H(f) = \langle 0; \infty \rangle$ ,  $D(g) = \mathbb{R}$ ,  $H(g) = \langle -1; 1 \rangle$ , potom

$$f(g): y = f[g(x)] = [g(x)]^2 = (\sin x)^2 = \sin^2 x, \quad g(f): y = g[f(x)] = \sin f(x) = \sin x^2. \quad \blacksquare$$



Obr. 3.1.15: Graf zloženej funkcie.



Obr. 3.1.16: Graf inverznej funkcie.

**Poznámka 3.1.18.K3-poz13**

V mnohých prípadoch potrebujeme danú funkciu, ktorú považujeme za zloženú, rozložiť na vnútornú a vonkajšiu zložku. Takýto rozklad väčšinou nebýva jednoznačný, preto ho musíme prispôbiť našim možnostiam a daným požiadavkám.

**Príklad 3.1.19.K3-pr17**

Funkciu  $F: y = \sqrt{1-x^2}$ ,  $x \in \langle -1; 1 \rangle$  môžeme považovať za zloženú funkciu  $F = g(f)$ , pričom platí  $f: y = 1-x^2$ ,  $x \in \langle -1; 1 \rangle$ ,  $g: y = \sqrt{x}$ ,  $x \in \langle 0; \infty \rangle$ . ■

Predpokladajme, že je  $y = f(x)$ ,  $x \in D(f)$  injektívna, t. j. pre všetky  $x_1, x_2 \in D(f)$ ,  $x_1 \neq x_2$  platí  $f(x_1) \neq f(x_2)$ . To znamená, že  $y = f(x): D(f) \rightarrow H(f)$  je bijektívna.<sup>8</sup>

Potom k  $f$  existuje **inverzná funkcia**  $x = f^{-1}(y)$ ,  $y \in H(f)$  taká, že  $x = f^{-1}(y)$  práve vtedy, ak  $y = f(x)$ . Je zrejmé, že  $D(f^{-1}) = H(f)$  a  $H(f^{-1}) = D(f)$ .

Keďže sa usporiadané dvojice  $[x; y] \in f$  a  $[y; x] \in f^{-1}$  líšia iba poradím prvkov, sú grafy funkcie  $f$  a inverznej funkcie  $f^{-1}$  osovo súmerné podľa priamky  $y = x$  (obrázok 3.1.16).

**Poznámka 3.1.19.K3-poz14**

Už sme spomínali, že funkcia je špeciálnym prípadom zobrazenia. Takže výsledky, ktoré sme odvodili v kapitole 1 pre inverzné zobrazenia, platia aj pre reálne funkcie reálnej premennej. To znamená, že platia tvrdenia vety 1.3.6:

Nech je funkcia  $f: D(f) \rightarrow H(f)$  je bijektívna, potom platí:

- |   |   |
|---|---|
| a) $f^{-1}: H(f) \rightarrow D(f)$ je bijektívna,       | b) $(f^{-1})^{-1} = f$ ,                                |
| c) $\forall y \in D(f^{-1}) = H(f): f[f^{-1}(y)] = y$ , | d) $\forall x \in H(f^{-1}) = D(f): f^{-1}[f(x)] = x$ . |

V niektorých prípadoch, keď je funkcia  $f$  zadaná jednoduchými vzťahmi, dokážeme inverznú funkciu  $f^{-1}$  určiť bez problémov. Napríklad, ak je zadaná nie príliš zložitým analytickým vzorcom  $y = f(x)$ , vypočítame funkciu  $x = f^{-1}(y)$  tak, že riešime rovnicu  $y = f(x)$  vzhľadom k neznámej  $x$ .

Spravidla sa dodržiava dohoda, že argument funkcie  $f$  a inverznej funkcie  $f^{-1}$  značíme rovnakým symbolom. Preto namiesto  $x = f^{-1}(y)$  píšeme  $y = f^{-1}(x)$ .

<sup>8</sup>Surjektívnosť je zaručená existenciou vzoru pre každý obraz z množiny  $H(f)$ .

**Príklad 3.1.20.K3-pr18**

Nájdite inverznú funkciu k funkcii  $f: y = 3x + 2, x \in R$ .

**Riešenie.**

Je zrejmé, že funkcia  $f$  je prostá. Ak riešime rovnicu  $y = 3x + 2$  vzhľadom k  $x$ , dostaneme  $x = \frac{y-2}{3}$ . Z toho vyplýva  $f^{-1}: y = \frac{x-2}{3}, x \in R$ . ■

**Príklad 3.1.21.K3-pr19**

Nájdite inverznú funkciu k funkcii  $f: y = x^5 + x^3 + 1, x \in R$ .

**Riešenie.**

Funkcia  $f$  je prostá na  $R$ . Dokážeme sporom.

Nech  $x_1, x_2 \in R, x_1 \neq x_2$  sú také, že

$$x_1^5 + x_1^3 + 1 = f(x_1) = f(x_2) = x_2^5 + x_2^3 + 1, \quad \text{t. j. } x_1^5 + x_1^3 = x_2^5 + x_2^3.$$

Potom čísla  $x_1$  a  $x_2$  majú rovnaké znamienko. Obe sú kladné alebo sú obe záporné, t. j.  $x_1 x_2 > 0$ . Možnosť  $x_1 = x_2 = 0$  je vylúčená, pretože  $x_1 \neq x_2$ . Z toho vyplýva:

$$\begin{aligned} x_1^5 - x_2^5 &= x_2^3 - x_1^3, \\ (x_1 - x_2)(x_1^4 + x_1^3 x_2 + x_1^2 x_2^2 + x_1 x_2^3 + x_2^4) &= (x_2 - x_1)(x_1^2 + x_1 x_2 + x_2^2), \\ -(x_1^4 + x_1^3 x_2 + x_1^2 x_2^2 + x_1 x_2^3 + x_2^4) &= x_1^2 + x_1 x_2 + x_2^2. \end{aligned}$$

Posledná rovnosť nemôže nikdy nastať, pretože ľavá strana je vždy záporná a pravá strana je vždy kladná. To je spor, ktorý dokazuje, že funkcia  $f$  je prostá na  $R$ .

To znamená, že existuje inverzná funkcia  $f^{-1} = \{[y; x] ; y = x^5 + x^3 + 1, x \in R\}$ . Avšak s jej analytickým vyjadrením sú „mierne“ problémy. ■

**Poznámka 3.1.20.K3-poz74**

Nech  $x = \varphi(t), y = \psi(t), t \in J$  je parametrické vyjadrenie funkcie  $f$ . Ak je  $\varphi$  prostá na  $J$ , potom existuje inverzná funkcia  $t = \varphi^{-1}(x)$  a  $f$  môžeme vyjadriť v explicitnom tvare

$$y = \psi(\varphi^{-1}(x)), \quad x \in \varphi(J).$$

Tento prechod k explicitnému vyjadreniu nazývame **vylúčenie parametra  $t$** .

**Veta 3.1.5.K3-veta03**

Ak je funkcia  $f$  rýdzo monotónna, potom je prostá.

**Dôkaz.**

Dôkaz je zrejmý a vyplýva priamo z definície. ■

**Poznámka 3.1.21.K3-poz15**

Ako dokazuje príklad 3.1.22, funkcia  $f$  môže byť prostá a nemusí byť rýdzo monotónna. To znamená, že tvrdenie vety 3.1.5 nemôžeme obrátiť.

**Veta 3.1.6.K3-veta04**

Ak je funkcia  $f$  rastúca [resp. klesajúca], potom  $f^{-1}$  je tiež rastúca [resp. klesajúca].

**Dôkaz.**

Nech  $y = f(x), x \in D(f)$  je rastúca (pre klesajúcu funkciu je dôkaz analogický).

Potom pre všetky  $x_1, x_2 \in D(f), x_1 < x_2$  platí  $y_1 = f(x_1) < f(x_2) = y_2$ . Potom (veta 3.1.5) je  $f$  prostá, t. j. existuje funkcia  $x = f^{-1}(y), y \in D(f^{-1}) = H(f)$ .

Nech  $f^{-1}$  nie je rastúca, t. j. existujú  $y_1, y_2 \in D(f^{-1})$ ,  $y_2 < y_1$  také, že platí:

$$x_2 = f^{-1}(y_2) \geq f^{-1}(y_1) = x_1.$$

Pretože je  $f^{-1}$  prostá, platí  $x_2 = f^{-1}(y_2) > f^{-1}(y_1) = x_1$ .

To znamená, že pre  $x_1 < x_2$  platí  $f(x_1) = y_1 > y_2 = f(x_2)$ , čo je spor.

Z toho vyplýva, že aj funkcia  $f^{-1}$  je rastúca (obr. 3.1.16). ■

### Príklad 3.1.22.K3-pr20

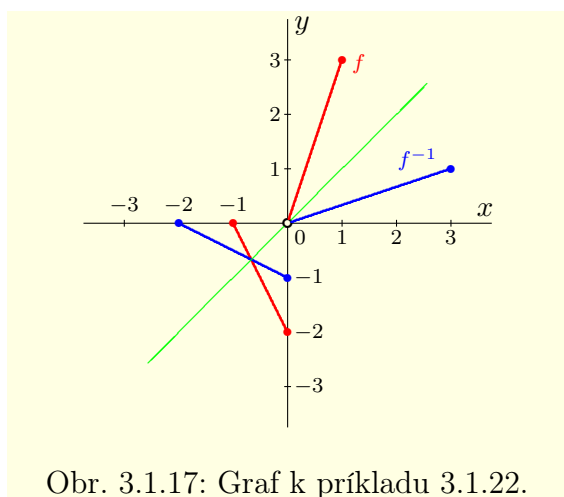
Nájdite inverznú funkciu k funkcii  $f: y = \begin{cases} 2x + 2, & \text{pre } x \in \langle -1; 0 \rangle, \\ 3x + 3, & \text{pre } x \in (0; 1) \end{cases}$ .

#### Riešenie.

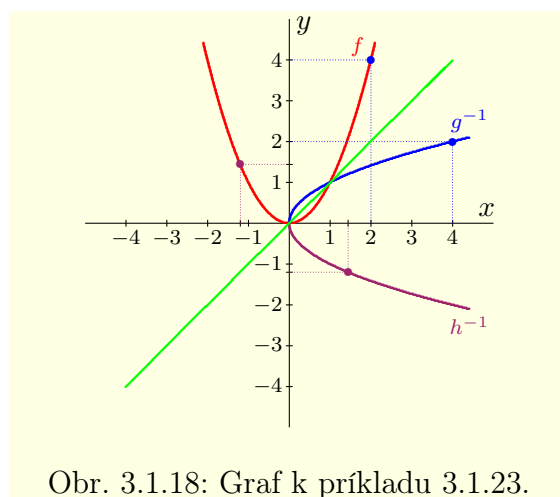
Funkcia  $f$  je prostá a nie je rýdzo monotónna na  $D(f) = \langle -1; 1 \rangle$ .

Na intervale  $\langle -1; 0 \rangle$  je klesajúca a na intervale  $(0; 1)$  je rastúca (obr. 3.1.17).

Ľahko overíme, že  $f^{-1}: y = \begin{cases} \frac{x}{2} - 1, & \text{pre } x \in \langle 0; 2 \rangle, \\ \frac{x}{3} - 1, & \text{pre } x \in (3; 6) \end{cases}$ . ■



Obr. 3.1.17: Graf k príkladu 3.1.22.



Obr. 3.1.18: Graf k príkladu 3.1.23.

### Poznámka 3.1.22.K3-poz16

Často sa stáva, že funkcia  $f$  nie je prostá na celom definičnom obore  $D(f)$ , ale je prostá iba na nejakej časti  $A \subset D(f)$ . V tomto prípade môžeme utvoriť reštrikciu  $g = f|_A$ , ku ktorej inverzná funkcia  $g^{-1}$  existuje. Funkciu  $g^{-1}$  potom nazývame **inverznou funkciou k funkcii  $f$  na množine  $A$** .

### Príklad 3.1.23.K3-pr21

Funkcia  $f: y = x^2$ ,  $x \in \mathbb{R}$  nie je prostá, ale je prostá na intervaloch  $(-\infty; 0)$ ,  $\langle 0; \infty$ .

Funkcia  $g = f|_{(-\infty; 0)}$  má inverznú funkciu  $g^{-1} = -\sqrt{x}$ ,  $x \in \langle 0; \infty$  a funkcia  $h = f|_{\langle 0; \infty}$  má inverznú funkciu  $h^{-1} = \sqrt{x}$ ,  $x \in \langle 0; \infty$  (obr. 3.1.18). ■

## 3.1.3 Elementárne funkcie

Predmetom štúdia matematickej analýzy reálnych funkcií reálnej premennej sú funkcie a ich vlastnosti. Niektoré vlastnosti sme už definovali a k niektorým sa postupne dopracujeme. Vychádzame pritom z malého počtu funkcií (zadaných pomerne jednoduchým spôsobom), ktoré nazývame elementárne.

Elementárne funkcie majú veľký praktický význam, pretože sa pomocou nich dajú popísať (aspoň približne) mnohé prírodné a spoločenské zákonitosti a taktiež mnohé veľmi zložité funkcie.

**Elementárnou funkciou** nazývame každú funkciu, ktorú dokážeme utvoriť z funkcií

$$y = \text{konšt.}, \quad y = x, \quad y = e^x, \quad y = \ln x, \quad y = \sin x, \quad y = \arcsin x, \quad y = \operatorname{arctg} x$$

pomocou sčítania, odčítania, násobenia, delenia a skladania funkcií.

### • Racionálna celistvá funkcia

**Polynómom (racionálnou celistvou funkciou)**<sup>9</sup> nazývame funkciu

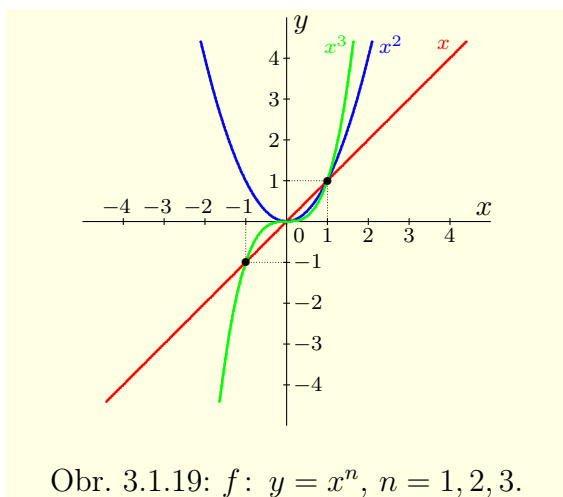
$$f_n: y = a_0 + a_1x + a_2x^2 + \dots + a_nx^n, \quad \text{kde } a_0, a_1, \dots, a_n \in R, \quad n \in N \cup \{0\}.$$

Čísla  $a_0, a_1, \dots, a_n$  nazývame **koeficienty polynómu**  $f_n$ . Ak  $a_n \neq 0$ , potom  $n$  nazývame **stupeň polynómu**  $f_n$ . Prirodzeným definičným oborom polynómu  $f_n$  je množina  $R$ .

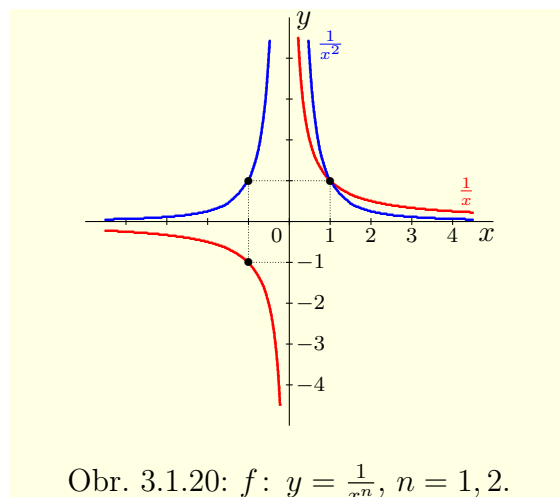
Polynóm druhého stupňa  $f_2: y = a_0 + a_1x + a_2x^2$ ,  $a_2 \neq 0$  sa nazýva **kvadratická funkcia** a polynóm prvého stupňa  $f_1: y = a_0 + a_1x$ ,  $a_1 \neq 0$  sa nazýva **lineárna funkcia**. Polynómom nultého stupňa  $f_0: y = a_0$ ,  $a_0 \neq 0$  je **konštantná funkcia**.

Polynóm  $f: y = 0$  predstavuje **nulovú funkciu** a jeho stupeň definujeme  $-1$ .

Z algebrы vieme, že polynóm  $f_n$  stupňa  $n$  ( $n \in N$ ) má najviac  $n$  koreňov v množine reálnych čísel  $R$ .<sup>10</sup> Polynóm nultého stupňa, t. j.  $f_0: y = a_0$ ,  $a_0 \neq 0$  korene nemá a korene nulovej funkcie  $f: y = 0$  sú všetky  $x \in D(f)$ .



Obr. 3.1.19:  $f: y = x^n$ ,  $n = 1, 2, 3$ .



Obr. 3.1.20:  $f: y = \frac{1}{x^n}$ ,  $n = 1, 2$ .

### Príklad 3.1.24.K3-pr22

Funkcia  $f_n: y = x^n$ ,  $n \in N$  je definovaná pre všetky  $x \in R$ .

Jej grafom je tzv. **parabola stupňa**  $n$ . Pre  $n = 1$  je to priamka a pre  $n = 2$  je to parabola. Funkcia  $f_n$  má pre všetky  $n \in N$  práve jeden nulový bod  $x = 0$ .

Na základe vety 2.1.37 môžeme odvodiť aj niektoré ďalšie vlastnosti funkcie  $f$ .

Pre  $n$  párne je funkcia  $f$  párna, klesajúca na intervale  $(-\infty; 0)$  a rastúca na intervale  $\langle 0; \infty)$ . Oborom hodnôt je množina  $\langle 0; \infty)$ .

Pre  $n$  nepárne je funkcia  $f$  nepárna, rastúca na intervale  $(-\infty; \infty) = R$ . Oborom hodnôt je množina  $R$  (obr. 3.1.19). ■

<sup>9</sup>Viac informácií o polynómoch čitateľ nájde v [32].

<sup>10</sup>V množine komplexných čísel  $C$  má práve  $n$  koreňov (vrátane násobnosti).



**Príklad 3.1.25.K3-pr23**

Funkcia  $f: y = x^3 - 2x^2$  má nulové body  $x_{1,2} = 0$  (dvojnásobný) a  $x_3 = 2$ . Jej graf je načrtnutý na obrázku 3.1.21. ■

- **Racionálna lomená funkcia**

**Racionálnou lomenou funkciou** nazývame funkciu

$$f: y = \frac{f_n(x)}{f_m(x)} = \frac{a_0 + a_1x + a_2x^2 + \dots + a_nx^n}{b_0 + a_1x + a_2x^2 + \dots + b_mx^m},$$

kde  $f_n, f_m$  sú polynómy stupňov  $n$  a  $m$ , pričom  $a_0, a_1, \dots, a_n \in R, b_0, b_1, \dots, b_m \in R, n, m \in N - \{0\}$ . Aby mala  $f$  zmysel, musí mať nenulový menovateľ. To znamená, že jej prirodzeným definičným oborom je množina  $R$  okrem nulových bodov polynómu  $f_m$ .

**Poznámka 3.1.23.K3-poz18**

Racionálna celistvá funkcia je špeciálnym prípadom racionálnej lomenej funkcie. Stačí položiť  $f_m: y = b_0, b_0 \neq 0$  vo vyjadrení racionálnej lomenej funkcie  $f$ .

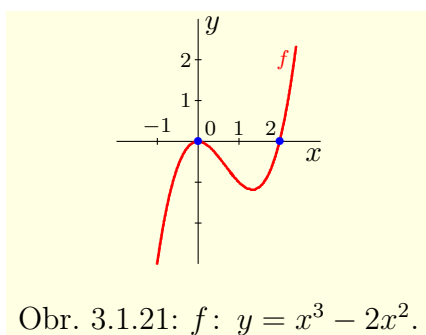
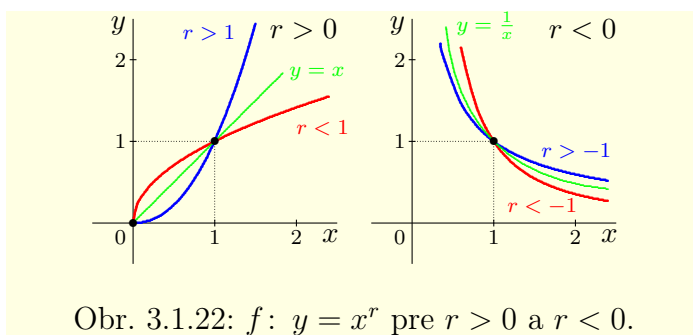
**Príklad 3.1.26.K3-pr24**

Funkcia  $f: y = x^{-n}, n \in N$  je definovaná pre všetky  $x \in R - \{0\}$ .

Jej grafom je tzv. **hyperbola stupňa  $n + 1$** . Funkcia  $f$  nemá nulový bod (obr. 3.1.20).

Pre  $n$  párne je  $f$  párna, rastúca na  $(-\infty; 0)$ , klesajúca na  $(0; \infty)$ ,  $H(f) = (0; \infty)$ .

Pre  $n$  nepárne je  $f$  nepárna, klesajúca na  $(-\infty; 0)$  a na  $(0; \infty)$ ,  $H(f) = R - \{0\}$ . ■

Obr. 3.1.21:  $f: y = x^3 - 2x^2$ .Obr. 3.1.22:  $f: y = x^r$  pre  $r > 0$  a  $r < 0$ .

- **Mocninná funkcia s reálnym exponentom**

**Mocninnou funkciou** nazývame funkciu

$$f: y = x^r, \quad \text{kde } r \in R.$$

Pre  $r \in N$  je polynómom a pre  $r \in Z^-$  je racionálnou lomenou funkciou. Pre  $r > 0, r \notin N$  je jej prirodzeným definičným oborom interval  $(0; \infty)$  a pre  $r < 0, r \notin Z^-$  je jej prirodzeným definičným oborom interval  $(0; \infty)$ .

Základné vlastnosti mocninných funkcií vyplývajú z vety 2.1.45. Pre  $r > 0$  je funkcia  $f$  rastúca a pre  $r < 0$  je klesajúca (obr. 3.1.22). Inverznou funkciou k funkcii  $f: y = x^r, r \neq 0$  je mocninná funkcia  $f^{-1}: y = x^{\frac{1}{r}}$ .

- **Exponenciálna funkcia**

**Exponenciálnou funkciou so základom  $a, a > 0$**  nazývame funkciu

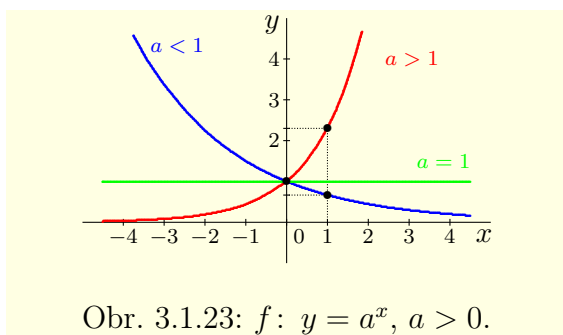
$$f: y = a^x.$$

Jej prirodzeným definičným oborom je množina  $R$  a oborom hodnôt je interval  $(0; \infty)$ .

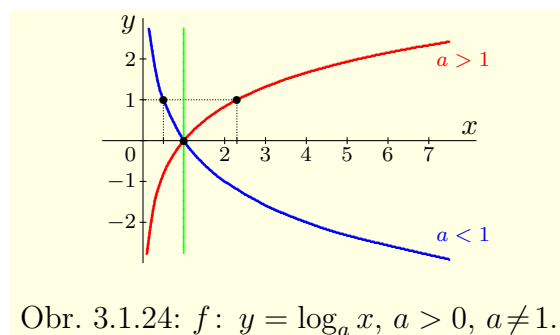
Ak  $a = 1$ , potom sa  $f$  rovná konštantnej funkcii  $y = 1$ . Exponenciálna funkcia je rýdzo monotónna pre  $a \neq 1$ , pre  $a \in (0; 1)$  je klesajúca a pre  $a \in (1; \infty)$  je rastúca. Jej graf nazývame **exponenciálna krivka** alebo **exponenciála** (obr. 3.1.23).

Každá exponenciálna krivka prechádza bodmi  $[0; 1]$  a  $[1; a]$ , pretože pre všetky čísla  $a \in (0; \infty)$  platí  $a^0 = 1$  a  $a^1 = a$ . Navyše grafy funkcií  $y = a^x$  a  $y = a^{-x}$  sú symetrické podľa osi  $y$ . Vyplýva to zo vzťahu  $a^x = a^{-x} = (a^{-1})^{-x}$ , ktorý platí pre všetky  $x \in R$ .

Najdôležitejšia z exponenciálnych funkcií je funkcia so základom  $e$  (Eulerovo číslo, veta 2.3.19), t. j. funkcia  $f: y = e^x$ . Niekedy sa označuje symbolom  $y = \exp x$ .



Obr. 3.1.23:  $f: y = a^x, a > 0$ .



Obr. 3.1.24:  $f: y = \log_a x, a > 0, a \neq 1$ .

### • Logaritmickej funkcia

Exponenciálna funkcia  $y = a^x, a > 0, a \neq 1$  je rýdzo monotónna na svojom definičnom obore, t. j. k nej existuje inverzná funkcia. To znamená, že pre každé  $y \in (0; \infty)$  existuje práve jedno  $x \in R$  také, že  $y = a^x$ . Toto číslo označujeme  $x = \log_a y$  a nazývame **logaritmus čísla  $y$  so základom  $a$  (pri základe  $a$ )**.

Funkcia  $f: y = \log_a x, x \in (0; \infty)$  sa nazýva **logaritmickej funkcia so základom  $a$** . Funkcia  $f$  je inverzná k exponenciálnej funkcii  $y = a^x, x \in R$ . Graf funkcie  $f$  sa nazýva **logaritmickej krivka** a je osovo súmerný podľa priamky  $y = x$  s grafom funkcie  $y = a^x$ . Je zrejmé, že každá logaritmickej krivka prechádza bodom  $[1; 0]$  a bodom  $[a; 1]$ .

Funkcia  $f$  je rýdzo monotónna, pre  $a \in (0; 1)$  je klesajúca a pre  $a \in (1; \infty)$  je rastúca (obr. 3.1.24). Logaritmus so základom 10 nazývame **dekadický** a označujeme  $y = \log x$ . Logaritmus so základom  $e$  nazývame **prirodzený** a označujeme<sup>11</sup>  $y = \ln x$ .

#### Poznámka 3.1.24.K3-poz19

Nech  $a \in R, a > 0, a \neq 1$ . Označme  $f: y = \log_a x, x \in (0; \infty)$  a  $g: y = a^x, x \in R$ . Funkcie  $f, g$  sú inverzné, takže pre všetky  $x \in (0; \infty)$  platí  $x = g[f(x)] = a^{\log_a x}$  a pre všetky  $x \in R$  platí  $x = f[g(x)] = \log_a a^x$ .

#### Veta 3.1.7.K3-veta05

Nech  $a > 0, a \neq 1$ , potom pre všetky  $x, x_1, x_2 \in (0; \infty), r \in R$  platí:

- |   |  |
|---|--|
| a) $\log_a x_1 + \log_a x_2 = \log_a (x_1 x_2)$ ,       | b) $\log_a x^r = r \log_a x$ ,   |
| c) $\log_a x_1 - \log_a x_2 = \log_a \frac{x_1}{x_2}$ , | d) $\log_a x = \frac{\log_b x}{\log_b a}$ pre všetky $b > 0, b \neq 1$ . |

<sup>11</sup>Niekedy (hlavne v anglickej literatúre) sa označenie  $y = \log x$  používa pre prirodzený logaritmus.

**Dôkaz.**

a) Ak označíme  $y_1 = \log_a x_1$ ,  $y_2 = \log_a x_2$ , potom  $x_1 = a^{y_1}$ ,  $x_2 = a^{y_2}$ . Z toho vyplýva:

$$x_1 x_2 = a^{y_1} a^{y_2} = a^{y_1 + y_2}, \quad \text{t. j. } \log_a (x_1 x_2) = y_1 + y_2 = \log_a x_1 + \log_a x_2.$$

b) Označme  $y = \log_a x^r$ , potom  $x^r = a^y$ , t. j.  $x = a^{\frac{y}{r}}$ . Z toho vyplýva:

$$\log_a x = \frac{y}{r}, \quad \text{t. j. } r \log_a x = y = \log_a x^r.$$

c) Z častí a), b) vyplýva:

$$\log_a x_1 - \log_a x_2 = \log_a x_1 + \log_a x_2^{-1} = \log_a (x_1 x_2^{-1}) = \log_a \frac{x_1}{x_2}.$$

d) Označme  $y = \log_b x$ ,  $z = \log_b a$ , potom  $x = b^y$ ,  $a = b^z$ . Z toho vyplýva:

$$\left. \begin{array}{l} x^z = (b^y)^z = b^{yz} \\ a^y = (b^z)^y = b^{yz} \end{array} \right\} \Rightarrow x^z = a^y \Rightarrow \log_a x^z = \log_a a^y \Rightarrow z \log_a x = y \log_a a = y.$$

Keďže  $a \neq 1$ , t. j.  $z = \log_b a \neq 0$ , potom platí  $\log_a x = \frac{y}{z}$ . ■

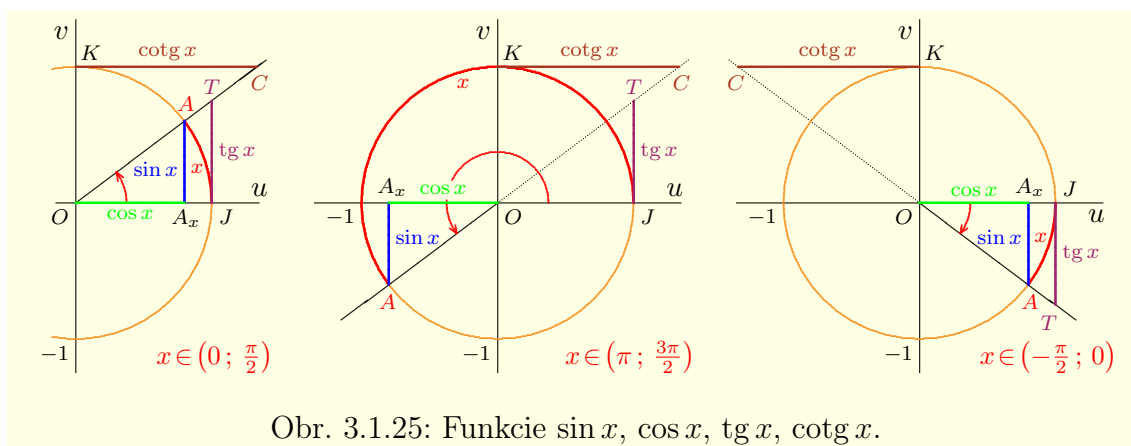
**Poznámka 3.1.25.K3-poz20**

Mocninná funkcia  $y = x^r$ ,  $r \in \mathbb{R}$ , exponenciálna funkcia  $y = a^x$ ,  $a > 0$  a logaritmickej funkcia  $y = \log_a x$ ,  $a > 0$ ,  $a \neq 1$  sú elementárne funkcie, pretože sa dajú vyjadriť v tvare

$$y = x^r = e^{\ln x^r} = e^{r \ln x}, \quad y = a^x = e^{\ln a^x} = e^{x \ln a}, \quad y = \log_a x = \frac{\ln x}{\ln a}.$$

- **Goniometrické funkcie**

Základné **goniometrické funkcie**<sup>12</sup> sú sínus, kosínus, tangens, kotangens a čitateľovi sú určite známe. V stručnosti si ich pripomenieme. Definujú sa pomocou jednotkovej kružnice v rovine  $\mathbb{R}^2$ . Táto definícia nie je s našimi doterajšími znalosťami úplne korektná, pretože sa v nej používa neelementárny pojem „dĺžka orientovaného oblúka“, ktorý bude presne formalizovaný až neskôr, v integrálnom počte.<sup>13</sup> Nebolo by však účelné odložiť vyšetovanie týchto funkcií na neskoršiu dobu.



Obr. 3.1.25: Funkcie  $\sin x$ ,  $\cos x$ ,  $\operatorname{tg} x$ ,  $\operatorname{cotg} x$ .

Uvažujme v rovine  $\mathbb{R}^2$  súradnicový systém s osami  $u$  a  $v$  a kružnicu so stredom v bode  $O = [0; 0]$  a s polomerom  $r = 1$ . Označme  $J = [1; 0]$ . Každému  $x \in \mathbb{R}$  je priradený práve jeden orientovaný uhol  $\angle JOA$  (zvoľme bod  $A = [u; v]$ , aby ležal na kružnici). Číslo  $x$  vyjadruje veľkosť tohto uhla **v oblúkovej miere**

<sup>12</sup>Tiež sa nazývajú **trigonometrické funkcie**.

<sup>13</sup>Goniometrické funkcie sa môžu definovať tiež pomocou tzv. nekonečných radov.

v jednotkách **radiány**. Pre  $x < 0$  je orientácia tohto uhla súhlasná so smerom otáčania hodinových ručičiek a naopak pre  $x > 0$  je orientácia tohto uhla opačná k smeru otáčania hodinových ručičiek.

Prvú súradnicu bodu  $A$  nazývame **kosínus uhla**  $x$  a označujeme  $\cos x$ , druhú súradnicu nazývame **sínus uhla**  $x$  a označujeme  $\sin x$ . To znamená, že  $A = [\cos x; \sin x]$ . Tým sú definované funkcie  $\cos x$  a  $\sin x$  pre všetky  $x \in \mathbb{R}$ . Pre  $\cos x \neq 0$ , resp.  $\sin x \neq 0$  definujeme **tangens** a **kotangens uhla**  $x$  vzťahmi

$$\operatorname{tg} x = \frac{\sin x}{\cos x}, \quad \operatorname{cotg} x = \frac{\cos x}{\sin x}.$$

### Poznámka 3.1.26.K3-poz47

Graficky sú hodnoty goniometrických funkcií v bode  $x$  znázornené na obr. 3.1.25. Úsečka  $OA_x$  predstavuje  $\cos x$  a úsečka  $AA_x$  predstavuje  $\sin x$ . Keďže majú úsečky  $OJ$ ,  $OK$  veľkosť 1, potom z podobnosti trojuholníkov  $OA_xA$ ,  $OJT$  a  $OA_xA$ ,  $CKO$  vyplýva:

$$\operatorname{tg} x: TJ = \frac{TJ}{OJ} = \frac{AA_x}{OA_x}, \quad \operatorname{cotg} x: CK = \frac{CK}{OK} = \frac{OA_x}{AA_x}.$$

Obvod kružnice s polomerom  $r = 1$  je rovný hodnote  $2\pi$ , kde  $\pi$  je tzv. **Ludolfovo číslo**.<sup>14</sup> To znamená, že veľkosť oblúka od bodu  $J$  po bod  $J$  (kružnica) je  $2\pi$ .

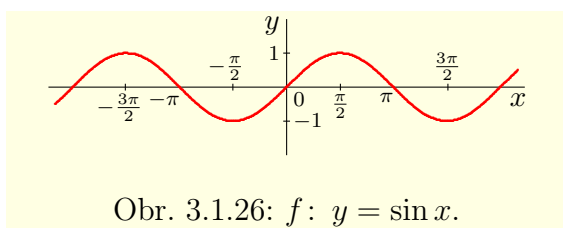
Veľkosť oblúka od bodu  $J = [1; 0]$  po bod  $[0; 1]$  (štvrtina kružnice) je  $\frac{\pi}{2}$  a od bodu  $J$  po bod  $[0; -1]$  je  $-\frac{\pi}{2}$ , resp.  $2\pi - \frac{\pi}{2} = \frac{3\pi}{2}$ . Je zrejmé, že ak sa veľkosť oblúku  $x$  zväčší o  $2\pi$  (dĺžku kružnice), hodnoty goniometrických funkcií sa nezmenia.

### Poznámka 3.1.27.K3-poz22

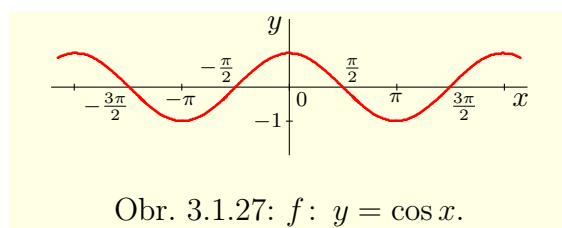
Niekedy sa na vyjadrenie veľkosti uhla používajú **deväťdesiatinové stupne**, ktoré značíme  $^\circ$ . Jeden stupeň sa delí na 60 minút ( $1^\circ = 60'$ ) a jedna minúta sa delí na 60 sekúnd ( $1' = 60''$ ). Uhlu  $2\pi$  zodpovedá  $360^\circ$  a uhlu  $\frac{\pi}{2}$  zodpovedá  $90^\circ$ . Uhol  $x^\circ$  prevedieme na radiány pomocou vzorca  $\pi \frac{x^\circ}{180^\circ}$ .

Funkcia  $y = \sin x$  zobrazuje množinu  $\mathbb{R}$  na  $\langle -1; 1 \rangle$ , jej graf nazývame **sínusoida**. Je nepárna, periodická s periódou  $2\pi$ , rastúca na intervaloch  $\langle -\frac{\pi}{2} + 2k\pi; \frac{\pi}{2} + 2k\pi \rangle$  a klesajúca na intervaloch  $\langle \frac{\pi}{2} + 2k\pi; \frac{3\pi}{2} + 2k\pi \rangle$ ,  $k \in \mathbb{Z}$ . Jej nulové body sú  $0 + 2k\pi$ ,  $\pi + 2k\pi$ , t. j.  $k\pi$ ,  $k \in \mathbb{Z}$  (obr. 3.1.26).

Funkcia  $y = \cos x$  zobrazuje množinu  $\mathbb{R}$  na  $\langle -1; 1 \rangle$ , jej graf nazývame **kosínusoida**. Je párna a periodická s periódou  $2\pi$ , je klesajúca na intervaloch  $\langle 0 + 2k\pi; \pi + 2k\pi \rangle$  a rastúca na intervaloch  $\langle \pi + 2k\pi; 2\pi + 2k\pi \rangle$ ,  $k \in \mathbb{Z}$ . Jej nulové body sú  $-\frac{\pi}{2} + 2k\pi$ ,  $\frac{\pi}{2} + 2k\pi$ , t. j.  $\frac{\pi}{2} + k\pi$ ,  $k \in \mathbb{Z}$  (obr. 3.1.27).



Obr. 3.1.26:  $f: y = \sin x$ .



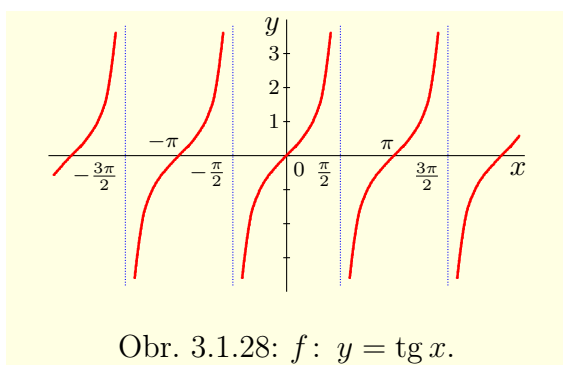
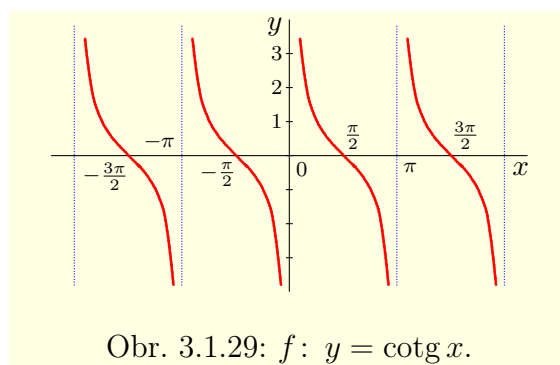
Obr. 3.1.27:  $f: y = \cos x$ .

Funkcia  $f: y = \operatorname{tg} x$  zobrazuje množinu  $\mathbb{R} - \{\frac{\pi}{2} + k\pi; k \in \mathbb{Z}\}$  na množinu  $\mathbb{R}$ , jej graf nazývame **tangenta**. Je nepárna, periodická s periódou  $\pi$ , rastúca na intervaloch  $(-\frac{\pi}{2} + k\pi; \frac{\pi}{2} + k\pi)$ ,  $k \in \mathbb{Z}$  a jej nulové body sú  $k\pi$ ,  $k \in \mathbb{Z}$  (obr. 3.1.28).

Funkcia  $f: y = \operatorname{cotg} x$  zobrazuje množinu  $\mathbb{R} - \{k\pi; k \in \mathbb{Z}\}$  na množinu  $\mathbb{R}$ , jej graf nazývame **kotangenta**. Je nepárna, periodická s periódou  $\pi$ , klesajúca na intervaloch  $(0 + k\pi; \pi + k\pi)$ ,  $k \in \mathbb{Z}$  a jej nulové body sú  $\frac{\pi}{2} + k\pi$ ,  $k \in \mathbb{Z}$  (obr. 3.1.29).

Z definície vyplýva, že pre všetky  $x \in \mathbb{R} - \{k\frac{\pi}{2}; k \in \mathbb{Z}\}$  platí  $\operatorname{tg} x \cdot \operatorname{cotg} x = 1$ .

<sup>14</sup>Číslo  $\pi$  je iracionálne a jeho hodnota je približne 3,141592654.

Obr. 3.1.28:  $f: y = \operatorname{tg} x$ .Obr. 3.1.29:  $f: y = \operatorname{cotg} x$ .**Poznámka 3.1.28.K3-poz21**

Goniometrické funkcie sa v matematickej analýze používajú často. V tabuľke 3.1.1 sú uvedené niektoré dôležité hodnoty funkcií sínus a kosínus na intervale  $\langle 0; \frac{\pi}{2} \rangle$ .

$\sin 0 = \cos \frac{\pi}{2}$	$\sin \frac{\pi}{6} = \cos \frac{\pi}{3}$	$\sin \frac{\pi}{4} = \cos \frac{\pi}{4}$	$\sin \frac{\pi}{3} = \cos \frac{\pi}{6}$	$\sin \frac{\pi}{2} = \cos 0$
0	$\frac{1}{2}$	$\frac{\sqrt{2}}{2}$	$\frac{\sqrt{3}}{2}$	1

Tabuľka 3.1.1: Niektoré dôležité hodnoty funkcií sínus a kosínus.

Pre všetky  $x \in \mathbb{R}$  tvoria hodnoty  $\cos x$ ,  $\sin x$  súradnice bodu  $A$ . Sú to odvesny pravouhlého trojuholníka s preponou 1. Potom z Pytagorovej vety pre všetky  $x \in \mathbb{R}$  platí:

$$\sin^2 x + \cos^2 x = 1. \quad (3.9)$$

Z vlastností funkcií sínus a tangens vyplýva, že pre všetky  $x \in (0; \frac{\pi}{2})$  platí:

$$0 < \sin x < x < \operatorname{tg} x. \quad (3.10)$$

Uvedená nerovnosť je dôležitá a využíva sa pomerne často (dokážeme ju neskôr pomocou diferenciálneho počtu). Názorne si ju môžeme ilustrovať na obrázku 3.1.25. Dĺžka oblúku  $x$  je väčšia ako súradnica  $\sin x$  a menšia ako dotyčnica  $\operatorname{tg} x$ .

Na záver spomenieme ešte niektoré vzťahy, ktoré platia pre goniometrické funkcie. Väčšina z nich je (aspoň by mala byť) čitateľovi známa. Prakticky všetky môžeme odvodiť zo vzťahu (3.9) a zo súčtových vzorcov uvedených vo vete 3.1.8.

**Veta 3.1.8 (Súčtové vzorce pre funkcie sínus a kosínus).K3-veta06**

Pre všetky  $x, y \in \mathbb{R}$  platí:

$$\text{a) } \sin(x \pm y) = \sin x \cos y \pm \cos x \sin y, \quad \text{b) } \cos(x \pm y) = \cos x \cos y \mp \sin x \sin y.$$

**Dôkaz.**

Vzťahy sú dokázané v príklade 2.5.3. ■

**Dôsledok 3.1.8.a.K3-dosl01**

Pre všetky  $x \in \mathbb{R}$  platí:

$$\begin{array}{ll} \text{a) } \sin(x + \pi) = -\sin x, & \text{b) } \cos(x + \pi) = -\cos x, \\ \text{c) } \sin\left(x + \frac{\pi}{2}\right) = \cos x, & \text{d) } \cos\left(x + \frac{\pi}{2}\right) = -\sin x. \end{array}$$

**Dôsledok 3.1.8.b (Vzorce pre dvojnásobný uhol).**K3-dosl02

Pre všetky  $x \in R$  platí: a)  $\sin 2x = 2 \sin x \cos x$ , b)  $\cos 2x = \cos^2 x - \sin^2 x$ ,

**Dôsledok 3.1.8.c (Vzorce pre polovičný uhol).**K3-dosl07

Pre všetky  $x \in R$  platí: a)  $\sin^2 x = \frac{1 - \cos 2x}{2}$ , b)  $\cos^2 x = \frac{1 + \cos 2x}{2}$ .

**Dôsledok 3.1.8.d.**K3-dosl03

Pre všetky  $x, y \in R$  platí:

$$\text{a) } \sin(x+y) \sin(x-y) = \cos^2 y - \cos^2 x, \quad \text{b) } \cos(x+y) \cos(x-y) = \cos^2 y - \sin^2 x.$$

**Dôkaz.**

$$\begin{aligned} \text{a) } \sin(x+y) \sin(x-y) &= (\sin x \cos y + \cos x \sin y) \cdot (\sin x \cos y - \cos x \sin y) = \\ &= \sin^2 x \cos^2 y - \cos^2 x \sin^2 y = (1 - \cos^2 x) \cos^2 y - \cos^2 x (1 - \cos^2 y) = \\ &= \cos^2 y - \cos^2 x \cos^2 y - \cos^2 x + \cos^2 x \cos^2 y = \cos^2 y - \cos^2 x. \end{aligned}$$

$$\begin{aligned} \text{b) } \cos(x+y) \cos(x-y) &= (\cos x \cos y - \sin x \sin y) \cdot (\cos x \cos y + \sin x \sin y) = \\ &= \cos^2 x \cos^2 y - \sin^2 x \sin^2 y = (1 - \sin^2 x) \cos^2 y - \sin^2 x (1 - \cos^2 y) = \\ &= \cos^2 y - \sin^2 x \cos^2 y - \sin^2 x + \sin^2 x \cos^2 y = \cos^2 y - \sin^2 x. \blacksquare \end{aligned}$$

**Príklad 3.1.27.**K3-pr106

Dokážte, že pre všetky  $x \in R$  platia vzťahy:

$$\text{a) } \sin 3x = 3 \sin x - 4 \sin^3 x, \quad \text{b) } \cos 3x = -3 \cos x + 4 \cos^3 x.$$

**Riešenie.**

Z predchádzajúcej vety, z jej dôsledkov a zo vzťahu  $\sin^2 x + \cos^2 x = 1$  vyplýva:

$$\begin{aligned} \text{a) } \sin 3x &= \sin x \cos 2x + \cos x \sin 2x = \sin x (\cos^2 x - \sin^2 x) + 2 \cos x \sin x \cos x = \\ &= 3 \sin x \cos^2 x - \sin^3 x = 3 \sin x (1 - \sin^2 x) - \sin^3 x = 3 \sin x - 4 \sin^3 x. \end{aligned}$$

$$\begin{aligned} \text{b) } \cos 3x &= \cos x \cos 2x - \sin x \sin 2x = \cos x (\cos^2 x - \sin^2 x) - 2 \sin x \sin x \cos x = \\ &= \cos^3 x - 3 \cos x \sin^2 x = \cos^3 x - 3 \cos x (1 - \cos^2 x) = -3 \cos x + 4 \cos^3 x. \blacksquare \end{aligned}$$

**Veta 3.1.9.**K3-veta07

Pre všetky  $x, y \in R$  platí:

$$\begin{aligned} \text{a) } \sin x + \sin y &= 2 \sin \frac{x+y}{2} \cos \frac{x-y}{2}, & \text{b) } \sin x - \sin y &= 2 \cos \frac{x+y}{2} \sin \frac{x-y}{2}, \\ \text{c) } \cos x + \cos y &= 2 \cos \frac{x+y}{2} \cos \frac{x-y}{2}, & \text{d) } \cos x - \cos y &= -2 \sin \frac{x+y}{2} \sin \frac{x-y}{2}. \end{aligned}$$

**Dôkaz.**

Nech  $x, y \in R$ , potom platí  $x = \frac{x+y}{2} + \frac{x-y}{2}$ ,  $y = \frac{x+y}{2} - \frac{x-y}{2}$ .

Jednotlivé tvrdenia vety dostaneme, ak vhodne spočítame alebo odpočítame rovnosti

$$\begin{aligned} \sin x &= \sin \left( \frac{x+y}{2} + \frac{x-y}{2} \right) = \sin \frac{x+y}{2} \cos \frac{x-y}{2} + \cos \frac{x+y}{2} \sin \frac{x-y}{2}, \\ \sin y &= \sin \left( \frac{x+y}{2} - \frac{x-y}{2} \right) = \sin \frac{x+y}{2} \cos \frac{x-y}{2} - \cos \frac{x+y}{2} \sin \frac{x-y}{2}, \\ \cos x &= \cos \left( \frac{x+y}{2} + \frac{x-y}{2} \right) = \cos \frac{x+y}{2} \cos \frac{x-y}{2} - \sin \frac{x+y}{2} \sin \frac{x-y}{2}, \\ \cos y &= \cos \left( \frac{x+y}{2} - \frac{x-y}{2} \right) = \cos \frac{x+y}{2} \cos \frac{x-y}{2} + \sin \frac{x+y}{2} \sin \frac{x-y}{2}. \blacksquare \end{aligned}$$

**Dôsledok 3.1.9.a.K3-dosl17**

Pre všetky  $x, y \in R$  platí:

$$\text{a) } \sin x \cos y = \frac{\sin(x+y) + \sin(x-y)}{2},$$

$$\text{b) } \cos x \sin y = \frac{\sin(x+y) - \sin(x-y)}{2},$$

$$\text{c) } \cos x \cos y = \frac{\cos(x+y) + \cos(x-y)}{2},$$

$$\text{d) } \sin x \sin y = \frac{\cos(x-y) - \cos(x+y)}{2}.$$

**Dôkaz.**

Ak označíme  $\alpha = x + y$ ,  $\beta = x - y$ , potom platí:

$$\alpha + \beta = 2x, \quad \alpha - \beta = 2y, \quad \text{t. j. } x = \frac{\alpha + \beta}{2}, \quad y = \frac{\alpha - \beta}{2}.$$

Dokazované tvrdenia sú totožné s rovnosťami vo vete 3.1.9 pre hodnoty  $\alpha, \beta$ . ■

**Veta 3.1.10 (Súčtové vzorce pre funkcie tangens a kotangens).K3-veta08**

Nech  $x, y \in R$  a nech sú všetky príslušné výrazy definované, potom platí:

$$\text{a) } \cotg(x \pm y) = \frac{\cotg x \cotg y \mp 1}{\cotg y \pm \cotg x},$$

$$\text{b) } \operatorname{tg}(x \pm y) = \frac{\operatorname{tg} x \pm \operatorname{tg} y}{1 \mp \operatorname{tg} x \operatorname{tg} y}.$$

**Dôkaz.**

$$\text{a) } \cotg(x \pm y) = \frac{\cos(x \pm y)}{\sin(x \pm y)} = \frac{\cos x \cos y \mp \sin x \sin y}{\sin x \cos y \pm \cos x \sin y} \cdot \frac{(\sin x \sin y)^{-1}}{(\sin x \sin y)^{-1}} = \frac{\cotg x \cotg y \mp 1}{\cotg y \pm \cotg x}.$$

$$\text{b) } \operatorname{tg}(x \pm y) = \frac{\sin(x \pm y)}{\cos(x \pm y)} = \frac{\sin x \cos y \pm \cos x \sin y}{\cos x \cos y \mp \sin x \sin y} \cdot \frac{(\cos x \cos y)^{-1}}{(\cos x \cos y)^{-1}} = \frac{\operatorname{tg} x \pm \operatorname{tg} y}{1 \mp \operatorname{tg} x \operatorname{tg} y}. \quad \blacksquare$$

**Dôsledok 3.1.10.a.K3-dosl04**

Nech  $x \in R$  a nech sú všetky príslušné výrazy definované, potom platí:

$$\text{a) } \cotg 2x = \frac{\cotg^2 x - 1}{2 \cotg x} = \frac{\cotg x - \operatorname{tg} x}{2},$$

$$\text{b) } \operatorname{tg} 2x = \frac{2 \operatorname{tg} x}{1 - \operatorname{tg}^2 x} = \frac{2}{\cotg x - \operatorname{tg} x}.$$

Pre goniometrické funkcie môžeme jednoducho odvodiť vzťahy pre vyjadrenie každej z nich pomocou inej goniometrickej funkcie. Tieto vzťahy pre  $x \in (0; \frac{\pi}{2})$  uvádzame bez dôkazu v tabuľke 3.1.2. Pre ostatné hodnoty  $x \in R$  platia rovnaké vzťahy, ktoré sa však môžu líšiť znamienkom (podľa príslušného oboru hodnôt).

	$\sin x$	$\cos x$	$\operatorname{tg} x$	$\cotg x$
$\sin x =$	$\sin x$	$\sqrt{1 - \cos^2 x}$	$\frac{\operatorname{tg} x}{\sqrt{1 + \operatorname{tg}^2 x}}$	$\frac{1}{\sqrt{1 + \cotg^2 x}}$
$\cos x =$	$\sqrt{1 - \sin^2 x}$	$\cos x$	$\frac{1}{\sqrt{1 + \operatorname{tg}^2 x}}$	$\frac{\cotg x}{\sqrt{1 + \cotg^2 x}}$
$\operatorname{tg} x =$	$\frac{\sin x}{\sqrt{1 - \sin^2 x}}$	$\frac{\sqrt{1 - \cos^2 x}}{\cos x}$	$\operatorname{tg} x$	$\frac{1}{\cotg x}$
$\cotg x =$	$\frac{\sqrt{1 - \sin^2 x}}{\sin x}$	$\frac{\cos x}{\sqrt{1 - \cos^2 x}}$	$\frac{1}{\operatorname{tg} x}$	$\cotg x$

Tabuľka 3.1.2: Vzťahy medzi goniometrickými funkciami pre  $x \in (0; \frac{\pi}{2})$ .

- **Cyklometrické funkcie**

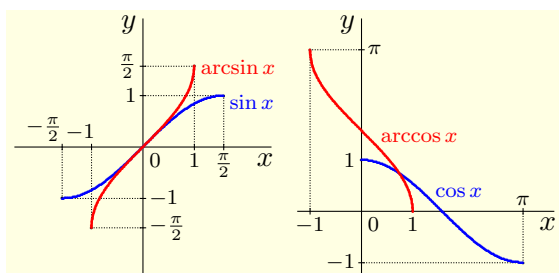
Ku goniometrickým funkciám neexistujú inverzné funkcie, pretože nie sú prosté na svojom definičnom



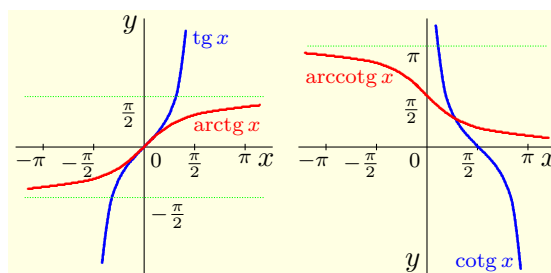
obore. Keď ich zúžime na vhodné intervaly tak, aby tieto zúženia boli prosté funkcie, potom k nim inverzné funkcie utvoriť môžeme. Tieto funkcie sa nazývajú **cyklometrické funkcie**.

Funkcia  $f: y = \sin x$ ,  $x \in \langle -\frac{\pi}{2}; \frac{\pi}{2} \rangle$  je bijektívna, rastúca, nepárna a jej oborom hodnôt je interval  $\langle -1; 1 \rangle$ . Inverznú funkciu  $g = f^{-1}$  nazývame **arkussínus** a značíme symbolom  $g: y = \arcsin x$  (obr. 3.1.30). Funkcia arkussínus je rastúca, nepárna a zobrazuje interval  $\langle -1; 1 \rangle$  na interval  $\langle -\frac{\pi}{2}; \frac{\pi}{2} \rangle$ .

Funkcia  $f: y = \cos x$ ,  $x \in \langle 0; \pi \rangle$  je bijektívna, klesajúca a jej oborom hodnôt je interval  $\langle -1; 1 \rangle$ . Inverznú funkciu  $g = f^{-1}$  nazývame **arkuskosínus** a označujeme ju symbolom  $g: y = \arccos x$  (obr. 3.1.30). Funkcia arkuskosínus je klesajúca a zobrazuje interval  $\langle -1; 1 \rangle$  na interval  $\langle 0; \pi \rangle$ .



Obr. 3.1.30: Funkcie  $y = \arcsin x$ ,  
 $y = \arccos x$ .



Obr. 3.1.31: Funkcie  $y = \arctg x$ ,  
 $y = \text{arccotg } x$ .

### Veta 3.1.11.K3-veta09

Pre všetky  $x \in \langle -1; 1 \rangle$  platí  $\arcsin x + \arccos x = \frac{\pi}{2}$ .

#### Dôkaz.

Nech  $x \in \langle -1; 1 \rangle$ . Pre všetky  $z \in R$  na základe vety 3.1.8 platí:

$$\sin\left(\frac{\pi}{2} - z\right) = \sin \frac{\pi}{2} \cos z - \cos \frac{\pi}{2} \sin z = \cos z.$$

Označme  $y = \arcsin x$ ,  $z = \arccos x$ , potom  $y \in \langle -\frac{\pi}{2}; \frac{\pi}{2} \rangle$ ,  $z \in \langle 0; \pi \rangle$ . Z toho vyplýva:

$$x = \sin y = \cos z = \sin\left(\frac{\pi}{2} - z\right).$$

Keďže body  $y$ ,  $\frac{\pi}{2} - z$  patria do intervalu  $\langle -\frac{\pi}{2}; \frac{\pi}{2} \rangle$ , platí:

$$y = \frac{\pi}{2} - z, \quad \text{t. j. } \frac{\pi}{2} = y + z = \arcsin x + \arccos x. \blacksquare$$

Funkcia  $f: y = \text{tg } x$ ,  $x \in \langle -\frac{\pi}{2}; \frac{\pi}{2} \rangle$  je bijektívna, rastúca, nepárna a jej oborom hodnôt je množina  $R$ . Inverznú funkciu  $g = f^{-1}$  nazývame **arkustangens** a označujeme ju symbolom  $g: y = \arctg x$  (obr. 3.1.31). Funkcia arkustangens je rastúca, nepárna a zobrazuje množinu  $R$  na interval  $\langle -\frac{\pi}{2}; \frac{\pi}{2} \rangle$ .

Funkcia  $f: y = \text{cotg } x$ ,  $x \in \langle 0; \pi \rangle$  je bijektívna, klesajúca a jej oborom hodnôt je množina  $R$ . Inverznú funkciu  $g = f^{-1}$  nazývame **arkuskotangens** a označujeme ju symbolom  $g: y = \text{arccotg } x$  (obr. 3.1.31). Funkcia arkuskotangens je klesajúca a zobrazuje množinu  $R$  na interval  $\langle 0; \pi \rangle$ .

### Veta 3.1.12.K3-veta10

Pre všetky  $x \in R$  platí  $\arctg x + \text{arccotg } x = \frac{\pi}{2}$ .

#### Dôkaz.

Nech  $x \in R$  a nech  $z \in \langle 0; \pi \rangle$ . Potom  $\frac{\pi}{2} - z$  patrí do intervalu  $\langle -\frac{\pi}{2}; \frac{\pi}{2} \rangle$  a platí:

$$\text{tg}\left(\frac{\pi}{2} - z\right) = \frac{\sin\left(\frac{\pi}{2} - z\right)}{\cos\left(\frac{\pi}{2} - z\right)} = \frac{\sin \frac{\pi}{2} \cos z - \cos \frac{\pi}{2} \sin z}{\cos \frac{\pi}{2} \cos z + \sin \frac{\pi}{2} \sin z} = \frac{\cos z}{\sin z} = \text{cotg } z.$$

Označme  $y = \operatorname{arctg} x$ ,  $z = \operatorname{arccotg} x$ , potom  $y \in (-\frac{\pi}{2}; \frac{\pi}{2})$ ,  $z \in (0; \pi)$ . Z toho vyplýva:

$$x = \operatorname{tg} y = \operatorname{cotg} z = \operatorname{tg} \left( \frac{\pi}{2} - z \right).$$

Keďže body  $y$  a  $\frac{\pi}{2} - z$  patria do intervalu  $(-\frac{\pi}{2}; \frac{\pi}{2})$ , platí:

$$y = \frac{\pi}{2} - z, \quad \text{t. j. } \frac{\pi}{2} = y + z = \operatorname{arctg} x + \operatorname{arccotg} x. \blacksquare$$

### • Hyperbolické funkcie

Sínus hyperbolický a kosínus hyperbolický, definujeme vzťahmi

$$\sinh x = \frac{e^x - e^{-x}}{2}, \quad x \in R, \quad \cosh x = \frac{e^x + e^{-x}}{2}, \quad x \in R.$$

Tangens hyperbolický a kotangens hyperbolický definujeme vzťahmi

$$\operatorname{tgh} x = \frac{\sinh x}{\cosh x} = \frac{e^x - e^{-x}}{e^x + e^{-x}}, \quad x \in R, \quad \operatorname{cotgh} x = \frac{\cosh x}{\sinh x} = \frac{e^x + e^{-x}}{e^x - e^{-x}}, \quad x \in R - \{0\}.$$

#### Poznámka 3.1.29.K3-poz25

Keďže pre všetky  $x \in R$  platí  $e^x \neq 0$ , môžeme hyperbolické funkcie vyjadriť v tvare

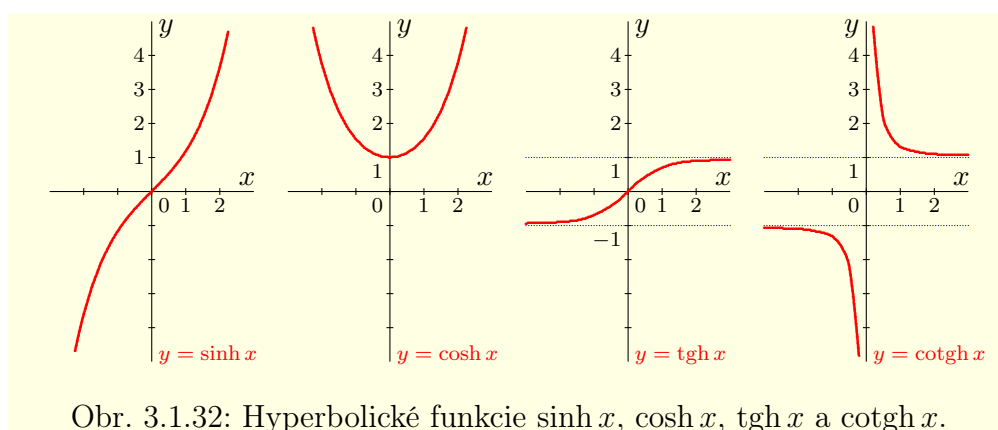
$$\sinh x = \frac{e^{2x} - 1}{2e^x}, \quad \cosh x = \frac{e^{2x} + 1}{2e^x}, \quad \operatorname{tgh} x = \frac{e^{2x} - 1}{e^{2x} + 1}, \quad \operatorname{cotgh} x = \frac{e^{2x} + 1}{e^{2x} - 1}.$$

Funkcia  $f: y = \sinh x$  zobrazuje množinu  $R$  na množinu  $R$ , je nepárna, rastúca a teda aj prostá. Má jeden nulový bod  $x = 0$  (obr. 3.1.32).

Funkcia  $f: y = \cosh x$  zobrazuje množinu  $R$  na interval  $\langle 1; \infty \rangle$ , je párna, klesajúca na intervale  $(\infty; 0)$  a rastúca na intervale  $\langle 0; \infty \rangle$  (obr. 3.1.32).

Funkcia  $f: y = \operatorname{tgh} x$  zobrazuje množinu  $R$  na interval  $(-1; 1)$ , je nepárna, rastúca a prostá. Má jeden nulový bod  $x = 0$  (obr. 3.1.32).

Funkcia  $f: y = \operatorname{cotgh} x$  zobrazuje množinu  $R - \{0\}$  na množinu  $R - \langle -1; 1 \rangle$ , je nepárna, klesajúca na intervaloch  $(-\infty; 0)$  a  $(0; \infty)$ , je prostá (obr. 3.1.32).



Obr. 3.1.32: Hyperbolické funkcie  $\sinh x$ ,  $\cosh x$ ,  $\operatorname{tgh} x$  a  $\operatorname{cotgh} x$ .

Hyperbolické funkcie majú podobné vlastnosti a platia pre ne podobné vzťahy ako pre goniometrické funkcie, preto sú aj ich názvy odvodené od goniometrických funkcií. Priamo z definície vyplýva nasledujúca veta.

#### Veta 3.1.13.K3-veta11

Pre všetky  $x \in R$  platí: a)  $\sinh x \pm \cosh x = \pm e^{\pm x}$ , b)  $\cosh^2 x - \sinh^2 x = 1$ .

**Poznámka 3.1.30.K3-poz23**

Rovnosť  $\cosh^2 x - \sinh^2 x = 1$  znamená, že body so súradnicami  $[\cosh x; \sinh x]$  ležia na hyperbole danej rovnicou  $y^2 - x^2 = 1$ . Odtiaľ pochádza názov hyperbolické funkcie.

**Veta 3.1.14 (Súčtové vzorce pre hyperbolický sínus a kosínus).K3-veta12**

Pre všetky  $x, y \in \mathbb{R}$  platí: a)  $\sinh(x \pm y) = \sinh x \cosh y \pm \cosh x \sinh y$ ,  
b)  $\cosh(x \pm y) = \cosh x \cosh y \pm \sinh x \sinh y$ .

**Dôkaz.**

Dokážeme iba jeden vzťah, pretože ostatné dôkazy sú analogické.

$$\begin{aligned} \sinh x \cosh y + \cosh x \sinh y &= \frac{e^x - e^{-x}}{2} \cdot \frac{e^y + e^{-y}}{2} + \frac{e^x + e^{-x}}{2} \cdot \frac{e^y - e^{-y}}{2} = \\ &= \frac{(e^x e^y - e^{-x} e^y + e^x e^{-y} - e^{-x} e^{-y}) + (e^x e^y + e^{-x} e^y - e^x e^{-y} - e^{-x} e^{-y})}{4} = \\ &= \frac{2e^x e^y - 2e^{-x} e^{-y}}{4} = \frac{e^{x+y} - e^{-(x+y)}}{2} = \sinh(x+y). \blacksquare \end{aligned}$$

**Dôsledok 3.1.14.a (Vzorce pre dvojnásobný argument).K3-dosl05**

Pre všetky  $x \in \mathbb{R}$  platí: a)  $\sinh 2x = 2 \sinh x \cosh x$ , b)  $\cosh 2x = \sinh^2 x + \cosh^2 x$ .

**Dôsledok 3.1.14.b (Vzorce pre polovičný argument).K3-dosl08**

Pre všetky  $x \in \mathbb{R}$  platí: a)  $\sinh^2 x = \frac{\cosh 2x - 1}{2}$ , b)  $\cosh^2 x = \frac{\cosh 2x + 1}{2}$ .

**Veta 3.1.15.K3-veta13**

Pre všetky  $x, y \in \mathbb{R}$  platí: a)  $\sinh x + \sinh y = 2 \sinh \frac{x+y}{2} \cosh \frac{x-y}{2}$ ,  
b)  $\sinh x - \sinh y = 2 \cosh \frac{x+y}{2} \sinh \frac{x-y}{2}$ ,  
c)  $\cosh x + \cosh y = 2 \cosh \frac{x+y}{2} \cosh \frac{x-y}{2}$ ,  
d)  $\cosh x - \cosh y = 2 \sinh \frac{x+y}{2} \sinh \frac{x-y}{2}$ .

**Dôkaz.**

Dôkaz je analogický ako dôkaz vety 3.1.9.

**Dôsledok 3.1.15.a.K3-dosl18**

Pre všetky  $x, y \in \mathbb{R}$  platí: a)  $\sinh(x+y) + \sinh(x-y) = 2 \sinh x \cosh y$ ,  
b)  $\sinh(x+y) - \sinh(x-y) = 2 \cosh x \sinh y$ ,  
c)  $\cosh(x+y) + \cosh(x-y) = 2 \cosh x \cosh y$ ,  
d)  $\cosh(x+y) - \cosh(x-y) = 2 \sinh x \sinh y$ .

**Dôkaz.**

Dôkaz je analogický ako v dôsledku 3.1.9.a. ■

**Veta 3.1.16 (Súčtové vzorce pre hyperbolický tangens a kotangens).K3-veta14**

Nech  $x, y \in \mathbb{R}$  a nech v časti b) pri  $\cotgh(x-y)$  navyše  $x \neq y$ , potom platí:

$$\text{a) } \operatorname{tgh}(x \pm y) = \frac{\operatorname{tgh} x \pm \operatorname{tgh} y}{1 \pm \operatorname{tgh} x \operatorname{tgh} y}, \quad \text{b) } \operatorname{cotgh}(x \pm y) = \frac{1 \pm \operatorname{cotgh} x \operatorname{cotgh} y}{\operatorname{cotgh} x \pm \operatorname{cotgh} y}.$$

**Dôkaz.**

Dôkaz je analogický ako dôkaz vety 3.1.10.

**Dôsledok 3.1.16.a.K3-dosl06**

Pre všetky  $x \in \mathbb{R}$  platí: a)  $\operatorname{tgh} 2x = \frac{2\operatorname{tgh} x}{1+\operatorname{tgh}^2 x}$ , b)  $\operatorname{cotgh} 2x = \frac{1+\operatorname{cotgh}^2 x}{2\operatorname{cotgh} x}$ .

**Veta 3.1.17 (Moivreov vzorec).K3-veta15**

Pre všetky  $x \in \mathbb{R}$ ,  $n \in \mathbb{N}$  platí  $(\cosh x \pm \sinh x)^n = \cosh nx \pm \sinh nx$ .

**Dôkaz.**

Dokážeme matematickou indukciou.

Pre  $n = 1$  platí vzorec triviálne.

Nech vzorec platí pre  $n = k - 1$ , t. j. nech platí:

$$(\cosh x \pm \sinh x)^{k-1} = \cosh (k-1)x \pm \sinh (k-1)x.$$

Potom pre  $n = k$  na základe vety 3.1.14 platí:

$$\begin{aligned} (\cosh x \pm \sinh x)^k &= (\cosh x \pm \sinh x)^{k-1} \cdot (\cosh x \pm \sinh x) = \\ &= [\cosh (k-1)x \pm \sinh (k-1)x] \cdot (\cosh x \pm \sinh x) = \\ &= \cosh (k-1)x \cosh x \pm \sinh (k-1)x \cosh x \pm \\ &\quad \pm \cosh (k-1)x \sinh x + \sinh (k-1)x \sinh x = \\ &= [\cosh (k-1)x \cosh x + \sinh (k-1)x \sinh x] \pm \\ &\quad \pm [\sinh (k-1)x \cosh x + \cosh (k-1)x \sinh x] = \cosh kx \pm \sinh kx. \blacksquare \end{aligned}$$

Podobne ako goniometrické funkcie, môžeme aj hyperbolické funkcie vyjadriť navzájom jednu funkciu pomocou druhej funkcie. V tabuľke 3.1.2 sú uvedené tieto vzťahy pre argumenty  $x > 0$ . Pre ostatné hodnoty  $x$  platia taktiež tieto vzťahy, môžu sa však líšiť znamienkom (podľa príslušného oboru hodnôt).

	$\sinh x$	$\cosh x$	$\operatorname{tgh} x$	$\operatorname{cotgh} x$
$\sinh x =$	$\sinh x$	$\sqrt{\cosh^2 x - 1}$	$\frac{\operatorname{tgh} x}{\sqrt{1-\operatorname{tgh}^2 x}}$	$\frac{1}{\sqrt{\operatorname{cotgh}^2 x - 1}}$
$\cosh x =$	$\sqrt{\sinh^2 x + 1}$	$\cosh x$	$\frac{1}{\sqrt{1-\operatorname{tgh}^2 x}}$	$\frac{\operatorname{cotgh} x}{\sqrt{\operatorname{cotgh}^2 x - 1}}$
$\operatorname{tgh} x =$	$\frac{\sinh x}{\sqrt{\sinh^2 x + 1}}$	$\frac{\sqrt{\cosh^2 x - 1}}{\cosh x}$	$\operatorname{tgh} x$	$\frac{1}{\operatorname{cotgh} x}$
$\operatorname{cotgh} x =$	$\frac{\sqrt{\sinh^2 x + 1}}{\sinh x}$	$\frac{\cosh x}{\sqrt{\cosh^2 x - 1}}$	$\frac{1}{\operatorname{tgh} x}$	$\operatorname{cotgh} x$

Tabuľka 3.1.3: Vzťahy medzi hyperbolickými funkciami pre  $x > 0$ .

- **Hyperbolometrické funkcie**

Funkcie  $\sinh x$ ,  $\operatorname{tgh} x$  a  $\operatorname{cotgh} x$  sú bijektívne na celom svojom definičnom obore, funkcia  $\cosh x$  je bijektívna na intervale  $\langle 0; \infty \rangle$ . Inverzné funkcie k týmto funkciám nazývame **hyperbolometrické funkcie**.

Inverzná funkcia k funkcii  $\sinh x$  sa nazýva **argument sínusu hyperbolického** a označuje sa symbolom  $\operatorname{argsinh} x$ . Zobrazuje množinu  $\mathbb{R}$  na množinu  $\mathbb{R}$  a je rastúca (obr. 3.1.33).

Inverzná funkcia k funkcii  $\cosh x$  sa nazýva **argument kosínusu hyperbolického** a označuje sa  $\operatorname{argcosh} x$ . Zobrazuje interval  $\langle 1; \infty$  na interval  $\langle 0; \infty$  a je rastúca (obr. 3.1.33).

**Veta 3.1.18.K3-veta16**

Pre všetky  $x \in \mathbb{R}$  platí  $\operatorname{argsinh} x = \ln [x + \sqrt{x^2 + 1}]$ .

**Dôkaz.**

Nech  $x \in \mathbb{R}$ . Potom  $y = \operatorname{argsinh} x$  práve vtedy, ak platí  $x = \sinh y = \frac{e^{2y} - 1}{2e^y}$ .

Posledný vzťah predstavuje rovnicu s neznámou  $y \in \mathbb{R}$ .

Označme  $e^y = t$ , potom  $t > 0$ ,  $y = \ln t$  a rovnicu môžeme písať v tvare

$$x = \frac{t^2 - 1}{2t}, \quad \text{t. j. } t^2 - 2xt - 1 = 0.$$

Táto rovnica má dve riešenia  $t_{1,2} = x \pm \sqrt{x^2 + 1}$ . Nech  $x \in \mathbb{R}$ , potom platí:

$$x \leq \sqrt{x^2} < \sqrt{x^2 + 1}, \quad \text{t. j. } t_1 = x + \sqrt{x^2 + 1} > 0, \quad t_2 = x - \sqrt{x^2 + 1} < 0.$$

Z toho vyplýva, že  $\operatorname{argsinh} x = y = \ln t_1 = \ln [x + \sqrt{x^2 + 1}]$ . ■

**Veta 3.1.19.K3-veta17**

Pre všetky  $x \in \langle 1; \infty$  platí  $\operatorname{argcosh} x = \ln [x + \sqrt{x^2 - 1}]$ .

**Dôkaz.**

Dôkaz je podobný ako pri vete 3.1.18.

Pre  $x \in \langle 1; \infty$  riešime rovnicu  $x = \frac{e^{2y} + 1}{2e^y}$  s neznámou  $y > 0$ .

Ak označíme  $e^y = t$ , potom  $t > 1$ ,  $y = \ln t$  a platí:

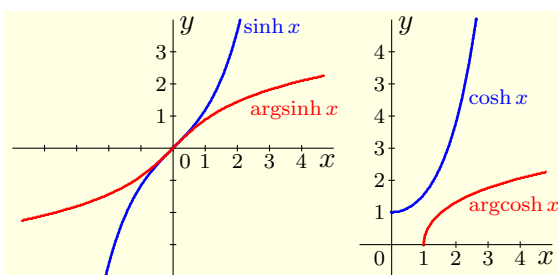
$$x = \frac{t^2 + 1}{2t}, \quad \text{t. j. } 0 = t^2 - 2tx + 1.$$

Rovnica má dve riešenia  $t_{1,2} = x \pm \sqrt{x^2 - 1}$  a je zrejmé, že  $t_1 = x + \sqrt{x^2 - 1} > 1$ .

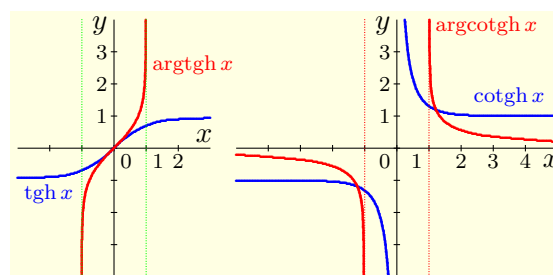
Predpokladajme, že  $x > 1$ ,  $t_2 = x - \sqrt{x^2 - 1} > 1$ . Potom dostaneme spor

$$x - 1 > \sqrt{x^2 - 1} \implies x^2 - 2x + 1 = (x - 1)^2 > x^2 - 1 \implies -2x > -2 \implies x < 1.$$

Z toho vyplýva, že  $\operatorname{argcosh} x = y = \ln t_1 = \ln [x + \sqrt{x^2 - 1}]$ . ■



Obr. 3.1.33: Funkcie  $y = \operatorname{argsinh} x$ ,  
 $y = \operatorname{argcosh} x$ .



Obr. 3.1.34: Funkcie  $y = \operatorname{argtgh} x$ ,  
 $y = \operatorname{argcotgh} x$ .

Inverzná funkcia k funkcii  $\operatorname{tgh} x$  sa nazýva **argument tangensu hyperbolického** a označuje sa  $\operatorname{argtgh} x$ . Zobrazuje interval  $\langle -1; 1$  na množinu  $\mathbb{R}$  a je rastúca (obr. 3.1.34).

Inverzná funkcia k funkcii  $\operatorname{cotgh} x$  sa nazýva **argument kotangensu hyperbolického** a označuje sa  $\operatorname{argcotgh} x$ . Definovaná je na množine  $\mathbb{R} - \langle -1; 1$ . Zobrazuje interval  $\langle -\infty; -1$  na interval  $\langle -\infty; 0$  a interval  $\langle 1; \infty$  na interval  $\langle 0; \infty$ . Na každom z intervalov  $\langle -\infty; -1$ ,  $\langle 1; \infty$  je klesajúca (obr. 3.1.34).

**Veta 3.1.20.K3-veta18**

Pre všetky  $x \in (-1; 1)$  platí  $\operatorname{argtgh} x = \frac{1}{2} \ln \frac{1+x}{1-x} = \frac{\ln(1+x) - \ln(1-x)}{2}$ .

**Dôkaz.**

Nech  $x \in (-1; 1)$ . Potom  $y = \operatorname{argtgh} x$  práve vtedy, ak  $x = \operatorname{tgh} y = \frac{e^{2y} + 1}{e^{2y} - 1}$ .

Označme  $e^{2y} = t$ , potom  $t > 0$ ,  $2y = \ln t$ . Z toho vyplýva:

$$x = \frac{t-1}{t+1} \implies xt + x = t - 1 \implies x + 1 = t - xt = (1-x)t \implies t = \frac{1+x}{1-x}.$$

Je zrejmé, že pre všetky  $x \in (-1; 1)$  platí  $t > 0$ , takže  $2y = \ln \frac{1+x}{1-x}$ . ■

**Veta 3.1.21.K3-veta19**

Pre všetky  $x \in \mathbb{R} - \langle -1; 1 \rangle$  platí  $\operatorname{argcotgh} x = \frac{1}{2} \ln \frac{x+1}{x-1} = \frac{\ln(x+1) - \ln(x-1)}{2}$ .

**Dôkaz.**

Nech  $x \in \mathbb{R} - \langle -1; 1 \rangle$ . Potom  $y = \operatorname{argtgh} x$  práve vtedy, ak  $x = \frac{e^{2y} - 1}{e^{2y} + 1}$ .

Označme  $e^{2y} = t$ , potom  $t > 0$ ,  $2y = \ln t$ . Z toho vyplýva:

$$x = \frac{t-1}{t+1} \implies xt - x = t + 1 \implies xt - t = x + 1 \implies t = \frac{x+1}{x-1}.$$

Je zrejmé, že pre všetky  $x \in \mathbb{R} - \langle -1; 1 \rangle$  platí  $t > 0$ , takže  $2y = \ln \frac{x+1}{x-1}$ . ■

**Poznámka 3.1.31.K3-poz24**

Z vlastností logaritmických funkcií vyplýva, že pre  $\operatorname{argtgh} x$ ,  $\operatorname{argcotgh} x$  platí:

$$\operatorname{argtgh} x = \frac{1}{2} \ln \frac{1+x}{1-x} = \ln \sqrt{\frac{1+x}{1-x}} = \ln \frac{\sqrt{1+x}}{\sqrt{1-x}} = \ln \sqrt{1+x} - \ln \sqrt{1-x},$$

$$\operatorname{argcotgh} x = \frac{1}{2} \ln \frac{x+1}{x-1} = \ln \sqrt{\frac{x+1}{x-1}} = \ln \frac{\sqrt{x+1}}{\sqrt{x-1}} = \ln \sqrt{x+1} - \ln \sqrt{x-1}.$$

Ako sme už spomínali, elementárne funkcie popisujú mnohé prírodné a spoločenské zákonitosti. Na záver uvedieme funkciu, ktorá by mohla potešiť nejedno srdiečko.

**Príklad 3.1.28.K3-pr83**

Rovnica<sup>15</sup>  $(x^2 + y^2 - 1)^3 = x^2 y^3$  určuje dve funkcie (viď obr. 3.1.35)

$$f_1: y = \frac{\sqrt[3]{x^2 - \sqrt{\sqrt[3]{x^4 - 4x^2 + 4}}}}{2}, \quad f_2: y = \frac{\sqrt[3]{x^2 + \sqrt{\sqrt[3]{x^4 - 4x^2 + 4}}}}{2}.$$

Výraz pod odmocninou  $\sqrt[3]{x^4 - 4x^2 + 4}$  sa rovná nule práve vtedy, ak platí:

$$x_{1,2} = \frac{\pm 1}{8\sqrt{3}} \sqrt{193 + \frac{385}{\sqrt[3]{55873 + 1536\sqrt{1299}}} + \sqrt[3]{55873 + 1536\sqrt{1299}}} \approx \pm 1,139028165.$$

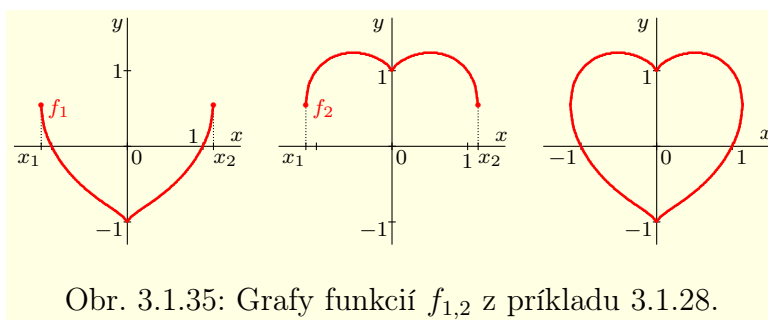
Keďže pre funkcie  $f_{1,2}$  platí  $f_1(0) = -1$ ,  $f_2(0) = 1$ , potom ich definičný obor je interval ohraničený bodmi  $x_{1,2}$ , t. j.  $D(f_{1,2}) = \langle -1, 139028165; 1, 139028165 \rangle$ . ■

**3.1.4 Krivky**

Každú binárnu reláciu  $f = \{[x; y] \in \mathbb{R}^2\}$  môžeme v euklidovskej rovine  $\mathbb{R}^2$  reprezentovať bodmi  $X$  so súradnicami  $[x; y]$ . V tomto prípade sa používa pojem (rovinná) krivka.

Ak je  $f \in \mathbb{R}^2$  binárna relácia, potom množinu  $\{X \in \mathbb{R}^2; X = [x; y], [x; y] \in f\}$  nazývame **rovinná krivka** (krivka v rovine  $\mathbb{R}^2$ ), alebo iba stručne **krivka**.

<sup>15</sup>Rez priestorovej rovnice srdca  $(x^2 + \frac{9z^2}{4} + y^2 - 1)^3 - x^2 y^3 - \frac{9z^2 y^3}{80} = 0$  do roviny  $z = 0$ .

Obr. 3.1.35: Grafy funkcií  $f_{1,2}$  z príkladu 3.1.28.

Krivku najčastejšie popisujeme parametricky, t. j. pomocou množiny

$$\{X \in R^2; X = [x; y], x = \varphi(t), y = \psi(t), t \in J\}, \quad (3.11)$$

kde  $\varphi, \psi$  sú funkcie definované na množine  $J \subset R$ .

Ak je relácia  $f$  definovaná implicitne rovnicou  $F(x, y) = 0$ , potom môžeme krivku  $f$  reprezentovať množinou bodov  $X = [x; y] \in R^2$ , ktoré vyhovujú rovnici  $F(x, y) = 0$ , t. j.

$$f = \{X \in R^2; X = [x; y], F(x, y) = 0\}.$$

Pojem krivky môžeme prirodzeným spôsobom rozšíriť do trojrozmerného Euklidovského priestoru  $R^3$ . V praxi sa krivky popisujú najčastejšie pomocou parametrického vyjadrenia, preto uvedieme iba nasledujúcu definíciu. V priestore  $R^3$  definujeme (**priestorovú**) **krivku** analogicky pomocou relácie

$$f = \{X \in R^3; X = [x; y; z], x = \varphi(t), y = \psi(t), z = \chi(t), t \in J\},$$

kde  $\varphi, \psi, \chi$  sú funkcie definované na množine  $J \subset R$ .

### Poznámka 3.1.32.K3-poz80

Je zrejme, že rovinnú krivku  $f$  môžeme vyjadriť v rôznych tvaroch. Ak je krivka zadaná parametricky, potom vylúčením (elimináciou) parametra môžeme dostať jej vyjadrenie v tvare  $F(x, y) = 0$  alebo pomocou vzťahov  $y = f(x)$ , resp.  $x = g(y)$ .

Na druhej strane, ak je krivka  $f$  zadaná vzťahom  $y = f(x)$ ,  $x \in \langle a; b \rangle$ , potom stačí položiť  $x = t$ ,  $y = f(t)$ ,  $t \in \langle a; b \rangle$  a máme jej parametrické vyjadrenie.

V niektorých prípadoch je výhodné vyjadriť krivku v rovine v takzvaných **polárnych súradniciach**. **Polárny súradnicový systém** v rovine  $R^2$  sa skladá z počiatku a z jednej poloosi z neho vychádzajúcej, ktorú nazývame polárna os. **Počiatok (pól) polárneho súradnicového systému** ztotožníme s počiatkom 0 karteziánskeho pravouhlého súradnicového systému. **Polárna os**  $o$  je polpriamka vychádzajúca z bodu 0 a ztotožníme ju s kladnou  $x$ -ovou poloosou (obr. 3.1.36) karteziánskeho systému.

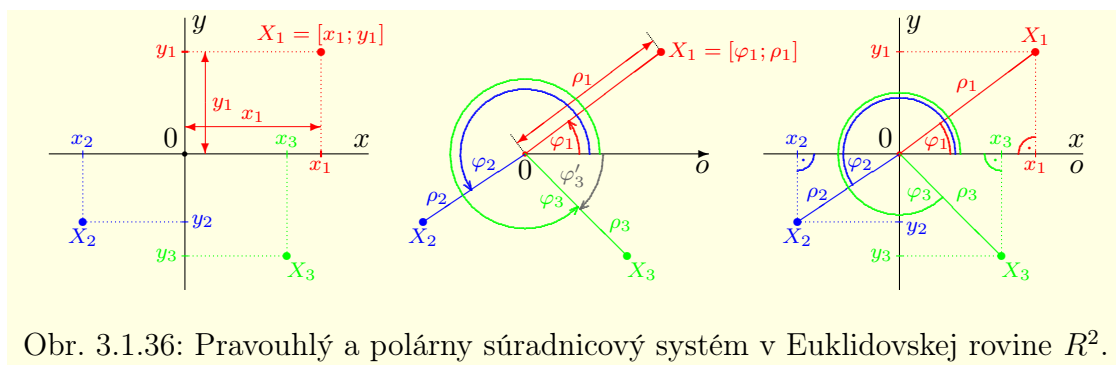
Ak má bod  $X$  v karteziánskom pravouhlom systéme súradnice  $[x; y]$ , potom v polárnych súradniciach mu priradíme dvojicu súradníc  $[\varphi; \rho]$ . Súradnica  $\rho$  predstavuje vzdialenosť bodu  $X$  od počiatku 0 a nazýva sa **sprievodič (rádusvektor) bodu  $X$** . To znamená, že platí  $\rho = |OX|$ . Súradnica  $\varphi$  predstavuje orientovaný uhol, ktorý zvierá polárna os  $o$  s polpriamkou  $OX$  a nazýva sa **polárny uhol (amplitúda) bodu  $X$** .

Krivku môžeme v polárnom systéme vyjadriť vzťahom  $f = \{[\varphi; \rho] \in R^2\}$ . Ak je každému  $\varphi$  priradené najviac jedno  $\rho$ , potom  $f$  predstavuje **v polárnom systéme funkciu**.

Z definície a zo základných vlastností goniometrických funkcií vyplýva, že pre karteziánske súradnice  $[x; y]$  a polárne súradnice  $[\varphi; \rho]$  daného bodu  $X$  platí:

$$x = \rho \cdot \cos \varphi, \quad y = \rho \cdot \sin \varphi, \quad \text{pričom } \rho \in \langle 0; \infty \rangle, \quad \varphi \in \langle -\infty; \infty \rangle. \quad (3.12)$$



Obr. 3.1.36: Pravouhlý a polárny súradnicový systém v Euklidovskej rovine  $R^2$ .

Z toho vyplýva:

$$x^2 + y^2 = \rho^2 \cdot \cos^2 \varphi + \rho^2 \cdot \sin^2 \varphi = \rho^2, \quad \text{t. j. } \rho = \sqrt{x^2 + y^2}. \quad (3.13)$$

Zo vzťahov (3.12) a (3.13) pre  $\rho \neq 0$  vyplýva:

$$\cos \varphi = \frac{x}{\rho} = \frac{x}{\sqrt{x^2 + y^2}}, \quad \sin \varphi = \frac{y}{\rho} = \frac{y}{\sqrt{x^2 + y^2}}. \quad (3.14)$$

### Poznámka 3.1.33.K3-poz81

Musíme si uvedomiť, že každý bod  $X \in R^2$  má v karteziánskom systéme súradnice určené jednoznačne, čo neplatí pre polárny systém. V polárnych súradniciach má bod  $X$  nekonečne veľa vyjadrení, pretože funkcie sínus a kosínus sú periodické s periodou  $2\pi$ . Je zrejme, že stačí zmeniť polárny uhol  $\varphi$  o ľubovoľnú hodnotu  $2k\pi$ ,  $k \in Z$ .

Z tohto dôvodu sa pre rozsah polárneho uhla  $\varphi$  zvykne určiť interval dĺžky  $2\pi$ . Obyčajne je to interval  $\langle 0; 2\pi \rangle$  alebo interval  $\langle -\pi; \pi \rangle$ . Bod  $X_3$  na obrázku 3.1.36 má polárne súradnice  $X_3 = [\varphi_3; \rho_3]$ , resp.  $X_3 = [\varphi'_3; \rho_3]$ , pričom platí  $\varphi_3 > 0$ ,  $\varphi'_3 < 0$ ,  $\varphi_3 = \varphi'_3 + 2\pi$ .

### Poznámka 3.1.34.K3-poz91

V praxi sa pri zápise polárnych súradníc daného bodu  $X = [\varphi; \rho]$  zvykne pripustiť aj záporná hodnota jeho sprievodiča, t. j.  $\rho < 0$ . V tomto prípade je bod  $X$  totožný s bodom, ktorý je stredovo súmerný podľa počiatku polárneho súradnicového systému s bodom  $X' = [\varphi; -\rho]$ . Amplitúdy týchto bodov sú posunuté o hodnotu  $\pi$ , resp.  $-\pi$ . To znamená, že bod  $X$  je totožný s bodom  $[\varphi + \pi; -\rho]$  pre  $\varphi \in \langle 0; \pi \rangle$ , resp. s bodom  $[\varphi - \pi; -\rho]$  pre  $\varphi \in \langle \pi; 2\pi \rangle$ . Situácia je ilustrovaná na obrázku 3.1.37.

Ak je rovinná krivka  $f$  zadaná (v karteziánskom systéme súradníc) implicitne rovnicou  $F(x, y) = 0$  a použijeme vzťahy (3.12), dostaneme rovnicu s premennými  $\rho$ ,  $\varphi$ , t. j.

$$F(x, y) = F(\rho \cos \varphi, \rho \sin \varphi) = G(\rho, \varphi) = 0,$$

ktorú nazývame **implicitné vyjadrenie** krivky  $f$  v polárnom systéme súradníc.

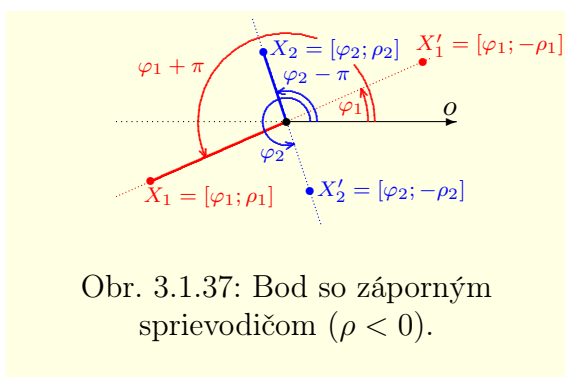
Ak sa z poslednej rovnice dá vyjadriť  $\rho$  ako funkcia premennej  $\varphi$ , t. j. ak  $\rho = g(\varphi)$ ,  $\varphi \in M$ , potom dostávame **explicitné vyjadrenie** krivky  $f$  v polárnych súradniciach.

Ak je krivka  $f$  zadaná explicitne v polárnom systéme vzťahmi  $\rho = g(\varphi)$ ,  $\varphi \in \langle \alpha; \beta \rangle$  a použijeme vzťahy (3.12), dostaneme nasledujúce parametrické vyjadrenie krivky  $f$

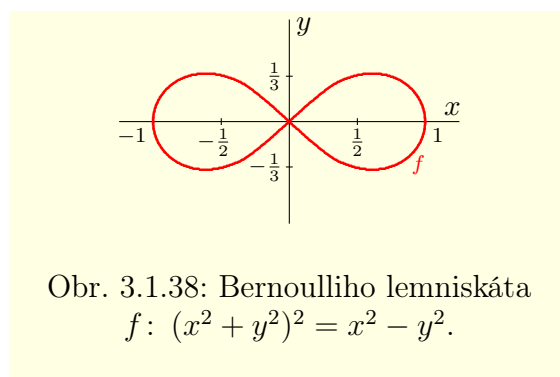
$$x = \rho \cdot \cos \varphi = g(\varphi) \cdot \cos \varphi, \quad y = \rho \cdot \sin \varphi = g(\varphi) \cdot \sin \varphi.$$

Pretože parametrom je polárny uhol  $\varphi$ , hovoríme o **polárnom parametrickom vyjadrení (polárnej parametrizácii)** krivky  $f$ .

Ak je krivka  $f$  určená explicitne v polárnych súradniciach v tvare  $\rho = g(\varphi)$ ,  $\varphi \in M$  a použijeme vzťahy (3.13), (3.14), potom dostaneme jej implicitné (v lepšom prípade aj explicitné) vyjadrenie v karteziánskom systéme.



Obr. 3.1.37: Bod so záporným sprievodičom ( $\rho < 0$ ).



Obr. 3.1.38: Bernoulliho lemniskáta  
 $f: (x^2 + y^2)^2 = x^2 - y^2$ .

### Príklad 3.1.29.K3-pr102

Krivka  $f$  na obrázku 3.1.38 sa nazýva Bernoulliho lemniskáta<sup>16</sup> a v karteziánskom systéme je implicitne určená rovnicou

$$(x^2 + y^2)^2 = x^2 - y^2, \quad \text{t. j. } f = \{[x; y] \in \mathbb{R}^2; (x^2 + y^2)^2 = x^2 - y^2\}.$$

Zo vzťahov (3.12) vyplýva:

$$(x^2 + y^2)^2 = (\rho^2 \cos^2 \varphi + \rho^2 \sin^2 \varphi)^2 = \rho^4, \quad x^2 - y^2 = \rho^2 \cos^2 \varphi - \rho^2 \sin^2 \varphi = \rho^2 \cos 2\varphi,$$

Z toho vyplýva  $\rho^4 = \rho^2 \cos 2\varphi$ . To znamená, že krivka  $f$  má v polárnych súradniciach tvar

$$\rho^2 = \cos 2\varphi, \quad \text{resp. } \rho = \sqrt{\cos 2\varphi}.$$

Je zrejmé, že musí platiť  $\cos 2\varphi \geq 0$ . Predpokladajme, že  $\varphi \in \langle 0; 2\pi \rangle$ , t. j.  $2\varphi \in \langle 0; 4\pi \rangle$ , potom z vlastností funkcie kosínus vyplýva:

$$\cos 2\varphi \geq 0 \iff 2\varphi \in \langle 0; \frac{\pi}{2} \rangle \cup \langle \frac{3\pi}{2}; \frac{5\pi}{2} \rangle \cup \langle \frac{7\pi}{2}; 4\pi \rangle.$$

Z toho vyplýva, že explicitné vyjadrenie krivky  $f$  má v polárnych súradniciach tvar

$$\rho = \sqrt{\cos 2\varphi}, \quad \varphi \in \langle 0; \frac{\pi}{4} \rangle \cup \langle \frac{3\pi}{4}; \frac{5\pi}{4} \rangle \cup \langle \frac{7\pi}{4}; 2\pi \rangle. \blacksquare$$

### Poznámka 3.1.35.K3-poz94

Krivka  $f_1$  definovaná v karteziánskom pravouhlom systéme vzťahom  $y = f_1(x) = 1$ ,  $x \in \mathbb{R}$  zodpovedá konštantnej funkcii, ktorej grafom je priamka rovnobežná s osou  $x$ .

Krivka  $f_2$  definovaná v polárnom systéme vzťahom  $\rho = f_2(\varphi) = 1$ ,  $\varphi \in \mathbb{R}$  zodpovedá taktiež konštantnej funkcii (ale v polárnom systéme). Jej grafom je kružnica so stredom v počiatku súradnicového systému  $0$  a polomerom  $\rho = 1$  (viď obr. 3.1.39). Je zrejmé, že v karteziánskom systéme krivka  $f_2$  funkciou nie je.

### Príklad 3.1.30.K3-pr101

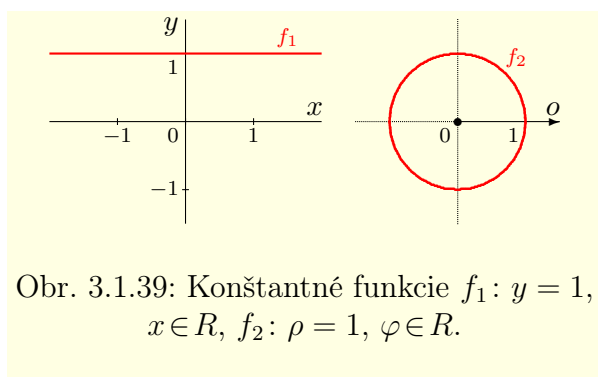
Uvažujme krivku  $f_1$  definovanú v karteziánskom systéme vzťahom  $f_1: y = x$ ,  $x \in \langle 0; \infty \rangle$ . Táto krivka je funkciou a jej grafom je polpriamka (obr. 3.1.40 vľavo). V polárnom systéme táto krivka nepredstavuje funkciu, pretože má tvar  $f_1: \rho \in \langle 0; \infty \rangle$ ,  $\varphi = \frac{\pi}{4}$ .

Na druhej strane Archimedova špirála  $f_2: \rho = \varphi$ ,  $\varphi \in \langle 0; \infty \rangle$  je funkciou v polárnom systéme, ale nie je funkciou v karteziánskom systéme (obr. 3.1.40 vpravo).

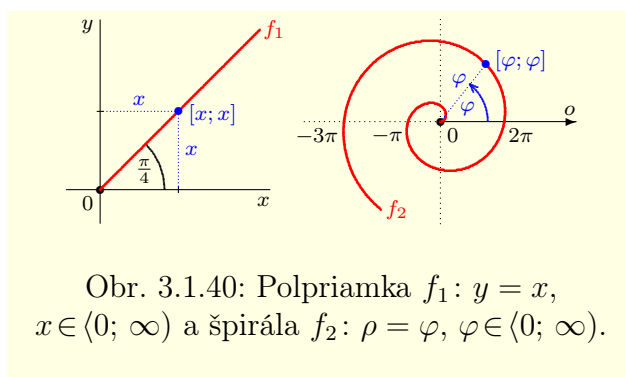
### Poznámka 3.1.36.K3-poz79

Ak je krivka  $f$  funkciou, t. j. sa dá (aspoň teoreticky) vyjadriť v tvare  $y = f(x)$ ,  $x \in \langle a; b \rangle$ , potom ju môžeme reprezentovať jej grafom, t. j. množinou  $\{X = [x; f(x)]; x \in \langle a; b \rangle\}$ . Musíme si uvedomiť,

<sup>16</sup>Bernoulliho lemniskáta je špeciálnym prípadom Cassiniových kriviek (viď str. 227).



Obr. 3.1.39: Konštantné funkcie  $f_1: y = 1$ ,  $x \in \mathbb{R}$ ,  $f_2: \rho = 1$ ,  $\varphi \in \mathbb{R}$ .

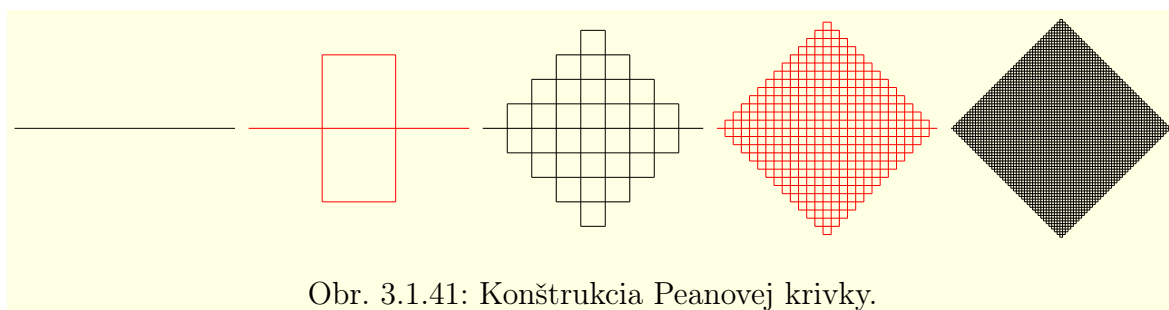


Obr. 3.1.40: Polpriamka  $f_1: y = x$ ,  $x \in \langle 0; \infty \rangle$  a špirála  $f_2: \rho = \varphi$ ,  $\varphi \in \langle 0; \infty \rangle$ .

že vo všeobecnosti nemusí krivka  $f$  reprezentovať funkciu (presnejšie graf funkcie). Napríklad systém  $x = 1$ ,  $y = t$ ,  $t \in (-\infty; \infty)$ , neurčuje funkciu. Predstavuje priamku, ktorá je rovnobežná s osou  $y$ , pričom vzdialenosť medzi nimi je 1.

Z fyzikálneho hľadiska si môžeme krivku  $f$  (či už rovinnú alebo priestorovú) predstaviť ako stopu, ktorú vytvorí pohybujúci sa hmotný bod. Reálnu premennú  $t$  v parametrickom vyjadrení krivky môžeme interpretovať ako čas prebiehajúci v (časovom) intervale  $J = \langle \alpha; \beta \rangle$ . Jej grafické vyjadrenie v rovine  $\mathbb{R}^2$ , resp. v priestore  $\mathbb{R}^3$  sa zvykne nazývať **trajektória pohybu** daného hmotného bodu.

Bod  $X_\alpha = [\varphi(\alpha); \psi(\alpha)]$  sa nazýva **počiatočný bod trajektórie** daného pohybu, resp. **počiatočný bod krivky**  $f$ . Bod  $X_\beta = [\varphi(\beta); \psi(\beta)]$  sa nazýva **koncový bod trajektórie** daného pohybu, resp. **koncový bod krivky**  $f$ . Ak platí  $X_\alpha = X_\beta$ , potom hovoríme o **uzavretej trajektórii**, resp. o **uzavretej krivke**. V opačnom prípade hovoríme o **otvorenej trajektórii**, resp. o **otvorenej krivke**.<sup>17</sup>




Obr. 3.1.41: Konštrukcia Peanovej krivky.

Trajektória daného pohybu môže byť veľmi zložitým geometrickým útvarom a vo všeobecnosti nesúhlasí s intuitívne chápaným pojmom krivky (ako súvislej čiary). Pohyb môže byť napríklad taký, že sa bude hmotný bod v niektorej konkrétnej polohe nachádzať niekoľko, prípadne aj nekonečne veľakrát. Pomerne jednoducho sa dajú skonštruovať rovinné krivky, ktoré vyplnia nejaký dvojrozmerný rovinný útvar. Príklady kriviek, ktoré vyplnia štvorec uviedli už v roku 1890 taliansky matematik *Giuseppe Peano* [1858–1932] a v roku 1891 nemecký matematik *David Hilbert* (obrázky 3.1.41, resp. 3.1.42).

V súvislosti s Peanovou a Hilbertovou krivkou je namieste spomenúť tzv. **fraktálnu geometriu**. Fraktálna geometria sa na rozdiel od klasickej geometrie zaoberá nepravidelnosťami jednotlivých objektov. Absolútna väčšina útvarov v reálnom svete má nepravidelný tvar a preto ich popisujeme iba približne. Pritom dochádza k značnej deformácii daného modelu a k značnej strate informácií.

<sup>17</sup>S týmto súvisí aj skutočnosť, že pod pojmom krivka si obyčajne predstavujeme súvislú čiaru. Vo všeobecnosti to ale nemusí byť pravidlom.

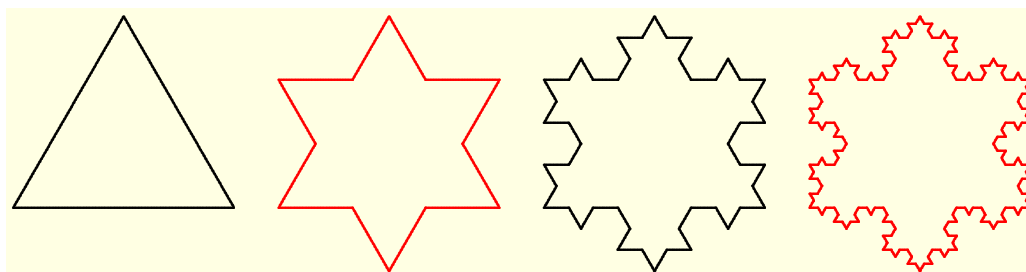


Obr. 3.1.42: Konštrukcia Hilbertovej krivky.

Po prvý raz použil slovo **fraktál**<sup>18</sup> francúzsky matematik *Benoit Mandelbrot* [1924]. Fraktál je ľubovoľný geometricky nepravidelný útvar, z ktorého po rozdelení vznikne v ideálnom prípade niekoľko navzájom podobných (zmenšených) kópií pôvodného celku. Často majú mnohé ďalšie zaujímavé vlastnosti, ako sú napríklad už spomínané pokrytie dvojrozmerného útvaru jednorozmernou krivkou, nekonečne dlhý obvod alebo nekonečne malý obsah. Fraktály nie sú zaujímavé iba pre matematikov, pre fyzikov, chemikov, geodetov a mnohých ďalších vedcov, ale aj pre umelcov a prakticky pre všetkých ľudí.

Ak máme zmerať dĺžku pobrežia skutočného ostrova, potom môžeme použiť viacero metód. Jedna z možností<sup>19</sup> je použiť meradlo s rozumnou dĺžkou, napríklad kružidlo s priemerom (t. j. vzdialenosťou hrotov) 1 m. Výsledné meranie bude predstavovať určitú aproximáciu skutočnej dĺžky pobrežia. Ak celé meranie zopakujeme s polovičnou dĺžkou meradla, zistíme, že výsledok sa o niečo zväčší. Podarilo sa nám totiž zachytiť viac detailov. Teoreticky sa môžeme zmenšovaním meradla (t. j. zachytením väčšieho a väčšieho množstva detailov) dopracovať k nekonečnej dĺžke tohto pobrežia.

Ako príklad môžeme uviesť (obrázok 3.1.43) fraktál známy ako Kochova snehová vločka alebo Kochov ostrov, ktorý publikoval už v roku 1904 švédsky matematik *Niels Fabian Helge von Koch* [1870–1924].



Obr. 3.1.43: Konštrukcia van Kochovej snehovej vločky.

### Príklad 3.1.31.K3-pr100

Vypočítajte obvod  $o$  Kochovej snehovej vločky.

#### Riešenie.

Predpokladajme, že začneme konštruovať Kochovu snehovú vločku z rovnostranného trojuholníka (obrázok 3.1.43) so stranou majúcou veľkosť  $d > 0$ . Obvod trojuholníka je  $3d$ .

Pri prvej iterácii sa každá strana trojuholníka (na obrázku vľavo) rozdelí na 3 rovnaké časti veľkosti  $\frac{d}{3}$ , pričom sa stredná časť „natiahne“ na dve rovnako veľké časti. Takže z každej strany pôvodného troju-

<sup>18</sup>Z latinského *fractus* — zlomený, rozlamaný.

<sup>19</sup>*Mandelbrot*: How long is the coast of Great Britain, 1977.

holníka vzniknú štyri nové strany s dĺžkou  $\frac{d}{3}$  a jej dĺžka sa zväčší na  $\frac{4d}{3}$ . To znamená, že sa obvod útvaru zväčší na hodnotu  $\frac{3 \cdot 4d}{3} = 4d$ .

Pri všetkých nasledujúcich iteráciách sa každá strana daného útvaru analogicky rozdelí na tri rovnaké časti, pričom stredná z nich sa „natiahne“ na dvojnásobok svojej veľkosti. Prakticky to znamená, že sa pri každej novej iterácii pôvodná strana, a tým aj celý obvod, zväčší na  $\frac{4}{3}$  pôvodnej veľkosti.

To znamená, že obvody iterovaných útvarov tvoria geometrickú postupnosť

$$\left\{ 3d, 3d \left(\frac{4}{3}\right), 3d \left(\frac{4}{3}\right)^2, \dots, 3d \left(\frac{4}{3}\right)^n, \dots \right\} = \left\{ 3d \left(\frac{4}{3}\right)^n \right\}_{n=0}^{\infty}.$$

Obvod  $o$  Kochovej snehovej vločky sa rovná limite tejto postupnosti. Keďže  $\frac{4}{3} > 1$ , potom na základe príkladu 2.3.20 platí:

$$o = \lim_{n \rightarrow \infty} \left[ 3d \left(\frac{4}{3}\right)^n \right] = 3d \cdot \lim_{n \rightarrow \infty} \left(\frac{4}{3}\right)^n = 3d \cdot \infty = \infty. \blacksquare$$

Na záver uvedieme niektoré najznámejšie rovinné krivky a ich vyjadrenia v karteziánskom a prípadne aj polárnom systéme súradníc. Je samozrejmé, že medzi krivky môžeme zaradiť všetky funkcie. Niektorými z nich sme sa zaoberali v predchádzajúcej časti.

### • Kuželosečky

Kuželosečky sú najznámejšie krivky a patria sem parabola, kružnica, elipsa a hyperbola. Medzi kuželosečky môžeme zaradiť aj priamku, ktorá je grafom lineárnej funkcie. V tomto prípade hovoríme o **nevlastnej (degenerovanej) kuželosečke**. Parabolu, kružnicu, elipsu a hyperbolu potom nazývame **vlastné (nedegenerované) kuželosečky**.

**Kružnica** je rovinná krivka, ktorú definujeme ako množinu bodov  $X$  v rovine, ktoré majú od daného, pevného bodu  $S$  rovnakú vzdialenosť  $r$ . Bod  $S$  nazývame **stred kružnice** a nenulovú vzdialenosť  $r$  nazývame **polomer kružnice**.

Implicitne definujeme kružnicu  $k$  so stredom v bode  $S = [c; d]$  a polomerom  $r > 0$  v karteziánskom systéme súradníc (obr. 3.1.44) ako množinu

$$\{ X \in \mathbb{R}^2; X = [x; y], (x - c)^2 + (y - d)^2 = r^2 \}. \quad (3.15)$$

To znamená, že je kružnica  $k$  implicitne určená rovnicou

$$(x - c)^2 + (y - d)^2 = r^2, \quad \text{resp.} \quad \frac{(x-c)^2}{r^2} + \frac{(y-d)^2}{r^2} = 1.$$

Určíme explicitný tvar rovnice kružnice  $k$ . Z predchádzajúceho vzťahu vyplýva:

$$(y - d)^2 = r^2 - (x - c)^2, \quad \text{t. j.} \quad y = d \pm \sqrt{r^2 - (x - c)^2}.$$

Aby bol posledný výraz definovaný, musí platiť  $0 \leq r^2 - (x - c)^2 = (r - x + c)(r + x - c)$ , t. j.  $x \in \langle c - r; c + r \rangle$ . To znamená, že<sup>20</sup>  $k = k^+ \cup k^-$ , pričom

$$k^{\pm}: y = d \pm \sqrt{r^2 - (x - c)^2}, \quad x \in \langle c - r; c + r \rangle.$$

Parametrické vyjadrenie kružnice  $k$  určíme pomocou vzťahu (3.15). Parametrom bude polárny uhol  $t \in \langle 0; 2\pi \rangle$  so stredom v bode  $S = [c; d]$ . Uhol  $t = 0$  zodpovedá polpriamke, ktorá začína v bode  $S$  a je rovnobežná s osou  $x$ . Na základe definície goniometrických funkcií sínus a kosínus (viď strana 194) má parametrické vyjadrenie kružnice  $k$  so stredom v bode  $S = [c; d]$  a polomerom  $r > 0$  tvar (obr. 3.1.45)

$$x = c + r \cos t, \quad y = d + r \sin t, \quad t \in \langle 0; 2\pi \rangle.$$

Pre polárne súradnice  $S = [\varphi_0; \rho_0]$  stredu kružnice  $k$  (obr. 3.1.46) platí  $c = \rho_0 \cos \varphi_0$ ,  $d = \rho_0 \sin \varphi_0$ . Ak dosadíme do vzťahu (3.15) výrazy  $x = \rho \cos \varphi$ ,  $y = \rho \sin \varphi$ , potom na základe súčtových vzorcov pre goniometrické funkcie platí:

$$r^2 = (x - c)^2 + (y - d)^2 = (\rho \cos \varphi - \rho_0 \cos \varphi_0)^2 + (\rho \sin \varphi - \rho_0 \sin \varphi_0)^2 =$$

<sup>20</sup>Polkružnice  $k^+$ :  $y = d + \sqrt{r^2 - (x - c)^2}$ ,  $k^-$ :  $y = d - \sqrt{r^2 - (x - c)^2}$ , ktoré tvoria kružnicu  $k$ .

$$\begin{aligned}
&= \rho^2 \cos^2 \varphi - 2\rho\rho_0 \cos \varphi \cos \varphi_0 + \rho_0^2 \cos^2 \varphi_0 + \rho^2 \sin^2 \varphi - 2\rho\rho_0 \sin \varphi \sin \varphi_0 + \rho_0^2 \sin^2 \varphi_0 = \\
&= \rho^2 (\cos^2 \varphi + \sin^2 \varphi) - 2\rho\rho_0 (\cos \varphi \cos \varphi_0 + \sin \varphi \sin \varphi_0) + \rho_0^2 (\cos^2 \varphi_0 + \sin^2 \varphi_0) = \\
&= \rho^2 - 2\rho\rho_0 \cos(\varphi - \varphi_0) + \rho_0^2.
\end{aligned}$$

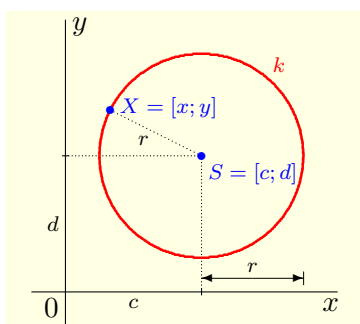
To znamená, že v polárnom systéme súradníc je kružnica  $k$  so stredom  $S = [\varphi_0; \rho_0]$  a polomerom  $r > 0$  implicitne vyjadrená rovnicou

$$k: \rho^2 - 2\rho\rho_0 \cos(\varphi - \varphi_0) + \rho_0^2 = r^2.$$

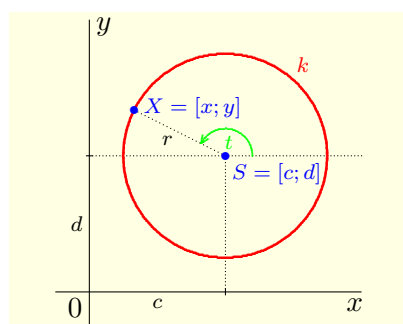
### Poznámka 3.1.37.K3-poz82

Ak má kružnica  $k$  s polomerom  $r$  stred v počiatku  $S = [0; 0]$ , potom ju môžeme implicitne vyjadriť pomocou rovnice  $x^2 + y^2 = r^2$ , resp. explicitne  $y = \pm\sqrt{r^2 - x^2}$ .

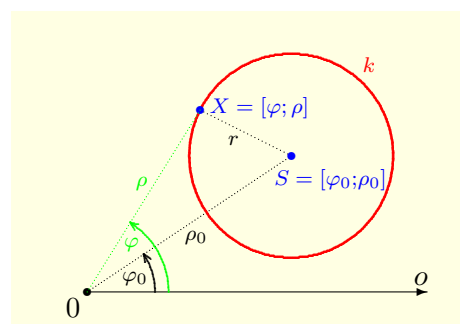
Ak je v polárnom systéme stred kružnice  $k$  s polomerom  $r$  umiestnený do jej počiatku  $S = [0; 0]$ , potom jej vyjadrenie má tvar  $\rho^2 = r^2$ , t. j. tvar  $\rho(\varphi) = r$ ,  $\varphi \in \langle 0; 2\pi \rangle$ .



Obr. 3.1.44: Kružnica  $(x - c)^2 + (y - d)^2 = r^2$ .



Obr. 3.1.45: Kružnica  $x = c + r \cos t$ ,  $y = d + r \sin t$ .



Obr. 3.1.46: Kružnica  $\rho^2 - 2\rho\rho_0 \cos(\varphi - \varphi_0) + \rho_0^2 = r^2$ .

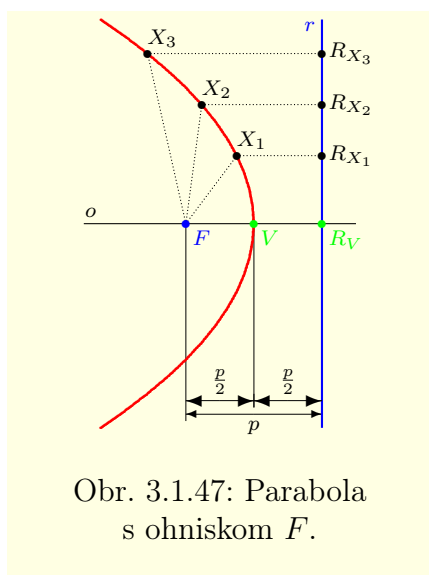
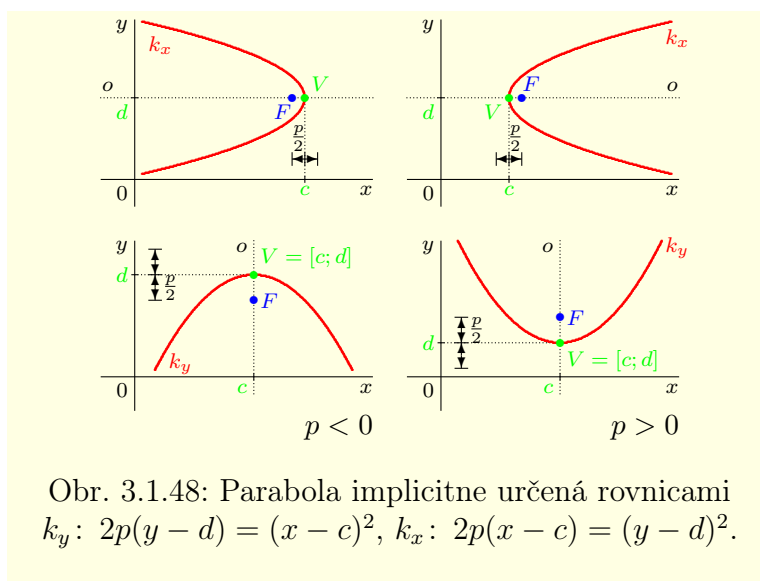
**Parabola** je rovinná krivka definovaná ako množina bodov  $X$  v rovine, ktoré majú od pevne daného bodu  $F$  a pevne danej priamky  $r$  rovnakú vzdialenosť. Bod  $F$  nazývame **ohnisko paraboly** a priamku  $r$  nazývame **riadiaca (direkčná) priamka paraboly**.

Označme  $R_X$  priesečník riadiacej priamky  $r$  s priamkou, ktorá je kolmá na  $r$  a prechádza bodom  $X$  (obr. 3.1.47). Úsečku  $XF$  nazývame (**ohniskový**) **sprievodič bodu  $X$**  a úsečku  $XR_X$  nazývame (**priamkový**) **sprievodič bodu  $X$** . Z definície paraboly vyplýva, že pre sprievodiče bodu  $X$  platí  $|Xr| = |XR_X| = |XF|$ .

Vzdialenosť  $p = |Fr|$ , t. j. vzdialenosť ohniska  $F$  od riadiacej priamky  $r$ , nazývame **poloparameter paraboly**. Vzdialenosť  $2p$  nazývame **parametrom paraboly**. Priamka  $o$ , ktorá prechádza ohniskom  $F$  a je kolmá na riadiacu priamku  $r$ , sa nazýva **os paraboly**. Priesečník  $V$  paraboly s osou  $o$  nazývame **vrchol paraboly**.<sup>21</sup>

Pri analytickom vyjadrení paraboly pripúšťame aj záporný parameter  $p < 0$ . V tomto prípade je táto parabola stredovo súmerná podľa spoločného vrchola  $V$  s parabolou s parametrom  $-p > 0$  (obrázok 3.1.48).

<sup>21</sup>Vrchol  $V$  je bod ležiaci na parabole, ktorý má najmenšiu vzdialenosť od riadiacej priamky  $r$  a od ohniska  $F$ , t. j.  $VF$ ,  $VR_V$  predstavujú najmenšie sprievodiče bodov paraboly.

Obr. 3.1.47: Parabola s ohniskom  $F$ .Obr. 3.1.48: Parabola implicitne určená rovnicami  $k_y: 2p(y - d) = (x - c)^2$ ,  $k_x: 2p(x - c) = (y - d)^2$ .

V karteziánskom systéme súradníc môže byť parabola orientovaná tak, že je jej os rovnobežná so súradnicovou osou  $x$  alebo je rovnobežná so súradnicovou osou  $y$ . Parabola  $k_y$  s vrcholom  $V = [c; d]$ , parametrom  $2p$  a osou  $o$ , ktorá je rovnobežná s osou  $y$  (obr. 3.1.48), je daná implicitne vzťahom

$$k_y: 2p(y - d) = (x - c)^2. \quad (3.16)$$

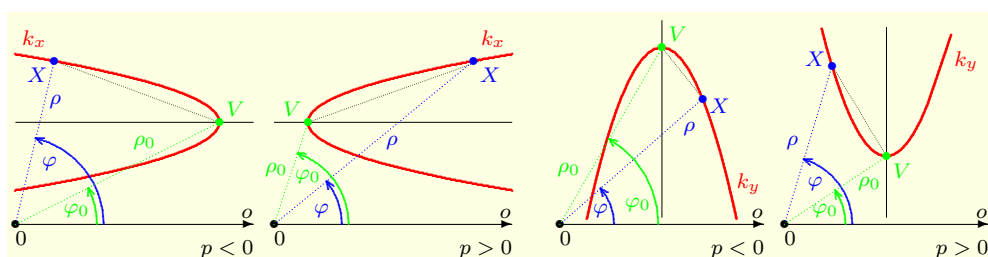
Parabola  $k_x$  s vrcholom  $V = [c; d]$ , parametrom  $2p$  a osou  $o$ , ktorá je rovnobežná so súradnicovou osou  $x$  (obr. 3.1.48), je daná implicitne vzťahom

$$k_x: 2p(x - c) = (y - d)^2. \quad (3.17)$$

Zo vzťahov (3.16) a (3.17) vyplývajú pre  $k_y$ ,  $k_x$  nasledujúce explicitné vyjadrenia<sup>22</sup>

$$k_y: y = d + \frac{(x-c)^2}{2p}, \quad x \in \mathbb{R}, \quad k_x = k_x^+ \cup k_x^-, \quad k_x^\pm: y = d \pm \sqrt{2p(x-c)}, \quad x \in M_x.$$

Aby bola odmocnina definovaná, musí platiť  $2p(x - c) \geq 0$ , t. j.  $px \geq pc$ . Z toho vyplýva  $x \geq c$ , t. j.  $M_x = \langle c; \infty \rangle$  pre  $p > 0$  a  $x \leq c$ , t. j.  $M_x = \langle -\infty; c \rangle$  pre  $p < 0$ .

Obr. 3.1.49: Parabola s vrcholom  $V = [\varphi_0; \rho_0]$ , osou rovnobežnou s polárnou osou (vľavo) a osou kolmou na polárnu os (vpravo).

Ak bude vrchol  $V$  totožný s počiatkom súradnicového systému, t. j. ak bude platiť  $V = [0; 0]$ , potom zo vzťahov (3.16) a (3.17) vyplývajú vyjadrenia

$$k_y: 2py = x^2, \quad k_x: 2px = y^2.$$

<sup>22</sup>Parabola  $k_x$  sa skladá z dvoch funkcií  $k_x^+: y = d + \sqrt{2p(x-c)}$  a  $k_x^-: y = d - \sqrt{2p(x-c)}$ .

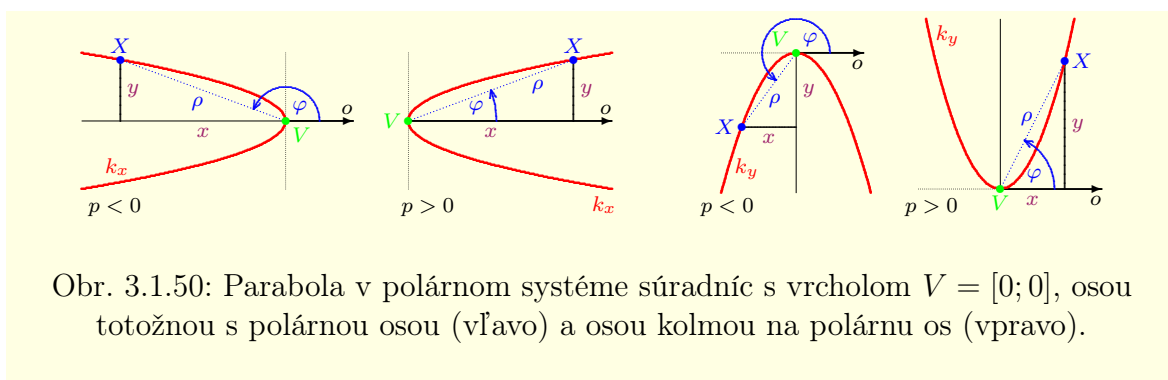


Pri praktickom použití sa môžeme stretnúť s rôznymi vyjadreniami paraboly v polárnom systéme súradníc. Uvažujme parabolu s vrcholom  $V = [\varphi_0; \rho_0]$  a parametrom  $2p$ , ktorej os je rovnobežná s polárnou osou  $o$  (obr. 3.1.49 vľavo). Jej vyjadrenie v karteziánskom systéme má tvar  $k_x: 2p(x-c) = (y-d)^2$ , pričom  $c = \rho_0 \cos \varphi_0$ ,  $d = \rho_0 \sin \varphi_0$ . Pre všetky body  $X = [\varphi; \rho] \in k_x$  platí  $x = \rho \cos \varphi$ ,  $y = \rho \sin \varphi$ . Z toho vyplýva, že parabola s osou rovnobežnou s polárnou osou má v polárnom systéme implicitné vyjadrenie

$$k_x: 2p(\rho \cos \varphi - \rho_0 \cos \varphi_0) = (\rho \sin \varphi - \rho_0 \sin \varphi_0)^2. \quad (3.18)$$

Parabola s vrcholom  $V = [\varphi_0; \rho_0]$ , parametrom  $2p$  a osou kolmou na polárnu os  $o$  (obr. 3.1.49 vpravo) má v karteziánskom systéme tvar  $k_y: 2p(y-d) = (x-c)^2$ , pričom  $c = \rho_0 \cos \varphi_0$ ,  $d = \rho_0 \sin \varphi_0$ . Pre body  $X = [\varphi; \rho] \in k_y$  platí  $x = \rho \cos \varphi$ ,  $y = \rho \sin \varphi$ . Parabola  $k_y$  má potom v polárnom systéme tvar:

$$k_y: 2p(\rho \sin \varphi - \rho_0 \sin \varphi_0) = (\rho \cos \varphi - \rho_0 \cos \varphi_0)^2. \quad (3.19)$$



Obr. 3.1.50: Parabola v polárnom systéme súradníc s vrcholom  $V = [0; 0]$ , osou totožnou s polárnou osou (vľavo) a osou kolmou na polárnu os (vpravo).

Vzťahy (3.18) a (3.19) sa zjednodušia, ak posunieme vrchol alebo ohnisko príslušnej paraboly do počiatku systému. Parabola  $k_x$  s vrcholom  $V = [0; 0]$  má potom os totožnú s polárnou osou  $o$  (obr. 3.1.50) a pre jej vyjadrenie v polárnom systéme súradníc platí:

$$k_x: 2p\rho \cos \varphi = \rho^2 \sin^2 \varphi, \quad \text{kde } \varphi \in \left(-\frac{\pi}{2}; \frac{\pi}{2}\right) \text{ pre } p > 0, \text{ resp. } \varphi \in \left(\frac{\pi}{2}; \frac{3\pi}{2}\right) \text{ pre } p < 0. \quad (3.20)$$

Pre implicitný tvar paraboly  $k_y$  s vrcholom  $V = [0; 0]$  analogicky platí:

$$k_y: 2p\rho \sin \varphi = \rho^2 \cos^2 \varphi, \quad \text{kde } \varphi \in (0; \pi) \text{ pre } p > 0, \text{ resp. } \varphi \in (\pi; 2\pi) \text{ pre } p < 0. \quad (3.21)$$

### Poznámka 3.1.38.K3-poz85

Pre  $\sin \varphi \neq 0$  môžeme implicitný výraz (3.20) upraviť na explicitný tvar

$$\rho(\varphi) = \frac{2p \cos \varphi}{\sin^2 \varphi} = 2p \cos \varphi \frac{\sin^2 \varphi + \cos^2 \varphi}{\sin^2 \varphi} = 2p \cos \varphi [1 + \cotg^2 \varphi].$$

Rovnosť  $\sin \varphi = 0$  nastáva pre  $\varphi = 0$ , resp. pre  $\varphi = \pi$  a zodpovedá vrcholu paraboly. Vo vrchole paraboly definujeme  $\rho(\varphi) = 0$ . Ak to zhrnieme, potom môžeme parabolu  $k_x$  so stredom  $V = [0; 0]$  vyjadriť v polárnom systéme v implicitnom tvare

$$k_x: \rho(\varphi) = 2p \cos \varphi [1 + \cotg^2 \varphi], \quad \begin{cases} \varphi \in \left(-\frac{\pi}{2}; \frac{\pi}{2}\right) - \{0\}, \rho(0) = 0 & \text{pre } p > 0, \\ \varphi \in \left(\frac{\pi}{2}; \frac{3\pi}{2}\right) - \{\pi\}, \rho(\pi) = 0 & \text{pre } p < 0. \end{cases}$$

Analogicky pre parabolu  $k_y$  so stredom  $V = [0; 0]$  vyplýva z výrazu (3.21) vzťah

$$k_y: \rho(\varphi) = 2p \sin \varphi [1 + \tg^2 \varphi], \quad \begin{cases} \varphi \in (0; \pi) - \left\{\frac{\pi}{2}\right\}, \rho\left(\frac{\pi}{2}\right) = 0 & \text{pre } p > 0, \\ \varphi \in (\pi; 2\pi) - \left\{\frac{3\pi}{2}\right\}, \rho\left(\frac{3\pi}{2}\right) = 0 & \text{pre } p < 0. \end{cases}$$

Uvažujme parabolu s parametrom  $2p$  a s ohniskom  $F = [0; 0]$  umiestnenom v počiatku polárneho súradnicového systému, v ktorom je polárna os  $o$  totožná s kladnou časťou karteziánskej súradnicovej

osi  $x$ . Parabola  $k_x$  má os totožnú s polárnou osou  $o$  (obr. 3.1.51 vľavo). Pre  $p > 0$  platí  $V = [\pi; \frac{p}{2}]$ ,  $\varphi \in (0; 2\pi)$  a zo vzťahu (3.18) vyplýva:

$$2p \left( \rho \cos \varphi + \frac{p}{2} \right) = 2p \left( \rho \cos \varphi - \frac{p}{2} \cos \pi \right) = \left( \rho \sin \varphi - \frac{p}{2} \sin \pi \right)^2 = \rho^2 \sin^2 \varphi.$$

Pre  $p < 0$  platí  $V = [0; -\frac{p}{2}]$ ,  $\varphi \in (-\pi; \pi)$  a zo vzťahu (3.18) analogicky vyplýva:

$$2p \left( \rho \cos \varphi + \frac{p}{2} \right) = 2p \left( \rho \cos \varphi + \frac{p}{2} \cos 0 \right) = \left( \rho \sin \varphi + \frac{p}{2} \sin 0 \right)^2 = \rho^2 \sin^2 \varphi.$$

To znamená, že parabola  $k_x$  s ohniskom  $F = [0; 0]$  je implicitne určená vzťahom

$$k_x: 2p\rho \cos \varphi + p^2 = \rho^2 \sin^2 \varphi, \quad \text{kde } \varphi \in (0; 2\pi) \text{ pre } p > 0, \text{ resp. } \varphi \in (-\pi; \pi) \text{ pre } p < 0. \quad (3.22)$$

### Poznámka 3.1.39.K3-poz88

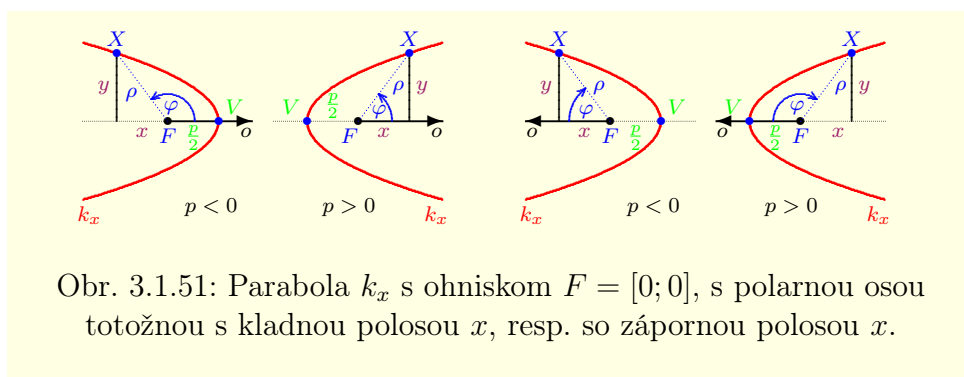
Výraz (3.22) môžeme odvodiť tiež zo vzťahu (3.17). Stačí si uvedomiť, že vrchol paraboly  $k_x$  má karteziánske súradnice  $V = [-\frac{p}{2}; 0]$  a že pre polárne a karteziánske súradnice ľubovoľného bodu  $X \in k_x$  platia vzťahy  $x = \rho \cos \varphi$ ,  $y = \rho \sin \varphi$ .

Ak uvážime rovnosť  $\sin^2 \varphi = 1 - \cos^2 \varphi$ , potom zo vzťahu (3.22) vyplýva:

$$0 = \rho^2 - \rho^2 \cos^2 \varphi - 2p\rho \cos \varphi - p^2 = \rho^2 - (\rho \cos \varphi + p)^2 = (\rho - \rho \cos \varphi - p)(\rho + \rho \cos \varphi + p),$$

t. j.  $\rho = \frac{p}{1 - \cos \varphi}$  alebo  $\rho = -\frac{p}{1 + \cos \varphi}$ . Keďže pre všetky  $\varphi \in R$  platí nerovnosť  $0 \leq 1 \pm \cos \varphi$ , pre explicitné vyjadrenie paraboly  $k_x$  potom platí:

$$\rho(\varphi) = \frac{-p}{1 + \cos \varphi}, \quad \varphi \in (-\pi; \pi) \text{ pre } p < 0, \quad \rho(\varphi) = \frac{p}{1 - \cos \varphi}, \quad \varphi \in (0; 2\pi) \text{ pre } p > 0. \quad (3.23)$$



Obr. 3.1.51: Parabola  $k_x$  s ohniskom  $F = [0; 0]$ , s polárnou osou totožnou s kladnou polosou  $x$ , resp. so zápornou polosou  $x$ .

Ak je polárna os  $o$  orientovaná opačným smerom, t. j. ak je totožná so zápornou časťou karteziánskej súradnicovej osi  $x$  (obr. 3.1.51 vpravo), potom pre polárne a karteziánske<sup>23</sup> súradnice bodov  $X \in k_x$  platí  $-x = \rho \cos \varphi$ ,  $y = \rho \sin \varphi$ , t. j.  $x = -\rho \cos \varphi$ ,  $y = \rho \sin \varphi$ . Vrchol  $V$  má v karteziánskom systéme súradnice<sup>24</sup>  $V = [-\frac{p}{2}; 0]$ . Pre polárne explicitné vyjadrenie danej paraboly potom (vzťah (3.17)) platí:

$$2p \left( -\rho \cos \varphi + \frac{p}{2} \right) = (\rho \sin \varphi - 0)^2, \quad \text{t. j. } -2p\rho \cos \varphi + p^2 = \rho^2 \sin^2 \varphi,$$

pričom  $\varphi \in (0; 2\pi)$  pre  $p < 0$  a  $\varphi \in (-\pi; \pi)$  pre  $p > 0$ .

Posledná rovnica, podobne ako rovnica (3.22), má dve riešenia  $\rho = -\frac{p}{1 - \cos \varphi}$  a  $\rho = \frac{p}{1 + \cos \varphi}$ , ktoré predstavujú explicitný tvar paraboly  $k_x$

$$\rho(\varphi) = \frac{-p}{1 - \cos \varphi}, \quad \varphi \in (0; 2\pi) \text{ pre } p < 0, \quad \rho(\varphi) = \frac{p}{1 + \cos \varphi}, \quad \varphi \in (-\pi; \pi) \text{ pre } p > 0. \quad (3.24)$$

<sup>23</sup>Karteziánske súradnice bodov roviny sa nemenia, mení sa iba ich vzťah s polárnymi súradnicami.

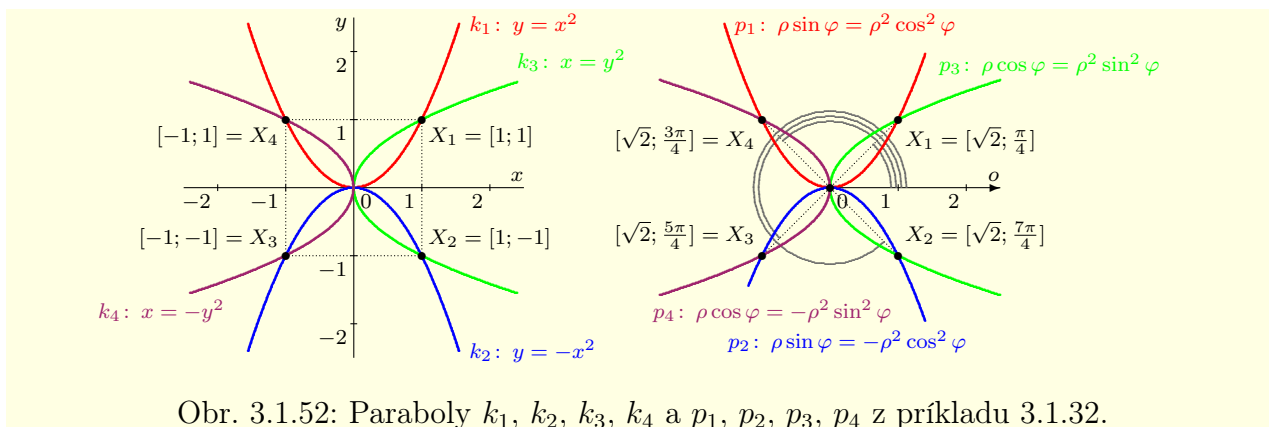
<sup>24</sup>Vrchol  $V$  má polárne súradnice  $V = [0; \frac{p}{2}]$  pre  $p > 0$  a  $V = [\pi; -\frac{p}{2}]$  pre  $p < 0$ .

**Poznámka 3.1.40.K3-poz86**

Vzťahy (3.23), (3.24) vyjadrujú rovnaké paraboly. Stačí si uvedomiť, že paraboly s parametrami  $2p$  a  $-2p$  a ohniskom  $F = [0; 0]$  sú symetrické podľa karteziánskej osi  $y$  (tak ako polárne osi na obrázku 3.1.51). Ak dosadíme do vzťahov (3.23) výraz  $q = -p$ , dostaneme vzťahy (3.24) a naopak. Platí totiž

$$\rho = \frac{-p}{1+\cos\varphi} = \frac{-(-q)}{1+\cos\varphi} = \frac{q}{1+\cos\varphi}, \quad \varphi \in (-\pi; \pi), \quad \text{pre } p = -q < 0, \quad \text{t. j. } q > 0,$$

$$\rho = \frac{p}{1-\cos\varphi} = \frac{-q}{1-\cos\varphi}, \quad \varphi \in (0; 2\pi), \quad \text{pre } p = -q > 0, \quad \text{t. j. } q < 0.$$



Obr. 3.1.52: Paraboly  $k_1, k_2, k_3, k_4$  a  $p_1, p_2, p_3, p_4$  z príkladu 3.1.32.

**Príklad 3.1.32.K3-pr103**

Na obrázku 3.1.52 sú znázornené paraboly zadané v karteziánskom systéme vzťahmi

$$k_1: y = x^2, x \in R, \quad k_2: y = -x^2, x \in R, \quad k_3: x = y^2, y \in R, \quad k_4: x = -y^2, y \in R$$

a paraboly zadané v polárnom systéme implicitnými vzťahmi

$$p_1: \rho \sin \varphi = \rho^2 \cos^2 \varphi, \quad \varphi \in (0; \pi), \quad p_2: \rho \sin \varphi = -\rho^2 \cos^2 \varphi, \quad \varphi \in (\pi; 2\pi),$$

$$p_3: \rho \cos \varphi = \rho^2 \sin^2 \varphi, \quad \varphi \in (-\frac{\pi}{2}; \frac{\pi}{2}), \quad p_4: \rho \cos \varphi = -\rho^2 \sin^2 \varphi, \quad \varphi \in (\frac{\pi}{2}; \frac{3\pi}{2}).$$

Pre uvedené paraboly platí  $k_1 = p_1, k_2 = p_2, k_3 = p_3, k_4 = p_4$ . ■

**Elipsa** je rovinná krivka definovaná ako množina bodov  $X$  v rovine, ktoré majú od dvoch daných, pevných bodov  $F_1$  a  $F_2$  konštantný súčet vzdialeností  $2a$ , pre ktorý platí<sup>25</sup>  $2a > |F_1F_2| \geq 0$ . Body  $F_1$  a  $F_2$  nazývame **ohniská elipsy**. Stred  $S$  úsečky  $F_1F_2$  nazývame **stred elipsy**. Úsečky  $XF_1, XF_2$  nazývame **sprievodiče bodu  $X$** . Vzdialenosť  $e = |SF_1| = |SF_2|$  nazývame (**lineárna**) **excentricita elipsy**. Pomer  $\varepsilon = \frac{e}{a}$  nazývame **číselná excentricita elipsy**. Je zrejme, že platí  $\varepsilon < 1$ .

Priamka  $F_1F_2$  sa nazýva **hlavná os elipsy** a priamka k nej kolmá, ktorá prechádza stredom elipsy  $S$  sa nazýva **vedľajšia os elipsy** (obr. 3.1.53). Priesečníky  $A, B$  elipsy s hlavnou osou nazývame **hlavné vrcholy elipsy** a priesečníky  $C, D$  s vedľajšou osou nazývame **vedľajšie vrcholy elipsy**. Polpriamky  $SA, SB$  nazývame **hlavné polosy elipsy** a polpriamky  $SC, SD$  nazývame **vedľajšie polosy elipsy**.

Pre hlavnú os platí  $|AB| = 2a, |SA| = |SB| = a$ . Ak označíme  $|SC| = |SD| = b$ , t. j.  $|CD| = 2b$ , potom z Pytagorovej vety v trojuholníku  $DSF_2$  vyplýva:

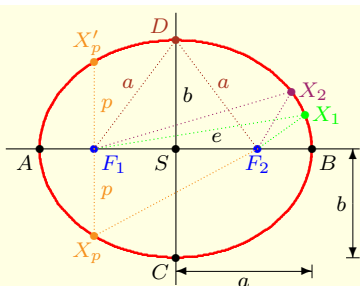
$$a^2 = b^2 + e^2, \quad b = \sqrt{a^2 - e^2}, \quad e = \sqrt{a^2 - b^2}, \quad \varepsilon = \frac{e}{a} = \frac{\sqrt{a^2 - b^2}}{a}.$$

<sup>25</sup>Prípád  $2a = |F_1F_2|$  predstavuje úsečku  $F_1F_2$ .

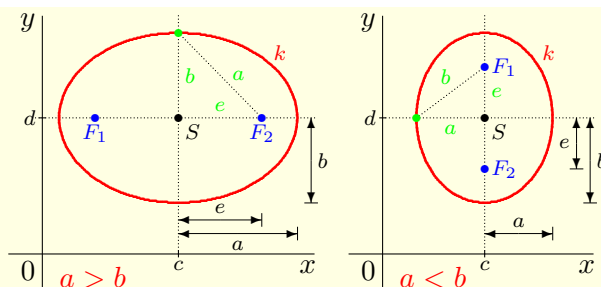
Dĺžku tetivy, ktorá je kolmá na hlavnú os a prechádza ohniskom ( $X_p X'_p$  na obr. 3.1.53), nazývame **parameter elipsy** a značíme  $2p$ . Z vlastností elipsy vyplýva  $p + |X_p F_2| = 2a$ , t. j.  $|X_p F_2| = 2a - p$  a z Pytagorovej vety v trojuholníku  $F_1 X_p F_2$  vyplýva:

$$p^2 = |X_p F_2|^2 - (2e)^2 = (2a - p)^2 - 4e^2 = 4a^2 - 4ap + p^2 - 4(a^2 - b^2) = 4b^2 - 4ap + p^2.$$

Z toho vyplýva rovnosť  $0 = 4b^2 - 4ap$ , t. j. pre parameter elipsy platí  $2p = \frac{2b^2}{a}$ .



Obr. 3.1.53: Elipsa s hlavnou polosou  $a$  a vedľajšou polosou  $b$ .



Obr. 3.1.54: Elipsa implicitne určená rovnicou  $k: b^2(x - c)^2 + a^2(y - d)^2 = a^2b^2$ .

### Poznámka 3.1.41.K3-poz83

Je zrejmé, že pre hlavnú a vedľajšiu polos v elipse platí  $a \geq b$ . Pre  $a = b$  platí  $e = 0$ , t. j.  $|F_1 F_2| = 0$ . V tomto prípade dostávame kružnicu so stredom v bode  $F_1 = F_2 = S$  a polomerom  $a = b$ . Takže kružnica je špeciálnym prípadom elipsy.

V karteziánskom systéme súradníc (obr. 3.1.54) je elipsa  $k$  so stredom  $S = [c; d]$  a polosami  $a > 0$ ,  $b > 0$ , ktoré sú rovnobežné so súradnicovými osami,<sup>26</sup> implicitne definovaná ako množina bodov  $X = [x; y] \in \mathbb{R}^2$ , pre ktoré platí:

$$\frac{(x-c)^2}{a^2} + \frac{(y-d)^2}{b^2} = 1, \quad \text{t. j. } b^2(x-c)^2 + a^2(y-d)^2 = a^2b^2. \quad (3.25)$$

Z predchádzajúceho vzťahu vyplývajú nasledujúce rovnosti

$$\frac{(y-d)^2}{b^2} = 1 - \frac{(x-c)^2}{a^2} = \frac{a^2 - (x-c)^2}{a^2}, \quad \text{t. j. } y - d = \pm \frac{b}{a} \sqrt{a^2 - (x-c)^2}.$$

Aby bol posledný výraz definovaný, musí platiť  $0 \leq a^2 - (x-c)^2 = (a-x+c)(a+x-c)$ , t. j.  $x \in \langle c-a; c+a \rangle$ . To znamená, že pre explicitné vyjadrenie elipsy  $k$  platí:

$$k = k^+ \cup k^-, \quad k^\pm: y = d \pm \frac{b}{a} \sqrt{a^2 - (x-c)^2}, \quad x \in \langle c-a; c+a \rangle.$$

Parametrické vyjadrenie elipsy  $k$  s polosami  $a > 0$  (rovnobežnou s osou  $x$ ),  $b > 0$  (rovnobežnou s osou  $y$ ) a stredom  $S = [c; d]$  je podobné ako pri kružnici a má tvar

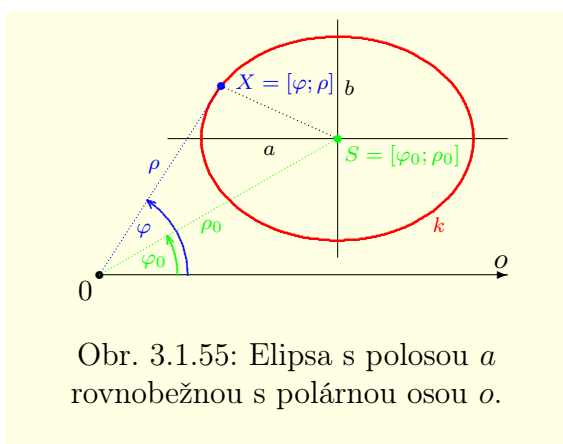
$$x = c + a \cos t, \quad y = d + b \sin t, \quad t \in \langle 0; 2\pi \rangle.$$

Ak umiestnime počiatok súradnicového systému do stredu  $S$ , t. j. ak platí  $S = [0; 0]$ , potom pre implicitné a parametrické vyjadrenie elipsy  $k$  s polosami  $a > 0$ ,  $b > 0$  (rovnobežnými so súradnicovými osami  $x$  a  $y$ ) platí:

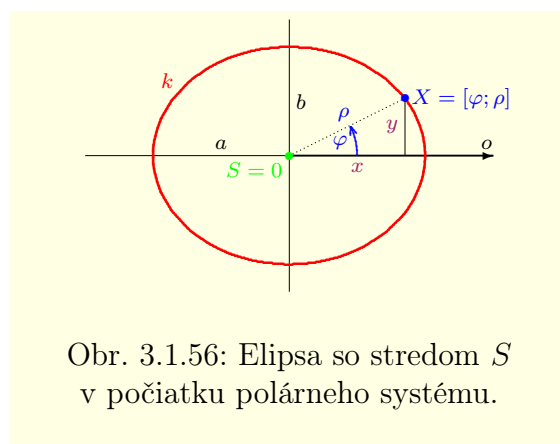
$$\frac{x^2}{a^2} + \frac{y^2}{b^2} = 1, \quad \text{resp. } x = a \cos t, \quad y = b \sin t, \quad t \in \langle 0; 2\pi \rangle.$$

V polárnom systéme súradníc pre stred  $S = [\varphi_0; \rho_0]$  elipsy  $k$  s polosami  $a > 0$ ,  $b > 0$  platia vzťahy  $c = \rho_0 \cos \varphi_0$ ,  $d = \rho_0 \sin \varphi_0$ . Elipsa je orientovaná tak, že polos  $a$  je rovnobežná s polárnou osou  $o$ . Ak

<sup>26</sup>Os  $2a$  je rovnobežná so súradnicovou osou  $x$  a os  $2b$  je rovnobežná s  $y$ . Hlavnou osou je väčšia z nich.



Obr. 3.1.55: Elipsa s polosou  $a$  rovnobežnou s polárnou osou  $o$ .



Obr. 3.1.56: Elipsa so stredom  $S$  v počiatku polárneho systému.

dosadíme  $x = \rho \cos \varphi$ ,  $y = \rho \sin \varphi$  do vzťahu (3.25), potom pre implicitné vyjadrenie tejto elipsy  $k$  v polárnom systéme platí:

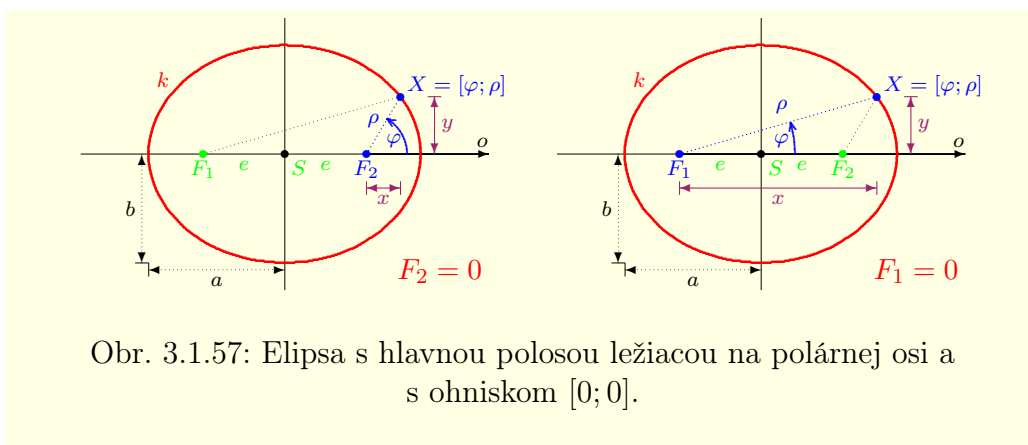
$$k: b^2(\rho \cos \varphi - \rho_0 \cos \varphi_0)^2 + a^2(\rho \sin \varphi - \rho_0 \sin \varphi_0)^2 = a^2b^2. \quad (3.26)$$

Situácia sa podstatne zjednoduší, ak umiestnime stred, resp. ohnisko elipsy do počiatku polárneho súradnicového systému a s polárnou osou ztotožníme jednu z jej polosí. Pre  $S = [\varphi_0; \rho_0] = [0; 0]$ , potom (obr. 3.1.56) z predchádzajúceho výrazu vyplýva:

$$a^2b^2 = b^2\rho^2 \cos^2 \varphi + a^2\rho^2 \sin^2 \varphi = \rho^2 [b^2 \cos^2 \varphi + a^2 \sin^2 \varphi].$$

Ak má elipsa  $k$  hlavnú polos  $a$  (t. j.  $a \geq b$ ), potom platí  $e^2 = a^2 - b^2$ . Zo vzťahu  $\sin^2 \varphi = 1 - \cos^2 \varphi$  pre implicitný tvar elipsy  $k$  so stredom  $S = [0; 0]$  potom vyplýva:

$$k: \rho^2 = \frac{a^2b^2}{a^2 - (a^2 - b^2) \cos^2 \varphi} = \frac{b^2}{1 - e^2 \cos^2 \varphi}, \quad \varphi \in \langle 0; 2\pi \rangle. \quad (3.27)$$



Obr. 3.1.57: Elipsa s hlavnou polosou ležiacou na polárnej osi a s ohniskom  $[0; 0]$ .

Nech  $k$  je elipsa so stredom  $S$ , hlavnou polosou  $a$  a vedľajšou polosou  $b$ . Umiestnime počiatok polárneho systému do jej ohniska  $F_2$  tak, že bude polárna os  $o$  ležať na hlavnej polosí  $a$  (obr. 3.1.57 vľavo). Stred  $S$  elipsy  $k$  má polárne súradnice  $S = [\pi; e]$  a karteziánske súradnice stredu elipsy sú  $S = [e \cos \pi; e \sin \pi] = [-e; 0]$ . Zo vzťahu (3.26) potom vyplýva:

$$a^2b^2 = b^2(\rho \cos \varphi + e)^2 + a^2(\rho \sin \varphi)^2 = b^2\rho^2 \cos^2 \varphi + 2b^2\rho e \cos \varphi + b^2e^2 + a^2\rho^2 \sin^2 \varphi.$$

Z rovností  $e^2 = a^2 - b^2$ ,  $a^2 \sin^2 \varphi = a^2 - a^2 \cos^2 \varphi$  potom vyplýva:

$$a^2b^2 = \rho^2 [b^2 \cos^2 \varphi + a^2 - a^2 \cos^2 \varphi] + 2b^2\rho e \cos \varphi + b^2a^2 - b^2b^2,$$

$$0 = \rho^2 [a^2 - e^2 \cos^2 \varphi] + 2b^2 \rho e \cos \varphi - b^4.$$

Posledná rovnica má dve riešenia  $\rho_1 = \frac{b^2}{e \cos \varphi + a}$ ,  $\rho_2 = \frac{b^2}{e \cos \varphi - a}$ . Zo vzťahov

$$e \cos \varphi - a \leq e - a = \sqrt{a^2 - b^2} - a < 0, \quad e \cos \varphi + a \geq -e + a = -\sqrt{a^2 - b^2} + a > 0$$

vyplýva, že daným podmienkam vyhovuje iba kladné riešenie  $\rho_1$ . Pre explicitný tvar elipsy  $k$  so stredom v ohnisku  $F_2$  v polárnom systéme potom platí:

$$k: \rho(\varphi) = \frac{b^2}{a + e \cos \varphi} = \frac{\frac{b^2}{a}}{1 + \frac{e \cos \varphi}{a}} = \frac{p}{1 + \varepsilon \cos \varphi}, \quad \varphi \in \langle 0; 2\pi \rangle. \quad (3.28)$$

Ak umiestnime počiatok polárneho systému namiesto  $F_2$  do ohniska  $F_1$  a polárnu os do polpriamky  $F_1F_2$  (obr. 3.1.57 vpravo), potom bude mať stred elipsy  $k$  v polárnom systéme súradnice  $[0; e]$  a v karteziánskom systéme súradnice  $S = [e; 0]$ . Analogicky potom platí:

$$a^2 b^2 = b^2 (\rho \cos \varphi - e)^2 + a^2 (\rho \sin \varphi)^2 = b^2 \rho^2 \cos^2 \varphi - 2b^2 \rho e \cos \varphi + b^2 e^2 + a^2 \rho^2 \sin^2 \varphi.$$

Posledný vzťah predstavuje kvadratickú rovnicu, ktorá má dve riešenia. Platí

$$0 = \rho^2 [a^2 - e^2 \cos^2 \varphi] - 2b^2 \rho e \cos \varphi - b^4, \quad \rho_1 = \frac{-b^2}{e \cos \varphi - a}, \quad \rho_2 = \frac{-b^2}{e \cos \varphi + a}.$$

Podmienkam vyhovuje iba  $\rho_1 > 0$ . Elipsa  $k$  so stredom  $F_1$  má potom explicitný tvar

$$k: \rho(\varphi) = \frac{b^2}{a - e \cos \varphi} = \frac{\frac{b^2}{a}}{1 - \frac{e \cos \varphi}{a}} = \frac{p}{1 - \varepsilon \cos \varphi}, \quad \varphi \in \langle 0; 2\pi \rangle. \quad (3.29)$$

**Hyperbola** je rovinná krivka definovaná ako množina bodov  $X$  v rovine, ktoré majú od dvoch daných, pevných a rôznych bodov  $F_1$  a  $F_2$  konštantný rozdiel vzdialeností  $2a$ , pre ktorý platí<sup>27</sup>  $0 < 2a < |F_1F_2|$ . Body  $F_1$  a  $F_2$  nazývame **ohniská hyperboly**. Stred  $S$  úsečky  $F_1F_2$  nazývame **stred hyperboly**. Úsečky  $XF_1$ ,  $XF_2$  nazývame **sprievodiče bodu  $X$** . Vzdialenosť  $e = |SF_1| = |SF_2|$  nazývame **(lineárna) excentricita hyperboly**. Pomer  $\varepsilon = \frac{e}{a}$  nazývame **číselná excentricita hyperboly**. Je zrejmé, že platí  $\varepsilon > 1$ .

Priamka  $F_1F_2$  sa nazýva **reálna os hyperboly** a priamka k nej kolmá, ktorá prechádza stredom hyperboly  $S$  sa nazýva **imaginárna os hyperboly** (obr. 3.1.58). Priesečníky  $A$ ,  $B$  hyperboly s hlavnou osou nazývame **hlavné vrcholy hyperboly**. Body  $C$ ,  $D$  ležiace na imaginárnej osi, ktorých vzdialenosť od hlavných vrcholov je rovná excentricite hyperboly  $e$ , nazývame **vedľajšie (imaginárne) vrcholy hyperboly**. Polpriamky  $SA$ ,  $SB$  nazývame **reálne polosy hyperboly** a polpriamky  $SC$ ,  $SD$  nazývame **vedľajšie (imaginárne) polosy hyperboly**. Ak pre hlavnú a imaginárnu os platí rovnosť  $a = b$ , potom hyperbolu nazývame **rovnoosá hyperbola**.

Pre reálnu os platí  $|AB| = 2a$ ,  $|SA| = |SB| = a$ . Ak označíme  $|SC| = |SD| = b$ , t. j.  $|CD| = 2b$ , potom z Pytagorovej vety v trojuholníku  $DSF_2$  vyplýva:

$$a^2 + b^2 = e^2, \quad b = \sqrt{e^2 - a^2}, \quad e = \sqrt{a^2 + b^2}, \quad \varepsilon = \frac{e}{a} = \frac{\sqrt{a^2 + b^2}}{a}.$$

Dĺžku tetivy, ktorá je kolmá na reálnu os a prechádza ohniskom hyperboly ( $X_p X'_p$  na obr. 3.1.58), nazývame **parameter hyperboly** a označujeme symbolom  $2p$ . Z vlastností hyperboly vyplýva rovnosť  $|X_p F_2| - p = 2a$ , t. j.  $|X_p F_2| = 2a + p$ . Z Pytagorovej vety v pravouhlom trojuholníku  $F_1 X_p F_2$  potom vyplývajú vzťahy

$$p^2 = |X_p F_2|^2 - (2e)^2 = (2a + p)^2 - 4e^2 = 4a^2 + 4ap + p^2 - 4(a^2 + b^2) = 4ap - 4b^2 + p^2,$$

t. j.  $0 = 4ap - 4b^2$ . To znamená, že pre parameter hyperboly platí  $2p = \frac{2b^2}{a}$ .

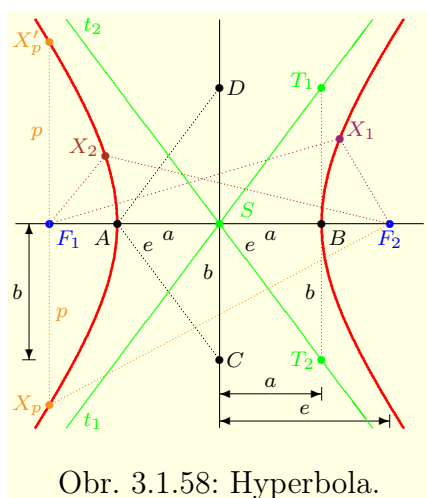
V karteziánskom súradnicovom systéme (obr. 3.1.59) sú hyperboly  $k_x$ ,  $k_y$  so stredom  $S = [c; d]$  a s osami  $2a > 0$ ,  $2b > 0$ , ktoré sú rovnobežné so súradnicovými osami,<sup>28</sup> implicitne definované ako množiny bodov  $X = [x; y] \in R^2$ , pre ktoré platí:

$$k_x: \frac{(x-c)^2}{a^2} - \frac{(y-d)^2}{b^2} = 1, \quad \text{t. j. } b^2(x-c)^2 - a^2(y-d)^2 = a^2 b^2, \quad (3.30)$$

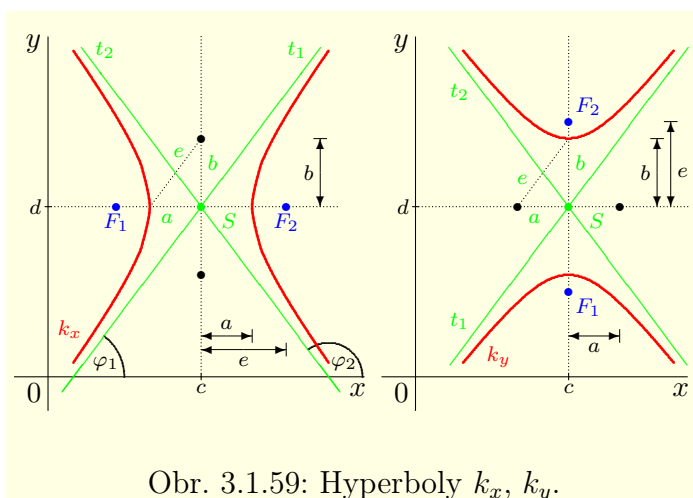
<sup>27</sup>Prípád  $2a = |F_1F_2|$  predstavuje dve polpriamky so začiatočnými bodmi  $F_1$  a  $F_2$ , ktoré ležia na priamke  $F_1F_2$  a nemajú spoločné body. T. j. predstavuje všetky body priamky  $F_1F_2$  okrem vnútorných bodov úsečky  $F_1F_2$ . Prípád  $2a = 0$  predstavuje os úsečky  $F_1F_2$ , t. j. priamku.

<sup>28</sup>Os  $2a$  je rovnobežná so súradnicovou osou  $x$  a os  $2b$  je rovnobežná s osou  $y$ .





Obr. 3.1.58: Hyperbola.

Obr. 3.1.59: Hyperboly  $k_x, k_y$ .

$$k_y: \frac{(x-c)^2}{a^2} - \frac{(y-d)^2}{b^2} = -1, \quad \text{t. j. } b^2(x-c)^2 - a^2(y-d)^2 = -a^2b^2. \quad (3.31)$$

Hyperbola  $k_x$  je orientovaná tak, že  $2a$  (rovnobežná s osou  $x$ ) je jej reálna os a  $2b$  je imaginárna os. Naopak  $k_y$  má reálnu os  $2b$  (rovnobežnú s osou  $y$ ) a imaginárnu os  $2a$ . Pre lineárnu excentricitu platí  $e = \sqrt{a^2 + b^2}$ , ale pre číselné excentricity platia vzťahy

$$k_x: \varepsilon = \frac{e}{a} = \frac{\sqrt{a^2+b^2}}{a}, \quad k_y: \varepsilon = \frac{e}{b} = \frac{\sqrt{a^2+b^2}}{b}.$$

Hyperbola  $k_y$  sa v literatúre častejšie vyjadruje v tvare

$$k_y: \frac{(y-d)^2}{b^2} - \frac{(x-c)^2}{a^2} = 1, \quad \text{t. j. } a^2(y-d)^2 - b^2(x-c)^2 = a^2b^2.$$

Pre rovnoosé hyperboly  $k_x$  a  $k_y$  z predchádzajúcich vzťahov vyplýva vyjadrenie:

$$k_x: (x-c)^2 - (y-d)^2 = a^2, \quad k_y: (x-c)^2 - (y-d)^2 = -a^2.$$

Zo vzťahov (3.30) a (3.31) (analogicky ako zo vzťahu (3.25) pri explicitnom tvare elipsy) vyplývajú nasledujúce explicitné vyjadrenia pre hyperboly  $k_x$  a  $k_y$

$$k_x = k_x^+ \cup k_x^-, \quad k_x^\pm: y = d \pm \frac{b}{a} \sqrt{(x-c)^2 - a^2}, \quad x \in \mathbb{R} - (c-a; c+a),$$

$$k_y = k_y^+ \cup k_y^-, \quad k_y^\pm: y = d \pm \frac{b}{a} \sqrt{(x-c)^2 + a^2}, \quad x \in (-\infty; \infty).$$

Priamky (obr. 3.1.59), ktoré sa dotýkajú hyperboly  $k_x$ , resp.  $k_y$  v nekonečne vzdialených bodoch<sup>29</sup>  $\pm\infty$  sa nazývajú **asymptoty hyperboly**  $k_x$  resp.  $k_y$ . Asymptoty hyperboly  $k_x$  a taktiež asymptoty hyperboly  $k_y$  prechádzajú stredom  $S = [c; d]$  danej hyperboly a v karteziánskom systéme majú rovnice

$$t_{1,2}: y - d = \pm \frac{b}{a}(x - c), \quad \text{t. j. } t_1: y = d + \frac{b}{a}(x - c), \quad t_2: y = d - \frac{b}{a}(x - c).$$

Pomery  $\pm \frac{b}{a}$  predstavujú tangensy uhlov  $\varphi_{1,2}$  (smernice), ktoré zvierajú asymptoty  $t_{1,2}$  so súradnicovou osou  $x$  (obr. 3.1.59). To znamená, že platí<sup>30</sup>

$$\operatorname{tg} \varphi_{1,2} = \pm \frac{b}{a}, \quad \text{t. j. } \varphi_1 = \operatorname{arctg} \frac{b}{a}, \quad \varphi_2 = \operatorname{arctg} \frac{-b}{a} + \pi = \pi - \operatorname{arctg} \frac{b}{a} = \pi - \varphi_1.$$

Ak uvážime definície goniometrických funkcií a vlastnosti  $k_x, k_y$ , potom pre  $\varphi_1$  platí:

$$k_x: \varphi_1 = \arccos \frac{a}{e} = \arccos \frac{1}{\varepsilon}, \quad k_y: \varphi_1 = \arcsin \frac{b}{e} = \arcsin \frac{1}{\varepsilon}. \quad (3.32)$$

### Príklad 3.1.33.K3-pr105

Na obrázku 3.1.60 sú znázornené rovnoosé hyperboly  $k_x: x^2 - y^2 = 9$ ,  $k_y: y^2 - x^2 = 9$  so stredom v bode  $S = [0; 0]$  a polosami  $a = b = 3$ . Pre lineárnu a číselnú excentricitu týchto hyperbol platia vzťahy  $e = \sqrt{a^2 + b^2} = 3\sqrt{2}$ ,  $\varepsilon = \sqrt{2}$ . Hyperbola  $k_x$  má ohniská  $F_{1,2} = [\pm 3\sqrt{2}; 0]$  a hyperbola  $k_y$  má

<sup>29</sup>To znamená, že sa priamky  $t_1$ , resp.  $t_2$  približujú k danej hyperbole a nikdy sa jej nedotknú.

<sup>30</sup>Uhol  $\varphi_2$  nie je z intervalu  $(-\frac{\pi}{2}; 0)$  ale z intervalu  $(\frac{\pi}{2}; \pi)$ . Preto je tam posunutie o uhol  $\pi$ .



ohniská  $F_{1,2} = [0; \pm 3\sqrt{2}]$ . Obe tieto hyperboly majú rovnaké asymptoty určené rovnicami  $t_1: y = x$ ,  $t_2: y = -x$ . ■

Hyperbolu, rovnako ako každú krivku, môžeme v parametrickom tvare vyjadriť mnohými spôsobmi. Najjednoduchšie je vyjadrenie pomocou hyperbolických funkcií. Hyperbola  $k_x$  s hlavnou polosou  $a > 0$  (rovnobežnou s osou  $x$ ), s imaginárnou polosou  $b > 0$  (rovnobežnou s osou  $y$ ) a stredom  $S = [c; d]$  má v parametrickom vyjadrení tvar

$$k_x: x = c \pm a \cosh t, \quad y = d + b \sinh t, \quad t \in \mathbb{R}.$$

Vyjadrenie pomocou goniometrických funkcií je trochu zložitejšie a má tvar

$$k_x: x = c + \frac{a}{\sin t}, \quad y = d + \frac{b \cos t}{\sin t}, \quad t \in (0; \pi) \cup (\pi; 2\pi),$$

$$\text{resp. } k_x: x = c + \frac{a}{\cos t}, \quad y = d + \frac{b \sin t}{\cos t}, \quad t \in \left(-\frac{\pi}{2}; \frac{\pi}{2}\right) \cup \left(\frac{\pi}{2}; \frac{3\pi}{2}\right).$$

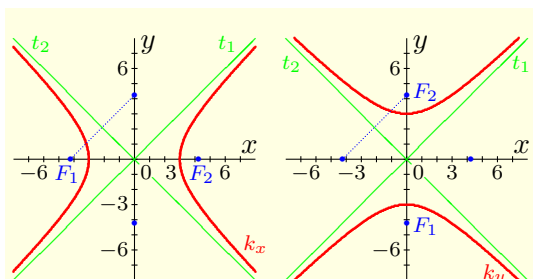
### Poznámka 3.1.42.K3-poz87

Ak v predchádzajúcich parametrických vyjadreniach hyperboly  $k_x$  navzájom vymeníme parametrizujúce funkcie pre súradnice  $x$  a  $y$ , dostaneme parametrické vyjadrenie pre hyperbolu  $k_y$ , t. j. pre hyperbolu so stredom  $S = [c; d]$ , s imaginárnou polosou  $a > 0$  (rovnobežnou s osou  $x$ ) a hlavnou polosou  $b > 0$  (rovnobežnou s osou  $y$ ). Potom platí:

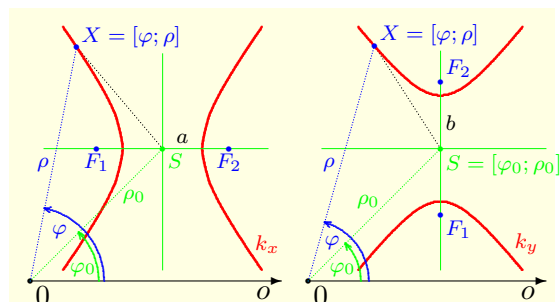
$$k_y: x = c + a \sinh t, \quad y = d \pm b \cosh t, \quad t \in \mathbb{R},$$

$$\text{resp. } k_y: x = c + \frac{a \cos t}{\sin t}, \quad y = d + \frac{b}{\sin t}, \quad t \in (0; \pi) \cup (\pi; 2\pi),$$

$$\text{resp. } k_y: x = c + \frac{a \sin t}{\cos t}, \quad y = d + \frac{b}{\cos t}, \quad t \in \left(-\frac{\pi}{2}; \frac{\pi}{2}\right) \cup \left(\frac{\pi}{2}; \frac{3\pi}{2}\right).$$



Obr. 3.1.60: Rovnoosé hyperboly z príkladu 3.1.33.



Obr. 3.1.61: Hyperbola s polosami rovnobežnými s polárnou osou.

Predpokladajme, že sú hyperboly  $k_x, k_y$  s polosami  $a > 0, b > 0$  umiestnené v polárnom súradnicovom systéme tak, že ich polos  $a$  je rovnobežná s polárnou osou  $o$  (obr. 3.1.61). To znamená, že hyperbola  $k_x$  má reálnu polos rovnobežnú s polárnou osou a hyperbola  $k_y$  má reálnu polos kolmú na polárnu os. Pre ich stred  $S = [\varphi_0; \rho_0]$  platí  $c = \rho_0 \cos \varphi_0, d = \rho_0 \sin \varphi_0$ . Ak dosadíme  $x = \rho \cos \varphi, y = \rho \sin \varphi$  do vzťahov (3.30) a (3.31), dostaneme pre hyperboly  $k_x, k_y$  nasledujúce implicitné vyjadrenia

$$k_{x,y}: b^2(\rho \cos \varphi - \rho_0 \cos \varphi_0)^2 - a^2(\rho \sin \varphi - \rho_0 \sin \varphi_0)^2 = \pm a^2 b^2. \quad (3.33)$$

Ak umiestnime stred hyperboly  $S$  do počiatku polárneho súradnicového systému (obr. 3.1.62), t. j. ak  $S = [\varphi_0; \rho_0] = [0; 0]$ , potom pre dané vyjadrenia platí:

$$k_{x,y}: b^2(\rho \cos \varphi - 0)^2 - a^2(\rho \sin \varphi - 0)^2 = \rho^2 b^2 \cos^2 \varphi - \rho^2 a^2 \sin^2 \varphi = \pm a^2 b^2.$$

To znamená, že hyperbola so stredom  $S = [0; 0]$  má implicitné vyjadrenie

$$k_x: \rho^2 [b^2 \cos^2 \varphi - a^2 \sin^2 \varphi] = a^2 b^2, \quad k_y: \rho^2 [b^2 \cos^2 \varphi - a^2 \sin^2 \varphi] = -a^2 b^2.$$

Hyperbola  $k_x$  má reálnu polos  $a$  totožnú s polárnou osou  $o$  a imaginárnu polos  $b$ . Pre jej číselnú excentricitu platí  $\varepsilon = \frac{c}{a}$ . Implicitné vyjadrenie má potom tvar

$$k_x: \rho^2 = \frac{a^2 b^2}{b^2 \cos^2 \varphi - a^2 (1 - \cos^2 \varphi)} = \frac{a^2 b^2}{-a^2 + (a^2 + b^2) \cos^2 \varphi} = \frac{b^2}{-1 + \varepsilon^2 \cos^2 \varphi}. \quad (3.34)$$

Aby mala rovnica zmysel, musí platiť  $-1 + \varepsilon^2 \cos^2 \varphi > 0$ . Z toho vyplýva:

$$\cos^2 \varphi > \frac{1}{\varepsilon^2}, \quad \text{t. j. } \cos \varphi \in \left\langle -1; -\frac{1}{\varepsilon} \right\rangle \cup \left( \frac{1}{\varepsilon}; 1 \right).$$

Ak označíme  $\varphi_1$  uhol asymptoty  $t_1$  s osou  $o$ , potom zo vzťahu (3.32) vyplýva<sup>31</sup>

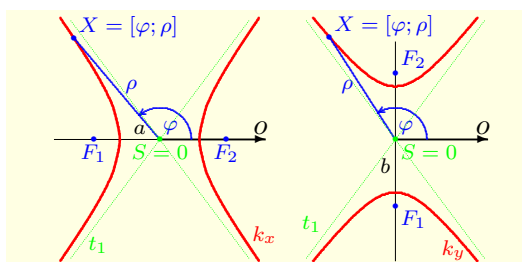
$$\varphi \in (-\varphi_1; \varphi_1) \cup (\pi - \varphi_1; \pi + \varphi_1), \quad \text{kde } \varphi_1 = \arccos \frac{1}{\varepsilon} = \arccos \frac{a}{\sqrt{a^2 + b^2}}.$$

Hyperbola  $k_y$  má reálnu polos  $b$  kolmú na polárnu os  $o$  a imaginárnu polos má  $a$  (obr. 3.1.62). Pre číselnú excentricitu platí  $\varepsilon = \frac{c}{b}$ . Implicitné vyjadrenie má tvar

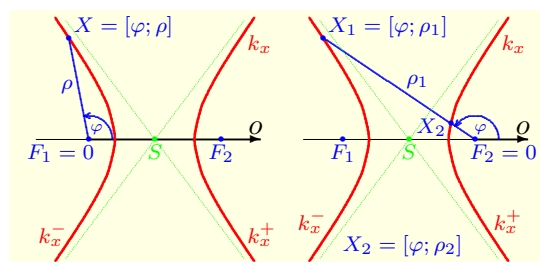
$$k_y: \rho^2 = \frac{-a^2 b^2}{b^2 (1 - \sin^2 \varphi) - a^2 \sin^2 \varphi} = \frac{-a^2 b^2}{b^2 - (a^2 + b^2) \sin^2 \varphi} = \frac{a^2}{-1 + \varepsilon^2 \sin^2 \varphi}. \quad (3.35)$$

Pre uhol  $\varphi$  musí platiť  $-1 + \varepsilon^2 \sin^2 \varphi > 0$ . Ak označíme  $\varphi_1$  uhol asymptoty  $t_1$  s osou  $o$ , potom (analogicky ako pri hyperbole  $k_x$ ) zo vzťahu (3.32) vyplýva<sup>32</sup>

$$\varphi \in (\varphi_1; \pi - \varphi_1) \cup (\pi + \varphi_1; 2\pi - \varphi_1), \quad \text{kde } \varphi_1 = \arcsin \frac{1}{\varepsilon} = \arcsin \frac{b}{\sqrt{a^2 + b^2}}.$$



Obr. 3.1.62: Hyperbola so stredom v počiatku polárneho systému.



Obr. 3.1.63: Hyperbola s ohniskom v počiatku polárneho systému.

Umiestnime hyperbolu do súradnicového systému tak, aby v počiatku bolo jedno z jej ohnísk  $F_{1,2}$  a aby polárna os  $o$  ležala na reálnej osi (obr. 3.1.63).

Umiestnime počiatok polárneho systému do ohnísk  $F_2$  hyperboly  $k_x$  (obr. 3.1.63 vpravo). Stred  $S$  hyperboly  $k_x$  má polárne súradnice  $S = [\pi; e]$  a Karteziánske súradnice  $S = [e \cos \pi; e \sin \pi] = [-e; 0]$ . Zo vzťahu (3.33) vyplýva:

$$\begin{aligned} a^2 b^2 &= b^2 (\rho \cos \varphi - e \cos \pi)^2 - a^2 (\rho \sin \varphi - e \sin \pi)^2 = b^2 (\rho \cos \varphi + e)^2 - a^2 (\rho \sin \varphi)^2 = \\ &= b^2 \rho^2 \cos^2 \varphi + 2b^2 \rho e \cos \varphi + b^2 e^2 - a^2 \rho^2 \sin^2 \varphi = \\ &= \rho^2 [b^2 \cos^2 \varphi - a^2 (1 - \cos^2 \varphi)] + 2b^2 \rho e \cos \varphi + b^2 (a^2 + b^2). \end{aligned}$$

Dostali sme rovnicu  $0 = \rho^2 [-a^2 + e^2 \cos^2 \varphi] + 2b^2 \rho e \cos \varphi + b^4$ , ktorá má dve riešenia

$$\rho_{1,2} = \frac{-b^2}{e \cos \varphi \pm a} = \frac{-\frac{b^2}{a}}{\frac{e \cos \varphi}{a} \pm 1} = \frac{-p}{\varepsilon \cos \varphi \pm 1} = \frac{p}{-\varepsilon \cos \varphi \mp 1}.$$

<sup>31</sup>  $\varphi \in (-\varphi_1; \varphi_1)$  zodpovedá pravej časti a  $\varphi \in (\pi - \varphi_1; \pi + \varphi_1)$  zodpovedá ľavej časti hyperboly  $k_x$ .

<sup>32</sup>  $\varphi \in (\varphi_1; \pi - \varphi_1)$  zodpovedá hornej časti a  $\varphi \in (\pi + \varphi_1; 2\pi - \varphi_1)$  zodpovedá dolnej časti  $k_y$ .

Pre uhol  $\varphi$  musí platiť  $-\varepsilon \cos \varphi + 1 > 0$ , resp.  $-\varepsilon \cos \varphi - 1 > 0$ . Ak označíme  $\varphi_1$  uhol asymptoty  $t_1$  s osou  $o$  a použijeme vzťah (3.32), potom pre  $k_x^+$ :  $\rho = \frac{p}{1-\varepsilon \cos \varphi}$  platí:

$$1 > \varepsilon \cos \varphi \iff \frac{1}{\varepsilon} > \cos \varphi, \quad \text{t. j. } \varphi \in (\varphi_1; 2\pi - \varphi_1), \quad \varphi_1 = \arccos \frac{1}{\varepsilon}.$$

Vzťah  $k_x^+$  predstavuje pravú časť hyperboly  $k_x$  (obr. 3.1.63 vpravo). Pre ľavú časť tejto hyperboly  $k_x^-$ :  $\rho = \frac{p}{-1-\varepsilon \cos \varphi}$  platí analogicky:

$$-1 > \varepsilon \cos \varphi \iff \frac{-1}{\varepsilon} > \cos \varphi, \quad \text{t. j. } \varphi \in (\pi - \varphi_1; \pi + \varphi_1), \quad \varphi_1 = \arccos \frac{1}{\varepsilon}.$$

Ak to zhrnieme, potom hyperbola  $k_x$  s ohniskom  $F_2$  v počiatku polárneho systému a s reálnou osou totožnou s polárnou osou je určená vzťahmi

$$k_x = k_x^- \cup k_x^+, \quad k_x^-: \rho(\varphi) = \frac{p}{-\varepsilon \cos \varphi - 1}, \quad \varphi \in (\pi - \varphi_1; \pi + \varphi_1), \quad (3.36)$$

$$k_x^+: \rho(\varphi) = \frac{p}{-\varepsilon \cos \varphi + 1}, \quad \varphi \in (\varphi_1; 2\pi - \varphi_1),$$

kde  $\varphi_1 = \arccos \frac{1}{\varepsilon} = \arccos \frac{a}{\sqrt{a^2+b^2}}$  je uhol asymptoty  $t_1$  s polárnou osou  $o$ .

Ak umiestnime počiatok polárneho systému namiesto  $F_2$  do ohniska  $F_1$  a polárnu os do polpriamky  $F_1F_2$  (obr. 3.1.63 vľavo), potom bude mať stred elipsy  $k$  v polárnom systéme súradnice  $[0; e]$  a v kartezianskom systéme súradnice  $S = [e; 0]$ . Zo vzťahu (3.33) vyplýva:

$$\begin{aligned} a^2b^2 &= b^2(\rho \cos \varphi - e \cos 0)^2 - a^2(\rho \sin \varphi - e \sin 0)^2 = b^2(\rho \cos \varphi - e)^2 - a^2(\rho \sin \varphi)^2 = \\ &= b^2\rho^2 \cos^2 \varphi - 2b^2\rho e \cos \varphi + b^2e^2 - a^2\rho^2 \sin^2 \varphi = \\ &= \rho^2 [b^2 \cos^2 \varphi - a^2(1 - \cos^2 \varphi)] - 2b^2\rho e \cos \varphi + b^2(a^2 + b^2). \end{aligned}$$

Z toho vyplýva kvadratická rovnica  $0 = \rho^2 [-a^2 + e^2 \cos^2 \varphi] - 2b^2\rho e \cos \varphi + b^4$  s riešeniami

$$\rho_{1,2} = \frac{b^2}{e \cos \varphi \pm a} = \frac{\frac{b^2}{a}}{\frac{e \cos \varphi}{a} \pm 1} = \frac{p}{\varepsilon \cos \varphi \pm 1} = \frac{p}{\varepsilon \cos \varphi \mp 1}.$$

Pre uhol  $\varphi$  musí platiť  $\varepsilon \cos \varphi + 1 > 0$ , resp.  $\varepsilon \cos \varphi - 1 > 0$ . Ak označíme  $\varphi_1$  uhol asymptoty  $t_1$  s osou  $o$  a použijeme vzťah (3.32), potom pre  $k_x^-$ :  $\rho = \frac{p}{\varepsilon \cos \varphi + 1}$  platí:

$$\varepsilon \cos \varphi > -1 \iff \cos \varphi > \frac{-1}{\varepsilon}, \quad \text{t. j. } \varphi \in (-\pi + \varphi_1; \pi - \varphi_1), \quad \varphi_1 = \arccos \frac{1}{\varepsilon}.$$

Výraz  $k_x^-$  predstavuje ľavú časť hyperboly  $k_x$  (obr. 3.1.63 vľavo). Pre pravú časť tejto hyperboly  $k_x^+$ :  $\rho = \frac{p}{\varepsilon \cos \varphi - 1}$  platí analogicky:

$$\varepsilon \cos \varphi > 1 \iff \cos \varphi > \frac{1}{\varepsilon}, \quad \text{t. j. } \varphi \in (-\varphi_1; \varphi_1), \quad \varphi_1 = \arccos \frac{1}{\varepsilon}.$$

Ak to zhrnieme, potom hyperbola  $k_x$  s ohniskom  $F_1$  v počiatku polárneho systému a s reálnou osou totožnou s polárnou osou je určená vzťahmi

$$k_x = k_x^- \cup k_x^+, \quad k_x^-: \rho(\varphi) = \frac{p}{\varepsilon \cos \varphi - 1}, \quad \varphi \in (\pi - \varphi_1; -\pi + \varphi_1), \quad (3.37)$$

$$k_x^+: \rho(\varphi) = \frac{p}{\varepsilon \cos \varphi + 1}, \quad \varphi \in (-\varphi_1; \varphi_1),$$

kde  $\varphi_1 = \arccos \frac{1}{\varepsilon} = \arccos \frac{a}{\sqrt{a^2+b^2}}$  je uhol asymptoty  $t_1$  s polárnou osou  $o$ .

### Poznámka 3.1.43.K3-poz84

Vo všeobecnosti nemusia byť kužeľosečky v rovine orientované tak, že sú ich osi rovnobežné so súradnicovými osami. V tomto prípade môžeme otočiť súradnicový systém okolo počiatku alebo danú kužeľosečku (okolo stredu, prípadne okolo ohniska) do daného smeru a použiť predchádzajúce výsledky.

### • Cykloida

**Cykloida** je rovinná krivka, ktorú pri kotúľaní kružnice  $k$  po danej priamke opisuje daný bod  $B$ , ktorý je pevný vzhľadom na kružnicu<sup>33</sup>  $k$  (obr. 3.1.64).

<sup>33</sup>Poloha bodu  $B$  sa vzhľadom na otáčajúcu sa kružnicu  $k$  nemení. Otáča sa spolu s touto kružnicou  $k$  a jeho vzdialenosť  $|SB|$  od stredu kružnice  $k$  je konštantná.

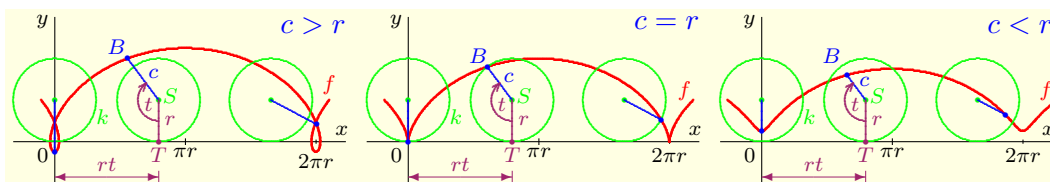
Ak zvolíme karteziánsky systém tak, aby daná priamka bola totožná so súradnicovou osou  $x$  a stred  $S$  kružnice  $k$  a bod  $B$  (ktorého pohyb sledujeme) ležali na začiatku pohybu na súradnicovej osi  $y$ , potom je cykloida  $f$  určená parametrickými rovnicami

$$f: x = rt - c \sin t, \quad y = r - c \cos t, \quad t \in R, \quad (3.38)$$

kde  $r > 0$  je polomer kružnice  $k$ , hodnota  $c \geq 0$  predstavuje vzdialenosť bod  $B$  od stredu  $S$  kružnice  $k$ , t. j.  $c = |BS|$ . Parameter  $t$  zodpovedá orientovanému uhlu (obr. 3.1.64), ktorý zvierajú polpriamka  $ST$  s polpriamkou  $SB$  (t. j. súradnicová os  $y$  a priamka  $SB$ ).

Ak je bod  $B$  totožný so stredom  $S$ , t. j. ak  $c = |BS| = 0$ , potom zo vzťahu (3.38) vyplýva  $f: x = rt, y = r, t \in R$ . To znamená, že sa cykloida  $f$  redukuje na priamku, ktorá je rovnobežná s pôvodnou priamkou, pričom ich vzdialenosť je  $r$ .

Ak bod  $B$  leží na obvodě kružnice  $k$  (ak  $c = r$ ), potom sa cykloida nazýva **obyčajná**. Ak bod  $B$  leží vo vnútri kružnice  $k$  (ak  $c < r$ ), potom sa cykloida nazýva **skrátaná**. Ak bod  $B$  leží mimo kružnice  $k$  (ak  $c > r$ ), potom sa cykloida nazýva **predĺžená**.



Obr. 3.1.64: Predĺžená, obyčajná a skrátaná cykloida.

### • Hypocykloida

**Hypocykloida** je rovinná krivka, ktorú pri kotúľaní kružnice  $k$  po vnútornej strane pevne danej kružnice  $K$  opisuje bod  $B$ , ktorý je pevný vzhľadom na<sup>33</sup>  $k$  (obr. 3.1.65).

Zvoľme karteziánsky systém tak, aby bol jeho počiatok totožný so stredom pevnej kružnice  $K$  a stred  $S$  otáčajúcej sa kružnice  $k$  ležal na začiatku pohybu na kladnej súradnicovej polosi  $x$ . Predpokladajme, že bod  $B$ , ktorého pohyb sledujeme, leží na začiatku pohybu na súradnicovej osi  $x$  (v prieniku kladnej časti osi  $x$  a kružnice  $K$ ). Hypocykloida  $f$  je potom určená parametrickými rovnicami

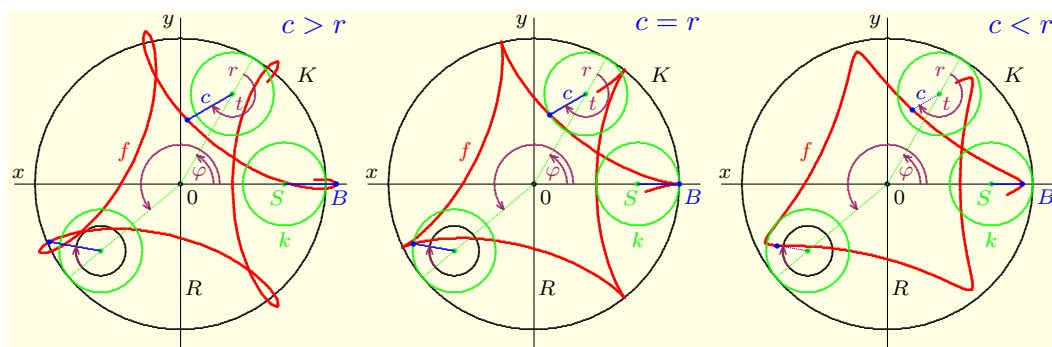
$$f: x = (R - r) \cos \frac{rt}{R} + c \cos \frac{(R-r)t}{R}, \quad y = (R - r) \sin \frac{rt}{R} - c \sin \frac{(R-r)t}{R}, \quad t \in R, \quad (3.39)$$

kde  $R > 0$  je polomer pevnej kružnice  $K$ ,  $r > 0$  je polomer otáčajúcej sa kružnice  $k$ ,  $c \geq 0$  je vzdialenosť bod  $B$  od stredu  $S$  kružnice  $k$ , t. j.  $c = |BS|$ . Parameter  $t$  zodpovedá orientovanému uhlu (obr. 3.1.65), ktorý zvierajú polpriamka  $ST$  s polpriamkou  $SB$  (t. j. spojnice stredov kružníc  $k$  a  $K$  s priamkou  $SB$ ). Aby sa mohla kružnica  $k$  otáčať okolo kružnice  $K$ , musí platiť nerovnosť  $R > r$ .

Označme  $\varphi$  uhol otočenia bodu  $S$  od začiatku otáčania, t. j. orientovaný uhol kladnej polosi  $x$  s polpriamkou spájajúcou počiatok súradnicového systému a stred  $S$ . Dĺžka oblúka pohybujúcej sa kružnice  $k$ , ktorá zodpovedá uhlu  $t$  je rovná  $rt$ . Na druhej strane dĺžka oblúka pevnej kružnice  $K$ , ktorá zodpovedá uhlu  $\varphi$  je rovnaká a rovná sa  $R\varphi$ . To znamená, že platí  $rt = R\varphi$ , t. j.  $t = \frac{R\varphi}{r}$ . Ak dosadíme výraz  $t = \frac{R\varphi}{r}$  do vzťahu (3.39), potom dostaneme ekvivalentné parametrické vyjadrenie hypocykloidy

$$f: x = (R - r) \cos \varphi + c \cos \frac{(R-r)\varphi}{r}, \quad y = (R - r) \sin \varphi - c \sin \frac{(R-r)\varphi}{r}, \quad \varphi \in R. \quad (3.40)$$

Ak bod  $B$  leží na obvodě kružnice  $k$  (ak  $c = r$ ), hypocykloida sa nazýva **obyčajná**. Ak bod  $B$  leží vo vnútri kružnice  $k$  (ak  $c < r$ ), hypocykloida sa nazýva **skrátaná**. Ak bod  $B$  leží mimo kružnice  $k$  (ak  $c > r$ ), potom sa hypocykloida nazýva **predĺžená**.



Obr. 3.1.65: Predĺžená, obyčajná a skrátčená hypocykloida.

Ak platí  $B = S$ , t. j.  $c = |BS| = 0$ , potom zo vzťahu (3.40) vyplýva pre hypocykloidu vyjadrenie  $f: x = (R - r) \cos \varphi, y = (R - r) \sin \varphi, \varphi \in R$ . To znamená, že sa hypocykloida  $f$  redukuje na kružnicu, ktorá je sústredná s kružnicou  $K$  a má polomer  $R - r$ .

Ak je pomer  $m = \frac{R}{r}$  prirodzené číslo, potom hypocykloida (obr. 3.1.66) splynie do  $m$  súvislých oblúkov a stačí ju definovať na intervale dĺžky  $2\pi$ , napr. pre  $\varphi \in \langle 0; 2\pi \rangle$ . Pre polomery platí  $R = mr$ ,  $R - r = (m - 1)r$  a hypocykloida má tvar

$$f: x = (m - 1)r \cos \varphi + c \cos(m - 1)\varphi, y = (m - 1)r \sin \varphi - c \sin(m - 1)\varphi, \quad \varphi \in \langle 0; 2\pi \rangle.$$

V praxi sa často používa obyčajná hypocykloida s pomerom  $m = 4$ , t. j.  $R = 4r$ ,  $c = r$ , ktorá sa nazýva **asteroida**, resp. **hviezdica** (obr. 3.1.66). Na základe príkladu 3.1.27 potom pre súradnice asteroidy pre  $\varphi \in \langle 0; 2\pi \rangle$  platí:

$$x = 3r \cos \varphi + r \cos 3\varphi = 3r \cos \varphi + r(-3 \cos \varphi + 4 \cos^3 \varphi) = 4r \cos^3 \varphi = R \cos^3 \varphi,$$

$$y = 3r \sin \varphi - r \sin 3\varphi = 3r \sin \varphi - r(3 \sin \varphi - 4 \sin^3 \varphi) = 4r \sin^3 \varphi = R \sin^3 \varphi.$$

Z toho vyplýva  $x^2 = R^2[\cos^2 \varphi]^3, y^2 = R^2[\sin^2 \varphi]^3$ . Po odmocnení dostaneme

$$\cos^2 \varphi = \frac{\sqrt[3]{x^2}}{\sqrt[3]{R^2}}, \quad \sin^2 \varphi = \frac{\sqrt[3]{y^2}}{\sqrt[3]{R^2}}, \quad \text{t. j. } 1 = \cos^2 \varphi + \sin^2 \varphi = \sqrt[3]{\frac{x^2}{R^2}} + \sqrt[3]{\frac{y^2}{R^2}} = 1.$$

To znamená, že pre asteroidu platí:

$$f: x = R \cos^3 \varphi, y = R \sin^3 \varphi, \quad \varphi \in \langle 0; 2\pi \rangle, \quad \text{resp. } f: \sqrt[3]{x^2} + \sqrt[3]{y^2} = \sqrt[3]{R^2}. \quad (3.41)$$

Ak  $m = 2$ , t. j.  $r = \frac{R}{2}$ , potom sa hypocykloida skladá z dvoch oblúkov, ktoré tvoria elipsu. Jej parametrické vyjadrenie má na základe vzťahu (3.40) tvar

$$f: x = \left(\frac{R}{2} + c\right) \cos \varphi, y = \left(\frac{R}{2} - c\right) \sin \varphi, \quad \varphi \in R.$$

V tomto prípade pre obyčajnú hypocykloidu platí  $c = r = \frac{R}{2}$ . Obidva jej oblúky splynú do jednej úsečky  $f: x = R \cos \varphi, y = 0, \varphi \in R$ , ktorá tvorí priemer pevnej kružnice  $K$ .

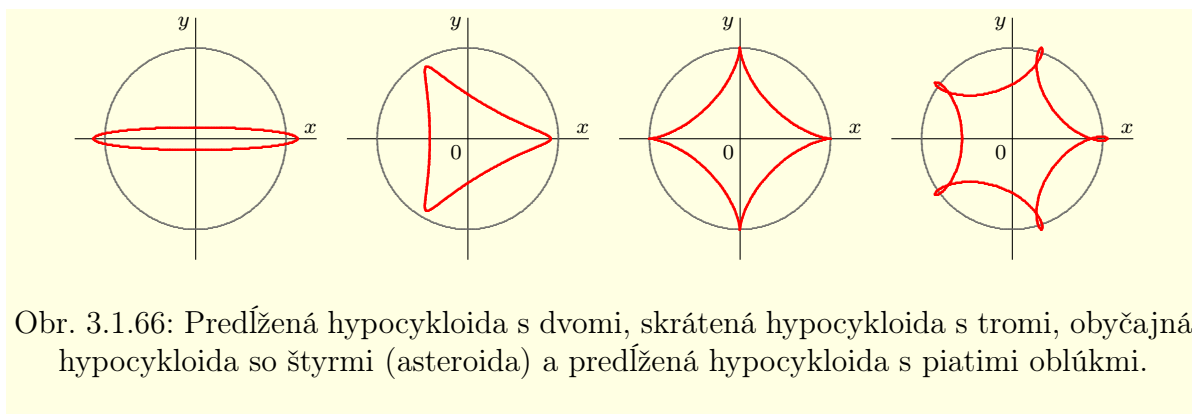
### • Epicykloida

**Epicykloida** je rovinná krivka, ktorú pri kotúľaní kružnice  $k$  po vonkajšej strane pevne danej kružnice  $K$  opisuje bod  $B$ , ktorý je pevný vzhľadom na<sup>34</sup>  $k$  (obr. 3.1.67).

Zvoľme karteziánsky systém tak, aby bol jeho počiatok totožný so stredom pevnej kružnice  $K$  a stred  $S$  otáčajúcej sa kružnice  $k$  ležal na začiatku pohybu na kladnej súradnicovej polosi  $x$ . Predpokladajme, že bod  $B$ , ktorého pohyb sledujeme, leží na začiatku pohybu na súradnicovej osi  $x$  (v prieniku kladnej časti osi  $x$  a kružnice  $K$ ). Epicykloida  $f$  je potom určená parametrickými rovnicami

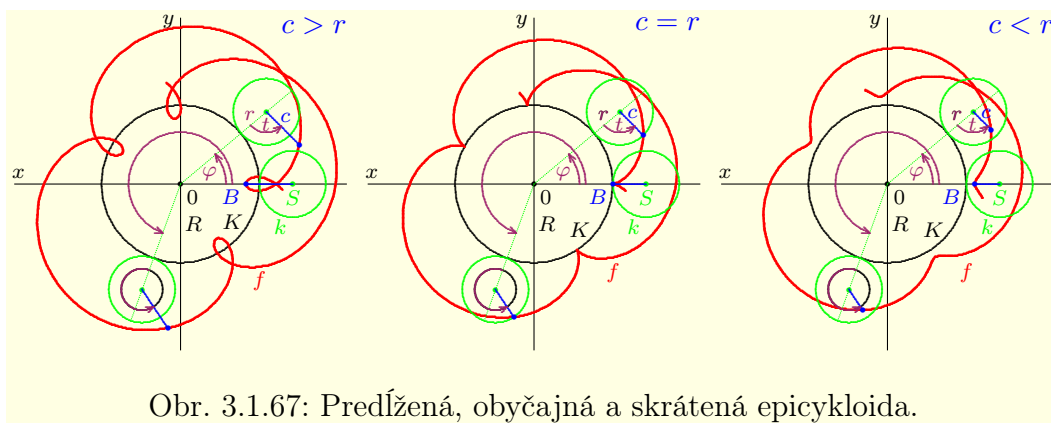
$$f: x = (R + r) \cos \frac{rt}{R} - c \cos \frac{(R+r)t}{R}, y = (R + r) \sin \frac{rt}{R} - c \sin \frac{(R+r)t}{R}, \quad t \in R, \quad (3.42)$$

<sup>34</sup>Poloha bodu  $B$  sa vzhľadom na otáčajúcu sa kružnicu  $k$  nemení. Otáča sa spolu s touto kružnicou  $k$  a jeho vzdialenosť  $|SB|$  od stredu kružnice  $k$  je konštantná.



Obr. 3.1.66: Predĺžená hypocykloida s dvomi, skrátaná hypocykloida s tromi, obyčajná hypocykloida so štyrmi (asteroida) a predĺžená hypocykloida s piatimi oblúkmi.

kde  $R > 0$  je polomer pevnej kružnice  $K$ ,  $r > 0$  je polomer otáčajúcej sa kružnice  $k$ ,  $c \geq 0$  je vzdialenosť bod  $B$  od stredu  $S$  kružnice  $k$ , t. j.  $c = |BS|$ . Parameter  $t$  zodpovedá orientovanému uhlu (obr. 3.1.67), ktorý zvierajú polpriamka  $ST$  s polpriamkou  $SB$  (t. j. spojnicou stredov kružníc  $k$  a  $K$  s priamkou  $SB$ ).



Obr. 3.1.67: Predĺžená, obyčajná a skrátaná epicykloida.

Označme  $\varphi$  uhol otočenia bodu  $S$  od začiatku otáčania, t. j. orientovaný uhol kladnej polosi  $x$  s polpriamkou spájajúcou počiatok súradnicového systému a stred  $S$ . Dĺžka oblúka pohybujúcej sa kružnice  $k$ , ktorá zodpovedá uhlu  $t$  je rovná  $rt$ . Na druhej strane dĺžka oblúka pevnej kružnice  $K$ , ktorá zodpovedá uhlu  $\varphi$  je rovnaká a rovná sa  $R\varphi$ . To znamená, že platí  $rt = R\varphi$ , t. j.  $t = \frac{R\varphi}{r}$ . Ak to dosadíme do vzťahu (3.42), dostaneme ekvivalentné parametrické vyjadrenie epicykloidy

$$f: x = (R+r)\cos\varphi - c\cos\frac{(R+r)\varphi}{r}, \quad y = (R+r)\sin\varphi - c\sin\frac{(R+r)\varphi}{r}, \quad \varphi \in \mathbb{R}. \quad (3.43)$$

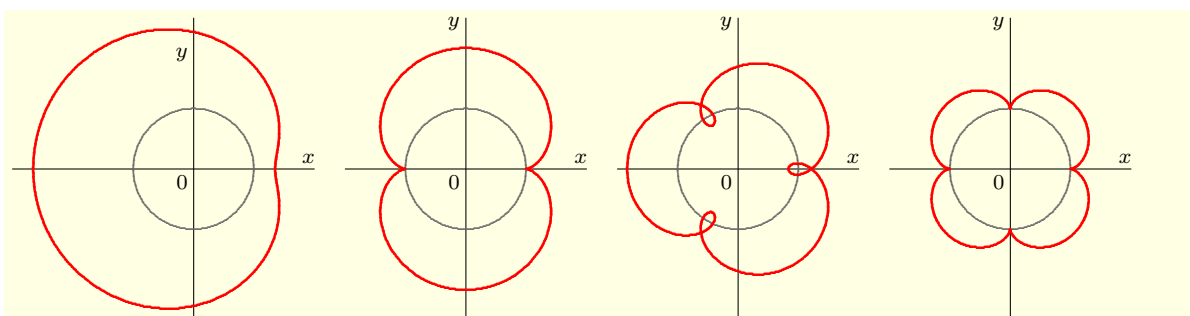
Ak bod  $B$  leží na obvodě kružnice  $k$  (ak  $c = r$ ), epicykloida sa nazýva **obyčajná**. Ak bod  $B$  leží vo vnútri kružnice  $k$  (ak  $c < r$ ), epicykloida sa nazýva **skrátaná**. Ak bod  $B$  leží mimo kružnice  $k$  (ak  $c > r$ ), potom sa epicykloida nazýva **predĺžená**.

Ak platí  $B = S$ , t. j.  $c = |BS| = 0$ , potom zo vzťahu (3.43) vyplýva pre epicykloidu vyjadrenie  $f: x = (R+r)\cos\varphi$ ,  $y = (R+r)\sin\varphi$ ,  $\varphi \in \mathbb{R}$ . To znamená, že sa  $f$  redukuje na kružnicu, ktorá je sústredná s kružnicou  $K$  a má polomer  $R+r$ .

Ak je pomer  $m = \frac{R}{r}$  prirodzené číslo, potom epicykloida (obr. 3.1.68) splynie do  $m$  súvislých oblúkov a stačí ju definovať na intervale dĺžky  $2\pi$ , napr. pre  $\varphi \in \langle 0; 2\pi \rangle$ . Pre polomery potom platí  $R = mr$ ,  $R+r = (m+1)r$  a epicykloida má tvar

$$f: x = (m+1)r\cos\varphi - c\cos(m+1)\varphi, \quad y = (m+1)r\sin\varphi - c\sin(m+1)\varphi, \quad \varphi \in \langle 0; 2\pi \rangle.$$





Obr. 3.1.68: Skrútená epicykloida s jedným, obyčajná epicykloida s dvomi, predĺžená epicykloida s tromi a obyčajná epicykloida so štyrmi oblúkmi.

Obyčajná epicykloida s pomerom  $m = 1$ , t. j.  $R = r$ , sa nazýva **kardioida**, resp. **srdcovka**. Pre jej parametrické vyjadrenie zo vzťahu (3.43) vyplýva:

$$x = 2r \cos \varphi - r \cos 2\varphi = 2r \cos \varphi - r(2 \cos^2 \varphi - 1) = 2r \cos \varphi(1 - \cos \varphi) + r,$$

$$y = 2r \sin \varphi - r \sin 2\varphi = 2r \sin \varphi - 2r \sin \varphi \cos \varphi = 2r \sin \varphi(1 - \cos \varphi).$$

To znamená, že parametrické vyjadrenie kardioidy  $f$  má tvar

$$f: x = 2r \cos \varphi(1 - \cos \varphi) + r, \quad y = 2r \sin \varphi(1 - \cos \varphi), \quad \varphi \in \langle 0; 2\pi \rangle. \quad (3.44)$$

Odvodíme implicitné vyjadrenie kardioidy. Z predchádzajúceho vzťahu vyplýva:

$$(x - r)^2 + y^2 = 4r^2 \cos^2 \varphi(1 - \cos \varphi)^2 + 4r^2 \sin^2 \varphi(1 - \cos \varphi)^2 = 4r^2(1 - \cos \varphi)^2.$$

Keďže pre všetky  $\varphi \in R$  platí  $1 - \cos \varphi \geq 0$ , po odmocnení dostaneme

$$1 - \cos \varphi = \frac{\sqrt{(x-r)^2 + y^2}}{2r}, \quad \cos \varphi = 1 - \frac{\sqrt{(x-r)^2 + y^2}}{2r} = \frac{2r - \sqrt{(x-r)^2 + y^2}}{2r}.$$

Dosadením týchto výrazov do  $x$  vo vzťahu (3.44) vylúčime parameter  $\varphi$  z rovnice

$$x - r = 2r \cos \varphi(1 - \cos \varphi) = \frac{2r\sqrt{(x-r)^2 + y^2} - [(x-r)^2 + y^2]}{2r}.$$

Z toho vyplýva  $2r(x - r) = 2r\sqrt{(x - r)^2 + y^2} - [(x - r)^2 + y^2]$ , t. j.

$$\begin{aligned} 2r\sqrt{(x - r)^2 + y^2} &= (x - r)^2 + y^2 + 2r(x - r) = (x - r)(x - r + 2r) + y^2 = \\ &= (x + r) + y^2 = x^2 + y^2 - r^2. \end{aligned}$$

To znamená, že kardioida  $f$  má karteziánskom systéme implicitný tvar

$$f: 2r\sqrt{(x - r)^2 + y^2} = x^2 + y^2 - r^2, \quad \text{resp. } f: 4r^2[(x - r)^2 + y^2] = [x^2 + y^2 - r^2]^2.$$

Na záver odvodíme polárnu rovnicu kardioidy  $f$ . Umiestnime počiatok polárneho systému do bodu  $B$  na začiatku otáčania tak, aby polárna os ležala na kladnej časti karteziánskej osi  $x$  (obr. 3.1.69). To znamená, že počiatok polárneho systému má karteziánske súradnice  $[0; r]$ . Označme polárny uhol v tomto systéme symbolom  $\phi$  a sprievodič bodu symbolom  $\rho$ . Pre súradnice bodu  $X = [\phi; \rho] \in f$  na základe vzťahu (3.44) platí:

$$\rho \cos \phi = x - r = 2r \cos \varphi(1 - \cos \varphi), \quad \rho \sin \phi = y = 2r \sin \varphi(1 - \cos \varphi),$$

kde  $X = [x; y]$  sú jeho karteziánske súradnice. Ďalej platí:

$$\rho^2 = \rho^2 \cos^2 \phi + \rho^2 \sin^2 \phi = (x - r)^2 + y^2 = 4r^2[\cos^2 \varphi + \sin^2 \varphi](1 - \cos \varphi)^2.$$

To znamená, že platí  $\rho^2 = 4r^2(1 - \cos \varphi)^2$ , t. j.  $(1 - \cos \varphi)^2 = \frac{\rho^2}{4r^2}$ . Z toho vyplýva:<sup>35</sup>

$$|1 - \cos \varphi| = 1 - \cos \varphi = \frac{\rho}{2r}, \quad \cos \varphi = 1 - \frac{\rho}{2r}.$$

<sup>35</sup>Pre všetky  $\varphi \in R$  platí  $1 - \cos \varphi \geq 0$ .

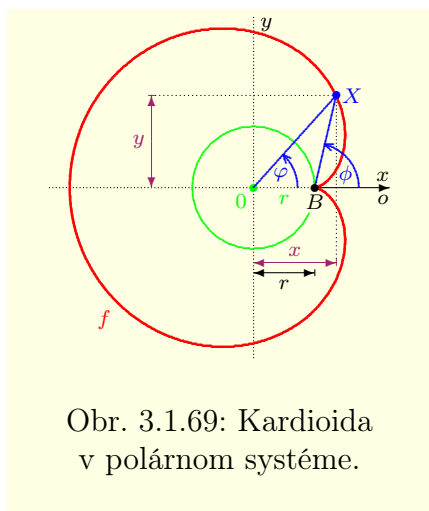


Po dosadení týchto výrazov do vzťahu  $\rho \cos \phi = 2r \cos \varphi (1 - \cos \varphi)$  dostaneme

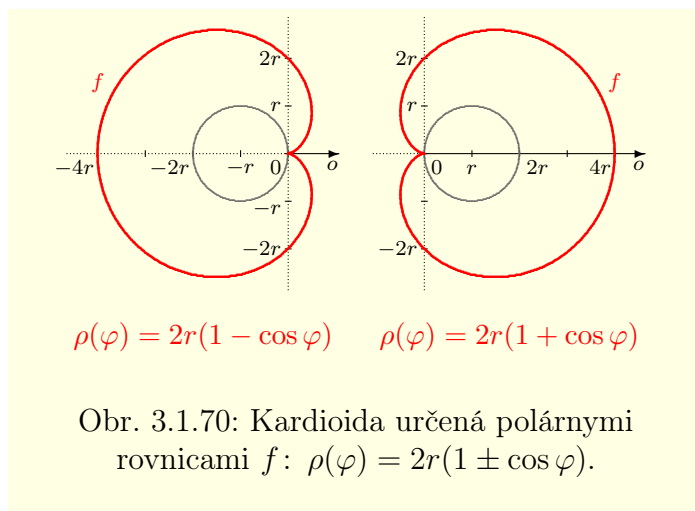
$$\rho \cos \phi = 2r \left(1 - \frac{\rho}{2r}\right) \frac{\rho}{2r} = \rho \left(1 - \frac{\rho}{2r}\right), \quad \text{t. j. } \rho = 2r - 2r \cos \phi.$$

Ak orientujeme polárnu os  $o$  opačne (t. j. súhlasne so zápornou časťou osi  $x$ ), dostaneme analogickým postupom rovnicu  $f: \rho = 2r + 2r \cos \phi$ . Ak použijeme pre polárny uhol zaužívané označenie  $\varphi$  (obr. 3.1.70), potom pre polárne rovnice kardioidy  $f$  platí:

$$f: \rho(\varphi) = 2r(1 - \cos \varphi), \quad \text{resp. } f: \rho(\varphi) = 2r(1 + \cos \varphi).$$



Obr. 3.1.69: Kardioida v polárnom systéme.



Obr. 3.1.70: Kardioida určená polárnymi rovnicami  $f: \rho(\varphi) = 2r(1 \pm \cos \varphi)$ .

### • Cassiniove krivky

**Cassiniova**<sup>36</sup> **krivka** je definovaná ako množina bodov  $X$  v rovine, ktoré majú od dvoch daných, pevných bodov  $F_1$  a  $F_2$  konštantný súčin vzdialeností<sup>37</sup>  $a^2 > 0$ . V kartezianskom systéme súradníc s počiatkom v strede úsečky  $F_1F_2$  a súradnicovou osou  $x$  totožnou s priamkou  $F_1F_2$  je Cassiniova krivka implicitne určená rovnicou

$$f: (x^2 + y^2)^2 - 2e^2(x^2 - y^2) = a^4 - e^4,$$

pričom  $e$  predstavuje polovicu vzdialeností bodov  $F_1$  a  $F_2$ , t. j.  $2e = |F_1F_2|$ . Ak použijeme substitúciu  $x = \rho \cos \varphi$ ,  $y = \rho \sin \varphi$  a uvažíme platnosť vzťahov  $\cos^2 \varphi - \sin^2 \varphi = \cos 2\varphi$ ,  $\cos^2 \varphi + \sin^2 \varphi = 1$ , potom dostaneme v polárnom systéme vyjadrenie<sup>38</sup>

$$f: \rho^4 - 2e^2 \rho^2 \cos 2\varphi = a^4 - e^4, \quad \text{t. j. } f: \rho^2 = e^2 \cos 2\varphi \pm \sqrt{e^4 \cos^2 2\varphi + a^4 - e^4}.$$

Ak platí nerovnosť  $a^2 \geq 2e^2$ , potom má krivka tvar podobný elipse (obr.3.1.71). Pre  $2e^2 > a^2 > e^2$  má tvar oblúka s dvomi záhybmi. Pre  $e^2 \geq a^2 > 0$  sa krivka skladá z dvoch samostatných oblúkov. V prípade  $e^2 > a^2$  sú tieto oblúky oddelené a v prípade  $e^2 = a^2$  sa pretínajú v strede úsečky  $F_1F_2$ . Cassiniova krivka sa nazýva **lemniskáta** (resp. **Bernoulliho lemniskáta**). Jej vyjadrenie má tvar

$$f: (x^2 + y^2)^2 = 2a^2(x^2 - y^2), \quad \text{resp. } \rho^2 = 2a^2 \cos 2\varphi, \quad \varphi \in \left\langle -\frac{\pi}{4}; \frac{\pi}{4} \right\rangle \cup \left\langle \frac{3\pi}{4}; \frac{5\pi}{4} \right\rangle.$$

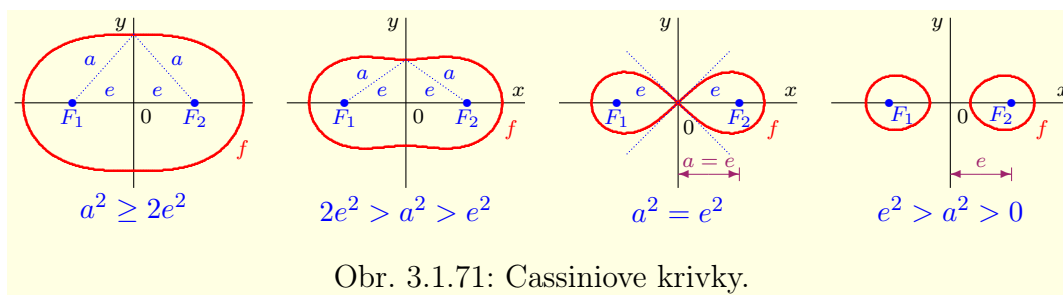
### • Špirály

Bod, ktorý sa otáča okolo pevne daného bodu  $F$ , pričom sa jeho vzdialenosť od tohto bodu zväčšuje (podľa zadaného predpisu), opisuje **špirálu**. Bod  $F$  sa nazýva **začiatok** (**počiatok**) **špirály**. Z praktických dôvodov sa špirály vyjadrujú najčastejšie v polárnych súradniciach. Špirály študoval už okolo roku 225 pred n.l. *Archimedes*.

<sup>36</sup> *Giovanni Domenico Cassini* [1625–1712] — francúzsky astronóm talianskeho pôvodu.

<sup>37</sup>Prípad  $a^2 = 0$ , t. j.  $a = 0$  predstavuje dva izolované body  $F_1, F_2$ .

<sup>38</sup>Na ľavej strane je kvadratická rovnica pre neznámu  $\rho^2$  a na pravej jej riešenie.



Obr. 3.1.71: Cassiniove krivky.

**Archimedova špirála** je rovinná krivka, ktorú opisuje bod pohybujúci sa konštantnou rýchlosťou po danej polpriamke vychádzajúcej z počiatku špirály. Táto polpriamka sa navyše otáča konštantnou uhlovou rýchlosťou okolo svojho začiatku. Polárna rovnica Archimedovej špirály (obr. 3.1.72) s počiatkom umiestnenom v počiatku systému má tvar

$$\rho(\varphi) = a\varphi, \quad \varphi \in \langle 0; \infty \rangle, \quad a > 0, \quad \text{resp.} \quad \rho(\varphi) = a\varphi, \quad \varphi \in \langle -\infty; 0 \rangle, \quad a < 0.$$

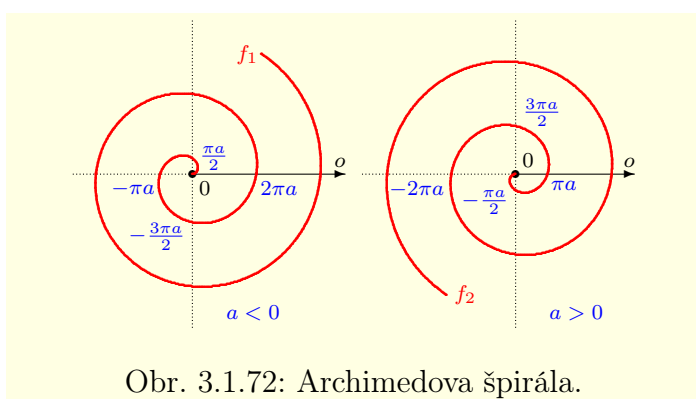
**Logaritmická špirála** je rovinná krivka určená v polárnom systéme rovnicou

$$\rho(\varphi) = a e^{b\varphi}, \quad \varphi \in \langle -\infty; \infty \rangle, \quad a \neq 0, \quad b > 0.$$

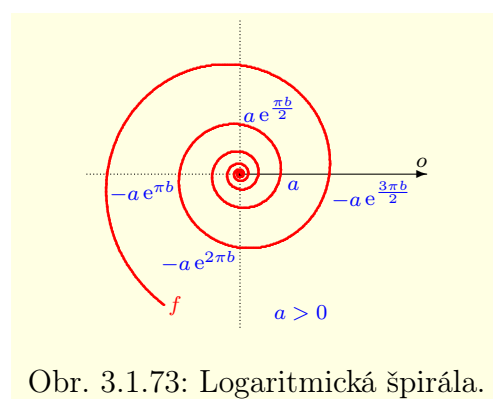
Logaritmická špirála (obr. 3.1.73) pretína všetky polpriamky vychádzajúce z počiatku systému pod rovnakým uhlom  $\alpha$ , pre ktorý platí  $\cotg \alpha = b$ . Počiatok logaritmickéj špirály zodpovedá bodu, ku ktorému sa špirála približuje pre  $\varphi \rightarrow -\infty$  a je totožný s počiatkom systému. Niekedy sa tiež nazýva **asymptotický bod logaritmickéj špirály**.

#### Poznámka 3.1.44.K3-poz89

Na obrázku 3.1.73 je zostrojená logaritmická špirála s parametrami  $a > 0, b > 0$ . Pre parameter  $a < 0$  je špirála rovnaká ako pre  $-a > 0$ , pričom sú tieto dve špirály otočené okolo asymptotického bodu o uhol  $\pi$ .<sup>39</sup> V prípade  $b < 0$  by sa logaritmická špirála otáčala opačným, t. j. záporným smerom a asymptotický bod by sme dostali pre  $\varphi \rightarrow \infty$ .



Obr. 3.1.72: Archimedova špirála.



Obr. 3.1.73: Logaritmická špirála.

Špirály predstavujú rozsiahlu skupinu rovinných kriviek a existuje ich veľké množstvo. Na ukážku spomenieme **Fermatovu**<sup>40</sup> **špirálu** definovanú polárnymi rovnicami

$$\rho(\varphi) = \sqrt{a^2\varphi}, \quad \varphi \in \langle 0; \infty \rangle, \quad a \neq 0, \quad \text{resp.} \quad \rho(\varphi) = a\sqrt{\varphi}, \quad \varphi \in \langle 0; \infty \rangle, \quad a > 0,$$

<sup>39</sup>Rovnako ako Archimedova špirála na obrázku 3.1.72.

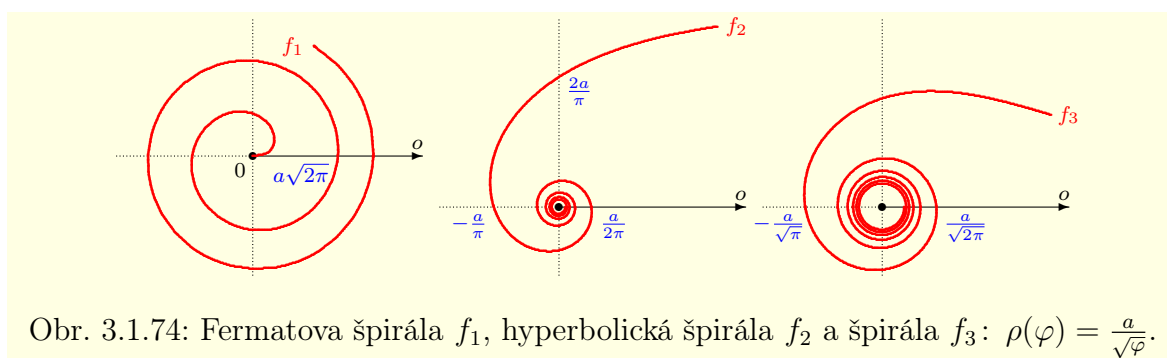
<sup>40</sup>Pierre de Fermat [1601–1665] — francúzsky právnik a matematik.

**hyperbolickú špirálu** a špirálu (obr. 3.1.74) postupne definované polárnymi rovnicami

$$\rho(\varphi) = \frac{a}{\varphi}, \quad \varphi \in (0; \infty), \quad a > 0, \quad \rho(\varphi) = \frac{a}{\sqrt{\varphi}}, \quad \varphi \in (0; \infty), \quad a > 0.$$

**Poznámka 3.1.45.K3-poz90**

Počiatky hyperbolickej špirály  $\rho(\varphi) = \frac{a}{\varphi}$  a špirály  $\rho(\varphi) = \frac{a}{\sqrt{\varphi}}$  dostaneme pre  $\varphi \rightarrow \infty$ . Naopak pre  $\varphi \rightarrow 0$ , t. j. klesajúce kladné  $\varphi$ , sa vzdialenosť medzi daným bodom a počiatkom neohraničene zväčšuje.



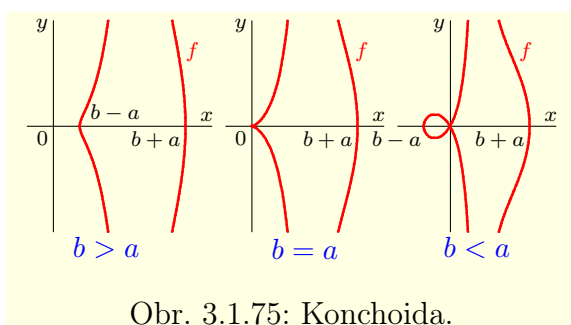
Obr. 3.1.74: Fermatova špirála  $f_1$ , hyperbolická špirála  $f_2$  a špirála  $f_3: \rho(\varphi) = \frac{a}{\sqrt{\varphi}}$ .

**Konchoida** (obr. 3.1.75) je rovinná krivka definovaná vzťahmi

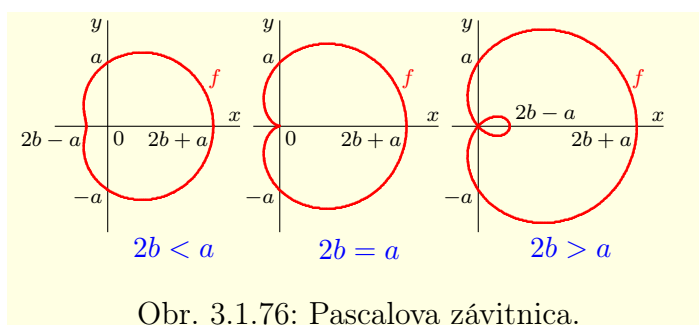
$$f: (x - b)^2(x^2 + y^2) = a^2x^2, \quad a > 0, \quad b > 0, \quad \text{resp.} \quad \rho = a + \frac{b}{\cos \varphi}, \quad a > 0, \quad b > 0.$$

**Pascalova<sup>41</sup> závitnica** (obr. 3.1.76) je rovinná krivka definovaná vzťahmi

$$f: (x^2 + y^2 - 2bx)^2 = a^2(x^2 + y^2), \quad a > 0, \quad b > 0, \quad \text{resp.} \quad \rho = a + 2b \cos \varphi, \quad a > 0, \quad b > 0.$$



Obr. 3.1.75: Konchoida.



Obr. 3.1.76: Pascalova závitnica.

**Lamého<sup>42</sup> krivka** (obr. 3.1.77) je rovinná krivka implicitne definovaná rovnicou

$$f_n: \left(\frac{x}{a}\right)^n + \left(\frac{y}{b}\right)^n = 1, \quad a > 0, \quad b > 0, \quad n \neq 0.$$

Pre  $n \in \mathbb{N}$  párne je Lamého krivka uzavretá a tvorí ovál, ktorý pretína súradnicové osi v bodoch  $[\pm a; 0]$ ,  $[0; \pm b]$ . Špeciálne pre  $n = 2$  dostaneme elipsu  $f_2: \left(\frac{x}{a}\right)^2 + \left(\frac{y}{b}\right)^2 = 1$ .

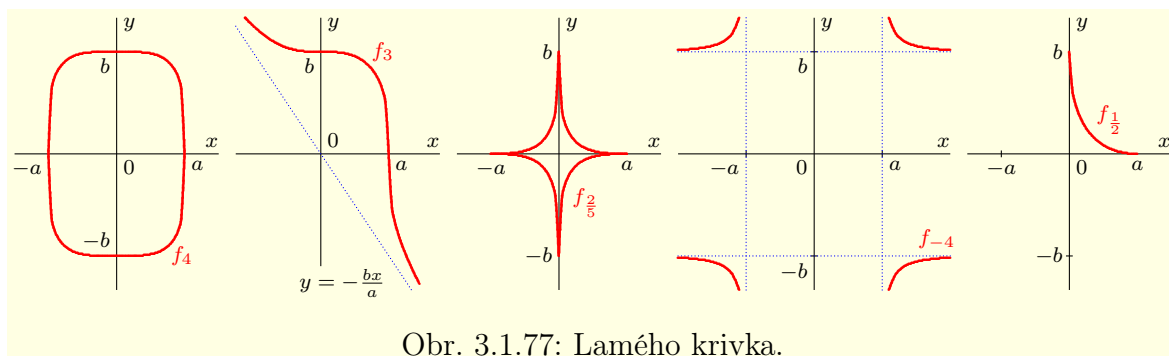
Pre  $n = 1$  dostaneme priamku  $f_1: \frac{x}{2} + \frac{y}{b} = 1$ , pre  $n = \frac{2}{3}$  dostaneme asteroidu  $f_{\frac{2}{3}}: \sqrt[3]{\left(\frac{x}{a}\right)^2} + \sqrt[3]{\left(\frac{y}{b}\right)^2} = 1$  s polosami dĺžky  $a$  a  $b$ . Ak zvolíme  $n = -1$ , potom dostaneme hyperbolu  $f_{-1}: \frac{a}{x} + \frac{b}{y} = 1$ .

**Osmička** (obr. 3.1.78) je rovinná krivka zadaná vzťahmi

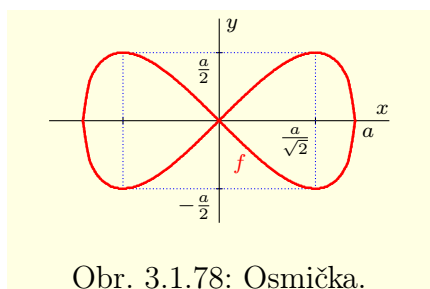
$$f: x^4 = a^2(x^2 - y^2), \quad a \neq 0 \quad \text{resp.} \quad \rho^4 \cos^4 \varphi = a^2 \cos 2\varphi, \quad a \neq 0.$$

<sup>41</sup>Blaise Pascal [1623–1662] — francúzsky matematik a fyzik.

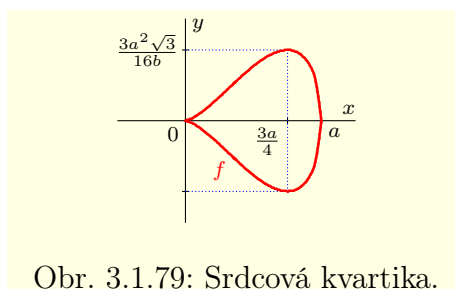
<sup>42</sup>Gabriel Lamé [1795–1870] — francúzsky matematik.



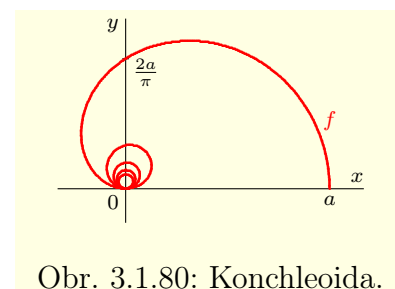
Obr. 3.1.77: Lamého krivka.



Obr. 3.1.78: Osmička.



Obr. 3.1.79: Srdcová kvartika.



Obr. 3.1.80: Konchleoida.

**Srdcová** (resp. **hrušková**) **kvartika** (obr. 3.1.79) je rovinná krivka zadaná vzťahmi

$$f: b^2 y^2 = x^3 (a - x), \quad a > 0, \quad b > 0.$$

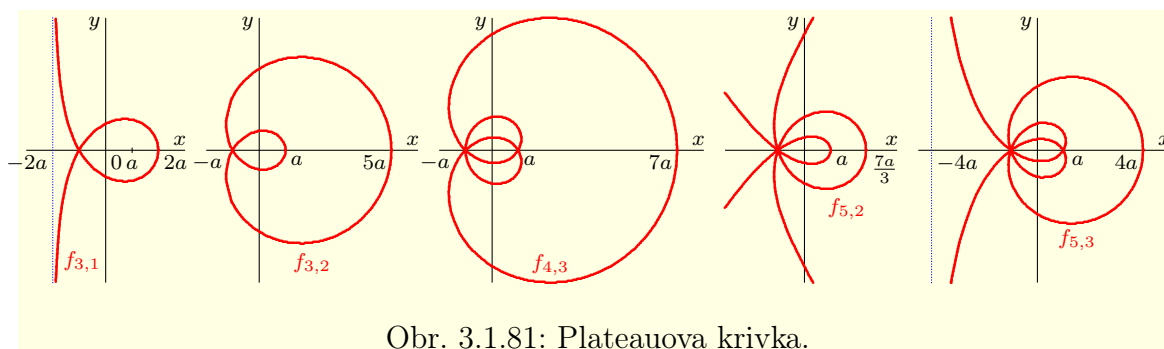
**Konchleoida** (obr. 3.1.80) je rovinná krivka definovaná v polárnom systéme rovnicou

$$\rho = \frac{a \sin \varphi}{\varphi}, \quad a > 0.$$

**Plateauova**<sup>43</sup> **krivka** (obr. 3.1.81) je rovinná krivka parametricky definovaná

$$f_{m,n}: x = a \frac{\sin(m+n)t}{\sin(m-n)t}, \quad y = 2a \frac{\sin mt \sin nt}{\sin(m-n)t}, \quad m, n \in \mathbb{N}, \quad m \neq n, \quad a > 0, \quad t \in \mathbb{R}.$$

Z vlastností funkcie sínus vyplýva, že sú grafy funkcií  $f_{m,n}$  a  $f_{n,m}$  symetrické podľa  $y$ -ovej súradnicovej osi. V prípade  $m = 2n$  dostaneme pre krivku parametrické vyjadrenie  $f: x = a + 2a \cos 2nt$ ,  $y = 2a \sin 2nt$ , t. j. kružnicu so stredom  $[a; 0]$  a polomerom  $2a$ .



Obr. 3.1.81: Plateauova krivka.

**Freethova**<sup>44</sup> **nefroida** (obr. 3.1.82 vľavo) je rovinná krivka definovaná v polárnom systéme súradníc explicitným vzťahom

$$f: \rho = a \left( 1 + 2 \sin \frac{\varphi}{2} \right), \quad a > 0, \quad \varphi \in \mathbb{R}.$$

<sup>43</sup> Joseph Antoine Ferdinand Plateau [1801–1883] — belgický fyzik a matematik.

<sup>44</sup> T. J. Freeth [1819–1904] — anglický matematik.

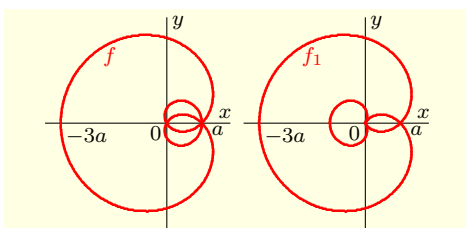
**Poznámka 3.1.46.K3-poz92**

Na obrázku 3.1.82 vpravo je rovinná krivka, ktorá je definovaná explicitným vzťahom

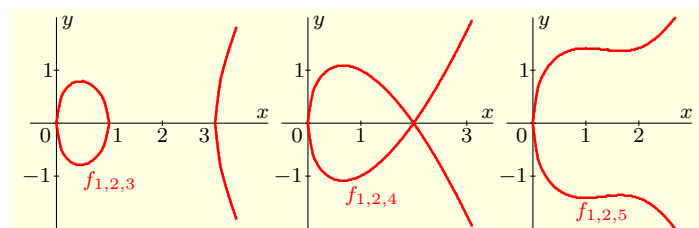
$$f_1: \rho = a \left| 1 + 2 \sin \frac{\varphi}{2} \right|, \quad a > 0, \quad \varphi \in \mathbb{R}.$$

**Newtonova divergentná parabola** (obr. 3.1.83) je rovinná krivka

$$f_{a,b,c}: a^2 y^2 = x(x^2 - 2bx + c), \quad a \neq 0, \quad b, c \in \mathbb{R}.$$



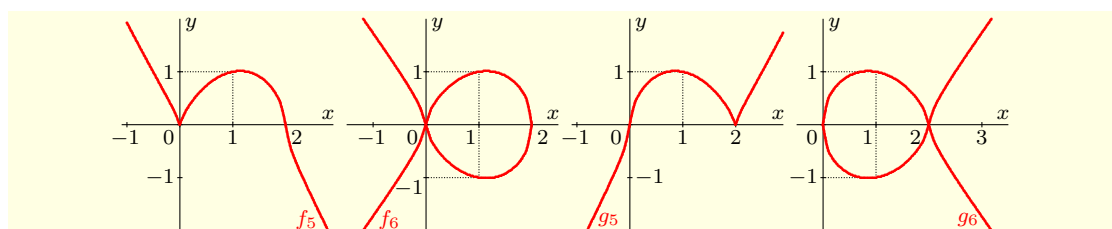
Obr. 3.1.82: Freethova nefroida.



Obr. 3.1.83: Newtonova divergentná parabola.

**Sluzeho<sup>45</sup> perlovka** (obr. 3.1.84) je rovinná krivka definovaná implicitne vzťahom

$$f: y^n = k(a - x)^p x^m, \quad n, m, p \in \mathbb{N}, \quad a > 0, \quad k > 0.$$

Obr. 3.1.84: Sluzeho perlovky  $f_n: y^n = (2 - x)^3 x^4$ ,  $g_n: y^n = (2 - x)^4 x^3$ .

**Kappa krivka** (obr. 3.1.85) je rovinná krivka zadaná implicitnými vzťahmi

$$f: y^2(x^2 + y^2) = a^2 x^2, \quad a > 0, \quad \text{resp.} \quad \rho^2 = a^2 \cot^2 \varphi, \quad a > 0.$$

**Tschirnhausova<sup>46</sup> kubika** (obr. 3.1.86) je rovinná krivka implicitne definovaná

$$f: 3ay^2 = x(x - a)^2, \quad a > 0.$$

**Serpentína** (obr. 3.1.87) je rovinná krivka implicitne zadaná rovnicou

$$f: y(x^2 + ab) = a^2 x, \quad a > 0, \quad b > 0.$$

**Strofoida (kolmá strofoida)** (obr. 3.1.88) je rovinná krivka definovaná vzťahmi

$$f: y^2(a + x) = x^2(a - x), \quad a > 0, \quad \text{resp.} \quad \rho = a \frac{\cos(2\varphi)}{\cos \varphi}, \quad a > 0.$$

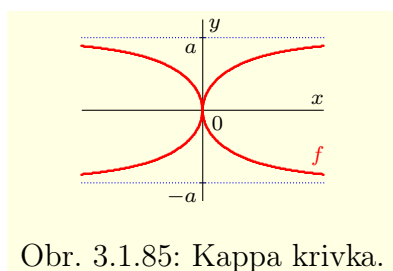
**Maclaurinov<sup>47</sup> trisektrix** (obr. 3.1.88) je rovinná krivka definovaná vzťahmi

$$f: y^2(a + x) = x^2(3a - x), \quad a > 0, \quad \text{resp.} \quad \rho = 2a \frac{\sin(3\varphi)}{\sin(2\varphi)}, \quad a > 0.$$

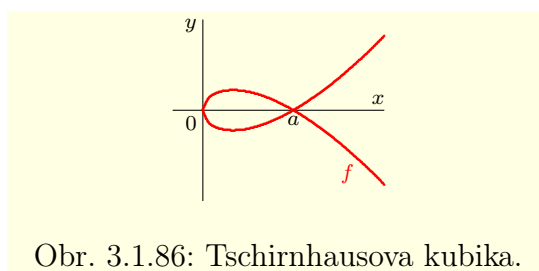
<sup>45</sup> René François Walter de Sluze [1622–1685] — belgický fyzik a matematik.

<sup>46</sup> Ehrenfried Walter von Tschirnhaus [1651–1708] — nemecký matematik a filozof.

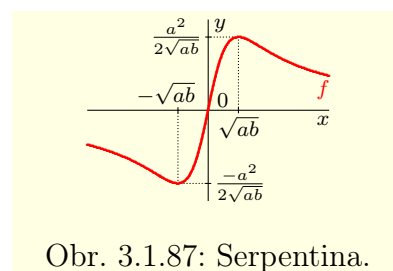
<sup>47</sup> Colin Maclaurin [1698–1746] — anglický matematik.



Obr. 3.1.85: Kappa krivka.



Obr. 3.1.86: Tschirnhausova kubika.



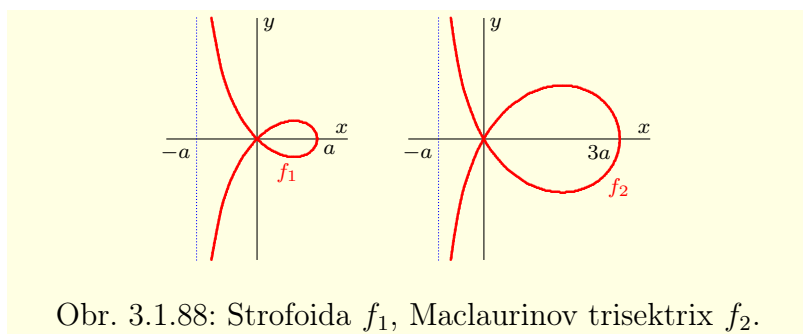
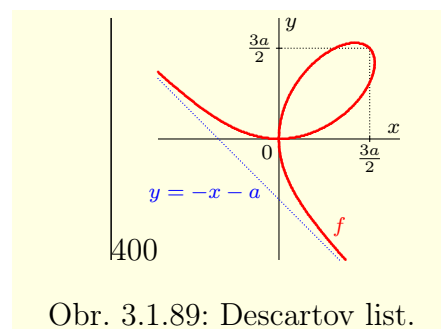
Obr. 3.1.87: Serpentina.

**Descartov list** (obr. 3.1.89) je rovinná krivka implicitne zadaná rovnicou

$$f: x^3 + y^3 = 3axy, \quad a > 0, \quad \text{resp.} \quad f: \rho(\cos^3 \varphi + \sin^3 \varphi) = 3a \sin \varphi \cos \varphi, \quad a > 0.$$

Parametricky môžeme Descartov list vyjadriť v tvare

$$f: x = \frac{3at}{1+t^3}, \quad y = \frac{3at^2}{1+t^3}, \quad t \in (-\infty; -1) \cup (-1; \infty).$$

Obr. 3.1.88: Strofoida  $f_1$ , Maclaurinov trisektrix  $f_2$ .

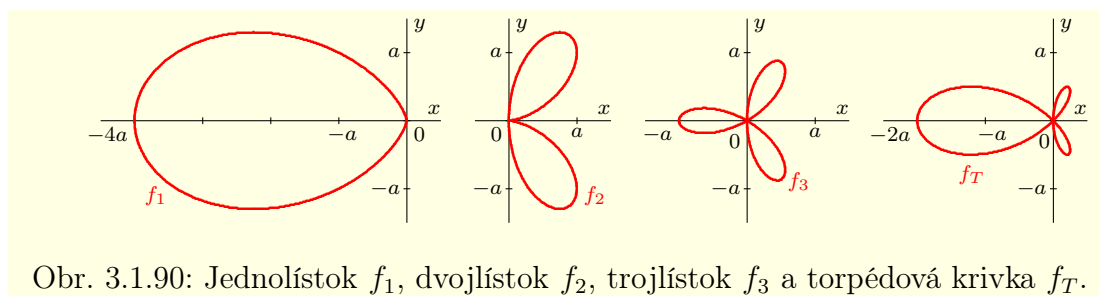
Obr. 3.1.89: Descartov list.

**List** (obr. 3.1.90) je rovinná krivka implicitne definovaná rovnicou

$$f: (x^2 + y^2)(x^2 + xb + y^2) = 4axy^2, \quad a > 0, \quad b \geq 0.$$

V polárnom systéme môžeme list vyjadriť vzťahom

$$f: \rho = \cos \varphi [4a \sin^2 \varphi - b], \quad a > 0, \quad b \geq 0.$$

Obr. 3.1.90: Jednolistok  $f_1$ , dvojlistok  $f_2$ , trojlistok  $f_3$  a torpédová krivka  $f_T$ .

Ak položíme  $b = 4a$ , dostaneme **jednolist** (**list**, **lístok**)  $f_1$ . Pre jeho vyjadrenie platí:

$$f_1: (x^2 + y^2)^2 = 4ax^3, \quad a > 0, \quad \text{resp.} \quad f_1: \rho = 4a \cos \varphi [\sin^2 \varphi - 1], \quad a > 0.$$

Pre  $b = 0$  dostaneme **dvojlist** (**dvojlistok**)  $f_2$ , ktorý má tvar

$$f_2: (x^2 + y^2)^2 = 4axy^2, \quad a > 0, \quad \text{resp.} \quad f_2: \rho = 4a \cos \varphi \sin^2 \varphi, \quad a > 0.$$

Pre  $b = a$  dostaneme **trojlist** (**trojlistok**)  $f_3$ , ktorý má tvar

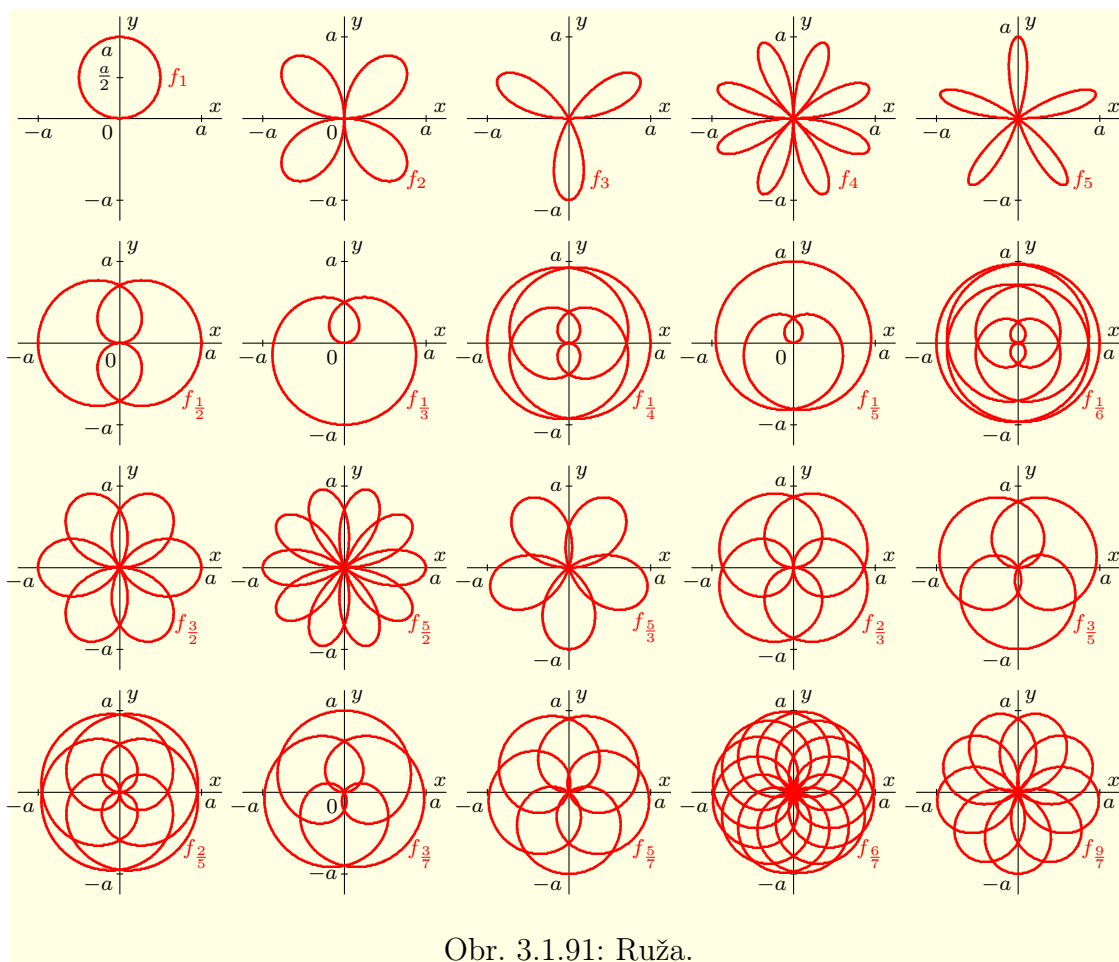
$$f_3: (x^2 + y^2)^2 = 3axy^2 - ax^3, \quad a > 0, \quad \text{resp.} \quad f_3: \rho = a \cos \varphi [4 \sin^2 \varphi - 1], \quad a > 0.$$

Pre  $b = 2a$  sa krivka nazýva **torpédová krivka** a má tvar

$$f_T: (x^2 + y^2)^2 = 2axy^2 - 2ax^3, \quad a > 0, \quad \text{resp.} \quad f_T: \rho = 2a \cos \varphi [2 \sin^2 \varphi - 1], \quad a > 0.$$

Veľmi zaujímavá a variabilná je rovinná krivka, ktorú nazývame **ruža** (**ružica**, resp. **rhodonea**) (obr. 3.1.91). V polárnom systéme je definovaná vzťahom<sup>48</sup>

$$f_c: \rho = a \sin c\varphi, \quad a > 0, \quad c > 0, \quad \varphi \in R.$$



Obr. 3.1.91: Ruža.

Pre  $c = 1$  dostaneme kruh, pre  $c = 2$  štvorlístok, pre  $c = 3$  trojlístok (vid' obr. 3.1.90) a pre  $c = 5$  päťlístok. Všeobecne pre nepárne  $c = 2k + 1$ ,  $k \in N$  dostaneme  $c$ -lístok a pre párne  $c = 2k$ ,  $k \in N$  dostaneme  $2c$ -lístok.

V prípade  $c = \frac{1}{2}$  dostala táto krivka meno po známom nemeckom maliarovi a grafikovi *Albrechtovi Dürerovi* [1471–1528] a nazýva sa **Dürerov list**.

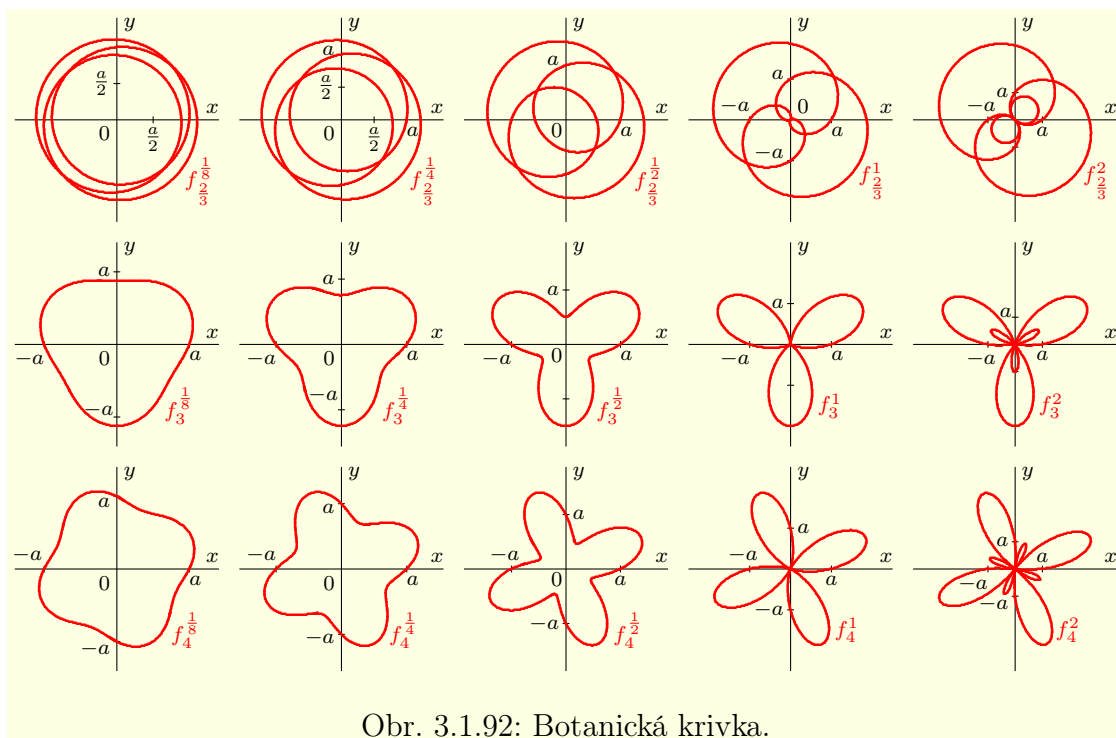
S predchádzajúcou krivkou rhodonea úzko súvisí **botanická krivka** (obr. 3.1.92), ktorá je v polárnom systéme definovaná vzťahom

$$f_c^d: \rho = a(1 + d \sin c\varphi), \quad a > 0, \quad c > 0, \quad d > 0, \quad \varphi \in R.$$

Rovinnú krivku v tvare **srdca** môžeme definovať mnohými spôsobmi. Je to napríklad krivka implicitne určená rovnicou  $f: (x^2 + y^2 - 1)^3 = x^2 y^3$  z príkladu 3.1.28 (obr. 3.1.35).

<sup>48</sup>V literatúre sa tiež niekedy vyjadruje v tvare  $f: \rho = a \cos c\varphi$ ,  $a > 0$ ,  $c > 0$ ,  $\varphi \in R$ . V tomto prípade je jej graf krivky  $f$  otočený oproti grafu krivky  $f_c$  o uhol  $\frac{\pi}{2}$ .





Obr. 3.1.92: Botanická krivka.


Tvar srdca má tiež krivka (obr. 3.1.93), ktorá je explicitne definovaná vzťahmi

$$f_1: y = a \left[ \sqrt[3]{x^2} \pm \sqrt{1 - x^2} \right], \quad a > 0, \quad x \in \langle -1; 1 \rangle$$

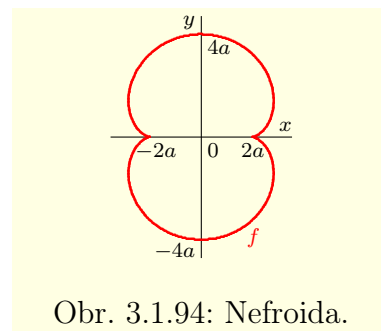
a časti kriviek  $f_{2,3}$ , ktoré sú v polárnom systéme súradníc explicitne definované vzťahmi

$$f_2: \rho = 2a \sin^2 \left( \frac{\pi}{8} - \frac{\varphi}{4} \right), \quad a > 0, \quad \varphi \in R, \quad f_3: \rho = a \left( 1 + \sin \frac{\varphi}{2} \right), \quad a > 0, \quad \varphi \in R.$$

Krivka  $f_2$  má tvar srdca pre  $\varphi \in \langle \frac{7\pi}{2}; \frac{11\pi}{2} \rangle$  a krivka  $f_3$  pre  $\varphi \in \langle 2\pi; 4\pi \rangle$ .



Obr. 3.1.93: Krivky v tvare srdca.



Obr. 3.1.94: Nefroida.

**Nefroida** (obr. 3.1.94) je rovinná krivka parametricky zadaná vzťahmi

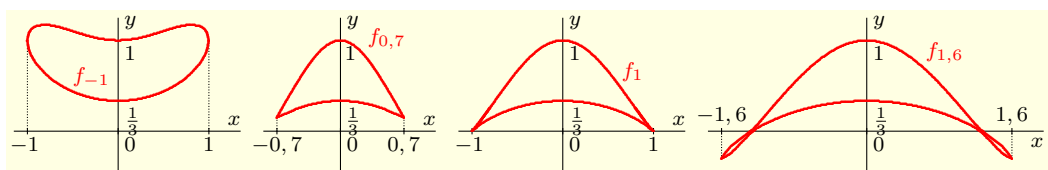
$$f: x = a(3 \cos t - \cos 3t), \quad y = a(3 \sin t - \sin 3t), \quad a > 0, \quad t \in R.$$

**Dvojrohová krivka** (obr. 3.1.95) je rovinná krivka definovaná implicitne vzťahom

$$f_a: y^2(a^2 - x^2) = (x^2 + 2ay - a)^2, \quad a \neq 0.$$

**Sínusová špirála** (obr. 3.1.96) je implicitne definovaná v polárnom systéme vzťahom

$$f_c: \rho^c = a^c \cos c\varphi, \quad a > 0, \quad c \in R.$$

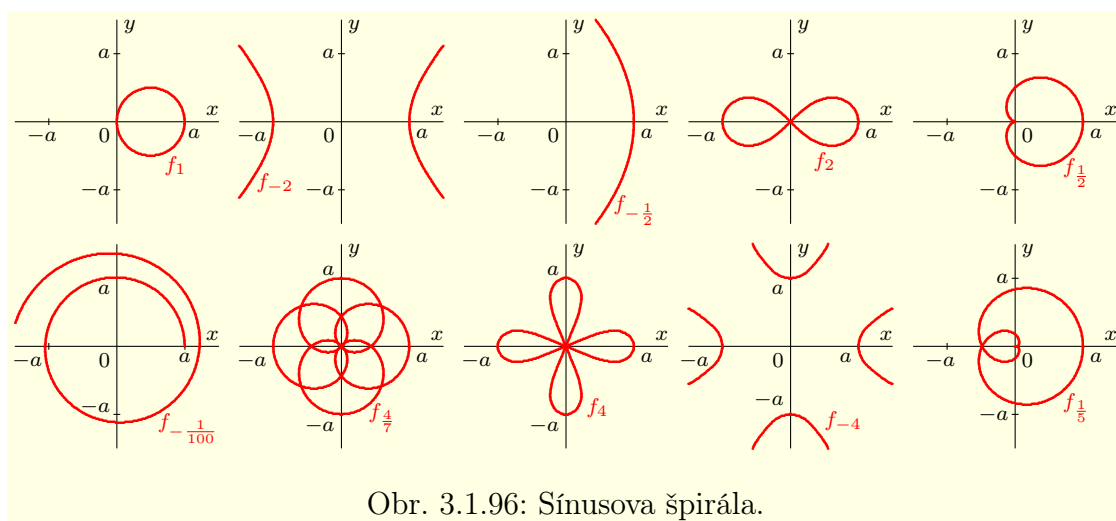


Obr. 3.1.95: Dvojrohová krivka.

Pre  $c = -1$  platí  $f_{-1}$ :  $\rho^{-1} = \frac{1}{a} \cos(-\varphi)$ , t. j.  $f_{-1}$ :  $\rho = \frac{a}{\cos \varphi}$ . Po jednoduchšej úprave pomocou vzťahov (3.12) dostaneme rovnicu priamky

$$f_{-1}: x = \frac{a}{\cos \varphi} \cos \varphi = a, \quad y = \frac{a}{\cos \varphi} \sin \varphi = a \operatorname{tg} \varphi, \quad \varphi \in R, \quad \text{t. j. } f_{-1}: x = a, \quad y \in R.$$

Analogickým spôsobom môžeme odvodiť ďalšie špeciálne prípady tejto krivky. Napríklad pre  $c = 1$  dostaneme kružnicu so stredom v bode  $[\frac{a}{2}; 0]$  a polomerom  $\frac{a}{2}$ , pre  $c = -2$  dostaneme hyperbolu so stredom v počiatku systému a s hlavnými vrcholmi v bodoch  $[\pm a; 0]$ , pre  $c = -\frac{1}{2}$  dostaneme parabolu s vrcholom v bode  $[a; 0]$ . Pre  $c = 2$  dostaneme Bernoulliho lemniskátu, pre  $c = \frac{1}{2}$  dostaneme kardioidu, pre  $c = -\frac{1}{100}$  dostaneme špirálu a pre  $c = \frac{4}{7}$  dostaneme ružu (viď obr. 3.1.96).



Obr. 3.1.96: Sínusová špirála.

**Diablova (čertova) krivka** (obr. 3.1.97) je rovinná krivka implicitne definovaná

$$f_{a,b}: y^2(y^2 - a^2) = x^2(x^2 - b^2), \quad a, b \in R,$$

resp. v polárnom systéme implicitne definovaná rovnicou

$$f_{a,b}: \rho^2(\sin^2 \varphi - \cos^2 \varphi) = a^2 \sin^2 \varphi - b^2 \cos^2 \varphi, \quad a, b \in R.$$

Parametricky ju môžeme v karteziánskom systéme vyjadriť vzťahmi

$$f_{a,b}: x = \cos t \sqrt{\frac{a^2 \sin^2 t - b^2 \cos^2 t}{\sin^2 t - \cos^2 t}}, \quad y = \sin t \sqrt{\frac{a^2 \sin^2 t - b^2 \cos^2 t}{\sin^2 t - \cos^2 t}}, \quad a, b \in R, \quad t \in R.$$

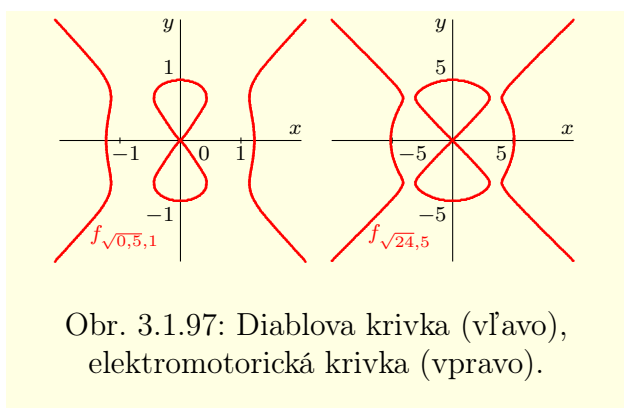
Diablovu krivku pre  $a^2 = 24$ ,  $b^2 = 25$ , t.j. krivku  $f_{\sqrt{24},5}$ :  $y^2(y^2 - 24) = x^2(x^2 - 25)$ , nazývame **elektromotorická krivka** (obr. 3.1.97 vpravo).

**Deltoida** (obr. 3.1.98) je rovinná krivka definovaná implicitne vzťahom

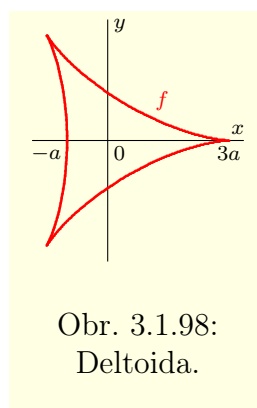
$$f: (x^2 + y^2 + 12ax + 9a^2)^2 = 4a(2x + 3a)^3, \quad a > 0,$$

resp. parametricky vzťahmi

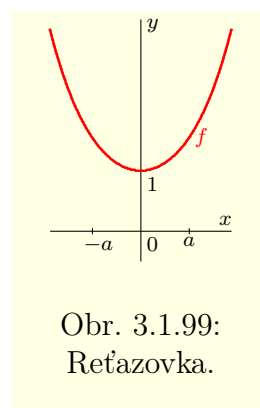
$$f: x = a(2 \cos t + \cos(2t)), \quad y = a(2 \sin t - \sin(2t)), \quad a > 0, \quad t \in R.$$



Obr. 3.1.97: Diablove krivka (vľavo),  
elektromotorická krivka (vpravo).



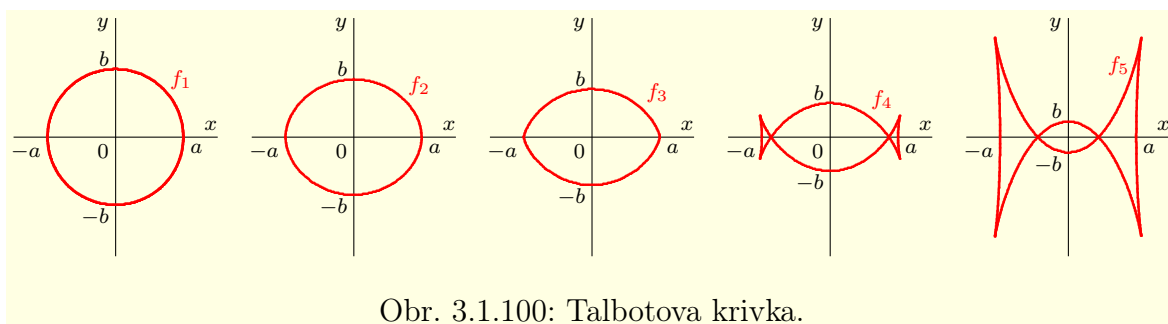
Obr. 3.1.98:  
Deltoida.



Obr. 3.1.99:  
Reťazovka.

Ideálne ohybné vlákno, ktoré je upevnené a zavesené v dvoch bodoch, má v rovnovážnej polohe tvar reťazovky. **Reťazovka** (obr. 3.1.99) je rovinná krivka zadaná vzťahom

$$f: y = \cosh \frac{x}{a} = \frac{e^{\frac{x}{a}} + e^{-\frac{x}{a}}}{2}, \quad a > 0, \quad x \in \mathbb{R}.$$



Obr. 3.1.100: Talbotova krivka.

**Talbotova**<sup>49</sup> **krivka** (obr. 3.1.100) je rovinná krivka, ktorá je v karteziánskom systéme súradníc definovaná parametrickými rovnicami

$$f: x = \frac{[a^2 + c^2 \sin^2 t] \cos t}{a}, \quad y = \frac{[a^2 - 2c^2 + c^2 \sin^2 t] \sin t}{b}, \quad a \geq b > 0, \quad c = \sqrt{a^2 - b^2}.$$

Pre  $a = b$ , t. j.  $c = 0$  dostaneme kružnicu  $f: x = a \cos t, y = a \sin t$  s polomerom  $a$  a stredom v počiatku súradnicového systému ( $f_1$  na obr. 3.1.100). Pre  $c^2 < \frac{a^2}{2}$ , t. j. pre  $a > b > \frac{a}{\sqrt{2}}$  dostaneme elipsu s ohniskami, ktorých vzdialenosť je rovná hodnote  $2c$  ( $f_2$  na obr. 3.1.100). Pre  $b = \frac{a}{\sqrt{2}}$ , dostaneme krivku v tvare šošovky ( $f_3$  na obr. 3.1.100) a pre  $0 < b < \frac{a}{\sqrt{2}}$ , krivku pripomínajúcu obal z cukríka ( $f_4, f_5$  na obr. 3.1.100).

**Lissajousova**<sup>50</sup> **krivka** (obr. 3.1.101) je rovinná krivka parametricky zadaná vzťahmi

$$f_n: x = a \sin(nt + c), \quad y = b \sin t, \quad a > 0, \quad b > 0, \quad c \in \mathbb{R}, \quad n \in \mathbb{N}, \quad t \in \mathbb{R}.$$

**Spirická krivka** (obr. 3.1.102) je rovinná krivka definovaná explicitným vzťahom

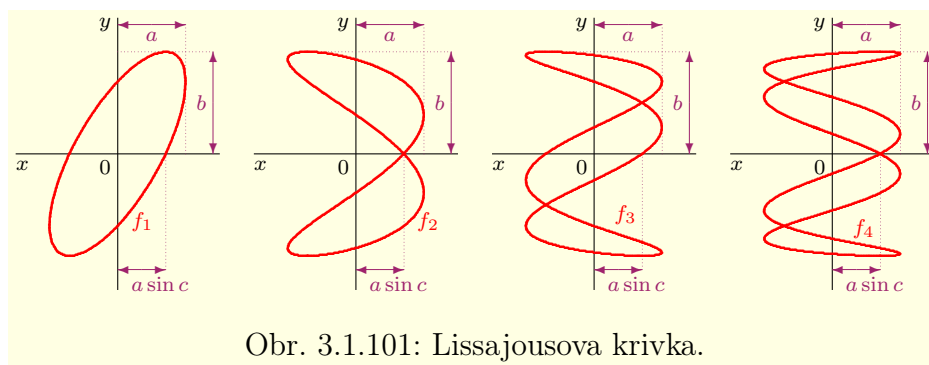
$$f_c: (r^2 - a^2 + c^2 + x^2 + y^2)^2 = 4r^2(c^2 + x^2), \quad a > 0, \quad c \geq 0, \quad r > 0, \quad c \leq r + a.$$

Predchádzajúci výraz môžeme vyjadriť v tvare  $r^2 - a^2 + c^2 + x^2 + y^2 = \pm 2r\sqrt{x^2 + c^2}$ , t. j.

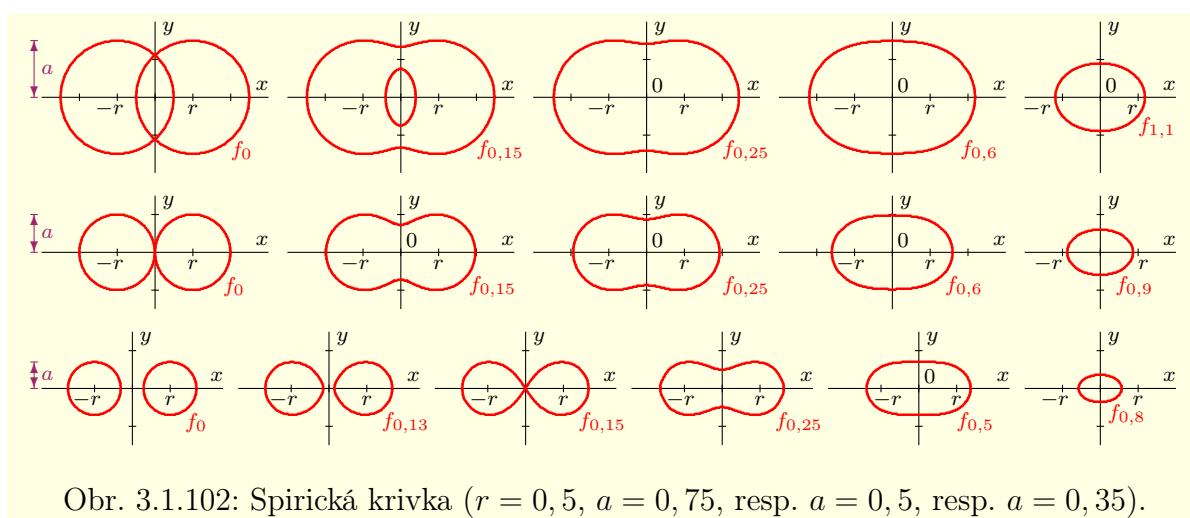
$$r^2 \pm 2r\sqrt{x^2 + c^2} + x^2 + c^2 + y^2 = \left(r \pm \sqrt{x^2 + c^2}\right)^2 + y^2 = a^2.$$

<sup>49</sup> William Henry Fox Talbot [1800–1877] — anglický fyzik, chemik, fotograf a vynálezca.

<sup>50</sup> Jules Antoine Lissajous [1822–1880] — francúzsky fyzik.



Obr. 3.1.101: Lissajousova krivka.

Obr. 3.1.102: Spirická krivka ( $r = 0,5$ ,  $a = 0,75$ , resp.  $a = 0,5$ , resp.  $a = 0,35$ ).

Z toho vyplýva, že pre  $c = r + a$  sa spirická krivka skladá iba z jedného bodu  $[0; 0]$ . Pre  $c = 0$  sa spirická krivka skladá z dvoch rovnakých kružníc  $f_0$ :  $(r \pm x)^2 + y^2 = a^2$ , t. j. kružníc so stredmi  $[\pm r; 0]$  a polomerom  $a$ .

Spirickú krivku tvorí napríklad priečny rez anuloidu,<sup>51</sup> t. j. rez kolmý na kružnicu, ktorú vytvorí stred rotujúcej kružnice. Hodnota  $a$  predstavuje polomer rotujúcej kružnice, hodnota  $r$  predstavuje vzdialenosť stredy anuloidu od stredy rotujúcej kružnice. Hodnota  $c$  predstavuje vzdialenosť roviny tohto rezu od stredy anuloidu.

**Wattova<sup>52</sup> krivka** (obr. 3.1.103) je rovinná krivka implicitne definovaná vzťahmi

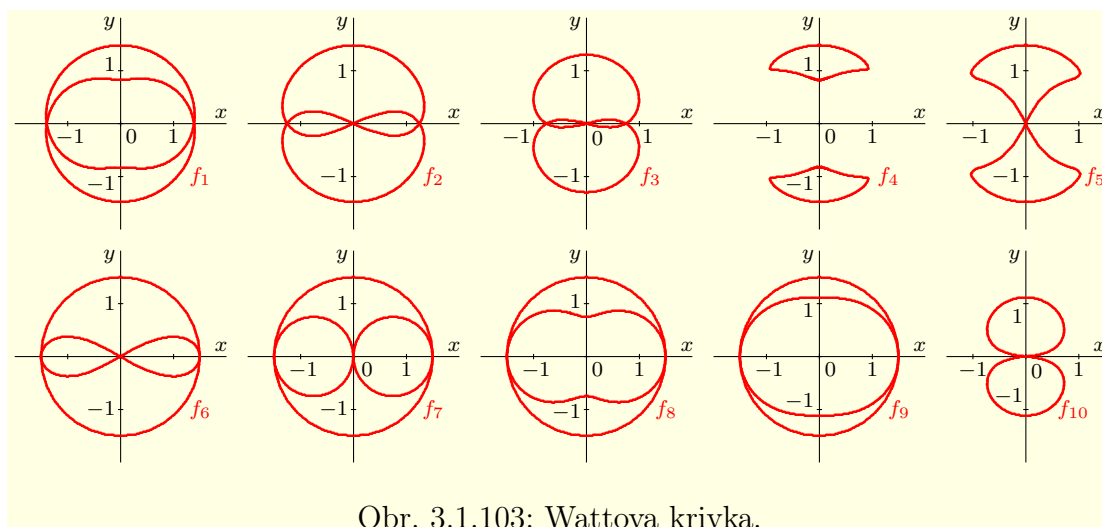
$$f: \rho^2 = b^2 - \left[ a \sin \varphi \pm \sqrt{c^2 - a^2 \cos^2 \varphi} \right]^2, \quad a > 0, \quad b > 0, \quad c > 0.$$

Wattovu krivku opisuje napríklad stred úsečky dĺžky  $2c$ , ktorej konce sú upevnené na obvodoch dvoch daných kruhov s rovnakým polomerom  $b$ , ktoré sa otáčajú okolo svojich stredov (napríklad stred spojnice na kolesách parnej lokomotívy). Hodnota  $2a$  predstavuje vzdialenosť stredov týchto kruhov.

Pre všetky Wattove krivky na obrázku 3.1.103 platí  $b = 1,5$ , pre ostatné parametre platí  $f_1$ :  $a = 0,5$ ,  $c = 0,75$ ,  $f_2$ :  $a = 1,25$ ,  $c = 1,5$ ,  $f_3$ :  $a = 0,75$ ,  $c = 1,5$ ,  $f_4$ :  $a = 0,75$ ,  $c = 0,5$ ,  $f_5$ :  $a = 1$ ,  $c = 0,75$ ,  $f_6$ :  $a = 1,5$ ,  $c = 1,5$ ,  $f_7$ :  $a = 0,75$ ,  $c = 0,75$ ,  $f_8$ :  $a = 0,65$ ,  $c = 0,65$ ,  $f_9$ :  $a = 0,5$ ,  $c = 0,5$ ,  $f_{10}$ :  $a = 0,75$ ,  $c = 1,75$ .

<sup>51</sup> **Anuloid** je priestorové teleso, ktoré tvarom pripomína pneumatiku (presnejšie dušu) automobilu. Vznikne rotáciou kružnice, resp. gule okolo daného pevného bodu, ktorý nazývame **stred anuloidu**.

<sup>52</sup> *James Watt* [1736–1819] — škótsky inžinier, ktorý zdokonalil parný stroj.



Obr. 3.1.103: Wattova krivka.

## Cvičenia

3.1.1. **U-101** Rzdndite, či sú nasledujúce relácie funkciami: ♣

- |   |   |
|---|---|
| a) $f = \{[x; y] \in \mathbb{R}^2; x +  y - 1  = 0\}$ ,         | b) $f = \{[x; y] \in \mathbb{R}^2;  x - 1  + y = 0\}$ ,     |
| c) $f = \{[x; y] \in \mathbb{R}^2;  x  +  y  = 2, y \geq 0\}$ , | d) $f = \{[x; y] \in \mathbb{R}^2;  x - 1  +  y  = 0\}$ ,   |
| e) $f = \{[x; y] \in \mathbb{R}^2; x^2 + y^2 - 2x = 0\}$ ,      | f) $f = \{[x; y] \in \mathbb{R}^2; x^2 + y^2 - 2x = -1\}$ , |
| g) $f = \{[x; y] \in \mathbb{R}^2; x^2 + y^2 - 2x = -2\}$ ,     | h) $f = \{[x; y] \in \mathbb{R}^2; y^2 + 2y + 1 = 0\}$ .    |

3.1.2. **U-102** prirodzený definičný obor funkcie  $y = f(x)$  zadanej predpisom: ♣

- |                                   |   |   |                                   |
|-----------------------------------|---|---|-----------------------------------|
| a) $y = \arcsin \ln x$ ,          | b) $y = \operatorname{arctg} \operatorname{tg} x$ , | c) $y = \arcsin \frac{1}{x}$ ,            | d) $y = \sqrt{\sin x^2}$ ,        |
| e) $y = \sqrt{x \sin^2 \pi x}$ ,  | f) $y = \sqrt{\sin \sqrt{x}}$ ,                     | g) $y = \sqrt{\cos \sqrt{x}}$ ,           | h) $y = \sqrt{\cos x^2}$ ,        |
| i) $y = \frac{x+2}{2x^2-1}$ ,     | j) $y = \frac{\sqrt{x}}{\sin \pi x}$ ,              | k) $y = \ln \sin \frac{\pi}{x}$ ,         | l) $y = \sqrt{\frac{x+1}{x-1}}$ , |
| m) $y = \frac{1}{\sqrt{ x -x}}$ , | n) $y = \ln \frac{1-x}{1+x}$ ,                      | o) $y = \frac{2}{2-[x]}$ ,                | p) $y = \frac{\sqrt{x-2}}{x-4}$ , |
| q) $y = \sqrt{\sin x + 1}$ ,      | r) $y = \ln \ln \ln x$ ,                            | s) $y = \sqrt{\ln \operatorname{tg} x}$ , | t) $y = \sqrt{ x  - x}$ ,         |
| u) $y = \sqrt{\frac{x-1}{x+1}}$ , | v) $y = \frac{x^2}{1+x}$ ,                          | w) $y = \ln \frac{x}{x+1}$ ,              | x) $y = \ln \frac{x+2}{x-3}$ .    |

3.1.3. **U-103** prirodzený definičný obor funkcie  $y = f(x)$  zadanej predpisom: ♣

- |  |   |  |
|--|---|--|
| a) $y = \sqrt{1 - \operatorname{tg} 2x}$ , | b) $y = \ln(x^2 - 4)$ ,                 | c) $y = \ln(x - 2) + \ln(x + 2)$ ,               |
| d) $y = \sqrt{\sin x \cos x}$ ,            | e) $y = \sqrt{\sin x \sqrt{\cos x}}$ ,  | f) $y = \sqrt{\ln \sin x} + \sqrt{\ln \cos x}$ , |
| g) $y = \arccos(2 \sin x)$ ,               | h) $y = \ln 1 - \sqrt{x} $ ,            | i) $y = \ln x^2 - 2x - 6 $ ,                     |
| j) $y = \ln(e^x - e^{-x})$ ,               | k) $y = \ln(1 - \operatorname{tg} x)$ , | l) $y = \ln(2 \cos x - \sqrt{3})$ ,              |
| m) $y = \arcsin \sin x$ ,                  | n) $y = \arcsin \cos x$ ,               | o) $y = \sqrt{4 - x} + \sqrt{2 + x}$ ,           |
| p) $y = \sin \arcsin x$ ,                  | q) $y = \sin \arccos x$ ,               | r) $y = \cos \arccos x$ ,                        |
| s) $y = \sqrt{2 - \sqrt{x}}$ ,             | t) $y = \sqrt{3x - x^3}$ ,              | u) $y = \sqrt{4 + x} + \sqrt{-x}$ .              |

3.1.4. **U-104** prirodzený definičný obor funkcie  $y = f(x)$  zadanej predpisom: ♣

- |                                  |                                   |   |
|----------------------------------|-----------------------------------|---|
| a) $y = \arcsin \frac{x-1}{2}$ , | b) $y = \arccos \frac{2x}{1+x}$ , | c) $y = \ln \frac{x^2 - 3x + 2}{x+1}$ , |
|----------------------------------|-----------------------------------|---|

d) $y = \arcsin \log \frac{x}{10}$ ,	e) $y = \frac{x}{\sin(2x-1)}$ ,	f) $y = \frac{\arcsin(x+1)}{\sqrt{x^2+x-6}}$ ,
g) $y = \arcsin \frac{10x}{x^2+16}$ ,	h) $y = \frac{\sqrt{2e^x-1}}{\ln(2-e^x)}$ ,	i) $y = \sqrt{\frac{x-1}{x}} - \sqrt{\frac{x+1}{x}}$ ,
j) $y = \frac{1-\sin x}{1+\sin x}$ ,	k) $y = \arccos \frac{1-e^x}{2}$ ,	l) $y = \frac{1}{\sqrt{1+\ln x-1}}$ ,
m) $y = \sin \ln \frac{1}{3x+1}$ ,	n) $y = \frac{\ln(2x-3)}{\sqrt{x^2-1}}$ ,	o) $y = \operatorname{arctg} \frac{x-1}{x+1}$ ,
p) $y = \arcsin \frac{1-x^3}{1+x^3}$ ,	q) $y = \frac{1}{1-(-1)^{ x }}$ ,	r) $y = \arcsin \frac{x}{x+1}$ .

3.1.5. ~~Z1105~~ ~~Z1105~~ Najte graf funkcie  $y = f(x)$  zadanej predpisom:

a) $y = \lfloor \sin^2 x \rfloor$ ,	b) $y = \lfloor \cos^2 x \rfloor$ ,	c) $y = \sin(x+1)$ ,	d) $y =  x  -  x-1 $ ,
e) $y = \arcsin 3x$ ,	f) $y = \sin 3x$ ,	g) $y = 3 \sin x$ ,	h) $y = \max\{x, x^2\}$ ,
i) $y = e^{\lfloor x \rfloor}$ ,	j) $y = \lfloor e^x \rfloor$ ,	k) $y = \lfloor \ln x \rfloor$ ,	l) $y = \arcsin x + 1$ ,
m) $y = x + \sin x$ ,	n) $y = x \sin x$ ,	o) $y = x^2 + \sin x$ ,	p) $y = \arcsin(x+1)$ ,
q) $y = x^2 \sin x$ ,	r) $y = x^3 \sin x$ ,	s) $y = \lfloor \sin x \rfloor$ ,	t) $y =  x +  x   + 1$ ,
u) $y = \frac{\sin x}{x^2}$ ,	v) $y = \frac{4}{x-1}$ ,	w) $y = \frac{x+1}{x-1}$ ,	x) $y = \frac{1}{x^2-2x+1}$ .

3.1.6. ~~Z1106~~ ~~Z1106~~ Najte graf parametricky zadanej funkcie  $y = f(x)$  a určte jej explicitný tvar.

a) $x = 1 - t, y = t, t \in (-\infty; \infty)$ ,	b) $x = t, y = t^2, t \in (-\infty; \infty)$ ,
c) $x = 1 - t^2, y = t^2, t \in (-\infty; \infty)$ ,	d) $x = t^2, y = t^3, t \in (-\infty; \infty)$ ,
e) $x = 2 \cos t, y = \sin t, t \in \langle 0; 2\pi \rangle$ ,	f) $x = 2 \cos t, y = \sin t, t \in \langle 0; \pi \rangle$ ,
g) $x = t - t^2, y = t^2 - t^3, t \in (-\infty; \infty)$ ,	h) $x = \cos^2 t, y = \sin^2 t, t \in \langle 0; 2\pi \rangle$ ,
i) $x = \frac{1}{\sqrt{1+t^2}}, y = \frac{t}{\sqrt{1+t^2}}, t \in R$ ,	j) $x = \frac{t}{1+t^3}, y = \frac{t^2}{1+t^3}, t \in R - \{-1\}$ .

3.1.7. ~~Z1107~~ ~~Z1107~~ Či sa rovnajú funkcie  $f$  a  $g$ , ak platí: ♣

a) $f(x) = \frac{1}{x}, g(x) = \frac{x}{x^2}$ ,	b) $f(x) = 1, g(x) = \frac{x}{x}$ ,	c) $f(x) = x, g(x) = (\sqrt{x})^2$ .
---	-------------------------------------	--------------------------------------

3.1.8. ~~K1108~~ ~~K1108~~ z funkcií  $f: y = \frac{1}{x^2+x}, g: y = \frac{1}{x^2+\sqrt{x^2}}, h: y = \frac{1}{x} - \frac{1}{x+1}$  sa rovnajú? ♣

3.1.9. ~~D1109~~ ~~D1109~~ Dokažte, že ak sú funkcie  $f, g$  párne, resp. nepárne, potom sú funkcie  $fg, \frac{f}{g}, \frac{g}{f}$  (pokiaľ sú definované) párne.

3.1.10. ~~D1110~~ ~~D1110~~ Dokažte, že ak je funkcia  $f$  párna a  $g$  nepárna, potom sú funkcie  $fg, \frac{f}{g}, \frac{g}{f}$  (pokiaľ sú definované) nepárne.

3.1.11. ~~R1111~~ ~~R1111~~ Rozhodnite, či je funkcia  $y = f(x)$  párna alebo nepárna. ♣

a) $y = x^2 + \sin x^2$ ,	b) $y = \cos(\pi - x)$ ,	c) $y = x \cosh x$ ,	d) $y = \sin x + \cos x$ ,
e) $y = x \ln  x $ ,	f) $y = x - x^3$ ,	g) $y = x - x^2$ ,	h) $y = \chi(x) - \chi^2(x)$ ,
i) $y = \frac{ x }{x}$ ,	j) $y = x^2 +  x $ ,	k) $y = x + \sin x$ ,	l) $y =  x  + \cos x$ ,
m) $y = \ln \frac{2-x}{2+x}$ ,	n) $y = \frac{\sinh x}{\sin x}$ ,	o) $y = \frac{2^x + 2^{-x}}{2}$ ,	p) $y = \frac{2^x - 2^{-x}}{2}$ ,
q) $y = \frac{2^x + 1}{2^x - 1}$ ,	r) $y = x \frac{2^x + 1}{2^x - 1}$ ,	s) $y = \frac{x}{2^x - 1}$ ,	t) $y = \frac{x+1}{x-1}$ ,
u) $y = \frac{e^x - 1}{e^x + 1}$ ,	v) $y = \frac{1}{2 + \cos^3 x}$ ,	w) $y = \frac{\sin x}{x}$ ,	x) $y = \frac{x + \operatorname{tgh} x}{3 + 2 \cos x}$ .

3.1.12. ~~N1112~~ ~~N1112~~  $y = f(x)$  je ľubovoľná funkcia definovaná na intervale  $(-k; k)$ , kde  $k \in R, k > 0$ . Dokážte, že funkcia  $f(x) + f(-x)$  je párna a funkcia  $f(x) - f(-x)$  je nepárna na intervale  $(-k; k)$ .

**3.1.13. Rozložte** funkciu  $y = f(x)$  na súčet párnej a nepárnej funkcie. ♣

- |                    |                    |                                       |                         |
|--------------------|--------------------|---------------------------------------|-------------------------|
| a) $y = x + 1$ ,   | b) $y = x +  x $ , | c) $y = x^2 +  x $ ,                  | d) $y = x^2 + x$ ,      |
| e) $y = \chi(x)$ , | f) $y = e^x$ ,     | g) $y = \frac{1}{x+1}$ ,              | h) $y = x^2 - 2x + 1$ , |
| i) $y = x - [x]$ , | j) $y = x + [x]$ , | k) $y = (-1)^{\lfloor x-1 \rfloor}$ , | l) $y = [x] +  x $ .    |

**3.1.14. Doplnite** definíciu funkcie  $y = f(x)$  tak, aby bola párna, resp. nepárna. ♣

- |                                 |                           |                              |
|---------------------------------|---------------------------|------------------------------|
| a) $y = x - 1, x > 0$ ,         | b) $y =  x - 1 , x > 0$ , | c) $y = \sqrt{x+1}, x > 0$ , |
| d) $y = \frac{1}{x+1}, x > 0$ , | e) $y = x + [x], x > 0$ , | f) $y = x^2 - x, x > 0$ .    |

**3.1.15. Je funkcia**  $y = f(x)$  periodická? Ak áno, určte jej primitívnu periódu: ♣

- |                     |                                    |                      |                                       |
|---------------------|------------------------------------|----------------------|---------------------------------------|
| a) $y =  \sin x $ , | b) $y = \sin x^2$ ,                | c) $y = \sin^2 x$ ,  | d) $y = (-1)^{\lfloor x-1 \rfloor}$ , |
| e) $y = x - [x]$ ,  | f) $y = \lfloor \chi(x) \rfloor$ , | g) $y = \chi([x])$ , | h) $y = (-1)^{\lfloor x \rfloor}$ .   |

**3.1.16. Je funkcia**  $y = f(x)$  periodická? Ak áno, určte jej primitívnu periódu: ♣

- |  |   |   |
|--|---|---|
| a) $y = \sin x + \cos x$ ,   | b) $y = \sin x + \operatorname{tg} x$ ,   | c) $y = \operatorname{sgn}(x - [x])$ ,                              |
| d) $y = \sin x + \cos 2x$ ,  | e) $y = \arcsin \sin x$ ,   | f) $y = \cos x - 3 \sin 4x$ ,                                       |
| g) $y = \ln  \sin x + \cos x $ ,                                       | h) $y = 2^{3+\sin 2x}$ ,  | i) $y = x \arccos x$ ,  |
| j) $y = \frac{1+(-1)^{\lfloor x \rfloor}}{(-1)^{\lfloor x \rfloor}}$ , | k) $y = \frac{3^{\lfloor x \rfloor} + (-3)^{\lfloor x \rfloor}}{3^{\lfloor x \rfloor}}$ , | l) $y = \frac{1+(-2)^{\lfloor x \rfloor}}{3^{\lfloor x \rfloor}}$ . |

**3.1.17. Zostrojte** funkciu  $y = f(x)$  s primitívnu periódu  $p = 1$ , ak platí: ♣

- |                              |                              |                                   |
|------------------------------|------------------------------|-----------------------------------|
| a) $y = x^2, x \in (0; 1)$ , | b) $y = x^2, x \in (1; 2)$ , | c) $y = \sqrt{x}, x \in (3; 4)$ . |
|------------------------------|------------------------------|-----------------------------------|

**3.1.18. Zostrojte** periodickú funkciu  $y = f(x)$ ,  $D(f) \subset \mathbb{R}$  s primitívnu periódu  $p$  a načrtnite jej graf tak, aby funkcia  $f(x)$  bola: ♣

- Párna, rastúca na intervale  $\langle 3; 4 \rangle$ ,  $p = 4$  a  $f(1) = 0$ .
- Párna, rastúca na intervale  $\langle 1; 2 \rangle$  a klesajúca na intervale  $\langle 6; 8 \rangle$ .
- Nepárna, rastúca na intervale  $\langle 1; 4 \rangle$  a klesajúca na intervale  $\langle 7; 9 \rangle$ .
- Nepárna,  $p = 6$ ,  $f(x) = 9 - x$  pre  $x \in \langle 7; 9 \rangle$  a interval  $\langle 0; 1 \rangle \notin D(f)$ .
- Nepárna,  $p = 6$ ,  $f(x) = 9 - x$  pre  $x \in \langle 7; 9 \rangle$  a interval  $(0; 1) \notin D(f)$ .
- Párna,  $p = 8$ ,  $f(x) = 3 - x$  pre  $x \in \langle 0; 3 \rangle$  a interval  $(3; 4) \notin D(f)$ .

**3.1.19. Na delí** sú funkcie  $f, g$  periodické s primitívnu periódu  $p \neq 0$ . Dokážte, že funkcie  $f \pm g, fg, \frac{f}{g}, \frac{g}{f}$  (pokiaľ sú definované) sú periodické.

**3.1.20. Najdite** intervaly, na ktorých je funkcia  $y = f(x)$  monotónna: ♣

- |  |                            |  |                                   |
|--|----------------------------|--|-----------------------------------|
| a) $y = \lfloor \frac{1}{x} \rfloor$ , | b) $y = (x^2 - x)^3$ ,     | c) $y = 2^{x^2-3x+2}$ ,                | d) $y = 2^{ x-2 + x+1 }$ ,        |
| e) $y = x^2 - 3x + 2$ ,                | f) $y = x^4 - 3x^2 + 2$ ,  | g) $y = x -  x $ ,                     | h) $y = \ln^2 x - \ln x$ ,        |
| i) $y = 2 - 3x$ ,                      | j) $y = x^3 - x$ ,         | k) $y = \sqrt{2-3x}$ ,                 | l) $y =  x+3  -  x $ ,            |
| m) $y = x - [x]$ ,                     | n) $y =  x+1 $ ,           | o) $y = x +  x $ ,                     | p) $y = x + \sqrt{x-1}$ ,         |
| q) $y = \frac{x}{x-3}$ ,               | r) $y = \frac{x+2}{x-3}$ , | s) $y = \frac{\sqrt{x}}{1+\sqrt{x}}$ , | t) $y = \ln \frac{x^2+3x}{x+2}$ . |

**3.1.21. Zistite**, či je funkcia  $y = f(x)$ ,  $x \in D(f)$  ohraničená zhora alebo zdola a určte jej suprénum a infimum, prípadne maximum a minimum, ak existuje. ♣

- |   |   |
|---|---|
| a) $y = \frac{1}{1+x^2}, x \in \langle 0; \infty \rangle$ , | b) $y = \frac{1}{1+x^2}, x \in \mathbb{R}$ ,        |
| c) $y = \frac{1}{1+x^2}, x \in (-1; 1)$ ,                   | d) $y = 1 - 3x, x \in \langle 0; 5 \rangle$ ,       |
| e) $y = x^2 - 4x + 5, x \in \mathbb{R}$ ,                   | f) $y = x^2 - 4x + 5, x \in \langle 3; 6 \rangle$ . |



**3.1.22.** ~~cN4j22~~ Nájde maximum a minimum funkcie  $y = f(x)$  zadanej predpisom: ♣

- a)  $y = x^2 - 3x + 1$ ,      b)  $y = x^3 - 3x + 1$ ,      c)  $y = x^2 + |x|$ ,      d)  $y = x^2 - |x|$ ,  
 e)  $y = \sin^2 x$ ,      f)  $y = \sin x^2$ ,      g)  $y = 2 + \sin x$ ,      h)  $y = \sin(x + 1)$ .

**3.1.23.** ~~cN4e23~~  $f: y = x$ ,  $g: y = 1 - x^2$ ,  $h: y = \sin x$ . Určte funkcie  $f(g)$ ,  $g(f)$ ,  $f(h)$ ,  $h(f)$ ,  $g(h)$ ,  $h(g)$ ,  $f[g(h)]$ ,  $f[h(g)]$ ,  $g[f(h)]$ ,  $g[h(f)]$ ,  $h[f(g)]$ ,  $h[g(f)]$ . ♣

**3.1.24.** ~~cN4j24~~ Nájde funkcie  $f \pm g$ ,  $fg$ ,  $\frac{f}{g}$ ,  $f(g)$ ,  $g(f)$ ,  $f(f)$ ,  $g(g)$ , ak: ♣

- a)  $f(x) = 2x$ ,  $g(x) = 4 - x$ ,      b)  $f(x) = x^2 + x + 1$ ,  $g(x) = x^2 - 1$ ,  
 c)  $f(x) = \ln x$ ,  $g(x) = \sqrt{1 - |x|}$ ,      d)  $f(x) = \ln x$ ,  $g(x) = \sinh x$ ,  
 e)  $f(x) = \operatorname{argsinh} x$ ,  $g(x) = \cosh x$ ,      f)  $f(x) = x^2$ ,  $g(x) = \sqrt{x}$ ,  
 g)  $f(x) = (x + 1)^2$ ,  $g(x) = \sqrt{x}$ ,      f)  $f(x) = x^2$ ,  $g(x) = [x]$ ,  
 i)  $f(x) = x + |x|$ ,  $g(x) = x^2 - x$ ,      j)  $f(x) = \sqrt{x + 2}$ ,  $g(x) = \frac{1}{x + 2}$ .

**3.1.25.** ~~cN4j25~~ Nájde funkcie  $|g|$ ,  $f + g$ ,  $g^2$ ,  $fg$ ,  $\frac{f}{g}$ ,  $f(g)$ ,  $g(f)$ ,  $f(f)$ ,  $g(g)$  a ich definičné obory, ak  $f(x) = x$  pre  $x < 0$  a  $f(x) = x^2$  pre  $x \geq 0$  a platí: ♣

- a)  $g(x) = \begin{cases} 1, & \text{pre } x < 0, \\ x^2 + 1, & \text{pre } x \geq 0, \end{cases}$       b)  $g(x) = \begin{cases} x^2, & \text{pre } x < 0, \\ x + 1, & \text{pre } x \geq 0. \end{cases}$

**3.1.26.** ~~cN4j26~~ Nájde zložené funkcie  $f_2 = f(f)$ ,  $f_3 = f(f(f))$ ,  $\dots$ ,  $f_n = f(f(f \dots f(f)))$ , ak funkcia  $f_1 = f$  je definovaná predpisom: ♣

- a)  $f(x) = 1 + x$ ,      b)  $f(x) = 1 - x$ ,      c)  $f(x) = \frac{1+x}{x}$ ,      d)  $f(x) = \frac{x}{1+x}$ ,  
 e)  $f(x) = \frac{1+x}{1-x}$ ,      f)  $f(x) = \frac{1-x}{1+x}$ ,      g)  $f(x) = \frac{x}{1-x}$ ,      h)  $f(x) = \frac{x}{x-1}$ ,  
 i)  $f(x) = \frac{x-1}{x+1}$ ,      j)  $f(x) = \frac{x+1}{x-1}$ ,      k)  $f(x) = \frac{1-x}{x}$ ,      l)  $f(x) = \frac{x-1}{x}$ .

**3.1.27.** ~~cN4e27~~ Je daná funkcia  $y = f(x)$ . Nájde všetky  $x \in R$  tak, aby platilo: ♣

- a)  $y = \frac{1+x}{1-x} \leq 1$ ,      b)  $y = \frac{1+x^2}{(1-x)^2} \geq 2$ ,      c)  $y = \frac{1-\sqrt{1-2x^2}}{x} < 1$ .

**3.1.28.** ~~cN4e28~~  $f: y = \ln \frac{1+x}{1-x}$ ,  $x \in (-1; 1)$ . Dokážte, že  $f(x_1) + f(x_2) = f\left(\frac{x_1+x_2}{1+x_1x_2}\right)$ .

**3.1.29.** ~~cN4e29~~ Sú funkcie  $f$ ,  $g$  elementárne a nech pre všetky  $x \in D(f)$  platí  $f(x) > 0$ . Dokážte, že funkcia  $f^g$  je elementárna.

[Návod:  $f(x)^{g(x)} = e^{g(x) \ln f(x)}$ .]

**3.1.30.** ~~cN4j30~~ Nájde inverznú funkciu k funkcii  $y = f(x)$  zadanej predpisom: ♣

- a)  $y = x^2 - 1$ ,  $x \in \langle 2; 5 \rangle$ ,      b)  $y = \frac{x}{x+3}$ ,  $x \in R - \{3\}$ ,  
 c)  $y = x^2 - 8x + 16$ ,  $x \in \langle 4; 5 \rangle$ ,      d)  $y = \sin(3x - 1)$ ,  $|3x - 1| < \frac{\pi}{2}$ ,  
 e)  $y = \ln \sqrt{x - 1}$ ,  $x \in (1; \infty)$ ,      f)  $y = \ln(\sqrt{x} - 1)$ ,  $x \in (1; \infty)$ .

**3.1.31.** ~~cN4j31~~ Nájde definičný obor a obor hodnôt funkcie  $y = f(x)$  tak, aby bola prostá. Potom k nej určte inverznú funkciu  $y = f^{-1}(x)$ . ♣

- a)  $y = 1 + 2 \operatorname{tg} x$ ,      b)  $y = \arcsin \sin x$ ,      c)  $y = \sqrt{1 + \sin x}$ ,      d)  $y = \arccos e^x$ ,  
 e)  $y = \ln \cos x$ ,      f)  $y = e^{1-x^2} - 1$ ,      g)  $y = \ln(1 + e^x)$ ,      h)  $y = e^{x-1} - 1$ ,  
 i)  $y = |x|(-1)^{|x|}$ ,      j)  $y = x^2 - 2x - 1$ ,      k)  $y = x^4 - 1$ ,      l)  $y = \sqrt{|x + 1|}$ ,  
 m)  $y = \frac{x-1}{2-3x}$ ,      n)  $y = \frac{1-\cos x}{1+\cos x}$ ,      o)  $y = \sqrt{\arcsin \frac{x}{3}}$ ,      p)  $y = \frac{1-2^x}{1+2^x}$ .

**3.1.32.** Najdi definičný obor a obor hodnôt funkcie  $y = f(x)$  tak, aby bola prostá. Potom k nej určte inverznú funkciu  $y = f^{-1}(x)$ . ♣

a)  $y = \ln(x^2 - 5x + 6),$

b)  $y = 1 + \sqrt{1 + e^{2x}},$

c)  $y = 1 + \arccos(2x - 1),$

d)  $y = \begin{cases} x, & \text{pre } x < 0, \\ 2x, & \text{pre } x \geq 0, \end{cases}$

e)  $y = \begin{cases} x, & \text{pre } x < 0, \\ \sqrt{x}, & \text{pre } x \geq 0, \end{cases}$

f)  $y = \begin{cases} x^2, & \text{pre } x < 0, \\ x, & \text{pre } x \geq 0. \end{cases}$

**3.1.33.** Dokážte vzťahy pre goniometrické funkcie z tabuľky 3.1.2.

**3.1.34.** Dokážte vzťahy pre hyperbolické funkcie z tabuľky 3.1.3.

## 3.2 Limita funkcie

Pri vyšetovaní funkcie je dôležité charakterizovať jej lokálne vlastnosti, t. j. jej chovanie v okolí ľubovoľného bodu. Zaujímajú nás napríklad hodnoty funkcie v okolí nejakého bodu, v ktorom nie je definovaná. Na začiatok uvedieme niekoľko príkladov.

### Príklad 3.2.1. K3-pr26

Nech  $f: y = f(x)$  a nech  $a \in R$  je daný bod. V matematike má dôležitú úlohu podiel

$$g(x) = \frac{f(x) - f(a)}{x - a}.$$

Zaujímá nás, ako sa mení podiel prírastku funkcie  $f(x) - f(a)$  a prírastku argumentu  $x - a$ , t. j. ako sa mení hodnota funkcie  $g(x)$  v okolí bodu  $a$ . Z fyzikálneho hľadiska predstavuje funkcia  $g(x)$  zmenu priemernej rýchlosti telesa pohybujúceho sa rýchlosťou  $f(x)$  v časovom intervale  $x - a$ . ■

### Príklad 3.2.2. K3-pr27

Uvažujme funkciu  $f(x) = \frac{x^2 - 4}{x - 2}$ ,  $x \in R - \{2\}$ . Pre všetky  $x \in R$ ,  $x \neq 2$  platí:

$$f(x) = \frac{x^2 - 4}{x - 2} = \frac{(x - 2)(x + 2)}{x - 2} = x + 2.$$

Je zrejmé, že ak sa bude hodnota argumentu  $x$  blížiť k číslu 2 (ozn.  $x \rightarrow 2$ ), potom sa hodnota funkcie  $f(x)$  bude blížiť k číslu  $2 + 2 = 4$ , t. j.  $f(x) \rightarrow 4$ .

To znamená, že ak bude nejaká postupnosť argumentov  $\{x_n\}_{n=1}^{\infty}$  konvergovať k bodu 2, potom bude príslušná postupnosť funkčných hodnôt  $\{f(x_n)\}_{n=1}^{\infty}$  konvergovať k bodu 4.

V prípade  $x \rightarrow 5$  platí  $f(x) \rightarrow 7$  a v prípade  $x \rightarrow \infty$  platí  $f(x) \rightarrow \infty$ .

Takže je logické položiť  $f(2) = 4$  a funkcia bude definovaná pre všetky  $x \in R$ . ■

Všimnime si, že daná funkcia nemusí byť definovaná v bode, v okolí ktorého ju skúmame. V každom prípade je tento bod hromadným bodom definičného oboru funkcie. Ak to zhrnieme, zaujíma nás ako sa správa hodnota závislej premennej  $f(x)$  v prípade, že sa hodnota nezávislej premennej  $x$  blíži k bodu  $a$ .

Nech  $a \in R^*$  je hromadný bod definičného oboru funkcie  $f: y = f(x)$  a nech  $\{x_n\}_{n=1}^{\infty}$  je postupnosť bodov, ktorá sa blíži k bodu  $a$ . Nech  $x_n \in D(f)$ ,  $x_n \neq a$  pre všetky  $n \in N$ . Potom skúmame, k akej hodnote  $b \in R^*$  (pokiaľ existuje) sa blíži postupnosť príslušných funkčných hodnôt  $\{f(x_n)\}_{n=1}^{\infty}$ , t. j. aká je hodnota

$$\lim_{n \rightarrow \infty} f(x_n), \quad \text{ak} \quad \lim_{n \rightarrow \infty} x_n = a.$$

Ak sa všetky takéto postupnosti  $\{f(x_n)\}_{n=1}^{\infty}$  blížia k tej istej hodnote  $b \in R^*$ , potom hovoríme, že funkcia  $f$  má v bode  $a$  limitu rovnú  $b$ . Teraz prejdeme k presnej definícii limity funkcie v danom bode.

Hovoríme, že **funkcia**  $y = f(x)$  **má v bode**  $a \in R^*$  **limitu rovnú**  $b \in R^*$  (**limita funkcie**  $f$  **v bode**  $a$  **sa rovná bodu**  $b$ )<sup>53</sup> a označujeme  $\lim_{x \rightarrow a} f(x) = b$ , ak:

- a) Bod  $a$  je hromadným bodom množiny  $D(f)$ .  
 b) Pre všetky  $\{x_n\}_{n=1}^{\infty} \subset D(f) - \{a\}$  také, že  $\lim_{n \rightarrow \infty} x_n = a$ , platí  $\lim_{n \rightarrow \infty} f(x_n) = b$ .

Ak  $a \in R$ , potom hovoríme **o limite vo vlastnom bode**  $a$ . Ak  $a = \pm\infty$ , potom hovoríme **o limite v nevlastnom bode**  $a$ . Ak  $b \in R$ , potom hovoríme **vlastnej limite** a ak  $b = \pm\infty$ , hovoríme **o nevlastnej limite**.

### Poznámka 3.2.1.K3-poz26

Pretože  $a$  je hromadný bod množiny  $D(f)$ , potom existuje (veta 2.3.5) aspoň jedna postupnosť  $\{x_n\}_{n=1}^{\infty}$  taká, že pre všetky  $n \in N$  platí  $x_n \in D(f)$ ,  $x_n \neq a$ ,  $\lim_{n \rightarrow \infty} x_n = a$ .

Z definície vyplýva, že pre každú postupnosť  $\{x_n\}_{n=1}^{\infty} \rightarrow a$  platí  $\lim_{n \rightarrow \infty} f(x_n) = \lim_{x \rightarrow a} f(x)$ .

### Poznámka 3.2.2.K3-poz28

Z definície jednoznačnosti limity postupnosti vyplýva jednoznačnosť limity funkcie  $f$  v danom bode  $a$ . Predpokladajme, že existujú dve hodnoty  $b_1, b_2 \in R^*$  také, že

$$\lim_{x \rightarrow a} f(x) = b_1, \quad \lim_{x \rightarrow a} f(x) = b_2.$$

Potom pre každú postupnosť  $\{x_n\}_{n=1}^{\infty} \subset D(f) - \{a\}$  takú, že  $\lim_{n \rightarrow \infty} x_n = a$  dostávame spor

$$\lim_{n \rightarrow \infty} f(x_n) = b_1, \quad \lim_{n \rightarrow \infty} f(x_n) = b_2.$$

### Príklad 3.2.3.K3-pr32

Vypočítajte  $\lim_{x \rightarrow a} c$ , kde  $c \in R$ ,  $a \in R^*$ .

#### Riešenie.

Označme  $f: y = c$ . Je zrejmé, že  $a \in R^*$  je hromadným bodom  $D(f) = R$ .

Nech  $\{x_n\}_{n=1}^{\infty} \subset R - \{a\}$  je ľubovoľná postupnosť taká, že  $\lim_{n \rightarrow \infty} x_n = a$ . Potom platí:

$$\lim_{n \rightarrow \infty} f(x_n) = \lim_{n \rightarrow \infty} c = c, \quad \text{t. j.} \quad \lim_{x \rightarrow a} f(x) = \lim_{x \rightarrow a} c = c. \blacksquare$$

### Príklad 3.2.4.K3-pr28

Vypočítajte  $\lim_{x \rightarrow 0} \chi(x)$ , kde  $\chi(x) = 1$  pre  $x \in Q$ ,  $\chi(x) = 0$  pre  $x \notin Q$ .

#### Riešenie.

Je zrejmé, že bod 0 je hromadným bodom množiny  $D(\chi) = R$ .

Pre postupnosti  $\{\frac{1}{n}\}_{n=1}^{\infty}$ ,  $\{\frac{\sqrt{2}}{n}\}_{n=1}^{\infty}$  platí  $\lim_{n \rightarrow \infty} \frac{1}{n} = \lim_{n \rightarrow \infty} \frac{\sqrt{2}}{n} = 0$  a pre všetky  $n \in N$

$$\frac{1}{n} \in D(\chi), \quad \frac{1}{n} \neq 0, \quad \chi\left(\frac{1}{n}\right) = 1, \quad \frac{\sqrt{2}}{n} \in D(\chi), \quad \frac{\sqrt{2}}{n} \neq 0, \quad \chi\left(\frac{\sqrt{2}}{n}\right) = 0.$$

Potom  $\lim_{x \rightarrow 0} \chi(x)$  neexistuje, pretože

$$\lim_{n \rightarrow \infty} \chi\left(\frac{1}{n}\right) = \lim_{n \rightarrow \infty} 1 = 1, \quad \lim_{n \rightarrow \infty} \chi\left(\frac{\sqrt{2}}{n}\right) = \lim_{n \rightarrow \infty} 0 = 0. \blacksquare$$

<sup>53</sup>Táto definícia sa nazýva **definícia limity funkcie v zmysle Heineho**, resp. **Heineho definícia limity funkcie v bode**  $a$ .

**Príklad 3.2.5.K3-pr29**

Nech  $f: y = x^2$ . Vypočítajte  $\lim_{x \rightarrow a} f(x) = \lim_{x \rightarrow a} x^2$ , kde  $a \in R^*$ .

**Riešenie.**

Každý bod  $x = a \in R^*$  je hromadným bodom množiny  $D(f) = R$ .

Nech  $\{x_n\}_{n=1}^{\infty}$  je ľubovoľná postupnosť reálnych čísel rôznych od  $a$  taká, že  $\lim_{n \rightarrow \infty} x_n = a$ . Potom pre príslušnú postupnosť  $\{f(x_n)\}_{n=1}^{\infty}$  na základe vety 2.3.13 platí:

$$\lim_{n \rightarrow \infty} f(x_n) = \lim_{n \rightarrow \infty} x_n^2 = \lim_{n \rightarrow \infty} x_n \cdot \lim_{n \rightarrow \infty} x_n = a \cdot a = \begin{cases} a^2, & \text{pre } a \in R, \\ \infty, & \text{pre } a = \pm\infty. \end{cases}$$

Z toho vyplýva, že pre  $a \in R$  platí  $\lim_{x \rightarrow a} x^2 = a^2$  a pre  $a = \pm\infty$  platí  $\lim_{x \rightarrow \pm\infty} x^2 = \infty$ . ■

**Príklad 3.2.6.K3-pr30**

Vypočítajte  $\lim_{x \rightarrow 0} \sin \frac{1}{x}$ .

**Riešenie.**

Označme  $f: y = \sin \frac{1}{x}$ . Je zrejmé, že bod 0 je hromadný bod množiny  $D(f) = R - \{0\}$ .

Uvažujme postupnosti  $\{\alpha_n\}_{n=1}^{\infty} = \{(2n\pi)^{-1}\}_{n=1}^{\infty}$  a  $\{\beta_n\}_{n=1}^{\infty} = \{(\frac{\pi}{2} + 2n\pi)^{-1}\}_{n=1}^{\infty}$ , ktoré konvergujú k číslu 0. Pre všetky  $n \in N$  platí  $\alpha_n \neq 0$ ,  $\beta_n \neq 0$  a tiež pre všetky  $n \in N$  platí:

$$f(\alpha_n) = f\left(\frac{1}{2n\pi}\right) = \sin(2n\pi) = 0, \quad f(\beta_n) = f\left(\frac{1}{\frac{\pi}{2} + 2n\pi}\right) = \sin\left(\frac{\pi}{2} + 2n\pi\right) = 1$$

Z toho vyplýva, že  $\lim_{n \rightarrow \infty} f(\alpha_n) = 0 \neq \lim_{n \rightarrow \infty} f(\beta_n) = 1$ , t. j.  $\lim_{x \rightarrow 0} \sin \frac{1}{x}$  neexistuje. ■

**Príklad 3.2.7.K3-pr31**

Vypočítajte  $\lim_{x \rightarrow 0} \sin x$ .

**Riešenie.**

Bod 0 je hromadným bodom množiny  $R$ , ktorá je definičným oborom funkcie  $y = \sin x$ .

Nech  $\{x_n\}_{n=1}^{\infty} \subset R - \{0\}$  je taká, že  $\lim_{n \rightarrow \infty} x_n = 0$ .

Potom existuje  $n_0 \in N$  také, že pre všetky  $n \in N$ ,  $n \geq n_0$  platí  $x_n \in (-\frac{\pi}{2}; \frac{\pi}{2})$ . Potom (viď obrázok 3.1.25) pre všetky  $n \in N$ ,  $n \geq n_0$  platí  $-|x_n| \leq \sin x_n \leq |x_n|$ . Z toho vyplýva:

$$0 = - \lim_{n \rightarrow \infty} x_n = - \lim_{n \rightarrow \infty} |x_n| \leq \lim_{n \rightarrow \infty} \sin x_n \leq \lim_{n \rightarrow \infty} |x_n| = \lim_{n \rightarrow \infty} x_n = 0.$$

To znamená, že  $\lim_{x \rightarrow 0} \sin x = 0$ . ■

**3.2.1 Základné vlastnosti**

Z definície je zrejmé, že limita funkcie je lokálna záležitosť v nejakom okolí bodu  $a \in R^*$  na jednej strane a v nejakom okolí bodu  $b \in R^*$  na strane druhej. Ak  $O(a)$ ,  $O(b)$  sú ľubovoľné okolia, potom na základe poznámky 2.3.10 existujú indexy  $n_a, n_b \in N$  také, že pre všetky  $n \in N$ ,  $n \geq n_a$  platí  $x_n \in O(a) - \{a\}$  a pre všetky  $n \in N$ ,  $n \geq n_b$  platí  $f(x_n) \in O(b)$ .

Preto je prirodzené charakterizovať limitu funkcie v bode  $a$  pomocou prstencových okolí  $P(a)$  bodu  $a$  a okolí  $O(b)$  bodu  $b$ .<sup>54</sup> Tento vzťah vyjadruje nasledujúca veta.

**Veta 3.2.1.K3-veta24**

Funkcia  $f$  má v bode  $a \in R^*$  limitu rovnú  $b \in R^*$  práve vtedy, ak:

- a) Bod  $a$  je hromadným bodom množiny  $D(f)$ .

<sup>54</sup>V literatúre sa limita funkcie v danom bode často definuje pomocou okolí a definícia pomocou postupností sa uvádza ako ekvivalentná definícia.

b) Pre každé okolie  $O(b)$  existuje prstencové okolie  $P(a)$  také, že pre všetky  $x \in P(a) \cap D(f)$  platí  $f(x) \in O(b)$ .

**Dôkaz.**

$NP \Rightarrow$ : Sporom. Nech  $O(b)$  je ľubovoľné okolie bodu  $b$ .

Potom pre každé  $P(a)$  existuje  $x \in P(a) \cap D(f)$ , pre ktoré platí  $f(x) \notin O(b)$ .

Nech  $a \in \mathbb{R}$ . Pre každé  $n \in \mathbb{N}$  označme  $P_n(a)$  prstencové okolie s polomerom  $\frac{1}{n}$ . V každom z týchto okolí existuje  $x_n \in P_n(a) \cap D(f)$  tak, že  $f(x_n) \notin O(b)$ . Je zrejmé, že  $\lim_{n \rightarrow \infty} x_n = a$  a z definície limity vyplýva, že  $\lim_{n \rightarrow \infty} f(x_n) = b$ .

Lenže z konštrukcie postupnosti  $\{x_n\}_{n=1}^{\infty}$  vyplýva, že ak  $\lim_{n \rightarrow \infty} f(x_n)$  existuje, potom určite nepatrí do  $O(b)$ , t. j. sa nerovná bodu  $b$ . To je spor.

Pre  $a = \pm\infty$  je dôkaz analogický.

$PP \Leftarrow$ : Nech  $\{x_n\}_{n=1}^{\infty} \subset D(f) - \{a\}$ ,  $\lim_{n \rightarrow \infty} x_n = a$  a nech  $O(b)$  je ľubovoľné okolie bodu  $b$ .

Potom existuje okolie  $P(a)$  také, že pre všetky  $x \in P(a) \cap D(f)$  platí  $f(x) \in O(b)$ .

Z definície limity postupnosti  $\{x_n\}_{n=1}^{\infty}$  vyplýva, že existuje index  $n_0 \in \mathbb{N}$  taký, že pre všetky  $n \in \mathbb{N}$ ,  $n \geq n_0$  platí  $x_n \in P(a) \cap D(f)$ .

Z toho vyplýva, že pre všetky  $n \in \mathbb{N}$ ,  $n \geq n_0$  platí  $f(x_n) \in O(b)$ , t. j.  $\lim_{n \rightarrow \infty} f(x_n) = b$ . ■

**Poznámka 3.2.3.K3-poz30**

Ak označíme  $\varepsilon, \delta$  polomery okolí  $O(a), O(b)$ , môžeme tvrdenie b) symbolicky zapísať:

$$\begin{aligned} \lim_{x \rightarrow a} f(x) = b, a, b \in \mathbb{R} &\Leftrightarrow \underbrace{\forall \varepsilon > 0}_{\forall \varepsilon > 0} \underbrace{\exists \delta > 0}_{\exists \delta > 0} \forall x \in D(f): \underbrace{x \in O_\delta(a), x \neq a}_{0 < |x-a| < \delta} \Rightarrow \underbrace{f(x) \in O_\varepsilon(b)}_{|f(x)-b| < \varepsilon}, \\ \lim_{x \rightarrow \infty} f(x) = b, b \in \mathbb{R} &\Leftrightarrow \forall \varepsilon > 0 \quad \exists \delta \in \mathbb{R} \quad \delta < x \quad |f(x)-b| < \varepsilon, \\ \lim_{x \rightarrow -\infty} f(x) = b, b \in \mathbb{R} &\Leftrightarrow \forall \varepsilon > 0 \quad \exists \delta \in \mathbb{R} \quad x < \delta \quad |f(x)-b| < \varepsilon, \\ \lim_{x \rightarrow a} f(x) = \infty, a \in \mathbb{R} &\Leftrightarrow \forall \varepsilon \in \mathbb{R} \quad \exists \delta > 0 \quad 0 < |x-a| < \delta \quad \delta < f(x), \\ \lim_{x \rightarrow a} f(x) = -\infty, a \in \mathbb{R} &\Leftrightarrow \forall \varepsilon \in \mathbb{R} \quad \exists \delta > 0 \quad 0 < |x-a| < \delta \quad f(x) < \delta. \end{aligned}$$

**Veta 3.2.2.K3-veta25**

Ak má funkcia  $f$  v bode  $a \in \mathbb{R}^*$  konečnú limitu, potom existuje prstencové okolie  $P(a)$ , v ktorom je ohraničená (obr. 3.2.105).

**Dôkaz.**

Nech  $\lim_{x \rightarrow a} f(x) = b \in \mathbb{R}$  a nech  $O(b)$  je ľubovoľné okolie. Potom (veta 3.2.1) existuje  $P(a)$  také, že pre všetky  $x \in P(a) \cap D(f)$  platí  $f(x) \in O(b)$ , t. j. v ktorom je  $f$  ohraničená. ■

**Veta 3.2.3.K3-veta20**

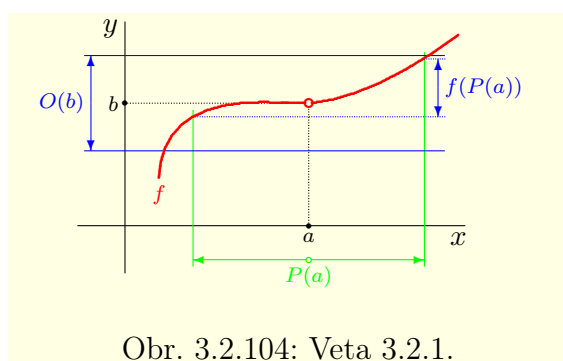
Nech  $a \in \mathbb{R}^*$  je hromadný bod definičných oborov funkcií  $f, g$ . Nech  $P(a)$  je prstencové okolie také, že  $P(a) \cap D(f) = P(a) \cap D(g)$  a pre všetky  $x \in P(a) \cap D(f)$  platí  $f(x) = g(x)$ .

Potom  $\lim_{x \rightarrow a} f(x)$  existuje práve vtedy, ak existuje  $\lim_{x \rightarrow a} g(x)$  a obe limity sa rovnajú.

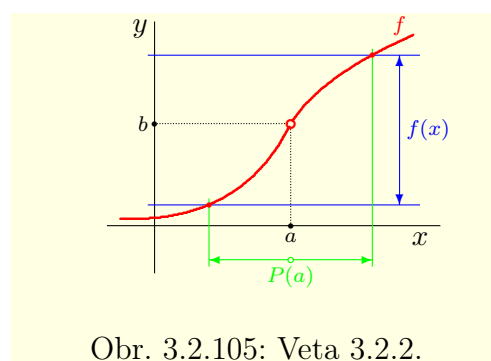
**Dôkaz.**

Stačí dokázať, že ak existuje  $\lim_{x \rightarrow a} f(x)$ , potom existuje  $\lim_{x \rightarrow a} g(x)$  a rovnajú sa.<sup>55</sup>

<sup>55</sup>Opačnú implikáciu dokážeme tak, že dosadíme funkciu  $f$  za funkciu  $g$  a naopak.



Obr. 3.2.104: Veta 3.2.1.



Obr. 3.2.105: Veta 3.2.2.

Predpokladajme, že existuje  $\lim_{x \rightarrow a} f(x) = b \in R^*$ .

Nech postupnosť  $\{x_n\}_{n=1}^{\infty} \subset P(a) \cap D(f)$  je taká, že  $\lim_{n \rightarrow \infty} x_n = a$ . Potom  $\lim_{n \rightarrow \infty} f(x_n) = b$ .

Je zrejmé, že existuje  $n_0 \in N$  také, že pre všetky  $n \in N$ ,  $n \geq n_0$  platí:

$$x_n \in P(a) \cap D(f), \quad \text{t. j. } f(x_n) = g(x_n).$$

Z toho na základe dôsledku 2.3.6.a vyplýva  $\lim_{n \rightarrow \infty} g(x_n) = b$ , t. j.  $\lim_{x \rightarrow a} g(x) = b$ . ■

### Príklad 3.2.8.K3-pr33

Dokážte, že  $\lim_{x \rightarrow 1} \frac{2x^2+x-3}{x-1} = 5$ .

### Riešenie.

Tvrdenie vyplýva z predchádzajúcej vety, pretože pre všetky  $x \in R - \{1\}$  platí:

$$\frac{2x^2+x-3}{x-1} = \frac{(x-1)(2x+3)}{x-1} = 2x+3, \quad \lim_{x \rightarrow 1} (2x+3) = 5. \blacksquare$$

### Poznámka 3.2.4.K3-poz31

Veta 3.2.3 je dôležitá a používa sa často. Väčšinou sa ale pri výpočte neuvádza, napr.

$$\lim_{x \rightarrow 1} \frac{x^4-1}{x-1} = \lim_{x \rightarrow 1} \frac{(x-1)(x^3+x^2+x+1)}{x-1} = \lim_{x \rightarrow 1} (x^3+x^2+x+1) = 4.$$

A ako dokazuje nasledujúci príklad, podmienka  $P(a) \cap D(f) = P(a) \cap D(g)$  v predpokladoch vety 3.2.3 je dôležitá a nemôžeme ju vynechať.

### Príklad 3.2.9.K3-pr34

Uvažujme funkciu  $y = f(x) = 1$ ,  $x \in Q$  a Dirichletovu funkciu  $y = \chi(x)$ ,  $x \in R$ .

Bod 0 je hromadným bodom množín  $D(f) = Q$ ,  $D(\chi) = R$ .

Pre každé prstencové okolie  $P(0)$  a pre všetky  $x \in P(0) \cap D(f)$  platí  $f(x) = \chi(x) = 1$ .

Lenže limita  $\lim_{x \rightarrow 0} f(x) = 1$  a limita  $\lim_{x \rightarrow 0} \chi(x)$  neexistuje. ■

### Veta 3.2.4.K3-veta21

Nech  $a \in R^*$  je hromadný bod definičných oborov funkcií  $f, g$ . Nech  $P(a)$  je prstencové okolie také, že  $P(a) \cap D(f) = P(a) \cap D(g)$  a pre všetky  $x \in P(a) \cap D(f)$  platí  $f(x) \leq g(x)$ .

Ak existujú limity  $\lim_{x \rightarrow a} f(x)$ ,  $\lim_{x \rightarrow a} g(x)$ , potom platí  $\lim_{x \rightarrow a} f(x) \leq \lim_{x \rightarrow a} g(x)$ .

### Dôkaz.

Dôkaz je analogický ako pri vete 3.2.3 a vyplýva z vety 2.3.17. ■

**Dôsledok 3.2.4.a.K3-dosl09**

Nech  $a \in R^*$  je hromadný bod definičných oborov funkcií  $f, g$ . Nech  $P(a)$  je prstencové okolie také, že  $P(a) \cap D(f) = P(a) \cap D(g)$  a pre všetky  $x \in P(a) \cap D(f)$  platí  $f(x) \leq g(x)$ .

a) Ak  $\lim_{x \rightarrow a} f(x) = \infty$ , potom existuje  $\lim_{x \rightarrow a} g(x)$  a platí  $\lim_{x \rightarrow a} g(x) = \infty$ .

b) Ak  $\lim_{x \rightarrow a} g(x) = -\infty$ , potom existuje  $\lim_{x \rightarrow a} f(x)$  a platí  $\lim_{x \rightarrow a} f(x) = -\infty$ .

**Dôsledok 3.2.4.b (Veta o zovretí).K3-dosl10**

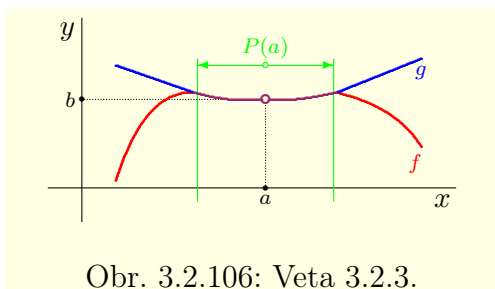
Nech  $a \in R^*$  je hromadný bod definičných oborov funkcií  $f, g, h$ .

Nech  $P(a)$  je prstencové okolie také, že  $P(a) \cap D(f) = P(a) \cap D(g) = P(a) \cap D(h)$  a pre všetky  $x \in P(a) \cap D(f)$  platí  $h(x) \leq f(x) \leq g(x)$ .

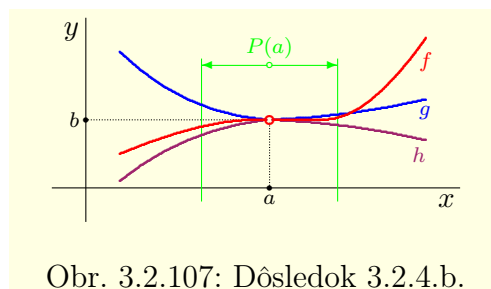
Ak existujú  $\lim_{x \rightarrow a} h(x) = \lim_{x \rightarrow a} g(x) = b, b \in R^*$ , potom existuje  $\lim_{x \rightarrow a} f(x) = b$ .

**Dôsledok 3.2.4.c.K3-dosl12**

Nech  $a \in R^*$  je hromadný bod definičných oborov funkcií  $f, g$  a nech je funkcia  $f$  ohraničená v nejakom prstencovom okolí  $P(a)$ . Ak  $\lim_{x \rightarrow a} g(x) = 0$ , potom  $\lim_{x \rightarrow a} [f(x) \cdot g(x)] = 0$ .



Obr. 3.2.106: Veta 3.2.3.



Obr. 3.2.107: Dôsledok 3.2.4.b.

**Príklad 3.2.10.K3-pr39**

Dokážte, že  $\lim_{x \rightarrow \infty} \frac{\sin x}{x} = 0$ .

**Riešenie.**

Bod  $\infty$  je hromadný bod definičného oboru funkcie  $y = \frac{\sin x}{x}, x \in R - \{0\}$ .

Keďže pre všetky  $x \in R$  platí  $-1 \leq \sin x \leq 1$ , potom pre všetky  $x > 0$  platí:

$$-\frac{1}{x} \leq \frac{\sin x}{x} \leq \frac{1}{x}, \quad \text{t. j.} \quad 0 = -\lim_{x \rightarrow \infty} \frac{1}{x} \leq \lim_{x \rightarrow \infty} \frac{\sin x}{x} \leq \lim_{x \rightarrow \infty} \frac{1}{x} = 0.$$

**Iné riešenie.**

Funkcia  $y = \frac{\sin x}{x}$  sa dá zapísať ako súčin funkcií  $f: y = \sin x, g: y = \frac{1}{x}$ .

Funkcia  $f$  je ohraničená a  $\lim_{x \rightarrow \infty} g(x) = \lim_{x \rightarrow \infty} \frac{1}{x} = 0$ . Z toho vyplýva  $\lim_{x \rightarrow \infty} \frac{\sin x}{x} = 0$ . ■

**Poznámka 3.2.5.K3-poz32**

Ak vo vete 3.2.4 nahradíme predpoklad  $f(x) \leq g(x)$  predpokladom  $f(x) < g(x)$ , záver vety  $\lim_{x \rightarrow a} f(x) \leq \lim_{x \rightarrow a} g(x)$  sa nezmení (príklad 3.2.11).

**Príklad 3.2.11.K3-pr35**

Uvažujme funkcie  $f: y = 0, x \in R$  a  $g: y = \frac{1}{x}, x \in R - \{0\}$ .

Bod  $\infty$  je hromadným bodom množín  $D(f), D(g)$  a pre všetky  $x > 0$  platí:

$$0 = f(x) < g(x) = \frac{1}{x}, \quad \text{ale} \quad \lim_{x \rightarrow \infty} 0 = \lim_{x \rightarrow \infty} f(x) = 0 = \lim_{x \rightarrow \infty} g(x) = \lim_{x \rightarrow \infty} \frac{1}{x}. \quad \blacksquare$$



**Príklad 3.2.12.K3-pr37**

Vypočítajte  $\lim_{x \rightarrow 0} f(x)$ , pričom  $y = f(x)$ ,  $x \in (0; \infty)$  je určená  $f(x) = \begin{cases} \frac{1}{x}, & \text{pre } x \in \mathbb{Q}, \\ 0, & \text{pre } x \notin \mathbb{Q}. \end{cases}$

**Riešenie.**

Označme  $h(x) = 0$ ,  $g(x) = \frac{1}{x}$ , kde  $D(h) = D(g) = (0; \infty)$ .

Bod 0 je hromadný bod množín  $D(f) = D(g) = D(h)$ .

Keďže pre všetky  $x \in (0; \infty)$  platí  $0 = h(x) \leq f(x) \leq g(x) = \frac{1}{x}$ , potom

$$0 = \lim_{x \rightarrow 0} h(x) \leq \lim_{x \rightarrow 0} f(x) \leq \lim_{x \rightarrow 0} g(x) = 0, \quad \text{t. j. } \lim_{x \rightarrow 0} f(x) = 0. \blacksquare$$

**Príklad 3.2.13.K3-pr41**

Dokážte, že pre všetky  $a \in \mathbb{R}$  platí  $\lim_{x \rightarrow \infty} \left(1 + \frac{a}{x}\right)^x = e^a$ .

**Riešenie.**

Pre  $a = 0$  je tvrdenie splnené triviálne.

Ak  $a > 0$ , potom pre všetky  $x > 1$  platí  $1 \leq [x] \leq x < [x] + 1$ , t. j.

$$0 < \frac{a}{[x]+1} < \frac{a}{x} \leq \frac{a}{[x]}, \quad \text{t. j. } 1 < 1 + \frac{a}{[x]+1} < 1 + \frac{a}{x} \leq 1 + \frac{a}{[x]}.$$

To znamená, že pre všetky  $x > 1$  platí:

$$\left(1 + \frac{a}{[x]+1}\right)^{[x]} \leq \left(1 + \frac{a}{x}\right)^x \leq \left(1 + \frac{a}{[x]}\right)^{[x]+1}.$$

Keďže  $[x] \in \mathbb{N}$ , môžeme nasledujúce limity previesť na limity postupností.

Potom na základe príkladu 2.3.24 platí:

$$\begin{aligned} \lim_{x \rightarrow \infty} \left(1 + \frac{a}{[x]+1}\right)^{[x]} &= \lim_{n \rightarrow \infty} \left(1 + \frac{a}{n+1}\right)^n = \\ &= \lim_{n \rightarrow \infty} \left(1 + \frac{a}{n+1}\right)^{n+1} \cdot \lim_{n \rightarrow \infty} \left(1 + \frac{a}{n+1}\right)^{-1} = e^a \cdot (1+0)^{-1} = e^a, \end{aligned}$$

$$\lim_{x \rightarrow \infty} \left(1 + \frac{a}{[x]}\right)^{[x]+1} = \lim_{n \rightarrow \infty} \left(1 + \frac{a}{n}\right)^{n+1} = \lim_{n \rightarrow \infty} \left(1 + \frac{a}{n}\right)^n \cdot \lim_{n \rightarrow \infty} \left(1 + \frac{a}{n}\right) = e^a \cdot 1 = e^a.$$

Z toho na základe vety o zovretí vyplýva:

$$e^a = \lim_{x \rightarrow \infty} \left(1 + \frac{a}{[x]+1}\right)^{[x]} \leq \lim_{x \rightarrow \infty} \left(1 + \frac{a}{x}\right)^x \leq \lim_{x \rightarrow \infty} \left(1 + \frac{a}{[x]}\right)^{[x]+1} = e^a.$$

Ak  $a < 0$ , potom analogicky pre všetky  $x > 1$  platí:

$$\frac{a}{[x]} \leq \frac{a}{x} < \frac{a}{[x]+1} < 0, \quad \left(1 + \frac{a}{[x]}\right)^{[x]+1} \leq \left(1 + \frac{a}{x}\right)^x \leq \left(1 + \frac{a}{[x]+1}\right)^{[x]}.$$

Z toho na základe vety o zovretí vyplýva dokazované tvrdenie.  $\blacksquare$

**Poznámka 3.2.6.K3-poz48**

V príklade 3.2.13 sme počítali limitu funkcie  $f$  v bode  $\infty$ , pričom  $f(x) = f(n)$  pre všetky  $x \in \langle n; n+1 \rangle$ ,  $n \in \mathbb{N}$ . Potom pre každú postupnosť bodov  $\{x_n\}_{n=1}^{\infty}$ , ktorá diverguje do  $\infty$  existuje postupnosť prirodzených čísel  $\{k_n\}_{n=1}^{\infty}$ , ktorá tiež diverguje do  $\infty$  a pre všetky  $n \in \mathbb{N}$  platí  $f(x_n) = f(k_n)$ . To znamená, že môžeme považovať túto limitu za limitu číselnej postupnosti, t. j. platí  $\lim_{x \rightarrow \infty} f(x) = \lim_{n \rightarrow \infty} f(n)$ .

**Veta 3.2.5.K3-veta22**

Nech  $a \in \mathbb{R}^*$  je hromadný bod definičného oboru  $D(f)$  funkcie  $f$ . Potom platí:

$$\lim_{x \rightarrow a} f(x) = 0 \iff \lim_{x \rightarrow a} |f(x)| = 0.$$

**Dôkaz.**

Vyšplýva z vety 2.3.15.  $\blacksquare$

**Dôsledok 3.2.5.a.K3-dosl11**

Nech  $a \in R^*$  je hromadný bod definičného oboru  $D(f)$  funkcie  $f$  a nech  $b \in R$ .  
Potom  $\lim_{x \rightarrow a} f(x) = b$  práve vtedy, ak  $\lim_{x \rightarrow a} |f(x) - b| = 0$ .

**Príklad 3.2.14.K3-pr36**

Dokážte, že pre všetky  $a \in R$  platí  $\lim_{x \rightarrow a} \sin x = \sin a$ ,  $\lim_{x \rightarrow a} \cos x = \cos a$ .

**Riešenie.**

Pre všetky  $a, x \in R$  platia súčtové vzorce (veta 3.1.9)

$$\sin x - \sin a = 2 \sin \frac{x-a}{2} \cos \frac{x+a}{2}, \quad \cos x - \cos a = -2 \sin \frac{x+a}{2} \sin \frac{x-a}{2}.$$

Keďže pre všetky  $\alpha \in R$  platí  $|\sin \alpha| \leq |\alpha|$ ,  $|\sin \alpha| \leq 1$ ,  $|\cos \alpha| \leq 1$ , potom

$$0 \leq |\sin x - \sin a| = 2 \cdot \left| \sin \frac{x-a}{2} \right| \cdot \left| \cos \frac{x+a}{2} \right| \leq 2 \left| \frac{x-a}{2} \right| \cdot 1 = |x-a|,$$

$$0 \leq |\cos x - \cos a| = 2 \cdot \left| \sin \frac{x+a}{2} \right| \cdot \left| \sin \frac{x-a}{2} \right| \leq 2 \left| \frac{x-a}{2} \right| \cdot 1 = |x-a|.$$

Ak uvážime, že  $\lim_{x \rightarrow a} x = a$ , t. j.  $\lim_{x \rightarrow a} |x-a| = 0$ , potom platí:

$$\lim_{x \rightarrow a} |\sin x - \sin a| = 0, \quad \lim_{x \rightarrow a} |\cos x - \cos a| = 0.$$

Z toho na základe dôsledku 3.2.5.a vyplýva  $\lim_{x \rightarrow a} \sin x = \sin a$ ,  $\lim_{x \rightarrow a} \cos x = \cos a$ . ■

**Príklad 3.2.15.K3-pr38**

Dokážte, že  $\lim_{x \rightarrow 0} \frac{\sin x}{x} = 1$ .

**Riešenie.**

Bod 0 je hromadný bod definičného oboru funkcie  $y = \frac{\sin x}{x}$ ,  $x \in R - \{0\}$ .

Zo vzťahu (3.10) vyplýva, že pre všetky  $x \in (0; \frac{\pi}{2})$  platí:

$$0 < \sin x < x < \operatorname{tg} x, \quad \text{t. j.} \quad 1 = \frac{\sin x}{\sin x} < \frac{x}{\sin x} < \frac{\operatorname{tg} x}{\sin x} = \frac{1}{\cos x}$$

a pre všetky  $x \in (-\frac{\pi}{2}; 0)$  platí:

$$\operatorname{tg} x < x < \sin x < 0, \quad \text{t. j.} \quad 1 = \frac{\sin x}{\sin x} < \frac{x}{\sin x} < \frac{\operatorname{tg} x}{\sin x} = \frac{1}{\cos x}.$$

Z toho vyplýva, že pre všetky  $x \in (-\frac{\pi}{2}; \frac{\pi}{2})$ ,  $x \neq 0$  platí:

$$0 < \cos x < \frac{\sin x}{x} < 1.$$

Potom na základe vety o zovretí platí:

$$1 = \lim_{x \rightarrow 0} \cos x \leq \lim_{x \rightarrow 0} \frac{\sin x}{x} \leq 1, \quad \text{t. j.} \quad \lim_{x \rightarrow 0} \frac{\sin x}{x} = 1. \quad \blacksquare$$

**Veta 3.2.6.K3-veta23**

Nech  $a \in R^*$  je hromadný bod množiny  $D(f)$  a nech existuje prstencové okolie  $P(a)$  také, že pre všetky  $x \in P(a) \cap D(f)$  platí  $f(x) > 0$ , [resp.  $f(x) < 0$ ]. Potom platí:

$$\lim_{x \rightarrow a} f(x) = 0 \iff \lim_{x \rightarrow a} \frac{1}{f(x)} = \infty, \quad \left[ \text{resp.} \quad \lim_{x \rightarrow a} f(x) = 0 \iff \lim_{x \rightarrow a} \frac{1}{f(x)} = -\infty \right].$$

**Dôkaz.**

Vyšplýva z vety 2.3.16. ■

**Príklad 3.2.16.K3-pr40**

Označme  $f: y = x$ ,  $x \in R$ . Bod 0 je hromadný bod  $D(f)$  a platí  $\lim_{x \rightarrow 0} f(x) = \lim_{x \rightarrow 0} x = 0$ .

Postupnosti  $\left\{ \frac{1}{n} \right\}_{n=1}^{\infty}$ ,  $\left\{ -\frac{1}{n} \right\}_{n=1}^{\infty}$  konvergujú k bodu 0 a platí pre ne

$$\lim_{n \rightarrow \infty} \frac{1}{n} = \lim_{n \rightarrow \infty} n = \infty, \quad \lim_{n \rightarrow \infty} \frac{1}{-\frac{1}{n}} = \lim_{n \rightarrow \infty} (-n) = -\infty.$$

Z toho vyplýva, že  $\lim_{x \rightarrow 0} \frac{1}{f(x)} = \lim_{x \rightarrow 0} \frac{1}{x}$  neexistuje. ■

**Veta 3.2.7.K3-veta28**

Nech  $a \in R^*$  je hromadný bod množiny  $D(f) \cap D(g)$  a nech  $\lim_{x \rightarrow a} f(x) < \lim_{x \rightarrow a} g(x)$ .

Potom existuje prstencové okolie  $P(a)$  také, že pre všetky  $x \in P(a) \cap D(f) \cap D(g)$  platí  $f(x) < g(x)$ .

**Dôkaz.**

Sporom. Nech také  $P(a)$  neexistuje. To znamená, že v každom okolí  $P(a)$  existuje bod  $x \in P(a)$  taký, že  $f(x) \geq g(x)$ .

Nech  $a \in R$  a nech  $P_n(a)$ ,  $n \in N$  je okolie s polomerom  $\frac{1}{n}$ . Nech  $x_n \in P_n(a)$  je také, že  $f(x_n) \geq g(x_n)$ . Je zrejmé, že  $\{x_n\}_{n=1}^{\infty}$  konverguje k bodu  $a$ . Pre limity postupností funkčných hodnôt  $\{f(x_n)\}_{n=1}^{\infty}$ ,  $\{g(x_n)\}_{n=1}^{\infty}$  pokiaľ existujú, platí  $\lim_{n \rightarrow \infty} f(x_n) \geq \lim_{n \rightarrow \infty} g(x_n)$ .

To je spor s predpokladom  $\lim_{x \rightarrow a} f(x) < \lim_{x \rightarrow a} g(x)$ . Pre  $a = \pm\infty$  je dôkaz analogický. ■

**Dôsledok 3.2.7.a.K3-dosl13**

Nech  $a \in R^*$  je hromadný bod definičného oboru funkcie  $f$  a nech

$$\lim_{x \rightarrow a} f(x) > 0, \quad \left[ \text{resp. } \lim_{x \rightarrow a} f(x) < 0 \right].$$

Potom existuje prstencové okolie  $P(a)$  také, že pre všetky  $x \in P(a) \cap D(f)$  platí:

$$f(x) > 0, \quad [\text{resp. } f(x) < 0].$$

**Dôkaz.**

Stačí položiť  $g(x) = 0$  a dosadiť do vety 3.2.7. ■

**Veta 3.2.8 (O limite zloženej funkcie).K3-veta26**

Nech pre funkcie  $f, g$  platí  $H(f) \subset D(g)$  a nech pre body  $a, b, c \in R^*$  platí:

$$\lim_{x \rightarrow a} f(x) = b, \quad \lim_{u \rightarrow b} g(u) = c.$$

Nech platí aspoň jeden z predpokladov a), b):

- a) Existuje  $P(a)$  tak, že pre všetky  $x \in P(a) \cap D(f)$  platí  $f(x) \neq b$ .      b)  $g(b) = c$ .

Potom pre zloženú funkciu  $F = g \circ f$  platí:

$$\lim_{x \rightarrow a} F(x) = \lim_{x \rightarrow a} g(f(x)) = \lim_{u \rightarrow b} g(u) = c.$$

**Dôkaz.**

Z predpokladov je zrejmé, že bod  $a$  je tiež hromadným bodom množiny  $D(F)$ .

Z existencie  $\lim_{x \rightarrow a} f(x)$  a existencie  $\lim_{u \rightarrow b} g(u)$  vyplýva:

Pre všetky  $\{x_n\}_{n=1}^{\infty} \subset D(f) - \{a\}$  také, že  $\lim_{n \rightarrow \infty} x_n = a$ , platí  $\lim_{n \rightarrow \infty} f(x_n) = b$ .

Pre všetky  $\{u_n\}_{n=1}^{\infty} \subset D(g) - \{b\}$  také, že  $\lim_{n \rightarrow \infty} u_n = b$ , platí  $\lim_{n \rightarrow \infty} g(u_n) = c$ .

Z predpokladu a) vyplýva, že  $\{f(x_n)\}_{n=1}^{\infty} \subset D(g) - \{b\}$ .

To znamená, že ak platí  $\lim_{n \rightarrow \infty} f(x_n) = b$ , potom  $\lim_{n \rightarrow \infty} F(x_n) = \lim_{n \rightarrow \infty} g(f(x_n)) = c$ .

Z toho vyplýva, že pre každú postupnosť  $\{x_n\}_{n=1}^{\infty} \subset D(f) - \{a\}$ , kde  $\lim_{n \rightarrow \infty} x_n = a$ , platí:

$$\lim_{n \rightarrow \infty} g(f(x_n)) = c, \quad \text{t. j. } \lim_{n \rightarrow \infty} F(x_n) = \lim_{n \rightarrow \infty} g(f(x_n)) = c.$$

Nech platí predpoklad b), t. j.  $g(b) = c$ .

Potom pre všetky postupnosti  $\{x_n\}_{n=1}^{\infty} \subset D(f) - \{a\}$  také, že  $\lim_{n \rightarrow \infty} x_n = a$ , platí:

$$\lim_{n \rightarrow \infty} f(x_n) = b, \quad \text{t. j. } \lim_{n \rightarrow \infty} F(x_n) = \lim_{n \rightarrow \infty} g(f(x_n)) = g(b) = c. \quad \blacksquare$$

**Poznámka 3.2.7.K3-poz33**

Ak pri výpočte limity zloženej funkcie  $F = g(f)$  v bode  $a$  položíme  $u = f(x)$ , potom hovoríme, že **vykonávame substitúciu**  $u = f(x)$ . Výpočet pôvodnej limity prevedieme na výpočet limity funkcie  $g(u)$  v bode  $b$ .

Predchádzajúca veta zjednodušuje v mnohých prípadoch výpočet limít. Predpoklad a) je splnený napríklad, ak  $\lim_{x \rightarrow a} f(x) = f(a)$  a funkcia  $f$  je v nejakom okolí bodu  $a$  prostá.

**Poznámka 3.2.8.K3-poz37**

Ak sú splnené predpoklady vety 3.2.8 a funkcia  $g$  je definovaná v bode  $b$ , t. j. je splnený predpoklad b)  $g(b) = c$ , potom platí:

$$\lim_{x \rightarrow a} g(f(x)) = \lim_{u \rightarrow b} g(u) = c = g(b) = g\left(\lim_{x \rightarrow a} f(x)\right).$$

**Poznámka 3.2.9.K3-poz70**

Ak pri výpočte limity  $\lim_{x \rightarrow a} f(x)$  položíme substitúciu  $x = h + a$ , potom  $h \rightarrow 0$  a platí:

$$\lim_{x \rightarrow a} f(x) = \lim_{h \rightarrow 0} f(h + a).$$

**Príklad 3.2.17.K3-pr54**

Vypočítajte  $\lim_{x \rightarrow 1} \ln \frac{x^2-1}{x-1}$ .

**Riešenie.**

Na základe predchádzajúcej poznámky platí:

$$\lim_{x \rightarrow 1} \ln \frac{x^2-1}{x-1} = \ln \left[ \lim_{x \rightarrow 1} \frac{x^2-1}{x-1} \right] = \ln \left[ \lim_{x \rightarrow 1} \frac{(x-1)(x+1)}{x-1} \right] = \ln \left[ \lim_{x \rightarrow 1} (x+1) \right] = \ln 2. \blacksquare$$

**Príklad 3.2.18.K3-pr43**

Vypočítajte  $\lim_{x \rightarrow 2} \frac{\sin(x-2)}{x-2}$ .

**Riešenie.**

Ak použijeme substitúciu  $z = x - 2$ , potom pre  $x \rightarrow 2$  platí  $z \rightarrow 0$ . Z toho vyplýva:

$$\lim_{x \rightarrow 2} \frac{\sin(x-2)}{x-2} = \lim_{z \rightarrow 0} \frac{\sin z}{z} = 1. \blacksquare$$

**Príklad 3.2.19.K3-pr47**

Vypočítajte  $\lim_{x \rightarrow 1} \frac{\sqrt{x}-1}{\sqrt[3]{x}-1}$ .

**Riešenie.**

Zo vzorca  $a^n - b^n = (a - b)(a^{n-1}b + a^{n-2}b + \dots + ab^{n-2} + b^{n-1})$  vyplýva:

$$\lim_{x \rightarrow 1} \frac{\sqrt{x}-1}{\sqrt[3]{x}-1} = \lim_{x \rightarrow 1} \frac{(\sqrt{x})^3-1}{(\sqrt{x})^2-1} = \lim_{x \rightarrow 1} \frac{(\sqrt{x}-1)[\sqrt{x}^2+\sqrt{x}+1]}{(\sqrt{x}-1)[\sqrt{x}+1]} = \lim_{x \rightarrow 1} \frac{\sqrt{x}^2+\sqrt{x}+1}{\sqrt{x}+1} = \frac{3}{2}.$$

Ak použijeme substitúciu  $z = \sqrt{x}$ , t. j.  $x = z^6$ , potom je riešenie prehľadnejšie

$$\lim_{x \rightarrow 1} \frac{\sqrt{x}-1}{\sqrt[3]{x}-1} = \lim_{z \rightarrow 1} \frac{\sqrt{z^6}-1}{\sqrt[3]{z^6}-1} = \lim_{z \rightarrow 1} \frac{z^3-1}{z^2-1} = \lim_{z \rightarrow 1} \frac{(z-1)(z^2+z+1)}{(z-1)(z+1)} = \lim_{z \rightarrow 1} \frac{z^2+z+1}{z+1} = \frac{3}{2}. \blacksquare$$

**Veta 3.2.9.K3-veta29**

Nech  $a \in R^*$  je hromadný bod množiny  $D(f) \cap D(g)$ , nech  $r \in R$  a nech existujú limity

$$\lim_{x \rightarrow a} f(x) = b \in R^*, \quad \lim_{x \rightarrow a} g(x) = c \in R^*.$$

Ak majú príslušné výrazy v  $R^*$  zmysel, potom existujú nasledujúce limity a platí:

- a)  $\lim_{x \rightarrow a} |f(x)| = \left| \lim_{x \rightarrow a} f(x) \right| = |b|$ ,      b)  $\lim_{x \rightarrow a} [f(x) \pm g(x)] = \lim_{x \rightarrow a} f(x) \pm \lim_{x \rightarrow a} g(x) = b \pm c$ ,  
 c)  $\lim_{x \rightarrow a} [r f(x)] = r \lim_{x \rightarrow a} f(x) = rb$ ,      d)  $\lim_{x \rightarrow a} [f(x) g(x)] = \lim_{x \rightarrow a} f(x) \lim_{x \rightarrow a} g(x) = bc$ ,  
 e)  $\lim_{x \rightarrow a} \frac{1}{g(x)} = \frac{1}{\lim_{x \rightarrow a} g(x)} = \frac{1}{c}$ ,      f)  $\lim_{x \rightarrow a} \frac{f(x)}{g(x)} = \frac{\lim_{x \rightarrow a} f(x)}{\lim_{x \rightarrow a} g(x)} = \frac{b}{c}$ .

**Dôkaz.**

Dokážeme iba časť b). Ostatné tvrdenia sa dokážu analogicky.

Nech  $\{x_n\}_{n=1}^{\infty} \subset [D(f) \cap D(g)] - \{a\}$  je taká, že  $\lim_{n \rightarrow \infty} x_n = a$ . Potom platí:

$$\lim_{n \rightarrow \infty} f(x_n) = b, \quad \lim_{n \rightarrow \infty} g(x_n) = c.$$

Z toho na základe vety 2.3.13 vyplýva, že platí:

$$\lim_{n \rightarrow \infty} [f(x_n) \pm g(x_n)] = \lim_{n \rightarrow \infty} f(x_n) \pm \lim_{n \rightarrow \infty} g(x_n) = b \pm c.$$

To znamená, že platí  $\lim_{x \rightarrow a} [f(x) \pm g(x)] = \lim_{x \rightarrow a} f(x) \pm \lim_{x \rightarrow a} g(x) = b \pm c$ . ■

**Poznámka 3.2.10.K3-poz27**

Ak niektorý z výrazov  $b \pm c$ ,  $rb$ ,  $bc$ ,  $\frac{1}{c}$ ,  $\frac{b}{c}$  nemá zmysel, nemusí to znamenať, že príslušná limita neexistuje. V tomto prípade nemôžeme použiť vetu 3.2.9 a limitu musíme vypočítavať iným spôsobom. Niekedy pomôže vhodná úprava výrazu, ktorým je funkcia definovaná.

**Príklad 3.2.20.K3-pr44**

Vypočítajte  $\lim_{x \rightarrow \infty} [\sqrt{x^2 + 1} - x]$ .

**Riešenie.**

Vetu 3.2.9 nemôžeme použiť priamo, pretože

$$\lim_{x \rightarrow \infty} \sqrt{x^2 + 1} = \lim_{x \rightarrow \infty} x = \infty$$

a výraz  $\infty - \infty$  nemá zmysel. Výraz v argumente limity musíme najprv upraviť. Platí

$$\begin{aligned} \lim_{x \rightarrow \infty} [\sqrt{x^2 + 1} - x] &= \lim_{x \rightarrow \infty} [\sqrt{x^2 + 1} - x] \frac{\sqrt{x^2 + 1} + x}{\sqrt{x^2 + 1} + x} = \lim_{x \rightarrow \infty} \frac{x^2 + 1 - x^2}{\sqrt{x^2 + 1} + x} = \\ &= \lim_{x \rightarrow \infty} \frac{1}{\sqrt{x^2 + 1} + x} = \frac{1}{\infty + \infty} = \frac{1}{\infty} = 0. \quad \blacksquare \end{aligned}$$

**Príklad 3.2.21.K3-pr73**

Nech  $a \in R$ ,  $a \geq 0$ . Vypočítajte  $\lim_{x \rightarrow \infty} a^x$ .

**Riešenie.**

Ak  $a = 0$ , potom  $\lim_{x \rightarrow \infty} a^x = \lim_{x \rightarrow \infty} 0 = 0$ . Ak  $a = 1$ , potom  $\lim_{x \rightarrow \infty} a^x = \lim_{x \rightarrow \infty} 1 = 1$ .

Ak  $a > 1$ , potom pre všetky  $x \geq 1$  platí  $1 \leq [x] \leq x$ . Z toho vyplýva:

$$1 < a^{[x]} \leq a^x, \quad \text{t. j.} \quad \lim_{x \rightarrow \infty} a^{[x]} \leq \lim_{x \rightarrow \infty} a^x.$$

Potom analogicky ako v príklade 3.2.13 pre  $n \in \mathbb{N}$  na základe dôsledku 3.2.4.a platí:

$$\lim_{x \rightarrow \infty} a^{\lfloor x \rfloor} = \lim_{n \rightarrow \infty} a^n = \infty, \quad \text{t. j.} \quad \lim_{x \rightarrow \infty} a^x = \infty.$$

Ak  $0 < a < 1$ , potom platí  $\frac{1}{a} > 1$ . Z toho vyplýva:

$$\lim_{x \rightarrow \infty} a^x = \lim_{x \rightarrow \infty} \frac{1}{(\frac{1}{a})^x} = \frac{1}{\lim_{x \rightarrow \infty} (\frac{1}{a})^x} = \frac{1}{\infty} = 0.$$

Ak to zhrnieme, potom  $\lim_{x \rightarrow \infty} a^x = \begin{cases} 0, & \text{pre } a \in (0; 1), \\ 1, & \text{pre } a = 1, \\ \infty, & \text{pre } a \in (1; \infty). \blacksquare \end{cases}$

### Poznámka 3.2.11.K3-poz42

Podobným spôsobom ako v príklade 2.3.14, môžeme odvodiť limitu

$$\lim_{x \rightarrow \infty} x^q = \begin{cases} 0, & \text{pre } q < 0, \\ 1, & \text{pre } q = 0, \\ \infty, & \text{pre } q > 0. \end{cases}$$

## 3.2.2 Limita vzhľadom na množinu a jednostranné limity

Limitu funkcie  $f$  v bode  $a \in \mathbb{R}^*$  (v hromadnom bode definičného oboru funkcie  $f$ ) sme definovali v nejakom prstencovom okolí  $P(a)$ , resp. na množine  $P(a) \cap D(f)$ . Ako ukazujú nasledujúce príklady, môže sa stať, že limita funkcie  $f$  v danom bode  $a$  neexistuje, ale existuje v bode  $a$  limita zúženia funkcie  $f$  na nejakú konkrétnu podmnožinu  $A \subset D(f)$ . Preto má zmysel definovať limitu vzhľadom na množinu.

### Príklad 3.2.22.K3-pr45

Uvažujme Dirichletovu funkciu  $\chi$  a funkciu  $f: y = 1, x \in \mathbb{Q}$ , ktorá je jej zúžením na množinu  $\mathbb{Q}$ . Je zrejmé, že  $\lim_{x \rightarrow 0} f(x) = 1$ , aj keď  $\lim_{x \rightarrow 0} \chi(x)$  neexistuje (príklad 3.2.4). ■

### Príklad 3.2.23.K3-pr46

Limita  $\lim_{x \rightarrow 0} f(x)$ , kde  $f(x) = \begin{cases} 1, & \text{pre } x \in (-\infty; 0), \\ 2, & \text{pre } x \in (0; \infty), \end{cases}$  neexistuje (obr. 3.2.108).

Ale ak označíme  $g = f|_{(-\infty; 0)}$ ,  $h = f|_{(0; \infty)}$ , potom  $\lim_{x \rightarrow 0} g(x) = 1$  a  $\lim_{x \rightarrow 0} h(x) = 2$ . ■

Hovoríme, že **funkcia  $f$  má v bode  $a \in \mathbb{R}^*$  limitu rovnú  $b \in \mathbb{R}^*$  vzhľadom na množinu  $A \subset D(f)$** , ak má v bode  $a$  limitu rovnú  $b$  jej zúženie  $f|_A$ , t. j. ak:

a) Bod  $a$  je hromadným bodom množiny  $A$ .

b) Pre všetky  $\{x_n\}_{n=1}^{\infty} \subset A - \{a\}$  také, že  $\{x_n\}_{n=1}^{\infty} \rightarrow a$ , platí  $\{f(x_n)\}_{n=1}^{\infty} \rightarrow b$ .

Označujeme ju  $\lim_{\substack{x \rightarrow a \\ x \in A}} f(x) = b$ , resp.  $\lim_{x \rightarrow a} f(x) = b, x \in A$ , t. j.  $\lim_{\substack{x \rightarrow a \\ x \in A}} f(x) = \lim_{x \rightarrow a} f|_A(x) = b$ .

### Poznámka 3.2.12.K3-poz35

To znamená, že pre limitu funkcie vzhľadom na množinu platia všetky vety, ktoré platia pre limitu funkcie v danom bode. Je zrejmé, že ak  $a \in \mathbb{R}^*$  je hromadným bodom množiny  $A \subset D(f)$  a existuje limita funkcie  $f$  v bode  $a$ , potom tiež existuje limita funkcie  $f$  v bode  $a$  vzhľadom na množinu  $A$ .

Priamo z predchádzajúcej definície limity funkcie vzhľadom na množinu a z definície limity funkcie v bode vyplýva nasledujúce tvrdenie.

**Veta 3.2.10.K3-veta30**

Limita  $\lim_{x \rightarrow a} f(x) = b$  práve vtedy, ak pre každú množinu  $A \subset D(f)$  platí  $\lim_{\substack{x \rightarrow a \\ x \in A}} f(x) = b$ .

**Príklad 3.2.24.K3-pr48**

Aj keď  $\lim_{x \rightarrow \infty} \sin x$  neexistuje, existujú napríklad limity

$$\lim_{x \rightarrow \infty} \sin x = 0, \quad x \in \{k\pi; k \in \mathbb{Z}\}, \quad \lim_{x \rightarrow \infty} \sin x = 1, \quad x \in \left\{\frac{\pi}{2} + 2k\pi; k \in \mathbb{Z}\right\}. \blacksquare$$

Nech množina  $A \subset \mathbb{R}$  a nech bod  $a \in \mathbb{R}$ . Označme množiny

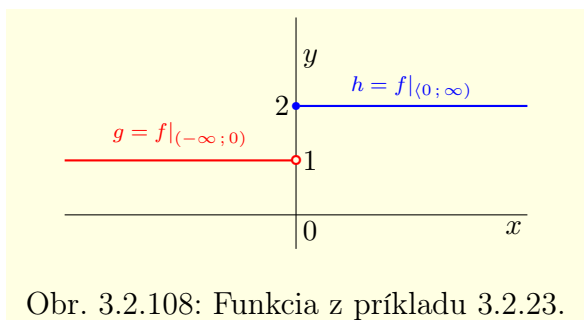
$$A_a^- = A \cap (-\infty; a) = \{x \in A; x < a\}, \quad A_a^+ = A \cap (a; \infty) = \{x \in A; x > a\}.$$

Limitu funkcie  $f$  v bode  $a \in \mathbb{R}^*$  vzhľadom na množinu  $D(f)_a^- = D(f) \cap (-\infty; a)$  [resp. na množinu  $D(f)_a^+ = D(f) \cap (a; \infty)$ ] nazývame **limita zľava** [resp. **sprava**] **funkcie  $f$  v bode  $a$**  a označujeme  $\lim_{x \rightarrow a^-} f(x)$  [resp.  $\lim_{x \rightarrow a^+} f(x)$ ].

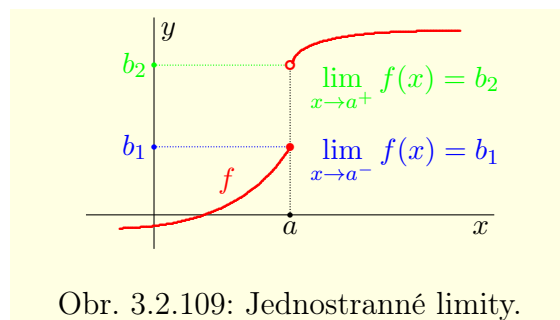
To znamená, že limita zľava [resp. sprava] funkcie  $f$  v bode  $a$  sa rovná

$$\lim_{x \rightarrow a^-} f(x) = \lim_{\substack{x \rightarrow a \\ x \in D(f)_a^-}} f(x), \quad \left[ \text{resp. } \lim_{x \rightarrow a^+} f(x) = \lim_{\substack{x \rightarrow a \\ x \in D(f)_a^+}} f(x) \right].$$

Limitu zľava a limitu sprava funkcie  $f$  v bode  $a$  súhrnne nazývame **jednostranné limity funkcie  $f$  v bode  $a$** . V tomto zmysle limitu funkcie  $f$  v bode  $a$  nazývame **obojsstranná limita funkcie  $f$  v bode  $a$** .



Obr. 3.2.108: Funkcia z príkladu 3.2.23.



Obr. 3.2.109: Jednostranné limity.

**Poznámka 3.2.13.K3-poz96**

Na obrázku 3.2.109 je znázornený graf funkcie  $f$ , ktorá nemá limitu v bode  $a$ , ale má jednostranné limity  $\lim_{x \rightarrow a^-} f(x) = b_1$ ,  $\lim_{x \rightarrow a^+} f(x) = b_2$ , pričom  $b_1 \neq b_2$ .

Priamo z definície obojsstrannej a jednostranných limit vyplýva nasledujúca veta.

**Veta 3.2.11.K3-veta27**

Nech  $a \in \mathbb{R}$  je hromadným bodom  $D(f)$ . Potom limita funkcie  $f$  v bode  $a$  existuje práve vtedy, ak existujú jednostranné limity funkcie  $f$  v bode  $a$  a rovnajú sa. T. j. platí:

$$\lim_{x \rightarrow a} f(x) = b \iff \lim_{x \rightarrow a^-} f(x) = \lim_{x \rightarrow a^+} f(x) = b.$$



**Poznámka 3.2.14.K3-poz41**

Nech  $a \in \mathbb{R}$  je hromadný bod definičného oboru funkcie  $f$  a nech existuje okolie  $O(a)$  také, že  $O(a) \subset D(f)$ . Je zrejmé, že ak  $x \rightarrow a^-$ , t. j.  $x < a$ , potom  $-x > -a$ , t. j.  $-x \rightarrow a^+$ .

**Poznámka 3.2.15.K3-poz34**

Uvažujme funkcie  $f, g, h$  z príkladu 3.2.23, obr. 3.2.108. Potom platí:

$$\lim_{x \rightarrow 0} g(x) = \lim_{x \rightarrow 0^-} f(x) = 1, \quad \lim_{x \rightarrow 0} h(x) = \lim_{x \rightarrow 0^+} f(x) = 2. \blacksquare$$

**Príklad 3.2.25.K3-pr49**

Limita funkcie  $f: y = \frac{1}{x}$  v bode 0 neexistuje, ale existujú jednostranné limity

$$\lim_{x \rightarrow 0^-} \frac{1}{x} = -\infty, \quad \lim_{x \rightarrow 0^+} \frac{1}{x} = \infty. \blacksquare$$

**Príklad 3.2.26.K3-pr74**

Pre funkcie  $\operatorname{tg} x$ ,  $\operatorname{arctg} x$  (viď obrázky 3.1.28, 3.1.31) platí:

$$\lim_{x \rightarrow \frac{\pi}{2}^-} \operatorname{tg} x = \infty, \quad \lim_{x \rightarrow \frac{\pi}{2}^+} \operatorname{tg} x = -\infty, \quad \lim_{x \rightarrow -\infty} \operatorname{arctg} x = -\frac{\pi}{2}, \quad \lim_{x \rightarrow \infty} \operatorname{arctg} x = \frac{\pi}{2}. \blacksquare$$

**Príklad 3.2.27.K3-pr42**

Vypočítajte  $\lim_{x \rightarrow 0} (1 + ax)^{\frac{1}{x}}$ , kde  $a \in \mathbb{R}$ .

**Riešenie.**

Pri výpočte použijeme príklad 3.2.13.

Pre limitu sprava ( $x > 0$ ,  $x \rightarrow 0^+$ , substitúcia  $z = \frac{1}{x}$ , t. j.  $z \rightarrow \infty$ ) platí:

$$\lim_{x \rightarrow 0^+} (1 + ax)^{\frac{1}{x}} = \lim_{z \rightarrow \infty} \left(1 + \frac{a}{z}\right)^z = \lim_{n \rightarrow \infty} \left(1 + \frac{a}{n}\right)^n = e^a.$$

Pre limitu zľava ( $x < 0$ ,  $x \rightarrow 0^-$ , substitúcia  $z = -\frac{1}{x}$ , t. j.  $z \rightarrow \infty$ ) platí:

$$\lim_{x \rightarrow 0^-} (1 + ax)^{\frac{1}{x}} = \lim_{z \rightarrow \infty} \left(1 + \frac{a}{-z}\right)^{-z} = \lim_{z \rightarrow \infty} \left[\left(1 - \frac{a}{z}\right)^z\right]^{-1} = (e^{-a})^{-1} = e^a.$$

Potom na základe vety 3.2.11 platí  $\lim_{x \rightarrow 0} (1 + ax)^{\frac{1}{x}} = e^a$ .  $\blacksquare$

**Príklad 3.2.28.K3-pr53**

Vypočítajte  $\lim_{x \rightarrow 0} \frac{\ln(x+1)}{x}$ .

**Riešenie.**

Ak použijeme vetu 3.2.8 a výsledok príkladu 3.2.27, potom platí:

$$\lim_{x \rightarrow 0} \frac{\ln(x+1)}{x} = \lim_{x \rightarrow 0} \ln(x+1)^{\frac{1}{x}} = \ln \left[ \lim_{x \rightarrow 0} (x+1)^{\frac{1}{x}} \right] = \ln e^1 = 1. \blacksquare$$

**Príklad 3.2.29.K3-pr72**

Vypočítajte  $\lim_{x \rightarrow \infty} \frac{x^q}{a^x}$ , kde  $a > 0$ ,  $q \in \mathbb{R}$ .

**Riešenie.**

Nech  $a > 1$ .

Pre všetky  $1 \leq x$  platí  $1 \leq [x] \leq x < [x] + 1$ , t. j.  $a^{[x]} \leq a^x < a^{[x]+1}$ .

Ak  $q \geq 0$ , potom  $\lfloor x \rfloor^q \leq x^q < (\lfloor x \rfloor + 1)^q$ . Z toho vyplýva:

$$\frac{1}{a} \cdot \frac{\lfloor x \rfloor^q}{a^{\lfloor x \rfloor}} = \frac{\lfloor x \rfloor^q}{a^{\lfloor x \rfloor + 1}} \leq \frac{x^q}{a^x} \leq \frac{(\lfloor x \rfloor + 1)^q}{a^{\lfloor x \rfloor}} = a \cdot \frac{(\lfloor x \rfloor + 1)^q}{a^{\lfloor x \rfloor + 1}}.$$

Ak uvážime poznámku 3.2.6, potom na základe príkladu 2.3.34 platí:

$$\lim_{x \rightarrow \infty} \frac{\lfloor x \rfloor^q}{a^{\lfloor x \rfloor}} = \lim_{n \rightarrow \infty} \frac{n^q}{a^n} = 0, \quad \lim_{x \rightarrow \infty} \frac{(\lfloor x \rfloor + 1)^q}{a^{\lfloor x \rfloor + 1}} = \lim_{n \rightarrow \infty} \frac{(n+1)^q}{a^{n+1}} = 0.$$

Z toho vyplýva:

$$0 = \frac{1}{a} \cdot \lim_{x \rightarrow \infty} \frac{\lfloor x \rfloor^q}{a^{\lfloor x \rfloor}} \leq \lim_{x \rightarrow \infty} \frac{x^q}{a^x} \leq a \cdot \lim_{x \rightarrow \infty} \frac{(\lfloor x \rfloor + 1)^q}{a^{\lfloor x \rfloor + 1}} = 0, \quad \text{t. j.} \quad \lim_{x \rightarrow \infty} \frac{x^q}{a^x} = 0.$$

Ak  $q \leq 0$ , potom  $(\lfloor x \rfloor + 1)^q \leq x^q < \lfloor x \rfloor^q$  a analogicky platí:

$$\frac{(\lfloor x \rfloor + 1)^q}{a^{\lfloor x \rfloor + 1}} \leq \frac{x^q}{a^x} \leq \frac{\lfloor x \rfloor^q}{a^{\lfloor x \rfloor}}, \quad 0 = \lim_{x \rightarrow \infty} \frac{(\lfloor x \rfloor + 1)^q}{a^{\lfloor x \rfloor + 1}} \leq \lim_{x \rightarrow \infty} \frac{x^q}{a^x} \leq \lim_{x \rightarrow \infty} \frac{\lfloor x \rfloor^q}{a^{\lfloor x \rfloor}} = 0.$$

Ak  $a < 1$ , t. j.  $\frac{1}{a} > 1$ , potom  $\frac{x^{-q}}{a^{-x}} > 0$  a na základe predošlého a vety 3.2.6 platí:

$$\lim_{x \rightarrow \infty} \frac{x^q}{a^x} = \lim_{x \rightarrow \infty} \frac{a^{-x}}{x^{-q}} = \lim_{x \rightarrow \infty} \frac{(\frac{1}{a})^x}{x^{-q}} = \frac{1}{\lim_{x \rightarrow \infty} \frac{x^{-q}}{(\frac{1}{a})^x}} = \frac{1}{0} = \infty.$$

Ak to zhrnieme, potom platí:  $\lim_{x \rightarrow \infty} \frac{x^q}{a^x} = \begin{cases} \infty, & \text{pre } a \in (0; 1), \\ 0, & \text{pre } a \in (1; \infty). \end{cases}$  ■

### Poznámka 3.2.16.K3-poz44

Podobne, ako v príkladoch 2.3.21, 2.3.28, platí pre všetky  $a \in \mathbb{R}$ ,  $a > 0$

$$\lim_{x \rightarrow \infty} a^{\frac{1}{x}} = 1, \quad \lim_{x \rightarrow \infty} x^{\frac{1}{x}} = 1.$$

### Veta 3.2.12 (O limite monotónnej funkcie).K3-veta51

Ak je funkcia  $f$  v nejakom ľavom prstencovom okolí  $P^-(a)$  [resp. pravom prstencovom okolí  $P^+(a)$ ] monotónna, potom má  $f$  v bode  $a$  limitu zľava [resp. sprava].

Ak je funkcia  $f$  nerastúca, potom platí:

$$\lim_{x \rightarrow a^-} f(x) = \sup \{ f(x); x \in P^-(a) \} \quad \left[ \text{resp.} \quad \lim_{x \rightarrow a^+} f(x) = \inf \{ f(x); x \in P^+(a) \} \right].$$

Ak je funkcia  $f$  neklesajúca, potom platí:

$$\lim_{x \rightarrow a^-} f(x) = \inf \{ f(x); x \in P^-(a) \} \quad \left[ \text{resp.} \quad \lim_{x \rightarrow a^+} f(x) = \sup \{ f(x); x \in P^+(a) \} \right].$$

### Dôkaz.

Vyšplýva z vety 2.3.11 o limite monotónnej postupnosti. ■

### Poznámka 3.2.17.K3-poz71

Jednostranné limity v tvrdení vety 3.2.12 môžu byť aj nevlastné.

Aj predpoklady vety môžeme zovšeobecniť. Dôležité je, aby bol  $a$  hromadným bodom množiny, na ktorej je funkcia  $f$  monotónna. Vyjadruje to nasledujúca veta.

### Veta 3.2.13.K3-veta52

Nech je  $a$  ľavým [resp. pravým] hromadným bodom množiny  $D(f)$  a nech je funkcia  $f$  monotónna na množine  $D(f) \cap P^-(a)$  [resp.  $D(f) \cap P^+(a)$ ].

Potom v bode  $a$  existuje limita zľava [resp. sprava] funkcie  $f$ .

### Príklad 3.2.30.K3-pr96

Funkcia  $f: y = \frac{1}{x}$ ,  $x \in \mathbb{Q}$  je monotónna na celom svojom  $D(f) = \mathbb{Q}$ .

Je klesajúca na množinách  $(-\infty; 0) \cap \mathbb{Q}$ ,  $(0; \infty) \cap \mathbb{Q}$ . Použijeme vetu 3.2.13.

Bod 0 je ľavým hromadným bodom množiny  $(-\infty; 0) \cap \mathbb{Q}$  a pravým hromadným bodom množiny  $(0; \infty) \cap \mathbb{Q}$ . Pre jednostranné limity v bode 0 platí:

$$\lim_{x \rightarrow 0^-} f(x) = \lim_{x \rightarrow 0^-} \frac{1}{x} = -\infty, \quad x \in \mathbb{Q}, \quad \lim_{x \rightarrow 0^+} f(x) = \lim_{x \rightarrow 0^+} \frac{1}{x} = \infty, \quad x \in \mathbb{Q}. \quad \blacksquare$$

### 3.2.3 Asymptotické vlastnosti

V matematike, hlavne v jej aplikáciach, sa často používajú symboly  $o$ ,  $O$  (malé  $o$ , veľké  $O$ ), ktoré zaviedol nemecký matematik *Edmund Landau* [1877–1938].

Hovoríme, že **funkcia  $f$  je nekonečne malá** [resp. **nekonečne veľká**] **v bode  $a$** , ak sa limita funkcie  $f$  v bode  $a \in R^*$  rovná hodnote 0 [resp.  $\pm\infty$ ], t. j. ak platí:

$$\lim_{x \rightarrow a} f(x) = 0, \quad \left[ \text{resp. } \lim_{x \rightarrow a} |f(x)| = \infty \right].$$

Nech  $a \in R^*$  a nech  $f, g$  sú funkcie definované v nejakom prstencovom okolí  $P(a)$ . Ak

$$\lim_{x \rightarrow a} \frac{f(x)}{g(x)} = 0,$$

potom hovoríme, že **funkcia  $f$  je rádu  $o(g(x))$  v bode  $a$**  a označujeme

$$f(x) = o(g(x)), \quad x \rightarrow a.$$

Nech sú funkcie  $f, g$  nekonečne malé v bode  $a$  a nech existuje (aj nevlastná)

$$\lim_{x \rightarrow a} \frac{f(x)}{g(x)} = b \in R^*.$$

Ak  $b = 0$ , potom hovoríme, že **funkcia  $f$  konverguje v bode  $a$  k nule rýchlejšie ako funkcia  $g$** , resp. že  **$f$  je v bode  $a$  nekonečne malá vyššieho rádu ako  $g$** .

Ak  $b = \pm\infty$ , potom hovoríme, že **funkcia  $f$  konverguje v bode  $a$  k nule pomalšie ako funkcia  $g$** , resp. že  **$f$  je v bode  $a$  nekonečne malá nižšieho rádu ako  $g$** .

Ak  $b \in R$ , hovoríme, že **funkcia  $f$  konverguje v bode  $a$  k nule rovnako rýchlo ako funkcia  $g$** , resp. že  **$f$  je v bode  $a$  nekonečne malá rovnakého rádu ako  $g$** .

#### Poznámka 3.2.18.K3-poz72

Je zrejmé, funkcia  $f$  konverguje v okolí bodu  $a$  k nule rýchlejšie ako funkcia  $g$  práve vtedy, ak funkcia  $g$  konverguje v okolí bodu  $a$  k nule pomalšie ako funkcia  $f$ .

#### Poznámka 3.2.19.K3-poz36

Veľmi často sa volí funkcia  $g(x) = (x - a)^n$ , kde  $n \in N$ . Ak platí:

$$f(x) = o((x - a)^n), \quad x \rightarrow a, \quad \text{t. j. } \lim_{x \rightarrow a} \frac{f(x)}{(x - a)^n} = 0,$$

potom hovoríme, že **funkcia  $f$  je v bode  $a$  nekonečne malá rádu väčšieho ako  $n$** .

#### Príklad 3.2.31.K3-pr50

Zo vzťahov  $\lim_{x \rightarrow 0} \frac{x^2}{x} = 0$ ,  $\lim_{x \rightarrow 0} \frac{\sin x}{1} = 0$ ,  $\lim_{x \rightarrow \pi} \frac{\sin x}{1} = 0$  vyplýva:

$$x^2 = o(x), \quad x \rightarrow 0, \quad \sin x = o(1), \quad x \rightarrow 0, \quad \sin x = o(x), \quad x \rightarrow \pi. \blacksquare$$

Nech  $a \in R^*$  a nech  $f(x), g(x)$  sú definované v nejakom prstencovom okolí  $P(a)$ . Potom hovoríme, že **funkcia  $f$  je rádu  $O(g(x))$  v bode  $a$  (v okolí  $P(a)$ )** a označujeme

$$f(x) = O(g(x)), \quad x \rightarrow a, \quad \text{resp. } f(x) = O(g(x)), \quad x \in P(a),$$

práve vtedy, ak existuje  $c \in R$ ,  $c > 0$  také, že pre všetky  $x \in P(a)$  platí  $|f(x)| \leq c|g(x)|$ .

#### Príklad 3.2.32.K3-pr51

a) Keďže nerovnosti  $|\cos x| \leq 1$ ,  $|\sin x| \leq 1$ ,  $|\sin x| \leq |x|$  sú splnené pre všetky reálne čísla  $x$ , potom pre každé  $a \in R^*$  platí:

$$\cos x = O(1), \quad x \rightarrow a, \quad \sin x = O(1), \quad x \rightarrow a, \quad \sin x = O(x), \quad x \rightarrow a.$$

b) Pretože pre všetky  $x \leq 1$  platí  $|x^2| \leq |x|$  a pre všetky  $x \geq 1$  platí  $|x| \leq |x^2|$ , potom

$$x^2 = O(x), \quad x \rightarrow a, \quad \text{pre } a \in \langle -1; 1 \rangle, \quad x = O(x^2), \quad x \rightarrow a, \quad \text{pre } a \in R - \langle -1; 1 \rangle. \blacksquare$$

Nech  $a \in \mathbb{R}^*$  a nech  $f(x), g(x)$  sú definované v nejakom prstencovom okolí  $P(a)$ . Potom hovoríme, že funkcia  $f$  sa asymptoticky rovná funkcii  $g$  v bode  $a$  (funkcie  $f$  a  $g$  sa asymptoticky rovnajú) a označujeme

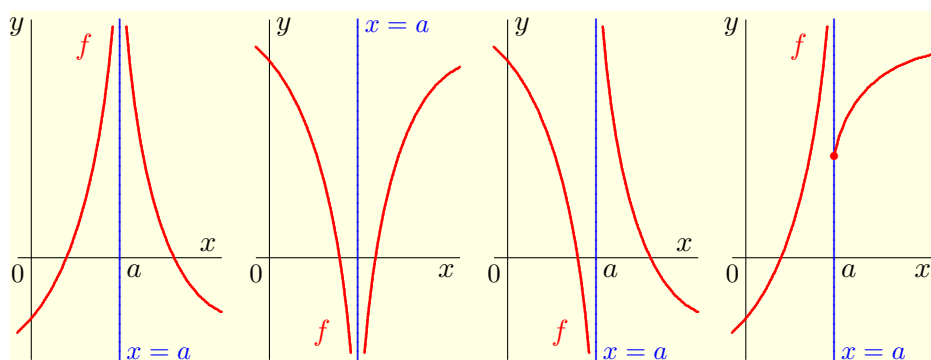
$$f \sim g, x \rightarrow a,$$

práve vtedy, ak existuje limita  $\lim_{x \rightarrow a} \frac{f(x)}{g(x)} = 1$ .

### Príklad 3.2.33.K3-pr52

Asymptoticky sa rovnajú napríklad funkcie

$$x^2 \sim x, x \rightarrow 1, \quad \sin x \sim x, x \rightarrow 0, \quad \sin x \sim 1, x \rightarrow \frac{\pi}{2}, \quad \ln(x+1) \sim x, x \rightarrow 0. \blacksquare$$



Obr. 3.2.110: Príklady asymptoty bez smernice.

Pri vyšetrowaní funkcie  $f$  je dôležité preskúmať jej vlastnosti v nevlastných bodoch, t. j. pre  $x \rightarrow \pm\infty$ . Ak je  $D(f)$  neohraničená množina, potom je potrebné preskúmať taktiež jej chovanie v okolí bodov  $a \in \mathbb{R}$ , v ktorých je aspoň jedna z jednostranných limit  $\lim_{x \rightarrow a^-} f(x), \lim_{x \rightarrow a^+} f(x)$  nevlastná.

Nech  $y = f(x)$  je funkcia definovaná v nejakom prstencovom okolí  $P(a)$  bodu  $a$ . Ak má funkcia  $f$  v bode  $a$  aspoň jednu z jednostranných limit nevlastnú, potom priamku  $x = a$  nazývame **asymptota bez smernice** (vertikálna, resp. **zvislá asymptota**) grafu funkcie  $f$  (obr. 3.2.110).

Nech  $y = f(x)$  je funkcia definovaná na zdola, resp. zhora neohraničenej množine. Priamka určená rovnicou  $y = kx + q$  sa nazýva **asymptota so smernicou  $k$  grafu funkcie  $f$** , ak platí podmienka

$$\lim_{x \rightarrow -\infty} [f(x) - (kx + q)] = 0, \quad \text{resp.} \quad \lim_{x \rightarrow \infty} [f(x) - (kx + q)] = 0.$$

Asymptota s nulovou smernicou (t. j.  $y = q$ ), sa nazýva **horizontálna (vodorovná) asymptota** (obr. 3.2.111).

### Veta 3.2.14.K3-veta31

Priamka určená rovnicou  $y = kx + q$  je asymptotou so smernicou grafu funkcie  $y = f(x)$  práve vtedy, ak existujú reálne limity

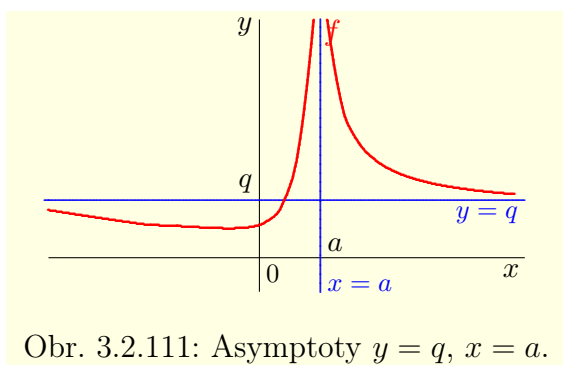
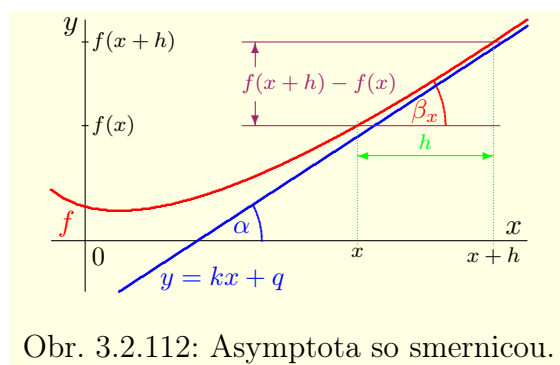
$$\lim_{x \rightarrow -\infty} \frac{f(x)}{x} = k, \quad \lim_{x \rightarrow -\infty} [f(x) - kx] = q, \quad \text{resp.} \quad \lim_{x \rightarrow \infty} \frac{f(x)}{x} = k, \quad \lim_{x \rightarrow \infty} [f(x) - kx] = q.$$

### Dôkaz.

Vetu dokážeme pre prípad  $x \rightarrow \infty$ . Pre  $x \rightarrow -\infty$  je dôkaz analogický.

$NP \Rightarrow$ : Nech  $y = kx + q$  je asymptota grafu funkcie  $f$ , potom platí:

$$\lim_{x \rightarrow \infty} [f(x) - (kx + q)] = 0, \quad \text{t. j.} \quad \lim_{x \rightarrow \infty} \frac{f(x) - (kx + q)}{x} = 0.$$

Obr. 3.2.111: Asymptoty  $y = q$ ,  $x = a$ .

Obr. 3.2.112: Asymptota so smernicou.

Pretože existuje  $\lim_{x \rightarrow \infty} \frac{kx+q}{x} = \lim_{x \rightarrow \infty} \left(k + \frac{q}{x}\right) = k + 0 = k$ , platí:

$$\lim_{x \rightarrow \infty} \frac{f(x)}{x} = \lim_{x \rightarrow \infty} \frac{kx+q}{x} = k \quad \text{a tiež} \quad \lim_{x \rightarrow \infty} [f(x) - kx] = q.$$

$PP_{\Leftarrow}$ : Keďže  $k, q \in \mathbb{R}$ , potom platí:

$$\lim_{x \rightarrow \infty} [f(x) - (kx + q)] = \lim_{x \rightarrow \infty} [f(x) - kx] - \lim_{x \rightarrow \infty} q = q - q = 0. \blacksquare$$

### Príklad 3.2.34.K3-pr97

Nájdite asymptoty funkcie  $f(x) = \frac{2x^2+x+1}{8x}$ .

**Riešenie.**

Funkcia  $f$  je definovaná pre všetky  $x \in \mathbb{R}$ ,  $x \neq 0$ . V bode  $x_0 = 0$  pre jednostranné limity platí:

$$\lim_{x \rightarrow x_0^-} f(x) = \lim_{x \rightarrow 0^-} \frac{2x^2+x+1}{8x} = \lim_{x \rightarrow 0^-} \left[\frac{x}{4} + \frac{1}{8} + \frac{1}{8x}\right] = 0 + \frac{1}{8} - \infty = -\infty,$$

$$\lim_{x \rightarrow x_0^+} f(x) = \lim_{x \rightarrow 0^+} \frac{2x^2+x+1}{8x} = \lim_{x \rightarrow 0^+} \left[\frac{x}{4} + \frac{1}{8} + \frac{1}{8x}\right] = 0 + \frac{1}{8} + \infty = \infty.$$

Z toho vyplýva, že asymptotou bez smernice je priamka  $x = 0$ .

Pre koeficienty asymptoty  $y = kx + q$  so smernicou na základe vety 3.2.14 platí:

$$k = \lim_{x \rightarrow \pm\infty} \frac{f(x)}{x} = \lim_{x \rightarrow \pm\infty} \frac{2x^2+x+1}{8x^2} = \lim_{x \rightarrow \pm\infty} \left[\frac{1}{4} + \frac{1}{8x} + \frac{1}{8x^2}\right] = \frac{1}{4} + 0 + 0 = \frac{1}{4},$$

$$q = \lim_{x \rightarrow \pm\infty} [f(x) - kx] = \lim_{x \rightarrow \pm\infty} \left[\frac{2x^2+x+1}{8x} - \frac{x}{4}\right] = \lim_{x \rightarrow \pm\infty} \frac{2x^2+x+1-2x^2}{8x} = \lim_{x \rightarrow \pm\infty} \left[\frac{1}{8} + \frac{1}{8x}\right] = \frac{1}{8} + 0 = \frac{1}{8}.$$

Z toho vyplýva, že rovnica asymptoty so smernicou je  $y = \frac{x}{4} + \frac{1}{8}$  (obr. 3.2.113).  $\blacksquare$

### Príklad 3.2.35.K3-pr98

Nájdite asymptoty funkcie  $f(x) = 2x - 3\sqrt[3]{x^2}$ .

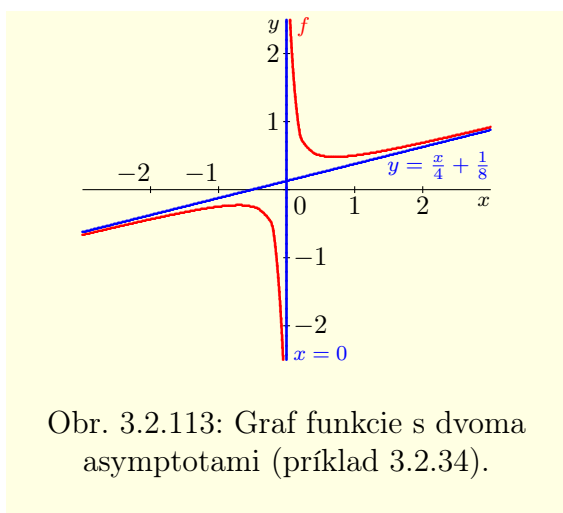
**Riešenie.**

Funkcia  $f$  je definovaná a spojitá pre všetky  $x \in \mathbb{R}$ , takže asymptoty bez smernice nemá.

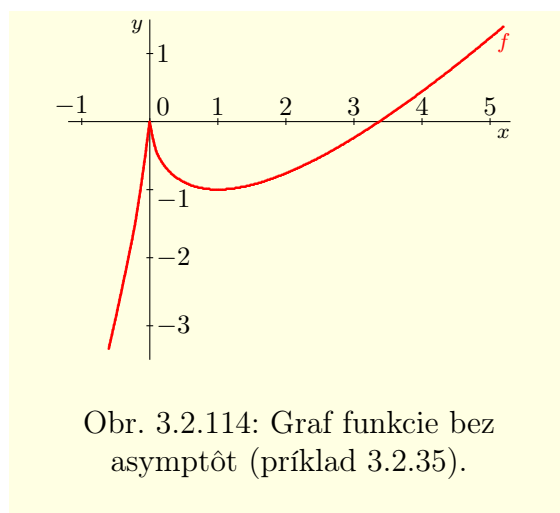
Pre  $x < 0$  platí  $\sqrt[3]{x^2} = (-x)^{\frac{2}{3}}$  a pre  $x > 0$  platí  $\sqrt[3]{x^2} = x^{\frac{2}{3}}$ . Funkcia  $f$  môže mať dve asymptoty  $y = kx + q$  so smernicou. Pre ich smernice  $k_1$ , resp.  $k_2$  potom platí:

$$k_1 = \lim_{x \rightarrow -\infty} \frac{f(x)}{x} = \lim_{x \rightarrow -\infty} \frac{2x - 3(-x)^{\frac{2}{3}}}{-(-x)} = \lim_{x \rightarrow -\infty} \left[2 + \frac{3}{(-x)^{\frac{1}{3}}}\right] = 2 + 0 = 2,$$

$$k_2 = \lim_{x \rightarrow \infty} \frac{f(x)}{x} = \lim_{x \rightarrow \infty} \frac{2x - 3x^{\frac{2}{3}}}{x} = \lim_{x \rightarrow \infty} \left[2 - \frac{3}{x^{\frac{1}{3}}}\right] = 2 - 0 = 2.$$



Obr. 3.2.113: Graf funkcie s dvoma asymptotami (príklad 3.2.34).



Obr. 3.2.114: Graf funkcie bez asymptôt (príklad 3.2.35).

Asymptota so smernicou neexistuje, pretože v oboch prípadoch platí:

$$q = \lim_{x \rightarrow \pm\infty} [f(x) - k_{1,2}x] = \lim_{x \rightarrow \pm\infty} [2x - 3\sqrt[3]{x^2} - 2x] = \lim_{x \rightarrow \pm\infty} [-3\sqrt[3]{x^2}] = -\infty.$$

Z uvedeného vyplýva, že funkcia  $f$  nemá žiadne asymptoty (obr. 3.2.114). ■

### Príklad 3.2.36.K3-pr104

Uvažujme hyperboly  $k_x = k_x^+ \cup k_x^-$ ,  $k_y = k_y^+ \cup k_y^-$  so stredom  $[0; 0]$ , pre ktoré platí:<sup>56</sup>

$$k_x^+: y = \frac{b}{a}\sqrt{x^2 - a^2}, \quad k_x^-: y = -\frac{b}{a}\sqrt{x^2 - a^2}, \quad k_y^+: y = \frac{b}{a}\sqrt{x^2 + a^2}, \quad k_y^-: y = -\frac{b}{a}\sqrt{x^2 + a^2}.$$

Funkcie  $k_x^+$ ,  $k_x^-$  sú spojité na množine  $(-\infty; -a) \cup (a; \infty)$  a funkcie  $k_y^+$ ,  $k_y^-$  sú spojité na množine  $(-\infty; \infty)$ . Asymptoty bez smernice tieto funkcie nemajú.

Určíme asymptoty  $y = kx + q$  so smernicou funkcií  $k_x^\pm$ ,  $k_y^\pm$ . Pre ich koeficienty  $k$  platí:

$$k_{1,2} = \lim_{x \rightarrow \infty} \frac{\pm \frac{b}{a}\sqrt{x^2 \pm a^2}}{x} = \pm \frac{b}{a} \lim_{x \rightarrow \infty} \sqrt{\frac{x^2 \pm a^2}{x^2}} = \pm \frac{b}{a} \lim_{x \rightarrow \infty} \sqrt{1 \pm \frac{a^2}{x^2}} = \pm \frac{b}{a},$$

$$k_{3,4} = \lim_{x \rightarrow -\infty} \frac{\pm \frac{b}{a}\sqrt{x^2 \pm a^2}}{x} = - \lim_{z \rightarrow \infty} \frac{\pm \frac{b}{a}\sqrt{z^2 \pm a^2}}{z} = -(\pm \frac{b}{a}) = \mp \frac{b}{a}.$$

Z toho vyplýva, že funkcie  $k_x^+$ ,  $k_y^+$  majú asymptoty so smernicami  $k_1 = \frac{b}{a}$ ,  $k_3 = -\frac{b}{a}$  a funkcie  $k_x^-$ ,  $k_y^-$  majú asymptoty so smernicami  $k_2 = -\frac{b}{a}$ ,  $k_4 = \frac{b}{a}$ .

Predtým ako určíme koeficienty  $q$  vypočítame nasledujúce limity

$$\lim_{x \rightarrow \infty} [\sqrt{x^2 \pm a^2} - x] = \lim_{x \rightarrow \infty} [\sqrt{x^2 \pm a^2} - x] \frac{\sqrt{x^2 \pm a^2} + x}{\sqrt{x^2 \pm a^2} + x} = \lim_{x \rightarrow \infty} \frac{\pm a^2}{\sqrt{x^2 \pm a^2} + x} = \frac{\pm a^2}{\infty} = 0,$$

$$\lim_{x \rightarrow -\infty} [\sqrt{x^2 \pm a^2} + x] = \lim_{z \rightarrow \infty} [\sqrt{z^2 \pm a^2} - z] = 0.$$

Pre funkcie  $k_x^+$ ,  $k_y^+$  z predchádzajúcich vzťahov vyplýva:

$$q_1 = \lim_{x \rightarrow \infty} \left[ \frac{b}{a}\sqrt{x^2 \pm a^2} - \frac{bx}{a} \right] = 0, \quad q_3 = \lim_{x \rightarrow -\infty} \left[ \frac{b}{a}\sqrt{x^2 \pm a^2} + \frac{bx}{a} \right] = 0.$$

To znamená, že funkcie  $k_x^+$ ,  $k_y^+$  majú asymptoty  $y = \pm \frac{b}{a}$ . Pre  $k_x^-$ ,  $k_y^-$  analogicky platí:

$$q_2 = \lim_{x \rightarrow \infty} \left[ -\frac{b}{a}\sqrt{x^2 \pm a^2} + \frac{bx}{a} \right] = 0, \quad q_4 = \lim_{x \rightarrow -\infty} \left[ -\frac{b}{a}\sqrt{x^2 \pm a^2} - \frac{bx}{a} \right] = 0.$$

Z toho vyplýva, že všetky štyri funkcie  $k_x^-$ ,  $k_y^-$ ,  $k_x^+$ ,  $k_y^+$  a tým pádom aj hyperboly  $k_x$ ,  $k_y$  majú po dve asymptoty so smernicou, ktoré sú určené rovnicami  $y = \pm \frac{bx}{a}$ . ■

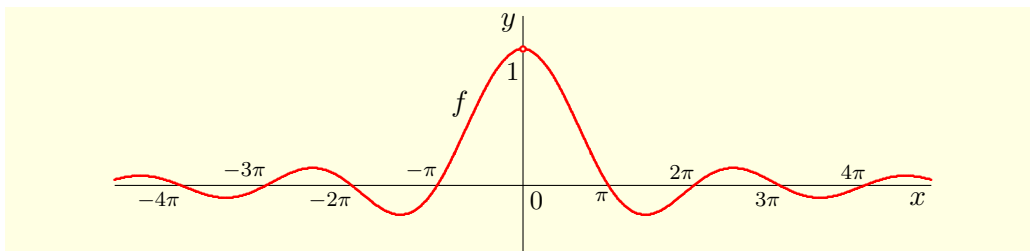
<sup>56</sup>Vzťahy (3.26), (3.21) na strane 213.

**Poznámka 3.2.20.K3-poz49**

V zhode s definíciou, je priamka  $y = kx + q$  asymptotou so smernicou grafu funkcie  $f$  aj v prípade, keď graf funkcie  $f$  okolo priamky osciluje.

Príkladom je funkcia  $f: y = \frac{\sin x}{x}$ ,  $x \in \mathbb{R} - \{0\}$ . Jej graf osciluje aj pre  $x \rightarrow -\infty$ , aj pre  $x \rightarrow \infty$  okolo priamky  $y = 0$  (obr. 3.2.115), platí totiž:<sup>57</sup>

$$\lim_{x \rightarrow \pm\infty} [f(x) - kx - q] = \lim_{x \rightarrow \pm\infty} \left[ \frac{\sin x}{x} - 0 \right] = 0.$$



Obr. 3.2.115: Funkcia  $f: y = \frac{\sin x}{x}$  a jej asymptota so smernicou  $y = 0$ .

Na obrázku 3.2.112 je načrtnutý graf funkcie  $f$  s asymptotou  $y = kx + q$ . Smernica priamky predstavuje tangens uhla  $\alpha$ , ktorý zvierá s osou  $x$ , t. j.  $k = \operatorname{tg} \alpha$ .

Nech  $h \in \mathbb{R}$  je pevne dané číslo. Pre jednoduchosť predpokladajme, že  $h > 0$ . Hodnota  $\beta_x$  predstavuje uhol, ktorý zvierá priamka určená bodmi  $[x; f(x)]$  a  $[x+h; f(x+h)]$  s osou  $x$ . Potom pre uhol  $\beta_x$  platí:

$$\operatorname{tg} \beta_x = \frac{f(x+h) - f(x)}{x+h-x} = \frac{f(x+h) - f(x)}{h}.$$

Je zrejmé, že pre  $x \rightarrow \infty$  platí  $\beta_x \rightarrow \alpha$ , t. j.  $\operatorname{tg} \beta_x \rightarrow \operatorname{tg} \alpha$ . Ak uvážime vetu 3.2.14, potom

$$\alpha = \lim_{x \rightarrow \infty} \beta_x, \quad \text{t. j. } k = \lim_{x \rightarrow \infty} \frac{f(x)}{x} = \lim_{x \rightarrow \infty} \frac{f(x+h) - f(x)}{h}.$$

Tieto výsledky sú sformulované a dokázané v nasledujúcej vete, ktorá je analógiou vety 2.3.20 pre číselné postupnosti (strana 113).

**Veta 3.2.15.K3-veta32**

Nech funkcia  $f$  je definovaná na zhora neohraničenej množine a nech  $h \in \mathbb{R}$ ,  $h \neq 0$ .

Ak existuje  $\lim_{x \rightarrow \infty} \frac{f(x+h) - f(x)}{h}$ , potom existuje  $\lim_{x \rightarrow \infty} \frac{f(x)}{x}$  a rovnajú sa.

**Dôkaz.**

Ak označíme  $\lim_{x \rightarrow \infty} \frac{f(x+h) - f(x)}{h} = a$ , potom  $\lim_{x \rightarrow \infty} [f(x+h) - f(x)] = ha$ .

Predpokladajme najprv, že  $h > 0$ .

Nech  $a \in \mathbb{R}$ , potom pre všetky  $\varepsilon > 0$  existuje  $r \in \mathbb{R}$  také, že pre všetky  $x \in \mathbb{R}$ ,  $x > r$  platí:

$$ha - \varepsilon < f(x+h) - f(x) < ha + \varepsilon, \quad \text{t. j. } ha - \varepsilon + f(x) < f(x+h) < ha + \varepsilon + f(x).$$

Nech  $x_0 \in \mathbb{R}$ ,  $x_0 > r$ ,  $n \in \mathbb{N}$  sú ľubovoľné, potom pre všetky  $x = x_0 + nh > x_0$  platí:

$$\begin{aligned} f(x) &= f(x_0 + nh) < ha + \varepsilon + f(x_0 + (n-1)h) < \\ &< ha + \varepsilon + ha + \varepsilon + f(x_0 + (n-2)h) = 2(ha + \varepsilon) + f(x_0 + (n-2)h) < \\ &< 3(ha + \varepsilon) + f(x_0 + (n-3)h) < \dots < n(ha + \varepsilon) + f(x_0). \end{aligned}$$

<sup>57</sup>Symbol  $\lim_{x \rightarrow \pm\infty}$  vyjadruje obidve limity  $\lim_{x \rightarrow \infty}$  a  $\lim_{x \rightarrow -\infty}$  súčasne.



Na druhej strane platí:

$$f(x) = f(x_0 + nh) > ha - \varepsilon + f(x_0 + (n-1)h) > \dots > n(ha - \varepsilon) + f(x_0).$$

Je zrejmé, že môžeme predpokladať  $x > 0$ . Potom platí:

$$\frac{n(ha - \varepsilon) + f(x_0)}{x} < \frac{f(x)}{x} < \frac{n(ha + \varepsilon) + f(x_0)}{x}.$$

Ak dosadíme za  $n$  výraz  $n = (x - x_0) \frac{1}{h}$ , potom platí:

$$\frac{x - x_0}{x} (a - \varepsilon \frac{1}{h}) + \frac{f(x_0)}{x} < \frac{f(x)}{x} < \frac{x - x_0}{x} (a + \varepsilon \frac{1}{h}) + \frac{f(x_0)}{x}.$$

Ak uvážime, že  $x_0$  je ľubovoľné, ale vzhľadom na  $x$  konštantné, potom pre  $x \rightarrow \infty$  platí:

$$\begin{aligned} a - \varepsilon \frac{1}{h} = 1 \cdot (a - \varepsilon \frac{1}{h}) + 0 &= \lim_{x \rightarrow \infty} \left[ \frac{x - x_0}{x} (a - \varepsilon \frac{1}{h}) + \frac{f(x_0)}{x} \right] \leq \lim_{x \rightarrow \infty} \frac{f(x)}{x} \leq \\ &\leq \lim_{x \rightarrow \infty} \left[ \frac{x - x_0}{x} (a + \varepsilon \frac{1}{h}) + \frac{f(x_0)}{x} \right] = 1 \cdot (a + \varepsilon \frac{1}{h}) + 0 = a + \varepsilon \frac{1}{h}. \end{aligned}$$

Pretože je  $\varepsilon$ , t. j. aj  $\varepsilon \frac{1}{h}$  ľubovoľné, potom na základe vety 2.1.13 platí  $\lim_{x \rightarrow \infty} \frac{f(x)}{x} = a$ .

Nech  $a = \infty$ , potom  $\lim_{x \rightarrow \infty} [f(x+h) - f(x)] = \infty$ .

Potom pre každé  $K > 0$  existuje  $r \in \mathbb{R}$  také, že pre všetky  $x \in \mathbb{R}$ ,  $x > r$  platí:

$$f(x+h) - f(x) > K, \quad \text{t. j. } f(x+h) > K + f(x).$$

Nech  $x_0 \in \mathbb{R}$ ,  $x_0 > r$ ,  $n \in \mathbb{N}$  sú ľubovoľné, potom pre všetky  $x = x_0 + nh > x_0$  platí:

$$f(x) = f(x_0 + nh) > K + f(x_0 + (n-1)h) > \dots > nK + f(x_0).$$

Potom pre  $x > 0$  platí:

$$\frac{f(x)}{x} > \frac{nK + f(x_0)}{x} = \frac{x - x_0}{x} \frac{K}{h} + \frac{f(x_0)}{x}, \quad \text{t. j. } \lim_{x \rightarrow \infty} \frac{f(x)}{x} \geq \frac{K}{h} + 0 = \frac{K}{h}.$$

Keďže je  $K > 0$  ľubovoľné a  $h > 0$ , potom  $\lim_{x \rightarrow \infty} \frac{f(x)}{x} = \infty$ .

Nech  $a = -\infty$ , potom pre funkciu  $g(x) = -f(x)$ ,  $x \in D(f)$  platí:

$$\lim_{x \rightarrow \infty} \frac{g(x+h) - g(x)}{h} = - \lim_{x \rightarrow \infty} \frac{f(x+h) - f(x)}{h} = -(-\infty) = \infty.$$

Z toho na základe už dokazaného vyplýva:

$$\lim_{x \rightarrow \infty} \frac{g(x)}{x} = \infty, \quad \text{t. j. } \lim_{x \rightarrow \infty} \frac{f(x)}{x} = \lim_{x \rightarrow \infty} \frac{-g(x)}{x} = - \lim_{x \rightarrow \infty} \frac{g(x)}{x} = -\infty.$$

Nech  $h < 0$ . Ak položíme  $x+h = z$ , t. j.  $x = z - h$ ,  $z \rightarrow \infty$ , potom platí:

$$a = \lim_{x \rightarrow \infty} \frac{f(x+h) - f(x)}{h} = \lim_{x \rightarrow \infty} \frac{f(x) - f(x+h)}{-h} = \lim_{z \rightarrow \infty} \frac{f(z+(-h)) - f(z)}{-h}.$$

Keďže  $-h > 0$ , potom  $\lim_{x \rightarrow \infty} \frac{f(x)}{x} = a$ . Tým je veta dokázaná. ■

### Poznámka 3.2.21.K3-poz45

Opačná implikácia vo vete 3.2.15 neplatí. Je zrejmé, že ak obe dané limity existujú, potom sa rovnajú. Lenže, ako dokazuje nasledujúci príklad, niekedy môže nastať prípad, že  $\lim_{x \rightarrow \infty} \frac{f(x)}{x}$  existuje a

$\lim_{x \rightarrow \infty} \frac{f(x+h) - f(x)}{h}$  neexistuje.

### Príklad 3.2.37.K3-pr81

Funkcia  $f: y = \sin x$  nemá asymptotu so smernicou, aj keď  $\lim_{x \rightarrow \infty} \frac{f(x)}{x} = \lim_{x \rightarrow \infty} \frac{\sin x}{x} = 0$ .

Neexistuje totiž limita  $\lim_{x \rightarrow \infty} [f(x) - kx] = \lim_{x \rightarrow \infty} [\sin x - 0] = \lim_{x \rightarrow \infty} \sin x$ .

Nech  $h \in \mathbb{R}$ . V tomto prípade neexistuje ani limita

$$\lim_{x \rightarrow \infty} \frac{\sin(x+h) - \sin x}{h} = \lim_{x \rightarrow \infty} \left[ \frac{2}{h} \sin \frac{x+h-x}{2} \cos \frac{x+h+x}{2} \right] = \frac{2}{h} \sin \frac{h}{2} \lim_{x \rightarrow \infty} \cos \frac{2x+h}{2}. \quad \blacksquare$$

**Poznámka 3.2.22.K3-poz46**

Ak zvolíme  $h = 1$ , potom môžeme tvrdenie vety 3.2.6 vyjadriť v tvare

$$\lim_{x \rightarrow \infty} \frac{f(x)}{x} = \lim_{x \rightarrow \infty} [f(x+1) - f(x)].$$

Predpokladajme, že  $N \subset D(f)$ . Ak urobíme reštrikciu funkcie  $f$  na množinu prirodzených čísel a pre všetky  $n \in N$  položíme  $a_n = f(n)$ , potom dostaneme postupnosť reálnych čísel  $\{a_n\}_{n=1}^{\infty}$  a daný vzťah môžeme vyjadriť v tvare

$$\lim_{n \rightarrow \infty} \frac{a_n}{n} = \lim_{x \rightarrow \infty} \frac{f(x)}{x} = \lim_{x \rightarrow \infty} [f(x+1) - f(x)] = \lim_{n \rightarrow \infty} [a_{n+1} - a_n].$$

Na záver uvádzame bez dôkazu vetu 3.2.16, ktorá je analógiou vety 2.3.21 pre číselné postupnosti. Dôkaz tejto vety je podobný ako dôkaz vety 3.2.15 a doporučujeme ho vykonať hlbavému čitateľovi ako domáce cvičenie.

**Veta 3.2.16.K3-veta33**

Nech  $f$  je kladná funkcia definovaná na zhora neohraničenej množine.

Ak existuje  $\lim_{x \rightarrow \infty} \frac{f(x+1)}{f(x)}$ , potom existuje  $\lim_{x \rightarrow \infty} \sqrt[x]{f(x)} = \lim_{x \rightarrow \infty} [f(x)]^{\frac{1}{x}}$  a rovnajú sa.

**3.2.4 Riešené príklady**

V tejto časti sú uvedené riešené príklady. A ako ukazujú niektoré z nich, v mnohých prípadoch sa riešenie zjednoduší, ak použijeme vhodnú substitúciu.

**Príklad 3.2.38.K3-pr55**

$$\text{a) } \lim_{x \rightarrow 2} \frac{x-2}{x^2-3x+2} = \lim_{x \rightarrow 2} \frac{x-2}{(x-2)(x-1)} = \lim_{x \rightarrow 2} \frac{1}{x-1} = 1.$$

$$\text{b) } \lim_{x \rightarrow 0} \frac{3x+\frac{2}{x}}{x+\frac{4}{x}} = \lim_{x \rightarrow 0} \left[ \frac{3x+\frac{2}{x}}{x+\frac{4}{x}} \cdot \frac{x}{x} \right] = \lim_{x \rightarrow 0} \frac{3x^2+2}{x^2+4} = \frac{1}{2}.$$

$$\text{c) } \lim_{x \rightarrow \infty} \left[ \frac{1-x}{x^2} + \frac{1-2x}{2-3x} \right] = \lim_{x \rightarrow \infty} \left[ \frac{1}{x^2} - \frac{1}{x} \right] + \lim_{x \rightarrow \infty} \frac{(1-2x)^{\frac{1}{x}}}{(2-3x)^{\frac{1}{x}}} = 0 + \lim_{x \rightarrow \infty} \frac{\frac{1}{x}-2}{\frac{2}{x}-3} = \frac{2}{3}.$$

$$\text{d) } \lim_{x \rightarrow 2} \frac{x^2-3x+2}{x^2-2x} = \lim_{x \rightarrow 2} \frac{(x-1)(x-2)}{x(x-2)} = \lim_{x \rightarrow 2} \frac{x-1}{x} = \frac{1}{2}. \blacksquare$$

**Poznámka 3.2.23.K3-poz38**

Ak použijeme v príklade 3.2.38 a) substitúciu  $x = z + 2$ , t. j.  $z = x - 2$ , potom platí:

$$\lim_{x \rightarrow 2} \frac{x-2}{x^2-3x+2} = \lim_{z \rightarrow 0} \frac{(z+2)-2}{(z+2)^2-3(z+2)+2} = \lim_{z \rightarrow 0} \frac{z}{z^2+z} = \lim_{z \rightarrow 0} \frac{1}{z+1} = 1.$$

**Príklad 3.2.39.K3-pr56**

Určte pre aké  $a \in \mathbb{R}^*$  existuje  $\lim_{x \rightarrow a} \ln(x-6)$  a potom túto limitu vypočítajte.

**Riešenie.**

Aby daná limita existovala, musí byť argument funkcie logaritmus nezáporný, t. j. musí platiť nerovnosť  $a - 6 \geq 0$ . Potom z vlastností funkcie logaritmus vyplýva:

$$\lim_{x \rightarrow a} \ln(x-6) = \begin{cases} -\infty, & \text{pre } a = 6, \\ \ln(a-6), & \text{pre } a > 6, \\ \infty, & \text{pre } a = \infty. \blacksquare \end{cases}$$

**Príklad 3.2.40.K3-pr57**

$$a) \lim_{x \rightarrow 0} \frac{1-\sqrt{1-x}}{x} = \lim_{x \rightarrow 0} \frac{(1-\sqrt{1-x})(1+\sqrt{1-x})}{x(1+\sqrt{1-x})} = \lim_{x \rightarrow 0} \frac{1-(1-x)}{x+\sqrt{x^2-x^3}} = \lim_{x \rightarrow 0} \frac{x}{x+\sqrt{x^2-x^3}} = \lim_{x \rightarrow 0} \frac{1}{1+\frac{1}{x}\sqrt{x^2-x^3}} = \lim_{x \rightarrow 0} \frac{1}{1+\sqrt{1-x}} = 1.$$

$$b) \lim_{x \rightarrow 0} \frac{x}{\sqrt{1+x}-\sqrt{1-x}} = \lim_{x \rightarrow 0} \frac{x(\sqrt{1+x}+\sqrt{1-x})}{(\sqrt{1+x}-\sqrt{1-x})(\sqrt{1+x}+\sqrt{1-x})} = \lim_{x \rightarrow 0} \frac{x(\sqrt{1+x}+\sqrt{1-x})}{(1+x)-(1-x)} = \lim_{x \rightarrow 0} \frac{x(\sqrt{1+x}+\sqrt{1-x})}{2x} = 1.$$

$$c) \lim_{x \rightarrow \infty} \frac{\sqrt{x^2-1}+\sqrt{x^2+1}}{x} = \lim_{x \rightarrow \infty} \left[ \sqrt{\frac{x^2-1}{x^2}} + \sqrt{\frac{x^2+1}{x^2}} \right] = \lim_{x \rightarrow \infty} \left[ \sqrt{1-\frac{1}{x^2}} + \sqrt{1+\frac{1}{x^2}} \right] = 2.$$

$$d) \lim_{x \rightarrow \infty} [x - \sqrt{x^2-1}] = \lim_{x \rightarrow \infty} \frac{(x-\sqrt{x^2-1})(x+\sqrt{x^2-1})}{x+\sqrt{x^2-1}} = \lim_{x \rightarrow \infty} \frac{x^2-x^2+1}{x+\sqrt{x^2-1}} = 0. \blacksquare$$

**Príklad 3.2.41.K3-pr58**

Nech  $a \in R$ ,  $n \in N$ . Vypočítajte nasledujúce limity:

$$a) \lim_{x \rightarrow 0} \frac{x^n - \sin^n x}{x - \sin x}, \quad b) \lim_{x \rightarrow a} \frac{\sin x - \sin a}{x - a}, \quad c) \lim_{x \rightarrow a} \frac{\cos x - \cos a}{x - a}.$$

**Riešenie.**

a) Ak  $n = 1$ , potom pre danú limitu platí:

$$\lim_{x \rightarrow 0} \frac{x^n - \sin^n x}{x - \sin x} = \lim_{x \rightarrow 0} \frac{x - \sin x}{x - \sin x} = \lim_{x \rightarrow 0} 1 = 1.$$

Ak  $n \neq 1$ , potom zo vzorca  $a^n - b^n = (a - b)(a^{n-1} + a^{n-2}b + \dots + ab^{n-2} + b^{n-1})$  vyplýva:

$$\begin{aligned} \lim_{x \rightarrow 0} \frac{x^n - \sin^n x}{x - \sin x} &= \lim_{x \rightarrow 0} \frac{(x - \sin x)(x^{n-1} + x^{n-2} \sin x + \dots + x \sin^{n-2} x + \sin^{n-1} x)}{x - \sin x} = \\ &= \lim_{x \rightarrow 0} (x^{n-1} + x^{n-2} \sin x + \dots + x \sin^{n-2} x + \sin^{n-1} x) = 0. \end{aligned}$$

b) Z vety 3.1.9 vyplýva, že pre všetky  $x, a \in R$  platí:

$$\sin x - \sin a = 2 \sin \frac{x-a}{2} \cos \frac{x+a}{2}, \quad \cos x - \cos a = -2 \sin \frac{x-a}{2} \sin \frac{x+a}{2}.$$

Ak položíme  $\frac{x-a}{2} = z$ , potom  $\frac{x+a}{2} = \frac{x-a+2a}{2} = z + a$ ,  $z \rightarrow 0$  a platí:

$$\lim_{x \rightarrow a} \frac{\sin x - \sin a}{x - a} = \lim_{x \rightarrow a} \frac{2 \sin \frac{x-a}{2} \cos \frac{x+a}{2}}{2 \frac{x-a}{2}} = \lim_{z \rightarrow 0} \frac{\sin z \cdot \cos(z+a)}{z} = 1 \cdot \cos a = \cos a.$$

c) Ak položíme  $\frac{x-a}{2} = z$ ,  $z \rightarrow 0$ , potom analogicky ako v časti b) platí:

$$\lim_{x \rightarrow a} \frac{\cos x - \cos a}{x - a} = \lim_{z \rightarrow 0} \frac{-\sin z \cdot \sin(z+a)}{z} = -1 \cdot \sin a = -\sin a. \blacksquare$$

**Príklad 3.2.42.K3-pr59**

$$a) \lim_{x \rightarrow a} \frac{a-x}{\sqrt{a}-\sqrt{x}} = \lim_{x \rightarrow a} \frac{(\sqrt{a}-\sqrt{x})(\sqrt{a}+\sqrt{x})}{\sqrt{a}-\sqrt{x}} = \lim_{x \rightarrow a} (\sqrt{a} + \sqrt{x}) = 2\sqrt{a}.$$

$$b) \lim_{x \rightarrow \infty} \left[ \frac{5x^2}{x^2-1} + 2^{\frac{1}{x}} \right] = \lim_{x \rightarrow \infty} \frac{5}{1-\frac{1}{x^2}} + \lim_{x \rightarrow \infty} 2^{\frac{1}{x}} = \frac{5}{1} + 2^0 = 6.$$

$$c) \lim_{x \rightarrow 1} \left[ \frac{1}{1-x} - \frac{3}{1-x^3} \right] = \lim_{x \rightarrow 1} \frac{1+x+x^2-3}{1-x^3} = \lim_{x \rightarrow 1} \frac{x^2+x-2}{1-x^3} = \lim_{x \rightarrow 1} \frac{(x+2)(x-1)}{(1-x)(1+x+x^2)} = -\lim_{x \rightarrow 1} \frac{x+2}{1+x+x^2} = -1. \blacksquare$$

**Príklad 3.2.43.K3-pr60**

Vypočítajte  $\lim_{x \rightarrow a} \frac{x^2 - a\sqrt{ax}}{\sqrt{ax} - a}$ , kde  $a > 0$ .

**Riešenie.**

$$\lim_{x \rightarrow a} \frac{x^2 - a\sqrt{ax}}{\sqrt{ax} - a} = \lim_{x \rightarrow a} \frac{(x^2 - a\sqrt{ax})(\sqrt{ax} + a)}{(\sqrt{ax} - a)(\sqrt{ax} + a)} = \lim_{x \rightarrow a} \frac{x^2\sqrt{ax} - a^2x + ax^2 - a^2\sqrt{ax}}{ax - a^2} =$$

$$= \lim_{x \rightarrow a} \frac{\sqrt{ax}(x^2 - a^2) + ax(x - a)}{a(x - a)} = \lim_{x \rightarrow a} \frac{\sqrt{ax}(x + a) + ax}{a} = 3a.$$

**Iné riešenie.**

Ak použijeme substitúciu  $\sqrt{ax} = z$ , t. j.  $ax = z^2$ ,  $x^2 = z^4 a^{-2}$ , potom  $z \rightarrow a$  a platí:

$$\lim_{x \rightarrow a} \frac{x^2 - a\sqrt{ax}}{\sqrt{ax} - a} = \lim_{z \rightarrow a} \frac{z^4 a^{-2} - az}{z - a} = \lim_{z \rightarrow a} \frac{z^4 - a^3 z}{a^2(z - a)} = \lim_{z \rightarrow a} \frac{z(z^3 - a^3)}{a^2(z - a)} = \lim_{z \rightarrow a} \frac{z(z - a)(z^2 + za + a^2)}{a^2(z - a)} = \lim_{z \rightarrow a} \frac{z(z^2 + za + a^2)}{a^2} = 3a. \blacksquare$$

### Príklad 3.2.44.K3-pr61

Vypočítajte: a)  $\lim_{x \rightarrow \infty} \frac{\sqrt{x-6x}}{3x+1}$ , b)  $\lim_{x \rightarrow 0} \frac{\sqrt[3]{1+mx}-1}{x}$ ,  $m \in \mathbb{R}$ , c)  $\lim_{x \rightarrow 1} \frac{\sqrt[3]{x}-1}{\sqrt[4]{x}-1}$ .

**Riešenie.**

a) Ak použijeme substitúciu  $\sqrt{x} = z$ , t. j.  $x = z^2$ , potom  $z \rightarrow \infty$  a platí:

$$\lim_{x \rightarrow \infty} \frac{\sqrt{x-6x}}{3x+1} = \lim_{z \rightarrow \infty} \frac{z-6z^2}{3z^2+1} = \lim_{z \rightarrow \infty} \frac{(z-6z^2)z^{-2}}{(3z^2+1)z^{-2}} = \lim_{z \rightarrow \infty} \frac{z^{-1}-6}{3+z^{-2}} = \frac{-6}{3} = -2.$$

b) Ak  $m = 0$ , potom platí  $\lim_{x \rightarrow 0} \frac{\sqrt[3]{1+mx}-1}{x} = \lim_{x \rightarrow 0} \frac{1-1}{x} = \lim_{x \rightarrow 0} 0 = 0$ .

Ak  $m \neq 0$ , potom zo substitúcie  $1 + mx = z^3$ , t. j.  $x = \frac{z^3-1}{m}$ ,  $z \rightarrow 1$  vyplýva:

$$\lim_{x \rightarrow 0} \frac{\sqrt[3]{1+mx}-1}{x} = \lim_{z \rightarrow 1} \frac{z-1}{(z^3-1)m^{-1}} = \lim_{z \rightarrow 1} \frac{m(z-1)}{(z-1)(z^2+z+1)} = \lim_{z \rightarrow 1} \frac{m}{z^2+z+1} = \frac{m}{3}.$$

c) Ak použijeme substitúciu  $x = z^{12}$ , potom  $z \rightarrow 1$  a platí:

$$\lim_{x \rightarrow 1} \frac{\sqrt[3]{x}-1}{\sqrt[4]{x}-1} = \lim_{z \rightarrow 1} \frac{\sqrt[3]{z^{12}}-1}{\sqrt[4]{z^{12}}-1} = \lim_{z \rightarrow 1} \frac{z^4-1}{z^3-1} = \lim_{z \rightarrow 1} \frac{(z-1)(z^3+z^2+z+1)}{(z-1)(z^2+z+1)} = \frac{4}{3}. \blacksquare$$

### Príklad 3.2.45.K3-pr67

Vypočítajte: a)  $\lim_{x \rightarrow 0} \frac{\sin 5x}{x}$ , b)  $\lim_{x \rightarrow 2} \frac{\arcsin(x-2)}{x^2-2x}$ , c)  $\lim_{x \rightarrow 0} \frac{\operatorname{arctg} x}{x}$ .

**Riešenie.**

a) Pri riešení napravo je použitá substitúcia  $5x = z$ , t. j.  $x = \frac{z}{5}$ ,  $z \rightarrow 0$ .

$$\lim_{x \rightarrow 0} \frac{\sin 5x}{x} = 5 \lim_{x \rightarrow 0} \frac{\sin 5x}{5x} = 5 \cdot 1 = 5, \quad \text{resp.} \quad \lim_{x \rightarrow 0} \frac{\sin 5x}{x} = \lim_{z \rightarrow 0} \frac{5 \sin z}{z} = 5.$$

b) Ak použijeme substitúciu  $\arcsin(x-2) = z$ , t. j.  $x-2 = \sin z$ , potom  $z \rightarrow 0$  a platí:

$$\lim_{x \rightarrow 2} \frac{\arcsin(x-2)}{x^2-2x} = \lim_{x \rightarrow 2} \frac{\arcsin(x-2)}{x-2} \cdot \lim_{x \rightarrow 2} \frac{1}{x} = \lim_{z \rightarrow 0} \frac{z}{\sin z} \cdot \lim_{x \rightarrow 2} \frac{1}{x} = 1 \cdot \frac{1}{2} = \frac{1}{2}.$$

c) Ak použijeme substitúciu  $\operatorname{arctg} x = z$ , t. j.  $x = \operatorname{tg} z$ , potom  $z \rightarrow 0$  a platí:

$$\lim_{x \rightarrow 0} \frac{\operatorname{arctg} x}{x} = \lim_{z \rightarrow 0} \frac{z}{\operatorname{tg} z} = \lim_{z \rightarrow 0} \frac{z \cos z}{\sin z} = \lim_{z \rightarrow 0} \frac{z}{\sin z} \cdot \lim_{z \rightarrow 0} \cos z = 1 \cdot 1 = 1. \blacksquare$$

### Príklad 3.2.46.K3-pr62

a)  $\lim_{x \rightarrow 0} \frac{\operatorname{tg} x}{x} = \lim_{x \rightarrow 0} \frac{\sin x}{x \cos x} = \lim_{x \rightarrow 0} \frac{\sin x}{x} \lim_{x \rightarrow 0} \frac{1}{\cos x} = 1.$

b)  $\lim_{x \rightarrow \pi} \frac{\operatorname{tg} x}{\sin 2x} = \lim_{x \rightarrow \pi} \frac{\sin x \cos^{-1} x}{2 \sin x \cos x} = \lim_{x \rightarrow \pi} \frac{1}{2 \cos^2 x} = \frac{1}{2(-1)^2} = \frac{1}{2}.$

c)  $\lim_{x \rightarrow 0} \frac{1 - \cos 2x}{x^2} = \lim_{x \rightarrow 0} \frac{1 - (\cos^2 x - \sin^2 x)}{x^2} = \lim_{x \rightarrow 0} \frac{\sin^2 x + \sin^2 x}{x^2} = \lim_{x \rightarrow 0} \frac{2 \sin^2 x}{x^2} = 2.$

d)  $\lim_{x \rightarrow \frac{\pi}{4}} \frac{\cos 2x}{\cos x - \sin x} = \lim_{x \rightarrow \frac{\pi}{4}} \frac{\cos^2 x - \sin^2 x}{\cos x - \sin x} = \lim_{x \rightarrow \frac{\pi}{4}} (\cos x + \sin x) = \frac{\sqrt{2}}{2} + \frac{\sqrt{2}}{2} = \sqrt{2}.$

e)  $\lim_{x \rightarrow 0} \frac{\sin 4x}{\sqrt{x+1}-1} = \lim_{x \rightarrow 0} \frac{(\sqrt{x+1}+1) \sin 4x}{(\sqrt{x+1}+1)(\sqrt{x+1}-1)} = \lim_{x \rightarrow 0} \frac{(\sqrt{x+1}+1) \sin 4x}{x+1-1} = 4 \lim_{x \rightarrow 0} (\sqrt{x+1}+1) \lim_{x \rightarrow 0} \frac{\sin 4x}{4x} = 4 \cdot 2 \cdot 1 = 8. \blacksquare$

**Príklad 3.2.47.K3-pr63**

Vypočítajte  $\lim_{x \rightarrow 0} \frac{\sin x}{\sqrt{1-\cos x}}$ .

**Riešenie.**

Zo vzťahov  $\sin^2 x + \cos^2 x = 1$ ,  $-1 \leq \cos x \leq 1$ , ktoré platia pre všetky  $x \in \mathbb{R}$ , vyplýva:

$$\sin x = \pm \sqrt{1 - \cos^2 x} = \pm \sqrt{1 - \cos x} \sqrt{1 + \cos x}.$$

Pre  $x \rightarrow 0^-$  je funkcia  $\sin x$  nekladná (v dostatočne malom okolí bodu 0) a pre  $x \rightarrow 0^+$  je nezáporná. Potom pre jednostranné limity platí:

$$\lim_{x \rightarrow 0^-} \frac{\sin x}{\sqrt{1-\cos x}} = \lim_{x \rightarrow 0^-} \frac{-\sqrt{1-\cos x} \sqrt{1+\cos x}}{\sqrt{1-\cos x}} = - \lim_{x \rightarrow 0^-} \sqrt{1+\cos x} = -\sqrt{2},$$

$$\lim_{x \rightarrow 0^+} \frac{\sin x}{\sqrt{1-\cos x}} = \lim_{x \rightarrow 0^+} \frac{\sqrt{1-\cos x} \sqrt{1+\cos x}}{\sqrt{1-\cos x}} = \lim_{x \rightarrow 0^+} \sqrt{1+\cos x} = \sqrt{2}.$$

Z toho vyplýva, že  $\lim_{x \rightarrow 0} \frac{\sin x}{\sqrt{1-\cos x}}$  neexistuje. ■

**Príklad 3.2.48.K3-pr64**

Nech  $a > 0$ . Vypočítajte: a)  $\lim_{x \rightarrow 0} \frac{a^x - 1}{x}$ , b)  $\lim_{x \rightarrow 0} \frac{a^{-x} - 1}{x}$ .

**Riešenie.**

a) Ak použijeme substitúciu  $a^x - 1 = z$ , potom  $z \rightarrow 0$  a platí:

$$\ln a^x = x \ln a = \ln(z+1), \quad \text{t. j. } x = \frac{\ln(z+1)}{\ln a}.$$

Z toho na základe príkladu 3.2.28 vyplýva:

$$\lim_{x \rightarrow 0} \frac{a^x - 1}{x} = \lim_{z \rightarrow 0} \frac{z \ln a}{\ln(z+1)} = \ln a \cdot \lim_{z \rightarrow 0} \frac{z}{\ln(z+1)} = \ln a \cdot 1 = \ln a.$$

b) Ak použijeme substitúciu  $x = -z$ ,  $z \rightarrow 0$ , potom platí:

$$\lim_{x \rightarrow 0} \frac{a^{-x} - 1}{x} = \lim_{z \rightarrow 0} \frac{a^z - 1}{-z} = - \lim_{z \rightarrow 0} \frac{a^z - 1}{z} = - \ln a. \quad \blacksquare$$

**Poznámka 3.2.24.K3-poz40**

Ak v príklade 3.2.48 položíme  $a = e$ , potom platí:

$$\lim_{x \rightarrow 0} \frac{e^x - 1}{x} = \ln e = 1, \quad \lim_{x \rightarrow 0} \frac{e^{-x} - 1}{x} = - \ln e = -1.$$

**Príklad 3.2.49.K3-pr77**

Vypočítajte: a)  $\lim_{x \rightarrow 0} \frac{1-3^x}{x}$ , b)  $\lim_{x \rightarrow \infty} \frac{1-3^x}{x}$ , c)  $\lim_{x \rightarrow -\infty} \frac{1-3^x}{x}$ .

**Riešenie.**

a) Ak použijeme substitúciu  $x \cdot \ln 3 = z$ ,  $z \rightarrow 0$ , potom platí:

$$\lim_{x \rightarrow 0} \frac{1-3^x}{x} = \lim_{x \rightarrow 0} \frac{1-e^{z \ln 3}}{x} = \ln 3 \cdot \lim_{x \rightarrow 0} \frac{1-e^{z \ln 3}}{x \cdot \ln 3} = \ln 3 \cdot \lim_{z \rightarrow 0} \frac{1-e^z}{z} = - \ln 3.$$

b) Na základe príkladu 3.2.29 platí:

$$\lim_{x \rightarrow \infty} \frac{1-3^x}{x} = \lim_{x \rightarrow \infty} \left[ \frac{1}{x} - \frac{3^x}{x} \right] = \lim_{x \rightarrow \infty} \frac{1}{x} - \lim_{x \rightarrow \infty} \frac{3^x}{x} = 0 - \infty = -\infty.$$

c) Podobne, ako v časti b) platí:

$$\lim_{x \rightarrow -\infty} \frac{1-3^x}{x} = \lim_{x \rightarrow -\infty} \left[ \frac{1}{x} - \frac{3^x}{x} \right] = \lim_{x \rightarrow -\infty} \frac{1}{x} - \lim_{x \rightarrow -\infty} \frac{3^x}{x} = 0 - \frac{0}{-\infty} = 0. \quad \blacksquare$$

**Príklad 3.2.50.K3-pr65**

Vypočítajte  $\lim_{x \rightarrow -\infty} \left(\frac{x+1}{x}\right)^x$ .

**Riešenie.**

Ak použijeme substitúciu  $x = -z$ ,  $z \rightarrow \infty$ , potom platí:

$$\lim_{x \rightarrow -\infty} \left(\frac{x+1}{x}\right)^x = \lim_{x \rightarrow -\infty} \left(1 + \frac{1}{x}\right)^x = \lim_{z \rightarrow \infty} \left[\left(1 - \frac{1}{z}\right)^z\right]^{-1} = (e^{-1})^{-1} = e.$$

Ak použijeme substitúciu  $x = z^{-1}$ ,  $z \rightarrow 0$ , potom platí:

$$\lim_{x \rightarrow -\infty} \left(\frac{x+1}{x}\right)^x = \lim_{x \rightarrow -\infty} \left(1 + \frac{1}{x}\right)^x = \lim_{z \rightarrow 0} (1 + z)^{\frac{1}{z}} = e. \blacksquare$$

**Príklad 3.2.51.K3-pr66**

Vypočítajte: a)  $\lim_{x \rightarrow 0} (\cos x)^{\cotg^2 x}$ , b)  $\lim_{x \rightarrow \frac{\pi}{4}} (\sin 2x)^{\tg^2 2x}$ .

**Riešenie.**

a) Použijeme substitúciu  $\sin^2 x = z$ , potom  $z \rightarrow 0$ . Pre  $x \rightarrow 0$  je (v dostatočne malom okolí) funkcia  $\cos x$  kladná, takže platí:

$$\cos x = \sqrt{1 - \sin^2 x} = (1 - z)^{\frac{1}{2}}, \quad \cotg^2 x = \frac{\cos^2 x}{\sin^2 x} = \frac{1-z}{z}.$$

Potom pre danú limitu platí:

$$\lim_{x \rightarrow 0} (\cos x)^{\cotg^2 x} = \lim_{z \rightarrow 0} \left[(1 - z)^{\frac{1}{2}}\right]^{\frac{1-z}{z}} = \lim_{z \rightarrow 0} \left[(1 - z)^{\frac{1}{z}}\right]^{\frac{1-z}{2}} = (e^{-1})^{\frac{1}{2}} = e^{-\frac{1}{2}} = \frac{1}{\sqrt{e}}.$$

b) Použijeme substitúciu  $\cos^2 2x = z$ , potom  $z \rightarrow 0$ . Pre  $x \rightarrow \frac{\pi}{4}$  je (v dostatočne malom okolí) funkcia  $\sin 2x$  kladná, takže platí:

$$\sin 2x = \sqrt{1 - \cos^2 2x} = (1 - z)^{\frac{1}{2}}, \quad \tg^2 2x = \frac{\sin^2 2x}{\cos^2 2x} = \frac{1-z}{z}.$$

Potom platí  $\lim_{x \rightarrow \frac{\pi}{4}} (\sin 2x)^{\tg^2 2x} = \lim_{z \rightarrow 0} \left[(1 - z)^{\frac{1}{2}}\right]^{\frac{1-z}{z}} = \frac{1}{\sqrt{e}}$ . ■

**Príklad 3.2.52.K3-pr75**

Vypočítajte: a)  $\lim_{x \rightarrow 0} (1 + 3 \tg^2 x)^{\cotg^2 x}$ , b)  $\lim_{x \rightarrow a} \left(\frac{\sin x}{\sin a}\right)^{\frac{1}{x-a}}$ , kde  $a \in \mathbb{R}$ .

**Riešenie.**

a) Ak položíme  $\tg^2 x = z$ , potom  $z \rightarrow 0$  a platí:<sup>58</sup>

$$\lim_{x \rightarrow 0} (1 + 3 \tg^2 x)^{\cotg^2 x} \stackrel{\tg^2 x = z}{=} \lim_{z \rightarrow 0} (1 + 3z)^{\frac{1}{z}} = e^3.$$

b) Budeme predpokladať, že  $\sin a \neq 0$ , t. j.  $a \neq k\pi$ , kde  $k \in \mathbb{Z}$ . Potom platí:

$$\lim_{x \rightarrow a} \left(\frac{\sin x}{\sin a}\right)^{\frac{1}{x-a}} = \lim_{x \rightarrow a} \left[ \left(1 + \frac{\sin x - \sin a}{\sin a}\right)^{\frac{\sin a}{\sin x - \sin a}} \right]^{\frac{\sin x - \sin a}{\sin a} \cdot \frac{1}{\sin a}} = e^{\cos a \frac{1}{\sin a}} = e^{\cotg a}.$$

Pri výpočte sme použili limitu z príkladu 3.2.41 b) a limitu

$$\lim_{x \rightarrow a} \left(1 + \frac{\sin x - \sin a}{\sin a}\right)^{\frac{\sin a}{\sin x - \sin a}} \stackrel{\frac{\sin x - \sin a}{\sin a} = z}{=} \lim_{z \rightarrow 0} (1 + z)^{\frac{1}{z}} = e. \blacksquare \quad (3.45)$$

**Poznámka 3.2.25.K3-poz43**

Limita (3.45) má tvar  $\lim_{x \rightarrow a} [1 \pm f(x)]^{\frac{1}{f(x)}}$ , pričom  $f(x) \rightarrow 0$  pre  $x \rightarrow a$ .

Ak položíme  $f(x) = z$ , potom  $z \rightarrow 0$  a na základe vety o zloženej funkcii platí:

$$\lim_{x \rightarrow a} [1 + f(x)]^{\frac{1}{f(x)}} = \lim_{z \rightarrow 0} (1 + z)^{\frac{1}{z}} = e, \quad \lim_{x \rightarrow a} [1 - f(x)]^{\frac{1}{f(x)}} = \lim_{z \rightarrow 0} (1 - z)^{\frac{1}{z}} = e^{-1}.$$

<sup>58</sup>Pre zjednodušenie zápisu budeme substitúciu vyjadrovať pri symbole rovnosti.

**Príklad 3.2.53.K3-pr68**

Nech  $a \in \mathbb{R}$ . Vypočítajte a)  $\lim_{x \rightarrow 0^+} x^{\frac{a}{\ln x}}$ , b)  $\lim_{x \rightarrow \infty} x^{\frac{a}{\ln x}}$ .

**Riešenie.**

a) Z inverznosti funkcií  $e^x$ ,  $\ln x$  a zo vzťahu  $x \rightarrow 0^+$ , t. j.  $x > 0$  vyplýva:

$$\lim_{x \rightarrow 0^+} x^{\frac{a}{\ln x}} = \lim_{x \rightarrow 0^+} x^{\frac{a}{\ln x}} = \lim_{x \rightarrow 0^+} e^{\ln \left[ x^{\frac{a}{\ln x}} \right]} = \lim_{x \rightarrow 0^+} e^{\frac{a}{\ln x} \ln x} = \lim_{x \rightarrow 0^+} e^a = e^a.$$

b) Analogicky ako v časti a) platí  $\lim_{x \rightarrow \infty} x^{\frac{a}{\ln x}} = \lim_{x \rightarrow \infty} e^{\frac{a}{\ln x} \ln x} = e^a$ . ■

**Príklad 3.2.54.K3-pr69**

Vypočítajte  $\lim_{x \rightarrow 0^+} x^{\ln x}$ .

**Riešenie.**

Keďže  $\lim_{x \rightarrow 0^+} \ln^2 x = (-\infty)^2 = \infty$ , potom podobne ako v príklade 3.2.53 dostávame

$$\lim_{x \rightarrow 0^+} x^{\ln x} = \lim_{x \rightarrow 0^+} e^{\ln x \ln x} = \lim_{x \rightarrow 0^+} e^{\ln^2 x} = \lim_{x \rightarrow 0^+} e^{\infty} = e^{\infty} = \infty. \blacksquare$$

V príklade 3.2.53 sme počítali limity výrazov, ktoré mali tvar  $0^0$ . Vo všeobecnosti nevieme určiť, čomu sa rovná výraz  $0^0$  a nazývame ho neurčitý výraz. S neurčitými výrazmi sa stretávame pomerne bežne a na ich určenie sa často používajú limity. Medzi **neurčité výrazy** patria výrazy typu

$$\infty - \infty, \quad \pm\infty \cdot 0, \quad \frac{0}{0}, \quad \frac{1}{0}, \quad \frac{\pm\infty}{0}, \quad \frac{\pm\infty}{\pm\infty}, \quad 0^0, \quad 0^{\pm\infty}, \quad 1^{\pm\infty}, \quad (\pm\infty)^0.$$

**Poznámka 3.2.26.K3-poz39**

Názov neurčitý výraz je z vecného hľadiska nevhodný, aj keď sa stále v praxi používa. Ide totiž o výpočet limity nejakej funkcie v danom bode, a na tom nie je nič neurčitého. Limita buď existuje a má konkrétnu hodnotu (vlastnú alebo nevlastnú), alebo neexistuje. Názov pochádza z toho, že väčšinou nevieme na prvý pohľad určiť, či sú takéto limity vlastné alebo nevlastné, prípadne či vôbec existujú.

**Príklad 3.2.55.K3-pr70**

a)  $\lim_{x \rightarrow \infty} x[\ln(x+2) - \ln x] = \lim_{x \rightarrow \infty} x \ln \frac{x+2}{x} = \lim_{x \rightarrow \infty} \ln \left[ 1 + \frac{2}{x} \right]^x = \ln e^2 = 2$ .

b)  $\lim_{x \rightarrow \infty} \left( \frac{3x-2}{3x+1} \right)^x = \lim_{x \rightarrow \infty} \left( \frac{3x+1-3}{3x+1} \right)^{\frac{3x+1-1}{3}} \frac{3x+1=z}{z \rightarrow \infty} \lim_{z \rightarrow \infty} \left( \frac{z-3}{z} \right)^{\frac{z-1}{3}} = \lim_{z \rightarrow \infty} \left[ \left( 1 - \frac{3}{z} \right)^z \right]^{\frac{z-1}{3z}} = [e^{-3}]^{\frac{1}{3}} = e^{-1} = \frac{1}{e}$ .

c)  $\lim_{x \rightarrow 0} \frac{x}{\ln(1+tx)} \frac{tx=z}{z \rightarrow 0} \lim_{z \rightarrow 0} \frac{z}{t \ln(1+z)} = \frac{1}{t} \lim_{z \rightarrow 0} \frac{1}{\ln(1+z)^{\frac{1}{z}}} = \frac{1}{t} \cdot \frac{1}{\ln e} = \frac{1}{t}$ . ■

**Príklad 3.2.56.K3-pr107**

Vypočítajte:<sup>59</sup> a)  $\lim_{x \rightarrow \infty} x^{\frac{1}{x}}$ , b)  $\lim_{x \rightarrow 0^+} x^{\frac{1}{x}}$ .

**Riešenie.**

Pre všetky  $x > 0$  platí  $x^{\frac{1}{x}} = e^{\ln x^{\frac{1}{x}}} = e^{\frac{\ln x}{x}}$ .

a) Ak označíme  $z = \ln x$ ,  $z \rightarrow \infty$ , potom pre  $a = e > 1$  na základe príkladu 3.2.29 platí:

$$\lim_{x \rightarrow \infty} \frac{\ln x}{x} = \lim_{z \rightarrow \infty} \frac{z}{e^z} = 0, \quad \text{t. j.} \quad \lim_{x \rightarrow \infty} x^{\frac{1}{x}} = \lim_{x \rightarrow \infty} e^{\frac{\ln x}{x}} = e^0 = 1.$$

b) Pre všetky  $x \in (0; 1)$  platí  $\ln x < 0$ , t. j.  $\frac{\ln x}{x} < 0$ . Keďže  $\lim_{x \rightarrow 0^+} \ln x = -\infty$ , potom platí:

$$\lim_{x \rightarrow 0^+} \frac{\ln x}{x} = \frac{-\infty}{0} = -\infty, \quad \text{t. j.} \quad \lim_{x \rightarrow 0^+} x^{\frac{1}{x}} = \lim_{x \rightarrow 0^+} e^{\ln x^{\frac{1}{x}}} = e^{-\infty} = 0. \blacksquare$$

<sup>59</sup>Príklady 4.3.17 a 4.3.18.



**Príklad 3.2.57.K3-pr78**

Nech  $x \in \mathbb{R}$ . Vypočítajte  $\lim_{n \rightarrow \infty} \underbrace{\sin \sin \cdots \sin x}_{n\text{-krt}}$ .

**Riešenie.**

Ak označíme  $a_0 = x$ ,  $a_n = \sin a_{n-1}$  pre  $n \in \mathbb{N}$ , potom máme vypočítať  $\lim_{n \rightarrow \infty} a_n$ .

Z vlastností funkcie sínus vyplýva, že platí:

$$0 < \sin x < x, \quad \text{pre } x \in \left(0; \frac{\pi}{2}\right), \quad x < \sin x < 0, \quad \text{pre } x \in \left(-\frac{\pi}{2}; 0\right).$$

Je zrejmé, že pre všetky  $n \in \mathbb{N}$  platí  $a_n = \sin a_{n-1} \in \langle -1; 1 \rangle$ .

Ak  $x = k\pi$ ,  $k \in \mathbb{Z}$ , potom  $a_1 = 0$  a pre všetky  $n \in \mathbb{N}$  platí  $a_n = 0$ , t. j.  $\lim_{n \rightarrow \infty} a_n = 0$ .

Ak  $x \neq k\pi$ ,  $k \in \mathbb{Z}$  a  $0 < a_1 \leq 1$ , potom pre všetky  $n \in \mathbb{N}$  platí:

$$0 < a_n \leq 1 < \frac{\pi}{2}, \quad 0 < a_n = \sin a_{n-1} < a_{n-1} < 1.$$

Takže  $\{a_n\}_{n=1}^{\infty}$  je klesajúca, ohraničená zdola a podľa dôsledku 2.3.11.a konverguje.

Ak  $x \neq k\pi$ ,  $k \in \mathbb{Z}$  a  $-1 \leq a_1 < 0$ , potom pre všetky  $n \in \mathbb{N}$  platí:

$$-\frac{\pi}{2} < -1 \leq a_n < 0, \quad -1 < a_{n-1} < a_n = \sin a_{n-1} < 0.$$

To znamená, že je postupnosť  $\{a_n\}_{n=1}^{\infty}$  rastúca, ohraničená zhora a konverguje.

Ak označíme  $\lim_{n \rightarrow \infty} a_n = a$ , potom

$$a = \lim_{n \rightarrow \infty} a_n = \lim_{n \rightarrow \infty} a_{n+1} = \lim_{n \rightarrow \infty} \sin a_n = \sin \left[ \lim_{n \rightarrow \infty} a_n \right] = \sin a.$$

Keďže má rovnica  $a = \sin a$  práve jedno riešenie  $a = 0$ , platí  $\lim_{n \rightarrow \infty} \sin a_n = 0$ . ■

**Príklad 3.2.58.K3-pr76**

Vypočítajte: a)  $\lim_{x \rightarrow 0} (1 - \sin x)^{\frac{1}{x}}$ , b)  $\lim_{x \rightarrow 0} (1 - \cos x)^{\frac{1}{x}}$ .

**Riešenie.**

$$\text{a) } \lim_{x \rightarrow 0} (1 - \sin x)^{\frac{1}{x}} = \lim_{x \rightarrow 0} \left[ (1 - \sin x)^{\frac{1}{\sin x}} \right]^{\frac{\sin x}{x}} = [e^{-1}]^1 = e^{-1} = \frac{1}{e}.$$

b) Predchádzajúca limita predstavuje neurčitý výraz typu  $1^{\pm\infty}$  a táto limita typ  $0^{\pm\infty}$ .

Pre všetky  $x \neq k\pi$ ,  $k \in \mathbb{Z}$  platí  $1 - \cos x > 0$ . Z toho vyplýva  $\lim_{x \rightarrow 0} \ln(1 - \cos x) = -\infty$ .

Pre naše potreby postačí ľubovoľné prstencové okolie  $P(0)$ , ktoré neobsahuje body  $\pm\pi$ . Zvoľme napríklad  $P(0) = (-1; 1) - \{0\}$ . Pre všetky  $x \in P(0)$  platí:

$$(1 - \cos x)^{\frac{1}{x}} = e^{\ln(1 - \cos x)^{\frac{1}{x}}} = e^{\frac{\ln(1 - \cos x)}{x}} = e^{\frac{\ln(1 - \cos x)}{x}}.$$

Keďže  $\lim_{x \rightarrow 0^-} \frac{\ln(1 - \cos x)}{x} = \frac{-\infty}{0} = \infty$ ,  $\lim_{x \rightarrow 0^+} \frac{\ln(1 - \cos x)}{x} = \frac{-\infty}{0} = -\infty$ , potom platí:

$$\lim_{x \rightarrow 0^-} (1 - \cos x)^{\frac{1}{x}} = e^{\infty} = \infty, \quad \lim_{x \rightarrow 0^+} (1 - \cos x)^{\frac{1}{x}} = e^{-\infty} = 0.$$

To znamená, že  $\lim_{x \rightarrow 0} (1 - \cos x)^{\frac{1}{x}}$  neexistuje. ■

**Príklad 3.2.59.K3-pr71**

Vypočítajte: a)  $\lim_{x \rightarrow \infty} e^x(2 + \cos x)$ , b)  $\lim_{x \rightarrow \infty} [\sin \sqrt{x+1} - \sin \sqrt{x-1}]$ .

**Riešenie.**

a) Keďže pre všetky  $x \in \mathbb{R}$  platí  $-1 \leq \cos x \leq 1$ , potom z vety o zovretí vyplýva:

$$\infty = \lim_{x \rightarrow \infty} e^x = \lim_{x \rightarrow \infty} e^x(2 - 1) \leq \lim_{x \rightarrow \infty} e^x(2 + \cos x) \leq \lim_{x \rightarrow \infty} e^x(2 + 1) = 3 \cdot \lim_{x \rightarrow \infty} e^x = \infty.$$

b) Najprv vypočítame limitu

$$\lim_{x \rightarrow \infty} \sin \frac{\sqrt{x+1} - \sqrt{x-1}}{2} = \lim_{x \rightarrow \infty} \sin \frac{x+1-x-1}{2(\sqrt{x+1} + \sqrt{x-1})} = \sin \frac{0}{\infty} = \sin 0 = 0.$$

Keďže je funkcia kosínus ohraničená na  $R$ , potom na základe dôsledku 3.2.4.c platí:

$$\lim_{x \rightarrow \infty} [\sin \sqrt{x+1} - \sin \sqrt{x-1}] = \lim_{x \rightarrow \infty} \left[ 2 \sin \frac{\sqrt{x+1} - \sqrt{x-1}}{2} \cos \frac{\sqrt{x+1} + \sqrt{x-1}}{2} \right] = 0. \blacksquare$$

### Príklad 3.2.60.K3-pr79

Nech  $m, n \in \mathbb{N}$ . Vypočítajte: a)  $\lim_{x \rightarrow 0} \frac{\sin mx}{\sin nx}$ , a)  $\lim_{x \rightarrow \pi} \frac{\sin mx}{\sin nx}$ .

**Riešenie.**

a) Z príkladu 3.2.15 vyplýva:

$$\lim_{x \rightarrow 0} \frac{\sin mx}{\sin nx} = \lim_{x \rightarrow 0} \left[ \frac{\sin mx}{mx} \cdot \frac{nx}{\sin nx} \cdot \frac{mx}{nx} \right] = 1 \cdot 1 \cdot \frac{m}{n} = \frac{m}{n}.$$

b) Keďže pre všetky  $n \in \mathbb{N}$  platí  $\sin n\pi = 0$ ,  $\cos n\pi = (-1)^n$ , potom zo súčtového vzorca pre funkciu sínus, substitúcie  $x = \pi + z$ ,  $z \rightarrow 0$  a časti a) vyplýva:

$$\begin{aligned} \lim_{x \rightarrow \pi} \frac{\sin mx}{\sin nx} &= \lim_{z \rightarrow 0} \frac{\sin(m\pi + mz)}{\sin(n\pi + nz)} = \lim_{z \rightarrow 0} \frac{\sin m\pi \cos mz + \cos m\pi \sin mz}{\sin n\pi \cos nz + \cos n\pi \sin nz} = \\ &= \lim_{z \rightarrow 0} \frac{0 + (-1)^m \sin mz}{0 + (-1)^n \sin nz} = (-1)^{m-n} \lim_{z \rightarrow 0} \frac{\sin mz}{\sin nz} = (-1)^{m-n} \frac{m}{n}. \blacksquare \end{aligned}$$

### Príklad 3.2.61.K3-pr80

Nech  $n \in \mathbb{N}$ . Vypočítajte limitu  $L = \lim_{x \rightarrow \infty} \frac{(x+1)(x^2+1)\dots(x^n+1)}{[(nx)^n+1]^{\frac{n+1}{2}}}$ .

**Riešenie.**

Zo vzorca  $1 + 2 + \dots + n = \frac{n(n+1)}{2}$ , ktorý platí pre všetky  $n \in \mathbb{N}$ , vyplýva:

$$\begin{aligned} L &= \lim_{x \rightarrow \infty} \frac{(1+\frac{1}{x})x(1+\frac{1}{x^2})x^2 \dots (1+\frac{1}{x^n})x^n}{[1+\frac{1}{n^n x^n}]^{\frac{n+1}{2}} (n^n x^n)^{\frac{n+1}{2}}} = \lim_{x \rightarrow \infty} \frac{(1+\frac{1}{x})(1+\frac{1}{x^2}) \dots (1+\frac{1}{x^n})}{[1+\frac{1}{n^n x^n}]^{\frac{n+1}{2}}} \cdot \lim_{x \rightarrow \infty} \frac{1}{n^{\frac{n(n+1)}{2}}} \cdot \lim_{x \rightarrow \infty} \frac{x^{1+2+\dots+n}}{x^{\frac{n(n+1)}{2}}} = \\ &= \frac{(1+0)(1+0) \dots (1+0)}{(1+0)^{\frac{n+1}{2}}} \cdot \frac{1}{n^{\frac{n(n+1)}{2}}} \cdot \lim_{x \rightarrow \infty} \frac{x^{\frac{n(n+1)}{2}}}{x^{\frac{n(n+1)}{2}}} = 1 \cdot \frac{1}{n^{\frac{n(n+1)}{2}}} \cdot 1 = n^{-\frac{n(n+1)}{2}}. \blacksquare \end{aligned}$$

### Príklad 3.2.62.K3-pr82

Vypočítajte: a)  $\lim_{x \rightarrow 0} x \sqrt{\cos \frac{1}{x}}$ , b)  $\lim_{x \rightarrow 0} x \left[ \frac{1}{x} \right]$ , c)  $\lim_{n \rightarrow \infty} \sin(\pi \sqrt{n^2 + 1})$ ,  $n \in \mathbb{N}$ .

**Riešenie.**

a) Musíme si uvedomiť, že funkcia  $y = x \sqrt{\cos \frac{1}{x}}$  je definovaná, iba pre  $\cos \frac{1}{x}$  nezáporné, t. j. pre  $\frac{1}{x} \in \langle -\frac{\pi}{2} + 2k\pi; \frac{\pi}{2} + 2k\pi \rangle$ , kde  $k \in \mathbb{Z}$ . Potom platí:

$$0 \leq \cos \frac{1}{x} \leq 1, \quad \text{t. j. } 0 \leq \sqrt{\cos \frac{1}{x}} \leq 1.$$

Takže je funkcia  $\sqrt{\cos \frac{1}{x}}$  ohraničená a podľa dôsledku 3.2.4.c platí  $\lim_{x \rightarrow 0} x \sqrt{\cos \frac{1}{x}} = 0$ .

b) Ak použijeme substitúciu  $x = u^{-1}$  pre  $x \rightarrow 0^-$  a  $x = v^{-1}$  pre  $x \rightarrow 0^+$ , potom platí:

$$\lim_{x \rightarrow 0^-} x \left[ \frac{1}{x} \right] = \lim_{u \rightarrow -\infty} \frac{[u]}{u}, \quad \lim_{x \rightarrow 0^+} x \left[ \frac{1}{x} \right] = \lim_{v \rightarrow \infty} \frac{[v]}{v}.$$

Nech  $u, v$  sú také, že  $u < 0$ ,  $v > 1$ . Potom pre jednostranné limity platí:

$$\begin{aligned} u - 1 &\leq [u] \leq u < 0, & 0 < v - 1 &\leq [v] \leq v \\ 1 = \frac{u}{u} &\leq \frac{[u]}{u} \leq \frac{u-1}{u} = 1 - \frac{1}{u}, & 0 < 1 - \frac{1}{v} = \frac{v-1}{v} &\leq \frac{[v]}{v} \leq \frac{v}{v} = 1, \\ 1 &\leq \lim_{u \rightarrow -\infty} \frac{[u]}{u} \leq \lim_{u \rightarrow -\infty} \left(1 - \frac{1}{u}\right) = 1, & 1 &= \lim_{v \rightarrow \infty} \left(1 - \frac{1}{v}\right) \leq \lim_{v \rightarrow \infty} \frac{[v]}{v} \leq 1. \end{aligned}$$

To znamená, že  $\lim_{x \rightarrow 0^-} x \lfloor \frac{1}{x} \rfloor = \lim_{x \rightarrow 0^+} x \lfloor \frac{1}{x} \rfloor = \lim_{x \rightarrow 0} x \lfloor \frac{1}{x} \rfloor = 1$ .

c) Z príkladu 3.2.20 vyplýva  $\lim_{n \rightarrow \infty} \pi (\sqrt{n^2 + 1} - n) = 0$ , t. j.

$$\lim_{n \rightarrow \infty} \sin (\pi \sqrt{n^2 + 1} - \pi n) = 0, \quad \lim_{n \rightarrow \infty} \cos (\pi \sqrt{n^2 + 1} - \pi n) = 1.$$

Pre všetky  $n \in \mathbb{N}$  platí  $\sin n\pi = 0$ ,  $\cos n\pi = (-1)^{n+1}$ . Potom zo súčtového vzorca vyplýva:

$$\begin{aligned} \lim_{n \rightarrow \infty} \sin (\pi \sqrt{n^2 + 1}) \lim_{n \rightarrow \infty} \sin (\pi \sqrt{n^2 + 1} - \pi n + \pi n) &= \\ = \lim_{n \rightarrow \infty} [\sin (\pi \sqrt{n^2 + 1} - \pi n) \cos \pi n + \cos (\pi \sqrt{n^2 + 1} - \pi n) \sin \pi n] &= 0 \cdot (-1)^{n+1} + 1 \cdot 0 = 0. \blacksquare \end{aligned}$$

Na záver zhrnieme niektoré dôležité limity do nasledujúcej vety.

### Veta 3.2.17.K3-veta57

Nech  $a, b \in \mathbb{R}$ ,  $a > 0$ ,  $q \in \mathbb{R}$ , potom platí:

- |  |   |   |
|--|---|---|
| a) $\lim_{x \rightarrow \infty} a^{\frac{1}{x}} = 1$ ,                         | b) $\lim_{x \rightarrow 0} \frac{e^x - 1}{x} = 1$ ,                                 | c) $\lim_{x \rightarrow 0} \frac{a^x - 1}{x} = \ln a$ ,                         |
| d) $\lim_{x \rightarrow \infty} x^{\frac{1}{x}} = 1$ ,                         | e) $\lim_{x \rightarrow \infty} x \left( e^{\frac{1}{x}} - 1 \right) = 1$ ,         | f) $\lim_{x \rightarrow \infty} x \left( a^{\frac{1}{x}} - 1 \right) = \ln a$ , |
| g) $\lim_{x \rightarrow 0} \frac{\sin x}{x} = 1$ ,                             | h) $\lim_{x \rightarrow \infty} \left( 1 + \frac{1}{x} \right)^x = e$ ,             | i) $\lim_{x \rightarrow \infty} \left( 1 + \frac{b}{x} \right)^x = e^b$ ,       |
| j) $\lim_{x \rightarrow \infty} \frac{x^q}{a^x} = 0$ pre $a \in (1; \infty)$ , | k) $\lim_{x \rightarrow \infty} \frac{x^q}{a^x} = \infty$ pre $a \in (0; 1)$ ,      |   |
| l) $\lim_{x \rightarrow \infty} \frac{a^x}{x^q} = 0$ pre $a \in (0; 1)$ ,      | m) $\lim_{x \rightarrow \infty} \frac{a^x}{x^q} = \infty$ pre $a \in (1; \infty)$ , |   |

## Cvičenia

**3.2.1. N 201**  $a, b \in \mathbb{R}$ ,  $a > 0$ ,  $b > 0$ . Vypočítajte limity: ♣

- |   |   |   |  |
|---|---|---|--|
| a) $\lim_{x \rightarrow 2} (x^2 - 4)$ ,                   | b) $\lim_{x \rightarrow 0} x \cotg x$ ,                                       | c) $\lim_{x \rightarrow 0^+} (\tg x)^{\tg 2x}$ ,                | d) $\lim_{x \rightarrow \frac{\pi}{4}} (\tg x)^{\tg 2x}$ ,       |
| e) $\lim_{x \rightarrow 2} \frac{x^2 + 5}{x^2 - 3}$ ,     | f) $\lim_{x \rightarrow 0} \frac{x - \sqrt{x}}{\sqrt{x}}$ ,                   | g) $\lim_{x \rightarrow 1} \frac{1}{1 - x}$ ,                   | h) $\lim_{x \rightarrow \infty} \frac{x^2 - 1}{2x^2 + 1}$ ,      |
| i) $\lim_{x \rightarrow 2} \frac{x^2 - 4}{x - 2}$ ,       | j) $\lim_{x \rightarrow 1} \frac{x^{\frac{2}{3}} - 1}{x^{\frac{5}{3}} - 1}$ , | k) $\lim_{x \rightarrow \infty} \frac{\sqrt{x^2 + 9}}{x + 3}$ , | l) $\lim_{x \rightarrow -\infty} \frac{\sqrt{x^2 + 9}}{x + 3}$ , |
| m) $\lim_{x \rightarrow 0} \frac{\sqrt{1 - \cos x}}{x}$ , | n) $\lim_{x \rightarrow 0^-} \frac{\sqrt{1 - \cos x}}{x}$ ,                   | o) $\lim_{x \rightarrow 0^+} \frac{\sqrt{1 - \cos x}}{x}$ ,     | p) $\lim_{x \rightarrow 0} \sqrt{\frac{1 - \cos x}{x^2}}$ ,      |
| q) $\lim_{x \rightarrow 0} \frac{a^x - 1}{b^x - 1}$ ,     | r) $\lim_{x \rightarrow \infty} \frac{\sin x}{x}$ ,                           | s) $\lim_{x \rightarrow \infty} \frac{\cos^2 x}{x}$ ,           | t) $\lim_{x \rightarrow 0} \frac{\arcsin 2x}{x}$ ,               |
| u) $\lim_{x \rightarrow 0} \frac{1 - 3^x}{\sin 3x}$ ,     | v) $\lim_{x \rightarrow \infty} \frac{1 - 3^x}{\sin 3x}$ ,                    | w) $\lim_{x \rightarrow -\infty} \frac{1 - 3^x}{\sin 3x}$ ,     | x) $\lim_{x \rightarrow 1} \frac{1 - 3^x}{\sin 3x}$ .            |

**3.2.2. N 202**  $a, b \in \mathbb{R}$ ,  $m, n \in \mathbb{N}$ . Vypočítajte limity: ♣

- |   |   |  |   |
|---|---|--|---|
| a) $\lim_{x \rightarrow 1} \frac{1 - x^n}{1 - x^m}$ ,   | b) $\lim_{x \rightarrow 1} \frac{1 - \sqrt[n]{x}}{1 - \sqrt[m]{x}}$ , | c) $\lim_{x \rightarrow 0} \frac{e^{ax} - 1}{x}$ ,                   | d) $\lim_{x \rightarrow 0} \frac{e^{ax} - e^{bx}}{x}$ , |
| e) $\lim_{x \rightarrow 0} \frac{e^{3x} - e^x}{4x}$ ,   | f) $\lim_{x \rightarrow 0} \frac{x}{e^x - e^{-x}}$ ,                  | g) $\lim_{x \rightarrow 0} \frac{e^x - 1}{e^{3x} - 1}$ ,             | h) $\lim_{x \rightarrow 0} \frac{3^x - 1}{6^x - 1}$ ,   |
| i) $\lim_{x \rightarrow a} \frac{e^x - e^a}{x - a}$ ,   | j) $\lim_{x \rightarrow 0} x \sin \frac{1}{x}$ ,                      | k) $\lim_{x \rightarrow \infty} x \sin \frac{1}{x}$ ,                | l) $\lim_{x \rightarrow 0} \frac{1 - \cos x}{x}$ ,      |
| m) $\lim_{n \rightarrow \infty} n \sin \frac{\pi}{n}$ , | n) $\lim_{x \rightarrow \infty} x \sin \frac{\pi}{x}$ ,               | o) $\lim_{x \rightarrow \infty} \left( \cos \frac{a}{x} \right)^x$ , | p) $\lim_{x \rightarrow -2} \frac{3x + 6}{x^3 + 8}$ ,   |
| q) $\lim_{x \rightarrow 2} \frac{x + 1}{x - 1}$ ,       | r) $\lim_{x \rightarrow 1} \frac{x + 1}{x - 1}$ ,                     | s) $\lim_{x \rightarrow 1^-} \frac{x + 1}{x - 1}$ ,                  | t) $\lim_{x \rightarrow 1^+} \frac{x + 1}{x - 1}$ .     |

3.2.3. ~~N 2-03~~ Vypočítajte limity: ♣

- a)  $\lim_{x \rightarrow 0} (\cos x)^{\frac{1}{x}}$ ,      b)  $\lim_{x \rightarrow 0} (\cos x)^{\frac{1}{x^2}}$ ,      c)  $\lim_{x \rightarrow 0} (\cos^2 x)^{\frac{1}{x}}$ ,      d)  $\lim_{x \rightarrow 0} (\cos^2 x)^{\frac{1}{x^2}}$ ,  
 e)  $\lim_{x \rightarrow 0} (e^x + x)^{\frac{1}{x}}$ ,      f)  $\lim_{x \rightarrow 0} \frac{\ln \cos x}{x}$ ,      g)  $\lim_{x \rightarrow 0} \frac{\ln x}{\ln \sin x}$ ,      h)  $\lim_{x \rightarrow 0} \frac{\ln \sin 2x}{\ln \sin x}$ ,  
 i)  $\lim_{x \rightarrow 0} \frac{|\sin x|}{x}$ ,      j)  $\lim_{x \rightarrow 0^-} \frac{|\sin x|}{x}$ ,      k)  $\lim_{x \rightarrow 0^+} \frac{|\sin x|}{x}$ ,      l)  $\lim_{x \rightarrow 3} \frac{9-x^2}{\sqrt{3x}-3}$ ,  
 m)  $\lim_{x \rightarrow 0} (1 + \sin x)^{\frac{5}{x}}$ ,      n)  $\lim_{x \rightarrow 0} (1+x)^{\frac{5}{\sin x}}$ ,      o)  $\lim_{x \rightarrow -\infty} \operatorname{tgh} x$ ,      p)  $\lim_{x \rightarrow \infty} \operatorname{tgh} x$ ,  
 q)  $\lim_{x \rightarrow 4} \frac{\sqrt{x-2}}{\sqrt{x^3-8}}$ ,      r)  $\lim_{x \rightarrow 1} \frac{\sin \pi x}{\sin 3\pi x}$ ,      s)  $\lim_{x \rightarrow 2} \frac{\operatorname{tg} \pi x}{x-2}$ ,      t)  $\lim_{x \rightarrow 0} \frac{\operatorname{arctg} 3x}{\arcsin 5x}$ ,  
 u)  $\lim_{x \rightarrow 0} \frac{\operatorname{tg} x}{3x}$ ,      v)  $\lim_{x \rightarrow 0} \frac{\operatorname{tg} 5x}{\operatorname{tg} 6x}$ ,      w)  $\lim_{x \rightarrow 0} \frac{\sin 3x}{\sin 5x}$ ,      x)  $\lim_{x \rightarrow 0} \frac{\sin 4x}{\operatorname{tg} 3x}$ .

3.2.4. ~~N 2-04~~  $a \in R, n \in N$ . Vypočítajte limity: ♣

- a)  $\lim_{x \rightarrow 0} \frac{\sqrt{1+x} - \sqrt{1-x}}{x}$ ,      b)  $\lim_{x \rightarrow 1} \frac{x^2 - 2x + 1}{x^3 - x}$ ,      c)  $\lim_{x \rightarrow 0} \frac{\sqrt{a^2+x} - a}{x}$ ,  
 d)  $\lim_{x \rightarrow \infty} \frac{\sqrt{x+2} - \sqrt{2}}{x}$ ,      e)  $\lim_{x \rightarrow 0} \frac{\sqrt{x+2} - \sqrt{2}}{x}$ ,      f)  $\lim_{x \rightarrow \infty} \frac{x^3 + x}{x^4 - 3x^2 + 1}$ ,  
 g)  $\lim_{x \rightarrow -2} \frac{x^3 + 3x^2 + 2x}{x^2 - x - 6}$ ,      h)  $\lim_{x \rightarrow \infty} \frac{1+x-3x^3}{1+x^2+3x^3}$ ,      i)  $\lim_{x \rightarrow \infty} \left( \frac{x^2+x-1}{2x^2-x+1} \right)^3$ ,  
 j)  $\lim_{x \rightarrow 1} \frac{x^2-4}{x^2-3x+2}$ ,      k)  $\lim_{x \rightarrow 2} \frac{x^2-4}{x^2-3x+2}$ ,      l)  $\lim_{x \rightarrow 3} \frac{x^2-4}{x^2-3x+2}$ ,  
 m)  $\lim_{x \rightarrow \infty} (\sqrt{x-2} - \sqrt{x})$ ,      n)  $\lim_{x \rightarrow \infty} x(\sqrt{x^2+1} - x)$ ,      o)  $\lim_{x \rightarrow -\infty} x(\sqrt{x^2+1} - x)$ ,  
 p)  $\lim_{x \rightarrow \infty} (\sqrt{x^3+a} - x)$ ,      q)  $\lim_{n \rightarrow \infty} 2^n \sin 2\pi n$ ,      r)  $\lim_{x \rightarrow \infty} 2^x \sin 2\pi x$ ,  
 s)  $\lim_{x \rightarrow -\infty} 2^x \sin 2\pi x$ ,      t)  $\lim_{x \rightarrow \infty} 2^{-x} \sin 2\pi x$ ,      u)  $\lim_{x \rightarrow -\infty} 2^{-x} \sin 2\pi x$ .

3.2.5. ~~N 2-05~~  $n \in N$ . Vypočítajte limity: ♣

- a)  $\lim_{x \rightarrow \infty} \left( \frac{x^2+x-1}{2x^2-x+1} \right)^3$ ,      b)  $\lim_{x \rightarrow \infty} \frac{(\sqrt{x^2+1}+x)^2}{\sqrt[3]{x^6+1}}$ ,      c)  $\lim_{x \rightarrow \infty} \frac{\sqrt{x^2+1} + \sqrt{x}}{\sqrt[4]{x^3+x-x}}$ ,  
 d)  $\lim_{x \rightarrow 4} \frac{x^2+7x-44}{x^2-6x+8}$ ,      e)  $\lim_{x \rightarrow -2} \frac{\sqrt{x+6}-2}{x+2}$ ,      f)  $\lim_{x \rightarrow 1} \frac{x^3-5x+4}{x^3-1}$ ,  
 g)  $\lim_{x \rightarrow \infty} \frac{\sqrt[n]{x+1}-1}{x}$ ,      h)  $\lim_{x \rightarrow 0} \frac{\sin 4x + \sin 7x}{\sin 3x}$ ,      i)  $\lim_{x \rightarrow 0} \frac{\sqrt[3]{2+x} - \sqrt[3]{2-x}}{\sqrt{1+x} - \sqrt{1-x}}$ ,  
 j)  $\lim_{x \rightarrow 0} \frac{\cos x - \cos^3 x}{x^2}$ ,      k)  $\lim_{x \rightarrow \frac{\pi}{4}} \frac{\sin x - \cos x}{1 - \operatorname{tg} x}$ ,      l)  $\lim_{x \rightarrow 0} \frac{x}{\sqrt[4]{1+2x}-1}$ ,  
 m)  $\lim_{x \rightarrow -1} \frac{x^2-x-2}{x^3+1}$ ,      n)  $\lim_{x \rightarrow 0} \frac{1-\cos 2x}{x \sin x}$ ,      o)  $\lim_{x \rightarrow 0} \frac{\operatorname{tg} x - \sin x}{x^3}$ ,  
 p)  $\lim_{x \rightarrow \infty} \frac{\sqrt{x+\sqrt{x+\sqrt{x}}} - \sqrt{x+1}}{\sqrt{x+1}}$ ,      q)  $\lim_{x \rightarrow 1} \left( \frac{1+x}{2+x} \right)^{\frac{1-\sqrt{x}}{2+x}}$ ,      r)  $\lim_{x \rightarrow 0} \frac{1}{x} \ln \sqrt{\frac{1+x}{1-x}}$ ,  
 s)  $\lim_{x \rightarrow 0} \left( \frac{\cos 2x}{\cos x} \right)^{\frac{1}{x^2}}$ ,      t)  $\lim_{x \rightarrow 0} \left( \frac{\cos x}{\cos 2x} \right)^{\frac{1}{x^2}}$ ,      u)  $\lim_{x \rightarrow 1} \left( \frac{\cos x}{\cos 2x} \right)^{\frac{1}{x^2}}$ ,  
 v)  $\lim_{x \rightarrow 0} (1-x) \operatorname{tg} \frac{\pi x}{2}$ ,      w)  $\lim_{x \rightarrow 0} x \operatorname{cotg} x$ ,      x)  $\lim_{x \rightarrow \frac{\pi}{6}} \frac{1-4 \sin^2 x}{\cos 3x}$ .

3.2.6. ~~N 2-06~~  $a, b \in R, m, n \in R$ . Vypočítajte limity: ♣

- a)  $\lim_{x \rightarrow 2} \frac{x^2-x-2}{x^3-3x^2+2x}$ ,      b)  $\lim_{x \rightarrow -2} \frac{x^2+x-2}{x^2+2x}$ ,      c)  $\lim_{x \rightarrow 0} \frac{1-\cos 2x + \operatorname{tg}^2 x}{x \sin x}$ ,  
 d)  $\lim_{x \rightarrow 1} \frac{3x^4-4x^3+1}{(x-1)^2}$ ,      e)  $\lim_{x \rightarrow 3} \frac{x-3}{x^2-5x+6}$ ,      f)  $\lim_{x \rightarrow \frac{\pi}{2}} \left( \frac{\sin x}{\cos^2 x} - \operatorname{tg}^2 x \right)$ ,

- g)  $\lim_{x \rightarrow 0} \frac{\sin 3x}{\sqrt{x+2}-\sqrt{2}}$ , h)  $\lim_{x \rightarrow \infty} \frac{x^2+2x+1}{5x}$ , i)  $\lim_{x \rightarrow \frac{1}{2}} \frac{\arcsin(1-2x)}{4x^2-1}$ ,  
 j)  $\lim_{x \rightarrow 0} \frac{\sqrt{x+1}-1}{\sqrt[3]{x+1}-1}$ , k)  $\lim_{x \rightarrow a} \frac{x^2-(a+1)x+a}{x^3-a^3}$ , l)  $\lim_{x \rightarrow \infty} \frac{\sqrt[4]{x^5}+\sqrt[5]{x^3}+\sqrt[6]{x^8}}{\sqrt[3]{x^4+2}}$ ,  
 m)  $\lim_{x \rightarrow 0} \frac{x-\sin 2x}{x+\sin 3x}$ , n)  $\lim_{x \rightarrow 0} \frac{\cos mx - \cos nx}{x^2}$ , o)  $\lim_{h \rightarrow 0} \frac{\sin(x+h)-\sin x}{h}$ ,  
 p)  $\lim_{x \rightarrow \infty} \left( \frac{\cos x}{1-2\sin^2 x} \right)^{\frac{1}{x^2}}$ , q)  $\lim_{x \rightarrow 1} \left( \frac{1}{1-x} - \frac{3}{1-x^3} \right)$ , r)  $\lim_{x \rightarrow 1} \left( \frac{1}{x^2-1} - \frac{2}{x^4-1} \right)$ ,  
 s)  $\lim_{x \rightarrow 1} \arctg \frac{1}{1-x}$ , t)  $\lim_{x \rightarrow 1^-} \arctg \frac{1}{1-x}$ , u)  $\lim_{x \rightarrow 1^+} \arctg \frac{1}{1-x}$ .

**3.2.7. D2-07** Nech  $a \in R$ ,  $m, n \in R$ . Vypočítajte limity: ♣

- a)  $\lim_{x \rightarrow \infty} \frac{(x+3)(x+4)(x+5)}{x^4+x-11}$ , b)  $\lim_{x \rightarrow \infty} \frac{(4x-1)^{100}(3x+1)^{200}}{(6x+5)^{300}}$ ,  
 c)  $\lim_{x \rightarrow \infty} \left( \frac{x^3}{2x^2-1} - \frac{x^2}{2x+1} \right)$ , d)  $\lim_{x \rightarrow \pi} \frac{\sqrt{1-\operatorname{tg} x} - \sqrt{1+\operatorname{tg} x}}{\sin 2x}$ ,  
 e)  $\lim_{x \rightarrow \infty} x [\ln x - \ln(x+2)]$ , f)  $\lim_{x \rightarrow \infty} x [\ln(x+3) - \ln x]$ ,  
 g)  $\lim_{x \rightarrow \infty} x [\ln(x+a) - \ln(x-a)]$ , h)  $\lim_{x \rightarrow \infty} x [\ln(x+a) - \ln x]$ ,  
 i)  $\lim_{x \rightarrow 0} \frac{\sqrt{1+x \sin x} - \sqrt{\cos 2x}}{\operatorname{tg}^2 \frac{x}{2}}$ , j)  $\lim_{x \rightarrow -3} \frac{\sqrt{x^2+7} - \sqrt{7-3x}}{\sqrt{x+3} - \sqrt{x^2-9}}$ ,  
 k)  $\lim_{x \rightarrow \infty} (\sqrt{x^2+9} - \sqrt{x^2-9})$ , l)  $\lim_{x \rightarrow \infty} \left( \sqrt[3]{(x+1)^2} - \sqrt[3]{(x-1)^2} \right)$ ,  
 m)  $\lim_{x \rightarrow \infty} \frac{\sqrt{x^2-1} + \sqrt{x^2+1}}{x}$ , n)  $\lim_{x \rightarrow 0} \frac{\sqrt{1+\sin x} - \sqrt{1-\sin x}}{x}$ ,  
 o)  $\lim_{x \rightarrow 0} \frac{\sin(a+x) - \sin(a-x)}{x}$ , p)  $\lim_{h \rightarrow 0} \frac{\sin(x+h) - \sin(x-h)}{h}$ .

**3.2.8. D2-08** Dokažte, že funkcie  $y = 1 - x$ ,  $y = 1 - \sqrt{x}$  a  $y = 1 - \sqrt[3]{x}$  konvergujú v bode 1 k nule rovnako rýchlo. Sú niektoré z nich ekvivalentné v bode 1? ♣

**3.2.9. D2-09** Dokažte, že neexistujú limity  $\lim_{x \rightarrow \infty} e^x \sin x$ ,  $\lim_{x \rightarrow \infty} e^x(1 + \sin x)$ ,  $\lim_{x \rightarrow \infty} e^x(1 - \sin x)$ .

## 3.3 Spojitosť funkcie

S pojmom limity funkcie  $f$  v danom bode  $a$  úzko súvisí pojem spojitosti, resp. nespojivosti tejto funkcie  $f$  v bode  $a$ .

### 3.3.1 Spojitosť funkcie v bode

Prírodné deje často prebiehajú spojite a popisujú sa „spojitými funkciami“. Niekedy môžu samozrejme prebiehať diskkrétne alebo v kvantách, ale kvantá sú väčšinou také malé, že nám (ako nedokonalým pozorovateľom) sa celý proces javí ako spojitý. Najznámejším príkladom je premietanie filmu, kde postačí frekvencia väčšia ako 10 obrázkov za sekundu a pohyb sa nám javí ako spojitý. To znamená, že malej zmene nezávislej premennej veličiny zodpovedá malá zmena veličiny, ktorá je od nej závislá.

Uvažujme, napríklad, hmotný bod, ktorý sa pohybuje po nejakej dráhe. Veľkosť dráhy tohto bodu závisí od veľkosti času, počas ktorého sa pohybuje. Malému prírastku času zodpovedá malý prírastok dráhy. Predpokladajme, že dráhu tohto pohybu popisuje funkcia  $y = f(t)$ , kde  $t$  reprezentuje čas. V čase  $T$  bude veľkosť dráhy rovná hodnote  $f(T)$ . Ak sa čas  $T$  zmení o malú hodnotu, potom sa dráha  $f(T)$  tiež zmení o malú hodnotu. Ak pre čas bude platiť  $t \rightarrow T$ , potom pre veľkosť dráhy bude platiť

$f(t) \rightarrow f(T)$ . To znamená, že ak  $\{t_n\}_{n=1}^{\infty} \rightarrow T$ , potom  $\{f(t_n)\}_{n=1}^{\infty} \rightarrow f(T)$ . Symbolicky to pomocou limity postupnosti môžeme vyjadriť

$$\lim_{n \rightarrow \infty} t_n = T \implies \lim_{n \rightarrow \infty} f(t_n) = f(T).$$

Keďže je funkcia  $f$  v bode  $T$  definovaná, nemusíme pre postupnosť  $\{t_n\}_{n=1}^{\infty}$  požadovať, aby platilo  $t_n \neq T$ ,  $n \in \mathbb{N}$ . Teraz pristúpime k presnej formulácii spojivosti funkcie. Analogicky ako limitu, budeme spojivosť funkcie v bode definovať **v zmysle Heineho**.

Hovoríme, že **funkcia  $f$  je spojitá v bode  $a \in D(f)$** , ak pre všetky postupnosti  $\{x_n\}_{n=1}^{\infty} \subset D(f)$  také, že  $\lim_{n \rightarrow \infty} x_n = a$ , platí  $\lim_{n \rightarrow \infty} f(x_n) = f(a)$ .

Ak funkcia  $f$  nie je spojitá v bode  $a$ , potom sa nazýva **nespojité v bode  $a$** .

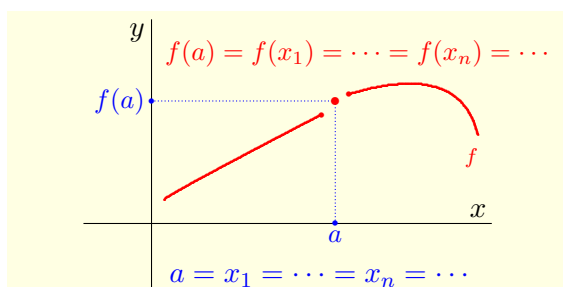
### Poznámka 3.3.1.K3-poz50

Bod  $a \in D(f)$  môže byť iba hromadným alebo izolovaným bodom množiny  $D(f)$ .

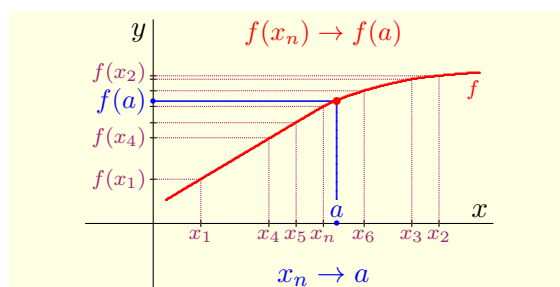
a) Nech je  $a$  izolovaný bod (obr. 3.3.116) množiny  $D(f)$ . Potom existuje iba jedna postupnosť  $\{x_n\}_{n=1}^{\infty}$ , ktorá konverguje k bodu  $a$  a to postupnosť  $\{a\}_{n=1}^{\infty}$ . Je zrejmé, že potom  $\lim_{n \rightarrow \infty} f(x_n) = \lim_{n \rightarrow \infty} f(a) = f(a)$ , t. j. **funkcia  $f$  je vždy spojitá v izolovanom bode  $a$** .

b) Nech je  $a$  hromadný bod (obr. 3.3.117) množiny  $D(f)$ . Potom z definície spojivosti a limity funkcie v bode  $a$  vyplýva  $\lim_{x \rightarrow a} f(x) = f(a)$ .

Z definície vyplýva, že funkcia  $f$  môže byť nespojitá iba v hromadnom bode  $a \in D(f)$ . Funkcia  $f$  je nespojitá v bode  $a$  práve vtedy, ak existuje postupnosť  $\{x_n\}_{n=1}^{\infty} \subset D(f)$ , pre ktorú platí  $\lim_{n \rightarrow \infty} x_n = a$ , ale neplatí  $\lim_{n \rightarrow \infty} f(x_n) = f(a)$ , t. j.  $\lim_{n \rightarrow \infty} f(x_n)$  neexistuje alebo existuje a platí  $\lim_{n \rightarrow \infty} f(x_n) \neq f(a)$ .



Obr. 3.3.116: Spojitosť funkcie  $f$  v izolovanom bode  $a \in D(f)$ .



Obr. 3.3.117: Spojitosť funkcie  $f$  v hromadnom bode  $a \in D(f)$ .

### Veta 3.3.1.K3-veta34

Nech  $a \in D(f)$  je hromadným bodom definičného oboru  $D(f)$  funkcie  $f$ .

Potom je funkcia  $f$  spojitá v bode  $a$  práve vtedy, ak platí  $\lim_{x \rightarrow a} f(x) = f(a)$ .

### Dôkaz.

Vyšplýva z definície limity a spojivosti funkcie v bode  $a$ . ■

**Príklad 3.3.1.K3-pr88**

Funkcia  $f: y = x, x \in R$  je spojitá v každom bode  $a \in R$ . Aj funkcia  $g: y = x, x \in Q$ , t. j.  $g = f|_Q$ , je spojitá v každom bode  $a \in Q$ . Pre všetky  $a \in R$ , resp.  $a \in Q$  totiž platí:

$$\lim_{x \rightarrow a} f(x) = \lim_{x \rightarrow a} x = a = f(a), \quad \text{resp.} \quad \lim_{x \rightarrow a} g(x) = \lim_{x \rightarrow a} x = a = g(a). \blacksquare$$

Spojitosť funkcie  $f$  v izolovanom aj hromadnom bode  $a \in D(f)$  môžeme (podobne ako limitu funkcie  $f$  v bode  $a$ , str. 244) charakterizovať pomocou okolí bodov  $a, f(a)$ . Tento vzťah vyjadruje nasledujúca veta, ktorú uvádzame bez dôkazu, pretože je takmer identický s dôkazom vety 3.2.1.

**Veta 3.3.2.K3-veta35**

Funkcia  $f$  je spojitá v bode  $a \in D(f)$  práve vtedy, ak pre každé okolie  $O(f(a))$  bodu  $f(a)$  existuje okolie  $O(a)$  bodu  $a$  také, že pre všetky  $x \in O(a) \cap D(f)$  platí  $f(x) \in O(f(a))$ .

**Poznámka 3.3.2.K3-poz51**

Tvrdenie z predchádzajúcej vety môžeme symbolicky zapísať niektorým zo vzťahov

$$\begin{aligned} \forall O(f(a)) \exists O(a) \forall x: x \in O(a) \cap D(f) \implies f(x) \in O(f(a)), \\ \forall O(b) \exists P(a) : f(P(a) \cap D(f)) \in O(b), \end{aligned}$$

$$\begin{aligned} \text{resp.} \quad \forall O_\varepsilon(f(a)) \exists O_\delta(a) \forall x \in D(f): x \in O_\delta(a) \implies f(x) \in O_\varepsilon(f(a)), \\ \forall \varepsilon > 0 \exists \delta > 0 \forall x \in D(f): |x - a| < \delta \implies |f(x) - f(a)| < \varepsilon. \end{aligned}$$

Podobne ako limita, je spojitosť funkcie  $f$  v bode  $a$  lokálna záležitosť v nejakom okolí bodu  $a$ . Pri spojitosti je ale potrebné, aby  $a \in D(f)$  a aby bola funkcia  $f$  v bode  $a$  definovaná. Pri limite musí byť bod  $a$  hromadným bodom množiny  $D(f)$ . Pre funkcie spojité v bode  $a$  platia podobné vety ako pre limity.

**Veta 3.3.3.K3-veta36**

Ak sú funkcie  $f, g$  spojité v bode  $a \in D(f) \cap D(g)$  a ak  $r \in R$ , potom sú spojité v bode  $a$  funkcie  $|f|, f \pm g, rf$  a  $fg$ .

Ak navyše platí  $g(a) \neq 0$ , potom sú v bode  $a$  spojité tiež funkcie  $\frac{1}{g}$  a  $\frac{f}{g}$ .

**Dôkaz.**

Ak je  $a$  izolovaným bodom množiny  $D(f) \cap D(g)$ , potom je tvrdenie zrejmé.

Ak je  $a$  hromadným bodom, potom dôkaz vyplýva z vety 3.2.9 a z vety 3.3.1. Dokážeme iba spojitosť funkcie  $f \pm g$  v bode  $a$ , ostatné tvrdenia sa dokážu analogicky.

Keďže sú funkcie  $f, g$  spojité v bode  $a$ , existujú vlastné  $\lim_{x \rightarrow a} f(x), \lim_{x \rightarrow a} g(x)$  a platí

$$\lim_{x \rightarrow a} f(x) = f(a), \quad \lim_{x \rightarrow a} g(x) = g(a), \quad \text{t. j.} \quad \lim_{x \rightarrow a} [f(x) \pm g(x)] = f(a) \pm g(a).$$

Z toho vyplýva na základe vety 3.3.1 spojitosť funkcie  $f \pm g$  v bode  $a$ .  $\blacksquare$

**Príklad 3.3.2.K3-pr85**

Keďže je  $f: y = x$  spojitá v bode 1, sú spojité v bode 1 tiež funkcie

$$f + f = 2f: y = 2x, \quad f \cdot f = f^2: y = x^2, \quad f \cdots f = f^n: y = x^n, \quad n \in N. \blacksquare$$



**Veta 3.3.4 (O spojitosti zloženej funkcie).**K3-veta37

Nech je funkcia  $f$  spojitá v bode  $a \in D(f)$ , nech je funkcia  $g$  spojitá v bode  $b = f(a) \in D(g)$  a nech  $H(f) \subset D(g)$ . Potom je zložená funkcia  $F = g(f)$  spojitá v bode  $a$ .

**Dôkaz.**

Vyplýva z vety o limite zloženej funkcie (veta 3.2.9) a z vety 3.3.1. ■

**Príklad 3.3.3.**K3-pr86

Funkcia  $f: u = x^2 + 1$  je spojitá v bode  $a = 1$  a funkcia  $g: y = \sqrt{u}$  je spojitá v bode  $b = f(1) = 2$ . Potom aj zložená funkcia  $g(f): y = \sqrt{x^2 + 1}$  je spojitá v bode  $a = 1$ . ■

**Veta 3.3.5.**K3-veta40

Nech je funkcia  $f$  spojitá v bode  $a$  a nech množina  $A \subset D(f)$  je taká, že  $a \in A$ .

Potom je reštrikcia funkcie  $f$  na množinu  $A$ , t. j. funkcia  $g = f|_A$ , spojitá v bode  $a$ .

**Dôkaz.**

Ak je  $a$  izolovaným bodom množiny  $D(f)$ , potom je tiež izolovaným bodom jej podmnožiny  $A \subset D(f)$  a funkcia  $g$  je spojitá v bode  $a$ .

Ak je bod  $a$  hradným bodom množiny  $D(f)$ , potom platí  $f(a) = \lim_{x \rightarrow a} f(x)$ ,  $f(a) = g(a)$ .

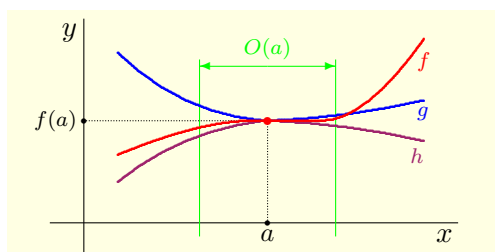
Bod  $a$  môže byť izolovaným alebo hradným bodom množiny  $A = D(f)$ .

Ak je  $a$  izolovaným bodom, potom je funkcia  $g$  v bode  $a$  spojitá.

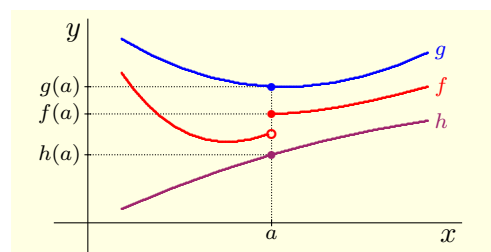
Ak je  $a$  hradným bodom, potom z vety 3.2.10 vyplýva:

$$\lim_{x \rightarrow a} g(x) = \lim_{x \rightarrow a} f|_A(x) = f(a), \quad \text{t. j.} \quad \lim_{x \rightarrow a} g(x) = g(a)$$

a funkcia  $g$  je v bode  $a$  spojitá. ■



Obr. 3.3.118: Veta 3.3.4 o zovretí.



Obr. 3.3.119: Poznámka 3.3.3.

**Veta 3.3.6 (O zovretí).**K3-veta38

Nech sú funkcie  $g, h$  spojité v bode  $a \in D(f) \cap D(g) \cap D(h)$ . Nech  $h(a) = f(a) = g(a)$ .

Nech existuje okolie  $O(a)$  také, že pre všetky  $x \in O(a)$  platí  $h(x) \leq f(x) \leq g(x)$ .

Potom je funkcia  $f$  spojitá v bode  $a$ .

**Dôkaz.**

Zo spojitosti funkcií  $f, g$  v bode  $a$  a z predpokladu  $h(x) \leq f(x) \leq g(x)$  vyplýva:

$$h(a) = \lim_{x \rightarrow a} h(x) \leq \lim_{x \rightarrow a} f(x) \leq \lim_{x \rightarrow a} g(x) = g(a), \quad \text{t. j.} \quad \lim_{x \rightarrow a} f(x) = f(a).$$

To znamená, že je funkcia  $f$  spojitá v bode  $a$ . ■

**Poznámka 3.3.3.K3-poz54**

Predpoklad  $h(a) = f(a) = g(a)$  v predchádzajúcej vete je dôležitý (obr. 3.3.118). Ak nie je splnený, potom funkcia  $f$  v bode  $a$  nemusí byť spojitá (obr. 3.3.119).

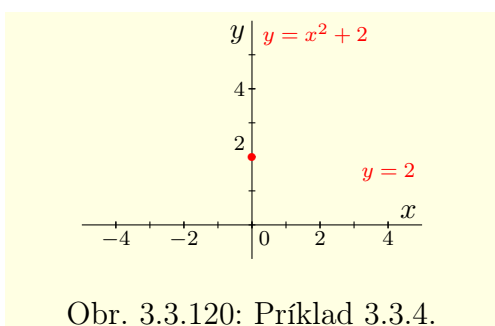
**Príklad 3.3.4.K3-pr87**

Uvažujme funkciu  $f: y = \begin{cases} x^2 + 2, & \text{pre } x \in \mathbb{Q}, \\ 1, & \text{pre } x \in \mathbb{R} - \mathbb{Q} \end{cases}$  (obr. 3.3.120).

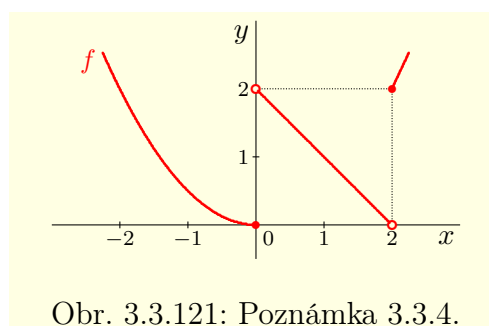
Je zrejmé, že pre všetky  $a \neq 0$  neexistuje  $\lim_{x \rightarrow a} f(x)$ , t. j. funkcia  $f$  nie je spojitá.

Ukážeme, že je  $f$  spojitá v bode  $a = 0$ . Ak označíme  $g(x) = x^2 + 2, x \in \mathbb{R}$  a  $h(x) = 2, x \in \mathbb{R}$ , potom pre všetky  $x \in \mathbb{R}$  platí  $h(x) \leq f(x) \leq g(x)$ ,  $f(0) = h(0) = g(0) = 1$ .

Keďže sú  $g, h$  spojité v bode 0, je na základe vety o zovretí spojitá v 0 aj funkcia  $f$ . ■



Obr. 3.3.120: Príklad 3.3.4.



Obr. 3.3.121: Poznámka 3.3.4.

Analogicky ako limitu vzhľadom na množinu, resp. limitu zľava a sprava, definujeme aj spojitosť vzhľadom na množinu a spojitosť zľava a sprava.

Hovoríme, že **funkcia  $y = f(x)$  je spojitá v bode  $a \in D(f)$  vzhľadom na množinu  $A \subset D(f)$** , ak je spojitá v bode  $a$  jej zúženie  $f|_A$ , t. j. ak pre všetky  $\{x_n\}_{n=1}^{\infty} \subset A$  také, že  $\lim_{n \rightarrow \infty} x_n = a$  platí  $\lim_{n \rightarrow \infty} f(x_n) = f(a)$ .

Ak je funkcia  $f$  spojitá vzhľadom na množinu  $D(f) \cap (-\infty; a)$  [resp. na množinu  $D(f) \cap \langle a; \infty \rangle$ ], potom sa nazýva **spojitá zľava** [resp. **spojitá sprava**] **v bode  $a$** . V týchto prípadoch hovoríme o **jednostrannej spojitosti funkcie  $f$  v bode  $a$** .

**Poznámka 3.3.4.K3-poz73**

Funkcia  $f$  na obrázku 3.3.121 je spojitá v každom bode množiny  $\mathbb{R} - \{0; 2\}$ . V bode 0 je spojitá zľava a v bode 2 je spojitá sprava.

**Poznámka 3.3.5.K3-poz57**

Symbolicky môžeme spojitosť zľava funkcie  $f$  v bode  $a$  zapísať

$$\forall O(f(a)) \exists O^-(a) \forall x: x \in O^-(a) \cap D(f) \implies f(x) \in O(f(a)),$$

$$\text{resp. } \forall \varepsilon > 0 \exists \delta > 0 \forall x \in D(f): a - x < \delta \implies |f(x) - f(a)| < \varepsilon$$

a spojitosť sprava funkcie  $f$  v bode  $a$  zapísať

$$\forall O(f(a)) \exists O^+(a) \forall x: x \in O^+(a) \cap D(f) \implies f(x) \in O(f(a)),$$

$$\text{resp. } \forall \varepsilon > 0 \exists \delta > 0 \forall x \in D(f): x - a < \delta \implies |f(x) - f(a)| < \varepsilon.$$

Pre jednostrannú spojitosť platí analogické tvrdenie ako pre jednostranné limity.

**Veta 3.3.7.K3-veta39**

Funkcia  $f$  je spojitá v bode  $a \in D(f)$  práve vtedy, ak je v bode  $a$  spojitá zľava a sprava.

**Príklad 3.3.5.K3-pr89**

V elektrotechnike sa často používa tzv. **Heavisideova**<sup>60</sup> **jednotková funkcia**  $\eta$ , ktorá je definovaná  $\eta(x) = 1$  pre  $x \in \langle 0; \infty \rangle$  a  $\eta(x) = 0$  pre  $x \in (-\infty; 0)$ .

Funkcia  $\eta$  je spojitá pre všetky  $x \in \mathbb{R} - \{0\}$ . V bode 0 je spojitá sprava. ■

**3.3.2 Spojitosť funkcie na množine a body nespojitosti**

Spojitosť funkcie v bode rozšírime na pojem spojitosti na množine. Hovoríme, že **funkcia  $f$  je spojitá na množine  $A \subset D(f)$** , ak je spojitá v každom bode  $a \in A$ .

Ak je funkcia  $f$  spojitá na svojom definičnom obore  $D(f)$ , t. j. na množine  $D(f)$ , potom ju nazývame **spojitá funkcia** (slová na definičnom obore  $D(f)$  vynechávame).

Ak je funkcia  $f$  v bode  $a \in D(f)$  spojitá [resp. nespojitá], potom bod  $a$  nazývame **bodom spojitosti** [resp. **nespojitosťou**] **funkcie  $f$** .

**Poznámka 3.3.6.K3-poz64**

Z definície je zrejmé, že ak je funkcia  $f$  spojitá na množine  $A$ , potom je funkcia  $f$  spojitá na každej podmnožine množiny  $A$ .

**Príklad 3.3.6.K3-pr90**

a) Funkcia  $f$  definovaná v príklade 3.3.4 (obr. 3.3.120) je spojitá iba v bode 0, t. j. je spojitá na množine  $\{0\}$ . V ostatných bodoch, t. j. na množine  $\mathbb{R} - \{0\}$  je nespojitá.

b) Na obrázku 3.3.121 je graf funkcie  $f: y = x^2$  pre  $x \in \mathbb{R} - (0; 2)$  a  $y = 2 - x$  pre  $x \in (0; 2)$ . Funkcia  $f$  je nespojitá v bodoch 0, 2 a spojitá na množine  $\mathbb{R} - \{0, 2\}$ .

c) Funkcia  $f: y = \lfloor x \rfloor$  (obr. 2.1.2) je spojitá na každom intervale  $\langle k; k + 1 \rangle$ ,  $k \in \mathbb{Z}$ , pričom v bodoch  $k$  je spojitá sprava. ■

Je zrejmé, že o bodoch nespojitosti funkcie  $f$  má zmysel uvažovať iba v prípade, že sú hromadnými bodmi množiny  $D(f)$ . V opačnom prípade sú izolované, t. j. je v nich funkcia  $f$  spojitá. Preto rozšírime pojem bodu nespojitosti na všetky hromadné body množiny  $D(f)$ . Tieto body rozdeľujeme na body odstrániteľnej a neodstrániteľnej nespojitosti.

Hovoríme, že **funkcia  $f$  má v bode  $a$  bod odstrániteľnej nespojitosti**, ak existuje konečná limita  $\lim_{x \rightarrow a} f(x)$ , ale  $\lim_{x \rightarrow a} f(x) \neq f(a)$  (obr. 3.3.122).<sup>61</sup>

**Funkcia  $f$  má v bode  $a$  bod neodstrániteľnej nespojitosti 1. druhu**, ak existujú konečné jednostranné limity  $\lim_{x \rightarrow a^-} f(x) \neq \lim_{x \rightarrow a^+} f(x)$  (obr. 3.3.123). Číslo

$$c = \left| \lim_{x \rightarrow a^-} f(x) - \lim_{x \rightarrow a^+} f(x) \right|$$

nazývame **skok funkcie  $f$  v bode  $a$** .

**Funkcia  $f$  má v bode  $a$  bod neodstrániteľnej nespojitosti 2. druhu**, ak aspoň jedna z jednostranných limit  $\lim_{x \rightarrow a^-} f(x)$ ,  $\lim_{x \rightarrow a^+} f(x)$  neexistuje alebo je nevlastná.

Ak je niektorá z týchto limit nevlastná (obr. 3.3.124), potom hovoríme o **asymptotickej nespojitosti funkcie  $f$  v bode  $a$** .

<sup>60</sup> Oliver Heaviside [1850–1925] — anglický fyzik.

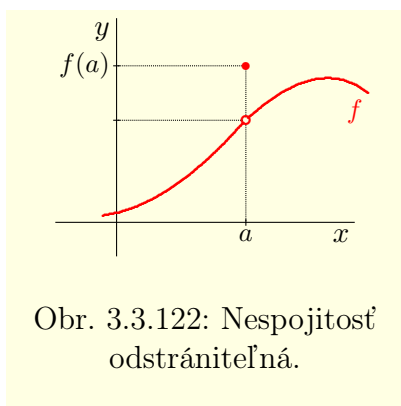
<sup>61</sup> Je zrejmé, že stačí predefinovať  $f(a) = \lim_{x \rightarrow a} f(x)$  a funkcia  $f$  bude v bode  $a$  spojitá.

**Poznámka 3.3.7.K3-poz53**

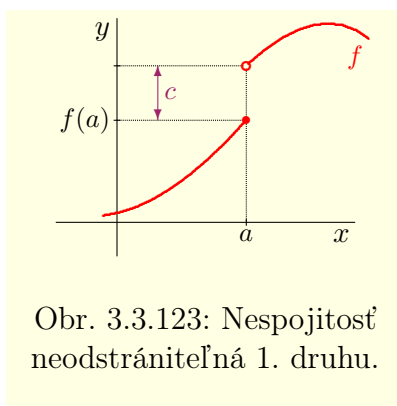
Z definície asymptoty bez smernice vyplýva, že funkcia  $f$  má v bode  $a$  asymptotu bez smernice práve vtedy, ak je v bode  $a$  asymptoticky nespojitá (viď obr. 3.2.110).

**Poznámka 3.3.8.K3-poz69**

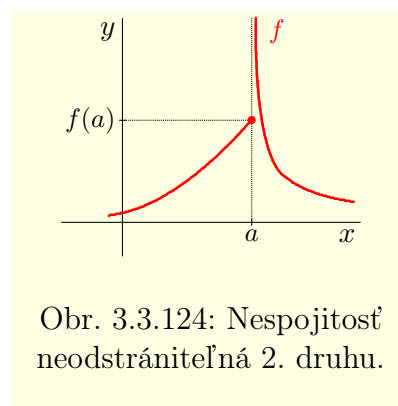
Každá číselná postupnosť  $\{a_n\}_{n=1}^{\infty}$  je spojitá funkcia, pretože jej definičným oborom je množina prirodzených čísel  $N$ , t. j. množina izolovaných bodov. To znamená, že predstava o spojitaj funkcii na množine, ako o funkcii, ktorej graf sa dá nakresliť tak, že „nezdvihneme pero z papiera“ postačí na ilustráciu na základných školách. A to iba v prípade, ak je táto množina intervalom  $I \subset R$ . Je zrejmé, že už v prípade podmnožiny racionálnych čísel, sá dá táto predstava veľmi ťažko zrealizovať.



Obr. 3.3.122: Nespojitost odstrániteľná.



Obr. 3.3.123: Nespojitost neodstrániteľná 1. druhu.



Obr. 3.3.124: Nespojitost neodstrániteľná 2. druhu.

**Príklad 3.3.7.K3-pr84**

Uvažujme nasledujúce funkcie

$$f_1(x) = \frac{x^2-1}{x-1}, \quad f_2(x) = \frac{\sin x}{x}, \quad g(x) = \lfloor x \rfloor, \quad h_1(x) = \frac{1}{x}, \quad h_2(x) = \sin \frac{1}{x}.$$

Funkcia  $f_1$  má v bode 1 a funkcia  $f_2$  má v bode 0 odstrániteľný bod nespojitosti, pretože

$$\lim_{x \rightarrow 1} f_1(x) = \lim_{x \rightarrow 1} \frac{x^2-1}{x-1} = \lim_{x \rightarrow 1} (x+1) = 2, \quad \lim_{x \rightarrow 0} f_2(x) = \lim_{x \rightarrow 0} \frac{\sin x}{x} = 1.$$

Ak položíme  $f_1(1) = 2$ ,  $f_2(0) = 1$ , potom budú tieto funkcie v uvedených bodoch spojité.

Funkcia  $g$  (obr. 2.1.2) má vo všetkých bodoch  $k \in Z$  skok  $c = 1$ , pretože platí:

$$\lim_{x \rightarrow k^-} g(x) = \lim_{x \rightarrow k^-} \lfloor x \rfloor = k-1, \quad \lim_{x \rightarrow k^+} g(x) = \lim_{x \rightarrow k^+} \lfloor x \rfloor = k.$$

Funkcie  $h_1, h_2$  majú v bode 0 neodstrániteľný bod nespojitosti 2. druhu, pretože

$$\lim_{x \rightarrow 0^-} h_1(x) = \lim_{x \rightarrow 0^-} \frac{1}{x} = -\infty, \quad \lim_{x \rightarrow 0^+} h_1(x) = \lim_{x \rightarrow 0^+} \frac{1}{x} = \infty$$

a jednostranné limity funkcie  $h_2$  v bode 0 neexistujú (príklad 3.2.6). ■

Funkcia  $f$  sa nazýva **po častiach spojitá na intervale**  $\langle a; b \rangle \subset D(f)$ , ak má na intervale  $\langle a; b \rangle$  najviac konečný počet bodov nespojitosti a všetky tieto body sú buď odstrániteľné alebo neodstrániteľné 1. druhu.

Túto definíciu môžeme rozšíriť na ľubovoľný interval  $I \subset D(f)$ , napr.  $(-\infty; \infty)$ ,  $\langle 0; \infty \rangle$ . Funkcia  $f$  sa nazýva **po častiach spojitá na intervale**  $I \subset D(f)$ , ak je po častiach spojitá na každom uzavretom intervale  $\langle a; b \rangle \subset I$ .

**Poznámka 3.3.9.K3-poz58**

Z predchádzajúcej definície je zrejmé, že každá funkcia spojitá na intervale  $I \subset D(f)$ , je na tomto intervale  $I$  tiež po častiach spojitá.

**Príklad 3.3.8.K3-pr91**

a) Funkcia  $f: y = x^2, x \in \mathbb{R}$  je spojitá na  $\mathbb{R}$ , takže je aj po častiach spojitá na  $\mathbb{R}$ .

b) Funkcia  $f: y = [x], x \in \mathbb{R}$  je po častiach spojitá na množine  $\mathbb{R}$ , pretože je po častiach spojitá na každom uzavretom intervale  $\langle a; b \rangle, a, b \in \mathbb{R}$ .

c) Funkcia  $f: y = \frac{1}{x}, x \in \mathbb{R} - \{0\}, f(0) = 0$  je spojitá, t. j. aj po častiach spojitá na každom intervale, ktorý neobsahuje bod 0.

V bode 0 má funkcia  $f$  neodstrániteľný bod nespojitosti 2. druhu. To znamená, že na ľubovoľnom intervale, ktorý obsahuje bod 0, nie je funkcia  $f$  po častiach spojitá. ■

**3.3.3 Vlastnosti spojitých funkcií na intervale**

Spojitosť funkcie  $f$  na intervale  $\langle a; b \rangle \subset D(f)$  znamená spojitosť funkcie  $f$  na intervale  $(a; b)$ , spojitosť sprava v bode  $a$  a spojitosť zľava v bode  $b$ . Spojité funkcie na intervale majú mnohé významné vlastnosti, ktoré sformulujeme v nasledujúcich vetách.

**Veta 3.3.8 (O lokálnej ohraničenosti spojitej funkcie).K3-veta41**

Ak je funkcia  $f$  spojitá v bode  $a \in D(f)$ , potom je lokálne ohraničená (obr. 3.3.125).

T. j. existuje okolie  $O(a)$  také, že je funkcia  $f$  ohraničená na množine  $O(a) \cap D(f)$ .

**Dôkaz.**

Ak je  $a$  izolovaný bod  $D(f)$ , potom je tvrdenie zřejmé. Ak je  $a$  hromadný bod, potom  $\lim_{x \rightarrow a} f(x) = f(a)$  a tvrdenie vyplýva z vety 3.2.2 o lokálnej ohraničenosti limity. ■

**Poznámka 3.3.10.K3-poz55**

V predpokladoch predchádzajúcej vety je spojitosť funkcie  $f$  v bode  $a \in D(f)$ . Zo spojitosti funkcie  $f$  na množine  $A \subset D(f)$  ešte nevyplýva jej ohraničenosť na tejto množine.

Napríklad funkcia  $f: y = \frac{1}{x}$  je síce spojitá na intervale  $(0; 1)$ , ale nie ohraničená.

**Veta 3.3.9.K3-veta42**

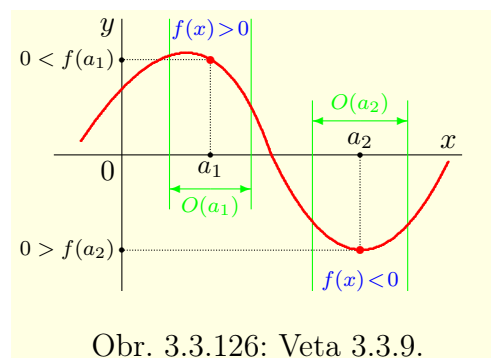
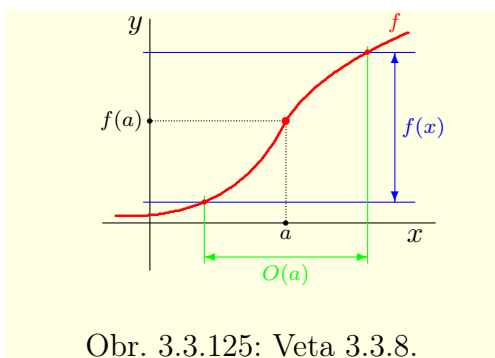
Nech je funkcia  $f$  spojitá v bode  $a \in D(f)$  a nech  $f(a) > 0$  [resp.  $f(a) < 0$ ].

Potom existuje okolie  $O(a)$ , že pre všetky  $x \in O(a) \cap D(f)$  platí  $f(x) > 0$  [resp.  $f(x) < 0$ ].

**Dôkaz.**

Ak je  $a$  izolovaný, potom existuje  $O(a)$  také, že  $O(a) \cap D(a) = \{a\}$  a tvrdenie je zřejmé.

Ak je  $a$  hromadný, potom  $\lim_{x \rightarrow a} f(x) = f(a)$  a tvrdenie vyplýva z dôsledku 3.2.7.a. ■



**Veta 3.3.10 (Weierstrass).K3-veta43**

Ak je funkcia  $f$  spojitá na uzavretom intervale  $\langle a; b \rangle$ , potom platí:

a) Funkcia  $f$  je na intervale  $\langle a; b \rangle$  ohraničená.

b) Funkcia  $f$  nadobúda na intervale  $\langle a; b \rangle$  svoje extrémny, t. j. existujú body  $c, d \in \langle a; b \rangle$  také, že  $f(c) = \min \{f(x); x \in \langle a; b \rangle\}$ ,  $f(d) = \max \{f(x); x \in \langle a; b \rangle\}$ .

**Dôkaz.**

a) Sporom. Nech je funkcia  $f$  spojitá a neohraničená na  $\langle a; b \rangle$ . Potom pre každé  $n \in \mathbb{N}$  existuje  $x_n \in \langle a; b \rangle$  také, že  $|f(x_n)| > n$ , t. j.  $\lim_{n \rightarrow \infty} |f(x_n)| = \infty$ .

Postupnosť  $\{x_n\}_{n=1}^{\infty}$  je ohraničená a môžeme (veta 2.3.9) z nej vybrať  $\{x_{k_n}\}_{n=1}^{\infty}$ , ktorá konverguje k nejakému  $e \in \langle a; b \rangle$ . Je zrejmé, že  $\lim_{n \rightarrow \infty} |f(x_{k_n})| = \infty$ ,  $f(e) \in \mathbb{R}$ .

Keďže je  $f$  spojitá v bode  $e$ , platí  $\lim_{n \rightarrow \infty} f(x_{k_n}) = f(e)$ , t. j.  $\lim_{n \rightarrow \infty} |f(x_{k_n})| \neq \infty$ . To je spor.

b) Funkcia  $f$  je ohraničená na  $\langle a; b \rangle$ , t. j. existujú konečné  $m, M \in \mathbb{R}$  také, že

$$m = \inf \{f(x); x \in \langle a; b \rangle\}, \quad M = \sup \{f(x); x \in \langle a; b \rangle\}.$$

Nepriamo ukážeme, že  $f$  nadobúda  $M$ . Nech  $f$  nenadobúda  $M$ , t. j. neexistuje  $x \in \langle a; b \rangle$  také, že  $f(x) = M$ . Potom pre všetky  $x \in \langle a; b \rangle$  platí  $f(x) < M$ . Z toho vyplýva:

$$0 < M - f(x), \quad \text{t. j. } 0 < \frac{1}{M - f(x)}.$$

Funkcia  $g: y = \frac{1}{M - f(x)}$  je na intervale  $\langle a; b \rangle$  spojitá a teda aj ohraničená. To znamená, že existuje číslo  $k > 0$  také, že pre všetky  $x \in \langle a; b \rangle$  platí:

$$0 < g(x) = \frac{1}{M - f(x)} < k, \quad \text{t. j. } \frac{1}{k} < M - f(x), \quad \text{t. j. } f(x) < M - \frac{1}{k}.$$

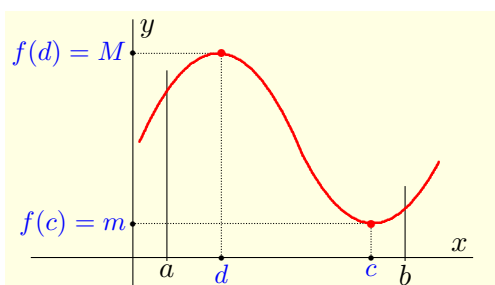
To je spor s tým, že  $M = \sup A$  a dokazuje, že funkcia  $f$  na intervale  $\langle a; b \rangle$  svoje súpremum nadobúda. Pre  $m$  je dôkaz analogický. ■

**Poznámka 3.3.11.K3-poz59**

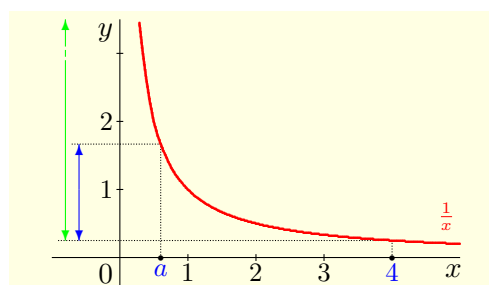
Veta 3.3.10 platí iba pre uzavretý interval  $\langle a; b \rangle$ . Pre otvorené a polouzavreté intervaly neplatí. Napr.  $f: y = \frac{1}{x}$  je na  $(0; 4)$  spojitá, ale nie ohraničená (obr. 3.3.128). Na druhej strane je ohraničená na každom intervale  $(a; 4)$ , kde  $0 < a < 4$ .

**Poznámka 3.3.12.K3-poz60**

Veta 3.3.10 platí aj v prípade, keď v jej predpokladoch nahradíme interval  $\langle a; b \rangle$  ľubovoľnou ohraničenou uzavretou množinou  $A \subset \mathbb{R}$ . Na dôkaze nie je potrebné nič meniť.



Obr. 3.3.127: Veta 3.3.10.



Obr. 3.3.128: Poznámka 3.3.11.

Spojité funkcie na uzavretých množinách  $A \subset \mathbb{R}$  majú ešte jednu dôležitú vlastnosť, sú rovnomerne spojité. Ak je funkcia  $f$  spojitá na množine  $A \subset D(f)$ , t. j. spojitá v každom bode  $c \in A$ , potom (poznámka 3.3.2) platí:

$$\forall c \in A \forall \varepsilon > 0 \exists \delta > 0 \forall x \in A: |x - c| < \delta \implies |f(x) - f(c)| < \varepsilon.$$

Číslo  $\delta$  vo všeobecnosti závisí nielen od čísla  $\varepsilon$ , ale aj od bodu  $c$ . Pre konkrétne  $\varepsilon$  sa so zmenou bodu  $c$  menia aj hodnoty  $\delta$ . Ak číslo  $\delta$  nezávisí od voľby bodu  $c \in A$  (závisí iba od hodnoty  $\varepsilon$ ), t. j. ak pre funkciu  $f$  a množinu  $A \subset D(f)$  platí:

$$\forall \varepsilon > 0 \exists \delta > 0 \forall c \in A \forall x \in A: |x - c| < \delta \implies |f(x) - f(c)| < \varepsilon, \quad (3.46)$$

potom hovoríme, že **funkcia  $f$  je rovnomerne spojitá na množine  $A$ .**

### Poznámka 3.3.13.K3-poz63

Je zrejmé, že ak je funkcia  $f$  rovnomerne spojitá na množine  $A \subset D(f)$ , potom je tiež rovnomerne spojitá na každej podmnožine množiny  $A$ .

### Poznámka 3.3.14.K3-poz61

Z definície rovnomernej spojitosti priamo vyplýva, že ak je funkcia  $f$  rovnomerne spojitá na nejakej množine  $A \subset D(f)$ , potom je na tejto množine spojitá.

Opačné tvrdenie vo všeobecnosti neplatí (príklad 3.3.9). Ale ako ukazuje nasledujúca veta, na uzavretom a ohraničenom intervale  $\langle a; b \rangle$  sú tieto dva pojmy ekvivalentné.

### Veta 3.3.11 (Cantor).K3-veta44

Ak je funkcia  $f$  spojitá na intervale  $\langle a; b \rangle$ , potom je na  $\langle a; b \rangle$  spojitá rovnomerne.

#### Dôkaz.

Sporom. Predpokladajme, že je funkcia  $f$  spojitá na  $\langle a; b \rangle$ , ale nie je na  $\langle a; b \rangle$  spojitá rovnomerne. Potom neplatí vzťah (3.46), ale platí jeho negácia

$$\exists \varepsilon > 0 \forall \delta > 0 \exists c \in \langle a; b \rangle \exists x \in \langle a; b \rangle: |x - c| < \delta, |f(x) - f(c)| \geq \varepsilon.$$

Potom tiež pre všetky  $\delta_n = \frac{1}{n}$ ,  $n \in \mathbb{N}$  existujú body  $x_n, c_n \in \langle a; b \rangle$  také, že platí:

$$|x_n - c_n| < \delta_n = \frac{1}{n}, \quad |f(x_n) - f(c_n)| \geq \varepsilon > 0. \quad (3.47)$$

Postupnosti  $\{x_n\}_{n=1}^{\infty}$ ,  $\{c_n\}_{n=1}^{\infty}$  sú ohraničené (bodmi  $a, b$ ), takže podľa vety 2.3.9 sa z nich dajú vybrať konvergentné podpostupnosti  $\{x_{k_n}\}_{n=1}^{\infty}$ ,  $\{c_{j_n}\}_{n=1}^{\infty}$ . Je zrejmé, že platí:

$$\lim_{n \rightarrow \infty} x_{k_n} = x_0 \in \langle a; b \rangle, \quad \lim_{n \rightarrow \infty} c_{j_n} = c_0 \in \langle a; b \rangle.$$

Keďže je  $f$  spojitá na intervale  $\langle a; b \rangle$ , pre podpostupnosti  $\{x_{k_n}\}_{n=1}^{\infty}$ ,  $\{c_{j_n}\}_{n=1}^{\infty}$  platí:

$$\lim_{n \rightarrow \infty} f(x_{k_n}) = f(x_0), \quad \lim_{n \rightarrow \infty} f(c_{j_n}) = f(c_0).$$

Potom na základe vety 2.3.13 zo vzťahu (3.47) pre príslušné limity podpostupností platí:

$$0 \leq \lim_{n \rightarrow \infty} |x_{k_n} - c_{j_n}| = \left| \lim_{n \rightarrow \infty} (x_{k_n} - c_{j_n}) \right| = |x_0 - c_0| \leq \lim_{n \rightarrow \infty} \delta^{-1} = 0,$$

$$\varepsilon \leq \lim_{n \rightarrow \infty} |f(x_{k_n}) - f(c_{j_n})| = \left| \lim_{n \rightarrow \infty} [f(x_{k_n}) - f(c_{j_n})] \right| = |f(x_0) - f(c_0)|.$$

Z prvého vzťahu vyplýva  $x_0 = c_0$ , t. j.  $f(x_0) = f(c_0)$ . To znamená, že musí zároveň platiť

$$0 = f(x_0) - f(c_0) = |f(x_0) - f(c_0)|, \quad 0 < \varepsilon \leq |f(x_0) - f(c_0)|.$$

To je spor, ktorý dokazuje rovnomernú spojitost funkcie  $f$  na intervale  $\langle a; b \rangle$ . ■

### Príklad 3.3.9.K3-pr93

Funkcia  $f: y = \frac{1}{x}$  je spojitá na  $D(f) = \mathbb{R} - \{0\}$ , t. j. aj na intervale  $(0; 1)$ .

Ukážeme, že na tomto intervale nie je funkcia rovnomerne spojitá.



Je zrejmé, že ku každému  $\delta > 0$  existuje  $n \in \mathbb{N}$  také, že platí:

$$\frac{1}{n} - \frac{1}{n+1} = \frac{n+1-n}{n(n+1)} = \frac{1}{n(n+1)} < \delta, \quad \text{pričom } \frac{1}{n}, \frac{1}{n+1} \in (0; 1).$$

Ak položíme  $x = (n+1)^{-1}$ ,  $c = \frac{1}{n}$ , potom platí  $|f(x) - f(c)| = |n+1 - n| = 1$ .

To znamená, že ak položíme  $\varepsilon = 1$ , potom pre všetky  $\delta > 0$  existujú  $x, c \in (0; 1)$  také, že

$$|x - c| < \delta, \quad |f(x) - f(c)| \geq \varepsilon = 1.$$

Tým sme ukázali, že funkcia  $f$  nie je na intervale  $(0; 1)$  rovnomerne spojitá. ■

### Poznámka 3.3.15.K3-poz62

Nech  $a \in (0; 1)$ . Funkcia  $f$  z príkladu 3.3.9 je na intervale  $\langle a; 1 \rangle$ , spojitá a podľa vety 3.3.11 tiež rovnomerne spojitá. Potom je rovnomerne spojitá aj na intervale  $(a; 1)$ .

To znamená, že funkcia  $f$  na intervale  $(0; 1)$  nie je rovnomerne spojitá, ale je rovnomerne spojitá na každom intervale  $(a; 1) \subset (0; 1)$ , kde  $a \neq 0$ .

### Veta 3.3.12 (Cauchyho o nulovej hodnote).K3-veta45

Ak je funkcia  $f$  spojitá na intervale  $\langle a; b \rangle$  a platí  $f(a)f(b) < 0$ , potom existuje bod  $c \in (a; b)$  taký, že  $f(c) = 0$  (nulový bod).

#### Dôkaz.

Predpoklad  $f(a)f(b) < 0$  znamená, že platí práve jeden zo vzťahov

$$f(a) < 0 < f(b), \quad f(a) > 0 > f(b).$$

Nech platí  $f(a) < 0 < f(b)$  (obr. 3.3.129). Pre  $f(a) > 0 > f(b)$  je dôkaz analogický.

Označme  $a = a_0$ ,  $b = b_0$  a rozdelíme interval  $\langle a_0; b_0 \rangle$  na dva rovnako dlhé intervaly

$$\langle a_0; x_1 \rangle, \langle x_1; b_0 \rangle, \quad \text{kde } x_1 = \frac{a_0 + b_0}{2}.$$

Ak  $f(x_1) = 0$ , potom máme koreň. Ak  $f(x_1) \neq 0$ , potom označíme  $\langle a_1; b_1 \rangle = \langle a_0; x_1 \rangle$  pre  $f(x_1) > 0$  a označíme  $\langle a_1; b_1 \rangle = \langle x_1; b_0 \rangle$  pre  $f(x_1) < 0$ . Potom platí:

$$f(a_1) < 0 < f(b_1), \quad \langle a_1; b_1 \rangle \subset \langle a_0; b_0 \rangle, \quad b_1 - a_1 = \frac{b_0 - a_0}{2}.$$

Interval  $\langle a_1; b_1 \rangle$  opäť rozdelíme na dva rovnako dlhé intervaly

$$\langle a_1; x_2 \rangle, \langle x_2; b_1 \rangle, \quad \text{kde } x_2 = \frac{a_1 + b_1}{2}.$$

Ak  $f(x_2) = 0$ , potom máme koreň. V opačnom prípade označíme  $\langle a_2; b_2 \rangle = \langle a_1; x_2 \rangle$  pre  $f(x_2) > 0$  a  $\langle a_2; b_2 \rangle = \langle x_2; b_1 \rangle$  pre  $f(x_2) < 0$ . Potom platí:

$$f(a_2) < 0 < f(b_2), \quad \langle a_2; b_2 \rangle \subset \langle a_1; b_1 \rangle, \quad b_2 - a_2 = \frac{b_1 - a_1}{2} = \frac{b_0 - a_0}{2^2}.$$

Ak budeme týmto spôsobom pokračovať ďalej, potom sú dve možnosti. Buď po konečnom počte krokov dostaneme bod  $x_k$ , pre ktorý platí  $f(x_k) = 0$  alebo dostaneme nekonečnú postupnosť do seba vložených intervalov  $\{\langle a_n; b_n \rangle\}_{n=1}^{\infty}$ . Potom pre všetky  $n \in \mathbb{N}$  platí:

$$f(a_n) < 0 < f(b_n), \quad \langle a_n; b_n \rangle \subset \langle a_{n-1}; b_{n-1} \rangle, \quad b_n - a_n = \frac{b_{n-1} - a_{n-1}}{2} = \frac{b_0 - a_0}{2^n}.$$

Z Cantorovho princípu do seba vložených intervalov (veta 2.1.31) potom vyplýva, že existuje práve jeden bod  $c$  taký, že pre všetky  $n \in \mathbb{N}$  platí  $c \in \langle a_n; b_n \rangle$ .

Ukážeme, že platí  $f(c) = 0$ . Z vlastností postupností  $\{a_n\}_{n=1}^{\infty}$ ,  $\{b_n\}_{n=1}^{\infty}$  vyplýva:

$$\lim_{n \rightarrow \infty} (b_n - a_n) = 0, \quad \lim_{n \rightarrow \infty} a_n = \lim_{n \rightarrow \infty} b_n = c.$$

Ak uvážime, že je funkcia  $f$  spojitá v bode  $c$ , potom platí:

$$f(c) = \lim_{n \rightarrow \infty} f(a_n) \leq 0 \leq \lim_{n \rightarrow \infty} f(b_n) = f(c), \quad \text{t. j. } f(c) = 0. \quad \blacksquare$$

**Poznámka 3.3.16.K3-poz65**

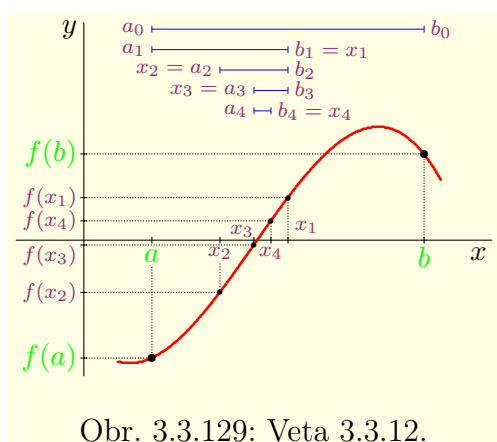
Metóda, ktorú sme použili v dôkaze vety 3.3.12 sa nazýva **metóda postupného delenia intervalu** (**metóda polenia**, resp. **metóda bisekcie**) a často sa používa pri numerickom hľadaní koreňov danej funkcie, t. j. pri riešení rovnice  $f(x) = 0$ .

Koreň rovnice  $f(x) = 0$  aproximujeme hodnotou  $x_{n+1} = \frac{a_n + b_n}{2}$  tak, aby platilo

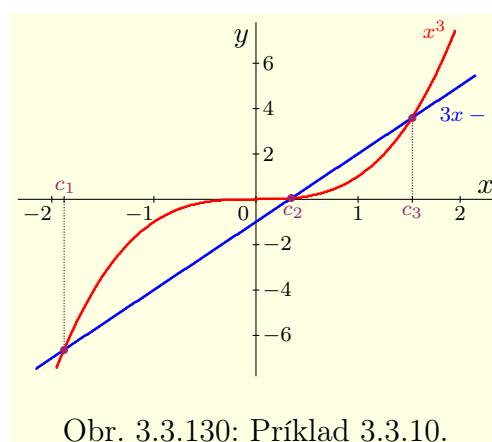
$$b_n - a_n < \varepsilon, \quad \text{resp. } |f(x_{n+1})| < \varepsilon,$$

kde  $\varepsilon > 0$  je dopredu zvolená tolerancia (chyba výpočtu). Vo veľkej väčšine prípadov sa požaduje splnenie obidvoch predchádzajúcich podmienok.

Metóda bisekcie je pomerne jednoduchá, lenže je dosť pracná. Na spresnenie koreňa o jeden rád potrebuje približne 4 kroky, preto sa väčšinou používa iba ako štartovacia metóda na získanie počiatočných hodnôt pre iné metódy.



Obr. 3.3.129: Veta 3.3.12.



Obr. 3.3.130: Príklad 3.3.10.

**Príklad 3.3.10.K3-pr94**

Nájdite s presnosťou  $\varepsilon = 0,01$  korene funkcie  $f: y = x^3 - 3x + 1$ .

**Riešenie.**

Z priesečníkov (obr. 3.3.130 — kvôli prehľadnosti je súradnicová os  $x$  zväčšená 4,5 krát vzhľadom na súradnicovú os  $y$ ) grafov funkcií  $y = x^3$ ,  $y = 3x - 1$  odhadneme, že korene funkcie  $f$  sú tri a ležia v intervaloch  $\langle -2; -1 \rangle$ ,  $\langle 0; 1 \rangle$ ,  $\langle 1; 2 \rangle$ .

Toto tvrdenie dokážeme pomocou vety 3.3.12. Funkcia  $f$  je spojitá a platí:

$$f(-2) = -1, \quad f(-1) = 3, \quad f(0) = 1, \quad f(1) = -1, \quad f(2) = 3.$$

Z toho vyplýva  $f(-2)f(-1) = -3 < 0$ ,  $f(0)f(1) = -1 < 0$ ,  $f(1)f(2) = -3 < 0$ .

Takže náš odhad pre intervaly, v ktorých ležia korene funkcie  $f$ , bol správny.

Pomocou metódy bisekcie nájdeme s presnosťou  $\varepsilon = 0,01$  koreň z intervalu  $\langle 0; 1 \rangle$ . Na jeho nájdenie budeme potrebovať minimálne  $k$  krokov, pričom pre  $k \in \mathbb{N}$  platí:

$$b_k - a_k = \frac{b_0 - a_0}{2^k} = \frac{1 - 0}{2^k} = 2^{-k} < \varepsilon = 10^{-2}, \quad \text{t. j. } 10^2 = 100 < 2^k.$$

Najmenšie  $k \in \mathbb{N}$  vyhovujúce predchádzajúcej nerovnosti je  $k = 7$ .

Postup riešenia je znázornený v tabuľke 3.3.4 a koreňom je číslo  $x_8 = 0,34765625$ , ktorého odchýlka od skutočného koreňa je menšia ako  $0,00390625$ , t. j. menšia ako  $\varepsilon = 0,01$ .

Keby sme požadovali iba presnosť  $|f(c)| < \varepsilon$ , postačil by nám koreň  $x_5 = 0,34375$ .

Keby sme požadovali iba presnosť  $b_n - a_n < \varepsilon$ , postačil by nám koreň  $x_7 = 0,3515625$ .

Na záver pre porovnanie s uvádzame všetky tri korene (vypočítané nenumericky s presnosťou na deväť desiatinných miest)

$$c_1 = -1,879\,385\,242, \quad c_2 = 0,347\,296\,355, \quad c_3 = 1,532\,088\,886.$$

Rozdiel medzi  $x_8 = 0,347\,656\,25$  a skutočným koreňom  $c_2$  je  $x_8 - c_2 = 0,000\,359\,895$ . ■

k	$a_k$ [ $f(a_k) > 0$ ]	$b_k$ [ $f(b_k) < 0$ ]	$x_{k+1}$	$f(x_{k+1})$		$b_k - a_k$
0	0,0	1,0	0,5	-0,375	$\rightarrow b_1$	1,0
1	0,0	0,5	0,25	0,265 625	$\rightarrow a_2$	0,5
2	0,25	0,5	0,375	-0,072 265 625	$\rightarrow b_3$	0,25
3	0,25	0,375	0,312 5	0,093 0175 78	$\rightarrow a_4$	0,125
4	0,312 5	0,375	0,343 75	0,009 368 896	$\rightarrow a_5$	0,062 5
5	0,343 75	0,375	0,359 375	-0,031 711 578	$\rightarrow b_6$	0,031 25
6	0,343 75	0,359 375	0,351 562 5	-0,011 235 714	$\rightarrow b_7$	0,015 625
7	0,343 75	0,351 562 5	0,347 656 25	-0,000 949 323	$\rightarrow b_8$	0,007 812 5
8	0,343 75	0,347 656 25				0,003 906 25

Tabuľka 3.3.4: Riešenie rovnice  $x^3 - 3x + 1 = 0$  z príkladu 3.3.10 metódou bisekcie.

Z Cauchyho vety o nulovej hodnote vyplývajú mnohé dôsledky. Jedným z najvýznamnejších dôsledkov je nasledujúca veta o medzihodnote a za ňou nasledujúca veta 3.3.14.

### Veta 3.3.13 (O medzihodnote).K3-veta46

Nech je funkcia  $f$  spojitá na intervale  $I \subset \mathbb{R}$  a nech  $a, b \in I$ . Potom  $f$  nadobúda všetky hodnoty medzi  $f(a)$  a  $f(b)$ , t. j. pre všetky  $q \in J$ , kde  $J$  je otvorený interval s koncovými bodmi  $f(a)$  a  $f(b)$ , existuje číslo  $p \in (a; b)$  také, že platí  $f(p) = q$ .

#### Dôkaz.

Ak  $f(a) = f(b)$ , potom je taká hodnota iba jedna a tvrdenie vety platí.

Nech  $f(a) < q < f(b)$  (viď obr 3.3.131). Označme  $g: y = f(x) - q$ ,  $x \in (a; b)$ , potom platí  $f(a) - q = g(a) < 0 < g(b) = f(b) - q$ . Potom (veta 3.3.12) existuje  $p \in (a; b)$  také, že  $g(p) = f(p) - q = 0$ , t. j.  $f(p) = q$ . Pre  $f(a) > q > f(b)$  je dôkaz analogický. ■

#### Dôsledok 3.3.13.a.K3-dosl14

Ak je funkcia  $f$  spojitá na intervale  $I \subset \mathbb{R}$ , potom je množina  $f(I)$  súvislá.

#### Dôkaz.

Sporom. Nech nie je  $f(I)$  súvislá. Potom existujú  $\alpha, \beta, \gamma \in \mathbb{R}$ ,  $\alpha < \gamma < \beta$ , pre ktoré platí  $\alpha, \beta \in f(I)$ ,  $\gamma \notin f(I)$ . To znamená, že neexistuje  $p \in I$ , pre ktoré platí  $f(p) = \gamma$ .

Z predchádzajúcej vety ale vyplýva, že také  $p \in I$ ,  $f(p) = \gamma$  existuje. To je spor. ■

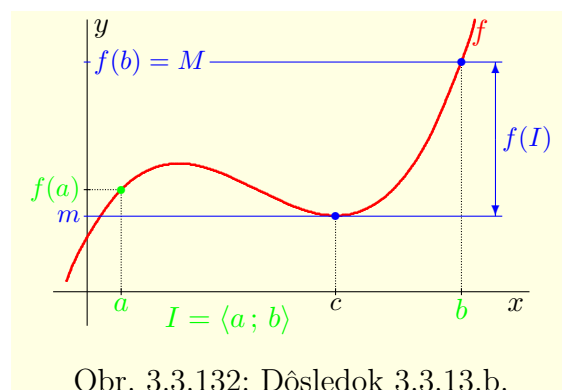
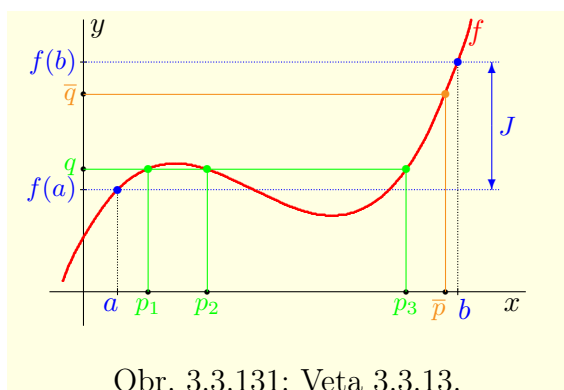
#### Dôsledok 3.3.13.b.K3-dosl15

Ak je  $f$  na intervale  $I \subset \mathbb{R}$  spojitá, potom  $f(I)$  je jednobodová množina alebo interval.

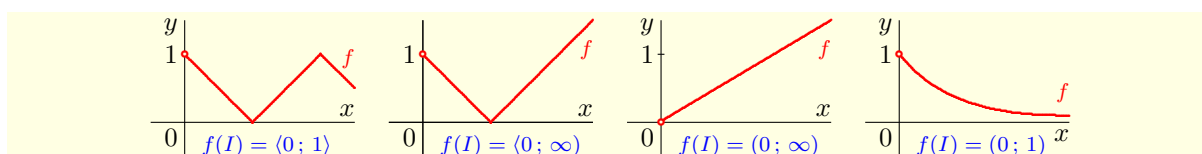
#### Dôkaz.

Ak je  $f$  konštantná, t. j.  $f(x) = c$ ,  $x \in I$ , potom  $f(I) = \{c\} = \langle c; c \rangle$ .

Ak nie je  $f$  konštantná, potom  $f(I)$  je súvislá (obr. 3.3.132) a obsahuje aspoň dva rôzne body. Potom z princípu súvislosti (veta 2.1.24) vyplýva, že  $f(I)$  je interval. ■

**Poznámka 3.3.17.K3-poz67**

Ak je interval  $I$  uzavretý a ohraničený, potom aj  $f(I)$  je uzavretý a ohraničený a na základe vety 3.3.10 platí  $f(I) = \langle m; M \rangle$ , pričom  $m = \min f(x)$ ,  $M = \max f(x)$ ,  $x \in I$ .

**Poznámka 3.3.18.K3-poz68**

Ak je funkcia  $f$  na intervale  $I$  spojitá, ale  $I$  nie je uzavretý alebo ohraničený, potom vo všeobecnosti typ intervalu  $f(I)$  určiť nevieme (obr. 3.3.133).

Ale ak je funkcia  $f$  rýdzo monotónna, potom interval  $f(I)$  má rovnaký typ ako  $I$ .

Nech je funkcia  $f$  na intervale  $I$  (nemusí byť ohraničený) rastúca [resp. klesajúca]. Ak označíme  $\alpha = \lim_{x \rightarrow a^+} f(x)$ ,  $\beta = \lim_{x \rightarrow b^-} f(x)$ , potom pre intervaly  $(a; b)$ ,  $\langle a; b \rangle$ ,  $(a; b]$  platí:

$$f((a; b)) = (\alpha; \beta) \quad [\text{resp. } (\beta; \alpha)], \quad f(\langle a; b \rangle) = \langle f(a); \beta \rangle \quad [\text{resp. } (\beta; f(a))],$$

$$f((a; b]) = \langle \alpha; f(b) \rangle \quad [\text{resp. } \langle f(b); \alpha \rangle].$$

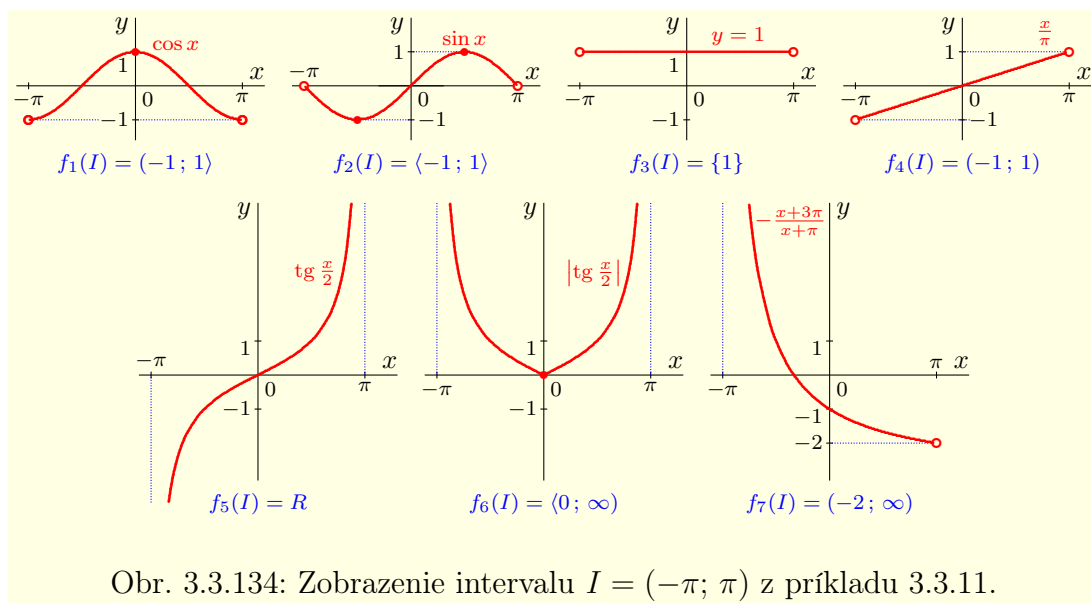
**Príklad 3.3.11.K3-pr95**

Spojité funkcie môžu zobraziť interval  $I = (-\pi; \pi)$  na rôzne intervaly, napr. (obr. 3.3.134)

$$f_1(x) = \cos x: I \rightarrow (-1; 1), \quad f_2(x) = \sin x: I \rightarrow \langle -1; 1 \rangle,$$

$$f_3(x) = 1: I \rightarrow \{1\}, \quad f_4(x) = \frac{x}{\pi}: I \rightarrow (-1; 1), \quad f_5(x) = \operatorname{tg} \frac{x}{2}: I \rightarrow \mathbb{R},$$

$$f_6(x) = \left| \operatorname{tg} \frac{x}{2} \right|: I \rightarrow \langle 0; \infty \rangle, \quad f_7(x) = -\frac{2x}{x+\pi} - 1 = -\frac{3x+\pi}{x+\pi}: I \rightarrow (0; \infty). \blacksquare$$

Obr. 3.3.134: Zobrazenie intervalu  $I = (-\pi; \pi)$  z príkladu 3.3.11.**Veta 3.3.14.K3-veta47**

Nech je funkcia  $f$  spojitá na intervale  $I \subset \mathbb{R}$ .

Potom je  $f$  na intervale  $I$  prostá práve vtedy, ak je na intervale  $I$  rýdzo monotónna.

**Dôkaz.**

$NP_{\Rightarrow}$ : Sporom. Nech je funkcia  $f$  prostá a nie je rýdzo monotónna.

Potom existujú body  $x_1, x_2, x_3 \in I$ ,  $x_1 < x_2 < x_3$  také, že platí:

$$f(x_1) < f(x_2), f(x_3) < f(x_2), \quad \text{resp.} \quad f(x_1) > f(x_2), f(x_3) > f(x_2).$$

Keďže je funkcia  $f$  prostá, platí  $f(x_1) \neq f(x_3)$  a môžu nastať štyri prípady. Ich dôkaz je podobný a preto dokážeme iba prípad  $f(x_1) < f(x_3) < f(x_2)$  (obr. 3.3.135).

Potom (veta o medzihodnote) existuje  $p \in (x_1; x_2)$  také, že  $f(p) = f(x_3)$ . Keďže  $p \neq x_3$ , dostali sme spor s tým, že je  $f$  prostá.

$PP_{\Leftarrow}$ : Vyplýva z vety 3.1.5. ■

**Veta 3.3.15.K3-veta48**

Nech je funkcia  $f$  na intervale  $I$  monotónna a nech množina  $f(I)$  je interval alebo jednoprvková množina.

Potom je funkcia  $f$  na intervale  $I$  spojitá.

**Dôkaz.**

Ak  $f(I) = \{a\}$ , potom je  $f$  na intervale  $I$  konštantná, t. j. aj spojitá.

Ak  $f(I)$  je interval, dokážeme sporom. Nech  $f$  nie je spojitá v bode  $a \in I$ .

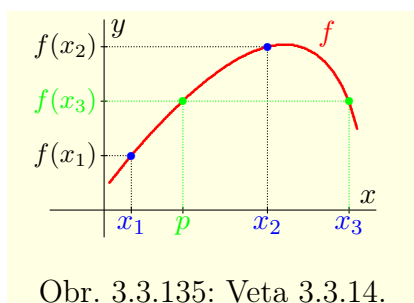
Funkcia  $f$  je monotónna na intervale  $I$  a bod  $a$  je hromadným bodom  $I$ .

Potom z vety 3.2.13 vyplýva, že existujú jednostranné limity

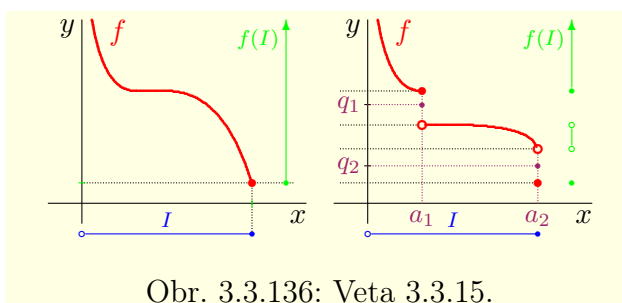
$$\lim_{x \rightarrow a^-} f(x), \quad \lim_{x \rightarrow a^+} f(x), \quad \text{pričom} \quad \lim_{x \rightarrow a^-} f(x) \neq \lim_{x \rightarrow a^+} f(x).$$

To znamená, že funkcia  $f$  má v bode  $a$  skok (obr. 3.3.136) a že aspoň jedno  $q \in f(I)$  nemá svoj vzor.

T. j. neexistuje  $p \in I$ , aby platilo  $f(p) = q$ . Potom  $f(I)$  nie je interval. Spor. ■



Obr. 3.3.135: Veta 3.3.14.



Obr. 3.3.136: Veta 3.3.15.

**Veta 3.3.16 (O spojitosti inverznej funkcie).K3-veta49**

Ak je  $f$  prostá a spojitá na intervale  $I$ , potom inverzná funkcia  $f^{-1}$  je spojitá na  $f(I)$ .

**Dôkaz.**

Z vety 3.3.14 vyplýva, že funkcia  $f: I \rightarrow f(I)$  je rýdzo monotónna.

Z vety 3.1.6 vyplýva, že aj funkcia  $f^{-1}: f(I) \rightarrow I$  je rýdzo monotónna.

Zo spojitosti a nekonštantnosti  $f$  vyplýva (dôsledok 3.3.13.b), že obraz  $f(I)$  je interval.

Potom z vety 3.3.15 vyplýva, že funkcia  $f^{-1}$  je spojitá na  $f(I)$ . ■

Ak uvážime všetky doterajšie výsledky o spojitých funkciách, môžeme vysloviť tvrdenie, že **všetky základné elementárne funkcie<sup>62</sup> sú spojité.**

Pretože každú elementárnu funkciu dostaneme zo základných elementárnych funkcií

$$y = \text{konšt.}, \quad y = x, \quad y = e^x, \quad y = \ln x, \quad y = \sin x, \quad y = \arcsin x, \quad y = \arctg x$$

pomocou algebraických operácií sčítania, odčítania, násobenia, delenia a pomocou skladania funkcií, môžeme vysloviť nasledujúcu vetu.

**Veta 3.3.17.K3-veta50**

Každá elementárna funkcia je spojitá na nejakom intervale.

**Príklad 3.3.12.K3-pr92**

- Racionálna celistvá funkcia (polynóm)  $y = a_0 + a_1x + \dots + a_nx^n$  je spojitá na  $R$ .
- Racionálna lomená funkcia  $y = \frac{a_0+a_1x+\dots+a_nx^n}{b_0+a_1x+\dots+b_mx^m}$  je spojitá na  $R$ , okrem nulových bodov menovateľa.
- Exponenciálna funkcia  $y = a^x$ ,  $a > 0$  je spojitá na množine  $R$ .
- Logaritmická funkcia  $y = \log_a x$ ,  $a > 0$  je spojitá na intervale  $(0; \infty)$ .
- Mocninná funkcia  $y = x^r = e^{r \ln x}$ ,  $r \in R$  (str. 192) je spojitá na  $(0; \infty)$ , resp.  $\langle 0; \infty)$ .
- Goniometrické funkcie  $y = \sin x$ ,  $y = \cos x$  sú spojité na  $R$ ,  $y = \text{tg } x$  je spojitá na množine  $R - \{\frac{\pi}{2} + k\pi; k \in Z\}$  a  $y = \text{cotg } x$  je spojitá na množine  $R - \{k\pi; k \in Z\}$ .
- Cyklometrické funkcie  $y = \arcsin x$ ,  $y = \arccos x$  sú spojité na intervale  $\langle -1; 1)$  a funkcie  $y = \text{arctg } x$ ,  $y = \text{arccotg } x$  sú spojité na  $R$ .
- Hyperbolické funkcie  $y = \sinh x$ ,  $y = \cosh x$ ,  $y = \text{tgh } x$  sú spojité na množine  $R$  a funkcia  $y = \text{cotgh } x$  je spojitá na  $R - \{0\}$ .
- Hyperbolometrická funkcia  $y = \text{argsinh } x$  je spojitá na  $R$ , funkcia  $y = \text{argcosh } x$  na intervale  $\langle 1; \infty)$ , funkcia  $y = \text{argtgh } x$  na intervale  $(-1; 1)$  a funkcia  $y = \text{argcotgh } x$  na intervaloch  $(-\infty; -1)$  a  $(1; \infty)$ . ■

<sup>62</sup>Bližšie sme sa im venovali v časti 3.1.3.

## Cvičenia

3.3.1. **V-3-01** Určite spojitosť a charakter bodov nespojitosti funkcie: ♣

- |                                      |                                      |                             |                               |
|--------------------------------------|--------------------------------------|-----------------------------|-------------------------------|
| a) $y = x \sin \frac{1}{x}$ ,        | b) $y = \frac{1}{\sin x}$ ,          | c) $y = \frac{1}{\ln x}$ ,  | d) $y = \frac{x}{ x }$ ,      |
| e) $y = \lfloor \sin x \rfloor$ ,    | f) $y = \lfloor \cos x \rfloor$ ,    | g) $y = \ln  \sin x $ ,     | h) $y = \ln  \cos x $ ,       |
| i) $y = \sin \frac{1}{x}$ ,          | j) $y = \cos \frac{1}{x}$ ,          | k) $y = \frac{1}{1+x^2}$ ,  | l) $y = \frac{x^2}{ x^2 }$ ,  |
| m) $y = \operatorname{sgn} \sin x$ , | n) $y = \operatorname{sgn} \cos x$ , | o) $y = \sqrt{3-x^2}$ ,     | p) $y = \sqrt{3- x }$ ,       |
| q) $y = \frac{\sin x}{x}$ ,          | r) $y = \frac{\sin x}{ x }$ ,        | s) $y = \frac{x}{\sin x}$ , | t) $y = \arctg \frac{1}{x}$ . |

3.3.2. **B-3-02**  $a \in \mathbb{R}$  tak, aby bola funkcia  $f$  spojitá na svojom  $D(f)$ , ak: ♣

- |  |   |
|--|---|
| a) $f(x) = \begin{cases} a - x^2, & \text{pre } x < 0, \\ x + 2, & \text{pre } x \geq 0, \end{cases}$      | b) $f(x) = \begin{cases} a - x^2, & \text{pre } x < 0, \\ a - x, & \text{pre } x \geq 0, \end{cases}$ |
| c) $f(x) = \begin{cases} ax, & \text{pre } x < 1, \\ 2 - \frac{x}{a}, & \text{pre } x \geq 1, \end{cases}$ | d) $f(x) = \begin{cases} e^{ax}, & \text{pre } x < 0, \\ a - x, & \text{pre } x \geq 0. \end{cases}$  |

3.3.3. **B-3-17**  $a, b \in \mathbb{R}$  tak, aby bola funkcia  $f$  spojitá na svojom  $D(f)$ , ak: ♣

- |  |  |
|--|--|
| a) $f(x) = \begin{cases} a - x^2, & \text{pre } x \in (-\infty; 0), \\ x + 2, & \text{pre } x \in (0; 2), \\ 3x + b, & \text{pre } x \in (2; \infty), \end{cases}$ | b) $f(x) = \begin{cases} x^2 - a, & \text{pre } x \in (-\infty; b), \\ x + 2, & \text{pre } x \in (b; a), \\ 3x + b, & \text{pre } x \in (a; \infty). \end{cases}$ |
|--|--|

3.3.4. **B-3-03**  $f(0)$  tak, aby bola funkcia  $f$  spojitá v bode 0, ak pre  $x \neq 0$  platí: ♣

- |                                    |  |  |
|------------------------------------|--|--|
| a) $f(x) = \frac{\sin x}{2x}$ ,    | b) $f(x) = \frac{\sqrt[4]{1+x}-1}{x}$ ,    | c) $f(x) = \frac{(x+2)^2-4}{x}$ ,                  |
| d) $f(x) = (1+2x)^{\frac{1}{x}}$ , | e) $f(x) = x^2 + e^{-\frac{1}{x^2}} - 1$ , | f) $f(x) = \frac{\sqrt{1+x}-1}{\sqrt[3]{1+x-1}}$ . |

3.3.5. **N-3-04** Je funkcia  $f$  nespojitá v bode  $a \in D(f)$ . Aká je funkcia  $|f|$  v bode  $a$ ? ♣

3.3.6. **Z-3-05** Ujete funkciu, ktorá je definovaná na množine  $\mathbb{R}$ , je všade spojitá a má práve 0, 1, 2, ...,  $n$ , ( $n \in \mathbb{N}$ ), resp. nespočítateľne veľa bodov nespojitosti. ♣

3.3.7. **Z-3-06** Ujete funkciu, ktorá je definovaná na množine  $\mathbb{R}$ , je všade nespojitá a má práve 0, 1, 2, ...,  $n$ , ( $n \in \mathbb{N}$ ), resp. spočítateľne veľa bodov spojitosti. ♣

3.3.8. **N-3-07** Sú funkcie  $f, g$  nespojité v bode  $a \in D(f) \cap D(g)$ . Zistite, aké sú nasledujúce funkcie v bode  $a$ . Svoje tvrdenie ilustrujte konkrétnymi príkladmi. ♣

- |              |                    |           |             |             |               |
|--------------|--------------------|-----------|-------------|-------------|---------------|
| a) $f + g$ , | b) $\frac{g}{f}$ , | c) $fg$ , | d) $f(f)$ , | e) $f(g)$ , | f) $ f(g) $ . |
|--------------|--------------------|-----------|-------------|-------------|---------------|

3.3.9. **N-3-08** Je funkcia  $f$  spojitá a funkcia  $g$  nespojitá v bode  $a \in D(f) \cap D(g)$ . Zistite, aké sú nasledujúce funkcie v bode  $a$ . Svoje tvrdenie ilustrujte konkrétnymi príkladmi. ♣

- |              |                    |           |             |             |               |
|--------------|--------------------|-----------|-------------|-------------|---------------|
| a) $f + g$ , | b) $\frac{g}{f}$ , | c) $fg$ , | d) $g(f)$ , | e) $f(g)$ , | f) $ f(g) $ . |
|--------------|--------------------|-----------|-------------|-------------|---------------|

3.3.10. **B-3-09** množiny, na ktorých sú spojité funkcie  $f(g), g(f)$ , ak  $f(x) = \operatorname{sgn} x$  a platí: ♣

- |                                     |  |                                       |
|-------------------------------------|--|---------------------------------------|
| a) $g(x) = x(1-x^2)$ ,              | b) $g(x) = (-1)^{\lfloor x \rfloor}$ , | c) $g(x) = \operatorname{sgn}(1-x)$ , |
| d) $g(x) = 1+x-\lfloor x \rfloor$ , | e) $g(x) = 1+x\lfloor x \rfloor$ ,     | f) $g(x) = 1-\chi(x)$ .               |

3.3.11. **D-3-10** Dokážte, že ak sú na množine  $A$  spojité funkcie  $f, g$ , potom sú na množine  $A$  spojité aj funkcie  $y = \min \{f(x), g(x)\}$ ,  $y = \max \{f(x), g(x)\}$ ,  $x \in A$ .



**3.3.12.** Metóda bisekcie s presnosťou  $\varepsilon = 0,01$  nájdite všetky korene funkcie  $f$ : ♣

- a)  $f(x) = x^3 + 2x - 11$ ,                      c)  $f(x) = e^x + x$ ,                      b)  $f(x) = x^3 - 6x^2 + \frac{1}{x} + 5$ ,  
 d)  $f(x) = \ln x - 3 + x$ ,                      e)  $f(x) = e^{x^2-1} - x - 1$ ,                      f)  $f(x) = \cos x^2 + x - 1$ .

**3.3.13.** Dokážte, že daná rovnica má riešenie na intervale  $I$  a nájdite toto riešenie. ♣

- a)  $x^4 - 4x^3 + 5x - 1 = 0$ ,  $I = \langle 0; 1 \rangle$ ,                      b)  $x^4 - 4x^3 + 5x - 1 = 0$ ,  $I = \langle 1; 2 \rangle$ ,  
 c)  $x^3 - x - 1 = 0$ ,  $I = \langle 1; 2 \rangle$ ,                      d)  $\cos x - x = 0$ ,  $I = \langle 0; 1 \rangle$ ,  
 e)  $x + \arcsin x^2 = 0$ ,  $I = \langle -1; 0 \rangle$ ,                      f)  $x + \sin(x - 1) = 0$ ,  $I = \langle 0; 1 \rangle$ .

**3.3.14.** Nájdite množinu  $f(I)$ , ak: ♣

- a)  $I = \langle \pi; \frac{3\pi}{2} \rangle$ ,  $f(x) = \sin 2x$ ,                      b)  $I = \langle -2; 4 \rangle$ ,  $f(x) = x^2 + 2$ ,  
 c)  $I = \langle 0; \infty \rangle$ ,  $f(x) = x \lfloor x \rfloor$ ,                      d)  $I = \langle 0; 4\pi \rangle$ ,  $f(x) = x \lfloor \sin x \rfloor$ ,  
 e)  $I = \langle 0; \infty \rangle$ ,  $f(x) = \chi(x^2 + 1)$ ,                      f)  $I = (0; 1)$ ,  $f(x) = \frac{1}{x^2 - x}$ .

**3.3.15.** Nech  $f$  je funkcia  $f$  spojitá na intervale  $(a; b)$  a nech  $x_1, x_2, \dots, x_n \in (a; b)$ ,  $n \in \mathbb{N}$ . Dokážte, že existuje  $c \in (a; b)$  také, že platí  $f(c) = \frac{f(x_1) + f(x_2) + \dots + f(x_n)}{n}$ .

**3.3.16.** Dokážte, či je funkcia  $f$  rovnomerne spojitá na množine  $A$ , ak: ♣

- a)  $f(x) = 2x - 1$ ,  $A = \mathbb{R}$ ,                      b)  $f(x) = x^2 - 2x + 1$ ,  $A = \langle -1; 1 \rangle$ ,  
 c)  $f(x) = \frac{\sin x}{x}$ ,  $A = (0; \pi)$ ,                      d)  $f(x) = \frac{x}{4 - x^2}$ ,  $A = \langle -1; 1 \rangle$ ,  
 e)  $f(x) = \sin x^2$ ,  $A = \langle 0; \infty \rangle$ ,                      f)  $f(x) = x \sin x$ ,  $A = \langle 0; \infty \rangle$ ,  
 g)  $f(x) = \cos \frac{1}{x}$ ,  $A = (0, 1; 1)$ ,                      h)  $f(x) = \cos \frac{1}{x}$ ,  $A = (0; 1)$ ,  
 i)  $f(x) = \sqrt[3]{x}$ ,  $A = \langle 0; \infty \rangle$ ,                      j)  $f(x) = \ln x$ ,  $A = \langle 1; \infty \rangle$ .

**3.3.17.** Dokážte, že ak je  $f$  na  $\mathbb{R}$  spojitá a periodická, potom je rovnomerne spojitá.

*Niektoré charaktery sú nezlomné, pretože sú pružné.*

**STANISŁAV JERZY LEC**

*Niet divu, že je na univerzitách toľko učenosti.*

*Každý jej niečo prinesie a nijakú neodnesie.*

**AMY LOWELL**

*Chlstatat umí každej vúl, když má žízeň.*

*Ale ten kluk pije pro radost. Tak to má být!*

**J. MATĚJKA**

*Je stále lepší byť ženatý, ako byť mŕtvy.*

**JEAN BAPTISTE MOLIÉRE**

*Súdruh, spi rýchlejšie!*

**MICHAIL ZOŠČENKO**

# Kapitola 4

## Diferenciálny počet reálnej funkcie reálnej premennej

### 4.1 Derivácia reálnej funkcie

#### 4.1.1 Definícia derivácie funkcie a jej základné vlastnosti

Základným pojmom diferenciálneho počtu je pojem derivácie. K zavedeniu pojmu derivácie funkcie viedli predovšetkým dva problémy, ktoré sú uvedené v nasledujúcich príkladoch. Prvým je problém určiť okamžitú rýchlosť priamočiareho pohybu hmotného bodu a druhým je problém určiť rovnicu dotyčnice grafu reálnej funkcie v danom bode.

##### Príklad 4.1.1.K4-pr01

Uvažujme hmotný bod  $H$ , ktorý sa pohybuje po priamke (obr. 4.1.1) a jeho pohyb je opísaný funkciou  $s(t)$ , závislou od času  $t$ . Čas začneme merať od okamihu  $t_0$  a bod na priamke, v ktorom sa práve hmotný bod  $H$  nachádza, nazveme počiatok  $P_0$ .

Ak sa v čase  $t > t_0$  nachádza hmotný bod  $H$  v bode  $P$ , potom  $s(t)$  predstavuje dĺžku úsečky  $P_0P$ . Označme  $Q$  polohu hmotného bodu  $H$  v čase  $t + \Delta t$ , kde  $\Delta t \neq 0$ .

Úsečka  $PQ$  predstavuje dráhu, ktorú prejde hmotný bod od okamihu  $t$  po  $t + \Delta t$ , t. j. v časovom intervale  $\Delta t$ . Ak označíme  $\Delta s = s(t + \Delta t) - s(t)$ , potom priemernú rýchlosť  $\bar{v}$  hmotného bodu  $H$  v časovom intervale  $\Delta t$  môžeme vyjadriť vzťahom

$$\bar{v} = \frac{\Delta s}{\Delta t} = \frac{s(t+\Delta t) - s(t)}{\Delta t}.$$

Ak sa bude časový interval  $\Delta t$  znižovať, t. j. ak  $\Delta t \rightarrow 0$ , potom sa bude priemerná rýchlosť  $\bar{v}$  približovať k okamžitej rýchlosti  $v(t)$  v čase  $t$ . To znamená, že platí:

$$v(t) = \lim_{\Delta t \rightarrow 0} \bar{v} = \lim_{\Delta t \rightarrow 0} \frac{\Delta s}{\Delta t} = \lim_{\Delta t \rightarrow 0} \frac{s(t+\Delta t) - s(t)}{\Delta t}. \blacksquare$$

##### Príklad 4.1.2.K4-pr02

Uvažujme spojitú reálnu funkciu  $y = f(x)$  a bod  $P = [x_0; f(x_0)]$  ležiaci na grafe funkcie  $f$ . Rovnica dotyčnice  $d_P$  k funkcii  $f$  v bode  $P$  má tvar

$$y - f(x_0) = k(x - x_0) = \operatorname{tg} \varphi (x - x_0) \quad \text{t. j.} \quad \operatorname{tg} \varphi = \frac{y - f(x_0)}{x - x_0},$$

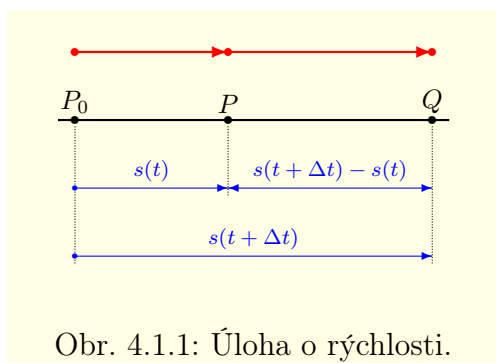
kde  $k = \operatorname{tg} \alpha$  je smernica dotyčnice  $d_P$ . Ak  $Q = [x; f(x)]$  je ľubovoľný bod ležiaci na grafe funkcie  $f$  (obr. 4.1.2), potom pre smernicu priamky  $PQ$  platí:

$$\operatorname{tg} \alpha = \frac{f(x) - f(x_0)}{x - x_0}.$$

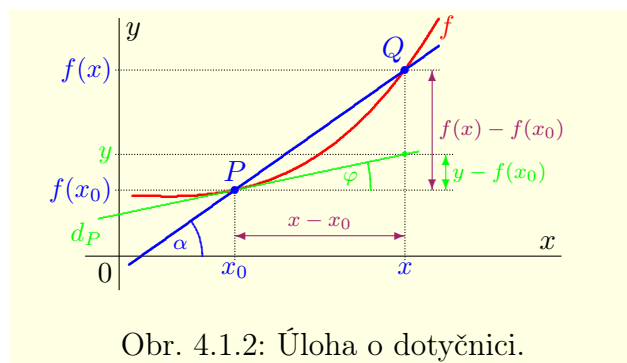
Ak sa bude bod  $Q$  približovať k bodu  $P$ , t. j. ak  $x \rightarrow x_0$ , potom sa bude priamka  $PQ$  približovať k dotýčnici  $d_P$ . To znamená, že bude platiť  $\alpha \rightarrow \varphi$ ,  $\operatorname{tg} \alpha \rightarrow \operatorname{tg} \varphi$ .

Smernicu  $\operatorname{tg} \varphi$  môžeme potom vyjadriť v tvare

$$\operatorname{tg} \varphi = \lim_{\alpha \rightarrow \varphi} \operatorname{tg} \alpha = \lim_{x \rightarrow x_0} \frac{f(x) - f(x_0)}{x - x_0}. \blacksquare$$



Obr. 4.1.1: Úloha o rýchlosti.



Obr. 4.1.2: Úloha o dotýčnici.

Po matematickej stránke vedú obidva príklady na rovnakú limitu, ktorá sa v praxi používa veľmi často a nazýva sa **derivácia funkcie**.

Nech  $f$  je funkcia definovaná v nejakom okolí bodu  $x_0 \in D(f)$ . Hovoríme, že **funkcia  $f$  má v bode  $x_0$  deriváciu**, ak existuje (aj nevlastná) limita<sup>1</sup>

$$\lim_{x \rightarrow x_0} \frac{f(x) - f(x_0)}{x - x_0} = \lim_{h \rightarrow 0} \frac{f(x_0 + h) - f(x_0)}{h}, \quad (4.1)$$

ktorú označujeme  $f'(x_0)$ , resp.  $f'(x)|_{x=x_0}$  a nazývame **derivácia funkcie  $f$  v bode  $x_0$** .

Podľa toho, či je limita (4.1) vlastná alebo nevlastná, hovoríme o **vlastnej**<sup>2</sup> alebo **nevlastnej derivácii funkcie  $f$  v bode  $x_0$** .

#### Poznámka 4.1.1.K4-poz02

Ak je reálna funkcia  $f$  definovaná vzorcom  $y = f(x)$ , označujeme deriváciu funkcie  $f$  v bode  $x_0 \in D(f)$  tiež vzťahmi  $y'(x_0)$ , resp.  $y'(x)|_{x=x_0}$ .

Často sa používa označenie pomocou diferenciálov,<sup>3</sup> ktoré zaviedol G. W. Leibniz

$$\frac{df(x_0)}{dx} = \frac{d}{dx} f(x_0) = \left. \frac{df(x)}{dx} \right|_{x=x_0}, \quad \text{resp.} \quad \frac{dy(x_0)}{dx} = \frac{d}{dx} y(x_0) = \left. \frac{dy(x)}{dx} \right|_{x=x_0}.$$

Tieto vzťahy čítame **derivácia funkcie  $f$  podľa  $x$  v bode  $x_0$** , resp. stručne  **$df(x_0)$  podľa  $dx$** . V súvislom texte sa používa zápis  $df(x_0)/dx$ , resp.  $dy(x_0)/dx$ .

#### Príklad 4.1.3.K4-pr03

Vypočítajte deriváciu funkcie  $f: y = x^2 + x + 1$  v bode  $x_0 = 1$ .

**Riešenie.**

Keďže  $f(1) = 1^2 + 1 + 1 = 3$ ,  $f(1 + h) = (1 + h)^2 + (1 + h) + 1 = 3 + 3h + h^2$ , potom platí:

$$f'(1) = \lim_{h \rightarrow 0} \frac{f(1+h) - f(1)}{h} = \lim_{h \rightarrow 0} \frac{3+3h+h^2-3}{h} = \lim_{h \rightarrow 0} (3+h) = 3. \blacksquare$$

<sup>1</sup>Použijeme substitúciu  $h = x - x_0$ .

<sup>2</sup>Pokiaľ nebude uvedené ináč, budeme pod pojmom derivácia rozumieť vlastnú deriváciu.

<sup>3</sup>Bližšie sa im budeme venovať neskôr.

**Príklad 4.1.4.K4-pr04**

Uvažujme konštantnú funkciu  $f: y = c$ , kde  $c \in \mathbb{R}$ .

Nech  $x_0 \in \mathbb{R}$  je ľubovoľné číslo, potom platí  $f(x_0) = f(x_0 + h) = c$ . Z toho vyplýva:

$$f'(x_0) = \lim_{h \rightarrow 0} \frac{f(x_0+h) - f(x_0)}{h} = \lim_{h \rightarrow 0} \frac{c-c}{h} = \lim_{h \rightarrow 0} 0 = 0. \blacksquare$$

**Príklad 4.1.5.K4-pr05**

Nech  $n \in \mathbb{N}$  a nech  $x_0 \in \mathbb{R}$ . Vypočítajte deriváciu funkcie  $f: y = x^n$  v bode  $x_0$ .

**Riešenie.**

Na základe vzťahu  $x^n - x_0^n = (x - x_0)(x^{n-1} + x^{n-2}x_0 + \dots + x x_0^{n-2} + x_0^{n-1})$  platí:

$$\begin{aligned} f'(x_0) &= \lim_{x \rightarrow x_0} \frac{x^n - x_0^n}{x - x_0} = \lim_{x \rightarrow x_0} (x^{n-1} + x^{n-2}x_0 + \dots + x_0^{n-1}) = \\ &= x_0^{n-1} + x_0^{n-2}x_0 + \dots + x_0 x_0^{n-2} + x_0^{n-1} = n x_0^{n-1}. \blacksquare \end{aligned}$$

**Veta 4.1.1.K4-veta01**

Ak má funkcia  $f$  v bode  $x_0$  vlastnú deriváciu, potom je v bode  $x_0$  spojitá.

**Dôkaz.**

Na základe vety 3.3.1 stačí ukázať, že platí:

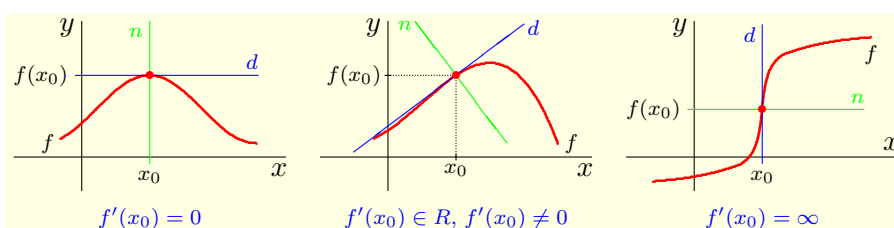
$$\lim_{x \rightarrow x_0} f(x) = f(x_0), \quad \text{t. j.} \quad \lim_{x \rightarrow x_0} f(x) - f(x_0) = \lim_{x \rightarrow x_0} [f(x) - f(x_0)] = 0.$$

Keďže  $f'(x_0) = \lim_{x \rightarrow x_0} \frac{f(x) - f(x_0)}{x - x_0}$  je konečné a  $\lim_{x \rightarrow x_0} [x - x_0] = 0$ , potom platí:

$$\lim_{x \rightarrow x_0} [f(x) - f(x_0)] = \lim_{x \rightarrow x_0} \frac{f(x) - f(x_0)}{x - x_0} [x - x_0] = f'(x_0) \lim_{x \rightarrow x_0} [x - x_0] = f'(x_0) \cdot 0 = 0. \blacksquare$$

**Poznámka 4.1.2.K4-poz01**

Ako dokazuje príklad 4.1.6, opačná implikácia neplatí. To znamená, že spojitosť funkcie v danom bode nezaručuje existenciu derivácie v tomto bode.



Obr. 4.1.3: Dotyčnica a normála k funkcii  $f$  v bode  $[x_0; f(x_0)]$ .

Z geometrického hľadiska (príklad 4.1.2) predstavuje vlastná derivácia funkcie  $f$  v bode  $x_0$  smernicu priamky, ktorú nazývame **dotyčnica** (**dotyčnica so smernicou**) **ku grafu funkcie  $f$  v bode  $[x_0; f(x_0)]$**  a ktorá je určená rovnicou

$$y = f(x_0) + f'(x_0)(x - x_0). \quad (4.2)$$

Ak je derivácia  $f'(x_0)$  nevlastná a  $f$  je spojitá v bode  $x_0$ , potom **dotyčnicou bez smernice ku grafu funkcie  $f$  v bode  $[x_0; f(x_0)]$**  nazývame priamku, ktorá je rovnobežná s osou  $y$ , kolmá na os  $x$  a prechádza bodom  $[x_0; f(x_0)]$ , t. j. priamku  $x = x_0$ .

**Normálou ku grafu funkcie  $f$  v bode  $[x_0; f(x_0)]$**  nazývame priamku, ktorá prechádza bodom  $[x_0; f(x_0)]$  a je kolmá na dotyčnicu ku grafu funkcie  $f$  v tomto bode.

Ak  $f'(x_0) = 0$ , potom je dotyčnica (obrázok 4.1.3) rovnobežná s osou  $x$  a jej rovnica má tvar  $y = f(x_0)$ . V tomto prípade za normálu považujeme priamku  $x = x_0$ .

Ak má dotyčnica tvar  $x = x_0$ , t. j.  $f'(x_0) = \pm\infty$ , potom má normála tvar  $y = f(x_0)$ .

Ak existuje konečná derivácia  $f'(x_0) \neq 0$ , potom má normála tvar<sup>4</sup>

$$y - f(x_0) = -\frac{1}{f'(x_0)}(x - x_0), \quad \text{t. j. } y = f(x_0) - \frac{1}{f'(x_0)}(x - x_0). \quad (4.3)$$

### 4.1.2 Jednostranné derivácie a derivácia na množine

Nech  $f$  je funkcia definovaná v nejakom ľavom okolí bodu  $x_0 \in D(f)$ . Hovoríme, že **funkcia  $f$  má v bode  $x_0$  deriváciu zľava**, ak existuje limita

$$f'_-(x_0) = \lim_{x \rightarrow x_0^-} \frac{f(x) - f(x_0)}{x - x_0} = \lim_{h \rightarrow 0^-} \frac{f(x_0 + h) - f(x_0)}{h},$$

ktorú nazývame **derivácia funkcie  $f$  zľava v bode  $x_0$** .

Nech  $f$  je funkcia definovaná v nejakom pravom okolí bodu  $x_0 \in D(f)$ . Hovoríme, že **funkcia  $f$  má v bode  $x_0$  deriváciu sprava**, ak existuje limita

$$f'_+(x_0) = \lim_{x \rightarrow x_0^+} \frac{f(x) - f(x_0)}{x - x_0} = \lim_{h \rightarrow 0^+} \frac{f(x_0 + h) - f(x_0)}{h},$$

ktorú nazývame **derivácia funkcie  $f$  sprava v bode  $x_0$** .

Deriváciu zľava a sprava súhrnne nazývame **jednostranné derivácie funkcie  $f$  v bode  $x_0$**  a deriváciu nazývame **obojstrannou deriváciou funkcie  $f$  v bode  $x_0$** .

Z vlastností jednostranných limít (veta 3.2.11) a z definície jednostranných derivácií priamo vyplýva nasledujúca veta.

#### Veta 4.1.2.K4-veta02

Funkcia  $f$  má v bode  $x_0$  deriváciu  $f'(x_0)$  práve vtedy, ak má v bode  $x_0$  jednostranné derivácie  $f'_-(x_0)$ ,  $f'_+(x_0)$  a platí  $f'_-(x_0) = f'_+(x_0)$ .

#### Príklad 4.1.6.K4-pr06

Funkcia  $f: y = |x|$  je spojitá v každom bode  $D(f)$ , t. j. aj v bode  $x_0 = 0$ .

Funkcia  $f$  nemá v bode  $x_0 = 0$  deriváciu, pretože pre jednostranné derivácie platí:

$$f'_-(0) = \lim_{x \rightarrow 0^-} \frac{|x| - |0|}{x - 0} = \lim_{x \rightarrow 0^-} \frac{-x}{x} = -1, \quad f'_+(0) = \lim_{x \rightarrow 0^+} \frac{|x| - |0|}{x - 0} = \lim_{x \rightarrow 0^+} \frac{x}{x} = 1. \blacksquare$$

#### Príklad 4.1.7.K4-pr07

Vypočítajte deriváciu funkcie  $f: y = \operatorname{sgn} x$  v bode  $x_0 \in \mathbb{R}$ .

#### Riešenie.

Funkcia  $f$  je spojitá v každom bode  $x_0 \in \mathbb{R} - \{0\}$  a v bode 0 je nespojitá (obr. 2.1.5).

Keďže  $f(x_0) = -1$  pre  $x_0 \in (-\infty; 0)$ , potom na základe príkladu 4.1.4 platí  $f'(x_0) = 0$ . Analogicky zo vzťahu  $f(x_0) = 1$  pre  $x_0 \in (0; \infty)$  vyplýva  $f'(x_0) = 0$ .

<sup>4</sup>Priamky  $y = kx + a$ ,  $y = qx + b$  (t. j.  $kx - y + a = 0$ ,  $qx - y + b = 0$ ) sú na seba kolmé, ak sú na seba kolmé ich normálové vektory  $(k; -1)$ ,  $(q; -1)$ . To znamená, ak platí  $kq + (-1)(-1) = kq + 1 = 0$ , t. j.  $q = -\frac{1}{k}$ .

Ak  $x_0 = 0$ , potom  $f'(0) = \infty$ . Vyplýva to z nasledujúcich vzťahov

$$f'_-(0) = \lim_{x \rightarrow 0^-} \frac{\operatorname{sgn} x - \operatorname{sgn} 0}{x-0} = \lim_{x \rightarrow 0^-} \frac{-1-0}{x} = - \lim_{x \rightarrow 0^-} \frac{1}{x} = -(-\infty) = \infty,$$

$$f'_+(0) = \lim_{x \rightarrow 0^+} \frac{\operatorname{sgn} x - \operatorname{sgn} 0}{x-0} = \lim_{x \rightarrow 0^+} \frac{1-0}{x} = \lim_{x \rightarrow 0^+} \frac{1}{x} = \infty. \blacksquare$$

Už sme spomínali, že ak má funkcia  $f$  v bode  $x_0$  vlastnú deriváciu, potom je v tomto bode spojitá (veta 4.1.1). Analogické tvrdenie platí aj pre jednostranné derivácie.

#### Veta 4.1.3.K4-veta03

Ak má funkcia  $f$  v bode  $x_0$  vlastnú deriváciu zľava [resp. vlastnú deriváciu sprava], potom je v bode  $x_0$  spojitá zľava [resp. spojitá sprava].

#### Dôsledok 4.1.3.a.K4-dosl02

Ak má funkcia  $f$  v bode  $x_0$  obidve jednostranné derivácie vlastné, potom je v  $x_0$  spojitá.

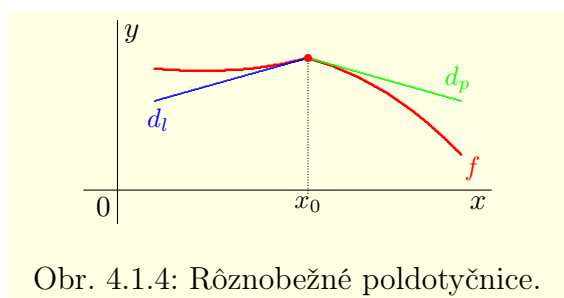
#### Poznámka 4.1.3.K4-poz05

Z geometrického hľadiska predstavujú jednostranné derivácie funkcie  $f$  v bode  $x_0$  smernice tzv. ľavej [resp. pravej] poldotyčnice ku grafu funkcie  $f$  v bode  $[x_0; f(x_0)]$ . To znamená polpriamky vychádzajúce z bodu  $x_0$  a dotýkajúce sa grafu funkcie  $f$  v bode  $[x_0; f(x_0)]$  v ľavom [resp. pravom] okolí bodu  $x_0$ .

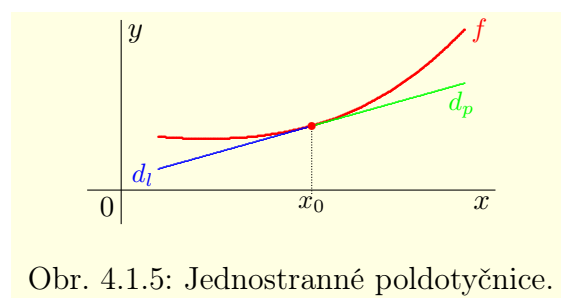
Graf funkcie, ktorá má v bode  $[x_0; f(x_0)]$  dve rôznobežné jednostranné poldotyčnice  $d_l, d_p$  je na obrázku 4.1.4. Ak má funkcia  $f$  v bode  $x_0$  obe jednostranné derivácie a platí  $f'_-(x_0) = f'_+(x_0)$ , potom sa poldotyčnice spoja do jednej dotyčnice (obr. 4.1.5).

#### Poznámka 4.1.4.K4-poz13

Funkcia  $f: y = |x|$  z príkladu 4.1.6 je spojitá v bode 0. V bode 0 má rôzne jednostranné derivácie  $f'_-(0) = -1$ ,  $f'_+(0) = 1$ . To znamená, že v tomto bode nemá deriváciu.



Obr. 4.1.4: Rôznobežné poldotyčnice.



Obr. 4.1.5: Jednostranné poldotyčnice.

Uvažujme reálnu funkciu  $y = f(x)$ . Označme  $M \subset D(f)$  množinu všetkých bodov, v ktorých má funkcia  $f$  (konečnú) deriváciu. Ak  $M \neq \emptyset$ , potom môžeme definovať pre všetky  $x_0 \in M$  funkciu  $g$  vzťahom  $g(x_0) = f'(x_0)$ . Funkciu  $g$  nazývame **derivácia funkcie  $f$  na množine  $M$**  a označujeme  $f', y'$ , resp.  $y = f'(x)$ ,  $x \in M$ , resp.  $\frac{df}{dx}$ ,  $\frac{dy}{dx}$ .

#### Poznámka 4.1.5.K4-poz03

Derivácia funkcie  $f$  v bode  $x_0 \in D(f)$  je číslo  $f'(x_0)$ , prípadne  $\pm\infty$  a derivácia funkcie  $f$  na množine  $A \subset D(f)$  je funkcia  $y = f'(x)$ ,  $x \in A$ .

Množina  $M$ , na ktorej je definovaná funkcia  $f'$  je obyčajne interval alebo zjednotenie intervalov. Derivácia funkcie  $f$  na intervale  $\langle a; b \rangle$ , podobne ako spojitosť, znamená obojstrannú deriváciu  $f'(x)$  pre všetky  $x \in (a; b)$  a jednostranné derivácie  $f'_+(a)$ ,  $f'_-(b)$ .

Z definície derivácie funkcie  $f$  na množine  $M$  a z viet 4.1.1 a 4.1.3 vyplýva priamo nasledujúce tvrdenie.

#### Veta 4.1.4.K4-veta04

Ak má funkcia  $f$  na množine  $M$  deriváciu  $f'$ , potom je na množine  $M$  spojitá.

Významný je tiež prípad, keď je funkcia  $f'$  spojitá na množine, špeciálne na intervale. V tomto prípade zavádzame pojem hladká funkcia. Hovoríme, že **funkcia  $f$  je hladká na intervale  $I \subset R$** , ak je funkcia  $f'$  na intervale  $I$  spojitá.

#### Poznámka 4.1.6.K4-poz04

Predpokladajme, že je funkcia  $f$  hladká na intervale  $(a; b)$ . Z geometrického hľadiska to znamená, že ak bod  $x$  prebieha cez celý interval  $(a; b)$ , potom sa hodnota smernice dotyčnice ku grafu funkcie  $f$  v bode  $[x; f(x)]$  mení „spojite“.

#### Príklad 4.1.8.K4-pr08

Vypočítajte derivácie funkcií  $y = \sin x$ ,  $y = \cos x$ ,  $y = e^x$  na množine  $R$ .

#### Riešenie.

Z príkladu 3.2.41 vyplýva, že pre všetky  $x_0 \in R$  platí:

$$[\sin x_0]' = \lim_{x \rightarrow x_0} \frac{\sin x - \sin x_0}{x - x_0} = \cos x_0, \quad [\cos x_0]' = \lim_{x \rightarrow x_0} \frac{\cos x - \cos x_0}{x - x_0} = -\sin x_0.$$

To znamená, že pre všetky  $x \in R$  platí  $[\sin x]' = \cos x$ ,  $[\cos x]' = -\sin x$ .

Pre všetky  $x \in R$  na základe príkladu 3.2.48 platí:

$$[e^x]' = \lim_{h \rightarrow 0} \frac{e^{x+h} - e^x}{h} = \lim_{h \rightarrow 0} e^x \frac{e^h - 1}{h} = e^x \cdot \lim_{h \rightarrow 0} \frac{e^h - 1}{h} = e^x \cdot 1 = e^x. \blacksquare$$

#### Príklad 4.1.9.K4-pr24

Nájdite dotyčnicu a normálu ku funkcii  $f: y = \sin x$  v bodoch  $0, \frac{\pi}{2}, \pi$ .

#### Riešenie.

Pre hodnoty funkcie  $f$  v bodoch  $x_1 = 0, x_2 = \frac{\pi}{2}, x_3 = \pi$  platí:

$$f(x_1) = \sin 0 = 0, \quad f(x_2) = \sin \frac{\pi}{2} = 1, \quad f(x_3) = \sin \pi = 0.$$

Z príkladu 4.1.8 vyplýva, že pre hodnoty funkcie  $f'$  v bodoch  $x_1, x_2, x_3$  platí:

$$f'(x_1) = \cos 0 = 1, \quad f'(x_2) = \cos \frac{\pi}{2} = 0, \quad f'(x_3) = \cos \pi = -1.$$

Pre rovnice príslušných dotyčníc  $d_1, d_2, d_3$  na základe vzťahu (4.2) platí:

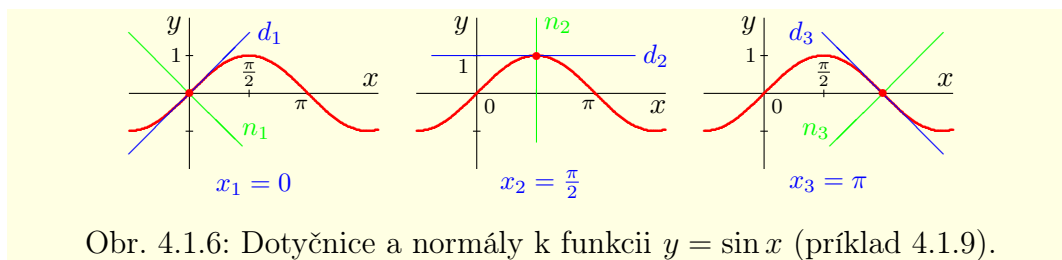
$$d_1: y = 0 + 1(x - 0), \quad d_2: y = 1 + 0 \left(x - \frac{\pi}{2}\right), \quad d_3: y = 0 - 1(x - \pi).$$

Potom rovnice dotyčníc (obr. 4.1.6) sú  $d_1: y = x, d_2: y = 1, d_3: y = \pi - x$ .

Pre rovnice príslušných normál  $n_1, n_2, n_3$  analogicky zo vzťahu (4.3) vyplýva:

$$n_1: y = 0 - 1(x - 0) = -x, \quad n_2: x = \frac{\pi}{2}, \quad n_3: y = 0 + 1(x - \pi) = x - \pi. \blacksquare$$



Obr. 4.1.6: Dotyčnice a normály k funkcii  $y = \sin x$  (príklad 4.1.9).**Príklad 4.1.10.K4-pr25**

Nájdite rovnice dotyčnic k funkciám  $f$  a  $|f|$  v bode  $x_0$ , ak  $x_0 \in D(f)$  je ľubovoľné a  $f$  je daná vzťahom  $y = \sqrt{1-x^2}$  pre  $x \in \langle -1; 1 \rangle$  a  $y = -\sqrt{1-(x-2)^2}$  pre  $x \in \langle 1; 3 \rangle$ .

**Riešenie.**

Pre všetky  $x \in \langle -1; 1 \rangle$  platí  $|f(x)| = f(x)$  a pre všetky  $x \in \langle 1; 3 \rangle$  platí  $|f(x)| = -f(x)$ .

Grafy funkcií  $f$  a  $|f|$  tvoria dve polkružnice (obr. 4.1.7) s polomerom 1 a so stredmi v bode  $[0; 0]$  a v bode  $[2; 0]$ . Na intervale  $\langle -1; 1 \rangle$  sú funkcie  $f$  a  $|f|$  totožné. Z geometrickej predstavy je zrejmé, že grafy týchto funkcií majú dotyčnice vo všetkých bodoch.

Najprv vypočítame derivácie funkcií  $y = \sqrt{1-x^2}$ ,  $y = \sqrt{1-(x-2)^2}$ . Platí

$$\left[ (1-x^2)^{\frac{1}{2}} \right]' = \frac{(1-x^2)^{-\frac{1}{2}}}{2} (-2x) = \frac{-x}{\sqrt{1-x^2}} \quad \text{pre } x \in \langle -1; 1 \rangle,$$

$$\left[ (1-(x-2)^2)^{\frac{1}{2}} \right]' = \frac{[1-(x-2)^2]^{-\frac{1}{2}}}{2} [-2(x-2)] = \frac{2-x}{\sqrt{1-(x-2)^2}} \quad \text{pre } x \in \langle 1; 3 \rangle.$$

Potom pre rovnicu dotyčnice ku grafu  $f$  a aj  $|f|$  v bode  $x_0 \in \langle -1; 1 \rangle$  platí:

$$d: y = f(x_0) + f'(x_0)(x-x_0) = \sqrt{1-x_0^2} - \frac{x_0}{\sqrt{1-x_0^2}}(x-x_0) = \frac{1-xx_0}{\sqrt{1-x_0^2}}.$$

Pre rovnicu dotyčnice ku grafu  $f$  v bode  $x_0 \in \langle 1; 3 \rangle$  platí:

$$d: y = -\sqrt{1-(x_0-2)^2} + \frac{x_0-2}{\sqrt{1-(x_0-2)^2}}(x-x_0) = \frac{-1+(x-2)(x_0-2)}{\sqrt{1-(x_0-2)^2}}$$

a pre rovnicu dotyčnice ku grafu  $|f|$  v bode  $x_0 \in \langle 1; 3 \rangle$  platí:

$$d: y = \sqrt{1-(x_0-2)^2} - \frac{x_0-2}{\sqrt{1-(x_0-2)^2}}(x-x_0) = \frac{1-(x-2)(x_0-2)}{\sqrt{1-(x_0-2)^2}}.$$

Keďže je výraz  $\sqrt{1-x^2}$  nezáporný pre všetky  $x \in \langle -1; 1 \rangle$ , potom platí:

$$f'_+(-1) = \lim_{x \rightarrow -1^+} \frac{-x}{\sqrt{1-x^2}} = \infty, \quad f'_-(1) = \lim_{x \rightarrow 1^-} \frac{-x}{\sqrt{1-x^2}} = -\infty.$$

Analogicky platí  $f'_+(1) = -\infty$ ,  $f'_-(3) = \infty$ . Potom dotyčnica bez smernice ku grafom funkcií  $f$  a  $|f|$  má v bode  $[-1; 0]$  tvar  $d_{-1}: x = -1$ , v bode  $[1; 0]$  tvar  $d_1: x = 1$  a v bode  $[3; 0]$  tvar  $d_3: x = 3$ . Na obrázku 4.1.7 sú znázornené iba poldotyčnice. ■

**4.1.3 Základné vety pre výpočet derivácií**

Pri praktickom výpočte derivácií, t. j. pri **derivovaní** rôznych funkcií spravidla nepoužívame definíciu. Používame rôzne vzorce a pravidlá, z ktorých si niektoré odvodíme.

**Veta 4.1.5.K4-veta05**

Nech majú funkcie  $f, g$  derivácie na množine  $M \neq \emptyset$  a nech  $c \in R$ .

Potom existujú derivácie funkcií  $cf$ ,  $f \pm g$ ,  $fg$  na množine  $M$  a derivácia funkcie  $\frac{f}{g}$  na množine  $M_1 = \{x \in M; g(x) \neq 0\}$ . Navyše pre všetky  $x \in M$ , resp.  $x \in M_1$  platí:



**Poznámka 4.1.8.K4-poz07**

Z vety 4.1.5 a), b) vyplýva vzťah  $[c_1f_1 + c_2f_2]' = c_1f_1' + c_2f_2'$ , ktorý môžeme zovšeobecniť pre konečný počet funkcií  $f_1, \dots, f_n$  a  $c_1, \dots, c_n \in R$ ,  $n \in N$  nasledujúcim spôsobom

$$[c_1f_1 + c_2f_2 + \dots + c_nf_n]' = c_1f_1' + c_2f_2' + \dots + c_nf_n', \quad \text{t. j.} \quad \left[ \sum_{k=1}^n c_k f_k \right]' = \sum_{k=1}^n c_k f_k'.$$

**Poznámka 4.1.9.K4-poz24**

Vzťah c) vo vete 4.1.5 môžeme rozšíriť pre tri funkcie  $f_1, f_2, f_3$  na vzťah

$$[f_1f_2f_3]' = [(f_1f_2)f_3]' = (f_1'f_2 + f_1f_2')f_3 + f_1f_2f_3' = f_1'f_2f_3 + f_1f_2'f_3 + f_1f_2f_3'$$

a zovšeobecniť pre konečný počet funkcií  $f_1, f_2, \dots, f_n$ ,  $n \in N$

$$[f_1f_2 \dots f_n]' = f_1'f_2 \dots f_n + f_1f_2' \dots f_n + \dots + f_1f_2 \dots f_n'.$$

**Príklad 4.1.12.K4-pr10**

Vypočítajte deriváciu funkcie  $f: y = \frac{x^3}{x^2-2}$ .

**Riešenie.**

Keďže  $x^2 - 2 = (x - \sqrt{2})(x + \sqrt{2})$ , potom pre všetky  $x \in R - \{\pm\sqrt{2}\}$  platí:

$$f'(x) = \frac{(x^3)'(x^2-2) - x^3(x^2-2)'}{(x^2-2)^2} = \frac{3x^2(x^2-2) - x^3(2x-0)}{(x^2-2)^2} = \frac{x^4 - 6x^2}{(x^2-2)^2}. \blacksquare$$

**Príklad 4.1.13.K4-pr11**

Nech  $n \in N$ . Vypočítajte deriváciu funkcie  $f: y = x^{-n}$ .

**Riešenie.**

Z príkladu 4.1.5 a poznámky 4.1.7 vyplýva, že pre všetky  $x \in R - \{0\}$  platí:

$$[x^{-n}]' = \left[ \frac{1}{x^n} \right]' = \frac{-(x^n)'}{(x^n)^2} = \frac{-nx^{n-1}}{x^{2n}} = -nx^{n-1}x^{-2n} = -nx^{-n-1}. \blacksquare$$

**Príklad 4.1.14.K4-pr12**

Nájdite rovnicu priamky, ktorá je dotyčnicou grafu funkcie  $f: y = \frac{x}{x-1}$  a je rovnobežná s priamkou  $x + y - 2 = 0$ .

**Riešenie.**

Pre všetky  $x \in D(f) = R - \{1\}$  platí:

$$f'(x) = \left[ \frac{x}{x-1} \right]' = \frac{1 \cdot (x-1) - x(1-0)}{(x-1)^2} = \frac{x-1-x}{(x-1)^2} = \frac{-1}{(x-1)^2}.$$

Smernica priamky  $x + y - 2 = 0$ , t. j.  $y = -x + 2$  je  $k = -1$

Dotyčnica ku grafu funkcie  $f$  v bode  $[x_0; f(x_0)]$  má rovnicu  $y = f(x_0) + f'(x_0)(x - x_0)$  a smernicu  $k = f'(x_0)$ . Takže hľadáme  $x_0 \in D(f)$  tak, aby

$$f'(x_0) = \frac{-1}{(x_0-1)^2} = -1, \quad \text{t. j.} \quad (x_0 - 1)^2 = 1.$$

Táto rovnica má dve riešenia  $x_0 = 0$ , resp.  $x_0 = 2$ . Z toho vyplývajú dva dotykové body  $[0; 0]$ , resp.  $[2; 2]$  a teda aj dve dotyčnice, ktorých rovnice sú

$$y = 0 - 1(x - 0) = -x, \quad \text{resp.} \quad y = 2 - 1(x - 2) = 4 - x. \blacksquare$$

**Veta 4.1.6 (O derivácii inverznej funkcie).**K4-veta06

Nech  $y = f(x)$  je spojitá a rýdzomonotónna funkcia na intervale  $I \subset \mathbb{R}$ .

Nech  $x_0$  je vnútorný bod intervalu  $I$  a nech existuje  $f'(x_0) \neq 0$ . Označme  $y_0 = f(x_0)$ .

Potom inverzná funkcia  $x = f^{-1}(y)$  má deriváciu v bode  $y_0$  a platí:

$$[f^{-1}]'(y_0) = \frac{1}{f'(x_0)} \Big|_{x_0=f^{-1}(y_0)} = \frac{1}{f'(f^{-1}(y_0))}.$$

**Dôkaz.**

Z vety 3.3.14 vyplýva, že funkcia  $f$  je prostá a teda inverzná funkcia  $f^{-1}$  existuje.

Ak použijeme substitúciu  $y = f(x)$ , t. j.  $x = f^{-1}(y)$ , potom z definície derivácie vyplýva:

$$[f^{-1}]'(y_0) = \lim_{y \rightarrow y_0} \frac{f^{-1}(y) - f^{-1}(y_0)}{y - y_0} = \lim_{x \rightarrow x_0} \frac{x - x_0}{f(x) - f(x_0)} = \frac{1}{\lim_{x \rightarrow x_0} \frac{f(x) - f(x_0)}{x - x_0}} = \frac{1}{f'(x_0)}. \blacksquare$$

**Poznámka 4.1.10.**K4-poz08

Ak je podmienka  $f'(x_0) \neq 0$  splnená pre všetky  $x_0 \in I$ , potom môžeme zjednodušené písať

$$[f^{-1}]'(y) = \frac{1}{f'(x)} = \frac{1}{f'(f^{-1}(y))}, \quad \text{resp.} \quad \frac{df^{-1}(y)}{dy} = \frac{dx}{dy} = \frac{1}{\frac{dy}{dx}} = \frac{1}{\frac{df(x)}{dx}}.$$

**Príklad 4.1.15.**K4-pr13

a) Funkcia  $f: y = e^x$  je na  $\mathbb{R}$  spojitá a rastúca. Pre všetky  $x \in \mathbb{R}$  platí  $f'(x) = e^x \neq 0$ .

Pre deriváciu inverznej funkcie  $f^{-1}: x = \ln y, y > 0$  potom platí:

$$[\ln y]' = [f^{-1}]'(y) = \frac{1}{f'(x)} = \frac{1}{[e^x]'} = \frac{1}{e^x} = \frac{1}{e^{\ln y}} = \frac{1}{y}.$$

b) Funkcia  $f: y = \sin x$  je na  $(-\frac{\pi}{2}; \frac{\pi}{2})$  spojitá, rastúca a platí  $f'(x) = \cos x > 0$ .

Potom  $\cos x = \sqrt{1 - [\sin x]^2}$  a pre deriváciu funkcie  $f^{-1}: x = \arcsin y, y \in (-1; 1)$  platí:

$$[\arcsin y]' = \frac{1}{[\sin x]'} = \frac{1}{\cos x} = \frac{1}{\sqrt{1 - \sin^2 x}} = \frac{1}{\sqrt{1 - [\sin \arcsin y]^2}} = \frac{1}{\sqrt{1 - y^2}}.$$

c) Funkcia  $f: y = \cos x$  je na  $(0; \pi)$  spojitá, klesajúca a  $f'(x) = -\sin x < 0$ .

Keďže  $\sin x = \sqrt{1 - [\cos x]^2}$ ,  $x \in (0; \pi)$ , potom pre  $f^{-1}: x = \arccos y, y \in (-1; 1)$  platí:

$$[\arccos y]' = \frac{1}{[\cos x]'} = -\frac{1}{\sin x} = -\frac{1}{\sqrt{1 - \cos^2 x}} = -\frac{1}{\sqrt{1 - [\cos \arccos y]^2}} = -\frac{1}{\sqrt{1 - y^2}}.$$

d) Funkcia  $f: y = \operatorname{tg} x$  je na  $(-\frac{\pi}{2}; \frac{\pi}{2})$  spojitá, rastúca a  $f'(x) = \cos^{-2} x \neq 0$ .

Pre deriváciu inverznej funkcie  $f^{-1}: x = \operatorname{arctg} y, y \in \mathbb{R}$  platí:

$$[\operatorname{arctg} y]' = \frac{1}{[\operatorname{tg} x]'} = \frac{1}{\frac{1}{\cos^2 x}} = \frac{1}{\frac{\sin^2 x + \cos^2 x}{\cos^2 x}} = \frac{1}{\operatorname{tg}^2 x + 1} = \frac{1}{[\operatorname{tg} \operatorname{arctg} y]^2 + 1} = \frac{1}{y^2 + 1}.$$

e) Funkcia  $f: y = \operatorname{cotg} x$  je na  $(0; \pi)$  spojitá, klesajúca a  $f'(x) = -\sin^{-2} x \neq 0$ .

Pre deriváciu inverznej funkcie  $f^{-1}: x = \operatorname{arccotg} y, y \in \mathbb{R}$  platí:

$$[\operatorname{arccotg} y]' = \frac{1}{[\operatorname{cotg} x]'} = \frac{1}{\frac{-1}{\sin^2 x}} = \frac{-1}{1 + \frac{\cos^2 x}{\sin^2 x}} = \frac{-1}{1 + [\operatorname{cotg} \operatorname{arccotg} y]^2} = \frac{-1}{y^2 + 1}.$$

f) Nech  $n \in \mathbb{N}$  je ľubovoľné. Funkcia  $f: y = x^n$  je na  $(0; \infty)$  spojitá a rastúca. Keďže  $f'(x) = nx^{n-1} \neq 0$ ,

potom pre inverznú funkciu  $f^{-1}: x = \sqrt[n]{y} = y^{\frac{1}{n}}, y \in (0; \infty)$  platí:

$$[y^{\frac{1}{n}}]' = \frac{1}{[x^n]'} = \frac{1}{nx^{n-1}} = \frac{1}{n(y^{\frac{1}{n}})^{n-1}} = \frac{1}{ny^{\frac{n-1}{n}}} = \frac{1}{ny^{1-\frac{1}{n}}} = \frac{y^{\frac{1}{n}-1}}{n}. \blacksquare$$

**Poznámka 4.1.11.**K4-poz11

Funkcie  $y = \arcsin x$  a  $y = \arccos x$  majú derivácie tiež v bodoch  $\pm 1$ . Lenže na ich výpočet nemôžeme použiť vetu 4.1.6. Musíme ju najprv upraviť.

**Veta 4.1.7.K4-veta08**

Nech  $y = f(x)$  je spojitá a rýdzomonotónna (rastúca, resp. klesajúca) funkcia na intervale  $I \subset \mathbb{R}$ . Nech  $x_0 \in I$  je také, že platí  $f'(x_0) = 0$ . Označme  $y_0 = f(x_0)$ .

Potom platí  $[f^{-1}]'(y_0) = \infty$  pre  $f$  rastúcu a  $[f^{-1}]'(y_0) = -\infty$  pre  $f$  klesajúcu.

**Dôkaz.**

Ak použijeme substitúciu  $y = f(x)$ , t. j.  $x = f^{-1}(y)$ , potom z predpokladov vyplýva:

$$f'(x_0) = \lim_{x \rightarrow x_0} \frac{f(x) - f(x_0)}{x - x_0} = \lim_{y \rightarrow y_0} \frac{y - y_0}{f^{-1}(y) - f^{-1}(y_0)} = 0.$$

Predpokladajme, že je funkcia  $f$  rastúca (ak je klesajúca, dôkaz je analogický). Potom pre všetky  $x \in I$  platí  $f(x) - f(x_0) < 0$  pre  $x < x_0$  a  $f(x) - f(x_0) > 0$  pre  $x > x_0$ .

To znamená, že pre všetky  $x \in I$ ,  $x \neq x_0$  platí:

$$0 < \frac{f(x) - f(x_0)}{x - x_0} = \frac{y - y_0}{f^{-1}(y) - f^{-1}(y_0)}.$$

Táto nerovnosť platí pre všetky  $y \neq y_0$ . Takže sú splnené predpoklady vety 3.2.6 a platí:

$$[f^{-1}]'(y_0) = \lim_{y \rightarrow y_0} \frac{f^{-1}(y) - f^{-1}(y_0)}{y - y_0} = \infty. \blacksquare$$

**Príklad 4.1.16.K4-pr20**

a) Funkcia  $f: y = \sin x$  je na  $\langle -\frac{\pi}{2}; \frac{\pi}{2} \rangle$  spojitá, rastúca a platí:

$$f'(-\frac{\pi}{2}) = \cos(-\frac{\pi}{2}) = 0, \quad f'(\frac{\pi}{2}) = \cos \frac{\pi}{2} = 0.$$

Potom pre deriváciu inverznej funkcie  $f^{-1}: x = \arcsin y$  v bodoch  $\sin(\pm\frac{\pi}{2}) = \pm 1$  platí:

$$[\arcsin(-1)]' = [\arcsin 1]' = \infty.$$

b) Funkcia  $f: y = \cos x$  je na  $\langle 0; \pi \rangle$  spojitá, klesajúca a platí:

$$f'(0) = -\sin 0 = 0, \quad f'(\pi) = -\sin \pi = 0.$$

Pre deriváciu inverznej funkcie  $f^{-1}: x = \arccos y$  v bodoch  $\cos 0 = 1$ ,  $\cos \pi = -1$  platí:

$$[\arccos(-1)]' = [\arccos 1]' = -\infty. \blacksquare$$

**Veta 4.1.8 (O derivácii zloženej funkcie).K4-veta07**

Nech  $F(x) = g(f(x))$ ,  $x \in M \subset \mathbb{R}$  je zložená funkcia s vnútornou zložkou  $u = f(x)$ ,  $x \in M$  a vonkajšou zložkou  $y = g(u)$ ,  $u \in M_1$ , kde  $f(M) \subset M_1$ . Nech  $x_0 \in M$ ,  $u_0 = f(x_0)$ .

Ak existujú derivácie  $f'(x_0)$ ,  $g'(u_0)$ , potom tiež existuje derivácia  $F'(x_0)$  a platí:

$$F'(x_0) = [g(f(x_0))]' = g'(f(x_0)) \cdot f'(x_0) = g'(u_0) \cdot f'(x_0).$$

**Dôkaz.**

Z predpokladov vyplýva, že existujú vlastné limity

$$f'(x_0) = \lim_{x \rightarrow x_0} \frac{f(x) - f(x_0)}{x - x_0}, \quad g'(u_0) = \lim_{u \rightarrow u_0} \frac{g(u) - g(u_0)}{u - u_0}.$$

Ak použijeme substitúciu  $u = f(x)$ , potom z definície derivácie a z vety 3.2.9 vyplýva:

$$\begin{aligned} F'(x_0) &= \lim_{x \rightarrow x_0} \frac{F(x) - F(x_0)}{x - x_0} = \lim_{x \rightarrow x_0} \frac{g(f(x)) - g(f(x_0))}{x - x_0} = \\ &= \lim_{x \rightarrow x_0} \frac{g(f(x)) - g(f(x_0))}{f(x) - f(x_0)} \cdot \frac{f(x) - f(x_0)}{x - x_0} = \lim_{x \rightarrow x_0} \frac{g(f(x)) - g(f(x_0))}{f(x) - f(x_0)} \cdot \lim_{x \rightarrow x_0} \frac{f(x) - f(x_0)}{x - x_0} = \\ &= \lim_{u \rightarrow u_0} \frac{g(u) - g(u_0)}{u - u_0} \cdot \lim_{x \rightarrow x_0} \frac{f(x) - f(x_0)}{x - x_0} = g'(u_0) \cdot f'(x_0) = g'(f(x_0)) \cdot f'(x_0). \blacksquare \end{aligned}$$

**Poznámka 4.1.12.K4-poz09**

Ak existujú derivácie  $f'$  na  $M$  a  $g'$  na  $M_1$ , potom môžeme zjednodušene písať

$$F'(x) = [g(f)]'(x) = g'(u) \cdot f'(x), \quad \text{resp.} \quad \frac{dF(x)}{dx} = \frac{dy}{dx} = \frac{dy}{du} \cdot \frac{du}{dx} = \frac{dg(u)}{du} \cdot \frac{df(x)}{dx}.$$

**Príklad 4.1.17.K4-pr14**

Vypočítajte deriváciu funkcie  $F: y = \sqrt{1-x^2}, x \in \langle -1; 1 \rangle$ .

**Riešenie.**

Ak označíme  $f: u = 1 - x^2, x \in \langle -1; 1 \rangle$  a  $g: y = \sqrt{u}, u \in (0; \infty)$ , potom funkciu  $F$  môžeme zapísať v tvare  $F(x) = g(f(x)) = g(1 - x^2)$ . Pre derivácie  $f', g'$  platí:

$$f'(x) = [1 - x^2]' = -2x, \quad x \in \langle -1; 1 \rangle, \quad g'(u) = \left[ u^{\frac{1}{2}} \right]' = \frac{u^{-\frac{1}{2}}}{2} = \frac{1}{2\sqrt{u}}, \quad u \in (0; \infty).$$

Z toho vyplýva, že pre  $f(x) \neq 0$ , t. j.  $x \in \langle -1; 1 \rangle$  platí:

$$F'(x) = g'(f(x)) \cdot f'(x) = \frac{1}{2\sqrt{f(x)}} \cdot f'(x) = \frac{-2x}{2\sqrt{1-x^2}} = \frac{-x}{\sqrt{1-x^2}}.$$

Ešte musíme vypočítať derivácie v krajných bodoch  $x = \pm 1$ , t. j. derivácie  $F'_+(-1), F'_-(1)$ .

Keďže  $F(\pm 1) = 0, 1 + x > 0$  pre  $x \rightarrow -1^+$  a  $1 - x > 0$  pre  $x \rightarrow 1^-$ , potom platí:

$$F'_+(-1) = \lim_{x \rightarrow -1^+} \frac{\sqrt{1-x^2}-0}{x+1} = \lim_{x \rightarrow -1^+} \frac{\sqrt{(1-x)(1+x)}}{\sqrt{(1+x)^2}} = \lim_{x \rightarrow -1^+} \frac{\sqrt{1-x}}{\sqrt{1+x}} = \frac{2}{0} = \infty.$$

$$F'_-(1) = \lim_{x \rightarrow 1^-} \frac{\sqrt{1-x^2}-0}{x-1} = - \lim_{x \rightarrow 1^-} \frac{\sqrt{(1-x)(1+x)}}{\sqrt{(1-x)^2}} = - \lim_{x \rightarrow 1^-} \frac{\sqrt{1+x}}{\sqrt{1-x}} = -\frac{2}{0} = -\infty. \blacksquare$$

**Poznámka 4.1.13.K4-poz10**

Pri praktickom derivovaní zložených funkcií (aj viacnásobne zložených) výsledok zvyčajne píšeme priamo a jednotlivé zložky nevypisujeme.

**Príklad 4.1.18.K4-pr15**

a) Funkciu  $f: y = a^x, x \in R$ , kde  $a > 0, a \neq 1$  môžeme derivovať ako zloženú funkciu

$$[a^x]' = [e^{\ln a^x}]' = [e^{x \ln a}]' = e^{x \ln a} \cdot [x \ln a]' = e^{x \ln a} \cdot \ln a = a^x \ln a.$$

b) Funkciu  $f: y = x^a, x > 0$ , kde  $a \in R$  môžeme tiež derivovať ako zloženú funkciu

$$[x^a]' = [e^{\ln x^a}]' = [e^{a \ln x}]' = e^{a \ln x} \cdot [a \ln x]' = e^{a \ln x} \cdot \frac{a}{x} = x^a \cdot \frac{a}{x} = ax^{a-1}.$$

c) Pre deriváciu funkcie  $f: y = x^x, x > 0$  platí:

$$[x^x]' = [e^{\ln x^x}]' = [e^{x \ln x}]' = e^{x \ln x} \cdot [x \ln x]' = x^x [1 \cdot \ln x + x \cdot \frac{1}{x}] = x^x [1 + \ln x]. \blacksquare$$

**Príklad 4.1.19.K4-pr16**

Vypočítajte deriváciu funkcie  $f$  definovanej  $f(x) = x^2 \cos \frac{1}{x}$  pre  $x \neq 0$  a  $f(0) = 0$ .

**Riešenie.**

Pre všetky  $x \neq 0$  platí:

$$f'(x) = \left[ x^2 \cos \frac{1}{x} \right]' = 2x \cos \frac{1}{x} + x^2 \left[ -\sin \frac{1}{x} \right] \cdot \left[ -\frac{1}{x^2} \right] = 2x \cos \frac{1}{x} + \sin \frac{1}{x}.$$

Keďže je funkcia  $\cos \frac{1}{x}$  ohraničená, potom (dôsledok 3.2.4.c) platí:

$$f'(0) = \lim_{h \rightarrow 0} \frac{h^2 \cos \frac{1}{h} - 0}{h - 0} = \lim_{h \rightarrow 0} h \cos \frac{1}{h} = 0. \blacksquare$$

Na záver uvedieme jeden dôsledok vety o derivácii zloženej funkcie, ktorý môže v mnohých prípadoch zjednodušiť derivovanie zložitejších funkcií.

**Dôsledok 4.1.8.a (O logaritmickej derivácii).K4-dosl01**

Nech  $y = f(x)$ ,  $x \in M$  je reálna funkcia. Nech  $x_0 \in M$  je také, že existuje  $f'(x_0)$ .

Ak  $f(x_0) > 0$ , potom platí  $f'(x_0) = f(x_0) \cdot [\ln f(x_0)]'$ .

**Dôkaz.**

Ak označíme  $g: u = \ln y$ , potom funkcia  $F: u = g(f(x)) = \ln f(x)$  spĺňa predpoklady vety 4.1.8. Potom existuje derivácia  $F'(x_0) = [\ln f(x_0)]'$  a platí:

$$[\ln f(x_0)]' = \frac{1}{f(x_0)} \cdot f'(x_0) = \frac{f'(x_0)}{f(x_0)}, \quad \text{t. j. } f'(x_0) = f(x_0) \cdot [\ln f(x_0)]'. \blacksquare$$

Výraz  $[\ln f(x_0)]' = \frac{f'(x_0)}{f(x_0)}$  nazývame **logaritmická derivácia funkcie  $f$  v bode  $x_0$** . Ak sú predpoklady dôsledku splnené pre všetky  $x_0 \in M$ , potom hovoríme o **logaritmickej derivácii funkcie  $f$  na množine  $M$** .

**Príklad 4.1.20.K4-pr17**

Pre funkcie z príkladu 4.1.18 a), b), c) pomocou logaritmického derivovania platí:

a) Pre  $x \in \mathbb{R}$ ,  $a > 0$ ,  $a \neq 1$  platí  $[a^x]' = a^x [\ln a^x]' = a^x [x \ln a]' = a^x \ln a$ .

b) Pre  $x > 0$ ,  $a \in \mathbb{R}$  platí  $[x^a]' = x^a [\ln x^a]' = x^a [a \ln x]' = \frac{x^a a}{x} = ax^{a-1}$ .

c) Pre  $x > 0$  platí  $[x^x]' = x^x [\ln x^x]' = x^x [x \ln x]' = x^x [\ln x + \frac{x}{x}]' = x^x [1 + \ln x]'. \blacksquare$

**Príklad 4.1.21.K4-pr18**

Nech  $f, g$  sú reálne funkcie definované na množine  $M \subset \mathbb{R}$ . Ak pre všetky  $x \in M$  platí  $f(x) > 0$ , potom na množine  $M$  má zmysel funkcia  $F = f^g$ . Pre jej deriváciu platí:

$$[f(x)^{g(x)}]' = f(x)^{g(x)} [g(x) \ln f(x)]' = f(x)^{g(x)} \left[ g'(x) \ln f(x) + \frac{g(x)f'(x)}{f(x)} \right]. \blacksquare$$

#### 4.1.4 Derivovanie elementárnych funkcií

Nájsť deriváciu danej funkcie v tvare analytického vzorca je pomerne častá a dôležitá úloha pri riešení mnohých problémov nielen v matematickej analýze, ale aj v praxi. Základom týchto vzorcov sú elementárne funkcie a ich derivácie.

Na záver tejto časti zhrnieme vzorce derivácií základných elementárnych funkcií do tabuľky 4.1.1. Pre praktické potreby derivovania je nevyhnutné si tieto vzorce zapamätať.

**Príklad 4.1.22.K4-pr19**

Vypočítajte deriváciu funkcie  $f: y = \log_a x$ ,  $x > 0$ , kde  $a > 0$ ,  $a \neq 1$ .

**Riešenie.**

Pretože  $\ln a$  je vzhľadom na  $x$  konštanta, na základe vety 3.1.7 a príkladu 4.1.15 platí:

$$[\log_a x]' = \left[ \frac{\ln x}{\ln a} \right]' = \frac{[\ln x]'}{\ln a} = \frac{1}{x \ln a}. \blacksquare$$



Vzorec	podmienky platnosti	Vzorec	podmienky platnosti
$[c]' = 0,$	$x \in R, c \in R$	$[x]' = 1,$	$x \in R$
$[x^n]' = nx^{n-1},$	$x \in R, n \in N$	$[x^a]' = ax^{a-1},$	$x > 0, a \in R$
$[e^x]' = e^x,$	$x \in R$	$[a^x]' = a^x \ln a,$	$x \in R, a > 0$
$[\ln x]' = \frac{1}{x},$	$x > 0$	$[\log_a x]' = \frac{1}{x \ln a},$	$x > 0, a > 0, a \neq 1$
$[\ln  x ]' = \frac{1}{x},$	$x \neq 0$	$[\log_a  x ]' = \frac{1}{x \ln a},$	$x \neq 0, a > 0, a \neq 1$
$[\sin x]' = \cos x,$	$x \in R$	$[\cos x]' = -\sin x,$	$x \in R$
$[\operatorname{tg} x]' = \frac{1}{\cos^2 x},$	$x \neq (2k+1)\frac{\pi}{2}, k \in Z$	$[\operatorname{cotg} x]' = \frac{-1}{\sin^2 x},$	$x \neq k\pi, k \in Z$
$[\arcsin x]' = \frac{1}{\sqrt{1-x^2}},$	$x \in (-1; 1)$	$[\arccos x]' = \frac{-1}{\sqrt{1-x^2}},$	$x \in (-1; 1)$
$[\operatorname{arctg} x]' = \frac{1}{1+x^2},$	$x \in R$	$[\operatorname{arccotg} x]' = \frac{-1}{1+x^2},$	$x \in R$
$[\sinh x]' = \cosh x,$	$x \in R$	$[\cosh x]' = \sinh x,$	$x \in R$
$[\operatorname{tgh} x]' = \frac{1}{\cosh^2 x},$	$x \in R$	$[\operatorname{cotgh} x]' = \frac{-1}{\sinh^2 x},$	$x \neq 0$
$[\operatorname{argsinh} x]' = \frac{1}{\sqrt{x^2+1}},$	$x \in R$	$[\operatorname{argcosh} x]' = \frac{1}{\sqrt{x^2-1}},$	$x > 1$
$[\operatorname{argtgh} x]' = \frac{1}{1-x^2},$	$x \in (-1; 1)$	$[\operatorname{argcotgh} x]' = \frac{1}{1-x^2},$	$x \in R - \langle -1; 1 \rangle$

Tabuľka 4.1.1: Derivácie základných elementárnych funkcií.

**Príklad 4.1.23.K4-pr23**

Vypočítajte deriváciu funkcie  $f: y = \log_a |x|, x \neq 0$ , kde  $a > 0, a \neq 1$ .

**Riešenie.**

Ak  $x > 0$ , potom z príkladu 4.1.22 vyplýva  $[\log_a |x|]' = [\log_a x]' = \frac{1}{x \ln a}$ .

Ak  $x < 0$ , t. j.  $-x > 0$ , potom na základe vety o derivácii zloženej funkcie platí:

$$[\log_a |x|]' = [\log_a (-x)]' = \frac{1}{-x \ln a} \cdot (-x)' = \frac{-1}{x \ln a} \cdot (-1) = \frac{1}{x \ln a}. \blacksquare$$

**Poznámka 4.1.14.K4-poz12**

Ak položíme v príklade 4.1.23  $a = e$ , dostaneme  $[\ln |x|]' = \frac{1}{x}$  pre všetky  $x \neq 0$ .

**Príklad 4.1.24.K4-pr21**

a) Pre všetky  $x \in R$  platí  $[\sinh x]' = \cosh x, [\cosh x]' = \sinh x$ , pretože

$$\left[ \frac{e^x - e^{-x}}{2} \right]' = \frac{e^x - (-e^{-x})}{2} = \frac{e^x + e^{-x}}{2}, \quad \left[ \frac{e^x + e^{-x}}{2} \right]' = \frac{e^x - e^{-x}}{2}.$$

b) Zo vzťahu  $\cosh^2 x - \sinh^2 x = 1$  vyplýva, že pre všetky  $x \in R$  platí:

$$[\operatorname{tgh} x]' = \left[ \frac{\sinh x}{\cosh x} \right]' = \frac{\cosh x \cosh x - \sinh x \sinh x}{[\cosh x]^2} = \frac{1}{\cosh^2 x}.$$

c) Pre všetky  $x \in R, x \neq 0$  platí:

$$[\operatorname{cotgh} x]' = \left[ \frac{\cosh x}{\sinh x} \right]' = \frac{\sinh x \sinh x - \cosh x \cosh x}{[\sinh x]^2} = \frac{-1}{\sinh^2 x}. \blacksquare$$

**Príklad 4.1.25.K4-pr22**

a) Funkcia  $f: y = \sinh x$  je na  $R$  spojitá, rastúca a platí  $f'(x) = \cosh x > 0$ .

Potom  $\cosh x = \sqrt{1 + [\sinh x]^2}$  a pre  $f^{-1}: x = \operatorname{argsinh} y, y \in R$  platí:

$$[\operatorname{argsinh} y]' = \frac{1}{[\sinh x]'} = \frac{1}{\cosh x} = \frac{1}{\sqrt{1 + \sinh^2 x}} = \frac{1}{\sqrt{1 + [\sinh \operatorname{argsinh} y]^2}} = \frac{1}{\sqrt{1 + y^2}}.$$

b) Funkcia  $f: y = \cosh x$  je na  $(0; \infty)$  rastúca, spojitá a platí  $f'(x) = \sinh x > 0$ .

Potom  $\sinh x = \sqrt{[\cosh x]^2 - 1}$  a pre  $f^{-1}: x = \operatorname{argcosh} y, y \in (1; \infty)$  platí:

$$[\operatorname{argcosh} y]' = \frac{1}{[\sinh x]'} = \frac{1}{\cosh x} = \frac{1}{\sqrt{\cosh^2 x - 1}} = \frac{1}{\sqrt{[\cosh \operatorname{argcosh} y]^2 - 1}} = \frac{1}{\sqrt{y^2 - 1}}.$$

c) Funkcia  $f: y = \operatorname{tgh} x$  je na  $R$  spojitá, rastúca a platí  $f'(x) = \cosh^{-2} x \neq 0$ .

Pre deriváciu inverznej funkcie  $f^{-1}: x = \operatorname{argtgh} y, y \in (-1; 1)$  platí:

$$[\operatorname{argtgh} y]' = \frac{1}{[\operatorname{tgh} x]'} = \frac{1}{\frac{1}{\cosh^2 x}} = \frac{1}{\frac{\cosh^2 x - \sinh^2 x}{\cosh^2 x}} = \frac{1}{1 - [\operatorname{tgh}(\operatorname{argtgh} y)]^2} = \frac{1}{1 - y^2}.$$

d) Funkcia  $f: y = \operatorname{cotgh} x$  je na  $R - \{0\}$  spojitá, je klesajúca na intervale  $(-\infty; 0)$  a na intervale  $(0; \infty)$  a pre všetky  $x \neq 0$  platí  $f'(x) = \sinh^{-2} x \neq 0$ .

Pre deriváciu inverznej funkcie  $f^{-1}: x = \operatorname{argcotgh} y, y \in (-\infty; -1) \cup (1; \infty)$  platí:

$$[\operatorname{argcotgh} y]' = \frac{1}{[\operatorname{cotgh} x]'} = \frac{-1}{\frac{1}{\sinh^2 x}} = \frac{-1}{\frac{1}{[\cosh(\operatorname{argcotgh} y)]^2 - 1}} = \frac{-1}{y^2 - 1} = \frac{1}{1 - y^2}. \blacksquare$$

**Cvičenia**

**4.1.1.c4-1efl** Definície vypočítajte deriváciu funkcie  $y = f(x)$  v bode  $x_0$ : ♣

a)  $y = x^2 + 3, x_0 = 0,$

b)  $y = \cos 2x, x_0 = \frac{\pi}{4},$

c)  $y = \frac{1}{x-1}, x_0 = 2,$

d)  $y = x(x+2)^2, x_0 = 1,$

e)  $y = \sin 2x, x_0 = \frac{\pi}{4},$

f)  $y = x^3 \sin(x - \pi), x_0 = \pi.$

**4.1.2.c4-1efl** Definície vypočítajte deriváciu funkcie  $y = f(x)$ : ♣

a)  $y = 2x^2 - 5,$

b)  $y = \sqrt{x^2 + 1},$

c)  $y = \sqrt{x-1},$

d)  $y = x - x^2,$

e)  $y = \operatorname{cotg} x,$

f)  $y = 2 - 3x,$

g)  $y = \frac{1}{x-1},$

h)  $y = e^{-x}.$

**4.1.3.c4-1efl**  $f: y = 2x^2 + 1$ . Nájdite všetky body, pre ktoré platí  $f(x) = f'(x)$ . ♣

**4.1.4.c4-1efl** deriváciu  $f'(x)$ , ak pre funkciu  $y = f(x)$  platí: ♣

a)  $y = 2^{-x^2},$

b)  $y = e^{-\cos x},$

c)  $y = \sqrt{x},$

d)  $y = \sqrt[3]{x} + 1,$

e)  $y = 2^{\operatorname{tg} x},$

f)  $y = x^{(e^x)},$

g)  $y = x^{\sin x},$

h)  $y = x^{\ln x},$

i)  $y = e^{\operatorname{tgh} x},$

j)  $y = [\ln x]^x,$

k)  $y = e^{\frac{1}{x}},$

l)  $y = e^{-\frac{1}{x}},$

m)  $y = e^{x^2-1},$

n)  $y = x\sqrt{x},$

o)  $y = \sqrt[3]{\cos x},$

p)  $y = e^{\sqrt{x}},$

q)  $y = e^{\operatorname{arctg} x},$

r)  $y = x^{x+1},$

s)  $y = x^{(x^x)},$

t)  $y = (x^x)^x,$

u)  $y = \frac{\sqrt[5]{4x}}{5},$

v)  $y = \frac{1}{\sin^2 x},$

w)  $y = \frac{1}{\sqrt[3]{2x^4}},$

x)  $y = \frac{1}{\cos x},$

y)  $y = \frac{\cos^2 x}{\cos x^2}.$

**4.1.5.c4-1efl** deriváciu  $f'(x)$ , ak pre funkciu  $y = f(x)$  platí: ♣

a)  $y = \frac{x}{\operatorname{tg} x},$

b)  $y = \frac{x}{\operatorname{tg} e^x},$

c)  $y = \frac{3^x}{2^x},$

d)  $y = \frac{e^x}{x^3},$

e)  $y = \operatorname{arctg} \frac{1}{x},$

f)  $y = x^5 e^x,$

g)  $y = \operatorname{tg}^5 x,$

h)  $y = \sin x^2,$

i)  $y = \sqrt{e^{5x}},$

j)  $y = e^{\sin x},$

k)  $y = |x^3|,$

l)  $y = x|x|,$

m)  $y = [x],$

n)  $y = 3^{2x},$

o)  $y = |\cos x|,$

p)  $y = 3^{\operatorname{cotg} x},$

q)  $y = x^{\sqrt{x}},$

r)  $y = x^{\cos x},$

s)  $y = x^{x^2+1},$

t)  $y = \ln x^3,$

u)  $y = \frac{1}{\operatorname{tg} x},$

v)  $y = \frac{x^2}{\ln x},$

w)  $y = \frac{1}{e^{2x}},$

x)  $y = \frac{1}{\ln^2 x},$

y)  $y = \frac{1}{\operatorname{arctg} x}.$

4.1.6. ~~U1106~~ deriváciu  $f'(x)$ , ak pre funkciu  $y = f(x)$  platí: ♣

a) $y = \frac{1+x}{1-x}$ ,	b) $y = \frac{1-\cos x}{1+\cos x}$ ,	c) $y = \sqrt[3]{\frac{1+x^3}{1-x^3}}$ ,	d) $y = \left(\frac{1-x}{1+x}\right)^{\frac{1+x}{1-x}}$ ,
e) $y = e^{-\cos^2 x}$ ,	f) $y = \ln \cos x$ ,	g) $y = x^{-5} + x^{-7}$ ,	h) $y = \sqrt{x^5} - \sqrt[3]{x^4}$ ,
i) $y = \ln \frac{2-x}{2+x}$ ,	j) $y = \frac{x \ln x}{1+\ln x}$ ,	k) $y = \ln \left  \operatorname{tg} \frac{x}{2} \right $ ,	l) $y = \frac{2 \sin x}{\sin x - \cos x}$ ,
m) $y = \ln [1 + x^2]$ ,	n) $y = [x^2 - 1]^3$ ,	o) $y = e^{-x} + e^{-x^2}$ ,	p) $y = x^5 [\ln x - 1]$ ,
q) $y = \frac{1}{\sqrt{1+2x}}$ ,	r) $y = \operatorname{arctg} \frac{1}{x}$ ,	s) $y = \frac{e^x + 1}{e^x - 1}$ ,	t) $y = \operatorname{arctg} \frac{x-1}{x+1}$ ,
u) $y = (1 - 2x)^4$ ,	v) $y = \ln^2(x + 1)$ ,	w) $y = \ln(x^2 + 1)$ ,	x) $y = \ln[1 - \sqrt{x}]$ .

4.1.7. ~~U1107~~ deriváciu  $f'(x)$ , ak pre funkciu  $y = f(x)$  platí: ♣

a) $y = \sin \frac{1}{x^2}$ ,	b) $y = \frac{x^2+x+1}{x-1}$ ,	c) $y = \frac{e^x - e^{-x}}{e^x + e^{-x}}$ ,	d) $y = \frac{1 - \sin x}{\sin x + \cos x}$ ,
e) $y = e^{\sin x + \cos x}$ ,	f) $y = \sqrt{1 - x^4}$ ,	g) $y = \operatorname{cotg} \sqrt{x}$ ,	h) $y = (1 - x^2)^{20}$ ,
i) $y = \frac{x^2-1}{x^2+1}$ ,	j) $y = \frac{\sqrt{x}}{1+2\sqrt{x}}$ ,	k) $y = \frac{1-x^2}{\sqrt{x}}$ ,	l) $y = \frac{x^3}{1+x+x^2}$ ,
m) $y = x^2 e^{-\frac{1}{x}}$ ,	n) $y = x^2 e^x \sin x$ ,	o) $y = x e^{-x^2}$ ,	p) $y = \operatorname{arccotg} \sqrt{x}$ ,
q) $y = \frac{1+x}{\sqrt{1-x}}$ ,	r) $y = \frac{2x \sin x}{x^2-1}$ ,	s) $y = \frac{1+\sqrt{x}}{1+\sqrt{2x}}$ ,	t) $y = \sqrt{\frac{x-1}{x+1}}$ ,
u) $y = x e^{-x^2+1}$ ,	v) $y = \sqrt{x \sqrt{x \sqrt{x}}}$ ,	w) $y = x \ln x - 1$ ,	x) $y = e^{\sqrt{x}} \sqrt{x-1}$ .

4.1.8. ~~U1108~~ deriváciu  $f'(x)$ , ak pre funkciu  $y = f(x)$  platí: ♣

a) $y = \operatorname{tg} \frac{1+x}{x}$ ,	b) $y = \frac{\sin x}{1-\cos x}$ ,	c) $y = \frac{\cos x}{1+\cos x}$ ,	d) $y = \sqrt{\frac{1-\sqrt{x}}{1+\sqrt{x}}}$ ,
e) $y = \ln^4 [x^2 + 1]$ ,	f) $y = \ln  \sin 2x $ ,	g) $y = x \sinh x$ ,	h) $y = \ln \operatorname{arccotg} x^2$ ,
i) $y = \frac{1+\cos 2x}{1-\cos 2x}$ ,	j) $y = \ln \frac{x^8-1}{x^8+1}$ ,	k) $y = \arccos \ln \frac{1}{x}$ ,	l) $y = \arccos \frac{3x-1}{4}$ ,
m) $y = [\sin x]^{\cos x}$ ,	n) $y = [\cos x]^{\sin x}$ ,	o) $y = [\cosh x]^{\ln x}$ ,	p) $y = [x^2 + 1]^{\operatorname{arctg} x}$ ,
q) $y = \operatorname{argsinh} \frac{x^2}{4}$ ,	r) $y = \frac{x}{1+e^{-x}}$ ,	s) $y = \frac{3 \operatorname{cotgh} x}{\ln(x+1)}$ ,	t) $y = \arcsin \frac{x^2-1}{x^2}$ ,
u) $y = [\operatorname{tg} x]^{\operatorname{cotg} x}$ ,	v) $y = 3^{\ln [x^2+x+1]}$ ,	w) $y = x^2 \ln x - x^3$ ,	x) $y = x + 5 \cos^2 x$ .

4.1.9. ~~U1109~~ deriváciu  $f'(x)$ , ak pre funkciu  $y = f(x)$  platí: ♣

a) $y = \arccos \ln x$ ,	b) $y = \ln \sin e^{2x}$ ,	c) $y =  x^2 - 1 $ ,	d) $y = \arcsin \ln x$ ,
e) $y = x \arcsin x$ ,	f) $y = e^x \cos x$ ,	g) $y = (x - 1) e^x$ ,	h) $y = e^x \arcsin x$ ,
i) $y = \sqrt{ x - 1 }$ ,	j) $y =  x - 2 $ ,	k) $y = x \operatorname{cotg} x$ ,	l) $y = \ln \ln \ln \ln x$ ,
m) $y = \ln  x^2 - 1 $ ,	n) $y = \ln(x^2 - 1)$ ,	o) $y = \operatorname{tgh} x - x$ ,	p) $y = \ln \arcsin 5x$ ,
q) $y = \ln \sin x$ ,	r) $y = \ln \arcsin x$ ,	s) $y = \operatorname{argtgh} \operatorname{tg} x$ ,	t) $y = \operatorname{arccotg} \ln x$ ,
u) $y = \frac{\operatorname{argsinh} x}{x}$ ,	v) $y = \frac{x^2}{\cosh x}$ ,	w) $y = \frac{\arccos x}{\sqrt{1-x^2}}$ ,	x) $y = \operatorname{arccotg} \ln \frac{1}{x}$ .

4.1.10. ~~U1110~~ deriváciu  $f'(x)$ , ak pre funkciu  $y = f(x)$  platí: ♣

a) $y = \sqrt{x} + 2\sqrt[3]{x} + 3\sqrt{x}$ ,	b) $y = \arccos \sqrt{1 - x^2}$ ,	c) $y = 7x^4 + 5x^3 + 3x^2 + x$ ,
d) $y = \frac{4x+5}{(x^3+4x-5)^2}$ ,	e) $y = \operatorname{argcosh} \frac{1+x^2}{1-x^2}$ ,	f) $y = \ln \frac{\sqrt{x^2+1}+x}{\sqrt{x^2+1}-x}$ ,
g) $y = 5 \sin^2 x - 2 \cos x^3$ ,	h) $y = \sqrt[3]{x^2 + 3x + 2}$ ,	i) $y = (x^3 + 7x^2 - x + 1)^4$ ,
j) $y = (x^3 - 2) \left[ \frac{1}{x^2} + 2 \right]$ ,	k) $y = 5x \sin 4x - \frac{\ln x}{2x^3}$ ,	l) $y = \frac{1}{2-x} - \operatorname{arctg}(x - 2)$ ,
m) $y = x^6 \ln 2 - \sin x$ ,	n) $y = x^6 \ln 2 - \sin 10$ ,	o) $y = (1 - \sqrt{x})(1 + x)$ ,

$$\begin{array}{lll}
 \text{p)} y = \frac{\sin x + \cos x}{2 \sin 2x}, & \text{q)} y = \frac{x \operatorname{arctg} 2x}{x^2 - 4}, & \text{r)} y = -\frac{1}{\sqrt{2}} \arcsin \frac{x\sqrt{2}}{x^2 + 1}, \\
 \text{s)} y = x \sin x + \cos x, & \text{t)} y = \sin^3 x + \cos^3 x, & \text{u)} y = e^x [x^3 + x^2 - 2x - 3], \\
 \text{v)} y = \frac{x^3}{1+x^6} - \operatorname{arctg} x^3, & \text{w)} y = \frac{\sin x + \cos x}{\sin x - \cos x}, & \text{x)} y = \ln \operatorname{arctg} \frac{1}{\sqrt{x+1}}.
 \end{array}$$

4.1.11. **Učenie 11** deriváciu  $f'(x)$ , ak pre funkciu  $y = f(x)$  platí: ♣

$$\begin{array}{lll}
 \text{a)} y = x - \sin x \cos x, & \text{b)} y = x^2 \sqrt{x} - x \sqrt[3]{x^2}, & \text{c)} y = e^{-x} [x^4 + x^2 + 1], \\
 \text{d)} y = \arcsin^2 \frac{1}{x-1}, & \text{e)} y = \frac{\sin x - \sinh x}{\cos x - \cosh x}, & \text{f)} y = \operatorname{arctg} \frac{\cos x}{1 + \sin x}, \\
 \text{g)} y = \ln [x + \sqrt{x^2 + 1}], & \text{h)} y = \sin \sin \sin \sin x, & \text{i)} y = x + \sqrt[2]{x} + \sqrt[4]{x} + \sqrt[6]{x}, \\
 \text{j)} y = \operatorname{arctg} \frac{2x}{x^2 + 1}, & \text{k)} y = \operatorname{arccotg} \frac{1}{x^2 + 1}, & \text{l)} y = \frac{1}{x^3 + 1} + \ln \frac{x^3}{x^3 + 1}, \\
 \text{m)} y = \ln^2 x - \ln \ln x, & \text{n)} y = \sin \cos \sin \cos x, & \text{o)} y = x \sqrt{1 - x^2} + \arcsin x, \\
 \text{p)} y = \frac{\operatorname{arccotg} x}{1 - x^2}, & \text{q)} y = \ln \cos \frac{x-1}{x}, & \text{r)} y = \sqrt[3]{\sin^2 x} + \frac{1}{\cos^2 x}, \\
 \text{s)} y = |x - 1| + |x - 2|, & \text{t)} y = \ln |x^2 + 2x + 3|, & \text{u)} y = \operatorname{arctg} x + \operatorname{arccotg} x, \\
 \text{v)} y = \operatorname{arccotg} \frac{3 \operatorname{tg} x + 2}{x}, & \text{w)} y = \frac{\cos x}{\sin^2 x} + \operatorname{cotg} x, & \text{x)} y = \frac{\arcsin x}{\arccos x} + \frac{\arccos x}{\arcsin x}.
 \end{array}$$

4.1.12. **Učenie 12** deriváciu  $f'(x)$ , ak pre funkciu  $y = f(x)$  platí: ♣

$$\begin{array}{lll}
 \text{a)} y = \operatorname{arccotg} \operatorname{tg} x, & \text{b)} y = \operatorname{arctg} \operatorname{cotg} x, & \text{c)} y = \arcsin \sin x, \\
 \text{d)} y = \ln \frac{(x-1)^2(x-2)}{x-3}, & \text{e)} y = \ln \frac{x^2 - 2x + 1}{x^2 + x + 1}, & \text{f)} y = \sqrt{\frac{3 \sin x - 2 \cos x}{5}}, \\
 \text{g)} y = \operatorname{cotg} \operatorname{arctg} x, & \text{h)} y = \operatorname{tg} \operatorname{arccotg} x, & \text{i)} y = \ln \cos \sqrt{x^2 + 1}, \\
 \text{j)} y = \frac{1}{3 \cos^2 x} - \frac{1}{\cos x}, & \text{k)} y = \arcsin \frac{x}{\sqrt{x^2 + 1}}, & \text{l)} y = \frac{2\sqrt{x^3}}{3} [3 \ln x - 2], \\
 \text{m)} y = \arcsin \cos x, & \text{n)} y = \sqrt{\operatorname{cotg} x} - \sqrt{\operatorname{tg} x}, & \text{o)} y = x \sin [\ln x - \pi], \\
 \text{p)} y = \sqrt{x + \sqrt{x + \sqrt{x}}}, & \text{q)} y = \sqrt{\frac{1 - \sin x}{1 + \sin x}}, & \text{r)} y = \sqrt[4]{1 + \sqrt[3]{1 + \sqrt{x}}}, \\
 \text{s)} y = \arccos \sqrt{x + 1}, & \text{t)} y = \sqrt{\cos x} e^{\sqrt{x+1}}, & \text{u)} y = \sqrt{1 + \arcsin x}, \\
 \text{v)} y = \operatorname{arccotg} \operatorname{cotg}^2 x, & \text{w)} y = \operatorname{arccotg} \operatorname{tg}^2 x, & \text{x)} y = \ln [x + 1 + \sqrt{1 + x^2}],
 \end{array}$$

4.1.13. **Učenie 13** deriváciu  $f'(x)$ , ak pre funkciu  $y = f(x)$  platí: ♣

$$\begin{array}{ll}
 \text{a)} y = \frac{x\sqrt{2+x^2}}{2} + \ln [x + \sqrt{2+x^2}], & \text{b)} y = \ln [x^2 + x + 1] + \frac{2}{\sqrt{3}} \operatorname{arctg} \frac{2x+1}{\sqrt{3}}, \\
 \text{c)} y = \sqrt{1+2x-x^2} - \arcsin \frac{x-1}{\sqrt{2}}, & \text{d)} y = \ln \frac{x^2+x\sqrt{2}+1}{x^2-x\sqrt{2}+1} - \operatorname{arctg} \frac{x\sqrt{2}}{x^2-1}, \\
 \text{e)} y = (x+1)\sqrt{x^2+2} \sqrt[3]{x^2+3}, & \text{f)} y = \operatorname{tg}^4 x - 2 \operatorname{tg}^2 x - 4 \ln \cos x, \\
 \text{g)} y = \frac{x^2}{4} - \frac{x}{4} \sin 2x - \frac{\cos 2x}{8}, & \text{h)} y = \frac{x}{\sqrt{1-x^2}} \arcsin x + \ln \sqrt{1-x^2}, \\
 \text{i)} y = 2x - (1-x^2) \ln \frac{1+x}{1-x}, & \text{j)} y = -\frac{x+1}{2} + \frac{x^2+1}{2} \operatorname{arctg} x, \\
 \text{k)} y = \sin^2 2x + [\cos^2 x - \sin^2 x]^2, & \text{l)} y = x^2 - x\sqrt{x^2-1} + \ln [x + \sqrt{x^2-1}], \\
 \text{m)} y = \frac{2 \cos 2x}{3} + \frac{\cos x \sin^2 x}{3}, & \text{n)} y = x - \frac{\sin 4x}{4} + \frac{\sin^3 2x}{3} - \frac{\sin^5 x}{5}, \\
 \text{o)} y = \frac{1}{x+1} + \frac{\ln(x^2-1)}{2}, & \text{p)} y = \frac{\sqrt{x-x^2}}{2} + (x - \frac{1}{2}) \arcsin \sqrt{x}, \\
 \text{q)} y = (x^2 + x + 1)(x^3 + x + 1), & \text{r)} y = (x^2 + x + 1)(x^3 + x^2 + x + 1), \\
 \text{s)} y = \operatorname{arctg} \frac{x}{2} + \ln \sqrt{\frac{x-2}{x+2}}, & \text{t)} y = \ln \frac{1+x+x^2}{1-x+x^2} + \frac{\sqrt{3}}{6} \operatorname{arctg} \frac{x\sqrt{3}}{1-x^2}, \\
 \text{u)} y = \frac{x \arcsin x}{\sqrt{1-x^2}} + \ln \sqrt{1-x^2}, & \text{v)} y = \ln \frac{1-\sqrt{\sin x}}{1+\sqrt{\sin x}} + 2 \operatorname{arctg} \sqrt{\sin x},
 \end{array}$$

w)  $y = \ln \arcsin x + \arcsin \ln x$ ,

x)  $y = x \ln [x - \sqrt{x^2 - 1}] + \sqrt{x^2 - 1}$ ,

y)  $y = \frac{x+1}{(x+2)(x+3)(x+4)}$ ,

z)  $y = \frac{\sqrt{x+1}}{\sqrt{x+1} + \sqrt{x+2} + \sqrt{x+3}}$ .

4.1.14. **Určte** jednostranné derivácie  $f'_-(0)$ ,  $f'_+(0)$ , ak pre funkciu  $y = f(x)$  platí: ♣

a)  $y = |\sin x|$ ,                      b)  $y = |\sin x^2|$ ,                      c)  $y = \sqrt{\sin x^2}$ ,                      d)  $y = [x] \sin x$ ,

e)  $y = \begin{cases} x^2 \sin \frac{1}{x}, & \text{pre } x \neq 0, \\ 0, & \text{pre } x = 0, \end{cases}$                       f)  $y = \begin{cases} x \sin \frac{1}{x}, & \text{pre } x \neq 0, \\ 0, & \text{pre } x = 0, \end{cases}$

g)  $y = \begin{cases} x, & \text{pre } x < 0, \\ \ln(x+1), & \text{pre } x \geq 0, \end{cases}$                       h)  $y = \begin{cases} 1-x, & \text{pre } x \leq 0, \\ e^{-x}, & \text{pre } x > 0. \end{cases}$

4.1.15. **Pomocou** inverznej funkcie vypočítajte deriváciu funkcie  $y = f(x)$ : ♣

a)  $y = \sqrt[4]{x}$ ,                      b)  $y = \log_{10} x$ ,                      c)  $y = \sqrt[5]{x} + 1$ ,                      d)  $y = \log_2 x - 1$ .

4.1.16. **Nech**  $f$  je reálna funkcia. Dokážte, že platí:

- a) Ak  $f$  je nepárna, potom  $f'$  je párna.                      b) Ak  $f$  je párna, potom  $f'$  je nepárna.  
c) Ak  $f$  je periodická s periódou  $p$ , potom  $f'$  je periodická s periódou  $p$ .

4.1.17. **Najdte** rovnicu dotyčnice ku grafu funkcie  $y = f(x)$  v bode  $x_0$ , ak: ♣

a)  $y = x^2$ ,  $x_0 = 2$ ,                      b)  $y = \frac{12}{x}$ ,  $x_0 = 3$ ,                      c)  $y = \sqrt{x}$ ,  $x_0 = 4$ ,  
d)  $y = x^2 + 2x$ ,  $x_0 = 1$ ,                      e)  $y = \ln(x+1)$ ,  $x_0 = 0$ ,                      f)  $y = \cos 2x$ ,  $x_0 = 0$ ,  
g)  $y = \sin 2x$ ,  $x_0 = 0$ ,                      h)  $y = e^x - 1$ ,  $x_0 = 1$ ,                      i)  $y = \frac{1}{1+x^2}$ ,  $x_0 = 3$ .

4.1.18. **Určte**  $a \in R$  tak, aby sa graf funkcie  $y = x$  dotýkal grafu funkcie  $y = a^x$ . Najdite bod, v ktorom sa tieto grafy dotýkajú. ♣

4.1.19. **Pre aké**  $a \in R$  má funkcia  $y = |x^2 - a|$  deriváciu pre všetky  $x \in R$ ? ♣

4.1.20. **Určte** rovnicu dotyčnice ku grafu funkcie  $y = x^2 + x + 1$  tak, aby prechádzala počiatkom súradnicového systému, t. j. bodom  $[0; 0]$ . ♣

4.1.21. **Najdte** rovnicu dotyčnice ku grafu funkcie  $y = x^2 - 2x + 3$  tak, aby bola: ♣

- a) rovnobežná s priamkou  $3x - y + 5 = 0$ ,                      b) kolmá na priamku  $x + y - 1 = 0$ ,  
c) prechádzala bodom  $[0; 0]$ ,                      d) prechádzala bodom  $[a; b]$ ,  $a, b \in R$ .  
e) zvierala s osou  $x$  uhol  $\frac{\pi}{4}$ ,                      f) zvierala s osou  $y$  uhol  $\varphi \in (0; \frac{\pi}{2})$ .

4.1.22. **Najdte** rovnicu normály ku grafu funkcie  $y = x^2 - 2x + 3$  tak, aby bola: ♣

- a) rovnobežná s priamkou  $3x - y + 5 = 0$ ,                      b) kolmá na priamku  $x + y - 1 = 0$ ,  
c) prechádzala bodom  $[1; 3]$ ,                      d) zvierala s osou  $y$  uhol  $\frac{\pi}{4}$ .

4.1.23. **Určte** všetky dotyčnice ku grafu funkcie  $y = f(x)$ , ktoré sú rovnobežné s osou  $x$ . Určte body, v ktorých sa dotýkajú grafu funkcie  $f$ , ak: ♣

a)  $y = \sin(x+1)$ ,                      b)  $y = \cos 2x$ ,                      c)  $y = \ln(x+1)$ ,                      d)  $y = x^3 - x$ ,  
e)  $y = \frac{\ln x}{x}$ ,                      f)  $y = \sqrt{1-x^2}$ ,                      g)  $y = x \ln x$ ,                      h)  $y = \frac{e^x}{x}$ .

## 4.2 Diferenciál funkcie a derivácie vyšších rádov

### 4.2.1 Diferenciál a diferencovateľnosť funkcie

Často potrebujeme v matematickej analýze aproximovať (t. j. približne vyjadriť) danú funkciu  $f$  nejakou inou, jednoduchšou funkciou  $g$ . Žiadame pritom, aby sa funkcia  $g$  od funkcie  $f$  „málo líšila“, t. j. aby bol rozdiel  $|f(x) - g(x)|$  v istom zmysle malý. Ak chceme funkciu  $f$  aproximovať iba v nejakom okolí bodu  $x_0 \in D(f)$ , potom hovoríme o **lokálnej aproximácii**. Veľmi často požadujeme, aby funkcia  $g$  bola lineárna.

Predpokladajme, že je funkcia  $f$  definovaná v nejakom okolí  $O(x_0)$ . Hľadáme nejakú jednoduchú funkciu  $g$ , ktorá je spojitá v bode  $x_0$  tak, aby platilo

$$f(x_0) = g(x_0), \quad \lim_{x \rightarrow x_0} \frac{|f(x) - g(x)|}{|x - x_0|} = 0. \quad (4.4)$$

To znamená, že rozdiel  $|f(x) - g(x)|$  konverguje k nule rýchlejšie ako  $|x - x_0|$ . Geometricky si to môžeme predstaviť tak, že pre  $x \in O(x_0)$  sú grafy funkcií  $f$ ,  $g$  „blízko pri sebe“ a v bode  $[x_0; f(x_0)]$  sa dotýkajú.

Ako funkcia  $g$  sa najčastejšie používa lineárna funkcia, ktorej grafom je priamka. Lineárna funkcia  $g$ , ktorej graf prechádza bodom  $[x_0; f(x_0)]$  má rovnicu

$$g(x) = f(x_0) + a(x - x_0), \quad \text{kde } a \in R.$$

Ak položíme  $x - x_0 = h$ , t. j.  $x = x_0 + h$ , potom môžeme výraz (4.4) vyjadriť v tvare

$$0 = \lim_{x \rightarrow x_0} \frac{|f(x) - f(x_0) - a(x - x_0)|}{|x - x_0|} = \lim_{h \rightarrow 0} \left| \frac{f(x_0 + h) - f(x_0) - ah}{h} \right|. \quad (4.5)$$

Vzniká otázka, či existuje  $a \in R$  také, že platí vzťah (4.5). To znamená, či existuje lineárna funkcia  $\lambda(x) = a(x - x_0)$ ,  $x \in R$ , resp.  $\lambda(h) = ah$ ,  $h \in R$ , ktorá spĺňa (4.5).

Nech  $y = f(x)$ ,  $x \in M$  je reálna funkcia a nech  $x_0 \in M$  je vnútorný bod. Hovoríme, že **funkcia  $f$  má v bode  $x_0$  diferenciál**, ak existuje lineárna funkcia  $\lambda(h) = ah$ ,  $h \in R$  také, že platí vzťah (4.5). Lineárnu funkciu  $\lambda$  nazývame **diferenciál funkcie  $f$  v bode  $x_0$**  a označujeme symbolom  $df(x_0)$ .

#### Poznámka 4.2.1.K4-poz15

Symbol  $df(x_0)$  vyjadruje lineárnu funkciu  $\lambda$  argumentu  $h$ , resp.  $x$  z definície diferenciálu.

Symbol  $df(x_0)(h)$ , t. j. hodnotu funkcie  $\lambda(h)$  pre  $x_0$  zapisujeme obyčajne v tvare  $df(x_0, h)$ .

Ak má funkcia  $f$  diferenciál v bode  $x_0$ , potom ju nazývame **diferencovateľná funkcia v bode  $x_0$** . Ak je funkcia  $f$  diferencovateľná (má diferenciál) v každom bode  $x_0 \in M$ , potom ju nazývame **diferencovateľná funkcia na množine  $M$** .

#### Poznámka 4.2.2.K4-poz26

Ak je  $f$  diferencovateľná na  $M$ , potom diferenciál  $df(x)$  môžeme považovať za funkciu premennej  $x \in M$ . Lenže  $df(x)$ , t. j.  $df(x, h)$  je tiež funkcia premennej  $h \in R$ .

To znamená, že diferenciál funkcie  $f$  na množine  $M$  predstavuje funkciu  $df(x, h)$  s dvomi nezávislými premennými  $x \in M$ ,  $h \in R$ . Stručne ho označujeme  $df(x)$ ,  $x \in M$ , resp.  $df$ .

#### Veta 4.2.1 (O existencii a jednoznačnosti diferenciálu).K4-veta09

Funkcia  $f$  je diferencovateľná v bode  $x_0$  práve vtedy, ak má v bode  $x_0$  konečnú deriváciu.

Diferenciál funkcie  $f$  v bode  $x_0$  je potom jednoznačne určený vzťahom

$$df(x_0, h) = f'(x_0) \cdot h, \quad h \in R. \quad (4.6)$$

**Dôkaz.**

$NP_{\Rightarrow}$ : Ak existuje diferenciál  $df(x_0, h) = ah$ , potom zo vzťahu (4.5) vyplýva:

$$0 = \lim_{h \rightarrow 0} \frac{f(x_0+h) - f(x_0) - ah}{h} = \lim_{h \rightarrow 0} \frac{f(x_0+h) - f(x_0)}{h} - \lim_{h \rightarrow 0} \frac{ah}{h} = f'(x_0) - a.$$

To znamená, že existuje konečná derivácia  $f'(x_0) = a$  a platí  $df(x_0, h) = f'(x_0)h$ .

Tým je zároveň dokázaná aj jednoznačnosť diferenciálu.

$PP_{\Leftarrow}$ : Ak má funkcia  $f$  v bode  $x_0$  konečnú deriváciu  $f'(x_0)$ , potom platí:

$$f'(x_0) = \lim_{h \rightarrow 0} \frac{f(x_0+h) - f(x_0)}{h}, \quad \text{t. j.} \quad 0 = \lim_{h \rightarrow 0} \left[ \frac{f(x_0+h) - f(x_0)}{h} - f'(x_0) \right].$$

Z toho vyplýva, že platí podmienka (4.5)

$$0 = \lim_{h \rightarrow 0} \left| \frac{f(x_0+h) - f(x_0)}{h} - f'(x_0) \right| = \lim_{h \rightarrow 0} \left| \frac{f(x_0+h) - f(x_0) - f'(x_0)h}{h} \right|.$$

To znamená, že  $f'(x_0) = a$  a existuje diferenciál  $df(x_0, h) = f'(x_0)h$ ,  $h \in R$ . ■

**Príklad 4.2.1.K4-pr26**

Vypočítajte diferenciál funkcie  $f: y = x^3$  v bode  $x_0 = 2$ .

**Riešenie.**

Ak použijeme vetu 4.2.1, potom platí:

$$df(x_0, h) = f'(x_0)h = 3x_0^2h, \quad \text{t. j.} \quad df(2, h) = f'(2)h = 3 \cdot 2^2h = 12h, \quad h \in R.$$

K tomuto výsledku môžeme dospieť tiež priamo z definície diferenciálu. Je nutné ale poznamenať, že aj tu prakticky počítame hodnotu  $f'(2)$ . Zo vzťahu (4.5) vyplýva:

$$0 = \lim_{h \rightarrow 0} \frac{(2+h)^3 - 2^3 - ah}{h} = \lim_{h \rightarrow 0} \frac{8 + 12h + 6h^2 + h^3 - 8 - ah}{h} = \lim_{h \rightarrow 0} [12 + 6h - h^2 - a] = 12 - a.$$

To znamená, že platí  $a = 12$ , t. j.  $df(2, h) = 12h$ ,  $h \in R$ . ■

**Príklad 4.2.2.K4-pr27**

Vypočítajte diferenciál identickej funkcie  $f(x) = x$ ,  $x \in R$  v ľubovoľnom bode  $x_0 \in R$ .

**Riešenie.**

Keďže pre všetky  $x_0 \in R$  platí  $f'(x_0) = 1$ , potom zo vzťahu (4.6) vyplýva:

$$df(x_0, h) = f'(x_0)h = 1 \cdot h = h, \quad \text{t. j.} \quad df(x_0, h) = (x_0 + h) - x_0, \quad h \in R.$$

To znamená, že  $df(x_0, h)$  je rovný prírastku premennej  $x$ . Takže pre všetky  $x_0 \in R$  platí  $df(x_0) = h$ .

V praxi sa zvykne diferenciál funkcie  $f(x) = x$  označovať  $dx$ . ■

**Poznámka 4.2.3.K4-poz18**

Uvažujme funkciu  $y = f(x)$ , ktorá je diferencovateľná v bode  $x_0$ .

Ak použijeme označenie  $dx = h$  (príklad 4.2.2), potom zo vzťahu (4.6) vyplýva:

$$df(x_0, h) = f'(x_0)h = f'(x_0)dx, \quad \text{t. j.} \quad f'(x_0) = \frac{df(x_0, h)}{h} = \frac{df(x_0, h)}{dx}, \quad h \in R.$$

To znamená, že deriváciu  $f'(x_0)$  môžeme chápať ako podiel diferenciálu funkcie a diferenciálu premennej v tomto bode  $x_0$  a má zmysel označenie z poznámky 4.1.1

$$f'(x_0) = \frac{df(x_0)}{dx} = \frac{dy(x_0)}{dx}, \quad \text{resp.} \quad f' = \frac{df}{dx} = \frac{dy}{dx}.$$

**Poznámka 4.2.4.K4-poz17**

Z vety 4.2.1 vyplýva, že pojem diferencovateľnosti funkcie  $f$  v bode [resp. na množine] je ekvivalentný s pojmom existencie konečnej derivácie v tomto bode [resp. na množine]. Preto sa môže zdať, že pojem diferenciálu je zbytočný. Diferenciál má význam hlavne pri funkciách dvoch a viac premenných. V tomto prípade ale pojem diferenciálu nie je ekvivalentný s pojmom existencie derivácie danej funkcie.



### 4.2.2 Využitie diferenciálu na približné výpočty

Diferenciál reálnej funkcie jednej premennej je dôležitý predovšetkým pri lineárnej aproximácii danej funkcie a pri približnom určovaní funkčných hodnôt tejto funkcie.

Nech  $y = f(x)$  je diferencovateľná funkcia v bode  $x_0$ . Ak označíme

$$\omega(h) = f(x_0 + h) - f(x_0) - f'(x_0)h = f(x_0 + h) - f(x_0) - df(x_0, h),$$

potom zo vzťahu (4.5) vyplýva:

$$\lim_{h \rightarrow 0} \frac{f(x_0+h) - f(x_0) - f'(x_0)h}{h} = \lim_{h \rightarrow 0} \frac{\omega(h)}{h} = 0. \quad (4.7)$$

Pre prírastok  $\Delta f(x_0, h) = f(x_0 + h) - f(x_0)$  funkcie  $f$  od bodu  $x_0$  po  $x_0 + h$  potom platí:

$$\Delta f(x_0, h) = f(x_0 + h) - f(x_0) = df(x_0, h) + \omega(h) = f'(x_0)h + \omega(h).$$

Výraz  $df(x_0, h) = f'(x_0)h$  nazývame **hlavná časť prírastku funkcie** a výraz  $\omega(h)$  nazývame **zvyšok prírastku**. Zvyšok prírastku má význam chyby, ktorej sa dopustíme, ak nahradíme prírastok funkcie  $\Delta f(x_0, h)$  diferenciálom funkcie  $df(x_0, h)$ . Zo vzťahu (4.7) vyplýva, že funkcia  $\omega(h)$  sa blíži k nule rýchlejšie ako premenná  $h$ .

Funkciu  $f$  môžeme potom pomocou jej diferenciálu v bode  $x_0$  aproximovať v tvare

$$f(x_0 + h) \approx f(x_0) + df(x_0, h) = f(x_0) + f'(x_0)h, \quad \text{kde } \lim_{h \rightarrow 0} \frac{\omega(h)}{h} = 0. \quad (4.8)$$

Ak položíme  $h = x - x_0$ , t. j.  $x = x_0 + h$ , potom

$$f(x) \approx f(x_0) + df(x_0, x - x_0) = f(x_0) + f'(x_0)(x - x_0),$$

pričom pre chybu  $\omega(x) = f(x) - f(x_0) - f'(x_0)(x - x_0)$  aproximácie platí:

$$\lim_{x \rightarrow x_0} \frac{f(x) - f(x_0) - f'(x_0)(x - x_0)}{x - x_0} = \lim_{x \rightarrow x_0} \frac{\omega(x)}{x - x_0} = 0. \quad (4.9)$$

Z geometrického hľadiska predstavuje graf funkcie  $y = f(x_0) + f'(x_0)(x - x_0)$  dotyčnicu ku grafu funkcie  $f$ , ktorý prechádza bodom  $[x_0; f(x_0)]$ . Stačí si porovnať predchádzajúci vzťah zo vzťahom (4.2) na strane 293.

#### Veta 4.2.2 (O najlepšej lokálnej lineárnej aproximácii funkcie).K4-veta10

Nech  $f$  je diferencovateľná funkcia v bode  $x_0$ . Nech  $c \in \mathbb{R}$  je také, že  $c \neq f'(x_0)$ . Označme

$$\varphi: y = f(x_0) + c(x - x_0), \quad g: y = f(x_0) + f'(x_0)(x - x_0).$$

Potom existuje prstencové okolie  $P(x_0)$  také, že pre všetky  $x \in P(x_0)$  platí:

$$|f(x) - g(x)| < |f(x) - \varphi(x)|.$$

#### Dôkaz.

Je zrejmé, že platí  $\varphi(x_0) = g(x_0) = f(x_0)$ .

Keďže  $c \neq f'(x_0)$ , potom pre funkciu  $\varphi: y = f(x_0) + c(x - x_0)$  platí:

$$\lim_{x \rightarrow x_0} \left| \frac{f(x) - \varphi(x)}{x - x_0} \right| = \lim_{x \rightarrow x_0} \left| \frac{f(x) - f(x_0)}{x - x_0} - \frac{c(x - x_0)}{x - x_0} \right| = |f'(x_0) - c| > 0.$$

Zo vzťahu (4.9) vyplýva, že platí:

$$0 = \lim_{x \rightarrow x_0} \left| \frac{f(x) - g(x)}{x - x_0} \right| < \lim_{x \rightarrow x_0} \left| \frac{f(x) - \varphi(x)}{x - x_0} \right|.$$

Potom (veta 3.2.7) existuje prstencové okolie  $P(x_0)$  také, že pre všetky  $x \in P(x_0)$  platí:

$$\frac{|f(x) - g(x)|}{|x - x_0|} = \left| \frac{f(x) - g(x)}{x - x_0} \right| < \left| \frac{f(x) - \varphi(x)}{x - x_0} \right| = \frac{|f(x) - \varphi(x)|}{|x - x_0|}.$$

Pretože  $x \neq x_0$ , potom pre všetky  $x \in P(x_0)$  platí  $|f(x) - g(x)| < |f(x) - \varphi(x)|$ . ■

#### Poznámka 4.2.5.K4-poz16

Z vety 4.2.2 vyplýva, že aproximácia funkcie  $f$  pomocou funkcie

$$g: y = f(x_0) + f'(x_0)(x - x_0) = f(x_0) + df(x_0, x - x_0), \quad x \in P(x_0)$$

je najlepšia zo všetkých lineárnych aproximácií. T. j. zo všetkých aproximácií lineárnymi funkciami, ktorých grafy prechádzajú bodom  $[x_0; f(x_0)]$ . Táto aproximácia má ale iba lokálny význam v nejakom okolí bodu  $x_0$  (nie na celom definičnom obore).

Určiť presnejšie chybu tejto aproximácie  $\omega(x)$  je vo väčšine prípadov problematické. Vieme len na základe vzťahu (4.9), že hodnota  $|\omega(x)|$  je podstatne menšia<sup>5</sup> ako hodnota  $|x - x_0|$ .

#### Poznámka 4.2.6.K4-poz19

Ak použijeme označenie  $h = x - x_0$ , potom môžeme funkciu  $g$  zapísať v tvare

$$g: y = f(x_0) + f'(x_0)h = f(x_0) + df(x_0, h), \quad x_0 + h \in P(x_0), \quad \text{t. j. } h \in P(0).$$

To znamená, že pre aproximáciu funkcie  $f$  v bode  $x = x_0 + h$  platí:

$$f(x_0 + h) \approx f(x_0) + f'(x_0)h = f(x_0) + df(x_0, h), \quad h \in P(0).$$

#### Príklad 4.2.3.K4-pr28

Približne vypočítajte hodnotu  $\sqrt[6]{1,06}$ .

#### Riešenie.

Označme  $f(x) = \sqrt[6]{x}$  pre  $x > 0$  a  $P(1)$  okolie bodu  $x_0 = 1$  také, že  $1,06 \in P(1)$ .

Potom  $f'(x) = [x^{\frac{1}{6}}]' = \frac{x^{-\frac{5}{6}}}{6}$ ,  $x > 0$  a pre aproximáciu v okolí  $P(1)$  platí:

$$g(x) = f(1) + f'(1)(x - 1) = 1 + \frac{1}{6}(x - 1) = \frac{x+5}{6}, \quad \text{t. j. } \sqrt[6]{x} \approx \frac{x+5}{6}.$$

Z toho vyplýva  $\sqrt[6]{1,06} \approx \frac{1,06+5}{6} = \frac{6,06}{6} = 1,01$ .

Presnejšia hodnota vypočítaná na kalkulačke je  $\sqrt[6]{1,06} = 1,0097588$ .

To znamená, že chyba výpočtu je menšia ako  $1,01 - 1,0097588 < 0,00025$ .

#### Iné riešenie.

Označme  $f(x) = \sqrt[6]{x+1}$  pre  $x > -1$ ,  $x_0 = 0$ ,  $h = 0,06$ . Nech  $P(0)$  je také, že  $h \in P(0)$ .

Pretože  $f'(x) = [(x+1)^{\frac{1}{6}}]' = \frac{(x+1)^{-\frac{5}{6}}}{6}$ ,  $x > -1$ , potom v okolí  $P(0)$  platí:

$$g(h) = f(0) + f'(0)h = 1 + \frac{h}{6} = \frac{6+h}{6}, \quad \text{t. j. } \sqrt[6]{1+h} \approx \frac{6+h}{6}.$$

To vedie na rovnaký výsledok  $\sqrt[6]{1,06} = \sqrt[6]{1+0,06} \approx \frac{6+0,06}{6} = \frac{6,06}{6} = 1,01$ . ■

#### Poznámka 4.2.7.K4-poz20

Vzťah  $\sqrt[6]{x} \approx \frac{x+5}{6}$  má zmysel iba pre hodnoty  $x$  nachádzajúce sa v blízkosti bodu 1. Ako dokazuje tabuľka 4.2.2, pri neuváženom použití tohto vzťahu môže chyba približného výpočtu narásť do neprijateľných rozmerov.

#### Príklad 4.2.4.K4-pr87

Približne vypočítajte hodnotu  $\operatorname{arctg} 1,1$ .

#### Riešenie.

Označme  $f(x) = \operatorname{arctg} x$ ,  $x_0 = 1$ ,  $h = 0,1$ . Potom  $f'(x) = \frac{1}{1+x^2}$  a platí:

$$\operatorname{arctg} 1,1 = f(1,1) \approx f(1) + f'(1) \cdot 0,1 = \operatorname{arctg} 1 + \frac{0,1}{1+1^2} = \frac{\pi}{4} + 0,05 = 0,835398.$$

Presná hodnota je  $\operatorname{arctg} 1,1 = 0,832981$ . Takže chyba výpočtu je približne  $0,002417$ . ■

<sup>5</sup>Funkcia  $\omega(x)$  je v bode  $x_0$  nekonečne malá vyššieho rádu ako funkcia  $y = x - x_0$ .

$x$	$\sqrt[6]{x}$	$\frac{x+5}{6}$	chyba	$x$	$\sqrt[6]{x}$	$\frac{x+5}{6}$	chyba
0,1	0,6812920	0,8500000	> 0,16870	1,3	1,0446975	1,0500000	< 0,00531
0,3	0,8181888	0,8833333	< 0,06515	1,5	1,0699132	1,0833333	< 0,01343
0,5	0,8908987	0,9166666	< 0,02577	2,0	1,1224620	1,1666667	< 0,04421
0,7	0,9422865	0,9500000	< 0,00772	3,0	1,2009369	1,3333333	> 0,13239
0,8	0,9634924	0,9666666	< 0,00312	5,0	1,3076605	1,6666667	> 0,35900
0,9	0,9825931	0,9833333	< 0,00075	10	1,4677993	2,5000000	> 1,03220
1,1	1,0160119	1,0166667	< 0,00066	20	1,6475490	4,1666667	> 2,51911
1,2	1,0308533	1,0333333	< 0,00249	64	2,0000000	11,5000000	= 9,50000

Tabuľka 4.2.2: Výpočet  $\sqrt[6]{x}$  pomocou približného vzorca  $\frac{x+5}{6}$ .

Nech  $y$  je nejaká veličina závislá od veličiny  $x$  podľa vzorca  $y = f(x)$ , kde  $f$  je známa funkcia. Predpokladajme, že sme veličinu  $x$  namerali s chybou  $\Delta x$ , ktorá je v porovnaní s  $x$  malá. Chybu  $\Delta x$  nazývame **absolútna chyba** nameranej (nezávislej) **veličiny**  $x$ . Chybu  $\Delta y$ , ktorú nazývame **absolútna chyba** závislej **veličiny**  $y$  môžeme potom vyjadriť ako hodnotu diferenciálu funkcie  $f$  v bode  $x$  pre  $h = \Delta x$ .

Nech  $P(x)$  je okolie bodu  $x$  také, že  $x + \Delta x \in P(x)$ . Z poznámky 4.2.6 vyplýva:

$$f(x + \Delta x) \approx f(x) + f'(x)\Delta x = f(x) + df(x, \Delta x), \quad \Delta x \in P(0).$$

Pre absolútnu chybu  $\Delta y$  potom platí:

$$\Delta y = f(x + \Delta x) - f(x) = f'(x)\Delta x = df(x, \Delta x). \quad (4.10)$$

Chyby sa spravidlá vyjadrujú v tvare podielov  $\delta_x = \frac{\Delta x}{x}$ , resp.  $\delta_y = \frac{\Delta y}{y}$ , ktoré nazývame **relatívne (pomerné) chyby veličín**  $x$ , resp.  $y$ .

#### Príklad 4.2.5.K4-pr33

Aká je chyba objemu gule, ak sme jej polomer  $r$  namerali s absolútnou chybou  $\Delta r$ ?

**Riešenie.**

Keďže pre objem gule platí  $V(r) = \frac{4\pi r^3}{3}$ , potom zo vzťahu (4.10) vyplýva:

$$\Delta V \approx dV(r, \Delta r) = V'(r)\Delta r = \left[ \frac{4\pi r^3}{3} \right]' \Delta r = \frac{4\pi}{3} 3r^2 \Delta r = 4\pi r^2 \Delta r.$$

Ak označíme relatívnu chybu polomeru  $\delta_r = \frac{\Delta r}{r}$ , potom platí:

$$\delta_V = \frac{\Delta V}{V} \approx \frac{4\pi r^2 \Delta r}{\frac{4\pi r^3}{3}} = \frac{3\Delta r}{r} = 3\delta_r.$$

To znamená, že relatívna chyba objemu je trojnásobok relatívnej chyby polomeru. ■

#### Príklad 4.2.6.K4-pr34

Určte relatívnu chybu povrchu gule, keď objem gule má relatívnu chybu  $\delta_V = 0,2\%$ .

**Riešenie.**

Pre relatívnu chybu platí  $\delta_V = \frac{0,2\%}{100\%} = 0,002$  a pre absolútnu chybu  $\Delta V$  platí:

$$\delta_V = \frac{\Delta V}{V}, \quad \text{t. j.} \quad \Delta V = V \cdot \delta_V = 0,2V\% = \frac{0,2V\%}{100\%} = 0,002V.$$

Zo vzťahov  $V = \frac{4\pi r^3}{3}$ ,  $S = 4\pi r^2$  pre povrch a objem gule s polomerom  $r$  vyplýva:

$$S(V) = 4\pi \left[ \sqrt[3]{\frac{3V}{4\pi}} \right]^2 = \sqrt[3]{\frac{(4\pi)^3 (3V)^2}{(4\pi)^2}} = \sqrt[3]{4\pi \cdot 9V^2} = \sqrt[3]{36\pi} V^{\frac{2}{3}} = \sqrt[3]{36\pi} \sqrt[3]{V^2}.$$

Pre absolútnu chybu  $\Delta S$  povrchu  $S$  potom platí:

$$\Delta S \approx \left[ \sqrt[3]{36\pi} V^{\frac{2}{3}} \right]' \Delta V = \sqrt[3]{36\pi} \frac{2V^{-\frac{1}{3}} \Delta V}{3} = \frac{2\sqrt[3]{36\pi} \Delta V}{3\sqrt[3]{V}}.$$

Potom pre relatívnu chybu  $\delta_S$  povrchu  $S$  platí:

$$\delta_S \approx \frac{\Delta S}{S} = \frac{2\sqrt[3]{36\pi} \Delta V}{3\sqrt[3]{V} \sqrt[3]{36\pi} \sqrt[3]{V^2}} = \frac{2\Delta V}{3V} = \frac{2}{3} \delta_V = \frac{2 \cdot 0,002}{3} = 0,001333 = 0,1333\%. \blacksquare$$

### 4.2.3 Derivácie vyšších rádov

Nech má funkcia  $y = f(x)$ ,  $x \in M$  deriváciu na neprázdnej množine  $M_1 \subset M$ . Ak má funkcia  $y = f'(x)$ ,  $x \in M_1$  deriváciu  $[f']'$  na nejakej neprázdnej množine  $M_2 \subset M_1$ , potom ju nazývame **derivácia druhého rádu (druhá derivácia) funkcie  $f$  na množine  $M_2$**  a označujeme  $f''$ , resp.  $f^{(2)}$ . To znamená, že  $[f']' = f'' = f^{(2)}$ .

Ak má funkcia  $y = f''(x)$ ,  $x \in M_2$  deriváciu na neprázdnej množine  $M_3 \subset M_2$ , potom ju nazývame **derivácia tretieho rádu (tretia derivácia) funkcie  $f$  na množine  $M_3$**  a označujeme  $[f'']' = f''' = f^{(3)}$ . Takto môžeme pokračovať pre  $n \in \mathbb{N}$ ,  $n \geq 2$ .

Predpokladajme, že sme takto definovali deriváciu funkcie  $f$  rádu  $n-1$  na neprázdnej množine  $M_{n-1}$ , ktorú označíme  $f^{(n-1)}$ . Ak má táto funkcia deriváciu na neprázdnej množine  $M_n \subset M_{n-1}$ , potom ju nazývame **derivácia  $n$ -tého rádu ( $n$ -tá derivácia) funkcie  $f$  na množine  $M_n$**  a označujeme  $[f^{(n-1)}]' = f^{(n)}$ .

Hodnotu  $f''(x_0)$  v bode  $x_0 \in M_2$  nazývame **derivácia druhého rádu (druhá derivácia) funkcie  $f$  v bode  $x_0$**  a hodnotu  $f'''(x_0)$  v bode  $x_0 \in M_3$  nazývame **derivácia tretieho rádu (tretia derivácia) funkcie  $f$  v bode  $x_0$** . Hodnotu  $f^{(n)}(x_0)$  v bode  $x_0 \in M_n$  nazývame **derivácia  $n$ -tého rádu ( $n$ -tá derivácia) funkcie  $f$  v bode  $x_0$** .

#### Poznámka 4.2.8.K4-poz21

Derivácie  $f^{(n)}$ ,  $n \in \mathbb{N}$ ,  $n \geq 2$  nazývame súhrnne **deriváciami vyššieho rádu** a deriváciu  $f' = f^{(1)}$  nazývame **prvou deriváciou (deriváciou prvého rádu)**.

Niekedy je výhodné aj funkciu  $f$  považovať za deriváciu. Vtedy ju nazývame **nultá derivácia (derivácia nultého rádu) funkcie  $f$**  a označujeme  $f = f^{(0)}$ .

#### Poznámka 4.2.9.K4-poz22

Z definície vyplýva, že funkcia  $y = f(x)$ ,  $x \in M$  má v bode  $x_0$  deriváciu rádu  $n$ ,  $n \in \mathbb{N}$ , ak existuje prvá derivácia funkcie  $f^{(n-1)}$  v bode  $x_0$ , t. j. ak existuje limita

$$f^{(n)}(x_0) = \lim_{x \rightarrow x_0} \frac{f^{(n-1)}(x) - f^{(n-1)}(x_0)}{x - x_0} = \lim_{h \rightarrow 0} \frac{f^{(n-1)}(x_0 + h) - f^{(n-1)}(x_0)}{h}.$$

To znamená, že funkcia  $f^{(n-1)}$  musí byť definovaná v nejakom okolí bodu  $x_0$ .

Výpočet derivácie vyššieho rádu funkcie môže byť vo všeobecnosti veľmi pracný, pretože musíme postupne vypočítať derivácie všetkých nižších rádov počnúc prvou deriváciou. Ako dokazujú nasledujúce príklady, v niektorých prípadoch sa dajú pomerne jednoducho odvodiť všeobecné vzorce pre vyššie derivácie danej funkcie.

#### Príklad 4.2.7.K4-pr29

Vypočítajte  $n$ -tú deriváciu  $f^{(n)}$ ,  $n \in \mathbb{N}$  funkcie  $f: y = x^k$ ,  $x \in \mathbb{R}$ ,  $k \in \mathbb{N}$ .

**Riešenie.**

Postupným derivovaním dostaneme

$$f'(x) = kx^{k-1}, \quad f''(x) = k(k-1)x^{k-2}, \quad \dots, \quad f^{(k-1)}(x) = k(k-1) \cdots 2 \cdot x^1, \quad x \in \mathbb{R}.$$

Potom  $f^{(k)}(x) = k!x^0 = k!$  a pre  $n > k$ ,  $n \in N$  platí  $f^{(n)}(x) = 0$ ,  $x \in R$ .

Ak to zhrnieme, pre všetky  $n \in N$  a pre všetky  $x \in R$  platí:

$$f^{(n)}(x) = k(k-1) \cdots (k-n+1)x^{k-n}, \quad n < k, \quad f^{(k)}(x) = k!, \quad f^{(n)}(x) = 0, \quad n > k. \quad \blacksquare$$

#### Príklad 4.2.8.K4-pr30

Vypočítajte  $n$ -té derivácie ( $n \in N$ ) funkcií  $y = \sin x$ ,  $y = \cos x$ ,  $y = e^x$  na množine  $R$ .

#### Riešenie.

Z príkladu 4.1.8 vyplýva, že pre všetky  $n \in N$  a pre všetky  $x \in R$  platí  $[e^x]^{(n)} = e^x$ .

Pre funkcie  $y = \sin x$ ,  $y = \cos x$  pre všetky  $x \in R$  platí:

$$[\sin x]' = \cos x, \quad [\sin x]'' = -\sin x, \quad [\sin x]''' = -\cos x, \quad [\sin x]'''' = \sin x,$$

$$[\cos x]' = -\sin x, \quad [\cos x]'' = -\cos x, \quad [\cos x]''' = \sin x, \quad [\cos x]'''' = \cos x.$$

Z toho vyplýva, že pre všetky  $n = 0, 1, 2, \dots, k \in N$ ,  $x \in R$  platí:

$$[\sin x]^{(n)} = [\sin x]^{(n+4)} = [\sin x]^{(n+4k)}, \quad [\cos x]^{(n)} = [\cos x]^{(n+4)} = [\cos x]^{(n+4k)}. \quad \blacksquare$$

Vzorce pre  $n$ -tú deriváciu funkcií z predchádzajúcich príkladov a tiež niektorých základných elementárnych funkcií sú uvedené v tabuľke 4.2.3. Ich dôkaz prenechávame čitateľovi ako domáce cvičenie.

Vzorec	podmienky platnosti	Vzorec	podmienky platnosti
$[x^k]^{(n)} = 0,$	$x \in R, k \in N, k > n$	$[x^k]^{(n)} = k(k-1) \cdots (k-n+1)x^{k-n},$	$x \in R, k \in N, k < n$
$[x^n]^{(n)} = n!,$	$x \in R$	$[x^a]^{(n)} = a(a-1) \cdots (a-n+1)x^{a-n},$	$x > 0, a \in R$
$[e^x]^{(n)} = e^x,$	$x \in R$	$[a^x]^{(n)} = a^x \ln^n a,$	$x \in R, a > 0$
$[\ln x]^{(n)} = \frac{(-1)^{n-1}(n-1)!}{x^n},$	$x > 0$	$[\log_a x]^{(n)} = \frac{(-1)^{n-1}(n-1)!}{x^n \ln a},$	$x > 0, a > 0, a \neq 1$
$[\ln  x ]^{(n)} = \frac{(-1)^{n-1}(n-1)!}{x^n},$	$x \neq 0$	$[\log_a  x ]^{(n)} = \frac{(-1)^{n-1}(n-1)!}{x^n \ln a},$	$x \neq 0, a > 0, a \neq 1$
$[\sin x]^{(n)} = \sin\left(x + \frac{n\pi}{2}\right),$	$x \in R$	$[\sinh x]^{(n)} = \begin{cases} \sinh x, & n = 2k, \\ \cosh x, & n = 2k + 1, \end{cases}$	$x \in R, k \in N$
$[\cos x]^{(n)} = \cos\left(x + \frac{n\pi}{2}\right),$	$x \in R$	$[\cosh x]^{(n)} = \begin{cases} \cosh x, & n = 2k, \\ \sinh x, & n = 2k + 1, \end{cases}$	$x \in R, k \in N$

Tabuľka 4.2.3: Derivácie rádu  $n \in N$  základných elementárnych funkcií.

#### Veta 4.2.3 (Leibnizov vzorec).K4-veta11

Nech  $n \in N$  a nech majú funkcie  $f, g$  na množine  $M$  derivácie do rádu  $n$  vrátane.

Potom pre  $n$ -tú deriváciu  $[fg]^{(n)}$  na množine  $M$  platí:

$$[fg]^{(n)} = \sum_{i=0}^n \binom{n}{i} f^{(n-i)} g^{(i)} = \binom{n}{0} f^{(n)} g^{(0)} + \binom{n}{1} f^{(n-1)} g^{(1)} + \cdots + \binom{n}{n} f^{(0)} g^{(n)}.$$

#### Dôkaz.

Použijeme matematickú indukciu. Pre  $n = 1$  tvrdenie platí triviálne, pretože

$$[fg]' = f'g + fg' = \binom{1}{0} f'g + \binom{1}{1} fg' = \sum_{i=0}^1 \binom{1}{i} f^{(1-i)} g^{(i)}.$$

Predpokladajme, že pre  $n = k$ ,  $k \in \mathbb{N}$  platí  $[fg]^{(k)} = \sum_{i=0}^k \binom{k}{i} f^{(k-i)} g^{(i)}$ .

Potom pre  $n = k + 1$  na základe poznámky 4.1.8 platí:

$$\begin{aligned} [fg]^{(k+1)} &= [[fg]^{(k)}]' = \left[ \sum_{i=0}^k \binom{k}{i} f^{(k-i)} g^{(i)} \right]' = \sum_{i=0}^k \binom{k}{i} [f^{(k-i)} g^{(i)}]' = \\ &= \sum_{i=0}^k \binom{k}{i} [f^{(k-i+1)} g^{(i)} + f^{(k-i)} g^{(i+1)}] = \sum_{i=0}^k \binom{k}{i} f^{(k-i+1)} g^{(i)} + \sum_{i=0}^k \binom{k}{i} f^{(k-i)} g^{(i+1)} = \\ &= \binom{k}{0} f^{(k+1)} g^{(0)} + \sum_{i=1}^k \binom{k}{i} f^{(k-i+1)} g^{(i)} + \sum_{i=0}^{k-1} \binom{k}{i} f^{(k-i)} g^{(i+1)} + \binom{k}{k} f^{(0)} g^{(k+1)} = (*). \end{aligned}$$

Ak použijeme známe vzorce pre binomické čísla<sup>6</sup>

$$\binom{k+1}{i+1} = \binom{k}{i+1} + \binom{k}{i}, \quad \binom{k}{0} = \binom{k+1}{0}, \quad \binom{k}{k} = \binom{k+1}{k+1}$$

a položíme v prvej sume  $i = j + 1$ , t. j.  $j = i - 1$ , potom dostaneme

$$\begin{aligned} (*) &= \binom{k}{0} f^{(k+1)} g^{(0)} + \sum_{j=0}^{k-1} \binom{k}{j+1} f^{(k-j)} g^{(j+1)} + \sum_{i=0}^{k-1} \binom{k}{i} f^{(k-i)} g^{(i+1)} + \binom{k}{k} f^{(0)} g^{(k+1)} = \\ &= \binom{k+1}{0} f^{(k+1)} g^{(0)} + \sum_{i=0}^{k-1} [\binom{k}{i+1} + \binom{k}{i}] f^{(k-i)} g^{(i+1)} + \binom{k+1}{k+1} f^{(0)} g^{(k+1)} = \\ &= \binom{k+1}{0} f^{(k+1)} g^{(0)} + \sum_{i=0}^{k-1} \binom{k+1}{i+1} f^{(k-i)} g^{(i+1)} + \binom{k+1}{k+1} f^{(0)} g^{(k+1)} = (**). \end{aligned}$$

Ak položíme v sume  $j = i + 1$ , t. j.  $i = j - 1$ , dostaneme tvrdenie vety pre  $n = k + 1$ , t. j.

$$\begin{aligned} (**) &= [fg]^{(k+1)} = \binom{k+1}{0} f^{(k+1)} g^{(0)} + \sum_{j=1}^k \binom{k+1}{j} f^{(k-j+1)} g^{(j)} + \binom{k+1}{k+1} f^{(0)} g^{(k+1)} = \\ &= \sum_{j=0}^{k+1} \binom{k+1}{j} f^{(k-j+1)} g^{(j)} = \sum_{i=0}^{k+1} \binom{k+1}{i} f^{(k+1-i)} g^{(i)}. \end{aligned}$$

To znamená, že tvrdenie vety platí pre všetky  $n \in \mathbb{N}$ . ■

#### Príklad 4.2.9.K4-pr31

Vypočítajte  $n$ -tú deriváciu funkcie  $y = e^x x^2$ ,  $x \in \mathbb{R}$  pre všetky  $n \in \mathbb{N}$ .

**Riešenie.**

Zo vzťahov  $[x^2]' = 2x$ ,  $[x^2]'' = 2$  a z Leibnizovho vzorca vyplýva:

$$[e^x x^2]' = e^x 2x + e^x x^2 = e^x(x^2 + 2x), \quad [e^x x^2]'' = e^x 2 + 2e^x 2x + e^x x^2 = e^x(x^2 + 4x + 2).$$

Keďže  $[x^2]^{(k)} = 0$  pre všetky  $k \in \mathbb{N}$ ,  $k \geq 3$ , potom pre  $n \in \mathbb{N}$ ,  $n \geq 3$  platí:

$$[e^x x^2]^{(n)} = \binom{n}{0} e^x x^2 + \binom{n}{1} e^x 2x + \binom{n}{2} e^x 2 = e^x[x^2 + 2nx + 2n(n-1)]. \quad \blacksquare$$

#### Príklad 4.2.10.K4-pr52

Nech  $n \in \mathbb{N}$ ,  $a_0, a_1, \dots, a_n \in \mathbb{R}$ . Vypočítajte derivácie všetkých rádoV polynómu

$$f_n(x) = \sum_{k=0}^n a_k x^k = a_0 + a_1 x + a_2 x^2 + \dots + a_n x^n, \quad x \in \mathbb{R}.$$

<sup>6</sup>Vid' cvičenie 1.2.20.





**Poznámka 4.2.12.K4-poz23**

Ak označíme  $h = x - x_0$ , potom môžeme  $n$ -tý diferenciál funkcie  $f$  v bode  $x_0$  zapísať

$$d^n f(x, x - x_0) = f^{(n)}(x_0)(x - x_0)^n, \quad x \in R.$$

Ak označíme  $h = dx$ , potom z definície diferenciálu  $n$ -tého rádu funkcie  $f$  vyplýva:<sup>7</sup>

$$df(x) = f^{(n)}(x_0)[dx]^n = f^{(n)}(x_0) dx^n, \quad \text{t. j. } f^{(n)}(x) = \frac{d^n f(x)}{dx^n}, \quad n \in N.$$

Ak uvážime definíciu derivácie vyšších rádoov funkcie  $f$ , potom pre  $n \in N$  platí:

$$f''(x) = \frac{d}{dx} \left[ \frac{df(x)}{dx} \right] = \frac{d^2 f(x)}{dx^2}, \quad \dots, \quad f^{(n)}(x) = \frac{d}{dx} \left[ \frac{d^{(n-1)} f(x)}{dx^{n-1}} \right] = \frac{d^n f(x)}{dx^n}.$$

**Príklad 4.2.12.K4-pr32**

Vypočítajte diferenciál piateho rádu funkcie  $f(x) = \ln x$ ,  $x \geq 0$  v bode  $x_0 = 1$ .

**Riešenie.**

Pre derivácie funkcie  $f$  do piateho rádu platí:

$$f'(x) = \frac{1}{x}, \quad f''(x) = -\frac{1}{x^2}, \quad f'''(x) = 2x^{-3}, \quad f^{(4)}(x) = -6x^{-4}, \quad f^{(5)}(x) = 24x^{-5}.$$

Z toho vyplýva  $d^5 f(1, h) = f^{(5)}(1)h^5 = 24h^5$ , resp.  $d^5 f(1) = 24 dx^5$ . ■

**Cvičenia**

**4.2.1.** Vypočítajte diferenciál  $df(x, h)$ , ak je funkcia  $f$  definovaná predpisom: ♣

- |                                 |                                   |                                |                                   |
|---------------------------------|-----------------------------------|--------------------------------|-----------------------------------|
| a) $y = x e^x$ ,                | b) $y = x^3 2^x$ ,                | c) $y = \frac{1}{x}$ ,         | d) $y = \arcsin x$ ,              |
| e) $y = 2^{-\frac{\ln x}{x}}$ , | f) $y = \frac{\ln x}{\sqrt{x}}$ , | g) $y = \frac{x}{1-x}$ ,       | h) $y = \ln \frac{1-x}{1+x}$ ,    |
| i) $y = e^{-x^2}$ ,             | j) $y = x \ln x$ ,                | k) $y = \operatorname{tg} x$ , | l) $y = \operatorname{arctg} x$ . |

**4.2.2.** Kružový výsek má polomer  $r = 30$  cm a stredový uhol  $\varphi = 60^\circ$ . Určte približne, ako sa zmení obsah kruhového výseku, ak: ♣

- |                          |                          |                                   |
|--------------------------|--------------------------|-----------------------------------|
| a) $r$ sa zväčší o 1 cm, | b) $r$ sa zmenší o 1 cm, | c) $\varphi$ zmenší o $1^\circ$ . |
|--------------------------|--------------------------|-----------------------------------|

**4.2.3.** Dokážte, že ak je  $h$  podstatne menšie ako  $x^2$ , potom platia približné vzorce:

- |  |   |
|--|---|
| a) $\sqrt{x^2 + h} \approx x + \frac{h}{2x}$ , $x > 0$ , | b) $\sqrt[n]{x^n + h} \approx x + \frac{h}{nx^{n-1}}$ , $x > 0$ . |
|--|---|

**4.2.4.** Určte absolútnu a relatívnu chybu obsahu kruhu s polomerom  $r$ , ak je polomer daný s absolútnou chybou  $\Delta r$ . ♣

**4.2.5.** Pomocou diferenciálu vypočítajte približne hodnoty: ♣

- |                      |                                   |                  |                        |                                  |
|----------------------|-----------------------------------|------------------|------------------------|----------------------------------|
| a) $\cos 61^\circ$ , | b) $\operatorname{tg} 44^\circ$ , | c) $\ln 0,9$ ,   | d) $\sqrt[11]{2000}$ , | e) $\arcsin 0,54$ ,              |
| f) $\sqrt[4]{17}$ ,  | g) $\sqrt[4]{267}$ ,              | h) $\sqrt{82}$ , | i) $\sqrt[3]{214}$ ,   | j) $\operatorname{arctg} 0,97$ , |
| k) $1,04^5$ ,        | l) $2^{1,002}$ ,                  | m) $\ln 20$ ,    | n) $\log 1001$ ,       | o) $\operatorname{arctg} 1,05$ . |

**4.2.6.** Úhľové zrýchlenie  $g_h$  v nadmorskej výške  $h$  je určené vzťahom  $g_h = \frac{gr^2}{(r+h)^2}$ , kde  $g = 9,8065 \text{ ms}^{-2}$  je tiažové zrýchlenie pri povrchu zeme a  $r$  je polomer zeme (stredný polomer zeme je  $r = 6371$  km). Dokážte, že platí  $g_h \approx g(1 - \frac{2h}{r})$ .

<sup>7</sup>Pre zjednodušenie sa používa zápis  $[dx]^n = dx^n$ .

**4.2.7.** Vypočítajte deriváciu tretieho a piateho rádu funkcie  $y = f(x)$ , ak: ♣

- a)  $y = x^3 \sin x$ ,      b)  $y = x^3 \cos x$ ,      c)  $y = x^3 \sin 2x$ ,      d)  $y = x^3 \cos 2x$ ,  
 e)  $y = e^x \sin x$ ,      f)  $y = e^x \cos x$ ,      g)  $y = x^5 \ln x$ ,      h)  $y = x e^x \sin x$ .

**4.2.8.** Vypočítajte deriváciu  $n$ -tého rádu,  $n \in \mathbb{N}$ , funkcie  $y = f(x)$ , ak: ♣

- a)  $y = \sin^2 x$ ,      b)  $y = \cos^3 x$ ,      c)  $y = x \sin x$ ,      d)  $y = x^{n-1} \ln x$ ,  
 e)  $y = \frac{x+1}{x-1}$ ,      f)  $y = \frac{x-1}{x+1}$ ,      g)  $y = \frac{x+\ln x}{x}$ ,      h)  $y = \frac{x}{x^2-1}$ ,  
 i)  $y = x e^x$ ,      j)  $y = x \ln x$ ,      k)  $y = x + \ln x$ ,      l)  $y = x(\ln x - 1)$ .

**4.2.9.** Dokážte, že funkcia  $y = c_1 e^x \cos x + c_2 e^x \sin x + c_3 e^{-x} \cos x + c_4 e^{-x} \sin x$ ,  $x \in \mathbb{R}$ , kde  $c_1, c_2, c_3, c_4$  sú ľubovoľné reálne čísla spĺňa rovnicu  $y^{(4)} + 4y = 0$ .

**4.2.10.** Nech  $a > 0$ . Dokážte, že funkcia  $y = c_1 e^{ax} + c_2 e^{-ax} + c_3 \cos ax + c_4 \sin ax$ ,  $x \in \mathbb{R}$ , kde  $c_1, c_2, c_3, c_4$  sú ľubovoľné reálne čísla spĺňa rovnicu  $y^{(4)} - a^4 y = 0$ .

## 4.3 Aplikácie diferenciálneho počtu

### 4.3.1 Vety o strednej hodnote funkcie

**Vety o strednej hodnote funkcie** patria spolu s **l'Hospitalovým pravidlom** medzi najdôležitejšie a najčastejšie používané aplikácie diferenciálneho počtu. Vety o strednej hodnote funkcie sú tri a nazývajú sa Rolleho, Lagrangeova a Cauchyho.

#### Veta 4.3.1.K4-veta12

Nech funkcia  $f$  nadobúda vo vnútornom bode  $c \in M$  na množine<sup>8</sup>  $M \subset D(f)$  minimum, resp. maximum. Ak existuje derivácia  $f'(c)$ , potom platí  $f'(c) = 0$ .

#### Dôkaz.

Funkcia  $f$  má v bode  $c$  deriváciu, t. j. existuje  $f'(c) = f'_-(c) = f'_+(c)$ .

Ak  $f(c) = \min f(x)$ ,  $x \in M$ , potom pre všetky  $x \in M$  platí  $f(x) \geq f(c)$ , t. j.  $f(x) - f(c) \geq 0$ .

Keďže pre všetky  $x < c$  platí  $x - c < 0$ , potom

$$\frac{f(x)-f(c)}{x-c} \leq 0, \quad \text{t. j. } f'_-(c) = \lim_{x \rightarrow c^-} \frac{f(x)-f(c)}{x-c} \leq 0.$$

Podobne pre všetky  $x > c$  platí  $x - c > 0$ . Z toho vyplýva:

$$\frac{f(x)-f(c)}{x-c} \geq 0, \quad \text{t. j. } f'_+(c) = \lim_{x \rightarrow c^+} \frac{f(x)-f(c)}{x-c} \geq 0.$$

Potom platí  $f'_-(c) \leq 0 \leq f'_+(c)$ , t. j.  $f'(c) = f'_-(c) = f'_+(c) = 0$ .

V prípade  $f(c) = \max f(x)$ ,  $x \in M$  je dôkaz analogický a prenechávame ho čitateľovi. ■

#### Veta 4.3.2 (Rolleho).K4-veta13

Nech<sup>9</sup> pre funkciu  $f$  definovanú na uzavretom intervale  $\langle a; b \rangle$  platí:

- i) je spojitá na  $\langle a; b \rangle$ ,      ii) má deriváciu (aj nevlastnú) na  $(a; b)$ ,      iii)  $f(a) = f(b)$ .

Potom existuje aspoň jeden bod  $c \in (a; b)$  taký, že  $f'(c) = 0$ .

<sup>8</sup>T. j. platí  $f(c) = \min \{f(x); x \in M\}$ , resp.  $f(c) = \max \{f(x); x \in M\}$ .

<sup>9</sup>Michel Rolle [1652–1719] — francúzsky matematik.



**Príklad 4.3.1.K4-pr40**

Približne odhadnite hodnotu výrazu: a)  $\operatorname{tg} 2, 1$ , b)  $\ln 27$ .

**Riešenie.**

a) Označme  $f(x) = \operatorname{tg} x$ ,  $x \in \langle \frac{2\pi}{3}; 2, 1 \rangle$ .

Funkcia  $f$  je spojitá a pre všetky  $x \in \langle \frac{2\pi}{3}; 2, 1 \rangle$  platí  $f'(x) = \cos^{-2} x$ . To znamená, že funkcia  $f$  spĺňa na intervale  $\langle \frac{2\pi}{3}; 2, 1 \rangle$  predpoklady Lagrangeovej vety o strednej hodnote. Potom existuje  $c \in (\frac{2\pi}{3}; 2, 1)$  také, že platí:

$$\operatorname{tg} \frac{2\pi}{3} - \operatorname{tg} 2, 1 = \frac{1}{\cos^2 c} \left( \frac{2\pi}{3} - 2, 1 \right), \quad \text{t. j.} \quad \operatorname{tg} 2, 1 = \operatorname{tg} \frac{2\pi}{3} - \frac{1}{\cos^2 c} \left( \frac{2\pi}{3} - 2, 1 \right).$$

Keďže  $\operatorname{tg} \frac{2\pi}{3} = -\sqrt{3}$ ,  $\cos \frac{2\pi}{3} = -\frac{1}{2} = -0, 5$ , potom ak položíme  $c \approx \frac{2\pi}{3}$ , dostaneme

$$\operatorname{tg} 2, 1 \approx -\sqrt{3} - \frac{1}{0,25} \left( \frac{2\pi}{3} - 2, 1 \right) = -1, 732 051 - 4(2, 094 395 - 2, 1) = -1, 709 631.$$

Ak porovnáme túto hodnotu s presnou hodnotou  $\operatorname{tg} 2, 1 = -1, 709 847$ , dostaneme chybu výpočtu  $|1, 709 847 - 1, 709 631| = 0, 000 216 < 0, 01$ .

b) Označme  $f(x) = \ln x$ ,  $x \in \langle e^3; 27 \rangle$ .

Funkcia  $f$  je spojitá a pre všetky  $x \in \langle e^3; 27 \rangle$  platí  $f'(x) = \frac{1}{x}$ . Potom na základe Lagrangeovej vety o strednej hodnote existuje  $c \in (e^3; 27)$  také, že platí:

$$\frac{27 - e^3}{c} = \ln 27 - \ln e^3 = \ln 27 - 3 \ln e = \ln 27 - 3.$$

Zo vzťahu  $e^3 < c < 27$  vyplýva  $\frac{27 - e^3}{27} < \frac{27 - e^3}{c} < \frac{27 - e^3}{e^3}$ . Potom platí:

$$1 - \frac{e^3}{27} = \frac{27 - e^3}{27} < \ln 27 - 3 < \frac{27 - e^3}{e^3} = \frac{27}{e^3} - 1, \quad \text{t. j.} \quad 4 - \frac{e^3}{27} < \ln 27 < \frac{27}{e^3} + 2.$$

Ak položíme  $e = 2, 718 282$ , potom dostaneme  $3, 256 091 < \ln 27 < 3, 344 251$ . ■

**Poznámka 4.3.3.K4-poz30**

Ak položíme v predpokladoch Lagrangeovej vety  $f(a) = f(b)$ , potom dostaneme tvrdenie  $f'(c) = 0$ . To znamená, že Rolleho veta je dôsledkom Lagrangeovej vety.

Geometrický význam týchto viet je ilustrovaný na obrázkoch 4.3.8 a 4.3.9. Dotyčnica ku grafu funkcie  $f$  v bode  $C = [c; f(c)]$  zvierá s osou  $x$  uhol  $\alpha$ , pre ktorý platí:

$$\operatorname{tg} \alpha = f'(c) = 0, \quad \text{resp.} \quad \operatorname{tg} \alpha = f'(c) = \frac{f(b) - f(a)}{b - a}.$$

To znamená, že táto dotyčnica je rovnobežná s priamkou, ktorá je určená krajnými bodmi  $A = [a; f(a)]$  a  $B = [b; f(b)]$ . V prípade Rolleho vety je teda rovnobežná s osou  $x$ .

Rolleho a Lagrangeova veta zaručujú existenciu aspoň jedného bodu  $c \in (a; b)$ , pre ktorý platí  $f'(c) = 0$ , resp. pre ktorý platí vzťah (4.11). Pomocou nich však takéto body nevieme nájsť a ani nedokážeme určiť ich počet. Funkcia  $f$  ilustrovaná na obrázku 4.3.8 má na intervale  $(a; b)$  dva takéto body  $c_1$  a  $c_2$ , ale na intervale  $(a; \bar{b})$  iba jeden bod  $c_1$ . Funkcia  $f$  ilustrovaná na obrázku 4.3.9 má na intervale  $(a; b)$  tiež dva body  $c_1, c_2$ .

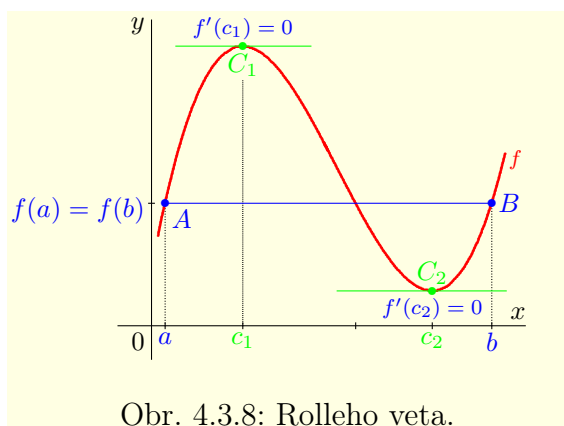
Predtým, ako sformulujeme poslednú z viet o strednej hodnote, uvedieme niektoré dôsledky predchádzajúcej vety. Priamo z Lagrangeovej vety vyplýva nasledujúci dôsledok.

**Dôsledok 4.3.3.a.K4-dosl03**

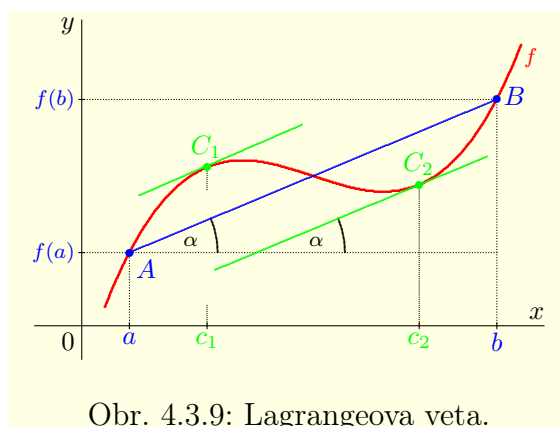
Nech sú splnené predpoklady Lagrangeovej vety 4.3.3 na intervale  $\langle a; b \rangle$  a nech  $x_1, x_2$ ,  $x_1 < x_2$  sú dva ľubovoľné body ležiace v intervale  $\langle a; b \rangle$ .

Potom existuje aspoň jeden bod  $c \in (x_1; x_2)$  taký, že platí:

$$f'(c) = \frac{f(x_2) - f(x_1)}{x_2 - x_1}, \quad \text{t. j.} \quad f(x_2) - f(x_1) = f'(c) \cdot (x_2 - x_1).$$



Obr. 4.3.8: Rolleho veta.



Obr. 4.3.9: Lagrangeova veta.

**Dôsledok 4.3.3.b.K4-dosl04**

Ak má funkcia  $f$  na intervale  $(a; b)$  nulovú deriváciu, t. j. pre všetky  $x \in (a; b)$  platí  $f'(x) = 0$ , potom je funkcia  $f$  na intervale  $(a; b)$  konštantná.

**Dôkaz.**

Z vety 4.1.1 vyplýva, že je funkcia  $f$  na intervale  $(a; b)$  spojitá. Nech  $x_1, x_2 \in (a; b)$ ,  $x_1 < x_2$  sú dva ľubovoľné body. Potom sú na intervale  $\langle x_1; x_2 \rangle$  splnené predpoklady Lagrangeovej vety.

To znamená, že existuje<sup>10</sup>  $c \in (x_1; x_2)$ , pre ktoré platí  $f(x_2) - f(x_1) = f'(c)(x_2 - x_1) = 0(x_2 - x_1) = 0$ , t. j.  $f(x_1) = f(x_2)$ . ■

**Dôsledok 4.3.3.c.K4-dosl07**

Ak majú funkcie  $f, g$  na intervale  $(a; b)$  derivácie  $f', g'$  také, že pre všetky  $x \in (a; b)$  platí  $f'(x) = g'(x)$ , potom je funkcia  $f - g$  na  $(a; b)$  konštantná.

**Dôkaz.**

Označme  $F = f - g$ . Pre všetky  $x \in (a; b)$  platí  $F'(x) = f'(x) - g'(x) = 0$ . Z toho vyplýva na základe dôsledku 4.3.3.b, že je funkcia  $F = f - g$  konštantná. ■

**Dôsledok 4.3.3.d.K4-dosl05**

Ak je funkcia  $f$  spojitá na intervale  $(a; b)$  a pre všetky  $x \in (a; b)$  platí  $f'(x) \neq 0$ , potom je funkcia  $f$  na intervale  $(a; b)$  prostá.

**Dôkaz.**

Dôkaz je podobný ako pri predchádzajúcich dôsledkoch.

Ak  $x_1, x_2 \in (a; b)$ ,  $x_1 < x_2$  sú dva ľubovoľné body, potom existuje bod  $c \in (x_1; x_2)$ , pre ktorý platí  $f(x_2) - f(x_1) = f'(c) \cdot (x_2 - x_1) \neq 0$ , t. j.  $f(x_1) \neq f(x_2)$ . ■

Lagrangeova veta o strednej hodnote sa môže s úspechom využiť tiež pri vyšetrovaní limity derivácie danej funkcie, ako to naznačujú nasledujúce vety.

**Veta 4.3.4.K4-veta16**

Nech je funkcia  $f$  definovaná a spojitá na uzavretom intervale  $\langle x_0; x_0 + h \rangle$ , kde  $h > 0$  a nech má deriváciu  $f'$  na otvorenom intervale  $(x_0; x_0 + h)$ . Ak existuje (môže byť aj nevlastná)  $\lim_{x \rightarrow x_0^+} f'(x) = b$ , potom existuje  $f'_+(x_0)$  a platí  $\lim_{x \rightarrow x_0^+} f'(x) = b = f'_+(x_0)$ .

<sup>10</sup>Je zrejme, že  $f'(c) = 0$ .

**Dôkaz.**

Nech  $h_1 \in R$  je ľubovoľné také, že  $0 < h_1 < h$ . Je zrejmé, že na intervale  $\langle x_0; x_0 + h_1 \rangle$  sú splnené predpoklady Lagrangeovej vety. Potom existuje  $c \in (0; h_1)$  také, že platí:

$$f'(x_0 + c) = \frac{f(x_0 + h_1) - f(x_0)}{x_0 + h_1 - x_0} = \frac{f(x_0 + h_1) - f(x_0)}{h_1}.$$

Najprv predpokladajme, že  $b \in R$ .

Z definície limity sprava vyplýva, že pre každé  $\varepsilon > 0$  existuje<sup>11</sup>  $\delta > 0$  také, že pre všetky  $x \in (x_0; x_0 + h)$ ,  $0 < x - x_0 < \delta$ , t. j. pre všetky  $x \in (x_0; x_0 + \delta)$  platí  $|f'(x) - b| < \varepsilon$ .

Potom pre všetky  $h_1 < \delta$  platí  $x_0 < x_0 + c < x_0 + h_1 < x_0 + \delta$ . Z toho vyplýva:

$$|f'(x_0 + c) - b| = \left| \frac{f(x_0 + h_1) - f(x_0)}{h_1} - b \right| < \varepsilon.$$

Ak to zhrnieme, potom pre každé  $\varepsilon > 0$  existuje  $\delta > 0$  také, že pre všetky  $0 < h_1 < \delta$  platí:

$$\left| \frac{f(x_0 + h_1) - f(x_0)}{h_1} - b \right| < \varepsilon, \quad \text{t. j. } f'_+(x_0) = \lim_{h_1 \rightarrow 0^+} \frac{f(x_0 + h_1) - f(x_0)}{h_1} = b.$$

Pre  $b = \infty$  je pokračovanie dôkazu podobné ako pre  $b \in R$ .

Z definície nevlastnej limity vyplýva, že pre každé  $0 < r$  existuje  $0 < \delta < h$  také, že pre všetky  $x \in (x_0; x_0 + \delta)$  platí  $r < f'(x)$ . Potom pre všetky  $h_1 < \delta$  platí:

$$r < f'(x_0 + c) = \frac{f(x_0 + h_1) - f(x_0)}{h_1}, \quad \text{t. j. } f'_+(x_0) = \lim_{h_1 \rightarrow 0^+} \frac{f(x_0 + h_1) - f(x_0)}{h_1} = \infty.$$

Analogicky môžeme pokračovať aj pre  $b = -\infty$ , čo prenechávame čitateľovi. ■

**Veta 4.3.5.K4-veta17**

Nech je funkcia  $f$  definovaná a spojitá na uzavretom intervale  $\langle x_0 - h; x_0 \rangle$ , kde  $h > 0$  a nech má deriváciu  $f'$  na otvorenom intervale  $(x_0 - h; x_0)$ .

Ak existuje (aj nevlastná)  $\lim_{x \rightarrow x_0^-} f'(x)$ , potom existuje  $f'_-(x_0)$  a platí  $\lim_{x \rightarrow x_0^-} f'(x) = f'_-(x_0)$ .

**Dôkaz.**

Dôkaz je analogický ako dôkaz vety 4.3.4. ■

**Príklad 4.3.2.K4-pr38**

Funkcia  $f(x) = \arcsin x$ ,  $x \in \langle -1; 1 \rangle$  je spojitá a má deriváciu  $f'(x) = \frac{1}{\sqrt{1-x^2}}$  na intervale  $(-1; 1)$ , t. j. na intervale  $(-1; -1 + 2) = (1 - 2; 1)$ . Pretože existujú limity

$$\lim_{x \rightarrow -1^+} [\arcsin x]' = \lim_{x \rightarrow -1^+} \frac{1}{\sqrt{1-x^2}} = \infty, \quad \lim_{x \rightarrow 1^-} [\arcsin x]' = \lim_{x \rightarrow 1^-} \frac{1}{\sqrt{1-x^2}} = \infty,$$

sú splnené predpoklady predchádzajúcich viet 4.3.4, resp. 4.3.5 a platí (obr. 4.3.10):

$$f'_+(-1) = \lim_{x \rightarrow -1^+} [\arcsin x]' = \infty, \quad f'_-(1) = \lim_{x \rightarrow 1^-} [\arcsin x]' = \infty. \quad \blacksquare$$

**Poznámka 4.3.4.K4-poz34**

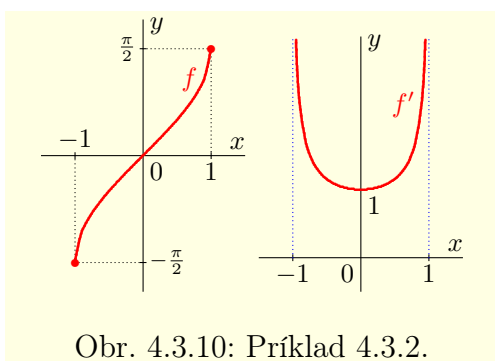
Z viet 4.3.4 a 4.3.5 vyplýva, že ak má funkcia  $f$  deriváciu  $f'$  na uzavretom intervale  $\langle a; b \rangle$ , potom je táto derivácia  $f'$  v každom bode  $x \in \langle a; b \rangle$  spojitá alebo má v bode  $x$  neodstrániteľnú nespojitosť 2. druhu (viď nasledujúci príklad).

**Príklad 4.3.3.K4-pr39**

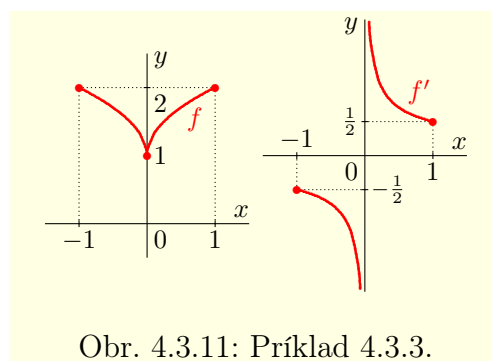
Funkcia  $f(x) = 1 + \sqrt[4]{x^2}$ ,  $x \in \langle -1; 1 \rangle$  je spojitá a pre všetky  $x \neq 0$  platí  $f'(x) = \frac{x}{2\sqrt[4]{x^6}}$ . Navyše pre jednostranné limity funkcie  $f'$  v bode 0 platí:

$$\lim_{x \rightarrow 0^+} \frac{x}{2\sqrt[4]{x^6}} = \lim_{x \rightarrow 0^+} \frac{-|x|}{2\sqrt[4]{x^2|x|}} = -\infty, \quad \lim_{x \rightarrow 0^+} \frac{x}{2\sqrt[4]{x^6}} = \lim_{x \rightarrow 0^+} \frac{|x|}{2\sqrt[4]{x^2|x|}} = \infty.$$

To znamená, že funkcia  $f$  spĺňa predpoklady vety 4.3.4 na intervale  $\langle -1; 0 \rangle$  a predpoklady vety 4.3.5 na intervale  $\langle 0; 1 \rangle$ . Potom platí  $f'_-(0) = -\infty$ ,  $f'_+(0) = \infty$  (obr. 4.3.11). ■



Obr. 4.3.10: Príklad 4.3.2.



Obr. 4.3.11: Príklad 4.3.3.

**Veta 4.3.6 (Cauchyho).K4-veta15**

Nech pre funkcie  $f, g$  definované na uzavretom intervale  $\langle a; b \rangle$  platí:

- i)  $f, g$  sú spojité na  $\langle a; b \rangle$ ,
- ii)  $f$  má deriváciu (aj nevlastnú) na  $\langle a; b \rangle$ ,
- iii)  $g$  má vlastnú deriváciu na  $\langle a; b \rangle$ , pričom pre všetky  $x \in \langle a; b \rangle$  platí  $g'(x) \neq 0$ .

Potom existuje aspoň jeden bod  $c \in \langle a; b \rangle$  taký, že platí:

$$\frac{f'(c)}{g'(c)} = \frac{f(b)-f(a)}{g(b)-g(a)}, \quad \text{t. j. } g'(c) \cdot [f(b) - f(a)] = f'(c) \cdot [g(b) - g(a)].$$

**Dôkaz.**

Z predpokladu  $g'(x) \neq 0$  na  $\langle a; b \rangle$  a zo spojitosti  $g$  na  $\langle a; b \rangle$  vyplýva:

$$g(a) \neq g(b), \quad \text{t. j. } g(b) - g(a) \neq 0.$$

Keby platilo  $g(a) = g(b)$ , potom by na základe Rolleho vety existoval bod  $d \in \langle a; b \rangle$  taký, že  $g'(d) = 0$ . To je spor s predpokladom iii).

Zvyšok dôkazu je analogický ako pri Lagrangeovej vete. Funkcia  $F$ , definovaná vzťahom

$$F(x) = [f(x) - f(a)] \cdot [g(b) - g(a)] - [f(b) - f(a)] \cdot [g(x) - g(a)], \quad x \in \langle a; b \rangle$$

spĺňa predpoklady Rolleho vety, pretože je na  $\langle a; b \rangle$  spojitá, má na  $\langle a; b \rangle$  deriváciu

$$F'(x) = f'(x)[g(b) - g(a)] - [f(b) - f(a)]g'(x)$$

a platí  $F(a) = F(b) = 0$ . Potom existuje  $c \in \langle a; b \rangle$  také, že platí:

$$F'(c) = f'(c) \cdot [g(b) - g(a)] - [f(b) - f(a)]g'(c) = 0, \quad \text{t. j. } \frac{f'(c)}{g'(c)} = \frac{f(b)-f(a)}{g(b)-g(a)}. \blacksquare$$

**Poznámka 4.3.5.K4-poz31**

Lagrangeovu vetu môžeme považovať za dôsledok Cauchyho vety. Stačí v predpokladoch Cauchyho vety uvažovať funkciu  $g$  definovanú vzťahom  $g(x) = x, x \in \langle a; b \rangle$ .

Ak vynecháme niektorý z predpokladov vo vetách o strednej hodnote, potom ich tvrdenia vo všeobecnosti prestávajú platiť (viď nasledujúce príklady).

**Príklad 4.3.4.K4-pr35**

Funkcia  $f: y = |x|, x \in \langle -1; 1 \rangle$  je na intervale  $\langle -1; 1 \rangle$  spojitá.

Pre všetky  $x \in \langle -1; 0 \rangle$  platí  $f'(x) = [-x]' = -1$ , pre všetky  $x \in \langle 0; 1 \rangle$  platí  $f'(x) = x' = 1$ , ale  $f'(0)$  neexistuje (príklad 4.1.6). Navyše platí  $f(-1) = f(1) = 1$ . To znamená, že sú splnené všetky predpoklady Rolleho vety, okrem predpokladu existencie  $f'$  na  $\langle -1; 1 \rangle$ .

Je zrejmé, že bod  $c \in \langle -1; 1 \rangle$  pre ktorý platí  $f'(c) = 0$  neexistuje (obrázok 4.3.12). ■

<sup>11</sup>Bez straty na všeobecnosti môžeme predpokladať, že platí  $\delta < h$ .

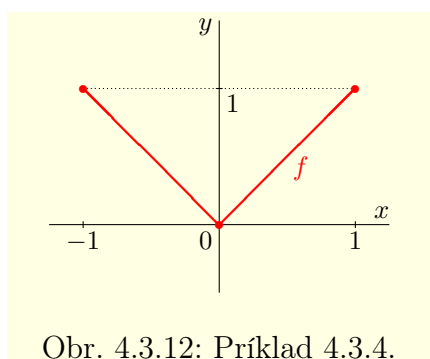


**Príklad 4.3.5.K4-pr36**

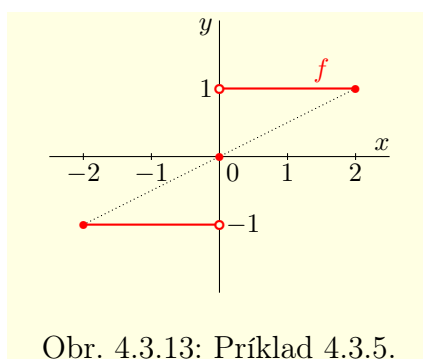
Funkcia  $f: y = \operatorname{sgn} x$ ,  $x \in \langle -2; 2 \rangle$  má deriváciu v každom bode svojho definičného oboru (príklad 4.1.7). Pre všetky  $x \neq 0$  platí  $f'(x) = 0$  a pre  $x = 0$  platí  $f'(0) = \infty$ .

To znamená, že funkcia  $f$  má deriváciu v každom bode intervalu  $\langle -2; 2 \rangle$ . Ale nie je spojitá v bode  $x = 0$ , takže nie sú splnené predpoklady Lagrangeovej vety. Je zrejmé (viď obrázok 4.3.13), že neexistuje bod  $c \in \langle -2; 2 \rangle$ , pre ktorý platí:

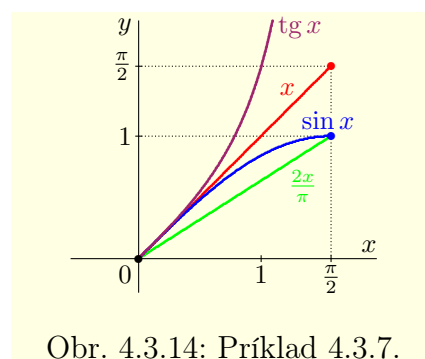
$$f'(c) = \frac{f(2) - f(-2)}{2 - (-2)} = \frac{1 - (-1)}{2[1 - (-1)]} = \frac{1}{2}. \blacksquare$$



Obr. 4.3.12: Príklad 4.3.4.



Obr. 4.3.13: Príklad 4.3.5.



Obr. 4.3.14: Príklad 4.3.7.

Vety o strednej hodnote funkcie patria medzi najdôležitejšie výsledky diferenciálneho počtu a ako dokazujú nasledujúce príklady, využívajú sa pri riešení mnohých problémov.

**Príklad 4.3.6.K4-pr41**

Dokážte, že funkcia  $f(x) = x^3 - 3x^2 + 6x + 1$ ,  $x \in \mathbb{R}$  má práve jeden nulový bod a nájdite interval, v ktorom leží tento nulový bod.

**Riešenie.**

Funkcia  $f$  je spojitá na  $\mathbb{R}$  a pre všetky  $x \in \mathbb{R}$  platí:

$$f'(x) = 3x^2 - 6x + 6 = 3(x^2 - 2x + 2) = 3(x^2 - 2x + 1) + 3 = 3(x - 1)^2 + 3 \geq 3 > 0.$$

Keďže  $f(-1) = -9 < 0$  a  $f(0) = 1 > 0$ , potom na základe Cauchyho vety o nulovej hodnote (veta 3.3.12) existuje aspoň jeden nulový bod v intervale  $(-1; 0)$ .

Teraz dokážeme sporom, že funkcia  $f$  nemá viac ako dva korene.

Predpokladajme, že existujú dva body  $x_1 < x_2$  také, že  $f(x_1) = f(x_2) = 0$ . To znamená, že sú na intervale  $\langle x_1; x_2 \rangle$  splnené predpoklady Rolleho vety o strednej hodnote a existuje  $c \in (x_1; x_2)$  také, že  $f'(c) = 0$ . Lenže pre všetky  $c \in \mathbb{R}$  platí  $f'(c) \neq 0$ . To je spor.

Takže funkcia  $f$  má práve jeden koreň, ktorý leží v intervale  $(-1; 0)$ .  $\blacksquare$

**Príklad 4.3.7.K4-pr42**

Dokážte, že pre všetky  $x \in (0; \frac{\pi}{2})$  platí vzťah  $\frac{2x}{\pi} < \sin x < x < \operatorname{tg} x$ .

**Riešenie.**

Situácia je znázornená na obrázku 4.3.14. Nech  $b \in (0; \frac{\pi}{2})$  je ľubovoľné.

a) Funkcia  $f(x) = \operatorname{tg} x$  je na intervale  $\langle 0; b \rangle$  spojitá a na  $(0; b)$  má vlastnú deriváciu

$$1 < f'(x) = \frac{1}{\cos^2 x}, \quad \text{pretože } 0 < \cos x < 1 \text{ pre } x \in (0; \frac{\pi}{2}).$$

Potom na základe Lagrangeovej vety existuje  $c \in (0; b)$  také, že

$$\operatorname{tg} b - \operatorname{tg} 0 = \frac{b-0}{\cos^2 c}, \quad \text{t. j.} \quad \operatorname{tg} b = \frac{b}{\cos^2 c} > \frac{b}{1} = b.$$

b) Funkcia  $g(x) = \sin x$  je na intervale  $\langle 0; b \rangle$  spojitá a pre všetky  $x \in (0; b)$  platí  $0 < g'(x) = \cos x < 1$ . Potom na základe Lagrangeovej vety existuje  $c \in (0; b)$  také, že

$$\sin b - \sin 0 = \cos c \cdot (b - 0), \quad \text{t. j.} \quad \sin b = \cos c \cdot b < b.$$

c) Funkcia  $h(x) = \frac{\sin x}{x}$  je na intervale  $\langle b; \frac{\pi}{2} \rangle$  spojitá a pre všetky  $x \in (b; \frac{\pi}{2})$  platí:

$$h'(x) = \left[ \frac{\sin x}{x} \right]' = \frac{x \cos x - \sin x}{x^2} = \frac{\cos x (x - \operatorname{tg} x)}{x^2} < 0, \quad (4.12)$$

pretože pre všetky  $x \in (0; \frac{\pi}{2})$  platí  $0 < \cos x < 1$ ,  $0 < x^2$ ,  $x < \operatorname{tg} x$ .

Potom na základe Lagrangeovej vety existuje  $c \in (b; \frac{\pi}{2})$  také, že platí:

$$\frac{\cos c (c - \operatorname{tg} c)}{c^2} \left( \frac{\pi}{2} - b \right) = \frac{\sin \frac{\pi}{2}}{\frac{\pi}{2}} - \frac{\sin b}{b} = \frac{2}{\pi} - \frac{\sin b}{b}.$$

Zo vzťahu (4.12) a z nerovnosti  $0 < b < \frac{\pi}{2}$  potom vyplýva:

$$\frac{2}{\pi} - \frac{\sin b}{b} < 0, \quad \text{t. j.} \quad \frac{2}{\pi} < \frac{\sin b}{b}, \quad \text{resp.} \quad \frac{2b}{\pi} < \sin b.$$

Tým je vzťah  $\frac{2x}{\pi} < \sin x < x < \operatorname{tg} x$  dokázaný pre všetky  $x \in (0; \frac{\pi}{2})$ . ■

#### Príklad 4.3.8.K4-pr37

Dokážte, že Riemannov rad  $\sum_{n=1}^{\infty} a_n = \sum_{n=1}^{\infty} \frac{1}{n^p}$  konverguje pre všetky  $p > 1$ .

#### Riešenie.

Nech  $p > 1$ . Označme  $f(x) = x^{1-p}$ ,  $x \in \langle 1; \infty \rangle$ .

Funkcia  $f$  je spojitá na  $\langle 1; \infty \rangle$  a pre všetky  $x \in \langle 1; \infty \rangle$  platí  $f'(x) = (1-p)x^{-p}$ .

Funkcia  $f$  spĺňa na každom intervale  $\langle m; m+1 \rangle$ , kde  $m \in \mathbb{N}$ , predpoklady Lagrangeovej vety. Potom existuje  $c_m \in (m; m+1)$  také, že platí:

$$\frac{1}{(m+1)^{p-1}} - \frac{1}{m^{p-1}} = \frac{1-p}{c_m^p} (m+1 - m) = \frac{1-p}{c_m^p}.$$

Z platnosti vzťahov  $1 \leq m < c_m < m+1$  a  $1 < p$  ďalej vyplýva:

$$\frac{1}{1-p} \left[ \frac{1}{(m+1)^{p-1}} - \frac{1}{m^{p-1}} \right] = \frac{1}{p-1} \left[ \frac{1}{m^{p-1}} - \frac{1}{(m+1)^{p-1}} \right] = \frac{1}{c_m^p} > \frac{1}{(m+1)^p}.$$

Konvergenciu radu dokážeme pomocou Cauchy–Bolzanovho princípu (veta 2.4.4).

Nech  $n, k \in \mathbb{N}$  sú ľubovoľné prirodzené čísla, potom platí:

$$\begin{aligned} |a_{n+1} + a_{n+2} + \dots + a_{n+k}| &= \frac{1}{(n+1)^p} + \frac{1}{(n+2)^p} + \dots + \frac{1}{(n+k)^p} \leq \\ &\leq \frac{1}{p-1} \left[ \frac{1}{n^{p-1}} - \frac{1}{(n+1)^{p-1}} + \frac{1}{(n+1)^{p-1}} - \frac{1}{(n+2)^{p-1}} + \dots + \frac{1}{(n+k-1)^{p-1}} - \frac{1}{(n+k)^{p-1}} \right] = \\ &= \frac{1}{p-1} \left[ \frac{1}{n^{p-1}} - \frac{1}{(n+k)^{p-1}} \right] < \frac{1}{p-1} \cdot \frac{1}{n^{p-1}}. \end{aligned}$$

To znamená, že  $|a_{n+1} + a_{n+2} + \dots + a_{n+k}|$  môžeme ohraničiť výrazom, ktorý nezávisí od  $k$ .

Nech  $\varepsilon > 0$  je ľubovoľné, potom platí:

$$\frac{1}{p-1} \cdot \frac{1}{n^{p-1}} < \varepsilon \iff \frac{1}{\varepsilon(p-1)} < n^{p-1} \iff n_\varepsilon = \sqrt[p-1]{\frac{1}{\varepsilon(p-1)}} < n.$$

Ak zvolíme<sup>12</sup>  $n_0 = \lfloor n_\varepsilon + 1 \rfloor$ , potom pre všetky  $n, k \in \mathbb{N}$ ,  $n \geq n_0$  platí:

$$|a_{n+1} + a_{n+2} + \dots + a_{n+k}| < \frac{1}{p-1} \cdot \frac{1}{n^{p-1}} < \varepsilon.$$

To znamená, že pre každé  $\varepsilon > 0$  existuje  $n_0 \in \mathbb{N}$  také, že pre všetky  $n, k \in \mathbb{N}$ ,  $n \geq n_0$  platí nerovnosť  $|a_{n+1} + a_{n+2} + \dots + a_{n+k}| < \varepsilon$ . T. j. Riemannov rad pre  $p > 1$  konverguje. ■

<sup>12</sup> $n_0$  je najmenšie prirodzené číslo, ktoré je väčšie alebo rovné ako  $n_\varepsilon$ .

**Príklad 4.3.9.K4-pr43**

Dokážte, že pre všetky  $x > 0$  platí  $\frac{x}{1+x} < \ln(1+x) < x$ .

**Riešenie.**

Nech  $b > 0$  je ľubovoľné.

Funkcia  $f(x) = \ln(x+1)$  je na  $\langle 0; b \rangle$  spojitá a  $f'(x) = \frac{1}{1+x} > 0$  pre všetky  $x \in (0; b)$ .

Potom na základe Lagrangeovej vety existuje  $c \in (0; b)$  také, že platí:

$$\ln(1+b) = \ln(1+b) - \ln(1+0) = \frac{1}{1+c} \cdot (b-0) = \frac{b}{1+c}.$$

Zo vzťahu  $0 < c < b$  vyplýva  $1 < 1+c < 1+b$  a z toho ďalej vyplýva:

$$\frac{1}{1+b} < \frac{1}{1+c} < 1, \quad \text{t. j. } \frac{b}{1+b} < \ln(1+b) = \frac{b}{1+c} < b.$$

Tým je vzťah  $\frac{x}{1+x} < \ln(1+x) < x$  dokázaný pre všetky  $x > 0$ . ■

**Príklad 4.3.10.K4-pr44**

Dokážte: a)  $1 + \frac{1}{1+e} < \ln(1+e) < 1 + \frac{1}{e}$ , b)  $\lim_{n \rightarrow \infty} \left[ \frac{1}{n} + \frac{1}{n+1} + \dots + \frac{1}{2n} \right] = \ln 2$ .

**Riešenie.**

Nech  $r > 0$ . Ak dosadíme do  $\frac{x}{1+x} < \ln(1+x) < x$  hodnotu  $x = \frac{1}{r}$ , potom platí:

$$\frac{1}{r+1} = \frac{\frac{1}{r}}{1+\frac{1}{r}} \cdot \frac{r}{r} = \frac{\frac{1}{r}}{1+\frac{1}{r}} < \ln \left[ 1 + \frac{1}{r} \right] = \ln \frac{r+1}{r} = \ln(r+1) - \ln r < \frac{1}{r}. \quad (4.13)$$

a) Ak dosadíme do vzťahu (4.13) za  $r$  hodnotu  $r = e$ , potom dostaneme

$$\frac{1}{e+1} < \ln(e+1) - \ln e = \ln(1+e) - 1 < \frac{1}{e}, \quad \text{t. j. } 1 + \frac{1}{1+e} < \ln(1+e) < 1 + \frac{1}{e}.$$

b) Nech  $n \in \mathbb{N}$ ,  $n \geq 2$ .

Ak dosadíme do (4.13) za  $r$  postupne hodnoty  $n-1, n, n+1, \dots, 2n$ , potom platí:

$$\begin{aligned} \frac{1}{n} + \frac{1}{n+1} + \dots + \frac{1}{2n} &< [\ln n - \ln(n-1)] + [\ln(n+1) - \ln n] + \dots \\ &\quad \dots + [\ln(2n) - \ln(2n-1)] = \ln(2n) - \ln(n-1), \\ \frac{1}{n} + \frac{1}{n+1} + \dots + \frac{1}{2n} &> [\ln(n+1) - \ln n] + [\ln(n+2) - \ln(n+1)] + \dots \\ &\quad \dots + [\ln(2n+1) - \ln(2n)] = \ln(2n+1) - \ln n. \end{aligned}$$

Z toho vyplýva, že pre všetky  $n \in \mathbb{N}$ ,  $n \geq 2$  platí:

$$\ln \frac{2n+1}{n} = \ln(2n+1) - \ln n < \frac{1}{n} + \frac{1}{n+1} + \dots + \frac{1}{2n} < \ln(2n) - \ln(n-1) = \ln \frac{2n}{n-1}.$$

Potom na základe vety o zovretí limit postupností (dôsledok 2.3.17.c) platí:

$$\begin{aligned} \ln 2 = \ln \lim_{n \rightarrow \infty} \left[ 2 + \frac{1}{n} \right] &= \lim_{n \rightarrow \infty} \ln \frac{2n+1}{n} \leq \lim_{n \rightarrow \infty} \left[ \frac{1}{n} + \frac{1}{n+1} + \dots + \frac{1}{2n} \right] \leq \\ &\leq \lim_{n \rightarrow \infty} \ln \frac{2n}{n-1} = \ln \lim_{n \rightarrow \infty} \left[ 2 + \frac{2}{n-1} \right] = \ln 2. \quad \blacksquare \end{aligned}$$

**4.3.2 L'Hospitalovo pravidlo**

Pri praktickom výpočte limity funkcie, ktorá má v danom bode tvar neurčitého výrazu typu  $\frac{0}{0}$ , resp.  $\frac{\pm\infty}{\pm\infty}$  sa často používa **l'Hospitalovo pravidlo**,<sup>13</sup> ktoré je uvedené vo vetách 4.3.7 a 4.3.8.

**Veta 4.3.7 (I. l'Hospitalovo pravidlo).K4-veta18**

Nech pre funkcie  $f, g$  definované v nejakom prstencovom okolí  $P(a)$  bodu  $a \in \mathbb{R}^*$  platí:

i) pre všetky  $x \in P(a)$  existujú konečné derivácie  $f'(x), g'(x)$ , pričom  $g'(x) \neq 0$ ,

<sup>13</sup>Pravidlo je pomenované po francúzskom matematikovi *G. F. A. de l'Hospitalovi*, ktorý ho publikoval v roku 1696. Jeho skutočným autorom je švajčiarsky matematik *Johann Bernoulli*.

$$\text{ii) } \lim_{x \rightarrow a} f(x) = \lim_{x \rightarrow a} g(x) = 0, \quad \text{iii) existuje limita } \lim_{x \rightarrow a} \frac{f'(x)}{g'(x)} = b \in \mathbb{R}^*.$$

Potom existuje limita  $\lim_{x \rightarrow a} \frac{f(x)}{g(x)}$  a platí rovnosť  $\lim_{x \rightarrow a} \frac{f(x)}{g(x)} = \lim_{x \rightarrow a} \frac{f'(x)}{g'(x)} = b$ .

**Dôkaz.**

Z i) vyplýva na základe vety 4.1.4, že sú funkcie  $f, g$  spojité v okolí  $P(a)$ .

Najprv predpokladajme, že platí  $a \in \mathbb{R}, b \in \mathbb{R}^*, P(a) = (a - \delta; a + \delta) - \{a\}$ , kde  $\delta > 0$ .

Ak položíme<sup>14</sup>  $f(a) = g(a) = 0$ , potom budú funkcie  $f, g$  spojité v bode  $a$ .

Zvoľme postupnosť  $\{x_n\}_{n=1}^{\infty}$  tak, aby  $a < x_n < a + \delta$  pre všetky  $n \in \mathbb{N}$  a aby  $\lim_{n \rightarrow \infty} x_n = a$ .

Na každom z intervalov  $\langle a; x_n \rangle$ ,  $n \in \mathbb{N}$  spĺňajú funkcie  $f, g$  predpoklady Cauchyho vety. Potom pre všetky  $n \in \mathbb{N}$  existuje bod  $c_n \in (a; x_n)$  taký, že platí:

$$\frac{f'(c_n)}{g'(c_n)} = \frac{f(x_n) - f(a)}{g(x_n) - g(a)} = \frac{f(x_n) - 0}{g(x_n) - 0} = \frac{f(x_n)}{g(x_n)}.$$

Keďže  $a < c_n < x_n$  pre všetky  $n \in \mathbb{N}$ , potom na základe vety o zovretí platí:

$$\lim_{n \rightarrow \infty} a = a \leq \lim_{n \rightarrow \infty} c_n \leq \lim_{n \rightarrow \infty} x_n = a, \quad \text{t. j. } \lim_{n \rightarrow \infty} c_n = a.$$

Ak to zhrnieme, potom platí:

$$\lim_{n \rightarrow \infty} \frac{f'(c_n)}{g'(c_n)} = \lim_{x \rightarrow a^+} \frac{f'(x)}{g'(x)} = b, \quad \text{t. j. } \lim_{n \rightarrow \infty} \frac{f'(c_n)}{g'(c_n)} = \lim_{n \rightarrow \infty} \frac{f(x_n)}{g(x_n)} = \lim_{x \rightarrow a^+} \frac{f(x)}{g(x)} = b.$$

Zvoľme  $\{x_n\}_{n=1}^{\infty}$  tak, aby pre všetky  $n \in \mathbb{N}$  platilo  $a - \delta < x_n < a$  a aby  $\lim_{n \rightarrow \infty} x_n = a$ .

Potom na základe Cauchyho vety pre všetky  $n \in \mathbb{N}$  existuje  $c_n \in (x_n; a)$  také, že

$$\frac{f'(c_n)}{g'(c_n)} = \frac{f(a) - f(x_n)}{g(a) - g(x_n)} = \frac{0 - f(x_n)}{0 - g(x_n)} = \frac{f(x_n)}{g(x_n)}.$$

Analogicky ako pri limite sprava platí  $\lim_{n \rightarrow \infty} c_n = a$  a tiež

$$b = \lim_{x \rightarrow a^-} \frac{f'(x)}{g'(x)} = \lim_{n \rightarrow \infty} \frac{f'(c_n)}{g'(c_n)} = \lim_{n \rightarrow \infty} \frac{f(x_n)}{g(x_n)} = \lim_{x \rightarrow a^-} \frac{f(x)}{g(x)}.$$

Teraz predpokladajme, že platí  $a = \infty, b \in \mathbb{R}^*, P(a) = P(\infty) = (\delta; \infty)$ , kde  $\delta > 0$ .

Ak označíme  $x = t^{-1}$ , potom  $\lim_{x \rightarrow \infty} x = \lim_{t \rightarrow 0^+} t^{-1}$  a pre funkcie  $f, g$  platí:

$$\lim_{x \rightarrow \infty} f(x) = \lim_{t \rightarrow 0^+} f(t^{-1}), \quad \lim_{x \rightarrow \infty} g(x) = \lim_{t \rightarrow 0^+} g(t^{-1}).$$

Označme  $F(t) = f(t^{-1}), G(t) = g(t^{-1})$ . Tieto funkcie sú definované na intervale  $(0; \delta^{-1})$ , sú zložené s vnútornou zložkou  $x = x(t) = t^{-1}$  a pre ich derivácie na  $(0; \delta^{-1})$  platí:

$$F'(t) = [f(t^{-1})]' = f'(t^{-1}) \cdot [t^{-1}]' = -f'(t^{-1})t^{-2}, \quad G'(t) = [g(t^{-1})]' = -g'(t^{-1})t^{-2}.$$

Z toho na základe už dokázaného (pre  $t \rightarrow 0^+$ ) platí:

$$\lim_{x \rightarrow \infty} \frac{f(x)}{g(x)} = \lim_{t \rightarrow 0^+} \frac{f(t^{-1})}{g(t^{-1})} = \lim_{t \rightarrow 0^+} \frac{[f(t^{-1})]'}{[g(t^{-1})]'} = \lim_{t \rightarrow 0^+} \frac{-f'(t^{-1})t^{-2}}{-g'(t^{-1})t^{-2}} = \lim_{t \rightarrow 0^+} \frac{f'(t^{-1})}{g'(t^{-1})} = \lim_{x \rightarrow \infty} \frac{f'(x)}{g'(x)}.$$

Pre  $a = -\infty, b \in \mathbb{R}^*, P(a) = (-\infty; \delta), \delta < 0$  je dôkaz analogický. V tomto prípade platí:

$$\lim_{x \rightarrow -\infty} \frac{f(x)}{g(x)} = \lim_{t \rightarrow 0^-} \frac{f(t^{-1})}{g(t^{-1})} = \lim_{t \rightarrow 0^-} \frac{[f(t^{-1})]'}{[g(t^{-1})]'} = \lim_{t \rightarrow 0^-} \frac{f'(t^{-1})}{g'(t^{-1})} = \lim_{x \rightarrow -\infty} \frac{f'(x)}{g'(x)}. \blacksquare$$

#### Veta 4.3.8 (II. l'Hospitalovo pravidlo).K4-veta19

Nech pre funkcie  $f, g$  definované v nejakom prstencovom okolí  $P(a)$  bodu  $a \in \mathbb{R}^*$  platí:

- i) pre všetky  $x \in P(a)$  existujú konečné derivácie  $f'(x), g'(x)$ , pričom  $g'(x) \neq 0$ ,
- ii)  $\lim_{x \rightarrow a} f(x) = \lim_{x \rightarrow a} g(x) = \infty$ ,
- iii) existuje limita  $\lim_{x \rightarrow a} \frac{f'(x)}{g'(x)} = b \in \mathbb{R}^*$ .

Potom existuje limita  $\lim_{x \rightarrow a} \frac{f(x)}{g(x)}$  a platí rovnosť  $\lim_{x \rightarrow a} \frac{f(x)}{g(x)} = \lim_{x \rightarrow a} \frac{f'(x)}{g'(x)} = b$ .

<sup>14</sup>Pri vyšetrowaní limity funkcie v danom bode je dôležité chovanie tejto funkcie v prstencovom okolí tohto bodu.

**Dôkaz.**

Z i) vyplýva na základe vety 4.1.4, že sú funkcie  $f, g$  spojité v okolí  $P(a)$ .

Predpokladajme, že  $a \in R, b \in R^*, P(a) = (a - \delta; a + \delta) - \{a\}$ , kde  $\delta > 0$ .

Nech postupnosť  $\{a_n\}_{n=1}^{\infty}$  je taká, že pre všetky  $n \in N$  platí  $a_n \in (a; a + \delta)$  a  $\lim_{n \rightarrow \infty} a_n = a$ .

Nech  $a_n, n \in N$  je ľubovoľný, ale pevne zvolený člen postupnosti  $\{a_n\}_{n=1}^{\infty}$ .

Zostrojme (ľubovoľnú) postupnosť  $\{x_k^n\}_{k=1}^{\infty} \subset (a; a_n)$  tak, aby  $\lim_{k \rightarrow \infty} x_k^n = a$ .

Na každom z intervalov  $\langle x_k^n; a_n \rangle, k \in N$  spĺňajú funkcie  $f, g$  predpoklady Cauchyho vety. Potom pre všetky  $k \in N$  existuje  $c_k^n \in (x_k^n; a_n)$  také, že platí:

$$\frac{f'(c_k^n)}{g'(c_k^n)} = \frac{f(a_n) - f(x_k^n)}{g(a_n) - g(x_k^n)} = \frac{\frac{f(x_k^n) - f(a_n)}{g(x_k^n)}}{\frac{g(x_k^n) - g(a_n)}{g(x_k^n)}} = \frac{\frac{f(x_k^n)}{g(x_k^n)} - \frac{f(a_n)}{g(x_k^n)}}{1 - \frac{g(a_n)}{g(x_k^n)}}.$$

Keďže  $a_n, f(a_n), g(a_n)$  sú vzhľadom na  $\{x_k^n\}_{n=1}^{\infty}$  konštanty, potom na základe ii) platí:

$$\lim_{n \rightarrow \infty} \frac{f(a_n)}{g(x_k^n)} = \frac{f(a_n)}{\infty} = 0, \quad \lim_{n \rightarrow \infty} \frac{g(a_n)}{g(x_k^n)} = \frac{g(a_n)}{\infty} = 0.$$

Potom pre limity platí:

$$\lim_{k \rightarrow \infty} \frac{f'(c_k^n)}{g'(c_k^n)} = \lim_{k \rightarrow \infty} \frac{\frac{f(x_k^n)}{g(x_k^n)} - \frac{f(a_n)}{g(x_k^n)}}{1 - \frac{g(a_n)}{g(x_k^n)}} = \lim_{k \rightarrow \infty} \frac{f(x_k^n)}{g(x_k^n)} = \lim_{x \rightarrow a^+} \frac{f(x)}{g(x)}. \quad (4.14)$$

Pre všetky  $n \in N, k \in N$  platí  $a < x_k^n < c_k^n < a_n$ . Keďže  $a_n \rightarrow a$  pre  $n \rightarrow \infty$ , potom tiež  $c_k^n \rightarrow a$  pre  $n \rightarrow \infty, k \rightarrow \infty$ . Vzťah (4.14) platí pre všetky  $n \in N$ . To znamená, že platí:

$$\lim_{k \rightarrow \infty} \frac{f'(c_k^n)}{g'(c_k^n)} = \lim_{x \rightarrow a^+} \frac{f'(x)}{g'(x)}, \quad \text{t. j.} \quad \lim_{x \rightarrow a^+} \frac{f'(x)}{g'(x)} = \lim_{x \rightarrow a^+} \frac{f(x)}{g(x)}.$$

Rovnosť limít zľava sa dokáže analogicky. Zostrojme postupnosť  $\{a_n\}_{n=1}^{\infty} \subset (a - \delta; a)$  tak, aby  $\lim_{n \rightarrow \infty} a_n = a$ . Pre všetky  $n \in N$  zostrojme  $\{x_k^n\}_{k=1}^{\infty} \subset (a_n; a)$  tak, aby  $\lim_{k \rightarrow \infty} x_k^n = a$ .

Potom na základe Cauchyho vety pre všetky  $k \in N$  existuje  $c_k^n \in (a_n; x_k^n)$  také, že

$$\frac{f'(c_k^n)}{g'(c_k^n)} = \frac{f(a_n) - f(x_k^n)}{g(a_n) - g(x_k^n)} = \frac{\frac{f(x_k^n)}{g(x_k^n)} - \frac{f(a_n)}{g(x_k^n)}}{1 - \frac{g(a_n)}{g(x_k^n)}}, \quad \text{t. j.} \quad \lim_{k \rightarrow \infty} \frac{f'(c_k^n)}{g'(c_k^n)} = \lim_{k \rightarrow \infty} \frac{f(x_k^n)}{g(x_k^n)} = \lim_{x \rightarrow a^-} \frac{f(x)}{g(x)}.$$

Potom zo vzťahu  $c_k^n \rightarrow a$  pre  $n \rightarrow \infty, k \rightarrow \infty$  vyplýva:

$$\lim_{k \rightarrow \infty} \frac{f'(c_k^n)}{g'(c_k^n)} = \lim_{x \rightarrow a^-} \frac{f'(x)}{g'(x)}, \quad \text{t. j.} \quad \lim_{x \rightarrow a^-} \frac{f'(x)}{g'(x)} = \lim_{x \rightarrow a^-} \frac{f(x)}{g(x)}.$$

Pre  $a = \infty, b \in R^*, P(a) = P(\infty) = (\delta; \infty), \delta > 0$  je dôkaz prakticky totožný ako pri limite zľava a pre  $a = -\infty, b \in R^*, P(a) = P(-\infty) = (-\infty; \delta), \delta < 0$  je totožný ako pri limite sprava. Preto ich prenechávame čitateľovi ako domáce cvičenie. ■

**Poznámka 4.3.6.K4-poz35**

Predchádzajúca veta platí aj v prípade, keď  $\lim_{x \rightarrow a} f(x) = -\infty$ .

Potom pre  $F(x) = -f(x)$  platí  $F'(x) = [-f(x)]' = -f'(x), \lim_{x \rightarrow a} F(x) = \infty$ . Z toho vyplýva:

$$\lim_{x \rightarrow a} \frac{f(x)}{g(x)} = - \lim_{x \rightarrow a} \frac{-f(x)}{g(x)} = - \lim_{x \rightarrow a} \frac{F(x)}{g(x)} = - \lim_{x \rightarrow a} \frac{F'(x)}{g'(x)} = - \lim_{x \rightarrow a} \frac{-f'(x)}{g'(x)} = \lim_{x \rightarrow a} \frac{f'(x)}{g'(x)}.$$

**Poznámka 4.3.7.K4-poz39**

Obidve vety 4.3.7 a 4.3.8 zostávajú v platnosti aj pre jednostranné limity.

**Poznámka 4.3.8.K4-poz36**

V praxi sa nepoužíva označenie I. alebo II. l'Hospitalovo pravidlo, ale iba l'Hospitalovo pravidlo. V budúcnosti sa obmedzíme už iba na toto označenie.

**Príklad 4.3.11.K4-pr45**

Vypočítajte  $\lim_{x \rightarrow 2} \frac{x^3 - 8}{x - 2}$ .

**Riešenie.**

Označme  $a = 2$ ,  $f(x) = x^3 - 8$ ,  $g(x) = x - 2$ ,  $x \in R - \{2\}$ . Za okolie  $P(2)$  môžeme zvoliť ľubovoľné prstencové okolie bodu 2, v tomto prípade aj  $P(2) = R - \{2\}$ .

Pre všetky  $x \in P(2)$  existujú derivácie  $f'(x) = 3x^2$ ,  $g'(x) = 1 \neq 0$ . Ďalej platí:

$$\lim_{x \rightarrow 2} (x^3 - 8) = \lim_{x \rightarrow 2} (x - 2) = 0, \quad \lim_{x \rightarrow 2} \frac{f'(x)}{g'(x)} = \lim_{x \rightarrow 2} \frac{3x^2}{1} = \lim_{x \rightarrow 2} 3x^2 = 3 \cdot 2^2 = 12.$$

Tým sú overené predpoklady l'Hospitalovho pravidla a platí  $\lim_{x \rightarrow 2} \frac{x^3 - 8}{x - 2} = \lim_{x \rightarrow 2} \frac{3x^2}{1} = 12$ .

Danú limitu môžeme vypočítať aj bez l'Hospitalovho pravidla:

$$\lim_{x \rightarrow 2} \frac{x^3 - 8}{x - 2} = \lim_{x \rightarrow 2} \frac{(x-2)(x^2 + 2x + 4)}{x - 2} = \lim_{x \rightarrow 2} (x^2 + 2x + 4) = 12. \blacksquare$$

**Príklad 4.3.12.K4-pr76**

Vypočítajte  $\lim_{x \rightarrow \infty} \frac{\ln x}{x}$ .

**Riešenie.**

Predpoklady l'Hospitalovho pravidla sú splnené, pretože pre všetky  $x \in P(\infty) = (0; \infty)$  existujú konečné derivácie  $f'(x) = [\ln x]' = \frac{1}{x}$ ,  $g'(x) = [x]' = 1 \neq 0$  a existujú limity

$$\lim_{x \rightarrow \infty} \ln x = \lim_{x \rightarrow \infty} x = \infty, \quad \lim_{x \rightarrow \infty} \frac{f'(x)}{g'(x)} = \lim_{x \rightarrow \infty} \frac{[\ln x]'}{[x]'} = \lim_{x \rightarrow \infty} \frac{\frac{1}{x}}{1} = \lim_{x \rightarrow \infty} \frac{1}{x} = 0.$$

Z toho vyplýva, že  $\lim_{x \rightarrow \infty} \frac{\ln x}{x} = \lim_{x \rightarrow \infty} \frac{1}{x} = 0$ .  $\blacksquare$

Pri praktickom používaní l'Hospitalovho pravidla je veľmi dôležité, aby sme **overili všetky predpoklady**. V opačnom prípade (viď príklady 4.3.13, 4.3.15) môžeme dospieť k nesprávnym výsledkom alebo sa k výsledku daným postupom nedopátrame. Platnosť predpokladu iii) sa v praxi overuje priebežne počas výpočtu limity.

Obrátené tvrdenie l'Hospitalovho pravidla neplatí (príklad 4.3.13). To znamená, že z existencie  $\lim_{x \rightarrow a} \frac{f(x)}{g(x)}$  vo všeobecnosti nevyplýva existencia  $\lim_{x \rightarrow a} \frac{f'(x)}{g'(x)}$ .

**Príklad 4.3.13.K4-pr48**

Vypočítajte  $\lim_{x \rightarrow 0} \frac{x^2 \sin \frac{1}{x}}{\sin x}$ .

**Riešenie.**

Označme  $P(0) = (-1; 1) - \{0\}$ ,  $f(x) = x^2 \sin \frac{1}{x}$ ,  $g(x) = \sin x$ . Pre všetky  $x \in P(0)$  platí:

$$f'(x) = 2x \sin \frac{1}{x} + x^2 \cos \frac{1}{x} \left(-\frac{1}{x^2}\right) = 2x \sin \frac{1}{x} - \cos \frac{1}{x}, \quad g'(x) = \cos x \neq 0.$$

Keďže je funkcia  $\sin \frac{1}{x}$  ohraničená a  $\lim_{x \rightarrow 0} x = 0$ , potom (dôsledok 3.2.4.c) platí:

$$\lim_{x \rightarrow 0} f(x) = \lim_{x \rightarrow 0} [2x \sin \frac{1}{x}] = 2 \lim_{x \rightarrow 0} [x \sin \frac{1}{x}] = 0, \quad \lim_{x \rightarrow 0} g(x) = \lim_{x \rightarrow 0} \sin x = 0.$$

Potom (l'Hospitalovo pravidlo) platí:

$$\lim_{x \rightarrow 0} \frac{x^2 \sin \frac{1}{x}}{\sin x} = \lim_{x \rightarrow 0} \frac{2x \sin \frac{1}{x} - \cos \frac{1}{x}}{\cos x} = \frac{2 \lim_{x \rightarrow 0} [x \sin \frac{1}{x}] - \lim_{x \rightarrow 0} \cos \frac{1}{x}}{\lim_{x \rightarrow 0} \cos x} = - \lim_{x \rightarrow 0} \cos \frac{1}{x}.$$

Keďže  $\lim_{x \rightarrow 0} \cos \frac{1}{x}$  neexistuje, neexistuje tiež  $\lim_{x \rightarrow 0} \frac{x^2 \sin \frac{1}{x}}{\sin x}$ .

L'Hospitalovo pravidlo v tomto prípade **použiť nemôžeme**. Neoverili sme totiž platnosť predpokladu iii). Tento predpoklad nie je splnený, pretože neexistuje limita

$$\lim_{x \rightarrow 0} \frac{f'(x)}{g'(x)} = \lim_{x \rightarrow 0} \frac{2x \sin \frac{1}{x} - \cos \frac{1}{x}}{\cos x}.$$

Daná limita existuje, pretože zo vzťahov  $\lim_{x \rightarrow 0} [x \sin \frac{1}{x}] = 0$ ,  $\lim_{x \rightarrow 0} \frac{x}{\sin x} = 1$  vyplýva:

$$\lim_{x \rightarrow 0} \frac{x^2 \sin \frac{1}{x}}{\sin x} = \lim_{x \rightarrow 0} [x \sin \frac{1}{x \sin x}] = \lim_{x \rightarrow 0} [x \sin \frac{1}{x}] \cdot \lim_{x \rightarrow 0} \frac{x}{\sin x} = 0 \cdot 1 = 0. \blacksquare$$

#### Poznámka 4.3.9.K4-poz38

L'Hospitalovo pravidlo môžeme pri praktickom výpočte limity použiť aj niekoľkokrát za sebou. Ak sú splnené predpoklady pre funkcie  $f', g', f'', g'', f''', g''', \dots, f^{(k)}, g^{(k)}$ ,  $k \in \mathbb{N}$  a existuje  $\lim_{x \rightarrow a} \frac{f^{(k)}(x)}{g^{(k)}(x)}$ , potom ho môžeme použiť  $k$ -krát za sebou podľa vzoru

$$\lim_{x \rightarrow a} \frac{f(x)}{g(x)} = \lim_{x \rightarrow a} \frac{f'(x)}{g'(x)} = \lim_{x \rightarrow a} \frac{f''(x)}{g''(x)} = \dots = \lim_{x \rightarrow a} \frac{f^{(k)}(x)}{g^{(k)}(x)}.$$

#### Príklad 4.3.14.K4-pr46

Vypočítajte  $\lim_{x \rightarrow 0} \frac{x - \sin x}{x^3}$ .

#### Riešenie.

Použijeme l'Hospitalovo pravidlo niekoľkokrát za sebou.

Zvoľme  $P(0) = (-1; 1) - \{0\}$ . Pre všetky  $x \in P(0)$  platí  $[x - \sin x]' = 1 - \cos x$ ,  $[x^3]' = 3x^2$ . Ďalej platí  $\lim_{x \rightarrow 0} (x - \sin x) = \lim_{x \rightarrow 0} x^3 = 0$ . Ak existuje limita na pravej strane, potom

$$\lim_{x \rightarrow 0} \frac{x - \sin x}{x^3} = \lim_{x \rightarrow 0} \frac{[x - \sin x]'}{[x^3]'} = \lim_{x \rightarrow 0} \frac{1 - \cos x}{3x^2}.$$

Keďže  $[1 - \cos x]' = \sin x$ ,  $[3x^2]' = 6x \neq 0$  pre  $x \in P(0)$ ,  $\lim_{x \rightarrow 0} (1 - \cos x) = \lim_{x \rightarrow 0} 3x^2 = 0$ , potom (ak existuje limita na pravej strane) platí:

$$\lim_{x \rightarrow 0} \frac{1 - \cos x}{3x^2} = \lim_{x \rightarrow 0} \frac{[1 - \cos x]'}{[3x^2]'} = \lim_{x \rightarrow 0} \frac{\sin x}{6x}.$$

Pre všetky  $x \in P(0)$  platí  $[\sin x]' = \cos x$ ,  $[6x]' = 6 \neq 0$  a  $\lim_{x \rightarrow 0} \sin x = \lim_{x \rightarrow 0} 6x = 0$ . Ak existuje limita na pravej strane, potom platí:

$$\lim_{x \rightarrow 0} \frac{\sin x}{6x} = \lim_{x \rightarrow 0} \frac{[\sin x]'}{[6x]'} = \lim_{x \rightarrow 0} \frac{\cos x}{6} = \frac{1}{6}.$$

Tým sme overili aj platnosť predpokladu iii) pre posledné použitie l'Hospitalovho pravidla a zároveň aj pre obe predchádzajúce použitia. Ak to zhrnieme, potom platí:

$$\lim_{x \rightarrow 0} \frac{x - \sin x}{x^3} = \lim_{x \rightarrow 0} \frac{[x - \sin x]'}{[x^3]'} = \lim_{x \rightarrow 0} \frac{1 - \cos x}{3x^2} = \lim_{x \rightarrow 0} \frac{[1 - \cos x]'}{[3x^2]'} = \lim_{x \rightarrow 0} \frac{\sin x}{6x} = \frac{1}{6}. \blacksquare$$

#### Poznámka 4.3.10.K4-poz37

Pri výpočte limity z predchádzajúceho príkladu by sme mohli písať

$$\lim_{x \rightarrow 0} \frac{x - \sin x}{x^3} = \lim_{x \rightarrow 0} \frac{[x - \sin x]'}{[x^3]'} = \lim_{x \rightarrow 0} \frac{[x - \sin x]''}{[x^3]''} = \lim_{x \rightarrow 0} \frac{[x - \sin x]'''}{[x^3]'''} = \lim_{x \rightarrow 0} \frac{\cos x}{6} = \frac{1}{6}.$$

#### Príklad 4.3.15.K4-pr47

Vypočítajte  $\lim_{x \rightarrow \infty} \frac{e^x + e^{-x}}{e^x - e^{-x}}$ .

#### Riešenie.

Zvoľme  $P(\infty) = (0; \infty)$ .

Pre všetky  $x \in P(\infty)$  platí  $[e^x \pm e^{-x}]' = e^x \mp e^{-x}$ . Ďalej platí  $\lim_{x \rightarrow \infty} [e^x \pm e^{-x}] = \infty \pm 0 = \infty$ .

L'Hospitalovo pravidlo nám pri výpočte tejto limity nepomôže, pretože nedokážeme overiť splnenie predpokladu iii). Platí totiž

$$\lim_{x \rightarrow \infty} \frac{[e^x + e^{-x}]'}{[e^x - e^{-x}]'} = \lim_{x \rightarrow \infty} \frac{e^x - e^{-x}}{e^x + e^{-x}}, \quad \lim_{x \rightarrow \infty} \frac{[e^x - e^{-x}]'}{[e^x + e^{-x}]'} = \lim_{x \rightarrow \infty} \frac{e^x + e^{-x}}{e^x - e^{-x}}.$$



Danú limitu môžeme vyriešiť napríklad nasledujúcim spôsobom

$$\lim_{x \rightarrow \infty} \frac{e^x + e^{-x}}{e^x - e^{-x}} = \lim_{x \rightarrow \infty} \left[ \frac{e^x + e^{-x}}{e^x - e^{-x}} \cdot \frac{e^{-x}}{e^{-x}} \right] = \lim_{x \rightarrow \infty} \frac{1 + e^{-2x}}{1 - e^{-2x}} = \frac{1+0}{1-0} = 1. \blacksquare$$

#### Príklad 4.3.16.K4-pr49

Vypočítajte  $\lim_{x \rightarrow \infty} \frac{e^x}{x^n} = \lim_{x \rightarrow \infty} [e^x x^{-n}]$ , kde  $n \in \mathbb{N}$ .

**Riešenie.**

L'Hospitalovo pravidlo použijeme  $n$ -krát.

Zvoľme  $P(\infty) = (0; \infty)$ . Pre všetky  $x \in P(\infty)$  a pre všetky  $k \in \mathbb{N}$ ,  $k \leq n$  existujú derivácie

$$[e^x]^{(k)} = e^x, \quad [x^n]^{(k)} = n(n-1) \cdots (n-k+1)x^{n-k}, \quad [x^n]^{(n)} = n!x^0 = n!.$$

Pre všetky  $k \in \mathbb{N}$ ,  $k < n$  platí:

$$\lim_{x \rightarrow \infty} e^x = \infty, \quad \lim_{x \rightarrow \infty} x^n = \lim_{x \rightarrow \infty} nx^{n-1} = \lim_{x \rightarrow \infty} [n(n-1)x^{n-2}] = \cdots = \lim_{x \rightarrow \infty} [n \cdots 2x] = \infty.$$

Potom na základe l'Hospitalovho pravidla platí:

$$\lim_{x \rightarrow \infty} \frac{e^x}{x^n} = \lim_{x \rightarrow \infty} \frac{e^x}{nx^{n-1}} = \lim_{x \rightarrow \infty} \frac{e^x}{n(n-1)x^{n-2}} = \cdots = \lim_{x \rightarrow \infty} \frac{e^x}{n \cdots 2x} = \lim_{x \rightarrow \infty} \frac{e^x}{n!} = \frac{\infty}{n!} = \infty.$$

Keďže existuje posledná limita na pravej strane, existujú aj predchádzajúce limity a platia rovnosti limít.<sup>15</sup> To znamená, že platí  $\lim_{x \rightarrow \infty} [e^x x^{-n}] = \infty$ . ■

### 4.3.3 Neurčité výrazy

L'Hospitalovo pravidlo môžeme použiť aj na výpočet limít z neurčitých výrazov typu  $\pm\infty \cdot 0$ ,  $\infty - \infty$ ,  $\infty^0$ ,  $0^0$  alebo  $1^{\pm\infty}$ . Tieto limity prevedieme vhodnými úpravami na limity neurčitých výrazov typu  $\frac{0}{0}$  alebo  $\frac{\pm\infty}{\pm\infty}$  a použijeme l'Hospitalovo pravidlo. Budeme pritom predpokladať, že  $a \in \mathbb{R}^* = \mathbb{R} \cup \{\pm\infty\}$  a že sú funkcie  $f$ ,  $g$  definované v nejakom (vhodnom) prstencovom okolí  $P(a)$ .

- **Typ  $\pm\infty \cdot 0$ , t. j.**  $\lim_{x \rightarrow a} [f(x)g(x)]$ , kde  $\lim_{x \rightarrow a} f(x) = \pm\infty$ ,  $\lim_{x \rightarrow a} g(x) = 0$

V tomto prípade môžeme teoreticky použiť obidve l'Hospitalove pravidlá.

Z vety 3.2.9 vyplýva, že platí  $\lim_{x \rightarrow a} \frac{1}{f(x)} = 0$ . To znamená, že je funkcia  $\frac{1}{f}$  definovaná v okolí<sup>16</sup>  $P(a)$  a platí:

$$f(x)g(x) = \frac{g(x)}{\frac{1}{f(x)}} = \frac{g(x)}{\frac{1}{f(x)}} \quad \text{pre všetky } x \in P(a).$$

Ak pre všetky  $x \in P(a)$  sú  $g'(x)$ ,  $[\frac{1}{f(x)}]' \neq 0$  konečné a existuje  $\lim_{x \rightarrow a} \frac{g'(x)}{[\frac{1}{f(x)}]'}$ , potom

$$\lim_{x \rightarrow a} [f(x)g(x)] = \lim_{x \rightarrow a} \frac{g(x)}{\frac{1}{f(x)}} = \lim_{x \rightarrow a} \frac{g'(x)}{[\frac{1}{f(x)}]'}$$

Ak existuje  $\lim_{x \rightarrow a} [\frac{1}{g(x)}]$ , potom platí  $\lim_{x \rightarrow a} [\frac{1}{g(x)}] = \infty$  alebo  $\lim_{x \rightarrow a} [\frac{1}{g(x)}] = -\infty$ .

To znamená, že je funkcia  $\frac{1}{g}$  definovaná v okolí  $P(a)$ . Ak existujú v okolí  $P(a)$  konečné derivácie  $f'(x)$ ,  $[\frac{1}{g(x)}]' \neq 0$  a existuje limita ich podielu pre  $x \rightarrow a$ , potom platí:

$$\lim_{x \rightarrow a} [f(x)g(x)] = \lim_{x \rightarrow a} \frac{f(x)}{\frac{1}{g(x)}} = \lim_{x \rightarrow a} \frac{f'(x)}{[\frac{1}{g(x)}]'}$$

<sup>15</sup>Opäť sme platnosť predpokladu iii) overovali až počas vlastného výpočtu limity.

<sup>16</sup>Funkcia  $\frac{1}{f}$  je definovaná v nejakom prstencovom podokolí  $P_1(a) \subset P(a)$ . Ale pre praktický výpočet to nemá vplyv, preto to nebudeme komplikovať. Táto poznámka platí aj pre nasledujúce neurčité výrazy.

- **Typ  $\infty - \infty$ , t. j.**  $\lim_{x \rightarrow a} [f(x) - g(x)]$ , kde  $\lim_{x \rightarrow a} f(x) = \lim_{x \rightarrow a} g(x) = \infty$

Z predpokladov vyplýva  $\lim_{x \rightarrow a} \frac{1}{f(x)} = \lim_{x \rightarrow a} \frac{1}{g(x)} = 0$ . Potom pre všetky  $x \in P(a)$  platí:

$$f(x) - g(x) = \frac{f(x)g(x)}{g(x)} - \frac{f(x)g(x)}{f(x)} = f(x)g(x) \left[ \frac{1}{g(x)} - \frac{1}{f(x)} \right] = \frac{\frac{1}{g(x)} - \frac{1}{f(x)}}{\frac{1}{f(x)g(x)}}.$$

Ak pre všetky  $x \in P(a)$  existujú konečné derivácie  $[\frac{1}{g(x)} - \frac{1}{f(x)}]'$ ,  $[\frac{1}{f(x)g(x)}]' \neq 0$  a existuje limita ich podielu pre  $x \rightarrow a$ , potom platí:

$$\lim_{x \rightarrow a} [f(x) - g(x)] = \lim_{x \rightarrow a} \frac{\frac{1}{g(x)} - \frac{1}{f(x)}}{\frac{1}{f(x)g(x)}} = \lim_{x \rightarrow a} \frac{[\frac{1}{g(x)} - \frac{1}{f(x)}]'}{[\frac{1}{f(x)g(x)}]'}$$

- **Typ  $\infty^0$ , t. j.**  $\lim_{x \rightarrow a} [f(x)]^{g(x)}$ , kde  $\lim_{x \rightarrow a} f(x) = \infty$ ,  $\lim_{x \rightarrow a} g(x) = 0$

Z predpokladov vyplýva, že pre všetky  $x \in P(a)$  platí  $f(x) > 0$ ,  $[f(x)]^{g(x)} > 0$ . Potom pre všetky  $x \in P(a)$  existujú funkcie  $\ln f(x)$ ,  $\ln [f(x)]^{g(x)}$  a pre všetky  $x \in P(a)$  platí:

$$[f(x)]^{g(x)} = e^{\ln [f(x)]^{g(x)}} = e^{g(x) \ln f(x)}, \quad \lim_{x \rightarrow a} \ln f(x) = \infty.$$

To znamená, že máme vypočítať  $\lim_{x \rightarrow a} [g(x) \ln f(x)]$ , ktorá je typu  $\infty \cdot 0$ .

- **Typ  $0^0$ , t. j.**  $\lim_{x \rightarrow a} [f(x)]^{g(x)}$ , kde  $\lim_{x \rightarrow a} f(x) = \lim_{x \rightarrow a} g(x) = 0$

Predpokladajme, že pre všetky  $x \in P(a)$  platí  $f(x) > 0$ ,  $[f(x)]^{g(x)} > 0$ . Potom analogicky ako v predchádzajúcej časti platí pre všetky  $x \in P(a)$

$$[f(x)]^{g(x)} = e^{\ln [f(x)]^{g(x)}} = e^{g(x) \ln f(x)}, \quad \lim_{x \rightarrow a} \ln f(x) = -\infty.$$

To znamená, že máme vypočítať  $\lim_{x \rightarrow a} [g(x) \ln f(x)]$ , ktorá je typu  $-\infty \cdot 0$ .

- **Typ  $1^{\pm\infty}$ , t. j.**  $\lim_{x \rightarrow a} [f(x)]^{g(x)}$ , kde  $\lim_{x \rightarrow a} f(x) = 1$ ,  $\lim_{x \rightarrow a} g(x) = \pm\infty$

Z predpokladov vyplýva, že pre všetky  $x \in P(a)$  platí  $f(x) > 0$ ,  $[f(x)]^{g(x)} > 0$ . Z toho vyplýva, že pre všetky  $x \in P(a)$  platí:

$$[f(x)]^{g(x)} = e^{\ln [f(x)]^{g(x)}} = e^{g(x) \ln f(x)}, \quad \lim_{x \rightarrow a} \ln f(x) = 0.$$

To znamená, že máme vypočítať  $\lim_{x \rightarrow a} [g(x) \ln f(x)]$ , ktorá je typu  $\pm\infty \cdot 0$ .

#### Poznámka 4.3.11.K4-poz40

Limita  $\lim_{x \rightarrow a} [f(x)]^{g(x)}$ , ak  $\lim_{x \rightarrow a} f(x) = 0$ ,  $\lim_{x \rightarrow a} g(x) = \pm\infty$  je neurčitý výraz typu  $0^{\pm\infty}$ .

Ak existuje prstencové okolie  $P(a)$  také, že pre všetky  $x \in P(a)$  platí  $f(x) > 0$ , potom

$$\lim_{x \rightarrow a} \ln f(x) = -\infty, \quad [f(x)]^{g(x)} = e^{\ln [f(x)]^{g(x)}} = e^{g(x) \ln f(x)}.$$

Ak  $\lim_{x \rightarrow a} g(x) = -\infty$ , potom platí:

$$\lim_{x \rightarrow a} [g(x) \ln f(x)] = -\infty \cdot (-\infty) = \infty, \quad \text{t. j.} \quad \lim_{x \rightarrow a} [f(x)]^{g(x)} = e^{\infty} = \infty.$$

Ak  $\lim_{x \rightarrow a} g(x) = \infty$ , potom platí:

$$\lim_{x \rightarrow a} [g(x) \ln f(x)] = \infty \cdot (-\infty) = -\infty, \quad \text{t. j.} \quad \lim_{x \rightarrow a} [f(x)]^{g(x)} = e^{-\infty} = 0.$$

#### Príklad 4.3.17.K4-pr50

Pomocou l'Hospitalovho pravidla vypočítajte:

$$\text{a) } \lim_{x \rightarrow 0^+} [x \ln x], \quad \text{b) } \lim_{x \rightarrow 0} \left[ \frac{1}{x} - \frac{1}{\sin x} \right], \quad \text{c) } \lim_{x \rightarrow 0} [\sin x]^x, \quad \text{d) } \lim_{x \rightarrow 0^+} [\cos x]^{\frac{1}{x}}.$$

**Riešenie.**

a) Overme predpoklady vety 4.3.7 (l'Hospitalovho pravidla pre typ  $\frac{0}{0}$ ).

Pre všetky  $x > 0$  platí  $x' = 1$ ,  $[\frac{1}{\ln x}]' = [\ln^{-1} x]' = -\ln^{-2} x [\ln x]' = -\frac{1}{x} \ln^{-2} x \neq 0$ .

Keďže  $\lim_{x \rightarrow 0^+} x = 0$ ,  $\lim_{x \rightarrow 0^+} [\frac{1}{\ln x}] = 0$ , potom

$$\lim_{x \rightarrow 0^+} [x \ln x] = \lim_{x \rightarrow 0^+} \frac{x}{\frac{1}{\ln x}} = \lim_{x \rightarrow 0^+} \frac{x'}{[\frac{1}{\ln x}]'} = \lim_{x \rightarrow 0^+} \frac{1}{-\frac{1}{x} \ln^{-2} x} = - \lim_{x \rightarrow 0^+} [x \ln^2 x].$$

To znamená, že toto pravidlo nám nepomôže. Overme predpoklady vety 4.3.8.

Platí  $[\ln x]' = \frac{1}{x}$ ,  $[\frac{1}{x}]' = -\frac{1}{x^2} \neq 0$  pre všetky  $x > 0$ ,  $\lim_{x \rightarrow 0^+} \ln x = -\infty$ ,  $\lim_{x \rightarrow 0^+} [\frac{1}{x}] = \infty$ . Keďže existuje limita na pravej strane, potom

$$\lim_{x \rightarrow 0^+} [x \ln x] = \lim_{x \rightarrow 0^+} \frac{\ln x}{\frac{1}{x}} = \lim_{x \rightarrow 0^+} \frac{[\ln x]'}{[\frac{1}{x}]'} = \lim_{x \rightarrow 0^+} \frac{\frac{1}{x}}{-\frac{1}{x^2}} = \lim_{x \rightarrow 0^+} [-x] = - \lim_{x \rightarrow 0^+} x = 0.$$

b) Nech<sup>17</sup>  $P(0) = (-1; 1) - \{0\}$ . Pre všetky  $x \in P(0)$  platí:

$$\frac{1}{x} - \frac{1}{\sin x} = \frac{\sin x - x}{x \sin x}, \quad \text{pričom} \quad \lim_{x \rightarrow 0} [\sin x - x] = \lim_{x \rightarrow 0} [x \sin x] = 0.$$

Pre všetky  $x \in P(0)$  platí  $[\sin x - x]' = \cos x - 1$ ,  $[x \sin x]' = \sin x + x \cos x \neq 0$ . Potom

$$\lim_{x \rightarrow 0} \left[ \frac{1}{x} - \frac{1}{\sin x} \right] = \lim_{x \rightarrow 0} \frac{\sin x - x}{x \sin x} = \lim_{x \rightarrow 0} \frac{[\sin x - x]'}{[x \sin x]'} = \lim_{x \rightarrow 0} \frac{\cos x - 1}{\sin x + x \cos x}.$$

Pre všetky  $x \in P(0)$  platí  $[\cos x - 1]' = -\sin x$ ,  $[\sin x + x \cos x]' = 2 \cos x - x \sin x \neq 0$ .

Keďže navyše platí  $\lim_{x \rightarrow 0} [\cos x - 1] = \lim_{x \rightarrow 0} [\sin x + x \cos x] = 0$ , potom

$$\lim_{x \rightarrow 0} \left[ \frac{1}{x} - \frac{1}{\sin x} \right] = \lim_{x \rightarrow 0} \frac{\cos x - 1}{\sin x + x \cos x} = \lim_{x \rightarrow 0} \frac{[\cos x - 1]'}{[\sin x + x \cos x]'} = \lim_{x \rightarrow 0} \frac{-\sin x}{2 \cos x - x \sin x} = \frac{0}{2} = 0.$$

c) Výraz  $[\sin x]^x$  nie je definovaný pre  $x \in (-1; 0)$ , t. j.  $\lim_{x \rightarrow 0^-} [\sin x]^x$  neexistuje.

Pre všetky  $x \in (0; 1)$  platí:

$$[\sin x]^x = e^{\ln [\sin x]^x} = e^{x \ln \sin x} = e^{\frac{\ln \sin x}{\frac{1}{x}}}, \quad [\ln \sin x]' = \frac{\cos x}{\sin x}, \quad \left[ \frac{1}{x} \right]' = -\frac{1}{x^2} \neq 0.$$

Keďže  $\lim_{x \rightarrow 0^+} \ln \sin x = -\infty$ ,  $\lim_{x \rightarrow 0^+} \frac{1}{x} = \infty$ , potom na základe l'Hospitalovho pravidla platí:

$$\lim_{x \rightarrow 0^+} \frac{\ln \sin x}{\frac{1}{x}} = \lim_{x \rightarrow 0^+} \frac{[\ln \sin x]'}{[\frac{1}{x}]'} = \lim_{x \rightarrow 0^+} \frac{\frac{\cos x}{\sin x}}{-\frac{1}{x^2}} = - \lim_{x \rightarrow 0^+} [x \cos x \frac{x}{\sin x}] = -0 \cdot 1 \cdot 1 = 0.$$

Z toho vyplýva, že platí  $\lim_{x \rightarrow 0^+} [\sin x]^x = \lim_{x \rightarrow 0^+} e^{\frac{\ln \sin x}{\frac{1}{x}}} = e^0 = 1$ .

d) Pre všetky  $x \in (0; 1)$  platí:

$$[\cos x]^{\frac{1}{x}} = e^{\ln [\cos x]^{\frac{1}{x}}} = e^{\frac{\ln \cos x}{x}}, \quad [\ln \cos x]' = \frac{-\sin x}{\cos x}, \quad x' = 1 \neq 0.$$

Pretože  $\lim_{x \rightarrow 0^+} \ln \cos x = \lim_{x \rightarrow 0^+} x = 0$ , potom platí:

$$\lim_{x \rightarrow 0^+} \frac{\ln \cos x}{x} = \lim_{x \rightarrow 0^+} \frac{[\ln \cos x]'}{x'} = \lim_{x \rightarrow 0^+} \frac{-\sin x}{\cos x} = 0, \quad \text{t. j.} \quad \lim_{x \rightarrow 0^+} [\cos x]^{\frac{1}{x}} = e^0 = 1. \blacksquare$$

**Príklad 4.3.18.K4-pr86**

Pomocou l'Hospitalovho pravidla vypočítajte:<sup>18</sup>

$$\text{a) } \lim_{x \rightarrow \infty} x^{\frac{1}{x}}, \quad \text{b) } \lim_{x \rightarrow 0^+} x^{\frac{1}{x}}.$$

**Riešenie.**

Pre všetky  $x > 0$  platí  $x^{\frac{1}{x}} = e^{\ln x^{\frac{1}{x}}} = e^{\frac{\ln x}{x}}$ ,  $x' = 1$ ,  $[\ln x]' = \frac{1}{x} \neq 0$ .

a) Keďže  $\lim_{x \rightarrow \infty} x = \lim_{x \rightarrow \infty} \ln x = \infty$ , potom na základe l'Hospitalovho pravidla platí:

$$\lim_{x \rightarrow \infty} \frac{\ln x}{x} = \lim_{x \rightarrow \infty} \frac{[\ln x]'}{x'} = \lim_{x \rightarrow \infty} \frac{\frac{1}{x}}{1} = \lim_{x \rightarrow \infty} \frac{1}{x} = 0, \quad \text{t. j.} \quad \lim_{x \rightarrow \infty} x^{\frac{1}{x}} = \lim_{x \rightarrow \infty} e^{\ln x^{\frac{1}{x}}} = e^0 = 1.$$

<sup>17</sup>Prstencové okolie  $P(0)$  je zvolené tak, aby pre všetky  $x \in P(0)$  platilo  $\sin x \neq 0$ .

<sup>18</sup>Vid' príklad 3.2.56 na strane 268.

b) Pre všetky  $x \in (0; 1)$  platí  $\ln x < 0$ , t. j.  $\frac{\ln x}{x} < 0$ .

Keďže  $\lim_{x \rightarrow 0^+} x = 0$ ,  $\lim_{x \rightarrow 0^+} \ln x = -\infty$ , nemá význam použiť l'Hospitalovo pravidlo a platí:

$$\lim_{x \rightarrow 0^+} \frac{\ln x}{x} = \frac{-\infty}{0} = -\infty, \quad \text{t. j.} \quad \lim_{x \rightarrow 0^+} x^{\frac{1}{x}} = \lim_{x \rightarrow 0^+} e^{\ln x^{\frac{1}{x}}} = e^{-\infty} = 0. \blacksquare$$

#### Príklad 4.3.19.K4-pr51

Vypočítajte:<sup>19</sup> a)  $\lim_{x \rightarrow 0} (1 + ax)^{\frac{1}{x}}$ , kde  $a \in \mathbb{R}$ , b)  $\lim_{x \rightarrow 0} \frac{a^x - 1}{x}$ , kde  $a > 0$ .

#### Riešenie.

a) Nech  $a \neq 0$ .

Označme  $P(0)$  prstencové okolie s krajnými bodmi  $\pm \frac{1}{a}$ . Pre všetky  $x \in P(0)$  platí:

$$1 + ax > 0, \quad \text{t. j.} \quad (1 + ax)^{\frac{1}{x}} = e^{\ln[(1+ax)^{\frac{1}{x}}]} = e^{\frac{\ln(1+ax)}{x}}.$$

Keďže  $[\ln(1 + ax)]' = \frac{a}{1+ax}$ ,  $x' = 1 \neq 0$ ,  $\lim_{x \rightarrow 0} [\ln(1 + ax)] = \lim_{x \rightarrow 0} x = 0$ , potom

$$\lim_{x \rightarrow 0} \frac{\ln(1+ax)}{x} = \lim_{x \rightarrow 0} \frac{[\ln(1+ax)]'}{x'} = \lim_{x \rightarrow 0} \frac{a}{1+ax} = a, \quad \text{t. j.} \quad \lim_{x \rightarrow 0} (1 + ax)^{\frac{1}{x}} = e^a.$$

Ak  $a = 0$ , potom  $\lim_{x \rightarrow 0} (1 + ax)^{\frac{1}{x}} = \lim_{x \rightarrow 0} 1^{\frac{1}{x}} = 1 = e^0$ .

b) Pre všetky  $x \in \mathbb{R}$  platí  $[a^x - 1]' = a^x \ln a$ ,  $x' = 1 \neq 0$ ,  $\lim_{x \rightarrow 0} (a^x - 1) = \lim_{x \rightarrow 0} x = 0$ . Potom

$$\lim_{x \rightarrow 0} \frac{a^x - 1}{x} = \lim_{x \rightarrow 0} \frac{[a^x - 1]'}{x'} = \lim_{x \rightarrow 0} \frac{a^x \ln a}{1} = a^0 \ln a = \ln a. \blacksquare$$

### 4.3.4 Taylorov polynóm

Ak chceme funkciu  $f$ , ktorá je diferencovateľná v bode  $x_0 \in \mathbb{R}$ , aproximovať v okolí bodu  $x_0$  lineárnou funkciou (t. j. polynómom prvého stupňa), potom najlepšia aproximácia (veta 4.2.2) je pomocou lineárnej funkcie  $g(x)$ , pre ktorú platí:

$$g(x) = f(x_0) + f'(x_0)(x - x_0) = f(x_0) + df(x_0, x - x_0), \quad \lim_{x \rightarrow x_0} \frac{f(x) - g(x)}{x - x_0} = 0.$$

V nasledujúcej časti sa budeme snažiť funkciu  $f$  aproximovať v okolí bodu  $x_0$  pomocou polynómu  $n$ -tého stupňa ( $n = 1, 2, 3, \dots$ ) tak, aby chyba aproximácie bola minimálna.

Predpokladajme, že má funkcia  $f$  v bode  $x_0 \in \mathbb{R}$  konečné derivácie do rádu  $n \in \mathbb{N}$  vrátane. To znamená, že funkcia  $f$  má v bode  $x_0$  diferenciály rádov  $1, 2, \dots, n$ . Funkciu  $f$  chceme v nejakom okolí  $O(x_0)$  bodu  $x_0$  aproximovať polynómom

$$T_n(x) = \sum_{k=0}^n a_k (x - x_0)^k = a_0 + a_1(x - x_0) + \dots + a_n(x - x_0)^n, \quad a_0, a_1, \dots, a_n \in \mathbb{R}$$

tak, aby chyba aproximácie  $R_n(x) = f(x) - T_n(x)$  bola minimálna, t. j. aby platilo<sup>20</sup>

$$\lim_{x \rightarrow x_0} \frac{R_n(x)}{(x - x_0)^n} = \lim_{x \rightarrow x_0} \frac{f(x) - T_n(x)}{(x - x_0)^n} = 0. \quad (4.15)$$

Polynóm  $T_n(x)$  určíme pomocou funkcie  $R_n(x)$ . Vzťah (4.15) je vhodné nahradiť ekvivalentnou podmienkou (4.17), ktorá nám umožní vypočítať koeficienty  $a_0, a_1, \dots, a_n$ .

#### Veta 4.3.9.K4-veta20

Nech má funkcia  $g$  v bode  $x_0 \in \mathbb{R}$  vlastné derivácie do rádu  $n \in \mathbb{N}$  vrátane. Potom

$$\lim_{x \rightarrow x_0} \frac{g(x)}{(x - x_0)^n} = 0 \iff g(x_0) = g'(x_0) = g''(x_0) = \dots = g^{(n)}(x_0) = 0.$$

<sup>19</sup>Vid' príklad 3.2.27 na strane 255 a príklad 3.2.48 na strane 266.

<sup>20</sup>To znamená, aby chyba aproximácie  $R_n(x)$  bola v bode  $x_0$  nekonečne malá rádu väčšieho ako  $n$ .

**Dôkaz.**

Z vety 4.1.1 vyplýva, že sú funkcie  $g, g', \dots, g^{(n-1)}$  spojité v bode  $x_0$ . To znamená, že existuje nejaké okolie  $P(x_0)$ , v ktorom sú derivácie  $g(x), g'(x), \dots, g^{(n-1)}(x)$  konečné.

Z vety 3.3.1 ďalej vyplýva, že platí:

$$\lim_{x \rightarrow x_0} g(x) = g(x_0), \quad \lim_{x \rightarrow x_0} g'(x) = g'(x_0), \quad \dots, \quad \lim_{x \rightarrow x_0} g^{(n-1)}(x) = g^{(n-1)}(x_0).$$

$PP_{\Leftarrow}$ : Pre všetky  $x \neq x_0$  existujú konečné derivácie  $[(x-x_0)^n]' = n(x-x_0)^{n-1} \neq 0$ ,  $[(x-x_0)^n]'' = n(n-1)(x-x_0)^{n-2} \neq 0, \dots, [(x-x_0)^n]^{(n)} = n! \neq 0$ . Pre ich limity platí:

$$\lim_{x \rightarrow x_0} (x-x_0)^n = \lim_{x \rightarrow x_0} [(x-x_0)^n]' = \lim_{x \rightarrow x_0} [(x-x_0)^n]'' = \dots = \lim_{x \rightarrow x_0} [(x-x_0)^n]^{(n-1)} = 0.$$

Keďže sú funkcie  $g, g', \dots, g^{(n-1)}$  spojité v bode  $x_0$ , pre ich limity v bode  $x_0$  platí:

$$\lim_{x \rightarrow x_0} g(x) = \lim_{x \rightarrow x_0} g'(x) = \lim_{x \rightarrow x_0} g''(x) = \dots = \lim_{x \rightarrow x_0} g^{(n-1)}(x) = 0.$$

Potom po  $n$ -násobnom opakovanom použití l'Hospitalovho pravidla dostaneme

$$\lim_{x \rightarrow x_0} \frac{g(x)}{(x-x_0)^n} = \lim_{x \rightarrow x_0} \frac{g'(x)}{[(x-x_0)^n]'} = \dots = \lim_{x \rightarrow x_0} \frac{g^{(n)}(x)}{[(x-x_0)^n]^{(n)}} = \lim_{x \rightarrow x_0} \frac{g^{(n)}(x)}{n!} = \frac{g^{(n)}(x_0)}{n!} = 0.$$

$NP_{\Rightarrow}$ : Pre všetky  $k = 0, 1, 2, \dots, n$  platí:

$$\lim_{x \rightarrow x_0} \frac{g(x)}{(x-x_0)^k} = \lim_{x \rightarrow x_0} \left[ \frac{g(x)}{(x-x_0)^n} \cdot (x-x_0)^{n-k} \right] = 0 \cdot 0 = 0. \quad (4.16)$$

Keďže je funkcia  $g$  spojitá v bode  $x_0$ , potom špeciálne pre  $k = 0$  dostaneme

$$0 = \lim_{x \rightarrow x_0} \frac{g(x)}{(x-x_0)^0} = \lim_{x \rightarrow x_0} g(x) = g(x_0), \quad \text{t. j. } g(x_0) = 0.$$

Ďalej postupujeme matematickou indukciou pre  $k = 1, 2, \dots, n$ .

Nech  $k = 1$ . Potom na základe l'Hospitalovho pravidla typu  $\frac{0}{0}$  a vzťahu (4.16) platí:

$$\lim_{x \rightarrow x_0} \frac{g(x)}{x-x_0} = \lim_{x \rightarrow x_0} \frac{g'(x)}{[x-x_0]'} = \lim_{x \rightarrow x_0} \frac{g'(x)}{1} = \lim_{x \rightarrow x_0} g'(x) = g'(x_0), \quad \text{t. j. } g'(x_0) = 0.$$

Nech  $k = 1, 2, \dots, n-1$  a nech pre  $k$ -tu deriváciu funkcie  $g$  platí  $g^{(k)}(x_0) = 0$ .

Potom zrejme tiež pre všetky  $i = 1, 2, \dots, k$  platí  $g^{(i)}(x_0) = 0$ . To znamená, že platí:

$$g(x_0) = g'(x_0) = g''(x_0) = \dots = g^{(k-1)}(x_0) = g^{(k)}(x_0) = 0.$$

Pretože sú funkcie  $g, g', \dots, g^{(k)}$  spojité v okolí  $P(x_0)$ , platí:

$$\lim_{x \rightarrow x_0} g(x) = \lim_{x \rightarrow x_0} g'(x) = \lim_{x \rightarrow x_0} g''(x) = \dots = \lim_{x \rightarrow x_0} g^{(k-1)}(x) = \lim_{x \rightarrow x_0} g^{(k)}(x) = 0.$$

Pre všetky  $x \neq x_0, i = 1, 2, \dots, k < n$  platí:

$$[(x-x_0)^{k+1}]^{(i)} = (k+1)k \dots (k+1-i+1)(x-x_0)^{k+1-i} \neq 0, \quad \lim_{x \rightarrow x_0} [(x-x_0)^{k+1}]^{(i)} = 0.$$

Potom po  $k$ -násobnom opakovanom použití l'Hospitalovho pravidla typu  $\frac{0}{0}$  platí:

$$\begin{aligned} 0 &= \lim_{x \rightarrow x_0} \frac{g(x)}{(x-x_0)^{k+1}} = \lim_{x \rightarrow x_0} \frac{g'(x)}{[(x-x_0)^{k+1}]'} = \dots = \lim_{x \rightarrow x_0} \frac{g^{(k)}(x)}{[(x-x_0)^{k+1}]^{(k)}} = \\ &= \lim_{x \rightarrow x_0} \frac{g^{(k)}(x)}{(k+1) \dots 2 (x-x_0)} = \frac{1}{(k+1)!} \lim_{x \rightarrow x_0} \frac{g^{(k)}(x) - g^{(k)}(x_0)}{x-x_0} = \frac{g^{(k+1)}(x_0)}{(k+1)!}. \end{aligned}$$

Posledná limita znamená definíciu derivácie  $g^{(k+1)}(x_0)$ , ktorá je podľa predpokladov pre  $k+1 \leq n$  vlastná. To znamená, že dané rovnosti platia a že  $g^{(k+1)}(x_0) = 0$  pre  $k+1 \leq n$ .

Ak to zhrnieme, potom pre všetky  $k = 0, 1, 2, \dots, n$  platí  $g^{(k)}(x_0) = 0$ . ■

**Dôsledok 4.3.9.a.K4-dosl06**

Nech má funkcia  $g$  v bode  $x_0 \in \mathbb{R}$  vlastné derivácie do rádu  $n \in \mathbb{N}$  vrátane.

Ak  $\lim_{x \rightarrow x_0} \frac{g(x)}{(x-x_0)^n} = 0$ , potom tiež pre všetky  $k = 0, 1, \dots, n$  platí  $\lim_{x \rightarrow x_0} \frac{g(x)}{(x-x_0)^k} = 0$ .

**Dôkaz.**

Tvrdenie je priamym dôsledkom vety 4.3.9. ■

Zvyšková funkcia  $R_n = f - T_n$  spĺňa v okolí  $O(x_0)$  predpoklady vety 4.3.9. To znamená, že vzťah (4.15) platí práve vtedy, ak pre všetky  $k = 0, 1, 2, \dots, n$  platí:

$$R_n^{(k)}(x_0) = [f(x_0) - T_n(x_0)]^{(k)} = 0, \quad \text{t. j. } T_n^{(k)}(x_0) = f^{(k)}(x_0). \quad (4.17)$$

Pre polynóm  $T_n(x) = a_n(x - x_0)^n + \dots + a_2(x - x_0)^2 + a_1(x - x_0) + a_0$  v okolí  $P(x_0)$  platí:

$$\begin{aligned} T_n'(x) &= n a_n(x - x_0)^{n-1} + \dots + 3 a_3(x - x_0)^2 + 2 a_2(x - x_0) + 1 a_1, \\ T_n''(x) &= n(n-1) a_n(x - x_0)^{n-2} + \dots + 3 \cdot 2 a_3(x - x_0) + 2 \cdot 1 a_2, \\ T_n'''(x) &= n(n-1)(n-2) a_n(x - x_0)^{n-3} + \dots + 3 \cdot 2 \cdot 1 a_3, \\ &\dots \end{aligned}$$

$$T_n^{(n-1)}(x) = n(n-1) \dots 2 a_n(x - x_0) + (n-1)! a_{n-1}, \quad T_n^{(n)}(x) = n! a_n.$$

Z toho vyplýva, že pre všetky  $k = 0, 1, 2, \dots, n$  platí  $T_n^{(k)}(x_0) = k! a_k$ . Potom platí:

$$T_n^{(k)}(x_0) = f^{(k)}(x_0) = k! a_k, \quad \text{t. j. } a_k = \frac{f^{(k)}(x_0)}{k!} \quad \text{pre } k = 0, 1, 2, \dots, n. \quad (4.18)$$

Z predchádzajúcich úvah vyplýva, že vzťahmi (4.18) sú koeficienty  $a_0, a_1, a_2, \dots, a_n$  určené jednoznačne pre polynóm  $T_n(x)$ ,  $x \in O(x_0)$ , ktorý spĺňa vzťahy (4.15) a (4.17).

Nech je funkcia  $f$  definovaná v nejakom okolí  $O(x_0)$  a nech v bode  $x_0$  existujú konečné derivácie  $f'(x_0), f''(x_0), \dots, f^{(n)}(x_0)$ . Funkciu  $T_n(x)$ ,  $x \in O(x_0)$  definovanú vzťahom

$$T_n(x) = \sum_{k=0}^n \frac{f^{(k)}(x_0)}{k!} (x - x_0)^k = f(x_0) + \frac{f'(x_0)}{1!} (x - x_0) + \dots + \frac{f^{(n)}(x_0)}{n!} (x - x_0)^n \quad (4.19)$$

nazývame **Taylorov<sup>21</sup> polynóm stupňa (najviac)  $n$  funkcie  $f$  v bode  $x_0$** . Bod  $x_0$  nazývame **stred Taylorovho polynómu  $T_n(x)$** . Vzorec

$$f(x) = T_n(x) + R_n(x) = \sum_{k=0}^n \frac{f^{(k)}(x_0)}{k!} (x - x_0)^k + R_n(x), \quad x \in O(x_0) \quad (4.20)$$

nazývame **Taylorov vzorec stupňa (najviac)  $n$  funkcie  $f$  v bode  $x_0$** . Funkcia  $R_n(x) = f(x) - T_n(x)$ ,  $x \in O(x_0)$  spĺňa vzťah (4.15) a nazýva sa **zvyšok Taylorovho vzorca (stupňa  $n$  funkcie  $f$  v bode  $x_0$ )**.

Pre  $x_0 = 0$  (stred v bode 0) má Taylorov polynóm (4.19) funkcie  $f$  tvar

$$T_n(x) = \sum_{k=0}^n \frac{f^{(k)}(0)}{k!} x^k = f(0) + \frac{f'(0)}{1!} x + \frac{f''(0)}{2!} x^2 + \dots + \frac{f^{(n)}(0)}{n!} x^n, \quad x \in O(0)$$

a nazýva sa **Maclaurinov<sup>22</sup> polynóm stupňa (najviac)  $n$  funkcie  $f$** . Taylorov vzorec funkcie  $f$  sa v tomto prípade nazýva **Maclaurinov vzorec stupňa  $n$  funkcie  $f$** .

Ak uvážime definíciu diferenciálov vyšších rádov (poznámka 4.2.12), potom môžeme vzťah (4.19) pre Taylorov polynóm rádu  $n$  funkcie  $f$  v bode  $x_0$  písať v tvare

$$T_n(x) = \sum_{k=0}^n \frac{d^k f(x_0, x-x_0)}{k!} = f(x_0) + \frac{df(x_0, x-x_0)}{1!} + \dots + \frac{d^n f(x_0, x-x_0)}{n!}, \quad x \in O(x_0).$$

#### Poznámka 4.3.12.K4-poz41

Môže sa stať, že pre nejaké  $k = 0, 1, \dots, n$  platí  $f^{(k)}(x_0) = 0$ . Potom bude mať polynóm  $T_n(x)$  niektoré koeficienty nulové a jeho stupeň môže byť menší ako  $n$ . To je dôvod, prečo hovoríme o polynóme stupňa najviac  $n$ .

#### Poznámka 4.3.13.K4-poz42

Položme  $h = x - x_0$ , t. j.  $x = x_0 + h$  a označme zvyšok  $R_n(x) = R_n(x_0 + h) = \omega_n(h)$ .

Taylorov polynóm  $T_n(x)$  funkcie  $f$  v bode  $x_0$  môžeme potom vyjadriť v tvare

$$T_n(x_0 + h) = \sum_{k=0}^n \frac{f^{(k)}(x_0)}{k!} h^k = f(x_0) + \frac{f'(x_0)}{1!} h + \frac{f''(x_0)}{2!} h^2 + \dots + \frac{f^{(n)}(x_0)}{n!} h^n, \quad h \in O(0),$$

<sup>21</sup> Brook Taylor [1685–1731] — anglický matematik.

<sup>22</sup> Colin Maclaurin [1698–1746] — škótsky matematik.

kde  $O(0)$  je nejaké okolie bodu 0. Pre Taylorov vzorec funkcie  $f$  v bode  $x_0$  potom platí:

$$f(x_0 + h) = T_n(x_0 + h) + \omega_n(h) = \sum_{k=0}^n \frac{f^{(k)}(x_0)}{k!} h^k + \omega_n(h), \quad \text{kde } \lim_{h \rightarrow 0} \frac{\omega_n(h)}{h^n} = 0.$$

Ak použijeme zápis pomocou diferenciálov, potom platí:

$$T_n(x_0 + h) = \sum_{k=0}^n \frac{d^k f(x_0, h)}{k!} = f(x_0) + \frac{df(x_0, h)}{1!} + \frac{d^2 f(x_0, h)}{2!} + \dots + \frac{d^n f(x_0, h)}{n!}.$$

Hodnota zvyšku  $R_n(x)$  vyjadruje chybu, s akou aproximuje Taylorov polynóm  $T_n$  funkciu  $f$  v bode  $x \in O(x_0)$ . Limitná vlastnosť (4.15) vyjadruje, že táto aproximácia je v lokálnom zmysle, t. j. v okolí  $O(x_0)$  najlepšia možná. Z dôsledku 4.3.9.a vyplýva, že platí:

$$\lim_{x \rightarrow x_0} R_n(x) = \lim_{x \rightarrow x_0} \frac{R_n(x)}{x - x_0} = \lim_{x \rightarrow x_0} \frac{R_n(x)}{(x - x_0)^2} = \dots = \lim_{x \rightarrow x_0} \frac{R_n(x)}{(x - x_0)^n} = 0.$$

Z uvedeného vyplýva, že uspokojujúce výsledky aproximácie pomocou Taylorovho polynómu môžeme očakávať iba pre body, ktoré sú blízko bodu  $x_0$ . Pre vzdialenejšie body dostaneme nepresné až celkom nevyhovujúce výsledky. Vo väčšine prípadoch nepomôže ani zvyšovanie stupňa  $n$  Taylorovho polynómu  $T_n$ . Mnohokrát je to práve naopak a zvyšovaním stupňa  $n$  sa chyba aproximácie zväčšuje.

Navyše pre praktické použitie Taylorovho polynómu danej funkcie je dôležité odhadnúť veľkosť zvyšku  $R_n(x)$ . Tento problém rieši Taylorova veta 4.3.11.

#### Veta 4.3.10 (O najlepšej lokálnej aproximácii funkcie polynómom stupňa $n$ ).K4-veta21

Nech  $f$  je funkcia, ktorá má v bode  $x_0$  konečné derivácie až do rádu  $n$  vrátane. Nech

$$Q_n(x) = c_0 + c_1(x - x_0) + c_2(x - x_0)^2 + \dots + c_n(x - x_0)^n$$

je polynóm najviac  $n$ -tého stupňa, rôzny od  $T_n(x)$ , pre ktorý platí  $Q_n(x_0) = f(x_0)$ .

Potom existuje prstencové okolie  $P(x_0)$  také, že pre všetky  $x \in P(x_0)$  platí:

$$|f(x) - T_n(x)| < |f(x) - Q_n(x)|.$$

#### Dôkaz.

Označme  $g(x) = f(x) - Q_n(x)$ .

Nech  $k = 0, 1, \dots, n$ . Pre  $k$ -tu deriváciu  $Q_n(x)$  v bode  $x_0$  platí<sup>23</sup>  $Q_n^{(k)}(x_0) = k! c_k$ .

Funkcia  $g$  vyhovuje predpokladom vety 4.3.9, pretože pre všetky  $k = 0, 1, 2, \dots, n$  sú derivácie  $g^{(k)}(x_0) = f^{(k)}(x_0) - k! c_k$  konečné. Potom platí:

$$\lim_{x \rightarrow x_0} \frac{f(x) - Q_n(x)}{(x - x_0)^n} = 0 \iff f(x_0) - c_0 = f'(x_0) - 1! c_1 = \dots = f^{(n)}(x_0) - n! c_n = 0,$$

t. j. pre všetky  $k = 0, 1, 2, \dots, n$  platí  $g^{(k)}(x_0) = f^{(k)}(x_0) - k! c_k = 0$ . Z toho vyplýva:

$$c_0 = f(x_0), \quad c_1 = f'(x_0), \quad c_2 = \frac{f''(x_0)}{2!}, \quad \dots, \quad c_n = \frac{f^{(n)}(x_0)}{n!}, \quad \text{t. j. } Q_n(x) = T_n(x).$$

To je spor, pretože  $Q_n(x) \neq T_n(x)$ . Potom pre aspoň jeden index<sup>24</sup>  $k \in \{1, 2, \dots, n\}$  platí  $c_k \neq \frac{f^{(k)}(x_0)}{k!}$ , t. j.  $g^{(k)}(x_0) = f^{(k)}(x_0) - k! c_k \neq 0$ . Nech  $k$  je najmenší taký index, t. j.

$$g(x_0) = g'(x_0) = \dots = g^{(k-1)}(x_0) = 0, \quad g^{(k)}(x_0) = f^{(k)}(x_0) - k! c_k \neq 0.$$

Pre všetky  $i = 0, 1, \dots, k - 1$ ,  $x \neq x_0$  platí:

$$[(x - x_0)^k]^{(i)} = k(k-1) \dots (k-i+1)(x - x_0)^{k-i} \neq 0, \quad \lim_{x \rightarrow x_0} [(x - x_0)^k]^{(i)} = 0.$$

Potom po  $k$ -násobnom použití l'Hospitalovho pravidla typu  $\frac{0}{0}$  platí:

$$\lim_{x \rightarrow x_0} \frac{g(x)}{(x - x_0)^k} = \lim_{x \rightarrow x_0} \frac{g'(x)}{[(x - x_0)^k]'} = \dots = \lim_{x \rightarrow x_0} \frac{g^{(k)}(x)}{[(x - x_0)^k]^{(k)}} = \frac{g^{(k)}(x_0)}{k!} \neq 0.$$

<sup>23</sup>Derivácie polynómu  $Q_n(x)$  sú analogické ako derivácie polynómu  $T_n(x)$  na strane 337.

<sup>24</sup>Zo vzťahu  $Q_n(x_0) = a_0 + 0 + \dots + 0 = a_0$  vyplýva  $a_0 = f(x_0)$ .



Z toho na základe vzťahu (4.15) vyplýva, že platí:

$$\lim_{x \rightarrow x_0} \left| \frac{g(x)}{(x-x_0)^k} \right| \neq 0, \quad \text{t. j.} \quad 0 = \lim_{x \rightarrow x_0} \left| \frac{f(x)-T_n(x)}{(x-x_0)^k} \right| < \lim_{x \rightarrow x_0} \left| \frac{f(x)-Q_n(x)}{(x-x_0)^k} \right|.$$

Potom (veta 3.2.7) existuje prstencové okolie  $P(x_0)$  také, že pre všetky  $x \in P(x_0)$  platí:

$$\left| \frac{f(x)-T_n(x)}{|x-x_0|^k} \right| = \left| \frac{f(x)-T_n(x)}{(x-x_0)^k} \right| < \left| \frac{f(x)-Q_n(x)}{(x-x_0)^k} \right| = \frac{|f(x)-Q_n(x)|}{|x-x_0|^k}.$$

Pretože  $x \neq x_0$ , potom pre všetky  $x \in P(x_0)$  platí  $|f(x) - T_n(x)| < |f(x) - Q_n(x)|$ . ■

### Veta 4.3.11 (Taylorova).K4-veta22

Nech má funkcia  $f$  v nejakom okolí  $O(x_0)$  bodu  $x_0$  konečné derivácie až do rádu  $n+1$  vrátane. Potom pre všetky  $x \in O(x_0)$  platí Taylorov vzorec (4.20)

$$f(x) = T_n(x) + R_n(x) = \sum_{k=0}^n \frac{f^{(k)}(x_0)}{k!} (x-x_0)^k + R_n(x),$$

pričom  $R_n(x)$ ,  $x \in O(x_0)$  môžeme písať v **Lagrangeovom tvare (Lagrangeov zvyšok)**

$$R_n(x) = \frac{f^{(n+1)}(\xi)}{(n+1)!} (x-x_0)^{n+1}, \quad \text{kde } \xi = x_0 + \theta(x-x_0), \quad \theta \in (0; 1)$$

alebo v **Cauchyho tvare**<sup>25</sup> (**Cauchyho zvyšok**)

$$R_n(x) = \frac{f^{(n+1)}(\xi)}{n!} (x-x_0)(x-\xi)^n, \quad \text{kde } \xi = x_0 + \theta(x-x_0), \quad \theta \in (0; 1).$$

### Dôkaz.

Vetu dokážeme tak, že zároveň odvodíme obidva tvary zvyšku  $R_n(x)$ ,  $x \in O(x_0)$ .

Nech  $x \in O(x_0)$  je ľubovoľné, ale pevné. Označme  $I$  uzavretý interval s krajnými bodmi  $x_0, x$ , t. j.  $I = \langle \min\{x, x_0\}; \max\{x, x_0\} \rangle$ . Pre  $t \in I$  definujme funkciu  $F(t)$  nasledovne

$$F(t) = f(x) - \sum_{k=0}^n \frac{f^{(k)}(t)}{k!} (x-t)^k = f(x) - f(t) - \frac{f'(t)}{1!} (x-t) - \dots - \frac{f^{(n)}(t)}{n!} (x-t)^n.$$

V krajných bodoch intervalu  $I$  platí  $F(x) = 0$ ,  $F(x_0) = R_n(x)$ .

Z predpokladov vyplýva, že je funkcia  $F$  na intervale  $I$  diferencovateľná a platí:

$$\begin{aligned} F'(t) &= \frac{dF(t)}{dt} = \left[ f(x) - f(t) - \frac{f'(t)}{1!} (x-t) - \frac{f''(t)}{2!} (x-t)^2 - \dots - \frac{f^{(n)}(t)}{n!} (x-t)^n \right]' = \\ &= 0 - f'(t) - \left[ \frac{f''(t)}{1!} (x-t) - 1 \frac{f'(t)}{1!} \right] - \left[ \frac{f'''(t)}{2!} (x-t)^2 - 2 \frac{f''(t)}{2!} (x-t) \right] - \dots \\ &\quad \dots - \left[ \frac{f^{(n+1)}(t)}{n!} (x-t)^n - n \frac{f^{(n)}(t)}{n!} (x-t)^{n-1} \right] = - \frac{f^{(n+1)}(t)}{n!} (x-t)^n. \end{aligned}$$

Druhý člen v zátvorke sa ruší s prvým členom v predchádzajúcej zátvorke. To znamená, že  $F$  má na  $I$  konečnú deriváciu a podľa vety 4.1.4 je na  $I$  spojitá.

Nech  $\varphi(t)$  je spojitá funkcia definovaná na intervale  $I$ , ktorá má pre všetky vnútorné body  $t \in I$  konečnú deriváciu  $\varphi'(t) \neq 0$ . Funkcie  $F$ ,  $\varphi$  spĺňajú na intervale  $I$  predpoklady Cauchyho vety o strednej hodnote 4.3.6. Potom existuje  $\xi \in I - \{x, x_0\}$  také, že platí:

$$\frac{F(x_0)-F(x)}{\varphi(x_0)-\varphi(x)} = \frac{F'(\xi)}{\varphi'(\xi)}, \quad \text{t. j.} \quad \frac{R_n(x)-0}{\varphi(x_0)-\varphi(x)} = - \frac{f^{(n+1)}(\xi)}{n!} (x-\xi)^n \cdot \frac{1}{\varphi'(\xi)}.$$

Z toho vyplýva, že pre zvyšok  $R_n(x)$ ,  $x \in O(x_0)$  platí vzťah

$$R_n(x) = \frac{\varphi(x)-\varphi(x_0)}{\varphi'(\xi)} \cdot \frac{f^{(n+1)}(\xi)}{n!} (x-\xi)^n, \quad \text{kde } \xi \in I - \{x, x_0\}. \quad (4.21)$$

Ak zvolíme  $\varphi(t) = (x-t)^{n+1}$  a dosadíme do (4.21) dostaneme Lagrangeov zvyšok

$$R_n(x) = \frac{(x-x)^{n+1} - (x-x_0)^{n+1}}{-(n+1)(x-\xi)^n} \cdot \frac{f^{(n+1)}(\xi)}{n!} (x-\xi)^n = \frac{f^{(n+1)}(\xi)}{(n+1)!} (x-x_0)^{n+1}, \quad \xi \in I - \{x, x_0\}.$$

<sup>25</sup>Existuje samozrejme omnoho viac tvarov zvyšku  $R_n(x)$ , ale pre praktický význam sú Lagrangeov a Cauchyho tvar najvýznamnejšie.

Ak zvolíme  $\varphi(t) = t$  a dosadíme do (4.21) dostaneme Cauchyho zvyšok

$$R_n(x) = \frac{x-x_0}{1} \cdot \frac{f^{(n+1)}(\xi)}{n!} (x-\xi)^n = \frac{f^{(n+1)}(\xi)}{n!} (x-x_0)(x-\xi)^n, \quad \xi \in I - \{x, x_0\}.$$

Bod  $\xi$  leží medzi  $x_0$  a  $x$  a môžeme ho vyjadriť v tvare  $\xi = x_0 + \theta(x - x_0)$ ,  $\theta \in (0; 1)$ . ■

#### Poznámka 4.3.14.K4-poz43

Ak použijeme (viď poznámka 4.3.13) označenie  $h = x - x_0$ , t. j.  $x = x_0 + h$ , potom pre  $\xi$  ležiace medzi bodmi  $x_0$  a  $x$  platí  $\xi = x_0 + \theta h$ ,  $x - \xi = x - x_0 - \theta h = h - \theta h = (1 - \theta)h$ .

Pre zvyšok  $R_n(x_0 + h) = \omega_n(h)$ ,  $h \in O(0)$  Taylorovho vzorca

$$f(x_0 + h) = f(x_0) + \frac{f'(x_0)}{1!}h + \frac{f''(x_0)}{2!}h^2 + \dots + \frac{f^{(n)}(x_0)}{n!}h^n + R_n(x_0 + h), \quad h \in O(0)$$

v Lagrangeovom tvare potom platí:

$$R_n(x_0 + h) = \frac{f^{(n+1)}(\xi)}{(n+1)!} (x - x_0)^{n+1} = \frac{f^{(n+1)}(x_0 + \theta h)}{(n+1)!} h^{n+1}, \quad \xi = x_0 + \theta h, \quad \theta \in (0; 1).$$

Zopakujme, že  $h = x - x_0$ . Pre Cauchyho tvar zvyšku platí:

$$R_n(x) = \frac{f^{(n+1)}(\xi)}{n!} (x - x_0)(x - \xi)^n = \frac{f^{(n+1)}(x_0 + \theta h)}{n!} h^{n+1} (1 - \theta)^n, \quad \xi = x_0 + \theta h, \quad \theta \in (0; 1).$$

#### Poznámka 4.3.15.K4-poz44

V prípade Maclaurinovho vzorca

$$f(x) = f(0) + \frac{f'(0)}{1!}x + \frac{f''(0)}{2!}x^2 + \dots + \frac{f^{(n)}(0)}{n!}x^n + R_n(x), \quad x \in O(0)$$

platí  $h = x - 0 = x$ ,  $\xi = 0 + \theta(x - 0) = \theta x = \theta h$ , kde  $\theta \in (0; 1)$ . Potom

$$R_n(x) = \frac{f^{(n+1)}(\xi)}{(n+1)!} x^{n+1} = \frac{f^{(n+1)}(\theta x)}{(n+1)!} x^{n+1}$$

je Lagrangeov tvar zvyšku. Cauchyho zvyšok má tvar

$$R_n(x) = \frac{f^{(n+1)}(\xi)}{n!} x(x - \xi)^n = \frac{f^{(n+1)}(\theta x)}{n!} x(x - \theta x)^n = \frac{f^{(n+1)}(\theta x)}{n!} x^{n+1} (1 - \theta)^n.$$

#### Príklad 4.3.20.K4-pr53

Nájdite Taylorov vzorec stupňa 2 funkcie  $f(x) = \sqrt[3]{1+x}$  so stredom v bode 0.

#### Riešenie.

Funkcia  $f$  je definovaná pre všetky  $x \in (-1; \infty)$ . Pre všetky  $x \in (-1; \infty)$  platí:

$$f'(x) = \frac{1}{3\sqrt[3]{(1+x)^2}}, \quad f''(x) = \frac{-2}{9\sqrt[3]{(1+x)^5}}, \quad f'''(x) = \frac{10}{27\sqrt[3]{(1+x)^8}}.$$

Keďže  $f(0) = 1$ ,  $f'(0) = \frac{1}{3}$ ,  $f''(0) = -\frac{2}{9}$ , potom pre Taylorov, t. j. Maclaurinov vzorec platí:

$$f(x) = f(0) + \frac{f'(0)}{1!}x + \frac{f''(0)}{2!}x^2 + R_2(x) = 1 + \frac{x}{3} - \frac{x^2}{9} + R_2(x), \quad x \in O(0).$$

Pre zvyšok  $R_2(x)$ ,  $x \in O(0)$  v Lagrangeovom tvare platí:

$$R_2(x) = \frac{f'''(\theta x)}{3!} x^3 = \frac{5x^3}{81\sqrt[3]{1+\theta x}}, \quad \text{kde } \theta \in (0; 1).$$

Cauchyho zvyšok má tvar  $R_2(x) = \frac{f'''(\theta x)}{2!} x^3(1 - \theta)^2 = \frac{5x^3(1-\theta)^2}{27\sqrt[3]{1+\theta x}}$ , kde  $\theta \in (0; 1)$ . ■

#### Poznámka 4.3.16.K4-poz45

Z predchádzajúceho príkladu vyplýva, že funkciu  $f(x) = \sqrt[3]{1+x}$ ,  $x \in O(0)$  môžeme aproximovať kvadratickou funkciou  $1 + \frac{x}{3} - \frac{x^2}{9}$  s chybou  $|R_2(x)|$ , t. j.

$$\sqrt[3]{1+x} \approx 1 + \frac{x}{3} - \frac{x^2}{9}, \quad x \in O(0).$$

Pre  $x \in O^+(0)$  platí  $1 + \theta x \geq 1$ , t. j.  $\sqrt[3]{1+\theta x} \geq 1$ . Z toho vyplýva pre chybu aproximácie:

$$|R_2(x)| = R_2(x) = \frac{5x^3}{81\sqrt[3]{1+\theta x}} \leq \frac{5x^3}{81} < 0,062x^3.$$

Napríklad pre  $\sqrt[3]{1,2} = \sqrt[3]{1+0,2}$  pre chybu platí  $|R_2(0,2)| < 0,062 \cdot 0,2^3 = 0,000496$ . Ale pre  $\sqrt[3]{8} = \sqrt[3]{1+7}$  je chyba ohraničená číslom  $0,062 \cdot 7^3 = 21,266$ , čo je nepriateľné.

Naozaj, stačí porovnať hodnoty  $\sqrt[3]{1,2} = 1,062659$ ,  $\sqrt[3]{8} = 2$  s hodnotami

$$\sqrt[3]{1+0,2} \approx 1 + \frac{0,2}{3} - \frac{0,2^2}{9} = 1,062222, \quad \sqrt[3]{1+7} \approx 1 + \frac{7}{3} - \frac{7^2}{9} = -2,111111.$$

#### Príklad 4.3.21.K4-pr54

Nájdite Taylorov vzorec stupňa  $n \in N$  funkcie  $f(x) = \ln x$  so stredom v bode  $x_0 = 1$ .

#### Riešenie.

Pre všetky  $x > -1$ ,  $k \in N$  pre  $k$ -tu deriváciu funkcie  $f$  platí:

$$f'(x) = \frac{1}{x}, \quad f''(x) = \frac{-1}{x^2}, \quad f'''(x) = \frac{2}{x^3}, \quad f^{(4)}(x) = \frac{-3 \cdot 2}{x^4}, \quad \dots, \quad f^{(k)}(x) = \frac{(-1)^{k-1}(k-1)!}{x^k}.$$

Potom pre všetky  $k \in N$  platí  $f^{(k)}(1) = (-1)^{k-1}(k-1)!$ .

Potom Taylorov polynóm stupňa  $n$  funkcie  $f(x) = \ln x$  má pre  $x \in O(1)$  tvar

$$\begin{aligned} T_n(x) &= 0 + \frac{1}{1!}(x-1) + \frac{-1!}{2!}(x-1)^2 + \frac{2!}{3!}(x-1)^3 + \dots + \frac{(-1)^{n-1}n!}{(n-1)!}(x-1)^n = \\ &= \frac{(x-1)}{1} - \frac{(x-1)^2}{2} + \frac{(x-1)^3}{3} + \dots + \frac{(-1)^{n-1}(x-1)^n}{n} = \sum_{k=1}^n \frac{(-1)^{k-1}(x-1)^k}{k}. \end{aligned}$$

Pre zvyšok  $R_n(x)$  v Lagrangeovom, resp. Cauchyho tvare platí:

$$R_n(x) = \frac{(-1)^n(x-1)^{n+1}}{(n+1)[1+\theta(x-1)]^{n+1}}, \quad \text{resp. } R_n(x) = \frac{(-1)^n(x-1)^{n+1}(1-\theta)^n}{[1+\theta(x-1)]^{n+1}}, \quad \theta \in (0; 1). \blacksquare$$

#### Poznámka 4.3.17.K4-poz46

Niekedy je výhodnejšie funkciu  $f(x) = \ln x$  vyjadriť v tvare Maclaurinovho polynómu. Ak položíme  $x = t + 1$ , potom Maclaurinov polynóm funkcie  $f(t) = \ln(t+1)$  má tvar

$$T_n(t) = t - \frac{t^2}{2} + \frac{t^3}{3} - \frac{t^4}{4} + \frac{t^5}{5} + \dots + \frac{(-1)^{n-1}t^n}{n} = \sum_{k=1}^n \frac{(-1)^{k-1}t^k}{k}, \quad t \in O(0).$$

Tento výsledok súhlasí s výsledkom získaným v nasledujúcom príklade.

#### Príklad 4.3.22.K4-pr58

Nájdite Maclaurinov vzorec stupňa  $n \in N$  funkcie  $f(x) = \ln(x+1)$ .

#### Riešenie.

Z príkladu 4.3.21 vyplýva, že pre všetky  $x > 0$ ,  $k \in N$  platí:

$$f^{(k)}(x) = \frac{(-1)^{k-1}(k-1)!}{(x+1)^k}, \quad \text{t. j. } f^{(k)}(0) = \frac{(-1)^{k-1}(k-1)!}{(0+1)^k} = (-1)^{k-1}(k-1)!.$$

Pre Maclaurinov polynóm stupňa  $n$  funkcie  $f(x) = \ln(x+1)$  pre  $x \in O(0)$  potom platí:

$$T_n(x) = 0 + \frac{1}{1!}x + \frac{-1!}{2!}x^2 + \dots + \frac{(-1)^{n-1}n!}{(n-1)!}x^n = x - \frac{x^2}{2} + \frac{x^3}{3} + \dots + \frac{(-1)^{n-1}x^n}{n}.$$

Pre zvyšok  $R_n(x)$  v Lagrangeovom, resp. Cauchyho tvare platí:

$$R_n(x) = \frac{(-1)^n x^{n+1}}{(n+1)[1+\theta x]^{n+1}}, \quad \text{resp. } R_n(x) = \frac{(-1)^n x^{n+1}(1-\theta)^n}{[1+\theta x]^{n+1}}, \quad \theta \in (0; 1). \blacksquare$$

#### Príklad 4.3.23.K4-pr55

Nájdite Maclaurinove vzorce stupňa  $n \in N$  pre funkcie: a)  $f(x) = \sin x$ , b)  $g(x) = \cos x$ .

#### Riešenie.

a) Z príkladu 4.2.8 pre derivácie rádu  $k \in N \cup \{0\}$  funkcie  $f(x) = \sin x$  vyplýva:

$$f^{(4k)}(0) = f(0) = \sin 0 = 0, \quad f^{(4k+1)}(0) = f'(0) = \cos 0 = 1,$$

$$f^{(4k+2)}(0) = f''(0) = -\sin 0 = 0, \quad f^{(4k+3)}(0) = f'''(0) = -\cos 0 = -1.$$

To znamená, že pre  $k \in N \cup \{0\}$  platí  $f^{(2k)} = 0$ ,  $f^{(2k+1)} = (-1)^{\frac{(2k+1)-1}{2}} = (-1)^k$ .

Maclaurinov polynóm stupňa  $n = 2k + 1$ ,  $k \in N \cup \{0\}$  má potom tvar

$$T_{2k+1}(x) = 0 + \frac{x}{1!} + 0 + \frac{-x^3}{3!} + 0 + \cdots + \frac{(-1)^k x^{2k+1}}{(2k+1)!} = \sum_{i=0}^k \frac{(-1)^i x^{2i+1}}{(2i+1)!}, \quad x \in R.$$

Pre zvyšok  $R_{2k+1}(x)$  v Lagrangeovom tvare (poznámka 4.3.15) platí:

$$|R_{2k+1}(x)| = \left| \frac{f^{(2k+2)}(\theta x)}{(2k+2)!} x^{2k+2} \right| = \left| \frac{\sin \theta x}{(2k+2)!} x^{2k+2} \right| \leq \left| \frac{x^{2k+2}}{(2k+2)!} \right| = \frac{|x|^{2k+2}}{(2k+2)!}, \quad x \in R.$$

b) Z príkladu 4.2.8 pre derivácie rádu  $k \in N \cup \{0\}$  funkcie  $g(x) = \cos x$  vyplýva:

$$\begin{aligned} g^{(4k)}(0) = f(0) &= \cos 0 = 1, & g^{(4k+1)}(0) &= f'(0) = -\sin 0 = 0, \\ g^{(4k+2)}(0) &= f''(0) = -\cos 0 = -1, & g^{(4k+3)}(0) &= f'''(0) = \sin 0 = 0. \end{aligned}$$

To znamená, že pre  $k \in N \cup \{0\}$  platí  $g^{(2k)} = (-1)^{\frac{2k}{2}} = (-1)^k = 0$ ,  $g^{(2k+1)} = 0$ .

Maclaurinov polynóm stupňa  $n = 2k$ ,  $k \in N$  má potom tvar

$$T_{2k}(x) = 1 + 0 + \frac{-x^2}{2!} + 0 + \frac{x^4}{4!} + 0 + \cdots + \frac{(-1)^k x^{2k}}{(2k)!} = \sum_{i=0}^k \frac{(-1)^i x^{2i}}{(2i)!}, \quad x \in R.$$

Pre zvyšok  $R_{2k}(x)$  v Lagrangeovom tvare platí:

$$|R_{2k}(x)| = \left| \frac{f^{(2k+1)}(\theta x)}{(2k+1)!} x^{2k+1} \right| = \left| \frac{\cos \theta x}{(2k+1)!} x^{2k+1} \right| \leq \left| \frac{x^{2k+1}}{(2k+1)!} \right| = \frac{|x|^{2k+1}}{(2k+1)!}, \quad x \in R. \blacksquare$$

#### Poznámka 4.3.18.K4-poz47

Z príkladu 2.3.36 vyplýva, že pre všetky  $x \in R$  platí:

$$0 \leq \lim_{k \rightarrow \infty} |R_{2k+1}| \leq \lim_{k \rightarrow \infty} \frac{|x|^{2k+2}}{(2k+2)!} = 0, \quad 0 \leq \lim_{k \rightarrow \infty} |R_{2k}| \leq \lim_{k \rightarrow \infty} \frac{|x|^{2k+1}}{(2k+1)!} = 0.$$

To znamená, že obidve funkcie  $f(x) = \sin x$ ,  $g(x) = \cos x$  môžeme aproximovať Maclaurinovými polynómami pre ľubovoľné  $x \in R$ . Požadovanú presnosť dosiahneme dostatočným zväčšením stupňa  $n = 2k + 1$ , resp.  $n = 2k$ .

#### Príklad 4.3.24.K4-pr56

Nájdite Maclaurinov vzorec stupňa  $n \in N$  funkcie  $f(x) = e^x$ .

#### Riešenie.

Pre všetky  $k \in N$  platí  $f^{(k)}(x) = [e^x]^{(k)} = e^x$ , t. j.  $f^{(k)}(0) = e^0 = 1$ .

Maclaurinov polynóm stupňa  $n \in N$  má potom tvar

$$T_n(x) = 1 + \frac{x}{1!} + \frac{x^2}{2!} + \frac{x^3}{3!} + \frac{x^4}{4!} + \cdots + \frac{x^n}{n!} = \sum_{k=0}^n \frac{x^k}{k!}, \quad x \in R.$$

Pre Lagrangeov zvyšok platí  $R_n(x) = \frac{f^{(n)}(\theta x)}{(n+1)!} x^{n+1} = \frac{e^{\theta x} x^{n+1}}{(n+1)!}$ , pričom  $0 < \theta < 1$ .

Pre  $x \geq 0$  platí  $0 < \theta x < x$ , t. j.  $e^{\theta x} < e^x$  a pre  $x < 0$  platí  $\theta x < 0$ , t. j.  $e^{\theta x} < 1$ . Potom

$$|R_n(x)| = \frac{e^{\theta x} x^{n+1}}{(n+1)!} < \frac{e^x x^{n+1}}{(n+1)!} \quad \text{pre } x \geq 0, \quad |R_n(x)| = \frac{e^{\theta x} |x|^{n+1}}{(n+1)!} < \frac{|x|^{n+1}}{(n+1)!} \quad \text{pre } x < 0. \blacksquare$$

#### Poznámka 4.3.19.K4-poz48

Rovnako ako funkcie  $\sin x$ ,  $\cos x$  môžeme aj funkciu  $f(x) = e^x$  aproximovať Maclaurinovými polynómami na celej reálnej osi, t. j. pre všetky  $x \in R$ . Požadovanú presnosť opäť dostaneme dostatočným zväčšením stupňa  $n$ . Vyplýva to zo vzťahov (4.22) a (4.23).

Pre  $x < 0$  na základe príkladu 2.3.36 a vety o zovretí limít platí:

$$0 \leq \lim_{n \rightarrow \infty} |R_n(x)| = \lim_{n \rightarrow \infty} \frac{|x|^{n+1}}{(n+1)!} = 0, \quad \text{t. j.} \quad \lim_{n \rightarrow \infty} R_n(x) = 0. \quad (4.22)$$

Nech  $x > 0$ . Pre  $n \in \mathbb{N}$  označme  $a_n = \frac{e^x x^{n+1}}{(n+1)!}$ . Keďže  $a_n > 0$ , potom

$$\lim_{n \rightarrow \infty} \frac{a_{n+1}}{a_n} = \lim_{n \rightarrow \infty} \frac{e^x x^{n+2} (n+1)!}{(n+2)! e^x x^{n+1}} = \lim_{n \rightarrow \infty} \frac{x}{n+2} = 0, \quad \text{t. j.} \quad \lim_{n \rightarrow \infty} a_n = \lim_{n \rightarrow \infty} \frac{e^x x^{n+1}}{(n+1)!} = 0$$

na základe vety 2.3.23. Z toho vyplýva, že pre  $x > 0$  platí:

$$0 \leq \lim_{n \rightarrow \infty} |R_n(x)| \leq \lim_{n \rightarrow \infty} \frac{e^x x^{n+1}}{(n+1)!} = 0, \quad \text{t. j.} \quad \lim_{n \rightarrow \infty} R_n(x) = 0. \quad (4.23)$$

#### Príklad 4.3.25.K4-pr57

Nájdite Maclaurinov polynóm stupňa  $n \in \mathbb{N}$  funkcie  $f(x) = e^{(x^2)}$ ,  $x \in \mathbb{R}$ .

#### Riešenie.

Pre všetky  $x \in \mathbb{R}$  pre derivácie funkcie  $f$  do rádu 6 platí:

$$\begin{aligned} f'(x) &= 2x e^{(x^2)}, & f^{(4)}(x) &= 12 e^{(x^2)} + 48x^2 e^{(x^2)} + 16x^4 e^{(x^2)}, \\ f''(x) &= 2 e^{(x^2)} + 4x^2 e^{(x^2)}, & f^{(5)}(x) &= 120x e^{(x^2)} + 160x^3 e^{(x^2)} + 32x^5 e^{(x^2)}, \\ f'''(x) &= 12x e^{(x^2)} + 8x^3 e^{(x^2)}, & f^{(6)}(x) &= 120 e^{(x^2)} + 720x^2 e^{(x^2)} + 480x^4 e^{(x^2)} + 64x^6 e^{(x^2)}. \end{aligned}$$

Ako vidíme, s výpočtom derivácií vyšších rádov funkcie  $f$  sú problémy, preto určíme Maclaurinov polynóm iba stupňa 6. Keďže platí:

$$f(0) = 1, \quad f'(0) = 0, \quad f''(0) = 2, \quad f'''(0) = 0, \quad f^{(4)}(0) = 12, \quad f^{(5)}(0) = 0, \quad f^{(6)}(0) = 120,$$

potom Maclaurinov polynóm stupňa 6 má tvar

$$T_6(x) = 1 + \frac{0}{1!}x + \frac{2}{2!}x^2 + \frac{0}{3!}x^3 + \frac{12}{4!}x^4 + \frac{0}{5!}x^5 + \frac{120}{6!}x^6 = 1 + x^2 + \frac{x^4}{2} + \frac{x^6}{6}.$$

#### Iné riešenie.

Z príkladu 4.3.24 pre Maclaurinov polynóm stupňa  $n$  funkcie  $g(t) = e^t$  vyplýva:

$$T_n(t) = 1 + \frac{t}{1!} + \frac{t^2}{2!} + \frac{t^3}{3!} + \frac{t^4}{4!} + \dots + \frac{t^n}{n!}.$$

Ak položíme  $t = x^2$ , potom pre Maclaurinov polynóm funkcie  $f(x) = g(x^2) = e^{(x^2)}$  platí:

$$P_n(x) = 1 + \frac{x^2}{1!} + \frac{(x^2)^2}{2!} + \frac{(x^2)^3}{3!} + \dots + \frac{(x^2)^n}{n!} = 1 + \frac{x^2}{1!} + \frac{x^4}{2!} + \frac{x^6}{3!} + \dots + \frac{x^{2n}}{n!} = \sum_{k=0}^{2n} \frac{x^{2k}}{k!}.$$

Pre  $n = 3$  dostaneme  $T_6(x) = P_3(x) = 1 + x^2 + \frac{x^4}{2} + \frac{x^6}{6}$ . ■

### 4.3.5 Vyšetrovanie priebehu funkcie

Pomocou diferenciálneho počtu môžeme úspešne vyšetrovať rôzne vlastnosti funkcií, ktoré nám pomôžu pri určovaní ich priebehu. Pomocou derivácií môžeme vyšetrovať monotónnosť, konvexnosť a konkávnosť funkcie, hľadať jej inflexné a stacionárne body, lokálne a globálne extrémy, prípadne určovať asymptoty grafu tejto funkcie.

Obyčajne sa vyšetrojú funkcie, ktoré majú konečný počet bodov nespojitosti, prípadne konečný počet bodov, v ktorých nemajú deriváciu. Preto sa môžeme obmedziť na vyšetrovanie funkcií, ktoré sú diferencovateľné na intervale.

#### • Vyšetrovanie monotónnosti funkcie

Dôležitou súčasťou vyšetrovania priebehu funkcie je určenie intervalov, na ktorých je táto funkcia monotónna, t. j. rastúca (neklesajúca) alebo klesajúca (nerastúca).

**Veta 4.3.12.K4-veta23**

Ak je funkcia  $f$  spojitá na intervale  $I \subset \mathbb{R}$  a má na  $I$  deriváciu  $f'$ , potom platí:

- Funkcia  $f$  je na  $I$  rastúca práve vtedy, ak pre všetky  $x_0 \in I$  platí  $f'(x_0) \geq 0$  a neexistuje otvorený interval  $J \subset I$ , na ktorom je  $f'$  nulová (t. j.  $f'(x) \neq 0$  pre  $x \in J$ ).
- Funkcia  $f$  je na  $I$  klesajúca práve vtedy, ak pre všetky  $x_0 \in I$  platí  $f'(x_0) \leq 0$  a neexistuje otvorený interval  $J \subset I$ , na ktorom je  $f'$  nulová (t. j.  $f'(x) \neq 0$  pre  $x \in J$ ).
- Funkcia  $f$  je na  $I$  neklesajúca práve vtedy, ak pre všetky  $x_0 \in I$  platí  $f'(x_0) \geq 0$ .
- Funkcia  $f$  je na  $I$  nerastúca práve vtedy, ak pre všetky  $x_0 \in I$  platí  $f'(x_0) \leq 0$ .
- Funkcia  $f$  je na  $I$  konštantná práve vtedy, ak pre všetky  $x_0 \in I$  platí  $f'(x_0) = 0$ .

**Dôkaz.**

a)  $NP \Rightarrow$ : Funkcia  $f$  je na  $I$  rastúca, t. j. pre všetky  $x_1, x_2 \in I$ ,  $x_1 < x_2$  platí  $f(x_1) < f(x_2)$ . Z predpokladov vyplýva, že pre všetky  $x \in I$  existujú<sup>26</sup>  $f'_-(x) = f'_+(x) = f'(x)$ .

Nech  $x_0 \in I$  je ľubovoľný bod.

Pre všetky  $x < x_0$  platí  $f(x) < f(x_0)$ , t. j.  $x - x_0 < 0$ ,  $f(x) - f(x_0) < 0$ . Z toho vyplýva:

$$\frac{f(x) - f(x_0)}{x - x_0} > 0, \quad \text{t. j. } f'_-(x_0) = \lim_{x \rightarrow x_0^-} \frac{f(x) - f(x_0)}{x - x_0} \geq 0.$$

Analogicky pre všetky  $x > x_0$  platí  $x - x_0 > 0$ ,  $f(x) - f(x_0) > 0$ . To znamená, že tiež

$$\frac{f(x) - f(x_0)}{x - x_0} > 0, \quad \text{t. j. } f'_+(x_0) = \lim_{x \rightarrow x_0^+} \frac{f(x) - f(x_0)}{x - x_0} \geq 0.$$

Z toho vyplýva, že pre všetky  $x_0 \in I$  platí  $f'(x_0) \geq 0$ .

Predpokladajme, že existuje interval  $J \subset I$  taký, že pre všetky  $x \in J$  platí  $f'(x) = 0$ . Potom z dôsledku 4.3.3.b vyplýva, že je funkcia  $f$  na intervale  $J$  konštantná. To je spor s tým, že je funkcia  $f$  rastúca na  $I$ .

$PP \Leftarrow$ : Nech  $x_1, x_2 \in I$  sú ľubovoľné body také, že platí  $x_1 < x_2$ . Potom na základe Lagrangeovej vety o strednej hodnote existuje  $c \in (x_1; x_2)$  také, že platí:

$$f(x_2) - f(x_1) = f'(c) \cdot (x_2 - x_1), \quad \text{pričom } f'(c) \geq 0, \quad x_2 - x_1 > 0.$$

Potom platí  $f(x_2) - f(x_1) \geq 0$ , t. j.  $f(x_1) \leq f(x_2)$ . To znamená, že  $f$  je neklesajúca na  $I$ .

Predpokladajme, že na nejakom otvorenom intervale  $J \subset I$  je funkcia  $f$  konštantná. Potom (príklad 4.1.4) pre všetky  $x \in J$  platí  $f'(x) = 0$ . To je spor s predpokladom.

b) Označme  $g = -f$ , potom je  $f$  klesajúca na  $I$  práve vtedy, ak je  $g$  rastúca na  $I$ .

Z časti a) vyplýva, že  $g$  je na  $I$  rastúca práve vtedy, ak pre všetky  $x \in I$  platí:

$$g'(x) = -f'(x) \geq 0, \quad \text{t. j. } f'(x) \leq 0$$

a neexistuje otvorený interval  $J \subset I$  taký, že pre všetky  $x \in J$  platí  $g'(x) = -f'(x) = 0$ , t. j.  $f'(x) = 0$ . Tým je časť b) dokázaná.

c), d) Dôkaz je podobný ako dôkaz častí a), b).

e)  $NP \Rightarrow$ : Vyplýva z príkladu 4.1.4.

$PP \Leftarrow$ : Funkcia  $f$  je nerastúca, pretože pre všetky  $x_0 \in I$  platí  $f'(x_0) \leq 0$ . Funkcia  $f$  je taktiež neklesajúca, pretože pre všetky  $x_0 \in I$  platí  $f'(x_0) \geq 0$ . To znamená, že funkcia  $f$  je nerastúca a neklesajúca zároveň, t. j. konštantná.<sup>27</sup> ■

**Poznámka 4.3.20.K4-poz49**

Ak je funkcia  $f$  spojitá a rastúca, resp. klesajúca na intervale  $I$ , potom môže pre nejaké body  $x \in I$  platiť  $f'(x) = 0$ . To znamená, že derivácia  $f'$  môže byť nulová iba v jednotlivých bodoch, nie na otvorenom

<sup>26</sup>V krajných bodoch intervalu  $I$  existujú iba jednostranné derivácie.

<sup>27</sup>Toto tvrdenie vyplýva tiež z dôsledku 4.3.3.b.

podintervale intervalu  $I$ . V ostatných bodoch  $x \in I$  musí platiť  $f'(x) > 0$  v prípade rastúcej funkcie a  $f'(x) < 0$  v prípade klesajúcej funkcie.

**Príklad 4.3.26.K4-pr59**

- a) Funkcia  $f(x) = 2$ ,  $x \in \mathbb{R}$  je konštantná. Pre všetky  $x \in \mathbb{R}$  platí  $f'(x) = 0$ .  
 b) Funkcia  $f(x) = x^3$ ,  $x \in \mathbb{R}$  je rastúca. Platí  $f'(0) = 0$  a  $f'(x) = 3x^2 > 0$  pre  $x \neq 0$ .  
 c) Funkcia  $f(x) = x^2$ ,  $x \in \mathbb{R}$  je klesajúca na intervale  $(-\infty; 0)$  a rastúca na intervale  $(0; \infty)$ . Platí  $f'(x) = 2x < 0$  pre  $x < 0$ ,  $f'(x) = 2x > 0$  pre  $x > 0$  a  $f'(0) = 0$ . ■

**Príklad 4.3.27.K4-pr60**

- a) Funkcia  $f(x) = \frac{x^2}{4+4x}$ ,  $x \in \mathbb{R} - \{-1\}$  je spojitá. Pre všetky  $x \neq -1$  platí:

$$f'(x) = \left[ \frac{x^2}{4+4x} \right]' = \frac{1}{4} \cdot \left[ \frac{x^2}{1+x} \right]' = \frac{1}{4} \cdot \frac{2x(1+x) - x^2 \cdot 1}{(1+x)^2} = \frac{2x+x^2}{4(1+x)^2} = \frac{x(2+x)}{4(1+x)^2}.$$

Funkcia  $f'$  má nulové body  $x = -2$  a  $x = 0$ , t. j.  $f'(-2) = f'(0) = 0$ . V bode  $x = -1$  nie je funkcia  $f'$  definovaná. Pre všetky  $x \neq -1$  platí  $(1+x)^2 > 0$ , t. j. monotónnosť funkcie  $f$  (viď obrázok 4.3.15) závisí od znamienka hodnoty  $x(2+x)$ .

Reálnu os  $\mathbb{R}$  rozdelíme na intervaly  $(-\infty; -2)$ ,  $(-2; -1)$ ,  $(-1; 0)$ ,  $(0; \infty)$ .

Ak  $x \in (-\infty; -2)$ , potom  $x < 0$ ,  $x+2 < 0$ , t. j.  $f'(x) > 0$  a  $f$  je rastúca na  $(-\infty; -2)$ .

Ak  $x \in (-2; -1)$ , potom  $x < 0$ ,  $x+2 > 0$ , t. j.  $f'(x) < 0$  a  $f$  je klesajúca na  $(-2; -1)$ .

Ak  $x \in (-1; 0)$ , potom  $x < 0$ ,  $x+2 > 0$ , t. j.  $f'(x) < 0$  a  $f$  je klesajúca na  $(-1; 0)$ .

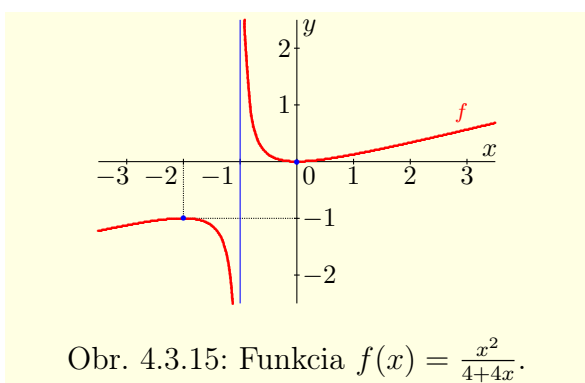
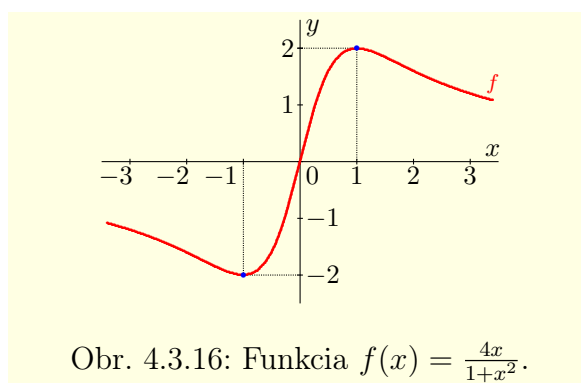
Ak  $x \in (0; \infty)$ , potom  $x > 0$ ,  $x+2 > 0$ , t. j.  $f'(x) > 0$  a  $f$  je rastúca na  $(0; \infty)$ .

- b) Funkcia  $f(x) = \frac{4x}{1+x^2}$ ,  $x \in \mathbb{R}$  je spojitá. Pre všetky  $x \in \mathbb{R}$  platí:

$$f'(x) = \left[ \frac{4x}{1+x^2} \right]' = \frac{4(1+x^2) - 4x \cdot 2x}{(1+x^2)^2} = \frac{4-4x^2}{(1+x^2)^2} = \frac{4(1-x^2)}{(1+x^2)^2}.$$

Nulové body derivácie  $f'$  sú  $x = \pm 1$ , t. j.  $f'(-1) = f'(1) = 0$ .

Pre všetky  $x \in \mathbb{R}$  platí  $(1+x^2)^2 > 0$ , pre všetky  $x \in (-1; 1)$  platí  $1-x^2 > 0$  a pre všetky  $x \notin (-1; 1)$  platí  $1-x^2 < 0$ . Z toho vyplýva (viď obrázok 4.3.16), že je funkcia  $f$  rastúca na intervale  $(-1; 1)$  a klesajúca na intervaloch  $(-\infty; -1)$  a  $(1; \infty)$ . ■

Obr. 4.3.15: Funkcia  $f(x) = \frac{x^2}{4+4x}$ .Obr. 4.3.16: Funkcia  $f(x) = \frac{4x}{1+x^2}$ .**Veta 4.3.13.K4-veta36**

Ak má funkcia  $f$  v bode  $x_0 \in D(f)$  deriváciu (aj nevlastnú), pre ktorú platí<sup>28</sup>  $f'(x_0) > 0$  [resp.  $f'(x_0) < 0$ ], potom je funkcia  $f$  rastúca [resp. klesajúca] v bode  $x_0$ .

<sup>28</sup>T. j. platí  $0 < f'(x_0) \leq \infty$  [resp.  $-\infty \leq f'(x_0) < 0$ ].



**Dôkaz.**

Predpokladajme, že platí predpoklad  $0 < f'(x_0)$ , t. j. existuje limita

$$0 < f'(x_0) = \lim_{x \rightarrow x_0} \frac{f(x) - f(x_0)}{x - x_0} \leq \infty.$$

Potom (dôsledok 3.2.7.a) existuje prstencové okolie  $P(x_0)$ , že pre všetky  $x \in P(x_0)$  platí:

$$0 < \frac{f(x) - f(x_0)}{x - x_0}.$$

Z toho vyplýva, že pre všetky  $x \in P(x_0)$ ,  $x < x_0$  platí  $f(x) - f(x_0) < 0$ , t. j.  $f(x) < f(x_0)$ . Podobne, pre všetky  $x \in P(x_0)$ ,  $x > x_0$  platí  $f(x) - f(x_0) > 0$ , t. j.  $f(x) > f(x_0)$ . To znamená, že je funkcia  $f$  rastúca v bode  $x_0$ .

Pre  $f'(x_0) < 0$  je dôkaz analogický a prenechávame ho čitateľovi. ■

**Príklad 4.3.28.K4-pr73**

Dokážte, že pre všetky  $x > 0$  platí nerovnosť<sup>29</sup>  $\frac{x}{x+1} < \ln(x+1) < x$ .

**Riešenie.**

Najprv dokážeme druhú nerovnosť  $\ln(x+1) < x$ , t. j.  $0 < x - \ln(x+1)$ .

Označme  $f(x) = x - \ln(x+1)$ . Funkcia  $f$  je definovaná pre  $x > -1$ , t. j.  $D(f) = (-1; \infty)$ .

Funkcia  $f$  je spojitá a pre jej deriváciu pre všetky  $x \in D(f)$  platí:

$$f'(x) = [x - \ln(x+1)]' = 1 - \frac{1}{x+1} = \frac{x}{x+1}.$$

Potom  $f'(0) = 0$  a pre všetky  $x > 0$  platí  $f'(x) > 0$ . To znamená (veta 4.3.12), že je funkcia  $f$  rastúca na intervale  $\langle 0; \infty \rangle$ . Z toho vyplýva, že pre všetky  $x > 0$  platí nerovnosť  $f(x) > f(0) = 0$ , t. j.  $x - \ln(x+1) > 0$ .

Prvá nerovnosť  $\frac{x}{x+1} < \ln(x+1)$  sa dokáže podobne. Pre všetky  $x \geq 0$  platí  $x+1 > 0$ . To znamená, že pôvodná nerovnosť je ekvivalentná s nerovnosťou

$$x < (x+1) \ln(x+1), \quad \text{t. j. } 0 < (x+1) \ln(x+1) - x.$$

Označme  $g(x) = (x+1) \ln(x+1) - x$ ,  $x > 0$ . Funkcia  $g$  je spojitá a pre všetky  $x > 0$  platí:

$$g'(x) = [(x+1) \ln(x+1) - x]' = \ln(x+1) + \frac{x+1}{x+1} - 1 = \ln(x+1).$$

Z toho vyplýva, že  $g'(0) = 0$  a  $g'(x) > 0$  pre všetky  $x > 0$ . To znamená, že  $g$  na  $\langle 0; \infty \rangle$  rastúca, t. j. pre všetky  $x > 0$  platí  $(x+1) \ln(x+1) - x = g(x) > g(0) = \ln 1 = 0$ . ■

- **Lokálne a globálne extrémny funkcie**

Body, v ktorých má spojitá funkcia  $f$  lokálne extrémny, úzko súvisia s intervalmi, na ktorých je táto funkcia monotónna (rýdzo monotónna). Z vety 4.3.1 priamo vyplýva nutná podmienka existencie lokálneho extrémny funkcie.

**Veta 4.3.14 (Nutná podmienka existencie lokálneho extrémny funkcie).K4-veta24**

Ak má funkcia  $f$  v bode  $x_0 \in D(f)$  lokálny extrém (minimum, maximum, ostré minimum alebo ostré maximum) a ak existuje derivácia  $f'(x_0)$ , potom platí  $f'(x_0) = 0$ .

**Poznámka 4.3.21.K4-poz50**

Opačné tvrdenie vo vete 4.3.14 neplatí, t. j. podmienka  $f'(x_0) = 0$  nie je postačujúca. To znamená, že zo vzťahu  $f'(x_0) = 0$  nevyplýva, že má funkcia  $f$  v bode  $x_0$  extrém.

Na druhej strane môže mať spojitá funkcia  $f$  lokálny extrém aj v takom bode  $x_0 \in D(f)$ , v ktorom neexistuje derivácia  $f'(x_0)$ .

<sup>29</sup>Túto nerovnosť sme už dokazovali v príklade 4.3.9.

**Príklad 4.3.29.K4-pr61**

a) Funkcia  $f(x) = x^2$  má v bode  $x_0 = 0$  lokálne minimum a pre jej deriváciu v tomto bode platí  $f'(0) = 2 \cdot 0^1 = 0$ . Funkcia  $g(x) = x^3$  nemá v bode  $x_0 = 0$  extrém napriek tomu, že pre jej deriváciu v tomto bode platí  $g'(0) = 3 \cdot 0^2 = 0$ . (obrázok 4.3.17).

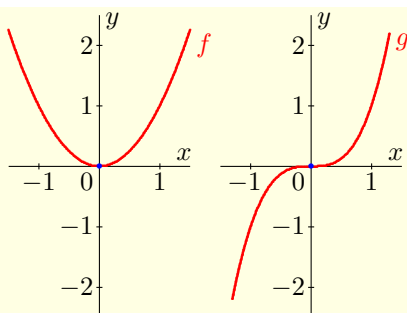
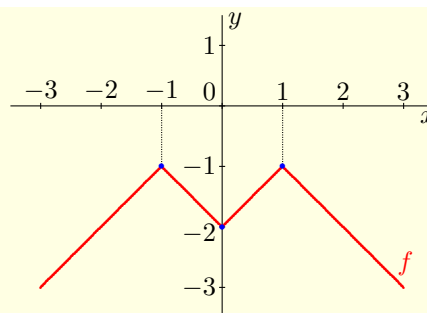
b) Funkcia  $f(x) = |x| - |x - 1| - |x + 1|$  má v bode  $x_0 = 0$  lokálne minimum, aj keď  $f$  nemá v bode  $x_0 = 0$  deriváciu (obrázok 4.3.18). Funkciu  $f$  môžeme vyjadriť v tvare

$$f(x) = \begin{cases} -x - (1 - x) - (x + 1) = x, & \text{pre } x \in (-\infty; -1), \\ -x - (1 - x) - (x + 1) = -x - 2, & \text{pre } x \in \langle -1; 0 \rangle, \\ x - (1 - x) - (x + 1) = x - 2, & \text{pre } x \in \langle 0; 1 \rangle, \\ x - (x - 1) - (x + 1) = -x, & \text{pre } x \in \langle 1; \infty \rangle. \end{cases}$$

Platí  $f'_-(0) = [-x - 2]_{x=0} = -2$ ,  $f'_+(0) = [x - 2]_{x=0} = -2$ , t. j.  $f'(0)$  neexistuje. ■

Z vety 4.3.14 vyplýva, že ak chceme nájsť lokálne extrémny funkcie  $f$ , musíme určiť všetky body  $x_0 \in D(f)$ , pre ktoré platí  $f'(x_0) = 0$ . Je zrejmé, že nie vo všetkých týchto bodoch musí mať funkcia  $f$  extrém.

Ak má funkcia  $f$  v bode  $x_0 \in D(f)$  deriváciu a platí  $f'(x_0) = 0$ , potom sa tento bod nazýva **stacionárnym bodom funkcie  $f$** . Z vety 4.3.14 vyplýva, že všetky lokálne extrémny funkcie sa nachádzajú v stacionárných bodoch funkcie.

Obr. 4.3.17:  $f(x) = x^2$ ,  $g(x) = x^3$ .Obr. 4.3.18:  $f(x) = |x| - |x - 1| - |x + 1|$ .**Veta 4.3.15 (Postačujúca podmienka existencie lokálneho extrémny funkcie).K4-veta25**

Nech  $x_0 \in D(f)$  je stacionárny bod funkcie  $f$ , t. j. nech platí  $f'(x_0) = 0$ .

- Ak existujú ľavé a pravé prstencové okolia  $P^-(x_0)$ ,  $P^+(x_0)$  také, že pre všetky body  $x \in P^-(x_0)$  platí  $f'(x) > 0$  a pre všetky body  $x \in P^+(x_0)$  platí  $f'(x) < 0$ , potom má funkcia  $f$  v bode  $x_0$  ostré lokálne maximum.
- Ak existujú ľavé a pravé prstencové okolia  $P^-(x_0)$ ,  $P^+(x_0)$  také, že pre všetky body  $x \in P^-(x_0)$  platí  $f'(x) < 0$  a pre všetky body  $x \in P^+(x_0)$  platí  $f'(x) > 0$ , potom má funkcia  $f$  v bode  $x_0$  ostré lokálne minimum.
- Ak existuje prstencové okolie  $P(x_0)$  také, že pre všetky  $x \in P(x_0)$  platí  $f'(x) < 0$ , resp.  $f'(x) > 0$ , potom funkcia  $f$  v bode  $x_0$  nemá lokálny extrém.

**Dôkaz.**

a) Z vety 4.3.12 vyplýva, že v okolí  $P^-(x_0)$  je funkcia  $f$  rastúca, t. j. pre všetky  $x \in P^-(x_0)$  platí  $f(x) < f(x_0)$ . V okolí  $P^+(x_0)$  je funkcia  $f$  klesajúca, t. j. pre všetky  $x \in P^+(x_0)$  tiež platí  $f(x) < f(x_0)$ . To znamená, funkcia  $f$  má v bode  $x_0$  ostré lokálne maximum.

b) Ak označíme  $g = -f$ , potom pre všetky  $x \in P^-(x_0)$  platí  $g'(x) = -f'(x) > 0$  a pre všetky  $x \in P^+(x_0)$  platí  $g'(x) = -f'(x) < 0$ . To znamená, že funkcia  $g = -f$  má v bode  $x_0$  ostré lokálne maximum a funkcia  $f$  ostré lokálne minimum.

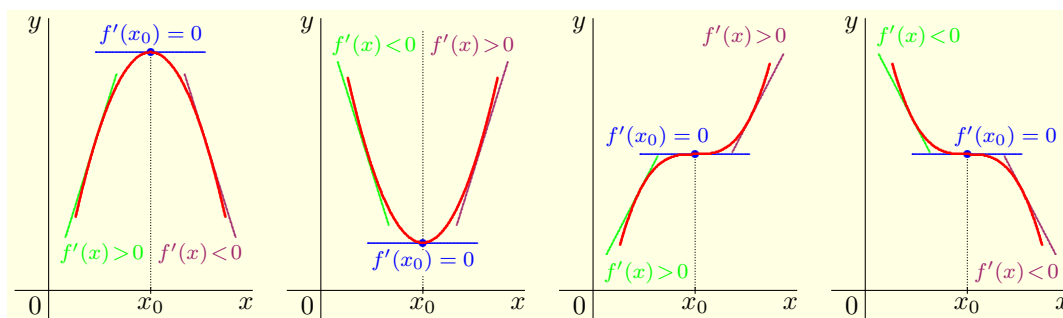
c) Ak pre všetky  $x \in P(x_0)$  platí  $f'(x) > 0$ , potom je funkcia  $f$  na  $P(x_0)$  rastúca. Ak pre všetky  $x \in P(x_0)$  platí  $f'(x) < 0$ , potom je funkcia  $f$  na  $P(x_0)$  klesajúca. To znamená, že funkcia  $f$  v bode  $x_0$  nemá lokálny extrém. ■

#### Poznámka 4.3.22.K4-poz51

Vetu 4.3.15 môžeme zjednodušene formulovať nasledovne.

- Ak funkcia  $f'$  mení v stacionárnom bode  $x_0$  znamienko z kladného (+) v ľavom okolí na záporné (−) v pravom okolí, potom má v bode  $x_0$  ostré lokálne maximum.
- Ak funkcia  $f'$  mení v stacionárnom bode  $x_0$  znamienko zo záporného (−) v ľavom okolí na kladné (+) v pravom okolí, potom má v bode  $x_0$  ostré lokálne minimum.
- Ak funkcia  $f'$  v stacionárnom bode  $x_0$  nemení znamienko pri prechode z ľavého okolia do pravého, potom v bode  $x_0$  nemá lokálny extrém.

Na obrázku 4.3.19 sú znázornené grafy funkcií, ktoré majú v stacionárnom bode  $x_0$  ostré lokálne maximum, ostré lokálne minimum a grafy funkcií, ktoré v stacionárnom bode  $x_0$  nemajú lokálne extrém.



Obr. 4.3.19: Stacionárny bod  $x_0$  funkcie  $f$ .

Ak má funkcia  $f$  v stacionárnom bode  $x_0$  druhú deriváciu, potom môžeme v niektorých prípadoch rozhodnúť o existencii lokálneho extrému pomocou tejto derivácie  $f''(x_0)$ .

#### Veta 4.3.16.K4-veta26

Nech  $x_0 \in D(f)$  je stacionárny bod funkcie  $f$ , t. j.  $f'(x_0) = 0$  a nech existuje konečná druhá derivácia  $f''(x_0) \neq 0$ . Potom má funkcia  $f$  v bode  $x_0$  ostrý lokálny extrém a platí:

- Ak  $f''(x_0) < 0$ , potom má funkcia  $f$  v bode  $x_0$  ostré lokálne maximum.
- Ak  $f''(x_0) > 0$ , potom má funkcia  $f$  v bode  $x_0$  ostré lokálne minimum.

#### Dôkaz.

a) Keďže  $f''(x_0) = \lim_{x \rightarrow x_0} \frac{f'(x) - f'(x_0)}{x - x_0} < 0$ , potom existuje okolie  $P(x_0)$  také, že

$$\frac{f'(x) - f'(x_0)}{x - x_0} = \frac{f'(x)}{x - x_0} < 0 \quad \text{pre všetky } x \in P(x_0).$$

Potom pre  $x \in P(x_0)$ ,  $x < x_0$  platí  $f'(x) > 0$  a pre  $x \in P(x_0)$ ,  $x > x_0$  platí  $f'(x) < 0$ .

To znamená (veta 4.3.15), že funkcia  $f$  má v bode  $x_0$  ostré lokálne maximum.

b) Dôkaz je analogický ako pre  $f''(x_0) < 0$  v časti a). ■

**Príklad 4.3.30.K4-pr62**

Nájdite lokálne extrémym funkcie  $f$  na množine  $R$ , ak platí:

$$\text{a) } f(x) = |x^2 - 1| + |x^2 + 1|, \quad \text{b) } f(x) = -x^3 - x^2 + x, \quad \text{c) } f(x) = x^3 - x^2 + x.$$

**Riešenie.**

Najprv nájdeme stacionárne body funkcie  $f$ , t. j. nájdeme reálne korene rovnice  $f'(x) = 0$ .

a) Funkcia  $f$  je definovaná pre všetky  $x \in R$  a môžeme ju vyjadriť v tvare

$$f(x) = |x^2 - 1| + x^2 + 1 = \begin{cases} 1 - x^2 + x^2 + 1 = 2, & \text{pre } x^2 \leq 1, \text{ t. j. } x \in \langle -1; 1 \rangle, \\ x^2 - 1 + x^2 + 1 = 2x^2, & \text{pre } x^2 \geq 1, \text{ t. j. } x \notin \langle -1; 1 \rangle. \end{cases}$$

Potom platí  $f'(x) = 0$  pre  $x \in \langle -1; 1 \rangle$  a  $f'(x) = 4x \neq 0$  pre  $x \in (-\infty; -1) \cup (1; \infty)$ .

V bodoch  $\pm 1$  derivácie funkcie  $f$  neexistujú, existujú tam iba jednostranné derivácie, pre ktoré platí  $f'_-(-1) = -4$ ,  $f'_+(-1) = 0$  a  $f'_-(1) = 0$ ,  $f'_+(1) = 4$ .

Funkcia  $f$  je na intervale  $(-\infty; -1)$  klesajúca, pretože pre všetky  $x \in (-\infty; -1)$  platí  $f'(x) < 0$ . Na intervale  $\langle -1; 1 \rangle$  je konštantná a na intervale  $(1; \infty)$  je rastúca, pretože pre všetky  $x \in (1; \infty)$  platí  $f'(x) > 0$ . Z toho vyplýva, že funkcia  $f$  nadobúda pre všetky  $x \in \langle -1; 1 \rangle$  neostré lokálne minimum, ktoré má hodnotu 2 (obrázok 4.3.20).

b) Funkcia  $f$  má stacionárne body  $x_1 = -1$ ,  $x_2 = \frac{1}{3}$ , pretože pre všetky  $x \in R$  platí:

$$f'(x) = -3x^2 - 2x + 1 = -3 \left( x^2 + \frac{2x}{3} - \frac{1}{3} \right) = -3 \left( x + 1 \right) \left( x - \frac{1}{3} \right).$$

Pre  $x \in (-\infty; -1)$  platí  $x + 1 < 0$ ,  $x - \frac{1}{3} < 0$ , t. j.  $f'(x) < 0$  a funkcia  $f$  je klesajúca.

Pre  $x \in \langle -1; \frac{1}{3} \rangle$  platí  $x + 1 > 0$ ,  $x - \frac{1}{3} < 0$ , t. j.  $f'(x) > 0$  a funkcia  $f$  je rastúca.

Pre  $x \in \left( \frac{1}{3}; \infty \right)$  platí  $x + 1 > 0$ ,  $x - \frac{1}{3} > 0$ , t. j.  $f'(x) < 0$  a funkcia  $f$  je klesajúca.

Z toho vyplýva, že funkcia  $f$  má v bode  $x_1 = -1$  ostré lokálne minimum  $f(x_1) = -1$  a v bode  $x_2 = \frac{1}{3}$  ostré lokálne maximum  $f(x_2) = \frac{5}{27}$  (obrázok 4.3.21).

c) Rovnica  $f'(x) = 3x^2 - 2x + 1 = 0$  nemá reálne korene, pretože pre všetky  $x \in R$  platí:

$$f'(x) = 3x^2 - 2x + 1 = 3 \left( x^2 - \frac{2x}{3} + \frac{1}{9} \right) + 1 - \frac{3}{9} = 3 \left( x - \frac{1}{3} \right)^2 + \frac{2}{3} \geq \frac{2}{3} > 0.$$

To znamená, že funkcia  $f$  nemá stacionárne body a ani lokálne extrémym (obrázok 4.3.22).

**Iné riešenie.**

a) Keďže pre všetky  $x \in \langle -1; 1 \rangle$  platí  $f''(x) = [2]'' = 0$ , nemôžeme vetu 4.3.16 použiť.

b) Pre všetky  $x \in R$  platí  $f''(x) = [-3x^2 - 2x + 1]' = -6x - 2$ . Potom pre stacionárne body  $x_1 = -1$ ,  $x_2 = \frac{1}{3}$  platí  $f'''(-1) = 4 > 0$ ,  $f'''(\frac{1}{3}) = -4 < 0$ .

Z toho vyplýva, že funkcia  $f$  má v bode  $x_1 = -1$  ostré lokálne minimum a v bode  $x_2 = \frac{1}{3}$  ostré lokálne maximum. ■

**Poznámka 4.3.23.K4-poz63**

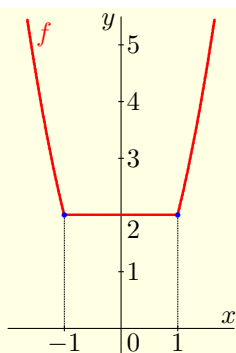
Predpokladajme, že sa dá funkcia  $f$  vyjadriť ako podiel dvoch funkcií, t. j. v tvare  $f = \frac{g}{h}$  a že  $x_0 \in D(f)$  je jej stacionárny bod. Potom platí:

$$f'(x_0) = \frac{g'(x_0)h(x_0) - g(x_0)h'(x_0)}{h^2(x_0)} = 0, \quad \text{t. j. } g'(x_0)h(x_0) - g(x_0)h'(x_0) = 0, \quad h(x_0) \neq 0.$$

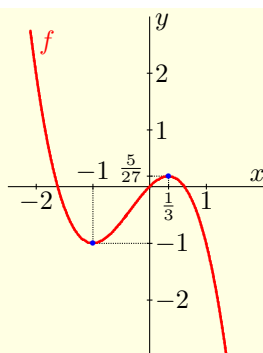
Na základe príkladu 4.2.11 potom pre druhú deriváciu  $f''(x_0)$  platí:

$$\begin{aligned} f''(x_0) &= \frac{[g''(x_0)h(x_0) - g(x_0)h''(x_0)]h(x_0) - 2[g'(x_0)h(x_0) - g(x_0)h'(x_0)]h'(x_0)}{h^3(x_0)} = \\ &= \frac{[g''(x_0)h(x_0) - g(x_0)h''(x_0)]h(x_0)}{h^3(x_0)} = \frac{g''(x_0)h(x_0) - g(x_0)h''(x_0)}{h^2(x_0)}. \end{aligned}$$

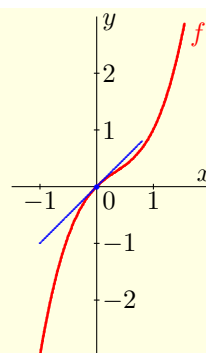
To znamená, že ak  $g''(x_0)h(x_0) - g(x_0)h''(x_0) > 0$ , potom  $f''(x_0) > 0$  a funkcia  $f$  má v bode  $x_0$  ostré lokálne minimum (veta 4.1.5). Ak platí  $g''(x_0)h(x_0) - g(x_0)h''(x_0) < 0$ , potom má funkcia  $f$  v bode  $x_0$  ostré lokálne maximum.



Obr. 4.3.20: Graf funkcie  
 $f(x) = |x^2 - 1| + |x^2 + 1|$ .



Obr. 4.3.21: Graf funkcie  
 $f(x) = -x^3 - x^2 + x$ .



Obr. 4.3.22: Graf funkcie  
 $f(x) = x^3 - x^2 + x$ .

### Príklad 4.3.31.K4-pr82

Nájdite lokálne extrémymy funkcie  $f: y = \frac{1-x+x^2}{1+x+x^2}$ .

#### Riešenie.

Ak označíme  $g(x) = 1 - x + x^2$ ,  $h(x) = 1 + x + x^2$ , potom platí  $f = \frac{g}{h}$ .

Zo vzťahu  $h(x) = \frac{3}{4} + (\frac{1}{4} + x + x^2) = \frac{3}{4} + (\frac{1}{2} + x)^2 > 0$  vyplýva, že  $D(f) = R$ .

Pre prvé a druhé derivácie funkcií  $g$ ,  $h$  platí:

$$g'(x) = -1 + 2x, \quad h'(x) = 1 + 2x, \quad g''(x) = 2, \quad h''(x) = 2.$$

Z poznámky 4.3.23 vyplýva, že  $f'(x) = 0$  práve vtedy, ak  $g'(x)h(x) - g(x)h'(x) = 0$ , t. j. ak

$$(-1 + 2x)(1 + x + x^2) - (1 - x + x^2)(1 + 2x) = -2 + 2x^2 = 2(x^2 - 1) = 0.$$

To znamená, že funkcia  $f$  má dva singulárne body  $x_1 = -1$  a  $x_2 = 1$ . Pre hodnotu funkcie  $f''$  v ľubovoľnom singulárnom bode  $x$  na základe poznámky 4.3.23 platí:

$$f''(x) = \frac{g''(x)h(x) - g(x)h''(x)}{h^2(x)} = \frac{2(1-x+x^2) - 2(1+x+x^2)}{h^2(x)} = \frac{-4x}{h^2(x)}.$$

Z toho vyplýva, že  $f''(-1) > 0$ ,  $f''(1) < 0$ . To znamená, že v bode  $x_1 = -1$  má funkcia  $f$  ostré lokálne maximum a v bode  $x_2 = 1$  ostré lokálne minimum. ■

Okrem lokálnych extrémymy nás pri vyšetřovaní priebehu funkcie zaujímajú **globálne (absolútne) extrémymy funkcie**. Ak je funkcia  $f$  definovaná a spojitá na uzavretom intervale, potom podľa Weierstrasseho vety 3.3.10 nadobúda na tomto intervale svoje extrémymy.

Ak má funkcia  $f$  globálny extrém vo vnútornom bode intervalu, potom je zhodný s lokálnym extrémym. Funkcia  $f$  môže nadobúdať globálne extrémymy aj v krajných bodoch intervalu (pokiaľ je v nich definovaná) a tiež v bodoch, v ktorých neexistuje derivácia  $f'$ . To znamená, že musíme porovnať ich hodnoty s lokálnymi extrémymy danej funkcie.

### Príklad 4.3.32.K4-pr63

a) Funkcia  $f(x) = \operatorname{tg} x$ ,  $x \in (-\frac{\pi}{2}; \frac{\pi}{2})$  nemá lokálne ani globálne extrémymy.

Pre všetky  $x \in (-\frac{\pi}{2}; \frac{\pi}{2})$  platí  $f'(x) = \frac{1}{\cos^2 x} \neq 0$ . To znamená, že funkcia  $f$  nemá stacionárne body a tým pádom ani lokálne ani globálne extrémymy (obrázok 4.3.23 vľavo).

Funkcia  $f(x) = \operatorname{tg} x$ ,  $x \in \langle -\frac{\pi}{3}; \frac{\pi}{4} \rangle$  nemá lokálne, ale má globálne extrémymy.

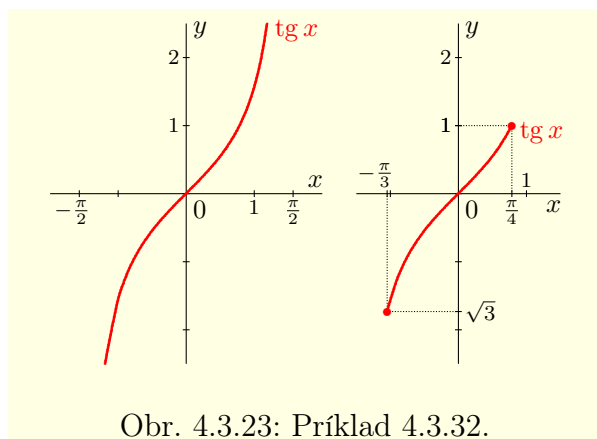
Pre všetky  $x \in \langle -\frac{\pi}{3}; \frac{\pi}{4} \rangle$  platí  $f'(x) = \frac{1}{\cos^2 x} > 0$ . To znamená, že funkcia  $f$  je rastúca na celom svojom definičnom obore  $\langle -\frac{\pi}{3}; \frac{\pi}{4} \rangle$ . V bode  $-\frac{\pi}{3}$  má potom globálne minimum  $\sqrt{3}$  a v bode  $\frac{\pi}{4}$  má globálne maximum 1 (obrázok 4.3.23 vpravo).

b) Funkcia  $f(x) = -x^3 - x^2 + x$ ,  $x \in \mathbb{R}$  z príkladu 4.3.30 má v bode  $-1$  lokálne minimum a v bode  $\frac{1}{3}$  lokálne maximum (obrázok 4.3.21). Globálne extrémny nemá.

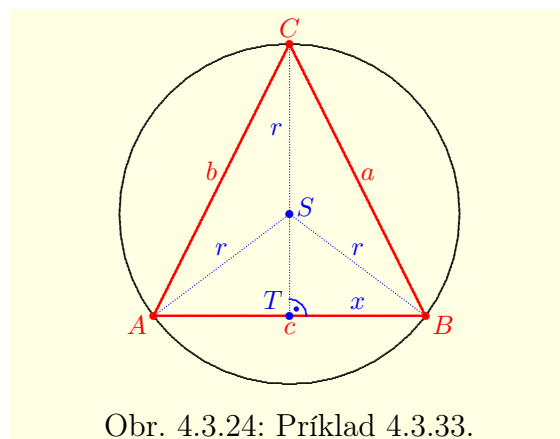
Na druhej strane má funkcia  $f(x) = -x^3 - x^2 + x$ ,  $x \in \langle -2; 1 \rangle$  v bode  $-1$  lokálne a aj globálne minimum, v bode  $-1$  globálne minimum, v bode  $\frac{1}{3}$  lokálne maximum a v bode  $-2$  globálne maximum. Vyplýva to z porovnania funkčných hodnôt  $f(-2) = 2$ ,  $f(-1) = -1$ ,  $f(\frac{1}{3}) = \frac{5}{27}$ ,  $f(1) = -1$

c) Dirichletova funkcia  $\chi$  definovaná  $\chi(x) = 1$  pre  $x \in \mathbb{Q}$ ,  $\chi(x) = 0$  pre  $x \notin \mathbb{Q}$  nemá deriváciu v žiadnom bode  $x \in \mathbb{R}$ . Takže extrémny nezistíme pomocou jej derivácie.

Je zrejmé, že v každom bode  $x \in \mathbb{R} - \mathbb{Q}$  má lokálne a globálne minimum a v každom bode  $x \in \mathbb{Q}$  má lokálne a globálne maximum. ■



Obr. 4.3.23: Príklad 4.3.32.



Obr. 4.3.24: Príklad 4.3.33.

### Príklad 4.3.33.K4-pr64

Do kružnice s polomerom  $r > 0$  vpíšte rovnoramenný trojuholník s maximálnym obsahom.

#### Riešenie.

Označme trojuholník  $ABC$ , stred jeho základne  $T$  a stred kružnice  $S$  (obrázok 4.3.24).

Označme  $|TB| = x$ ,  $x \in (0; r)$ . Trojuholník  $STB$  je pravouhlý a (Pytagorova veta) platí:

$$|TS|^2 + |TB|^2 = |SB|^2 = r^2, \quad \text{t. j. } |TS| = \sqrt{r^2 - |TB|^2} = \sqrt{r^2 - x^2}.$$

Pre obsah  $P(x)$  trojuholníka  $ABC$  potom pre všetky  $x \in (0; r)$  platí:

$$P(x) = \frac{|AB| \cdot |CT|}{2} = |TB| \cdot |CT| = x [|CS| + |TS|] = x [r + \sqrt{r^2 - x^2}],$$

$$P'(x) = [r + \sqrt{r^2 - x^2}] + x \left[ 0 + \frac{-2x}{2\sqrt{r^2 - x^2}} \right] = \frac{r\sqrt{r^2 - x^2} + r^2 - 2x^2}{\sqrt{r^2 - x^2}}.$$

Potom  $P'(x) = 0$  práve vtedy, ak  $r\sqrt{r^2 - x^2} + r^2 - 2x^2 = 0$ . Z toho vyplýva:

$$r\sqrt{r^2 - x^2} = 2x^2 - r^2, \quad \text{t. j. } r^2[r^2 - x^2] = (2x^2 - r^2)^2 = 4x^4 - 4x^2r^2 + r^4.$$

Posledná rovnica je ekvivalentná s rovnicou

$$-x^2r^2 = 4x^4 - 4x^2r^2, \quad \text{t. j. } 0 = 4x^4 - 3x^2r^2 = x^2(4x^2 - 3r^2),$$

ktorá má tri riešenia  $x_{1,2} = \pm \frac{r\sqrt{3}}{2}$ ,  $x_3 = 0$ . Úlohe vyhovuje iba  $x_1 = \frac{r\sqrt{3}}{2} > 0$ .

Počítať  $P''(x_1)$  nie je zložité, ale je pracné. Preto použijeme vetu 4.3.15.

Funkcia  $P'$  je spojitá na intervale  $(0; r)$  a má iba jeden nulový bod  $x_1 = \frac{r\sqrt{3}}{2} \approx 0,866r$ , v ktorom mení znamienko. Na určenie znamienka funkcie  $P'$  v ľavom, resp. pravom prstencovom okolí bodu  $x_1$  nám potom postačí jeden bod. Platí napríklad

$$P'(0,8r) = \frac{r\sqrt{r^2-0,64r^2+r^2-1,28r^2}}{\sqrt{r^2-0,64r^2}} = \frac{\sqrt{0,36-0,28}}{\sqrt{0,36}}r = \frac{0,6-0,28}{0,6}r > 0,$$

$$P'(0,9r) = \frac{r\sqrt{r^2-0,81r^2+r^2-1,62r^2}}{\sqrt{r^2-0,81r^2}} = \frac{\sqrt{0,19-0,62}}{\sqrt{0,19}}r < \frac{\sqrt{0,25-0,62}}{\sqrt{0,19}}r < 0.$$

Z toho vyplýva, že funkcia  $P$  má pre  $x_1 = |TB| = \frac{r\sqrt{3}}{2}$  ostré lokálne maximum.

Pre výšku a základňu trojuholníka  $ABC$  potom platí:

$$|TS| = \sqrt{r^2 - \frac{3r^2}{4}} = \sqrt{\frac{r^2}{4}} = \frac{r}{2}, \quad |CT| = r + \frac{r}{2} = \frac{3r}{2}, \quad |AB| = \sqrt{3}r.$$

Pre ramená  $|AC| = |BC|$  trojuholníka  $ABC$  na základe Pytagorovej vety platí:

$$|BC|^2 = |TB|^2 + |CT|^2 = \frac{3r^2}{4} + \frac{9r^2}{4} = \frac{12r^2}{4} = 3r^2, \quad \text{t. j. } |AC| = |BC| = \sqrt{3}r.$$

To znamená, že trojuholník  $ABC$  s maximálnym obsahom je rovnostranný. ■

### • Konvexnosť a konkávnosť funkcie

Dôležitou súčasťou vyšetrovania priebehu funkcie je určenie intervalov, na ktorých je táto funkcia konvexná alebo konkávna, prípadne rýdzo konvexná alebo rýdzo konkávna. Najprv dokážeme dve nutné podmienky konvexnej, resp. konkávnej funkcie na intervale.

#### Veta 4.3.17.K4-veta27

Ak je funkcia  $f$  konvexná [resp. konkávna] na intervale  $I$ , potom je na intervale  $I$  spojitá a pre všetky vnútorné body  $x \in I$  existujú jednostranné derivácie, pričom platí:

$$f'_-(x) \leq f'_+(x) \quad [f'_-(x) \geq f'_+(x)].$$

#### Dôkaz.

Nech  $f$  je konvexná funkcia na intervale  $I$  a nech  $x \in I$  je vnútorný bod.

Nech  $\{x_n\}_{n=1}^{\infty} \subset I$ ,  $\{\bar{x}_n\}_{n=1}^{\infty} \subset I$  sú ľubovoľné postupnosti také, že

$$x_1 < x_2 < \dots < x_n < \dots < x < \dots < \bar{x}_n < \dots < \bar{x}_2 < \bar{x}_1, \quad \lim_{n \rightarrow \infty} x_n = \lim_{n \rightarrow \infty} \bar{x}_n = x.$$

Potom z dôsledku 3.1.3.a vyplýva, že pre všetky  $n \in \mathbb{N}$  platí:

$$\begin{aligned} \frac{f(x_1)-f(x)}{x_1-x} &\leq \frac{f(x_2)-f(x)}{x_2-x} \leq \dots \leq \frac{f(x_n)-f(x)}{x_n-x} \leq \dots \leq \\ &\leq \dots \leq \frac{f(\bar{x}_n)-f(x)}{\bar{x}_n-x} \leq \dots \leq \frac{f(\bar{x}_2)-f(x)}{\bar{x}_2-x} \leq \frac{f(\bar{x}_1)-f(x)}{\bar{x}_1-x}. \end{aligned}$$

To znamená, že sú postupnosti

$$\left\{ \frac{f(x_n)-f(x)}{x_n-x} \right\}_{n=1}^{\infty}, \quad \left\{ \frac{f(\bar{x}_n)-f(x)}{\bar{x}_n-x} \right\}_{n=1}^{\infty} \quad (4.24)$$

monotónne a ohraničené a na základe vety 2.3.11 konvergujú. Z konštrukcie  $\{x_n\}_{n=1}^{\infty}$  a  $\{\bar{x}_n\}_{n=1}^{\infty}$  vyplýva, že postupnosti (4.24) konvergujú k jednostranným deriváciám

$$f'_-(x) = \lim_{n \rightarrow \infty} \frac{f(x_n)-f(x)}{x_n-x} \leq \lim_{n \rightarrow \infty} \frac{f(\bar{x}_n)-f(x)}{\bar{x}_n-x} = f'_+(x).$$

Z existencie konečných derivácií  $f'_-(x)$ ,  $f'_+(x)$  vyplýva, že funkcia  $f$  je v bode  $x$  spojitá zľava a tiež sprava. To znamená (veta 4.1.3), že je  $f$  v bode  $x$  spojitá.

V prípade konkávnej funkcie je dôkaz analogický. ■

Z geometrického hľadiska predstavuje výraz  $\frac{f(x_n)-f(x)}{x_n-x}$  z dôkazu predchádzajúcej vety (viď poznámka 3.1.14) smernicu priamky, ktorá prechádza bodmi  $[x; f(x)]$  a  $[x_n; f(x_n)]$ . Pre  $x_n \rightarrow x^-$  dostaneme  $f'_-(x)$  a pre  $x_n \rightarrow x^+$  dostaneme  $f'_+(x)$ , t. j. smernice ľavej a pravej poldotyčnice ku grafu



funkcie  $f$  v bode  $[x; f(x)]$ . To znamená, že v prípade konvexnej [resp. konkávnej] funkcie nie je smernica ľavej poldotyčnice ku grafu funkcie  $f$  v bode  $[x; f(x)]$  väčšia [resp. menšia] ako smernica pravej poldotyčnice v tomto bode.

#### Príklad 4.3.34.K4-pr65

Funkcia  $f: y = |x|$ ,  $x \in \mathbb{R}$  je na celom definičnom obore  $\mathbb{R}$  konvexná, nie však rýdzo. Funkcia  $f$  je diferencovateľná pre všetky  $x \neq 0$ , pričom platí:

$$f'(x) = [-x]' = -1 \text{ pre } x < 0, \quad f'(x) = [x]' = 1 \text{ pre } x > 0.$$

Derivácia  $f'(0)$  neexistuje, ale existujú (viď príklad 4.1.6) jednostranné derivácie

$$f'_-(0) = -1, \quad f'_+(0) = 1, \quad \text{t. j. } f'_-(0) < f'_+(0).$$

To znamená, že pre všetky  $x < 0$  má dotyčnica ku grafu funkcie  $f$  v bode  $[x; f(x)]$  smernicu rovnú  $-1$  a zvierá s osou  $x$  uhol  $-\varphi = -\frac{\pi}{4}$ . Pre všetky  $x > 0$  má táto dotyčnica smernicu  $1$  a zvierá uhol  $\varphi = \frac{\pi}{4}$ . V bode  $x = 0$  má poldotyčnica zľava smernicu  $-1$  a poldotyčnica sprava smernicu  $1$ . ■

Obvykle pracujeme s funkciami  $f$ , ktoré majú na intervale  $I$  najviac konečný počet bodov  $x$ , pre ktoré platí  $f'_-(x) \neq f'_+(x)$ . Interval  $I$  môžeme potom rozdeliť na disjunktné podintervaly, na ktorých má funkcia  $f$  deriváciu  $f'$ . Preto sa obmedzíme na predpoklad, že funkcia  $f$  má na intervale  $I$  deriváciu  $f'$ , t. j. je na intervale  $I$  diferencovateľná.

#### Veta 4.3.18.K4-veta28

Ak je funkcia  $f$  na intervale  $I$  diferencovateľná, potom platí:

- Funkcia  $f$  je na  $I$  konvexná práve vtedy, ak je funkcia  $f'$  na  $I$  neklesajúca.
- Funkcia  $f$  je na  $I$  rýdzo konvexná práve vtedy, ak je funkcia  $f'$  na  $I$  rastúca.
- Funkcia  $f$  je na  $I$  konkávna práve vtedy, ak je funkcia  $f'$  na  $I$  nerastúca.
- Funkcia  $f$  je na  $I$  rýdzo konkávna práve vtedy, ak je funkcia  $f'$  na  $I$  klesajúca.

#### Dôkaz.

a)  $NP \Rightarrow$ : Nech  $f'$  nie je na  $I$  neklesajúca, t. j. nech pre nejaké  $x_1, x_2 \in I$ ,  $x_1 < x_2$  platí:

$$f'(x_1) = \lim_{x \rightarrow x_1} \frac{f(x) - f(x_1)}{x - x_1} > \lim_{x \rightarrow x_2} \frac{f(x) - f(x_2)}{x - x_2} = f'(x_2).$$

Potom existujú prstencové okolia  $P(x_1)$ ,  $P(x_2)$ , že pre všetky  $t_1 \in P(x_1)$ ,  $t_2 \in P(x_2)$  platí:

$$\frac{f(t_1) - f(x_1)}{t_1 - x_1} > \frac{f(t_2) - f(x_2)}{t_2 - x_2}, \quad \text{t. j. } \frac{f(x_1) - f(t_1)}{x_1 - t_1} > \frac{f(x_2) - f(t_2)}{x_2 - t_2}.$$

Zvoľme  $t_1, t_2$  tak, aby  $x_1 < t_1 < t_2 < x_2$ . Potom na základe vety 3.1.3 platí:

$$\frac{f(x_1) - f(t_1)}{x_1 - t_1} \leq \frac{f(t_2) - f(t_1)}{t_2 - t_1} = \frac{f(t_1) - f(t_2)}{t_1 - t_2} \leq \frac{f(x_2) - f(t_2)}{x_2 - t_2}.$$

Dostali sme spor, ktorý dokazuje, že funkcia  $f'$  je neklesajúca.

$PP \Leftarrow$ : Z existencie derivácie  $f'$  na  $I$  vyplýva, že je funkcia  $f$  spojitá na intervale  $I$ .

Nech  $x, x_1, x_2 \in I$ ,  $x_1 < x < x_2$  sú ľubovoľné. Definujme funkcie  $\varphi$ ,  $\psi$  nasledovne

$$\varphi(t) = f(t) - f(x_1) - \frac{f(x_1) - f(x)}{x_1 - x} (t - x_1), \quad t \in \langle x_1; x \rangle,$$

$$\psi(t) = f(t) - f(x) - \frac{f(x) - f(x_2)}{x - x_2} (t - x), \quad t \in \langle x; x_2 \rangle.$$

Platí  $\varphi(x_1) = \varphi(x) = 0$ , funkcia  $\varphi$  je spojitá na intervale  $\langle x_1; x \rangle$  a platí:

$$\varphi'(t) = f'(t) - \frac{f(x_1) - f(x)}{x_1 - x}, \quad t \in \langle x_1; x \rangle.$$

Platí  $\psi(x) = \psi(x_2) = 0$ , funkcia  $\psi$  je spojitá na intervale  $\langle x; x_2 \rangle$  a platí:

$$\psi'(t) = f'(t) - \frac{f(x) - f(x_2)}{x - x_2}, \quad t \in \langle x; x_2 \rangle.$$

To znamená, že obe funkcie  $\varphi$ ,  $\psi$  spĺňajú predpoklady Rolleho vety o strednej hodnote 4.3.2. Potom existujú  $c_1 \in (x_1; x)$ ,  $c_2 \in (x; x_2)$ , t. j.  $c_1 < c_2$  také, že platí:

$$\varphi'(c_1) = f'(c_1) - \frac{f(x_1)-f(x)}{x_1-x} = 0, \quad \psi'(c_2) = f'(c_2) - \frac{f(x)-f(x_2)}{x-x_2} = 0.$$

Keďže je funkcia  $f'$  neklesajúca, potom pre body  $x_1 < x < x_2$  platí:

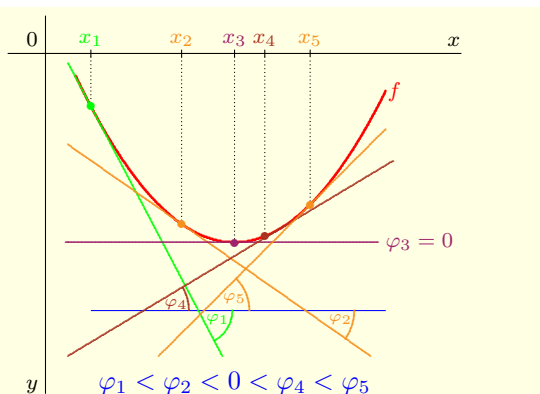
$$\frac{f(x_1)-f(x)}{x_1-x} = f'(c_1) \leq f'(c_2) = \frac{f(x)-f(x_2)}{x-x_2}.$$

Z toho na základe vety 3.1.3 vyplýva, že je funkcia  $f$  konvexná.

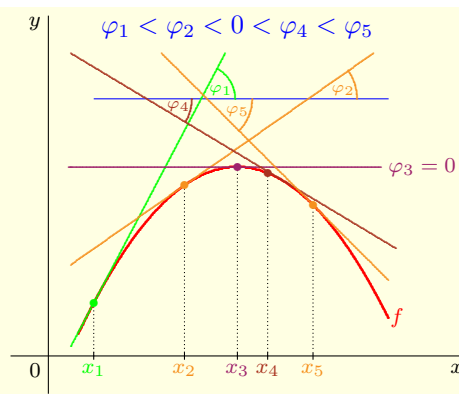
b), c), d) Dôkaz týchto častí je analogický ako v prípade a). ■

#### Poznámka 4.3.24.K4-poz52

Predchádzajúca veta znamená, že v prípade konvexnej [resp. rýdzo konvexnej] funkcie  $f$  sa hodnota smernice dotyčnice ku grafu funkcie  $f$  v bode  $[x; f(x)]$  (a tým pádom aj uhol  $\varphi$ , ktorý zvierá táto dotyčnica s osou  $x$ ) nezmenšuje [resp. zväčšuje] pre zväčšujúce sa  $x$  (obrázok 4.3.25). Ak je funkcia  $f$  konkávna [resp. rýdzo konkávna], potom sa naopak hodnota smernice dotyčnice ku grafu funkcie  $f$  v bode  $[x; f(x)]$  nezväčšuje [resp. znižuje] pre zväčšujúce sa  $x$  (obrázok 4.3.26).



Obr. 4.3.25: Rýdzo konvexná funkcia  $f$ .



Obr. 4.3.26: Rýdzo konkávna funkcia.

#### Veta 4.3.19.K4-veta30

Nech je funkcia  $f$  na intervale  $I$  diferencovateľná. Potom platí:

a) Funkcia  $f$  je na  $I$  konvexná [resp. konkávna] práve vtedy, ak pre všetky  $x_0, x \in I$  platí:

$$f(x) \geq f(x_0) + f'(x_0)(x - x_0) \quad [\text{resp. } f(x) \leq f(x_0) + f'(x_0)(x - x_0)]. \quad (4.25)$$

b) Funkcia  $f$  je na intervale  $I$  rýdzo konvexná [resp. rýdzo konkávna] práve vtedy, ak pre všetky body  $x_0, x \in I$ ,  $x \neq x_0$  platí:

$$f(x) > f(x_0) + f'(x_0)(x - x_0) \quad [\text{resp. } f(x) < f(x_0) + f'(x_0)(x - x_0)]. \quad (4.26)$$

#### Dôkaz.

a)  $NP \Rightarrow$ : Predpokladajme, že je funkcia  $f$  konvexná na intervale  $I$ . Nech platí  $x_0, x \in I$ ,  $x_0 \neq x$ . Potom z dôsledku 3.1.3.a vyplýva, že pre všetky  $x_1 \in I$ ,  $x_1 < x$  platí:

$$\frac{f(x_1)-f(x_0)}{x_1-x_0} \leq \frac{f(x)-f(x_0)}{x-x_0}.$$

Ak prejdeme ku limite  $x_1 \rightarrow x_0$ , potom na základe vety 3.2.4 pre všetky  $x, x_0 \in I$  platí:

$$f'(x_0) = \lim_{x_1 \rightarrow x_0} \frac{f(x_1) - f(x_0)}{x_1 - x_0} \leq \frac{f(x) - f(x_0)}{x - x_0}.$$

Po vynásobení výrazom  $x - x_0 > 0$  a jednoduchej úprave dostaneme dokazované tvrdenie.

$PP_{\Leftarrow}$ : Nech  $x_1, x_2 \in I$  sú ľubovoľné. Potom zo vzťahu (4.25) vyplývajú nasledujúce dve nerovnosti

$$f(x_1) \geq f(x_2) + f'(x_2)(x_1 - x_2), \quad f(x_2) \geq f(x_1) + f'(x_1)(x_2 - x_1).$$

Ak obidve nerovnice spočítame, dostaneme

$$0 \geq f'(x_2)(x_1 - x_2) + f'(x_1)(x_2 - x_1), \quad \text{t. j. } 0 \geq [f'(x_1) - f'(x_2)](x_2 - x_1).$$

Ak platí  $x_1 < x_2$ , t. j.  $x_2 - x_1 > 0$ , potom z predchádzajúcej nerovnosti vyplýva, že platí  $f'(x_1) - f'(x_2) \leq 0$ , t. j.  $f'(x_1) \leq f'(x_2)$ . To znamená, že je funkcia  $f'$  na intervale  $I$  neklesajúca. Z vety 4.3.18 potom vyplýva, že je funkcia  $f$  na intervale  $I$  konvexná.

b)  $NP_{\Rightarrow}$ : Ak je funkcia  $f$  rýdzo konvexná na  $I$ , potom pre všetky  $x, x_0 \in I, x_1, x_2 \in I$  také, že  $x_1 < x_2 < x$  na základe dôsledku 3.1.3.a platí:

$$\frac{f(x_1) - f(x_0)}{x_1 - x_0} < \frac{f(x_2) - f(x_0)}{x_2 - x_0} < \frac{f(x) - f(x_0)}{x - x_0}.$$

Ak prejdeme ku limite  $x_1 \rightarrow x_0$ , potom dostaneme

$$f'(x_0) = \lim_{x_1 \rightarrow x_0} \frac{f(x_1) - f(x_0)}{x_1 - x_0} \leq \lim_{x_1 \rightarrow x_0} \frac{f(x_2) - f(x_0)}{x_2 - x_0} = \frac{f(x_2) - f(x_0)}{x_2 - x_0} < \frac{f(x) - f(x_0)}{x - x_0}.$$

Posledný výraz stačí vynásobiť výrazom  $x - x_0 > 0$  a upraviť.

$PP_{\Leftarrow}$ : Dôkaz je rovnaký ako dôkaz  $PP_{\Leftarrow}$  v časti a).

Dôkaz pre konkávnú a rýdzo konkávnú funkciu  $f$  je analogický. ■

Ak má funkcia  $f$  na intervale  $I$  druhú deriváciu  $f''$ , potom môžeme jej konvexnosť a konkávnosť vyšetrovať pomocou monotónnosti funkcie  $f'$  na základe vety 4.3.12. V tomto prípade dostávame nasledujúcu vetu.

#### Veta 4.3.20.K4-veta29

Ak má funkcia  $f$  na intervale  $I \subset \mathbb{R}$  druhú deriváciu  $f''$ , potom platí:

- Funkcia  $f$  je na  $I$  rýdzo konvexná práve vtedy, ak pre všetky  $x \in I$  platí  $f''(x) \geq 0$  a neexistuje otvorený interval  $J \subset I$ , na ktorom je  $f''$  nulová (t. j.  $f''(x) \neq 0$  pre  $x \in J$ ).
- Funkcia  $f$  je na  $I$  rýdzo konkávná práve vtedy, ak pre všetky  $x \in I$  platí  $f''(x) \leq 0$  a neexistuje otvorený interval  $J \subset I$ , na ktorom je  $f''$  nulová (t. j.  $f''(x) \neq 0$  pre  $x \in J$ ).
- Funkcia  $f$  je na  $I$  konvexná práve vtedy, ak pre všetky  $x \in I$  platí  $f''(x) \geq 0$ .
- Funkcia  $f$  je na  $I$  konkávná práve vtedy, ak pre všetky  $x \in I$  platí  $f''(x) \leq 0$ .

**Dôkaz.**

Veta je priamým dôsledkom viet 4.3.12 a 4.3.18. ■

#### Dôsledok 4.3.20.a.K4-dosl08

Ak má funkcia  $f$  na intervale  $I \subset \mathbb{R}$  druhú deriváciu a pre všetky  $x \in I$  platí  $f''(x) > 0$  [resp.  $f''(x) < 0$ ], potom je funkcia  $f$  na  $I$  rýdzo konvexná [resp. rýdzo konkávná].

Z vety 4.3.20 a jej dôsledku vyplýva praktický návod ako postupovať pri určovaní intervalov konvexnosti a konkávnosti danej funkcie  $f$  v prípade, že existuje jej druhá derivácia  $f''$ . Vyriešime rovnicu  $f''(x) = 0$  a nájdeme intervaly, na ktorých je funkcia  $f''$  nezáporná a nekladná, resp. kladná a záporná.

**Príklad 4.3.35.K4-pr66**

Nájdite intervaly, na ktorých je konvexná a konkávna funkcia  $f$ , ak:

a)  $f(x) = x^3 - x^2 - x + 1$ ,      b)  $f(x) = \frac{2x}{1+x^2}$ ,      c)  $f(x) = \max\{x, x^2\}$ .

**Riešenie.**

a) Funkcia  $f$  je definovaná a spojitá na množine  $R$  a pre všetky  $x \in R$  platí:

$$f'(x) = 3x^2 - 2x - 1, \quad f''(x) = 6x - 2, \quad \text{t. j. } f''(x) = 0 \iff x = \frac{1}{3}.$$

Funkcia  $f''$  je spojitá na  $R$ ,  $x = \frac{1}{3}$  je jej jediný nulový bod. To znamená, že funkčné hodnoty  $f''(x)$  menia svoje znamienko iba v bode  $x = \frac{1}{3}$ . Pre všetky  $x \in (-\infty; \frac{1}{3})$  platí  $f''(x) < 0$  a pre všetky  $x \in (\frac{1}{3}; \infty)$  platí  $f''(x) > 0$ .

Z toho vyplýva na základe vety 4.3.20 (obrázok 4.3.27 vľavo), že funkcia  $f$  je rýdzo konkávna na intervale  $(-\infty; \frac{1}{3})$  a rýdzo konvexná na intervale  $(\frac{1}{3}; \infty)$ .

b) Funkcia  $f$  je definovaná a spojitá na množine  $R$  a pre jej derivácie  $f'$ ,  $f''$  platí:

$$f'(x) = \frac{2-2x^2}{(1+x^2)^2}, \quad x \in R, \quad f''(x) = \frac{4x(x^2-3)}{(1+x^2)^3}, \quad x \in R.$$

Funkcia  $f''$  má tri nulové body  $0$  a  $\pm\sqrt{3}$  (obrázok 4.3.27 v strede).

Pre všetky  $x \in (-\infty; -\sqrt{3}) \cup (0; \sqrt{3})$  platí  $f''(x) < 0$  a pre všetky  $x \in (-\sqrt{3}; 0) \cup (\sqrt{3}; \infty)$  platí  $f''(x) > 0$ . To znamená, že na intervaloch  $(-\infty; -\sqrt{3})$  a  $(0; \sqrt{3})$  je funkcia  $f$  rýdzo konkávna a na intervaloch  $(-\sqrt{3}; 0)$  a  $(\sqrt{3}; \infty)$  je funkcia  $f$  rýdzo konvexná.

c) Funkciu  $f$  môžeme vyjadriť v tvare (obrázok 4.3.27 vpravo)

$$f(x) = x \text{ pre } x \in \langle 0; 1 \rangle, \quad f(x) = x^2 \text{ pre } x \in (-\infty; 0) \cup \langle 1; \infty \rangle.$$

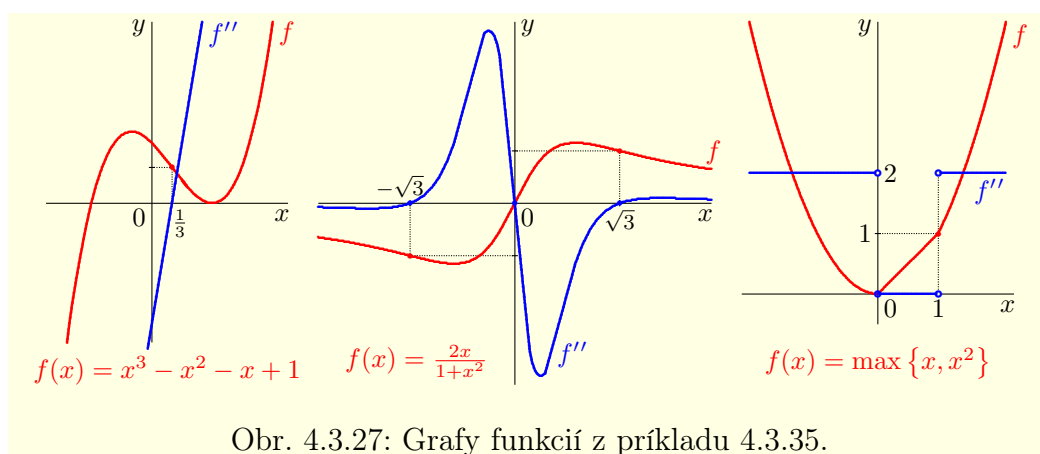
Funkcia  $f$  je spojitá na celej množine  $R$  a pre jej derivácie  $f'$ ,  $f''$  platí

$$f'_-(0) = 0, \quad f'_+(0) = 1, \quad f'_-(1) = 1, \quad f'_+(1) = 2, \quad f''_-(0) = 2, \quad f''_+(0) = 0, \quad f''_-(1) = 0, \quad f''_+(1) = 2.$$

V bodoch  $0$  a  $1$  obojstranné derivácie neexistujú a pre jednostranné derivácie platí:

$$f'_-(0) = 0, \quad f'_+(0) = 1, \quad f'_-(1) = 1, \quad f'_+(1) = 2, \quad f''_-(0) = 2, \quad f''_+(0) = 0, \quad f''_-(1) = 0, \quad f''_+(1) = 2.$$

Aj keď neexistujú  $f''(0)$ ,  $f''(1)$ , je funkcia  $f$  konvexná (nie rýdzo) na celej množine  $R$ . Rýdzo konvexná je na intervaloch  $(-\infty; 0)$  a  $(1; \infty)$ . ■



Z definície inflexného bodu a z predchádzajúcich viet 4.3.18, 4.3.14, resp. 4.3.20 priamo vyplývajú nasledujúce tvrdenia.

**Veta 4.3.21.K4-veta31**

Ak má funkcia  $f$  v nejakom okolí  $O(x_0)$  bodu  $x_0 \in D(f)$  deriváciu  $f'$ , potom má funkcia  $f$  v bode  $x_0$  inflexiu práve vtedy, ak pre všetky  $x \in O(x_0)$ ,  $x < x_0$  je funkcia  $f'$  rastúca [resp. klesajúca] a pre všetky  $x \in O(x_0)$ ,  $x > x_0$  je  $f'$  klesajúca [resp. rastúca].

**Dôsledok 4.3.21.a.K4-dosl09**

Ak má funkcia  $f$  v bode  $x_0$  inflexiu a v nejakom okolí  $O(x_0)$  existuje derivácia  $f'$ , potom funkcia  $f'$  nadobúda v bode  $x_0$  ostrý lokálny extrém.

**Dôsledok 4.3.21.b.K4-dosl10**

Ak má funkcia  $f$  v bode  $x_0$  inflexiu a existuje  $f''(x_0)$ , potom platí  $f''(x_0) = 0$ .

**Veta 4.3.22.K4-veta32**

Nech je funkcia  $f$  v bode  $x_0 \in D(f)$  diferencovateľná a nech v nejakom prstencovom okolí  $P(x_0) = P^-(x_0) \cup P^+(x_0)$  existuje nenulová druhá derivácia  $f''$ . Potom platí:

- Ak pre všetky  $x \in P^-(x_0)$  platí  $f''(x) > 0$  [resp.  $f''(x) < 0$ ] a zároveň pre všetky  $x \in P^+(x_0)$  platí  $f''(x) < 0$  [resp.  $f''(x) > 0$ ], potom má funkcia  $f$  v bode  $x_0$  inflexiu.
- Ak pre všetky  $x \in P(x_0)$  platí  $f''(x) > 0$  [resp.  $f''(x) < 0$ ], potom funkcia  $f$  v bode  $x_0$  inflexiu nemá.

**Poznámka 4.3.25.K4-poz53**

Ak má funkcia  $f$  na intervale  $I$  druhú deriváciu  $f''$ , potom jej inflexné body budeme hľadať ako korene rovnice  $f''(x) = 0$  na intervale  $I$ . Avšak nie každý bod vyhovujúci tejto rovnici, musí byť inflexný (príklad 4.3.36).

Na druhej strane môže mať funkcia  $f$  inflexiu aj v takom bode, v ktorom jej druhá derivácia  $f''$  neexistuje (príklad 4.3.38). To znamená, že pri ďalšom vyšetrowaní inflexie danej funkcie musíme brať do úvahy aj tieto body, v ktorých druhá derivácia funkcie  $f$  neexistuje.

**Príklad 4.3.36.K4-pr67**

Nájdite inflexné body funkcie  $f_n(x) = x^n$ ,  $x \in \mathbb{R}$ , kde  $n \in \mathbb{N}$ .

**Riešenie.**

Ak  $n = 1$ , potom pre všetky  $x \in \mathbb{R}$  platí  $f_1(x) = x$ ,  $f'_1(x) = 1$ ,  $f''_1(x) = 0$ . To znamená (veta 4.3.20), že neexistuje interval  $I \subset \mathbb{R}$ , na ktorom je funkcia  $f_1$  rýdzo konkávna alebo rýdzo konvexná. Takže funkcia  $f_1$  nemá inflexné body.

Ak  $n = 2$ , potom pre všetky  $x \in \mathbb{R}$  platí  $f_2(x) = x^2$ ,  $f'_2(x) = 2x$ ,  $f''_2(x) = 2 > 0$ . To znamená (veta 4.3.20), že na celej množine  $\mathbb{R}$  je funkcia  $f_2$  rýdzo konvexná.

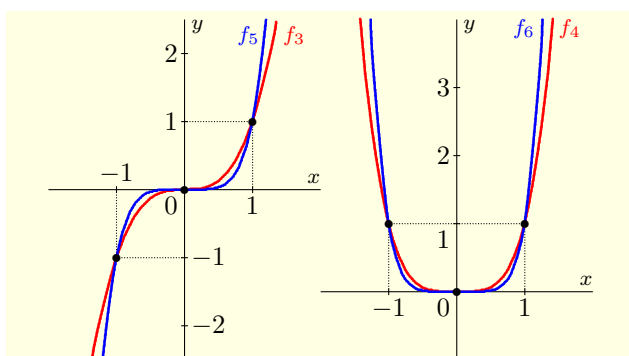
Ak  $n \in \mathbb{N}$ ,  $n \geq 3$ , potom pre prvé a druhé derivácie funkcie  $f_n(x) = x^n$  platí:

$$f'_n(x) = nx^{n-1}, \quad x \in \mathbb{R}, \quad f''_n(x) = n(n-1)x^{n-2}, \quad x \in \mathbb{R}.$$

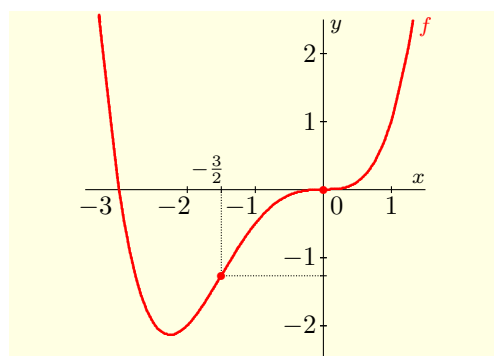
Funkcia  $f''_n(x)$  je spojitá pre všetky  $x \in \mathbb{R}$  a má práve jeden nulový bod  $x_0 = 0$ . Z toho vyplýva, že funkcia  $f_n$  môže mať inflexiu iba v bode  $x_0$ .

Ak je  $n$  nepárne, potom je aj  $n - 2$  nepárne a  $f''_n(x) < 0$  pre všetky  $x < 0$ ,  $f''_n(x) > 0$  pre všetky  $x > 0$ . To znamená (veta 4.3.22), že funkcia  $f_n$  v bode  $x_0 = 0$  inflexiu má.

Ak je  $n$  párne, potom je aj  $n - 2$  párne a pre všetky  $x \neq 0$  platí  $f''_n(x) = n(n-1)x^{n-2} > 0$ . To znamená (veta 4.3.22), že funkcia  $f_n$  v bode  $x_0 = 0$  inflexiu nemá (obr. 4.3.28). ■



Obr. 4.3.28: Grafy funkcií  $f_3$ ,  $f_5$  a  $f_4$ ,  $f_6$  z príkladu 4.3.36.



Obr. 4.3.29: Graf funkcie  $f$  z príkladu 4.3.37.

### Príklad 4.3.37.K4-pr68

Nájdite intervaly, na ktorých je funkcia  $f(x) = \frac{3x^3}{4} + \frac{x^4}{4}$  konvexná a konkávna.

#### Riešenie.

Funkcia  $f$  je definovaná a spojitá pre všetky  $x \in \mathbb{R}$ . Pre jej derivácie  $f'$  a  $f''$  platí:

$$f'(x) = \frac{9x^2}{4} + x^3, \quad x \in \mathbb{R}, \quad f''(x) = \frac{9x}{2} + 3x^2 = \frac{3x(3+2x)}{2}, \quad x \in \mathbb{R}.$$

Rovnica  $f''(x) = 0$  má dve riešenia  $x_1 = 0$ ,  $x_2 = -\frac{3}{2}$ . Keďže pre všetky  $x \in \mathbb{R}$  je funkcia  $f''$  spojitá, na zistenie konvexnosti, resp. konkávnosti funkcie  $f$  stačí určiť hodnotu jedného ľubovoľného bodu z príslušného intervalu.

Na intervale  $(-\infty; -\frac{3}{2})$  je funkcia konvexná, pretože  $f''(-2) = 3 > 0$ . Na intervale  $(-\frac{3}{2}; 0)$  je funkcia konkávna, pretože  $f''(-1) = -\frac{3}{2} < 0$ . Na intervale  $(0; \infty)$  je funkcia konvexná, pretože  $f''(2) = 21 > 0$ . Z toho vyplýva, že funkcia  $f$  má dva inflexné body  $x_1 = 0$ ,  $x_2 = -\frac{3}{2}$  (obr. 4.3.29). ■

### Príklad 4.3.38.K4-pr69

Nájdite intervaly, na ktorých je konvexná a konkávna funkcia  $f(x) = \frac{2x^2}{3} - \frac{x^3}{18} - \frac{9x\sqrt[3]{x^2}}{10}$ .

#### Riešenie.

Funkcia  $f$  je definovaná a spojitá pre všetky  $x \in \mathbb{R}$ . Pre jej derivácie  $f'$  a  $f''$  platí:

$$\begin{aligned} f'(x) &= \left[ \frac{2}{3}x^2 - \frac{1}{18}x^3 - \frac{9}{10}x(x^2)^{\frac{1}{3}} \right]' = \frac{4}{3}x - \frac{3}{18}x^2 - \frac{9}{10} \left[ (x^2)^{\frac{1}{3}} + x \frac{(x^2)^{-\frac{2}{3}}}{3} 2x \right], \\ &= \frac{4x}{3} - \frac{x^2}{6} - \frac{9}{10} \left[ (x^2)^{\frac{1}{3}} + \frac{2}{3}(x^2)^{1-\frac{2}{3}} \right] = \frac{4x}{3} - \frac{x^2}{6} - \frac{9}{10} \frac{5(x^2)^{\frac{1}{3}}}{3}, \quad x \in \mathbb{R} \end{aligned}$$

$$f''(x) = \left[ \frac{4x}{3} - \frac{x^2}{6} - \frac{3(x^2)^{\frac{1}{3}}}{2} \right]' = \frac{4}{3} - \frac{2x}{6} - \frac{3}{2} \frac{(x^2)^{-\frac{2}{3}}}{3} 2x = \frac{4}{3} - \frac{x}{3} - \frac{x}{(x^4)^{\frac{1}{3}}}, \quad x \neq 0.$$

Je zrejmé, že  $x_1 = 1$  je riešením rovnice  $f''(x) = 0$ . Ukážeme, že  $x_1$  je jediné riešenie.

Označme  $g(x) = f''(x)$ ,  $x \in \mathbb{R} - \{0\}$ . Nájdeme lokálne extrémny funkcie  $g$ . Platí

$$\begin{aligned} g'(x) &= \left[ \frac{4}{3} - \frac{x}{3} - x(x^4)^{-\frac{1}{3}} \right]' = -\frac{1}{3} - (x^4)^{-\frac{1}{3}} - x^{-\frac{1}{3}}(x^4)^{-\frac{4}{3}} 4x^3 = \\ &= -\frac{1}{3} - (x^4)^{-\frac{1}{3}} + \frac{4}{3}(x^4)^{1-\frac{4}{3}} = -\frac{1}{3} + \frac{1}{3}(x^4)^{-\frac{1}{3}} = \frac{1}{3} \left[ \frac{1}{\sqrt[3]{x^4}} - 1 \right], \quad x \neq 0. \end{aligned}$$

Rovnica  $g'(x) = 0$  má dve riešenia  $x_{1,2} = \pm 1$ .

Na intervaloch  $(-\infty; -1)$ ,  $(1; \infty)$  je funkcia  $g$  klesajúca, pretože na týchto intervaloch platí  $\sqrt[3]{x^4} > 0$ , t. j.  $g'(x) < 0$ . Naopak na  $(-1; 0)$ ,  $(0; 1)$  je funkcia  $g$  rastúca, pretože na týchto intervaloch platí  $\sqrt[3]{x^4} < 0$ , t. j.  $g'(x) > 0$ . Z toho vyplýva, že v bode  $x_2 = -1$  má funkcia  $g$  lokálne minimum a v bode  $x_1 = 1$  má lokálne maximum.

Funkciu  $g$  môžeme vyjadriť v tvare

$$g(x) = \frac{4}{3} - \frac{x}{3} - \frac{x}{\sqrt[3]{x^4}} = \frac{4}{3} - \frac{x}{3} - \frac{x}{|x|\sqrt[3]{|x|}} = \begin{cases} \frac{4}{3} - \frac{x}{3} + \frac{1}{\sqrt[3]{|x|}}, & \text{pre } x < 0, \\ \frac{4}{3} - \frac{x}{3} - \frac{1}{\sqrt[3]{x}}, & \text{pre } x > 0. \end{cases}$$

V bode  $x_3 = 0$  je funkcia  $g$  nespojitá a pre jednostranné limity v tomto bode platí:

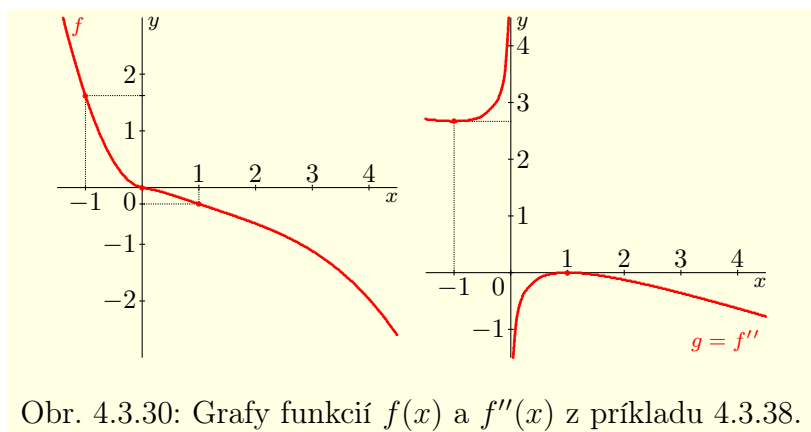
$$\lim_{x \rightarrow 0^-} g(x) = \frac{4}{3} - 0 + \frac{1}{\sqrt[3]{|0|}} = \infty, \quad \lim_{x \rightarrow 0^+} g(x) = \frac{4}{3} - 0 - \frac{1}{\sqrt[3]{|0|}} = -\infty.$$

Navyše pre limity funkcie  $g$  v bodoch  $\pm\infty$  platí:

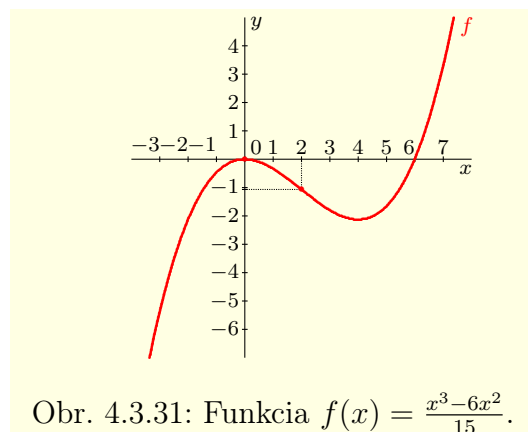
$$\lim_{x \rightarrow -\infty} g(x) = \frac{4}{3} - \frac{-\infty}{3} + \frac{1}{\sqrt[3]{\infty}} = \infty, \quad \lim_{x \rightarrow \infty} g(x) = \frac{4}{3} - \frac{\infty}{3} - \frac{1}{\sqrt[3]{\infty}} = -\infty.$$

Z predchádzajúceho vyplýva, že pre všetky  $x < 0$ ,  $x \neq -1$  platí  $g(x) > g(-1) = \frac{8}{3} > 0$  a pre všetky  $x > 0$ ,  $x \neq 1$  platí  $g(x) < g(1) = 0$ . To znamená, že funkcia  $g(x) = f''(x)$  má práve jeden nulový bod  $x_1 = 1$ . Situácia je ilustrovaná na obrázku 4.3.30 vpravo.

Navyše z toho vyplýva, že funkcia  $f$  je konvexná na intervaloch  $(-\infty; -1)$ ,  $(-1; 0)$  a konkávna na intervaloch  $(0; 1)$ ,  $(1; \infty)$ . To znamená, že bod  $x_1 = 1$  nie je inflexný, ale bod  $x_3 = 0$  inflexný je (obr. 4.3.30). ■



Obr. 4.3.30: Grafy funkcií  $f(x)$  a  $f''(x)$  z príkladu 4.3.38.



Obr. 4.3.31: Funkcia  $f(x) = \frac{x^3 - 6x^2}{15}$ .

Ak existuje tretia derivácia  $f'''(x_0)$ , potom môžeme pomocou nej rozhodnúť, či  $x_0$  je alebo nie inflexným bodom danej funkcie  $f$ . Hovorí o tom nasledujúca veta.

#### Veta 4.3.23. K4-veta33

Ak pre funkciu  $f$  platí  $f''(x_0) = 0$  a  $f'''(x_0) \neq 0$ , potom má funkcia  $f$  v bode  $x_0$  inflexiu.

#### Dôkaz.

Predpokladajme najprv, že  $f'''(x_0) > 0$ . Potom podľa definície derivácie platí:

$$f'''(x_0) = \lim_{x \rightarrow x_0} \frac{f''(x) - f''(x_0)}{x - x_0} = \lim_{x \rightarrow x_0} \frac{f''(x)}{x - x_0} > 0.$$

Z toho na základe dôsledku 3.2.7.a vyplýva, že existuje prstencové okolie  $P(x_0)$  také, že pre všetky  $x \in P(x_0)$  platí  $\frac{f''(x)}{x - x_0} > 0$ .

Potom pre všetky  $x \in P^-(x_0)$ , t. j.  $x - x_0 < 0$ , platí  $f''(x) < 0$  a pre všetky  $x \in P^+(x_0)$ , t. j.  $x - x_0 > 0$ , platí  $f''(x) > 0$ . To znamená (veta 4.3.22), že  $x_0$  je inflexný bod.

V prípade  $f'''(x_0) < 0$  je dôkaz analogický. ■



**Príklad 4.3.39.K4-pr70**

Nájdite intervaly, na ktorých sú konvexné a konkávne funkcie:

a)  $f(x) = \frac{x^3 - 6x^2}{15}$ ,      b)  $f(x) = \sin x$ ,      c)  $f(x) = \cos x$ .

**Riešenie.**

a) Funkcia  $f$  je definovaná a spojitá pre všetky  $x \in \mathbb{R}$ . Pre jej derivácie  $f'$ ,  $f''$  a  $f'''$  platí:

$$f'(x) = \frac{3x^2 - 12x}{15} = \frac{x^2 - 4x}{5}, \quad f''(x) = \frac{2x - 4}{5}, \quad f'''(x) = \frac{2}{5}.$$

Rovnica  $f''(x) = 0$  má jediné riešenie  $x_0 = 2$ . Bod  $x_0$  je inflexným bodom funkcie  $f$ , pretože platí  $f'''(x_0) = f'''(2) = \frac{2}{5} > 0$  (obr. 4.3.31).

b) Funkcia  $f(x) = \sin x$  je definovaná a spojitá pre všetky  $x \in \mathbb{R}$ . Pre jej derivácie platí:

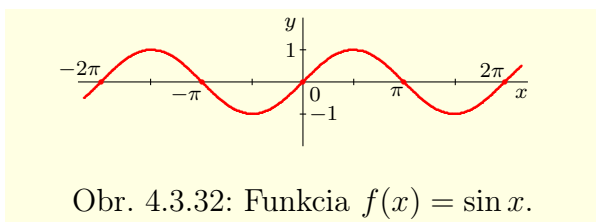
$$f'(x) = \cos x, \quad f''(x) = -\sin x, \quad f'''(x) = -\cos x.$$

Riešením rovnice  $f''(x) = -\sin x = 0$  sú body  $x = k\pi$ , kde  $k \in \mathbb{Z}$ . Tieto body sú zároveň aj inflexné body funkcie  $f$ , pretože pre  $k$  párne platí  $f'''(x) = -\cos(k\pi) = -1 < 0$  a pre  $k$  nepárne platí  $f'''(x) = -\cos(k\pi) = 1 > 0$  (obr. 4.3.32).

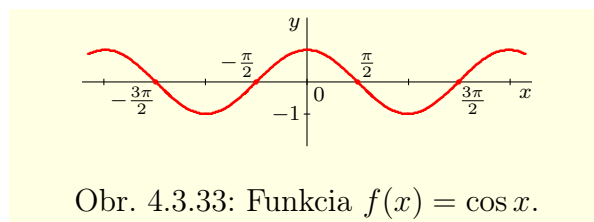
c) Funkcia  $f(x) = \cos x$  je definovaná a spojitá pre všetky  $x \in \mathbb{R}$ . Pre jej derivácie platí:

$$f'(x) = -\sin x, \quad f''(x) = -\cos x, \quad f'''(x) = \sin x.$$

Riešením rovnice  $f''(x) = -\cos x = 0$  sú body  $x = \frac{\pi}{2} + k\pi$ ,  $k \in \mathbb{Z}$ . Tieto body sú tiež inflexné body funkcie  $f$ , pretože  $f'''(x) = \sin(\frac{\pi}{2} + k\pi) = 1 > 0$  pre  $k$  párne a  $f'''(x) = \sin(\frac{\pi}{2} + k\pi) = -1 < 0$  pre  $k$  nepárne (obr. 4.3.33). ■



Obr. 4.3.32: Funkcia  $f(x) = \sin x$ .



Obr. 4.3.33: Funkcia  $f(x) = \cos x$ .

**Poznámka 4.3.26.K4-poz54**

Z príkladu 4.3.36 vyplýva, že funkcia  $f_5(x) = x^5$ ,  $x \in \mathbb{R}$  má v bode  $x_0 = 0$  inflexiu, ale funkcia  $f_4(x) = x^4$ ,  $x \in \mathbb{R}$  v bode  $x_0 = 0$  inflexiu nemá (má tam ostré lokálne minimum).

Pre tieto funkcie platí  $f_4'(0) = f_4''(0) = f_4'''(0) = 0$ ,  $f_5'(0) = f_5''(0) = f_5'''(0) = f_5''''(0) = 0$ . To znamená, že nemôžeme použiť vety 4.3.16 a 4.3.23. V tomto prípade môžeme inflexné, resp. extrémálne body určiť pomocou derivácií  $f_4''''(0) = 24 \neq 0$ ,  $f_5''''''(0) = 120 \neq 0$ . Hovoria o tom nasledujúce dve vety 4.3.24 a 4.3.25, ktoré využívajú derivácie vyšších rádov.

**Veta 4.3.24.K4-veta34**

Nech  $f$  je reálna funkcia a nech existuje  $n \in \mathbb{N}$  také, že pre derivácie funkcie  $f$  v bode  $x_0 \in D(f)$  platí<sup>30</sup>  $f'(x_0) = f''(x_0) = \dots = f^{(n-1)}(x_0) = 0$ ,  $f^{(n)}(x_0) \neq 0$ . Potom platí:

- a) Ak je  $n$  nepárne, potom funkcia  $f$  v bode  $x_0$  nemá lokálny extrém.
  - i) Ak  $f^{(n)}(x_0) > 0$ , potom je funkcia  $f$  v bode  $x_0$  rastúca.
  - ii) Ak  $f^{(n)}(x_0) < 0$ , potom je funkcia  $f$  v bode  $x_0$  klesajúca.

<sup>30</sup>Napríklad pre  $n = 1$  platí  $f'(x_0) \neq 0$  a pre  $n = 4$  platí  $f'(x_0) = f''(x_0) = f'''(x_0) = 0$ ,  $f''''(x_0) \neq 0$ .

- b) Ak je  $n$  párne, potom má funkcia  $f$  v bode  $x_0$  ostrý lokálny extrém.
- i) Ak  $f^{(n)}(x_0) > 0$ , potom má funkcia  $f$  v bode  $x_0$  ostré lokálne minimum.
- ii) Ak  $f^{(n)}(x_0) < 0$ , potom má funkcia  $f$  v bode  $x_0$  ostré lokálne maximum.

**Dôkaz.**

Z definície konečnej derivácie  $f^{(n)}(x_0)$  vyplýva, že existuje nejaké okolie  $O(x_0)$ , na ktorom je funkcia  $f^{(n-1)}$  definovaná. Následkom toho existujú funkcie  $f^{(n-2)}, \dots, f'', f', f$ ,  $n \geq 2$  v celom okolí  $O(x_0)$ . Z viet 4.1.1 a 4.1.4 vyplýva, že je funkcia  $f^{(n-1)}$  spojitá v bode  $x_0$  a že funkcie  $f^{(n-2)}, \dots, f'', f'$ ,  $f$  sú spojité v okolí  $O(x_0)$ .

Predpokladajme, že platí  $f^{(n)}(x_0) > 0$ .

Z vety 4.3.15 vyplýva, že je funkcia  $f^{(n-1)}$  rastúca v bode  $x_0$ . Potom existuje okolie  $O_1(x_0) \subset O(x_0)$  také, že pre všetky  $x \in O_1(x_0)$  platí:

$$f^{(n-1)}(x) < f^{(n-1)}(x_0) = 0 \quad \text{pre } x < x_0, \quad f^{(n-1)}(x) > f^{(n-1)}(x_0) = 0 \quad \text{pre } x > x_0.$$

Z vety 4.3.12 vyplýva, že je funkcia  $f^{(n-2)}$  klesajúca pre  $x \in O_1(x_0)$ ,  $x < x_0$  a rastúca pre  $x \in O_1(x_0)$ ,  $x > x_0$ . To znamená (veta 4.3.15), že v bode  $x_0$  má funkcia  $f^{(n-2)}$  ostré lokálne minimum, t. j. pre všetky  $x \in O_1(x_0)$ ,  $x \neq x_0$  platí:

$$f^{(n-2)}(x) > f^{(n-2)}(x_0) = 0, \quad \text{t. j. } f^{(n-2)}(x) > 0.$$

Z vety 4.3.12 vyplýva, že je  $f^{(n-3)}$  rastúca na  $O_1(x_0)$ . Potom pre všetky  $x \in O_1(x_0)$  platí:

$$f^{(n-3)}(x) < f^{(n-3)}(x_0) = 0 \quad \text{pre } x < x_0, \quad f^{(n-3)}(x) > f^{(n-3)}(x_0) = 0 \quad \text{pre } x > x_0.$$

Takže je funkcia  $f^{(n-4)}$  klesajúca pre  $x \in O_1(x_0)$ ,  $x < x_0$  a rastúca pre  $x \in O_1(x_0)$ ,  $x > x_0$ , t. j. má v bode  $x_0$  ostré lokálne minimum. Potom pre všetky  $x \in O_1(x_0)$ ,  $x \neq x_0$  platí:

$$f^{(n-4)}(x) > f^{(n-4)}(x_0) = 0, \quad \text{t. j. } f^{(n-4)}(x) > 0.$$

Takto môžeme postupne pokračovať až po  $f'', f', f$ . Ak to zhrnieme, potom platí:

- a) Ak je  $n$  nepárne, potom sú  $n-1, n-3, \dots$  párne. To znamená, že sú funkcie  $f^{(n-1)}, f^{(n-3)}, \dots, f'', f$  rastúce v bode  $x_0$ .
- b) Ak je  $n$  párne, potom majú  $f^{(n-2)}, f^{(n-4)}, \dots, f'', f$  v bode  $x_0$  ostré lokálne minimum.

Pre  $f^{(n)}(x_0) < 0$  je dôkaz analogický a prenechávame ho čitateľovi. ■

**Veta 4.3.25.**K4-veta35

Nech  $f$  je reálna funkcia a nech existuje  $n \in \mathbb{N}$ ,  $n \geq 2$  také, že pre derivácie funkcie  $f$  v bode  $x_0 \in D(f)$  platí<sup>31</sup>  $f''(x_0) = f'''(x_0) = \dots = f^{(n-1)}(x_0) = 0$ ,  $f^{(n)}(x_0) \neq 0$ . Potom platí:

- a) Ak je  $n$  nepárne, potom má funkcia  $f$  v bode  $x_0$  inflexiu.
- b) Ak je  $n$  párne: i) Ak  $f^{(n)}(x_0) > 0$ , potom je funkcia  $f$  v bode  $x_0$  rýdzo konvexná.  
ii) Ak  $f^{(n)}(x_0) < 0$ , potom je funkcia  $f$  v bode  $x_0$  rýdzo konkávna.

**Dôkaz.**

Nech  $f^{(n)}(x_0) > 0$ . Potom z dôkazu predchádzajúcej vety 4.3.24 vyplýva:

a) Ak je  $n$  nepárne, potom majú funkcie  $f^{(n-2)}, f^{(n-4)}, \dots, f''', f'$  ostré lokálne minimum v bode  $x_0$ . To znamená, že existuje okolie  $O(x_0)$  také, že pre všetky  $x \in O(x_0)$ ,  $x < x_0$  je funkcia  $f'$  klesajúca a pre všetky  $x \in O(x_0)$ ,  $x > x_0$  je funkcia  $f'$  rastúca. Potom z vety 4.3.21 vyplýva, že  $x_0$  je inflexný bod funkcie  $f$ .

b) Ak je  $n$  párne, t. j.  $n-1$  nepárne, potom sú funkcie  $f^{(n-1)}, f^{(n-3)}, \dots, f''', f'$  rastúce v bode  $x_0$ . Potom z vety 4.3.20 vyplýva, že je  $f$  v bode  $x_0$  rýdzo konvexná.

<sup>31</sup>Na rozdiel od vety 4.3.24 nás nezaujíma hodnota  $f'(x_0)$ . Napríklad pre  $n = 2$  platí  $f'(x_0) \in \mathbb{R}$ ,  $f''(x_0) \neq 0$  a pre  $n = 4$  platí  $f'(x_0) \in \mathbb{R}$ ,  $f''(x_0) = f'''(x_0) = 0$ ,  $f^{(4)}(x_0) \neq 0$ .

Pre  $f^{(n)}(x_0) < 0$  je dôkaz analogický a prenechávame ho čitateľovi. ■

#### Príklad 4.3.40.K4-pr85

Uvažujme funkciu  $f_n(x) = x^n$ ,  $x \in R$ , kde  $n \in N$ ,  $n > 1$ .

Z príkladu 4.3.14 (obr. 4.3.28) vyplýva, že pre  $n$  nepárne má funkcia  $f_n$  v bode  $x_0 = 0$  inflexiu a pre  $n$  párne v bode  $x_0$  inflexiu nemá. Pre derivácie funkcie  $f_n$  do rádu  $n$  platí:

$$f_n'(x) = nx^{n-1}, f_n''(x) = n(n-1)x^{n-2}, \dots, f_n^{(n-1)}(x) = n(n-1) \cdots 2x, f_n^{(n)}(x) = n!.$$

To znamená, že  $f_n'(0) = f_n''(0) = \dots = f_n^{(n-1)}(0) = 0$ ,  $f_n^{(n)}(0) = n! > 0$ . Z viet 4.3.24 a 4.3.25 potom vyplýva, že pre  $n$  nepárne je funkcia  $f_n$  v bode  $x_0 = 0$  rastúca a má v tomto bode inflexiu. Na druhej strane pre  $n$  párne je funkcia  $f_n$  v bode  $x_0 = 0$  rýdzo konvexná a má v tomto bode ostré lokálne minimum. ■

#### Príklad 4.3.41.K4-pr71

Nájdite extrémny a inflexné body funkcie  $f(x) = \frac{x^7}{7} - \frac{x^6}{3} + \frac{x^5}{5} + 3$ ,  $x \in R$ .

#### Riešenie.

Pre derivácie  $f'$  a  $f''$  pre všetky  $x \in R$  platí:

$$f'(x) = x^6 - 2x^5 + x^4 = x^4(x-1)^2, \quad f''(x) = 6x^5 - 10x^4 + 4x^3 = 2x^3(x-1)(3x-2).$$

Rovnica  $f'(x) = 0$  má dve riešenia  $x_1 = 0$ ,  $x_2 = 1$  a rovnica  $f''(x) = 0$  má tri riešenia  $x_1 = 0$ ,  $x_2 = 1$  a  $x_3 = \frac{2}{3}$ . Pre derivácie  $f^{(3)}$ ,  $f^{(4)}$ ,  $f^{(5)}$  pre všetky  $x \in R$  platí:

$$f^{(3)}(x) = 2(15x^4 - 20x^3 + 6x^2), \quad f^{(4)}(x) = 24(5x^3 - 5x^2 + x), \quad f^{(5)}(x) = 24(15x^2 - 10x + 1).$$

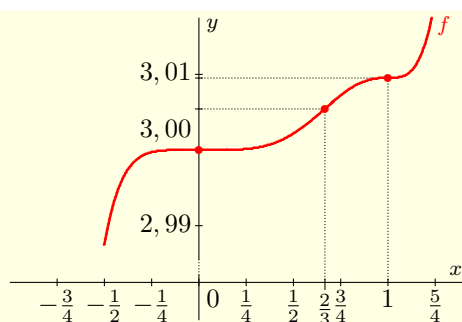
Pre hodnoty funkcií  $f^{(1)}$ ,  $f^{(2)}$ ,  $\dots$ ,  $f^{(5)}$  v bodoch  $x_1 = 0$ ,  $x_2 = 1$  platí:

$$f^{(1)}(0) = f^{(2)}(0) = f^{(3)}(0) = f^{(4)}(0) = 0, \quad f^{(5)}(0) = 24, \quad f^{(1)}(1) = f^{(2)}(1) = 0, \quad f^{(3)}(1) = 2.$$

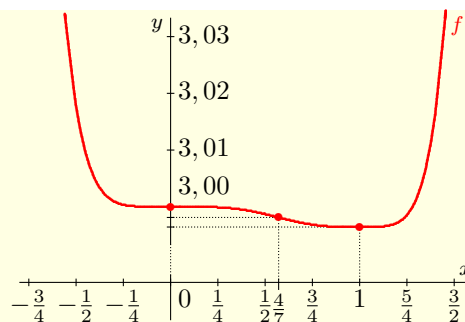
Z vety 4.3.24 vyplýva, že v bodoch  $x_1 = 0$ ,  $x_2 = 1$  je funkcia  $f$  rastúca. Z vety 4.3.25 vyplýva, že sú tieto body  $x_1 = 0$ ,  $x_2 = 1$  inflexné. Ďalej pre  $x_3 = \frac{2}{3}$  platí:

$$f'(\frac{2}{3}) = \frac{16}{729} > 0, \quad f''(\frac{2}{3}) = 0, \quad f'''(\frac{2}{3}) = -\frac{16}{27} < 0.$$

Vetu 4.3.24 použiť nemôžeme. Funkcia  $f$  v bode  $x_3$  nie je klesajúca, ale je rastúca (veta 4.3.12). Z vety 4.3.25 vyplýva, že je bod  $x_3$  inflexný. To znamená, že  $f$  nemá lokálne a ani globálne extrémny a že body  $x_1$ ,  $x_2$ ,  $x_3$  sú inflexné (viď obr. 4.3.34). ■



Obr. 4.3.34: Funkcia z príkladu 4.3.41 (os  $y$  je zväčšená 40-krát vzhľadom na  $x$ ).



Obr. 4.3.35: Funkcia z príkladu 4.3.42 (os  $y$  je zväčšená 30-krát vzhľadom na  $x$ ).

**Príklad 4.3.42.K4-pr72**

Nájdite extrémny a inflexné body funkcie  $f(x) = \frac{x^8}{8} - \frac{3x^7}{7} + \frac{x^6}{2} - \frac{x^5}{5} + 3$ ,  $x \in R$ .

**Riešenie.**

Pre prvú a druhú deriváciu funkcie  $f$  na celej množine  $R$  platí:

$$f'(x) = x^7 - 3x^6 + 3x^5 - x^4 = x^4(x-1)^3, \quad x \in R,$$

$$f''(x) = 7x^6 - 18x^5 + 15x^4 - 4x^3 = x^3(x-1)^2(7x-4), \quad x \in R.$$

Rovnica  $f'(x) = 0$  má dve riešenia  $x_1 = 0$ ,  $x_2 = 1$  a rovnica  $f''(x) = 0$  má tri riešenia  $x_1 = 0$ ,  $x_2 = 1$  a  $x_3 = \frac{4}{7}$ . Ďalej pre derivácie funkcie  $f$  do rádu 5 platí:

$$f^{(3)}(x) = 6(7x^5 - 15x^4 + 10x^3 - 2x^2), \quad x \in R,$$

$$f^{(4)}(x) = 6(35x^4 - 60x^3 + 30x^2 - 4x), \quad x \in R,$$

$$f^{(5)}(x) = 24(35x^3 - 45x^2 + 15x - 1), \quad x \in R.$$

Pre hodnoty funkcií  $f'$ ,  $f''$ , ...,  $f^{(5)}$  v bodoch  $x_1 = 0$ ,  $x_2 = 1$ ,  $x_3 = \frac{4}{7}$  platí:

$$f'(0) = f''(0) = f^{(3)}(0) = f^{(4)}(0) = 0, \quad f^{(5)}(0) = -24 < 0,$$

$$f'(1) = f''(1) = f^{(3)}(1) = 0, \quad f^{(4)}(1) = 6 > 0,$$

$$f'(\frac{4}{7}) \approx -0,0084 < 0, \quad f''(\frac{4}{7}) = 0, \quad f^{(3)}(\frac{4}{7}) \approx 0,2399 > 0.$$

Z toho vyplýva (vety 4.3.24, 4.3.25 a 4.3.12), že v bodoch  $x_1 = 0$ ,  $x_3 = \frac{4}{7}$  je funkcia  $f$  klesajúca, tieto body sú inflexné a v bode  $x_2 = 1$  je funkcia  $f$  rýdzo konvexná, v bode  $x_2 = 1$  má lokálne minimum (viď obr. 4.3.35). ■

- **Celkové vyšetrenie priebehu funkcie**

V tejto časti zhrnieme všetky naše doterajšie výsledky o funkciách a uvedieme postup na celkové vyšetrenie priebehu funkcie. Tento postup nemusíme považovať za záväzný predpis, ale skôr za návod k tomu, ako môžeme pri riešení tohto problému postupovať. Zhrnieme ho do nasledujúcich bodov:

1. Určíme definičný obor funkcie (pokiaľ nie je zadaný).
2. Určíme, či je funkcia párna, nepárna alebo periodická.
3. Určíme nulové body funkcie a intervaly, na ktorých je funkcia kladná a záporná.
4. Určíme všetky body spojitosti a nespojitosti funkcie. V bodoch nespojitosti a v hraničných bodoch definičného oboru (vrátane nevlastných bodov  $\pm\infty$ ) určíme jednostranné limity danej funkcie.
5. Určíme stacionárne body funkcie, lokálne a globálne extrémny funkcie a intervaly, na ktorých je funkcia rastúca, klesajúca, resp. konštantná.
6. Určíme inflexné body funkcie a intervaly, na ktorých je funkcia konvexná a konkávna.
7. Určíme asymptoty grafu funkcie a načrtne graf funkcie.

Najnázornejšiu predstavu o priebehu funkcie nám vo väčšine prípadov poskytne jej graf. Pri jeho konštrukcii využívame všetky zistené údaje. Mnohokrát sú tieto informácie nedostatočné, preto ich musíme vhodne doplniť. Sú to napríklad nulové body prvej a druhej derivácie funkcie, dotyčnice grafu funkcie v niektorých dôležitých bodoch (napríklad v inflexných bodoch) alebo iba vhodne zvolené funkčné hodnoty.

**Príklad 4.3.43.K4-pr74**

Vyšetríte priebeh funkcie  $f(x) = \frac{x}{1+x^2}$ .

**Riešenie.**

Funkcia  $f$  je definovaná pre všetky  $x \in R$ , t. j.  $D(f) = R$ .

Funkcia  $f$  nie je periodická, ani párna, ale je nepárna, pretože pre všetky  $x \in R$  platí:

$$f(-x) = \frac{-x}{1+(-x)^2} = \frac{-x}{1+x^2} = -\frac{x}{1+x^2} = -f(x).$$

Funkcia  $f$  je spojitá pre všetky  $x \in R$ . Pre jej limity v nevlastných bodoch  $\pm\infty$  platí:

$$\lim_{x \rightarrow \pm\infty} f(x) = \lim_{x \rightarrow \pm\infty} \frac{x}{1+x^2} = \lim_{x \rightarrow \pm\infty} \left[ \frac{x}{1+x^2} \cdot \frac{1}{x} \right] = \lim_{x \rightarrow \pm\infty} \frac{1}{x+x} = \frac{1}{0 \pm \infty} = 0. \quad (4.27)$$

Funkcia  $f$  má jeden nulový bod  $x_1 = 0$ , t. j.  $f(0) = 0$ . Na intervale  $(-\infty; 0)$  je funkcia  $f$  záporná a na intervale  $(0; \infty)$  je funkcia  $f$  kladná. Pre prvú deriváciu funkcie  $f$  platí:

$$f'(x) = \left[ \frac{x}{1+x^2} \right]' = \frac{1 \cdot (1+x^2) - x \cdot 2x}{(1+x^2)^2} = \frac{1-x^2}{(1+x^2)^2} = \frac{1-x^2}{1+2x^2+x^4}, \quad x \in R.$$

Z toho vyplýva, že má funkcia  $f'$  dva nulové body  $x_{2,3} = \pm 1$ . Keďže je  $f'$  spojitá na  $R$ , je na intervaloch  $(-\infty; -1)$ ,  $(-1; 1)$ ,  $(1; \infty)$  buď kladná alebo záporná. Na toto určenie postačí jeden bod intervalu. Zvoľme napríklad

$$f'(-2) = f'(2) = \frac{1-4}{(1+4)^2} = \frac{-3}{25} < 0, \quad f'(0) = \frac{1-0}{(1+0)^2} = 1 > 0.$$

To znamená, že platí  $f'(x) < 0$  pre  $x \in (-\infty; -1)$  a pre  $x \in (1; \infty)$  a platí  $f'(x) > 0$  pre  $x \in (-1; 1)$ . Z toho vyplýva (veta 4.3.12), že funkcia  $f$  je klesajúca na intervale  $(-\infty; -1)$ , rastúca na intervale  $(-1; 1)$  a klesajúca na intervale  $(1; \infty)$ . Takže funkcia  $f$  má v bode  $x_2 = -1$  lokálne minimum  $f(-1) = -\frac{1}{2}$  a v bode  $x_3 = 1$  má lokálne maximum  $f(1) = \frac{1}{2}$ . Je zrejmé, že tieto extrémny sú zároveň aj globálne.

$(-\infty; -\sqrt{3})$	$(-\sqrt{3}; -1)$	$(-1; 0)$	$(0; 1)$	$(1; \sqrt{3})$	$(\sqrt{3}; \infty)$
0 ... nulový bod					
-		záporná $f(x) < 0$	-	+	kladná $f(x) > 0$
-1 ... lokálne minimum			1 ... lokálne maximum		
$\searrow$	klesá $f'(x) < 0$	$\searrow$	$\nearrow$	rastie $f'(x) > 0$	$\nearrow$
$-\sqrt{3}$ ... inflexný bod		0 ... inflexný bod		$\sqrt{3}$ ... inflexný bod	
$\cap$ konkávna $f''(x) < 0$	$\cup$	konvexná $f''(x) > 0$	$\cup$	$\cap$	konkávna $f''(x) < 0$
				$\cap$	$\cup$ konvexná $f''(x) > 0$

Tabuľka 4.3.4: Niektoré dôležité hodnoty funkcie  $f(x) = \frac{x}{1+x^2}$  z príkladu 4.3.43.

Pre druhú deriváciu funkcie  $f$  na množine  $D(f) = R$  platí:

$$\begin{aligned} f''(x) &= \left[ \frac{x}{1+x^2} \right]'' = \left[ \frac{1-x^2}{1+2x^2+x^4} \right]' = \frac{-2x(1+x^2)^2 - (1-x^2)(4x+4x^3)}{(1+x^2)^4} = \\ &= \frac{-2x(1+x^2)^2 - 4x(1-x^2)(1+x^2)}{(1+x^2)^4} = \frac{(1+x^2)(-2x-2x^3-4x+4x^3)}{(1+x^2)^4} = \frac{2x^3-6x}{(1+x^2)^3}. \end{aligned}$$

Funkcia  $f''$  je spojitá pre všetky  $x \in R$  a má tri nulové body  $x_1 = 0$ ,  $x_{4,5} = \pm\sqrt{3}$ . To znamená, že na intervaloch  $(-\infty; -\sqrt{3})$ ,  $(-\sqrt{3}; 0)$ ,  $(0; \sqrt{3})$  a  $(\sqrt{3}; \infty)$  je funkcia  $f''$  kladná alebo záporná, t. j. funkcia  $f$  je konvexná alebo konkávna. Zvoľme napríklad

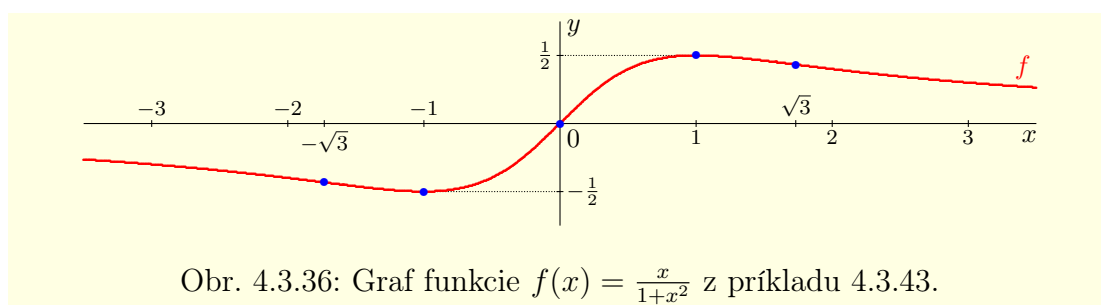
$$f''(-2) = \frac{-4}{125} < 0, \quad f''(-1) = \frac{1}{2} > 0, \quad f''(1) = -\frac{1}{2} < 0, \quad f''(2) = \frac{4}{125} > 0.$$

Z toho vyplýva, že funkcia  $f$  je konvexná na intervaloch  $(-\sqrt{3}; 0)$ ,  $(\sqrt{3}; \infty)$  a konkávna na intervaloch  $(-\infty; -\sqrt{3})$ ,  $(0; \sqrt{3})$ . To znamená, že body  $x_1 = 0$ ,  $x_{4,5} = \pm\sqrt{3}$  sú inflexné. Pre hodnoty funkcie  $f$  v bodoch  $x_{4,5}$  platí  $f(\pm\sqrt{3}) = \pm\frac{\sqrt{3}}{4}$ .

Funkcia  $f$  asymptotu bez smernice nemá a má jednu asymptotu  $y = kx + q$  so smernicou. Pre jej koeficienty  $k$ ,  $q$  na základe vety 3.2.14 a vzťahu (4.27) platí:

$$k = \lim_{x \rightarrow \pm\infty} \frac{f(x)}{x} = \lim_{x \rightarrow \pm\infty} \frac{1}{1+x^2} = 0, \quad q = \lim_{x \rightarrow \pm\infty} [f(x) - kx] = \lim_{x \rightarrow \pm\infty} f(x) = 0.$$

To znamená, že asymptota so smernicou grafu funkcie  $f$  má rovnicu  $y = 0$ . Vypočítané výsledky sú zhrnuté v tabuľke 4.3.4 a graf funkcie  $f$  je znázornený na obrázku 4.3.36. ■



Obr. 4.3.36: Graf funkcie  $f(x) = \frac{x}{1+x^2}$  z príkladu 4.3.43.

#### Príklad 4.3.44.K4-pr75

Vyšetrite priebeh funkcie  $f(x) = \frac{8(x-2)}{x^2}$ .

#### Riešenie.

Funkcia  $f$  je definovaná pre všetky  $x \in \mathbb{R} - \{0\}$ , t. j.  $D(f) = (-\infty; 0) \cup (0; \infty)$ .

Funkcia  $f$  nie je periodická, nie je párna, ani nepárna.

Funkcia  $f$  je spojitá pre všetky  $x \in D(f)$ , nie je spojitá v bode  $x_1 = 0$ . Funkcia  $f$  má jeden nulový bod  $x_2 = 2$ , t. j.  $f(2) = 0$ . Na intervale  $(-\infty; 0)$  je funkcia  $f$  záporná, na intervale  $(0; 2)$  je tiež záporná a na intervale  $(2; \infty)$  je kladná.

Pre všetky  $x \neq 0$  platí  $x^2 > 0$ . Z toho vyplýva na základe vety 3.2.6, že platí:

$$\lim_{x \rightarrow 0^-} f(x) = \lim_{x \rightarrow 0^-} \frac{8(x-2)}{x^2} = -\infty, \quad \lim_{x \rightarrow 0^+} f(x) = \lim_{x \rightarrow 0^+} \frac{8(x-2)}{x^2} = -\infty,$$

t. j. priamka  $x = 0$  predstavuje asymptotu bez smernice.

$(-\infty; 0)$	$(0; 2)$	$(2; 4)$	$(4; 6)$	$(6; \infty)$
0 ... bod nespojitosti		2 ... nulový bod		
- záporná $f(x) < 0$	- záporná $f(x) < 0$	+	kladná $f(x) > 0$	+
4 ... lokálne maximum				
↘ klesá $f'(x) < 0$	↗ rastie $f'(x) > 0$	↗	↘ klesá $f'(x) < 0$	↘
6 ... inflexný bod				
∩ konkávna $f''(x) < 0$	∩	konkávna $f''(x) < 0$	∩	∪ konvexná $f''(x) > 0$

Tabuľka 4.3.5: Niektoré dôležité hodnoty funkcie  $f(x) = \frac{8(x-2)}{x^2}$  z príkladu 4.3.44.

Pre jej limity v bodoch  $\pm\infty$  platí:

$$\lim_{x \rightarrow \pm\infty} f(x) = \lim_{x \rightarrow \pm\infty} \frac{8x-16}{x^2} = \lim_{x \rightarrow \pm\infty} \left[ \frac{8}{x} - \frac{16}{x^2} \right] = \frac{8}{\pm\infty} - \frac{16}{\infty} = 0 - 0 = 0. \quad (4.28)$$

Pre prvú deriváciu funkcie  $f$  pre všetky  $x \in \mathbb{R}$ ,  $x \neq 0$  platí:

$$f'(x) = \left[ \frac{8x-16}{x^2} \right]' = \frac{8x^2 - (8x-16)2x}{x^4} = \frac{32x-8x^2}{x^4} = \frac{32-8x}{x^3} = 8 \frac{4-x}{x^3}.$$

To znamená, že funkcia  $f'$  má jeden nulový bod  $x_3 = 4$ . Funkcia  $f'$  je spojitá na množine  $\mathbb{R} - \{0\}$ , na intervale  $(-\infty; 0)$  je záporná, na intervale  $(0; 4)$  je kladná a na intervale  $(4; \infty)$  je záporná. Z toho vyplýva, že je funkcia  $f$  klesajúca na intervale  $(-\infty; 0)$ , rastúca na intervale  $(0; 4)$  a klesajúca na intervale  $(4; \infty)$ . To znamená, že v bode  $x_3 = 4$  má funkcia  $f$  lokálne maximum  $f(4) = 1$ .

Pre druhú deriváciu funkcie  $f$  na množine  $\mathbb{R} - \{0\}$  platí:

$$f''(x) = \left[ 8 \frac{x-2}{x^2} \right]' = \left[ 8 \frac{4-x}{x^3} \right]' = 8 \frac{-x^3 - (4-x)3x^2}{x^6} = 8 \frac{2x^3 - 12x^2}{x^6} = 16 \frac{x-6}{x^4}.$$

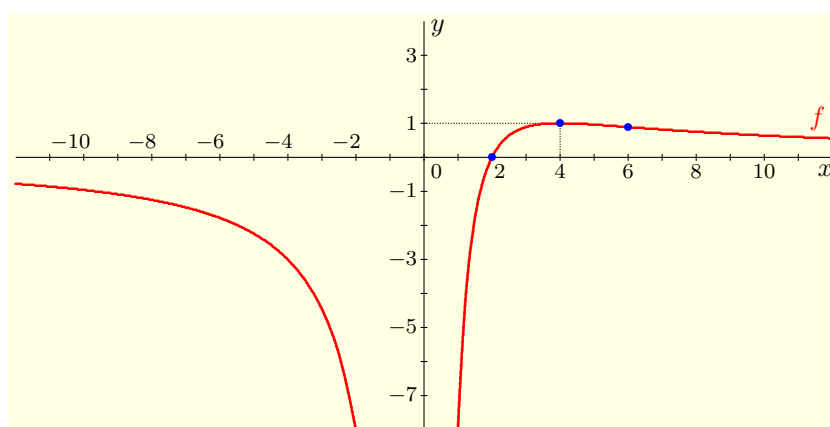
Funkcia  $f''$  je spojitá pre všetky  $x \neq 0$  a má jeden nulový bod  $x_4 = 6$ . Na intervaloch  $(-\infty; 0)$ ,  $(0; 6)$  je záporná a na intervale  $(6; \infty)$  je kladná. To znamená, že funkcia  $f$  je konkávna na intervaloch  $(-\infty; 0)$ ,  $(0; 6)$  a konvexná na intervale  $(6; \infty)$ . Z toho vyplýva, že funkcia  $f$  má jeden inflexný bod  $x_4 = 6$  (tabuľka 4.3.5).

Pre asymptotu so smernicou  $y = kx + q$  na základe vety 3.2.14 a vzťahu (4.28) platí:

$$k = \lim_{x \rightarrow \pm\infty} \frac{f(x)}{x} = \lim_{x \rightarrow \pm\infty} \frac{8x-16}{x^3} = \lim_{x \rightarrow \pm\infty} \left[ \frac{8}{x^2} - \frac{16}{x^3} \right] = 0 - 0 = 0,$$

$$q = \lim_{x \rightarrow \pm\infty} [f(x) - kx] = \lim_{x \rightarrow \pm\infty} [f(x) - 0 \cdot x] = \lim_{x \rightarrow \pm\infty} f(x) = 0.$$

Takže asymptotou so smernicou je priamka  $y = 0$ , t. j. os  $x$  (obrázok 4.3.37). ■



Obr. 4.3.37: Graf funkcie  $f(x) = \frac{8(x-2)}{x^2}$  z príkladu 4.3.44.

#### Príklad 4.3.45.K4-pr88

Vyšetrte priebeh funkcie: a)  $f(x) = \frac{|x-1|}{x+2}$ , b)  $f(x) = \frac{|x-1|}{x-2}$ .

#### Riešenie.

a) Funkcia  $f$  je definovaná pre všetky  $x \in \mathbb{R} - \{-2\}$ , t. j.  $D(f) = (-\infty; -2) \cup (-2; \infty)$ . Môžeme ju vyjadriť v tvare

$$f(x) = \begin{cases} -\frac{x-1}{x+2} = -\frac{x+2-3}{x+2} = -1 + \frac{3}{x+2}, & \text{pre } x \in (-\infty; -2) \cup (-2; 1), \\ \frac{x-1}{x+2} = \frac{x+2-3}{x+2} = 1 - \frac{3}{x+2}, & \text{pre } x \in (1; \infty). \end{cases}$$

Funkcia  $f$  nie je periodická, nie je párna, ani nepárna.



Funkcia  $f$  je spojitá na  $D(f)$ . Pre jej jednostranné limity v bode  $x_1 = -2$  platí:

$$\lim_{x \rightarrow -2^-} f(x) = \frac{|x-1|}{x+2} = -\infty, \quad \lim_{x \rightarrow -2^+} f(x) = \frac{|x-1|}{x+2} = \infty.$$

To znamená, že sa funkcia  $f$  v bode  $x_1 = -2$  nedá dodefinovať tak, aby bola spojitá. Ďalej z toho vyplýva, že asymptota bez smernice je určená rovnicou  $x = -2$ .

Funkcia  $f$  má jeden nulový bod  $x_2 = 1$ , t. j.  $f(1) = 0$ . Na intervale  $(-\infty; -2)$  je funkcia  $f$  záporná, na intervale  $(-2; 1)$  je kladná a na intervale  $(1; \infty)$  je tiež kladná.

Pre nevlastné limity v bodoch  $\pm\infty$  platí:

$$\lim_{x \rightarrow -\infty} f(x) = \lim_{x \rightarrow -\infty} \left[-1 + \frac{3}{x+2}\right] = -1, \quad \lim_{x \rightarrow \infty} f(x) = \lim_{x \rightarrow \infty} \left[1 - \frac{3}{x+2}\right] = 1. \quad (4.29)$$

Pre prvú deriváciu funkcie  $f(x)$ ,  $x \in \mathbb{R} - \{-2\}$  platí:

$$f'(x) = \begin{cases} [-1 + 3(x+2)^{-1}]' = -3(x+2)^{-2} = \frac{-3}{(x+2)^2} < 0, & \text{pre } x \in (-\infty; -2) \cup (-2; 1), \\ [1 - 3(x+2)^{-1}]' = 3(x+2)^{-2} = \frac{3}{(x+2)^2} > 0, & \text{pre } x \in \langle 1; \infty \rangle. \end{cases}$$

T. j. funkcia  $f'$  nemá nulové body. Funkcia  $f'$  je spojitá na množine  $\mathbb{R} - \{-2, 1\}$ , na intervaloch  $(-\infty; -2)$ ,  $(-2; 1)$  je záporná a na intervale  $(1; \infty)$  je kladná. Z toho vyplýva, že je funkcia  $f$  klesajúca na intervaloch  $(-\infty; -2)$  a  $(-2; 1)$  a rastúca na intervale  $\langle 1; \infty \rangle$ . To znamená, že v bode  $x_2 = 1$  má funkcia  $f$  lokálne minimum  $f(1) = 0$ .

$(-\infty; -2)$			$(-2; 1)$			$(1; \infty)$		
-2 ... bod nespojitosti						1 ... nulový bod		
-	záporná $f(x) < 0$	-	+	kladná $f(x) > 0$	+	-	záporná $f(x) < 0$	-
1 ... lokálne minimum								
↘	klesá $f'(x) < 0$	↘	↘	klesá $f'(x) < 0$	↘	↗	rastie $f'(x) > 0$	↗
1 ... inflexný bod								
∩	konkávna $f''(x) < 0$	∩	∪	konvexná $f''(x) > 0$	∪	∩	konkávna $f''(x) < 0$	∩

Tabuľka 4.3.6: Niektoré dôležité hodnoty funkcie  $f(x) = \frac{|x-1|}{x+2}$  z príkladu 4.3.45 a).

Pre druhú deriváciu funkcie  $f(x)$ ,  $x \in \mathbb{R} - \{-2, 1\}$  platí:

$$f''(x) = \begin{cases} [-3(x+2)^{-2}]' = 6(x+2)^{-3} = \frac{6}{(x+2)^3}, & \text{pre } x \in (-\infty; -2) \cup (-2; 1), \\ [3(x+2)^{-2}]' = -6(x+2)^{-3} = \frac{-6}{(x+2)^3}, & \text{pre } x \in \langle 1; \infty \rangle. \end{cases}$$

Funkcia  $f''$  je spojitá pre všetky  $x \neq -2$ ,  $x \neq 1$  a nemá nulové body. Na intervale  $(-\infty; -2)$  je záporná, na intervale  $(-2; 1)$  je kladná a na intervale  $(1; \infty)$  je záporná. To znamená, že funkcia  $f$  je konkávna na intervaloch  $(-\infty; -2)$ ,  $\langle 1; \infty \rangle$  a konvexná na intervale  $\langle -2; 1 \rangle$ . Z toho vyplýva, že funkcia  $f$  má jeden inflexný bod  $x_3 = 1$  (tabuľka 4.3.6).

Pre asymptotu so smernicou  $y = kx + q$  na základe vety 3.2.14 a vzťahov (4.29) platí:

$$k_{1,2} = \lim_{x \rightarrow \pm\infty} \frac{f(x)}{x} = \lim_{x \rightarrow \pm\infty} f(x) \cdot \lim_{x \rightarrow \pm\infty} \frac{1}{x} = \pm 1 \cdot 0 = 0,$$

$$q_1 = \lim_{x \rightarrow \infty} [f(x) - k_1 x] = \lim_{x \rightarrow \infty} f(x) = 1, \quad q_2 = \lim_{x \rightarrow -\infty} [f(x) - k_2 x] = \lim_{x \rightarrow -\infty} f(x) = -1.$$

Takže asymptoty so smernicou sú dve priamky  $y = 1$  a  $y = -1$  (obrázok 4.3.38).

b) Funkcia  $f$  je definovaná pre všetky  $x \in R - \{2\}$ , t. j.  $D(f) = (-\infty; 2) \cup (2; \infty)$ . Môžeme ju vyjadriť v tvare

$$f(x) = \begin{cases} -\frac{x-1}{x-2} = -\frac{x-2+1}{x-2} = -1 - \frac{1}{x-2}, & \text{pre } x \in (-\infty; 1), \\ \frac{x-1}{x-2} = \frac{x-2+1}{x-2} = 1 + \frac{1}{x-2}, & \text{pre } x \in (1; 2) \cup (2; \infty). \end{cases}$$

Funkcia  $f$  nie je periodická, nie je párna, ani nepárna.

Funkcia  $f$  je spojitá na  $D(f)$ . Pre jej jednostranné limity v bode  $x_1 = 2$  platí:

$$\lim_{x \rightarrow 2^-} f(x) = \frac{|x-1|}{x-2} = -\infty, \quad \lim_{x \rightarrow 2^+} f(x) = \frac{|x-1|}{x-2} = \infty.$$

To znamená, že sa funkcia  $f$  v bode  $x_1 = 2$  nedá dodefinovať tak, aby bola spojitá. Ďalej z toho vyplýva, že asymptota bez smernice je určená rovnicou  $x = 2$ .

Funkcia  $f$  má jeden nulový bod  $x_2 = 1$ , t. j.  $f(1) = 0$ . Na intervaloch  $(-\infty; 1)$ ,  $(1; 2)$  je funkcia  $f$  záporná a na intervale  $(2; \infty)$  je kladná.

Pre nevlastné limity v bodoch  $\pm\infty$  platí:

$$\lim_{x \rightarrow -\infty} f(x) = \lim_{x \rightarrow -\infty} \left[-1 - \frac{1}{x+2}\right] = -1, \quad \lim_{x \rightarrow \infty} f(x) = \lim_{x \rightarrow \infty} \left[1 + \frac{1}{x+2}\right] = 1. \quad (4.30)$$

Pre prvú deriváciu funkcie  $f(x)$ ,  $x \in R - \{2\}$  platí:

$$f'(x) = \begin{cases} [-1 - (x-2)^{-1}]' = (x-2)^{-2} = \frac{1}{(x-2)^2} > 0, & \text{pre } x \in (-\infty; 1), \\ [1 + (x-2)^{-1}]' = -(x-2)^{-2} = \frac{-1}{(x-2)^2} < 0, & \text{pre } x \in (1; 2) \cup (2; \infty). \end{cases}$$

T. j. funkcia  $f'$  nemá nulové body. Funkcia  $f'$  je spojitá na množine  $R - \{1, 2\}$ , na intervale  $(-\infty; 1)$  je kladná a na intervaloch  $(1; 2)$ ,  $(2; \infty)$  je záporná. Z toho vyplýva, že funkcia  $f$  je rastúca na intervale  $(-\infty; 1)$  a klesajúca na intervaloch  $(1; 2)$  a  $(2; \infty)$ . To znamená, že v bode  $x_2 = 1$  má funkcia  $f$  lokálne maximum  $f(1) = 0$ .

$(-\infty; 1)$		$(1; 2)$		$(2; \infty)$	
1 ... nulový bod			2 ... bod nespojitosti		
-	záporná $f(x) < 0$	-	-	záporná $f(x) < 0$	+ kladná $f(x) > 0$
1 ... lokálne maximum					
$\nearrow$	rastie $f'(x) > 0$	$\nearrow$	$\searrow$	klesá $f'(x) < 0$	$\searrow$ klesá $f'(x) < 0$
1 ... inflexný bod					
$\cup$	konvexná $f''(x) > 0$	$\cup$	$\cap$	konkávna $f''(x) < 0$	$\cap$ $\cup$ konvexná $f''(x) > 0$

Tabuľka 4.3.7: Niektoré dôležité hodnoty funkcie  $f(x) = \frac{|x-1|}{x-2}$  z príkladu 4.3.45 b).

Pre druhú deriváciu funkcie  $f(x)$ ,  $x \in R - \{2\}$  platí:

$$f''(x) = \begin{cases} [(x-2)^{-2}]' = -2(x-2)^{-3} = \frac{-2}{(x-2)^3}, & \text{pre } x \in (-\infty; 1), \\ [-(x-2)^{-2}]' = 2(x-2)^{-3} = \frac{2}{(x-2)^3}, & \text{pre } x \in (1; 2) \cup (2; \infty). \end{cases}$$

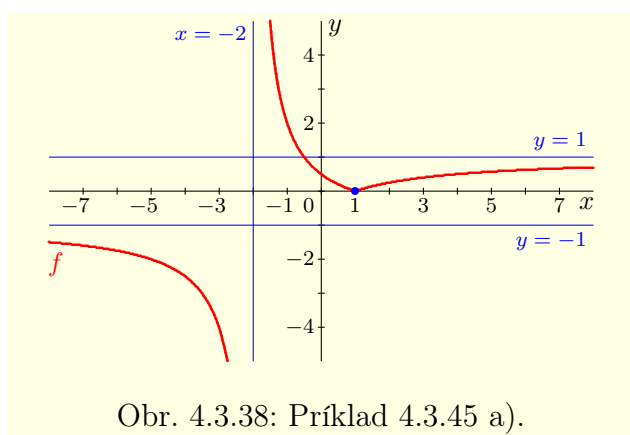
Funkcia  $f''$  je spojitá pre všetky  $x \neq 2$  a nemá nulové body. Na intervale  $(-\infty; 1)$  je kladná, na intervale  $(1; 2)$  je záporná a na intervale  $(2; \infty)$  je kladná. To znamená, že funkcia  $f$  je konvexná na intervaloch  $(-\infty; 1)$ ,  $(2; \infty)$  a konkávna na intervale  $(1; 2)$ . Z toho vyplýva, že funkcia  $f$  má jeden inflexný bod  $x_3 = 1$  (tabuľka 4.3.7).

Pre asymptotu so smernicou  $y = kx + q$  na základe vety 3.2.14 a vzťahov (4.30) platí:

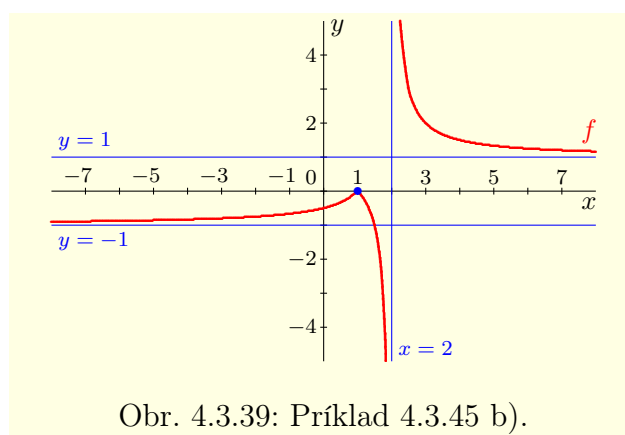
$$k_{1,2} = \lim_{x \rightarrow \pm\infty} \frac{f(x)}{x} = \lim_{x \rightarrow \pm\infty} f(x) \cdot \lim_{x \rightarrow \pm\infty} \frac{1}{x} = \pm 1 \cdot 0 = 0,$$

$$q_1 = \lim_{x \rightarrow \infty} [f(x) - k_1 x] = \lim_{x \rightarrow \infty} f(x) = 1, \quad q_2 = \lim_{x \rightarrow -\infty} [f(x) - k_2 x] = \lim_{x \rightarrow -\infty} f(x) = -1.$$

Takže asymptoty so smernicou sú dve priamky  $y = 1$  a  $y = -1$  (obrázok 4.3.39). ■



Obr. 4.3.38: Príklad 4.3.45 a).



Obr. 4.3.39: Príklad 4.3.45 b).

### 4.3.6 Derivácia funkcie zadanej parametricky, implicitne a derivácia funkcie zadanej v polárnych súradniciach

#### • Derivácia funkcie zadanej parametricky

Najprv sa budeme zaoberať deriváciou funkcie  $f$ , ktorá je parametricky zadaná vzťahmi  $x = \varphi(t)$ ,  $y = \psi(t)$ ,  $t \in J$ , kde  $J$  je reálny interval s krajnými bodmi  $\alpha$ ,  $\beta$ . O funkciách  $\varphi$  a  $\psi$  budeme predpokladať, že majú na intervale  $J$  spojité derivácie (jednostranné derivácie v krajných bodoch  $\alpha$ ,  $\beta$ ).

#### Veta 4.3.26.K4-veta37

Nech  $x = \varphi(t)$ ,  $y = \psi(t)$  sú funkcie definované na reálnom intervale  $J$ . Nech na  $J$  existujú derivácie  $\varphi'$ ,  $\psi'$ , pričom  $\varphi'$  je na  $J$  spojitá. Nech pre všetky  $t \in J$  platí  $\varphi'(t) \neq 0$ .

Potom systém rovníc  $x = \varphi(t)$ ,  $y = \psi(t)$ ,  $t \in J$  určuje funkciu

$$f: y = f(x) = \psi(\varphi^{-1}(x)), \quad x \in \varphi(J),$$

ktorá má na intervale  $\varphi(J)$  deriváciu

$$f'(x) = \frac{\psi'(t)}{\varphi'(t)}, \quad \text{pričom } t = \varphi^{-1}(x).$$

Ak je funkcia  $\psi'$  spojitá na  $J$ , potom je funkcia  $f'$  spojitá na intervale  $\varphi(J)$ .

#### Dôkaz.

Pretože je  $\varphi'$  spojitá a nenulová na intervale  $J$ , musí platiť pre všetky  $t \in J$  buď  $\varphi'(t) > 0$  alebo  $\varphi'(t) < 0$ . To znamená (veta 4.3.12), že je funkcia  $\varphi$  na  $J$  rastúca alebo klesajúca.

Z predchádzajúceho ďalej vyplýva, že  $\varphi$  je na intervale  $J$  spojitá (veta 4.1.4) a že  $\varphi(J)$  je interval (dôsledok 3.3.13.b). To znamená, že existuje inverzná funkcia  $\varphi^{-1}: \varphi(J) \rightarrow J$ ,  $t = \varphi^{-1}(x)$ , ktorá je spojitá (veta 3.3.16) a tiež rýdzo monotónna na intervale  $\varphi(J)$ .

Funkciu  $f$  môžeme potom vyjadriť v tvare zloženej funkcie  $f(x) = \psi(\varphi^{-1}(x))$ ,  $x \in \varphi(J)$ . Pre jej deriváciu na základe viet o derivácii zloženej a inverznej funkcie potom platí:

$$f'(x) = \psi(\varphi^{-1}(x))' = \psi'(\varphi^{-1}(x))[\varphi^{-1}(x)]' = \frac{\psi'(\varphi^{-1}(x))}{\varphi'(\varphi^{-1}(x))} = \frac{\psi'(t)}{\varphi'(t)}, \quad t = \varphi^{-1}(x).$$

Ak je funkcia  $\psi'$  spojitá na  $J$ , potom je zrejme aj funkcia  $f' = \frac{\psi'}{\varphi'}$  spojitá na  $\varphi(J)$ . ■

#### Poznámka 4.3.27.K4-poz57

Ak použijeme zápis pomocou diferenciálov, môžeme deriváciu funkcie  $f$  vyjadriť v tvare

$$f'(x) = \frac{df(x)}{dx} = \frac{dy}{dx} = \frac{dy}{dt} \cdot \frac{dt}{dx} = \frac{d\psi(t)}{dt} \cdot \frac{dt}{d\varphi(t)} = \psi'(t) \cdot \frac{1}{\varphi'(t)}.$$

#### Poznámka 4.3.28.K4-poz56

Ak platí  $\varphi'(t) \geq 0$ , resp.  $\varphi'(t) \leq 0$  pre  $t \in J$  a množina  $T = \{t \in J; \varphi'(t) = 0\}$  nulových bodov funkcie  $\varphi'$  je konečná, potom je funkcia  $\varphi$  tiež rýdzo monotónna (veta 4.3.12). Funkciu  $f$  môžeme opäť vyjadriť v tvare  $f: y = f(x) = \psi(\varphi^{-1}(x))$ ,  $x \in \varphi(J)$ .

Pre  $t_0 \in T$  potom pokiaľ existuje limita na pravej strane (aj nevlastná), platí:

$$f'(x_0) = \lim_{t \rightarrow t_0} \frac{\psi'(t)}{\varphi'(t)}, \quad \text{kde } x_0 = \varphi(t_0).$$

Ak spĺňa funkcia  $f: x = \varphi(t)$ ,  $y = \psi(t)$ ,  $t \in J$  predpoklady vety 4.3.26, potom môžeme jej deriváciu  $f'$  parametricky vyjadriť vzťahmi

$$f': \quad x = \varphi(t), \quad y = \chi(t) = \frac{\psi'(t)}{\varphi'(t)}, \quad t \in J.$$

Teoreticky vieme funkciu  $f'$  tiež vyjadriť v explicitnom tvare

$$f'(x) = \chi(t) \Big|_{t=\varphi^{-1}(x)} = \chi(\varphi^{-1}(x)), \quad \text{t. j. } f'(x) = \frac{\psi'(t)}{\varphi'(t)} \Big|_{t=\varphi^{-1}(x)} = \frac{\psi'(\varphi^{-1}(x))}{\varphi'(\varphi^{-1}(x))}.$$

Praktické vyjadrenie predchádzajúceho vzťahu je v mnohých prípadoch problematické, pretože závisí od explicitného vyjadrenia inverznej funkcie  $t = \varphi^{-1}(x)$ ,  $x \in \varphi(J)$ .

Ak existujú na  $J$  druhé derivácie  $\varphi''$ ,  $\psi''$ , potom môžeme vetu 4.3.26 aplikovať na funkciu  $f': x = \varphi(t)$ ,  $y = \chi(t)$ ,  $t \in J$  a dostaneme vyjadrenie druhej derivácie  $f''$

$$f''(x) = \frac{\chi'(t)}{\varphi'(t)} = \frac{\left[\frac{\psi'(t)}{\varphi'(t)}\right]'}{\varphi'(t)} = \frac{\frac{\psi''(t)\varphi'(t) - \psi'(t)\varphi''(t)}{[\varphi'(t)]^2}}{\varphi'(t)} = \frac{\psi''(t)\varphi'(t) - \psi'(t)\varphi''(t)}{[\varphi'(t)]^3},$$

kde  $t = \varphi^{-1}(x)$ . To znamená, že parametrické vyjadrenie druhej derivácie  $f''$  má tvar

$$f'': \quad x = \varphi(t), \quad y = \tau(t) = \frac{\chi'(t)}{\varphi'(t)} = \frac{\psi''(t)\varphi'(t) - \psi'(t)\varphi''(t)}{[\varphi'(t)]^3}, \quad t \in J. \quad (4.31)$$

Ak sú funkcie  $\varphi'$ ,  $\varphi''$ ,  $\psi'$ ,  $\psi''$  spojité na intervale  $J$ , potom je aj funkcia  $f''$  spojitá na intervale  $\varphi(J)$ . Pre tretiu deriváciu platí analogicky:

$$f'''(x) = \frac{\tau'(t)}{\varphi'(t)} = \frac{\left[\frac{\psi''(t)\varphi'(t) - \psi'(t)\varphi''(t)}{[\varphi'(t)]^3}\right]'}{\varphi'(t)}, \quad \text{kde } t = \varphi^{-1}(x), \quad x \in \varphi(J).$$

#### Príklad 4.3.46.K4-pr77

Nech  $f$  je určená parametricky rovnicami  $x = \sqrt{t^3}$ ,  $y = t^2$ ,  $t \in (0; \infty)$ . Určte  $f'$ ,  $f''$ ,  $f'''$ .

#### Riešenie.

Pre derivácie funkcií  $x = \varphi(t)$ ,  $y = \psi(t)$  na intervale  $(0; \infty)$  platí:

$$\varphi'(t) = \left[\sqrt{t^3}\right]' = \left[t^{\frac{3}{2}}\right]' = \frac{3t^{\frac{1}{2}}}{2} = \frac{3\sqrt{t}}{2} > 0, \quad \psi'(t) = [t^2]' = 2t > 0.$$

Funkcia  $\varphi'$  je na intervale  $(0; \infty)$  spojitá a predpoklady vety 4.3.26 sú splnené. Derivácia funkcie  $f$  je potom určená vzťahmi

$$f': x = \sqrt{t^3}, \quad y = \chi(t) = \frac{\psi'(t)}{\varphi'(t)} = \frac{2t}{\frac{3\sqrt{t}}{2}} = \frac{4\sqrt{t}}{3}, \quad t \in (0; \infty).$$

Keďže  $\chi'(t) = \left[\frac{4\sqrt{t}}{3}\right]' = \frac{4\left[\frac{t^{\frac{1}{2}}\right]'}{3} = \frac{2t^{-\frac{1}{2}}}{3} = \frac{2}{3\sqrt{t}}$  pre  $t \in (0; \infty)$ , potom pre  $f''$  platí:

$$f'': x = \sqrt{t^3}, \quad y = \tau(t) = \frac{\chi'(t)}{\varphi'(t)} = \frac{\frac{2}{3\sqrt{t}}}{\frac{3\sqrt{t}}{2}} = \frac{4}{9t}, \quad t \in (0; \infty).$$

Analogicky zo vzťahu  $\tau'(t) = \left[\frac{4}{9t}\right]' = \frac{4\left[t^{-1}\right]'}{9} = \frac{-4t^{-2}}{9} = \frac{-4}{9t^2}$  pre  $t \in (0; \infty)$  vyplýva:

$$f''': x = \sqrt{t^3}, \quad y = \frac{\tau'(t)}{\varphi'(t)} = \frac{\frac{-4}{9t^2}}{\frac{3\sqrt{t}}{2}} = \frac{-8}{27t^2\sqrt{t}} = \frac{-8}{27\sqrt{t^5}}, \quad t \in (0; \infty). \blacksquare$$

### • Extrémy funkcie zadanej parametricky

Z vety 4.3.26 a z nutnej podmienky existencie lokálneho extrému funkcie (veta 4.3.14) vyplýva, že ak má funkcia  $f: x = \varphi(t), y = \psi(t), t \in J$  v bode  $t_0 \in J$  lokálny extrém, potom pre bod  $x_0 = \varphi(t_0)$  musí platiť

$$f'(x_0) = \frac{\psi'(t_0)}{\varphi'(t_0)} = 0, \quad \text{t. j. } \psi'(t_0) = 0, \varphi'(t_0) \neq 0. \quad (4.32)$$

Z vety 4.3.16 vyplýva, že funkcia  $f$  má v bode  $x_0$  lokálny extrém, ak  $f'(x_0) = 0$  a existuje konečná druhá derivácia  $f''(x_0) \neq 0$ , t. j. ak  $\psi'(t_0) = 0, \varphi'(t_0) \neq 0$  a platí:

$$f''(x_0) = \frac{\psi''(t_0)\varphi'(t_0) - \psi'(t_0)\varphi''(t_0)}{[\varphi'(t_0)]^3} = \frac{\psi''(t_0)\varphi'(t_0)}{[\varphi'(t_0)]^3} = \frac{\psi''(t_0)}{[\varphi'(t_0)]^2} \neq 0.$$

Z nerovnosti  $[\varphi'(t_0)]^2 > 0$  potom vyplýva, že funkcia  $f: x = \varphi(t), y = \psi(t), t \in J$  má v bode  $t_0 \in J$  **lokálne maximum** [resp. **lokálne minimum**], ak platí:

$$\psi'(t_0) = 0, \varphi'(t_0) \neq 0, \psi''(t_0) < 0 \quad [\text{resp. } \psi'(t_0) = 0, \varphi'(t_0) \neq 0, \psi''(t_0) > 0]. \quad (4.33)$$

### Príklad 4.3.47.K4-pr83

Nájdite extrémy parametricky zadanej funkcie  $f: x = a \cos t, y = b \sin t, t \in I$ , pričom  $a > 0, b > 0$  a  $I$  je definičný interval.

#### Riešenie.

Ak  $I$  je ľubovoľný interval, ktorého dĺžka je väčšia ako  $2\pi$ , potom  $f$  predstavuje elipsu, t. j. uzavretú krivku (viď obr 4.3.41). Nech  $f: x = a \cos t, y = b \sin t, t \in \langle 0; 2\pi \rangle$ .

Zo vzťahu (4.32) vyplýva, že extrémy môžu nastať iba v bodoch  $t$ , pre ktoré platí:

$$\psi'(t) = [b \sin t]' = b \cos t = 0, \quad \varphi'(t) = [a \cos t]' = -a \sin t \neq 0.$$

Rovnica  $\psi'(t) = b \cos t = 0$  má na intervale  $\langle 0; 2\pi \rangle$  dve riešenia  $t_1 = \frac{\pi}{2}, t_2 = \frac{3\pi}{2}$ . V oboch z týchto bodov  $t_1, t_2$  nastávajú extrémy, pretože platí:

$$\varphi'(t_1) = -a \sin \frac{\pi}{2} = -a \neq 0, \quad \varphi'(t_2) = -a \sin \frac{3\pi}{2} = a \neq 0.$$

Pre druhú deriváciu  $\psi''(t) = [b \cos t]' = -b \sin t$  platí:

$$\psi''(t_1) = -b \sin \frac{\pi}{2} = -b < 0, \quad \psi''(t_2) = -b \sin \frac{3\pi}{2} = b > 0.$$

To znamená, že v bode  $t_1 = \frac{\pi}{2}$  nastáva maximum, pre ktoré platí  $x_1 = \varphi(t_1) = 0, y_1 = \psi(t_1) = b$  a v bode  $t_2 = \frac{3\pi}{2}$  nastáva minimum, pre ktoré platí  $x_2 = 0, y_2 = -b$ .

Krivku  $f$  môžeme rozdeliť na dve funkcie  $f_1, f_2$ , pričom  $f_1: t \in \langle 0; \pi \rangle, f_2: t \in \langle \pi; 2\pi \rangle$ . Pre bod  $t_0 = 0$  platí<sup>32</sup>  $x_0 = a, y_0 = 0$  a pre bod  $t_3 = \pi$  platí  $x_3 = -a, y_3 = 0$ . Funkcia  $f_1$  má jedno globálne maximum  $f_1(0) = b$  a dve globálne minimá  $f_1(\pm a) = 0$ . Funkcia  $f_2$  má globálne minimum  $f_2(0) = -b$  a dve globálne maximá  $f_2(\pm a) = 0$ . ■

<sup>32</sup>Krivka  $f$  je uzavretá a karteziánske súradnice zodpovedajúce bodom  $t = 0$  a  $t = 2\pi$  sú rovnaké.

**Príklad 4.3.48.K4-pr84**

Vyšetrite priebeh parametricky zadanej funkcie  $f: x = t^3 + 3t + 1, y = t^3 - 3t + 1, t \in R$ .

**Riešenie.**

Funkcie  $x: \varphi(t) = t^3 + 3t + 1, t \in R$  a  $y: \psi(t) = t^3 - 3t + 1, t \in R$  sú reálne polynómy tretieho stupňa definované na množine  $R = (-\infty; \infty)$ . Sú spojité a majú derivácie všetkých rádov podľa premennej  $t$  na svojom definičnom obore, pre ktoré platí:

$$\varphi'(t) = 3t^2 + 3, \quad \varphi''(t) = 6t, \quad \varphi'''(t) = 6, \quad \varphi^{(k)}(t) = 0, \quad \text{pre } k = 4, 5, 6, \dots,$$

$$\psi'(t) = 3t^2 - 3, \quad \psi''(t) = 6t, \quad \psi'''(t) = 6, \quad \psi^{(k)}(t) = 0, \quad \text{pre } k = 4, 5, 6, \dots$$

Pre obory hodnôt funkcií  $\varphi, \psi$  platí  $H(\varphi) = H(\psi) = R$ , pretože

$$\lim_{t \rightarrow \pm\infty} \varphi(t) = \lim_{t \rightarrow \pm\infty} \psi(t) = \lim_{t \rightarrow \pm\infty} [t(t^2 \pm 3) + 1] = \infty \cdot (\pm\infty) + 1 = \pm\infty. \quad (4.34)$$

Pretože pre všetky  $t \in R$  platí  $\varphi'(t) = 3t^2 + 3 \geq 3 > 0$ , je funkcia  $\varphi(t)$  na celom svojom definičnom obore rastúca. To znamená, že je prostá a existuje k nej inverzná funkcia  $\varphi^{-1}(x)$ , ktorá je na základe vety 3.1.6 tiež rastúca. Navyše je spojitá a má derivácie všetkých rádov (veta 4.1.6). Z toho vyplýva existencia funkcie  $f(x) = \psi[\varphi^{-1}(x)]$ , ktorá je spojitá na celom svojom definičnom obore  $D(f) = H(\varphi) = (-\infty; \infty)$ . Pre jej obor hodnôt platí  $H(f) = H(\psi) = (-\infty; \infty)$ . Zo vzťahu (4.34) vyplýva:

$$\lim_{x \rightarrow -\infty} f(x) = -\infty \quad \text{pre } t \rightarrow -\infty, \quad \lim_{x \rightarrow \infty} f(x) = \infty \quad \text{pre } t \rightarrow \infty.$$

Aby sme mali na začiatok aspoň ilustračnú predstavu o funkcii  $f$ , sú v nasledujúcej tabuľke uvedené niektoré hodnoty premenných  $x, y$  v závislosti od parametra  $t$ .

$t$	-2	-1,5	-1	-0,5	0	0,5	1	1,5	2
$x = \varphi(t)$	-13	-6,875	-3	-0,625	1	2,625	5	8,875	15
$y = \psi(t)$	-1	2,125	3	2,375	1	-0,375	-1	-0,125	3
	$f(-3) = 3$			$f(1) = 1$			$f(5) = -1$		

Rovnica  $y: \psi(t) = t^3 - 3t + 1 = 0$  má tri reálne riešenia<sup>33</sup>

$$t_1 = 2 \cos \frac{2\pi}{9} \approx 1,53208889, \quad t_{2,3} = -\cos \frac{2\pi}{9} \pm \sqrt{3} \sin \frac{2\pi}{9} \approx \begin{cases} -1,87938524, \\ 0,34729636. \end{cases}$$

To znamená, že funkcia  $f$  má tri nulové body<sup>34</sup>

$$x_2 = \varphi(t_2) = -11,27631145, \quad x_3 = \varphi(t_3) = 2,08377813, \quad x_1 = \varphi(t_1) = 9,19253332.$$

Z predchádzajúcej tabuľky vieme, že  $f(-13) = -1 < 0$ ,  $f(1) = 1 > 0$ ,  $f(5) = -1 < 0$ ,  $f(15) = 3 > 0$ . To znamená, že funkcia  $f$  je na intervale  $(-\infty; x_2)$  záporná. Na intervale  $(x_2; x_3)$  je kladná, na intervale  $(x_3; x_1)$  je záporná a na intervale  $(x_1; \infty)$  je kladná.

Rovnica  $x: \varphi(t) = t^3 + 3t + 1 = 0$  iba jedno reálne riešenie<sup>35</sup>

$$t_4 = -\sqrt[3]{\frac{2}{\sqrt{5}-1}} + \sqrt[3]{\frac{\sqrt{5}-1}{2}} \approx -0,32218535, \quad \text{t. j. } f(0) = \psi(t_4) = 1,93311213.$$

Z predchádzajúcich úvah vyplýva, že funkcia  $f$  nie je párna, nepárna a ani periodická.

Prvá derivácia funkcie  $f$  je parametricky určená systémom

$$f': x = \varphi(t) = t^3 + 3t + 1, \quad y = \chi(t) = \frac{\psi'(t)}{\varphi'(t)} = \frac{3t^2-3}{3t^2+3} = \frac{t^2-1}{t^2+1}, \quad t \in R.$$

Druhá derivácia funkcie  $f$  je parametricky určená systémom

$$f'': x = \varphi(t) = t^3 + 3t + 1, \quad y = \tau(t) = \frac{\chi'(t)}{\varphi'(t)} = \frac{2t(t^2+1)-2t(t^2-1)}{(t^2+1)^2 \cdot (3t^2+3)} = \frac{4t}{3(t^2+1)^3}, \quad t \in R.$$

<sup>33</sup>Na vyjadrenie jednotlivých koreňov môžeme použiť známe Cardanove vzorce [32] alebo niektorú z numerických metód.

<sup>34</sup>Hodnoty nulových bodov sú vypočítané s presnosťou na osem desatinných miest.

<sup>35</sup>Zostávajúce dve komplexne združené riešenia neuvádzame.

$(-\infty; x_2)$	$(x_2; x_5)$	$(x_5; x_7)$	$(x_7; x_3)$	$(x_3; x_6)$	$(x_6; x_1)$	$(x_1; \infty)$
$x_2 = -11,27631145$ nulový bod		$x_3 = 2,08377813$ nulový bod			$x_1 = 9,19253332$ nulový bod	
– záporná –	+	kladná	+	–	záporná	– + kladná +
lokálne maximum ... $x_5 = -3$				$x_6 = 5$ ... lokálne minimum		
$\nearrow$	rastie	$\nearrow$	$\searrow$	klesá	$\searrow$	$\nearrow$ rastie $\nearrow$
$x_7 = 1$ ... inflexný bod						
$\cap$	konkávna		$\cap$	$\cup$	konvexná $\cup$	

Tabuľka 4.3.8: Niektoré dôležité hodnoty funkcie  $f$  z príkladu 4.3.48.

Rovnica  $\chi(t) = 0$  je ekvivalentná rovnici  $t^2 - 1 = 0$  a má dve reálne riešenia  $t_{5,6} = \pm 1$ . To znamená, že funkcia  $f$  má dva stacionárne body  $x_5 = \varphi(-1) = -3$ ,  $x_6 = \varphi(1) = 5$ . Keďže je funkcia  $\chi(t)$ , t. j.  $f'(x)$ , kladná pre  $t < t_5$  a pre  $t > t_6$  a záporná pre  $t_5 < t < t_6$ , je funkcia  $f$  rastúca na intervale  $(-\infty; x_5)$ , klesajúca na intervale  $(x_5; x_6)$  a rastúca na intervale  $(x_6; \infty)$ . Z toho vyplýva, že funkcia  $f$  má v bode  $x_5 = -3$  lokálne maximum a v bode  $x_6 = 5$  lokálne minimum.<sup>36</sup>

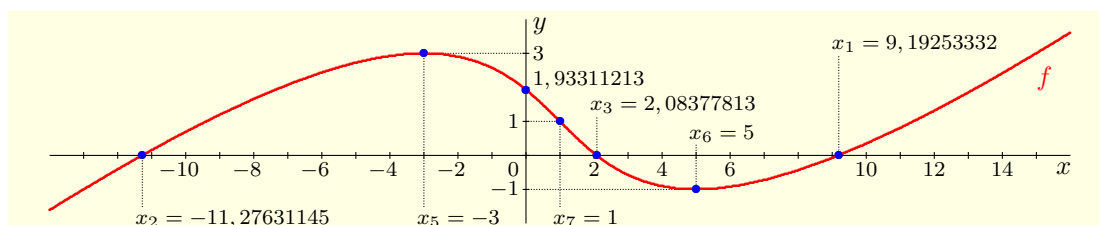
Rovnica  $\tau(t) = 0$  má jediné riešenie  $t_7 = 0$ , ktoré zodpovedá  $x_7 = 1$ . Pre  $t < t_7$ , t. j.  $x < x_7$  platí  $f''(x) = \tau(t) < 0$  a pre  $t > t_7$ , t. j.  $x > x_7$  platí  $f''(x) = \tau(t) > 0$ . To znamená, že na intervale  $(-\infty; x_7)$  je funkcia  $f$  konkávna, na intervale  $(x_7; \infty)$  je konvexná a v bode  $x_7 = 1$  má inflexný bod. Asymptotu bez smernice funkcia  $f$  nemá. Asymptotu so smernicou  $y = kx + q$  určíme na základe vety 3.2.14. Pre koeficient  $k$ , t. j. smernicu asymptoty, platí:

$$k = \lim_{x \rightarrow \pm\infty} \frac{f(x)}{x} = \lim_{t \rightarrow \pm\infty} \frac{\psi(t)}{\varphi(t)} = \lim_{t \rightarrow \pm\infty} \frac{t^3 + 3t + 1}{t^3 - 3t + 1} = \lim_{t \rightarrow \pm\infty} \frac{1 + \frac{3}{t^2} + \frac{1}{t^3}}{1 - \frac{3}{t^2} + \frac{1}{t^3}} = 1.$$

Pre koeficient  $q$  platí  $q = \lim_{x \rightarrow \pm\infty} [f(x) - kx] = \lim_{t \rightarrow \pm\infty} [\psi(t) - k\varphi(t)]$ , t. j.

$$q = \lim_{t \rightarrow \pm\infty} [\psi(t) - \varphi(t)] = \lim_{t \rightarrow \pm\infty} [(t^3 - 3t + 1) - (t^3 + 3t + 1)] = \lim_{t \rightarrow \pm\infty} [-6t] = \mp\infty.$$

To znamená, že funkcia  $f$  nemá taktiež asymptotu so smernicou. Prehľad najdôležitejších vlastností funkcie  $f$  je uvedený v tabuľke 4.3.8 a jej graf je na obrázku 4.3.40. ■

Obr. 4.3.40: Graf funkcie  $f$  z príkladu 4.3.48.

<sup>36</sup>Lokálne extrémny môžeme určiť taktiež na základe vzťahov (4.33) alebo na základe druhej derivácie. V prvom prípade platí  $\varphi'(t_5) = \varphi'(t_6) = 12 \neq 0$ ,  $\psi''(t_5) = 6t_5 = -6 < 0$ ,  $\psi''(t_6) = 6t_6 = 6 > 0$  a v druhom prípade platí  $f''(x_5) = \tau(t_5) = -\frac{1}{6} < 0$ ,  $f''(x_6) = \tau(t_6) = \frac{1}{6} > 0$ .

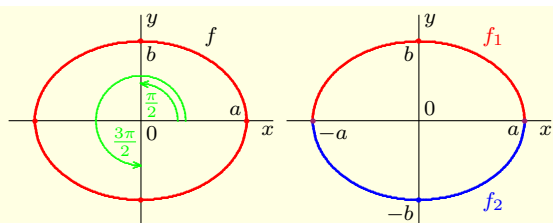


### • Derivácia funkcie zadanej implicitne

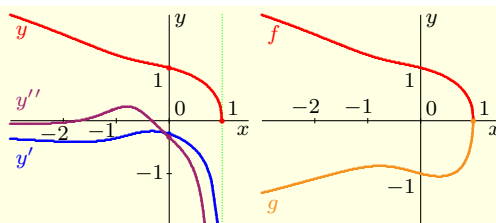
Nech je funkcia  $f$  definovaná implicitne rovnicou  $F(x, y) = 0$ , kde  $y = f(x)$ . Uvedieme vzťah pre výpočet derivácie  $f'(x)$ . Tento vzťah vyplýva z vlastností derivácie funkcie s dvomi premennými a preto ho uvádzame bez dôkazu.

Ak budeme vo výraze  $F(x, y)$  považovať premennú  $y$  za konštantu, potom sa  $F$  redukuje na funkciu jednej premennej  $x$ , ktorú označíme  $F_x(x, y)$ . Analogicky dostaneme funkciu  $F_y(x, y)$  premennej  $y$  v prípade, že  $x$  považujeme za konštantu. Ak existujú derivácie  $F'_x(x, y) = \frac{dF_x(x, y)}{dx}$ ,  $F'_y(x, y) = \frac{dF_y(x, y)}{dy} \neq 0$ , potom môžeme deriváciu  $f'(x)$  vyjadriť vzťahom

$$y' = \frac{dy}{dx} = -\frac{F'_x(x, y)}{F'_y(x, y)} = -\frac{\frac{dF_x(x, y)}{dx}}{\frac{dF_y(x, y)}{dy}} = -\frac{\frac{dF_x(x, y)}{dx}}{\frac{dF_y(x, y)}{dy}}. \quad (4.35)$$



Obr. 4.3.41: Parametricky definované funkcie z príkladu 4.3.47.



Obr. 4.3.42: Implicitne definované funkcie z príkladu 4.3.49.

### Poznámka 4.3.29.K4-poz59

Výrazy  $F'_x(x, y)$ , resp.  $F'_y(x, y)$  sa nazývajú **parciálne derivácie** funkcie  $F$  podľa premennej  $x$ , resp.  $y$  a označujú sa symbolmi  $\frac{\partial F(x, y)}{\partial x}$ , resp.  $\frac{\partial F(x, y)}{\partial y}$ .

Reálna funkcia  $F(x, y)$  má dve nezávislé premenné  $x, y$ , pre ktoré platí vzťah  $y = f(x)$ . Na základe pravidiel pre derivovanie funkcií viac premenných<sup>37</sup> platí:

$$\frac{\partial F(x, y)}{\partial x} = \frac{\partial F(x, y)}{\partial x} \frac{dx}{dx} + \frac{\partial F(x, y)}{\partial y} \frac{dy}{dx} = \frac{\partial F(x, y)}{\partial x} + \frac{\partial F(x, y)}{\partial y} y'(x) = 0.$$

### Poznámka 4.3.30.K4-poz58

Funkciu  $F(x, y) = F(x, f(x))$  môžeme považovať za zloženú funkciu premennej  $x$ , pričom jej vnútornú zložku  $y = f(x)$  derivujeme ako funkciu premennej  $x$ . Ak existuje derivácia  $F'(x, f(x)) = F'(x, y)$ , potom deriváciu implicitnej funkcie  $y' = f'(x)$  vyjadríme z rovnice  $F'(x, y) = 0$  (viď príklad 4.3.49) ako jej riešenie pomocou premenných  $x, y = f(x)$ .

Druhú deriváciu  $y''$  vyjadríme analogicky pomocou  $y', y$  a  $x$  ako riešenie implicitnej rovnice  $F''(x, y) = 0$ . Takto môžeme pokračovať aj pre ostatné derivácie vyšších rádov.

Ak chceme vyjadriť deriváciu  $f'(x_0)$  v konkrétnom bode  $x_0 \in D(f)$ , musíme najprv určiť hodnotu  $y_0 = f(x_0)$  ako riešenie implicitnej rovnice  $F(x_0, y_0) = 0$ .

### Príklad 4.3.49.K4-pr78

Vypočítajte prvú a druhú deriváciu funkcie  $y = f(x)$ , ktorá je implicitne určená vzťahom  $F(x, y) = x^3 + x^2y^2 + xy^3 + y^4 - 1 = 0$ ,  $y \geq 0$ . Určte ich hodnoty v bodoch 0 a 1.

<sup>37</sup>S reálnymi funkciami viac premenných sa v tejto časti zaoberať nebudeme.

**Riešenie.**

Ak použijeme vzťah (4.35), potom pre prvú deriváciu  $f'$  platí:

$$y' = -\frac{F'_x(x,y)}{F'_y(x,y)} = -\frac{3x^2+2xy^2+y^3}{2x^2y+3xy^2+4y^3}. \quad (4.36)$$

Ak derivujeme rovnicu  $F(x, y) = 0$  v zmysle poznámky 4.3.30, potom platí:

$$\begin{aligned} F'(x, y) &= 3x^2 + (2xy^2 + 2x^2yy') + (y^3 + 3xy^2y') + 4y^3y' - 0 = \\ &= 3x^2 + 2xy^2 + y^3 + (2x^2y + 3xy^2 + 4y^3)y' = 0. \end{aligned} \quad (4.37)$$

Po vyjadrení  $y'$  dostávame vzťah (4.36). Pre druhú deriváciu platí:

$$\begin{aligned} F''(x, y) &= [3x^2 + 2xy^2 + y^3 + 2x^2yy' + 3xy^2y' + 4y^3y']' = 6x + (2y^2 + 4xyy') + 3y^2y' + \\ &+ (4xyy' + 2x^2y'y' + 2x^2yy'') + (3y^2y' + 6xyy'y' + 3xy^2y'') + (12y^2y'y' + 4y^3y'') = \\ &= 6x + 2y^2 + [8xy + 6y^2]y' + [2x^2 + 6xy + 12y^2](y')^2 + [2x^2y + 3xy^2 + 4y^3]y'' = 0. \end{aligned}$$

Aby sme mohli vypočítať hodnoty prvej derivácie  $f'(-1)$ ,  $f'(0)$ ,  $f'(1)$  a druhej derivácie  $f''(-1)$ ,  $f''(0)$ ,  $f''(1)$ , musíme najprv určiť hodnoty  $f(-1)$ ,  $f(0)$ ,  $f(1)$ .

Hodnotu  $f(0)$  vypočítame z rovnice  $F(0, y) = 0^3 + 0^2y^2 + 0y^3 + y^4 - 1 = y^4 - 1 = 0$ , t. j.  $y^4 = 1$ . Z posledného vzťahu vyplýva  $y^2 = 1$ , t. j.  $y = \pm 1$ . To znamená, že  $f(0) = 1$ . Po dosadení do vzťahu (4.37), prípadne do vzťahu (4.36), dostaneme

$$F'(0, y) = 3 \cdot 0^2 + 2 \cdot 0 \cdot 1^2 + 1^3[2 \cdot 0^2 \cdot 1 + 3 \cdot 0 \cdot 1^2 + 4 \cdot 1^3]y' = 1 + 4y' = 0, \quad \text{t. j. } f'(0) = -\frac{1}{4}.$$

Pre druhú deriváciu  $f''(0)$  potom platí:

$$F''(0, y) = 0 + 2 - [0 + 6]\frac{1}{4} + [0 + 0 + 12]\frac{1}{16} + [0 + 0 + 4]y'' = \frac{5}{4} + 4y'' = 0, \quad \text{t. j. } f''(0) = -\frac{5}{16}.$$

Hodnotu  $f(1)$  vypočítame analogicky ako v predchádzajúcom prípade z rovnice

$$F(1, y) = 1 + y^2 + y^3 + y^4 - 1 = y^2 + y^3 + y^4 = y^2(1 + y + y^2) = 0.$$

Keďže nemá rovnica  $1 + y + y^2 = 0$  reálne riešenie, musí platiť  $y^2 = 0$ , t. j.  $f(1) = 0$ .

Pre hodnotu  $f'(1)$  potom zo vzťahu (4.37) vyplýva:

$$F'(1, y) = 3 + 0 + 0 + [0 + 0 + 0]y' = 0, \quad \text{t. j. } 3 = 0.$$

Dostali sme spor. To znamená, že derivácie  $f'(1)$ ,  $f''(1)$  neexistujú. ■

**Poznámka 4.3.31.K4-poz60**

Vzťah  $F(x, y) = x^3 + x^2y^2 + xy^3 + y^4 - 1 = 0$ ,  $y \geq 0$  určuje funkciu  $y = f(x)$ . Grafy funkcií  $f$ ,  $f'$  a  $f''$  sú znázornené na obrázku 4.3.42 vľavo.

Ak vynecháme podmienku  $y \geq 0$ , potom rovnica  $F(x, y) = 0$  nevyjadruje funkciu, ale krivku (obr. 4.3.42 vpravo) zloženú z dvoch funkcií  $f: F(x, y) = 0, y \geq 0$ , resp.  $g: F(x, y) = 0, y \leq 0$ .

- **Extrémy funkcie zadanej implicitne**

Ak má funkcia  $y = f(x)$  v bode  $x_0 \in D(f)$  lokálny extrém a existuje jej derivácia  $f'(x_0)$ , potom na základe nutnej podmienky existencie lokálneho extrému platí  $f'(x_0) = 0$ . Špeciálne pre funkciu  $y = f(x)$  implicitne určenú rovnicou  $F(x, y) = 0$  platí:

$$F(x_0, y_0) = 0, \quad f'(x_0) = -\frac{F'_x(x_0, y_0)}{F'_y(x_0, y_0)} = 0, \quad \text{kde } y_0 = f(x_0).$$

Z toho vyplýva, že v bode  $x_0$ , v ktorom má funkcia  $f$  lokálny extrém, musí platiť:

$$F(x_0, y_0) = 0, \quad F'_x(x_0, y_0) = 0, \quad F'_y(x_0, y_0) \neq 0. \quad (4.38)$$

Pomocou vlastností funkcií viac premenných sa dá odvodiť aj postačujúca podmienka existencie lokálneho extrému implicitnej funkcie. Funkcia  $y = f(x)$  má v bode  $x_0$  **lokálne maximum** [resp. **lokálne minimum**], ak platí:

$$\frac{F''_{xx}(x_0, y_0)}{F'_y(x_0, y_0)} > 0 \quad \left[ \text{resp. } \frac{F''_{xx}(x_0, y_0)}{F'_y(x_0, y_0)} < 0 \right], \quad \text{kde } F''_{xx}(x, y) = \frac{d}{dx} \left[ \frac{dF_x(x, y)}{dx} \right].$$

**Príklad 4.3.50.K4-pr80**

Nájdite extrémym funkcie  $y = f(x)$  danej implicitne rovnicou  $F(x, y) = x^3 + y^3 - 3xy = 0$ .

**Riešenie.**

Krivka  $f$  sa nazýva Descartov list a z obrázku 4.3.43 je zrejmé, že nepredstavuje funkciu. Nájdeme jej lokálne extrémym. Zo vzťahu (4.38) vyplýva, že extrém môže nastať iba v bode  $[x; y]$ , ktorý spĺňa podmienky

$$F(x, y) = x^3 + y^3 - 3xy = 0, \quad F'_x(x, y) = 3x^2 - 3y = 0, \quad F'_y(x, y) = 3y^2 - 3x \neq 0.$$

Z druhej rovnice vyjadríme  $y = x^2$  a dosadíme do prvej rovnice. Potom platí:

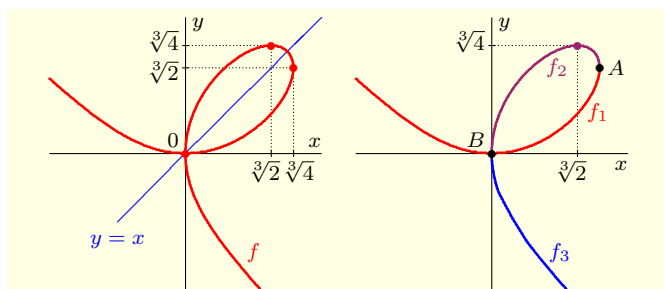
$$x^3 + (x^2)^3 - 3x \cdot x^2 = x^6 - 2x^3 = x^3(x^3 - 2) = 0, \quad \text{t. j. } x = 0, \quad \text{resp. } x = \sqrt[3]{2}.$$

Ak  $x = 0$ , potom z rovnice  $F(0, y) = y^3 = 0$  vyplýva  $y = 0$ . Túto hodnotu môžeme získať jednoduchšie zo vzťahu  $y = x^2$ . Lenže bod  $[0; 0]$  nevyhovuje podmienke  $F'_y(0, 0) \neq 0$ .

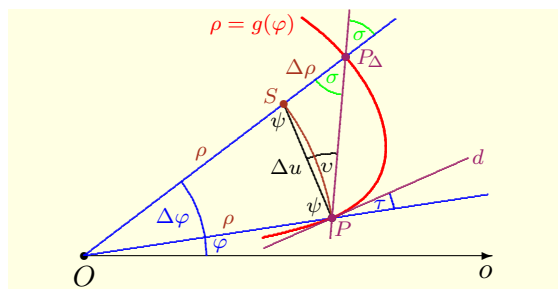
Ak  $x = \sqrt[3]{2}$ , potom platí  $y = x^2 = \sqrt[3]{4}$ . V tomto bode  $[x; y] = [\sqrt[3]{2}; \sqrt[3]{4}]$  nastáva lokálne maximum, pretože platí:

$$\frac{F''_{xx}(x, y)}{F''_{yy}(x, y)} = \frac{6x}{3y^2 - 3x} > 0, \quad \text{t. j. } \frac{F''_{xx}(\sqrt[3]{2}, \sqrt[3]{4})}{F''_{yy}(\sqrt[3]{2}, \sqrt[3]{4})} = \frac{6\sqrt[3]{2}}{3\sqrt[3]{16} - 3\sqrt[3]{2}} > 0.$$

Krivku  $f$  môžeme rozdeliť napríklad na tri funkcie  $f_1$ ,  $f_2$  a  $f_3$ , ktorých grafy sú oddelené bodmi  $A = [\sqrt[3]{4}; \sqrt[3]{2}]$  a  $B = [0; 0]$  (viď obr. 4.3.43 vpravo). Funkcia  $f_1$  nadobúda globálne minimum  $f_1(0) = 0$ , lokálne maximum  $f_1(\sqrt[3]{4}) = \sqrt[3]{2}$ . Funkcia  $f_2$  nadobúda globálne minimum  $f_2(0) = 0$ , globálne maximum  $f_2(\sqrt[3]{2}) = \sqrt[3]{4}$ . Funkcia  $f_3$  nadobúda globálne maximum  $f_3(0) = 0$ . ■



Obr. 4.3.43: Descartov list  $f$  a funkcie  $f_1$ ,  $f_2$ ,  $f_3$  z príkladu 4.3.50.



Obr. 4.3.44: Derivácia funkcie v polárnych súradniciach.

- **Derivácia funkcie v polárnych súradniciach**

Predpokladajme, že je funkcia  $f: y = f(x)$  definovaná v polárnom súradnicovom systéme vzťahom  $f: \rho = g(\varphi)$ ,  $\varphi \in J$ . Pre jej deriváciu v polárnom systéme platí:

$$g'(\varphi) = \frac{dg(\varphi)}{d\varphi} = \lim_{\Delta\varphi \rightarrow 0} \frac{g(\varphi + \Delta\varphi) - g(\varphi)}{\Delta\varphi}.$$

Ak použijeme vzťahy (3.12) pre prevod súradníc do karteziánskeho systému, potom môžeme funkciu  $f$  považovať za zadanú parametricky vzťahmi

$$f: x = \rho \cos \varphi = g(\varphi) \cos \varphi, \quad y = \rho \sin \varphi = g(\varphi) \sin \varphi, \quad \varphi \in \langle 0; 2\pi \rangle.$$

Ak je funkcia  $g(\varphi)$  spojitá, existuje spojitá derivácia  $g'(\varphi)$  a platí  $[g(\varphi) \cos(\varphi)]' \neq 0$ , potom sú splnené predpoklady vety 4.3.26 a pre parametrické vyjadrenie funkcie  $f'$  platí:

$$f': x = g(\varphi) \cos \varphi, \quad y = \frac{[g(\varphi) \sin \varphi]'}{[g(\varphi) \cos \varphi]'} = \frac{g'(\varphi) \sin \varphi + g(\varphi) \cos \varphi}{g'(\varphi) \cos \varphi - g(\varphi) \sin \varphi}, \quad \varphi \in \langle 0; 2\pi \rangle. \quad (4.39)$$

**Poznámka 4.3.32.K4-poz61**

Graficky zodpovedá derivácia polárne definovanej funkcie  $f: \rho = g(\varphi)$  v bode  $\varphi$  dotyčnici ku grafu tejto funkcie v bode  $P = [\varphi; g(\varphi)]$ . Ak označíme  $\tau$  uhol, ktorý zvierajú dotyčnica  $d$  s polpriamkou  $OP$ , potom platí (obr. 4.3.44)

$$g'(\varphi) = \frac{dg(\varphi)}{d\varphi} = g(\varphi) \frac{1}{\operatorname{tg} \tau} = g(\varphi) \operatorname{ctg} \tau.$$

Označme  $\rho = g(\varphi)$ ,  $\Delta\rho = g(\varphi + \Delta\varphi) - g(\varphi)$ ,  $P_\Delta = [\varphi + \Delta\varphi; g(\varphi + \Delta\varphi)]$ , kde  $\Delta\varphi$  je uhol medzi polpriamkami  $OP_\Delta$  a  $OP$ . Označme  $\sigma$  uhol, ktorý zvierajú priamka  $PP_\Delta$  s polpriamkou  $OP_\Delta$ . Pre  $\Delta\varphi \rightarrow 0$  zrejme platí  $P_\Delta \rightarrow P$ , t. j.  $OP_\Delta \rightarrow OP$ ,  $PP_\Delta \rightarrow d$ ,  $\sigma \rightarrow \tau$ .

Trojuholník  $OPS$  je rovnoramenný s ramenami  $OS$ ,  $OP$ , jeho uhly priľahlé k základni sú  $\psi = \frac{\pi - \Delta\varphi}{2}$ . Na základe súčtového vzorca pre funkciu sínus (veta 3.1.8) platí:

$$\sin \psi = \sin \frac{\pi - \Delta\varphi}{2} = \sin \frac{\pi}{2} \cos \frac{\Delta\varphi}{2} - \cos \frac{\pi}{2} \sin \frac{\Delta\varphi}{2} = 1 \cdot \cos \frac{\Delta\varphi}{2} - 0 \cdot \sin \frac{\Delta\varphi}{2} = \cos \frac{\Delta\varphi}{2}.$$

Zo sínusovej vety v trojuholníku  $OPS$  vyplýva:

$$\frac{\Delta u}{\rho} = \frac{\sin \Delta\varphi}{\sin \psi}, \quad \text{t. j. } \Delta u = \rho \frac{\sin \Delta\varphi}{\sin \psi} = \rho \frac{\sin \Delta\varphi}{\cos \frac{\Delta\varphi}{2}}. \quad (4.40)$$

Pre vnútorné uhly v trojuholníku  $OPP_\Delta$  platí  $\Delta\varphi + (\psi + \nu) + \sigma = \pi$ , t. j.

$$\nu = \pi - \Delta\varphi - \sigma - \psi = \pi - \Delta\varphi - \sigma - \frac{\pi - \Delta\varphi}{2} = \frac{\pi}{2} - \frac{\Delta\varphi}{2} - \sigma = \frac{\pi}{2} - \left(\frac{\Delta\varphi}{2} + \sigma\right).$$

Z toho vyplýva:

$$\sin \nu = \sin \frac{\pi}{2} \cos \left(\frac{\Delta\varphi}{2} + \sigma\right) - \cos \frac{\pi}{2} \sin \left(\frac{\Delta\varphi}{2} + \sigma\right) = \cos \left(\frac{\Delta\varphi}{2} + \sigma\right).$$

Zo sínusovej vety v trojuholníku  $SPP_\Delta$  a zo vzťahu (4.40) vyplýva:

$$\frac{\Delta\rho}{\Delta u} = \frac{\sin \nu}{\sin \sigma}, \quad \text{t. j. } \Delta\rho = \Delta u \frac{\sin \nu}{\sin \sigma} = \rho \frac{\sin \Delta\varphi}{\cos \frac{\Delta\varphi}{2}} \frac{\cos \left(\frac{\Delta\varphi}{2} + \sigma\right)}{\sin \sigma},$$

Pre deriváciu  $g'(\varphi)$  v polárnom systéme potom platí:

$$g'(\varphi) = \lim_{\Delta\varphi \rightarrow 0} \frac{\Delta\rho}{\Delta\varphi} = \lim_{\Delta\varphi \rightarrow 0} \left[ \frac{\rho}{\cos \frac{\Delta\varphi}{2}} \frac{\sin \Delta\varphi}{\Delta\varphi} \frac{\cos \left(\frac{\Delta\varphi}{2} + \sigma\right)}{\sin \sigma} \right] = \frac{\rho}{1} \cdot 1 \cdot \frac{\cos \tau}{\sin \tau} = \rho \operatorname{ctg} \tau.$$

**Príklad 4.3.51.K4-pr79**

Uvažujme funkciu  $f$ , ktorá je v karteziánskom súradnicovom systéme explicitne definovaná vzťahom  $f(x) = \sqrt{r^2 - x^2}$ ,  $x \in \langle -r; r \rangle$ . Jej grafom je polkružnica so stredom v počiatku systému a s polomerom  $r > 0$  (obr. 4.3.45). Pre všetky  $x \in \langle -r; r \rangle$  platí:

$$f'(x) = \left[ \sqrt{r^2 - x^2} \right]' = \left[ (r^2 - x^2)^{\frac{1}{2}} \right]' = \frac{1}{2} (r^2 - x^2)^{-\frac{1}{2}} (-2x) = \frac{-x}{\sqrt{r^2 - x^2}}. \quad (4.41)$$

Takže dotyčnica k funkcii  $f$  v bode  $P = [x; f(x)]$  má smernicu  $\operatorname{tg} \psi = -\frac{x}{\sqrt{r^2 - x^2}}$ .

V polárnych súradniciach predstavuje uvedená polkružnica konštantnú funkciu  $f(\varphi) = r$ ,  $\varphi \in \langle 0; \pi \rangle$ . Pre jej deriváciu  $f'$  v ľubovoľnom bode  $\varphi \in \langle 0; \pi \rangle$  potom platí:

$$f'(\varphi) = [r]' = 0, \quad \text{t. j. } r \operatorname{ctg} \tau = 0.$$

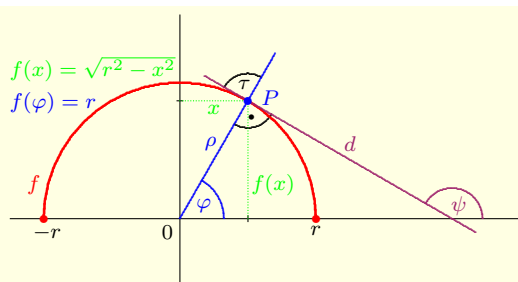
To znamená, že dotyčnica  $d$  zvierá v bode  $P = [\varphi; f(\varphi)]$  s polpriamkou  $OP$  pravý uhol  $\tau = \frac{\pi}{2}$ . Na základe vzťahu (4.39) pre parametrické vyjadrenie  $f'(\varphi)$ ,  $\varphi \in (0; \pi)$  platí:

$$f': x = f(\varphi) \cos \varphi = r \cos \varphi, \quad y = \frac{f'(\varphi) \sin \varphi + f(\varphi) \cos \varphi}{f'(\varphi) \cos \varphi - f(\varphi) \sin \varphi} = \frac{0 + r \cos \varphi}{0 - r \sin \varphi} = -\operatorname{ctg} \varphi.$$

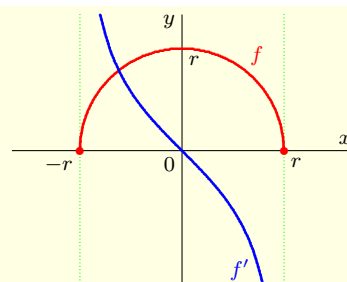
Posledný vzťah zodpovedá výrazu (4.41), pretože platí  $\operatorname{ctg} \varphi = \frac{x}{f(x)} = \frac{x}{\sqrt{r^2 - x^2}}$ . ■

**Poznámka 4.3.33.K4-poz62**

Pre porovnanie sú grafy funkcií  $f(x) = \sqrt{r^2 - x^2}$ ,  $f'(x) = -\frac{x}{\sqrt{r^2 - x^2}}$ ,  $x \in \langle -r; r \rangle$  z príkladu 4.3.51 zostrojené na obrázku 4.3.46.



Obr. 4.3.45: Polkružnica  $f(x) = \sqrt{r^2 - x^2}$ , resp.  $f(\varphi) = r$  z príkladu 4.3.51.



Obr. 4.3.46: Grafy funkcií  $f(x)$ ,  $f'(x)$  z poznámky 4.3.33.

## Cvičenia

4.3.1. **D 3-01** Dokažte, že pre  $0 < a < b$ ,  $n \in \mathbb{N}$  platí:

- |  |  |
|--|--|
| a) $\arctg b - \arctg a < b - a$ ,         | b) $\sqrt{1+a^2} \leq 1 + a \ln(a + \sqrt{1+a^2})$ ,   |
| c) $\frac{\arctg a}{1+a} < \ln(1+a) < a$ , | d) $1 + \frac{1}{1+e} < \ln(1+e) < 1 + \frac{1}{e}$ ,  |
| e) $\ln(1+a^2) \leq 2a \arctg a$ ,         | f) $na^{n-1}(b-a) \leq b^n - a^n \leq nb^{n-1}(b-a)$ , |
| g) $2 + a^2 \leq e^a + e^{-a}$ ,           | h) $\sin a < a - \frac{a^3}{6} + \frac{a^5}{120}$ ,    |
|  | i) $1 + a < e^a$ .                                     |

4.3.2. **P 3-02** Pomocou vety o strednej hodnote odhadnite nasledujúce výrazy:

- a)  $\operatorname{tg} 4, 2$ ,      b)  $\arctg 1, 5$ ,      c)  $\log_3 18$ ,      d)  $\arcsin 0, 5$ ,      e)  $\arccos 0, 5$ .

4.3.3. **R 3-03** Vložte do Taylorovho polynómu so stredom v bodoch 1, -1, 2, -2 polynómy: ♣

- |  |  |                                |
|--|--|--------------------------------|
| a) $x^4 + x^3 + x^2 + x + 1$ ,                   | b) $x^4 + x^3 - x^2 + x - 1$ ,                   | c) $x^4 - x^3 + x^2 - x + 1$ , |
| d) $x^4 - 2x^3 + 2x + 1$ ,                       | e) $x^4 + 2x^2 + 2x - 1$ ,                       | f) $x^4 - 2x^3 + 2x^2 - 1$ ,   |
| g) $x^5 - 2x^4 + 2x^2 + 1$ ,                     | h) $x^5 + 2x^3 + 2x^2 - 1$ ,                     | i) $x^5 - 2x^4 + 2x^3 - x$ ,   |
| j) $x^6 + x^5 + x^4 + x^3 + x^2 + x + 1$ ,       | k) $x^6 - x^5 + x^4 + x^3 - x^2 + x - 1$ ,       |                                |
| l) $x^7 + x^6 + x^5 + x^4 + x^3 + x^2 + x + 1$ , | m) $x^7 - x^6 - x^5 + x^4 + x^3 - x^2 + x - 1$ . |                                |

4.3.4. **U 3-04** Taylorov polynóm stupňa  $n$  so stredom v bode  $x_0$  pre funkciu  $y = f(x)$ : ♣

- |  |  |  |
|--|--|--|
| a) $y = x^{\frac{2}{3}}$ , $n = 3$ , $x_0 = 1$ , | b) $y = x^x$ , $n = 3$ , $x_0 = 1$ ,   | c) $y = \frac{1}{x}$ , $n = 4$ , $x_0 = 2$ ,   |
| d) $y = \ln x$ , $n = 4$ , $x_0 = 2$ ,           | e) $y = \ln x$ , $n = 4$ , $x_0 = 3$ , | f) $y = \frac{1}{x^3}$ , $n = 3$ , $x_0 = 1$ . |

4.3.5. **U 3-05** Maclaurinov polynóm stupňa  $n$  pre funkciu  $y = f(x)$ : ♣

- |  |  |  |
|--|--|--|
| a) $y = \frac{1+x+x^2}{1-x+x^2}$ , $n = 3$ , | b) $y = \frac{1-x+x^2}{1+x+x^2}$ , $n = 3$ , | c) $y = \frac{1-x^2}{1+x+x^2}$ , $n = 3$ , |
| d) $y = \frac{e^x}{e^x+1}$ , $n = 4$ ,       | e) $y = \ln \cos x$ , $n = 6$ ,              | f) $y = \ln \cos x^2$ , $n = 6$ ,          |
| g) $y = \operatorname{tg} x$ , $n = 5$ ,     | h) $y = \operatorname{tg}^2 x$ , $n = 5$ ,   | i) $y = \sin^2 x$ , $n = 5$ ,              |
| j) $y = \sin^3 x$ , $n = 5$ ,                | k) $y = \cos^2 x$ , $n = 5$ ,                | l) $y = \cos^3 x$ , $n = 5$ .              |

4.3.6. **U 3-06** Maclaurinov polynóm stupňa  $n$  pre funkciu  $y = f(x)$ : ♣

- |                                   |                    |                    |                                |
|-----------------------------------|--------------------|--------------------|--------------------------------|
| a) $y = \frac{1}{\sqrt{1-x^2}}$ , | b) $y = \cosh x$ , | c) $y = \sinh x$ , | d) $y = \ln \frac{1+x}{1-x}$ . |
|-----------------------------------|--------------------|--------------------|--------------------------------|

4.3.7. **Príklad 07** Pomocou Maclaurinovho vzorca vypočítajte s chybou menšou ako 0,0001 hodnoty:

- a)  $\sqrt[10]{1010}$ ,      b)  $\operatorname{tg} 4, 2$ ,      c)  $\sqrt{\pi}$ ,      d)  $(1, 1)^{1,2}$ ,      e)  $\operatorname{arctg} 1, 7$ ,  
 f)  $\arcsin 0, 5$ ,      g)  $\cos 1, 6$ ,      h)  $\sin 0, 9$ ,      i)  $\sqrt[4]{83}$ ,      j)  $\sqrt[3]{121}$ .

4.3.8. **Príklad 08** Vypočítajte pre  $m, n \in \mathbb{N}$ ,  $a > 0$ ,  $b > 0$  nasledujúce limity: ♣

- a)  $\lim_{x \rightarrow 1} \frac{x^n - x}{x^n - 1}$ ,      b)  $\lim_{x \rightarrow 1} \frac{x^m - x}{x^n - x}$ ,      c)  $\lim_{x \rightarrow 0} \frac{x - \sin x}{x^3}$ ,      d)  $\lim_{x \rightarrow 1} \frac{\ln x}{x-1}$ ,      e)  $\lim_{x \rightarrow 0} \frac{a^x - b^x}{x}$ ,  
 f)  $\lim_{x \rightarrow 0^+} \frac{\ln x}{\cotg x}$ ,      g)  $\lim_{x \rightarrow \infty} \frac{e^x}{x^n}$ ,      h)  $\lim_{x \rightarrow \infty} \frac{x^n}{a^x}$ ,      i)  $\lim_{x \rightarrow 1} x^{\frac{1}{1-x}}$ ,      j)  $\lim_{x \rightarrow 0^+} \ln^x \frac{1}{x}$ ,  
 k)  $\lim_{x \rightarrow 0} \frac{\ln(\cos ax)}{\ln(\cos bx)}$ ,      l)  $\lim_{x \rightarrow 0} \frac{\ln(\operatorname{tg} ax)}{\ln(\operatorname{tg} bx)}$ ,      m)  $\lim_{x \rightarrow 0} \frac{x - \operatorname{arctg} x}{x^3}$ ,      n)  $\lim_{x \rightarrow 0^+} \left( \frac{1}{x^3} - \frac{1}{\sin^3 x} \right)$ ,  
 o)  $\lim_{x \rightarrow \frac{\pi}{2}} \frac{\operatorname{tg} 5x}{2 \operatorname{tg} 3x}$ ,      p)  $\lim_{x \rightarrow \frac{\pi}{2}} \frac{\ln\left(\frac{\pi}{2} - x\right)}{\operatorname{tg} x}$ ,      q)  $\lim_{x \rightarrow 0} \frac{e^{2x} - 2x - 1}{\sin^2 3x}$ ,      r)  $\lim_{x \rightarrow 0^-} \left( \frac{1}{x^3} - \frac{1}{\sin^3 x} \right)$ ,  
 s)  $\lim_{x \rightarrow 0^+} \left( \frac{1}{2x} - \frac{1}{\sin x} \right)$ ,      t)  $\lim_{x \rightarrow 0} \left( \cotg x - \frac{1}{x} \right)$ ,      u)  $\lim_{x \rightarrow 0} \left( \frac{1}{x} - \frac{1}{e^x - 1} \right)$ ,      v)  $\lim_{x \rightarrow \frac{\pi}{2}^-} (\operatorname{tg} x)^{\cotg x}$ ,  
 w)  $\lim_{x \rightarrow 0} \frac{2 \cos x - 2 + x^2}{x^2 \sin^2 x}$ ,      x)  $\lim_{x \rightarrow a} \frac{\sqrt{a+x} - \sqrt{2a}}{\sqrt{a+2x} - \sqrt{3a}}$ ,      y)  $\lim_{x \rightarrow 0} \frac{\cos mx - \cos nx}{x^2}$ ,      z)  $\lim_{x \rightarrow 1} \frac{x^2 - 1}{x^3 - 2x^2 + 2x - 1}$ .

4.3.9. **Príklad 09** či možno použiť L'Hospitalovo pravidlo a vypočítajte limity: ♣

- a)  $\lim_{x \rightarrow \infty} \frac{x - \sin x}{x + \sin x}$ ,      b)  $\lim_{x \rightarrow \infty} \frac{x^2 \sin \frac{1}{x}}{\sin x}$ ,      c)  $\lim_{x \rightarrow 0} \frac{x - \sin x}{x - \operatorname{tg} x}$ ,      d)  $\lim_{x \rightarrow 0^+} x^{\sin x}$ ,      e)  $\lim_{x \rightarrow 0} \frac{e^x - 1}{\sin x}$ .

4.3.10. **Príklad 10** Nájdi intervaly najväčšej dĺžky, na ktorých je monotónna funkcia  $y = f(x)$ : ♣

- a)  $y = \frac{x}{1+x^2}$ ,      b)  $y = \frac{x-3}{\sqrt{1+x^2}}$ ,      c)  $y = \frac{(x-1)^3}{(x+1)^2}$ ,      d)  $y = \left(1 + \frac{1}{x}\right)^x$ ,  
 e)  $y = x|x|$ ,      f)  $y = \ln|x| + 1$ ,      g)  $y = x^2 e^{-x}$ ,      h)  $y = \frac{e^x}{x} + 1$ ,  
 i)  $y = x^2 - x + 12$ ,      j)  $y = x^5 - 15x^3 + 3$ ,      k)  $y = |x+1| + |x-1|$ ,  
 l)  $y = \frac{x}{x^2-1} + x + 2$ ,      m)  $y = \frac{4}{x} + \frac{1}{1-x} - 1$ ,      n)  $y = x^2 - 1 + |x^2 - 1|$ ,  
 o)  $y = \ln \sqrt{1+x^2} - 1$ ,      p)  $y = 2x^2 - \ln x + 1$ ,      q)  $y = \sin x + \operatorname{tg} x - 2x$ ,  
 r)  $y = \sin x + \cos x + 1$ ,      s)  $y = \cos x + \frac{\cos 2x}{2} - 1$ ,      t)  $y = x + \sin x - 1$ .

4.3.11. **Príklad 11** Nájdi všetky extrémny funkcie  $y = f(x)$ : ♣

- a)  $y = x^2(x-6)$ ,      b)  $y = x - \frac{1}{x}$ ,      c)  $y = \frac{x^2}{2} + \frac{8}{x^3}$ ,      d)  $y = \ln \frac{x^2+4x+2}{x+2}$ ,  
 e)  $y = x - [x]$ ,      f)  $y = x^2 e^{-x}$ ,      g)  $y = x e^{\frac{1}{x}} + 1$ ,      h)  $y = 1 + \sqrt{|x|}$ ,  
 i)  $y = \sqrt{6x - x^2}$ ,      j)  $y = (x^2 - 1)^{\frac{2}{3}}$ ,      k)  $y = 3 - 2x^{\frac{3}{2}}$ ,      l)  $y = 4x - \operatorname{tg} x$ ,  
 m)  $y = x^2 - 2x - 1$ ,      n)  $y = x^4 + 2x^2 - 1$ ,      o)  $y = x + \frac{2x}{1+x^2}$ ,      p)  $y = \frac{1}{4x^3 - 9x^2 + 6x}$ ,  
 q)  $y = |x| e^{|x-1|}$ ,      r)  $y = \frac{x}{\ln x} + 2$ ,      s)  $y = x^3 - 2|x|$ ,      t)  $y = \operatorname{arctg} |x-1|$ ,  
 u)  $y = e^{-x} \sin x$ ,      v)  $y = e^{-x} \cos x$ ,      w)  $y = e^x \sin x$ ,      x)  $y = e^x \cos x$ .

4.3.12. **Príklad 12** Nájdi všetky extrémny funkcie  $y = f(x)$ : ♣

- a)  $y = \sin x + \cos x + 1$ ,      b)  $y = 4x^3 - 3x^2 - 36x - 5$ ,      c)  $y = 4x^3 - 18x^2 + 27x$ ,  
 d)  $y = x(x-1)^2(x-2)^3$ ,      e)  $y = x - \ln(1+x) - 1$ ,      f)  $y = |x+4| - |x| + |x-1|$ ,  
 g)  $y = -\ln(1+x-4x^2)$ ,      h)  $y = \ln^2 x - 3 \ln x + 2$ ,      i)  $y = \operatorname{arctg} x - \ln \sqrt{1+x^2}$ ,  
 j)  $y = x^x$ ,  $x \in (0; \infty)$ ,      k)  $y = x^2 \ln x$ ,  $x \in \langle 1; e \rangle$ ,      l)  $y = x - 2 \ln x$ ,  $x \in \langle 1; e \rangle$ ,  
 m)  $y = x + \frac{1}{x-1}$ ,  $x \in \langle -4; 1 \rangle$ ,      n)  $y = x + \frac{2x}{x^2-1}$ ,  $x \in \langle \frac{3}{2}; 3 \rangle$ ,      o)  $y = \frac{2x}{x^2-1}$ ,  $x \in \langle \frac{11}{10}; 3 \rangle$ .

4.3.13. ~~N3-12~~ ~~N3-12~~ Nájdi všetky extrémny funkcie  $y = f(x)$ : ♣

- a)  $y = \sqrt[3]{x^4 - 2x^3 + x^2}$ ,  $x \in \langle -3; 2 \rangle$ ,  
 b)  $y = \cos 2x - 2x + 11$ ,  $x \in \langle -\pi; \pi \rangle$ ,  
 c)  $y = \sin x + \sin^2 x + 1$ ,  $x \in \langle 0; \pi \rangle$ ,  
 d)  $y = \sin x - \sin^2 x + 1$ ,  $x \in \langle 0; \pi \rangle$ ,  
 e)  $y = x^2 - 6x + 10$ ,  $x \in \langle -1; 5 \rangle$ ,  
 f)  $y = x^3 - 3x + 20$ ,  $x \in \langle -3; 4 \rangle$ ,  
 g)  $y = |x^2 - 6x + 5|$ ,  $x \in \langle -2; 2 \rangle$ ,  
 h)  $y = |x^2 - 6x + 5|$ ,  $x \in \langle -6; 6 \rangle$ ,  
 i)  $y = x^5 - 5x^4 + 5x^3 + 1$ ,  $x \in \langle -1; 1 \rangle$ ,  
 j)  $y = x^5 - 5x^4 + 5x^3 + 1$ ,  $x \in R$ .

4.3.14. ~~R3-13~~ ~~R3-13~~ Zvoľte číslo  $a > 0$  na súčet dvoch kladných čísel  $x_1, x_2$  tak, aby: ♣

- a)  $x_1 x_2$  bolo maximálne,  
 b)  $\frac{1}{x_1} + \frac{1}{x_2}$  bolo minimálne,  
 c)  $x_1^n + x_2^n$  bolo minimálne pre  $n \in N$ ,  
 d)  $x_1^n x_2^n$  bolo maximálne pre  $n \in N$ .

4.3.15. ~~N3-14~~ ~~N3-14~~ Zvoľte  $x > 0$  tak, aby jeho súčet s jeho obrátenou hodnotou bol minimálny. ♣

4.3.16. ~~D3-15~~ ~~D3-15~~ Do trojuholníka s najdlhšou stranou  $a > 0$  a výškou  $v > 0$  vpíšte obdĺžnik tak, aby jedna jeho strana ležala na strane  $a$  a aby mal maximálny obsah. ♣

4.3.17. ~~U3-16~~ ~~U3-16~~ Určte rozmery trojuholníka, ktorý má jednu stranu  $a > 0$  a obvod  $s > 2a$ , tak aby mal maximálny obsah. ♣

4.3.18. ~~A3-17~~ ~~A3-17~~ Aké rozmery musí mať pravouhlý rovnobežník daného obvodu  $s > 0$ , aby jeho uhlopriečka bola minimálna. ♣

4.3.19. ~~A3-18~~ ~~A3-18~~ Aké rozmery musí mať pravouhlý rovnobežník daného obsahu  $P > 0$ , aby jeho obvod bol minimálny. ♣

4.3.20. ~~A3-19~~ ~~A3-19~~ Aké rozmery musí mať pravouhlý rovnobežník daného obvodu  $s > 0$ , aby jeho obsah bol maximálny. ♣

4.3.21. ~~D3-20~~ ~~D3-20~~ Do elipsy s poloosami  $0 < a < b$  vpíšte pravouhlý rovnobežník so stranami rovnobežnými s osami elipsy tak, aby mal maximálny obsah. ♣

4.3.22. ~~D3-21~~ ~~D3-21~~ Do gule s polomerom  $r > 0$  vpíšte valec tak, aby mal: ♣

- a) maximálny objem,                      b) maximálny povrch,                      c) maximálny plášť.

4.3.23. ~~D3-22~~ ~~D3-22~~ Do gule s polomerom  $r > 0$  vpíšte kolmý kužeľ tak, aby mal: ♣

- a) maximálny objem,                      b) maximálny povrch,                      c) maximálny plášť.

4.3.24. ~~D3-23~~ ~~D3-23~~ Do železa s výškou  $h > 0$ , polomerom  $r > 0$  vpíšte valec s maximálnym objemom. ♣

4.3.25. ~~N3-24~~ ~~N3-24~~ Na priamke  $p$  nájdite bod tak, ktorý je najbližšie k bodu  $A = [1; 2]$ : ♣

- a)  $p: y = 3x - 1$ ,                      b)  $p: y = 3x + 2$ ,                      c)  $p: y = 3x + 1$ ,                      d)  $p: y = 3x - 2$ .

4.3.26. ~~N3-25~~ ~~N3-25~~ Na parabole  $p$  nájdite bod tak, ktorý je najbližšie k bodu  $A = [1; 2]$ : ♣

- a)  $p: y = 4x - x^2$ ,                      b)  $p: y = x + x^2$ ,                      c)  $p: y = -4x + 2x^2$ ,                      d)  $p: y = -3x - x^2$ .



**4.3.27.** Silážna jama má mať tvar pravouhlého rovnobežnostena (bez hornej steny) s objemom  $V = 1000 \text{ m}^3$ . Dĺžka podstavy má byť 4–krát väčšia ako jej šírka. Náklady na vybudovanie  $1 \text{ m}^2$  podstavy sú 2–krát menšie ako náklady na vybudovanie  $1 \text{ m}^2$  steny. Určte rozmery silážnej jamy, aby náklady na jej vybudovanie boli minimálne. ♣

**4.3.28.** Dĺžkou 10 m máme rozdeliť na dve časti, z ktorých prvá sa zohne do štvorca a druhá do kruhu. Kde má byť rez, aby súčet obsahov štvorca a kruhu bol minimálny. ♣

**4.3.29.** Krabica má tvar obdĺžnika s rozmermi  $30 \times 14 \text{ cm}$ . V rohoch vystrihneme rovnaké štvorce a zvyšok ohneme do otvorenej krabice. Aká veľká má byť strana vystrihnutých štvorcov, aby mala krabica maximálny objem. ♣

**4.3.30.** Okno ktoré má tvar rovinného obrazca zloženého z obdĺžnika a polkruhu zostrojeného nad jednou jeho stranou, má obvod  $s > 0$ . Aké majú byť rozmery obdĺžnika a polkruhu, aby malo okno maximálny obsah. ♣

**4.3.31.** Dva kolmé kanály, na seba kolmé kanály, sú široké 4 m a 6 m. Vypočítajte dĺžku najdlhšieho trámu, ktorý môže preplávať z jedného kanálu do druhého. ♣

**4.3.32.** Nájdite intervaly najväčšej dĺžky, na ktorých je funkcia  $y = f(x)$  konvexná alebo konkávna a nájdite všetky jej inflexné body: ♣

- |   |   |   |                                      |
|---|---|---|--------------------------------------|
| a) $y = 5x^2 + 20x + 7$ ,                             | b) $y = 3x^5 - 5x^4 + 4$ ,                      | c) $y = 2 -  x^2 - 2 $ ,                                  | d) $y = x^2 + x^{\frac{2}{3}} - 1$ , |
| e) $y = x(1 - x)^2 + 1$ ,                             | f) $y = x + x^{\frac{5}{3}} + 1$ ,              | g) $y = 3 - (x + 2)^{\frac{7}{5}}$ ,                      | h) $y = x - \cos x$ ,                |
| i) $y = x \operatorname{arctg} x$ ,                   | j) $y = \operatorname{arctg} \frac{1}{x} + 1$ , | k) $y = x \ln x + 1$ ,                                    | l) $y = x + \sin x$ ,                |
| m) $y = x + \frac{1}{x^2} + 1$ ,                      | n) $y = x + \frac{2x}{1-x^2}$ ,                 | o) $y = \frac{x}{1+x^2} + 1$ ,                            | p) $y = \frac{x^3}{x^2+27} + 27$ ,   |
| q) $y = (x - 1)^{\frac{1}{3}}(x + 1)^{\frac{2}{3}}$ , | r) $y = x^3 - 12x^2 - 5x + 2$ ,                 | s) $y = (x - 1)^{\frac{5}{2}} + 5(x + 1)^{\frac{3}{2}}$ , |                                      |
| t) $y =  x^2 - 1  +  x^2 + 1 $ ,                      | u) $y = 12 - \ln(x^2 - 9)$ ,                    | v) $y = x^4 + 2x^3 - 12x^2 - 5x$ .                        |                                      |

**4.3.33.** Dokážte, že všetky inflexné body funkcie  $y = \frac{x+1}{x^2+1}$  ležia na priamke  $x - 4y = 0$ .

**4.3.34.** Dokážte, že pre súradnice každého inflexného bodu funkcie  $y = x \sin x$  platí  $(x^2 + 4)y^2 = 4x^2$ .

**4.3.35.** Dokážte, že každý polynóm nepárneho stupňa  $n > 1$  má inflexný bod.

**4.3.36.** Pre aké  $b \in \mathbb{R}$  má funkcia  $y = e^x + bx^3$  inflexný bod? ♣

**4.3.37.** Určte asymptoty ku grafu funkcie  $y = f(x)$ : ♣

- |                                  |                                     |   |   |
|----------------------------------|-------------------------------------|---|---|
| a) $y = \frac{x}{x-1} + 1$ ,     | b) $y = \frac{1}{1-x^2} + 1$ ,      | c) $y = \frac{x^2+2}{x^2-4} + 1$ ,              | d) $y = \frac{x \sin x}{1+x^2} + 1$ ,           |
| e) $y = 3x + \frac{3}{x-2}$ ,    | f) $y = x + \frac{2x}{x^2-1}$ ,     | g) $y = 2x - \frac{\cos x}{x}$ ,                | h) $y = \frac{x\sqrt{x^2-1}}{2x^2-1}$ ,         |
| i) $y = x + \frac{\ln x}{x}$ ,   | j) $y = x \operatorname{arctg} x$ , | k) $y = \operatorname{arctg} \frac{1}{x} + 1$ , | l) $y = x \ln \left( e + \frac{1}{x} \right)$ , |
| m) $y = \frac{\sin x}{x} + 12$ , | n) $y = e^{\frac{1}{x}} + 12$ ,     | o) $y = x e^{\frac{1}{x}} + 12$ ,               | p) $y = \frac{1}{x-1} + \frac{1}{x+1}$ .        |

4.3.38. ~~V-3-37~~ ~~U-3-37~~ Všetite priebeh funkcie  $y = f(x)$  a zostrojte jej graf:

- |   |                                  |                                  |   |
|---|----------------------------------|----------------------------------|---|
| a) $y = 3x^5 - 5x^3$ ,                  | b) $y = -x^4 + 6x^2 - 5$ ,       | c) $y = (\frac{x^2}{6} + x)^2$ , | d) $y = (\frac{x^3}{8} - 1)^3$ ,        |
| e) $y = (1 - x^2)^2$ ,                  | f) $y = (x^2 - 1)3x$ ,           | g) $y = x^6 - x^3 + 1$ ,         | h) $y = x^6 - x^4 - 1$ ,                |
| i) $y = x^3 + \frac{1}{x^2}$ ,          | j) $y = x^2 + \frac{1}{x^2}$ ,   | k) $y = x^3 + \frac{1}{x^3}$ ,   | l) $y = x^2 + \frac{1}{x^3}$ ,          |
| m) $y = \frac{2x}{x^2-1} + x$ ,         | n) $y = \frac{\ln x}{x} + 1$ ,   | o) $y = x - \ln x$ ,             | p) $y = x + 2 \operatorname{arctg} x$ , |
| q) $y = x + \operatorname{arccotg} x$ , | r) $y = (2 - x)e^{x-1}$ ,        | s) $y = x^2 e^{-x} + 1$ ,        | t) $y = x^2 e^{x+2} - 1$ ,              |
| u) $y = x e^{-x^2} + 1$ ,               | v) $y = x e^{\frac{1}{x}} + 1$ , | w) $y = x - e^{-x} + 1$ ,        | x) $y = x^2 - e^{-x} - 1$ .             |

4.3.39. ~~V-3-48~~ ~~U-3-48~~ Všetite priebeh funkcie  $y = f(x)$  a zostrojte jej graf:

- |  |   |                                     |                                 |
|--|---|-------------------------------------|---------------------------------|
| a) $y = \sqrt[3]{x} - \sqrt[3]{x-1}$ , | b) $y = \sqrt[3]{x+1} - \sqrt[3]{x}$ ,          | c) $y = (x-4)\sqrt[3]{x}$ ,         | d) $y = (x+4)\sqrt[3]{x^2}$ ,   |
| e) $y = \arcsin \frac{1-x}{1+x}$ ,     | f) $y = \operatorname{cotgh} \frac{1-x}{1+x}$ , | g) $y = \ln \frac{1-x}{1+x}$ ,      | h) $y = x + \frac{\sin x}{x}$ , |
| i) $y = x^3 + 3x$ ,                    | j) $y = 16x(x-1)^3$ ,                           | k) $y =  16 - x^2 $ ,               | l) $y = x^2 - 2 x $ ,           |
| m) $y = \sqrt{ x-1 }$ ,                | n) $y = \sqrt[3]{1-x^3}$ ,                      | o) $y = \sqrt[3]{x^3+x^2}$ ,        | p) $y = \sqrt{1-e^{-x^2}}$ ,    |
| q) $y = x \ln x + 1$ ,                 | r) $y = x + e^{-x}$ ,                           | s) $y = \ln(4-x^2)$ ,               | t) $y = \sin x + \cos x$ ,      |
| u) $y = x^2 \sin \frac{1}{x}$ ,        | v) $y = \operatorname{arctg} \frac{1}{x} + 1$ , | w) $y = x \operatorname{arctg} x$ , | x) $y = \arcsin  x $ .          |

4.3.40. ~~V-3-49~~ ~~U-3-49~~ Všetite priebeh funkcie  $y = f(x)$  a zostrojte jej graf:

- |   |   |   |   |   |
|---|---|---|---|---|
| a) $y = \frac{x-1}{x+1}$ ,                | b) $y = \frac{x^3+4}{x^6}$ ,              | c) $y = \frac{x^2+1}{x}$ ,                | d) $y = \frac{2x^3}{x^2+1}$ ,                   | e) $y = \frac{x^4}{(1+x)^3}$ ,              |
| f) $y = \frac{x-1}{x-2}$ ,                | g) $y = \frac{x^2}{x-1}$ ,                | h) $y = \frac{x+1}{x^2}$ ,                | i) $y = \frac{(x-1)^2}{x^2+1}$ ,                | j) $y = \frac{1+x^2}{1-x^2}$ ,              |
| k) $y = \frac{x-3}{x-2}$ ,                | l) $y = \frac{2x^5-3}{x^2}$ ,             | m) $y = \frac{2-x}{(x-1)^2}$ ,            | n) $y = \frac{x^2+4}{x^2+3}$ ,                  | o) $y = \frac{x^2+2}{x^2+3}$ ,              |
| p) $y = \frac{x+1}{x-1}$ ,                | q) $y = \frac{x-2}{x^3}$ ,                | r) $y = \frac{x^2-3}{x^3}$ ,              | s) $y = \frac{1-x^4}{x^2}$ ,                    | t) $y = \frac{1-x^3}{x^4}$ ,                |
| u) $y = \left  \frac{x-1}{x+1} \right $ , | v) $y = \left  \frac{x^2}{x-1} \right $ , | w) $y = \left  \frac{x-1}{x^2} \right $ , | x) $y = \left  \frac{(x-1)^2}{1-x^2} \right $ , | y) $y = \left  \frac{1+x^2}{1-x} \right $ . |

4.3.41. ~~V-3-50~~ ~~U-3-50~~ Všetite priebeh funkcie  $y = f(x)$  a zostrojte jej graf:

- |  |  |   |                         |
|--|--|---|-------------------------|
| a) $y = \frac{x(x-1)(x-2)(x-3)}{10}$ ,               | b) $y = \frac{1}{x+1} + \frac{1}{x} + \frac{1}{x-1}$ , | c) $y = \frac{\sqrt{(x+1)(x+2)(x+3)}}{3}$ , |                         |
| d) $y = \cos^3 x - 3 \cos x + 1$ ,                   | e) $y = (x+2)^2(x+5)$ ,                                | f) $y = (1-x)^3(1+x)^4$ ,                   |                         |
| g) $y = \ln(x + \sqrt{x^2+1})$ ,                     | h) $y = \ln(\sqrt{x^2+1} - x)$ ,                       | i) $y = \sinh x + \sinh(1-x)$ ,             |                         |
| j) $y = (x+1)^{\frac{2}{3}} - (x-1)^{\frac{2}{3}}$ , | k) $y = 2(x+1) - 3(x-1)^{\frac{2}{3}}$ ,               | l) $y = \cos x - \ln \cos x$ ,              |                         |
| m) $y = x^2 e^{\frac{1}{x}} + 12$ ,                  | n) $y = e^{-2x} \sin 3x$ ,                             | o) $y = x - 2 \operatorname{arctg} x$ ,     | p) $y = x -  \sin x $ . |

4.3.42. ~~N-3-38~~ ~~U-3-38~~ Najite explicitný tvar funkcie  $y = f(x)$  definovanej parametricky: ♣

- |   |   |
|---|---|
| a) $x = t + 1, y = 1 - 2t - t^2, t \in (1; 4)$ ,  | b) $x = 3 \cosh t, y = 2 \sinh t, t \in (0; \infty)$ ,          |
| c) $x = 4 \cos t, y = 3 \sin t, t \in (0; \pi)$ , | d) $x = 4 \cos^2 t, y = 9 \sin^2 t, t \in (0; \frac{\pi}{2})$ . |

4.3.43. ~~U-3-69~~ ~~U-3-69~~ Určte množiny hodnôt pre parameter  $t$  tak, aby dané parametrické rovnice určovali spojitú funkciu  $y = f(x)$ . Elimináciou parametra  $t$  určte jej explicitný tvar: ♣

- |   |                                   |                                 |
|---|-----------------------------------|---------------------------------|
| a) $x = 2t^2 - 1, y = 4t^2 - 1$ ,                           | b) $x = 2t - 1, y = 4t - 1$ ,     | c) $x = 4t^2 + 1, y = 3t + 2$ , |
| d) $x = 2 \sin \frac{\pi t}{3}, y = \cos \frac{\pi t}{3}$ , | e) $x = \cos^3 t, y = \sin^3 t$ , | f) $x = 3t + 2, y = 4t^2 + 1$ . |

4.3.44. ~~U-3-t10~~ ~~Zi-3-t10~~ aké krivky sú dané parametrickými rovnicami pre  $a \in R$ ,  $a > 0$ : ♣

- a)  $x = \cos t$ ,  $y = a \sin t$ ,  $t \in \langle 0; 2\pi \rangle$ ,  
 b)  $x = \cos^3 t$ ,  $y = a \sin^3 t$ ,  $t \in \langle 0; 2\pi \rangle$ ,  
 c)  $x = \cos^2 t$ ,  $y = a \sin^2 t$ ,  $t \in \langle 0; \frac{\pi}{2} \rangle$ ,  
 d)  $x = \sin^3 t$ ,  $y = a \cos^3 t$ ,  $t \in \langle 0; 2\pi \rangle$ .

4.3.45. ~~U-3-t11~~ ~~P-3-t11~~ dte uvedený implicitný tvar krivky na parametrický tvar (položte  $y = tx$ ): ♣

- a)  $x^3 + y^3 - axy = 0$ ,  $a > 0$ ,  
 b)  $x^2 + y^2 = x^3 + y^3$ ,  
 c)  $x^2 + y^2 = x^4 + y^4$ .

4.3.46. ~~U-3-t12~~ ~~U-3-t12~~ deriváciu funkcie  $y = f(x)$  definovanej parametricky: ♣

- a)  $x = \frac{4t^3}{3}$ ,  $y = \frac{t^2}{2}$ ,  $t \in (-\infty; \infty)$ ,  
 b)  $x = \frac{1-t}{1+t}$ ,  $y = \frac{2t}{1+t}$ ,  $t \in R - \{-1\}$ ,  
 c)  $x = \frac{2 \sin t}{1+2 \cos t}$ ,  $y = \frac{4 \cos t}{1+2 \cos t}$ ,  $t \in (-\frac{\pi}{3}; \frac{\pi}{3})$ ,  
 d)  $x = \arcsin \frac{1}{1+t^2}$ ,  $y = \arccos \frac{1}{1+t^2}$ ,  $t \in R$ ,  
 e)  $x = t - \cos t$ ,  $y = 1 + \sin t$ ,  $t \in \langle 0; 2\pi \rangle$ ,  
 f)  $x = 4 \cos^3 t$ ,  $y = 4 \sin^3 t$ ,  $t \in \langle 0; \pi \rangle$ ,  
 g)  $x = e^{2t} \cos^2 t$ ,  $y = e^{2t} \sin^2 t$ ,  $t \in \langle 0; \frac{\pi}{2} \rangle$ ,  
 h)  $x = 2 \cosh t$ ,  $y = 4 \sinh t$ ,  $t \in (0; \infty)$ .

4.3.47. ~~U-3-t13~~ ~~U-3-t13~~  $f'$ ,  $f''$ ,  $f'''$  pre funkciu  $y = f(x)$  určenú parametricky: ♣

- a)  $x = 4t + t^2$ ,  $y = t^3 + t$ ,  $t \in \langle 0; \infty \rangle$ ,  
 b)  $x = \ln t$ ,  $y = \sin 2t$ ,  $t \in (0; \infty)$ ,  
 c)  $x = 4 \sin t$ ,  $y = 4 \cos t$ ,  $t \in (-\frac{\pi}{2}; \frac{\pi}{2})$ ,  
 d)  $x = 2 \cos^3 t$ ,  $y = 2 \sin^3 t$ ,  $t \in \langle 0; \pi \rangle$ ,  
 e)  $x = e^{-t} \cos t$ ,  $y = e^{-t} \sin t$ ,  $t \in R$ ,  
 f)  $x = e^t$ ,  $y = \arcsin t$ ,  $t \in (-1; 1)$ .

4.3.48. ~~N-3-t14~~ ~~N-3-t14~~ dte rovnice dotyčnice a normály ku grafu  $y = f(x)$  určenej parametricky: ♣

- a)  $x = 4t + t^2$ ,  $y = t^3 + t$ ,  $t \in \langle 0; \infty \rangle$  v bodoch  $[0; 0]$ ,  $[5; 2]$ ,  $[12; 10]$ ,  $[21; 30]$ ,  $[32; 68]$ ,  
 b)  $x = t^2 - 4t + 4$ ,  $y = t^2 - 3t + 2$ ,  $t \in \langle 2; \infty \rangle$  v bodoch  $[1; 2]$ ,  $[4; 6]$ ,  $[9; 12]$ ,  $[16; 20]$ ,  $[25; 30]$ ,  
 c)  $x = t - \sin t$ ,  $y = 1 - \cos t$ ,  $t \in R$  v bodoch  $[-\pi; 2]$ ,  $[\frac{2-\pi}{2}; 1]$ ,  $[0; 0]$ ,  $[\frac{\pi-2}{2}; 1]$ ,  $[\pi; 2]$ ,  
 d)  $x = \cos t$ ,  $y = \sin t$ ,  $t \in \langle 0; \pi \rangle$  v bodoch  $[1; 0]$ ,  $[\frac{\sqrt{2}}{2}; \frac{\sqrt{2}}{2}]$ ,  $[0; 1]$ ,  $[-\frac{\sqrt{2}}{2}; \frac{\sqrt{2}}{2}]$ ,  $[-1; 0]$ ,  
 e)  $x = \cos^3 t$ ,  $y = \sin^3 t$ ,  $t \in \langle 0; \pi \rangle$  v bodoch  $[1; 0]$ ,  $[\frac{\sqrt{2}}{4}; \frac{\sqrt{2}}{4}]$ ,  $[0; 1]$ ,  $[-\frac{\sqrt{2}}{4}; \frac{\sqrt{2}}{4}]$ ,  $[-1; 0]$ .

4.3.49. ~~N-3-t15~~ ~~N-3-t15~~ dte inflexné body funkcie  $y = f(x)$  zadanej parametricky: ♣

- a)  $x = 3t + t^3 + 1$ ,  $y = t^2 + 1$ ,  $t \in R$ ,  
 b)  $x = \sin t$ ,  $y = e^t$ ,  $t \in \langle -\frac{\pi}{2}; \frac{\pi}{2} \rangle$ .

4.3.50. ~~Zi-3-t16~~ ~~Zi-3-t16~~ priebeh krivky určenej parametricky:

- a)  $x = 2t - t^2$ ,  $y = 3t - t^3$ ,  
 b)  $x = \cos^4 t$ ,  $y = \sin^4 t$ ,  
 c)  $x = t e^t$ ,  $y = t e^{-t}$ ,  
 d)  $x = \frac{\ln t}{t}$ ,  $y = t \ln t$ ,  
 e)  $x = \frac{t^2}{1-t^2}$ ,  $y = \frac{1}{1+t^2}$ ,  
 f)  $x = \frac{3t}{1+t^3}$ ,  $y = \frac{3t^2}{1+t^3}$ .

*Čakal som to, ale nie tak skoro!*  
**NÁHROBNÝ NÁPIS**

*Nemám nič proti gombíkom, v primeranom počte.*  
**WILLIAM MAKEPEACE THACKERAY**

*Najhoršie je tváriť sa, že chápeme, keď nechápeme.*  
**LEV NIKOLAJEVIČ TOLSTOJ**

*Aj tie najkrajšie nohy niekde končia.*  
**JULIUS TUWIM**

*Sprostý je ako peň, ale strýka má múdreho.*  
**DARGINSKÉ PRÍSLOVIE**

*Nie všetci somári majú veľké uši.*

**NEMECKÉ PRÍSLOVIE**

*Nikto učený z neba nespadol, ale hlupákov akoby zhadzovali.*

**JULIUS TUWIM**

*Chodí šťastie dokola, sem tam sadne na vola.*

**SLOVENSKÉ PRÍSLOVIE**

*Deti a bohovia sa zdržujú radi tam, kde ich chvália.*

**INDICKÉ PRÍSLOVIE**

*Čo sa do suda dostane prvé, tým je cítiť stále.*

**ISLANDSKÉ PRÍSLOVIE**

*Pri stole a v posteli nesmie byť človek hlúpy.*

**NEMECKÉ PRÍSLOVIE**

*Život je žart. To som si vždy myslel, teraz to viem.*

**JOHN GAY — náhrobný nápis**

*Aj keď nikdy neprekročil hranice svojej vlasti,*

*bol to hlupák svetového formátu.*

**HLAVÁČEK**

*Práve láska, nie však k feuerbachovskému človeku, ...  
nie k proletariátu, ale láska k milej, teda k Tebe, robí opäť z muža muža.*

**KARL MARX**

*Krása sa pomínie, hlúposť večná.*

**JOHANN NESTROY**

*Tretí v hre je ten, čo nie je.*

**RAINER MARIA RILKE**

*Je to často len otázka nábytku. Pre ženu je ľahšie ostať vernou  
v izbe s gaučom, než v miestnosti, kde sú len kreslá.*

**JUAN CARLOS REY**

*Každý je taký, ako ho boh stvoril, ba často aj horší.*

**RODA RODA**

*Dobre sa obesiť, to vylúči možnosť zle sa oženiť.*

**WILLIAM SHAKESPEARE**

*Keď zbadáš sukňu, zabudneš, že si ženatý. (manželka MARKA TWAINA)*

*Naopak, to si na to vždy spomeniem.*

**MARK TWAIN**

*Keby bolo u nás konverzačné umenie na vyššej úrovni,  
bola by oveľa nižšia populácia.*

**STANISŁAV JERZY LEC**

*Rozum je pravdepodobne jediný dar, ktorý príroda rozdelila spravodlivo,  
lebo sa nikto nesťažuje, že ho má málo.*

**MICHEL de MONTAIGNE**

# Výsledky cvičení

## 1 Základné pojmy

**1.1.1.** a) Existuje človek, ktorý nevie plávať. b) Rovnica  $2^x = 4x$  nemá kladný koreň  $x$ . c) Najviac jedno číslo je kladné. d) Menej ako tretina krajín patrí do OSN. e) Nie je pravda, že práve dve čísla sú kladné. Žiadne, jedno alebo viac ako tri čísla sú kladné. f) Existuje číslo tvaru  $n^2$ ,  $n \in \mathbb{N}$ , ktoré nie je párne. **1.1.2.** a)  $\exists x \in \mathbb{R}: \sin x \geq 1$ , b)  $\forall x \in \mathbb{R}: \sin x \geq 1$ , c)  $\exists! x \in \mathbb{R}: \sin x \geq 1$ , d)  $\exists x \in \mathbb{R}: \sin x < 1$ , e)  $\exists x \in \mathbb{R}: \sin x \leq 1$ , f)  $\forall x \in \mathbb{R}: \sin x \leq 1$ , g)  $\exists! x \in \mathbb{R}: \sin x \leq 1$ , h)  $\exists x \in \mathbb{R}: \sin x > 1$ , i)  $\exists x \in \mathbb{R}: \sin x \neq 1$ , j)  $\forall x \in \mathbb{R}: \sin x \neq 1$ , k)  $\exists! x \in \mathbb{R}: \sin x \neq 1$ , l)  $\exists x \in \mathbb{R}: \sin x = 1$ . **1.1.3.** Ak  $pq$  sú postupne  $PP, PN, NP, NN$ , potom výsledné pravdivostné hodnoty sú: a)  $NNPN$ , b)  $PNPP$ , c)  $NNNP$ , d)  $NPPN$ , e)  $PPPN$ , f)  $PNNP$ , g)  $PPPN$ , h)  $NNPN$ , i)  $PPPP$ , j)  $PNPP$ , k)  $NNPP$ , l)  $PPNN$ . **1.1.4.** a) záleží od trojuholníka, v oboch prípadoch môže byť  $P$  alebo  $N$ , b) záleží od  $k$ , v oboch prípadoch môže byť  $P$  alebo  $N$ , c) záleží od nerovnice, v oboch prípadoch môže byť  $P$  alebo  $N$ , d) vždy  $N$ , v závislosti od nerovnice môže byť  $P$  alebo  $N$ . **1.1.5.**  $(p \Rightarrow q) \Leftrightarrow \overline{p \wedge \overline{q}} \Leftrightarrow (\overline{p} \vee q)$ , resp.  $(p \Leftrightarrow q) \Leftrightarrow \overline{p \wedge \overline{q} \wedge \overline{p} \wedge q} \Leftrightarrow [(\overline{p} \vee q) \wedge (p \vee \overline{q})] \Leftrightarrow \overline{\overline{p \vee q} \vee \overline{p \vee \overline{q}}} \Leftrightarrow \overline{(\overline{p \wedge \overline{q}}) \vee (\overline{p} \wedge q)}$ . **1.1.7.** a) áno, b) áno, c) nie, d) áno, e) áno, f) áno, g) áno, h) áno, i) nie, j) áno. **1.1.10.** a) áno, b) nie, c) nie, d) nie, e) nie, f) nie, g) nie, h) áno, i) áno, j) nie, k) nie, l) áno. **1.1.12.** a) „ $x$  je deliteľné dvomi alebo tromi práve vtedy, ak je deliteľné šiestimi.“, neg.  $(p \wedge q \wedge \overline{r}) \vee (r \wedge \overline{p \wedge q})$ : „ $x$  je deliteľné dvomi, tromi a nie šiestimi alebo je deliteľný šiestimi a nie dvomi a tromi zároveň“, b) „Ak je  $x$  deliteľné dvomi alebo tromi, potom je deliteľné šiestimi.“, neg.  $(p \vee q) \wedge \overline{r}$ : „ $x$  je deliteľné dvomi alebo tromi a nie šiestimi.“, c) „Ak neplatí, že  $x$  je deliteľné dvomi alebo tromi, potom  $x$  nie je deliteľné dvomi ani tromi.“, neg.  $\overline{p \vee q} \wedge (p \vee q)$ : „Neplatí, že  $x$  je deliteľné dvomi alebo tromi a zároveň platí, že  $x$  je deliteľné dvomi alebo tromi.“, d) „Platí, že ak je  $x$  deliteľné dvomi potom je deliteľné aj tromi alebo neplatí, že  $x$  je deliteľné dvomi a tromi.“, neg.  $p \wedge \overline{q} \wedge r$ : „ $x$  je deliteľné dvomi a nie tromi a šiestimi.“, e) „Implikácia, ak  $x$  je deliteľné dvomi, potom je deliteľné aj tromi, platí práve vtedy, ak je  $x$  deliteľné dvomi alebo nie je deliteľné tromi.“, neg.  $(\overline{p} \wedge q) \vee (p \wedge \overline{q})$ : „Buď je  $x$  deliteľné dvomi a nie tromi, alebo je  $x$  deliteľné tromi a nie dvomi.“, f) „Ak je  $x$  deliteľné dvomi alebo šiestimi potom je  $x$  deliteľné dvomi alebo tromi.“, neg.  $(p \vee r) \wedge \overline{p} \wedge \overline{q}$ : „ $x$  je deliteľné dvomi alebo šiestimi a zároveň nie je deliteľné dvomi ani tromi.“. **1.1.13.** a) áno, b) nie, c) áno, d) áno, e) nie, f) áno. **1.1.14.** a) nie, b) nie, c) áno, d) nie, e) nie, f) nie. **1.1.15.** Tautológie: b) , d) , e) , f) , h) , kontraindikácie: a) , c) , g) , i) , j) . **1.1.16.**  $\overline{p \wedge \overline{q} \wedge r} \wedge \overline{\overline{s} \wedge \overline{s} \wedge \overline{r}}$ . **1.1.17.** a)  $(p \wedge q) \vee r \vee s$ , b)  $(p \wedge q) \wedge \overline{r \vee s}$ , c)  $(p \vee q) \vee \overline{r} \wedge \overline{s}$ . **1.1.20.** a) nie, b) nie, c) nie, d) áno, e) nie, f) áno. **1.1.21.** Pravdivosť pôvodných výrokov: a) áno, b) nie, c) áno, d) nie, e) áno, f) nie, g) áno, h) áno.

**1.3.3.** Do množiny  $2^A$  patria  $\emptyset, \{1\}, \{2\}, \{3\}, \{4\}, \{1, 2\}, \{1, 3\}, \{1, 4\}, \{2, 3\}, \{2, 4\}, \{3, 4\}, \{1, 2, 3\}, \{1, 2, 4\}, \{1, 3, 4\}, \{2, 3, 4\}$ ,  $A$ . Do množiny  $2^B$  patria  $\emptyset, \{1\}, \{2\}, \{3\}, \{4\}, \{5\}, \{1, 2\}, \{1, 3\}, \{1, 4\}, \{1, 5\}, \{2, 3\}, \{2, 4\}, \{2, 5\}, \{3, 4\}, \{3, 5\}, \{4, 5\}, \{1, 2, 3\}, \{1, 2, 4\}, \{1, 2, 5\}, \{1, 3, 4\}, \{1, 3, 5\}, \{1, 4, 5\}, \{2, 3, 4\}, \{2, 3, 5\}, \{2, 4, 5\}, \{3, 4, 5\}, \{1, 2, 3, 4\}, \{1, 2, 3, 5\}, \{1, 2, 4, 5\}, \{1, 3, 4, 5\}, \{2, 3, 4, 5\}$ ,  $B$ . **1.3.4.**  $2^{(n^k)}$ . **1.3.5.** a) nie, b) áno, c) áno, d) nie, e) nie, f) nie, g) áno, h) nie, i) nie, j) nie, k) nie, l) áno. **1.3.6.**  $A \subset B \cap D, A' \cup C = X, B \cup (D - A)' = (D - B)'$ ,  $D \Delta (A \cap C) = D - A$ . **1.3.7.**  $R \subset P$ . **1.3.8.**  $A \cup B = B, B \cap D' = B - A, B \cap D' \subset A \Delta C, B \cap D' \subset A \cup B$ . **1.3.12.** Všetky podmnožiny množiny  $\{1, 3, 5, 7\}$  okrem  $\emptyset$ . **1.3.13.** a)  $\{2, 4, 8, 10, 14\}, \{2, 4, 6, 8, 12, 14\}, \{3, 6, 9, 12\}$ , b)  $\{3, 9, 15\}, \{5, 15\}, \{5, 10\}$ , c)  $\{2, 3, 4, 6, 8, 9, 10, 12, 14, 15\}, \{2, 4, 5, 6, 8, 10, 12, 14, 15\}, \{3, 5, 6, 9, 10, 12, 15\}$ , d)  $\{6, 12\}, \{10\}, \{15\}$ , e)  $\emptyset, \{2, 3, 4, 5, 6, 8, 9, 10, 12, 14, 15\}$ , f)  $\{2, 3, 4, 8, 9, 10, 14, 15\}, \{2, 4, 5, 6, 8, 12, 14, 15\}, \{3, 5, 6, 9, 10, 12\}$ , g)  $\{5, 6, 10, 12, 15\}, \{10, 15\}$ , h)  $\{3, 6, 9, 10, 12, 15\}, \{6, 12, 15\}$ , i)  $\{2, 4, 6, 8, 10, 12, 14, 15\}, \{6, 10, 12\}$ , j)  $\{2, 3, 4, 6, 8, 9, 10, 12, 14\}, \{6, 12\}$ , k)  $\{10, 15\}$ , l)  $\{2, 3, 4, 8, 9, 10, 14, 15\}$ , m)  $\{2, 3, 4, 8, 9, 10, 14, 15\}$ , n)  $\{3, 6, 9, 10, 12, 15\}$ . **1.3.17.** Obidve. **1.3.18.** a) relácia medzi  $A$  a  $B$ , aj  $B$  a  $A$ , b) nie, c) relácia medzi  $A$  a  $B$ , d) relácia medzi  $A$  a  $B$ , zobrazenie z  $B$  do  $A$ . **1.3.19.**  $\{\pm 2; \pm 1\}$ . **1.3.20.** a)  $f = \{[a; a], [a; b], [a; c], [a; d], [a; e], [b; a], [b; b], [b; c], [b; d], [b; e], [c; a], [c; b], [c; c], [c; d], [c; e], [d; a], [d; b], [d; c], [d; d], [d; e], [e; a], [e; b], [e; c], [e; d], [e; e]\}$ , b)  $f = \{[a; a], [a; b], [a; c], [a; d], [a; e], [b; a], [b; b], [b; c], [b; d], [b; e], [c; a], [c; b], [c; c], [c; d], [c; e], [d; a], [d; b], [d; c], [d; d], [d; e], [e; a], [e; b], [e; c], [e; d], [e; e]\}$ , c)  $f = \{[a; a], [a; c], [a; e], [b; b], [c; c], [c; e], [d; d], [e; e]\}$ , d)  $f = \{[a; a], [a; c], [a; e], [c; a], [c; c], [c; e], [e; a], [e; c], [e; e]\}$ . **1.3.21.** a) áno, b) nie. **1.3.23.** a)

pre všetky  $n \in N$  množiny  $\{n\}$ , b) pre všetky prvočísla  $p$  množiny  $\{kp: k \in N\}$ , pričom 1 priradíme do niektorej z nich. **1.3.24.** a) spočítateľná, b) nespočítateľná, c) nespočítateľná, d) nespočítateľná. **1.3.25.** Nespočítateľná.

## 2 Reálne čísla

**2.1.9.** a) 2 a 3, b) 0 a 3/2, c) 0 a 1, d) 0 a  $\sin 1$ , e) 0 a 1/2, f) 1 a  $\infty$ . **2.1.10.** a)  $-1/3$  a 1/2, b)  $(\sqrt{5}-1)/2$  a  $\infty$ . **2.1.21.** a)  $\emptyset$ , b)  $(4, 83478; \infty)$ , c)  $(-\infty; -2) \cup (-\sqrt{5}/2; -1) \cup (0; 1) \cup (\sqrt{5}/2; 2)$ , d)  $(-2; -1) \cup (1; 2)$ , e)  $\{1\}$ , f)  $(-2; -1) \cup (1; 2) \cup (2; \infty)$ . **2.1.22.** a)  $(1/2; 3)$ , b)  $(-7; -4)$ , c)  $(16/11; 2)$ , d)  $(-1; 4)$ , e)  $(-\infty; 1) \cup (3; \infty)$ , f)  $(-\infty; -1-\sqrt{2}) \cup (-1+\sqrt{2}; 1) \cup (2; \infty)$ . **2.1.23.** a)  $\emptyset$ , b)  $(-\infty; (-1-\sqrt{3})/2) \cup ((-1+\sqrt{3})/2; \infty)$ , c)  $(-1/2; 2)$ , d)  $\emptyset$ , e)  $(-\infty; -3) \cup (8; \infty)$ , f)  $(-\infty; 7-\sqrt{73}) \cup (7+\sqrt{73}; \infty)$ , g)  $R$ , h)  $R$ , i)  $(-2; 0) \cup (1; \infty)$ . **2.1.24.** a)  $(-2-\sqrt{3}; -3) \cup (-1; -2+\sqrt{3})$ , b)  $(-\infty; -1-\sqrt{5}) \cup (-2; 0) \cup (1+\sqrt{5}; \infty)$ , c)  $(-1-\sqrt{7}; -1) \cup (1; 1+\sqrt{7})$ , d)  $(-9; \infty)$ , e)  $(-\infty; -3) \cup (24/7; 4)$ , f)  $(-3; -2) \cup (-3/2; \infty)$ , g)  $(-4; -2) \cup (-1; 1) \cup (2; \infty)$ , h)  $(-4; -2) \cup (-1; 1) \cup (2; \infty)$ , i)  $(-\infty; -\sqrt{6}) \cup (0; 2) \cup (3; \infty)$ . **2.1.25.** a)  $(-\infty; -4) \cup (2; \infty)$ , b)  $((1-\sqrt{13})/2; -1) \cup (0; (1+\sqrt{13})/2) \cup (2; \infty)$ , c)  $(-\infty; -7) \cup (-3; \infty)$ , d)  $(-\infty; -1) \cup (0; 1)$ , e)  $(-\infty; -4)$ , f)  $(-\infty; -1/2) \cup (0; 1) \cup (2; \infty)$ , g)  $(-\infty; -1) \cup (0; 1)$ , h)  $(-\infty; -2/3) \cup (1; 2)$ . **2.1.26.** a)  $\{3; 4\}$ , b)  $\{3; 4\}$ , c)  $\{3; 4\} \cup (4; \infty)$ . **2.1.27.** a)  $(-\infty; 1)$ , b)  $R$ , c)  $(0; \infty)$ , d)  $R$ , e)  $\emptyset$ , f)  $(-\infty; 0)$ , g)  $(0; \infty)$ , h)  $R - \{\pm\sqrt{3}\}$ , i)  $\langle(-1-\sqrt{5})/2; 0\rangle \cup \langle(-1+\sqrt{5})/2; \infty\rangle$ , j)  $R$ , k)  $\langle 0; 1\rangle$ , l)  $\langle 0; \infty\rangle$ . **2.1.30.** a)  $(-4; (-3-\sqrt{21})/2) \cup ((-3+\sqrt{21})/2; 1)$ , b)  $(-\infty; 2-\sqrt{5}) \cup (2+\sqrt{5}; \infty)$ , c)  $(-\infty; (-1-\sqrt{13})/2) \cup (-2; 1) \cup ((-1+\sqrt{13})/2; \infty)$ . **2.1.31.** Dlhšia odvesna väčšia ako  $(1+\sqrt{241})/2$ . **2.1.32.** a)  $(-\infty; -1/2) \cup (1/2; \infty)$ , b) komplexné pre  $(-4\sqrt{3}; 4\sqrt{3})$ , c) komplexné pre  $(25/4; \infty)$ .

**2.2.3.** a)  $\{0\} \cup \{n^{-1}; n \in N\}$ , b)  $\{0\} \cup \{n^{-1}; n \in N\} \cup \{n^{-2}; n \in N\}$ , c)  $\{0\}$ , d)  $N \cup \{\infty\}$ , e)  $\{n^2; n \in N\} \cup \{\infty\}$ , f)  $\{0\}$ , g)  $R^*$ , h)  $R^*$ , i)  $R^*$ . **2.2.6.** V  $R^2$  vrcholy rovnostranného trojuholníka so stranou 1, v  $R^3$  vrcholy pravidelného štvorstena, atď. **2.2.7.**  $\sqrt{n}$  pre všetky. **2.2.12.** Áno. **2.2.13.** a)  $X = R$ ,  $\rho(x, y) = 1$ , b)  $X = R$ ,  $\rho(x, x) = 0$ ,  $\rho(x, x) = |x| - y$ , c)  $X = R$ ,  $\rho(x, y) = |x - y| + 1$ . **2.2.17.** a) áno, b) áno, c) nie, d) nie. **2.2.18.** a)  $\{\emptyset, \{1\}, X\}$ , b)  $\nexists$ , c)  $\{\emptyset, \{1\}, \{2\}, \{1, 2\}, X\}$ , d)  $\nexists$ , e)  $\nexists$ , f)  $\nexists$ . **2.2.21.** a) áno, b) áno, c) áno, d) áno, e) áno, f) nie.

**2.3.1.** a) rastúca, ohraničená zhora číslom 1, b) klesajúca, ohraničená zdola číslom 1/2, c) klesajúca, ohraničená zdola číslom 1, d) rastúca, nie je ohraničená zhora, e) rastúca, nie je ohraničená zhora, f) rastúca, nie je ohraničená zhora, g) klesajúca, ohraničená zdola číslom 0, h) nie je monotónna, nie je ohraničená zdola ani zhora, i) nie je monotónna, ohraničená zdola číslom 0 a zhora číslom 3, j) rastúca, ohraničená zhora číslom 0, k) rastúca, ohraničená zhora číslom 1. **2.3.2.** a)  $\{0\}$ , b)  $\{1\}$ , c)  $\{1\}$ , d)  $\{1/2, 2\}$ . **2.3.3.**  $\{a_n \pm b_n\}_{n=1}^{\infty}$  diverguje,  $\{a_n b_n\}_{n=1}^{\infty}$  konverguje (napr.  $a_n = 0$ ,  $b_n = n$ ), resp. diverguje (napr.  $a_n = 1$ ,  $b_n = n$ ),  $\{a_n/b_n\}_{n=1}^{\infty}$  konverguje (napr.  $a_n = 1$ ,  $b_n = n$ ), diverguje (napr.  $a_n = 1$ ,  $b_n = n$  pre  $n$  párne a  $b_n = n^{-1}$  pre  $n$  nepárne),  $\{b_n/a_n\}_{n=1}^{\infty}$  diverguje,  $\{1/(a_n b_n)\}_{n=1}^{\infty}$  konverguje (napr.  $a_n = 1$ ,  $b_n = n$ ), diverguje (napr.  $a_n = n^{-2}$ ,  $b_n = n$ ). **2.3.4.**  $\{a_n \pm b_n\}_{n=1}^{\infty}$  konverguje (napr.  $a_n = n$ ,  $b_n = \mp n$ ), diverguje (napr.  $a_n = n$ ,  $b_n = \pm n$ ),  $\{a_n b_n\}_{n=1}^{\infty}$  konverguje (napr.  $\{a_n\}_{n=1}^{\infty} = \{0, 1, 0, 1, \dots\}$ ,  $\{b_n\}_{n=1}^{\infty} = \{1, 0, 1, 0, \dots\}$ ), resp. diverguje (napr.  $a_n = n$ ,  $b_n = n$ ),  $\{a_n/b_n\}_{n=1}^{\infty}$  konverguje (napr.  $a_n = n$ ,  $b_n = n$ ), diverguje (napr.  $a_n = n^2$ ,  $b_n = n$ ),  $\{1/(a_n b_n)\}_{n=1}^{\infty}$  konverguje (napr.  $a_n = n$ ,  $b_n = n$ ), diverguje (napr.  $a_n = (-1)^n$ ,  $b_n = n$ ). **2.3.5.** a) napr.  $\{0, 1, 0, 1, \dots\}$ ,  $\{1, 0, 1, 0, \dots\}$ , b) napr.  $a_n = n^{-1}$ ,  $b_n = n^{-2}$ , c) napr.  $a_n = n + 4$ ,  $b_n = n$ , d) neexistujú. **2.3.6.**  $a_n = -(n^2 - 3n + 4)/2$ . **2.3.7.** a)  $a_{n+1} = 2a_n - 3$ , b)  $a_{n+1} = 2 - a_n$ , c)  $a_{n+1} = a_n - 1$ , d)  $a_{n+1} = a_n/(a_n + 1)$ . **2.3.8.** a)  $a_n = n$ , b)  $a_n = (-1)^{n+1}$ , c)  $a_n = 2^{n-1}n!$ . **2.3.9.** a)  $\pm 1$ , b) 0, c)  $\pm 1$ , d) 0, e)  $\infty$ , f)  $\pm\infty$ , g) 0. **2.3.10.** 200. **2.3.11.** a)  $a_n = a(\sqrt{2}/2)^{n-1}$ , b)  $8a/(2-\sqrt{2})$ , c)  $2a^2$ . **2.3.12.** -2. **2.3.13.** a) áno, b) áno, c) nie, d) áno, e) áno, f) áno. **2.3.14.** a) 2, b) 4, c) 5, d) 1, e) 1, f) 2, g) 0, h)  $(1+\sqrt{5})/2$ . **2.3.15.** a) 0, b) 0, c) 0, d) 0. **2.3.16.** a) 61/450, b) 8/15, c) 1, d) 50/99, e) 2/3, f) 4/33. **2.3.17.** a)  $a \leq 3$ , b)  $-1 < a \leq 1$ , c)  $-4 < a \leq 2$ , d)  $a > -1$ . **2.3.18.** a)  $a = 0$ ,  $b = -1$ , b)  $a = -1$ ,  $b = 2$ , c)  $a < 2$ ,  $b = 0$ , resp.  $a = 3$ ,  $b = -1$ , d)  $a > 2$ ,  $b = 0$ . **2.3.20.** a) 1, b) 2, c) 1, d)  $(1+\sqrt{1+4a})/2$ . **2.3.21.** a) 1, b) 1, c) -5, d) 0, e) 1/6, f) 1/3, g) 4/3, h) 2. **2.3.22.** a)  $\infty$ , b) 1/2, c) 0, d) 1, e) -4, f) 5/3, g) 1, h)  $\infty$ , i) 4. **2.3.23.** a) -1, b) -1, c) 0, d) 1, e)  $\infty$ , f) 1, g)  $\infty$ , h) 0, i) 1, k) 0, l) 0, m) 0, n) 1, o)  $e^{-2}$ , p)  $e^{-3/2}$ , q)  $e^{-1}$ , r)  $e^{-5}$ , s)  $e^{-1/3}$ , t) e. **2.3.24.** a) 1/3, b)  $\infty$ , c)  $-\infty$ , d) 1, e) 1, f)  $1/\sqrt{2}$ , g) 0, h) 2. **2.3.25.** a)  $1/b$ , b)  $1/b$ , c)  $\sqrt{ab}$ . **2.3.26.** a)  $a$  pre  $-1 < a < 1$ , 1/2 pre  $a = 1$ , 0 pre  $a > 1$ , resp.  $a < -1$ ,  $\nexists$  pre  $a = -1$ , b) 0 pre  $-1 < a < 1$ , 1/2 pre  $a = 1$ , 1 pre  $a > 1$ , resp.  $a < -1$ ,  $\nexists$  pre  $a = -1$ , c) 0 pre  $a \neq 1$ , 1/2 pre  $a = 1$ ,  $\nexists$  pre  $a = -1$ , d) 0 pre  $-5 < a < 1$ , 1 pre  $a = -1$ ,  $\infty$  pre  $a > -1$ ,  $\nexists$  pre  $a \leq -5$ , e) 0 pre  $-1 < a < 1$ , e pre  $a = 1$ ,  $\infty$  pre  $a > 1$ ,  $\nexists$  pre  $a \leq -1$ , f)  $a^2$ , g)  $e^{-2a}$ , h) 0 pre  $-3 < a < 3$ , -1 pre  $a = 3$ ,  $-\infty$  pre  $a > 3$ ,  $\nexists$  pre  $a \leq -3$ . **2.3.27.** a) 0, b) 0, c)  $a/2$ , d) 0, e) 1/2, f)  $-\infty$ , g) 0, h) 0, i) 1/2, j)  $\infty$  pre  $a > b$ ,  $-2a$  pre  $a = b$ ,  $-\infty$  pre  $a < b$ , k)  $a - b$ , l)  $\infty$  pre  $a < 1$ , 3 pre  $a = 1$ ,  $-\infty$  pre  $a > 1$ . **2.3.28.** a) 1, b) 5/3, c) 0, d) 2/3, e)  $(a+b)/2$ , f) 1. **2.3.29.** a)  $\infty$  pre  $a > 1/4$ , 1 pre  $a = 1/4$ , 0 pre  $a < 1/4$ , b) 1 pre  $a \leq 1$ ,  $a$  pre  $a > 1$ , c)  $a$ , d) 0 pre  $a < 1$ ,  $\infty$  pre  $a \geq 1$ , e)  $\ln a$  pre  $a > 0$ , 0 pre  $a = 0$ , f)  $a/b$  pre  $b > 0$ ,  $\infty$  pre  $b = 0$ , g)  $\ln a - \ln b$  pre  $a \geq b > 0$ ,  $\infty$  pre  $a > b = 0$ , 0 pre  $a = b = 0$ . **2.3.30.**  $\infty$ .

**2.4.1.** a) diverguje, b) konverguje, c) diverguje, d) diverguje, e) konverguje, f) diverguje, g) konverguje, h) konverguje, i) diverguje, j) diverguje, k) diverguje, l) diverguje, m) diverguje, n) diverguje, o) diverguje [ukážte, že



$a_{n+1}/a_n > 1$ ], **p**) konverguje, **q**) konverguje, **r**) diverguje, **s**) konverguje, **t**) konverguje, **u**) konverguje, **v**) diverguje, **w**) diverguje, **x**) diverguje, **y**) konverguje. **2.4.2.** **a**) diverguje, **b**) diverguje, **c**) diverguje, **d**) konverguje, **e**) konverguje, **f**) konverguje, **g**) konverguje, **h**) konverguje, **i**) diverguje, **j**) diverguje, **k**) diverguje, **l**) diverguje, **m**) konverguje, **n**) diverguje, **o**) konverguje, **p**) diverguje, **q**) konverguje, **r**) konverguje, **s**) konverguje, **t**) diverguje, **u**) konverguje, **v**) diverguje, **w**) diverguje, **x**) konverguje [porovnajte s radom  $\sum_{n=1}^{\infty} 1/n^a$ ]. **2.4.3.** **a**) konverguje, **b**) diverguje, **c**) konverguje, **d**) konverguje, **e**) diverguje, **f**) diverguje, **g**) diverguje, **h**) konverguje, **i**) konverguje, **j**) diverguje, **k**) konverguje, **l**) konverguje, **m**) diverguje, **n**) konverguje, **o**) diverguje, **p**) konverguje, **q**) konverguje, **r**) konverguje. **2.4.4.** **a**) konverguje, **b**) diverguje, **c**) diverguje, **d**) konverguje, **e**) konverguje, **f**) konverguje, **g**) konverguje, **h**) diverguje, **i**) diverguje, **j**) diverguje, **k**) konverguje, **l**) diverguje, **m**) konverguje, **n**) konverguje, **o**) konverguje, **p**) konverguje, **q**) konverguje, **r**) konverguje, **s**) konverguje, **t**) konverguje, **u**) konverguje, **v**) diverguje, **w**) konverguje, **x**) konverguje. **2.4.5.** **a**) diverguje, **b**) konverguje, **c**) konverguje, **d**) konverguje, **e**) konverguje, **f**) diverguje, **g**) diverguje, **h**) diverguje, **i**) konverguje, **j**) konverguje, **k**) konverguje, **l**) konverguje. **2.4.6.** **a**)  $1/2$ , **b**)  $1/2$ , **c**)  $\infty$ , **d**)  $319/1680$ , **e**)  $1$ , **f**)  $1/24$ , **g**)  $3/2$ , **h**)  $3$ , **i**)  $1/4$ , **j**)  $2/5$ , **k**)  $-5/12$ , **l**)  $1/3$ , **m**)  $1-\sqrt{2}$ , **n**)  $8/4928$ . **2.4.7.** **a**) relatívne konverguje, **b**) relatívne konverguje, **c**) relatívne konverguje, **d**) absolútne konverguje, **e**) relatívne konverguje, **f**) relatívne konverguje, **g**) diverguje, **h**) diverguje, **i**) absolútne konverguje, **j**) absolútne konverguje, **k**) absolútne konverguje, **l**) relatívne konverguje, **m**) relatívne konverguje, **n**) diverguje, **o**) relatívne konverguje. **2.4.8.** **a**)  $a > 3/2$ , **b**)  $a > 2$ , **c**)  $a > 1$ , **d**)  $a > 1$ , **e**)  $a > e$ , **f**)  $0 < a < e^{-1}$ , **g**)  $a < 0$ , **h**)  $a > 1/2$ . **2.4.9.** **a**) konvergujú (napr.  $a_n = -b_n$ ), resp. divergujú (napr.  $a_n = b_n = n$ ), **b**) konvergujú (napr.  $\sum_{n=1}^{\infty} a_n = \{0, 1, 0, 1, \dots\}$ ,  $\sum_{n=1}^{\infty} b_n = \{1, 0, 1, 0, \dots\}$ ), resp. divergujú (napr.  $a_n = b_n = n$ ), **c**) konvergujú (napr.  $a_n = n$ ,  $b_n = a^2$ ), resp. divergujú (napr.  $a_n = b_n$ ), **d**) konvergujú (napr.  $\sum_{n=1}^{\infty} a_n = \{0, -1, 0, -1, \dots\}$ ,  $\sum_{n=1}^{\infty} b_n = \{-1, 0, -1, 0, \dots\}$ ), resp. divergujú (napr.  $a_n = b_n = n$ ). **2.4.10.** **a**) diverguje, **b**) konverguje (napr.  $a_n = 0$ ,  $b_n = 1$ ), resp. diverguje (napr.  $a_n = 1/n^2$ ,  $b_n = n$ ), **c**) konverguje (napr.  $a_n = 1/n^2$ ,  $b_n = n$ ), resp. diverguje (napr.  $a_n = 1/n^2$ ,  $b_n = 1/n$ ), **d**) konverguje (napr.  $a_n = 0$ ,  $b_n = -1/n$ ), resp. diverguje (napr.  $a_n = 0$ ,  $b_n = 1/n$ ). **2.4.14.**  $\sum_{n=1}^{\infty} [1 + (-1)^n]/3^n = 2 \sum_{n=1}^{\infty} 1/9^n = 1/4$ . **2.4.15.**  $14 + 14/17$ . **2.4.20.** **a**)  $s = 1$ ,  $a_n = 1/2^n$ , **b**)  $s = 1$ ,  $a_1 = 3/2$ ,  $a_n = -1/2^n$ , **c**)  $s = 0$ ,  $a_1 = -1$ ,  $a_n = (-1)^n(2n-1)/(n^2-n)$  pre  $n \geq 2$ , **d**)  $s = 1/2$ ,  $a_1 = -1/2$ ,  $a_n = 1/(n^2-n)$  pre  $n \geq 2$ . **2.4.21.** **a**)  $1, 6 < s < 1, 7$ , **b**)  $1, 206 < s < 1, 207$ , **c**)  $0, 12 < s < 0, 15$ . **2.4.22.** konverguje,  $a_n = a_1 \sqrt{(1-a_1^2)^{(n-1)}}$ ,  $a = a_1/[1 - \sqrt{1-a_1^2}]$ ,  $P = \sqrt{1-a_1^2}/(2a_1)$ . **2.4.23.**  $2\pi h^3 R^2/(12R^2 + 9h^2)$ . **2.4.24.** **a**)  $\sqrt{2}d$  (nezávisí od  $n$ ), **b**)  $(\sqrt{2}+1)d$  (nezávisí od  $n$ ), **c**)  $\pi d/2$  (nezávisí od  $n$ ), **d**)  $2d$  (nezávisí od  $n$ ). **2.4.25.** **a**)  $\sqrt{2}o = 2\sqrt{2}\pi r$ , **b**)  $(\sqrt{2}+1)o = (\sqrt{2}+1)2\pi r$ , **c**)  $\pi o/2 = \pi^2 r$ , **d**)  $2o = 4\pi r$ . **2.4.26.** **a**)  $P+0 = P$ , **b**)  $P+0 = P$ , **c**)  $P+0 = P$ , **d**)  $P+0 = P$ .

**2.5.1.** Porade  $z$ ,  $\bar{z}$ ,  $|z|$ ,  $\text{Arg } z$ ,  $z^{-1}$ ,  $z^{-2}$ ,  $z^2$ ,  $z^3$ : **a**)  $1+i$ ,  $1-i$ ,  $\sqrt{2}$ ,  $\frac{\pi}{4}$ ,  $(1-i)/2$ ,  $-i/2$ ,  $2i$ ,  $-2+2i$ , **b**)  $2+3i$ ,  $2-3i$ ,  $\sqrt{13}$ ,  $\text{arctg}(3/2)$ ,  $(2-3i)/13$ ,  $(-5-12i)/169$ ,  $-5+12i$ ,  $-46+9i$ , **c**)  $-1+i$ ,  $-1-i$ ,  $\sqrt{2}$ ,  $\frac{3\pi}{4}$ ,  $(-1-i)/2$ ,  $i/2$ ,  $-2i$ ,  $2+2i$ , **d**)  $-16i$ ,  $16i$ ,  $16$ ,  $-\frac{\pi}{2}$ ,  $i/16$ ,  $-1/256$ ,  $-256$ ,  $4096i$ , **e**)  $\sqrt{3}+i$ ,  $\sqrt{3}-i$ ,  $2$ ,  $\frac{\pi}{6}$ ,  $(\sqrt{3}-i)/4$ ,  $(1-\sqrt{3}i)/8$ ,  $2+2\sqrt{3}i$ ,  $8i$ , **f**)  $i$ ,  $-i$ ,  $1$ ,  $\frac{\pi}{2}$ ,  $-i$ ,  $-1$ ,  $-i$ , **g**)  $2+i$ ,  $2-i$ ,  $\sqrt{5}$ ,  $\text{arctg}(1/2)$ ,  $(2-i)/5$ ,  $(3-4i)/25$ ,  $3+4i$ ,  $2+11i$ , **h**)  $(1+i)/2$ ,  $(1-i)/2$ ,  $\sqrt{2}/2$ ,  $\frac{\pi}{4}$ ,  $1-i$ ,  $-2i$ ,  $i/2$ ,  $(-1+i)/4$ , **i**)  $(7+6i)/17$ ,  $(7-6i)/17$ ,  $\sqrt{5/17}$ ,  $\text{arctg}(6/7)$ ,  $(7-6i)/5$ ,  $(13-84i)/25$ ,  $(13+84i)/289$ ,  $(-413+666i)/4913$ , **j**)  $(1-i)/2$ ,  $(1+i)/2$ ,  $\sqrt{2}/2$ ,  $\frac{\pi}{4}$ ,  $1-i$ ,  $-2i$ ,  $i/2$ ,  $(-1+i)/4$ . **2.5.2.**  $(a^2-b^2)/(a^2+b^2)$ ,  $2ab/(a^2+b^2)$ ,  $\text{arctg}(2ab/(a^2-b^2))$ . **2.5.3.**  $0$  pre  $n = 2k$  párne,  $(-1)^{(k-1)(k+1)}2^k$  pre  $n = 2k-1$  nepárne. **2.5.4.** **a**)  $2^{10}(\cos(-\frac{5\pi}{3}) + i\sin(-\frac{5\pi}{3}))$ , **b**)  $2^{10}(\cos(-\frac{10\pi}{3}) + i\sin(-\frac{10\pi}{3}))$ , **c**)  $\sqrt{27}(\cos\frac{21\pi}{4} + i\sin\frac{21\pi}{4})$ , **d**)  $\sqrt{27}(\cos\frac{7\pi}{4} + i\sin\frac{7\pi}{4})$ , **e**)  $2^{12}(\cos 4\pi + i\sin 4\pi)$ . **2.5.6.**  $\arg z_1 = \arg z_2$ . **2.5.7.**  $\sum_{k=0}^n (-1)^k \binom{n}{k} (\cos k\varphi + i\sin k\varphi)$ . **2.5.8.** **a**)  $\arg z_1 = \arg(\pm z_2)$ , resp.  $\arg z_1 = \arg(\pm z_2)$ , **b**)  $\arg z_1 = \arg(\pm i z_2)$ , resp.  $\arg z_1 = \arg(\pm i z_2)$ , **c**) v zostávajúcich prípadoch.

### 3 Reálne funkcie

**3.1.1.** **a**) nie, **b**) áno, **c**) áno, **d**) áno, **e**) nie, **f**) áno, **g**) áno, **h**) áno. **3.1.2.** **a**)  $\langle e^{-1}; e \rangle$ , **b**)  $R - \{\frac{\pi}{2} + 2k\pi; k \in Z\}$ , **c**)  $(-\infty; -1) \cup \langle 1; \infty \rangle$ , **d**)  $\langle \sqrt{0+2k\pi}; \sqrt{\pi+2k\pi} \rangle$ ,  $k \in Z$ , **e**)  $Z \cup \langle 0; \infty \rangle$ , **f**)  $\langle (2k\pi)^2; (2k+1)^2\pi^2 \rangle$ ,  $k = 0, 1, \dots$ , **g**)  $\langle 0; \pi^2/4 \rangle \cup \langle (-\pi^2+2k\pi)^2; (\pi^2+2k\pi)^2 \rangle$ ,  $k \in Z$ , **h**)  $\langle \sqrt{(4k-1)\frac{\pi}{2}}; \sqrt{(4k+1)\frac{\pi}{2}} \rangle \cup \langle -\sqrt{(4k+1)\frac{\pi}{2}}; -\sqrt{(4k-1)\frac{\pi}{2}} \rangle$ ,  $k = 0, 1, \dots$ , **i**)  $R - \{\pm\sqrt{1/2}\}$ , **j**)  $(0; \infty) - N$ , **k**)  $(1; \infty) \cup ((-2k+1)^{-1}; (-2k)^{-1}) \cup ((2k+1)^{-1}; (2k)^{-1})$ ,  $k \in N$ , **l**)  $(-\infty; -1) \cup \langle 1; \infty \rangle$ , **m**)  $(-\infty; 0)$ , **n**)  $(-1; 1)$ , **o**)  $R - \langle 2; 3 \rangle$ , **p**)  $\langle 2; \infty \rangle - \{4\}$ , **q**)  $R$ , **r**)  $(e; \infty)$ , **s**)  $\langle \frac{\pi}{4} + k\pi; \frac{\pi}{2} + k\pi \rangle$ ,  $k \in Z$ , **t**)  $(-\infty; 0)$ , **u**)  $(-\infty; -1) \cup \langle 1; \infty \rangle$ , **v**)  $R - \{-1\}$ , **w**)  $(-\infty; -1) \cup \langle 0; \infty \rangle$ , **x**)  $(-\infty; -2) \cup \langle 3; \infty \rangle$ . **3.1.3.** **a**)  $(-\frac{\pi}{4} + k\frac{\pi}{2}; \pi/8 + k\frac{\pi}{2})$ ,  $k \in Z$ , **b**)  $R - \langle -2; 2 \rangle$ , **c**)  $\langle 2; \infty \rangle$ , **d**)  $\langle k\pi; \frac{\pi}{2} + k\pi \rangle$ ,  $k \in Z$ , **e**)  $\langle 0 + 2k\pi; \frac{\pi}{2} + 2k\pi \rangle$ ,  $k \in Z$ , **f**)  $\emptyset$ , **g**)  $\langle -\frac{5\pi}{6} + k\pi; \frac{5\pi}{6} + k\pi \rangle$ ,  $k \in Z$ , **h**)  $\langle 0; 1 \rangle \cup \langle 1; \infty \rangle$ , **i**)  $R - \{1 \pm \sqrt{7}\}$ , **j**)  $(0; \infty)$ , **k**)  $(-\frac{\pi}{2} + k\pi; \frac{\pi}{4} + k\pi)$ ,  $k \in Z$ , **l**)  $(-\frac{\pi}{6} + 2k\pi; \frac{\pi}{6} + 2k\pi)$ ,  $k \in Z$ , **m**)  $R$ , **n**)  $R$ , **o**)  $\langle -2; 4 \rangle$ , **p**)  $\langle -1; 1 \rangle$ , **q**)  $\langle -1; 1 \rangle$ , **r**)  $\langle -1; 1 \rangle$ , **s**)  $\langle 0; 4 \rangle$ , **t**)  $(-\infty; \sqrt{3}) \cup \langle 0; \sqrt{3} \rangle$ , **u**)  $\langle -4; 0 \rangle$ . **3.1.4.** **a**)  $\langle -1; 3 \rangle$ , **b**)  $\langle -1/3; 1 \rangle$ , **c**)  $(-1; 1) \cup \langle 2; \infty \rangle$ , **d**)  $\langle 1; 100 \rangle$ , **e**)  $R - \{(1+k\pi)/2; k \in Z\}$ , **f**)  $\emptyset$ , **g**)  $(-\infty; -8) \cup \langle -2; 2 \rangle \cup \langle 8; \infty \rangle$ , **h**)  $\langle -\ln 2; \ln 2 \rangle$ , **i**)  $(-\infty; -1) \cup \langle 1; \infty \rangle$ , **j**)  $R - \{\frac{3\pi}{2} + 2k\pi; k \in Z\}$ , **k**)  $(-\infty; \ln 3)$ , **l**)  $\langle 1/e; \infty \rangle - \{1\}$ , **m**)  $(-1/3; \infty)$ , **n**)  $\langle 3/2; \infty \rangle$ , **o**)  $(-\infty; \infty) - \{-1\}$ , **p**)  $\langle 0; \infty \rangle$ , **q**)  $\langle -2k+1; -2k+2 \rangle$ ,  $k \in Z$ , **r**)  $\langle -1/3; 1 \rangle$ . **3.1.7.** **a**) áno, **b**) nie, **c**) nie. **3.1.8.**  $f = h$ . **3.1.11.** **a**) párna, **b**) párna, **c**) nepárna, **d**) ani



párna ani nepárna, **e)** nepárna, **f)** nepárna, **g)** ani párna ani nepárna, **h)** párna a aj nepárna, **i)** nepárna, **j)** párna, **k)** nepárna, **l)** párna, **m)** nepárna, **n)** párna, **o)** párna, **p)** nepárna, **q)** nepárna, **r)** párna, **s)** ani párna ani nepárna, **t)** ani párna ani nepárna, **u)** nepárna, **v)** párna, **w)** párna, **x)** nepárna. **3.1.13.** Párna, nepárna: **a)** 1,  $x$ , **b)**  $|x|$ ,  $x$ , **c)**  $x^2 + |x|$ , 0, **d)**  $x^2$ ,  $x$ , **e)**  $\chi(x)$ , 0, resp. 0,  $\chi(x)$ , resp.  $\chi(x)/2$ ,  $\chi(x)/2$ , **f)**  $\cosh x$ ,  $\sinh x$ , **g)**  $1/(1-x^2)$ ,  $-x/(1-x^2)$ , **h)**  $x^2 + 1$ ,  $-2x$ , **i)**  $-([x] + \lfloor -x \rfloor)/2$ ,  $(2x - [x] + \lfloor -x \rfloor)/2$ , **j)**  $([x] + \lfloor -x \rfloor)/2$ ,  $(2x + [x] - \lfloor -x \rfloor)/2$ , **k)**  $((-1)^{\lfloor x-1 \rfloor} + (-1)^{\lfloor -x-1 \rfloor})/2$ ,  $((-1)^{\lfloor x-1 \rfloor} - (-1)^{\lfloor -x-1 \rfloor})/2$ , **l)**  $([x] + \lfloor -x \rfloor + 2|x|)/2$ ,  $([x] - \lfloor -x \rfloor)/2$ . **3.1.14.** Párna, resp. nepárna: **a)**  $y = |x| - 1$ ,  $x \in \mathbb{R}$ , resp.  $y = x - 1$ ,  $x > 0$ ,  $y = x + 1$ ,  $x < 0$ , **b)**  $y = |x - 1|$ ,  $x > 0$ ,  $y = |x + 1|$ ,  $x < 0$ , resp.  $y = |x - 1|$ ,  $x > 0$ ,  $y = -|x + 1|$ ,  $x < 0$ , **c)**  $y = \sqrt{x + 1}$ ,  $x > 0$ ,  $y = \sqrt{-x + 1}$ ,  $x < 0$ , resp.  $y = \sqrt{x + 1}$ ,  $x > 0$ ,  $y = -\sqrt{-x + 1}$ ,  $x < 0$ , **d)**  $y = (x + 1)^{-1}$ ,  $x > 0$ ,  $y = (-x + 1)^{-1}$ ,  $x < 0$ , resp.  $y = (x + 1)^{-1}$ ,  $x > 0$ ,  $y = (x - 1)^{-1}$ ,  $x < 0$ , **e)**  $y = x + [x]$ ,  $x > 0$ ,  $y = -x + \lfloor -x \rfloor$ ,  $x < 0$ , resp.  $y = x + [x]$ ,  $x > 0$ ,  $y = x - \lfloor -x \rfloor$ ,  $x < 0$ , **f)**  $y = x^2 - x$ ,  $x > 0$ ,  $y = x^2 + x$ ,  $x < 0$ , resp.  $y = x^2 - x$ ,  $x > 0$ ,  $y = -x^2 - x$ ,  $x < 0$ . **3.1.15.** **a)** áno,  $\pi$ , **b)** nie, **c)** áno,  $\pi$ , **d)** áno, 2, **e)** áno, 1, **f)** áno, nemá (všetky  $p \in \mathbb{R}$ ), **g)** áno, nemá (všetky  $p \in \mathbb{R}$ ), **h)** áno, 2. **3.1.16.** **a)** áno,  $2\pi$ , **b)** áno,  $\pi$ , **c)** nie, **d)** áno,  $2\pi$ , **e)** áno,  $2\pi$ , **f)** áno,  $2\pi$ , **g)** áno,  $\pi$ , **h)** áno,  $\pi$ , **i)** nie, **j)** áno, 2, **k)** áno, 2, **l)** nie. **3.1.17.** **a)**  $y = (x - k)^2$ ,  $x \in (k; k + 1)$ ,  $k \in \mathbb{Z}$ , **b)**  $y = (x + 1 - k)^2$ ,  $x \in (k; k + 1)$ ,  $k \in \mathbb{Z}$ , **c)**  $y = \sqrt{x + 3} - k$ ,  $x \in (k; k + 1)$ ,  $k \in \mathbb{Z}$ . **3.1.18.** Uvedieme iba definíciu funkcie na intervale periodicity: **a)** napr.  $y = 1 - x$  pre  $x \in (0; 1)$ ,  $y = 0$  pre  $x \in (1; 3)$  a  $y = x - 3$  pre  $x \in (3; 4)$ , **b)** napr.  $p = 9$ ,  $y = x - 1$  pre  $x \in (1; 3)$ ,  $y = 2$  pre  $x \in (3; 6)$ ,  $y = 8 - x$  pre  $x \in (6; 8)$  a  $y = 0$  pre  $x \in (8; 10)$ , **c)** napr.  $p = 8$ ,  $y = x + 2$  pre  $x \in (-4; -1)$ ,  $y = -x$  pre  $x \in (-1; 1)$ ,  $y = x - 2$  pre  $x \in (1; 4)$ , **d)** neexistuje, **e)** napr.  $f(0) = 0$ ,  $f(x) = 3 - x$  pre  $x \in (1; 5)$ , **f)** napr.  $f(x) = 3 - x$  pre  $x \in (0; 3)$  a  $f(x) = x - 5$  pre  $x \in (5; 8)$ . **3.1.20.** **a)** na  $(-\infty; -1)$ ,  $(1; \infty)$ ,  $(1/(k + 1); 1/k)$ ,  $k \in \mathbb{Z} - \{0, -1\}$  je konštantná, **b)** na  $(-\infty; 1/2)$  klesá, na  $(1/2; \infty)$  rastie, **c)** na  $(-\infty; 3/2)$  klesá, na  $(3/2; \infty)$  rastie, **d)** na  $(-\infty; -1)$  klesá, na  $(-1; 2)$  je konštantná a na  $(2; \infty)$  rastie, **e)** na  $(-\infty; 3/2)$  klesá, na  $(3/2; \infty)$  rastie, **f)** na  $(-\infty; -\sqrt{3}/2)$  a  $(0; \sqrt{3}/2)$  klesá a na  $(-\sqrt{3}/2; 0)$  a  $(\sqrt{3}/2; \infty)$  rastie, **g)** na  $(-\infty; 0)$  rastie a na  $(0; \infty)$  je konštantná, **h)** na  $(0; \sqrt{e})$  klesá a na  $(\sqrt{e}; \infty)$  rastie, **i)** klesá na  $\mathbb{R}$ , **j)** na  $(-\infty; -\sqrt{1/3})$  a  $(\sqrt{1/3}; \infty)$  rastie a na  $(-\sqrt{1/3}; \sqrt{1/3})$  klesá, **k)** klesá na  $(-\infty; 2/3)$ , **l)** na  $(-\infty; -3)$  a  $(0; \infty)$  je konštantná a na  $(-3; 0)$  rastie, **m)** rastie na  $(k; k + 1)$ ,  $k \in \mathbb{Z}$ , **n)** na  $(-\infty; -1)$  klesá a na  $(-1; \infty)$  rastie, **o)** na  $(-\infty; 0)$  je konštantná a na  $(0; \infty)$  rastie, **p)** rastie na  $(1; \infty)$ , **q)** klesá na  $(-\infty; 3)$  a  $(3; \infty)$ , **r)** klesá na  $(-\infty; 3)$  a  $(3; \infty)$ , **s)** rastie na  $(0; \infty)$ , **t)** rastie na  $(0; \infty)$ . **3.1.21.** **a)** ohraničená zdola,  $\inf f(x) = 0$ ,  $\sup f(x) = \infty$ , **b)** ohraničená zdola,  $\inf f(x) = 0$ ,  $\sup f(x) = \infty$ , **c)** ohraničená,  $\inf f(x) = \min f(x) = 1/2$ ,  $\sup f(x) = \max f(x) = 1$ , **d)** ohraničená,  $\inf f(x) = -14$ ,  $\sup f(x) = \max f(x) = 1$ , **e)** ohraničená zdola,  $\inf f(x) = \min f(x) = 1$ ,  $\sup f(x) = \infty$ , **f)** ohraničená,  $\inf f(x) = \min f(x) = 2$ ,  $\sup f(x) = 17$ . **3.1.22.** **a)**  $\min f(x) = 3/2$ ,  $\sup f(x) = \infty$ , **b)**  $\inf f(x) = -\infty$ ,  $\sup f(x) = \infty$ , **c)**  $\min f(x) = 0$ ,  $\sup f(x) = \infty$ , **d)**  $\min f(x) = -1/4$ ,  $\sup f(x) = \infty$ , **e)**  $\min f(x) = 0$ ,  $\max f(x) = 1$ , **f)**  $\min f(x) = -1$ ,  $\max f(x) = 1$ , **g)**  $\min f(x) = 1$ ,  $\max f(x) = 3$ , **h)**  $\min f(x) = -1$ ,  $\max f(x) = 1$ . **3.1.23.**  $f(g) = g(f): y = 1 - x^2$ ,  $f(h) = h(f): y = \sin x$ ,  $h(g) = f[h(g)] = h[f(g)] = h[g(f)]: y = \sin(1 - x^2)$ ,  $g(h) = f[g(h)] = g[f(h)] = g[h(f)]: y = 1 - \sin^2 x$ . **3.1.24.** Porade  $f(g)$ ,  $g(f)$ ,  $f(f)$ ,  $g(g)$ : **a)**  $8 - 2x$ ,  $4 - 2x$ ,  $4x$ ,  $x$ , **b)**  $1 - x^2 + x^4$ ,  $2x + 3x^2 + 2x^3 + x^4$ ,  $3 + 3x + 4x^2 + 2x^3 + x^4$ ,  $-2x^2 + x^4$ , **c)**  $\ln \sqrt{1 - |x|}$ ,  $\sqrt{1 - |\ln x|}$ ,  $\ln \ln x$ ,  $\sqrt{1 - |\sqrt{1 - |x|}|}$ , **d)**  $\ln \sinh x$ ,  $(-1 + x^2)/(2x)$ ,  $\ln \ln x$ ,  $\sinh \sinh x$ , **e)**  $\operatorname{argsinh} \cosh x$ ,  $\sqrt{1 + x^2}$ ,  $\cosh \operatorname{argsinh} x$ ,  $\cosh \cosh x$ , **f)**  $x$ ,  $x$ ,  $x^4$ ,  $\sqrt[4]{x}$ , **g)**  $(\sqrt{x} + 1)^2$ ,  $x + 1$ ,  $4 + 8x + 8x^2 + 4x^3 + x^4$ ,  $\sqrt[4]{x}$ , **f)**  $x^2 \pm [x]$ ,  $x^2 [x]$ ,  $x^2/[x]$ ,  $[x]^2$ ,  $[x^2]$ ,  $x^4$ ,  $[x]$ , **i)**  $-x + x^2 + [x^2 - x]$ ,  $-x + x^2 - [x] + 2x[x] + [x]^2$ ,  $x + [x] + [x + [x]]$ ,  $x - 2x^3 + x^4$ , **j)**  $\sqrt{(5 + 2x)/(2 + x)}$ ,  $1/(2 + \sqrt{x + 2})$ ,  $\sqrt{2 + \sqrt{2 + x}}$ ,  $(2 + x)/(5 + 2x)$ . **3.1.25.** **a)**  $|g| = g$ ,  $f + g: y = x + 1$ ,  $x \in (-\infty; 0)$ ,  $y = 2x^2 + 1$ ,  $x \in (0; \infty)$ ,  $g^2: y = 1$ ,  $x \in (-\infty; 0)$ ,  $y = (x^2 + 1)^2$ ,  $x \in (0; \infty)$ ,  $f/g: y = x$ ,  $x \in (-\infty; 0)$ ,  $y = x^4 + x^2$ ,  $x \in (0; \infty)$ ,  $f/g: y = x$ ,  $x \in (-\infty; 0)$ ,  $y = x^2/(x^2 + 1)$ ,  $x \in (0; \infty)$ ,  $f(g): y = 1$ ,  $x \in (-\infty; 0)$ ,  $y = (x^2 + 1)^2$ ,  $x \in (0; \infty)$ ,  $g(f): y = 1$ ,  $x \in (-\infty; 0)$ ,  $y = x^4 + 1$ ,  $x \in (0; \infty)$ ,  $f(f): y = 1$ ,  $x \in (-\infty; 0)$ ,  $y = x^4$ ,  $x \in (0; \infty)$ ,  $g(g): y = 1$ ,  $x \in (-\infty; 0)$ ,  $y = (x^2 + 1)^2 + 1$ ,  $x \in (0; \infty)$ , **b)**  $|g| = g$ ,  $f + g: y = x + x^2$ ,  $x \in (-\infty; 0)$ ,  $y = x^2 + x + 1$ ,  $x \in (0; \infty)$ ,  $g^2: y = x^2$ ,  $x \in (-\infty; 0)$ ,  $y = (x + 1)^2$ ,  $x \in (0; \infty)$ ,  $f/g: y = x^3$ ,  $x \in (-\infty; 0)$ ,  $y = x^3 + x$ ,  $x \in (0; \infty)$ ,  $f/g: y = 1/x$ ,  $x \in (-\infty; 0)$ ,  $y = x^2/(x + 1)$ ,  $x \in (0; \infty)$ ,  $f(g): y = 1$ ,  $x \in (-\infty; 0)$ ,  $y = (x + 1)^2$ ,  $x \in (0; \infty)$ ,  $g(f): y = 1$ ,  $x \in (-\infty; 0)$ ,  $y = x^2 + 1$ ,  $x \in (0; \infty)$ ,  $f(f): y = 1$ ,  $x \in (-\infty; 0)$ ,  $y = x^4$ ,  $x \in (0; \infty)$ ,  $g(g): y = x^4$ ,  $x \in (-\infty; 0)$ ,  $y = x + 2$ ,  $x \in (0; \infty)$ . **3.1.26.** Pre  $n \in \mathbb{N} \cup \{0\}$ : **a)**  $f_n(x) = x + n$ , **b)**  $f_{2n}(x) = x$ ,  $f_{2n+1}(x) = f(x)$ , **c)**  $f_n(x) = (a_n + xa_{n+1})/(a_{n-1} + xa_n)$ , kde  $a_n$  je  $n$ -tý člen Fibonacciho postupnosti, **d)**  $f_n(x) = x/(1 + nx)$ , **e)**  $f_{4n}(x) = x$ ,  $f_{4n+1}(x) = f(x)$ ,  $f_{4n+2}(x) = -1/x$ ,  $f_{4n+3}(x) = -\frac{1}{f(x)}$ , **f)**  $f_{2n}(x) = x$ ,  $f_{2n+1}(x) = f(x)$ , **g)**  $f_n(x) = x/(1 - nx)$ , **h)**  $f_{2n}(x) = x$ ,  $f_{2n+1}(x) = f(x)$ , **i)**  $f_{4n}(x) = x$ ,  $f_{4n+1}(x) = f(x)$ ,  $f_{4n+2}(x) = -1/x$ ,  $f_{4n+3}(x) = -\frac{1}{f(x)}$ , **j)**  $f_{2n}(x) = x$ ,  $f_{2n+1}(x) = f(x)$ , **k)**  $f_n(x) = (a_n - xa_{n+1})/(-a_{n-1} + xa_n)$ , kde  $a_n$  je  $n$ -tý člen Fibonacciho postupnosti, **l)**  $f_{2n}(x) = x$ ,  $f_{2n+1}(x) = f(x)$ . **3.1.27.** **a)**  $\mathbb{R} - (0; 1)$ , **b)**  $\mathbb{R} - (2 - \sqrt{3}; 2 + \sqrt{3})$ , **c)**  $(-\infty; 2/3)$ . **3.1.30.** **a)**  $y = \sqrt{x + 1}$ ,  $x \in (3; 24)$ , **b)**  $y = 3x/(1 - x)$ ,  $x \in \mathbb{R} - \{1\}$ , **c)**  $y = 4 + \sqrt{x}$ ,  $x \in (0; 1)$ , **d)**  $y = (\arcsin x + 1)/3$ ,  $x \in (-1; 1)$ , **e)**  $y = e^{2x} + 1$ ,  $x \in \mathbb{R}$ , **f)**  $y = 1 + 2e^x + e^{2x}$ ,  $x \in \mathbb{R}$ . **3.1.31.** **a)**  $D(f) = (-\frac{\pi}{2}; \frac{\pi}{2})$ ,  $f^{-1}: y = \operatorname{arctg}(x/2 - 1/2)$ , **b)**  $D(f) = (-\frac{\pi}{2}; \frac{\pi}{2})$ ,  $f^{-1}: y = x$ , **c)**  $D(f) = (-\frac{\pi}{2}; \frac{\pi}{2})$ ,  $f^{-1}: y = \arcsin(1 - x^2)$ , **d)**  $D(f) = (-\infty; 0)$ ,  $f^{-1}: y = \ln \cos x$ , **e)**  $D(f) = (0; \frac{\pi}{2})$ ,  $f^{-1}: y = \arccos e^x$ , **f)**  $D(f) = (0; \infty)$ ,  $f^{-1}: y = \sqrt{1 - \ln(1 + x)}$ , **g)**  $D(f) = \mathbb{R}$ ,  $f^{-1}: y = \ln(e^x - 1)$ , **h)**  $D(f) = \mathbb{R}$ ,  $f^{-1}: y = 1 + \ln(x + 1)$ , **i)**  $D(f) = (-1; 1)$ ,  $f^{-1}: y = x$ , **j)**  $D(f) = (1; \infty)$ ,  $f^{-1}: y = 1 + \sqrt{2 + x}$ , **k)**  $D(f) = (0; \infty)$ ,  $f^{-1}: y = \sqrt[4]{x + 1}$ .

1)  $D(f) = \langle -1; \infty \rangle$ ,  $f^{-1}: y = -1 + x^2$ , **m**)  $D(f) = (2/3; \infty)$ ,  $f^{-1}: y = (1 + 2x)/(1 + 3x)$ , **n**)  $D(f) = \langle 0; \pi \rangle$ ,  $f^{-1}: y = \arccos((1 - x)/(1 + x))$ , **o**)  $D(f) = \langle 0; 3 \rangle$ ,  $f^{-1}: y = 3 \sin x^2$ , **p**)  $D(f) = R$ ,  $f^{-1}: y = \ln(1/2) \ln((1 - x)/(1 + x))$ .  
**3.1.32.** **a**)  $D(f) = (3; \infty)$ ,  $H(f) = R$ ,  $f^{-1}: y = (5 + \sqrt{1 + 4e^x})/2$ , **b**)  $D(f) = R$ ,  $H(f) = \langle 0; \infty \rangle$ ,  $f^{-1}: y = \ln \sqrt{x^2 - 2x}$ ,  
**c**)  $D(f) = \langle 0; 1 \rangle$ ,  $H(f) = \langle 0; \pi + 1 \rangle$ ,  $f^{-1}: y = \cos((1 - x^2)/2)$ , **d**)  $D(f) = R$ ,  $H(f) = R$ ,  $f^{-1}: y = x$ ,  $x \in (-\infty; 0)$ ,  
 $y = x/2$ ,  $x \in \langle 0; \infty \rangle$ , **e**)  $D(f) = R$ ,  $H(f) = R$ ,  $f^{-1}: y = x$ ,  $x \in (-\infty; 0)$ ,  $y = x^2$ ,  $x \in \langle 0; \infty \rangle$ , **f**)  $D(f) = \langle 0; \infty \rangle$ ,  
 $H(f) = \langle 0; \infty \rangle$ ,  $f^{-1}: y = \sqrt{x}$ , resp.  $f^{-1}: y = x$ .

**3.2.1.** **a**) 0, **b**) 1, **c**) 1, **d**)  $e^{-1}$ , **e**) 9, **f**) -1, **g**)  $\frac{1}{2}$ , **h**)  $\frac{1}{2}$ , **i**) 4, **j**)  $10/9$ , **k**) 1, **l**) -1, **m**)  $\frac{1}{2}$ , **n**)  $-\sqrt{2}/2$ , **o**)  $\sqrt{2}/2$ , **p**)  $\sqrt{2}/2$ , **q**)  $\ln a / \ln b$ , **r**) 0, **s**) 0, **t**) 2, **u**)  $-\ln 3/3$ , **v**)  $\frac{1}{2}$ , **w**)  $\frac{1}{2}$ , **x**)  $-2/\sin 3$ . **3.2.2.** **a**)  $n/m$ , **b**)  $\frac{m}{n}$ , **c**)  $a$ ,  
**d**)  $a - b$ , **e**)  $1/2$ , **f**)  $1/2$ , **g**)  $1/3$ , **h**)  $\ln 3 / \ln 6$ , **i**)  $e^a$ , **j**) 0, **k**) 1, **l**) 3, **m**)  $\pi$ , **n**)  $\pi$ , **o**) 1, **p**)  $1/4$ , **q**) 3, **r**)  $\frac{1}{2}$ , **s**)  
 $-\infty$ , **t**)  $\infty$ . **3.2.3.** **a**) 1, **b**)  $1/\sqrt{e}$ , **c**) 1, **d**)  $1/e$ , **e**)  $e^3$ , **f**) 0, **g**) 1, **h**) 1, **i**)  $\frac{1}{2}$ , **j**) 1, **k**) -1, **l**) -12, **m**)  $e^5$ , **n**)  
 $e^5$ , **o**) -1, **p**) 1, **q**)  $1/12$ , **r**)  $1/3$ , **s**)  $\pi$ , **t**)  $3/5$ , **u**)  $1/3$ , **v**)  $5/6$ , **w**)  $3/5$ , **x**)  $4/3$ . **3.2.4.** **a**) 1, **b**) 0, **c**)  $(2a)^{-1}$ , **d**)  
 $\sqrt{2}/4$ , **e**)  $\sqrt{2}/4$ , **f**) 0, **g**)  $-2/5$ , **h**) -1, **i**)  $1/8$ , **j**)  $\frac{1}{2}$ , **k**) 4, **l**)  $5/2$ , **m**) 0, **n**)  $1/2$ , **o**)  $-\infty$ , **p**)  $\infty$ , **q**) 0, **r**)  $\frac{1}{2}$ , **s**) 0,  
**t**) 0, **u**)  $\frac{1}{2}$ . **3.2.5.** **a**)  $1/8$ , **b**) 4, **c**) -1, **d**)  $15/2$ , **e**)  $1/4$ , **f**)  $-2/3$ , **g**)  $1/n$ , **h**)  $11/3$ , **i**)  $\sqrt[3]{2}/3$ , **j**) 1, **k**)  $-\sqrt{2}/2$ , **l**)  
2, **m**) -1, **n**) 2, **o**)  $1/2$ , **p**) 1, **q**)  $\sqrt{2/3}$ , **r**) 1, **s**)  $1/\sqrt[3]{e^2}$ , **t**)  $\sqrt[3]{e^2}$ , **u**) 1, **v**)  $2/\pi$ , **w**) 1, **x**)  $2/\sqrt{3}$ . **3.2.6.** **a**)  $3/2$ , **b**)  
 $3/2$ , **c**) 0, **d**) 6, **e**) 1, **f**)  $1/2$ , **g**)  $6\sqrt{2}$ , **h**)  $\infty$ , **i**)  $-1/2$ , **j**)  $3/2$ , **k**)  $(a - 1)/(3a^2)$ , **l**) 1, **m**)  $-1/4$ , **n**)  $(n^2 - m^2)/2$ ,  
**o**)  $\cos x$ , **p**)  $\sqrt{e^3}$ , **q**) -1, **r**)  $1/2$ , **s**)  $\frac{1}{2}$ , **t**)  $-\frac{\pi}{2}$ , **u**)  $\frac{\pi}{2}$ . **3.2.7.** **a**) 0, **b**)  $1/6^{100}$ , **c**)  $1/4$ , **d**)  $-1/2$ , **e**) -2, **f**) 3, **g**)  
 $2a$ , **h**)  $a$ , **i**) 6, **j**) 0, **k**) 0, **l**) 0, **m**) 2, **n**) 1, **o**)  $2 \cos a$ , **p**)  $2 \cos x$ . **3.2.8.** Nie.

**3.3.1.** Body nespojitosti: **a**) 0 odstrániteľný, **b**)  $k\pi$ ,  $k \in \mathbb{Z}$  neodstrániteľný 2. druhu, **c**) 1 neodstrániteľný 2. druhu,  
**d**) 0 neodstrániteľný 1. druhu, **e**)  $k\pi$ ,  $\frac{\pi}{2} + 2k\pi$ ,  $k \in \mathbb{Z}$  neodstrániteľný 1. druhu, **f**)  $2k\pi$ ,  $\frac{\pi}{2} + k\pi$ ,  $k \in \mathbb{Z}$  neodstrániteľný  
1. druhu, **g**)  $k\pi$ ,  $k \in \mathbb{Z}$  neodstrániteľný 2. druhu, **h**)  $\frac{\pi}{2} + k\pi$ ,  $k \in \mathbb{Z}$  neodstrániteľný 2. druhu, **i**) 0 neodstrániteľný  
2. druhu, **j**) 0 neodstrániteľný 2. druhu, **k**) nie sú, **l**) 0 odstrániteľný, **m**)  $k\pi$ ,  $k \in \mathbb{Z}$  neodstrániteľný 1. druhu, **n**)  
 $\frac{\pi}{2} + k\pi$ ,  $k \in \mathbb{Z}$  neodstrániteľný 1. druhu, **o**) nie sú, **p**) nie sú, **q**) 0 odstrániteľný, **r**) 0 neodstrániteľný 1. druhu, **s**) 0  
odstrániteľný, resp.  $k\pi$ ,  $k \in \mathbb{Z} - \{0\}$  neodstrániteľný 2. druhu, **t**) 0 neodstrániteľný 2. druhu. **3.3.2.** **a**) 2, **b**)  $a \in R$ ,  
**c**) 1, **d**) 1. **3.3.3.** **a**)  $a = 2$ ,  $b = -2$ , **b**)  $a = 7/4$ ,  $b = -3/2$ . **3.3.4.** **a**)  $1/2$ , **b**)  $1/4$ , **c**) 4, **d**)  $e^2$ , **e**) -1, **f**)  $3/2$ .  
**3.3.5.** Spojitá (napr.  $f(x) = 1$  pre  $x \geq a$ ,  $f(x) = -1$  pre  $x < a$ ), resp. nespojitá (napr.  $f(x) = 2$  pre  $x \geq a$ ,  $f(x) = -1$   
pre  $x < a$ ). **3.3.6.** Napr.  $1/[x(x-1) \cdots (x-n)]$ , resp.  $[x]$ . **3.3.7.** Napr.  $f(x) = 0$  pre  $x \in Q$ ,  $f(x) = x(x-1) \cdots (x-n)$   
pre  $x \notin Q$ , resp.  $f(x) = 0$  pre  $x \in Q$ ,  $f(x) = \sin x$  pre  $x \notin Q$ . **3.3.8.** **a**) spojité (napr.  $f = -g$ ), resp. nespojitá (napr.  
 $g = f$ ), **b**) spojité (napr.  $f = g$ ), resp. nespojitá (napr.  $f(x) = 1$  pre  $x \geq a$ ,  $f(x) = -1$  pre  $x < a$ ,  $g(x) = 2$  pre  $x \geq a$ ,  
 $f(x) = -1$  pre  $x < a$ ), **c**) spojité (napr.  $f(x) = 1$  pre  $x \geq a$ ,  $f(x) = 0$  pre  $x < a$ ,  $g(x) = 0$  pre  $x \geq a$ ,  $f(x) = 1$  pre  
 $x < a$ ), resp. nespojitá (napr.  $f = g$ ,  $f(x) = 1$  pre  $x \geq a$ ,  $f(x) = 0$  pre  $x < a$ ), **d**) spojité (napr. pre  $a = 0$ ,  $f(x) = 1$   
pre  $x \geq 0$ ,  $f(x) = 0$  pre  $x < 0$ ), resp. nespojitá (napr. pre  $a = 0$ ,  $f(x) = 1$  pre  $x > 0$ ,  $f(x) = 2$  pre  $x \leq 0$ ), **e**) spojité  
(napr. pre  $a = 0$ ,  $f = g$ ,  $f(x) = 1$  pre  $x \geq 0$ ,  $f(x) = 0$  pre  $x < 0$ ), resp. nespojitá (napr. pre  $a = 0$ ,  $f = g$ ,  $f(x) = 1$  pre  
 $x > 0$ ,  $f(x) = 2$  pre  $x \leq 0$ ), **f**) spojité (napr. pre  $a = 0$ ,  $f = g$ ,  $f(x) = 1$  pre  $x \geq 0$ ,  $f(x) = 0$  pre  $x < 0$ ), resp. nespojitá  
(napr. pre  $a = 0$ ,  $f = g$ ,  $f(x) = 1$  pre  $x > 0$ ,  $f(x) = 2$  pre  $x \leq 0$ ). **3.3.9.** **a**) nespojitá, **b**) nespojitá, **c**) spojité (napr.  
 $f(x) = 0$ ), resp. nespojitá (napr.  $f(x) = 1$ ), **d**) spojité (napr.  $f(x) = \text{konšt.}$ ), resp. nespojitá (napr.  $f(x) = x$ ), **e**) spojité  
(napr.  $f(x) = \text{konšt.}$ ), resp. nespojitá (napr.  $f(x) = x$ ), **f**) spojité (napr.  $f(x) = \text{konšt.}$ ), resp. nespojitá (napr.  $f(x) = x$ ,  
 $g(x) = 0$  pre  $x \geq 0$ ,  $g(x) = 1$  pre  $x < 0$ ). **3.3.10.** Funkcia  $f(g)$ : **a**)  $(-\infty; -1)$ ,  $(-1; 0)$ ,  $(0; 1)$ ,  $(1; \infty)$ , **b**)  $(k; k + 1)$ ,  
 $k \in \mathbb{Z}$  **c**)  $(-\infty; 1)$ ,  $(1; \infty)$ , **d**)  $R$ , **e**)  $R$ , **f**) všade nespojitá. Funkcia  $g(f)$ : **a**)  $R$ , **b**)  $R$ , **c**)  $(-\infty; 0)$ ,  $(0; \infty)$ , **d**)  
 $R$ , **e**)  $(-\infty; 0)$ ,  $(0; \infty)$ , **f**)  $R$ . **3.3.12.** **a**) 1,92627032, **c**) -0,56714329, **b**) -0,73512111, resp. -0,21180469, resp.  
1,09808432, resp. 5,84884147, **d**) 2,20794003, **e**) -0,51859913, resp. 1,36393887, **f**) 1,41298437, resp. 1,89713947.  
**3.3.13.** **a**) 0,20669990, resp. -1,08004724, resp. 1,22919369, resp. 3,64415368, **b**) 1,22919369, resp. -1,08004724,  
resp. 0,20669990, resp. 3,64415368, **c**) 1,32471796, **d**) 0,73908513, **e**) -0,87672622, resp. 0, **f**) 0,48902657. **3.3.14.**  
**a**)  $\langle 0; 1 \rangle$ , **b**)  $\langle 0; 18 \rangle$ , **c**)  $\bigcup_{n=1}^{\infty} \langle n^2; n^2 + n \rangle \cup \{0\}$ , **d**)  $(-\pi; -2\pi) \cup (-3\pi; -4\pi) \cup \{0; \frac{\pi}{2}; \frac{3\pi}{2}\}$ , **e**)  $\{0, 1\}$ , **f**)  $(-\infty; -4)$ .  
**3.3.16.** **a**) áno, **b**) áno, **c**) áno, **d**) áno, **e**) nie, **f**) nie, **g**) áno, **h**) nie, **i**) nie, **j**) nie.

#### 4 Diferenciálny počet reálnej funkcie

**4.1.1.** **a**) 0, **b**) -2, **c**) -1, **d**) 15, **e**) 0, **f**)  $\pi^3$ . **4.1.2.** **a**)  $4x$ , **b**)  $x/\sqrt{x^2 + 1}$ , **c**)  $1/(2\sqrt{x - 1})$ , **d**)  $1 - 2x$ , **e**)  $-1/\sin^2 x$ ,  
**f**) -3, **g**)  $-1/(x - 1)^2$ , **h**)  $-e^{-x}$ . **4.1.3.**  $1 \pm 1/\sqrt{2}$ . **4.1.4.** **a**)  $-2x \ln 22^{-x^2}$ , **b**)  $\sin x e^{-\cos x}$ , **c**)  $\sqrt{x}(1 - \ln x)/x^2$ , **d**)  
 $x^{-2/3}/3$ , **e**)  $2^{\lg x} \ln 2 / \cos^2 x$ , **f**)  $e^x x^{e^x - 1} (1 + x \ln x)$ , **g**)  $x^{\sin x - 1} (x \cos x \ln x + \sin x)$ , **h**)  $2x^{\ln x - 1} \ln x$ , **i**)  $e^{\tanh x} / \cosh^2 x$ , **j**)  
 $[\ln x]^{x-1} + [\ln x]^x \ln \ln x$ , **k**)  $-e^{1/x}/x^2$ , **l**)  $e^{-1/x}/x^2$ , **m**)  $2e^{x^2 - 1} x$ , **n**)  $3\sqrt{x}/2$ , **o**)  $-\sin x / (3\sqrt[3]{\cos^2 x})$ , **p**)  $e^{\sqrt{x}} / (2\sqrt{x})$ , **q**)  
 $e^{\arctg x} / (1 + x^2)$ , **r**)  $x^x (1 + x + x \ln x)$ , **s**)  $x^{-1 + x + x^x} (1 + x \ln x + x \ln^2 x)$ , **t**)  $(x^x)^x (x + x \ln x + \ln x^x)$ , **u**)  $2^{(2/5)} / (25x^{(4/5)})$ ,  
**v**)  $-2 \cotg x / \sin^2 x$ , **w**)  $-2\sqrt[4]{4} / (3x^{7/3})$ , **x**)  $\tg x / \cos x$ , **y**)  $-\sin 2x / \cos x + 2x \cos^2 x \tg x^2 / \cos x^2$ . **4.1.5.** **a**)  $\cotg x -$   
 $x / \sin^2 x$ , **b**)  $\cotg e^x - x e^x / \sin^2 e^x$ , **c**)  $3^x (\ln x - \ln 2) / 2^x$ , **d**)  $(e^x(-3 + x)) / x^4$ , **e**)  $-1 / (1 + x^2)$ , **f**)  $e^x x^4 e^x (5 + x)$ , **g**)  
 $5 \tg^4 x / \cos^2 x$ , **h**)  $2x \cos x^2$ , **i**)  $5e^{5x} / (2\sqrt{e^{5x}})$ , **j**)  $e^{\sin x} \cos x$ , **k**)  $3x^2 \operatorname{sgn} x$ , **l**)  $2|x|$ , **m**) 0, **n**)  $23^{2x} \ln 3$ , **o**)  $-\sin x$

pre  $x \in (-\frac{\pi}{2} + 2k\pi; \frac{\pi}{2} + 2k\pi)$ ,  $\sin x$  pre  $x \in (\frac{\pi}{2} + 2k\pi; \frac{3\pi}{2} + 2k\pi)$ , **p)**  $-3^{\cotg x} \ln 3 / \sin^2 x$ , **q)**  $x^{\sqrt{x}-1/2} (2 + \ln x) / 2$ , **r)**  $\cos x / x^2 \sin^2(x/2) - x^{\cos x} \ln x \sin x$ , **s)**  $x^{(x^2)} (1 + x^2 + 2x^2 \ln x)$ , **t)**  $3/x$ , **u)**  $-1/\sin^2 x$ , **v)**  $x(2 \ln x - 1) / \ln^2 x$ , **w)**  $-2/e^{2x}$ , **x)**  $-2/(x \ln^3 x)$ , **y)**  $-1/((1 + x^2) \arctg^2 x)$ . **4.1.6.** **a)**  $2/(x - 1)^2$ , **b)**  $\tg(x/2) / \cos^2(x/2)$ , **c)**  $2x^2[(1 - x^3)/(1 + x^3)]^{2/3} / (x^3 - 1)^2$ , **d)**  $2[(1 - x)/(1 + x)]^{2x/(1-x)} / (x^2 - 1) + 2[(1 - x)/(1 + x)]^{(1+x)/(1-x)} \ln[(1 - x)/(1 + x)] / (x - 1)^2$ , **e)**  $\sin 2x / e^{\cos^2 x}$ , **f)**  $-\tg x$ , **g)**  $-7/x^8 - 5/x^6$ , **h)**  $-4x^{1/3}/3 + 5x^4/(2\sqrt{x^5})$ , **i)**  $4/(x^2 - 4)$ , **j)**  $(1 + \ln x + \ln^2 x)/(1 + \ln x)^2$ , **k)**  $1/\sin x$ , **l)**  $-2/(1 - \sin 2x)$ , **m)**  $2x/(1 + x^2)$ , **n)**  $6x(x^2 - 1)^2$ , **o)**  $-e^{-x} - 2xe^{-x^2}$ , **p)**  $x^4(-4 + 5 \ln x)$ , **q)**  $-(1 + 2x)^{-3/2}$ , **r)**  $-1/(1 + x^2)$ , **s)**  $-2e^x / (e^x - 1)^2$ , **t)**  $1/(1 + x^2)$ , **u)**  $-8(1 - 2x)^3$ , **v)**  $2 \ln(1 + x)/(1 + x)$ , **w)**  $2x/(1 + x^2)$ , **x)**  $1/[2(\sqrt{x} - 1)\sqrt{x}]$ . **4.1.7.** **a)**  $-2 \cos x^{-2}/x^3$ , **b)**  $(-2 - 2x + x^2)/(-1 + x)^2$ , **c)**  $4e^{2x}/(1 + e^{2x})^2$ , **d)**  $(-1 - \cos x + \sin x)/(1 + \sin 2x)$ , **e)**  $e^{\cos x + \sin x} (\cos x - \sin x)$ , **f)**  $-2x^3/\sqrt{1 - x^4}$ , **g)**  $-1/(2\sqrt{x} \sin^2 \sqrt{x})$ , **h)**  $40x(-1 + x^2)^{19}$ , **i)**  $4x/(1 + x^2)^2$ , **j)**  $1/(2\sqrt{x}(1 + 2\sqrt{x})^2)$ , **k)**  $-(1 + 3x^2)/(2x^{3/2})$ , **l)**  $(x^2(3 + 2x + x^2))/(1 + x + x^2)^2$ , **m)**  $(1 + 2x)/e^{1/x}$ , **n)**  $x e^x (x \cos x + 2 \sin x + x \sin x)$ , **o)**  $(1 - 2x^2) e^{-x^2}$ , **p)**  $-1/(2\sqrt{x}(1 + x))$ , **q)**  $(3 - x)/(2\sqrt{(1 - x)^3})$ , **r)**  $2(-x \cos x + x^3 \cos x - \sin x - x^2 \sin x)/(-1 + x^2)^2$ , **s)**  $(1 - \sqrt{2})/[2\sqrt{x}(1 + \sqrt{2x})^2]$ , **t)**  $1/[\sqrt{(-1 + x)/(1 + x)(1 + x)^2}]$ , **u)**  $e^{1-x^2}(1 - 2x^2)$ , **v)**  $7x^{-1/8}/8$ , **w)**  $1 + \ln x$ , **x)**  $e^{\sqrt{x}}(-1 + \sqrt{x} + x)/(2\sqrt{x}(x - 1))$ . **4.1.8.** **a)**  $-1/(x^2 \cos^2(1 + 1/x))$ , **b)**  $-1/(2 \sin^2(x/2))$ , **c)**  $-\tg(x/2)/(2 \cos^2(x/2))$ , **d)**  $-1/[2\sqrt{x}(1 - \sqrt{x})/(1 + \sqrt{x})(1 + \sqrt{x})^2]$ , **e)**  $8x \ln^3(1 + x^2)/(1 + x^2)$ , **f)**  $2 \cotg 2x$ , **g)**  $x \cosh x + \sinh x$ , **h)**  $-2x/[(1 + x^4) \operatorname{arccotg} x^2]$ , **i)**  $-2 \cotg x / \sin^2 x$ , **j)**  $16x^7/(-1 + x^6)$ , **k)**  $1/(x\sqrt{1 - \ln^2 x})$ , **l)**  $-\sqrt{3}/\sqrt{5 + 2x - 3x^2}$ , **m)**  $-\ln \sin x [\sin x]^{2 \cos^2(x/2)} + \cos^2 x / [\sin x]^{2 \sin^2(x/2)}$ , **n)**  $[\cos x]^{1 + \sin x} \ln \cos x - [\cos x]^{-1 + \sin x} \sin^2 x$ , **o)**  $[\cosh x]^{-1 + \ln x} (\cosh x \ln \cosh x + x \ln x \sinh x) / x$ , **p)**  $(1 + x^2)^{-1 + \operatorname{arctg} x} (2x \operatorname{arctg} x + \ln(1 + x^2))$ , **q)**  $2x/\sqrt{16 + x^4}$ , **r)**  $e^x(1 + e^x)/(1 + e^x)^2$ , **s)**  $-3 \cotgh x / [(1 + x) \ln^2(1 + x)] - 3/(\ln(1 + x) \sinh^2 x)$ , **t)**  $2/(x^3 \sqrt{-x^4 + 2x^{-2}})$ , **u)**  $2[\tg x]^{-1 + \cotg x} / \sin 2x - \ln \tg x \sin^2 x [\tg x]^{\cotg x}$ , **v)**  $3^{\ln[1+x+x^2]} (1 + 2x) \ln[3]/(1 + x + x^2)$ , **w)**  $x(1 - 3x + 2 \ln x)$ , **x)**  $1 - 5 \sin 2x$ . **4.1.9.** **a)**  $-1/(x\sqrt{1 - \ln^2 x})$ , **b)**  $2e^{2x} \cotg e^{2x}$ , **c)**  $-2x$  pre  $x \in (-1; 1)$ ,  $2x$  pre  $x \in R - (-1; 1)$ , **d)**  $1/[x\sqrt{1 - \ln^2 x}]$ , **e)**  $x/\sqrt{1 - x^2} + \arcsin x$ , **f)**  $e^x(\cos x - \sin x)$ , **g)**  $x e^x$ , **h)**  $e^x/\sqrt{1 - x^2} + e^x \arcsin x$ , **i)**  $1/(2\sqrt{x - 1})$  pre  $x > 1$ ,  $-1/(2\sqrt{1 - x})$  pre  $x < 1$ , **j)**  $1$  pre  $x > 2$ ,  $-1$  pre  $x < 2$ , **k)**  $\cotg x - x/\sin^2 x$ , **l)**  $1/[x \ln x \ln \ln x \ln \ln \ln x]$ , **m)**  $2x/(-1 + x^2)$ , **n)**  $2x/(-1 + x^2)$ , **o)**  $-\tgh^2 x$ , **p)**  $5/[\sqrt{1 - 25x^2} \arcsin 5x]$ , **q)**  $\cotg x$ , **r)**  $1/[\sqrt{1 - x^2} \arcsin x]$ , **s)**  $1/\cos 2x$ , **t)**  $-1/(x + x \ln^2 x)$ , **u)**  $1/(x\sqrt{1 + x^2}) - \operatorname{argsinh} x/x^2$ , **v)**  $2x/\cosh x - x^2 \tgh x/\cosh x$ , **w)**  $1/(-1 + x^2) + x \arccos x/\sqrt{(1 - x^2)^3}$ , **x)**  $1/(x - x \ln^2 x)$ . **4.1.10.** **a)**  $3/(4x^{3/4}) + 2/(3^{2/3}) + 1/(2x^{1/2})$ , **b)**  $x/\sqrt{x^2(1 - x^2)}$ , **c)**  $1 + 6x + 15x^2 + 28x^3$ , **d)**  $2(30 + 8x + 15x^2 + 10x^3)/(5 - 4x - x^3)^3$ , **e)**  $2 \operatorname{sgn} x / (1 - x^2)$ , **f)**  $2/\sqrt{1 + x^2}$ , **g)**  $5 \sin 2x + 6x^2 \sin x^3$ , **h)**  $(3 + 2x)/(3(2 + 3x + x^2)^{2/3})$ , **i)**  $4(-1 + 14x + 3x^2)(1 - x + 7x^2 + x^3)^3$ , **j)**  $1 + 4/x^3 + 6x^2$ , **k)**  $-1/(2x^4) + 20x \cos 4x + 3 \ln x/(2x^4) + 5 \sin 4x$ , **l)**  $1/[(-2 + x)^2(5 - 4x + x^2)]$ , **m)**  $-\cos x + 6x^5 \ln 2$ , **n)**  $6x^5 \ln 2$ , **o)**  $1 - 1/(2\sqrt{x}) - 3\sqrt{x}/2$ , **p)**  $-(3 \cos x + \cos 3x - 3 \sin x + \sin 3x)/(4 \sin^2 2x)$ , **q)**  $2x/(-4 - 15x^2 + 4x^4) - 2x^2 \operatorname{arctg} 2x/(-4 + x^2)^2 + \operatorname{arctg} 2x/(-4 + x^2)$ , **r)**  $(-1 + x^2)/[(1 + x^2)^2 \sqrt{(1 + x^4)/(1 + x^2)^2}]$ , **s)**  $x \cos x$ , **t)**  $-3 \cos^2 x \sin x + 3 \cos x \sin^2 x$ , **u)**  $e^x(-5 + 4x^2 + x^3)$ , **v)**  $-6x^8/(1 + x^6)^2$ , **w)**  $-2/(1 - \sin 2x)$ , **x)**  $-1/[2\sqrt{1 + x}(2 + x) \operatorname{arctg}(1 + x)^{-1/2}]$ . **4.1.11.** **a)**  $2 \sin^2 x$ , **b)**  $(-5x(2/3))/3 + (5x(3/2))/2$ , **c)**  $e^{-x}[-1 + 2x - x^2 + 4x^3 - x^4]$ , **d)**  $-2 \arcsin[1/(-1 + x)]/(\sqrt{1 - (-1 + x)^{-2}}(-1 + x)^2)$ , **e)**  $2(1 - \cos x \cosh x)/(\cos x - \cosh x)^2$ , **f)**  $-1/2$ , **g)**  $1/\sqrt{1 + x^2}$ , **h)**  $\cos x \cos \sin x \cos \sin \sin x \cos \sin \sin \sin x$ , **i)**  $1 + 1/(6x^{5/6}) + 1/(4x^{3/4}) + 1/(2x^{1/2})$ , **j)**  $2/(1 - x^2)$ , **k)**  $2x/(2 + 2x^2 + x^4)$ , **l)**  $3/[x(1 + x^3)^2]$ , **m)**  $(-1 + 2 \ln^2 x)/(x \ln x)$ , **n)**  $\cos \cos x \cos \cos \sin \cos x \sin x \sin \sin \cos x$ , **o)**  $2\sqrt{1 - x^2}$ , **p)**  $(1 + 2x \operatorname{arccotg} x)/(-1 + x^2)^2$ , **q)**  $-\tg[1 - 1/x]/x^2$ , **r)**  $2 \cos x / (3[\sin x]^{1/3}) + 2 \tg x / \cos^2 x$ , **s)**  $-2$  pre  $x < 1$ ,  $0$  pre  $x \in (1; 2)$ ,  $2$  pre  $x > 2$ , **t)**  $(2 + 2x)/(3 + 2x + x^2)$ , **u)**  $0$ , **v)**  $-[-2/x^2 + 3/(x \cos^2 x) - 3 \tg x/x^2]/[1 + (2 + 3 \tg x)^2/x^2]$ , **w)**  $-\cotg^2 x / \sin x - 1/\sin^2 x - 1/\sin^3 x$ , **x)**  $(\arcsin x - \arccos x)(\arcsin x + \arccos x)^2 / (\sqrt{1 - x^2} \arccos^2 x \arcsin^2 x)$ . **4.1.12.** **a)**  $-1$ , **b)**  $-1$ , **c)**  $|\cos x|/\cos x$ , **d)**  $(13 - 11x + 2x^2)/(-6 + 11x - 6x^2 + x^3)$ , **e)**  $3(-1 + x^2)/(1 - x - x^3 + x^4)$ , **f)**  $(3 \cos x + 2 \sin x)/(2\sqrt{5(-2 \cos x + 3 \sin x)})$ , **g)**  $-x^{-2}$ , **h)**  $-x^{-2}$ , **i)**  $-x \tg \sqrt{1 + x^2}/\sqrt{1 + x^2}$ , **j)**  $(4 \sin x - 3 \sin 2x)/(6 \cos^3 x)$ , **k)**  $1/(1 + x^2)$ , **l)**  $3\sqrt{x^3 \ln x/x}$ , **m)**  $-|\sin x|/\sin x$ , **n)**  $-1/(2\sqrt{\cotg x \sin^2 x}) - 1/(2\sqrt{\tg x \cos^2 x})$ , **o)**  $-\cos \ln x - \sin \ln x$ , **p)**  $[1 + (1 + 1/(2\sqrt{x}))]/(2\sqrt{\sqrt{x} + x})/[2(x + \sqrt{\sqrt{x} + x})^{1/2}]$ , **q)**  $(\sin(x/2) - \cos(x/2))/[(\cos(x/2) + \sin(x/2))^3 \sqrt{(1 - \sin x)/(1 + \sin x)}]$ , **r)**  $1/[24\sqrt{x}(1 + (1 + \sqrt{x})^{1/3})^{3/4}(1 + \sqrt{x})^{2/3}]$ , **s)**  $-1/(2\sqrt{-x}\sqrt{1 + x})$ , **t)**  $e^{\sqrt{1+x}}(\cos x - \sqrt{1 + x} \sin x)/[2\sqrt{1 + x}\sqrt{\cos x}]$ , **u)**  $1/(2\sqrt{1 - x^2}\sqrt{1 + \arcsin x})$ , **v)**  $4 \sin 2x/(3 + \cos 4x)$ , **w)**  $-4 \sin 2x/(3 + \cos 4x)$ , **x)**  $(1 + x/\sqrt{1 + x^2})/(1 + x + \sqrt{1 + x^2})$ . **4.1.13.** **a)**  $\sqrt{2 + x^2}$ , **b)**  $2(1 + x)/(1 + x + x^2)$ , **c)**  $-x/\sqrt{1 + 2x - x^2}$ , **d)**  $\sqrt{2(3 - x^2)}/(1 + x^4)$ , **e)**  $2x(1 + x)\sqrt{2 + x^2}/(3(3 + x^2)^{2/3}) + x(1 + x)(3 + x^2)^{1/3}/\sqrt{2 + x^2} + \sqrt{2 + x^2}(3 + x^2)^{1/3}$ , **f)**  $4 \tg^5 x$ , **g)**  $x \sin^2 x$ , **h)**  $\arcsin x/(1 - x^2)^{3/2}$ , **i)**  $2x \ln[(1 + x)/(1 - x)]$ , **j)**  $x \operatorname{arctg} x$ , **k)**  $0$ , **l)**  $2(1 - x^2 + x\sqrt{-1 + x^2})/\sqrt{-1 + x^2}$ , **m)**  $-\sin x/12 - 4 \sin 2x/3 + \sin 3x/4$ , **n)**  $1 - \cos 4x - \cos x \sin^4 x + 2 \cos 2x \sin^2 2x$ , **o)**  $-1/(1 + x)^2 + x/(-1 + x^2)$ , **p)**  $(-1/2 + x)/(2\sqrt{1 - x}\sqrt{x}) + (1 - 2x)/(4\sqrt{x - x^2}) + \arcsin \sqrt{x}$ , **q)**  $2 + 4x + 6x^2 + 4x^3 + 5x^4$ , **r)**  $2 + 6x + 9x^2 + 8x^3 + 5x^4$ , **s)**  $4x^2/(-16 + x^4)$ , **t)**  $(5 - 3x^2)/[2(1 + x^2 + x^4)]$ , **u)**  $\arcsin x/(1 - x^2)^{3/2}$ , **v)**  $-2\sqrt{\sin x}/\cos x$ , **w)**  $1/[\sqrt{1 - x^2} \arcsin x] + 1/[x\sqrt{1 - \ln^2 x}] \ln[x - \sqrt{-1 + x^2}]$ , **x)**  $-2(1 + 9x + 6x^2 + x^3)/[(2 + x)^2(3 + x)^2(4 + x)^2]$ , **y)**  $-\sqrt{1 + x}[1/(2\sqrt{1 + x}) + 1/(2\sqrt{2 + x}) + 1/(2\sqrt{3 + x})]/[\sqrt{1 + x} + \sqrt{2 + x} + \sqrt{3 + x}]^2 + 1/[2\sqrt{1 + x}(\sqrt{1 + x} + \sqrt{2 + x} + \sqrt{3 + x})]$ . **4.1.14.** Porade  $f'_-(0)$ ,  $f'_+(0)$ : **a)**  $-1, 1$ , **b)**  $0, 0$ , **c)**  $-1, 1$ , **d)**  $-1, 0$ , **e)**  $0, 0$  **f)** neexistujú, **g)**  $1, 1$ , **h)**  $-1, -1$ . **4.1.15.** **a)**  $x^{-3/4}/4$ , **b)**  $1/(x \ln 10)$ , **c)**  $x^{-4/5}/5$ , **d)**  $1/(x \ln 2)$ . **4.1.17.** **a)**  $y = 4x - 4$ , **b)**  $y = -4x/3$ , **c)**  $y = x/4 + 1$ , **d)**  $y = 3x$ , **e)**  $y = x$ , **f)**  $y = 1$ , **g)**  $y = 2x$ , **h)**  $y = ex - 1$ , **i)**  $50y = 14 - 3x$ . **4.1.18.**

$a = e^{1/e}$ , [e; e]. **4.1.19.**  $a \leq 0$ . **4.1.20.**  $y = 3x$ , resp.  $y = -x$ . **4.1.21.** **a)**  $y = (3x - 13)/4$ , **b)**  $y = x + 3/4$ , **c)**  $y = 2x(\sqrt{3} - 1)$ , resp.  $y = -2x(\sqrt{3} + 1)$ , **d)**  $y = 2a - 2a^2 - 2a\sqrt{a^2 - 2a - b + 3} + b + 2x(-1 + a + \sqrt{a^2 - 2a - b + 3})$ , resp.  $y = 2a - 2a^2 + 2a\sqrt{a^2 - 2a - b + 3} + b + 2x(-1 + a - \sqrt{a^2 - 2a - b + 3})$  kde  $b \leq a^2 - 2a + 3$ , **e)**  $y = x + 3/4$ , resp.  $y = -x + 11/4$ , **f)**  $y = 2 + \operatorname{tg} \varphi - (\operatorname{tg}^2 \varphi)/4 - x \operatorname{tg} \varphi$ , resp.  $y = 2 - \operatorname{tg} \varphi - (\operatorname{tg}^2 \varphi)/4 + x \operatorname{tg} \varphi$ . **4.1.22.** **a)**  $y = 3x - 77/36$ , **b)**  $y = x + 7/4$ , **c)**  $y = 3 + (1 - x)/\sqrt{2}$ , resp.  $y = 3 - (1 - x)/\sqrt{2}$ , **d)**  $y = x + 7/4$ . **4.1.23.** **a)**  $y = 1$  v bodech  $[\frac{\pi}{2} + 2k\pi; 1]$ ,  $k \in \mathbb{Z}$ , resp.  $y = -1$  v bodech  $[-\frac{\pi}{2} + 2k\pi; 1]$ ,  $k \in \mathbb{Z}$ , **b)**  $y = 1$  v bodech  $[k\pi; 1]$ ,  $k \in \mathbb{Z}$ , resp.  $y = -1$  v bodech  $[\frac{\pi}{2} + k\pi; 1]$ ,  $k \in \mathbb{Z}$ , **c)** neexistuje, **d)**  $y = 2\sqrt{3}/9$  v bode  $[-1/\sqrt{3}; 2\sqrt{3}/9]$ , resp.  $y = -2\sqrt{3}/9$  v bode  $[1/\sqrt{3}; -2\sqrt{3}/9]$ , **e)**  $y = 1/e$  v bode  $[e; 1/e]$ , **f)**  $y = 1$  v bode  $[0; 1]$ , **g)**  $y = -1/e$  v bode  $[1/e; -1/e]$  **h)**  $y = e$  v bode  $[1; e]$ .

**4.2.1.** **a)**  $e^x(1+x)h$ , **b)**  $x^{2^{2x}}(3+x \ln 2)h$ , **c)**  $-h/x^2$ , **d)**  $h/\sqrt{1-x^2}$ , **e)**  $2^{-\ln x/x} \ln 2(\ln x - 1)h - x^2$ ,  $x > 0$ , **f)**  $(2 - \ln x)h/(2\sqrt{x^3})$ ,  $x > 0$ , **g)**  $h/(x-1)^2$ , **h)**  $2h/(x^2-1)$ , **i)**  $-2xhe^{-x^2}$ , **j)**  $h(1+\ln x)$ . **k)**  $h/\cos^2 x$ , **l)**  $h/(1+x^2)$ .

**4.2.2.** **a)**  $\Delta S \approx r\alpha \delta r = 10\pi \text{ cm}^2$ , **b)**  $\Delta S \approx r\alpha \delta r = 10\pi \text{ cm}^2$ , **c)**  $\Delta S \approx r^2 \Delta \alpha / 2 = 2,5\pi \text{ cm}^2$ . **4.2.4.**  $\Delta S = 2\pi r \Delta r$ ,  $\delta S = 2\delta r$ . **4.2.5.** Presné hodnoty: **a)** 0,4848096, **b)** 0,9656887, **c)** -0,1053605, **d)** 1,9956925, **e)** 0,5704371, **f)** 2,0305432, **g)** 4,0422932, **h)** 9,0553851, **i)** 5,981424, **j)** 0,7701709, **k)** 1,2166529, **l)** 2,0027745, **m)** 2,9957323, **n)** 3,0004341, **o)** 0,8097835. **4.2.7.** **a)**  $y^{(3)} = 18x \cos x - x^3 \cos x + 6 \sin x - 9x^2 \sin x$ ,  $y^{(5)} = -60x \cos x + x^3 \cos x - 60 \sin x + 15x^2 \sin x$ , **b)**  $y^{(3)} = 6 \cos x - 9x^2 \cos x - 18x \sin x + x^3 \sin x$ ,  $y^{(5)} = -60 \cos x + 15x^2 \cos x + 60x \sin x - x^3 \sin x$ , **c)**  $y^{(3)} = 36x \cos 2x - 8x^3 \cos 2x + 6 \sin 2x - 36x^2 \sin 2x$ ,  $y^{(5)} = -480x \cos 2x + 32x^3 \cos 2x - 240 \sin 2x + 240x^2 \sin 2x$ , **d)**  $y^{(3)} = 6 \cos 2x - 36x^2 \cos 2x - 36x \sin 2x + 8x^3 \sin 2x$ ,  $y^{(5)} = -240 \cos 2x + 240x^2 \cos 2x + 480x \sin 2x - 32x^3 \sin 2x$ , **e)**  $y^{(3)} = 2e^x(\cos x - \sin x)$ ,  $y^{(5)} = -4e^x(\cos x + \sin x)$ , **f)**  $y^{(3)} = -2e^x(\cos x + \sin x)$ ,  $y^{(5)} = -4e^x(\cos x - \sin x)$ , **g)**  $y^{(3)} = x^2(47 + 60 \ln x)$ ,  $y^{(5)} = 274 + 120 \ln x$ , **h)**  $y^{(3)} = 2e^x(3 \cos x + x \cos x - x \sin x)$ ,  $y^{(5)} = -4e^x(x \cos x + 5 \sin x + x \sin x)$ . **4.2.8.** **a)**  $-2^{n-1} \cos(2x + n\frac{\pi}{2})$ , **b)**  $[3 \cos(x + n\frac{\pi}{2}) + 3^n \cos(3x + n\frac{\pi}{2})]/4$ , **c)**  $x \sin(x + n\frac{\pi}{2}) - n \cos(x + n\frac{\pi}{2})$ , **d)**  $(n-1)!/x$ , **e)**  $2(-1)^n n!/(x-1)^{n+1}$ , **f)**  $2(-1)^{n+1} n!/(x+1)^{n+1}$ , **g)**  $(-1)^n n! [\ln x - (1 + 1/2 + 1/3 + \dots + 1/n)]/x^{n+1}$ , **h)**  $(-1)^n n! [(x+1)^{-n-1} + (x-1)^{-n-1}]/2$ , **i)**  $e^x(x+n)$ , **j)**  $(-1)^{n-1}(n-2)!/x^{n-1}$  pre  $n \geq 2$ , **k)**  $(-1)^{n+1}(n-1)!/x^n$  pre  $n \geq 2$ , **l)**  $(-1)^{n-1}(n-2)!/x^{n-1}$  pre  $n \geq 2$ .

**4.3.3.** Koeficienty pre 1, -1, 2, -2: **a)** [1, 5, 10, 10, 5], [1, -3, 4, -2, 1], [1, 9, 31, 49, 31], [1, -7, 19, -23, 11], **b)** [1, 5, 8, 6, 1], [1, -3, 2, 2, -3], [1, 9, 29, 41, 21], [1, -7, 17, -15, 1], **c)** [1, 3, 4, 2, 1], [1, -5, 10, -10, 5], [1, 7, 19, 23, 11], [1, -9, 31, -49, 31], **d)** [1, 2, 0, 0, 2], [1, -6, 12, -8, 2], [1, 6, 12, 10, 5], [1, -10, 36, -54, 29], **e)** [1, 4, 8, 10, 4], [1, -4, 8, -6, 0], [1, 8, 26, 42, 27], [1, -8, 26, -38, 19], **f)** [1, 2, 2, 2, 0], [1, -6, 14, -14, 4], [1, 6, 14, 16, 7], [1, -10, 38, -64, 39], **g)** [1, 3, 2, 0, 1, 2], [1, -7, 18, -20, 9, 0], [1, 8, 24, 34, 24, 9], [1, -12, 56, -126, 136, -55], **h)** [1, 5, 12, 18, 15, 4], [1, -5, 12, -14, 7, -2], [1, 10, 42, 94, 112, 55], [1, -10, 42, -90, 96, -41], **i)** [1, 3, 4, 4, 2, 0], [1, -7, 20, -28, 18, -4], [1, 8, 26, 44, 39, 14], [1, -12, 58, -140, 167, -78], **j)** [1, 7, 21, 35, 35, 21, 7], [1, -5, 22, -23, 9, -3, 1], [1, 13, 71, 209, 351, 321, 127], [1, -11, 51, -127, 179, -135, 43], **k)** [1, 5, 11, 15, 13, 7, 1], [1, -7, 21, -33, 27, -9, -1], [1, 11, 51, 129, 189, 153, 53], [1, -13, 71, -207, 337, -287, 97], **l)** [1, 8, 28, 56, 70, 56, 28, 8], [1, -6, 16, -24, 22, -12, 4, 0], [1, 15, 97, 351, 769, 1023, 769, 255], [1, -13, 73, -229, 433, -493, 313, -85], **m)** [1, 6, 14, 16, 10, 4, 2, 0], [1, -8, 26, -44, 42, -24, 10, -4], [1, 13, 71, 211, 369, 381, 217, 53], [1, -15, 95, -329, 673, -815, 545, -159]. **4.3.4.** **a)**  $1 + 2(x-1)/3 - (x-1)^2/9 + 4(x-1)^3/81$ , **b)**  $1 + (x-1) + (x-1)^2 + (x-1)^3/2$ , **c)**  $1/2 - (x-2)/4 + (x-2)^2/8 - (x-2)^3/16 + (x-2)^4/32$ , **d)**  $\ln 2 + (x-2)/2 - (x-2)^2/8 + (x-2)^3/24 - (x-2)^4/64$ , **e)**  $\ln 3 + (x-3)/3 - (x-3)^2/18 + (x-3)^3/81 - (x-3)^4/324$ , **f)**  $1 - 3(x-1) + 6(x-1)^2 - 10(x-1)^3$ . **4.3.5.** **a)**  $1 + 2x + 2x^2$ , **b)**  $1 - 2x + 2x^2$ , **c)**  $1 - x - x^2 + 2x^3$ , **d)**  $1/2 + x/4 - x^3/48$ , **e)**  $-x^2/2 - x^4/12 - x^6/45$ , **f)**  $-x^4/4$ , **g)**  $x + x^3/3 + 2x^5/15$ , **h)**  $x^2 + 2x^4/3$ , **i)**  $x^2 - x^4/3$ , **j)**  $x^3 - x^5/2$ , **k)**  $1 - x^2 + x^4/3$ , **l)**  $1 - 3x^2/2 + 7x^4/8$ . **4.3.6.** **a)**  $a_{2n} = 1 \cdot 3 \cdot 5 \cdot \dots \cdot (2n-1)x^{2n}/2^n/n!$ ,  $n \in \mathbb{N} \cup \{0\}$ , **b)**  $a_{2n} = x^{2n}/(2n)!$ ,  $n \in \mathbb{N} \cup \{0\}$ , **c)**  $a_{2n+1} = x^{2n+1}/(2n+1)!$ ,  $n \in \mathbb{N} \cup \{0\}$ , **d)**  $a_{2n+1} = 2x^{2n+1}/(2n+1)$ ,  $n \in \mathbb{N} \cup \{0\}$ . **4.3.8.** **a)**  $(n-1)/n$ , **b)**  $(m-1)/(n-1)$ , **c)**  $1/6$ , **d)** 1, **e)**  $\ln a - \ln b$ , **f)** 0, **g)**  $\infty$ , **h)** 0 pre  $a > 1$ ,  $\infty$  pre  $a \leq 1$ , **i)**  $1/e$ , **j)** 1, **k)**  $a^2/b^2$ , **l)** 1, **m)**  $1/3$ , **n)**  $-\infty$ , **o)**  $3/10$ , **p)** 0, **q)**  $2/9$ , **r)**  $\infty$ , **s)**  $-\infty$ , **t)** 0, **u)**  $1/2$ , **v)** 1, **w)**  $1/12$ , **x)**  $\sqrt{3}/8$ , **y)**  $(n^2 - m^2)/2$ , **z)** 2. **4.3.9.** **a)** nie, **b)** nie,  $\nexists$ , **c)** áno,  $-1/2$ , **d)** áno, 1, **e)** áno, 1. **4.3.10.** **a)** rastúca na  $\langle -1; 1 \rangle$ , klesajúca na  $(-\infty; -1)$ ,  $\langle 1; \infty \rangle$ , **b)** rastúca na  $\langle -1/3; \infty \rangle$ , klesajúca na  $(-\infty; -1/3)$ , **c)** rastúca na  $(-\infty; -5)$ ,  $\langle -1; \infty \rangle$ , klesajúca na  $\langle -5; -1 \rangle$ , **d)** rastúca na  $(-\infty; -1)$ ,  $(0; \infty)$ , **e)** rastúca na  $R$ , **f)** rastúca na  $(0; \infty)$ , klesajúca na  $(-\infty; 0)$ , **g)** rastúca na  $\langle 0; 2 \rangle$ , klesajúca na  $(-\infty; 0)$ ,  $\langle 2; \infty \rangle$ , **h)** rastúca na  $\langle 1; \infty \rangle$ , klesajúca na  $(-\infty; 0)$ ,  $(0; 1)$ , **i)** rastúca na  $\langle 1/2; \infty \rangle$ , klesajúca na  $(-\infty; 1/2)$ , **j)** rastúca na  $(-\infty; -3)$ ,  $\langle 3; \infty \rangle$ , klesajúca na  $\langle -3; 3 \rangle$ , **k)** rastúca na  $\langle 1; \infty \rangle$ , klesajúca na  $(-\infty; -1)$ , konštantná na  $\langle -1; 1 \rangle$ , **l)** rastúca na  $(-\infty; -\sqrt{3})$ ,  $\langle \sqrt{3}; \infty \rangle$ , klesajúca na  $\langle -\sqrt{3}; -1 \rangle$ ,  $(-1; 1)$ ,  $(1; \sqrt{3})$ , **m)** rastúca na  $(2/3; 1)$ ,  $(1; 2)$ , klesajúca na  $(-\infty; 0)$ ,  $(0; 2/3)$ ,  $\langle 2; \infty \rangle$ , **n)** rastúca na  $\langle 1; \infty \rangle$ , klesajúca na  $(-\infty; -1)$ , konštantná na  $\langle -1; 1 \rangle$ , **o)** rastúca na  $\langle 0; \infty \rangle$ , klesajúca na  $(-\infty; 0)$ , **p)** rastúca na  $\langle 1/2; \infty \rangle$ , klesajúca na  $(0; 1/2)$ , **q)** rastúca na  $(\frac{\pi}{2} + k\pi; \frac{3\pi}{2} + k\pi)$ ,  $k \in \mathbb{Z}$ , **r)** rastúca na  $\langle -\frac{3\pi}{4} + 2k\pi; \frac{\pi}{4} + 2k\pi \rangle$ , klesajúca na  $\langle \frac{\pi}{4} + 2k\pi; \frac{5\pi}{4} + 2k\pi \rangle$ ,  $k \in \mathbb{Z}$ , **s)** rastúca na  $\langle \frac{2\pi}{3} + 2k\pi; \pi + 2k\pi \rangle$ ,  $\langle \frac{4\pi}{3} + 2k\pi; 2\pi + 2k\pi \rangle$ , klesajúca na  $\langle 0 + 2k\pi; \frac{2\pi}{3} + 2k\pi \rangle$ ,  $\langle \pi + 2k\pi; \frac{4\pi}{3} + 2k\pi \rangle$ ,  $k \in \mathbb{Z}$ , **t)** rastúca na  $R$ . **4.3.11.** **a)**  $1 \min f(4) = -32$ ,  $1 \max f(0) = 0$ , **b)**  $\nexists$ , **c)**  $1 \min f(\sqrt[5]{24}) = 5\sqrt[5]{2/27}$ , **d)**  $\nexists$ , **e)**  $\lg \min f(k) = 0$ ,  $k \in \mathbb{Z}$ , **f)**  $1 \min f(0) = 0$ ,  $1 \max f(2) = 4/e^2$ , **g)**  $1 \min f(1) = 1 + e$ , **h)**  $\lg \min f(0) = 1$ , **i)**  $g \min f(0) = f(6) = 0$ ,  $\lg \max f(3) = 3$ , **j)**  $g \min f(-1) = f(1) = 0$ , **k)**  $g \max f(0) = 3$ , **l)**  $1 \min f(-\frac{\pi}{3} + k\pi) = \sqrt{3} - \frac{4\pi}{3} + 4k\pi$ ,  $1 \max$



$f(\frac{\pi}{3} + k\pi) = \frac{4\pi}{3} - \sqrt{3} + 4k\pi, k \in Z, \mathbf{m}$   $\lg \min f(1) = -2, \mathbf{n}$   $\lg \min f(0) = -1, \mathbf{o}$   $\nexists, \mathbf{p}$   $\lg \min f(1/2) = 4/5, \mathbf{l}$   $\max f(1) = 1, \mathbf{q}$   $\lg \min f(0) = 0, \mathbf{r}$   $\lg \min f(e) = 2 + e, \mathbf{s}$   $\lg \min f(\sqrt{2/3}) = -\sqrt{32/27}, \mathbf{l}$   $\max f(0) = 0, \mathbf{t}$   $\lg \min f(1) = 0, \mathbf{u}$   
 $\lg \min f(\frac{5\pi}{4} + k\pi) = -e^{-\frac{5\pi}{4}} e^{-k\pi} / \sqrt{2}, \mathbf{l}$   $\max f(\frac{\pi}{4} + 2k\pi) = e^{-\frac{\pi}{4}} e^{-k\pi} / \sqrt{2}, k \in Z, \mathbf{v}$   $\lg \min f(\frac{3\pi}{4} + k\pi) = -e^{-\frac{3\pi}{4}} e^{-k\pi} / \sqrt{2},$   
 $\mathbf{l}$   $\max f(-\frac{\pi}{4} + 2k\pi) = e^{\frac{\pi}{4}} e^{-k\pi} / \sqrt{2}, k \in Z, \mathbf{w}$   $\lg \min f(\frac{5\pi}{4} + k\pi) = -e^{\frac{5\pi}{4}} e^{k\pi} / \sqrt{2}, \mathbf{l}$   $\max f(\frac{\pi}{4} + 2k\pi) = e^{\frac{\pi}{4}} e^{k\pi} / \sqrt{2}, k \in Z,$   
 $\mathbf{x}$   $\lg \min f(\frac{3\pi}{4} + k\pi) = -e^{\frac{3\pi}{4}} e^{k\pi} / \sqrt{2}, \mathbf{l}$   $\max f(-\frac{\pi}{4} + 2k\pi) = e^{-\frac{\pi}{4}} e^{k\pi} / \sqrt{2}, k \in Z$  (l=lokálny, g=globálny). **4.3.12. a)**  $\lg$   
 $\min f(-\frac{3\pi}{4} + 2k\pi) = 1 - \sqrt{2}, \lg \max f(\frac{\pi}{4} + 2k\pi) = 1 + \sqrt{2}, \mathbf{b}$   $\lg \min f(2) = -57, \mathbf{l}$   $\max f(-3/2) = 115/4, \mathbf{c}$   $\nexists, \mathbf{d}$   $\lg \min$   
 $f((5 - \sqrt{13})/6) = -(587 + 143\sqrt{13})/1458, f((5 + \sqrt{13})/6) = (143\sqrt{13} - 587)/1458, \mathbf{l}$   $\max f(1) = 0, \mathbf{e}$   $\lg \min f(0) = -1,$   
 $\mathbf{f}$   $\lg \min f(-4) = 1, \mathbf{l}$   $\min f(1) = 4, \mathbf{l}$   $\max f(0) = 5, \mathbf{g}$   $\lg \min f(1/8) = \ln 16 - \ln 17, \mathbf{h}$   $\lg \min f(e^{3/2}) = -1/4, \mathbf{i}$   $\lg$   
 $\max f(1) = \frac{\pi}{4} - \ln 2/2, \mathbf{j}$   $\lg \min f(1/e) = 1/\sqrt[3]{e} \mathbf{k}$   $\lg \min f(1) = 0, \mathbf{g}$   $\max f(e) = e^2, \mathbf{l}$   $\lg \min f(2) = 2 - \ln 4, \mathbf{g}$   $\max$   
 $f(1) = 1, \mathbf{m}$   $\lg \max f(0) = -1, \mathbf{n}$   $\lg \min f(\sqrt{2 + \sqrt{3}}) = \sqrt{3}\sqrt{2 + \sqrt{3}}, \mathbf{g}$   $\max f(3/2) = 39/10, \mathbf{o}$   $\lg \min f(3) = 3/4,$   
 $\mathbf{g}$   $\max f(11/10) = 220/21$  (l=lokálny, g=globálny). **4.3.13. a)**  $\lg \min f(0) = f(1) = 0, \mathbf{l}$   $\max f(1/2) = 1/\sqrt[3]{16}, \mathbf{g}$   $\max$   
 $f(-3) = \sqrt[3]{144}, \mathbf{b}$   $\lg \min f(\pi) = 12 - 2\pi, \mathbf{g}$   $\max f(-\pi) = 12 + 2\pi, \mathbf{c}$   $\lg \min f(0) = f(\pi) = 0, \lg \max f(\frac{\pi}{2}) = 3, \mathbf{d}$   
 $\lg \min f(\frac{\pi}{2}) = 1, \mathbf{g}$   $\min f(0) = f(\pi) = 1, \lg \max f(\frac{\pi}{4}) = f(\frac{3\pi}{4}) = (1 + \sqrt{2})/2, \mathbf{e}$   $\lg \min f(3) = 1, \mathbf{g}$   $\max f(-1) = 17,$   
 $\mathbf{f}$   $\lg \min f(1) = 18, \mathbf{g}$   $\min f(-3) = 2, \mathbf{l}$   $\max f(-1) = 22, \mathbf{g}$   $\max f(4) = 72, \mathbf{g}$   $\lg \min f(1) = 0, \mathbf{g}$   $\max f(-2) = 21,$   
 $\mathbf{h}$   $\lg \min f(1) = f(5) = 0, \mathbf{l}$   $\max f(3) = 4, \mathbf{g}$   $\max f(-6) = 77, \mathbf{i}$   $\lg \min f(-1) = -10, \mathbf{g}$   $\max f(1) = 2, \mathbf{j}$   $\lg \min$   
 $f(3) = -26, \mathbf{l}$   $\max f(1) = 2$  (l=lokálny, g=globálny). **4.3.14. a)**  $x_1 = x_2 = a/2, \mathbf{b}$   $x_1 = x_2 = a/2, \mathbf{c}$   $x_1 = x_2 = a/2,$   
 $\mathbf{d}$   $x_1 = x_2 = a/2.$  **4.3.15. x = 1. 4.3.16. Strany a/2, h/2. 4.3.17. Rovnoramenný s ramenami (s - a)/2. 4.3.18.**  
**Štvorec so stranou s/4. 4.3.19. Štvorec so stranou  $\sqrt{P}$ . 4.3.20. Štvorec so stranou s/4. 4.3.21. Strany  $a\sqrt{2}, b\sqrt{2}.$**   
**4.3.22. a)** polomer podstavy  $x = \sqrt{2}r/\sqrt{3}$ , výška  $v = 2r/\sqrt{3}, \mathbf{b}$  polomer podstavy  $x = r\sqrt{(5 + \sqrt{5})}/10 \approx 0,850651r,$   
výška  $v = r\sqrt{2(5 - \sqrt{5})}/5 \approx 1,051462, \mathbf{c}$  polomer podstavy  $x = 2r/\sqrt{2}$ , výška  $v = \sqrt{2}r.$  **4.3.23. a)** polomer  
podstavy  $x = 4\sqrt{2}r/3$ , výška  $v = 4r/3, \mathbf{b}$  polomer podstavy  $x = 4\sqrt{2}r/3$ , výška  $v = 4r/3, \mathbf{c}$  polomer podstavy  
 $x = \sqrt{95 + 7\sqrt{17}}r/\sqrt{128} \approx 0,983702r,$  výška  $v = (23 - \sqrt{17})r/16 \approx 1,179806.$  **4.3.24. Polomer podstavy  $x = r/2,$  výška  
 $v = h/2.$  **4.3.25. a)** [1; 2], **b)** [1/10; 23/10], **c)** [2/5; 11/5], **d)** [13/10; 19/10]. **4.3.26. a)** [(3 -  $\sqrt{3}$ )/2; (6 -  $\sqrt{3}$ )/2],  
**b)** [1; 2], **b)** [1 -  $\sqrt{30}/4$ ; 7/4], **d)** [-1/2; 5/4]. **4.3.27. Dĺžka  $20\sqrt[3]{5}$  m, šírka  $5\sqrt[3]{5}$  m, výška  $2\sqrt[3]{5}$  m. 4.3.28. Na kruh**  
**treba  $10\pi/(4 + \pi) \approx 4,399010$  m. 4.3.29. 6 cm. 4.3.30. Strany obdĺžnika  $4s/(8 + 3\pi), (4 + \pi)s/(8 + 3\pi),$  polomer kruhu**  
 $2s/(8 + 3\pi).$  **4.3.31.  $\sqrt{52 + 36\sqrt{12} + 24\sqrt{18}}$  m. 4.3.32. a)** nemá inflexné body, konvexná na  $R, \mathbf{b}$  inflexný bod 1,  
konvexná na  $\langle 1; \infty \rangle,$  konkávna na  $\langle -\infty; 1 \rangle, \mathbf{c}$  inflexné body  $\pm\sqrt{2},$  konvexná na  $\langle -\sqrt{2}; \sqrt{2} \rangle,$  konkávna na  $\langle -\infty; -\sqrt{2} \rangle,$   
 $\langle \sqrt{2}; \infty \rangle, \mathbf{d}$  inflexný bod  $\sqrt{3}/9,$  konvexná na  $\langle \sqrt{3}/9; \infty \rangle,$  konkávna na  $\langle 0; \sqrt{3}/9 \rangle, \mathbf{e}$  inflexný bod 0, konvexná na  
 $\langle -\infty; 0 \rangle,$  konkávna na  $\langle 0; \infty \rangle, \mathbf{f}$  nemá inflexné body, konvexná na  $\langle 0; \infty \rangle, \mathbf{g}$  nemá inflexné body, konkávna na  
 $\langle -2; \infty \rangle, \mathbf{h}$  inflexné body  $\frac{\pi}{2} + k\pi,$  konvexná na  $\langle -\frac{\pi}{2} + 2k\pi; \frac{\pi}{2} + 2k\pi \rangle,$  konkávna na  $\langle \frac{\pi}{2} + 2k\pi; \frac{3\pi}{2} + 2k\pi \rangle, k \in Z, \mathbf{i}$   
nemá inflexné body, konvexná na  $R, \mathbf{j}$  nemá inflexné body, konvexná na  $\langle 0; \infty \rangle,$  konkávna na  $\langle -\infty; 0 \rangle, \mathbf{k}$  nemá inflexné  
body, konvexná na  $\langle 0; \infty \rangle, \mathbf{l}$  inflexné body  $k\pi,$  konvexná na  $\langle 2k\pi; \pi + 2k\pi \rangle,$  konkávna na  $\langle \pi + 2k\pi; 2\pi + 2k\pi \rangle, k \in Z,$   
 $\mathbf{m}$  nemá inflexné body, konvexná na  $\langle -\infty; 0 \rangle, \langle 0; \infty \rangle, \mathbf{n}$  inflexný bod 0, konvexná na  $\langle -\infty; -1 \rangle, \langle 0; 1 \rangle,$  konkávna na  
 $\langle -1; 0 \rangle, \langle 1; \infty \rangle, \mathbf{o}$  inflexné body 0,  $\pm\sqrt{3},$  konvexná na  $\langle -\infty; -\sqrt{3} \rangle, \langle 0; \sqrt{3} \rangle,$  konkávna na  $\langle -\sqrt{3}; 0 \rangle, \langle \sqrt{3}; \infty \rangle, \mathbf{p}$   
inflexné body 0,  $\pm 9,$  konvexná na  $\langle -\infty; -9 \rangle, \langle 0; 9 \rangle,$  konkávna na  $\langle -9; 0 \rangle, \langle 9; \infty \rangle, \mathbf{q}$  nemá inflexné body, konkávna  
na  $\langle 1; \infty \rangle, \mathbf{r}$  inflexný bod 4, konvexná na  $\langle 4; \infty \rangle,$  konkávna na  $\langle -\infty; 4 \rangle, \mathbf{s}$  nemá inflexné body, konvexná na  $\langle 1; \infty \rangle,$   
 $\mathbf{t}$  nemá inflexné body, konvexná na  $\langle -\infty; -1 \rangle, \langle 1; \infty \rangle, \mathbf{u}$  nemá inflexné body, konvexná na  $\langle -\infty; -9 \rangle, \langle 9; \infty \rangle, \mathbf{v}$   
inflexné body -2, 1, konvexná na  $\langle -\infty; -2 \rangle, \langle 1; \infty \rangle,$  konkávna na  $\langle -2; 1 \rangle.$  **4.3.36. Pre všetky okrem  $b \in \langle -e/6; 0 \rangle.$**   
**4.3.37. a)**  $x = 1, y = 2, \mathbf{b}$   $x = \pm 1, y = 1, \mathbf{c}$   $x = \pm 2, y = 2, \mathbf{d}$   $y = 1, \mathbf{e}$   $y = 3x, \mathbf{f}$   $x = \pm 1, y = x, \mathbf{g}$   $x = 0,$   
 $y = 2x, \mathbf{h}$   $y = \pm 1/2, \mathbf{i}$   $y = x, \mathbf{j}$   $y = \pm \pi x/2 - 1, \mathbf{k}$   $x = 0, y = 1, \mathbf{l}$   $y = x + 1/e, \mathbf{m}$   $y = 12, \mathbf{n}$   $x = 0, y = 13,$   
 $\mathbf{o}$   $x = 0, yx = 13, \mathbf{p}$   $x = \pm 1, y = 0.$  **4.3.42. a)**  $y = 2 - x^2, x \in \langle 2; 5 \rangle, \mathbf{b}$   $y = \sqrt{4x^2/9 - 4}, x \in \langle 3; \infty \rangle, \mathbf{c}$   
 $y = \sqrt{9 - 9x^2/16}, x \in \langle -4; 4 \rangle, \mathbf{d}$   $y = 9 - 9x/4, x \in \langle 0; 4 \rangle.$  **4.3.43. a)**  $t \in \langle 0; \infty \rangle, y = 2x + 1, x \in \langle -1; \infty \rangle, \mathbf{b}$   $t \in R,$   
 $y = 2x + 1, x \in R, \mathbf{c}$   $t \in \langle 0; \infty \rangle, y = 2 + 3\sqrt{x - 1}/2, x \in \langle 0; \infty \rangle,$  resp.  $t \in \langle -\infty; 0 \rangle, y = 2 - 3\sqrt{x - 1}/2, x \in \langle 0; \infty \rangle,$   
 $\mathbf{d}$   $t \in \langle -3/2 + 6k; 3/2 + 6k \rangle, y = \sqrt{1 - x^2}/4, x \in \langle -2; 2 \rangle,$  resp.  $t \in \langle 3/2 + 6k; 9/2 + 6k \rangle, y = -\sqrt{1 - x^2}/4, x \in \langle -2; 2 \rangle,$   
 $k \in Z, \mathbf{e}$   $t \in \langle 0 + 2k\pi; \pi + 2k\pi \rangle, y = (1 - \sqrt[3]{x^2})(3/2), x \in \langle -1; 1 \rangle,$  resp.  $t \in \langle \pi + 2k\pi; 2\pi + 2k\pi \rangle, y = -(1 - \sqrt[3]{x^2})(3/2),$   
 $x \in \langle -1; 1 \rangle, k \in Z, \mathbf{f}$   $t \in R, y = 4(x - 2)^2/9 + 1, x \in R.$  **4.3.44. a)** elipsa  $x^2 + y^2/a^2 = 1, x \in \langle -1; 1 \rangle,$  t. j.  
 $y = \pm a\sqrt{1 - x^2}, x \in \langle -1; 1 \rangle, \mathbf{b}$  hviezdica  $\sqrt[3]{x^2} + \sqrt[3]{y^2/a^2} = 1, x \in \langle -1; 1 \rangle,$  t. j.  $y = \pm a(1 - \sqrt[3]{x^2})^{3/2}, x \in \langle -1; 1 \rangle, \mathbf{c}$   
úsečka  $y = a - ax, x \in \langle 0; 1 \rangle, \mathbf{d}$  hviezdica  $\sqrt[3]{x^2} + \sqrt[3]{y^2/a^2} = 1, x \in \langle -1; 1 \rangle,$  t. j.  $y = \pm a(1 - \sqrt[3]{x^2})^{3/2}, x \in \langle -1; 1 \rangle.$  **4.3.45.**  
**a)**  $x = at/(1 + t^3), y = at^2/(1 + t^3), t \in R, \mathbf{b}$   $x = (1 + t^2)/(1 + t^3), y = (t + t^3)/(1 + t^3), t \in R, \mathbf{c}$   $x = (1 + t^3)/(1 + t^4),$   
 $y = (t + t^4)/(1 + t^4), t \in R.$  **4.3.46. a)**  $x = 4t^3/3, y' = 1/(4t), t \in R - \{0\}, \mathbf{b}$   $x = (1 - t)/(1 + t), y' = -1,$   
 $t \in R - \{-1\}, \mathbf{c}$   $x = 2 \sin t/(1 + 2 \cos t), y' = -2 \sin t/(2 + \cos t), t \in \langle -\frac{\pi}{3}; \frac{\pi}{3} \rangle, \mathbf{d}$   $x = \arcsin(1 + t^2)^{-1}, y' = -1,$   
 $t \in R, \mathbf{e}$   $x = t - \cos t, y' = \cos t/(1 + \sin t), t \in \langle 0; 2\pi \rangle - \{\frac{3\pi}{2}\}, \mathbf{f}$   $x = 4 \cos^3 t, y' = -\operatorname{tg} t, t \in \langle 0; \pi \rangle - \{\frac{\pi}{2}\}, \mathbf{g}$   
 $x = e^{2t} \cos^2 t, y' = (1 - \cos 2t + \sin 2t)/(1 + \cos 2t - \sin 2t), t \in \langle 0; \frac{\pi}{2} \rangle - \{\frac{\pi}{4}\}, \mathbf{h}$   $x = 2 \cosh t, y' = 2 \operatorname{cotg} h t, t \in \langle 0; \infty \rangle.$**

**4.3.47. a)**  $x = 4t + t^2$ ,  $y' = (1 + 3t^2)/2/(2 + t)$ ,  $y'' = (-1 + 12t + 3t^2)/4/(2 + t)^3$ ,  $y''' = 3(9 - 4t - t^2)/8/(2 + t)^5$ ,  $t \in (0; \infty)$ , **b)**  $x = \ln t$ ,  $y' = 2t \cos 2t$ ,  $y'' = t(2 \cos 2t - 4t \sin 2t)$ ,  $y''' = 2t(\cos 2t - 4t^2 \cos 2t - 6t \sin 2t)$ ,  $t \in (0; \infty)$ , **c)**  $x = 4 \sin t$ ,  $y' = -\operatorname{tg} t$ ,  $y'' = -1/(4 \cos^3 t)$ ,  $y''' = -3 \sin t/(16 \cos^5 t)$ ,  $t \in (-\frac{\pi}{2}; \frac{\pi}{2})$ , **d)**  $x = 2 \cos^3 t$ ,  $y' = -\operatorname{tg} t$ ,  $y'' = 1/(6 \sin t \cos^4 t)$ ,  $y''' = (5 \cos 2t - 3)/(72 \sin^3 t \cos^7 t)$ ,  $t \in (0; \pi) - \{\frac{\pi}{2}\}$ , **e)**  $x = e^{-t} \cos t$ ,  $y' = (\sin t - \cos t)/(\sin t + \cos t)$ ,  $y'' = -2e^t/(\sin t + \cos t)^3$ ,  $y''' = -4e^{2t}(\cos t - 2 \sin t)/(\sin t + \cos t)^5$ ,  $t \in \mathbb{R} - \{\frac{3\pi}{4} + k\pi, k \in \mathbb{Z}\}$ , **f)**  $x = e^t$ ,  $y' = e^{-t}/\sqrt{1 - t^2}$ ,  $y'' = e^{-2t}(-1 + t + t^2)/\sqrt{(1 - t^2)^3}$ ,  $y''' = e^{-3t}(3 - 3t - 2t^2 + 3t^3 + 2t^4)/\sqrt{(1 - t^2)^5}$ ,  $t \in (-1; 1)$ . **4.3.48. a)**  $d: y = x/4$ ,  $n: y = -4x$  v bode  $[0; 0]$ ,  $d: y = (2x - 4)/3$ ,  $n: y = (19 - 3x)/2$  v bode  $[5; 2]$ ,  $d: y = (13x - 76)/8$ ,  $n: y = (226 - 8x)/13$  v bode  $[12; 10]$ ,  $d: y = (14x - 144)/5$ ,  $n: y = (210 - 5x)/14$  v bode  $[21; 30]$ ,  $d: y = (49x - 752)/12$ ,  $n: y = (3716 - 12x)/49$  v bode  $[32; 68]$ , **b)**  $d: y = (1 + 3x)/2$ ,  $n: y = (8 - 2x)/3$  v bode  $[1; 2]$ ,  $d: y = (5x + 4)/4$ ,  $n: y = (46 - 4x)/5$  v bode  $[4; 6]$ ,  $d: y = (7x + 9)/6$ ,  $n: y = (138 - 6x)/7$  v bode  $[9; 12]$ ,  $d: y = (9x + 16)/8$ ,  $n: y = (308 - 8x)/9$  v bode  $[16; 20]$ ,  $d: y = (11x + 25)/10$ ,  $n: y = (580 - 10x)/11$  v bode  $[25; 30]$ , **c)**  $d: y = 2$ ,  $n: x = -\pi$  v bode  $[-\pi; 2]$ ,  $d: y = (4 - \pi - 2x)/2$ ,  $n: y = (\pi + 2x)/2$  v bode  $[(2 - \pi)/2; 1]$ ,  $d: x = 0$ ,  $n: y = 0$  v bode  $[0; 0]$ ,  $d: y = (4 - \pi + 2x)/2$ ,  $n: y = (\pi - 2x)/2$  v bode  $[(\pi - 2)/2; 1]$ ,  $d: y = 2$ ,  $n: x = \pi$  v bode  $[\pi; 2]$ , **d)**  $d: x = 1$ ,  $n: y = 0$  v bode  $[1; 0]$ ,  $d: y = \sqrt{2} - x$ ,  $n: y = x$  v bode  $[\sqrt{2}/2; \sqrt{2}/2]$ ,  $d: y = 1$ ,  $n: x = 0$  v bode  $[0; 1]$ ,  $d: y = \sqrt{2} + x$ ,  $n: y = -x$  v bode  $[-\sqrt{2}/2; \sqrt{2}/2]$ ,  $d: x = -1$ ,  $n: y = 0$  v bode  $[-1; 0]$ , **e)**  $d: y = 0$ ,  $n: x = 1$  v bode  $[1; 0]$ ,  $d: y = 1/\sqrt{2} - x$ ,  $n: y = x$  v bode  $[\sqrt{2}/4; \sqrt{2}/4]$ ,  $d: x = 0$ ,  $n: y = 1$  v bode  $[0; 1]$ ,  $d: y = 1/\sqrt{2} + x$ ,  $n: y = -x$  v bode  $[-\sqrt{2}/4; \sqrt{2}/4]$ ,  $d: y = 0$ ,  $n: x = -1$  v bode  $[-1; 0]$ . **4.3.49. a)**  $t = -1$ ,  $x = -3$ ,  $y = 2$ , resp.  $t = 1$ ,  $x = 5$ ,  $y = 2$ , **b)**  $\nexists$ .

# Register

- ∃, 11
- ∀, 10
- ≠, 13
- číslo, 44
  - celé, 49
  - Eulerovo, 109
  - inverzné, 45
  - iracionálne, 49
  - jednotka, 45
  - kladné, 45
  - kombinačné, 25
  - komplexné, 165
    - goniometrický tvar, 167
    - imaginárna časť, 165
    - rýdzo imaginárne, 165
    - reálna časť, 165
  - komplexne združené, 166
  - Ludolfovo, 195
  - nekladné, 45
  - nezáporné, 45
  - nula, 44, 45
  - obrátene, 45
  - opačné, 44
  - prírodné, 48
  - racionalne, 49
  - reálne, 44
  - záporné, 45
- člen
  - postupnosti, 36, 90
    - explicitný tvar, 90
    - všeobecný tvar, 90
  - radu, 125
- špirála, 227, 229
  - Archimedova, 228
  - Fermatova, 228
  - hyperbolická, 229
  - logaritmická, 228
  - sínusová, 234
- štruktúra
  - algebraická, 43
  - topologická, 72
- a, 3
- abeceda
  - grécka, 1
- Abel, N. H., 146
- alebo, 4
- d'Alembert, J. B., 137
- alternatíva, 4
  - vylučovacia, 15
- amplitúda, 205
- anuloid, 237
- aproximácia funkcie
  - lokálna, 309
  - pomocou diferenciálu, 311
- Archimedes, 124, 227
- argument
  - komplexného čísla, 167
  - kosínusu hyperbolického, 203
  - kotangensu hyperbolického, 203
  - sínusu hyperbolického, 202
  - tangensu hyperbolického, 203
- arkuskosínus, 199
- arkuskotangens, 199
- arkussínus, 199
- arkustangens, 199
- asteroida, 224
- asymptota
  - grafu funkcie
    - bez smernice, 258
    - horizontálna, 259
    - so smernicou, 259
    - vertikálna, 258
  - hyperboly, 219



- axióma, 6, 15  
 súvislosti, 56
- axiómy  
 Hausdorffove, 73  
 okolí, 73
- axiómy reálnych čísel, 44  
 o hornej hranici, 46  
 o najmenšom hornom ohraničení, 46  
 sčítania a násobenia, 44  
 usporiadania, 45
- báza  
 topológie, 88
- Bernoulli, Ja., 12  
 Bernoulli, Jo., 12
- bijekcia, 33, 175
- bod  
 asymptotický  
 logaritmickéj špirály, 228  
 hraničný množiny, 75  
 hromadný množiny, 76, 77, 87  
 ľavý, 76  
 jednostranný, 76  
 obojstranný, 76  
 pravý, 76  
 inflexný funkcie, 183, 356  
 izolovaný množiny, 77  
 jednotkový, 56  
 koncový  
 krivky, 208  
 trajektórie pohybu, 208  
 nespojitosti funkcie, 278  
 asymptotickej, 279  
 neodstrániteľnej 1. druhu, 279  
 neodstrániteľnej 2. druhu, 279  
 odstrániteľnej, 278  
 nulový, 56  
 funkcie, 186  
 počiatkový  
 krivky, 208  
 trajektórie pohybu, 208  
 spojitosti funkcie, 278  
 stacionárny funkcie, 347  
 vnútorný množiny, 75, 87  
 vonkajší množiny, 75
- Bolzano, B., 13  
 de Brahe, T., 12
- mailto: beerb@frcatel.fri.uniza.sk
- Cantor, G., 13, 26  
 Cassini, G. D., 227  
 Cassiniova krivka, 227  
 Cauchy, A. L., 12  
 Cavalieri, B., 12  
 celá časť čísla, 58  
 charakteristika  
 okolia, 74, 169  
 chyba veličiny  
 absolútna, 313  
 pomerná, 313  
 relatívna, 313  
 cykloida, 222  
 obyčajná, 223  
 predĺžená, 223  
 skrátená, 223
- dĺžka  
 intervalu, 55  
 vektora, 81
- dôkaz, 16  
 existenčný, 19  
 konštruktívny, 20  
 matematická indukcia, 17  
 nepriamy, 16  
 obrátená implikácia, 16  
 sporom, 17  
 priamy, 16  
 sporom, 9
- definícia, 5, 15  
 matematickou indukciou, 29
- delenie  
 čísel, 48
- deltoida, 235
- derivácia funkcie  
 druhého rádu, 314  
 logaritmická, 303  
 na množine, 295  
 $n$ -tého rádu, 314  
 nultého rádu, 314  
 prvého rádu, 314  
 v bode, 292  
 jednostranná, 294  
 nevlastná, 292  
 obojstranná, 294  
 sprava, 294  
 vlastná, 292
- http://frcatel.fri.uniza.sk/~beerb

- zľava, 294  
 vyššieho rádu, 314  
 Descartes, R., 12  
 Descartov list, 232  
 diagram  
   Vennov, 29  
 diameter množiny, 82, 87  
 diferenciál funkcie, 309  
   na množine, 309  
    $n$ -tého rádu, 317  
   v bode, 309  
 Dirichlet, P. G. L., 12  
 disjunkcia výrokov, 4  
 doplnok množiny, 28  
 dotyčnica ku grafu funkcie, 293  
   bez smernice, 294  
   so smernicou, 293  
 Dürer, A., 233  
 dvojlístok, 232  
 ekvivalencia  
   množín, 37  
   výrokov, 5  
 eliminácia parametra, 175  
 elipsa, 215  
 epicykloida, 224  
   obyčajná, 225  
   predĺžená, 225  
   skrátaná, 225  
 Euler, L., 12  
 excentricita  
   elipsy  
     číselná, 215  
     lineárna, 215  
   hyperboly  
     číselna, 218  
     lineárna, 218  
 exponenciála, 193  
 extrémny  
   funkcie  
     absolútne, 179, 350  
     absolútne ostré, 179  
     globálne, 179, 350  
     globálne ostré, 179  
     lokálne, 179, 346  
     lokálne ostré, 179  
   funkcie na množine, 179  
   ostré, 179  
 faktoriál čísla, 23  
 de Fermat, P., 228  
 Fibonacci, L., 108  
 forma, 2  
   menná, 2  
   výroková, 2, 5  
 Fourier, J. B. J., 12  
 fraktál, 209  
 Freeth, T. J., 230  
 Freethova nefroida, 230  
 funkcia, 32, 173  
   argument  
     kosínusu hyperbolického, 203  
     kotangensu hyperbolického, 203  
     sínusu hyperbolického, 202  
     tangensu hyperbolického, 203  
   arkuskosínus, 199  
   arkuskotangens, 199  
   arkussínus, 199  
   arkustangens, 199  
   bijektívna, 175  
   cyklometrická, 199  
   definovaná  
     explicitne, 175  
     graficky, 177  
     implicitne, 175  
     parametricky, 175  
     tabuľkou, 177  
   diferencovateľná, 309  
     na množine, 309  
     rádu  $n$ , 317  
     v bode, 309  
   Dirichletova, 173  
   elementárna, 191  
   exponenciálna, 192  
   goniometrická, 194  
   hladká, 296  
   hyperbolická, 200  
   hyperbolometrická, 202  
   injektívna, 174  
   inverzná, 188, 190  
   jednojednoznačná, 175  
   klesajúca, 179  
     na množine, 179, 343  
     v bode, 179  
[mailto: beerb@frcatel.fri.uniza.sk](mailto:beerb@frcatel.fri.uniza.sk)

- konštantná, 179, 191  
na množine, 179
- konkávna  
na intervale, 182, 352
- konkávna rýdzo  
na intervale, 182  
v bode, 182
- konvexná  
na intervale, 182, 352
- konvexná rýdzo  
na intervale, 182, 352  
v bode, 182
- kosínus, 195
- kosínus hyperbolický, 200
- kotangens, 195
- kotangens hyperbolický, 200
- kvadratická, 191
- lineárna, 177, 191
- logaritmická, 193
- mocninná, 192
- monotónna, 179  
na množine, 343  
ostro, 179  
rýdzo, 179
- na množinu, 174
- neklesajúca, 179  
na množine, 179, 343  
v bode, 179
- nekonečne malá, 257
- nekonečne veľká, 257
- neohraničená, 178  
na množine, 178  
zdola, 178  
zhora, 178
- nepárna, 181
- nerastúca, 179  
na množine, 179, 343  
v bode, 179
- nespojité v bode, 274  
asymptoticky, 279
- nulová, 179, 191
- ohraničená, 178  
na množine, 178  
zdola, 178  
zhora, 178
- párna, 181
- periodická, 181
- prostá, 174
- prostá na množinu, 175
- rádu  $O$ , 258
- rádu  $o$ , 257
- racionálna  
celistvá, 191  
lomená, 192
- rastúca, 179  
na množine, 179, 343  
v bode, 179
- reálnej premennej, 173
- sínus, 195
- sínus hyperbolický, 200
- spojitá, 278
- spojitá na množine, 278  
po častiach, 280  
rovnomerne, 282
- spojitá v bode, 274  
ekvivalentná definícia, 275  
sprava, 277  
v zmysle Heineho, 274  
vzhľadom na množinu, 277  
zľava, 277
- surjektívna, 174
- tangens, 195
- tangens hyperbolický, 200
- trigonometrická, 194
- vnútorná, 187
- vonkajšia, 187
- zložená, 187
- Gauss, K. F., 12
- geometria  
fraktálna, 208
- goniometrický tvar  
komplexného čísla, 167
- graf funkcie, 174
- Hamilton, W. R., 13
- Hausdorff, F., 73
- Heaviside, O., 278
- Hilbert, D., 13
- hodnota  
absolútna, 60  
funkcie, 187  
absolútna komplexného čísla, 166

- argumentu komplexného čísla, 167  
 hlavná, 167  
 funkčná, 32, 173  
 hromadná postupnosti, 92  
 nevlastná, 92  
 vlastná, 92  
 maximálna funkcie, 178  
 minimálna funkcie, 178  
 najmenšia funkcie, 178  
 najväčšia funkcie, 178  
 zobrazenia, 32
- hodnota výroku  
 logická, 3  
 pravdivostná, 3
- de l'Hospital, G. F. A., 12
- hranica  
 množiny, 75  
 dolná, 46  
 horná, 46
- hviezdica, 224
- hyperbola, 192, 218  
 rovnoosá, 218
- hypocykloida, 223  
 obyčajná, 223  
 predĺžená, 223  
 skrátaná, 223
- identita, 36
- imaginárna jednotka, 165
- implikácia výrokov, 4
- index  
 násobiaci súčinu, 23  
 sčítací sumačný, 21
- infimum  
 funkcie, 178  
 na množine, 178  
 množiny, 46
- inflexia funkcie v bode, 183
- injekcia, 33, 174
- inklúzia množín, 26
- interval, 55  
 degenerovaný, 55  
 nedegenerovaný, 55  
 neohraničený, 55  
 ohraničený, 55  
 otvorený, 55  
 periodicity, 182
- polootvorený, 55  
 polouzavretý, 55  
 uzavretý, 55
- jednolist, 232
- jednoznačná riešiteľnosť rovníc, 47
- kardioida, 226
- Kepler, J., 12
- von Koch, N. F. H., 209
- koeficienty  
 polynómu, 191
- kolmá strofoida, 231
- komplement množiny, 28
- kompozícia  
 zobrazení, 34
- konštanta, 1
- konchleoida, 230
- konchoida, 229
- konjunkcia výrokov, 3
- kontraindikácia, 5
- kontrapríklad, 20
- Koperník, M., 12
- koreň  
 funkcie, 186
- kosínus, 195
- kosínus hyperbolický, 200
- kosínusoida, 195
- kotangens, 195
- kotangens hyperbolický, 200
- kotangenta, 195
- kritérium  
 konvergenzie radov  
 Abelovo, 146  
 d'Alembertovo limitné, 137  
 d'Alembertovo podielové, 137  
 Cauchyho limitné, 138  
 Cauchyho odmocninové, 138  
 Dirichletovo, 148  
 Leibnizovo, 144  
 1. porovnávacie, 134  
 2. porovnávacie, 136  
 Raabeho, 140  
 Raabeho limitné, 141
- krivka, 204  
 čertova, 235  
 botanická, 233

- Cassiniova, 227  
 diabľova, 235  
 dvojrohová, 234  
 elektromotorická, 235  
 exponenciálna, 193  
 kappa, 231  
 Lamého, 229  
 Lissajova, 236  
 logaritmická, 193  
 osmička, 229  
 otvorená, 208  
 Plateauova, 230  
 priestorová, 205  
 rovinná, 204  
 ruža, 233  
 spirická, 236  
 srdce, 233  
 Talbotova, 236  
 torpédová, 233  
 uzavretá, 208  
 v rovine  $R^2$ , 204  
 Wattova, 237
- Kronecker, L., 13  
 kružnica, 210  
 kužeľosečka, 210
  - degenerovaná, 210
  - nedegenerovaná, 210
  - nevlastná, 210
  - vlastná, 210
- kubika
  - Tschirnhausova, 231
- kvantifikátor, 10
  - existenčný, 11
  - všeobecný, 10
- kvartika
  - hrušková, 230
  - srdcová, 230
- lístok, 232  
 Lagrange, J. L., 12  
 Lamé, G., 229  
 Laplace, P. S., 12  
 Leibniz, G. W., 12  
 lema, 16  
 lemniskáta, 227
  - Bernoulliho, 207
  - Bernoulliho, 227
- limes inferior
  - postupnosti, 93
- limes superior
  - postupnosti, 93
- limita
  - funkcie, 243
    - ekvivalentná definícia, 245
    - jednostranná, 254
    - nevlastná, 243
    - obojsstranná, 254
    - sprava, 254
    - v nevlastnom bode, 243
    - v zmysle Heineho, 243
    - vlastná, 243
    - vo vlastnom bode, 243
    - vzhľadom na množinu, 253
    - zľava, 254
  - postupnosti, 94
    - dolná, 93
    - horná, 93
    - komplexných čísel, 170
    - nevlastná, 94
    - v metrickom priestore, 119
    - vlastná, 94
- Lissajous, J. A., 236
- list, 232
  - Dürerov, 233
  - Descartov, 232
  - dvojlístok, 232
  - dvojlist, 232
  - jednolist, 232
  - lístok, 232
  - trojlístok, 232
  - trojlist, 232
- logaritmus, 193
  - dekadický, 193
  - prirodzený, 193
- logika, 1
  - matematická, 1
- lomená časť čísla, 58
- Maclaurin, C., 231, 337  
 Maclaurinov polynóm, 337  
 Maclaurinov trisektrix, 231  
 Maclaurinov vzorec, 337  
 Mandelbrot, B., 209  
 matematická indukcia, 17, 48

- maximum
- funkcie
    - absolútne, 179
    - globálne, 179
    - lokálne, 179, 371, 375
    - lokálne ostré, 179
    - na množine, 178
  - funkcie na množine
    - ostré, 179
  - množiny, 46
- metóda
- bisekcie, 60, 284
  - Cantorova diagonalizačná, 38
  - deduktívna, 6
  - polenia intervalu, 284
  - postupného delenia, 284
  - tabuľková, 6
- metrika, 84
- euklidovská, 82
  - triviálna, 84
- minimum
- funkcie
    - absolútne, 179
    - globálne, 179
    - lokálne, 179, 371, 375
    - lokálne ostré, 179
    - na množine, 178
  - funkcie na množine
    - ostré, 179
  - množiny, 46
- množina, 26
- celých čísel, 49
  - doplnková, 28
  - hodnôt postupnosti, 36
  - hromadných hodnôt postupnosti, 93
  - husto usporiadaná, 56
  - iracionálnych čísel, 49
  - izolovaná, 77
  - kompaktná, 99
    - v metrickom priestore, 120
  - komplementárna, 28
  - komplexných čísel, 44, 165
    - rozšírená, 168
  - konečná, 26
  - nekonečná, 26
  - nekonečne spočítateľná, 37
  - neohraničená, 46, 82, 87
  - nespočítateľná, 37
  - obojaká, 87
  - ohraničená, 46, 82, 87
    - zdola, 46
    - zhora, 45
  - otvorená, 77
    - v metrickom priestore, 87
    - v topologickom priestore, 87
  - potenčná, 27
  - prázdna, 27
  - prirodzených čísel, 26, 48
  - racionálnych čísel, 49
  - reálnych čísel, 44
    - rozšírená, 54
  - riešení, 68
  - súvislá, 56
  - spočítateľná, 37
  - usporiadaná, 45
  - uzavretá, 76
    - v metrickom priestore, 87
    - v topologickom priestore, 87
- množiny
- disjunktné, 27
  - doplnkové, 28
  - ekvivalentné, 37
  - komplementárne, 28
  - totožné, 27
- mocnina
- čísla
    - $n$ -tá,  $n \in \mathbb{N}$ , 62
    - $r$ -tá,  $r \in \mathbb{R}$ , 66
    - $s$ -tá,  $s \in \mathbb{Q}$ , 64
  - množiny, 70
- mohutnosť
- kontinua, 37
  - množín, 37
- de Moivre, A., 169
- monotónnosť
- funkcie, 179
    - na množine, 179
  - násobenia a relácie  $<$ , 45
  - sčítania a relácie  $<$ , 45
- násobenie
- čísel, 44
- násobok

radu číslom, 131  
 nadmnožina, 26  
 nefroida, 234  
 Freethova, 230  
 negácia  
 implikácie, 9  
 negácia výroku, 3  
 nekonečno, 54, 168  
 nepravda, 3  
 nerovnosť  
 čísel, 45  
 štvoruholníková, 82  
 Bernoulliho, 25  
 Cauchyho, 81, 86  
 trojuholníková, 60, 82  
 Newton, I., 12  
 normála ku grafu funkcie, 294  
 norma  
 euklidovská, 81  
 priestoru, 85  
 obor  
 úvahy, 2  
 definičný funkcie, 173  
 maximálny, 174  
 prirodzený, 174  
 definičný zobrazenia, 32  
 hodnôt funkcie, 173  
 hodnôt zobrazenia, 32  
 kvantifikácie, 11  
 obraz  
 množiny v zobrazení, 32  
 zobrazenia, 32  
 odčítanie  
 čísel, 48  
 odmocnina čísla  
 $n$ -tá, 63  
 ohnisko  
 elipsy, 215  
 hyperboly, 218  
 paraboly, 211  
 ohraničenie  
 množiny  
 dolné, 46  
 horné, 45  
 najmenšie horné, 46  
 najväčšie dolné, 46

okolie  
 čísla, 73  
 prstencové, 74  
 rýdze, 74  
 bodu, 72, 83, 87  
 ľavé, 75  
 ľavé prstencové, 75  
 pravé, 75  
 pravé prstencové, 75  
 prstencové, 83  
 relatívne, 75  
 vzhľadom na množinu, 75  
 bodu  $-\infty$ , 74  
 bodu  $\infty$ , 74  
 bodu nekonečno, 169  
 komplexného čísla, 169  
 prstencové, 169  
 operácia  
 binárna, 43  
 logická, 3  
 $n$ -nárna, 43  
 unárna, 43  
 os, 174  
 číselná, 56  
 elipsy, 215  
 hlavná, 215  
 vedľajšia, 215  
 hyperboly, 218  
 imaginárna, 218  
 reálna, 218  
 imaginárna, 166  
 paraboly, 211  
 polárna, 205  
 reálna, 56, 166  
 súradnicová, 174  
 polárna, 205  
 $x$ -ová, 174  
 $y$ -ová, 174  
 $x$ -ová, 174  
 $y$ -ová, 174  
 osmička, 229  
 pól súradnicového systému (súradnicovej sústavy), 205  
 parabola, 191, 211  
 Newtonova divergentná, 231  
 parameter, 175



- elipsy, 216
- hyperboly, 218
- paraboly, 211
- parametrizácia
  - funkcie, 175
- Pascal, B., 229
- Pascalova závitnica, 229
- Peano, G., 208
- perióda funkcie, 181
  - primitívna, 181
  - základná, 181
- perlovka
  - Sluzeho, 231
- Plateau, J. A. F., 230
- počiatok
  - špirály, 227
  - súradnicového systému, 174, 205
  - súradnicovej sústavy, 174, 205
- podiel
  - čísel, 48
  - funkcií, 187
  - postupností, 92
- podmienka
  - Cauchy–Bolzanova
    - konverencie radu, 130
    - kovergencie postupnosti, 96
  - existencie lokálneho extrému funkcie
    - nutná, 346
    - postačujúca, 347
  - konverencie radu
    - nutná, 129
  - nutná, 4, 5
  - postačujúca, 4, 5
- podmnožina, 26
- podpostupnosť, 91
- poldotyčnica ku grafu funkcie
  - ľavá, 295
  - pravá, 295
- polomer
  - kružnice, 210
  - okolía, 74, 169
- poloparameter
  - paraboly, 211
- polos
  - elipsy, 215
  - hlavná, 215
  - vedľajšia, 215
- hyperboly, 218
  - imaginárna, 218
  - reálna, 218
  - vedľajšia, 218
- polynóm, 191
  - Maclaurinov, 337
  - Taylorov, 337
- postupnosť, 36, 90
  - čiasočných súčtov radu, 125
  - bodov metrického priestoru, 119
  - cauchyovská, 97, 120
  - divergentná, 94
    - do  $\pm\infty$ , 94
    - komplexných čísel, 170
  - divergentná do  $\infty$ 
    - komplexných čísel, 170
  - Fibonacciho, 108
  - fundamentálna, 97, 120
  - geometrická, 107
  - klesajúca, 91
  - komplexných čísel, 170
  - konštantná, 91
  - konvergentná, 94
    - komplexných čísel, 170
  - monotónna, 91
    - rýdzo, 91
  - neklesajúca, 91
  - neohraničená, 91
    - zdola, 91
    - zhora, 91
  - nerastúca, 91
  - nulová, 94
  - ohraničená, 91
    - zdola, 91
    - zhora, 91
  - oscilujúca, 94
  - rastúca, 91
  - reálna, 90
  - reálnych čísel, 90
  - stacionárna, 91
  - vybraná, 91
  - zadaná explicitne, 90
  - zadaná rekurentne, 90
  - zadaná všeobecným vzorcom, 90
- postupnosti

- ekvivalentné, 97  
 poučka, 16  
 prírastok funkcie, 311  
 pravda, 3  
 pravidlo, 16  
   l'Hospitalovo, 327  
     I. l'Hospitalovo, 327  
     II. l'Hospitalovo, 328  
 odlúčenia, 6  
   modus ponens, 6  
   modus tollens, 6  
 substitúcie, 6  
 premenná, 1  
   nezávislá, 32, 173  
   závislá, 32, 173  
 prerovnanie  
   radu, 149  
 priamka  
   direkčná paraboly, 211  
   radiaca paraboly, 211  
 priemer  
   množiny, 82, 87  
 prienik množín, 27  
 priestor  
   euklidovský, 80  
   lineárny, 84, 85  
     normovaný, 85  
     so skalárnym súčinom, 85  
   metrický, 84  
     úplný, 120  
   topologický, 87  
     indukovaný metrickým priestorom, 87  
     konečných dplnkov, 90  
   vektorový, 85  
 princíp  
   Archimedov, 57  
   Cantorov, 59  
   Cauchy–Bolzanov  
     konvergenie radu, 130  
     kovergenie postupnosti, 96  
   Dedekindov, 59  
   súvislosti, 56  
 produkt, 23  
 prvok  
   jednotkový, 45  
   maximálny, 46  
   minimálny, 46  
   množiny, 26  
   najmenší, 46  
   najväčší, 46  
   nulový, 44  
 rádiusvektor, 205  
 Raabe, W., 140  
 rad  
   číselný, 125  
   alternujúci, 144  
   anharmonický, 145  
   divergentný, 126  
     do  $\pm\infty$ , 126  
   geometrický, 129  
   harmonický, 128  
   konvergentný, 126  
     absolútne, 142  
     neabsolútne, 142  
     relatívne, 142  
   nekonečný číselný, 125  
   oscilujúci, 126  
   prerovnaný, 149  
   Riemannov, 135  
   s nezápornými členmi, 133  
   so striedavými znamienkami, 144  
   zadaný explicitne, 125  
   zadaný rekurentne, 125  
   zadaný všeobecným vzorcom, 125  
 radián, 195  
 reštrikcia  
   funkcie, 187  
 reťazovka, 236  
 relácia  
   binárna, 31  
   ekvivalencie, 31  
   na množine, 31  
   n-nárna, 31  
   usporiadanie, 45  
 rez v množine, 59  
 rhodonea, 233  
 Riemann, B., 13  
 Rolle, M., 319  
 rovina  
   Gaussova, 166  
   uzavretá, 168  
   komplexných čísel, 166

- rovnosť
- čísel, 44
  - funkcií, 34, 186
    - asymptotická, 258
    - na množine, 34
  - množín, 27
  - postupností, 90
  - usporiadaných dvojíc, 29
  - zobrazení, 34
    - na množine, 34
- rozdiel
- čísel, 48
  - funkcií, 187
  - množín, 28
  - postupností, 92
  - radov, 131
  - symetrický množín, 28
- ružá, 233
- ružica, 233
- sínus, 195
- sínus hyperbolický, 200
- sínusoida, 195
- súčet
- čísel, 44
  - funkcií, 187
  - množín, 28, 70
  - postupností, 92
  - radov, 131
  - radu, 126
    - čiastočný, 125
    - určený indexovou množinou, 151
- súčin
- čísel, 44
  - funkcií, 187
  - karteziánsky množín, 29
  - množín, 70
  - postupností, 92
  - radov, 154
    - Cauchyho, 155
  - skalárny, 80, 85
- súradnica, 174
- polárna, 205
  - $x$ -ová, 174
  - $y$ -ová, 174
- súradnicová sústava
- karteziánska pravouhlá, 174
- mailto: beerb@frcatel.fri.uniza.sk
- polárna, 205
- sčítanie
- čísel, 44
- serpentína, 231
- signum čísla, 61
- skladanie funkcií, 187
- skok funkcie, 279
- de Sluze, R. F. W., 231
- Sluzeho perlovka, 231
- smernica
- priamky, 177, 293
- spojitosť
- funkcie
    - jednostranná, 277
- spojka
- logická, 5
- spor, 5
- spríevodič bodu, 205, 211, 215, 218
- ohniskový, 211
  - priamkový, 211
- srdce, 233
- srdcovka, 226
- stereografická projekcia komplexných čísel, 168
- stred
- elipsy, 215
  - hyperboly, 218
  - kružnice, 210
  - Taylorovho polynómu, 337
- strofoida, 231
- kolmá, 231
- stupeň
- deväťdesiatinový, 195
  - polynómu, 191
- substitúcia, 187, 251
- suma, 21
- dvojitá, 22
  - dvojnásobná, 22
- suprémum
- funkcie, 178
    - na množine, 178
  - množiny, 46
- surjekcia, 33, 174
- systém
- karteziánskych súradníc, 174
  - množín, 27
  - okolí
- http://frcatel.fri.uniza.sk/~beerb

- bodov množiny, 72  
 bodu, 72  
 polárnych súradníc, 205  
 súradnicový, 174  
   karteziánsky, 174  
   polárny, 177, 205  
   pravouhlý, 174
- tabuľka  
   pravdivostných hodnôt, 6  
   zadania funkcie, 177
- Talbot, W. H. F., 236
- tangens, 195  
 tangens hyperbolický, 200
- tangenta, 195
- tautológia, 5
- Taylor, B., 337
- Taylorov polynóm, 337
- Taylorov vzorec, 337
- topológia, 87  
   antidiskrétna, 88  
   diskrétna, 88  
   euklidovská, 88  
   indiskrétna, 88
- trajektória  
   otvorená, 208  
   pohybu hmotného bodu, 208  
   uzavretá, 208
- tranzítivnosť  
   relácie  $<$ , 45
- trichotómia relácie  $<$ , 45
- trisektrix  
   Maclaurinov, 231
- trojlístok, 232
- trojuholník  
   Pascalov, 25
- von Tschirnhaus, E. W., 231
- Tschirnhausova kubika, 231
- tvrdenie, 16
- uhol  
   orientovaný, 194  
   polárny bodu, 205
- usporiadaná  
   dvojica, 29  
    $n$ -tica, 29  
   trojica, 29
- usporiadanie  
   čísel menší, 45  
   čísel väčší, 45  
   funkcií, 186  
 uzáver množiny, 76
- výraz, 1  
   jednoduchý, 1  
   neurčitý, 268  
   zložený, 1
- výrok, 2  
   kvantifikovaný, 10  
   nepravdivý, 2, 3  
   pravdivý, 2, 3  
   zložený, 3
- vektor, 80, 85  
   jednotkový, 81  
   normovaný, 81  
    $n$ -rozmerný, 80
- veta, 16  
   Abelova, 159  
   binomická, 25  
   Bolzano–Weierstrasseho, 99  
   Cantorova, 282  
   Cauchyho, 324  
   Cauchyho o nulovej hodnote, 283  
   Lagrangeova, 320  
   matematická, 2  
   o derivácii inverznej funkcie, 300  
   o derivácii zloženej funkcie, 301  
   o existencii a jednoznačnosti diferenciálu, 309  
   o limite zloženej funkcie, 250  
   o logaritmickej derivácii, 303  
   o lokálnej ohraničenosti spojitej funkcie, 280  
   o medzihodnote, 285  
   o najlepšej lokálnej aproximácii funkcie polynómom stupňa  $n$ , 338  
   o najlepšej lokálnej lineárnej aproximácii funkcie, 311  
   o prírastku funkcie, 320  
   o spojitosti inverznej funkcie, 288  
   o spojitosti zloženej funkcie, 276  
   o strednej hodnote, 319  
   Cauchyho, 324  
   Lagrangeova, 320  
   Rolleho, 319
- [mailto: beerb@frcatel.fri.uniza.sk](mailto:beerb@frcatel.fri.uniza.sk)

- o zovretí, 106, 247, 276
- Riemannova o prerovnaní radu, 149, 150
- Rolleho, 319
- Weierstrasseho, 281
- vnútro
  - množiny, 75
- vonkajšok
  - množiny, 75
- vrchol
  - elipsy, 215
    - hlavný, 215
    - vedľajší, 215
  - hyperboly, 218
    - hlavný, 218
    - imaginárny, 218
    - vedľajší, 218
  - paraboly, 211
- vzdialenosť
  - bodov, 84
  - vektorov, 82
- vzor
  - zobrazenia, 32
- vzorec
  - Leibnizov, 315
  - Maclaurinov, 337
  - Moivreov, 168, 202
  - pre argument
    - dvojnásobný, 201
    - polovičný, 201
  - pre uhol
    - dvojnásobný, 197
    - polovičný, 197
  - súčtový
    - pre sin a cos, 169, 196
    - pre sinh a cosh, 201
    - pre tg a cotg, 198
    - pre tgh a cotgh, 201
  - Taylorov, 337
- Watt, J., 237
- Weierstrass, K., 13
- zákon, 5
  - asociatívny, 8, 44
  - distributívny, 9, 45
  - dvojitej negácie, 7
  - hypotetického sylogizmu, 7
  - komutatívny, 8, 44
  - sporu, 7
  - transpozície, 7
  - vylúčenia tretieho, 7
- zákony
  - de Morganove, 7, 14, 30, 41
- závitnica
  - Pascalova, 229
- zúženie
  - funkcie, 187
- začiatok
  - špirály, 227
- zakony
  - de Morganove, 41
- zjednotenie množín, 28
- zloženie
  - zobrazení, 34
- zložka
  - vnútorná
    - zloženého zobrazenia, 34
    - zloženej funkcie, 187
  - vonkajšia
    - zloženého zobrazenia, 34
    - zloženej funkcie, 187
- zlomok, 48
- zobrazenie
  - bijektívne, 33
  - do množiny, 32
  - identické, 36
  - injektívne, 33
  - inverzné, 35
  - jednojednoznačné, 33
  - množín, 32
  - na množinu, 33
  - prosté, 33
    - na množinu, 33
  - surjektívne, 33
  - zložené, 34
- zvyšok
  - Cauchyho, 339, 340
  - Lagrangeov, 339, 340
  - Maclaurinovho vzorca
    - Cauchyho tvar, 340
    - Lagrangeov tvar, 340
  - radu, 125
  - Taylorovho vzorca, 337
    - Cauchyho tvar, 339
    - Lagrangeov tvar, 339

# Literatúra

- [1] Bartsch H. J., *Matematické vzorce*, Praha, SNTL ALFA 1963.
- [2] Bartsch H. J., *Matematické vzorce*, 3. revidované vydání, Praha, Mladá fronta 2000.
- [3] Berman G. N., *Zbierka úloh z matematickej anylýzy*, Bratislava, ŠNTL 1955.
- [4] Берман Г. Н., *Сборник задач по курсу математического анализа*, Москва, Издательство НАУКА 1964.
- [5] Brabec J., Martan F., Rozenský Z., *Matematická analýza I*, Praha, SNTL ALFA 1985.
- [6] Bukovský L., *Štruktúra reálnej osi*, Bratislava, VEDA 1979.
- [7] Под редакцией Демидовича Б. П., *Задачи и упражнения по математическому анализу для вузов*, издание пятое, Москва, Издательство НАУКА 1966.
- [8] Демидович Б. П., *Сборник задач и упражнений по математическому анализу*, издание девятое), Москва, Издательство НАУКА 1977.
- [9] Eliaš J., Horváth J., Kaján J., *Zbierka úloh z vyššej matematiky, 1. časť*, 3. vydanie, Bratislava, ALFA 1971.
- [10] Eliaš J., Horváth J., Kaján J., *Zbierka úloh z vyššej matematiky, 2. časť*, 3. vydanie, Bratislava, ALFA 1972.
- [11] Eliaš J., Horváth J., Kaján J., *Zbierka úloh z vyššej matematiky, 3. časť*, 1. vydanie, Bratislava, SVTL 1967.
- [12] Eliaš J., Horváth J., Kaján J., Šulka R., *Zbierka úloh z vyššej matematiky, 4. časť*, 1. vydanie, Bratislava, ALFA 1970.
- [13] Franek M., *Od algebry k počítačom*, Bratislava, SPN 1971.
- [14] Göhler W., Ralle B., *Lexikón vyššej matematiky, Vzorce*, Bratislava, ALFA 1992.
- [15] Hejný M., kol., *Teória vyučovania matematiky 2*, Bratislava, SPN 1990.
- [16] Hlaváček A., *Sbírka řešených příkladů z vyšší matematiky, I. díl*, 2. změněné vydání, Praha, SPN 1971.
- [17] Hlaváček A., *Sbírka řešených příkladů z vyšší matematiky, II. díl*, 2. změněné vydání, Praha, SPN 1971.

- [18] Holenda J., *Řady*, Matematika pro VŠT, sešit XII, Praha, SNTL 1990.
- [19] Horák Z., Krupka F., Šindelář V., *Základy technické fyziky*, Praha, Práce 1954.
- [20] Horský Z., *Diferenciální počet*, Matematika pro VŠT, sešit V, Praha, SNTL 1981.
- [21] Hruša K., Kraemer E., Sedláček J., Vyšín J., Zelinka R., *Přehled elementární matematiky*, Praha, SNTL 1957.
- [22] Jirásek F., Kriegelstein E., Tichý Z., *Sbírka řešených příkladů z matematiky*, Praha, SNTL ALFA 1982.
- [23] Kluvánek I., *Prípravka na diferenciálny a integrálny počet, I. časť*, skriptá VŠDS, Žilina, 1991.
- [24] Kluvánek I., Mišík L., Švec M., *Matematika pre štúdium technických vied, I. diel*, Bratislava, SVTL 1959.
- [25] Kluvánek I., Mišík L., Švec M., *Matematika pre štúdium technických vied, II. diel*, 2. prepracované vydanie, Bratislava, SVTL 1965.
- [26] Kolář J., Štěpánková O., Chytil M., *Logika, algebry a grafy*, Praha, SNTL 1989.
- [27] Kolektív autorov, *Zbierka riešených úloh z algebry pre SVŠ a SOŠ*, Bratislava, SPN 1970.
- [28] Kolektív autorů za redakce Nečase J., *Aplikovaná matematika I, A až L*, odborové encyklopedie, Praha, SNTL 1977.
- [29] Kolektív autorů za redakce Nečase J., *Aplikovaná matematika II, M až Ž*, odborové encyklopedie, Praha, SNTL 1978.
- [30] Kufner A., *Nerovnosti a odhady*, Škola mladých matematiků, Praha, Mladá fronta 1975.
- [31] Míka S., *Numerické metody algebry*, Matematika pro VŠT, sešit IV, Praha, SNTL 1985.
- [32] Mikola M., *Algebra*, 2. vydanie, skriptá ŽU, Žilina, 1998.
- [33] Nekvinda M., Šrubař J., Vild J., *Úvod do numerické matematiky*, Praha, SNTL 1976.
- [34] Okrucký V., *Elementárny úvod do modernej matematiky*, Bratislava, SPN 1971.
- [35] Prágerová A., *Cvičení z matematiky*, Praha, SNTL ALFA 1987.
- [36] Příkryl P., *Numerické metody matematické analýzy*, Matematika pro VŠT, sešit XXIV, Praha, SNTL 1985.
- [37] Sedláček J., *Co víme o přirozených číslech*, Škola mladých matematiků, Praha, Mladá fronta 1961.
- [38] Sedláček J., *Faktoriály a kombinační čísla*, Škola mladých matematiků, Praha, Mladá fronta 1964.
- [39] Šalát T., *Metrické priestory*, Bratislava, ALFA 1981.
- [40] Šilov G. J., *Matematická analýza*, Bratislava, ALFA 1974.
- [41] Škrášek J., Tichý Z., *Základy aplikované matematiky I*, Praha, SNTL 1989.



- [42] Šulista M., *Základy analýzy v komplexním oboru*, Matematika pro VŠT, sešit XIII, Praha, SNTL 1981.
- [43] Švec M., Šalát T., Neubrunn T., *Matematická analýza funkcí reálné proměnné*, Bratislava, ALFA SNTL 1987.
- [44] Vitásek E., *Numerické metody*, Praha, SNTL 1987.
- [45] Výborný R., *Matematická indukce*, Škola mladých matematiků, Praha, Mladá fronta 1963.
- [46] Запорочев Г. И., *Руководство к решению задач по математическому анализу*, издание третье, Москва, Издательство ВЫСШАЯ ШКОЛА 1964.
- [47] Drexel University, Math Forum, <http://mathforum.org/>.
- [48] Earliest Known Uses of Some of the Words of Mathematics, <http://members.aol.com/jeff570/mathword.html>.
- [49] Elsevier Mathematics, <http://www.elseviermathematics.com/mathematicsweb/show/Index.htm>.
- [50] EMIS, The European Mathematical Information Service, <http://www.emis.de/>.
- [51] Encyclopédie des Formes Mathématiques Remarquables, <http://www.mathcurve.com/>.
- [52] Excellent Matematika, <http://matematika.host.sk/index2.htm>.
- [53] Geometry the online learning center, <http://www.geometry.net/>.
- [54] Hinner M., *Jemný úvod do fraktálů*, <http://www.penguin.cz/~mhi/math/Fraktaly/>, 1999.
- [55] On-line Mathematics Dictionary, [http://pax.st.usm.edu/cmi/inform\\_html/glossary.html](http://pax.st.usm.edu/cmi/inform_html/glossary.html).
- [56] The Math Forum, Internet Mathematics Library, <http://mathforum.org/library/>.
- [57] Turnbull WWW Server, <http://www-gap.dcs.st-and.ac.uk/>.
- [58] Turnbull, The MacTutor History of Mathematics archive, <http://turnbull.mcs.st-and.ac.uk/~history/>.
- [59] Wikipedia The free Encyclopedia, <http://www.wikipedia.org/>.
- [60] World of mathematics, A Wolfram Web Resource, <http://mathworld.wolfram.com/>.